

T.C.  
MİLLÎ EĞİTİM BAKANLIĞI  
ÖLÇME, DEĞERLENDİRME VE  
SINAV HİZMETLERİ GENEL MÜDÜRLÜĞÜ



AÇIK ÖĞRETİM LİSESİ / MESLEKİ AÇIK ÖĞRETİM LİSESİ /  
AÇIK ÖĞRETİM İMAM HATİP LİSESİ  
2018 - 2019 ÖĞRETİM YILI  
1. DÖNEM SINAVI

1.  
OTURUM

8 ARALIK 2018 Saat: 09.30

DERS KODU VE ADI	SAYFA	DERS KODU VE ADI	SAYFA	DERS KODU VE ADI	SAYFA
(111) DİN KÜL. AHL. BİL. – 1	3	(421) FİZİK – 1	23	(547) TÜRK DİLİ VE EDEBİYATI – 7	45
(112) DİN KÜL. AHL. BİL. – 2	4	(425) SEÇMELİ FİZİK – 1	25	(548) TÜRK DİLİ VE EDEBİYATI – 8	46
(115) DİN KÜL. AHL. BİL. – 5	5	(432) KİMYA – 2	26	(609) SEÇMELİ MATEMATİK – 2	48
(121) FELSEFE – 1	6	(436) SEÇMELİ KİMYA – 2	28	(611) DİNLER TARİHİ – 1	50
(125) FELSEFE – 3	8	(441) BİYOLOJİ – 1	29	(621) SEÇ. TÜRK DİLİ VE	
(132) TARİH – 2	10	(443) BİYOLOJİ – 3	31	EDEBİYATI – 3	51
(136) SEÇMELİ TARİH – 2	11	(446) SEÇMELİ BİYOLOJİ – 2	32	(622) SEÇ. TÜRK DİLİ VE	
(151) COĞRAFYA – 1	12	(461) SEÇMELİ EKONOMİ – 1	34	EDEBİYATI – 4	52
(155) SEÇMELİ COĞRAFYA – 1	13	(465) TEMEL DİNİ BİL. – 1	35	(713) İSLAM KÜLTÜR VE	
(157) SEÇMELİ COĞRAFYA – 3	14	(477) SEÇMELİ İŞLETME – 2	36	MEDENİYETİ – 1	54
(181) İNGİLİZCE – 1	16	(479) SEÇMELİ MANTIK – 2	37	(817) AKADİ – 1	55
(181) ALMANCA – 1	17	(502) İNGİLİZCE – 8	39	(819) KELAM – 1	57
(181) FRANZIZCA – 1	18	(502) ALMANCA – 8	39	(825) OSMANLI TÜRKÇESİ – 1	58
(222) SAĞLIK BİLGİSİ VE		(502) FRANZIZCA – 8	40	(931) SİYER – 1	59
TRAFİK KÜLTÜRÜ – 2	19	(511) FİKİH – 1	41	(974) SEÇMELİ GİRİŞİMCİLİK – 1	60
(244) İNGİLİZCE – 5	20	(532) SEÇMELİ PEYGAMBERİMİZİN		(999) MATEMATİK – 2	61
(244) ALMANCA – 5	21	HAY. – 2	42		
(244) FRANZIZCA – 5	22	(544) TÜRK DİLİ VE EDEBİYATI – 4	43		

### ADAYLARIN DİKKATİNE!

- Her ders için 20 soru bulunmaktadır. Bu oturumda **180** dakikalık cevaplama süreniz vardır. Sınav başladıktan sonra ilk **30** dakika tamamlanmadan dışarı çıkmayınız.
- Sınav sırasında çanta, cep telefonu, saat, kablosuz iletişim sağlayan cihazlar ve kulaklık, kolye, küpe, bilezik, yüzük, broş ve benzeri eşyalar ile her türlü elektronik ve/veya mekanik cihazları yanınızda bulundurmuyunuz. Bu araçları yanınızda bulundurmanız ve kopya çekmeye teşebbüs etmeniz hâlinde sınavınız geçersiz sayılacaktır.
- Başvuru şartlarını taşımadığınız hâlde sınava girmeniz, kopya çekmeniz, başka adayın sınav evrakını kullanmanız, geçerli kimlik belgenizi ve sınav giriş belgenizi ibraz edemediğiniz durumlarda sınavınız geçersiz sayılacaktır.
- Sınavın değerlendirilmesi aşamasında, bilgisayar ortamında yapılan kopya analizinde sistemin ikili ve/veya toplu kopya tespiti hâlinde sınavınız geçersiz sayılacaktır.
- Adaylar, sınav kurallarına ve salon görevlilerinin tüm uyarılarına uymak zorundadır. Kurallara ve uyarılara uymayan adayların sınavları geçersiz sayılacaktır.**
- Sınav başladıktan sonra adayların salon görevlileri ve birbirleri ile konuşmaları; kalem, silgi vb. şeyleri istemeleri yasaktır.
- Adaylar sınav süresince, sınav giriş belgesi ile geçerli kimlik belgelerinden birinin aslını (fotoğraflı nüfus cüzdanı, pasaport veya sürücü belgesi) masalarının üzerinde bulundurmamak zorundadır.
- Sınav evraklarını teslim etmeyen, soru kitapçıklarının sayfalarından bir kısmını eksik teslim edenlerin sınavları geçersiz sayılacaktır.**
- Sınav başlamadan önce kitapçığın arkasındaki açıklamaları okuyunuz.

**BAŞLAYINIZ DENMEDEN SORU KİTAPÇIKLARINI AÇMAYINIZ.**



# 1. OTURUM

## (111) DİN KÜL. AHL. BİL. – 1

1. Aşağıdakilerden hangisi Allah'ın her şeyi bilen olduğunu ifade eden isimlerinden biri değildir?

- A) Hâlık B) Habîr  
C) Şehîd D) Alîm

2. Bir şey hakkında düşünce yoluyla derin bilgi ve anlayışa erişmek aşağıdakilerden hangisiyle ifade edilir?

- A) İlim B) Marifet  
C) Kanaat D) Beyanat

3. "Yaratan Rabbinin adıyla oku! O, insanı alaktan yaratmıştır. Oku! Kalemle (yazmayı) öğreten, (böylece) insana bilmediğini bildiren Rabbin sonsuz kerem sahibidir."

(Alak suresi, 1-5. ayetler)

**Bu ayetlerde aşağıdakilerden hangisine değilmemiştir?**

- A) Allah'ın, kullarına karşı cömert olduğuna  
B) Allah'ın insanın bilmediklerini de bildiğine  
C) Allah'ın, bilgiyi teşvik edip ona önem verdiğine  
D) Allah'ın, bilenleri bilmeyenlerden üstün tuttuğuna

4. Üç kişiden sorumluluk kaldırılmıştır. Uyanıncaya kadar uyuyandan, iyileşinceye kadar akıl hastasından, ergenlik çağına gelinceye kadar çocuktan.

**Bu hadiste, aşağıdakilerden hangisinin önemi vurgulanmaktadır?**

- A) İlimin B) Sağlığın  
C) Aklın D) Yaşın

5. Allah'tan ve Hz. Peygamber'den gelen bilgiler aşağıdakilerden hangisi ile isimlendirilir?

- A) Mütevatir haber  
B) Sadık haber  
C) Ahad haber  
D) Meşhur haber

6. Gönüle doğan şeye, kalbe gelen manaya, akıl yürütme ve düşünmeye dayanmaksızın elde edilen bilgiye denir.

**Tanımı yapılan kavram aşağıdaki-lerin hangisidir?**

- A) Keşif B) Zan  
C) Rüya D) İlham

7. "Hakka'l-yakîn" kavramının açıklaması aşağıdakilerden hangisidir?

- A) Bizzat yaşayarak elde edilen kesin bilgi  
B) Zanna dayalı elde edilen kesin bilgi  
C) Duyularla elde edilen kesin bilgi  
D) Habere dayalı olan kesin bilgi

8. Aşağıdakilerden hangisi felsefede doğru bilginin ölçütleri arasında yer almaz?

- A) Güncellik B) Tutarlılık  
C) Apaçıklık D) Uygunluk

9. Allah'ım! Huşu duymayan kalpten, kabul edilmeyen duadan, doymayan nefisten ve fayda vermeyen ilimden sana sığınırım.

**Aşağıdakilerden hangisi bu hadiste endişe edilen hususlardan biri değildir?**

- A) Samimi ve içten olamamak  
B) Dua ve ibadet edememek  
C) Nefse hâkim olamamak  
D) İlmi ile amel etmemek

10. Sadakanın en faziletlisi, Müslümanın bir bilgi öğrenmesi sonra da o bilgiyi Müslüman kardeşine öğretmesidir.

**Bu hadisten aşağıdakilerden hangisi çıkarılamaz?**

- A) Bilginin teşvik edildiği  
B) Bilginin paylaşılması gerektiği  
C) Bilginin inancı kuvvetlendirdiği  
D) Bilgi öğrenip ve öğretmenin ibadet olduğu

11. "Hz. Peygamber'in dinî tebliğ maksadı taşımayan, bir insan olması itibarıyla yaptığı davranışları" aşağıdaki-lerden hangisiyle isimlendirilir?

- A) Sünneti zevâid  
B) Sünneti takrir  
C) Sünneti müekked  
D) Sünneti gayri müekked

12. "...Kim inanmayı kabul etmezse onun ameli boşa çıkmıştır ve o, ahirette kaybedenlerdendir."  
(Mâide suresi, 5. ayet)

**Bu ayette aşağıdakilerden hangi ikisi arasındaki ilişkinin önemi vurgulanmıştır?**

- A) Kur'an - Sünnet  
B) Ahlak - Vicdan  
C) İnsan - Âlem  
D) İman - İbadet

13. "İbrahim dedi ki: Din günü hatalarımı başlıyacağımı umduğum da O'dur."  
(Şuara suresi, 82. ayet)

**Bu ayette geçen "din" kavramı aşağıdakilerden hangisini ifade etmektedir?**

- A) İtaat B) Ahiret  
C) Kanun D) Tevhid

14. Allah'ın insanı, kendi varlığını ve birliğini tanıyabilme gücü ve yeteneği ile yaratmasını ifade eden kavram aşağıdakilerden hangisidir?

- A) Fitrat B) İman  
C) Ahlak D) Karakter

15. İslam dininin iman esasları, ilmihal kitaplarında aşağıdaki kavramlardan hangisiyle ifade edilir?

- A) Tahiyyat B) Tevhid  
C) Tevekkül D) Amentü

16. "Allah, kendisinden başka ilâh olmayandır, en güzel isimler O'na mahsustur."

(Tâhâ suresi, 8. ayet)

**Bu ayette altı çizili bölümde anlatılan kavram aşağıdakilerden hangisidir?**

- A) Sidretü'l Müntheha  
B) Celle Celaluh  
C) Esmâül Hüsna  
D) Usve-i Hasene

17. "O, hanginizin daha güzel amel yapacağını sınamak için ölümü ve hayatı yaratandır. O, mutlak güç sahibidir, çok başlıyandır."

(Mülk suresi, 2. ayet)

**Bu ayetten aşağıdakilerden hangisine ulaşamaz?**

- A) İnsan sorumlu bir varlıktır.  
B) Dünya bir imtihan yeridir.  
C) Allah'a ibadet etmek gerekir.  
D) İnsanın imtihanı şeytan iledir.

18. • Güzel söz söylemek  
• Anne babaya iyilik etmek  
• İyiliği tavsiye edip kötülükten alıkoymak

**Bu davranışları ifade etmek için kullanılan kavram aşağıdakilerden hangisidir?**

- A) Sadaka-i cariyeh  
B) Salih amel  
C) Tevekkül  
D) Sünnetullah

## 1. OTURUM

19. Allah'ın mükelleften yapılmasını kesin ve bağlayıcı tarzda istediği fiiller aşağıdakilerden hangisiyle isimlendirilir?

- A) Farz                      B) Sünnet  
C) Mübah                    D) Mendup

20. Aşağıdakilerden hangisi farz-ı kifa-ye olan ibadetlerden biri değildir?

- A) Cenaze namazı kılmak  
B) Şahitlik yapmak  
C) Oruç tutmak  
D) İlim öğrenmek

### (112) DİN KÜL. AHL. BİL. – 2

1. "Bir toplumda benimsenmiş ve yaşatılmakta olan her türlü düşünce, kural ve uygulamalar" **genel olarak aşağıdakilerden hangisiyle isimlendirilir?**

- A) Sembol                    B) Değer  
C) Din                         D) Yargı

2. İslam dini, akrabalar ve komşuların birbirlerini görüp gözetmelerini ister. Aynı Allah'a inanan, ibadet için aynı kibleye yönelen Müslümanları farklı topluluklar gibi değil de bir bütün olarak görür.

**Bu metinde verilen mesajı aşağıdaki hadislerden hangisi desteklemektedir?**

- A) Veren el alan elden üstündür.  
B) Hikmet, Mü'min'in yitiğidir, onu bulduğu yerde alır.  
C) Müminler, bir binanın tuğlaları gibi birbirine bağlıdır.  
D) Allah'a ve ahiret gününe inanan kimse ya hayır söylesin ya da sussun.

3. Aşağıdakilerden hangisi İslam dininin onaylamadığı örf ve âdetlerden biridir?

- A) Selamlaşma  
B) Cenaze merasimi  
C) Davete icabet etme  
D) Türbelere çaput bağlama

4. Hiçbir baba, evladına güzel terbiyeden daha üstün bir hediye vermemiştir.

**Bu hadise göre ailelerin çocuklarına öncelikle kazandırması gereken değerler aşağıdakilerden hangisidir?**

- A) Ahlakî                      B) Millî  
C) Kültürel                    D) Örfî

5. "Ey iman edenler! Allah'tan korkun ve doğrularla beraber olun."

(Tövbe suresi, 119. ayet)

**Bu ayette aşağıdakilerden hangisinin önemine işaret edilmektedir?**

- A) İnsanlara adaletli davranmanın  
B) Büyüklere saygının  
C) Komşu hakkını gözetmenin  
D) Arkadaş seçiminin

6. "İlim ve akılla gerçeği bulma, derin anlayış sahibi olma, dinin inceliklerini bilme, her şeyi yerli yerine koyma" **anlamlarında kullanılan kavram aşağıdakilerden hangisidir?**

- A) Tecrübe                    B) Adalet  
C) Hikmet                     D) Kelam

7. "Gerçek şu ki, inkâr edenler ve zulmedenler, Allah onları bağışlayacak değildir, onları bir yola da ileticek değildir."

(Nisâ suresi, 168. ayet)

**Bu ayette aşağıdakilerden hangisi teşvik edilmektedir?**

- A) Adaletli olmak  
B) Rızık için çalışmak  
C) Eğitime önem vermek  
D) İbadetlerde samimi olmak

8. Sahabeler anlaşmazlığa düştükleri konularda Hz. Peygamber'i hakem tayin etmişlerdir. O'nun verdiği kararlardan rahatsızlık duymamışlardır.

**Bu metin Hz. Peygamber'in aşağıdaki özelliklerinden hangisine örnek oluşturmaktadır?**

- A) Sabrına                    B) Adaletine  
C) Cesaretine                D) Hoşgörüsüne

9. "Allah size, emanetleri mutlaka ehline vermenizi ve insanlar arasında hükmettiğiniz zaman adaletle hükmetmenizi emrediyor ..."

(Nisâ suresi, 58. ayet)

**Bu ayette aşağıdakilerden hangisinin önemi vurgulanmaktadır?**

- A) Liyakat - Eşitlik  
B) Tevazu - Adalet  
C) Tevazu - Eşitlik  
D) Liyakat - Adalet

10. Kişinin dinini, vatanını, milletini ve namusunu korumak için fedakârca mücadele etmesini ifade eden kavram aşağıdakilerden hangisidir?

- A) Sadakat                    B) Şecaat  
C) Sebat                      D) Liyakat

11. "Allah; adaleti, iyilik yapmayı, yakınlara yardım etmeyi emreder; hayâsızlığı, fenalığı ve azgınlığı da yasaklar. O, düşünüp tutasınız diye size öğüt veriyor."

(Nahl suresi, 90. ayet)

**Bu ayetten aşağıdaki kavramlardan hangisi çıkarılamaz?**

- A) Mağfiret                    B) Hikmet  
C) Adalet                      D) İffet

12. Aşağıdakilerden hangisi medeniyet yerine kullanılan bir kavramdır?

- A) Kültür                      B) Ulus  
C) Uygarlık                    D) Millel

13. İslam medeniyeti tüm birimleri ile en parlak zamanını hangi dönemde yaşamıştır?

- A) Asr-ı Saadet                B) Emeviler  
C) Selçuklular                D) Osmanlılar

14. Aşağıdakilerden hangisi İslam medeniyetinin öncülük ettiği alanlardan biri değildir?

- A) Matematik                B) Mimari  
C) Heykelticilik              D) Astronomi

15. Avrupa'da İslam medeniyetinin izlerini taşıyan ve Müslümanların gönül coğrafyasında yer alan bölge aşağıdakilerden hangisidir?

- A) Endülüs                    B) Saksonya  
C) Normandiya                D) Aragon

16. Aşağıdakilerden hangisi Kudüs'ü haçlı işgalinden kurtarmıştır?

- A) Hz. Ömer  
B) Selahattin Eyyubi  
C) Abdulhamit Han  
D) Yavuz Sultan Selim

# 1. OTURUM

## 17. Aşağıdaki eserlerden hangisi Türkçe yazılmıştır?

- A) Mesnevi
- B) Mukaddime
- C) el-Kanun fi't-Tıp
- D) Dîvân-ı Hikmet

## 18. İspanya kapılarını Müslümanlara açan komutan kimdir?

- A) Ukbe b.Nafi
- B) Tarık b. Ziyad
- C) Gazneli Mahmut
- D) Selahattin Eyyubi

## 19. Mekke, Medine ve Taif'i de kapsayan bölgeye verilen isim hangisidir?

- A) Ravza
- B) Harem
- C) Hicaz
- D) Akabe

## 20. Osmanlı padişahlarının kendileri için "Mekke ve Medine'nin hizmetkârı" anlamında kullandıkları sıfat aşağıdakilerden hangisidir?

- A) Hâdimü'l-Harameyn
- B) Evlad-ı Fatihan
- C) Âl-i Osman
- D) Sultan-ı Cihan

### (115) DİN KÜL. AHL. BİL. – 5

1. "Biz göğü, yeri ve ikisi arasındakileri boş yere yaratmadık..."  
(Sâd suresi, 27. ayet)

#### Bu ayette aşağıdakilerden hangisi vurgulanmaktadır?

- A) Kâinatın yaratıcısı Allah'tır.
- B) Yaratılan her şeyin bir amacı vardır.
- C) Allah'ın yaratmasında bir kusur yoktur.
- D) Evrendeki her şey bir düzenin parçasıdır.

2. • İki şey arasındaki perde  
• Dikilmek, ayağa kalkmak  
• Öldükten sonra tekrar dirilmek

#### Bu ifadelerde aşağıdakilerden hangisinin kelime anlamı yer almaktadır?

- A) Berzah
- B) Kıyamet
- C) Ba's
- D) Sirat

3. "Gök yarıldığında yıldızlar dağılıp saçıldığında, denizler yükselip birbirine katıldığında, kabirlerin altı üstüne getirildiğinde; her insan dünyada neleri yaptığını ve neleri yapmadığını açıkça bilecektir..."  
(İnfitâr suresi, 1-6. ayetler)

#### Bu ayetlerde aşağıdakilerden hangisi vurgulanmaktadır?

- A) Kıyamet
- B) A'raf
- C) Haşır
- D) Cehennem

## 4. Aşağıdaki ayetlerin hangisinde mizana işaret edilmektedir?

- A) "...Onların arkasında, tekrar dirilecekleri güne kadar devam edecek, dönmelerine engel bir perde vardır."  
( Mü'minûn suresi, 100. ayet)
- B) "O gün yer, onların üzerinden sütratle yarılıp açılır. Bu, bir toplama-dır, bize göre kolaydır."  
(Kâf suresi 44. ayet)
- C) "Kıyamet günü için adalet terazileri kuracağız. Öyle ki hiç kimseye zerre kadar zulmedilmeyecek..."  
(Enbiyâ suresi, 47. ayet)
- D) "Sûra üflenince Allah'ın diledikleri müstesna olmak üzere göklerde ve yerde ne varsa hepsi ölecektir. Sonra ona bir daha üflenince bir de ne göresin, onlar ayağa kalkmış bakıyorlar."  
(Zümer suresi, 68. ayet.)

## 5. Aşağıdakilerden hangisi günlük hayatta yeniden dirilmeyi çağırıştıran akli delillerden değildir?

- A) Mevsimlerin değişimi
- B) Bitkilerin çürüyüp yeniden yeşermesi
- C) Toprağa düşen tohumun hayat bulması
- D) Kar tanelerinin düzen halinde yer-yüzüne inmesi

6. Ölünün tabuta konulup musallaya ve cenaze namazından sonra da kabristana taşınmasıdır.

#### Hakkında bilgi verilen kavram aşağıdakilerden hangisidir?

- A) Teşyî
- B) Gasil
- C) Tekfin
- D) Defin

## 7. Aşağıdakilerden hangisinin cenazenin arkasından yapılması tavsiye edilmez?

- A) Ailesine moral vermek
- B) Feryat ederek ağlamak
- C) Cenaze namazına katılmak
- D) Cenaze evine yemek götürmek

8. "De ki: 'Ben de ancak sizin gibi bir beşerim..."  
(Fussilet suresi, 6. ayet.)

#### Bu ayette Hz. Peygamber'in hangi yönüne değinilmektedir?

- A) Affedici ve merhametli olması
- B) Dürüst ve güvenilir olması
- C) İnsan olması
- D) Vahiy alması

## 9. Aşağıdakilerden hangisi Hz. Peygamber'in adaletli olmasıyla ilişkilidir?

- A) Görevlendirmelerde liyakate önem vermesi
- B) Söz ve davranışlarında tutarlılığı
- C) Hiç yalan söylememiş olması
- D) Yetimlere koruyup gözetmesi

10. Hz. Peygamber, Allah'ın kendisine verdiği görev konusunda hiçbir taviz vermemiştir. Müşriklerin tekliflerine "Güneşi sağ elime, ayı sol elime verseniz yine de davamdan vazgeçmem." diyerek karşılık vermiştir.

#### Bu örnek Hz. Peygamber'in,

- I. kararlılık,
- II. tevazu,
- III. merhamet,
- IV. sabır

#### yönlerinden hangilerini göstermektedir?

- A) I ve II.
- B) I ve IV.
- C) II ve III.
- D) III ve IV.

# 1. OTURUM

11. Hz. Muhammed'in (sav) görevlerinden biri de teştir. İslam dininde hüküm koyma yetkisi, Allah'a ve Hz. Peygamber'e aittir. Allah ve Hz. Peygamber, bir konuda hüküm verdiği zaman Müslümanlar o hükme uymakla yükümlüdür.

**Aşağıdaki ayetlerden hangisinde Hz. Peygamber'in bu görevine değinilmektedir?**

- A) "Ey örtünüp bürünen Peygamber! Kalk ve insanları uyar."  
(Müddessir suresi, 1-2. ayetler)
- B) "İçinizde Allah'ın lütfuna ve ahiret gününe umut bağlayanlar, Allah'ı çokça ananlar için hiç şüphe yok ki Resulullah'ta güzel bir örneklik vardır."  
(Ahzab suresi, 21. ayet)
- C) "(Ey Muhammed!) Elbetteki sen yüce bir ahlak üzeresin."  
(Kalem suresi, 4. ayet)
- D) "... Peygamber, onlara iyiliği emreder ve onları kötülükten meneder; yine onlara temiz şeyleri helal, kötü ve pis şeyleri haram kılar..."  
(Ar'âf suresi, 157. ayet)

12. "İnanç, ibadet ve ahlak başta olmak üzere hayatın her alanında Müslümanların kendilerine örnek almaları gereken tek ve en güzel model" anlamına gelen Hz. Muhammed'in (sav) sıfatı aşağıdakilerden hangisidir?

- A) Hâtemü'n- Nebiyyîn  
B) Muhammed'ül Emin  
C) Üsve-i Hasene  
D) Ebu'l- Kasım

13. Aşağıdakilerden hangisi Kütüb-i sitte'yi oluşturan hadis kitaplarından biri değildir?

- A) Sünen-i Ebu Dâvûd  
B) Sünen-i Nesâi  
C) Sünen-i İbn Mâce  
D) Sünen-i Dârimî

14. Aşağıdaki bilgilerden hangisi yanlıştır?

- A) Hz. Peygamber'in herhangi bir mesele hakkındaki sözlü ifadelerine kavli sünnet denir.
- B) Hz. Peygamber'e iman etmek, onun dinî konularda ortaya koyduğu hükümlere itaat etmeyi gerektirir.
- C) Hz. Muhammed'in (sav) Allah'tan aldığı vahiyleri, eksiksiz olarak insanlara iletmesi onun temsil göreviyle ilgilidir.
- D) Hz. Peygamber'in, sahabelerin yaptığı davranışları onaylamasına takrirî sünnet denir.

15. Aşağıdaki sahabelerden hangisi ehl-i beyttendir?

- A) Hz. Ali                      B) Hz. Ebu Bekir  
C) Hz. Ömer                  D) Hz. Zeyd

16. Şehitlerin ser çeşmesi, evliyanın bağı başı,

Fatma ana gözü yaşı, Hasan ile Hüseyin'dir.

Hz. Ali babaları, Muhammed'dir dedeleri

Arşın iki gölgeleri Hasan ile Hüseyin'dir.

**Bu dizelerde aşağıdakilerden hangisine duyulan sevgi anlatılmaktadır?**

- A) Sahabeye                  B) Ehl-i beyte  
C) Asr-ı saadete              D) Ashab-ı suffeye

17. Birine "Allah hidayet versin!" diyen bir kimse aşağıdakilerden hangisini kastetmiş olamaz?

- A) Günahlarla iç içe yaşayan bir kimsenin yaşantısını Allah'ın rızasına uygun hale getirmesini
- B) İnsanların Allah'ın verdiği yetenekleri kullanarak doğru yola ulaşmasını
- C) Müslüman olmayan bir kimsenin İslam dinine girmesini
- D) Emek ve çabalarının karşılığını alabilmesini

18. "Allah'ı her an görüyormuş gibi yaşayan, güzel davranan, bağışlayan, ikram eden ve iyilik eden kişiler" aşağıdakilerden hangisi ile isimlendirilir?

- A) Mükrim                      B) Muhsin  
C) Mücahit                      D) Mürşit

19. Aşağıdaki tanımlardan hangisi yanlış verilmiştir?

- A) İhlas; insanın bütün söz, davranış, inanç ve ibadetlerinde yalnızca Allah'ın rızasını gözetmesidir.
- B) Takva; haramlardan sakınmak, dinen şüpheli olan durumları ve dinin kötü gördüğü şeyleri terk etmektir.
- C) Cihat; Müslüman oldukları halde dinin emir ve yasakları karşısında yanlış davranışları doğru yola çağırmasıdır.
- D) Sırat-ı müstakim, Allah'ın gösterdiği dosdoğru yol ve İslam dini anlamına gelmektedir.

20. "Tövbe edip iman eden ve iyi işler yapan kimseye gelince, işte onun kurtuluşa erenler arasında olması umulabilir."  
(Kasas suresi, 67. ayet)

• "İman eden ve salih amelleri işleyenlere gelince, imanlarından dolayı Rableri onları altlarından ırmaklar akan nimet cennetlerine iletir."  
(Yûnus suresi, 9. ayet)

**Bu ayetlerden aşağıdakilerin hangisine ulaşılamaz?**

- A) Allah'ın ahirette müminler tarafından görüleceğine
- B) Salih amel işleyenlerin cennet ile müjdelendiğine
- C) Kurtuluşa erme yollarının gösterildiğine
- D) Günahlardan vazgeçilmesi gerektiğine

## (121) FELSEFE – 1

1. Karl Jaspers'in "Nerede bir insan varsa orada felsefe vardır." sözünden hareketle aşağıdakilerden hangisine ulaşılabılır?

- A) Anlamlandırma çabası her insanın yaptığı bir etkinliktir.
- B) İnsan bilimsel etkinlikler gerçekleştiren bir varlıktır.
- C) Mutlu olmanın yolu felsefeden geçer.
- D) İyi bir yaşam erdemle mümkündür.

2. İnsanın bir nesneye yönelerek, nesne hakkında ortaya ürün çıkarmasına bilgi denir.

**Verilen bilgi tanımında "insan"a karşılık gelen kavram aşağıdakilerden hangisidir?**

- A) Nesne                      B) Özne  
C) Bilgi                        D) Anlam

# 1. OTURUM

3. Felsefe, Yunanca Philosophia sözcüğünden gelmektedir. Philosophia, philia(sevgi) ve sophia(hikmet, bilgelik) kelimelerinin birleşiminden meydana gelen bir sözcüktür.

**Buna göre aşağıdakilerden hangisi felsefenin dilimizdeki karşılığıdır?**

- A) Şaşkınlık duygusu  
B) Mutluluk arayışı  
C) Bilgelik sevgisi  
D) Erdem anlayışı

4. İslam filozofu El-Kindi, "Felsefe, insanın gücü ölçüsünde varlığın hakikati ni bilmesidir."

Alman filozofu Immanuel Kant, "Felsefe kendisini akla dayanan nedenlerle meşru kılmak veya haklı çıkarmak iddiasında bir zihinsel etkinlik biçimidir."

**El-Kindi ve Immanuel Kant'ın felsefe tanımlarından hareketle aşağıdakilerden hangisine ulaşılabilir?**

- A) Her filozofun görüşü aynıdır.  
B) Felsefe yapmak için felsefi bilgi gereklidir.  
C) İki filozofun düşünceleri arasında benzerlikler vardır.  
D) Felsefenin farklı tanımları yapılmıştır.

5. Var olan her şeyle ilgili tam, eksiksiz bilgilere sahip olmaktan çok, sürekli hakikati arama yolunda olan ve bilgelğin peşinden koşan kişidir.

**Verilen ifadede sözü edilen kişi aşağıdakilerden hangisidir?**

- A) Filozof  
B) Sanatçı  
C) Siyasetçi  
D) Sporcu

6. Felsefenin akla ve mantığa dayanarak açıklamalarda bulunması aşağıdaki özelliklerinin hangisinden kaynaklanmaktadır?

- A) Birikimlilik  
B) Rasyonellik  
C) Öznellik  
D) Evrensellik

7. İlk Çağ'daki filozoflar aynı zamanda dönemin bilim insanlarıdır. Onların doğayı anlama arzusu felsefe ve bilimin doğmasına neden olmuştur.

**Verilen bilgidен hareketle aşağıdakilerden hangisine ulaşılabilir?**

- A) Bilim adamları doğayla, filozoflar metafizikle ilgilenmişlerdir.  
B) Tanrı'nın varlığı her zaman merak konusu olmuştur.  
C) İlk Çağ'da felsefe ve bilim birlikte ilerlemiştir.  
D) Doğa çözülemeyen gizemlerle doludur.

8. İnsan, parçası olduğu dünyaya karşı şaşkınlık duyar. Bu duygu insanda bilme isteği doğurur ve onu soru sormaya iter.

**Felsefenin de başlangıcını oluşturan bu his aşağıdaki kavramlardan hangisiyle ifade edilir?**

- A) Üzüntü  
B) Hayret  
C) Öfke  
D) Aşk

9. I. Merak etme  
II. Şüphe duyma  
III. Ezberci bakış

**Yukarıdakilerden hangileri felsefe yapmak için gerekli yetilerdir?**

- A) I ve II.  
B) I ve III.  
C) II ve III.  
D) I, II ve III.

10. Felsefe, var olan her şeyin nedenini merak eden ve bunları anlama ihtiyacı duyan insan aklının, her tür bilgiyi eleştiri süzgecinden geçirme çabasıyla MÖ 6.yy.da doğmuştur. Felsefi düşüncenin; sorgulama, şüphe etme, evrensel, rasyonel, birikimli ve refleksif olma gibi temel nitelikleri vardır.

**Verilen metinden hareketle felsefi düşünceyle ilgili aşağıdakilerden hangisine ulaşamaz?**

- A) Birikimli olduğuna  
B) Refleksif olduğuna  
C) Kesin olduğuna  
D) Eleştirel olduğuna

11. Felsefedeki "Nedir?", kavramların anlamını sorar. Bu "Nedir?"de şaşmayla karışık bir araştırma dileği açığa çıkar. Her felsefe sorusunda amaç, bir kavramın ya da kavram öbeğinin açıklanmasıdır. "Bir felsefe sorusu nedir?" katkısız bir felsefe sorusudur.

**Buna göre aşağıdakilerden hangisi bir felsefe sorusudur?**

- A) Dersin kaçta başlayacak?  
B) Akşam nerede buluşacağız?  
C) Bu evde kaç oda var?  
D) Erdem nedir?

12. Aşağıdakilerden hangisi felsefenin işlevlerinden biri değildir?

- A) Her konuda bildiğimizle yetinmemizi sağlar.  
B) Doğuştan gelen bilme, anlama, gerçeği görme merakını doyurur.  
C) Eleştirel ve sorgulayıcı bakış açısı kazandırır.  
D) Doğru yaşamın nasıl olması gerektiği konusunda derinlemesine düşünmemizi sağlar.

13. John Locke'un görüş ve düşünceleri Amerikan Anayasası ve İnsan Hakları Bildirgesi'nin hazırlanmasında etkili olmuştur.

**Bu bilgidен hareketle aşağıdakilerden hangisine ulaşılabilir?**

- A) Felsefede kavramların doğru kullanımını önemlidir.  
B) Farklı fikir ve görüşlere hoşgörülle yaklaşılmalıdır.  
C) Filozofların görüşleri pratik yaşamda etkili olmuştur.  
D) Felsefe, erdemli yaşamın nasıl olması gerektiğini söyler.

14. • Bir görüşü desteklemek, doğrulamak veya güçlendirmek için öne sürülen önerme ya da önermelerdir.  
• Doğru veya yanlış olabilen cümlelere denir.

• Zihnin bir veya birkaç önermeye dayanarak sonuç çıkarmasıdır.

**Verilen tanımlar aşağıdaki kavramlarla eşleştirildiğinde hangisi açıkta kalır?**

- A) Argüman  
B) Estetik  
C) Akıl yürütme  
D) Önerme

15. Mantıklı bir bütünün parçaları arasında karşılıklı bağlantının veya uyumun olması, düşüncelerin kendi içinde çelişki içermemesi felsefi akıl yürütmede aşağıdakilerden hangisinin önemini ortaya koyar?

- A) Sorgulamanın  
B) Merakın  
C) Eleştirmenin  
D) Tutarlılığın

16. Platon'un "Konuşma, insanın aklını kullanma sanatıdır." ifadesi düşünmeyle aşağıdaki alanlardan hangisinin ilişkisine dikkat çekmektedir?

- A) Tarih  
B) Sosyoloji  
C) Dil  
D) Psikoloji

## 1. OTURUM

### (125) FELSEFE – 3

17. “Şeker ve karbohidrat ağırlıklı besinler yerine sebze ve protein ağırlıklı besinler tüketerek sağlığım için iyi olanı yapıyorum. Bu besinlerle beslenmek metabolizmamızı düzenler. Tanıdığım tüm sağlıklı insanlar böyle besleniyor. Doktorlar da bu şekilde beslenmenin sağlıklı olduğunu belirtiyor.”

**Verilen metne göre aşağıdakilerden hangisi şeker ve karbohidrat tüketmeyen birini destekleyen önermeler arasında yer almaz?**

- A) Doktorların da bu çeşit beslenmeyi önermesi  
B) Tüm sağlıklı insanların bu şekilde beslenmesi  
C) Tatlı tüketiminin insanı iyi hissettirmesi  
D) Bu tür beslenmenin metabolizmayı düzenlemesi

18. Kavramlar, nesnelere ortak özelliklerini bir ad altında toplayan genel tasarımlardır.

**Buna göre;**

- I. kuş,  
II. ağaç,  
III. insan

**örneklerinden hangileri kavramdır?**

- A) I ve II.                      B) I ve III.  
C) II ve III.                    D) I, II ve III.

19. Aşağıdakilerden hangisi felsefi soruyla ilgili doğru bir bilgidir?

- A) Kesin cevabı olmalıdır.  
B) Sorgulamaya götürmelidir.  
C) Bakışımızı olduğu gibi bırakmalıdır.  
D) Eleştirilemez olmalıdır.

20. Aşağıdakilerden hangisi kavramları yanlış kullanmanın sonucudur?

- A) Bir düşüncenin yanlış anlaşılması  
B) Doğru düşünmenin sağlanabilmesi  
C) Anlaşılabilir bir iletişimin gerçekleşmesi  
D) Doğru ve temellendirilmiş fikirler üretilmesi

1. Sümerler çamurdan yaptıkları kil tabletler üzerine Gılgamış Destanı'nı ve Hamurabi Kanunları'nı yazmışlardır.

**Buna göre Sümerler için aşağıdakilerden hangisi söylenebilir?**

- A) Barınma ve beslenme ihtiyaçları ön plandadır.  
B) Toplumsal bir düzenden yoksundurlar.  
C) Bilimsel çalışmalar yapmışlardır.  
D) Yazılı kültüre geçmişlerdir.

2. Parmenides'e göre, değişim bir şeyin o şey olmaktan çıkıp başka bir şey olmasıdır. Yani bir şey varken yok olmasıdır. Yokluk olmadığından yok olmak da mümkün değildir. O halde değişim duyuşsal bir yanılgıdır.

**Bu parçadan hareketle Parmenides aşağıdakilerden hangisini reddetmektedir?**

- A) Aklı                              B) Varlığı  
C) Değişimi                      D) Felsefeyi

3. Thales'e göre evrenin ilk nedeni sudur. Su, değişen her şeyde değişmeden kalan, evrenin çokluğundaki birliktir. Hocası Thales'in görüşlerini eleştiren Anaksimandros, su gibi fiziksel bir maddenin evrenin ana maddesi olamayacağını söylemiştir. Ona göre evrenin ana maddesi sonsuz olan apeirondur.

**Buna göre Anaksimandros için aşağıdakilerden hangisi söylenebilir?**

- A) Eleştirel düşünceye sahiptir.  
B) Toplumsal sorunları ele almıştır.  
C) İnanca dayalı açıklamalar yapmıştır.  
D) İnsanın ahlaki yapısını incelemiştir.

4. Protagoras'a göre duyular yanıltıcıdır. Bilgi edinme sürecinde duyuların kullanılması, elde edilen bilginin hatalı olma ihtimalini doğurur. Bu nedenle duyular aracılığıyla elde edilen bilgiler, kişiden kişiye değişiklik gösteren göreceli bir niteliğe sahiptir.

**Buna göre aşağıdaki yargılardan hangisi Protagoras'ın düşünceleriyle uyumludur?**

- A) Doğru bilgi idealerin bilgisidir.  
B) Her şey kendi karşıtıyla vardır.  
C) Doğru, gücünün işine gelendir.  
D) Duyu verilerinden hareketle kesin bir bilgiye ulaşılamaz.

5. Sokrates'e göre bilgi; ahlaklı ve erdemli olmayı gerektirir. Kişinin bilgisizliği ise ahlaktan yoksun davranışlar göstermesine neden olur.

**Buna göre Sokrates için ahlaklı davranışın temelinde aşağıdakilerden hangisi bulunur?**

- A) Şüphe                              B) Bilgi  
C) Duyum                              D) Ateş

6. Platon'a göre gerçek varlık değişmeden kalabilen, akılla kavranabilen, kendi kendinin nedeni olan idealardır. İdealar, içinde yaşadığımız fenomenler dünyasının dışında ayrı bir gerçeklik alanı oluşturmaktadır.

**Platon'un verilen görüşleri aşağıdaki kavramlardan hangisiyle ifade edilmektedir?**

- A) Tao  
B) İroni  
C) İdealar kuramı  
D) Ahlak problemi

7. Aristoteles, insan eylemlerindeki aşırılığın ya da eksikliğin iyi olmadığını ve insanı mutsuz ettiğini belirtir. Ona göre erdemli olmak iki aşırı uç arasında orta yolu bulmaktır. Savurganlık ve cimrilik insanı mutsuz ederken cömertlik iyidir.

**Bu parçadan hareketle erdemli olmak aşağıdakilerden hangisini gerektirir?**

- A) Sürekli iyilik yapmayı  
B) İnsanlardan uzak kalmayı  
C) Davranışlarımızda ölçülü olmayı  
D) Çıkarlarımızın peşinden koşmayı

8. “İnsan, ruh ve bedenden oluşmaktadır. Ruh, bedenden önce ve bedenden bağımsız yaratılmıştır. Maddi bir yapı olmayan ruh; değişmez, sonsuz ve ölümsüzdür. Ruh Tanrı'dan ayrılmıştır ve ona geri dönecektir. İnsan bu dünyada bedenini bırakır ve ruhuyla öte dünyaya gider.”

**İleri sürülen bu görüşler Hristiyan felsefesinin hangi problemine cevap olarak verilmiştir?**

- A) Tanrının varlığı  
B) Ruhun ölümsüzlüğü  
C) Kötülük  
D) Tümmeler



# 1. OTURUM

9. "Her şeyin bir nedeni vardır. Evrende var olan tüm varlıklar kendinden önce gelen bir varlık nedeniyle vardır. Geriye doğru gidildiğinde mantıksal olarak bir ilk varlığın, ilk nedenin olması gerekir. O varlık Tanrı'dır."

**Buna göre Hristiyan felsefesi evreni meydana getiren ilk neden olarak aşağıdakilerden hangisini kabul etmiştir?**

- A) Hava                      B) Apeiron  
C) Atom                      D) Tanrı

10. Eş'ariyye kelimacılarına göre insanın, Allah tarafından müsaade edilen davranışları seçme özgürlüğü vardır. İnsanın seçmesi için birden fazla davranışı yaratan Allah'tır. Bu davranışlardan herhangi birini tercih eden ve yapan insandır. Bu nedenle davranışlarının sonuçlarını üstlenmelidir.

**Bu parçadan hareketle aşağıdakilerden hangisine ulaşılabilir?**

- A) İnsan, eylemlerinin doğurduğu sonuçlardan sorumludur.  
B) İnsan davranışlarıyla topluma uyum sağlamalıdır.  
C) İnsanın davranışlarını seçme özgürlüğü yoktur.  
D) İnsan davranışlarını çıkartları belirler.

11. İbn-i Haldun'a göre toplum, insanların birbirlerine ihtiyaç duyması sonucu doğal olarak meydana gelmiştir. Devlet, toplumu iç ve dış tehlikelerden korumalıdır. Yöneticiler toplumun faydasına göre hareket etmelidirler.

**İbn-i Haldun'un verilen görüşü İslam felsefesinin aşağıdaki problemlerinden hangisiyle ilgilidir?**

- A) Bilgi problemi  
B) İrade özgürlüğü problemi  
C) Yaratıcının varlığını kanıtlama  
D) Toplumsal yaşama yönelik problemler

12. Abbasi halifesi tarafından Beyt'ül Hikme'de başlatılan çeviri faaliyetlerinde pek çok önemli eser Arapçaya çevrilmiştir. Özellikle Aristoteles'in Organon ve Porphyrius'un İsağojji adlı eserleri çevrilmiştir. Çevrilen eserler İslam felsefesine yön vermiştir.

**Bu parçadan hareketle aşağıdaki yargılardan hangisine ulaşamaz?**

- A) Din otoritelerinin görüşleri esas alınmıştır.  
B) İslam medeniyeti bilim ve felsefeye önem vermiştir.  
C) Yapılan çeviriler İslam felsefenin gelişmesini sağlamıştır.  
D) İslam filozofları Antik Yunan felsefesinden etkilenmişlerdir.

13. Farabi, insanların mutlu olabilmelelerinin koşulu olarak kurdukları düzen içinde adaletin sağlanmasını öngörür. Adaleti ise ancak güçlü bir örgüt olan devlet sağlayabilir.

**Buna göre Farabi için insanların mutluluğu aşağıdakilerden hangisiyle sağlanabilir?**

- A) Bencil bir toplumla  
B) Adil bir düzenle  
C) Özgür bir toplumsal düzenle  
D) Filozofların yönetici olmasıyla

14. Aşağıdakilerden hangisi Hristiyan ve İslam felsefesinin özelliklerinden biridir?

- A) Evreni dört elementle açıklamaya çalışmışlardır.  
B) Evrenin ana maddesinin atom olduğu kabul edilmiştir.  
C) Dine dayalı felsefe yapılmıştır.  
D) Dini inanç çok tanrıdır.

15. Modern düşüncede akıl, bilimsel yöntemi kendine rehber olarak almış, bilim ve bilimsel yöntem ışığında felsefeye yönelmiştir.

**Buna göre modern düşünce için aşağıdakilerden hangisi söylenebilir?**

- A) Bilim, felsefenin kılavuzu olmuştur.  
B) İnanç merkezli bir anlayış vardır.  
C) Din adamlarının görüşleri önem kazanmıştır.  
D) Felsefe dinsel kabullere göre yapılmaktadır.

16. İtalya'da 15. yüzyılda ortaya çıkmış ve bilim, sanat, felsefe, din alanında değişimlere sebep olmuş olan "yeniden doğuş" anlamına gelen kavram aşağıdakilerden hangisidir?

- A) Bilimsel yöntem  
B) Nominalizm  
C) Rönesans  
D) İdea

17. 15-17. yüzyıl felsefesinin öne çıkan konularından bir tanesi de hümanizmdir. Hümanizm, insanı özneleştirmeye çabalayan, insan aklına önem veren yeni bir hayat anlayışıdır.

**Buna göre hümanizm aşağıdakilerden hangisini temel alır?**

- A) Dini inancı  
B) İnsan aklını  
C) Kiliseye bağlılığı  
D) Dogmatik düşünceleri

18. I. Dünya Savaşı sonrası oluşan karamsar etkinin sonucu olarak siyasal durumun daha da kötüye gideceğini anlatan toplumsal tasarımlar aşağıdakilerden hangisiyle adlandırılır?

- A) Modernlik  
B) Sorumluluk  
C) Hukuk felsefesi  
D) Korku ütopyası

19. Newton, kütle üzerine yapmış olduğu deney ve gözlemlerle yer çekimi yasasını bulmuştur. Bu yasayla serbest bırakılan tüm cisimlerin ve gök cisimlerinin hareketlerinin nedenini açıklamıştır.

**Buna göre Newton aşağıdaki alanlardan hangisinde çalışma yapmıştır?**

- A) Siyaset                      B) Sanat  
C) Bilim                      D) Din

20. "Düşünüyorum o halde varım." diyen Descartes'a göre kesin ve doğru bilginin kaynağı aşağıdakilerden hangisidir?

- A) Fayda                      B) Akıl  
C) İnanç                      D) Deney

# 1. OTURUM

(132) TARİH – 2

1. Orta Asya'nın en yeni ve en gelişmiş kültür merkezi aşağıdakilerden hangisidir?

- A) Anav Kültürü
- B) Tagar Kültürü
- C) Afanesyevo Kültürü
- D) Karasuk Kültürü

2. Tarihte Türklerin kurduğu ilk teşkilatlı devlet aşağıdakilerden hangisidir?

- A) Asya Hun Devleti
- B) I. Kök Türk Devleti
- C) Uygur Devleti
- D) Ak Hun Devleti

3. Tarihte Türk adını ilk kez resmi devlet adı olarak kullanmışlardır. Bumin Kağan önderliğinde Avarları mağlup ederek 552 yılında kurulmuştur. Mukan Kağan zamanında en parlak dönemini yaşamıştır.

Hakkında bilgi verilen Türk devleti aşağıdakilerden hangisidir?

- A) Hazar Devleti
- B) Ak Hun Devleti
- C) Uygur Devleti
- D) I. Kök Türk Devleti

4. Uygurlar Mani dinini hangi hükümdar döneminde kabul etmiştir?

- A) Kutluk Bilge Kül Kağan
- B) Moyen Çor Kağan
- C) Böğü Kağan
- D) Baga Tarkan

5. Aşağıdakilerden hangisi Orta Asya'da kurulan ilk Türk devletlerinde toplumun sosyal yapısını oluşturan unsurlardan biri değildir?

- A) Oguş
- B) Ülüş
- C) Urug
- D) Boy

6. İlk Türk devletlerinde, devlet işlerinin görüşülüp karara bağlandığı meclis aşağıdakilerden hangisidir?

- A) Toygun
- B) Budun
- C) Aygucı
- D) Kurultay

7. Aşağıdakilerden hangisi ilk Türk devletlerinde hükümdarların kullandıkları unvanlardan biri değildir?

- A) Toy
- B) Han
- C) Kağan
- D) Tanhu

8. Aşağıdakilerden hangisi Orta Asya Türk göçlerinin ekonomik nedenlerindedir?

- A) Kuraklık yüzünden kıtlık yaşanması
- B) Yeni ülkeler elde etme arzusu
- C) Türk boyları arasındaki mücadeleler
- D) Çin ve Moğol baskısı

9. İlk düzenli Türk ordusu aşağıdaki hükümdarlardan hangisi tarafından kurulmuştur?

- A) Mukan Kağan
- B) Bumin Kağan
- C) Mete Han
- D) Böğü Kağan

10. İslam öncesi Arap Yarımadası'nda haram aylarda yapılan savaşlara ne denirdi?

- A) Bedir Savaşı
- B) Ficar Savaşları
- C) Hendek Savaşı
- D) Mute Savaşı

11. Aşağıdakilerden hangisi İslam öncesi Arap Yarımadası'nda bulunan devletlerden biri değildir?

- A) Gassaniler
- B) Nebatiler
- C) Tedmürlüler
- D) Sasaniler

12. Aşağıdakilerden hangisi Hz. Muhammed Dönemi gelişmelerinden değildir?

- A) Uhud Savaşı
- B) Mute Savaşı
- C) Bedir Savaşı
- D) Siffin Savaşı

13. Kudüs aşağıdaki halifelerden hangisi zamanında fethedilmiştir?

- A) Hz. Ömer
- B) Hz. Ali
- C) Hz. Osman
- D) Hz. Ebu Bekir

14. • İlk İslam parası bastırılmıştır.  
• Arapça resmi dil olarak kabul edilmiştir.  
Yukarıdaki gelişmeler hangi Emevi halifesi döneminde gerçekleşmiştir?

- A) Yezid
- B) I. Velid
- C) Abdülmelik
- D) Ömer Bin Abdülaziz

15. Emevilerin Avrupa kıtasındaki ilerlemeleri hangi savaşla son bulmuştur?

- A) Nihavent Savaşı
- B) Puvatya Savaşı
- C) Kadisiye Savaşı
- D) Köprü Savaşı

16. Aşağıdakilerden hangisi Mısır'da kurulmuş ilk Müslüman Türk devletlerinden biri değildir?

- A) Harzemşahlar
- B) Tolunoğulları
- C) İhşidiler
- D) Eyyubiler

17. Aşağıdakilerden hangisi akli ilimlerden biridir?

- A) Tefsir
- B) Hadis
- C) Fıkıh
- D) Coğrafya

18. Orta Asya'daki ilk Müslüman Türk devleti aşağıdakilerden hangisidir?

- A) Gazneliler
- B) Harzemşahlar
- C) Karahanlılar
- D) Memlükler

19. Aşağıdaki savaşlardan hangisiyle Anadolu'nun kapıları Türklere açılmıştır?

- A) Malazgirt Savaşı
- B) Dandanakan Savaşı
- C) Pasinler Savaşı
- D) Katvan Savaşı

20. Büyük Selçuklu Devleti'nde devletin bütün mali işlerinden sorumlu olan divan aşağıdakilerden hangisidir?

- A) Divan-ı İnşa (tuğra)
- B) Divan-ı İstifa
- C) Divan-ı İşraf
- D) Divan-ı Arz

## 1. OTURUM

### (136) SEÇMELİ TARİH – 2

1. Aşağıdakilerden hangisinin yaydığı fikir akımları imparatorlukların yıkılmasında etkili olmuştur?

- A) Fransız İhtilali
- B) Sanayi İnkılabı
- C) Rönesans
- D) Reform

2. 1830 ihtilalleri ilk olarak aşağıdaki ülkelerden hangisinde başlamıştır?

- A) Almanya
- B) İtalya
- C) İngiltere
- D) Fransa

3. Serbest piyasa ekonomisi veya serbest girişim olarak bilinir. Özel teşebbüse ve piyasa serbestliğine dayalı olan bir üretim sistemidir ayrıca üretim araçlarının özel mülkiyetine dayanan üretimle tüketimin pazar tarafından dengelendiği bir ekonomik sistemdir.

Hakkında bilgi verilen ekonomik sistem aşağıdakilerden hangisidir?

- A) Sosyalizm
- B) Kapitalizm
- C) Romantizm
- D) Realizm

4. Nizam-ı Cedit Ordusu hangi Osmanlı padişahı döneminde kurulmuştur?

- A) I. Murat
- B) II. Mahmut
- C) III. Selim
- D) III. Murat

5. Aşağıdaki Osmanlı padişahlarından hangisi döneminde Mehterhâne kaldırılarak yerine Mızıkai-Hümâyün kurulmuştur?

- A) II. Mahmut
- B) II. Murat
- C) I. Mehmet
- D) II. Selim

6. Aşağıdakilerden hangisi nüfusun bir ülkede artmasının o ülkeye sağlayacağı avantajlardan biri değildir?

- A) Devletin askerî ve siyasi güç kazanması
- B) Kişi başına düşen millî gelirin düşmesi
- C) Savaş gücünün insan sayısına orantılı olarak artması
- D) Ekonomide kalkınma için gerekli işçi gücüne sahip olunması

7. II. Mahmut zamanında âyanlarla imzalanan belge aşağıdakilerden hangisidir?

- A) Kanun-i Esasi
- B) İslahat Fermanı
- C) Sened-i İttifak
- D) Tanzimat Fermanı

8. Osmanlı Devleti'nin 18. yüzyılda girdiği savaşların çoğunda yenilmesi hangi alanda ıslahat yapılmasını gerekli kılmıştır?

- A) İdari
- B) Ekonomi
- C) Sağlık
- D) Askerî

9. Aşağıdakilerden hangisi Tanzimat Fermanı'nda yer alan maddelerden biri değildir?

- A) Kanun önünde herkes eşit sayılacaktır.
- B) Kişilere mülkiyet hakkı tanınacaktır.
- C) Vatandaşlara seçme ve seçilme hakkı verilecektir.
- D) Vergiler herkesin gelirine göre toplanacaktır.

10. I. ve II. Meşrutiyet hangi Osmanlı padişahı döneminde ilan edilmiştir?

- A) II. Abdülhamit
- B) Abdülaziz
- C) V. Murat
- D) III. Selim

11. Aşağıdakilerden hangisi endüstriyel üretimin özelliklerinden biri değildir?

- A) Üretimde makineleşme ön plandadır.
- B) Üretimde gelişmiş teknolojiler kullanılır.
- C) İş bölümünde modern eğitimden faydalanılır
- D) Üretim ve satış aynı mekânda gerçekleşmektedir.

12. Aşağıdakilerden hangisi Balta Limanı Ticaret Antlaşması'nın sonuçlarından biridir?

- A) Avrupa mallarının yerli mallar ile rekabet edemez hale gelmesi
- B) Osmanlı pazarlarının büyük oranda yabancıların denetimine geçmesi
- C) Osmanlı Devleti'nin gümrük vergisi gelirinin artması
- D) Osmanlı yerli sanayisinin güçlenmesi

13. Aşağıdakilerden hangisi İslah-ı Sanayi Komisyonu'nun görevlerinden biri değildir?

- A) Sanayiye teşvik etmek
- B) Vergileri toplamak
- C) Sanayi okulları açmak
- D) Esnaf şirketleri oluşturmak

14. Osmanlı Devleti'nde sanayi kuruluşlarına nitelikli işçi yetiştirmek için aşağıdaki eğitim kurumlarından hangisi açılmıştır?

- A) Sanayi Mektepleri
- B) Gümrük Mektebi
- C) Ticaret Mektebi
- D) Baytar Mektebi

15. 1877-1878 Osmanlı-Rus savaşının diğer adı aşağıdakilerden hangisidir?

- A) Kırım Savaşı
- B) Mohaç Savaşı
- C) 93 Harbi
- D) Trablusgarp Savaşı

16. Türkleri Balkanlardan atmak, Boğazları ele geçirmek ve sıcak denizlere inmek amacıyla panslavist politika izleyen devlet aşağıdakilerden hangisidir?

- A) Almanya
- B) Fransa
- C) İngiltere
- D) Rusya

17. Osmanlı Devleti göçler sonrası yaşanan sorunları çözmek için aşağıdaki kanunlardan hangisini yayımlamıştır?

- A) Arazi Kanunnamesi
- B) Muhacirun Kanunnamesi
- C) Kanunname-i Ticaret
- D) Ticaret-i Bahriye Kanunnamesi

18. Osmanlı Devleti'nde çıkarılan ilk resmî gazete aşağıdakilerden hangisidir?

- A) Takvim-i Vekayî
- B) Ceride-i Havadis
- C) İrade-i Milliye
- D) Tasvir-i Efkâr

19. Aşağıdakilerden hangisi Sanayi İnkılabı'nın sonuçlarından biri değildir?

- A) Ulus devletlerin kurulması
- B) Üretim tarzının değişmesi
- C) İşçi sınıfının ortaya çıkması
- D) Üretimin artması

## 1. OTURUM

20. Modern şehirler aşağıdakilerden hangisiyle ortaya çıkmıştır?

- A) Coğrafi Keşifler
- B) Haçlı Seferleri
- C) Sanayi İnkılabı
- D) Reform Hareketleri

### (151) COĞRAFYA – 1

1. • Yeryüzü şekillerinin oluşum sürecini ve dağılışını inceler.  
• Araştırmalarını yeryüzünde yapar.  
• Kartografya, pedoloji, litoloji gibi bilim dallarından yararlanır.

Yukarıda verilen bilgiler coğrafyanın hangi alt dalı ile ilgilidir?

- A) Klimatoloji
- B) Jeomorfoloji
- C) Hidrografya
- D) Biyocoğrafya

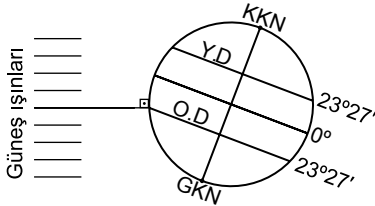
2. İlk Çağ'ın ilk coğrafyacısı olarak bilinen, çeşitli gezginlerden ve gemicilerden topladığı bilgiler doğrultusunda haritalar oluşturan bilim insanı kimdir?

- A) Tales
- B) Batlamyus
- C) Macellan
- D) Piri Reis

3. Aşağıdakilerden hangisi Dünya'nın şeklinin sonuçlarından biri değildir?

- A) Sıcaklığın ekvatorдан kutuplara doğru gidildikçe azalması.
- B) Paralel boylarının kutuplara doğru gidildikçe kısalması.
- C) Dünya'nın çizgisel hızının ekvatora doğru gidildikçe artması.
- D) Karaların Kuzey yarım kürede daha fazla yer tutması

4.



Dünya'nın Güneş'e göre konumu görseldeki gibiyken aşağıda verilenlerden hangisi yaşanmaz?

- A) Güney Yarım Küre'de yaz mevsimi başlar.
- B) Öğlak Dönencesi'nde öğle vakti cisimlerin gölgesi oluşmaz.
- C) Bu tarihten sonra Güney Yarım Küre'de geceler kıalmaya başlar.
- D) Güney Yarım Küre'de güneye gidildikçe gündüzler uzar.

5. Matematik iklim kuşaklarının her iki yarım kürede de aynı enlem değerlerinden başlayıp bitmesinin nedeni aşağıdakilerden hangisidir?

- A) Eksen eğikliği
- B) Okyanus akıntıları
- C) Basınç merkezlerinin dağılışı
- D) Kara ve denizlerin dağılışı

6. Aşağıdakilerden hangisi boylamlar arasındaki mesafenin sonucunda oluşur?

- A) İklim ve bitki örtüsünde kuşaklar meydana gelmesi
- B) Denizlerdeki tuzluluk oranının kutuplara doğru azalması
- C) Doğu – batı yönünde iki nokta arasında yerel saat farkı oluşması
- D) Cisimlerin gölge boyunun ekvator ve çevresinde daha kısa olması

7. Aşağıdakilerden hangisi Türkiye'nin matematik konumunun sonuçlarından biridir?

- A) Yükselti batıdan doğuya doğru artar.
- B) Dört mevsim belirgin olarak yaşanır.
- C) Yeraltı kaynakları bakımından zengindir.
- D) Genç fay hatları üzerinde olduğundan sık sık deprem yaşanır.

8. Doğu – batı doğrultusunda geniş alan kaplayan ülkeler aynı anda birden fazla ulusal saat kullanır.

Buna göre aşağıdaki ülkelerden hangisi bunlardan biridir?

- A) Arjantin
- B) Norveç
- C) İngiltere
- D) Kanada

9. 0° başlangıç meridyeninin geçtiği Greenwich kasabası aşağıdaki şehirlerden hangisinin yakınındadır?

- A) Moskova
- B) New York
- C) Tokyo
- D) Londra

10. Konik projeksiyon yöntemi ile Orta kuşaktaki yerlerin haritaya daha az hata ile aktarılması mümkündür.

Buna göre aşağıdakilerden hangisinin haritası konik projeksiyon ile çizilirse hata oranı daha az olur?

- A) Fransa
- B) Peru
- C) Alaska
- D) Yeni Zelanda

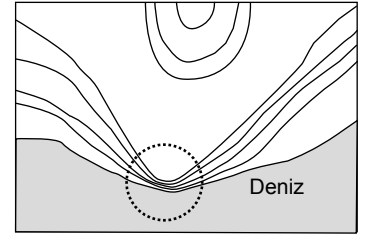
11. 1/500.000 ve 1/2.000.000 ölçekli iki Türkiye haritasında aşağıdakilerden hangisi aynıdır?

- A) Bozulma oranı
- B) Ayrıntıyı gösterme gücü
- C) Paralel ve meridyen değerleri
- D) İzohipsler arasındaki yükselti farkı

12. Aşağıdakilerden hangisi özel haritalardan biridir?

- A) Türkiye Fiziki Haritası
- B) İç Anadolu Bölgesi Jeoloji Haritası
- C) Almanya İdari Bölünüş Haritası
- D) Asya Kıtası Nüfus Dağılışı Haritası

13.



Görselde verilen izohips haritasında daire içinde gösterilen yer şekli aşağıdakilerden hangisidir?

- A) Sırt
- B) Haliç
- C) Falez
- D) Boyun

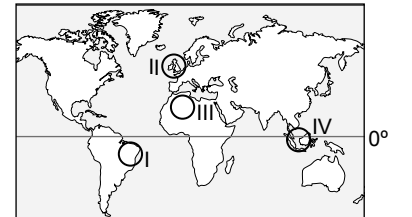
14. Aşağıda verilenlerden hangisinin oluşumu üzerinde iklimin etkisi en azdır?

- A) Yer şekilleri
- B) Maden rezervleri
- C) Kültürel faaliyetler
- D) Nüfusun yeryüzüne dağılışı

15. İklim olaylarının gerçekleştiği atmosfer katı aşağıdakilerden hangisidir?

- A) Mezosfer
- B) Termosfer
- C) Stratosfer
- D) Troposfer

16. Aşağıdaki Dünya haritası üzerinde bazı yerler numaralandırılmıştır.



Haritada numaralandırılan yerlerden hangisi diğerlerine göre daha az yağış alır?

- A) I
- B) II
- C) III
- D) IV

# 1. OTURUM

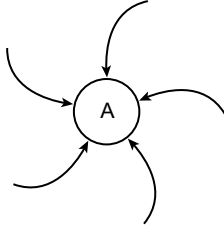
## (155) SEÇMELİ COĞRAFYA – 1

17. Bir yerde ölçülen sıcaklık değerine gerçek sıcaklık denir. Bir yerin yükseltisinin deniz seviyesine düşürüldüğü varsayılarak hesaplanan sıcaklığına ise indirgenmiş sıcaklık denir.

**Türkiye’de gerçek sıcaklık ile indirgenmiş sıcaklık arasındaki farkın en az olduğu bölge aşağıdakilerden hangisidir?**

- A) Marmara Bölgesi  
B) Akdeniz Bölgesi  
C) İç Anadolu Bölgesi  
D) Doğu Anadolu Bölgesi

18.



**Görsele verilen A merkezi için aşağıdakilerden hangisi söylenir?**

- A) Yüksek basınç alanıdır.  
B) Yağış ihtimali yüksektir.  
C) Güney Yarım Küre’de yer alır.  
D) Hava kütlesi alçalıcı özellik gösterir.

19. • Kutup ikliminde yağış azdır.  
• Sert karasal iklimin bitki örtüsü tayga ormanlarıdır.  
• Tropikal iklimde yıl boyunca sıcaklıklar yüksektir.  
• Çöl iklimi günlük sıcaklık farkının en az olduğu iklimdir.

**İklimler ile ilgili verilen bilgilerden kaç tanesi doğrudur?**

- A) 1 B) 2 C) 3 D) 4

20. Yaz tatilini nerede geçirdiklerini anlatan öğrencilerden Ahmet, gittiği yerde en fazla yağışın yaz mevsiminde düştüğünü, doğal bitki örtüsünün çayır olduğunu, donma olaylarının fazla yaşandığını söylemiştir.

**Buna göre Ahmet yaz tatilini aşağıdaki şehirlerden hangisinde geçirmiştir?**

- A) Kars B) Konya  
C) Edirne D) Çankırı

1. **Aşağıdaki canlılardan hangisi hem su ve hem de kara ekosistemlerinde yaşayabilmektedir?**

- A) Panda B) Ahtapot  
C) Sincap D) Kurbağa

2. I. Sanayileşme  
II. Ağaçlandırma  
III. Milli parkların oluşturulması  
IV. Kentleşmenin hızlanması

**Yukarıda verilenlerden hangileri biyolojik çeşitliliğin üzerinde baskı kurarak olumsuz etkiler yaratır?**

- A) I ve II. B) I ve IV.  
C) II ve III. D) III ve IV.

3. Sıcaklık, nem, basınç ve hava hareketleri canlıların yeryüzüne dağılışını belirleyen etkenlerdendir.

**Yukarıda canlıların yeryüzüne dağılışını etkileyen hangi fiziki faktörden söz edilmektedir?**

- A) İklim B) Yer şekli  
C) İnsan D) Toprak

4. **Ekosistemler için aşağıdakilerden hangisi söylenemez?**

- A) Sürekli etkileşim ve değişim halindedirler  
B) Belirli bir alanı kaplayan sistemlerdir  
C) Canlı ve cansız varlıklar sistemin parçalarıdır  
D) İnsan faaliyetlerinden etkilenmeyen organizasyonlardır

5. **Yeşil bitkilerin karbondioksit, su ve güneşten aldıkları ışığın yardımı ile besin ve oksijen üretmesine ne denir?**

- A) Fotosentez B) Besin zinciri  
C) Biyom D) Enerji akışı

6. **Ülkelerin birbirlerinden farklı nüfus politikaları geliştirmelerinde aşağıdakilerden hangisi etkili olamaz?**

- A) Nüfus artış hızlarının farklı olması  
B) Ekonomik seviyeleri arasındaki farklılıklar  
C) Halklarının eğitim seviyelerinin değişiklik göstermesi  
D) Beslenme alışkanlıklarının değişim göstermesi

7. Türkiye’de yapılan nüfus projeksiyonlarında artış hızının günümüzdeki gibi düşmeye devam etmesi durumunda ülke nüfus artışının 2050’ler de duracağı devam eden yıllarda da azalacağı öngörülmektedir.

**Aşağıdakilerden hangisi bu durumun sonuçlarından biridir?**

- A) Kadın-erkek oranı sabit kalacaktır  
B) Nüfus kırsal alanlara göç edecektir  
C) Yaşlı nüfus oranı artacaktır  
D) Sanayi sektöründe çalışan sayısı artacaktır

8. **İlk yerleşim yerlerinin seçiminde insanlar aşağıdakilerden hangisini en az dikkate almıştır?**

- A) Suya yakınlığı  
B) Verimli toprakları  
C) Yer altı kaynaklarını  
D) İklimin uygunluğunu

9. Küresel fonksiyonlu şehirlerde üretilen mallar, verilen hizmetler, yapılan işler, alınan kararlar, sağlık, bilim, sanat, bankacılık, borsa, ticaret, teknolojik alandaki tüm gelişmeler dünya çapında etki alanına sahiptir. Küresel etkiye sahip büyük şehirler genellikle orta kuşakta yer alır.

**Metinde küresel boyuttaki şehirlerin hangi özelliği üzerinde daha çok durulmuştur?**

- A) Kültürel B) Ekonomik  
C) Siyasal D) Coğrafi

10. **Şehirlerin etki alanına göre yapılan aşağıdaki sınıflamaların hangisi doğrudur?**

	Afyon	Bakü	Londra
A) Küresel	Bölgesel	Yerel	
B) Yerel	Bölgesel	Küresel	
C) Bölgesel	Yerel	Küresel	
D) Yerel	Küresel	Bölgesel	

11. • Sürekli köy altı yerleşmedir  
• Köyün uzağında birkaç evden oluşur.  
• Tarım ve hayvancılık yapılıdır.  
• Doğu ve Güneydoğu Anadolu’da yaygındır.  
• Temel yapı malzemesi taştır.

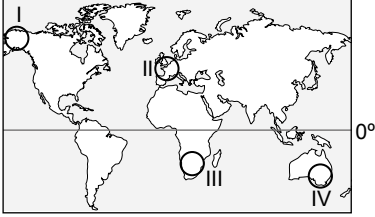
**Yukarıda bazı özellikleri verilen kırsal yerleşme aşağıdakilerden hangisidir?**

- A) Mezra B) Kasaba  
C) Dalyan D) Çiftlik

## 1. OTURUM

12. Dünya üzerinde herhangi bir yerin denizlere, önemli su ve ticaret yollarına göre konumu, yer şekilleri, önemli üretim, tüketim ve sermaye merkezlerine yakınlığı yani coğrafi konumu, üretim, dağıtım ve tüketim faaliyetlerini olumlu ya da olumsuz olarak etkiler.

**Buna göre haritada numaralanmış alanların hangisi konumu nedeniyle daha uygun şartlara sahiptir?**



- A) I B) II C) III D) IV

13. Aşağıda verilen sanayi tesislerinden hangisinin deprem kuşağı üzerine inşa edilmesi olası bir depremde diğerlerinden daha büyük çevre sorunlarına sebep olur?

- A) Meyve suyu fabrikası  
B) Otomobil fabrikası  
C) Nükleer santral  
D) Demir- çelik fabrikası

14. Aşağıdakilerden hangisi belli koşullarda yenilenebilen dolayısıyla tükenmeyen doğal kaynaktır?

- A) Petrol B) Kömür  
C) Madenler D) Ormanlar

15. Aşağıdaki ülkelerden hangisi zengin enerji kaynaklarına sahip olmasına rağmen bunları halkının refah seviyesinin artması için kullanamamaktadır?

- A) Nijerya B) İspanya  
C) Kanada D) Yunanistan

16. Aşağıdakilerden hangisi ülkemizin gelişmemiş yörelerinde yatırımları özendirerek, sürdürülebilir kalkınmayı sağlamak için alınan teşvik uygulamalarından biri değildir?

- A) Vergi indirimi yapmak  
B) Doğal nüfus artışını teşvik etmek  
C) Ücretsiz arsa temin etmek  
D) Kullanılan elektrikte indirim yapmak

17. Türkiye'de yağışın yetersiz ve sulama koşullarının elverişsiz olduğu yörelerdeki tarım arazilerinde aşağıdaki yöntemlerden hangisi uygulanmaktadır?

- A) Üretiminde daha çok insan gücü kullanmak  
B) Makine kullanımını yaygınlaştırmak  
C) Ekip biçme yerine hayvancılığa yönelmek  
D) Tarım alanlarını nadasa bırakmak

18. Türkiye pamuk üretiminde aşağıdaki bölgelerimizden hangisinin payı daha yüksektir?

- A) Akdeniz Bölgesi  
B) Ege Bölgesi  
C) Güneydoğu Anadolu Bölgesi  
D) Doğu Anadolu Bölgesi

19. Ülkemizin maden çeşitliliği bakımından dünyada ilk beş ülke arasında yer aldığı halde maden gelirleri bakımından düşük seviyede olmasında,

- I. Madeni işlemede yüksek teknoloji kullanımı  
II. Maden yataklarının dağınık halde olması  
III. Çalışan sayısının düşük olması  
IV. Maden yataklarının düşük rezervli olması

**durumlarından hangileri etkili olmuştur?**

- A) Yalnız I. B) Yalnız III.  
C) II ve III. D) II ve IV.

20. Ülkemizin rezerv bakımından zengin olduğu; daha çok Afyon, Kütahya, Marmara Adası, Kırşehir, Tokat ve İzmir çevresinde çıkarılan ve inşaatlarda yoğun şekilde kullanılan maden aşağıdakilerden hangisidir?

- A) Mermer B) Bor  
C) Tuz D) Oltu taşı

### (157) SEÇMELİ COĞRAFYA – 3

1. Aşağıdakilerden hangisi jeoloji ve jeomorfoloji kökenli ekstrem doğa olayıdır?

- A) Sel B) Taşkın  
C) Fırtına D) Tsunami

2. Aşağıda verilenlerden hangisi ekstrem doğa olayına örnektir?

- A) Yakutistan Cumhuriyeti'nin başkenti Yakutsk'ta sıcaklık kış aylarında  $-64^{\circ}\text{C}$  ye kadar düşmektedir.  
B) Uydu teknolojileri yardımı ile NASA tarafından 2005 yılında Lut Çölü'nün sıcaklığı rekor kırarak  $70,7^{\circ}\text{C}$  olarak ölçülmüştür.  
C) İtalya'nın Sicilya Adası'nda bulunan Etna Yanardağı'nda 16 Mart 2017 tarihinde meydana gelen patlamada on kişi yaralanmıştır.  
D) 1999 yılında meydana gelen Marmara depreminde 17480 kişi hayatını kaybetmiştir.

3. Aşağıdakilerden hangisi kuraklığın doğaya etkilerinden biridir?

- A) Göç  
B) Böcek istilası  
C) Yoksullukta artış  
D) Salgın hastalıklar

4. Aşağıdakilerden hangisi küresel iklim değişimine neden olan faaliyetlerden biri değildir?

- A) Suyun fotolizi sırasında oksijen açığa çıkması  
B) Çöplerin gömülmesi veya yakılmasıyla atmosfere gaz salınması  
C) Pirinç tarımı yapılan yerlerde bataklık arazinin metan gazı üretmesi  
D) Ağaçların yakılması ile ağaçta depolanmış karbonun serbest kalması

5. "Küresel düşün, yerel hareket et." prensibine göre küresel iklim değişimine karşı mücadele etmek isteyen Füsun Hanım aşağıdakilerden hangisini yapmamalıdır?

- A) Enerji tasarruflu ampul kullanılmasıdır.  
B) Ulaşımında toplu taşıma araçlarını tercih etmelidir.  
C) Televizyonu fişini çekmeden kumanda ile kapatmalıdır.  
D) Çöplerini türüne göre ayırarak geri dönüşüm kutusuna atmalıdır.

# 1. OTURUM

6. Aşağıdakilerden hangisi diğerlerinden daha eski ve ünlü kültürel, sosyal etkinliktir?

- A) İzmir Çiçek Fuarı
- B) Saimbeyli Kiraz Şenliği
- C) Kayseri Pastırma Tanıtım Günü
- D) Edirne Kırkpınar Yağlı Güreş Festivali

7. Aşağıdakilerden hangisi teknolojinin doğa ve insan üzerindeki olumlu etkilerindendir?

- A) Mal ve hizmet üretimini kolaylaştırması
- B) Kentlerde ışık ve sesin artması
- C) Doğal kaynak kullanımının artması
- D) Kişiler arasında sosyal ilişkilerin azalması

8. Ekonomik ve kültürel açıdan diğer bölgelerle etkileşim gösteren, sosyo - ekonomik ortama göre oluşmuş bölgelere işlevsel bölge denir.

**Buna göre aşağıdakilerden hangisi işlevsel bölgeye örnektir?**

- A) Akdeniz İklimi Bölgesi
- B) Güneydoğu Ova Bölgesi
- C) Marmara Ticaret Bölgesi
- D) Doğu Anadolu Dağlık Bölgesi

9. Aşağıdakilerden hangisi bölgesel kalkınma planlarının amaçlarından biri değildir?

- A) Bölge dışına göçü hızlandırmak
- B) Bölgeye yapılacak yatırımları artırmak
- C) Halkın sosyo-kültürel gelişimine katkıda bulunmak
- D) Ekonomik faaliyetlerin ülkeye dengeli dağılmasını sağlamak

10. Türkiye'nin ilk bölgesel kalkınma projesi aşağıdakilerden hangisidir?

- A) KOP
- B) ZBK
- C) DAP
- D) GAP

11. I. Proje alanında erozyonla mücadele etmek.

II. Kömür ve çeliğe dayalı sanayiye olan bağımlılığı azaltmak.

III. Akış rejimini düzenleyici çalışmalar yapmak.

**Yukarıdakilerden hangisi Yeşilirmak Havzası Gelişim Projesi'nin amaçlarından dendir?**

- A) Yalnız I.
- B) Yalnız II.
- C) I ve III.
- D) II ve III.

12. Aşağıdakilerden hangisi ulaşımı etkileyen beşeri faktörlerdendir?

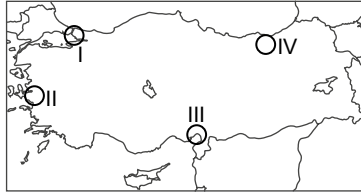
- A) Teknolojik gelişmeler
- B) Yeryüzü şekilleri
- C) Coğrafi konum
- D) İklim koşulları

13. Çanakkale, uluslararası transit deniz ticaretinin geçiş güzergâhı üzerinde önemli bir boğaza sahiptir. Ayrıca İstanbul, Kocaeli, Bursa gibi ticaret ve sanayi açısından gelişmiş şehirlere yakın konumda bulunur. Buna rağmen Çanakkale'de ekonomik faaliyetler yetersiz, nüfus seyrek.

**Bu durumun başlıca nedeni aşağıdakilerden hangisidir?**

- A) Kültür turizminin ön plana çıkması
- B) Ana ulaşım güzergahlarının uzatılmasında olması
- C) Kıyı kesimlerinde Akdeniz ikliminin etkili olması
- D) İl ekonomisinde en önemli yeri tarımın alması

14. Aşağıdaki Türkiye haritasında bazı alanlar numaralandırılmıştır.



**Türkiye'nin ilk demir yolu hattı haritada numaralandırılan alanların hangisinde hizmete açılmıştır?**

- A) I
- B) II
- C) III
- D) IV

15. Aşağıdaki bölgelerden hangisinin dünya ticaretindeki payı en düşüktür?

- A) Asya
- B) Avrupa
- C) Afrika
- D) Kuzey Amerika

16. • 1 Ocak 1994'te ABD, Kanada ve Meksika tarafından kurulmuştur.  
• Üye ülkeler arasında gümrük vergileri gibi ticari engellerin kaldırılması, Kuzey Amerika'da ekonomik ve toplumsal istikrarın sağlanması amaçlanmıştır.  
• Bölgede önemli bir pazar oluşturarak ticaret hacmini genişletmiştir.

**Bazı özellikleri verilen ticaret bölgesi aşağıdakilerden hangisidir?**

- A) AB
- B) NAFTA
- C) MERCOSUR
- D) UZAK DOĞU

17. Aşağıda verilen turistik alanların hangisi kültürel sembollere örnektir?

- A) Peribacaları – Nevşehir
- B) Kurşunlu Şelalesi – Antalya
- C) Nemrut Dağı Heykelleri – Adıyaman
- D) Pamukkale Travertenleri – Denizli

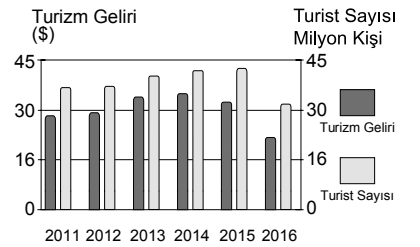
18. Aşağıdakilerden hangisi somut kültürel miras öğelerinden biridir?

- A) Telkâri sanatı
- B) Halk tiyatrosu
- C) Yöresel yemekler
- D) Arkeolojik eserler

19. Dünya kültür mirasları ile ilgili çalışmalarını yürüten kuruluş aşağıdakilerden hangisidir?

- A) UNESCO
- B) NASA
- C) UNICEF
- D) TEMA

20. Aşağıdaki grafikte TÜİK verilerine göre Türkiye'de turizm gelirleri ve turist sayısının yıllara göre dağılımı verilmiştir.



**Bu grafiğe bakılarak aşağıdakilerden hangisine ulaşılamaz?**

- A) Turist sayısının en az olduğu yıl 2016'dır.
- B) Turizm gelirinin en fazla olduğu yıl 2014'tür.
- C) 2011 – 2015 yılları arasında turist sayısı sürekli artmıştır.
- D) Turizmin dış ticaret açığını kapatmadaki payı 2015'te %40'a yaklaşmıştır.



# 1. OTURUM

## (181) İNGİLİZCE – 1

1-20. sorularda boş bırakılan yere uygun gelen kelime ya da ifadeyi işaretleyiniz.

1. **Joe** : Excuse me! ----?

**Max** : Go straight. Turn left. Cross the street.

- A) How are you today
- B) What is your name
- C) Where are you from
- D) How can I get to the zoo

2. **Abby** : Hello! ----?

**Melinda**: Melinda.

- A) What is your name
- B) Where are you
- C) How old are you
- D) How are you

3. **Tim** : ----?

**Jill** : Yes, it is.

- A) Have you got any brothers
- B) What is your name
- C) Is it your book
- D) How is it going

4. **Mark** : Is there a hotel near here?

**Amanda**: ----. Go ahead, turn left. It's on your left.

- A) It's good to see you
- B) It's very hot today
- C) Yes, I feel good
- D) Yes, there is

5.



**My father is a ----.**

- A) pilot
- B) cook
- C) dancer
- D) designer

6. **Edward** : ----?

**Johnson** : He is medium height and slim.

- A) How old is Alan
- B) Is Travis a doctor
- C) What does Robert look like
- D) Has Antony got short dark hair

7. **Joshua is ---- student in the class.**

- A) the most hardworking
- B) as hardworking as
- C) hardworking than
- D) more hardworking

8. **Jeff** : How old is your father?

**Tom** : ----.

- A) He is fifty years old
- B) She is forty years old
- C) I am twenty years old
- D) You are thirty years old


9. **An elephant is ---- a cheetah.**

- A) slow
- B) slower
- C) slower than
- D) the slowest

10. ---- brothers have you got?

- A) Do
- B) Does
- C) How much
- D) How many

11.



**The dog is ---- the box.**

- A) on
- B) in
- C) under
- D) in front of

12.



**The boy is ---- the door.**

- A) on
- B) under
- C) behind
- D) between

13. **Rosa** : ----?

**Anna** : My favourite movie is the Godfather series.

- A) What's your favourite movie
- B) How do you go to the cinema
- C) How many books do you have
- D) What are your leisure time activities

14. **Tom** : ----?

**Nick** : I prefer comedy movies. I think they are fun.

- A) How can we go to the concert
- B) Do your friends invite you to their party
- C) What can we learn from a movie
- D) Do you prefer to watch comedy or romantic movies

15. ---- about getting a cup of tea?

- A) Why
- B) How
- C) When
- D) Where

16. **David** : Why don't we play volleyball after school?

**Helen** : Of course, ----.

- A) I'm too busy today
- B) I have another plan
- C) I'm sorry but I can't
- D) I would love to do that

17. **Anna** : How often do you go to cinema?

**Ryan** : ----.

- A) This week
- B) Tomorrow
- C) Once a week
- D) Last Saturday

18.



**It is ----.**

- A) quarter past ten
- B) quarter to ten
- C) half past ten
- D) five to ten

19. **Jenny** : ----?

**Susanna** : At eight o'clock.

- A) Where do you have your breakfast
- B) What time do you go to school
- C) How often do you play football
- D) What kind of films do you like



# 1. OTURUM

20. **Stephan** : What is Ahmet's ---- ?

**Caroline** : He is Turkish.

- A) movies            B) country  
C) occupation      D) nationality

## (181) ALMANCA – 1

**1 - 14. sorularda boş bırakılan yere uygun gelen ek, kelime ya da ifadeyi işaretleyiniz.**

1. **A:** Guten Tag! Ich ---- Thomas.  
Wie heißen Sie?

**B:** Ich ---- Tina.

- A) ist / bist  
B) bin / heiße  
C) sein / heißt  
D) sind / heißen

2. **Woher kommt Pınar?** ---- kommt aus der Türkei.

- A) Sie    B) Er    C) Ihr    D) Ich

3. **Fernando ist Spanier. Er spricht** ----.

- A) Spanien            B) Italien  
C) Italienisch        D) Spanisch

4. **A:** Kommt Markus aus Italien?

**B:** Nein, er kommt aus ---- (Almanya).

- A) Frankreich        B) England  
C) Türkei              D) Deutschland

5. **A:** Wo ---- du Alper?

**B:** Ich ---- in Eskişehir.

- A) lebe / lebt  
B) sitzt / sitzen  
C) wohnst / wohne  
D) komme / kommst

6. **Sayıların karşılığının doğru olarak verildiği seçeneği işaretleyiniz.**

14 – ( ---- )  
12 – ( ---- )

- A) Vierzehn / Zwölf  
B) Vier / Zwei  
C) Vierzehn / Dreizehn  
D) Zwölf / Elf

7. ---- Buch,  
---- Schultasche

**Yukarıda sözcüklerin önüne gelmesi gereken "Artikel" ler hangi seçenekte doğru verilmiştir?**

- A) das / die            B) der / das  
C) die / der            D) das / das

8. Die Handynummer ist null, eins, fünf, zwei, sieben, sechs, acht, neun, sieben, eins.

**Das ist ----.**

- A) 0715726891  
B) 0152768971  
C) 0512786971  
D) 0125679871

9. **Mein Name ---- Toni. Ich ---- aus Italien.**

- A) ist / sind  
B) kommt / ist  
C) heiße / bist  
D) ist / komme

10. **Ahmet ist ein ---- im Bahçelievler Gymnasium.**

- A) Schule              B) Schulen  
C) Schüler             D) Schülerin

11. **A:** Kommt Klaus aus Nürnberg?

**B:** Nein, er ---- aus Berlin.

- A) kommt              B) kommen  
C) kommst              D) kamen

12. **Deutsch, Mathe, Physik sind ----.**

- A) Schüler  
B) Unterrichtsfächer  
C) Schule  
D) Wochentage

13.



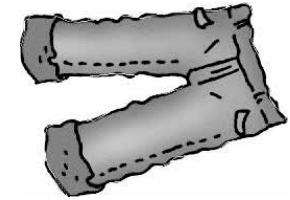
**Die Schultasche ist ---- und ----.**

- A) blau / langes  
B) schwarz / neu  
C) grüne / altes  
D) gelbe / kurze

14. **Ich finde Sport ---- aber Mathe** ----.

- A) laut / lautes  
B) kurz / kurzes  
C) interessant / uninteressant  
D) langweilig / dünn


15.



**Was ist das?**

- A) Ein Computer  
B) Ein Stuhl  
C) Ein Spitzer  
D) Eine Hose

16.



**A:** Ist das ein Bleistift?

**B:** Nein, das ist kein Bleistift.

**Das ist ----.**

- A) ein Stuhl  
B) ein Füller  
C) eine Schere  
D) eine Schultasche

# 1. OTURUM

17. ist-Name-mein-Karin

Yukarıda karışık olarak verilmiş sözcükler hangi seçenekte doğru sıralanmıştır?

- A) Name – Karin –ist –mein
- B) mein – ist –Name – Karin
- C) Karin –Name – mein – ist
- D) mein- Name – ist – Karin

18. Ich heiÙe Frank Müller und bin Deutschlehrer. Ich komme aus Deutschland und wohne in Köln. Ich bin 29 Jahre alt.

Wie heißt der Deutschlehrer?

- A) Köln
- B) Deutschland
- C) Frank Müller
- D) 29 Jahre alt

19.



Was ist sein Beruf?

- A) Arzt
- B) Ärztin
- C) Lehrer
- D) Lehrer

20. Mavi kalem.

İfadesinin Almanca karşılığı hangi seçenekte doğru verilmiştir?

- A) Der Stift ist rot
- B) Der blaue Stift
- C) Der Stift ist grün
- D) Der gelbe Stift

## (181) FRANSIZCA – 1

1 - 17. sorularda boş bırakılan yere uygun gelen kelime ya da ifadeyi bulunuz.

1. **AyÙe** : Votre prénom s'il vous plaît ?

**Le touriste** : - - - - .

- A) Je m'appelle Jacques.
- B) Non, je suis italienne.
- C) Je vais bien, merci.
- D) Oui, bien sûr !

2. **Pierre** : Qui est-ce ? Tu le connais ?  
**Tülay** : Oui, c'est - - - - .

- A) mes amis espagnols
- B) Madame Becourt
- C) Paul Dupont
- D) Fatma et sa cousine

3. - - - - est votre numéro de téléphone ?

- A) Quels
- B) Quel
- C) Quelle
- D) Quelles

4. **Caroline** : - - - - ?

**La cliente** : 30 euros.

- A) Quelle est votre taille
- B) Je peux essayer cette robe
- C) Que fais-tu
- D) Combien il coûte

5. **Le médecin** : Bonjour Léa, qu'est-ce que tu as ?

**Léa** : - - - - .

- A) Oui, je dessine les parties du corps
- B) J'ai mal aux yeux
- C) Elle est stagiaire dans un hôpital
- D) Ma mère ? Elle va bien

6. **Alain passe ses vacances** - - - -  
**Bruxelles, - - - - Belgique.**

- A) à / au
- B) en / à
- C) aux / au
- D) à / en

7. **Le frère de ma mère, c'est** - - - - .

- A) mon oncle
- B) ma tante
- C) mon cousin
- D) ma grand-mère

8. **Je ne connais pas bien la France**  
- - - - j'ai beaucoup d'amis là-bas.

- A) donc
- B) parce que
- C) mais
- D) ou

9. **Daniel** : Comment va ton ami turc ?  
**Sandra** : Selim ? - - - - , il est toujours en forme.

- A) Elle
- B) Lui
- C) Moi
- D) Nous

10. **İzmir - - - - à l'ouest de la Turquie.**

- A) se trouve
- B) se promène
- C) se lave
- D) se brosse

11. - - - - matin, il commence le travail  
- - - - 6h.

- A) Les / de
- B) La / à
- C) Le / à
- D) Au / à

12. **Murat** : Vous rentrez en voiture ?  
**Paul** : - - - - .

- A) Eh bien, non, je déteste la voiture. Je prends toujours le métro
- B) Ah, oui. Il prend l'escalier pour monter chez lui
- C) Non, je prends toujours ma voiture
- D) Oui, bien sûr. L'avion est plus confortable

13. **Les Dupont - - - - leur petit déjeuner en famille.**

- A) prendre
- B) prends
- C) prenons
- D) prennent

14. **Tu dois prendre l'ascenseur pour**  
- - - - sur la Tour Eiffel.

- A) regarder
- B) descendre
- C) voir
- D) monter

15. **Mme Dubois va - - - - son amie Céline - - - - pied.**

- A) avec / chez
- B) chez / à
- C) de / en
- D) à / avec

16. **Cette femme a de - - - - yeux - - - - .**

- A) grande / bleues
- B) belles / vert
- C) beaux / bleus
- D) grands / vertes

# 1. OTURUM

17. **Ma sœur prend des médicaments parce qu' - - - - .**

- A) elle travaille dans un hôpital
- B) elle habite près de chez son amie turque
- C) elle est malade depuis des jours
- D) elle se sent très bien

18. (I) sommes / (II) hiver / (III) en / (IV) Nous

**Yukarıdaki sözcüklerin kurallı ve anlamlı bir cümle oluşturan sırası aşağıdakilerden hangisidir?**

- A) IV - III - II - I
- B) IV - I - III - II
- C) IV - II - I - III
- D) IV - I - II - III

19. **Grand-mère : - - - - ?**

**Fatih : Nous sommes en juin.**

**Yukarıdaki karşılıklı konuşmanın boş bırakılan kısmında aşağıdakilerden hangisi sorulmuş olabilir ?**

- A) Quel temps fait-il aujourd'hui
- B) Quel jour sommes-nous aujourd'hui
- C) En quelle saison sommes-nous
- D) En quel mois sommes-nous

20. "Mon grand-père a 76 ans." cümlesindeki altı çizili sayının yazılışı aşağıdaki seçeneklerden hangisinde doğru olarak verilmiştir?

- A) soixante-seize
- B) cinquante-sept
- C) quatre-vingt-six
- D) quarante-trois

## (222) SAĞLIK BİLGİSİ VE TRAFİK KÜLTÜRÜ - 2

- 1. • Trafik düzeninin devamlılığı ve trafikte bireylerin haklarının güvence de olabilmesi için trafik kurallarına uymak zorunludur.
- Trafik kurallarına uyulmadığı durumlarda insanlar sadece kendi can ve mal güvenliğini tehlikeye atmış olur.

**Trafik ile ilgili verilen cümleler doğru (D) - yanlış (Y) olarak değerlendirildiğinde sıralama aşağıdakilerden hangisi olur?**

- A) D - Y
- B) Y - D
- C) D - D
- D) Y - Y

2. "Sürücüler trafikte bazı sıkıntılarla karşılaşabilmektedir. Özellikle şehir içi trafiğinde hatalı araç kullanan sürücüler, dur-kalklar ve trafik lambaları sürücüde sabırsızlığa ve öfke duygusuna neden olur."

**Buna göre trafikte yaşanan öfke duygusu, sürücülerin aşağıdaki davranışlardan hangisinde bulunmalarına sebep olur?**

- A) Empati kurabilmelerine
- B) Doğru karar alabilmelerine
- C) Hoşgörü gösterebilmelerine
- D) Tehlikeli davranışlarda bulunmalarına





3. **Aşağıdakilerden hangisi toplu taşıma araçlarında insanların emniyetli ve huzurlu bir yolculuk yapmasına imkân sağlayacaktır?**

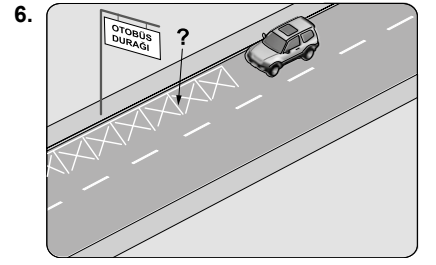
- A) Sürücüye gereksiz sorular sorulması
- B) Yolculuk sırasında kabuklu yiyecekler tüketilmesi
- C) Başkalarının kişisel alanına saygı gösterilerek oturulması
- D) Başkalarını rahatsız edecek derecede yüksek sesle konuşulması

4. **Okul servis aracı olarak kullanılacak taşıtların yaşları, kaç yaşından büyük olmamalıdır?**

- A) 6
- B) 8
- C) 10
- D) 12

5. **Aşağıdaki trafik işaretlerinden hangisi azami hız sınırlaması olduğunu belirtir?**

- A) 
- B) 
- C) 
- D) 



**Şekilde soru işareti (?) ile gösterilen, kaplama üzerindeki çizgilerin anlamı nedir?**

- A) Park yasağı
- B) Yaya geçidi
- C) Bölünmüş yol
- D) Düşük banket

7. **Trafik işaret ve levhalarına zarar verilmesi, bunların kırılması, yansıtıcılarının sökülmesi, yer ve yönlerinin değiştirilmesi aşağıdakilerden hangisine neden olur?**

- A) Seyahatin güvenli olmasına
- B) Ülke ekonomisinin güçlenmesine
- C) Trafiğin belli bir düzen içinde akmasına
- D) Trafik kazalarına, can ve mal kayıplarına

8. **Aşağıdakilerden hangisi kara yollarında uyulması gereken şerit takip kurallarından biri değildir?**

- A) Şerit değiştirmeden önce işaret vermek
- B) Araçların cinsine ve hızına uygun olan şeritten gitmek
- C) Trafiği aksatacak ve tehlikeye düşürecek şekilde şerit değiştirmek
- D) Şerit değiştirmeden önce girilecek şeritte seyreden araçların güvenli geçişlerini beklemek

9. **Aşağıdakilerden hangisi kara yollarında öndeki araç geçilirken yapılan hatalı davranışlardandır?**

- A) Sola dönüş lambasını yakarak geçme niyetini belli etmek
- B) Geçilecek araçla arasında takip mesafesinden daha az mesafe bırakmak
- C) Geçilen araç, geriye görme aynasından görülünceye kadar geçiş şeridinde ilerlemek
- D) Sağa dönüş lambası ile işaret vererek sağ şeride girmekle geçişini tamamlamak

# 1. OTURUM

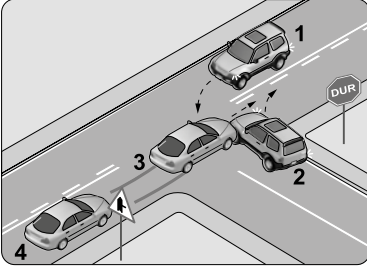
10. Tehlikeli madde taşıyan aracı (belgesinde aksine bir hüküm yoksa) yerleşim yeri içindeki azami hız sınırı saatte kaç kilometredir?

- A) 30 B) 50 C) 70 D) 90

11. Taşıt yolunda yayaların güvenli geçebilmelerini sağlamak üzere trafik işaretleri ile belirlenmiş alanlara ne denir?

- A) Şerit  
B) Konvoy  
C) Hemzemin geçit  
D) Yaya geçidi

12.



Şekle göre hangi numaralı araç sürücüsünün ilk geçiş hakkı kuralına uyumaması sonucu trafik kazası meydana gelmiştir?

- A) 1 B) 2 C) 3 D) 4

13. Aşağıdakilerden hangisi geçiş üstünlüğüne sahip araçlardandır?

- A) Çekici  
B) Traktör  
C) İtfaiye aracı  
D) Yolcu otobüsü

14. I. Yaya  
II. Yolcu  
III. Sürücü

Trafik eğitimi yukarıdakilerden hangilerine verilmelidir?

- A) Yalnız I. B) I ve II.  
C) II ve III. D) I, II ve III.

15. Sürücü kurslarında hangi ders uygulamalı olarak verilir?

- A) Direksiyon eğitimi dersi  
B) Trafik ve çevre dersi  
C) Araç tekniği dersi  
D) Trafik adabı dersi

16. Aşağıdakilerden hangisi güvenli yolculukta alınması gereken önlemlerden biri değildir?

- A) Yayaların gidiş yönüne göre sol banketi kullanması  
B) Araç hareket hâlindeyken sürücünün cep telefonu kullanması  
C) İklim koşullarına göre araç bakımlarının yaptırılması  
D) Ani manevra, ani kalkış ve duruşlardan kaçınılması

17. Aşağıdakilerden hangisi trafik kazalarının yolcudan kaynaklanan nedenlerindedir?

- A) Rot çıkması  
B) Trafik yoğunluğunun fazla olması  
C) Hareket hâlindeki taşıttan inilmesi  
D) Trafik işaretlerinin okunabilir nitelikte olmaması

18. Aşağıdakilerden hangisi sürücünün yapmış olduğu kural ihlallerinden biri değildir?

- A) Şerit ihlali yapmak  
B) Hatalı sollama yapmak  
C) Aşırı hızlı araç kullanmak  
D) Aracı kurallara uygun olarak park etmek

19. Aşağıdakilerden hangisi trafik kazalarının birey üzerindeki olumsuz etkilerindedir?

- A) Güvensizlik  
B) Düzenli uyku  
C) Dışa dönüklük  
D) Çevreyle ilişkileri artırma

20. I. Çevre kirliliğini azaltır.  
II. Kilo verilmesini ve yağların yakılmasını sağlar.  
III. Tansiyon hastalıklarına yakalanma riskini artırır.

Yukarıdakilerden hangileri bisiklet kullanımının sağladığı katkılardandır?

- A) Yalnız I. B) I ve II.  
C) II ve III. D) I, II ve III.

## (244) İNGİLİZCE – 5

1-20. sorularda boş bırakılan yere uygun gelen kelime ya da ifadeyi işaretleyiniz.

1. - - - - people always come on time; not late.

- A) Sympathetic  
B) Organized  
C) Adaptable  
D) Punctual

2. A - - - - person is certain of his/her abilities.

- A) confident B) creative  
C) reliable D) honest

3. My house is very dirty. I am going to - - - - it tomorrow.

- A) go B) drink  
C) clean D) wear

4. Look at the dark clouds. It's going to - - - - .

- A) fly B) rain  
C) walk D) study

5.



He is - - - - .

- A) eating pizza  
B) riding a horse  
C) doing pottery  
D) taking photographs

6. **Tod** : Which one do you prefer, staying at home or going out at weekends?

**Phil** : - - - - .

- A) I prefer staying at home and watching TV  
B) I'm keen on spicy food and chips  
C) Not really. I'm not mechanical  
D) I'm not really good at art

# 1. OTURUM

7. Jason is - - - - at volleyball. He plays for the school team.

- A) loves                    B) good  
C) keen                    D) likes

8. When I was young, I - - - - play the guitar. It was too difficult for me!

- A) can                      B) can't  
C) could                    D) couldn't

9. Tom hit his head and got a black - - - -. He couldn't see clearly for a few days.

- A) ear                      B) eye  
C) nose                    D) chest

10. My mother cut her - - - - while she was cutting onions yesterday.

- A) head                    B) knee  
C) finger                    D) elbow

11. Yesterday I - - - - very sleepy so I went to bed early.

- A) felt                      B) got  
C) read                    D) went

12. I used to - - - - cartoons when I was a child.

- A) eat                      B) wash  
C) watch                    D) get up

13. The robbers had left the bank when the policemen finally - - - -.

- A) spoke                    B) had  
C) told                      D) arrived

14. We - - - - a new car after we had sold the old one.

- A) visited                    B) bought  
C) been                    D) met

15. Marissa had - - - - in Spain before she moved to Norway.

- A) lived                    B) phoned  
C) washed                    D) happened

16. After we had - - - - dinner, Carol came in.

- A) watched                    B) studied  
C) called                    D) eaten

17. I - - - - my exam. I wish I had studied more.

- A) lost                      B) failed  
C) spent                    D) left

18. If I had known about the problem, I would have - - - -.

- A) been                    B) learnt  
C) helped                    D) bought

19. The police might have caught the thief if they had - - - - earlier.

- A) come                    B) studied  
C) carried                    D) lent

20. If I had - - - - training earlier, I would have won the race.

- A) listened                    B) cleaned  
C) played                    D) started

## (244) ALMANCA – 5

1 - 19. sorularda boş bırakılan yere uygun gelen ek, kelime ya da ifadeyi işaretleyiniz.

1. Ali kann das Museum - - - -.

- A) laufen                    B) erlaubt  
C) besuchen                    D) geht

2. Was hat er gemacht? Er hat der Lehrerin - - - - (zuhören).

- A) gehört                    B) zuhören  
C) hören                    D) zugehört

3. Der Flug hat drei Stunden - - - - (dauern).

- A) gedauert                    B) geflogen  
C) gefahren                    D) gesehen

4. Sibel hat ihre Schlüssel - - - -.

- A) sehen                    B) verloren  
C) bezahlen                    D) erlebt

5. A: Ich habe heute Mustafa nicht in der Schule gesehen.

B: Er war - - - - Arzt.

- A) beim                    B) zum  
C) ins                      D) im

6. A: - - - - hat Klaus übernachtet?

B: Er hat bei seinem Onkel übernachtet.

- A) Wovon                    B) Womit  
C) Bei wem                    D) Wobei

7. Das Geschäft ist - - - - 12 Uhr und 13.30 Uhr geschlossen.

- A) bis                      B) bei  
C) hinter                    D) zwischen

8. Man kann eine Wohnung - - - -.

- A) studieren                    B) regnet  
C) mieten                    D) hängen

9.




A: Wohin stellt das Mädchen den Topf?

B: Sie - - - - den Topf - - - - den Herd.

- A) kocht / in                    B) stellt / auf  
C) steht / im                    D) liegt / zur

10.



A: - - - - hängt das Bild?

B: Es hängt - - - - der Wand.

- A) Wohin / in                    B) Wo / an  
C) Womit / auf                    D) Wie / am

11. Das Auto - - - - in der Garage.

- A) gestanden                    B) steht  
C) stehen                    D) steht

12. Ich unterhalte - - - - mit Sabine.

- A) sich                      B) dich  
C) dir                      D) mich

# 1. OTURUM

13. Alle Schüler freuen - - - - auf die Sommerferien.

- A) ihr                      B) sich  
C) sein                     D) dein

14. A: - - - - wartest du?  
B: Auf den Zug.

- A) Wo                      B) Womit  
C) Worauf                D) Wer

15. schön – schöner - - - -

- A) am schönsten  
B) der Schöne  
C) schönes  
D) der schönste

16. A: - - - -  
B: Fleisch.

- A) Was isst du gern?  
B) Was trinkst du gern?  
C) Wann isst du gern?  
D) Wann trinkst du gern?

17. Mustafa ist älter als Daniel, aber ich bin am - - - -.

- A) jung                    B) älter  
C) ältesten               D) jünger

18. Ich spiele besser Tennis - - - - mein Vater.

- A) wie                      B) als  
C) so                        D) denn

19. A: Wer läuft - - - - ? Sibel oder Ulrike?  
B: Ulrike.

- A) schnelles              B) langsames  
C) langsamen             D) schneller

20.



Was macht sie?

- A) Fahrrad fahren  
B) laufen  
C) Tennis spielen  
D) schwimmen

## (244) FRANSIZCA – 5

1 - 20. sorularda boş bırakılan yere uygun gelen kelime ya da ifadeyi bulunuz.

1. La viande était très dure, alors - - - -.

- A) je ne le mangerai pas  
B) je ne l'ai pas mangée  
C) je ne le mange pas  
D) je ne vais pas les manger

2. Ma cousine Aysel a fait le tour de la Turquie - - - -.

- A) quand elle est petite  
B) quand elle sera petite  
C) quand elle était petite  
D) quand elle serait petite

3. Istanbul est une grande ville - - - -.

- A) qui est située entre l'Asie et l'Europe  
B) que les touristes adorent manger  
C) que vous devez absolument acheter  
D) qui fait de la géographie dans une université turque

4. En Afrique, il y a des millions d'enfants - - - -.

- A) que je vais écrire dans la classe de français  
B) que tu pourrais lire dans la bibliothèque de l'école  
C) qui a joué sous la neige avec ses parents  
D) qui ne vont pas à l'école

5. Lisez - - - - le texte avant de répondre aux questions.

- A) attentive              B) attentif  
C) attention               D) attentivement

6. La semaine prochaine, je (j') - - - - des histoires à te raconter.

- A) ai eu                    B) avais  
C) aurai                    D) avez

7. Quand tu - - - - grand, nous - - - - le tour du monde en famille.

- A) seras / ferons  
B) étais / faisons  
C) est / faisons  
D) a été / avons fait

8. Sarah : Regarde ces enfants dans le jardin ! Tu - - - - connais, n'est-ce pas ?

Marie : Oui, oui. Ce sont les enfants du voisin.

- A) le                      B) les                      C) la                      D) l'

9. J'ai perdu mon ticket. J'ai cherché partout mais je ne - - - - trouve pas.

- A) les                      B) le                      C) la                      D) l'

10. Pour acheter des médicaments, tu dois aller chez - - - -.

- A) le pharmacien  
B) le boulanger  
C) le coiffeur  
D) le dentiste

11. Barış : Peux-tu me prêter ton crayon de couleur ?

Sabine : - - - - ? Le rouge ou le vert ?

- A) Lesquelles            B) Laquelle  
C) Lequel                 D) Lesquels

12. Il faut - - - - la nature et les animaux car nous avons besoin d'eux pour mieux vivre.

- A) respecté                B) respectez  
C) respectait              D) respecter

13. Ayşe : Qu'est-ce qui t'est arrivé ? Pourquoi tu pleures ?

Annie : - - - -.

- A) Assieds-toi, je vais te raconter  
B) Le voyage en avion, c'était bien confortable  
C) De plus, mon travail est très amusant  
D) Si, bien sûr que je peux le faire

14. Sophie : Qui est - - - - homme blond ? Tu le connais ?

Sandra : Eh bien, oui. C'est mon professeur de français.

- A) cette                    B) ce  
C) cet                      D) ces

15. Qu'est-ce que tu - - - - hier soir ?

- A) es mangé              B) avez mangé  
C) as mangé              D) a mangé

# 1. OTURUM

16. ---- partez-vous en vacances ?

- A) Comment B) Quel  
C) Combien D) Quelle

17. Dans une boucherie, on achète ----.

- A) du tissu  
B) des médicaments  
C) des crêpes  
D) de la viande

18. Jean est le frère de Nicole. Nicole est ---- de Jean.

- A) la femme B) la sœur  
C) la tante D) la nièce

19. Elif : Comment tu trouves ---- chapeau ?

Léa : Qu'il est joli ! ---- couleur est parfaite pour toi.

- A) cet / Ces B) cette / Ce  
C) ce / Cette D) ces / Cette

20. Quel est ton ---- préféré ?

- A) maison B) film français  
C) chambre D) chanson

## (421) FİZİK – 1

1. Uzay, zaman, madde ve enerji arasındaki ilişkileri inceleyen gözlem ve deneye dayalı bilim dalına ne ad verilir?

- A) Kimya B) Tarih  
C) Fizik D) Biyoloji

2. Termodinamik; ısı, sıcaklık, özkütle, basınç gibi nicelikler arasındaki ilişkiyi inceler.

Buna göre;

- I. buzulların erimesi,  
II. binaların dış yüzeylerinde yalıtım malzemesi kullanılması,  
III. sıcak su kaynaklarından enerji elde edilmesi

olaylarından hangileri termodinamik ile ilişkilendirilebilir?

- A) I ve II. B) I ve III.  
C) II ve III. D) I, II ve III.

3. Fizik biliminin alt dalları ve ilgili meslek eşleştirmeleri aşağıdakilerin hangisinde yanlış verilmiştir?

- A) Mekanik – İnşaat mühendisliği  
B) Elektromanyetizma – Elektrik elektronik öğretmenliği  
C) Optik – Mikroelektronik mühendisliği  
D) Termodinamik – İklimlendirme uzmanı

4. Aşağıdaki tabloda temel büyüklükler ve örnek ölçme araçları eşleştirilmiştir.

	Temel büyüklükler	Örnek ölçme aracı
I	Sıcaklık	Ampermetre
II	Kütle	Eşit kollu terazi
III	Akım şiddeti	Termometre

Buna göre hangileri doğru verilmiştir?

- A) Yalnız I. B) Yalnız II.  
C) II ve III. D) I, II ve III.

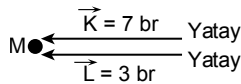
5. Vektörel ve skaler nicelikler içeren cümleler aşağıda verilmiştir.

- I. Okul sırası doğu yönünde duvara doğru 10 N ve 5 N'lık kuvvetlerle çekildi.  
II. Ankara'nın salı günü hava sıcaklığı 32 °C oldu.  
III. Ayşe'nin okul harçlığı 10 TL oldu.  
IV. Okul servisi güney yönünde 70 km/h hızla ilerliyordu.

Buna göre hangileri vektörel büyüklük içeren cümlelerdir?

- A) I ve II. B) III ve IV.  
C) I ve IV. D) II, III ve IV.

6.  $\vec{K}$  ve  $\vec{L}$  vektörleri M noktasına şekildedeki gibi etki ediyor.



Buna göre toplam vektör kaç birimdir?

- A) 3 B) 7 C) 8 D) 10

7. 1 ton = 1000 kg olduğuna göre 8 ton kaç kg'dır?

- A) 8 B) 80  
C) 800 D) 8000

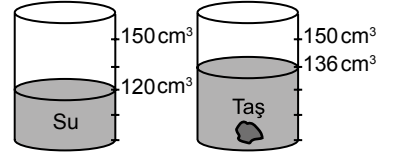
8. Yarıçapı 2 cm olan küre şeklindeki kap tamamen su ile doludur.

Su, kenar uzunluğu 3 cm olan küp şeklindeki bir kaba boşaltıldığında kaptan taşan suyun hacmi kaç  $\text{cm}^3$ 'tür?

$$(\pi = 3 \text{ alınacak, } V_{\text{küre}} = \frac{4}{3} \pi r^3, V_{\text{küp}} = a^3)$$

- A) 2 B) 3 C) 5 D) 8

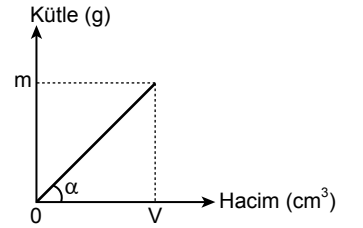
9. Şekildeki dereceli kapta bulunan  $120 \text{ cm}^3$  hacimli suya taş parçası atıldığında su seviyesi  $136 \text{ cm}^3$  oluyor.



Buna göre taşın hacmi kaç  $\text{cm}^3$ 'tür?

- A) 16 B) 20 C) 36 D) 45

10. Sabit sıcaklık ve basınç altındaki saf bir maddeye ait kütle-hacim grafiği şekildeki gibidir.



Buna göre grafiğin eğiminden maddenin hangi ayırt edici özelliği hesaplanır?

- A) Basınç B) Özkütle  
C) Sıcaklık D) Renk

11. I. Kuyumculuk  
II. Porselen yapımı  
III. Geleneksel sanatlarımızdan olan ebru sanatı

Hangileri özkütlenin ayırt edici bir özellik olması sonucu günlük hayatta kullanılan meslek ve sanat dallarına örnek verilebilir?

- A) Yalnız I. B) I ve II.  
C) II ve III. D) I, II ve III.

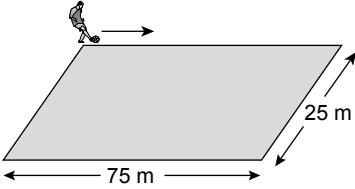


# 1. OTURUM

12. Farklı cins moleküllerin birbirine yapışmasını sağlayan etkileşime adezyon (yapışma) denir.  
**Buna göre aşağıdakilerden hangisi adezyona örnek verilir?**

- A) Civa damlasının küresel durması  
B) Yıkılan bir bardak üzerinde su damlacıklarının kalması  
C) Su damlasının küresel bir yapıda kalması  
D) Deniz ve okyanustaki suların birarada durması

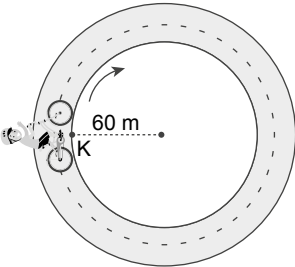
13. Bir futbolcu ısınmak için şekilde verilen sahanın çevresinde 3 tur koşuyor.



**Buna göre futbolcunun ısınma turları sonunda aldığı yol kaç metredir?**

- A) 100 B) 300 C) 400 D) 600

14. Yarıçapı 60 m olan çember şeklindeki koşu pistinde K noktasından harekete başlayan bisikletli tekrar K noktasına gelerek duruyor.



**Buna göre bisikletlinin yer değiş-tirmesi kaç metredir?**

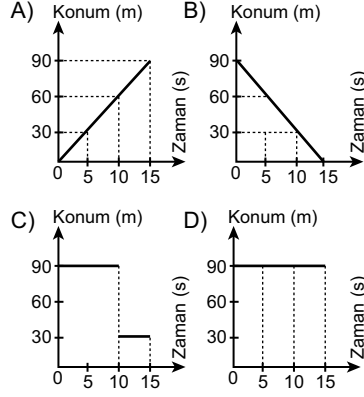
( $\pi = 3$  alınacak)

- A) 0 B) 60 C) 180 D) 360

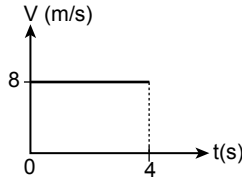
15. Düzgün doğrusal hareket yapan bir koşucu için konum-zaman değerleri tablodadır.

Konum (m)	0	30	60	90
Zaman (s)	0	5	10	15

**Buna göre tabloya ait konum-zaman grafiği aşağıdakilerden hangisidir?**



16. Bir hareketliye ait hız-zaman grafiği şekilde verilmiştir.



**Buna göre hareketli 4 saniye sonunda kaç metre yol almıştır?**

- A) 16 B) 32 C) 40 D) 64

17. Aşağıdakilerden hangisi ivmeli harekete örnektir?

- A) Sabit hızla yükselmekte olan balon  
B) Hareketsizken 80 km/h'lik hıza ulaşan otomobil  
C) 25 km/h'lik sabit hızla giden bisiklet  
D) 80 km/h'lik sabit hızla doğrusal yolda ilerleyen tren

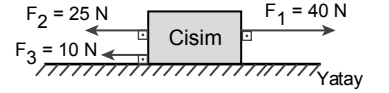
18. Ayşe Fizik dersinde verilen bir ödevle ilgili olarak temas gerektiren/temas gerektirmeyen kuvvetlere ait örneklerin olduğu bir tablo yapıyor.

Temas Gerektiren Kuvvetler	Temas Gerektirmeyen Kuvvetler
Çekme kuvveti	Manyetik kuvvet
Elektrik kuvveti	Kütle-çekim kuvveti

**Buna göre Ayşe hangi örneği tabloda yanlış yazmıştır?**

- A) Elektrik kuvveti  
B) Çekme kuvveti  
C) Manyetik kuvvet  
D) Kütle-çekim kuvveti

19. Şekildeki cisme aynı doğrultuda üç kuvvet etki etmektedir.



**Buna göre bileşke kuvvetin yönü ve büyüklüğü nedir?** (Sürtünme kuvveti ihmal ediliyor.)

- A)  $F_2$  kuvveti yönünde 35 N  
B)  $F_1$  kuvveti yönünde 5 N  
C)  $F_3$  kuvveti yönünde 40 N  
D)  $F_1$  kuvveti yönünde 25 N

20. Kütleli 40 kg olan bir cismin ağırlığı kaç N'dır? ( $g = 10 \text{ N/kg}$ )

- A) 4 B) 40 C) 400 D) 4000



# 1. OTURUM

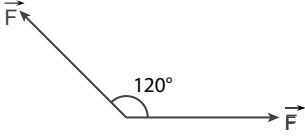
## (425) SEÇMELİ FİZİK – 1

### 1. Vektörlerle ilgili;

- I. Şiddeti vardır.  
II. Başlangıç noktası vardır.  
III. Doğrultusu ve yönü vardır.  
**niceliklerinden hangileri doğrudur?**

- A) Yalnız I. B) I ve II.  
C) II ve III. D) I, II ve III.

2. Aralarında  $120^\circ$  lik açı bulunan ve büyüklükleri birbirine eşit olan vektörler şekilde gösterilmiştir.



**Buna göre bu vektörlerin bileşkesi kaç F tir?**

- A) 1 B) 1,5 C) 2 D) 2,5

3. Doğuya doğru  $10 \text{ m/s}$  hızla giden bir otomobilin içindeki Ahmet yolun kenarında duran başka bir otomobile bakıyor.

**Ahmet baktığı otomobili aşağıdakilerden hangisi gibi görür?**

- A) Doğuya  $10 \text{ m/s}$   
B) Batıya  $10 \text{ m/s}$   
C) Kuzeye  $10 \text{ m/s}$   
D) Güneye  $10 \text{ m/s}$

4. Akıntı hızının  $1 \text{ m/s}$  olduğu bir nehirde Ali akıntıyla aynı yönde  $3 \text{ m/s}$  hızla yüzmektedir.

**Buna göre nehir kenarında sabit duran bir gözlemci Ali'nin hızını kaç  $\text{m/s}$  görür?**

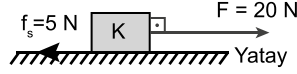
- A) 1 B) 2 C) 3 D) 4

5. Sürtünmesiz bir ortamda  $1 \text{ kg}$  kütleli tahta blok  $2 \text{ m/s}^2$  lik ivme ile hareket etmektedir.

**Newton'nun temel yasası olarak bilinen  $F = m \cdot a$  bağıntısına göre tahta bloğa kaç N'luk kuvvet uygulanmıştır?**

- A) 2 B) 1,5 C) 1 D) 0,5

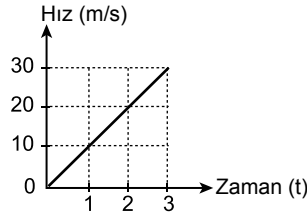
6. Sürtünme kuvvetinin  $5 \text{ N}$  olduğu K cisminde şekildeki gibi  $20 \text{ N}$ 'luk kuvvet uygulanıyor.



**Buna göre K cisminde etkiyen net kuvvet kaç N'dur?**

- A) 20 B) 15 C) 10 D) 5

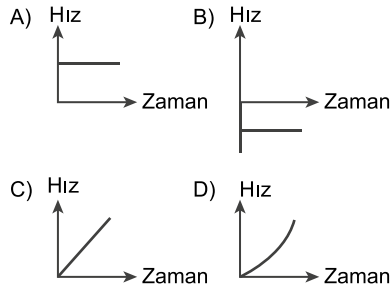
7. Bir hareketliye ait hız-zaman grafiği şekilde gibidir.



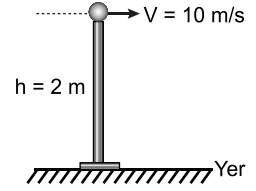
**Buna göre bu hareket için aşağıdakilerden hangisi doğrudur?**

- A) Sabit hızla hareket yapmıştır.  
B) Aldığı yol zamana göre düzgün artmıştır.  
C) Düzgün yavaşlayan hareket yapmıştır.  
D) Düzgün hızlanan hareket yapmıştır.

8. Aşağıdaki hız-zaman grafiklerinden hangisi sabit ivmeli bir hareketliye ait olabilir?



9. Yerden  $2 \text{ m}$  yükseklikten  $V=10 \text{ m/s}$  hızla bir cisim yere paralel şekildeki gibi atılıyor.



**Hareket boyunca yatay hız değişmediğine göre cisim yere çarptıktan yatay hızı kaç  $\text{m/s}$  olur?** (Hava direnci ihmal ediliyor.)

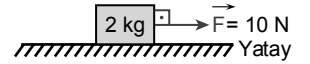
- A) 5 B) 10 C) 12 D) 20

10. Yaklaşık olarak yerçekim ivmesinin  $10 \text{ m/s}^2$  olduğu bir yerde daldaki elma yere düşmektedir.

**Buna göre hava direncinin etkisi ihmal edildiğinde elma yere düşerken kaç  $\text{m/s}^2$  lik ivme ile düşer?**

- A) 15 B) 14 C) 12 D) 10

11. Kütleli  $2 \text{ kg}$  olan bir cisme  $10 \text{ N}$ 'luk bir kuvvet  $3 \text{ m}$  lik yol boyunca şekildeki gibi uygulanıyor.

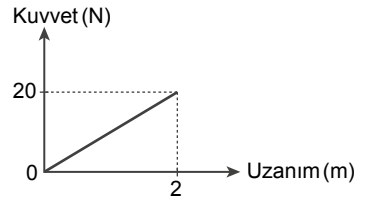


Kuvvetin yaptığı iş = kuvvet x yer değiştirme olarak bilindiğine göre:

**$\vec{F}$  kuvvetin yaptığı iş kaç  $\text{N} \cdot \text{m}$ 'dir?**

- A) 25 B) 30 C) 35 D) 40

12. Sarmal bir yaya uygulanan kuvvet ile yayda meydana gelen uzama miktarı arasındaki ilişki aşağıdaki grafikte verilmiştir.



**Verilen grafiğin eğimi yay sabitini verdiği göre yay sabiti kaçtır?**

- A) 40 B) 30 C) 20 D) 10

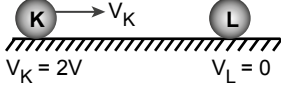
## 1. OTURUM

13. Kütlesi 2 kg olan bir oyuncak araba 2 m/s süratle gitmektedir.

**Momentumun kütle ile süratin çarpımı olduğu bilindiğine göre bu arabanın momentum büyüklüğü kaç kg · m/s'dir?**

- A) 2 B) 4 C) 6 D) 8

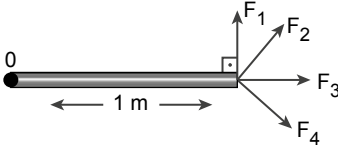
14. Özdeş iki bilyeden K bilyesi 2V hızı ile şekildeki gibi duran L bilyesine doğru gelerek esnek çarpışma yapıyor.



**Çarpışmadan sonra K bilyesi durduğuna göre L bilyesinin hız büyüklüğü kaç V olur?**

- A) 4 B) 3 C) 2 D) 1

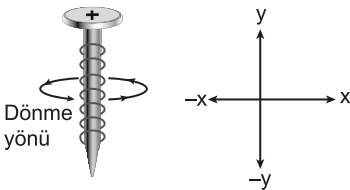
15. Uzunluğu 1m olan çubuk şekildeki O noktası etrafında dönebilmektedir.



**Çubuğun diğer ucundan ayrı ayrı eşit büyüklükte uygulanan  $F_1$ ,  $F_2$ ,  $F_3$  ve  $F_4$  kuvvetlerinden hangisinin torku O noktasına göre diğerlerinden daha büyüktür?**

- A)  $F_1$  B)  $F_2$  C)  $F_3$  D)  $F_4$

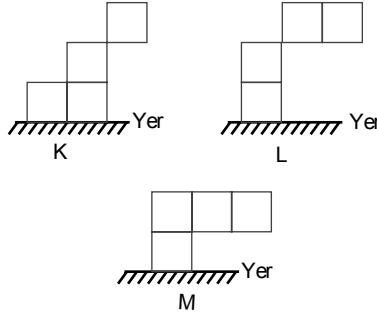
16. Şekildeki civata ok yönünde döndürülüyor.



**Buna göre civataya uygulanan kuvvetten doğan torkun yönü aşağıdakilerden hangisinde doğru verilmiştir?**

- A) x B) -x C) y D) -y

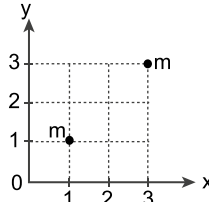
17. Özdeş küp şeklindeki bloklar birbirlerine yapıştırılarak K, L ve M sistemleri oluşturuluyor.



**Şekildeki sistemlerden hangileri dengede kalır?**

- A) Yalnız K B) Yalnız M  
C) L ve M D) K, L ve M

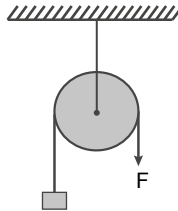
18. Koordinat sistemi üzerine şekildeki gibi m kütleli cisimler yerleştiriliyor.



**Bu cisimlerin oluşturduğu sistemin ağırlık merkezinin koordinatı (x, y) aşağıdakilerin hangisinde doğru verilmiştir?**

- A) (2,2) B) (2,1)  
C) (1,2) D) (3,2)

19. Basit makinelerden sabit makara şekildeki gibidir.



**Bu sabit makara amacına uygun kullanılırsa,**

- I. Kuvvet kazancı sağlar.  
II. Enerji kazancı sağlar.  
III. İş kolaylığı sağlar.

**yargılarından hangisi doğrudur?**

- A) Yalnız I. B) Yalnız III.  
C) I ve II. D) I, II ve III.

20. Amaçlarına uygun kullanıldığında aşağıdakilerden hangisi basit makine olarak kabul edilemez?

- A) Palanga  
B) Hareketli makara  
C) Termometre  
D) Eğik düzlem

### (432) KİMYA – 2

1. Aşağıdakilerden hangisi iyonik yapıya sahip bir bileşiktir?

(Na: 1A, N: 5A, P: 5A, O: 6A, S: 6A, Cl: 7A grubundadır.)

- A)  $N_2O$  B)  $SO_3$   
C) NaCl D)  $PCl_5$

2. Kimyasal türler ve örnekler aşağıda eşleştirilmiştir.

- I. Atom → He  
II. Molekül →  $CO_3^{2-}$   
III. İyon →  $Na^+$

**Buna göre hangi eşleştirmeler hatalıdır?**

- A) Yalnız I. B) Yalnız II.  
C) I ve III. D) II ve III.

3. Aşağıdakilerden hangisi molekül yapıya sahiptir?

- A)  $F_2O$  B) CO  
C)  $NO_2$  D)  $O_3$

4. Bağın gücüne göre bazı etkileşimler aşağıda verilmiştir.

- I. İyonik bağ  
II. Hidrojen bağı  
III. Van der Waals bağı

**Buna göre hangileri güçlü etkileşimdir?**

- A) Yalnız I. B) Yalnız II.  
C) I ve II. D) II ve III.

# 1. OTURUM

5. Aşağıda periyodik sistem kesiti verilmiştir.

1A	2A	3A	4A	5A	6A	7A	8A
Li			C				He
				S			

Buna göre verilen atomlardan hangisinin Lewis formülü doğrudur?

- A)  $\cdot\ddot{\text{Li}}$  B)  $\ddot{\text{C}}$   
C)  $\cdot\ddot{\text{S}}$  D)  $:\ddot{\text{He}}:$

6. CaS bileşiğinin adı hangi seçenekte verilmiştir?

- A) Kalsiyum oksit  
B) Kalsiyum sülfür  
C) Karbon sülfür  
D) Karbon monoksit

7. Potasyum nitrat bileşiği kaç tür atomdan oluşur?

- A) 1 B) 2 C) 3 D) 4

8. Farklı iyon yüküne sahip metallerin oluşturduğu bazı iyonik bileşikler aşağıda verilmiştir.

Buna göre hangi bileşiğin adı yazılırken farklı bir roma rakamı kullanılır?

- A)  $\text{CuCl}_2$  B)  $\text{Fe}_2\text{O}_3$   
C)  $\text{HgO}$  D)  $\text{SnCl}_2$

9. Karbon dioksit ile ilgili;

I. Lewis formülü  $:\ddot{\text{O}}::\text{C}::\ddot{\text{O}}:$  şeklindedir.

II. Molekül apolar yapıdadır.

III. Atomları arası polar kovalent bağ bulunur.

Bilgilerinden hangileri doğrudur? ( ${}_6\text{C}, {}_8\text{O}$ )

- A) Yalnız I. B) I ve II.  
C) II ve III. D) I, II ve III.

10. Aşağıdaki tepkimelerden hangisi fiziksel bir değişimi göstermektedir?

- A)  $\text{CH}_3\text{OH}(\text{g}) \rightarrow \text{CH}_3\text{OH}(\text{s}) + 35,3 \text{ kJ/mol}$   
B)  $\text{H}_2(\text{g}) + \frac{1}{2}\text{O}_2(\text{g}) \rightarrow \text{H}_2\text{O}(\text{g}) + 242 \text{ kJ/mol}$   
C)  $\text{MgO}(\text{k}) + 3100 \text{ kJ/mol} \rightarrow \text{Mg}^{2+}(\text{g}) + \text{O}^{2-}(\text{g})$   
D)  $\text{NaCl}(\text{k}) + 787 \text{ kJ/mol} \rightarrow \text{Na}^+(\text{g}) + \text{Cl}^-(\text{g})$

11. Polar Moleküller : HCl, HF,  $\text{H}_2\text{O}$ ,  $\text{NH}_3$   
Apolar Moleküller :  $\text{H}_2$ ,  $\text{Cl}_2$ ,  $\text{CH}_4$ ,  $\text{CCl}_4$

Buna göre verilen moleküllerin hangileri arasında dipol - dipol etkileşmesi vardır?

- A)  $\text{H}_2 - \text{Cl}_2$  B)  $\text{HCl} - \text{H}_2\text{O}$   
C)  $\text{HF} - \text{CH}_4$  D)  $\text{NH}_3 - \text{CCl}_4$

12. Havadan azot ve oksijen elde edilmesi sırasında önce hava soğutulularak I hâle getirilir. Sonra yavaşça ısıtılır ve ilk önce II gazı ayrılır.

Kaynama noktaları : Azot gazı için  $-190^\circ\text{C}$ , oksijen gazı için  $-183^\circ\text{C}$  olduğuna göre boş bırakılan yerlere aşağıdakilerden hangisi getirilmelidir?

- |         |         |
|---------|---------|
| I       | II      |
| A) sıvı | azot    |
| B) gaz  | oksijen |
| C) sıvı | oksijen |
| D) katı | azot    |

13. Kristal katı türleri ve örnekleri aşağıda verilmiştir.

Buna göre hangi katının türü doğrudur?

- A) Moleküler katı – Elmas  
B) İyonik katı – Yemek Tuzu  
C) Kovalent katı – Demir  
D) Metalik katı – Buz

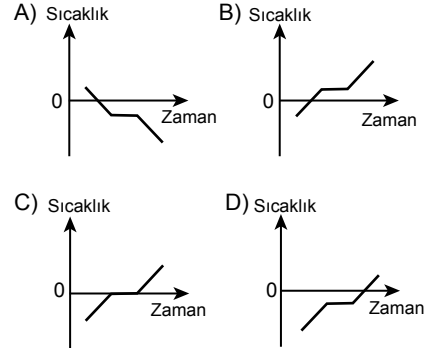
14. Teneke kutuda bulunan bir içeceğin buzdolabından çıkarıldıktan sonra kutu yüzeyinde su damlacıkları oluşmasını açıklayan ifade aşağıdakilerden hangisidir?

- A) Havada gaz hâlinde bulunan su moleküllerinin yoğunlaşması  
B) Teneke kutu içinden su moleküllerinin kırışması  
C) Buzdolabındayken sıvı hâlde olan su moleküllerinin buharlaşması  
D) Havadaki azot moleküllerinin katılaşması

15.  $6,02 \times 10^{23}$  tane  $\text{H}_2\text{O}$  molekülünü aşağıdaki miktar birimlerinden hangisi ile ifade ederiz?

- A) 1 deste B) 1 düzine  
C) 1 mol D) 1 çift

16. Kaynama noktası  $0^\circ\text{C}$ 'un altında olan saf bir sıvının ısı alması sonucu gözlenecek sıcaklık - zaman grafiği hangisidir?




17. Yeryüzündeki tatlı suların, dünyadaki tüm suların % 0,01'ini oluşturduğunu bilen ve bu kaynakları korumak isteyen bir kişi aşağıdakilerden hangisini yapmaz?

- A) Su tüketimini azaltıcı tedbirler alır.  
B) Su kirliliğini azaltmak için çalışır.  
C) Atık suların direk nehirlerle akıtılmasını sağlar.  
D) Akarsulara endüstriyel atık bırakılmasını engeller.

# 1. OTURUM

18. Çevre kirliliğini engellemek isteyen bir öğrenciden aşağıdaki posterlerden hangisini hazırlaması beklenmez?



19. Aşağıdakilerden hangisi doğal tatlı su kaynağı değildir?

- A) Okyanuslar B) Yağmurlar  
C) Yer altı suları D) Nehirler

20. Yumuşak suyun özellikleri ile ilgili;

- I. İçimi sert suya göre daha iyidir.  
II. Sabun ve deterjan tüketimi, sert sulara göre daha azdır.  
III. Sert suya göre su borularına daha çok zarar verir.

İfadelerinden hangileri doğrudur?

- A) Yalnız I. B) Yalnız II.  
C) I ve II. D) II ve III.

## (436) SEÇMELİ KİMYA – 2

1. Oda koşullarında gerçekleşen aşağıdaki olayların hangisinde enerji açığa çıkar?

- A) Buzun erimesi  
B) Suyun donması  
C) Naftalinin süblimleşmesi  
D) Etil alkolün buharlaşması

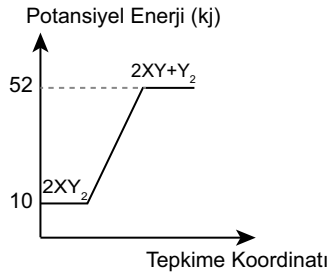
2. Bir tepkimenin entalpi değişimi ile ilgili;

- I. Tepkimedeki maddelerin fiziksel hâline bağlıdır.  
II. Tepkime ortamının sıcaklığına bağlıdır.  
III. Tepkimedeki katalizör kullanımına bağlı değildir.

Yargılarından hangileri doğrudur?

- A) Yalnız I. B) I ve II.  
C) II ve III. D) I, II ve III.

3.  $2XY_2 \rightarrow 2XY + Y_2$  tepkimesinin potansiyel enerji-tepkime koordinat grafiği aşağıda verilmiştir.



Buna göre tepkimenin entalpi değişimi kaç kJ'dur?

- A) +10 B) +42 C) +52 D) +62

4. Standart koşullarda bir bileşiğin, elementlerinden oluşması sırasındaki ısı değişimine standart oluşum entalpi denir.

Buna göre, standart koşullarda gerçekleşen aşağıdaki tepkimelerden hangisinde kJ olarak verilen entalpi değişimi standart oluşum entalpi olarak ifade edilebilir?

- A)  $C(k)+O_2(g) \rightarrow CO_2(g)+394$   
B)  $H_2O(s)+44 \rightarrow H_2O(g)$   
C)  $NH_3(g)+HCl(g) \rightarrow NH_4Cl(k)+176$   
D)  $2NO_2(g)+114 \rightarrow 2NO(g)+O_2(g)$

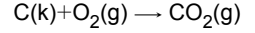
5. Atomlar arasındaki kovalent bağı kırmak için gerekli olan enerjiye ---- denir.

Yukarıdaki boşluğa gelecek ifade aşağıdakilerden hangisidir?

- A) oluşum enerjisi  
B) buharlaşma enerjisi  
C) bağ enerjisi  
D) yanma enerjisi

6.  $C(k)+\frac{1}{2}O_2(g) \rightarrow CO(g) \Delta H^\circ = -110$   
 $CO(g)+\frac{1}{2}O_2(g) \rightarrow CO_2(g) \Delta H^\circ = -283$

Yukarıdaki standart tepkime entalpileri kJ/mol olarak verilen tepkimeleri kullanarak



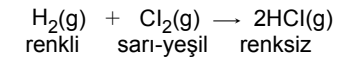
tepkimesinin entalpi değişimi kaç kJ/mol bulunur?

- A) -393 B) -173  
C) +173 D) +393

7. Çarpışma teorisine göre bir reaksiyonun gerçekleşebilmesi için tepkimeye giren maddelerin uygun geometri ve yeterli kinetik enerjiye sahip taneciklerinin çarpışmasına ne ad verilir?

- A) İleri çarpışma  
B) Esnek çarpışma  
C) Etkin çarpışma  
D) Geri çarpışma

8. Aşağıda verilen tepkimenin hızı ölçülmek isteniyor.



Tepkimenin hızı hangi özelliğin değişimi ile ölçülebilir?

- A) Renk  
B) Elektrik iletkenliği  
C) Hacim (basınç ve sıcaklık sabitken)  
D) Basınç (hacim ve sıcaklık sabitken)

9. Belirli bir kimyasal tepkimede birim zamanda harcanan ya da oluşan madde miktarındaki değişikliğe ortalama tepkime hızı denir.

Tepkime başlangıcında çözeltideki derişimi 4 M olan bir maddenin, 10 saniye sonunda derişiminin 1 M kaldığı bilinmektedir.

Bu maddenin tepkimedeki ortalama harcanma hızı kaç M/s'dir?

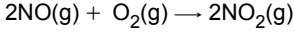
- A) 0,1 B) 0,2 C) 0,3 D) 0,4

# 1. OTURUM

10. Aşağıdaki tepkimelerden hangisi homojen tepkimeye örnektir?

- A)  $\text{CaCO}_3(\text{k}) \rightarrow \text{CaO}(\text{k}) + \text{CO}_2(\text{g})$   
 B)  $2\text{SO}_2(\text{g}) + \text{O}_2(\text{g}) \rightarrow 2\text{SO}_3(\text{g})$   
 C)  $\text{S}(\text{k}) + \text{O}_2(\text{g}) \rightarrow \text{SO}_2(\text{g})$   
 D)  $\text{FeO}(\text{k}) + \text{CO}(\text{g}) \rightarrow \text{Fe}(\text{k}) + \text{CO}_2(\text{g})$

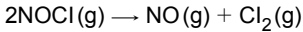
11. Tek basamakta gerçekleşen,



tepkimesinin hız denklemi aşağıdakilerden hangisidir?

- A) Hız =  $k[\text{NO}]^2$   
 B) Hız =  $k[\text{O}_2]^2$   
 C) Hız =  $k[\text{NO}_2]$   
 D) Hız =  $k[\text{NO}]^2[\text{O}_2]$

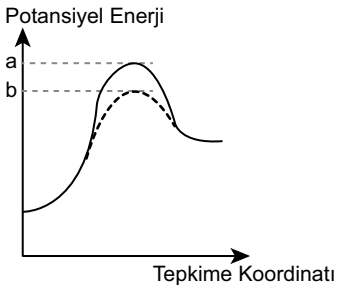
12. Tek basamakta gerçekleşen;



tepkimesinde kullanılan NOCl gazının derişimi iki katına çıkarsa hız nasıl değişir?

- A) Yarıya düşer.  
 B) Değişmez.  
 C) 2 katına çıkar.  
 D) 4 katına çıkar.

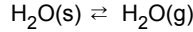
13. Aşağıda verilen potansiyel enerji-tepkime koordinatı grafiğinde,



tepkimenin aktivasyon enerjisinin a değerinden b değerine düşmesinin nedeni aşağıdakilerden hangisidir?

- A) Sıcaklığı arttırmak  
 B) Katalizör kullanmak  
 C) Temas yüzeyini arttırmak  
 D) Tepkimeye giren maddelerin derişimini arttırmak

14. Sabit sıcaklıkta ve kapalı bir kaptaki gerçekleşen



tepkimesi ile ilgili;

- I. Fiziksel denge tepkimesidir.  
 II. Heterojen denge tepkimesi oluşmuştur.  
 III. Tersinir tepkimedir.

yargılarından hangileri doğrudur?

- A) Yalnız I. B) Yalnız II.  
 C) I ve II. D) I, II ve III.

15. Kimyasal denge tepkimeleri ile ilgili aşağıdakilerden hangisi doğrudur?

- A) İleri ve geri tepkime hızları eşittir.  
 B) Girenlerin tamamı tükenir.  
 C) Tepkime sıcaklığı sürekli artar.  
 D) Yalnız fiziksel özellikler değişir.

16.  $\text{H}_2(\text{g}) + \text{Cl}_2(\text{g}) \rightleftharpoons 2\text{HCl}(\text{g})$

tepkimesinin denge bağıntısı hangi seçenekte doğru verilmiştir?

- A)  $K_C = [\text{H}_2][\text{Cl}_2]^2$   
 B)  $K_C = \frac{[\text{HCl}]^2}{[\text{H}_2][\text{Cl}_2]}$   
 C)  $K_C = \frac{[\text{H}_2]}{[\text{HCl}]^2}$   
 D)  $K_C = [\text{HCl}]^2$

17. Denge de olan bir tepkime ile ilgili;

- I. sıcaklığını azaltmak,  
 II. katalizör eklemek,  
 III. denge sabiti eşitliğinde bulunan maddenin derişimini arttırmak

değişimlerinden hangileri yapılsa denge hali bozulabilir?

- A) Yalnız I. B) I ve II.  
 C) I ve III. D) I, II ve III.

18. 0,1M HCl çözeltisinin 25°C'teki pH değeri aşağıdakilerden hangisidir?

$$(\text{pH} = -\log[\text{H}^+])$$

- A) 1 B) 2 C) 3 D) 4

19.  $\text{HCO}_3^- + \text{H}_2\text{O} \rightleftharpoons \text{H}_2\text{CO}_3 + \text{OH}^-$

tepkimesinin konjuge asit-baz çifti hangi seçenekte doğru olarak verilmiştir?

- A)  $\text{H}_2\text{CO}_3$  ve  $\text{H}_2\text{O}$   
 B)  $\text{HCO}_3^-$  ve  $\text{H}_2\text{O}$   
 C)  $\text{H}_2\text{O}$  ve  $\text{OH}^-$   
 D)  $\text{HCO}_3^-$  ve  $\text{OH}^-$

20. 25°C'ta asitlik sabiti  $1 \times 10^{-5}$  olan monoprotik sirke asidinin 0,1 M'lık sulu çözeltisinin  $[\text{H}^+]$  değeri kaçtır?

$$([\text{H}^+] = (K_a C_a)^{1/2})$$

- A)  $1 \times 10^{-3}$  B)  $1 \times 10^{-4}$   
 C)  $1 \times 10^{-5}$  D)  $1 \times 10^{-6}$

## (441) BİYOLOJİ – 1

1. Aşağıdakilerden hangisi biyoloji biliminin incelediği konulardan birisi değildir?

- A) Canlıların gelişim aşamaları  
 B) Atomun tanecikli yapısı  
 C) Canlıların birbirleriyle ve çevreleriyle olan ilişkileri  
 D) Hücre ve hücrede meydana gelen olaylar

2. Günümüzdeki;

- I. genetik,  
 II. eczacılık,  
 III. ekoloji

bilim dallarından hangileri biyolojinin çalışma alanlarındandır?

- A) Yalnız II. B) I ve II.  
 C) I ve III. D) I, II ve III.

3. Aşağıdaki canlı gruplarından hangisi prokaryot hücre yapısına sahiptir?

- A) Bakteriler B) Mantarlar  
 C) Hayvanlar D) Bitkiler

4. Bütün canlılar için;

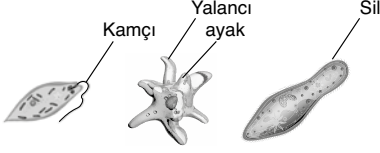
- I. fotosentez,  
 II. beslenme,  
 III. metabolizma

özelliklerinden hangileri ortaktır?

- A) Yalnız I. B) I ve II.  
 C) II ve III. D) I, II ve III.

# 1. OTURUM

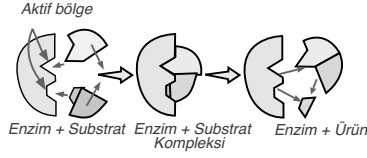
5. Aşağıdaki şekilde bazı canlılara ait yapılar verilmiştir.



**Bu yapıların ortak olarak gerçekleştirdiği olay aşağıdakilerden hangisidir?**

- A) Fotosentez B) Solunum  
C) Boşaltım D) Hareket
6. Su ile ilgili aşağıdaki yargılardan hangisi **yanlıştır**?
- A) Canlılarda oluşan aşırı su kaybı, hayati öneme sahiptir.  
B) Enzimlerin çalışması için su gereklidir.  
C) Öz ısısı düşük olduğundan, çabuk ısınır, çabuk soğur.  
D) Doğada katı, sıvı ve gaz şekilde kolayca bulunabilir.
7. Maddelerin asitlik ve bazlık derecesini ölçmek için pH cetveli kullanılır. pH cetveli 0 – 14 arasındadır. Bir maddenin pH değeri 0 – 7 arasında ise asit, 7 – 14 arasında ise bazdır. 7 ise nötrdür. 7'den 0'a gidildikçe asitlik derecesi, 7'den 14'e gidildikçe bazlık derecesi artar.
- Buna göre aşağıda verilen pH değerlerinden hangisi en asidiktir?**
- A) 2,1 B) 5,6  
C) 8 D) 12,6
8. Aşağıdaki maddelerden hangisi **sağlıklı bir insan tarafından üretilemeyip dışarıdan hazır olarak alınmak zorundadır?**
- A) Hormon B) Mineral  
C) ATP D) Enzim
9. Aşağıdaki besin maddelerinden hangisinde **bol miktarda nişasta bulunmaz?**
- A) Patates B) Pirinç  
C) Yulaf D) Yumurta

10. Aşağıda enzimlerin çalışması ile ilgili bir şema verilmiştir.



**Şemadan aşağıdaki yargılardan hangisine ulaşılabılır?**

- A) Enzim ile substratı arasındaki uyum anahtar-kilit ilişkisine benzer.  
B) Enzimler çift yönlü (tersinir) çalışır.  
C) Enzimler tepkimelerin aktivasyon enerjisini düşürür.  
D) Enzimler, hem hücre içinde hem de hücre dışında çalışabilir.
11. Aşağıdakilerden özelliklerden hangisi **DNA'ya aittir?**
- A) Urasil nükleotidi bulunur.  
B) Yapısında riboz şekeri bulunur.  
C) Kendini eşleyebilir ve onarabilir.  
D) Ökaryot hücrelerde sitoplazma ve çekirdekte bulunur.
12. **Sağlıklı bir yaşam için aşağıdakilerden hangisi yapılmalıdır?**
- A) Dönem dönem şok diyetler uygulanmalıdır.  
B) Her besin grubundan ihtiyaç kadar tüketilmelidir.  
C) Bazı günler su içilmemelidir.  
D) Çok yağlı ve baharatlı yiyecekler tüketilmelidir.
13. **Hücre teorisiyle ilgili,**
- I. Bütün canlılar bir ya da birden çok hücreden oluşur.  
II. Hücreler canlıların temel yapısal ve fonksiyonel birimidir.  
III. Metabolik faaliyetlerin tamamı hücre dışında gerçekleşir.
- yargılarından hangileri doğrudur?**
- A) Yalnız I. B) I ve II.  
C) II ve III. D) I, II ve III.
14. Aşağıdaki hücresel yapılardan hangisi **ökaryot ve prokaryot hücrelerde ortak olarak bulunur?**
- A) Mitokondri B) Golgi aygıtı  
C) Hücre zarı D) Çekirdek

15. Aşağıda verilen hücresel yapılardan hangisi **zar yapısı bakımından diğerlerinden farklı bir grupta yer alır?**

- A) Golgi aygıtı B) Lizozom  
C) Koful D) Mitokondri

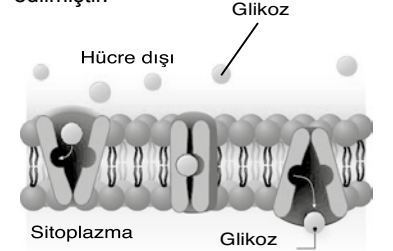
16. Aşağıda bir kaba konulmuş mürekkep taneciklerinin suda dağılması şematize edilmiştir.



**Buna göre mürekkep taneciklerinin suda dağılması aşağıdaki madde geçiş yöntemlerinden hangisi ile tanımlanabilir?**

- A) Pasif taşıma  
B) Aktif taşıma  
C) Endositoz  
D) Ekzositoz

17. Aşağıda hücre zarından madde geçiş yöntemlerinden biri şematize edilmiştir.



**Bu madde geçiş yöntemi ile ilgili,**

I. Taşıyıcı proteinler kullanılır.  
II. Enerji harcanır.  
III. Madde daima çok olduğu taraftan az olduğu tarafa geçer.

**yargılarından hangileri doğrudur?**

- A) Yalnız I. B) I ve III.  
C) II ve III. D) I, II ve III.

18. **Hücrede üretilen enzim, hormon gibi büyük moleküllü maddelerin hücre dışına salgılanmasında aşağıdaki madde taşınım yöntemlerinden hangisi kullanılır?**

- A) Kolaylaştırılmış difüzyon  
B) Aktif taşıma  
C) Ekzositoz  
D) Endositoz

## 1. OTURUM

19. Kontrollü deneylerde etkisi araştırılan değişkene bağımsız değişken, bağımsız değişkene bağlı olarak değişen değişkene bağımlı değişken denir. Özdeş iki bitki ile hazırlanan bir deney düzeneğinde sıcaklık, su miktarı, karbondioksit miktarı, toprak çeşidi, toprak miktarı, saksı büyüklüğü gibi faktörlerin aynı olduğu iki deney düzeneğinden biri karanlık biri aydınlık ortamda tutularak bitkilerin fotosentez hızları ölçülmüştür.

**Buna göre yukarıda verilen deney düzeneğinde bağımlı değişken aşağıdakilerden hangisidir?**

- A) Bitki çeşidi
- B) Fotosentez hızı
- C) Işık miktarı
- D) Sıcaklık

20. Aşağıda verilen bilimsel yöntem basamaklarından hangisi diğerlerinden önce yapılmalıdır?

- A) Hipotez oluşturmak
- B) Hipoteze dayalı tahminlerde bulunmak
- C) Kontrollü deneyler yapmak
- D) Kontrollü deney sonuçlarını değerlendirmek

### (443) BİYOLOJİ – 3

1. Canlılarda gerçekleşen aşağıdaki olaylardan hangisi hücre bölünmesi ile gerçekleşmez?

- A) Yeni bir bebeğin yetişkin hâle gelmesi
- B) Yavru filin tonlarca ağırlığa ulaşması
- C) Besin monomerlerinin polimerleşmesi
- D) Üreme hücrelerinin oluşması

2. Mitoz bölünme geçiren bir hücrenin hücre döngüsü sırasında meydana gelen,

- I. interfaz,
- II. sitoplazma bölünmesi,
- III. çekirdek bölünmesi

olaylarının gerçekleşme sırası aşağıdakilerden hangisidir?

- A) I – II – III
- B) I – III – II
- C) II – I – III
- D) II – III – I

3. Mitoz bölünme sırasında kromozomların kardeş kromatitler halinde iğ ipliklerine tutunarak hücrenin ekvatorial düzlemine dizildiği evre aşağıdakilerden hangisidir?

- A) Metafaz
- B) Telofaz
- C) Profaz
- D) Anafaz

4. Mitoz bölünme sırasında gerçekleşen aşağıdaki olaylardan hangisi bitki hücrelerinde gerçekleşirken hayvan hücrelerinde gerçekleşmez?

- A) Kromozomların ekvatorial düzlemde dizilmesi
- B) DNA eşlenmesinin olması
- C) Kardeş kromatitlerin ayrılması
- D) Orta lamel oluşumu

5. 1951 yılında kanserden hayatını kaybeden Henrietta Lacks isimli bir kadının kanserli dokusundan alınan HeLa hücreleri uygun laboratuvar ortamında sınırsız çoğalabilmektedir.

**Buna göre kanser ile ilgili;**

- I. Kanserli hücreler uygun besin ortamlarında hiç durmadan bölünmeye devam edebilir.
- II. Kanser hücreleri kan veya lenf yolu ile metastaz yapabilir.
- III. Kanser hücrelerinin kemoterapi denilen ilaçlarla ya da radyoterapi denilen ışın tedavisi ile bölünmesi engellenebilir.

**yargılarından hangilerine ulaşılabilir?**


- A) Yalnız I.
- B) I ve III.
- C) II ve III.
- D) I, II ve III.

6.  $2n = 20$  kromozomlu bir hücre arka arkaya 3 kez mitoz bölünme geçiriyor.

**Bölünme sonunda hücre sayısı ve bölünme sonunda oluşan her bir hücrenin kromozom sayısı aşağıdakilerden hangisidir?**

Hücre sayısı	Kromozom sayısı
A) 8	10
B) 9	20
C) 8	20
D) 9	10

7. Aşağıda öğlenanın çoğalması şematize edilmiştir.



**Buna göre şematize edilen eşeysiz üreme şekli aşağıdakilerden hangisidir?**

- A) Sporla
- B) Rejenerasyonla
- C) Bölünerek
- D) Vejetatif

8. Arılarda görülen partenogenez ile ilgili aşağıdaki yargılardan hangisi doğrudur?

- A) Kraliçe arıda yumurta, mitoz bölünme ile üretilir.
- B) Dişi arılar spermin yumurtayı döllemesi ile oluşurlar ve n kromozomludurlar.
- C) Erkek arılarda sperm, mayoz bölünme ile üretilir.
- D) Erkek arılar döllememiş yumurtadan gelişirler ve n kromozomludurlar.

9. Aşağıda mayoz bölünmenin bir evresi şematize edilmiştir.



**Bu evre aşağıdakilerden hangisidir?**

- A) Profaz I
- B) Metafaz I
- C) Anafaz II
- D) Telofaz II

10. Mayoz bölünmede crossing-over (parça değişimi), sinapsis olaylarının görüldüğü evre aşağıdakilerden hangisidir?

- A) Profaz I
- B) Telofaz I
- C) Anafaz II
- D) Metafaz II



# 1. OTURUM

11. Aşağıdakilerden hangisi canlılarda genetik çeşitliliğe neden olmaz?

- A) Krossing - over  
B) Homolog kromozomların rasgele ayrılması  
C) Yumurta ve sperm çekirdeklerinin kaynaşması  
D) Bölünme öncesi DNA'nın eşlenmesi

12. Aşağıda verilen canlıların hangisinde hem eşeyli hem de eşeysiz üreme ile birey sayısı artışı gerçekleşebilir?

- A) Balık  
B) Memeli  
C) Halkalı solucan  
D) Sürüngen

13. Doktorlar çoğu kalıtsal hastalığa teşhis koyarken hastaların anne, baba ve kardeş gibi birinci derece yakınlarında da aynı hastalığın olup olmadığını araştırırlar.

**Bu durumun sebebi aşağıdakilerin hangisidir?**

- A) Bireylerin birlikte daha fazla vakit geçirmeleri  
B) Genellikle beslenme tarzlarının aynı olması  
C) Genetik benzerliklerinin fazla olması  
D) Kalıtsal hastalıkların solunum yoluyla bulaşması

14. İki çocuğu olan bir ailenin iki çocuklarının da kız olma olasılığı kaçtır?

- A) 1/16  
B) 1/4  
C) 1/2  
D) 1

15. Heterozigot sarı ve düz tohumlu iki bezelye çaprazlandığında yeşil ve buruşuk tohumlu bezelye oluşma olasılığı kaçtır?

(Sarı tohum aleli, yeşil tohum aleline; düz tohum aleli, buruşuk tohum aleline baskındır.)

- A) 1/16  
B) 3/16  
C) 9/16  
D) 1

16. "Aa Bb Ee Kk" genotipine sahip bir bireyin oluşturabileceği gamet çeşidi sayısı kaçtır?

(Genler birbirinden bağımsızdır.)

- A) 2  
B) 4  
C) 8  
D) 16

17. Homozigot A kan gruplu bir bireyle homozigot B kan gruplu bir bireyin doğacak kız çocuklarının kan grubu fenotipi aşağıdakilerden hangisidir?

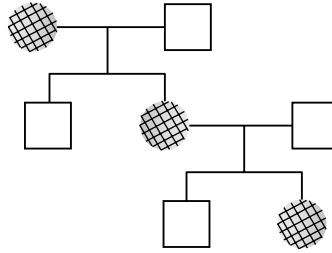
- A) A  
B) B  
C) AB  
D) O

18. Kısmi renk körlüğü X kromozomu üzerindeki çekinik bir alele kalıtılan genetik bir hastalıktır.

**Buna göre aşağıda genotipleri verilen bireylerden hangisinin kısmi renk körü çocuğu kesinlikle olamaz?**

- A)  $X^R X^R$   
B)  $X^R X^f$   
C)  $X^f X^f$   
D)  $X^f Y$

19. Aşağıdaki soyağacında bir özelliği fenotipinde gösteren bireyler taralı olarak verilmiştir.



**Buna göre özellik aşağıda verilen durumlardan hangisi ile kalıtılmaktadır?**

- A) Otozomal baskın  
B) X'e bağlı baskın  
C) Otozomal çekinik  
D) X'e bağlı çekinik

20. Mutasyonlarla ilgili;

- I. Organizmadaki gen dizilimlerinde meydana gelen değişimlerdir.  
II. Vücut hücrelerinde meydana gelen mutasyonlar kalıtsaldır.  
III. Mutasyonların hepsi öldürücüdür.

**yargılarından hangileri doğrudur?**

- A) Yalnız I.  
B) I ve II.  
C) II ve III.  
D) I, II ve III.

## (446) SEÇMELİ BİYOLOJİ – 2

1. • Tek katlı yassı epitelten oluşur.  
• Etrafı kılcıl damarlarla çevrilidir.  
• Akciğerlerin solunum yüzeyini artırır.  
• Gaz değişiminin gerçekleştiği yerdir.

**Yukarıda bazı özellikleri verilen insan solunum sistemi yapısı aşağıdakilerden hangisidir?**

- A) Bronş  
B) Pleura  
C) Alveol  
D) Diyafram

2. Aşağıda verilen olaylardan hangisi soluk verme sırasında gerçekleşir?

- A) Kaburgalar arası kaslar kasılır.  
B) Göğüs boşluğu genişler.  
C) Akciğerdeki hava basıncı düşer.  
D) Diyafram kası gevşer ve kubbeleşir.

3. Aşağıda verilen denklemlerde gerçekleşen olaylardan hangisi doku kılcığında gerçekleşir?

- A)  $Hb + O_2 \rightarrow HbO_2$   
B)  $Hb + CO_2 \rightarrow HbCO_2$   
C)  $HCO_3^- + H^+ \rightarrow H_2CO_3$   
D)  $HbH \rightarrow Hb + H^+$

4. "Hava yollarının daralmasına sebep olan kronik bir iltihaplanmadır. Soluk alıp vermede sıkıntılara neden olur. Polenler, mantar sporları, bazı besinler, aspirin, soğuk hava, kirli hava, sigara dumanı ... etkisi ile bronşlar mukozal ödemiyle daralır ve nefes darlığı meydana gelir."

**Yukarıda bazı özellikleri verilen solunum sistemi rahatsızlığı aşağıdakilerden hangisidir?**

- A) Astım  
B) Tüberküloz  
C) Gastrit  
D) Akciğer kanseri

5. Sağlıklı bir insanda getirci atardamarlar ile böbrek glomeruluslarına gelen kandan yüksek kan basıncı etkisiyle zardan geçebilecek büyüklükte olan moleküllerin Bowman kapsülüne geçmesine süzülme denir.

**Buna göre aşağıda verilen maddelerden hangisi süzülme ile Bowman kapsülüne geçemez?**

- A) Glikoz  
B) Amino asit  
C) Alyuvar  
D) Üre



## 1. OTURUM

6. Böbrekler tarafından salgılanan, alyuvar üretilmesini uyaran ve bazı sporcuların yarışlarda avantaj sağlamak adına doping maddesi olarak kullandıkları hormon aşağıdakilerden hangisidir?

- A) Eritropoietin (EPO)
- B) Adrenokortikotropik hormon (ACTH)
- C) Lüteinleştirici hormon (LH)
- D) Melanosit uyarıcı hormon (MSH)

7. Glomerulus kılcalları ve vücut kılcalları ile ilgili,

- I. Glomerulus kılcallarındaki kan basıncı, vücut kılcallarına göre iki kat fazladır.
- II. Glomerulus kılcal damarı boyunca kan basıncı sabitken, vücut kılcallarında kan basıncı toplardamar ucuna gidildikçe azalır.
- III. Glomerulus kılcalları iki katlı epitel ile örtülü iken vücut kılcalları ise tek katlı epitel ile örtülüdür.

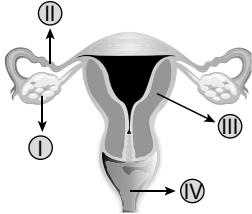
yukarıdaki ifadelerden hangileri doğrudur?

- A) Yalnız I.
- B) I ve III.
- C) II ve III.
- D) I, II ve III.

8. Aşağıda verilen maddelerden hangisinin böbrek kanallarına geri emilimi için kesinlikle enerji harcanmaz?

- A) Su
- B) Glikoz
- C) Amino asit
- D) Mineral

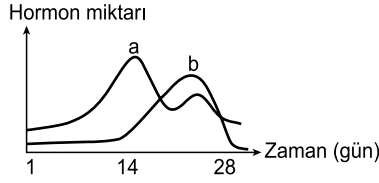
9. Aşağıda dişi üreme sistemi şematize edilmiştir.



Buna göre numaralandırılmış yapılarından hangisi döllenme olayının gerçekleştiği fallop tüpüdür?

- A) I
- B) II
- C) III
- D) IV

10. Aşağıda menstrual döngü sırasında yumurtalıktan salgılanan a ve b hormonlarının zamana bağlı değişimi grafiklenmiştir.



Buna göre a ve b hormonları aşağıdakilerden hangisidir?

- |    | A        | B           |
|----|----------|-------------|
| A) | Östrojen | Progesteron |
| B) | FSH      | LH          |
| C) | LTH      | FSH         |
| D) | Östrojen | Oksitosin   |

11. İnsanda, embriyonun metabolik atıklarının depo edildiği ve içerdiği kan damarları ile gaz alışverişine yardımcı olan embriyonik zar aşağıdakilerden hangisidir?

- A) Amnion
- B) Vitellus
- C) Allantoyis
- D) Koriyon

12. Hamilelik sürecinde aşağıdakilerden hangisinin yapılması bebek gelişimi için olumlu bir etkiye sahiptir?

- A) Folik asit içermeyen diyetlerin uygulanması
- B) Tomografi ya da röntgen çektilmesi
- C) Bakteri enfeksiyonlarına karşı geniş spektrumlu antibiyotiklerin doktor kontrolü dışında kullanılması
- D) Düzenli su içmek

13. Zigot oluşumu ile başlayan embriyonik gelişim sürecinde aşağıda verilenlerden hangisi en son gerçekleşir?

- A) Blastomerlerin çevreye göçüyle içi sıvı dolu blastulanın oluşması
- B) Hücrelerin farklılaşması ile organların oluşması
- C) Blastomerlerin bir araya gelerek morula'yı oluşturması
- D) Segmentasyonla iki blastomerli yapının oluşması

14. Canlıların besin, yaşama alanı, çiftleşme gibi faktörleri elde etmek için birbirleriyle yarışmasına rekabet denir.

Buna göre aşağıda verilen hangi iki canlı arasındaki ilişki rekabet olarak adlandırılmaz?

- A) Koyun – Keçi
- B) Çam – Sedir
- C) At – Eşek
- D) Aslan – Geyik

15. Aşağıda verilen simbiyotik ilişkilerden hangisi diğerlerinden farklıdır?

- A) Böcekler çiçekten nektar (bal özü) emerek beslenirken bitkilerin de tozlaşmalarını ve nesillerinin devamını sağlarlar.
- B) Havadaki azot gazını bağlayarak bitkinin azotu kullanabilmesini sağlayan bakteriler, baklagillerden organik besin alırlar.
- C) Ökse otu emeçleri (sömürge kök) ile üzerinde yaşadığı bitkilerin odun borularından su ve mineral alırlar.
- D) Anemon adı verilen deniz mercanı yakıcı tentakülleriyle, özel bir mukus tabakası ile derisi kaplı olan Palyaço balığına düşmanlarından korunurken, Palyaço balığı da anemonu onunla beslenen balıklardan uzak tutar.

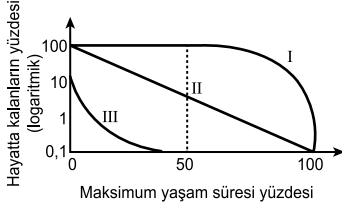
16. "Kırım-Kongo Kanamalı Ateşi (KKKA), keneler tarafından taşınan Nairovirüs isimli bir mikrobiyal etkenin neden olduğu ateş, cilt içi ve diğer alanlarda kanama gibi bulgular ile seyreden bir enfeksiyondur. Son yıllarda tedavide görülen gelişmelere rağmen, bu enfeksiyonlarda ölüm oranları yüksektir. Keneler otlaklar, çalılıklar ve kırsal alanlarda yaşarlar. Hayvan ve insanların kanlarını emerek beslenirler ve hastalıkları insanlara bulaştırabilirler. Kamp ve piknik yapanlar, askerler ile korunmasız olarak yeşil alanlarda bulunanlar risk altındadır."

Yukarıda verilen metne göre kene ile insan arasındaki simbiyotik ilişki aşağıdakilerden hangisidir?

- A) Parazitizm
- B) Mutualizm
- C) Kommensalizm
- D) Amensalizm

# 1. OTURUM

17. Aşağıda bazı popülasyonların hayatta kalma eğrileri verilmiştir.



**Buna göre;**

- I. Tip I hayatta kalma eğrisine sahip popülasyonlardaki bireylerin genç ve ergin dönemlerde hayatta kalma oranı yüksektir.
- II. Tip II hayatta kalma eğrisine sahip popülasyonlardaki bireylerin hayatta kalma oranı, her yaş için yaklaşık olarak aynıdır.
- III. Tip III hayatta kalma eğrisine sahip popülasyonlarda ise bireylerin gençlik döneminde, hayatta kalma oranı çok yüksektir.

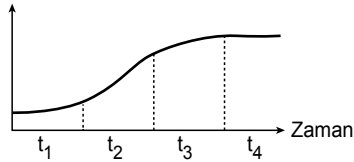
**yargılarından hangileri doğrudur?**

- A) Yalnız I.      B) I ve II.  
C) II ve III.     D) I, II ve III.

18. Aşağıda verilen durumların hangisinde meydana gelen artış popülasyon büyüklüğündeki değişimi olumsuz etkiler?

- A) Doğum oranı    B) İçe göç  
B) Besin miktarı    D) Salgın hastalık

19. Aşağıda bir popülasyona ait "S" tipi gelişim grafiği verilmiştir.  
Birey sayısı



**Buna göre verilen zaman dilimlerinin hangisinde büyüme hızı diğer zamanlara göre daha fazladır?**

- A) t<sub>1</sub>    B) t<sub>2</sub>    C) t<sub>3</sub>    D) t<sub>4</sub>

20. Bireyler arasındaki mesafenin yaklaşık olarak aynı olduğu, aynı zamanda bireyler arasında etkileşimin de kuvvetli olduğu popülasyon dağılımı aşağıdakilerden hangisidir?

- A) Kümeli      B) Rastgele  
C) Düzenli     D) Karışık

## (461) SEÇMELİ EKONOMİ – 1

1. Aşağıdakilerden hangisi tümevarım yöntemi için geçerlidir?

- A) Çoğul olaylardan yola çıkarak tekil olaylar ile ilgili dedüksiyonlara başvurur.  
B) Tekil olaylar gözlemlenerek genel sonuçlara ulaşılır.  
C) Ekonomi biliminde kanunlara ulaşmak için kullanılamaz.  
D) Tümdengelim yöntemi ile birlikte kullanılamaz.

2. Araba üreten bir firmanın, başka bir firmanın ürettiği elektronik parçaları kullanması aşağıdakilerden hangisine örnektir?

- A) Dolaysız tüketim  
B) Dolaylı tüketim  
C) Anında tüketim  
D) Yerinde tüketim

3. Ekonomi hangi bilim dalının altında yer almaktadır?

- A) Sosyal bilimler  
B) Fen bilimleri  
C) Doğal bilimler  
D) Fiziksel bilimler

4. Aşağıdakilerden hangisi Atatürk'ün ekonomik alandaki çalışmalarına bir örnektir?

- A) Tekelciliğin desteklenmesi  
B) Bankaların kapatılması  
C) Sanayinin teşvik edilmesi  
D) Gümrük vergilerinin kaldırılması

5. Aşar vergisinin kaldırılması hangi sektörde yaşanan bir gelişmedir?

- A) Turizm      B) Sanayi  
C) İnşaat      D) Tarım

6. Aşağıdakilerden hangisi ekonomik olmayan ihtiyaçlar arasında yer almaz?

- A) Zorunlu ihtiyaçlar  
B) Kültürel ihtiyaçlar  
C) Lüks ihtiyaçlar  
D) İkame ihtiyaçlar

7. Et fiyatlarının yükselmesi ile birlikte tavuğa olan talebin artması hangi yasanın bir sonucudur?

- A) Gossen yasası  
B) İkame yasası  
C) Newton yasası  
D) Avogadro yasası

8. Mallar doğada bulunuş şekillerine göre - - - - mallar ve - - - - olarak ikiye ayrılabilir.

**Verilen cümlede boş bırakılan yerlere aşağıdakilerden hangisinin gelmesi uygundur?**

- A) Serbest-ekonomik  
B) Zorunlu-lüks  
C) Kültürel-faydalı  
D) Kolayda-beğenmeli

9. Aşağıdakilerden hangisi kültürel bir mala örnektir?

- A) Kitap                      B) Otomobil  
C) Su                         D) Mücevher

10. Servet kavramı ile ilgili aşağıdaki ifadelerden hangisi yanlıştır?

- A) Servet bir miktardır.  
B) Servet görecelidir.  
C) Servet karşılaştırılmaz.  
D) Servet bir toplam olarak ifade edilir.

11. Aşağıdakilerden hangisi üretimin kattığı faydalar arasında yer almaz?

- A) Destek                      B) Şekil  
C) Mekan                      D) Mülkiyet

12. I. Petrol  
II. Kömür  
III. Doğalgaz  
IV. Elektrik

**Yukarıdakilerden hangileri birincil enerji kaynakları arasında yer alır?**

- A) Yalnız I.                      B) Yalnız II.  
C) II ve IV.                      D) I, II ve III.

13. Aşağıdaki projelerinden hangisi GAP'ın alt projeleri arasında yer almaz?

- A) Aşağı Fırat Projesi  
B) Cizre Projesi  
C) Batman Projesi  
D) Marmaray Projesi

## 1. OTURUM

14. Yer kabuğunun yüzeye yakın yerlerinde oluşan, çatlaklar yoluyla kendiliğinden veya sondajlarla yeryüzüne çıkarılan sıcak su ve buhar kaynaklarından elde edilen enerjiye ne denir?

- A) Güneş enerjisi
- B) Rüzgar enerjisi
- C) Jeotermal enerji
- D) Hidroelektrik enerji

15. Aşağıdakilerden hangisi emeğin çeşitlerinden değildir?

- A) Düzenleyici emek
- B) Uygulayıcı emek
- C) Yaratıcı emek
- D) Yönetici emek

16. Bir işçinin bir saatte ürettiği ürün miktarı için hangi ekonomik terim kullanılır?

- A) Fiziksel Etkinlik
- B) Fiziksel Verimlilik
- C) Fiziksel Çalışkanlık
- D) Fiziksel Başarılilik

17. Verimlilik ile ilgili aşağıdaki ifadelerden hangisi yanlıştır?

- A) Modernleştirme düzeyi verimliliğe etki eder.
- B) İşletme organizasyonu verimliliğe etki eder.
- C) Yöneticilerin tutumu verimliliği etkilemez.
- D) İşletmenin kuruluş yeri verimliliğe etki eder.

18. Aşağıdakilerden hangisi vasıfsız emeğe örnek olarak gösterilebilir?

- A) Terzilik
- B) Kunduracılık
- C) Temizlikçilik
- D) Aşçılık

19. Aşağıdakilerden hangisi verimliliğe etki eden subjektif etkenlerden biridir?

- A) İşçilerin iş yerinin toz ve nemden arındırılması
- B) İş yerinin sağlık ve teknik bakımından havalandırılması
- C) Çalışma ortamının doğru ışıklandırılması
- D) Ücret kesintileri korkusu

20. Aşağıdakilerden hangisi 1965 yılından itibaren yürürlüğe konulan Nüfus Planlaması Kanunu'nun amaçlarından birisidir?

- A) Nüfusu arttırmak
- B) Hızlı nüfus artışından kaynaklanan sorunlara çözüm bulmak
- C) Toplumun tasarruf gücünü azaltmak
- D) Kırsal bölgelerden büyük şehirlere göçleri arttırmak

### (465) TEMEL DİNİ BİL. – 1

1. Kişinin çocuğuna bırakacağı en güzel miras olarak Hz. Peygamber, aşağıdakilerden hangisini tavsiye etmiştir?

- A) Makam
- B) Mülk
- C) Ahlak
- D) Meslek

2. Aile ile ilgili verilen bilgilerden hangisi yanlıştır?

- A) Nikâh akdi ile kurulur.
- B) İnsanlık tarihi ile başlar.
- C) Sosyal hayatın temelini oluşturur.
- D) Aile yapıları tüm toplumlarda aynıdır.

3. "Kadınlara mehirlerini gönül rızası ile verin; eğer kadın, gönül hoşnutluğu ile o mehirin bir kısmını size bağışlarsa onu da gönül rahatlığı ile harcayın."

(Nisâ suresi, 4. ayet)

Bu ayette aşağıdaki sorulardan hangisinin cevabı bulunmaktadır?

- A) Mehir nedir?
- B) Mehir nasıl verilmelidir?
- C) Mehir ne kadar verilmelidir?
- D) Mehir ne zaman verilmelidir?

4. Aşağıdakilerden hangisi evliliğin sonuçlarından biri değildir?

- A) Bireyci anlayışın yaygınlaşmasına katkı sağlar.
- B) Toplumsal kaynaşmaya sebep olur.
- C) İnsanları birbirine yakınlaştırır.
- D) Neslin devamına imkân verir.

5. Aşağıdakilerden hangisi eşler arası ilişkiye zarar verir?

- A) İlgî
- B) Saygı
- C) Şüphe
- D) Paylaşım

6. Aşağıdakilerden hangisi boşanma ile ilgili İslam dininin tavsiyelerinden biri değildir?

- A) Tarafların boşanma talepleri hemen sonuçlandırılmalıdır.
- B) Boşanmadan önce aile büyükeliklerinden yardım alınmalıdır.
- C) Eşlerin başvuracağı son çare olarak görülmelidir.
- D) Tarafların hakları gözetilmelidir.

7. "Ey iman edenler! Eğer bir fasık size bir haber getirirse onun doğruluğunu araştırın. Yoksa bilmeden bir topluluğa kötülük ederseniz de sonra yaptığınıza pişman olursunuz."

(Hucurât suresi, 6. ayet)

Bu ayet aşağıdaki kötü davranışlardan hangisine karşı bir uyarıda bulunmaktadır?

- A) Cimrilik ve bencillik
- B) Gösteriş ve israf
- C) Gurur ve kibir
- D) Fitne ve fesat

8. Aşağıdakilerden hangisi kamusal işlerde hak ve adaletin ihlaline sebep olur?

- A) İş ehline vermek
- B) Akrabayı kayırmak
- C) Emeğin karşılığını vermek
- D) Hukuka uygun davranmak

9. "Eğer müminlerden iki grup birbirleriyle savaşırsa hemen aralarını düzeltin..."

(Hucurât suresi, 9. ayet)

Bu ayette aşağıdakilerden hangisi vurgulanmaktadır?

- A) Sulh
- B) İstişare
- C) Sadakat
- D) Yardımlaşma

10. Bizi aldatan bizden değildir.

Bu hadiste aşağıdakilerin hangisinden sakınılması tavsiye edilmektedir?

- A) Tecessüs
- B) Kumar
- C) Giybet
- D) Hile

11. Aşağıdaki kavramlardan hangisi "boşanmayı" ifade etmektedir?

- A) Nikah
- B) Talak
- C) Halvet
- D) İddet

# 1. OTURUM

12. Aşağıdakilerden hangisi müminin mümin üzerindeki haklarından biridir?

- A) Mirasına ortak olmak
- B) Nafakasını temin etmek
- C) Hastalandığında ziyaret etmek
- D) Eğitim ve öğretimini sağlamak

13. Aşağıdakilerden hangisi hukukun üstünlüğü ilkesi ile bağdaşmaz?

- A) İnsanlar arası ilişkilerin kurallarla düzenlenmesi
- B) Yasaların, adaleti gerçekleştirme amacı taşıması
- C) Sorunların hukuk yolu ile çözüme kavuşturulması
- D) Belirli bir zümre ve grubun üstünlüğünün kabul edilmesi

14. • Akli kullanmayı engeller.  
• Kişiyi bağımlı hâle getirir.  
• İnsan sağlığını tehdit eder.  
• Trafik kazalarına neden olur.

Aşağıdaki zararlı alışkanlıklardan hangisi bunların tümüne sebep olmaktadır?

- A) İçki içmek
- B) Yalan söylemek
- C) Kumar oynamak
- D) Sigara kullanmak

15. Kul hakkı ile ilgili verilen bilgilerden hangisi yanlıştır?

- A) İnsanlar arası ilişkilerden doğan hak ve sorumluluklardır.
- B) Kamu düzenine uymak kul hakkı kapsamındadır.
- C) Maddi haklar, manevi haklardan önceliklidir.
- D) İhlal edilmesi dinen yasaklanmıştır.

16. Aşağıdakilerden hangisi İslam'ın uygun gördüğü bir davranıştır?

- A) Yapay olarak fiyatlarla oynamak
- B) Malın kusurunu gizlemeden satmak
- C) Yetkilerini kendi çıkarı için kullanmak
- D) Piyasa malını pahalılaşması amacıyla stoklamak

17. Kul hakkına giren kişinin aşağıdaki davranışlardan hangisini yapması yanlıştır?

- A) Zarar verdikleri ile helalleşmesi
- B) Allah'tan bağışlanma dilemesi
- C) Verdiği zararı karşılamaya çalışması
- D) Tövbesinin kabulünden ümidini kesmesi

18. Aşağıdakilerden hangisi İslam'a göre ekonomik hayatı olumsuz etkileyen bir uygulamadır?

- A) Karz-ı Hasen
- B) Sadaka
- C) Faiz
- D) Ticaret

19. Hak olmayan bir şeyden faydalanmak veya onu elde etmek için yetkiliye verilen mal ya da paraya ne ad verilir?

- A) Ücret
- B) Rüşvet
- C) Hileli satış
- D) Karaborsacılık

20. İşçinin, aşağıdaki davranışlarından hangisi işveren ile arasındaki ilişkiyi olumsuz etkiler?

- A) İş saatlerinde özel işleriyle meşgul olması
- B) İşverenin menfaatini gözetmesi
- C) Yaptığı işin karşılığını alması
- D) İş gerektiği şekilde yapması

## (477) SEÇMELİ İŞLETME – 2

1. Aşağıdakilerden hangisi yönetimin özellikleri arasında yer almaz?

- A) Bir yetki faaliyetidir.
- B) Bir karar verme sürecidir.
- C) Bir işbirliği ve uzlaşma faaliyetidir.
- D) İletişime dayalı bir faaliyet değildir.

2. Aşağıdakilerden hangisi planlamanın özelliklerinden biri değildir?

- A) Karar sürecidir.
- B) Geçmiş faaliyetlere yönelik yapılıır.
- C) Geleceğe yönelik bir süreçtir.
- D) İşletme için en uygun olanın seçilme sürecidir.

3. Organizasyon ile çalışanların - - - - belirlenir.

Verilen cümlede boş bırakılan yere aşağıdakilerden hangisinin gelmesi uygundur?

- A) Ücretleri
- B) Kapasiteleri
- C) Eğitim seviyeleri
- D) Sorumluluk alanları

4. İşletmeler ihtiyaç duydukları fonları hangi kaynaklardan sağlarlar?

- A) Öz-yabancı kaynaklar
- B) Dolaylı-dolaysız kaynaklar
- C) Açık-kapalı kaynaklar
- D) Ucuz-pahalı kaynaklar

5. I. Şekil faydası

II. Yer faydası

III. Zaman faydası

IV. Mülkiyet faydası

V. Doğal faydası

Yukarıdakilerden hangileri pazarlamanın faydaları arasında yer alır?

- A) II ve III.
- B) IV ve V.
- C) I, II, III ve IV.
- D) I, II, III, IV ve V.

6. Reklam, kişisel satış, halkla ilişkiler ve satış tutundurma yöntemleri hangi faaliyet kapsamında kullanılır?

- A) Satın alma
- B) Tutundurma
- C) Üretim
- D) Tüketim

7. Doğrudan dağıtım kanallarında hangi aktörler yer alır?

- A) Acente-tüketicici
- B) Üretici-toptancı
- C) Üretici-tüketicici
- D) Üretici-perakendeci

8. Üretim, kabaca - - - - olarak ifade edilebilir.

Verilen cümlede boş bırakılan yere aşağıdakilerden hangisinin gelmesi en uygundur?

- A) Pazar yaratmak
- B) Fayda yaratmak
- C) İstihdam yaratmak
- D) İhracat yaratmak

# 1. OTURUM

9. Üretim sistemlerinde hangi aşamada üretim kaynakları mal ve hizmete dönüştürülür?

- A) Girdi B) Geri bildirim  
C) Kontrol D) İşlem

10. İşletmelerde stoğun yetersiz bulunması aşağıdakilerden hangisine yol açar?

- A) İşletme kârı artar.  
B) Üretim aksar.  
C) Stok giderleri azalır.  
D) İşletme verimliliği artar.

11. 13. yüzyıldan 20. yüzyıla kadar Anadolu'daki esnaf ve sanatkâr birliklerine verilen isim nedir?

- A) Tacirlik B) Velilik  
C) Ahilik D) Dervişlik

12. Aşağıdakilerden hangisi personel bulmada kullanılan işletme dışı kaynaklara örnek gösterilemez?

- A) Sendikalar  
B) Sosyal medya  
C) İşletmenin kendi çalışanı  
D) İnsan kaynakları danışmanlık firmaları

13. İşletmeye yeni giren personele işe başlamadan önce veya işe girdiği ilk günlerde uygulanan eğitime ne ad verilir?

- A) Oryantasyon B) Grev  
C) Boykot D) Edinim

14. İşletmeyi değişen koşullara karşı ayarlayan, sorunlara çözüm bulan, canlılığını sürdürüp büyüme ve gelişmesini sağlayan destekleyici fonksiyon aşağıdakilerden hangisidir?

- A) Halkla ilişkiler  
B) AR-GE  
C) İşe alım  
D) Kazandırma

15. Bir kimseye bir iş karşılığında, işveren ya da üçüncü kişiler tarafından para ile ödenen tutara ne ad verilir?

- A) Ücret B) Kâr  
C) Vergi D) Kira

16. Aşağıdaki verilen bilgilerden hangisi yanlıştır?

- A) İşletmeler çalışanlarına yemek ve ulaşım bedeli gibi ek ödemeler de yaparak destek sağlayabilirler.  
B) İşletmeler çalışanlarına uygun fiziksel çalışma ortamını hazırlamalıdır.  
C) Çalışanın kıdem tazminatı alabilmesi için en az bir yıl tam olarak çalışmış olması gerekir.  
D) İşletmeler kendi isteğiyle işten ayrılanlara ihbar tazminatı ödemek zorundadır.

17. Çalışırken çok yüksek ses çıkaran makinelerle üretim yapan bir işletmenin, kuruluş yeri olarak yerleşim yerlerinden uzakta bir yeri seçmesi, işletmenin aşağıdaki çevre sorunlarından hangisine karşı tedbir aldığını göstermektedir?

- A) Su kirliliği  
B) Hava kirliliği  
C) Gürültü kirliliği  
D) Manyetik kirlilik

18. Aşağıdakilerden hangisi niteliği bakımından diğer doğa kaynaklarından farklıdır?

- A) Kömür B) Petrol  
C) Doğalgaz D) Rüzgâr

19. Bir işletmenin çocuk işçi çalıştırması, hangi toplumsal sorumluluğunu yerine getirmediğinin bir göstergesidir?

- A) Ekonomik sorumluluk  
B) Parasal sorumluluk  
C) Hukuksal sorumluluk  
D) Ekolojik sorumluluk

20. Aşağıdakilerden hangisi standartlaşmanın tüketiciye faydalarından değildir?

- A) Pahalılığa yol açar.  
B) Can ve mal güvenliğini korur.  
C) Fiyat ve kalite yönünden kandırılmalarını önler.  
D) Malları karşılaştırma ve seçme kolaylığı sağlar.

## (479) SEÇMELİ MANTIK – 2

1. Doğru ya da yanlış değeri alabilen bir cümleye önerme denir.

**Buna göre aşağıdakilerden hangisi bir önermedir?**

- A) Çalışmak başarıyı artırır.  
B) Derslerine çalışıyor musun?  
C) Çalışkan bir öğrenci olmanı dilerim.  
D) Artık derslerine çalış!

2. “ $\leftrightarrow$ ” işareti “ancak ve ancak” eklemi nin sembolüdür.

**Buna göre aşağıdakilerden hangisi “ $p \leftrightarrow q$ ” şeklinde sembolleştirilen bir önermedir?**

- A) Arda sınıfı geçer.  
B) Ahmet çalışırsa sınıfı geçer.  
C) Arda ancak ve ancak çalışırsa sınıfı geçer.  
D) Arda ve Ahmet sınıfı geçer.

3. Sembolik mantıkta önerme eklemi ( $\sim$ ,  $\wedge$ ,  $\vee$ ,  $\rightarrow$ ,  $\leftrightarrow$ ) bulunmayan önermeler basit, önerme eklemi bulunan önermeler ise bileşik kabul edilir.

**Buna göre;**

- I.  $p$   
II.  $p \vee q$   
III.  $p \wedge q$

**önermelerinden hangileri bileşiktir?**

- A) Yalnız I. B) I ve II.  
C) I ve III. D) II ve III.

4. Herhangi bir önermede yüklem sadece bir “ad” a yüklenirse birli yüklem, “iki ad” a yüklenirse ikili yüklem, “n sayıda ad” a yüklenirse n’li yüklem adını alır.

**Bu bilgiye göre “Ege ile Mert kardeşler.” önermesi için aşağıdakilerden hangisi doğrudur?**

- A) Birli yüklemlidir.  
B) İkili yüklemlidir.  
C) Üçlü yüklemlidir.  
D) Dörtlü yüklemlidir.

# 1. OTURUM

5. "ve" bağlacı ile kurulan önermelere tümel evetleme önermesi denir.

**Tanımaya göre aşağıdakilerden hangisi bir tümel evetleme örneğidir?**

- A) Mehmet yaramaz değildir.  
B) Dürüst olursan insanlar seni sever.  
C) Selim ve Selin zekidir.  
D) Şiirlerinde veya öykülerinde yeni bir anlatım yoktur.

6. Bir önermede ana eklem, önermenin tamamını etkileyen eklem ise; " $\sim(p \rightarrow q)$ " önermesinin ana eklemi aşağıdakilerden hangisidir?

- A) p  
B)  $\sim$   
C) q  
D)  $\rightarrow$

7. Bir önermenin geçerli olabilmesi için bütün yorumlarının doğru olması gerekir.

**Buna göre aşağıdakilerden hangisi geçerli bir önermedir?**

- A)  $\frac{1}{D}$  B)  $\frac{2}{D}$  C)  $\frac{3}{Y}$  D)  $\frac{4}{Y}$   
D Y D Y

8. Aşağıdakilerden hangisi önerme eklemi değildir?

- A) ise B) ve  
C) veya D) bütün

9. Aşağıdakilerden hangisi " $p \vee q$ " önermesinin cümle olarak ifade edilmiş halidir?

- A) Umut kitap okursa yürüyüş yapacaktır.  
B) Umut kitap okuyacak ve yürüyüş yapacaktır.  
C) Umut kitap okuyacak veya yürüyüş yapacaktır.  
D) Umut yürüyüş yapacaktır.

10. "x hayvandır." açık önermesi aşağıdakilerden hangisi tarafından gerçekleştirilir?

- A) Papatya hayvandır.  
B) Penguen hayvandır.  
C) Gümüş hayvandır.  
D) Bakır hayvandır.

11. Birden fazla önermenin bir arada tutarlı olması önermelerin aynı satırda doğru değerini aldığı anlamına gelir. Buna göre;

p	q	r
Y	D	D
D	Y	Y

**önermelerinden hangileri bir arada tutarlıdır?**

- A) p ve q B) p ve r  
C) q ve r D) p, q ve r

12. I. Düşünceleri tutarlıdır.  
II. Eleştirel bir tavır takınır.  
III. Önyargılarına göre hareket eder.  
**Yukarıdakilerden hangileri mantıklı davranan bir insanın özelliklerindedir?**

- A) I ve II. B) I ve III.  
C) II ve III. D) I, II ve III.

13. Nicleme mantığına göre "bütün, bazı, tüm, kimi..." gibi terimlere nicleyici denir.

**Buna göre aşağıdakilerden hangisi nicleyicisi olan bir önerme değildir?**

- A) Kimi insanlar gözlüklüdür.  
B) Hava güneşlidir.  
C) Bütün insanlar ölümlüdür.  
D) Hiçbir sorun çözümsüz değildir.

14. Kiplik mantığında mümkün eklemi ile kurulan önermelere olanaklı önermeler denir.

**Buna göre aşağıdakilerden hangisi olanaklı önermedir?**

- A) Hiçbir insan kötü değildir.  
B) Taşın sert olması zorunludur.  
C) Her çiçek güzeldir.  
D) Sınıfı geçmesi mümkündür.

15. I. Sosyoloji  
II. Matematik  
III. Tarih

**Yukarıdakilerden hangileri mantık gibi sembolik bir dile sahiptir?**

- A) Yalnız I. B) Yalnız II.  
C) I ve II. D) II ve III.

16.  $A=B$  ve  $B=C$  ise, buradan açık olarak belli olan bir sonuç çıkar:  $A=C$ 'dir.

**Verilen örnek aşağıdakilerden hangisiyle adlandırılır?**

- A) Tanım B) Teorem  
C) Teori D) Aksiyom

17. Aşağıdakilerden hangisi " $E = \{\text{lale, sümbül, karanfil}\}$ " evreninde doğrulanır?

- A)  $\forall x (x \text{ çiçektir.})$   
B)  $\forall x (x \text{ insandır.})$   
C)  $\forall x (x \text{ madendir.})$   
D)  $\forall x (x \text{ gezegendir.})$

18. Nicleme mantığında özneyi gösteren semboller "a, b, c" harfleriyle, yüklemi gösteren semboller ise "F, G, H" harfleriyle sembolleştirilir.

**Buna göre "Hande öğretmendir." önermesinin nicleme mantığına göre sembolleştirilmiş hali aşağıdakilerden hangisidir?**

- A)  $\sim Fa$  B)  $\sim Fab$   
C) Fa D) Fabc

19. Önermelerin ikiden fazla değere sahip olabileceklerini kabul eden mantık sistemi aşağıdakilerden hangisidir?

- A) Klasik mantık  
B) Varlık mantığı  
C) İki değerli mantık  
D) Çok değerli mantık

20. "Bir önermenin doğru olması ne anlama gelir?" sorusu mantık felsefesinin aşağıdaki problem alanlarından hangisiyle ilgilidir?

- A) Doğruluk ve varlıkla  
B) Mantık ilkeleriyle  
C) Mantık kavramıyla  
D) Geçerlilik kavramıyla

# 1. OTURUM

## (502) İNGİLİZCE – 8

1-20. sorularda boş bırakılan yere uygun gelen kelime ya da ifadeyi işaretleyiniz.

1. **Joel** : Would you mind sending it to me when the summary is finished?

**David** : - - - - . I can do that.

- A) I will stay late at work  
B) No, I can't  
C) No, I am sorry  
D) Yeah, sure

2. **Max** : - - - - ?

**Tom** : No problem. I can help you.

- A) Could you help me with my homework  
B) Would you give me a glass of water  
C) Would you mind cooking some soup  
D) Could you turn on the light

3. **Kasey** : Oh, hi, Jenny, - - - - ?

**Jenny** : Hi, Kasey. I'm fine.

- A) how are you doing  
B) have you got a minute  
C) could you please open the door  
D) would you mind watering my plants

4. **Have you ever** - - - - money to a charity organization?

- A) taken                      B) became  
C) donated                    D) supported

5. **The reason** - - - - they have come here is to help us.

- A) who                        B) why  
C) when                      D) what

6. **If Roberto hadn't** - - - - up yoga, he wouldn't have recovered so fast.

- A) gone                        B) done  
C) taken                       D) cleaned

7. **While Jane was walking down the street, she** - - - - an old friend.

- A) caused                    B) woke up  
C) considered               D) bumped into

8. **Sue** - - - - 3 cups of coffee, to stay awake.

- A) drank                      B) wore  
C) got up                      D) happened

9. **My little brother is very** - - - - of snakes and spiders.

- A) afraid                      B) happy  
C) excited                     D) fascinated

10. **Michelle can** - - - - English well.

- A) drive                        B) speak  
C) amaze                      D) interest

11. **Our school is** - - - - in the middle of our town.

- A) vital                        B) caused  
C) located                     D) repaired

12. **We should** - - - - more sensitive about environmental issues.

- A) be                            B) use  
C) come                        D) agree

13. **By entering the URL, you can** - - - - web pages.

- A) have                        B) make  
C) access                      D) become

14. **I'm** - - - - with my phone's quality and features.

- A) tired                        B) bossy  
C) happy                       D) afraid

15. **When something interests you, it means you are** - - - - of it.

- A) fond                        B) useful  
C) anxious                     D) unlucky

16. **Smartphones can be** - - - - for both communication and many computer related operations.

- A) attached                    B) allowed  
C) wore                        D) used

17. **You should be** - - - - in a library.

- A) sorry                        B) silent  
C) weaker                      D) regretful

18. **You shouldn't** - - - - or hug people in some cultures.

- A) give                        B) use  
C) fill                          D) touch

19. **I will** - - - - a cup of coffee if you would like some.

- A) eat                          B) work  
C) make                        D) cook

20. **I would go to the cinema with you tonight but I** - - - - an important exam tomorrow.

- A) cycle                        B) have  
C) call                          D) like

## (502) ALMANCA – 8

1 - 17. sorularda boş bırakılan yere uygun gelen ek, kelime ya da ifadeyi işaretleyiniz.

1. **Der junge Mann mit** - - - - hat ein Handy gekauft.

- A) ein langer Schnurbart  
B) langem Schnurbart  
C) ein langen Schnurbart  
D) lang Schnurbart

2. **Man** - - - - über Internet günstig einkaufen.

- A) kann                        B) kannst  
C) könnt                       D) können

3. **Der Brief** - - - - von Asya geschrieben.

- A) werdet                      B) werde  
C) werden                     D) wird

4. **Die Geschenke** - - - - ins Paket gelegt.

- A) wirst                        B) werde  
C) werden                     D) wird

5. **Ich kann dich** - - - - einer Woche nicht erreichen. Ist alles in Ordnung?

- A) weil                         B) seit  
C) da                            D) und

# 1. OTURUM

6. Ich möchte mir ein neues Auto kaufen. - - - - spare ich Geld.

- A) Deshalb      B) Um  
C) Warum      D) Weil

7. Ich bin der Meinung, dass manche Informationen im Internet - - - - sind.

- A) schon      B) oder  
C) weiss      D) falsch

8. Die Geräte, - - - - für die Häuser nützlich sind, sind teuer.

- A) die      B) der  
C) den      D) dem

9. A: - - - - wollte nichts essen?  
B: Rainer.

- A) Wann      B) Wo  
C) Wer      D) Wen

10. Ich weiß nicht, - - - - ich meine Kreditkarte bekommen kann?

- A) und      B) wer  
C) wann      D) aus

11. Ich bin gegen die Technik, - - - - sie gesundheitsschädlich ist.

- A) um      B) weil  
C) denn      D) für

12. Ich habe - - - - - Mann ein Stück Brötchen gegeben. (Dativ)

- A) dem alten      B) die alte  
C) der alte      D) dem alte

13. Ich - - - - einen großen Karton. - - - - kann ich einen finden?

- A) brauchen / Weil  
B) braucht / Wen  
C) brauchst / Wo  
D) brauche / Wo

14. Guten Tag, ich möchte gern ein Paket - - - - Türkei schicken.

- A) in der      B) in dem  
C) in die      D) in das

15. - - - - benutzen Sie Ihr Handy?

- A) Wie oft      B) Wer  
C) Wen      D) Wem

16. - - - - Kommunikationsmittel kennst du heute?

- A) Wer      B) Welche  
C) Wen      D) Wo

17. Was für - - - - Brief möchten Sie schreiben?

- A) einem      B) eine  
C) ein      D) einen

18. "bequem" sıfatının karşıtı aşağıdakilerden hangisidir?

- A) unnötig      B) möglich  
C) unbequem      D) höflich

19. Aşağıdakilerden hangisi yanlıştır?

- A) Bäcker / Bäckerin  
B) Arzt / Ärzte  
C) Koch / Köchin  
D) Ingenieur / Ingenieurin

20. Aşağıdakilerden hangisinin sözcük anlamı diğerlerinden farklıdır?

- A) die Kaffeemaschine  
B) der Kühlschrank  
C) die Waschmaschine  
D) die Blume

## (502) FRANSIZCA – 8

1 - 20. sorularda boş bırakılan yere uygun gelen sözcük veya ifadeyi işaretleyiniz.

1. C'est la rentrée scolaire. Les élèves sont en classe et je - - - - donne leurs livres.

- A) eux      B) leur      C) les      D) la

2. On donne une grande importance - - - - la lecture - - - - développer la personnalité.

- A) de / avec      B) par / en  
C) à / pour      D) sans / contre

3. Quels sont les personnages - - - - ont assisté au festival ?

- A) qui      B) que      C) dont      D) où

4. Cette maladie est un danger véritable - - - - elle menace la vie des gens.

- A) comme      B) pourquoi  
C) par      D) car

5. Je joue - - - - football avec mes amis.

- A) au      B) du      C) de la      D) à la

6. Ils - - - - laissent aller au cinéma le soir, mais ils doivent savoir toujours à quelle heure je rentre.

- A) s'      B) me      C) leur      D) toi

7. Je pense que les femmes - - - - avoir les mêmes droits que les hommes.

- A) devrez      B) as dû  
C) devait      D) devraient

8. L'intégration dans n'importe quel pays avec les cultures différentes n'est pas facile, - - - -, elle est difficile.

- A) tout d'abord  
B) puisque  
C) au contraire  
D) heureusement que

9. La vie est comme une boîte de chocolats. On ne sait jamais - - - - nous arrivera.

- A) ce à quoi      B) dont  
C) ce que      D) ce qui

10. Selon moi, l'alphabet est la découverte - - - - importante.

- A) les moins      B) la plus  
C) autant de      D) aussi

11. Le sport est indispensable dans la vie de - - - - les gens.

- A) tout      B) toutes  
C) tous      D) toute



# 1. OTURUM

## (511) FIKİH – 1

12. - - - - sport on peut être en bonne santé.

- A) Grâce au B) À cause du  
C) Comme D) Pour que

13. J'ai découvert votre site grâce à la télé et je(j') - - - - mon meilleur copain de lycée.

- A) va retrouver B) ai retrouvé  
C) avait retrouvé D) retrouvez

14. L'énergie nucléaire est écologique - - - - elle ne produit pas de poussière ou de gaz.

- A) pourquoi B) grâce à  
C) à cause de D) parce qu'

15. Marie est tombée - - - -.

- A) quand elle descend l'escalier  
B) quand elle descendra  
C) quand elle descendait l'escalier  
D) quand elle a descendu l'escalier

16. Ces grands dossiers ne sont pas à moi, ce sont - - - -.

- A) les tiens B) les miennes  
C) le sien D) la vôtre

17. Si tu avais fait tes devoirs la semaine dernière, tu - - - - une bonne note hier.

- A) aura B) avais eu  
C) aurais eu D) avais

18. Un autocar qui transportait des touristes - - - - hier.

- A) a bloqué B) avait bloqué  
C) bloquera D) a été bloqué

19. C'est un sport un peu - - - -. Il faut un équipement spécial et du courage.

- A) dangereux B) facile  
C) délicieux D) heureuse

20. - - - - plus vite, tu n'arriveras pas en retard.

- A) En marchant B) Marchez  
C) Marchent D) Marchés

1. Aşağıdakilerden hangisi fıkıh ilmi ile uğraşan din âlimlerine verilen isimdir?

- A) Müfessir B) Fakîh  
C) Muhaddis D) Mutasavvif

2. Fıkıh ilminin ana başlıklarından olan ukûbatın konusu aşağıdakilerden hangisidir?

- A) Cezalar B) Aile hayatı  
C) Sosyal hayat D) Miras

3. Fıkıh ilmi aşağıdaki ilim dallarından hangisi ile daha çok ilişkilidir?

- A) Tarih B) Felsefe  
C) Tefsir D) Sosyoloji

4. "Def-i mefasid, celb-i menafiden evlâdır." ilkesinin anlamı aşağıdakilerden hangisidir?

- A) Toplumla ilgili düzenlemeler maslahata bağlıdır.  
B) Hakkında yasaklayıcı nass bulunmayan her şey helaldir.  
C) Kesin naslarla belirlenmiş açık hükümlerde içtihadı yer yoktur.  
D) Zararlı şeylerin giderilmesi, yararlı şeylerin elde edilmesinden daha önemlidir.

5. Aşağıdakilerden hangisi müctehitte doğrudan bulunması gereken özelliklerden biri değildir?

- A) Kur'an ve sünneti iyi bilmesi  
B) Fıkıh ilmini ve tarihini bilmesi  
C) Pozitif bilimlerde ihtisas sahibi olması  
D) Değişen hayat şartlarını ve ihtiyaçlarını bilmesi

6. Aşağıdakilerden hangisi fıkıh usulü alanında yazılmış kitaplardan biri değildir?

- A) el-Müstesfâ  
B) el-Muvâfakât  
C) İslam Hukuk Usulü  
D) Kitâbü't-Tevhîd

7. Aşağıdakilerden hangisi Hz. Ömer'in yaptığı içtihatlardan biridir?

- A) Namaza davetin ezan ile yapılması  
B) Teravih namazının cemaatle kılınması  
C) Evladın, ölen babası adına hac yapabilmesi  
D) Yolcuların konaklaması için yaptırılan han için devlet bütçesinden pay ayrılması

8. İchtihat yapmanın hükmü aşağıdakilerden hangisidir?

- A) Farz-ı kifâye B) Sünnet  
C) Farz-ı ayn D) Mübah

9. Genel kabule göre mezhepler aşağıdaki dönemlerin hangisinde oluşmaya başlamıştır?

- A) Hz. Peygamber  
B) Sahabe  
C) Tabîîn  
D) Tebe-i tâbiîn

10. Aşağıdakilerden hangisi mezheplerin ortaya çıkmasında etkili olan ilmi faktörlerden biri değildir?

- A) Usul kaidelerindeki ihtilaflar  
B) Nassın anlaşılmasındaki ihtilaflar  
C) Ticari ve sosyal ilişkilerin gelişmesinden kaynaklı ihtilaflar  
D) Hadislere ulaşıp ulaşılamamasından kaynaklanan ihtilaflar

11. Fıkıh mezhepleri hakkında aşağıdakilerden hangisi söylenemez?

- A) Hz. Peygamber döneminde ortaya çıkmıştır.  
B) Fikir ve düşünce özgürlüğünün ürünüdür.  
C) Din değil dinin yorumudur.  
D) Değişime açıktır.

12. "Muvatta" adlı hadis kitabı aşağıdaki âlimlerden hangisine aittir?

- A) Ahmed b. Hanbel  
B) Malik b. Enes  
C) İmam Ebu Hanife  
D) Muhammed b. İdris eş-Şafî

## 1. OTURUM

13. Aşağıdaki eserlerden hangisi İmam Şafî'ye aittir?

- A) er-Risale
- B) el- Muğnî
- C) el-Müsned
- D) Fıkhu'l-Ekber

14. • Sadece ehl-i beyt ve ehl-i beyt taraftarı olan sahabelerin rivayetlerini sünnet olarak benimserler.  
• Masum kabul edilen imamların söz ve fiillerini de "sünnet" olarak değerlendirebilirler.  
• Abdest sırasında çıplak ayağa mesh ederler.

**Bu bilgiler aşağıdaki mezheplerden hangisine aittir?**

- A) Şafilik
- B) Caferilik
- C) Malikilik
- D) Hanbelilik

15. 1664-1672 yılları arasında Hindistan'da, devletin Hanefî mezhebine göre hazırlattığı fetva kitabı aşağıdakilerden hangisidir?

- A) Mecelle
- B) el-Mebsût
- C) Fetava-yı Hindiyeye
- D) İslam Fıkıh Ansiklopedisi

16. Ehliyet sahibi bir kimseye din tarafından yöneltilen emir ve yasaklara "----", bunlarla sorumlu olan kişiye ise "----" denir.

**Tanımda boş bırakılan yerlere aşağıdaki sözcüklerden hangileri getirilmelidir?**

- A) temyiz - mümeyyiz
- B) içtihat - müçtehit
- C) fıkıh - fakih
- D) teklif - mükellef

17. Yedi yaşından küçük çocuklar ile akıl hastaları gayri mümeyyiz kabul edilirler. Bunların vücup ehliyeti tam olsa da edâ ehliyetleri yoktur. Bütün işlemlerinde veli kontrolü ve gözetimi altındadırlar. Alış-veriş, adak, yemin, bağış vs. gibi işlemleri geçersizdir.

**Bu durum aşağıdaki dönemlerden hangisi ile isimlendirilir?**

- A) Temyiz öncesi
- B) Temyiz
- C) Bulûğ
- D) Rüşt

18. Allah bir kimseyi ancak gücü ölçüsünde mükellef kılar.

**Bu hadis ile İslam dininin aşağıdaki özelliklerinden hangisi vurgulanmaktadır?**

- A) Son din olması
- B) Evrensel olması
- C) Tevhit dini olması
- D) Kolaylık dini olması

19. "Bir kimsenin razı olmayacağı ve kendi iradesi ile yapmayı tercih etmeyeceği bir işi gerçekleştirmek zorunda bırakılması" aşağıdaki kavramlardan hangisi ile ifade edilir?

- A) Ehliyet
- B) İkraha
- C) Sefâhet
- D) Mekruh

20. Mükellefin yapıp yapmamakta serbest olduğu fiillere "mübah" denir.

**Buna göre aşağıdakilerden hangisi mübah olan fiillerdendir?**

- A) Başkasının malını izinsiz almak
- B) Yemeğe besmele ile başlamak
- C) Yürüyüş yapmak
- D) Ticaretle dürüst olmak

### (532) SEÇMELİ PEYGAMBERİMİZİN HAY. – 2

1. Hz. Peygamber'in kendisine vahyedilen ilahi mesajları insanlara iletmesine ne ad verilir?

- A) Biat
- B) Vahiy
- C) Tevhit
- D) Tebliğ

2. Aşağıdakilerden hangisi İslam'ın ilk eğitim-öğretim merkezi olarak kabul edilir?

- A) Beytü'l-Hikme
- B) Dârü'l-Erkam
- C) Mescid-i Nebi
- D) Suffe

3. Hz. Peygamber'i görmüş, iman etmiş, onun sohbetinde bulunmuş ve Müslüman olarak vefat eden kimselere ne ad verilir?

- A) Ehl-i beyt
- B) Tabiin
- C) Sahabe
- D) Hanif

4. Allah sizin dış görünüşünüze ve mallarınıza bakmaz ama o sizin kalplerinize ve işlerinize bakar.

**Bu hadiste aşağıdakilerden hangisi vurgulanmaktadır?**

- A) Samimiyet
- B) Dayanışma
- C) Beraberlik
- D) Sabır

5. Mekkeli müşriklerin İslam'ı reddetmelerinde aşağıdakilerden hangisinin etkili olduğu söylenemez?

- A) Atalarından gördüklerine körü körüne bağlı olmaları
- B) Geçimlerini ticaret ve hayvancılık ile sağlıyor olmaları
- C) Putperestliği kendileri için bir yaşam tarzı haline getirmeleri
- D) Mekke'yi kendi arzu ve menfaatlerine göre yönetme istekleri

6. Aşağıdakilerden hangisi Hz. Ebubekir'in çabası ile Müslüman olanlardan biri değildir?

- A) Halid b. Velid
- B) Osman b. Affan
- C) Sa'd b. Ebi Vakkas
- D) Talha b. Ubeydullah

7. Müslümanların Habesistan'a hicretinde orada kral olan kişi aşağıdakilerden hangisidir?

- A) Ebrehe
- B) Herakliyus
- C) Ashame
- D) Hürmüz

8. • Hz. Peygamber'den birkaç yaş büyüktür.  
• Hz. Peygamber'in amcası ve süt kardeşidir.  
• Nübüvvetin 6. yılında Müslüman olmuştur.

**Hakkında bilgi verilen sahabe aşağıdakilerden hangisidir?**

- A) Hz. Ali
- B) Hz. Ömer
- C) Hz. Abbas
- D) Hz. Hamza

9. Mekkeli müşrikler tarafından Müslümanlara uygulanan boykot kaç yıl sürmüştür?

- A) 1
- B) 3
- C) 5
- D) 7

## 1. OTURUM

10. Aşağıdakilerden hangisi hicrette Hz. Peygamber'e kılavuzluk yapmıştır?

- A) Abdullah b. Uraykıt
- B) Halid bin Velid
- C) Selman-ı Farisi
- D) Ebu Hüreyre

11. Aşağıdakilerden hangisi Medine'ye hicretin sonuçlarından biri değildir?

- A) Evs ve Hazrec arasında devam eden husumetin yerini kardeşliğin alması
- B) Medine'nin, İslam'ı yaymak için önemli bir stratejik konuma gelmesi
- C) Kâbe'nin müşriklerce dini ve ticaret merkezi olarak kabul edilmesi
- D) Medine'de Yahudilerin ekonomik üstünlüklerinin sona ermesi

12. Hz. Peygamber hicretin yedinci ayında muhacirler ile ensarı, Enes bin Malik'in evinde toplamış ve aralarında bir kardeşlik bağı kurmuştur.

**Bu durum aşağıdakilerden hangisi ile isimlendirilmiştir?**

- A) Medine Sözleşmesi
- B) II. Akabe Biati
- C) Rıdvan Biati
- D) Muâhât

13. Müslümanların Mekke müşriklerle yaptıkları ilk savaş aşağıdakilerden hangisidir?

- A) Hendek
- B) Uhud
- C) Bedir
- D) Hamra'ül-Esed

14. Uhud Savaşı'nda Mekke müşriklerin komutanı aşağıdakilerden hangisidir?

- A) Ebu Cehil
- B) Ebu Süfyan
- C) Velit bin Utbe
- D) Utbe b. Rebia

15. Hz. Peygamber'in İslam'ı öğretmek için gönderdiği öğretmen topluluklarına yapılan saldırılar aşağıdakilerden hangisi ile isimlendirilir?

- A) Recî ve Bi'r-i Maune Olayları
- B) Huneyn-Evtas Savaşları
- C) Kureyzaoğulları Olayı
- D) Ficar Savaşları

16. Nuaym bin Mesut İslamiyet'i kabul ederek Müslümanların safına geçti. Hz. Peygamber, ondan Müslüman olduğunu gizli tutmasını, Yahudi ve müşrikleri birbirine düşürerek aralarındaki ittifakı bozmasını istedi. Böylece Müslümanları bir tehlikeden kurtarmış oldu.

**Bu durum aşağıdaki savaşların hangisinde gerçekleşmiştir?**

- A) Mute
- B) Huneyn
- C) Hayber
- D) Hendek

17. Aşağıdaki ibadetlerden hangisi Mekke döneminde farz kılınmıştır?

- A) Namaz
- B) Zekât
- C) Oruç
- D) Hac

18. Müslüman olmadığı hâlde, Müslüman gibi görünen kişiyi ifade eden kavram aşağıdakilerden hangisidir?

- A) Kâfir
- B) Mürtet
- C) Müşrik
- D) Münafık

19. Aşağıdaki savaşlardan hangisi Müslümanlar ile Hristiyanlar arasında yapılmıştır?

- A) Müreyysi
- B) Huneyn
- C) Mute
- D) Taif

20. Aşağıdakilerden hangisi Medine'de yaşayan Yahudi kabilelerinden biri değildir?

- A) Nadiroğulları
- B) Neccaroğulları
- C) Kureyzaoğulları
- D) Kaynukaoğulları

### (544) TÜRK DİLİ VE EDEBİYATI – 4

1. Taaşuk-u Talat ve Fitnat'ın Türk edebiyatı açısından önemi aşağıdakilerden hangisidir?

- A) İlk yerli romandır.
- B) İlk psikolojik romandır.
- C) İlk tarihî romandır.
- D) İlk çeviri romandır.

2. Aşağıdakilerin hangisinde birinci kişili anlatım (kahraman anlatıcı) kullanılmıştır?

- A) Kaan, korunmasını bilen bir iş adamıydı. Belirsiz kurullarla yönetilen bu şirkete her girişinde, ürkütülmemesi gereken kişilerin aşırı davranışlarına hiç şaşırılmazdı.
- B) Yusuf babasıyla beraber eve dönerken sokaklarda davullar, zurnalar çalınıyor; kahvelerin önünde kalabalık gruplar hararetle bir şeyler konuşuyor, alay hâlinde insanlar geçiyordu.
- C) Fakültede bilmem hangi koğuşun muavin odasındayım. İki karyola, ortada yeşil bir masa, üstünde sürahi ve kitaplar... Duvarda bir elektrik zili... Mithat Bey "Ne yazıyorsun?" diye bana sordu.
- D) Öğleden sonra salonda, yerlerinde oturmuş gazete okurlarken kapı açıldı. Baktılar. Bavulları almaya gelen adamdı. Askıdan anahtarı alıp yukarıya çıkardı adamı.

3. • Klasisizme tepki olarak ortaya çıkmıştır.

- Aklı ve sağduyuyu ön plana çıkarır.
- İnsan ideal yönleriyle değil; iyi, kötü, çirkin yönleriyle ele alınır.

"Romantizm akımı" açısından bu cümleler doğru-yanlış olarak değerlendirildiğinde sıralama aşağıdakilerden hangisi olur?

- A) D – Y – D
- B) D – D – Y
- C) Y – Y – D
- D) Y – D – Y

4. Aşağıdaki sanatçılardan hangisi realizm akımının temsilcisi değildir?

- A) Balzac
- B) Tolstoy
- C) Dostoyevski
- D) Victor Hugo

5. Servetifünun Dönemi romancılarındandır. Cumhuriyet Dönemi'nde bazı dergiler çıkarmıştır. İlk hikâyesi, on altı yaşındayken, Halit Ziya'nın İzmir'de çıkardığı gazetede basılmıştır. Daha sonra İstanbul'da Mektep dergisinde yazmaya başlamıştır. Mensur şiir, hikâye, roman ve tiyatro türlerinde otuzdan fazla eseri vardır. Ona büyük şöhret kazandıran eseri "Eylül" adlı romanıdır.

**Bu parçada sözü edilen yazar aşağıdakilerden hangisidir?**

- A) Mehmet Rauf
- B) Şemsettin Sami
- C) Nabizade Nazım
- D) Ahmet Mithat Efendi

# 1. OTURUM

6. (I) Kapıyı iterek girdi içeri fakat daha fazla ilerlemeden eşikte durdu. (II) Heybesini sırtına atmıştı. (III) Elinde sopası, gözlerinde korkunç bir ifade; tüyler ürpertici bir görüntüye sahipti. (IV) Madam Magluvar ürpererek olduğu yerde kalakaldı.

**Bu parçadaki numaralanmış cümlelerden hangisi fiil cümlesi değildir?**

- A) I. B) II. C) III. D) IV.

7. **Aşağıdakilerden hangisi Millî Edebiyat Dönemi Türk romanının genel özelliklerinden değildir?**

- A) Eserlerde gözlem önemli bir yer tutar.  
B) Roman ve hikâyeler teknik açıdan başarısızdır.  
C) Konuşma diline yakın sade bir dil kullanılmıştır.  
D) Mekân olarak Anadolu tercih edilir.

8. • Yazılı bir metne dayanmaz.  
• Güldürü ögesi ön plandadır.  
• Belirli bir tiyatro sahnesinde sergilenir.

“Geleneksel tiyatro” açısından bu cümleler doğru-yanlış olarak değerlendirildiğinde sıralama aşağıdakilerden hangisi olur?

- A) D – Y – D B) Y – D – D  
C) Y – Y – D D) D – D – Y

9. Müştak Bey, Avrupai davranışları ve kıyafetleriyle mahallelinin ilgisini çeken, şair ruhlu bir gençtir. Kumru Hanım ile evlenmek ister. Ancak Kumru Hanım'ın Sakine adında çirkin bir ablası vardır. Kız tarafı, hile yoluyla Müştak Bey'e sevdiği küçük kızı değil evin büyük kızını vermek ister. Müştak Bey gelinin Kumru değil de ablası olduğunu gördüğünde anlaşmazlık çıkar ancak Müştak Bey'in arkadaşı Hikmet Bey sorunu çözer. Müştak Bey'le Kumru Hanım evlenirler.

**Bu parçada özeti verilen eser aşağıdakilerden hangisidir?**

- A) Hastalık Hastası  
B) Zavallı Çocuk  
C) Şair Evlenmesi  
D) Vuslat

10. **Aşağıdaki cümlelerden hangisi anlamına göre olumludur?**

- A) Özlemem kötü günümde yanımda olmayanı.  
B) Söylediğin türküler bizim türkülerimiz değil.  
C) Köyün ihtiyar kadınları ateşin etrafında toplandı.  
D) İçimde en ufak bir ümit dahi yok.

11. **Semai**

O nühüfte gamzelerden bunu kim reca ederdi  
Bu nigah-i aşına'i eden iktiza iderdi  
Gice gördüm encümünde bün-ü nahl-i nar-evende  
Ki rakib ile çemende Çelebim sam iderdi

Hacivat daha sonra bir de perde gazeli söyler:

Gel ey zahid kenar-i bezm-i irfanda mekîtal anla.  
Hakikattir sözü ariflerin guş et meal anla (...)

**Bu parça Karagöz oyununun hangi bölümünden alınmış olabilir?**

- A) Muhavere B) Fasıl  
C) Bitiş D) Mukaddime

12. Tanzimat Dönemi'nin “en gür sesli vatan şairi” olarak tanınmıştır. Gazel, kaside, murabba gibi eski nazım biçimleriyle kanun, vatan, hürriyet gibi konuları işlemiştir. Romantizm akımının etkisinde kalmıştır. Vatan Yahut Silistre, İntibah, Cezmi eserlerinden bazılarıdır.

**Bu parçada sözü edilen sanatçı aşağıdakilerden hangisidir?**

- A) Namık Kemal  
B) Halit Ziya Uşaklıgil  
C) Hüseyin Rahmi Gürpınar  
D) Yakup Kadri Karaosmanoğlu

13. **Aşağıdaki cümlelerden hangisinin sonuna farklı bir noktalama işareti getirilmelidir?**

- A) Vatan al bayrağın dalgalandığı yer değil midir  
B) Sular mı yandı, neden tunca benziyor mermer  
C) Hani ardında çil çil kubbeler serpen ordu  
D) İnsan, üç beş damla kan; ırmak üç beş damla su

14. **Aşağıdaki cümlelerden hangisi birleşik yapıdır?**

- A) Yalın ayaklarıyla koştu mu tarla tarla?  
B) Bir bestenin engin sesi yükseldi Boğazdan.  
C) Bir kömür dumanıyla tütsülendi akşamlar.  
D) Yaşanmamış bir ömrün suçunu sorma benden.

15. İlk günlerde idi. Sonraki teklifsizlik ve samimiyet daha pek hâsıl olmadığından Servet-i Fünûn'a her gün gitmiyor ve gittiğim zamanlar çok kalmıyordum. O günlerde Cenap'la beraber Cahit ve Cavit'in terk ettiği Mektep risalesinde çalışıyorduk. Şimdiki ajans binasının üst katında bir odada bulunan idarehanede haftada üç dört gün buluşur, orada yazı ve tashih işlerini bitirdikten sonra beraberce Servet-i Fünûn'a giderdik.

**Bu parçanın türü aşağıdakilerden hangisidir?**

- A) Anı B) Gezi yazısı  
C) Günlük D) Biyografi

16. **KAVUKLU** — Hay Allah müstehakını versin. Anahtar hırsız girmesin diye dir. Hırsız kolaylık vermek için değil.

**PİŞEKÂR** — (Arkalardan) Hay gidi... Anahtarlarını kaybetmişler, kilitti kalmışlar.

**KAVUKLU** — (Ses gelen tarafa dönerek) Senin çenen amma açık kalmış. Siz çilingir misiniz?

**PİŞEKÂR** — Hayır efendim. Ben bu mahallenin muhtarım. Bir müşkülünüz mü var?

**Bu parça aşağıdaki türlerin hangisinden alınmıştır?**

- A) Karagöz  
B) Orta oyunu  
C) Meddah  
D) Köy seyirlik oyunu

# 1. OTURUM

## (547) TÜRK DİLİ VE EDEBİYATI – 7

17. • Gazetelerin birinci sayfalarındaki logonun üzerinde kullanılan başlık  
• Basın ve yayın organlarına haber toplayan, bildiren veya yayan kişi  
• Basın ve yayın organlarında çıkan bazı haberlerin yalan olduğuna dair yapılan açıklama, yalanlama

**Bu tanımlar aşağıdaki kavramlarla eşleştirildiğinde hangisi boşta kalır?**

- A) Tiraj                      B) Sürmanşet  
C) Muhabir                  D) Tekzip

18. Hindistan'ın kuzeydoğusunda görülen şiddetli yağışlar yüzünden 700 bin kişi evlerini terk etmek zorunda kaldı. Dokuz ayrı ekip, selden etkilenen bölgelerde 15 bin paket kuru gıda dağıttı.

**Bu haber yazısında aşağıdaki sorulardan hangisinin cevabı bulunmamaktadır?**

- A) Neden                      B) Ne zaman  
C) Nerede                      D) Kim

19. Dünya edebiyatının en önemli seyahatnameleri arasında 13. yüzyılda yayımlanmış Marco Polo'nun ve 14. yüzyılda yaşamış Arap gezgin İbn-i Batuta'nın seyahatnameleri gelir. Türkçe yazılan ilk gezi kitabı, Seydi Ali Reis'in - - - - adlı eseridir.

**Bu parçada boş bırakılan yere aşağıdakilerden hangisi getirilmelidir?**

- A) Hac Yolunda  
B) Seyahatname  
C) Miratü'l Memalik  
D) Defter-i Amal

20. Aşağıdaki eserlerden hangisi gezi yazısı türündedir?

- A) Kırk Yıl  
B) Ömer'in Çocukluğu  
C) Mor Salkımlı Ev  
D) Anadolu Notları

1. Sanatçıların, felsefeden içerik bakımından yararlanmaları edebî eserleri hiçbir zaman felsefi eser yapmaz. Edebî ve felsefi eserler birtakım ortak noktaları olmasına rağmen konuyu ele alış amaçları, dili kullanmaları ve dayandıkları temel özellikler bakımından birbirinden ayrılır.

**Aşağıdakilerden hangisi bu parçadaki altı çizili ifadeyle ilişkilendirilebilir?**

- A) Edebî eserlerde dil sanatsal işlevde kullanılır. Felsefi eserlerde ise dil göndergesel işlevde kullanılır.  
B) Edebî eserlerde kelimeler, yan anlam ve mecaz anlamda kullanılır. Felsefi eserlerde ise kelimeler, gerçek anlamda kullanılır.  
C) Edebî eserlerde sanatlı bir söyleyiş ve kapalı bir anlatım vardır. Felsefi eserlerde ise dil ve anlatım olabildiğince açık ve açıklayıcıdır.  
D) Edebî eserlerin amacı okuyucuda güzellik duygusu uyandırmaktır. Felsefi eserlerin amacı ise varlık ve evren gibi konularda sistematik bir düşünce ortaya koymaktır.

2. Türkçenin bilinen ilk sözlüğü aşağıdakilerden hangisidir?

- A) Kamus-ı Türkî  
B) Lehçe-i Osmanî  
C) Divanü Lûgati't-Türk  
D) Derleme Sözlüğü

3. • Sözcüklerin tanımları ve okunuşları hakkında bilgi verir.  
• Kelimelerin uzak ve yakın, gerçek ve mecaz bütün anlamlarını örnekleriyle ortaya koyar.  
• Dilde geçen bütün söz varlıkları hakkında eleştiriler getirir.  
"Sözlükler" ile ilgili bu cümleler **doğru-yanlış olarak değerlendirildiğinde sıralama aşağıdakilerden hangisi olur?**

- A) D – D – Y                  B) D – Y – D  
C) Y – D – Y                  D) Y – Y – D

4. Tepemizdeki çınarın yaprakları, ılık bir rüzgârla tatlı tatlı mırıldanıyordu.

**Bu cümledeki numaralanmış sözcüklerden hangisi mecaz anlamıyla kullanılmıştır?**

- A) I.                      B) II.                      C) III.                      D) IV.

5. Bilim, sanat veya meslek dalıyla ilgili bir kavramı karşılayan sözcüklere terim denir.

**Buna göre aşağıdaki altı çizili sözcüklerden hangisi terim anlamı değildir?**

- A) Sabahki derste üçgenleri işledik.  
B) Annem evdeki perdeleri makineye atmış.  
C) Bu dörtlükte tam kafiye ve redif vardır.  
D) Ahmet, maçta penaltıyı atamadı.

6. Hışırtilı plakların çalındığı,

Çamurlu bir çarşının ortasında, sen bütün insanlıksız kalmayı bilir misin? Bir kişisizken. Bir sıfır... Bir sıfır çöreklenmiş, yüreğine.

**Bu dizelerdeki numaralanmış sözcüklerden hangisi soyut anlamda kullanılmıştır?**

- A) I.                      B) II.                      C) III.                      D) IV.

7. Aşağıdaki cümlelerden hangisi diğerlerine göre daha genel anlamlıdır?

- A) Dil yaşayan bir varlık olarak değişmeye muhtaçtır.  
B) Yazar, bu konuyu kitabında yeterince irdelemiş.  
C) Bu masalda hem fayda hem de sanat gözetilmiştir.  
D) Ahmet okula gitmek için sabah erkenden uyandı.

8. Aşağıdakilerden hangisi sunum öncesinde yapılması gerekenlerden değildir?

- A) Okunaklı ve yüksek kaliteli görsel ve işitsel materyaller hazırlanmalıdır.  
B) Konuyla ilgili bilgi sahibi olunmalıdır.  
C) Hazırlanan konuşma metni üzerinden prova yapılmalıdır.  
D) Anlatımda konuşma kurallarına dikkat edilmelidir.

# 1. OTURUM

9. Aşağıdakilerden hangisi bireyin iç dünyasını anlatmayı amaçlayan hikâyelerin özelliklerinden değildir?

- A) Bunalımlara ve iç çatışmalara yer verilir.  
B) Dış dünya olduğu gibi anlatılır.  
C) Anlatımda bilinç akışı ve iç monolog teknikleri kullanılır.  
D) Kahramanların iç dünyası, tüm gerçekliğiyle yansıtılır.

10. 1970'li yıllardan itibaren modern hikâyeye birlikte postmodern hikâyeler yazılmaya başlanmıştır.

**Aşağıdakilerden hangisi bu türde eser vermemiştir?**

- A) Sezai Karakoç B) Oğuz Atay  
C) Yusuf Atılgan D) Nazlı Eray

11. Aşağıdakilerden hangisi 1980 sonrası Türk hikâyeciliğinin özelliklerindedir?

- A) Postmodernizmin anlatım imkânlarından yararlanılmıştır.  
B) Toplumsal konular işlenmiştir.  
C) Hikâyelerde gerçekçi bir dil kullanılmıştır.  
D) Hikâyede ortak bir sanat anlayışıyla hareket edilmiştir.

12. Aşağıdaki dizelerin hangisinde zıt anlamlı sözcükler vardır?

- A) Ne büyüksün ki kanın kurtarıyor  
tevhîd'i  
Bedr'in arslanları ancak, bu kadar  
şanlı idi...  
B) O çay ağır akar, yorgun mu bil-  
mem?  
Mehtabı hasta mı, solgun mu  
bilmem?  
C) Akşam, yine akşam, yine akşam  
Göllerde bu dem bir kamış olsam  
D) Artık demir almak günü gelmişse  
zamandan,  
Meçhûle giden bir gemi kalkar bu  
limandan.

13. Aşağıdakilerden hangisi "biçim" sözcüğünün anlamdaşdır?

- A) Okul B) Yanıt  
C) Şekil D) Sene

14. Kararmış kara gözler,  
Dermanım kara gözler  
Gemim deryada kaldı  
Yelkenim kara gözler

**Aşağıdakilerden hangisi bu dizelerdeki altı çizili sözcüklerden birinin zıt anlamlısıdır?**

- A) Beyaz B) Deniz  
C) Görmek D) Çare

15. Aşağıdakilerin hangisinde birden fazla nicel anlamlı sözcük vardır?

- A) Nermin Hanım'a gidip bir sorayım, eğer portakala ihtiyaçları varsa benden alsın.  
B) Ben sırf sana söz verdiğim için ikinci defa çıktım şu merdivenleri.  
C) Satıcı, balkondan seslenen adama "Yirmi üç kilo, iki bin liradan kırk altı eder." dedi.  
D) Yusuf, bu sözün bir çırpıda nasıl ağzından çıktığına şaştı.

16. Hasan Özçakar, ıssız günlerinden birinde, boyu yararsız ve dural anların yüküyle daha ufalmış, yürümeyi unutmuş kollar ve bacaklarla oturuyordu. Öyle bir şeyi bir şeye bağlamayan bir zaman aralığında. Sonra elleri, bir durumdan başka bir duruma geçmeye yarayan özelliklerini hazırladı ve o uzanıp aldığı gazetedeki ilânı görünce gözlerine inanamadı.

**Bu parçada hikâyeye unsurlarından hangisi yoktur?**

- A) Zaman B) Mekân  
C) Kişi D) Olay

17. Ne zaman seni düşünsem  
Bir ceylan su içmeye iner  
Çayırıları büyürken görürüm  
Seni düşündükçe  
Gül dikiyorum elimin değdiği yere  
Atlara su veriyorum  
Daha bir seviyorum dağları

**Bu dizelere hâkim olan tema aşağıdakilerden hangisidir?**

- A) Korku B) Aşk  
C) Yalnızlık D) Ölüm

18. Aşağıdakilerden hangisi saf şiir anlayışının önemli temsilcilerinden değildir?

- A) Necip Fazıl Kısakürek  
B) Cahit Sıtkı Tarancı  
C) Halid Ziya Uşaklıgil  
D) Ahmet Muhip Dıranas

19. Aşağıdakilerden hangisi toplumcu gerçekçi şairlerin ortak özelliklerinden değildir?

- A) Şiirlerini serbest nazımla yazmışlardır.  
B) Eserlerini "sanat için sanat" ilkesiyle vermişlerdir.  
C) Şiirde biçimden çok içeriği önemsemişlerdir.  
D) Gelecekçilik (fütürizm) akımından etkilenmişlerdir.

20. "Garip (Oktay Rifat ve Melih Cevdet'le birlikte), Vazgeçemediğim, Destan Gibi, Yenisi" adlı eserler aşağıdaki sanatçılardan hangisine aittir?

- A) Rifat Ilgaz  
B) Nazım Hikmet  
C) Orhan Veli Kanık  
D) Ziya Osman Saba

## (548) TÜRK DİLİ VE EDEBİYATI – 8

1. "Huzur" adlı roman aşağıdaki sanatçılardan hangisine aittir?

- A) Ahmet Hamdi Tanpınar  
B) Necip Fazıl Kısakürek  
C) Orhan Veli Kanık  
D) Yakup Kadri Karaosmanoğlu

2. • Kemal Tahir  
• Orhan Kemal  
• Yaşar Kemal  
• Talip Apaydın

**Bu sanatçılar aşağıdaki anlayışlardan hangisinin temsilcileridir?**

- A) Modernizmi esas alan  
B) Toplumcu gerçekçi  
C) Gelenekçi  
D) Bireyin iç dünyasını esas alan

3. Sabahattin Ali; 1937'de yayımladığı Kuyucaklı Yusuf'ta, bir Anadolu kasabasını, bütün insani, ekonomik ve sosyal gerçekliğiyle ele alarak ezilen köylüleri ve toplumsal yapının aksayan yönlerini anlatır.

**Bu parçada sözü edilen eserin türü aşağıdakilerden hangisidir?**

- A) Şiir B) Tiyatro  
C) Hikâye D) Roman

# 1. OTURUM

## 4. Aşağıdakilerin hangisinde I. tekil kişili anlatım kullanılmıştır?

- A) O gece kapıyı tırmaladığını, beni çağırdığını duydum. Ses çıkarmadım. Ertesi gün kayboldu. Üç gün görünmedi.
- B) Bu ütü işi bir saat sürdü. Hepsi bitince ütülerini sıralamaya başladı. Kocasının gömleklerini koyarken kendi iç yeleği eline geçti.
- C) Evdekileri birer birer göz önünden geçirdi. Kimlerin köşkte olduğunu, kimlerin çıktığını biliyordu. Kardeşi dışarı çıkacak değildi.
- D) Kapıdan girdi. Dolaba doğru gidecekti; orada kanepenin üstüne yatmış, uyuyakalmış babasını gördü.

## 5. Halid Ziya ve Cenap Şehabettin ilk gençlik yıllarımda yanımdan ayırmadığım yazarlardı. Fakat itiraf edeyim benim baş ucu yazarım şiirde ve düzyazıda Baudelaire (Bodler) olmuştur.

### Bu parça aşağıdaki sorulardan hangisinin yanıtı olabilir?

- A) Edebiyata karşı ilginiz ne zaman başladı?
- B) Edebiyat denildiğinde aklınıza hangi tür gelmektedir?
- C) En çok hangi yazarları okudunuz ve hangilerinin etkisinde kaldınız?
- D) Sizce şairler toplumun her kesimine seslenmeli midir?

## 6. Atatürk Nutuk'ta, 19 Mayıs 1919'da Samsun'a çıktığında Anadolu'nun durumunun nasıl olduğundan bahseder.

### Bu cümlede;

- I. Kitap ve dergi isimleri büyük harfle başlar.
- II. Bağlaç olan "de" ayrı yazılır.
- III. Belirli bir tarih bildiren ay ve gün adları büyük harfle başlar.
- IV. Yer adları büyük harfle başlar.

### yazım kurallarından hangilerine uyulmamıştır?

- A) I ve II.                      B) I ve III.  
C) II ve III.                    D) III ve IV.

## 7. Dil, sözlüklerde belirtildiği gibi sıradan bir "iletişim aracı" değil insanları birbirine bağlayan, onların topluluk ve ulus olmasını sağlayan, zaman içinde farklı renk ve görünüm alan, kullanıldıkça güçlenen ve çözülmeyen bir bağıdır. Dil kimliği belirler, kimlik kültürü, kültür ise milleti... Milleti oluşturma gücüne sahip bulunan böylesine etkili bir unsurun kullanımı da varlığı kadar önemlidir.

### Bu parçadan dil ile ilgili aşağıdakilerden hangisine ulaşamaz?

- A) Milletleşmenin temel unsurlarındandır.
- B) İnsanları birleştiren kuvvetli bir yapıdır.
- C) Değişime açık, canlı bir varlıktır.
- D) Kullanımı varlığından daha önemlidir.

## 8. • Romanın kahramanlarından bazıları Santiago, Melkisedek ve Fatima'dır.

- Romadaki olaylar bir zamanlar İslam medeniyetinin önemli merkezlerinden olan Endülüs'ten başlayarak Fas üzerinden Mısır'a kadar uzanır.
- Başlangıcından sonuna kadar girift olan bir yolculuk alegorik bir üslupla anlatılmaktadır.

### Özellikleri verilen eser aşağıdakilerden hangisidir?

- A) Tutunamayanlar  
B) Simyacı  
C) Bir Bilim Adamının Romanı  
D) İstanbul Hatırası

## 9. 1980'lerde oyun yazarlığı nicelik ve nitelik açısından bir durgunluk yaşar. Türk tiyatrosunda önceki dönemlerde görülen coşkunluk bu yıllarda görülmez. Oyun yazarları 12 Eylül sonrasında dönemin siyasi koşullarından dolayı güncel olaylardan ve toplumsal sorunlardan uzaklaşarak eski hikâyeleri, masalları, Osmanlı tarihinden değişik olayları ve kahramanları, ünlü adamların hayat hikâyelerini ve bireysel konuları ele alırlar.

### Aşağıdakilerden hangisi bu dönemdeki önemli tiyatro yazarlarından değildir?

- A) Abdülhak Hamit Tarhan  
B) Refik Erduran  
C) Memet Baydur  
D) Güngör Dilmen

## 10. Kudüs'te doğmuştur. İstanbul Üniversitesi Edebiyat Fakültesi Felsefe Bölümünü bitirmiştir. Çeşitli mesleklerde çalışan sanatçı eserlerini, kaynağını yerli ve millî unsurlardan alan Batılı bir teknik ve anlayışla kaleme almıştır. Geleneksel tiyatromuzdan esinlenerek yazdığı "Köşebaşı" ile edebiyat dünyasında tanınmıştır.

### Bu parçada sözü edilen sanatçı aşağıdakilerden hangisidir?

- A) Atilla İlhan  
B) Faruk Nafiz Çamlıbel  
C) Ayşe Kulin  
D) Ahmet Kutsi Tecer

## 11. Tabiat ile hayat, insanoğlunun şekil vererek güzel ve faydalı eserler vücuda getirebileceği muazzam bir malzeme deposudur. Resim mi yapmak istiyorsunuz? Dünyada renkten ve boyadan çok ne vardır? Hakiki bir ressam konu bakımından da sıkıntı çekmez. Bütün tabiat ve hayat işlenecek konu ile doludur.

### Bu parça aşağıdaki metnin hangisinden alınmıştır?

- A) Deneme                      B) Anı  
C) Otobiyografi                D) Makale

## 12. Gücü kalmayan Gülsarı yolda sürekli durup dinlenir ancak bir süre sonra bir adım daha ilerleyemez. Tanabay, atı arabadan çözer, dizgininden çekerek birlikte ağır ağır ilerlemeye başlar. Tanabay, atıyla ilgili, yıllar boyu süren olayları yol boyunca düşüne düşünür. Gülsarı duraklayınca Tanabay da durur, at yeniden güçlenip yürüyünceye dek bekler.

### Bu parçada kullanılan anlatım türü aşağıdakilerden hangisidir?

- A) Açıklayıcı                      B) Betimleyici  
C) Tartışmacı                    D) Öyküleyici

## 1. OTURUM

13. Bir kumsalda uyandım. Omuzlarım ağrıyordu, bacaklarım uyuşmuştu. Güçlülükle ayağa kalktım. Rüzgâr çıkmıştı gene. Denize bakındım: Görünürlerde yoktu tekne. Elimi kolumu oynatıp kendime gelmeye çalıştım. İleriye baktım sonra. Alabildiğine uzanıyordu kumsal.

**Bu parça ile ilgili,**

- I. Dil göndergesel işlevde kullanılmıştır.
- II. Öyküleyici anlatıma yer verilmiştir.
- III. Bir sanat metninden alınmıştır.
- IV. Kişi, olay, yer ve zaman unsurları vardır.

**İfadelerinden hangileri söylenebilir?**

- A) I ve III.                      B) I ve IV.  
C) II ve III.                      D) II ve IV.

14. • Her konuda yazılabilir.

- Ele alınan konuların ispatlanma zorunluluğu yoktur.
- Bir düşünce yazısıdır.
- Bu türün ilk örneklerini Montaigne vermiştir.

**Verilen bilgiler aşağıdaki metin türlerinden hangisine aittir?**

- A) Söylev                      B) Makale  
C) Biyografi                      D) Deneme

15. Sanatta, ilimde, politikada ve başka dallarda tanınmış kimselerin hayatlarını anlatan eserlere - - - - denir.

**Bu cümlede boş bırakılan yere aşağıdakilerden hangisi getirilmelidir?**

- A) anı                      B) masal  
C) biyografi                      D) hikâye

16. Ankara Kalesi, telsiz direkleri ve bir tünel ( ) Yarım dakika karanlık. Ankara geride kaldı ( ) Bu yol ( ) bütün bozkırı geçer ( ) Karadeniz'e dek ulaşır.

**Bu parçada yay ayrıçla gösterilen yerlere sırasıyla aşağıdaki noktalama işaretlerinden hangileri getirilmelidir?**

- A) (...) (.) (: ) (.)      B) (...) (: ) (! ) (.)  
C) (.) (.) (? ) (.)      D) (.) (: ) (.) (.)

17. **OSMAN:** Göze almak gerek. Bir var ki hiç aklımdan çıkmıyor şu gördüğüm düş.

**DİLAVER:** Üsküdar Şeyhi Aziz Mahmut Hüdâi Efendi nasıl yorumlar bu düşü, padişahım? Kendisinden cevap geldi mi?

**OSMAN:** Hac seferinden vazgeçilsin der. Kopacak bir fitnenin habercisiymiş bu düş.

**DİLAVER:** Ermiş, derin görüşlü bir kişi olarak bilinin şeyh; yarıldığı hiç görülmemiştir.

**Bu parça aşağıdaki tiyatro türlerinin hangisinden alınmış olabilir?**

- A) Komedi                      B) Trajedi  
C) Orta oyunu                      D) Meddah

18. (I) Göktürk Yazıtları, 8. yy.da yazılmıştır. (II) Bu yazıtlar, Türklerin ilk tarihî belgesi ve aynı zamanda yazılı ilk edebî eserleri olarak kabul edilir. (III) Bu kitabeler Tonyukuk ve Kül Tigin olmak üzere iki devlet adamı adına dikilmiştir. (IV) Siyaset, tarih, coğrafya ve edebiyata ait birçok bilgi içeren kitabeler yabancı etkilerden uzak ve yalın bir Türkçeyle yazılmıştır.

**Bu parçadaki numaralanmış cümlelerin hangisinde bilgi yanlışlığı vardır?**

- A) I.      B) II.      C) III.      D) IV.

19. I. Bu durumun belirlenmesinde dil kuralları kadar yapı ve kurgu, iç ve dış bağlam da rol oynar.

II. Zaten kalıcı müzik yapıtları; insan yaşamını en gerçekçi olarak anlatan, yaşama bağları en yoğun olarak kurulmuş olanlarıdır.

III. Bilim, bir davranış biçimi hâlinde yürütülen etkinliklerin oluşturduğu bütündür.

IV. İkisini zihninde karşılaştırdığı için yeni bir edebiyat tarzı ve tarihî eleştiri metodu ortaya çıkarmıştır.

**Numaralanmış ifadelerden hangisi bir paragrafın ilk cümlesi olabilir?**

- A) I.      B) II.      C) III.      D) IV.

20. Türk Milleti!

Kurtuluş Savaşı'na başladığımızın on beşinci yılındayız. Bugün Cumhuriyetimizin onuncu yılını doldurduğu, en büyük bayramdır. Kutlu olsun!

Bu anda büyük Türk milletinin bir ferdi olarak bu kutlu güne kavuşmanın en derin sevinci ve heyecanı içindeyiz.

**Bu parça aşağıdaki nutuk türlerinin hangisinden alınmış olabilir?**

- A) Dinî                      B) Siyasi  
C) Akademik                      D) Askerî

### (609) SEÇMELİ MATEMATİK – 2

1. 
$$\left. \begin{array}{l} x + y = 4 \\ x^2 + 2xy = 12 \end{array} \right\} \text{denklem sistemi-}$$

**nin çözüm kümesi aşağıdakilerden hangisidir?**

- A)  $\{(2, 2), (6, 2)\}$   
B)  $\{(2, 2), (6, -2)\}$   
C)  $\{(2, -2), (6, 2)\}$   
D)  $\{(2, -2), (6, -2)\}$

2.  $a - b = 8$  ve  $a^2 - b^2 = 6$  olduğuna göre  $a$  kaçtır?

- A)  $\frac{35}{8}$       B)  $\frac{9}{2}$       C)  $\frac{19}{4}$       D) 5

3.  $x^2 - 6x - 7 < 0$  eşitsizliğinin çözüm kümesi aşağıdakilerden hangisidir?

- A)  $(-\infty, -1) \cup (7, \infty)$   
B)  $(-1, 7)$   
C)  $(-\infty, 7)$   
D)  $(-1, \infty)$

4.  $f(x) = x^2 + 4x$  ve  $g(x) = 14x - 16$  fonksiyonları için  $g(x) \geq f(x)$  eşitsizliğini sağlayan kaç farklı  $x$  tam sayısı vardır?

- A) 4      B) 5      C) 6      D) 7

5.  $(x^2 - 3x + 2)(x^2 - 4) < 0$  eşitsizliğinin çözüm kümesi aşağıdakilerden hangisidir?

- A)  $(2, \infty)$                       B)  $(1, 2)$   
C)  $(-2, 1)$                       D)  $(-\infty, -2)$



# 1. OTURUM

6.  $x^2 + 5x + a \leq 0$  eşitsizliğinin çözüm kümesi  $\{ \}$  olduğuna göre a'nın alabileceği en küçük tam sayı değeri kaçtır?

- A) 7 B) 6 C) 5 D) 4

7.  $\frac{x(2-x)}{(-x+5)^2} > 0$  eşitsizliğinin çözüm kümesindeki tam sayıların toplamı kaçtır?

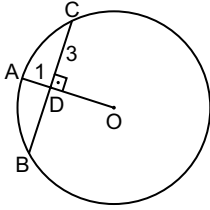
- A) 1 B) 2 C) 3 D) 4

8.  $\begin{cases} x^2 - 8x - 48 < 0 \\ 2x - 10 \geq 0 \end{cases}$  eşitsizlik sisteminin

çözüm kümesi aşağıdakilerden hangisidir?

- A)  $(-\infty, -4)$   
B)  $(-4, 5]$   
C)  $[5, 12)$   
D)  $(12, \infty)$

9.

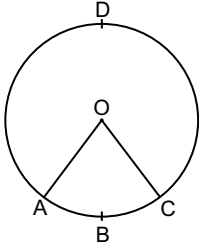


Şekildeki A, B, C noktaları O merkezli çember üzerinde ve  $[BC] \perp [OA]$ ,  $|DC| = 3$  cm,  $|AD| = 1$  cm'dir.

Buna göre  $|OD|$  kaç santimetredir?

- A) 2 B) 3 C) 4 D) 5

10.

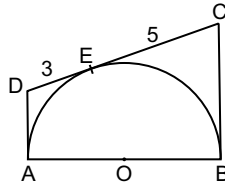


Şekildeki A, B, C, D noktaları O merkezli çember üzerinde ve  $m(\widehat{AOC}) = 5x + 10^\circ$ ,  $m(\widehat{ABC}) = 8x - 26^\circ$  dir.

Buna göre  $m(\widehat{ADC})$  kaç derecedir?

- A) 260 B) 270  
C) 280 D) 290

11.

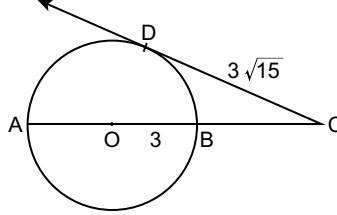


Şekildeki ABCD dörtgeni O merkezli yarım çembere A, B, E noktalarında teğet ve  $|DE| = 3$  cm,  $|EC| = 5$  cm'dir.

Buna göre  $|AO|$  kaç santimetredir?

- A)  $\sqrt{15}$  B) 4  
C)  $3\sqrt{2}$  D) 5

12.

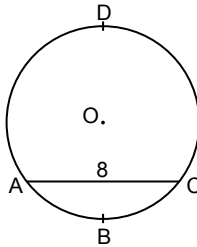


Şekilde  $[CD]$ , O merkezli çembere D noktasında teğet ve  $|OB| = 3$  cm,  $|DC| = 3\sqrt{15}$  cm'dir.

Buna göre  $|AC|$  kaç santimetredir?

- A) 13 B) 14 C) 15 D) 16

13.

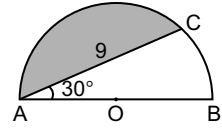


Şekildeki A, B, C, D noktaları O merkezli çember üzerinde ve  $m(\widehat{ABC}) = 90^\circ$ ,  $|AC| = 8$  cm'dir.

Buna göre  $|\widehat{ADC}|$  kaç santimetredir?

- A)  $5\sqrt{2}\pi$  B)  $6\sqrt{2}\pi$   
C)  $7\sqrt{2}\pi$  D)  $8\sqrt{2}\pi$

14.

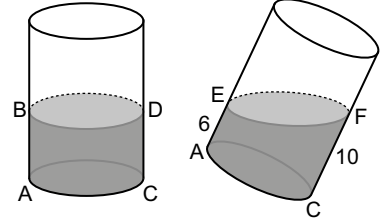


Şekildeki A, B, C noktaları O merkezli yarım çember üzerinde ve  $m(\widehat{CAB}) = 30^\circ$ ,  $|AC| = 9$  cm'dir.

Buna göre boyalı bölgenin alanı kaç santimetrekaredir? ( $\pi$  yerine 3 alınız.)

- A)  $54\sqrt{3}$  B)  $27\left(\frac{4+\sqrt{3}}{4}\right)$   
C)  $27\sqrt{3}$  D)  $27\left(\frac{4-\sqrt{3}}{4}\right)$

15.



Şekil I

Şekil II

İçinde bir miktar su bulunan Şekil I'deki dik silindir Şekil II'deki gibi eğik duruma getirilmiştir ve  $|AE| = 6$  cm,  $|CF| = 10$  cm'dir.

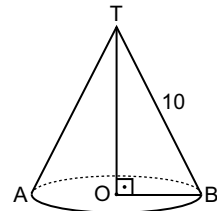
Buna göre  $|AB|$  kaç santimetredir?

- A) 8 B) 9 C) 10 D) 11

16. Bir dik silindirin yanal alanı  $260\pi$  cm<sup>2</sup> ve yüksekliği 13 cm olduğuna göre silindirin taban yarıçapının uzunluğu kaç santimetredir?

- A) 5 B) 10 C) 15 D) 20

17.



Şekildeki dik dairesel koninin yanal yüzeyinin alanı  $40\pi$  cm<sup>2</sup> ve  $|TB| = 10$  cm,  $[TO] \perp [OB]$ 'tir.

Buna göre  $|TO|$  kaç santimetredir?

- A)  $6\sqrt{2}$  B)  $4\sqrt{5}$   
C)  $2\sqrt{21}$  D)  $3\sqrt{10}$

## 1. OTURUM

18. Hacmi  $36\pi \text{ cm}^3$  olan kürenin yüzey alanı kaç santimetrekaredir?

- A)  $24\pi$  B)  $36\pi$   
C)  $48\pi$  D)  $60\pi$

19. İngilizce ve Almanca dillerinden en az birini konuşabilenlerin bulunduğu 30 kişilik bir turist kafesinde İngilizce konuşabilenlerin sayısı 22, Almanca konuşabilenlerin sayısı 20'dir.

**Bu kafileden rastgele seçilen bir kişinin Almanca konuşabildiği bilindiğine göre İngilizce konuşabilme olasılığı kaçtır?**

- A)  $\frac{1}{5}$  B)  $\frac{2}{5}$  C)  $\frac{3}{5}$  D)  $\frac{4}{5}$

20. E örnek uzayında A ve B olayları için  $P(A) = \frac{2}{3}$ ,  $P(B) = \frac{1}{4}$  ve

$P(A \cup B) = \frac{11}{12}$  olduğuna göre  $P(A \cap B)$  kaçtır?

- A)  $\frac{3}{4}$  B)  $\frac{2}{3}$  C)  $\frac{7}{12}$  D)  $\frac{1}{2}$

### (611) DİNLER TARİHİ – 1

1. Aşağıdaki kavramlardan hangisi Kur'an'ı Kerim'de din anlamında kullanılmıştır?

- A) Belde B) Karye  
C) Millet D) Ummül-Kura

2. "Din Tanrı'ya imandır." tanımını aşağıdaki disiplinlerden hangisi yapmaktadır?

- A) Teoloji B) Ahlak  
C) Felsefe D) Psikoloji

3. Mukayeseli dinler tarihi çalışmalarının ilki kabul edilen el-Milel ve'n-Nihal adlı eser aşağıdakilerden hangisine aittir?

- A) Gazâli B) Bîrûnî  
C) İbn-i Hazm D) Şehristânî

4. Aşağıdaki dinlerden hangisinin inananlarının sayısı diğerlerinden daha azdır?

- A) Hinduizm B) Yahudilik  
C) Sihizm D) Taoizm

5. Aşağıdaki dinlerden hangisi Hindistan'da ortaya çıkmıştır?

- A) Taoizm B) Konfüçyanizm  
C) Sihizm D) Mecusilik

6. İslam tarihi ile ilgili aşağıda verilen bilgilerden hangisi yanlıştır?

- A) 622 - Müşriklerle Bedir Savaşı  
B) 628 - Hudeybiye Barış Antlaşması  
C) 571 - Hz. Muhammed'in (sav) doğumu  
D) 610 - Hz. Muhammed'e (sav) ilk vahyin gelmesi

7. Dört halife dönemi ile ilgili aşağıdaki bilgilerden hangisi yanlıştır?

- A) İlk halife Hz. Ebu Bekir olmuştur.  
B) Fetihler Hz. Ali döneminde artmıştır.  
C) Seçilen üçüncü halife Hz. Osman'dır.  
D) Hulefa-i Raşidin dönemi olarak adlandırılır.

8. Benî Ahmer Emirliği'nin kurulduğu dönem ve yer aşağıdakilerin hangisidir?

- A) Abbasiler - Türkistan  
B) Selçuklular - Anadolu  
C) Emeviler - Hindistan  
D) Endülüs - İspanya

9. • Kur'anda iman esaslarından biri olarak açıkça bildirilmemesine rağmen birçok ayette değinilen bir konudur.  
• İslam âlimleri Cibril hadisinden hareketle bu konunun da iman şartlarından olduğunu kabul etmişlerdir.

**Hakkında bilgi verilen inanç esası aşağıdakilerden hangisidir?**

- A) Kadere iman  
B) Ahirete iman  
C) Meleklerle iman  
D) Peygamberlere iman

10. Aşağıdaki ayetlerden hangisi ahlakla doğrudan ilişkilendirilebilir?

- A) "(Allahım!) Yalnız sana ibadet ederiz ve yalnız senden yardım dileriz."

(Fatiha suresi, 5. ayet)

- B) "Onlar gaybe inanırlar, namazı dosdoğru kılarlar, kendilerine rızık olarak verdiğimizden de Allah yolunda harcarlar."

(Bakara suresi, 3. ayet)

- C) "Ey iman edenler! Bir topluluk bir diğerini alaya almasın. Belki onlar kendilerinden daha iyidirler..."

(Hucurât suresi, 11. ayet)

- D) "Kendilerine peygamber gönderilenlere mutlaka soracağız. Peygamberlere de elbette soracağız."

(Arâf suresi, 6. ayet)

11. Hac, imkânı olan Müslümanların zilhicce ayının 8, 9 ve 10. günlerinde Mekke'de bulunan Kâbe'yi ve diğer kutsal mekânları dini maksatla ziyaret etmesidir.

**Buna göre hac ibadeti ile ilgili olarak aşağıdakilerden hangisine ulaşılamaz?**

- A) Yerine getirilmesi için bazı şartlarının olduğuna  
B) Birden fazla mekânda gerçekleştiğine  
C) Kadın erkek herkesin yapabileceğine  
D) Ömürde bir kez yapılabileceğine

12. Aşağıdakilerden hangisi Kur'an'da ismi geçen dini gruplardan biri değildir?

- A) Mecusiler B) Budistler  
C) Sabiiler D) Yahudiler

13. Aşağıdakilerin hangisi Ehl-i kitabın Kur'an-ı Kerim'de kınandığı konulardan biri değildir?

- A) Emanete ihanet etmeleri  
B) Hakkı bâtıla karıştırmaları  
C) Kutsal kitaplarını tahrif etmeleri  
D) Önceki peygamberlere inanmaları

14. Yahudi tarihinde Hz. İbrahim'den Hz. Musa'ya kadar olan döneme ne ad verilir?

- A) Atalar dönemi  
B) Krallar dönemi  
C) Hakimler dönemi  
D) Milletleşme dönemi

# 1. OTURUM

(621) SEÇ. TÜRK DİLİ VE EDEBİYATI – 3

15. Yahudilikte I. Mabet Dönemi'ni aşağıdakilerden hangisi sona erdirmiştir?

- A) Mısır Kralı II. Ramses  
B) Babil Kralı Buhtunnasr  
C) Makedonya Kralı Büyük İskender  
D) Eyyubiler Hükümdarı Selahattin Eyyubi

16. "Gentile Hristiyanlığı" olarak isimlendirilen akımı aşağıdakilerden hangisi başlatmıştır?

- A) Markos B) Yuhanna  
C) Pavlus D) Barnabas

17. Martin Luther'in öncülüğünde ortaya çıkmış olan Hristiyan mezhebi aşağıdakilerden hangisidir?

- A) Ortodoksluk B) Protestanlık  
C) Katoliklik D) Evanjelic

18. Hristiyanlıkta dine giriş ve aslı günahattan kurtuluş için uygulanan törene ne ad verilir?

- A) Konfirmasyon B) Evharist  
C) Günah itirafı D) Vaftiz

19. İslam ilk kez hangi dönemde Arabistan dışında yayılmaya başlamıştır?

- A) Hz. Muhammed (sav.) Dönemi  
B) Osmanlı Dönemi  
C) Dört Halife Dönemi  
D) Endülüs Dönemi

20. "Kitab-ı Mukaddes" kavramı aşağıdakilerden hangisini ifade etmektedir?

- A) Hristiyanlığın kutsal kitap külliyyatını  
B) Uzakdoğu dinlerindeki kutsal metinleri  
C) Yahudiliğin özü olan On Emir'i  
D) Mecusilikteki kutsal metinleri

1. Aşağıdakilerin hangisinde dil ile ilgili yanlış bir bilgi verilmiştir?

- A) Doğası gereği canlı bir varlıktır.  
B) Toplumda meydana gelen değişmelerden etkilenir.  
C) Kültürün aktarılmasında önemli bir paya sahiptir.  
D) Değişmesi teknolojik üretimi doğrudan etkiler.

2. Ankaranın akşamlarına bayılıyordum.

I  
Sanki dünyayı dümdüz bir kum sathı  
II III  
hâlinde örüyordu.  
IV

Bu parçadaki numaralanmış sözcüklerin hangisinde yazım yanlışı vardır?

- A) I. B) II. C) III. D) IV.

3. Üniversite yıllarında çeşitli dergilerde yayımlanan şiir ve yazılarıyla tanınan sanatçı; şiir, hikâye, günlük, roman, deneme, masal ve tiyatro gibi birçok türde eser vermiştir. Kendine has bir şiir diliyle imgeli, kapalı şiirler yazmıştır. İşaret Çocukları, Yedi Güzel Adam, Menziller gibi daha birçok eseri edebiyatımıza kazandırmıştır.

Bu parçada sözü edilen sanatçı aşağıdakilerden hangisidir?

- A) Halide Edip Adıvar  
B) Ahmet Hamdi Tanpınar  
C) Yaşar Kemal  
D) Cahit Zarifoğlu

4. • Divanü Lûgâti't-Türk

- Kamus-ı Türkî  
• Lehçe-i Osmanî

Aşağıdaki yazarlar verilen eserlerle eşleştirildiğinde hangisi dışta kalır?

- A) Mustafa bin Şemsettin  
B) Ahmed Vefik Paşa  
C) Şemsettin Sami  
D) Kaşgarlı Mahmut

5. Aşağıdaki cümlelerin hangisinde soyut bir kavram kullanılmıştır?

- A) İhtiyar adam kafasını kaldırdı.  
B) Benim hislerim çok güçlüdür.  
C) Askerler onun yaklaşmasını belediler.  
D) Sirtında yırtık bir çuval vardı.

6. Kelimeler tek başlarına anlamlı olabildikleri gibi cümle içinde kullanılışlarına göre yeni anlamlar da kazanabilir. Örneğin keskin sözcüğü: (I) "Sonunda keskin bir taş kullanarak ipi kesti. (II) Masanın başında, keskin bakışlı, kıranta bir adam oturuyor. (III) Bir kadın sesiydi bu, ince ve keskin. (IV) En yakın dostlarının bile kusurlarını keskin bir dille yüzlerine vurmuş." cümlelerinde farklı anlamlarda kullanılmıştır.

Aşağıdakilerden hangisi bu parçadaki numaralanmış cümlelerde kullanılan "keskin" sözcüğünün anlamlarından değildir?

- A) Tiz ses  
B) Çok kesici, iyi kesen  
C) Etkili, sert  
D) Kolayca söylemek

7. I. Kitabın ilk beş sayfasını okuyunuz.  
II. Bu soruda ilk olarak çemberin alanını bulmalıyız.  
III. Aruz ölçüsüyle şiirler yazmıştır.  
IV. Olaylara bir de bu açıdan bakın.

Numaralanmış cümlelerde geçen altı çizili sözcüklerden hangileri terim anlamıyla kullanılmıştır?

- A) I ve II. B) I ve IV.  
C) II ve III. D) III ve IV.

8. Aşağıdakilerin hangisinde "ağaç" sözcüğü özel anlamda kullanılmıştır?

- A) Bahçesindeki ağacın gölgesinde kitap okumayı severdi.  
B) Onları beklemekten ağaç olduk.  
C) Ağaçlar çiçek açmaya başlamış.  
D) Bu ormanda bin yıllık nadide ağaç türlerinin olduğunu söylemişti.

9. Aşağıdaki cümlelerin hangisinde soru işareti (?) yanlış kullanılmıştır?

- A) Yeni gelen yazıyı sen de okudumu?  
B) Akşam oldu mu bir hüzün çöker gözlerime?  
C) Yarın sabah yine aynı yerde mi buluşalım?  
D) Bugün öğlen yemeğinde ne varmış?

# 1. OTURUM

10. İstanbul'un bir deniz gibi hangi fikri,  
I II  
hangi aşkı, hangi anlamı, hangi rüyayı  
III IV  
meddücezirlelendirdiğinin farkında mıyız?

**Bu cümledeki numaralanmış sözcüklerden hangisi somut anlamlıdır?**

- A) I. B) II. C) III. D) IV.

11. Diyarbakır'da doğdu. Ortaöğrenimini Saint Joseph (Sen Josef) ve Galatasaray Liselerinde tamamladı. Çeşitli dergilerde çıkan ilk şiirleri, temiz dili ve yeni buluşlarıyla dönemin edebiyat çevrelerinde ilgi uyandırdı. Şiirlerini saf şiir anlayışına bağlı olarak kaleme aldı. Ömrümde Sükût, Otuz Beş Yaş, Düşten Güzel adlı nice eserleri edebiyat dünyasına kazandırdı.

**Bu parçada sözü edilen sanatçı aşağıdakilerden hangisidir?**

- A) Ziya Osman Saba  
B) Behçet Necatigil  
C) Ahmet Hamdi Tanpınar  
D) Cahit Sıtkı Tarancı

12. **Küçürek (minimal) hikâye ile ilgili aşağıdakilerden hangisi söylenemez?**

- A) Kişi, zaman, mekân gibi unsurlara sınırlı şekilde yer verir.  
B) Az sayıda kelimeyle oluşturulur ve yoğun bir anlatıma sahiptir.  
C) 18. yüzyılın sonlarında ortaya çıkmıştır.  
D) Anlatımdan çok sezdirmeye dayanan çok anlamlı, çağırışıma açık metinlerdir.

13. Denizciler koro hâlinde iyi dileklerini tekrarladılar.

**Aşağıdakilerin hangisinde altı çizili sözcüğün eş anlamlısı kullanılmıştır?**

- A) Biz böyle hayal kurarken rüzgâr çıktı.  
B) Ekrem daha önceden durumu annesine söylemişti.  
C) Asıl temennim bir daha böyle acıklı bir olayın yaşanmamasıdır.  
D) Ne yapacağımı düşünürken yan odadan biri radyoyu açtı.

14. (I) Taşkent'i yakından tanımak için sokağa çıktık. (II) Hava yağmurluydu. (III) Rastgele yürümeye başladık. (IV) Büyük ve güzel parklardan geçtik.

**Bu parçadaki numaralanmış cümlelerin hangisinde nicel anlamlı kelime vardır?**

- A) I. B) II. C) III. D) IV.

15. **Aşağıdakilerden hangisi Cumhuriyet Dönemi'nde millî edebiyat zevk ve anlayışını devam ettiren şairlerin ortak özelliklerinden değildir?**

- A) Aruz ölçüsünü kullanmışlardır.  
B) Eserlerini sade bir dille yazmışlardır.  
C) Şiirlerini söylev edasıyla kaleme almışlardır.  
D) Şiirleri lirik olduğu kadar didaktik özellik gösterir.

16. Hayal meyal şeylerden ilk aşkıyız; Hatırası bile yabancı gelir. Hayata beraber başladığımız Dostlarla da yollar ayrıldı bir bir; Gittikçe artıyor yalnızlığımız.

**Bu dizeler şekil ve içerik özellikleri dikkate alındığında aşağıdaki şiir anlayışlarından hangisine ait olabilir?**

- A) Toplumcu gerçekçi  
B) Garip  
C) Saf şiir  
D) Millî edebiyat

17. (I) Garipçiler, şiirde ölçü ve uyağa karşı çıkmışlardır. (II) Şiir dilinde edebî sanatlarla başvurulmasını savunmuşlardır. (III) Onlara göre, görülen ve hissedilen şeyler herkesin kullandığı kelimelerle anlatılmamalıdır. (IV) Şiirde mısra ve parça güzelliğinden daha çok bütün güzelliği önemsenmelidir.

**Bu parçadaki numaralanmış cümlelerin hangisinde garip akımı ile ilgili bir bilgi yanlıştır?**

- A) I ve II. B) II ve III.  
C) II ve IV. D) III ve IV.

18. • Bu hareketi, "Garip" akımına tepki olarak ortaya koymuşlardır.  
• Soyut betimlemelere ve uzak çağrışımlara dayanan şiirler yazmışlardır.  
• Halka değil, aydınlara seslenmişlerdir.  
• Eserlerinde daha çok şehir yaşamında kaybolan yalnız insanı ele almışlardır.

**Aşağıdakilerden hangisi özellikleri verilen sanatçılardan biri olabilir?**

- A) Tevfik Fikret  
B) Nazım Hikmet Ran  
C) Cenap Şehabettin  
D) Sezai Karakoç

19. **Aşağıdakilerden hangisi Cumhuriyet Dönemi halk şiirinin temsilcilerinden değildir?**

- A) Âşık Veysel Şatıroğlu  
B) Murat Çobanoğlu  
C) Âşık Feymani  
D) Cemal Süreya

20. Ardahan'da doğmuştur. Günümüz saz şiirinin önde gelen temsilcilerindedir. Şiirlerinde aşk, hasret, tabiat gibi tema ve konuların yanında sosyal meseleleri de işlemiştir. Âşık makamlarını ve halk hikâyeciliğini bilir. Kendi deyişleri yanında usta malî eserler de söylemektedir. Ben Bir Şeyda Bülbül, Güzel Görünür, Gönül Bahçesi gibi eserleri kaleme almıştır.

**Bu parçada sözü edilen sanatçı aşağıdakilerden hangisidir?**

- A) Dadaloğlu B) Köroğlu  
C) Şeref Taşlıova D) Karacaoğlan

**(622) SEÇ. TÜRK DİLİ VE EDEBİYATI – 4**

1. **Aşağıdaki sanatçı-eser eşleştirmelerinden hangisi yanlıştır?**

- A) Reşat Nuri Güntekin – Yeşil Gece  
B) Yakup Kadri Karaosmanoğlu – Yaban  
C) Halide Edip Adivar – Vurun Kahpeye  
D) Nabizade Nazım – Kürk Mantolu Madonna

# 1. OTURUM

2. Biraz daha ilerlediğinizde yapıtın görkemiyle karşılaşıyorsunuz. Cephe alınılığı ve onu çeviren taş oymalar, iki kanadındaki iki katlı zarif nişler, yetmiş beş metre yukarınızda hem ağır hem tüy gibi hafif hissi veren ana kubbe ile çevresindeki yavru kubbeler ve nihayet türbenin dört yanındaki zarif minareler başınızı döndürüyor. İçeri girdiğinizde buranın akikler, somakiler daha nice değerli sert taşlarla adeta oya gibi dokunduğunu görüyorsunuz.

**Bu parça ile ilgili aşağıdakilerden hangisi söylenemez?**

- A) Benzetmelerden yararlanılmıştır.
- B) Yer (mekân) tasviri yapılmıştır.
- C) Bir söylevden alınmıştır.
- D) Özel ifadelere ağırlık verilmiştir.

3. Kişi, olay, sonuç bağlantısını ustaca ortaya koyan, etkili betimleme gücüyle geleneksel anlatım biçimlerine zenginlikler katan bir Cumhuriyet Dönemi yazardır. Toplumsal gerçekçi akımın önemli temsilcilerinden biridir. İçimizdeki Şeytan, Yeni Dünya, Sırça Köşk gibi önemli eserleri kaleme almıştır.

**Bu parçada sözü edilen sanatçı aşağıdakilerden hangisidir?**

- A) Sabahattin Ali
- B) Cenap Şehabettin
- C) Ömer Seyfettin
- D) Ziya Gökalp

4. " - - - " Peyami Safa'nın 1930'lu yıllarda yayımladığı romanıdır. Bu roman, kurgusu ve özellikle başarılı psikolojik tahlilleriyle Türk edebiyatında önemli bir yere sahiptir.

**Bu parçada boş bırakılan yere aşağıdakilerden hangisi getirilmiştir?**

- A) Kaşığı
- B) Dokuzuncu Hariciye Koşuşu
- C) Kiralık Konak
- D) İstanbul Hatırası

5. Bu anlayışa bağlı yazarlar; kahramanların anılarını ve bilgilerini, kalfalarından neler geçtiğini, dillerinden dökülmeyip kalplerine gömdüklerini okuyucuya aktarabilmek için bilinç akışı, iç konuşma ve iç diyalog gibi farklı anlatım tekniklerini kullanmışlardır. Adalet Ağaoğlu, Ferit Edgü, Yusuf Atılgan, Rasim Özdenören bu anlayışı esas alan önemli sanatçılardır.

**Bu parçada sözü edilen roman anlayışı aşağıdakilerden hangisidir?**

- A) Toplumcu gerçekçi
- B) Modernizmi esas alan
- C) Gelenekçi
- D) Millî edebiyat zevk ve anlayışını sürdüren

6. Biyografik roman türünde yazılan bu eserde, 24 Ağustos 1911'de Adana'da dünyaya gelen, 1967'de hayata gözlerini yuman Prof. Dr. Mustafa İnan'ın hayatı kronolojik olarak anlatılmaktadır.

**Bu parçada sözü edilen roman aşağıdakilerden hangisidir?**

- A) Tutunamayanlar
- B) Ayaşlı ve Kiracıları
- C) Aşk-ı Memnu
- D) Bir Bilim Adamının Romanı

7. İlk telif polisiye roman olan "Esrâr-ı Cinayât" - - - - tarafından yayımlanmıştır.

**Bu cümlede boş bırakılan yere aşağıdaki sanatçılardan hangisi getirilmelidir?**

- A) Refik Halit Karay
- B) Hüseyin Rahmi Gürpınar
- C) Ahmet Mithat Efendi
- D) Abdülhak Hamit Tarhan

8. (I) Şiire yeni bir ses düzeni, taşkın, coşkulu bir anlatım ve kendisine özgü bir duyarlılık getirdi. (II) Sisler Bulvarı ve Yağmur Kaçağı adlı şiir kitaplarıyla genç şair kuşağını etkiledi. (III) İlk iki romanı Sokaktaki Adam ve Zenciler Birbirine Benzemez'den sonraki romanlarında tarihsel konulara ağırlık verdi. (IV) Çeşitli türlerdeki eserleri ile Türk edebiyatının önemli isimleri arasına girdi.

**Bu parçadaki numaralanmış cümlelerin hangisinde sanatçının üslubundan bahsedilmiştir?**

- A) I. B) II. C) III. D) IV.

9. Yular omuzunda, yürüyor, yürüyordu. Yanaklarından akan yaşlar sakalını ıslatmıştı. Fakat Tanabay, Gülsarı için döktüğü bu gözyaşlarını silmedi; sürüye yetişmek için tek başına hızla uçan bir yaban kazına gözyaşları arasından bakıyordu.

**Bu parçada romanın;**

- I. kişi,
- II. zaman,
- III. olay,
- IV. mekân

**öğelerinden hangileri vardır?**

- A) I ve II. B) I ve III.
- C) II ve III. D) III ve IV.

10. Ben sizlere hakan oldum. Elimize yay ve kalkan alalım. Savaş talihi (zaferi) amacımız olsun. Bozkurt sesi, savaş haykırışımız olsun. Demir kargımız bir ormana benzesin. Atlarımız avlaklarda yürüsün. Yeni ırmaqlar, yeni denizler geçelim. Güneş bayrağımız, gök çadırımız olsun.

**Bu parça aşağıdaki nutuk türlerinin hangisinden alınmış olabilir?**

- A) Askerî B) Dinî
- C) Hukuki D) Akademik

11. Yıl 1968. İlkokula gidiyorum. 23 Nisan Bayramı. Dördüncü sınıftayım. Bayram için annem önlüğümü yıkadı. O zamanlar herkesin evinde ütü de yok. Annem ne yaptı şimdi hatırlamıyorum. Ama önlüğüm gayet düzgündü.

**Bu parça ile ilgili aşağıdakilerden hangisi yanlıştır?**

- A) Akıcı bir anlatıma sahiptir.
- B) Gerçek anlamlı sözcükler kullanılmıştır.
- C) Makale türünde kaleme alınmıştır.
- D) Birinci tekil kişinin ağzıyla yazılmıştır.

12. I. Olay örgüsü vardır. II. Asıl amacı sahnede canlandırılmaktır. III. Anlatım türlerinden faydalanır. IV. Anlatmaya bağlı metin türlerindedir.

**Numaralanmış cümlelerden hangileri "roman ve tiyatro" türlerinin ortak özellikleridir?**

- A) I ve II. B) I ve III.
- C) II ve III. D) II ve IV.

# 1. OTURUM

13. Köşe başındaki sokak lambası yanınca, ortalığa sarı ve soluk ışıklar yayıldı. Akşam iyiden iyiye çökmüştü. Hafiften yağın yağmur bizi ıslatmaya başladı. Sokak lambasının altında bir dilenci oturuyor ve kucağındaki enstrümanı birtakım parçalar çalıyor. Birden herkes köşenin diğer ucundan gelen acı bir çığlığa dikkat kesildi.

**Bu parçada aşağıdaki duyuların hangisinden yararlanılmamıştır?**

- A) Görme B) İşitme  
C) Tatma D) Dokunma

14. 4 numaradan 24 numaraya kadar, yumuşak, her katta bükülü ve her renkte pamuk iplikleri yapan iplikhanedeyiz. Burası; mavi boyalı kapıları içeri dışarı açılıp kapanan, yüksek çatısını sağlam demir kolların tuttuğu; aydınlık, tertemiz, pırıl pırıl bir atölye.

**Bu parçada aşağıdaki anlatım türlerinin hangisinden yararlanılmıştır?**

- A) Açıklayıcı B) Öyküleyici  
C) Betimleyici D) Tartışmacı

15. Aşağıdakilerin hangisinde “ki”nin yazımı yanlıştır?

- A) Düşünme kendiniki avunabilesin.  
B) Oysaki ben ona güvenmişim.  
C) Tut ki yıldızlar ilham almış güzelliğinden.  
D) Hâlbuki biz sıcaktan boğulacağımızı sanmıştık.

16. Aşağıdakilerden hangisi nesnel bir tanım cümlesidir?

- A) Roman, edebiyatın en seçkin türüdür.  
B) Şiirler ruhu en çok büyüleyen sözlerdir.  
C) Türk edebiyatının eşsiz tarihini anlatan bu eser büyük değerlerimizdendir.  
D) Batılı anlamda anı, Tanzimat Dönemi'nde edebiyatımıza girmiş türlerden biridir.

17. Politikacıların ulusal mecliste, kapalı mekânlarda veya açık alanlarda yaptıkları konuşmalar hangi söylev türüne örnektir?

- A) Dinî B) Siyasi  
C) Akademik D) Askerî

18. Deve derisinden veya mukavvadan kesilip boyanmış insan biçimlerini beyaz bir perde üzerine arkadan ışık vererek yansıtmaya yoluyla oynamaya dayalı bir gösteri oyunudur.

**Bu cümlede sözü edilen tiyatro türü aşağıdakilerden hangisidir?**

- A) Orta oyunu B) Karagöz  
C) Trajedi D) Komedî

19. I. Kişiler soylu ve yüksek tabakadan kimselerdir.  
II. Kaba şakalara, söz oyunlarına ve imalara yer verilir.  
III. Sahnede hem acıklı hem gülünç olaylar anlatılır.  
IV. Üç birlik kuralına uyulur.

**Numaralanmış cümlelerden hangileri trajedi türüne ait özelliklerdendir?**

- A) I ve II. B) I ve IV.  
C) II ve III. D) III ve IV.

20. Özetler ( ) raporlar ( ) okunan yazılar ( ) Bunların tamamı sunumu hazırlamak için gereken dokümanlardır ( )

**Bu parçada yay ayrıca gösterilen yerlere aşağıdaki noktalama işaretlerinden hangileri sırasıyla getirilmelidir?**

- A) (,) (,) (... ) (.)  
B) (!) (,) (.) (?)  
C) (.) (,) (,) (!)  
D) (,) (,) (?) (...)

## (713) İSLAM KÜLTÜR VE MEDENİYETİ – 1

1. “Umran” kavramı ile aşağıdakilerden hangisi ifade edilmiştir?

- A) Gelenek B) Medeniyet  
C) Sanat D) Kültür

2. I. Diğer kültürler  
II. Kur'an-ı Kerim  
III. Akl-ı selim  
IV. Örf ve âdetler

**Bunlardan hangileri İslam medeniyetinin ana unsurları kabul edilir?**

- A) I ve II. B) I ve IV.  
C) II ve III. D) III ve IV.

3. İslam'ın getirdiği değişim, kendinden öncekini yok etmek üzerine kurulmamıştır. Önceki birikimin Kur'an ile sünnet ışığında yeniden yorumlanması, güncellenmesi ve batıl inançlardan arındırılması şeklinde gerçekleşmiştir. İslam medeniyeti, kültürel farklılıkları tevhit ilkesi doğrultusunda dengelemiş ve hiçbir toplumsal grubu ötekileştirmemiştir.

**Bu metinden İslam kültür ve medeniyeti ile ilgili aşağıdakilerden hangisine ulaşılamaz?**

- A) Farklı tecrübelerinden istifade etme anlayışına sahiptir.  
B) Temeli ve kıstas belirleyiciliği tevhid anlayışı üzerine kurulmuştur.  
C) Müslümanları, insanlığın ortak mirasına sahip çıkmaya teşvik eder.  
D) En parlak dönemini farklı toplulukların katkılarıyla gerçekleştirmiştir.

4. Müminin ferasetinden sakınınız zira o, Allah'ın nuruyla bakmaktadır.

**Bu hadiste müminin aşağıdaki özelliklerinden hangisi ifade edilmektedir?**

- A) Doğru ile yanlış birbirinden ayırt etmesi  
B) Diğer görüş ve fikirlere açık olması  
C) Zulmün karşısında yer alması ve mücadele etmesi  
D) Yaratılanlara sevgi ve merhametle yaklaşması

5. İslam kültür ve medeniyeti, insanı kula kul olmaktan kurtararak özgürleştirir. Yalnız Allah karşısında eğilerek O'na itaat etmek, kişiyi her türlü gücün baskısı ve boyunduruğu altına girmekten korur.

**Bu metinde İslam kültür ve medeniyetinin esaslarından hangisi vurgulanmaktadır?**

- A) Özgünlük B) Hürriyet  
C) İlmîlik D) Sulh

6. Müslümanlar, hakikat, iyilik, doğruluk ve güzellik değerleri üzerine erdemli bir toplum meydana getirmekle vazifelidirler.

**Bu bilgi İslam'ın aşağıdakilerden hangisi ile ilgili anlayışını vurgulamaktadır?**

- A) Kültür B) Sanat  
C) İlim D) Yönetim

## 1. OTURUM

7. İslam'ın "iş hak edene verme" anlayışı aşağıdakilerden hangisinin önemini ortaya koymaktadır?

- A) İstişare B) Sulh  
C) Liyakat D) Yardımlaşma

8. Aşağıdakilerden hangisi İslam medeniyetinin temel özelliklerinden biri değildir?

- A) Asabiye temellidir.  
B) İnsan merkezlidir.  
C) İlim medeniyetidir.  
D) Vahiy, akıl ve duyunun uyumudur.

9. Aşağıdakilerden hangisi İslam'ın öngördüğü sosyal düzenin amaçları arasında yer almaz?

- A) Toplumun huzur ve barış içinde yaşaması  
B) İnsanın maddi ve manevi varlığının korunması  
C) İnsanın kabiliyetinin gelişeceği ortamın hazırlanması  
D) Toplumsal farkların kaldırılarak tek modelin benimsenmesi

10. İslam toplumu Kur'an-ı Kerim'de aşağıdakilerden hangisine benzetilmektedir?

- A) Son tuğlası eksik kalmış güzel bir eve  
B) Dağlarda ve ağaçlarda yuva eden arılara  
C) Fertleri birbirine kenetlenmiş tek bir yapıya  
D) Kökü sağlam, dalları göğe yükselen bir ağaca

11. • Kutsal kitapları getiren meleğin sıfatının "Ruhu'l-emin" olması  
• Peygamberlerin ortak sıfatlarından birinin "emanet" olması  
• Mekke'nin "Beledü'l-emin" kılınması

**Bu durum sorumluluk verilen ve değerli kılınan her varlığın öncelikle hangisi ile olan ilişkisine dikkat çekmektedir?**

- A) Merhamet B) Güven  
C) Adalet D) Akıl

12. Modern dünyada toplumsal dayanışma olarak nitelenen uzlaşma kültürü, asırlar öncesinde Medineliler ve Mekkeliler arasında tesis edilmiştir.

**Altı çizili bölümde aşağıdakilerden hangisine işaret edilmektedir?**

- A) Muhacir- Ensar kardeşliği  
B) Hudeybiye Antlaşması  
C) Medine Sözleşmesi  
D) Hayber'in Fethi

13. Yardımlaşma ve dayanışma konusunda aşağıdakilerden hangisi söylenemez?

- A) İyilik ve takva üzerine olmalıdır.  
B) Karşılık beklemeden yapılmalıdır.  
C) Müslümanlar ile sınırlı tutulmalıdır.  
D) İhtiyaç sahipleri arasında yakınlarla öncelik verilmelidir.

14. Kur'an'da çocuklara, kadınlara, yaşlılara, çevreye, insan haklarına, toplumsal barışa ve iş hayatına yönelik zararlı ve yıkıcı eğilimlerin etkisiz kılınmasını, fitne ve fesadın önlenmesini ihtiva eden çok sayıda hüküm bulunmaktadır.

**Bu metinde İslam toplumunu yönlendiren ilkelerden hangisine vurgu yapılmıştır?**

- A) Kardeşlik  
B) Kötülükten sakındırma  
C) Hak ve adaleti gözetme  
D) Yardımlaşma ve dayanışma

15. Aşağıdaki kavramlardan hangisi Allah-insan ilişkisi ile doğrudan ilgili değildir?

- A) İman B) Takva  
C) Dua D) İsar

16. Özünde, insanlığa karşı şahsî ve vicdanî sorumluluk hissi, iyilik, şefkat, yardımlaşma ve dayanışma duygusu vardır. Kur'an'daki, mülkü Allah yolunda harcamak, iyilikte yardımlaşmak, hayırda yarışmak gibi Müslümanlara yönelik tavsiyelerin yanında, Hz. Peygamber'in sadaka ve sadaka-i cariyeye hadisleri bu kurumların yaygınlaşmasında önemli rol oynamıştır.

**Hakkında bilgi verilen kurum aşağıdakilerden hangisidir?**

- A) Vakıflar B) Mescitler  
C) Tekkeler D) Hisbe

17. Aşağıdakilerden hangisi dünyadaki ilk sit alanı uygulaması olarak kabul edilmektedir?

- A) İslam devletlerinde; ağaçlara, evlere, kütüphanelere zarar vermenin yasaklanması  
B) Edirne şehrinin temiz tutulması hakkında Kanuni'nin emirname göndermesi  
C) İstanbul'a gelecek su hattının yakınlarına bina, ahır, mandıra yapımının yasaklanması  
D) Mekke ve Medine çevresinin harem ilan edilmesi

18. İslam kütüphaneciliğinin başlangıç devri olarak aşağıdakilerden hangisi kabul edilmektedir?

- A) Emeviler dönemi  
B) Gazneliler dönemi  
C) Selçuklular dönemi  
D) Osmanlılar dönemi

19. Aşağıdakilerden hangisi Kur'an'ı ezberleyen kişiler için kullanılan kavramlardan biri değildir?

- A) Hameletu'l-Kur'an  
B) Ravi  
C) Hafız  
D) Kurra

20. Aşağıdakilerden hangisi İslam dünyasındaki ilmi gelişmelerin olumsuz etkilenmesine sebep olan hadiselerden biri değildir?

- A) Moğol istilası  
B) Haçlı seferleri  
C) Tercüme hareketleri  
D) Endülüs'ün Müslümanların elinden çıkması

(817) AKAD – 1

1. Din; Akıl sahibi insanları kendi hür irade ve tercihleriyle bizzat hayırlı olan şeylere götüren ilahi kanundur.

**Bu tanımdaki altı çizili olan "ilahi kanun" ifadesi aşağıdakilerden hangisine işaret etmektedir?**

- A) Dinin kaynağına  
B) Dinin muhatabına  
C) Dinin konusuna  
D) Dinin amacına

# 1. OTURUM

2. Üç kişiden sorumluluk kaldırılmıştır. Ergenlik çağına kadar çocuktan, iyileşinceye kadar akıl hastasından ve uyanıncaya kadar uyuyandan.

**Bu hadisten din ile ilgili aşağıdaki-lerin hangisine ulaşılabilir?**

- A) İbadetlerin zamanında yapılmasına önem verir.  
B) Dünyayı ahiretin tarlası olarak görür.  
C) Akıl sahibi insanları muhatap alır.  
D) Güzel ahlaki teşvik eder.

3. Kur'an'da "Rûhu'l- kuds, er Ruhul-emîn ve Rûh" kavramlarıyla aşağıdakilerden hangisi kastedilmektedir?

- A) Peygamber B) Cebrail  
C) Şeytan D) Cin

4. İslam akaidinin temel özellikleri ile ilgili aşağıda verilen bilgilerden hangisi yanlıştır?

- A) Açık, sade ve anlaşılırdır.  
B) İnsan fıtratına uygundur.  
C) Hükümleri sabittir.  
D) Zannî delillere dayanır.

5. Aşağıdaki kavramlardan hangisi "iman" terimi ile eş anlamlıdır?

- A) Kelam B) İtikad  
C) İhsan D) Tevhid

6. Aşağıdakilerden hangisi "usulü selase" içerisinde yer alan iman esaslarındandır?

- A) Peygamberlere iman  
B) Kitaplara iman  
C) Meleklerle iman  
D) Kaza ve Kadere iman

7. "Rablerini inkâr edenlerin durumu şudur: Onların işleri, fırtınalı bir günde rüzgârın şiddetle savurduğu küle benzer. Dünyada kazandıkları hiçbir şeyin ahirette yararını görmeyiz..." (İbrahim suresi, 18. ayet)

**Bu ayetten aşağıdaki sonuçlardan hangisi çıkarılabilir?**

- A) Ameller imanın güçlenmesini sağlar.  
B) Amellerin en güzeli sürekli yapılmasıdır.  
C) Amelleri değerli kılan ihlasla yapılmasıdır.  
D) Ameller ancak iman ile değer kazanır.

8. Ehl-i sünnet âlimlerine göre aşağıdaki davranışlardan hangisi kişiyi imandan çıkarır?

- A) Kumar oynamak  
B) Beş vakit namazı terk etmek  
C) Haram bir davranışa helal demek  
D) Ramazan orucunu bilerek bozmak

9. İslam toplumunda Müslümanlara sağlanan birtakım sosyal, siyasi ve hukuki ayrıcalıklardan faydalanabilmek amacıyla inanmadığı hâlde inanıyormuş gibi davranan ve yaşayan kişilerdir.

**Bu cümlede aşağıdaki grupların hangisi tanımlanmaktadır?**

- A) Müminler B) Münafıklar  
C) Müşrikler D) Kâfirler

10. Akaid ilminin nihai amacı aşağıdakilerden hangisidir?

- A) Dünya ve ahiret mutluluğuna ulaşılması  
B) İbadetlerin samimi ve ihlasla yapılması  
C) Ahlak ilkelerinin korunması  
D) Dinin herkese ulaştırılması

11. Aşağıdakilerden hangisi "şair-i diniyye" den biri değildir?

- A) Ezan B) Kâbe  
C) Namaz D) Gazel

12. "...O'nun benzeri hiçbir şey yoktur. O, hakkıyla işitendir, hakkıyla görendir." (Şûrâ Suresi, 11. ayet)

**Bu ayette aşağıdaki zati sıfatlardan hangisine vurgu yapılmaktadır?**

- A) Vücûd  
B) Kıyam bi-nefsihî  
C) Muhalefetün lî'l-havâdis  
D) Beka

13. Ehl-i kitaptan olanlar Allah'a oğul isnat etmişlerdir. Müşrikler de "Melekler Allah'ın kızlarıdır." demişlerdir.

**Bu şekildedeki inanışın yanlış olduğu aşağıdaki surelerin hangisinde vurgulanmaktadır?**

- A) Kâfirun B) Nasr  
C) Maûn D) İhlas

14. • Cennet – Cehennem  
• Helal – Haram  
• Sevap – Günah  
• Tevhid – - - - -

Bu kavramlar bir kurala göre eşleştirilmiştir.

**Buna göre boş bırakılan yere aşağıdakilerden hangisi gelmelidir?**

- A) Zulüm B) Nifak  
C) Şirk D) İnkâr

15. "Hakka yönelen bir kimse olarak yüzünü dine çevir. Allah'ın insanları üzerinde yarattığı fitrata sımsıkı tutun. Allah'ın yaratmasında hiçbir değişme yoktur. İşte bu dosdoğru dindir. Fakat insanların çoğu bilmezler." (Rûm suresi 30. ayet)

**Bu ayetten aşağıdaki sonuçlardan hangisi çıkarılabilir?**

- A) Din duygusu insanda doğuştan vardır.  
B) Din, insanların karakterlerinin oluşmasına etki eder.  
C) Din tercihi ana babanın yönlendirmesi etkilidir.  
D) Din, toplumu bir arada tutan önemli unsurlardandır.

16. I. Kalben inanıp diliyle de ikrar eden  
II. Kalben inanmadığı halde diliyle inandığını söyleyen  
III. İman esaslarının neler olduğunu bilip tasdik etmeyen  
IV. Kalben inandığı halde bir zorluktan dolayı diliyle inanmadığını söyleyen

**İnanç esaslarını bu şekilde kabul eden kişilerden hangileri mümin olarak vasıflandırılır?**

- A) I ve III. B) I ve IV.  
C) II ve III. D) II ve IV.

17. Aşağıdakilerden hangisi Kur'an-ı Kerim'de adı geçen meleklerden biri değildir?

- A) Münker-Nekir  
B) Kiramen-Katibin  
C) İsrail  
D) Mikâil

18. Allah'ın yokluğu düşünülemez, O'nun varlığı zorunludur.

**Bu cümle aşağıdaki sıfatlardan hangisinin açıklamasıdır?**

- A) Kıdem B) Bekâ  
C) Vahdaniyet D) Vücûd



## 1. OTURUM

19. "...Allah'a yakın melekler de, Allah'a kul olmaktan asla çekinmezler. Kim Allah'a kulluk etmekten çekinir ve büyüklük taslarsa bilsin ki O, onların hepsini huzuruna toplayacaktır."  
(Nisâ suresi, 172. ayet)

**Bu ayette geçen "yakın" kavramı ile vurgulanan melekler aşağıdakilerden hangisidir?**

- A) Münker ve Nekir  
B) Mukarrebûn  
C) Hamele-i Arş  
D) Hazene-i Cennet ve Cehennem

20. **Şeytan ile ilgili aşağıdaki bilgilerden hangisi yanlıştır?**

- A) İnsanoğlunun baş düşmanıdır.  
B) Allah'a isyan eden ilk varlıktır.  
C) Allah'ın varlığını ve birliğini inkâr etmiştir.  
D) Âdem'e secde etmediğinden Allah'ın lanetine uğramıştır.

### (819) KELAM – 1

1. **Yöntem olarak daha çok düşünme ve akıl yürütmeyi seçtiği için kelam ilmine verilen isim aşağıdakilerden hangisidir?**

- A) Akâid  
B) İlm-i istidlâl  
C) Fıkh-ı ekber  
D) İlm-i tevhîd

2. **Aşağıdakilerden hangisi kelam ilminin amaçlarından biri değildir?**

- A) İnananları tutarlı ve sağlam bir inanç sistemine ulaştırmak  
B) İnsanları hurafe ve batıl inançlar konusunda bilgilendirmek  
C) Geçmişten günümüze yaşayan tüm dinler hakkında bilgi vermek  
D) Diğer İslamî ilimlere sağlam bir inanç temeli oluşturmak.

3. **İnanç alanında "Ashabu'l- hadis" olarak isimlendirilen akımın öncüsü aşağıdakilerden hangisidir?**

- A) Eş'ari  
B) Mâtürîdi  
C) Vâsil bin Atâ  
D) Ahmet bin Hanbel

4. **Mutezile'nin ekol haline gelmesinde aşağıdakilerden hangisi öncülük etmiştir?**

- A) Vâsil bin Atâ  
B) Hasan el-Basrî  
C) Fahreddîn er-Razî  
D) Ebü'l-Muîn en-Nesefî

5. **Aşağıdakilerden hangisi kelam ilmine verilen isimlerden biridir?**

- A) Siret  
B) Usûlü'd-din  
C) Usûlü'l-fıkh  
D) Tarih-i edyan

6. **Aşağıdakilerden hangisi İslam dininin içeriğini oluşturan temel esaslardan biri değildir?**

- A) İman  
B) İbadet  
C) Gelenek  
D) Muamelat

7. **Kelam ilminin bilgi kaynaklarından biri olan "havass-ı selime" ile aşağıdakilerden hangisi kastedilmektedir?**

- A) Sağlam duyular  
B) Aklın verileri  
C) Tarihi veriler  
D) Vahiy

8. **Aşağıdakilerden hangisi mütekaddimin dönemi kelam âlimlerindedir?**

- A) Muhammed el-Beyzavî  
B) Seyyid Şerif Cürcanî  
C) Sa'düddin Teftazânî  
D) İmam Mâtürîdî

9. **Aşağıdakilerden hangisi kelam ilmi alanında yazılan bir eserdir?**

- A) er-Risale  
B) el-Müsned  
C) el-Fıkhü'l-Ekber  
D) el-Bidaye ve'n-Nihaye

10. **Aşağıdakilerden hangisi Gazzalî'den sonra yaşamış kelam âlimlerinden biridir?**

- A) Bâkîllâni  
B) Hasan el-Basrî  
C) Hasan el-Eş'arî  
D) Fahreddîn er-Râzî

11. **Aşağıdakilerden hangisi "ezeli" anlamında kullanılan kavramlardan biridir?**

- A) Kadim  
B) Hâdis  
C) Mümkün  
D) Âlem

12. **"Kişiyi cahillik, şüphe ve zandan uzaklaştıran nitelik" olarak tanımlanan kavram aşağıdakilerden hangisidir?**

- A) Varlık  
B) Bilgi  
C) Değer  
D) Madde

13. **Üç kişiden sorumluluk kaldırılmıştır; ergenlik çağına kadar çocuktan, iyileşene kadar akıl hastasından ve uyanıncaya kadar uyuyandan. Bu hadiste aşağıdakilerden hangisinin önemi vurgulanmaktadır?**

- A) Emeğin  
B) Eğitimin  
C) Liyakatin  
D) Aklın

14. **Yalan üzerine birleşmelerini aklın imkânsız gördüğü bir topluluğun rivayet ettiği habere ne ad verilir?**

- A) Akl-ı selim  
B) Haber-i sadık  
C) Mütevatir haber  
D) Havass-ı selime

15. **İslam'da temel bilgi kaynaklarından biri kabul edilen vahiy aşağıdakilerden hangisinin kapsamında değerlendirilir?**

- A) Selim akıl  
B) Haber-i sadık  
C) Sağlam duyular  
D) Bilimsel veriler

16. **Bir hükmün itikadî konularda başlı başına bir delil olabilmesi için ya Kur'an ayetine veya mütevatir hadise dayanması gerekir.**

**Bu açıklama itikadî hükümlerin aşağıdaki özelliklerinden hangisi ile ilgilidir?**

- A) Kesinlik  
B) Açıklık  
C) Değişmezlik  
D) Bütünlük

## 1. OTURUM

17. İbadet ile ilgili aşağıdakilerden hangisi söylenemez?

- A) İmanda ihlas ve samimiyeti gösterir.
- B) İnsanın ruhunu, fikrini ve iradesini terbiye eder.
- C) Allah'ın hoşnutluğunu kazanmaya yardımcı olur.
- D) Zamanın ve örfün değişmesi ile değişiklik gösterir.

18. Amelî hükümler ile ilgilenen ilim dalı aşağıdakilerden hangisidir?

- A) Kelam
- B) Tefsir
- C) Fıkıh
- D) Hadis

19. İslam'a göre akıl ile nakil arasında uyumluluk ilişkisi vardır, birbiri ile çelişmezler. Çünkü sahih nakil de selim akıl da sonuç itibari ile Yüce Allah tarafından insanların hidayeti için birer vasıta ve delildir.

**Bu metinde aşağıdaki konuların hangileri arasındaki ilişki vurgulanmaktadır?**

- A) İman-bilgi
- B) Akıl-vahiy
- C) Allah-âlem
- D) Din-ahlak

20. Aklen varlığı ve gerçekleşmesi imkânsız olan hükme ne ad verilir?

- A) Mümteni
- B) Mümkün
- C) Vacip
- D) Câiz

### (825) OSMANLI TÜRKÇESİ – 1

1. Aşağıdakilerden hangisi Türklerin tarih boyunca kullandıkları alfabelerden değildir?

- A) Kiril
- B) Latin
- C) Çin
- D) Uygur

2. Aşağıdakilerden hangisi ünlü Türk hattatlarından biridir?

- A) Mustafa Rakım Efendi
- B) Ahmet Mithat Efendi
- C) Reşat Nuri Güntekin
- D) Abdülhak Hamit Tarhan

3. Osmanlı Türkçesi ile ilgili aşağıdakilerden hangisi söylenbilir?

- A) Dünyanın her yerinde konuşulan bir dildir.
- B) Sadece konuşma dili olarak kullanılmıştır.
- C) İçinde çok sayıda İngilizce sözcük bulunur.
- D) XIII - XV. yüzyıllar başlangıç dönemidir.

4. Aşağıdakilerden hangisi Osmanlı Türkçesi harflerini kullanmıştır?

- A) Uygur Devleti
- B) Hun Devleti
- C) Anadolu Selçuklu Devleti
- D) Göktürk Devleti

5. "ح" harfinin adı aşağıdakilerden hangisidir?

- A) Hı
- B) Ha
- C) Çim
- D) Cim

6. "ص" harfinin ses karşılığı aşağıdakilerden hangisidir?

- A) s
- B) t
- C) d
- D) z

7. "ط - ض - د" harf grubunun ortak sesi aşağıdakilerden hangisidir?

- A) s
- B) d
- C) t
- D) n

8. Aşağıdakilerin hangisinde kendisinden sonra gelen harflerle birleşenler bir arada verilmiştir?

- A) ا - ش - ج
- B) ظ - ز - ق
- C) ض - س - خ
- D) ی - م - و

9. "١٤" bu sayının okunuşu aşağıdakilerden hangisidir?

- A) On bir
- B) On iki
- C) On üç
- D) On dört

10. "ب - ا - ی - ر - ا - ق" harflerinin bitişik yazılışı aşağıdakilerden hangisidir?

- A) بهدیق
- B) بایهف
- C) بایراق
- D) بایاف

11. "09.12.2018" tarihinin Osmanlı Türkçesi rakamlarıyla yazılışı aşağıdakilerden hangisidir?

- A) ٥٩/١٢/ ٢٠١٨
- B) ٠٩/ ١٢/ ٢٠١٨
- C) ٠٩/ ١٣/ ٢٠١٨
- D) ٥٩/١٣/ ٦٠١٨

12. "غ" harfinin kelime ortasındaki yazılışı aşağıdakilerden hangisidir?

- A) غ
- B) ف
- C) ز
- D) ق

13. Osmanlı Türkçesindeki okutucu harfler aşağıdakilerin hangisinde bir arada verilmiştir?

- A) ی - و - ه - ا
- B) خ - ث - ط - ا
- C) ژ - ذ - ی - و
- D) ظ - ق - ه - و

14. İsim ve isim eklerinin sonuna gelen "a" sesleri he okutucusu ile gösterilir. Aşağıdakilerin hangisinde bu kurala uygun bir kullanım vardır?

- A) درس
- B) جکت
- C) باجه
- D) طرف

15. "بقال" kelimesinin okunuşu aşağıdakilerden hangisidir?

- A) Bütün
- B) Bakkal
- C) Baba
- D) Baklava

## 1. OTURUM

### (931) SİYER – 1

16. "Hasta" kelimesinin Osmanlı Türkçesi alfabesiyle yazılışı aşağıdakilerden hangisidir?

- A) حسرت B) خاسته  
C) خسار D) حيران

17. Kelime başlarındaki "o-ö-u-ü" sesleri, elif ve vav harfleriyle (او) gösterilir. Aşağıdakilerin hangisinde bu kurala uygun bir kullanım vardır?

- A) قویون B) بولوت  
C) مارول D) اوزوم

18. Bazı eklerin sonundaki "u, ü" sesleri "ye" okutucusu ile gösterilir. Aşağıdakilerin hangisinde bu kurala uygun bir kullanım yoktur?

- A) ويرمك B) اونى  
C) بولدى D) بوزلى

19. "بهارات – بينك – اولوملو" kelimelerinin okunuşları hangi seçenekte sırasıyla (sağdan sola) verilmiştir?

- A) Bahar – benek – ölümcül  
B) Bayrak – binek – olanak  
C) Baharat – binek – olumlu  
D) Bencil – benek – ölümlü

20. "Ye" okutucusu kendinden önceki harfi aşağıdaki seslerin hangilerini okutur?

- A) a - e B) ı - i  
C) u - ü D) o - ö

1. Hz. Muhammed'in (sav) son peygamber olması aşağıdakilerden hangisi ile doğrudan ilişkilidir?

- A) Hz. Peygamber'in getirdiği mesajlar yalnızca gönderildiği toplum için değil sonraki insanlar için de bağlayıcıdır.  
B) Kur'an-ı Kerim'in doğru anlaşılabilmesi için Hz. Peygamber'in hayatının ve yaşadığı ortamın iyi anlaşılması gerekmektedir.  
C) Tüm peygamberlere gelen vahiyler özü itibarıyla aynıdır.  
D) Allah her topluma bir peygamber göndermiştir.

2. Başlangıçta siyer ile aynı anlamda kullanılan, daha sonraları Hz. Peygamber'in gazve ve seriyyelerini konu edinen ilim dalı aşağıdakilerden hangisidir?

- A) Hilye B) Muamelat  
C) Şemail D) Meğâzî

3. I. Dünyaya ait isteklerinin gerçekleşmesi  
II. Ahiret hayatındaki güzelliklere ulaşmak  
III. Allah'a hiçbir şeyi ortak koşmamak  
IV. Putların şefaatine ulaşip öfkelerinden korunmak

**Yukarıdakilerden hangileri Cahiliye Dönemi Araplarının ibadet ve iyilik yapma sebeplerindendir?**

- A) I ve III. B) I ve IV.  
C) II ve III. D) II ve IV.

4. İlk çağlarda yaşayan Araplardan Amâlika, Âd ve Semud gibi sonradan yok olan kavimlere - - - -, İslam'ın ortaya çıkışına kadar varlıklarını koruyanlara da - - - - adı verilmiştir.

**Boşluklara sırasıyla hangi kavramlar getirilmelidir?**

- A) müteakaddimîn - müteahhirîn  
B) bedevi - hadarî  
C) bâide - bâkiye  
D) Arâmî - İbrânî

5. İslam öncesi Arap toplumunun sosyal ve kültürel hayatı için aşağıdakilerden hangisi söylenemez?

- A) Toplum; hürler, köleler ve mevali olmak üzere üç sınıftan oluşmaktaydı.  
B) Evlilik yoluyla kurulan akrabalıklar büyük önem taşımaktaydı.  
C) Uzun yıllar devam eden kan davaları bulunmaktaydı.  
D) Kültür, büyük ölçüde sözlü olarak aktarılmaktaydı.

6. "Muallakat" kavramı aşağıdakilerden hangisini ifade etmektedir?

- A) Arap kabileleri arasında yaşanmış olan savaşları anlatan destanları  
B) Aynı kabileye mensup olanların birlikte hareket etme anlayışını  
C) Kâbe'ye asılan seçkin şiir koleksiyonunu  
D) Haram aylarda yapılan savaşları

7. "Ümmü'l-kurâ" ismiyle anılan şehir aşağıdakilerden hangisidir?

- A) Mekke B) Medine  
C) Kudüs D) Taif

8. Yesrib şehri ile ilgili aşağıdaki bilgilerden hangisi yanlıştır?

- A) Yahudi nüfusunun yoğun olduğu şehirlerden biridir.  
B) Hz. Peygamber'in hicretinden sonra Medine adını almıştır.  
C) Toplumsal yapıdaki parçalanmışlık Hz. Peygamber'in gelişine kadar devam etmiştir.  
D) Şehrin ekonomisinde Evs ve Hazreç kabileleri söz hakkını ellerinde tutmuşlardır.

9. Aşağıdakilerden hangisi hadis kitabı yazmış olan âlimlerden biri değildir?

- A) İbn Hişam  
B) Ebu Davud  
C) İmam Malik  
D) Ahmed b. Hanbel

10. Hz. Peygamber'in atalarından hangisi dağınık halde yaşayan Kureyşlileri birleştirerek Mekke Şehir Devleti'ni kurmuştur?

- A) Haşim  
B) Fihr b. Malik  
C) Kusay b. Kilâb  
D) Abdumuttalib

## 1. OTURUM

11. Aşağıdakilerden hangisi Hz. Peygamber'in risalet dönemine yetişen amcalarından biri değildir?

- A) Ebu Leheb B) Ebu Talib  
C) Hz. Hamza D) Zübeyr

12. Abdulmuttalib, torununa Muhammed adını verdi. Kendisine ataları tarafından daha önce kullanılmayan böyle bir ismi neden verdiği sorulunca o, "İstedi ki - - - -" cevabını verdi.

**Parçada boş bırakılan yere aşağıdakilerden hangisi getirilmelidir?**

- A) tüm insanların en seçkini olsun  
B) yer ve gök ehli onu övgü ile ansın  
C) Rabbine karşı daima itaatkâr olsun  
D) doğru ile yanlış birbirinden ayırt etsin

13. Hz. İsa İsrailoğullarına kendisinden sonra gelecek peygamberin ismini müjdelemiştir.

**Kur'an-ı Kerim'de anlatılan bu olayda Hz. Peygamber'in hangi ismi yer almaktadır?**

- A) Ahmed B) Mustafa  
C) Mahmud D) Muhammed

14. Aşağıdakilerden hangisi Hz. Peygamber'in süt kardeşlerinden biri değildir?

- A) Şeyma B) Halime  
C) Üneyse D) Abdullah

15. Hz. Peygamber'in Ebva'da vefat etmiş olan yakını aşağıdakilerden hangisidir?

- A) Dedesi Abdulmuttalib  
B) Babası Abdullah  
C) Eşi Hz. Hatice  
D) Annesi Âmine

16. Aşağıdaki bilgilerden hangisi Hilf'ül-fudûl'a ait değildir?

- A) Mekke'deki haksızlıklara karşı kurulmuştur.  
B) Son üyesinin vefat etmesi ile fiilen son bulmuştur.  
C) İslamiyet'in ilk yıllarında kurulmuş bir topluluktur.  
D) Hz. Peygamber bu topluluktan övgü ile bahsetmiştir.

17. Hz. Peygamber'in ticari hayatı ile ilgili aşağıdakilerden hangisi söylenemez?

- A) Dürüst ve sözüne sadık davranmıştır.  
B) Ortaklıklarında uyumlu davranmıştır.  
C) Genç yaşta tecrübe kazanmaya başlamıştır.  
D) Kazancı, insanî ilişkilerin önünde tutmuştur.

18. Hz. Hatice'ye hangi yönünden dolayı "Tahire" denmiştir?

- A) Merhameti B) İffetini  
C) Cömertliği D) Zekâsı

19. Hz. Peygamber'in çocukları ile ilgili aşağıdaki bilgilerden hangisi doğrudur?

- A) İlk çocuğunun ismi Kâsım'dır.  
B) Tüm çocukları hicretten sonra vefat etmiştir.  
C) Kızı Zeynep Hz. Peygamber'den sonra vefat etmiştir.  
D) Oğlu Abdullah Medine döneminde dünyaya gelmiştir.

20. Hz. Peygamber'in Kâbe Hakemliği, peygamberlerde bulunan sıfatlardan öncelikle hangisi için örnek oluşturur?

- A) Tebliğ B) Fetanet  
C) Emanet D) İsmet

### (974) SEÇMELİ GİRİŞİMCİLİK – 1

1. İnsan yaşamının devamı için kesinlikle karşılanması gereken ihtiyaçlara ne ad verilir?

- A) Sosyal ihtiyaçlar  
B) Güvenlik ihtiyacı  
C) Zorunlu ihtiyaçlar  
D) Kültürel ihtiyaçlar

2. I. Elle tutulabilir, gözle görülebilir olmaları  
II. İnsanların ihtiyaçlarını giderebilmeleri  
III. Kit olmaları  
**Yukarıdakilerden hangileri mal ve hizmetlerin ortak özelliklerindedir?**

- A) I ve II. B) II ve III.  
C) I ve III. D) I, II ve III.

3. Üretim faktörleri kendisinde olmasa bile onları bir araya getirebilen, üretim birimlerini kuran, çalıştıran ve risklere katlanan kişiye ne ad verilir?

- A) Girişimci B) Çalışan  
C) Yönetici D) Ev sahibi

4. Alıcı ve satıcıları bir araya getiren ve onların kolayca birbirleriyle temas etmelerini sağlayan oluşuma ne ad verilir?

- A) Arz B) Talep  
C) Ülke D) Piyasa

5. Aşağıdakilerden hangisi temel bir kavram olarak girişimcilikle ilişkilendirilemez?

- A) Öncü olma  
B) Rekabetçi düşünme  
C) Riskten uzak durma  
D) Yenilikçi ve yaratıcı olma

6. Aşağıdaki ifadelerden hangisi doğrudur?

- A) Kuluçka aşaması, yaratıcılığın son aşamasıdır.  
B) Yaratıcılığın ilk aşaması bilgi toplama aşamasıdır.  
C) Fikir deneyimi aşaması, yaratıcılığın aşamaları arasında yer almaz.  
D) Değerlendirme ve uygulama aşaması, kuluçka aşamasından önce gelir.

7. Aşağıdakilerden hangisi işletmelerin kaliteli ürün üretmelerine ve verimli çalışmalarını arttırmalarına katkı sağlar?

- A) Rekabet  
B) Tekelcilik  
C) Tembellik  
D) Motivasyonsuzluk

# 1. OTURUM

8. Aşağıdakilerden hangisi liderin başlıca özelliklerinden biri değildir?

- A) Lider baskılayandır.
- B) Lider motive edicidir.
- C) Lider sorgulayandır.
- D) Lider ekip kurandır.

9. Aşağıdakilerden hangisinde girişimcilik için gerekli faktörler doğru verilmiştir?

- A) Emek, güven, istikrar
- B) Doğa, ekonomi, mevzuat
- C) Doğa, emek, sermaye, teknik bilgi
- D) Emek, sermaye, mevzuat, teknik bilgi

10. Uluslararası sınırların ortadan kalkması, aşağıdakilerden hangisinin sonucu olarak gösterilebilir?

- A) Yenilik
- B) Kültür
- C) Motivasyon
- D) Küreselleşme

11. Aşağıdaki ifadelerden hangisi yanlıştır?

- A) Girişimci, bir ayakkabı satıcısı olabilir.
- B) Girişimci, üretim faktörleri ile ilgilenmez.
- C) Girişimcide, yöneticilik özellikleri de bulunmalıdır.
- D) Girişimci, risk almaya yatkındır.

12. Girişimcinin faaliyetlerindeki asıl hedef - - - - elde etmektir.

Verilen cümlede boş bırakılan yere aşağıdakilerden hangisinin gelmesi uygundur?

- A) Kâr
- B) Zarar
- C) Ham madde
- D) Ürün

13. Henry Ford'un o güne kadar tek tek yapılan otomobil üretiminde montaj hattını kullanıp seri üretime geçmesi, neye örnek olarak verilebilir?

- A) Yeni organizasyonlar kurmak
- B) Yeni pazarlara ulaşmak
- C) Yeni hammadde kaynakları bulmak
- D) Yeni üretim yöntemleri geliştirmek ve uygulayabilmek

14. Aşağıdakilerden hangisi girişimcilerin temel özellikleri arasında yer almaz?

- A) Adil olmak
- B) Sosyal olmak
- C) Tarafalı olmak
- D) Uyumlu olmak

15. Aşağıdaki ifadelerden hangisi doğrudur?

- A) Girişimci hayal kurmaz.
- B) Girişimcilik, hırslılık ve kararlılık işidir.
- C) Girişimci risk almaz.
- D) Girişimci iş piyasasını takip etmez.

16. Yüksek düzeyde performans gösterme ya da rekabet ortamında öne çıkma arzusu aşağıdakilerden hangisini ifade eder?

- A) Odaklanmayı
- B) Başarma ihtiyacını
- C) Vizyonu
- D) Enerjik olmayı

17. Aşağıdaki ifadelerden hangisi yanlıştır?

- A) Uzun ve kısa vadeli planlama yapılabilir.
- B) Planlama, amaçlara ulaşmak için çeşitli alternatiflerin değerlendirilmelerini kapsayan süreçleri içerir.
- C) Planlama yaparken çevre koşullarına dikkat etmeye gerek yoktur.
- D) Planlama, kaynakların etkin bir şekilde kullanılabilmesini sağlar.

18. "Bilgi ve becerilerim", "genel kültürüm" ve "pozitif enerjim" SWOT analizinde hangi kategori içerisinde yer alır?

- A) Güçlü yönler
- B) Değerler
- C) Örnek aldığımız kişiler
- D) Demografik bilgiler

19. Aşağıda verilen ifadelerden hangisi yanlıştır?

- A) Girişimci fark edilen olmalıdır.
- B) Girişimcinin diğer insanlardan farklı özelliklerinin olması gerekir.
- C) Girişimcinin kısa, orta ve uzun vadede ölçülebilen hedefleri olmalıdır.
- D) Girişimci kötü ihtimalleri göz ardı etmemelidir.

20. Bir kişinin, kuracağı işin ne kadar maliyet doğuracağını önceden hesaplayamadan veya varını yoğunu tek bir işe yatırarak işletme kurması, hangi hataya bir örnektir?

- A) Taklit
- B) Hatalı istihdam
- C) Hedefsizlik
- D) Yetersiz sermaye

## (999) MATEMATİK – 2

1.  $3x = 5y$  olduğuna göre  $\frac{5x + 3y}{5x - 3y}$  ifadesinin değeri aşağıdakilerden hangisidir?

- A)  $\frac{5}{2}$
- B)  $\frac{19}{8}$
- C)  $\frac{9}{4}$
- D)  $\frac{17}{8}$

2. 1800 m<sup>2</sup>, 2700 m<sup>2</sup> ve 3600 m<sup>2</sup> lik alana sahip üç parsel ayrılmış bir tarladan toplam 4500 kilogram ürün alınmıştır.

Parsellerin her birinden alınan ürün miktarı, o parselin alanı ile orantılı olduğuna göre 2700 m<sup>2</sup> lik alana sahip parselden alınan ürün miktarı kaç kilogramdır?

- A) 1500
- B) 1800
- C) 2100
- D) 2400

3. Mehmet 3900 TL'ye aldığı televizyonu 13 ay eşit taksitle ödemek istemektedir. Satıcı ise 900 TL'sini peşin vermesini geri kalanını da 6 ay eşit taksitle ödemesini istemektedir.

Buna göre bu iki durumda Mehmet'in ödemesi gereken aylık taksitler arasındaki fark kaç TL'dir?

- A) 400
- B) 250
- C) 200
- D) 150

4. Etiket fiyatı üzerinden %30 indirimle 280 liraya satın alınan bir malın etiket fiyatı kaç liradır?

- A) 400
- B) 380
- C) 360
- D) 340

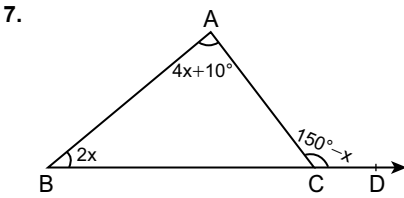
# 1. OTURUM

5. Tuz oranı %20 olan 40 litre tuzlu suya, tuz oranı %15 olan 10 litre tuzlu su ilave edildiğinde oluşan yeni karışımın tuz oranı yüzde kaç olur?

A) 16 B) 17 C) 18 D) 19

6. Aralarında 600 km mesafe bulunan iki şehirden aynı anda aynı yönde sabit hızla hareket eden iki araçtan hızlı olanın saatteki hızı 100 km'dir. Hızlı olan araç yavaş olan araca hareketinden 15 saat sonra yetiştiğine göre yavaş olan aracın hızı saatte kaç kilometredir?

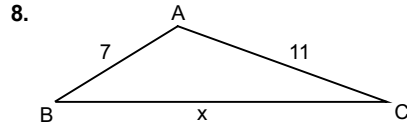
A) 55 B) 60 C) 65 D) 70



Şekildeki ABC üçgeninde  $m(\widehat{BAC}) = 4x + 10^\circ$ ,  $m(\widehat{ABD}) = 2x$  ve  $m(\widehat{ACD}) = 150^\circ - x$ 'tir.

Buna göre x kaç derecedir?

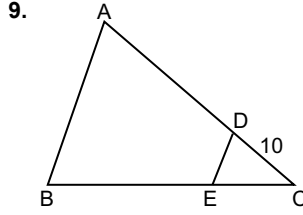
A) 10 B) 15 C) 20 D) 25



Şekildeki ABC üçgeninde  $|AB| = 7$  cm,  $|AC| = 11$  cm,  $|BC| = x$  cm ve  $m(\widehat{A}) > m(\widehat{B})$  dir.

Buna göre x kaç farklı tam sayı değeri alabilir?

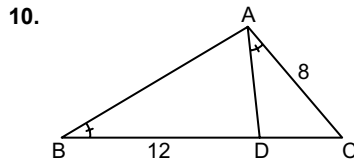
A) 6 B) 8 C) 11 D) 13



Şekildeki ABC üçgeninde  $[AB] \parallel [DE]$  ve  $2|BC| = 5|EC|$ ,  $|DC| = 10$  cm'dir.

Buna göre |AD| kaç santimetredir?

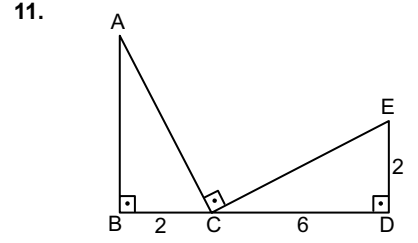
A) 20 B) 18 C) 15 D) 12



Şekildeki ABC üçgeninde  $m(\widehat{ABC}) = m(\widehat{DAC})$  ve  $|AC| = 8$  cm,  $|BD| = 12$  cm'dir.

Buna göre |DC| kaç santimetredir?

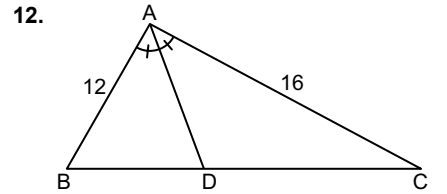
A) 7 B) 6 C) 5 D) 4



Şekilde  $|BC| = |DE| = 2$  cm,  $|CD| = 6$  cm,  $m(\widehat{ABD}) = m(\widehat{ACE}) = m(\widehat{BDE}) = 90^\circ$  dir.

Buna göre |AC| kaç santimetredir?

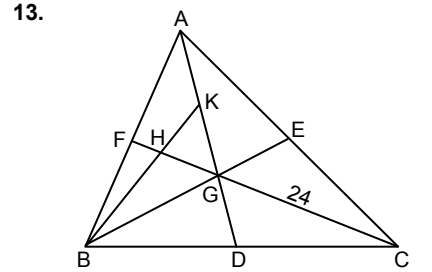
A)  $4\sqrt{2}$  B)  $2\sqrt{10}$   
C)  $3\sqrt{5}$  D)  $5\sqrt{2}$



Şekildeki ABC üçgeninde  $m(\widehat{BAD}) = m(\widehat{DAC})$  ve  $|AB| = 12$  cm,  $|AC| = 16$  cm,  $|BC| = 14$  cm'dir.

Buna göre |BD| kaç santimetredir?

A) 6 B) 7 C) 8 D) 9



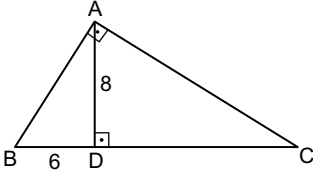
Şekildeki ABC üçgeninde  $|BD| = |DC|$ ,  $|AE| = |EC|$ ,  $|AK| = |KG|$  ve  $|GC| = 24$  cm'dir.

Buna göre |FH| kaç santimetredir?

A) 9 B) 8 C) 6 D) 4

# 1. OTURUM

14.

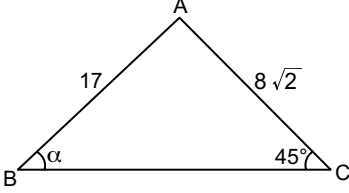


Şekildeki ABC üçgeninde  $[BA] \perp [AC]$ ,  $[AD] \perp [BC]$  ve  $|BD| = 6$  cm,  $|AD| = 8$  cm'dir.

**Buna göre  $|DC|$  kaç santimetredir?**

- A)  $\frac{32}{3}$  B) 10 C) 9 D)  $\frac{9}{2}$

15.

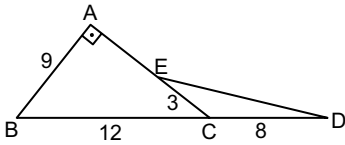


Şekildeki ABC üçgeninde  $|AB| = 17$  cm,  $|AC| = 8\sqrt{2}$  cm ve  $m(\widehat{ABC}) = \alpha$ ,  $m(\widehat{ACB}) = 45^\circ$  dir.

**Buna göre  $\tan \alpha$  kaçtır?**

- A)  $\frac{1}{3}$  B)  $\frac{2}{5}$  C)  $\frac{8}{15}$  D)  $\frac{3}{5}$

16.

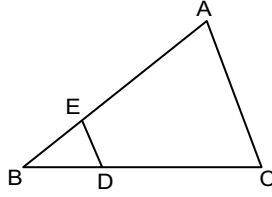


Şekildeki ABC ve ECD üçgenlerinde B, C, D noktaları doğrusal,  $E \in [AC]$ ,  $m(\widehat{BAC}) = 90^\circ$  ve  $|AB| = 9$  cm,  $|BC| = 12$  cm,  $|CD| = 8$  cm,  $|EC| = 3$  cm'dir.

**Buna göre  $A(\widehat{ECD})$  kaç santimetrekaredir?**

- A) 8 B) 9 C) 10 D) 12

17.



Şekildeki ABC üçgeninde  $[AC] \parallel [ED]$ ,  $|AE| = 4|EB|$  ve  $A(\widehat{EBD}) = 3$  cm<sup>2</sup> dir.

**Buna göre  $A(\widehat{EDCA})$  kaç santimetrekaredir?**

- A) 75 B) 74 C) 73 D) 72

18. 27, 11, 31, 27, 15, 6 sayılarından oluşan veri grubunun ortanca değeri kaçtır?

- A) 15 B) 21 C) 27 D) 30

19. Yaş ortalaması 26 olan 8 kişilik bir gruptan yaşları 28 ve 12 olan iki kişi ayrılıyor.

**Buna göre kalanların yaş ortalaması kaçtır?**

- A) 24 B) 26 C) 28 D) 30

20.

Meyve Çeşitleri	Elma	Portakal	Ayva
Meyve Miktarları (kg)	405	450	225

Şekildeki tablo bir manavın bir haftada sattığı üç çeşit meyvenin miktarlarını göstermektedir.

**Buna göre bu tablo daire grafiği ile gösterildiğinde elma miktarını gösteren daire diliminin merkez açısının ölçüsü kaç derece olur?**

- A) 135 B) 150 C) 165 D) 180

**TEST BİTTİ.  
CEVAPLARINIZI KONTROL  
EDİNİZ.**

## CEVAP KÂĞIDI VE SORU KİTAPÇIĞI İLE İLGİLİ AÇIKLAMALAR

1. Cevap kâğıdınızdaki bilgilerin doğruluğunu kontrol ediniz ve cevap kâğıdınızı mürekkepli kalemle imzalayınız.
2. Cevap kâğıdı üzerinde kodlamalarınızı siyah kurşun kalemle yapınız.
3. Değiştirmek istediğiniz bir cevabı, yumuşak silgiyle cevap kâğıdını örselemeden temizce siliniz ve yeni cevabınızı kodlayınız.
4. Soru kitapçığının sayfalarını görevlilerin uyarıları doğrultusunda kontrol ediniz, baskı hatası var ise değiştirilmesini sağlayınız.
5. Soruların çözümü için size ayrıca boş kâğıt verilmeyecektir. Soru kitapçığının içindeki boş alanları soru çözümleri için kullanabilirsiniz.
6. Her sorunun dört seçeneğinden sadece biri doğrudur. Doğru seçeneği, cevap kâğıdınızın ilgili sütununa soru numarasını dikkate alarak yuvarlağın dışına taşırmadan kodlayınız. Soru kitapçığı üzerinde yapılan cevaplandırmalar dikkate alınmayacaktır.
7. Cevaplamaya istediğiniz dersin sorusundan başlayabilirsiniz. Cevabını bilmediğiniz sorular üzerinde fazla zaman kaybetmeden diğer sorulara geçiniz. Zamanınız kalırsa bu sorulara daha sonra dönebilirsiniz.
8. Yanlış cevaplarınız dikkate alınmadan sadece doğru cevaplarınız üzerinden puanlama yapılacaktır.
9. Soruları ve sorulara verdiğiniz cevapları, yanınızda götürmek amacıyla kaydetmeyiniz; hiçbir şekilde dışarı çıkarmayınız.
10. Sınav bitiminde soru kitapçığı ve cevap kâğıdını salon görevlilerine teslim ediniz.

## SALON GÖREVLİLERİNCE SINAV BAŞLAMADAN ÖNCE ADAYLARA YAPILACAK SON UYARILAR

- Soracağınız bir şey varsa şimdi sorunuz, sınav başladıktan sonra sorularınıza cevap verilmeyecektir.
- Başlama zilini bekleyiniz.

*Hepinize başarılar dileriz.*

**(Salon başkanı başlama ve bitiş saatini tahtaya yazacaktır.)**

Bu kitapçığın her hakkı saklıdır. Hangi amaçla olursa olsun, kitapçığın tamamının veya bir kısmının Millî Eğitim Bakanlığı Ölçme, Değerlendirme ve Sınav Hizmetleri Genel Müdürlüğünün yazılı izni olmadan kopya edilmesi, fotoğraflarının çekilmesi, bilgisayar ortamına alınması, herhangi bir yolla çoğaltılması, yayımlanması veya başka bir amaçla kullanılması yasaktır. Bu yasağa uymayanlar, doğabilecek cezai sorumluluğu ve kitapçığın hazırlanmasındaki mali külfeti peşinen kabullenmiş sayılır.



8 ARALIK 2018 TARİHİNDE YAPILAN AÇIKÖĞRETİM LİSESİ / MESLEKİ AÇIKÖĞRETİM LİSESİ /  
AÇIKÖĞRETİM İMAM HATİP LİSESİ  
2018-2019 ÖĞRETİM YILI 1. DÖNEM SINAVI 1. OTURUM T KİTAPÇIĞI CEVAP ANAHTARI

(111) DİN KÜL. AHL. BİL. – 1

1. A
2. B
3. D
4. C
5. B
6. D
7. C
8. A
9. B
10. C
11. A
12. D
13. B
14. A
15. D
16. C
17. D
18. B
19. A
20. C

(115) DİN KÜL. AHL. BİL. – 5

1. B
2. D
3. A
4. C
5. D
6. A
7. B
8. C
9. A
10. B
11. D
12. C
13. D
14. C
15. A
16. B
17. D
18. B
19. C
20. A

(125) FELSEFE – 3

1. D
2. C
3. A
4. D
5. B
6. C
7. C
8. B
9. D
10. A
11. D
12. A
13. B
14. C
15. A
16. C
17. B
18. D
19. C
20. B

(136) SEÇMELİ TARİH – 2

1. A
2. D
3. B
4. C
5. A
6. B
7. C
8. D
9. C
10. A
11. D
12. B
13. B
14. A
15. C
16. D
17. B
18. A
19. A
20. C

(112) DİN KÜL. AHL. BİL. – 2

1. B
2. C
3. D
4. A
5. D
6. C
7. A
8. B
9. D
10. B
11. A
12. C
13. D
14. C
15. A
16. B
17. D
18. B
19. C
20. A

(121) FELSEFE – 1

1. A
2. B
3. C
4. D
5. A
6. B
7. C
8. B
9. A
10. C
11. D
12. A
13. C
14. B
15. D
16. C
17. C
18. D
19. B
20. A

(132) TARİH – 2

1. B
2. A
3. D
4. C
5. B
6. D
7. A
8. A
9. C
10. B
11. D
12. D
13. A
14. C
15. B
16. A
17. D
18. C
19. A
20. B

(151) COĞRAFYA – 1

1. B
2. A
3. D
4. C
5. A
6. C
7. B
8. D
9. D
10. A
11. C
12. D
13. C
14. B
15. D
16. C
17. A
18. B
19. C
20. A

8 ARALIK 2018 TARİHİNDE YAPILAN AÇIKÖĞRETİM LİSESİ / MESLEKİ AÇIKÖĞRETİM LİSESİ /  
AÇIKÖĞRETİM İMAM HATİP LİSESİ  
2018-2019 ÖĞRETİM YILI 1. DÖNEM SINAVI 1. OTURUM T KİTAPÇIĞI CEVAP ANAHTARI

(155) SEÇMELİ COĞRAFYA – 1

1. D
2. B
3. A
4. D
5. A
6. D
7. C
8. C
9. B
10. B
11. A
12. B
13. C
14. D
15. A
16. B
17. D
18. C
19. D
20. A

(181) İNGİLİZCE – 1

1. D
2. A
3. C
4. D
5. B
6. C
7. A
8. A
9. C
10. D
11. B
12. C
13. A
14. D
15. B
16. D
17. C
18. A
19. B
20. D

(181) FRANSIZCA – 1

1. A
2. C
3. B
4. D
5. B
6. D
7. A
8. C
9. B
10. A
11. C
12. A
13. D
14. D
15. B
16. C
17. C
18. B
19. D
20. A

(244) İNGİLİZCE – 5

1. D
2. A
3. C
4. B
5. D
6. A
7. B
8. D
9. B
10. C
11. A
12. C
13. D
14. B
15. A
16. D
17. B
18. C
19. A
20. D

(157) SEÇMELİ COĞRAFYA – 3

1. D
2. B
3. B
4. A
5. C
6. D
7. A
8. C
9. A
10. D
11. C
12. A
13. B
14. B
15. C
16. B
17. C
18. D
19. A
20. D

(181) ALMANCA – 1

1. B
2. A
3. D
4. D
5. C
6. A
7. A
8. B
9. D
10. C
11. A
12. B
13. B
14. C
15. D
16. C
17. D
18. C
19. A
20. B

(222) SAĞLIK BİLGİSİ VE  
TRAFİK KÜLTÜRÜ – 2

1. A
2. D
3. C
4. D
5. C
6. A
7. D
8. C
9. B
10. A
11. D
12. B
13. C
14. D
15. A
16. B
17. C
18. D
19. A
20. B

(244) ALMANCA – 5

1. C
2. D
3. A
4. B
5. A
6. C
7. D
8. C
9. B
10. B
11. D
12. D
13. B
14. C
15. A
16. A
17. C
18. B
19. D
20. A

8 ARALIK 2018 TARİHİNDE YAPILAN AÇIKÖĞRETİM LİSESİ / MESLEKİ AÇIKÖĞRETİM LİSESİ /  
AÇIKÖĞRETİM İMAM HATİP LİSESİ  
2018-2019 ÖĞRETİM YILI 1. DÖNEM SINAVI 1. OTURUM T KİTAPÇIĞI CEVAP ANAHTARI

(244) FRANSIZCA – 5	(425) SEÇMELİ FİZİK – 1	(436) SEÇMELİ KİMYA – 2	(443) BİYOLOJİ – 3
1. B	1. D	1. B	1. C
2. C	2. A	2. D	2. B
3. A	3. B	3. B	3. A
4. D	4. D	4. A	4. D
5. D	5. A	5. C	5. A
6. C	6. B	6. A	6. C
7. A	7. D	7. C	7. C
8. B	8. C	8. A	8. D
9. B	9. B	9. C	9. B
10. A	10. D	10. B	10. A
11. C	11. B	11. D	11. D
12. D	12. D	12. D	12. C
13. A	13. B	13. B	13. C
14. C	14. C	14. D	14. B
15. C	15. A	15. A	15. A
16. A	16. C	16. B	16. D
17. D	17. A	17. C	17. C
18. B	18. A	18. A	18. A
19. C	19. B	19. C	19. D
20. B	20. C	20. A	20. A

(421) FİZİK – 1	(432) KİMYA – 2	(441) BİYOLOJİ – 1	(446) SEÇMELİ BİYOLOJİ – 2
1. C	1. C	1. B	1. C
2. D	2. B	2. D	2. D
3. C	3. D	3. A	3. B
4. B	4. A	4. C	4. A
5. C	5. C	5. D	5. C
6. D	6. B	6. C	6. A
7. D	7. C	7. A	7. D
8. C	8. B	8. B	8. A
9. A	9. D	9. D	9. B
10. B	10. A	10. A	10. A
11. D	11. B	11. C	11. C
12. B	12. A	12. B	12. D
13. D	13. B	13. B	13. B
14. A	14. A	14. C	14. D
15. A	15. C	15. D	15. C
16. B	16. D	16. A	16. A
17. B	17. C	17. B	17. B
18. A	18. D	18. C	18. D
19. B	19. A	19. B	19. B
20. C	20. C	20. A	20. C

8 ARALIK 2018 TARİHİNDE YAPILAN AÇIKÖĞRETİM LİSESİ / MESLEKİ AÇIKÖĞRETİM LİSESİ /  
AÇIKÖĞRETİM İMAM HATİP LİSESİ  
2018-2019 ÖĞRETİM YILI 1. DÖNEM SINAVI 1. OTURUM T KİTAPÇIĞI CEVAP ANAHTARI

(461) SEÇMELİ EKONOMİ – 1

1. B
2. B
3. A
4. C
5. D
6. D
7. B
8. A
9. A
10. C
11. A
12. D
13. D
14. C
15. A
16. B
17. C
18. C
19. D
20. B

(477) SEÇMELİ İŞLETME – 2

1. D
2. B
3. D
4. A
5. C
6. B
7. C
8. B
9. D
10. B
11. C
12. C
13. A
14. B
15. A
16. D
17. C
18. D
19. C
20. A

(502) İNGİLİZCE – 8

1. D
2. A
3. A
4. C
5. B
6. C
7. D
8. A
9. A
10. B
11. C
12. A
13. C
14. C
15. A
16. D
17. B
18. D
19. C
20. B

(502) FRANSIZCA – 8

1. B
2. C
3. A
4. D
5. A
6. B
7. D
8. C
9. D
10. B
11. C
12. A
13. B
14. D
15. C
16. A
17. C
18. D
19. A
20. A

(465) TEMEL DİNİ BİL.- 1

1. C
2. D
3. B
4. A
5. C
6. A
7. D
8. B
9. A
10. D
11. B
12. C
13. D
14. A
15. C
16. B
17. D
18. C
19. B
20. A

(479) SEÇMELİ MANTIK – 2

1. A
2. C
3. D
4. B
5. C
6. B
7. A
8. D
9. C
10. B
11. C
12. A
13. B
14. D
15. B
16. D
17. A
18. C
19. D
20. A

(502) ALMANCA – 8

1. B
2. A
3. D
4. C
5. B
6. A
7. D
8. A
9. C
10. C
11. B
12. A
13. D
14. C
15. A
16. B
17. D
18. C
19. B
20. D

(511) FIKİH – 1

1. B
2. A
3. C
4. D
5. C
6. D
7. B
8. A
9. D
10. C
11. A
12. B
13. A
14. B
15. C
16. D
17. A
18. D
19. B
20. C

8 ARALIK 2018 TARİHİNDE YAPILAN AÇIKÖĞRETİM LİSESİ / MESLEKİ AÇIKÖĞRETİM LİSESİ /  
AÇIKÖĞRETİM İMAM HATİP LİSESİ  
2018-2019 ÖĞRETİM YILI 1. DÖNEM SINAVI 1. OTURUM T KİTAPÇIĞI CEVAP ANAHTARI

(532) SEÇMELİ PEYGAMBERİMİZİN  
HAYATI – 2

1. D
2. B
3. C
4. A
5. B
6. A
7. C
8. D
9. B
10. A
11. C
12. D
13. C
14. B
15. A
16. D
17. A
18. D
19. C
20. B

(547) TÜRK DİLİ VE  
EDEBİYATI – 7

1. D
2. C
3. A
4. D
5. B
6. D
7. A
8. D
9. B
10. A
11. A
12. D
13. C
14. A
15. C
16. B
17. B
18. C
19. B
20. C

(609) SEÇMELİ MATEMATİK – 2

1. B
2. A
3. B
4. D
5. C
6. A
7. A
8. C
9. C
10. D
11. A
12. C
13. B
14. D
15. A
16. B
17. C
18. B
19. C
20. D

(621) SEÇMELİ TÜRK DİLİ VE  
EDEBİYATI – 3

1. D
2. A
3. D
4. A
5. B
6. D
7. C
8. A
9. B
10. A
11. D
12. C
13. C
14. D
15. A
16. C
17. B
18. D
19. D
20. C

(544) TÜRK DİLİ VE  
EDEBİYATI – 4

1. A
2. C
3. A
4. D
5. A
6. C
7. B
8. D
9. C
10. C
11. D
12. A
13. D
14. D
15. A
16. B
17. A
18. B
19. C
20. D

(548) TÜRK DİLİ VE  
EDEBİYATI – 8

1. A
2. B
3. D
4. A
5. C
6. D
7. D
8. B
9. A
10. D
11. A
12. D
13. C
14. D
15. C
16. A
17. B
18. C
19. C
20. B

(611) DİNLER TARİHİ – 1

1. C
2. A
3. D
4. B
5. C
6. A
7. B
8. D
9. A
10. C
11. D
12. B
13. D
14. A
15. B
16. C
17. B
18. D
19. C
20. A

(622) SEÇMELİ TÜRK DİLİ VE  
EDEBİYATI – 4

1. D
2. C
3. A
4. B
5. B
6. D
7. C
8. A
9. B
10. A
11. C
12. B
13. C
14. C
15. A
16. D
17. B
18. B
19. B
20. A

8 ARALIK 2018 TARİHİNDE YAPILAN AÇIKÖĞRETİM LİSESİ / MESLEKİ AÇIKÖĞRETİM LİSESİ /  
AÇIKÖĞRETİM İMAM HATİP LİSESİ  
2018-2019 ÖĞRETİM YILI 1. DÖNEM SINAVI 1. OTURUM T KİTAPÇIĞI CEVAP ANAHTARI

(713) İSLAM KÜLTÜR VE MEDENİYETİ – 1	(819) KELAM – 1	(931) SİYER – 1	(999) MATEMATİK – 2
1. B	1. B	1. A	1. D
2. C	2. C	2. D	2. A
3. D	3. D	3. B	3. C
4. A	4. A	4. C	4. A
5. B	5. B	5. B	5. D
6. D	6. C	6. C	6. B
7. C	7. A	7. A	7. C
8. A	8. D	8. D	8. A
9. D	9. C	9. A	9. C
10. C	10. D	10. C	10. D
11. B	11. A	11. D	11. B
12. A	12. B	12. B	12. A
13. C	13. D	13. A	13. D
14. B	14. C	14. B	14. A
15. D	15. B	15. D	15. C
16. A	16. A	16. C	16. B
17. D	17. D	17. D	17. D
18. A	18. C	18. B	18. B
19. B	19. B	19. A	19. C
20. C	20. A	20. C	20. A

(817) AKAİD – 1	(825) OSMANLI TÜRKÇESİ – 1	(974) SEÇMELİ GİRİŞİMCİLİK – 1
1. A	1. C	1. C
2. C	2. A	2. B
3. B	3. D	3. A
4. D	4. C	4. D
5. B	5. B	5. C
6. A	6. A	6. B
7. D	7. B	7. A
8. C	8. C	8. A
9. B	9. D	9. C
10. A	10. C	10. D
11. D	11. B	11. B
12. C	12. A	12. A
13. D	13. A	13. D
14. C	14. C	14. C
15. A	15. B	15. B
16. B	16. B	16. B
17. A	17. D	17. C
18. D	18. A	18. A
19. B	19. C	19. D
20. C	20. B	20. D