

T.C.
MİLLÎ EĞİTİM BAKANLIĞI
ÖLÇME, DEĞERLENDİRME VE
SINAV HİZMETLERİ GENEL MÜDÜRLÜĞÜ



AÇIK ÖĞRETİM LİSESİ / MESLEKİ AÇIK ÖĞRETİM LİSESİ
2016 - 2017 ÖĞRETİM YILI
1. DÖNEM SINAVI

1.
OTURUM

7 OCAK 2017 Saat: 09.30

<u>DERS KODU VE ADI</u>	<u>SAYFA</u>	<u>DERS KODU VE ADI</u>	<u>SAYFA</u>	<u>DERS KODU VE ADI</u>	<u>SAYFA</u>
(111) DİN KÜL. AHL. BİL. – 1	2	(407) DİL VE ANLATIM – 7	21	(502) İNGİLİZCE – 8	44
(112) DİN KÜL. AHL. BİL. – 2	3	(408) DİL VE ANLATIM – 8	22	(502) ALMANCA – 8	44
(115) DİN KÜL. AHL. BİL. – 5	4	(414) TÜRK EDEBİYATI – 4	24	(502) FRANZIZCA – 8	45
(121) FELSEFE – 1	5	(417) TÜRK EDEBİYATI – 7	25	(511) FIKIH – 1	46
(123) SEÇMELİ FELSEFE – 1	6	(418) TÜRK EDEBİYATI – 8	26	(532) HZ. MUHAMMED'İN HAY. – 2	47
(132) TARİH – 2	7	(421) FİZİK – 1	28	(609) MATEMATİK – 6	49
(136) TARİH – 6	8	(425) FİZİK – 5	29	(611) KARŞ. DİN. TAR. – 1	50
(151) COĞRAFYA – 1	9	(432) KİMYA – 2	31	(617) SEÇ. DİL VE ANLA. – 7	51
(155) COĞRAFYA – 5	11	(436) KİMYA – 6	32	(618) SEÇ. DİL VE ANLA. – 8	52
(157) COĞRAFYA – 7	12	(441) BİYOLOJİ – 1	33	(624) SEÇ. TÜRK ED. – 4	54
(181) İNGİLİZCE – 1	13	(443) BİYOLOJİ – 3	34	(627) SEÇ. TÜRK ED. – 7	55
(181) ALMANCA – 1	14	(446) BİYOLOJİ – 6	35	(628) SEÇ. TÜRK ED. – 8	56
(181) FRANZIZCA – 1	15	(461) EKONOMİ – 1	36	(711) İSLAM TARİHİ – 1	57
(244) İNGİLİZCE – 5	15	(465) TEMEL DİNİ BİL. – 1	37	(811) KELAM – 1	59
(244) ALMANCA – 5	16	(477) İŞLETME – 2	39	(931) SİYER – 1	60
(244) FRANZIZCA – 5	17	(479) MANTIK – 2	40	(974) GİRİŞİMCİLİK – 1	61
(401) DİL VE ANLATIM – 1	18	(484) SAĞLIK BİLGİSİ – 2	41	(999) MATEMATİK – 2	62
(402) DİL VE ANLATIM – 2	19	(491) TRAF. VE İLK YARD. – 1	42		

ADAYLARIN DİKKATİNE!

- Her ders için 20 soru bulunmaktadır. Bu oturumda **180** dakikalık cevaplama süreniz vardır. Sınav başladıktan sonra ilk **30** dakika tamamlanmadan dışarı çıkmayınız.
- Sınav sırasında çanta, cep telefonu, saat, kablosuz iletişim sağlayan cihazlar ve kulaklık, kolye, küpe, bilezik, yüzük, broş ve benzeri eşyalar ile her türlü elektronik ve/veya mekanik cihazları yanınızda bulundurmuyunuz. Bu araçları yanınızda bulundurmanız ve kopya çekmeye teşebbüs etmeniz hâlinde sınavınız geçersiz sayılacaktır.
- Başvuru şartlarını taşımadığınız hâlde sınava girmeniz, kopya çekmeniz, başka adayın sınav evrakını kullanmanız, geçerli kimlik belgenizi ve sınav giriş belgenizi ibraz edemediğiniz durumlarda sınavınız geçersiz sayılacaktır.
- Sınavın değerlendirilmesi aşamasında, bilgisayar ortamında yapılan kopya analizinde sistemin ikili ve/veya toplu kopya tespiti hâlinde sınavınız geçersiz sayılacaktır.
- Adaylar, sınav kurallarına ve salon görevlilerinin tüm uyarılarına uymak zorundadır. Kurallara ve uyarılara uymayan adayların sınavları geçersiz sayılacaktır.**
- Sınav başladıktan sonra adayların salon görevlileri ve birbirleri ile konuşmaları; kalem, silgi vb. şeyleri istemeleri yasaktır.
- Adaylar sınav süresince, sınav giriş belgesi ile geçerli kimlik belgelerinden birinin aslını (fotoğraflı nüfus cüzdanı, pasaport veya sürücü belgesi) masalarının üzerinde bulundurmamak zorundadır.
- Sınav evraklarını teslim etmeyen, soru kitapçıklarının sayfalarından bir kısmını eksik teslim edenlerin sınavları geçersiz sayılacaktır.**
- Sınav başlamadan önce kitapçığın arkasındaki açıklamaları okuyunuz.

BAŞLAYINIZ DENMEDEN SORU KİTAPÇIKLARINI AÇMAYINIZ.

1. OTURUM

(111) DİN KÜL. AHL. BİL. – 1

1. Aşağıdakilerden hangisi evrendeki diğer canlılara göre insanın farklılığını en iyi ifade eder?

- A) Bedensel bazı becerilerinin olması
- B) Beslenerek hayatını devam ettirmesi
- C) Bir erkek ve dişiden meydana gelmesi
- D) Akıl, irade ve konuşma yeteneğine sahip olması

2. İnanan ve sorumluluklarının bilincinde olan bir insandan aşağıdaki davranışlardan hangisini yapması beklenmez?

- A) Doğayı ve canlıları korur.
- B) Haksızlık karşısında sessiz kalır.
- C) Kimseyi incitmemeye dikkat eder.
- D) İbadetlerini tam olarak yerine getirmeye çalışır.

3. Doğru inanca sahip, manevi duyguları yüksek toplumlarda aşağıdakilerden hangisinin olması beklenmez?

- A) Suç işleme oranının düşmesi
- B) Huzur ve güven ortamının oluşması
- C) İlerleme ve yükselmenin yavaşlaması
- D) Millî ve manevî değerler etrafında birleşmesi

4. "Şayet yerde ve gökte Allah'tan başka ilahlar olsaydı yerin ve göğün düzeni bozulurdu..."
(Enbiyâ suresi, 22. ayet)

Bu ayette aşağıdaki inanç biçimlerinden hangisi vurgulanmaktadır?

- A) Monoteizm
- B) Politeizm
- C) Satanizm
- D) Ateizm

5. Aşağıdakilerden hangisi ibadetlerin yapılış amaçlarından biri olamaz?

- A) Yaratıcıya şükretmek
- B) İnsanlara hoş görünmek
- C) Kulluk görevini yerine getirmek
- D) Allah'ın rızasını kazanmak

6. Aşağıdakilerden hangisi ibadetlerin insana kazandırdıkları arasında sayılamaz?

- A) Dünyâ ile olan bağı koparır.
- B) İmanı daha güçlü hale getirir.
- C) Allah'a olan sevgi ve saygıyı artırır.
- D) Kötü duygu ve düşüncelerden uzaklaştırır.

7. Aşağıdakilerden hangisi hem madî hem manevî temizliktir?

- A) Gusül abdesti
- B) Elbise temizliği
- C) Çevre temizliği
- D) Beden temizliği

8. Usulüne uygun olarak abdest almakta olan bir kişi kollarını yıkadıktan sonra aşağıdakilerden hangisini yapar?

- A) Yüzünü yıkar.
- B) Ağzını temizler.
- C) Ayaklarını yıkar.
- D) Başını mesh eder.

9. Aşağıdakilerden hangisi Kur'an-ı Kerim'in ana konularından biridir?

- A) İnsanın yaratılışı
- B) İnanç esasları
- C) Evrenin işleyişi
- D) Peygamber isimleri

10. Teym kabilesi ileri gelenlerinden Abdullah b. Cüd'ân'ın evinde toplanan kurucu üyeler; zulme uğrayanların haklarını zalimlerden alıncaya kadar mücadele edeceklerine, Mekke halkından ve Mekke'ye dışarıdan gelen kimselerden haksızlığa uğrayanların yanında yer alacaklarına ve zalimden hakkını alıncaya kadar mazlumu destekleyeceklerine dair karar aldılar.

Hz. Muhammed (sav.) de katıldığı bu cemiyet aşağıdakilerden hangisiyle isimlendirilmiştir?

- A) Akabe Biatı
- B) Hilfû'l-Fudûl
- C) Rıdvan Biatı
- D) Dârun-Nedve

11. Aşağıdakilerden hangisi Hz. Muhammed'e (sav.) "emin" sıfatı verilmesinin nedenlerinden biri değildir?

- A) Yetim olması
- B) Dürüst olması
- C) Adaletli olması
- D) Güvenilir olması

12. "Ey örtünüp bürünen (Peygamber!) Kalk da uyar; Rabb'ini yücelt. Elbiseni temiz tut. Kötülüklerden uzak dur."
(Müddessir suresi, 1-5. ayetler)

Bu ayetle Hz. Muhammed'e (sav.) aşağıdakilerden hangisi emredilmiştir?

- A) Kâbe'yi putlardan temizlemesi
- B) İbadetlerini açıktan yapması
- C) İslam dinini yaymaya başlaması
- D) İnananlara şefkatli davranması

13. Müslümanların ibadetlerini açıktan yapmaya başlamalarında aşağıdakilerden hangisi etkili olmuştur?

- A) Habeşistan'a hicret edilmesi
- B) Boykot yıllarının sona ermesi
- C) Müşriklerin baskı ve işkencelerini azaltması
- D) Hz. Hamza ve Hz. Ömer'in Müslüman olması

14. Aşağıdakilerden hangisi Hz. Muhammed'in (sav.) hicret tarihidir?

- A) 571
- B) 610
- C) 622
- D) 632

15. Kur'an-ı Kerim ile ilgili aşağıda verilen bilgilerden hangisi yanlıştır?

- A) İndirilmesi yirmi üç yıl sürmüştür.
- B) Hz. Muhammed'in (sav.) vefatından sonra yazıya geçirilmiştir.
- C) Parça parça indirilmesi ezberlenmesini, yaşanmasını kolaylaştırmıştır.
- D) Mekke döneminde inen ayetlerde ağırlıklı olarak tevhit konusu yer alır.

16. Kuran-ı Kerim'in kitap haline getirilme sürecinde aşağıdakilerden hangisi etkin rol almıştır?

- A) Bilali Habeş
- B) Zeyd b. Sabit
- C) Muaz b. Cebel
- D) Musab b. Umeyr

17. Peygamberimiz her yılın Ramazan ayında, o güne kadar inen ayetleri Cebrail'e okumuş ve Cebrail de onu takip etmiştir. Bu uygulama İslam toplumunda yerleşmiş ve bir gelenek halini almıştır.

Metinde aşağıdaki kavramların hangisinden söz edilmektedir?

- A) Mukabele
- B) Hatim
- C) Tecvit
- D) Mevlit

18. Kur'an-ı Kerim'in başka dillere tercüme edilmesinin amacı aşağıdakilerden hangisidir?

- A) Mealini okumanın daha sevap olması
- B) Farklı dil konuşanların anlayabilmesi
- C) Ezberlenmesinin kolaylaştırılması
- D) Arapça okunuşunun terkedilmesi

1. OTURUM

19. "Ey iman edenler! Kendi evinizden başka evlere, geldiğinizi fark ettirip (izin alıp) ev halkına selam vermedikçe girmeyin. Bu davranış sizin için daha hayırlıdır, herhalde (bunu) düşünüp anlarsınız."

(Nur suresi, 27. ayet)

Bu ayet Kur'an'ın aşağıdaki konularından hangisi ile ilişkilidir?

- A) Kıssa B) İbadet
C) Ahlak D) İnanç

20. Hz. Muhammed'in (sav.) doğduğu dönemde Arap Yarımadası'nda en yaygın olan inanç biçimi aşağıdakilerden hangisidir?

- A) Haniflik B) Yahudilik
C) Hristiyanlık D) Putperestlik

(112) DİN KÜL. AHL. BİL. – 2

1. Bir sokak hayvanına eziyet eden birine: "Bu yaptığın çok günahtır!" diyen kişinin bu sözü aşağıdakilerden hangisiyle ilişkilidir?

- A) Dini değerler
B) Milli değerler
C) Ahlaki değerler
D) Estetik değerler

2. Değerler ile ilgili aşağıdaki ifadelerden hangisi doğru değildir?

- A) Toplumdan topluma farklılık gösterebilir.
B) Dini, milli, estetik, ahlaki gibi çeşitleri vardır.
C) Yaşantımızı anlamlandırmamıza katkı sağlar.
D) Estetik değerleri ahlâki değerlere göre önceliklidir.

3. Aşağıdakilerden hangisi Türklerdeki İslam anlayışının oluşmasında etkili olan şahsiyetlerden biri değildir?

- A) İmam Maturidi
B) Ahmed bin Hanbel
C) Ahi Evran
D) Hacı Bayram Veli

4. Aşağıdakilerden hangisi milletimizi bir arada tutan, birlik ve beraberliğimizi sağlayan ortak değerlerimizden değildir?

- A) Allah inancı
B) Kitle iletişim araçları
C) Bayrak ve İstiklal Marşı
D) Hz. Muhammed ve Kur'an sevgisi

5. "...Hiçbir günahkâr diğerinin günahını çekmez. Nihayet hepinizin dönüp gidişi, Rabb'inizedir. Yaptıklarınızı O size haber verir. Çünkü O, kalplerde olan herşeyi hakkıyla bilendir."

(Zümer suresi, 7. ayet)

Bu ayetle ortaya konmak istenen asıl düşünce aşağıdakilerden hangisidir?

- A) Sevap da günah da gizlidir.
B) Allah her şeyi bilendir.
C) Din, bireyi esas alır.
D) Ölüm, değişmeyen tek gerçektir.

6. Milli değerlerimizden olan bayrağımız ile ilgili aşağıda verilen bilgilerden hangisi yanlıştır?

- A) Göndere çekilirken selam durulur.
B) Yere düşürülmez, atılmaz, yakılmaz.
C) Rengini şehitlerimizin kanından almıştır.
D) Her evde bir tane bulundurulması zorunludur.

7. "Seçme seçilme ve bilgi edinmek istediği konularda ilgili yerlere dilekçe verebilme" gibi haklar **anayasamızda belirtilen insan haklarından hangisine girer?**

- A) Kişi hakları
B) Siyasi haklar
C) Sosyal haklar
D) Ekonomik haklar

8. Dalgalandığın yerde ne korku ne keder Gölgede bana da, bana da yer ver Sabah olmasın, günler doğmasın ne çıkar

Yurda ay-yıldızın ışığı yeter.

Bu dizelerde dile getirilen milli değer aşağıdakilerden hangisidir?

- A) İstiklal Marşı B) Milli seciye
C) Bayrak D) Vatan

9. Laiklik ile ilgili aşağıda verilen bilgilerden hangisi yanlıştır?

- A) Kilisenin baskılarına tepki olarak ortaya çıkmıştır.
B) Yaygınlaşmaya başlaması 1789 Fransız İhtilali ile olmuştur.
C) Devletin din ve vicdan hürriyeti konusunda tarafsız olmasını ifade eder.
D) Hristiyan din adamlarının devlet işlerinde daha etkin hale gelmesini sağlamıştır.

10. Dinin insanı muhatap alması ve sorumlu tutması insanın hangi özelliğinden kaynaklanmaktadır?

- A) Ölümlü olması
B) Biyolojik bir yapıya sahip olması
C) Akıllı, düşünebilen ve irade sahibi olması
D) Üretken bir yapıya sahip olması

11. Aşağıdakilerden hangisi laikliğin temel amaçları arasında sayılamaz?

- A) Kanun önünde herkesin eşit olması
B) Ruhbanlığın ortadan kalkması
C) Din istismarının engellenmesi
D) Dini inanç ve özgürlüklerin sınırlandırılması

12. Peygamberler ve kutsal kitaplar aşağıdaki değerlerin hangisinin oluşmasında öncelikle etkili olmuştur?

- A) Dini B) Milli
C) Estetik D) Kültürel

13. Herkes, vicdan, dini inanç ve kanaat hürriyetine sahiptir. İnancın gereği olan ibadet, dini ayin ve törenler serbesttir. Kimse, ibadete, dini ayin ve törenlere katılmaya, dini inanç ve kanaatini açıklamaya zorlanamaz; dini inanç ve kanaatlerinden dolayı kınanamaz ve suçlanamaz.

Anayasa'mızın 24. maddesinde yer alan bu açıklamalar aşağıdaki hak ve özgürlüklerden hangisini ifade eder?

- A) Sağlık hakkı
B) Eğitim hakkı
C) İfade özgürlüğü
D) Din ve vicdan özgürlüğü

14. Devlet, vatandaşlarının dini öğrenme taleplerini karşılamak için çeşitli imkânlar sağlamakla görevlidir.

Aşağıdakilerden hangisi devletin bu konuda doğrudan sağladığı imkânlardan biri değildir?

- A) Cami derneklerinin kurulması
B) İlahiyat fakültelerinin açılması
C) İmam hatip liselerinin açılması
D) Diyanet İşleri Başkanlığı'nın kurulması

15. Aşağıdakilerden hangisi Türklerin İslamiyet'i benimsemelerinde etkili olan sebeplerden biri değildir?

- A) Son indirilen din oluşu
B) Hoşgörü ve sevgi anlayışı
C) Türklerin mizacına uygunluğu
D) Gök Tanrı inancı ile olan benzerlikleri

1. OTURUM

16. Aşağıdakilerden hangisi Atatürk'ün Balıkesir Hutbesi'nde dile getirdiği hususlardan biri değildir?

- A) İslam dininin akla ve mantığa uygun olduğu
- B) İslam dininin son ve mükemmel bir din olduğu
- C) Camilerde ibadet dışında bir şeyin yapılmaması gerektiği
- D) İşlerimizde Hz. Peygamber'in (sav.) yolunun takip edilmesi gerektiği

17. Aşağıdakilerden hangisi Türklerin İslamiyet'e geçiş sürecinde olumsuz bir etkiye sahiptir?

- A) Müslüman tüccarların ve derişilerin Türk boylarına yaptıkları ziyaretler
- B) Peygamber torunlarından bazılarının Türkistan bölgesine göç etmiş olmaları
- C) Abbasiler döneminde devletin Türklerle olan ilişkileri
- D) Emevilerin ırkçılığa dayalı siyasi tutumları

18. • 699 yılında Kûfe'de doğmuş,767 yılında Bağdat'ta vefat etmiştir.
• En meşhur öğrencileri İmam Ebu Yusuf, İmam Muhammed ve İmam Züfer'dir.
• "Fıkh-ı Ekber" ve "el Âlim ve'l – Müteallim" eserlerindedir.

Hakkında bilgi verilen İslam âlimi aşağıdakilerden hangisidir?

- A) İmam Maturidî
- B) İmam Ebû Hanife
- C) İmam Eş'arî
- D) İmam Şafîî

19.

	Yazar	Eser
I	Zemahşerî	Kanun fit-Tıp
II	Fahreddin Razi	Mefatihü'l Gayb
III	Muhammed Hamdi Yazır	Hak Dini Kur'an Dili
IV	İbn-i Sina	Kitabü's Şifa

Yukarıda verilen Türk İslam âlimleri ve eserleri eşleştirmelerinden hangisi yanlıştır?

- A) I B) II C) III D) IV

20. Arap harfleriyle güzel yazı yazma sanatıdır. Kufi, sülüs, nesih gibi çeşitleri vardır. Bu sanat daha çok camilerin iç süslemelerinde ve Kur'an-ı Kerim yazımında kullanılmıştır.

Hakkında bilgi verilen İslam sanatı aşağıdakilerden hangisidir?

- A) Ebru B) Mimari
- C) Hüsnuhat D) Minyatür

(115) DİN KÜL. AHL. BİL. – 5

1. "Başınıza gelen herhangi bir felaket (olumsuzluk), kendi elinizle işledikleriniz yüzündendir..."
(Şûra suresi, 30. ayet)

Bu ayette aşağıdaki kavramlardan hangisine vurgu yapılmaktadır?

- A) Tevekkül B) İmtihan
- C) İrade D) Akıl

2. "Yeryüzünde bulunan her canlı yok olacak. Ancak azamet ve ikram sahibi Rabb'inin zatı baki kalacak."
(Rahman suresi, 26-27. ayetler)

Bu ayetlerde aşağıdaki kavramlardan hangisi vurgulanmaktadır?

- A) Ecel- Ömür B) Emek-Rızık
- C) Hayır-Şer D) Sevap- Günah

3. Allah'ın, dünyadaki tüm canlılara yiyip – içmesi, yararlanması ve faydalanması amacıyla verdiği bütün nimetlere - - - denir.

Cümlede boş bırakılan yere aşağıdaki kavramlardan hangisinin getirilmesi uygun olur?

- A) nasip B) rızık
- C) kader D) kismet

4. • Hastaların oturarak namaz kılması
• Soğuk havalarda mest kullanılması
• Su bulunmadığında teyemmüm yapılabilmesi

Bu örnekler aşağıdaki hadislerden hangisi ile ilişkilendirilebilir?

- A) Kolaylaştırınız zorlaştırmayınız; müjdeleyiniz nefret ettirmeyiniz.
- B) İnsan şu iki şeyin kıymetini bilmez. Sağlık ve boş vakit.
- C) Müslüman Müslümanın kardeşidir.
- D) Temizlik imandandır.

5. Sıkıntılara ve zorluklara göğüs gerip tahammül etmek, başa gelenler karşısında Allah'a dayanıp ona güvenmektir.
Bu cümlede tanımı verilen kavram aşağıdakilerden hangisidir?

- A) Dayanışma B) Doğruluk
- C) Cesaret D) Sabır

6. Aşağıdakilerden hangisi İslam düşüncesinde ortaya çıkan ve düşünce ekollerini birleştiren temel konulardan biri değildir?

- A) Nübüvvet B) Ahiret inancı
- C) Tevhit D) İmamet

7. "De ki: Şüphesiz bana, dini Allah'a has kılarak, O'na ibadet etmem emredildi."
(Zümer suresi, 11. ayet)

Bu ayet ibadetlerde bulunması gereken ilkelerden hangisi ile ilişkilidir?

- A) Devamlılık
- B) Samimiyet ve isteklilik
- C) Gösterişten uzak olma
- D) Kolaylık ve güç yetirebilirlik

8. Kişinin kendisinin de ihtiyacı olan bir şeyi paylaşabilmesi, gerektiğinde fedakârlıkta bulunarak başkalarına yardım edebilmesidir.

Bu tanım aşağıdaki kavramlardan hangisine aittir?

- A) Hoşgörü B) Dayanışma
- C) Diğerkâmlık D) İstişare

9. Hz. Peygamber hayvanlara fazla yük yüklenmemesini ister, onların aç ve susuz bırakılmamalarını tavsiye ederdi.

Hz. Peygamber'in bu davranışı hangi özelliğinin bir yansımasıdır?

- A) Adaleti B) Bağışlaması
- C) Hoşgörüsü D) Merhameti

10. • İyi ve kötü, aklın bilgisi dâhilindedir.
• Büyük günah işleyen bir kimse din-den çıkmaz.
• Özellikle Türkler arasında kabul görmüştür.

Hakkında bilgi verilen itikadî mezhep aşağıdakilerden hangisidir?

- A) Eşarilik B) Maturidilik
- C) Mutezilik D) Haricilik

1. OTURUM

11. Aşağıdaki olaylardan hangisi itikadî mezheplerin doğuşuna sebep olmamıştır?

- A) Halifelik
- B) Cemal Vakası
- C) Ayetlerin yorumu
- D) İbadetlerin yapılışı

12. Aşağıdakilerden hangisi İslam düşüncesinde yorum farklılıklarının sonuçlarındandır?

- A) Mezhepler
- B) Ortam ve Kültür
- C) Dini metinler
- D) İnsanın yapısı

13. Açık, kesin, manası herkes tarafından aynı şekilde anlaşılan ayetlere ne ad verilir?

- A) Nasih
- B) Muhkem
- C) Müteşabih
- D) Huruf'u mukatta

14. • İlk halifelik Hz.Ali'nin hakkıdır.
• Hz.Ali, Hz. Muhammed (sav.)'den sonra insanların en üstünüdür.

Temel görüşlerinden bazıları verilen siyasi-itikadi mezhep hangisidir?

- A) Eşarilik
- B) Mu'tezile
- C) Şia
- D) Haricilik

15. • Vasıl bin Ata'nın görüşleri etrafında oluşmuş bir mezheptir.
• En çok taraftarı Abbasiler döneminde olmuştur.

Hakkında bilgi verilen itikadi mezhep aşağıdakilerden hangisidir?

- A) Mu'tezile
- B) Eşarilik
- C) Şia
- D) Maturidilik

16. Tarikat kelimesi daha çok aşağıdakilerden hangisinin yerine kullanılmaktadır?

- A) İtikadi mezhepler
- B) Fıkhi mezhepler
- C) Tasavvufi oluşumlar
- D) Siyasi oluşumlar

17. • Osmanlı Devleti'nin resmi mezhebi idi.

• Dini hükümler tahsis edilirken örf ve adetlerin bağlayıcılığı vardır.

Hakkında bilgi verilen fıkhi mezhep aşağıdakilerden hangisidir?

- A) Hanbelilik
- B) Malikilik
- C) Şafilik
- D) Hanefilik

18. "Vesiletü-n Necat" isimli eser aşağıdakilerin hangisi tarafından yazılmıştır?

- A) Süleyman Çelebi
- B) Evliya Çelebi
- C) Nedim
- D) Fuzuli

19. Aşağıdaki kavramlardan hangisi İslam inanç esaslarının tümünü ifade etmek için kullanılır?

- A) Hitabet
- B) Fıkıh
- C) Akait
- D) Tefsir

20. Aşağıdakilerden hangisi ehl-i beyten biridir?

- A) Hz.Ebu Bekir
- B) Hz. Ömer
- C) Hz. Osman
- D) Hz.Ali

(121) FELSEFE – 1

1. • Nesnel bir bilgidir.
• Akla ve bilimsel düşünceye dayanır.
• Amacı, ürettiği aletlerle doğayı insan lehine çevirmektir.

Bu özellikler aşağıdaki bilgi türlerinden hangisine aittir?

- A) Teknik bilgiye
- B) Felsefi bilgiye
- C) Sanat bilgisine
- D) Gündelik bilgiye

2. Felsefe insanın bilinçlenmesinde, evreni dünyayı ve kendini anlamasında, merak ve şüphe dürtüsünün doyurulmasında önemli bir işleve sahiptir. Her şeyden önce insanın var oluşunun anlamını sorgulamasını sağlar.

Bu açıklamada aşağıdakilerin hangisinden söz edilmiştir?

- A) Felsefenin anlamından
- B) Felsefenin işlevinden
- C) Felsefenin disiplinlerinden
- D) Felsefenin diğer alanlarla ilişkisinden

3. Aşağıdakilerden hangisi insan bilimleri arasında yer alır?

- A) Kimya
- B) Mantık
- C) Jeoloji
- D) Psikoloji

4. Aşağıdakilerden hangisi metafiziğin temel problemlerinden değildir?

- A) Ontolojik problemler
- B) Kozmolojik problemler
- C) Doğru bilginin imkânı problemi
- D) Tanrı ve ruhla ilgili problemler

5. Aşağıdakilerden hangisi felsefe ve dinin ortak yönüdür?

- A) İlahi kaynaklı olma
- B) Akıl yürütmeye dayanma
- C) Şüphe ve eleştiriye açık olma
- D) Evreni, insanı anlama ve açıklama çabasında olma

6. Aşağıdakilerden hangisi bilgi kuramının, "Doğru bilginin ölçütü nedir?" sorusuna verdiği cevaplardan değildir?

- A) Doğru bilgiye ulaşılamaz.
- B) Yarar sağlayan bilgi doğru bilgidir.
- C) Akla dayanan bilgi doğru bilgidir.
- D) Deneye dayanan bilgi doğru bilgidir.

7. "Belli bir bilgiyi ortaya koyan önermelerin gerekçelendirilmesi ve doğrulanmasıdır."

Yukarıda bilgi felsefesinin temel kavramlarından hangisi tanımlanmıştır?

- A) Süje
- B) Obje
- C) Gerçeklik
- D) Temellendirme

8. Modern felsefenin ve analitik geometrinin kurucusu sayılan rasyonalist filozof aşağıdakilerden hangisidir?

- A) Farabi
- B) John Locke
- C) Rene Descartes
- D) Auguste Comte

9. I. Kant'a göre bilgi duyumla başlar, ancak bilgi duyum değildir. Bilginin malzemesini duyumlar verir. Onu biçimlendiren ise akıldır. İnsan duyu organları aracılığıyla elde ettiği verileri aklındaki doğuştan getirdiği kalıplar sayesinde biçimlendirir, genel kavramlar biçiminde ortaya koyar.

Kant'ın bu görüşünden aşağıdakilerin hangisine ulaşılabilir?

- A) Doğru bilgi ideaların bilgisidir.
- B) Akılda doğuştan getirilen bilgiler yoktur.
- C) Bilgilerimiz sadece duyum yoluyla elde edilir.
- D) Akıl işe karışmazsa, duyumlar bilgiyi meydana getiremez.

1. OTURUM

10. "Gerçekliği, doğruluğu ve insan eylemlerinin sonuçlarını, sağladığı başarı ve yararlarla değerlendiren görüş" aşağıdakilerden hangisidir?

- A) Akılcılık B) Faydacılık
C) Deneycilik D) Eleştiricilik

11. "Bilgilerimiz doğuştan akıl yoluyla getirilir"

Bu düşünceyi savunan akım aşağıdakilerden hangisidir?

- A) Emprizim B) Kritisizim
C) Pragmatizm D) Rasyonalizm

12. Aşağıdakilerden hangisi bilim felsefesinin temel soruları arasında yer almaz?

- A) Bilim nedir?
B) Bilgi nedir?
C) Bilimin değeri nedir?
D) Bilimsel yöntem nedir?

13. Aşağıdakilerin hangisinde bilimi etkinlik olarak ele alan yaklaşımın temsilcileri birlikte verilmiştir?

- A) T. Hobbes – I.Kant
B) R. Carnap -T. Hobbes
C) T. Khun – S. Toulmin
D) H.Reichenbach- R. Carnap

14. Bilimde önermeler birbiriyle çelişmez. Tüm bilimsel yargılar mantık kurallarına uygundur.

Yukarıda bilimsel bilginin hangi özelliğinden söz edilmiştir?

- A) Objektifliğinden
B) Mantıksallığından
C) Eleştiriciliğinden
D) Genelleyiciliğinden

15. Aşağıdakilerden hangisi klasik bilim anlayışının dayandığı temel görüşlere ters düşer?

- A) Bilimler birbirine indirgenemez.
B) Bilim tümüyle akılcı bir etkinliktir.
C) Bilim nesnel gerçekliği konu edinir.
D) Bilim geçmişten günümüze artarak ilerlemiştir.

16. "Olguları betimlemek ve açıklamak amacıyla izlenen sistemli bilgi edinme yolu" aşağıdaki kavramlardan hangisiyle ifade edilir?

- A) Paradigma
B) Bilimsel bilgi
C) Bilimsel kuram
D) Bilimsel yöntem

17. Aşağıdakilerden hangisi varlık felsefesinin temel kavramlarından değildir?

- A) İdea B) Arkhe
C) Hipotez D) Metafizik

18. Aşağıdakilerden hangisi nesnelere gerçekte var olmadığını savunan görüşler arasında yer alır?

- A) İdealizm B) Nihilizm
C) Oluşçuluk D) Pozitivizm

19. Güzel insan, güzel resim diye nitelenen şeyler sürekli değiştikleri ve gün gelip yok olacakları için gerçekte var değildir. Oysa bir güzellik ideası vardır ve bu güzellik ideası her zaman güzeldir.

Bu görüş aşağıdaki düşünürlerden hangisine aittir?

- A) Platon B) Hobbes
C) Descartes D) Demokritos

20. Hegel'in diyalektikinden etkilenen Karl Marks, "diyalektik materyalizm" adını verdiği yeni bir kuram oluşturmuştur. Hegel'in sisteminde varlık düşünce ile başlar, düşünce maddeyi ve doğayı yaratır. Marks'ta ise varlık madde ile başlar, düşünce ise maddenin ürünüdür.

Parçaya göre Marks ve Hegel'in ortak yönü aşağıdakilerden hangisidir?

- A) Diyalektik yöntemi kullanmaları
B) Maddeyi düşünceden üstün tutmaları
C) Varlığın düşünceden oluştuğunu savunmaları
D) Düşüncenin maddeden oluştuğunu savunmaları

(123) SEÇMELİ FELSEFE – 1

1. I- Genel olarak varlık
II- Bilgi
III- İnsanın eylemleri

Yukarıdakilerden hangileri felsefenin konuları arasında yer alır?

- A) I ve II. B) II ve III.
C) I ve III. D) I, II ve III.

2. Aşağıdakilerden hangisi sanat bilginin özelliklerindedir?

- A) Yaratıcı insan aklının ürünü olma
B) Bilimsel yöntemle elde edilme
C) Nedensellik ilkesine dayanma
D) İnsan yaşamını kolaylaştırma

3. Felsefi bilgide özne ile nesne arasındaki bağ aşağıdakilerden hangisiyle kurulur?

- A) İnançla
B) Sezgiyle
C) Akıl yürütmeyeyle
D) Deney ve gözlemle

4. Aşağıdakilerin hangisinde metafizik ile ilgili doğru bir bilgi verilmiştir?

- A) Teknolojiye kaynaklık eder.
B) Duyularla algılanamayan alanla ilgilendir.
C) Olgular arasındaki neden-sonuç ilişkisini araştırır.
D) Genel geçer ve gözlenebilir olgulardan hareket eder.

5. Aşağıdakilerden hangisi felsefenin gerçekleştirdiği işlevlerden değildir?

- A) Bilginin üretilmesine katkıda bulunur.
B) İnsana açık seçik ve doğru düşünmeyi öğretir.
C) Yaptırım gücü sayesinde toplumsal yaşamı düzenler.
D) İnsana sorunlara ön yargısız yaklaşabilme özelliği kazandırır.

6. "Zihnin ürettiği önermenin objeye tam olarak uymasındır."

Yukarıda bilgi kuramının hangi temel kavramı tanımlanmıştır?

- A) Süje B) Doğruluk
C) Gerçeklik D) Temellendirme

1. OTURUM

7. Sezgiye dayanan bilginin doğru olduğunu savunan görüş aşağıdakilerden hangisidir?

- A) Kritisizm B) Pragmatizm
C) Fenomenoloji D) Entüsyonizm

8. Phyrhron'a göre, varlıkların bizzat kendilerini hiçbir zaman bilemeyiz. Yalnızca bize göründükleri şekilleriyle bilebiliriz ve bu görünüşlerin ötesine geçemeyiz. Bilgimizin kaynağı duyumdur ve duyular kişiden kişiye değiştiği için, nesnel bir gerçekliğin bilgisine varılamaz.

Aşağıdaki yargılardan hangisi Phyrhron'un bu görüşüne uygundur?

- A) Doğru bilgiye ulaşmak mümkündür.
B) Duyular bizi varlığın bilgisine ulaştırır.
C) Varlıkların ne oldukları bilinmez bir konudur.
D) Varlığın bilgisi insan aklında doğuştan vardır.

9. Felsefenin görevi, dildeki kavramları çözümlenektir. Doğru bilgi ancak böyle elde edilebilir.

Bu görüşü savunan düşünce akımı aşağıdakilerden hangisidir?

- A) Empirizm
B) Pozitivizm
C) Rasyonalizm
D) Analitik Felsefe

10. Aşağıdakilerden hangisi pozitivizm akımının görüşlerine ters düşer?

- A) Felsefe deneysel bilimleri örnek almalıdır.
B) Felsefe metafizik öğelerden arındırılmalıdır.
C) Doğa olaylarını doğaüstü güçler yönlendirmektedir.
D) Pozitif bilgi insanın ulaşabileceği en yüksek bilgidir.

11. Aşağıdakilerden hangisi bilim felsefesinin inceleme alanına girmez?

- A) Bilimin yapısı
B) Bilimin sınırları
C) Bilimin ana kavramları
D) Doğru bilginin imkânı

12. Aşağıdakilerden hangisi Ortaçağda İslam dünyasının bilime verdiği önemin kanıtı olamaz?

- A) Avrupa'da bilimsel çalışmaların durma noktasına gelmesi
B) Eski Yunan'a ait bilimsel eserlerin Arapçaya çevrilmesi
C) İslam önderlerinin bilimsel çalışmalarını teşvik etmesi
D) İbni Sinâ'nın tıp alanında önemli çalışmalar yapması

13. Batlamyus'un yer merkezli evren anlayışı yerine, güneş merkezli evren anlayışını benimseyerek, Rönesans içinde ilk bilimsel devrimi gerçekleştiren bilim insanı aşağıdakilerden hangisidir?

- A) Thales B) Harezmi
C) Kopernik D) Albert Einstein

14. Bilimselliğin ölçütünün, doğulanabilirlik olduğunu savunan Reichenbach'a göre, metafizik önermeler doğrulanamadığı için bilim dışı önermelerdir.

Reichenbach'ın bu düşüncesine göre aşağıdakilerden hangisi bilim dışı önermeye örnektir?

- A) Deniz mavidir.
B) Ruh ölümsüzdür.
C) Dışarıda yağmur yağıyor.
D) Ahmet'in boyu 115 cm'dir.

15. Bilimsel yöntemin ilk aşaması aşağıdakilerden hangisidir?

- A) Yasalara ulaşılması
B) Deney yapılması
C) Olguların saptanması
D) Hipotezlerin oluşturulması

16. Felsefede varlıkla ilgili, "gerçek varlık" ve "ideal (düşünülen) varlık" ayrımı yapılır. Doğada nesnel gerçekliği olmayan, duyularla algılanamayan, sadece düşüncede var olan varlıklara "ideal (düşünülen) varlıklar" denir.

Bu bilgiye göre aşağıdakilerden hangisi gerçek varlık değildir?

- A) Kaf dağı B) Ağrı Dağı
C) Çam ağacı D) Ege Denizi

17. "Realizm" kavramının sözcük anlamı aşağıdakilerden hangisidir?

- A) İcikilik B) Hiççilik
C) Şüphencilik D) Gerçekçilik

18. Materyalist filozofların varlık konusunda savundukları temel düşünce aşağıdakilerden hangisidir?

- A) Varlık yoktur.
B) Varlık maddedir.
C) Varlık fenomendir.
D) Varlık düşüncedir.

19. "Mümkün varlık" ve "zorunlu varlık" olmak üzere iki tür varlık vardır. Varlıkların temelinde "zorunlu varlık" olan Tanrı vardır. Mümkün varlıklar, var oluşlarını "saf iyilik ve akıl" olan Tanrı'dan alırlar.

Bu görüşleri savunan idealist filozof aşağıdakilerden hangisidir?

- A) Farabi B) Platon
C) Sokrates D) Aristoteles

20. Varlığın hem maddeden hem de düşünceden oluştuğunu savunan filozof aşağıdakilerden hangisidir?

- A) Karl Marks
B) Rene Descartes
C) Thomas Hobbes
D) Edmund Husserl

(132) TARİH – 2

1. Hz. Muhammed'e hangi özelliğinden dolayı "Muhammed'ül-Emin" denilmiştir?

- A) Zekilik B) Doğruluk
C) Güvenirlik D) Çalışkanlık

2. İslamiyet'in doğuşu sırasında Çin'e hangi hanedan egemendi?

- A) Sui B) Wei
C) Zhou D) Tang

3. Afrika'nın kuzeyi, İslamiyet'in doğuşu sırasında aşağıdaki devletlerden hangisinin egemenliği altında idi?

- A) Sasani B) Bizans
C) Moğol D) Kök Türk

4. Aşağıdakilerden hangisi, İslam tarihinin incelediği dönemler arasında yer alamaz?

- A) Uygurlar Dönemi
B) Abbasiler Dönemi
C) Gazneliler Dönemi
D) Dört Halife Dönemi

1. OTURUM

5. • Lat
• Menat
• Uzza

Verilenlerin ortak özelliği, aşağıdakilerden hangisidir?

- A) Ünlü Arap kabileleri
B) Arapların ünlü panayırları
C) Arapların tapındığı büyük putlar
D) Kuzey Arabistan'da kurulan devletler

6. İslam tarihinde miladi 620 yılına "Üzüntü yılı" denilmesinin nedeni, aşağıdakilerden hangisidir?

- A) Uhud Savaşı'nda Hz. Hamza ile birlikte yaklaşık yetmiş sahabenin şehit olması
B) Hz. Muhammed'in amcası Ebu Talip ile eşi Hz. Hatice'yi kaybetmesi
C) Müslümanların, müşriklerin eziyetlerinden kaçmak için Habeşistan'a göç etmeleri
D) Hz. Muhammed'in Mekke'den Medine'ye hicret etmesi

7. İslam medeniyetinin aşağıdaki bölgelerden hangisine Türklerin etkisiyle yayıldığı söylenemez?

- A) Anadolu B) Balkanlar
C) Hindistan D) Kuzey Afrika

8. Türklerin büyük kitleler hâlinde İslamiyet'e geçişi, aşağıdaki devletlerden hangisi dönemine rastlar?

- A) Sasaniler
B) Emeviler
C) Abbasiler
D) Endülüslü Emevileri

9. Karahanlı Devleti'nin ikiye bölünmesinde etkili olan nedenler, aşağıdakilerin hangisinde birlikte verilmiştir?

- A) Taht kavgaları ile Haçlı Seferleri
B) Haçlı Seferleri ile Moğol saldırıları
C) Moğol saldırıları ile Selçuklu akınları
D) Taht kavgaları ile Gaznelilerle yapılan mücadeleler

10. Aşağıdaki Selçuklu komutanlarından hangisi 1067 yılında Malatya yakınlarında bir Bizans kuvvetini yenerek Kayseri'yi ele geçirmiştir?

- A) İbrahim Yınal B) Gümüştekin
C) Kavurd D) Afşin

11. Aşağıdakilerden hangisi Türkiye'de kurulan ilk Türk devletlerinden biri değildir?

- A) İnaloğulları
B) Tolunoğulları
C) Dilmaçoğulları
D) Tanrıvermişoğulları

12. Türkiye Selçuklu Devleti'nin bilinen son hükümdarı, aşağıdakilerden hangisidir?

- A) II. Mesut
B) II. İzzeddin Keykavus
C) III. Gıyaseddin Keyhüsrev
D) IV. Rükneddin Kılıç Arslan

13. Türkiye Selçuklu Devleti'ne;

- I. İznik
II. Konya
III. Edirne
IV. İstanbul

şehirlerinden hangileri başkentlik yapmıştır?

- A) Yalnız I B) I ve II.
C) II ve III. D) I, II ve IV.

14. Çaka Bey için aşağıdakilerden hangisi söylenemez?

- A) İlk Türk denizcisidir.
B) I. Kılıç Arslan'ın kayınpederidir.
C) İstanbul'un fethine katılmıştır.
D) Oğuzların Çavuldur koluna mensuptur.

15. İslam yazarları eserlerinde, aşağıdaki hangi coğrafya için "Memalik-i Rum" ya da "Diyar-ı Rum" ismini kullanmışlardır?

- A) Sibirya
B) Anadolu
C) Kafkaslar
D) Arap Yarımadası

16. Aşağıdakilerden hangisi, Türkiye Selçuklu Devleti Dönemi'nde Anadolu'da yaşayan Hristiyan ahalden değildir?

- A) Araplar B) Rumlar
C) Ermeniler D) Süryaniler

17. İslam dünyası üzerindeki Bizans baskısının tamamen ortadan kalkmasında etkili olan olay, aşağıdakilerden hangisidir?

- A) Haçlı Seferleri
B) Kavimler Göçü
C) Kerbela Olayı
D) Malazgirt Savaşı

18. Aşağıdaki siyasi olaylardan hangisi 13. yüzyılda meydana gelmemiştir?

- A) I. Gıyaseddin Keyhüsrev'in Antalya'yı alması
B) Celaleddin Harzemşah'ın Ahlat'ı kuşatması
C) Bizans İmparatorluğu'nun yıkılması
D) Köseadağ Savaşı

19. Aşağıdakilerden hangisi, Türkiye Selçuklu Devleti'nin hukuk sisteminde yer alan görevlilerinden biri değildir?

- A) Kadı B) Pervaneci
C) Kadı'l-kudat D) Kadı-yı leşker

20. Türkiye Selçuklularını denizciliğe yönelten en önemli faktör, aşağıdakilerden hangisidir?

- A) Madencilik B) Hayvancılık
C) Tarım D) Ticaret

(136) TARİH – 6

1. Bizans'ın merkezi olan İstanbul, Arap orduları tarafından ilk kez aşağıdaki dönemlerin hangisinde kuşatılmıştır?

- A) Hz. Muhammed Dönemi
B) Dört Halife Dönemi
C) Emeviler Dönemi
D) Abbasiler Dönemi

2. Aşağıdakilerden hangisi "ganimet" kavramının tanımıdır?

- A) Savaşta ve yağma sırasında ele geçirilen mal
B) Müslümanlardan onda bir oranında alınan ürün vergisi
C) Müslüman olmayan halktan alınan arazi ve gelir vergisi
D) Zengin Müslümanların mallarından kırkta bir oranında alınan vergi

3. Miladi 707 yılında Mesleme idaresindeki Araplar, aşağıdaki hangi Türk boyunu yaşadıkları yerlerden Kafkasların kuzeyindeki Dağıstan bölgesine sürmüşlerdir?

- A) Peçenekleri B) Hazarları
C) Sabarları D) Avarları

1. OTURUM

4. Tolunoğulları hükümdarı olan Humaraveyh'in babası, aşağıdakilerden hangisidir?

- A) Ceys B) Harun
C) Tolun D) Ahmet

5. Selçuklu Türklerinin batıya doğru ilerlemelerinin önünü açan ve Horasan topraklarının Selçuklulara geçmesini sağlayan savaş, aşağıdakilerden hangisidir?

- A) Pasinler B) Malazgirt
C) Dandanakan D) Yassı Çimen

6. Halife Kadir Billah, aşağıdaki hangi Gazne hükümdarına, Sumnat'taki büyük putu kırmasından dolayı "Kehfüddeve Ve'l-İslam" unvanını vermiştir?

- A) Sultan Mahmut
B) Sultan Mesut
C) Sultan Mevdut
D) Behram Şah

7. Müslümanları, Haçlılara karşı korumaya çalışan son Büyük Selçuklu hükümdarı, aşağıdakilerden hangisidir?

- A) Sultan Sencer B) Mehmet Tapar
C) Tuğrul Bey D) Melikşah

8. Selçukluların atası Selçuk Bey, Oğuz Yabgu Devleti'nde hangi görevde bulunuyordu?

- A) Subaşı B) Kadı
C) Ulak D) Pervaneci

9. Romen Diyojen'in Türkleri Anadolu'dan çıkarmak amacıyla hazırladığı orduda, aşağıdaki Türk topluluklarından hangisi yoktur?

- A) Uzlar B) Uygurlar
C) Kıpçaklar D) Peçenekler

10. "Ben Alp Arslan'ın büyük kardeşi, sen küçük oğlusun. Kardeşim Alp Arslan'ın mirasına ben senden daha çok layığım." diyerek Melikşah'a isyan eden devlet adamı, aşağıdakilerden hangisidir?

- A) Kavurd B) Sencer
C) Çağrı Bey D) Berkjaruk

11. Aşağıdakilerden hangisi Malazgirt Savaşı'nın sonuçlarından biri değildir?

- A) Anadolu Türk tarihi başlamıştır.
B) Anadolu'nun kapıları Türklere açılmıştır.
C) Anadolu'da birçok Türk beylikleri kurulmuştur.
D) Selçuklu hanedan mensupları buldukları yerlerde bağımsızlıklarını ilan etmiştir.

12. Aşağıdaki devletlerden hangisinin toprakları, Karahanlılarla Gazneliler arasında Ceyhun Nehri sınır kabul edilerek paylaşılmıştır?

- A) Tolunoğulları
B) Samanoğulları
C) Harzemşahlar
D) Endülüslü Emevileri

13. • Eser 1072 – 1077 yılları arasında Arapça olarak yazılmış ve Abbasi halifesine sunulmuştur.

- Türkçe'nin ilk ansiklopedik sözlüğü ve dilbilgisi kitabıdır.
• Türk dilinin zenginliğini ve güzelliğini göstermek, özellikle Araplara bu dili öğretmek amacıyla yazılmıştır.
• Kitap aynı zamanda içeriği bakımından döneminin dili, edebiyatı, tarihi, coğrafyası ve sosyolojisi hakkında geniş bilgilerde vermektedir.

Hakkında kısa bilgi verilen ve Karahanlılar Dönemine ait olan eser, aşağıdakilerden hangisidir?

- A) Şehname
B) Kutadgu Bilig
C) Divan-ı Hikmet
D) Divan-ı Lügat-it-Türk

14. " - - - , Fatimî Devleti'ne son vererek Müslümanlar arasındaki mezhep kavgalarını önemli ölçüde önlemiştir."

Verilen cümlelerin doğru olabilmesi için boş yere, aşağıdakilerden hangisi yazılmalıdır?

- A) Baybars
B) Canibek Han
C) Selahattin Eyyubi
D) Celaleddin Harzemşah

15. Türk Memlukleri Dönemi'ne son veren ve Çerkez Memlukleri Dönemi'nin de ilk sultanı olan kişi, aşağıdakilerden hangisidir?

- A) Berkuk B) Kalavun
C) Ferec D) Aybek

16. Aşağıdakilerden hangisi Ayn-ı Calûd Savaşı'nın sonuçlarından biridir?

- A) Kıbrıs Adası'nın fethi
B) II. Haçlı Seferinin yapılması
C) Suriye ve Mısır'ın Moğol istilasından kurtarılması
D) Halifelik kurumunun Osmanlı hanedanlığına geçmesi

17. • Merkezi Tebriz olmak üzere İran'da kurulan,
• Köseadağ Savaşı'nda Anadolu Selçuklu Devleti'ni mağlup eden,
• Abbasi halifeliğine son veren Moğol devleti, aşağıdakilerden hangisidir?

- A) İlhanlı Devleti
B) Kubilay Devleti
C) Çağatay Devleti
D) Altın Orda Devleti

18. Babür Devleti'nde doğrudan doğruya hükümdara ait topraklara verilen isim, aşağıdakilerden hangisidir?

- A) Suyurgal topraklar
B) Halise topraklar
C) Tuyl topraklar
D) Kopı topraklar

19. Aşağıdakilerden hangisi, Altın Orda Devleti'nin parçalanması sonucunda ortaya çıkan yeni hanlıklardan biri değildir?

- A) Kazan B) Kırım
C) Küçüm D) Kubilay

20. Aşağıdaki devletlerden hangisinin tarihinde "Sipahi İsyanı" olayı vardır?

- A) Altın Orda Devleti
B) Memlük Devleti
C) Timur Devleti
D) Babür Devleti

(151) COĞRAFYA – 1

1. Haritalar için aşağıdakilerden hangisi söylenemez?

- A) Ölçekleri olan çizimlerdir.
B) Genel ve özel olarak ikiye ayrılırlar.
C) Dünya, düzleme bozulma olmadan aktarılabilir.
D) Yeryüzünün tamamını veya bir bölümünü gösterir.

1. OTURUM

2. - - - - örneğin tarımı keşfetmesiyle orman ve mera alanlarını tarlaya dönüştürmüş, eğimli arazileri basamaklandırmış, kanallar inşa ederek tarlalara su taşımış böylece beslenme ihtiyacını gidermeye çalışmıştır.

Aşağıdakilerden hangisi verilen metnin içeriğine göre daha uygun bir giriş cümlesi olur?

- A) Ormanlar insanların tehditi altındadır.
- B) Beslenme insanın en önemli ihtiyacıdır.
- C) İnsanların ihtiyacı sınırsız ve çok çeşitlidir.
- D) İnsanlar ihtiyaçlarına göre doğayı şekillendirip yararlanırlar.

3. Ülke içindeki il, ilçe ve köy gibi yerleşmeler arasındaki sınırları gösteren haritalara ne ad verilir?

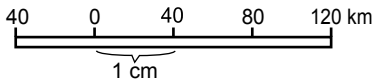
- A) İdari bölünüş haritası
- B) Beşeri harita
- C) Ekonomik harita
- D) Fiziki harita

4. Türkiye yaklaşık 36° - 42° Kuzey paralelleri arasında yer almaktadır.

Verilen bilgidен yararlanarak aşağıdakilerden hangisi hesaplanabilir?

- A) Türkiye'nin ortalama yükseltisi
- B) Türkiye'nin kuzeyi ile güneyi arasındaki uzaklık
- C) Türkiye'nin doğusu ile batısı arasındaki saat farkı
- D) Türkiye'nin başlangıç meridyenine olan uzaklığı

5.



Verilen çizgi ölçeğin kesirli ölçeğe çevrilmiş hali aşağıdakilerden hangisidir?

- A) 1: 400.000
- B) 1: 800.000
- C) 1: 4.000.000
- D) 1: 12.000.000

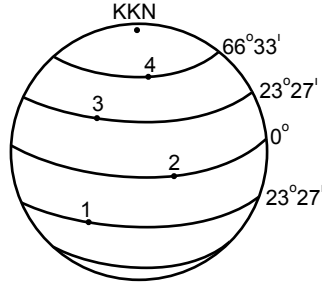
6. Haritalarda yeryüzü şekillerinin gösterilme yöntemlerinden hangisinde harita maket haline getirildiği için yapımı zor ve yüksek maliyetlidir?

- A) Kabartma
- B) Renklendirme
- C) Tarama
- D) Gölgeleştirme

7. Aşağıdakilerden hangisi 21 Mart ve sonrasında gözlemlenen durumlardan biri değildir?

- A) Kuzey Yarım Küre'de ilkbahar mevsimi başlar.
- B) Aydınlanma çemberi kutup noktalarından geçer.
- C) Güneş ışınları Oğlak Dönencesi'ne doğru kayar.
- D) Aynı boylam üzerinde Güneş aynı anda doğup batar.

8.



Verilen görselde 21 Haziran'da kaç numaralı yere dikilen çubuğun tam öğle vakti gölge boyu olmaz?

- A) 1
- B) 2
- C) 3
- D) 4

9. Atmosferdeki su miktarı yeryüzüne eşit dağılmamıştır. Ekvatordan kutuplara ve kıyılardan iç kesimlere gidildikçe su buharı miktarı azalır.

Bu bilgidен yararlanarak aşağıdakilerden hangisi söylenebilir?

- A) Kutuplarda suya ihtiyaç daha fazladır.
- B) Kara içlerinde su kaynakları daha çoktur.
- C) Su buharı insan sağlığı için gereklidir.
- D) Sıcaklık ve denizler su buharını artırır.

10. Yeryüzünü uzaydan gelen meteorlardan koruyan atmosfer katı aşağıdakilerden hangisidir?

- A) Termosfer
- B) Mezosfer
- C) Stratosfer
- D) Troposfer

11. Sabah, öğle ve akşam saatlerinde hava şartları aynı kalsa bile güneş ışınlarının ısıtma gücünün değişmesinin temel sebebi aşağıdakilerden hangisidir?

- A) Dünya'nın eksen eğikliği
- B) Güneş'in kendi çevresinde dönmesi
- C) Dünya yörüngesinin elips şeklinde olması
- D) Güneş ışınlarının geliş açısının sürekli değişmesi

12. Yükselti farkından dolayı aşağıdaki şehirlerden hangileri arasında sıcaklık farkı daha fazladır?

- A) Adana – Ağrı
- B) Ankara – Yozgat
- C) İzmir – Manisa
- D) Sivas – Erzincan

13. Aşağıda verilen yerlerin hangisinde Temmuz ayı sıcaklık ortalaması daha yüksektir?

- A) Avustralya'da
- B) Kuzey Afrika'da
- C) Batı Avrupa'da
- D) Güney Amerika'nın güneyi'nde

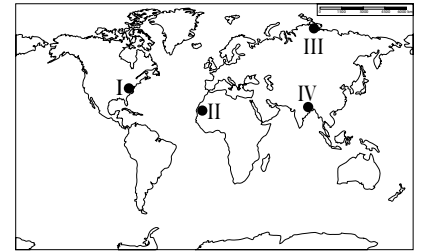
14. Aşağıdakilerden hangisi Batı rüzgârlarının özelliğidir?

- A) Devirli rüzgârlardır.
- B) Kuru karakterlidirler.
- C) Gittikleri yerde sıcaklığı düşürürler.
- D) 30° paralellerinden 60° paralelleri- ne eserler

15. Kutup ikliminin etkisinde olan yerlerde güneşlenme süresinin uzunluğuna rağmen sıcaklık değerlerinin düşük olmasının sebebi aşağıdakilerden hangisidir?

- A) Bitki örtüsünün fakir olması
- B) Nem miktarının düşük olması
- C) Güneş ışınlarının eğik açıyla gelmesi
- D) Arazinin kar ve buzlarla kaplı olması

16.



Haritada numaralandırılarak verilen yerlerin hangisinde muson iklimi etkilidir?

- A) I
- B) II
- C) III
- D) IV

17. Günümüzden 3,7 milyar ilе 600 milyon yıl önceki dönemi kapsayan ilk bitki ve tek hücreli canlıların ortaya çıktığı jeolojik zamanın adı nedir?

- A) Prekambrien
- B) Paleozoik
- C) Mezozoik
- D) Neozoik

1. OTURUM

18. İskandinav Yarımadası'nın her yıl yaklaşık 2 mm ile 10 mm arasında yükselmesi hangi iç kuvvetin hareketine örnektir?

- A) Orojenez B) Seizma
C) Epirojenez D) Volkanizma

19. Akarsuyun göl veya denize ulaştığı kısmına ne ad verilir?

- A) Havza B) Ağız
C) Kaynak D) Yatak

20. Barkanlar nerede oluşan birikim şekilleridir?

- A) Çöllerde B) Dağlarda
C) Akarsularda D) Ormanlarda

(155) COĞRAFYA – 5

1. Aşağıdakilerden hangisi ekosistemleri oluşturan organik etmenlerden biridir?

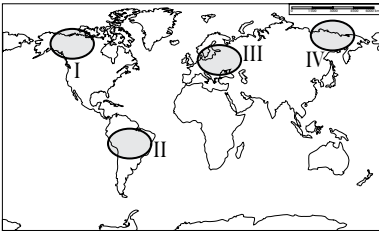
- A) Protein B) Oksijen
C) Yağış D) Karbondioksit

2. Coğrafi özellikleri benzerlik taşıyan yerlerde canlı türleri arasında da benzerlikler bulunur.

Buna göre aşağıda verilen yerlerden hangileri arasında yaşayan canlılar arası benzerlik daha fazladır?

- A) Orta Amerika - Kuzey Avrupa
B) Hindistan Yarımadası - Sibilya
C) Kuzey Afrika - Arabistan Yarımadası
D) Grönland Adası - Amazon havzası

3.



Haritada numaralandırılarak verilen alanların hangisinde canlı dağılımını belirleyen en önemli faktör yüksek sıcaklık ve fazla yağış miktarıdır?

- A) I B) II C) III D) IV

4. Aşağıdakilerden hangisi biyosferi ultraviyole ışınlarından koruyan atmosfer gazıdır?

- A) Ozon B) Azot
C) Karbon D) Karbondioksit

5. Günümüz Japonya'sında izlenen nüfus politikasının temel yapısı aşağıdakilerden hangisine yöneliktir?

- A) Nüfus artış hızının düşürülmesine
B) Nüfus artış hızının artırılmasına
C) Nüfus miktarının sabit kalmasına
D) Herhangi bir nüfus politikası uygulamamaya

6. Dünya ekonomisi ve politikasında küreselleşerek önemli bir merkez haline gelen kentlerin bu güce ulaşmasında aşağıdaki özelliklerinden hangisinin etkisi en azdır?

- A) Doğal ve tarihi zenginliklerinin
B) Ekonomik faaliyetlerinin
C) Coğrafi konumlarının
D) Nüfus artış hız oranının

7. Şehir ve buraya ait karakteristik özelliğiyle ilgili aşağıda yapılan eşleştirmelerden hangisi yanlıştır?

- A) Paris → Moda merkezi
B) Oxford → Eğitim hizmetleri
C) Mekke → Dini merkez
D) Roma → Kömür madenleri

8. Aşağıdakilerin hangisi ekonomik faaliyet olarak değerlendirilemez?

- A) İstanbul'daki beyaz eşya fabrikasının yeni ürünler üretmesi
B) Murat Bey'in internetten kiralık ev araması
C) Kars'ta üretilen kaşar peynirin Ankara'da markette satılması
D) Zonguldak'ta çıkarılan kömürün demir-çelik fabrikasına taşınması

9. Kullanım alanı çok çeşitli olup Dünya'nın her yerinde bulunmayan bir ham madde, tüketici diğer ülkelere çeşitli ulaşım sistemleri sayesinde taşınıp ithal edilerek küresel ölçekte önemli ekonomik değer haline gelir.

Aşağıdakilerden hangisi buna gösterilebilecek en iyi örnektir?

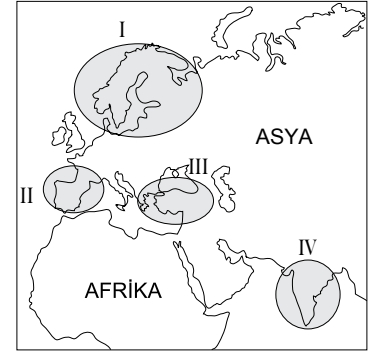
- A) Süt B) Petrol
C) Pamuk D) Krom

10. I. Teknolojik gelişmeler
II. Ülkeler arası gelişmişlik farkı
III. Dünya nüfusunun artması
IV. Yenilenebilir enerji kaynaklarına yönelme

Doğal kaynakların önemini sürekli artmasında verilenlerden hangilerinin etkisi daha fazladır?

- A) Yalnız III B) I ve II
C) I ve III D) II ve IV

11.



Türkiye yukarıdaki haritada numaralandırılarak verilen alanların hangisinde yer almaktadır?

- A) I B) II C) III D) IV

12. Türkiye'nin kıyı kesimlerinde yer alan arazilerde aşağıdaki ekonomik faaliyetlerden hangileri daha yaygındır?

- A) Balıkçılık, hayvancılık
B) Sanayi, madencilik
C) Madencilik, ziraat
D) Turizm, tarım

13. Aşağıdakilerden hangisinin Türkiye ekonomisine olan olumsuz etkileri daha fazladır?

- A) Nüfus artış hızının giderek yavaşlaması
B) Karasal iklimin geniş alanlarda etkili olması
C) Akarsu akımlarının yaz döneminde azalması
D) Arazisinin büyük kısmının dağlık ve engebeli olması

14. Doğal ortamda sıvı olarak elde edilen tek metal olup; termometrelerde, altın ve gümüş üretiminde, aynaların sızılmasında ve pil yapımında kullanılan maden nedir?

- A) Antimon B) Barit
C) Civa D) Manganez

1. OTURUM

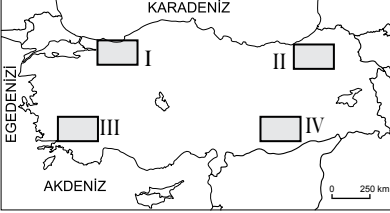
(157) COĞRAFYA – 7

15. Türkiye’de bölgeler arasında gelişmişlik farkını ortadan kaldırmak için gelişmemiş yerlerde devlet tarafından bazı teşvik politikaları hayata geçirilmektedir.

Buna göre aşağıdakilerden hangisi yatırımcılara teşvik olamaz?

- A) Enerjiyi ucuza vermek
B) Altyapı hizmetini geliştirmek
C) Gümrük vergilerini yükseltmek
D) Yatırımcıya arazi temin etmek

16.



Haritada numaralandırılarak verilen yerlerin hangisinde kümes hayvancılığı daha yoğun şekilde yapılmaktadır?

- A) I B) II C) III D) IV

17. Aşağıdaki tarım bitkilerinden hangisi **baklagiller**dendir?

- A) Mercimek B) Arpa
C) Çavdar D) Pirinç

18. Türkiye’de doğal gaz tüketiminin yaygınlaştırılmasında aşağıdakilerden hangisinin etkisi **daha fazladır**?

- A) Dünya rezervinin yüksek olması
B) Havayı çok düşük oranda kirletmesi
C) Tüketim alanlarına kolay taşınması
D) Elektrik üretiminde de kullanılması

19. Aşağıdaki şehirlerden hangisi **Batı Anadolu horst – graben sisteminin oluşturduğu depremlerin etkisi altındadır**?

- A) Karabük B) Antakya
C) Yalova D) Uşak

20. Türkiye’de orman yangınlarının çıkmasının en önemli nedeni aşağıdakilerden hangisidir?

- A) Kasıtlı yakma
B) Yıldırım düşmesi
C) Enerji nakil hatları
D) İhmal ve dikkatsizlik

1. Bir bölgede uzun süreli yaşanan **ekstrem sıcaklık veya soğukların ortaya çıkaracağı en olumsuz sonuç aşağıdakilerden hangisidir?**

- A) Tarımsal verimliliği düşürmesi
B) Ulaşım faaliyetlerini aksatması
C) Ekonomik faaliyetleri aksatması
D) Toplu canlı ölümlerine sebep olması

2. Büyük (Pasifik) Okyanus’ta gerçekleşen tsunami aşağıdaki ülkelerden hangisinde tahribata neden olur?

- A) Japonya B) Fransa
C) Mısır D) Yunanistan

3. Heyelanlar için aşağıdakilerden hangisi **söylenemez**?

- A) Kütle hareketidir.
B) Yaygın görülen afetlerdir.
C) Göl oluşumuna sebep olabilirler.
D) Yağışın olmadığı arazilerde yaşanır.

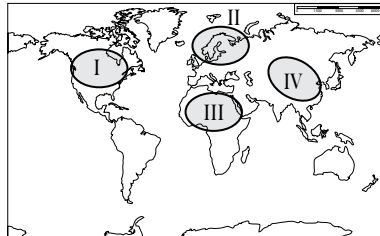
4. Büyük sulama projelerinin yüksek maliyetli yatırımlar olduğu göz önüne alınırsa **sulama yapılan bu tarım alanlarında hangi özelliğe sahip ürünlerin yetiştirilmesine daha çok önem verilmesi gerekir?**

- A) Az suya ihtiyaç duyan
B) Yüksek sıcaklığa dayanan
C) Verimi ve değeri yüksek olan
D) Devlet tarafından desteklenen

5. Yazıyı ilk kullanan medeniyet aşağıdakilerden hangisidir?

- A) Hint B) Sümer
C) Asur D) Hitit

6.



Çin Medeniyeti haritada numaralandırılarak verilen yerlerin hangisinde yer almaktadır?

- A) I B) II C) III D) IV

7. Aşağıdakilerden hangisi **Sanayi devrimiyle Avrupa’da gerçekleşen yeni durumlardan biri değildir**?

- A) Yeni iş sahaları oluşmuştur.
B) Sömürge edinme yarışı durmuştur.
C) Kırsaldan kentlere göç başlamıştır.
D) İnsanların refah seviyesi artmıştır.

8. **Gelecekte Dünya nüfusunda aşağıdakilerin hangisinde artma beklenmektedir?**

- A) Yaşlı nüfus oranında
B) Nüfus artış hızında
C) Kırsal nüfus miktarında
D) Tarımda çalışan oranında

9. Aşağıdaki tabloda yıllara göre bazı kıtalarda kişi başına düşen yıllık gelir miktarı dolar (\$) olarak gösterilmiştir.

Kıtalar-Yıllar	1950	2015
Afrika	470 \$	810 \$
Asya	1360 \$	6770 \$
Avrupa	3004 \$	17.470 \$
Kuzey Amerika	10.380 \$	40.830 \$

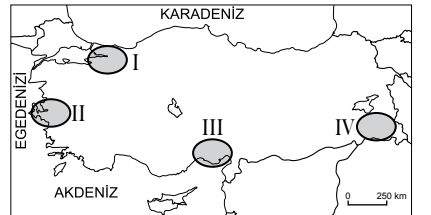
Tablodaki verilere bakarak aşağıdakilerden hangisi söylenbilir?

- A) En yoksul ülkeler Avrupa’dadır.
B) Oransal artışın en küçüğü Asya’da olmuştur.
C) Kuzey Amerika kıtasında gelirler yaklaşık dört kat artmıştır.
D) Afrika ülkelerinde gelir bin doların üzerindedir.

10. **Fiziki coğrafya özelliklerine göre yapılan sınıflandırmada Rize, Trabzon ve Artvin illeri hangi bölge içinde değerlendirilemez?**

- A) Az yağış alan bölge
B) Karadeniz iklim bölgesi
C) Orman bölgesi
D) Dağlık bölge

11.



Haritada numaralandırılarak verilen yerlerin hangisi az nüfuslu bölge olarak nitelendirilebilir?

- A) IV B) III C) II D) I

1. OTURUM

12. Türkiye'nin aşağıda verilen özelliklerinden hangisi ulaşım sektörünün gelişmesi için elverişli imkânlar sunar?

- A) Yer şekillerinin dağlık olması
- B) Üç kıtanın birleştiği yerde olması
- C) Büyük kısmında karasal iklim yaşanması
- D) Ortalama yükseltisinin bin metreyi aşması

13. Türkiye sınırları içindeki ilk demir yolu hattı hangi şehirlerimiz arasında inşa edilmiştir?

- A) Ankara – İstanbul
- B) İzmir – Manisa
- C) İzmir – Aydın
- D) Edirne – İstanbul

14. Petrol ve doğal gaz aşağıda sistemlerden hangisiyle daha kolay ve ucuz taşınır?

- A) Kara yolu
- B) Demir yolu
- C) Deniz yolu
- D) Boru hatları

15. I. Teknolojik düzey
II. Doğal afetler
III. Göç hareketleri
IV. Sanayileşme

Yukarıda verilenlerden hangileri ulaşım araç ve sistemlerinin gelişmesini **daha fazla** etkilemiştir?

- A) I ve II
- B) I ve IV
- C) II ve III
- D) III ve IV

16. Aşağıdakilerden hangisi bir bölgede veya ülkede ticaretin gelişmesine katkı sağlamaz?

- A) Üretimin artması
- B) Gelirlerin artması
- C) Ulaşımın gelişmesi
- D) Enerjinin pahalalanması

17. Türkiye'de 1980'den sonra hangi ekonomi politikası benimsenmiştir?

- A) Tarıma dayalı ekonomi
- B) İthalata dayalı ekonomi
- C) Serbest piyasa ekonomisi
- D) Madencilığe dayalı ekonomi

18. Aşağıdaki illerimizin hangisinde deniz turizmi diğerleri kadar gelişmemiştir?

- A) Muğla
- B) Ordu
- C) Aydın
- D) İzmir

19. Rafting sporu hangi doğal unsurdan yapılan bir turizm etkinliğidir?

- A) Göl
- B) Mağara
- C) Akarsu
- D) Deniz


20. Aşağıdakilerden hangisi Şanlı Urfa'nın turistik zenginliğidir?

- A) Harran Evleri
- B) Ani Harabeleri
- C) Nemrut Heykelleri
- D) İshak Paşa Sarayı

(181) İNGİLİZCE – 1

1-20. sorularda boş bırakılan yere uygun gelen kelime ya da ifadeyi işaretleyiniz.

1.



The cat is - - - - the bed.

- A) behind
- B) on
- C) under
- D) in

2. Jason and Tim are brothers. - - - - father is a doctor.

- A) They're
- B) Them
- C) They
- D) Their

3. Timothy is a lazy student. He - - - - studies his lessons.

- A) never
- B) usually
- C) often
- D) always

4. Aylin hasn't got - - - - books.

- A) some
- B) much
- C) any
- D) little

5. There - - - - a dog in front of the car.

- A) is
- B) are
- C) do
- D) does

6. Be quiet! The baby - - - - .

- A) sleep
- B) sleeps
- C) sleeping
- D) is sleeping

7. My father will go to İzmir - - - - .

- A) two years ago
- B) next weekend
- C) every Sunday
- D) at the moment

8. Look at those black clouds. It - - - - .

- A) is going to rain
- B) is raining
- C) rained
- D) rain

9. Children - - - - play with fire.

- A) doesn't have to
- B) mustn't
- C) should
- D) will

10. We - - - - hurry. We have enough time.

- A) would
- B) should
- C) wouldn't
- D) shouldn't

11. Ali - - - - a glass of orange juice two minutes ago.

- A) is drinking
- B) drinks
- C) drank
- D) drink

12. My grandfather - - - - run very fast but now he can't.

- A) used to
- B) must
- C) may
- D) can

13. - - - - is my sister. Her name is Ela.

- A) We
- B) He
- C) It
- D) She

14. A: Hi, Ayşe. - - - - ?
B: Fine, thanks.

- A) How are you
- B) How old are you
- C) What is the day today
- D) What nationality is she

15. A: - - - - ?

B: At 7 o'clock.

- A) Where do you go after school
- B) What do you usually watch
- C) What time do you get up
- D) Where do you stay

1. OTURUM

16. A: Do you speak English?

B: Yes, I ----.

- A) am B) do
C) don't D) am not

17. A: How often do you go to the cinema?

B: ----.

- A) Yesterday B) Right now
C) Tomorrow D) Twice a month

18. A: How ---- the weather yesterday?

B: It ---- sunny.

- A) were / were B) was / were
C) was / was D) were / was

19. A: ---- are you from?

B: Amasya.

- A) Where B) When
C) How D) Who

20. A: Who is that boy?

B: ----.

- A) He is ill
B) He is late
C) He is busy now
D) He is my brother

(181) ALMANCA – 1

1-18. sorularda boş bırakılan yere uygun gelen kelime ya da ifadeyi işaretleyiniz.

1. Osman : Was machst du?

Stefan : Ich ---- Deutsch.

Osman : Wo wohnst du?

Stefan : Ich wohne ---- Berlin.

- A) lerne / in B) lernst / aus
C) lernen / von D) lernt bei

2. A: Warum spielst du nicht mit uns?

B: ---- es sehr kalt ist.

- A) Damit B) Denn
C) Weil D) Bis

3. Yusuf ist dicker ---- Hans.

- A) um B) als C) zu D) bei

4.



A: Wie spät ist es?

B: Es ist zwanzig ---- sieben.

- A) nach B) vor
C) Viertel D) halb

5. Ich esse jeden Tag Mittagessen

---- 12:30 Uhr.

- A) im B) zum C) um D) in

6. Susanne: Wie geht es dir?

Helga: Es geht mir nicht ----.

- A) lang B) kurz
C) neu D) gut

7. Stefan und Mehmet ---- nach Trabzon.

- A) fahren B) fuhr
C) gefahren D) fährst

8. Ali : Osman, kannst du bitte das Fenster schließen?
Es ist ---- kalt.

Osman: Ja, natürlich.

- A) viel B) sehr
C) am meisten D) vieles

9. Hakan ist so fleißig ---- Sibel.

- A) als B) sehr
C) wie D) ob

10.



A: Was ist das?

B: Ein ----.

- A) Mann B) Junge
C) Lehrer D) Mädchen

11. Dezember, ----, Februar

- A) März B) Januar
C) November D) April

12. Ali: ---- hast du in der Tasche?

Petra: Meine Bücher.

- A) Womit B) Wie
C) Was D) Woher

13. Ali fragt, ---- er Fußball spielen darf?

- A) vorher B) nach
C) was D) ob

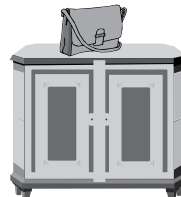
14. Mein ---- Schwester heißt Esra.
---- ist 10 Jahre alt.

- A) - / Er B) -er / Sie
C) -e / Sie D) -en / Er

15. Ein Flugzeug ist ----.

- A) stehen B) schlau
C) dumm D) schnell

16.



Die Tasche liegt ---- dem Schrank.

- A) im B) auf C) am D) unter

17. A: Guten Abend! ---- du Thomas?

B: Ja, ich ---- Thomas.

- A) Bist / bin B) Ist / sind
C) Heißt / ist D) Ist / bin

18. A: --- schreibst du deine Hausaufgabe?

B: Mit dem Bleistift.

- A) Was B) Warum
C) Weil D) Womit

19. Aşağıdaki sıfatlardan hangisinin karşıtı doğru verilmiştir?

- A) wenig - viel
B) warm - lang
C) kalt - kurz
D) teuer - schnell

20. Aşağıdakilerden hangisi anlamca diğerlerinden farklıdır?

- A) Deutschland B) Berlin
C) England D) Italien

1. OTURUM

(181) FRANSIZCA – 1

1-16. sorularda boş bırakılan yere uygun gelen kelime ya da ifadeyi işaretleyiniz.

- 1. Le soir, - - - - regarde les séries à la télé.**
A) elles B) nous
C) je D) tu
- 2. Hier soir, - - - - a fait une salade au thon.**
A) elles B) vous
C) ils D) elle
- 3. Koray - - - - en Italie par avion avec la compagnie Turkish Airlines.**
A) est arrivé B) est arrivée
C) es arrivée D) suis arrivé
- 4. Il m' - - - - offert des chocolats blancs pour le nouvel an.**
A) êtes B) a
C) ont D) sont
- 5. Sophie et toi, vous - - - - allés au Grand Prix de Monaco l'an dernier.**
A) êtes B) sont
C) ont D) sommes
- 6. La famille Dupont a passé - - - - dans une villa au bord de la mer.**
A) la rue
B) la bouche
C) les oreilles
D) les grandes vacances
- 7. Il a travaillé - - - - la semaine pour son nouveau projet.**
A) chaque B) aucun
C) toute D) personne
- 8. Hülya a eu son diplôme - - - - an que moi.**
A) les autres B) le même
C) les mêmes D) certaine
- 9. A: Ayşen est célibataire?
B: Non, - - - - depuis deux mois.**
A) elle est serveuse
B) elle est mariée
C) il est jeune
D) il est fiancé

- 10. Si je n'avais pas peur, je (j') - - - - en bateau.**
A) avons voyagé
B) ai voyagé
C) voyagerais
D) voyageais
- 11. Si ma fille apprend bien l'anglais dans une année, elle - - - - à Londres.**
A) étudiera B) avait étudié
C) avais étudié D) étudierait
- 12. A: Emel et Mine regardent les journaux télévisés?
B: Non, elles - - - - les journaux télévisés.**
A) ne pas regarder
B) ne regarde pas
C) regarder
D) ne regardent pas
- 13. A: Vous avez déjà vu le dernier tableau de Van Gogh?
B: Non, je ne - - - - ai pas vu.**
A) le (l') B) des
C) les D) leur
- 14. A: Ton fils regarde les dessins animés?
B: Oui, il - - - - regarde souvent.**
A) du B) le
C) les D) des
- 15. A: Est-ce que vous avez des élèves étrangers dans la classe?
B: Non, je n'ai pas - - - - élèves étrangers dans la classe.**
A) du B) de(d')
C) de la D) des
- 16. La souris sert à - - - - le curseur sur l'écran.**
A) manger B) parler
C) déplacer D) boire
- 17. Cümleler sırasıyla okunduğunda anlam bütünlüğünü bozan cümleyi bulunuz.**
(I) Elle est gaie. (II) Elle travaille dans une agence de voyages. (III) Elle porte une robe noire. (IV) Elle a les yeux bleus.
A) I B) II C) III D) IV

18-19 ve 20. sorularda verilen resme göre doğru ifadenin bulunduğu seçeneği işaretleyiniz.

18.



- A) Il a les cheveux longs et il porte une chemise à fleurs.
- B) Il a des lunettes et il porte un t-shirt.
- C) Il a les cheveux frisés et il porte une veste.
- D) Il a un sac à dos et il porte un short.

19.



Le chien de notre voisin est - - - - .

- A) méchant B) sympa
C) gentil D) timide

20.



Il a un - - - - nez.

- A) épatés B) gros
C) mince D) longue

(244) İNGİLİZCE – 5

1-20. sorularda boş bırakılan yere uygun gelen kelime ya da ifadeyi işaretleyiniz.

- 1. I haven't met her - - - - last year.**
A) for B) ever
C) never D) since

1. OTURUM

2. It hasn't rained in Ankara - - - - two months.

- A) for B) yet
C) to D) since

3. Your car is cheaper - - - - mine.

- A) from B) after
C) than D) then

4. While I was sleeping, the phone - - - - .

- A) ring B) rings
C) rang D) rung

5. Selim - - - - his homework when I saw him.

- A) has done B) was doing
C) is doing D) will do

6. - - - - you - - - - to watch cartoons when you were a kid?

- A) Does / used B) Does / use
C) Did / used D) Did / use

7. We - - - - at home yesterday.

- A) were B) was
C) are D) is

8. Don't use your mobile phone in the class, - - - - ?

- A) have you B) do you
C) are you D) will you

9. Özlem has bought a new ring, - - - - ?

- A) won't she B) hasn't she
C) wasn't she D) didn't she

10. I - - - - around the world in the future.

- A) have travelled
B) was travelling
C) will travel
D) am travelling

11. When they arrived, - - - - .

- A) I was watching a film
B) I will do my homework
C) I have washed the dishes
D) I am playing chess right now

12. I was setting the table while - - - - .

- A) he will go shopping
B) she usually eats out
C) my father came home
D) my mom was cooking

13. I didn't pass the class because I studied - - - - .

- A) much B) more
C) less D) a lot

14. She never tells lies, - - - - ?

- A) does she B) was she
C) wasn't she D) doesn't she

15. When I was a child, I - - - - read fairy tales.

- A) have to B) used to
C) should D) must

16. A: What were you doing last night?

B: I - - - - .

- A) was sleeping B) am sleeping
C) will sleep D) has slept

17. Kamil cut his finger - - - - he was cutting the meat.

- A) who B) what
C) when D) while

18. I have been married for - - - - .

- A) next month B) right now
C) last week D) ten years

19. Her uncle is in hospital but he is - - - - than yesterday.

- A) bad B) good
C) better D) the worst

20. I - - - - go on a holiday last year.

- A) haven't B) didn't
C) can't D) don't

(244) ALMANCA – 5

1-17. sorularda boş bırakılan yere uygun gelen kelime ya da ifadeyi işaretleyiniz.

1. A: - - - - oft gehst du zum Zahnarzt?
B: Zweimal - - - - Jahr.

- A) Wo / auf
B) Wie / im
C) Warum / denn
D) Weil / um

2. klein, kleiner, - - - -

- A) am kleinsten B) kleine
C) klein D) kleines

3. A: - - - - kommt der Bus aus Izmir?
B: - - - - 18.00 Uhr.

- A) Wo / Im B) Wie / Bis
C) Woher / Zu D) Wann / Um

4. Dienstag, Mittwoch, Donnerstag sind - - - - .

- A) Jahreszeiten B) Monate
C) Wochentage D) Stunden

5. Der klein- - - - - Schüler in unserer Klasse ist Mehmet.

- A) -ste B) -er
C) -en D) -es

6. Hasan ist 1.75 m. Arda ist 1.80 m. Hasan ist kürzer - - - - Arda.

- A) um B) so
C) als D) bei

7. Ein Tag hat vierundzwanzig - - - - .

- A) Minuten B) Stunden
C) Wochen D) Sekunden

8. Die Sommerferien beginnen - - - - Juni.

- A) auf B) bis
C) um D) im

9. - - - - du nicht viel lernst, - - - - du kein Arzt werden.

- A) Wenn / kannst
B) Damit / kann
C) Weil / können
D) Ob / könnte

1. OTURUM

10. **A: - - - - geht deine Mutter arbeiten?
B: Sie geht arbeiten - - - - Geld zu verdienen.**

- A) Wie / denn B) Warum / um
C) Wo / im D) Wozu / bis

11.



**A: Wie spät ist es?
B: Es ist - - - - .**

- A) Viertel vor acht
B) acht Uhr
C) Viertel nach acht
D) halb acht

12. **Ich habe Halsschmerzen, - - - - ich viel Eis gegessen habe.**

- A) denn B) um
C) ob D) weil

13. **Wir wollen - - - - Antalya leben, - - - - es ist sehr warm dort.**

- A) um / denn B) in / aber
C) weil / denn D) in / ob

14. **Mein Name - - - - Peter. Ich - - - - in Köln geboren.**

- A) sind / um
B) heiÙe / wohne
C) ist / bin
D) bin / ist

15. **Baklava ist sehr - - - - .**

- A) bitter B) salzig
C) süÙ D) heiÙ

16. **- - - - 2014 lerne ich - - - - der Schule Deutsch.**

- A) Von / zu B) Seit / in
C) Um / bis D) Im / zu

17. **Temel ist nicht - - - - dick - - - - Hans.**

- A) so / wie B) wie / denn
C) ob / weil D) um / so

18. **“Ich esse Pide, weil es mir schmeckt.” cümlesinin Türkçe karşılığı aşağıdakilerden hangisidir?**

- A) Ben pide yiyorum.
B) Lezzetli olmadığı için pide yemiyorum.
C) Pide çok lezzetlidir.
D) Pideyi lezzetli bulduğum için yiyorum.

19. **Aşağıdaki sıfatlardan hangisinin zıt anlamısı yanlıs verilmiştir?**

- A) teuer x billig
B) schnell x langsam
C) laut x leise
D) alt x älter

20. **Aşağıdaki sıfatlardan hangisinin derecelendirilmesi yanlıs verilmiştir?**

- A) dünn – dünnste – am dünnsten
B) billig – billiger – am billigsten
C) schnell – schneller – am schnellsten
D) kalt – kälter – am kältesten

(244) FRANSIZCA – 5

1-20. sorularda boş bırakılan yere uygun gelen kelime ya da ifadeyi işaretleyiniz.

1. **Sont - - - - arrivées à l'aéroport en taxi?**

- A) nous B) ils
C) vous D) elles

2. **- - - - veut se reposer à la campagne.**

- A) Il B) Je
C) Tu D) Vous

3. **Candan Erçetin est une chanteuse - - - - chante aussi en français.**

- A) ce que B) qui
C) ce qui D) que

4. **Voilà le village - - - - mon fils est né il y a trois ans.**

- A) que B) qui
C) où D) quoi

5. **La veste - - - - je porte est en laine.**

- A) que B) où
C) qui D) ce que

6. **- - - - il fait beau, mon père va à la chasse avec son chien.**

- A) Pourquoi B) Comment
C) Combien D) Quand

7. **Je - - - - restée en France pendant une année.**

- A) sommes B) ont
C) suis D) avez

8. **Nous irons - - - - ensemble pour nager.**

- A) à la montagne
B) à la mer
C) au cinéma
D) au restaurant

9. **- - - - il est sorti du bureau d'assurance à 10 heures.**

- A) Lundi dernier
B) Mercredi prochain
C) Demain matin
D) Le mois prochain

10. **C'est le lycée - - - - je suis le directeur.**

- A) qui B) dont
C) que D) où

11. **Can écoute de la musique - - - - le journal.**

- A) lire B) lisait
C) lisant D) en lisant

12. **M. Duval - - - - dans le parc national, étudie la nature.**

- A) racontant B) apportant
C) travaillant D) rencontrant

13. **Pendant mes - - - - en bateau sur le Bosphore, je bois du café.**

- A) livres B) animaux
C) promenades D) magazines

14. **S'il fait chaud demain, j'irai - - - - à la mer.**

- A) se lever
B) faire du ski nautique
C) se sentir
D) visiter la tour Eiffel

15. **Si tu es végétarien, alors tu ne manges pas de - - - - .**

- A) bifteck B) carottes
C) pommes D) tomates

1. OTURUM

16. **Metin est fatigué - - - a beaucoup travaillé.**

- A) parce que B) combien
C) pourquoi D) parce qu'il

17. **Nous - - - marché toute la nuit.**

- A) sommes B) ont
C) allons D) avons

18. **- - - Turquie, on roule - - - droite.**

- A) En / à B) À / en
C) Au / aux D) Aux / à

19. **Paul : - - - travaillez-vous?
Can : À Istanbul.**

- A) Quand B) Comment
C) Où D) Pourquoi

20. **Il mange en - - - la télévision.**

- A) regardé B) regardant
C) regardait D) regarder

(401) DİL VE ANLATIM – 1

1. Ali Bey, dün iş yerinde bize yine bir Temel fıkrası anlattı.

Bu cümlede aşağıdaki iletişim öğelerinden hangisi yoktur?

- A) Gönderici
B) Alıcı
C) Dönüt
D) Bağlam

2. **En güçlü iletişim şekli aşağıdakilerden hangisidir?**

- A) İşaretleşme ile yapılan
B) Bakışma ile yapılan
C) Dil ile yapılan
D) Sembollerle yapılan

3. Dil, insanlara özgü bir iletişim aracıdır. Çevremizde gördüğümüz canlı varlıklar birtakım sesler çıkarır. Köpekler havlayarak, kediler miyavlayarak, atlar kişneyerek kendi aralarında anlaşır. İnsanlar ise kendi aralarında konuşarak ve yazarak iletişim kurarlar.

Bu parçada aşağıdakilerin hangisi üzerinde durulmaktadır?

- A) İletişimin önemi
B) İletişim şekilleri
C) İletişimin tanımı
D) İletişimin tarihî gelişimi

4. İsmail Öğretmen, dil ve anlatım dersinde "yemiş" sözcüğünün eskiden bütün meyveler için kullanıldığını ancak günümüzde sadece incire yemiş dendiğini söylemiştir.

İsmail Öğretmen'in verdiği bu bilgi dil bilgisinin aşağıdaki bölümlerinden hangisinin inceleme alanına girer?

- A) Ses bilgisi (fonetik)
B) Biçim bilgisi (morfoloji)
C) Köken bilim (etimoloji)
D) Anlam bilim (semantik)

5. Bir ülke sınırları içinde farklı bölgelerde konuşulan dile - - - , o ülkenin resmî yazışma diline ise - - - denir.

Bu cümlede boş bırakılan yerlere aşağıdakilerden hangileri sırasıyla getirilmelidir?

- A) şive – lehçe
B) lehçe – şive
C) ağız – yazı dili
D) yazı dili – konuşma dili

6. Bir milletin dili o milletin yaşamından mutlaka izler taşır. Dili oluşturan içinde doğup yeşerdiği milletin kültürüdür. Dili, kültürden ayrı düşünmek mümkün değildir. Türkçede süt ürünleri olan ayran ve yoğurtla ilgili binlerce yemek adı bulabilirsiniz. Ancak aynı kelimeleri sözgelimi İngilizcede görmeniz mümkün değildir. Çünkü bu kelimeler bize aittir ve bizim yaşayışımızın ürünü olarak dilde yerini almıştır.

Bu parçanın konusu aşağıdakilerden hangisidir?

- A) Dil – kültür ilişkisi
B) Dilin önemi
C) Dilin işlevleri
D) Kültürün öğeleri

7. Yeryüzündeki diller; ses sistemi, biçim yapısı ve söz dizimi bakımından bazı yakınlık ve benzerlikler gösterir. Diller arasındaki bu yakınlık ve benzerliğe - - - denir.

Bu parçada boş bırakılan yere aşağıdakilerden hangisi getirilmelidir?

- A) dil benzerliği
B) dil etkileşimi
C) dil alışverişi
D) dil akrabalığı

8. I. Bu dillerdeki sözcüklerde çekim eki yoktur.
II. Yeni sözcük türetmek için yapım ekleri kullanılır.
III. Bu dillerde sözcüklerde vurgu hâkimdir.
IV. Hintçe, Farsça, Fransızca bu dil ailesine mensup dillerden bazılarıdır.

Yukarıda numaralanmış özelliklerden hangileri tek heceli diller için söylenemez?

- A) I ve II. B) I ve IV.
C) II ve III. D) II ve IV.

9. **Aşağıdaki dillerden hangisi Ural-Altay dil ailesine mensup değildir?**

- A) Türkçe B) Arapça
C) Moğolca D) Macarca

10. • MÖ 5. yy. ile MS 5-6. yy. arasında kapsar.
• Hun İmparatorluğu'nun hâkim olduğu bir dönemdir.
• Bu dönemde Oğuz Kağan Destanı oluşmuştur.

Yukarıdaki özellikler Türkçenin hangi dönemine aittir?

- A) İlk Türkçe Çağı'na
B) Eski Türkçe Çağı'na
C) Orta Türkçe Çağı'na
D) Yeni Türkçe Çağı'na

11. I. Eserin günümüz Türkçesindeki karşılığı "Hakikatlerin Eşiği"dir.
II. Kaşgarlı Mahmut tarafından 1072-1074 yılları arasında yazılmıştır.
III. 484 dizeden oluşan ahlaki, öğretici, manzum bir eserdir.
IV. Eserde İslamiyet Öncesi Dönem'e ait koşuk, sagu, sav örnekleri vardır.

Yukarıda numaralanmış özelliklerden hangileri Divanü Lügati't Türk'e aittir?

- A) I ve II. B) I ve III.
C) II ve IV. D) III ve IV.

12. **Aşağıdakilerden hangisi 12 ve 13. yüzyılda Türkçenin gelişimine katkı sağlayan sanatçılardan biri değildir?**

- A) Hacı Bektaş-ı Veli
B) Karacaoğlan
C) Hoca Dehhanı
D) Yunus Emre

1. OTURUM

13. Nefes borusundan gelen hava, ağız boşluğu içerisinde herhangi bir bölgede sese dönüşür. Bu sesin oluşmasına - - - - denir.

Bu parçada boş bırakılan yere aşağıdakilerden hangisi getirilmelidir?

- A) vurgu B) tonlama
C) boğumlanma D) telaffuz

14. Aşağıdaki cümlelerin hangisinde büyük ünlü uyumuna uymayan bir sözcük kullanılmıştır?

- A) Son dersimiz çok zevkli geçmişti.
B) Arabacı, atları bir el hareketiyle hızlandırdı.
C) Köyümüzün geniş bir otlatma alanı vardı.
D) Arkadaşlarım zor anlarımda hep yanımda oldular.

15. Aşağıdaki cümlelerin hangisinde ünsüz benzeşmesine uymamaktan kaynaklanan bir yazım yanlışı yapılmıştır?

- A) Etrafta çocuklar için birçok etkinlik alanı ve park vardı.
B) Yağmur şiddetlendikçe sular çatılardan daha bir gürültüyle akıyordu.
C) Görevlilerin biri başkanın kulağına hafifçe eğilerek bir şeyler fısıldadı.
D) İşçilerin çıkardığı gürültü sınav salonundakileri rahatsız etmişti.

16. Aşağıdaki sözcüklerden hangisine ünlü ile başlayan bir ek getirildiğinde ünlü düşmesi olmaz?

- A) Cisim B) Ritim
C) Resim D) Kesim

17. Aşağıdaki cümlelerin hangisinde "ki"nin yazımıyla ilgili bir yanlışlık yapılmıştır?

- A) Emrinde ki işçilere talimatlar yağdırıyordu.
B) İyice çalış ki sınıfını geçesin.
C) Dünkü derste çok eğlendik.
D) Ağlasın ki biraz rahatlasın.

18. O yıllarda erkek çocuklarına Ali, Mustafa, Mehmet () kız çocuklarına Zeynep, Türkan, Ayşe gibi isimler veriliyordu.

Bu cümlede yay ayrıla belirtilen yere aşağıdaki noktalama işaretlerinden hangisi getirilmelidir?

- A) Nokta (.)
B) Virgül (,)
C) Noktalı virgül (;)
D) İki nokta (:)

19. Bana hayattan ne öğrendiğimi soruyorlar () Hayattan tek bir şey öğrendim () Dürüstlük ()

Bu parçada yay ayrıla belirtilen yerlere aşağıdaki noktalama işaretlerinden hangileri sırasıyla getirilmelidir?

- A) (?) (:) (...)
B) (.) (:) (.)
C) (?) (.) (.)
D) (:) (...) (.)

20. Aşağıdaki sözcüklerin hangisi küçük ünlü uyumuna uymamaktadır?

- A) Çamurluk B) Yoğun
C) Başlangıç D) Genişçe

(402) DİL VE ANLATIM – 2

1. O zaman başından aşkındı derdi,
I
Mermeri oyardı, taşları delerdi.
II
Kaç yanık volcuya soğuk su verdi,
III
Değdi kaç dudağa çoban çeşmesi.
IV

Bu dizelerde numaralanmış sözcüklerden hangileri hem yapım hem çekim eki almıştır?

- A) I ve II. B) I ve III.
C) II ve IV. D) III ve IV.

2. Aşağıdakilerin hangisinde yapıca özdeş olan sözcükler bir arada verilmiştir?

- A) kalemler – gelenek
B) keskin – uyku
C) yüzbaşı – olgun
D) sanat – çekyat

3. Aşağıdaki cümlelerin hangisinde "donmak" sözcüğü, "beklenmedik bir durum karşısında birden hareketsiz kalmak" anlamında kullanılmıştır?

- A) Yaşlı adam dışarıda donmak üzereydi.
B) Donmuş beyinler gelişmeye engel olur.
C) Karşılarında beni görünce hepsi o anda dondu.
D) Arabayla donmuş bir gölün üzerinden geçmiştik.

4. Aşağıdaki cümlelerin hangisinde altı çizili sözcük soyut anlamlıdır?

- A) O gün hava oldukça kapalı ve iç karartıcıydı.
B) Sokağı mis gibi bir ekmek kokusu sarmıştı.
C) Kendi emellerinin uğruna başkalarına zarar vermeyin.
D) Bu yaylanın her mevsim ayrı bir güzelliği olur.

5. Aşağıdaki cümlelerin hangisinde "boş" sözcüğü gerçek anlamda kullanılmıştır?

- A) Yeni gelen misafirleri boş odalara yerleştiriniz.
B) Küçük kardeşinin bütün uğraşları boş çıktı.
C) Boş düşüncelere kapılıp kendini üzüyorsun.
D) Bana söylediği boş sözlere inanamamı bekledi.

6. Aşağıdaki cümlelerin hangisinde karşıt anlamlı sözcükler bir arada kullanılmıştır?

- A) Bu işi kabul edip etmeyeceğini merakla bekliyoruz.
B) Davranışları arasında bir karşıtlık söz konusuydu.
C) Uzun yıllar sonra buralara kar yağmıştı.
D) Yeni telefon alınca eskisini bana verdi.

7. Aşağıdaki cümlelerin hangisinde "çarpmak" sözcüğü terim anlamıyla kullanılmıştır?

- A) Sahneye çıkacağım için kalbim hızlı hızlı çarpıyordu.
B) Otobüste yaşlı bir adamın cüzdanını çarpmışlar.
C) Babası kapıyı hızla çarpıp dışarı çıktı.
D) Üç basamaklı sayıları zihinde çarpmak benim için çocuk oyuncağı.

8. (I) Güçlü kitaplar, okurlarının hisleriyle aynı yaşta olan kitaplardır. (II) En sağlam kitaplar, bize düş evreninin kapısını açan kitaplardır. (III) Hiçbir zaman yaşlanmayan, okurlarını kendi yaşına çeken kitaplar başarılı eserlerdir. (IV) Bu eserlerin kaç yaşındaki bir yazar tarafından yazıldıkları ya da kaç yaşındaki bir okur kitlesini hedeflediği önemli değildir.

Bu parçada numaralanmış cümlelerden hangileri anlamca birbirine en yakındır?

- A) I ve III. B) II ve III.
C) II ve IV. D) III ve IV.

1. OTURUM

9. Aşağıdakilerden hangisi yapıcı basit bir cümledir?

- A) Bu olayı ona anlatmayı düşünüyorum.
- B) O gece bütün köy bir araya gelmişti.
- C) Kitap okuyan insan olaylara farklı bakar.
- D) Kasabaya inmiş, evin ihtiyaçlarını almıştı.

10. Aşağıdaki dizelerden hangisinin yüklemi haber kipiyle çekimlenmiştir?

- A) Takınsam kanat manat
Kuş muş olsam seğırtsem
- B) Bir büyük oyun yaşamak dediğin
Beni ya sevmeli ya öldürmeli
- C) Sarışın buğdayı rüyalarımızın
Seni bağrımızda eker biçeriz
- D) Rüzgârlı havalarda sokağa çık
Ama şaşırma beni

11. Aşağıdaki cümlelerin hangisinde isim tamlaması vardır?

- A) Dışarıda büyük bir gürültü kopmuş, herkes paniğe kapılmıştı.
- B) Şirkette aksayan noktaları bir an önce düzeltmelisiniz.
- C) Öğrencilik yıllarımda arkadaşlarımla dergi çıkartıyorduk.
- D) O köye ihtiyaç duyulabilecek her şeyi gönderdik.

12. Aşağıdaki cümlelerin hangisinde öge eksikliğinden kaynaklanan bir anlatım bozukluğu vardır?

- A) Oğluna her zaman güvenir, her durumda desteklerdi.
- B) Valimiz sık sık okulumuza gelir, projelerimize destek verirdi.
- C) Şehir planlamacılığı her geçen gün önem kazanıyor.
- D) Bir dergide çalışmaya başlamış, yükülerimi ilk defa okur karşısına çıkarmıştım.

13. Bazı kitaplarda anlatılan dünya öyle canlı, öyle fantastiktir ki okuyucu bu kitaba kendini kaptırır ve kitabı elinden bırakamaz.

Aşağıdakilerden hangisi bu cümleye anlamca en yakındır?

- A) Fantastik romanlar son dönemde en çok okunan roman türüdür.
- B) Farklı bakış açısı kazandıran kitaplar bütün övgülere layıktır.
- C) Gerçeküstü ve renkli bir anlatıma sahip kitaplar okuyucuların beğenisini kazanır.
- D) Okuyucuların hayal dünyasını zenginleştirmeyi amaçlayan kitaplar çocuklara yönelik olmalıdır.

14. Yaşar Kemal'in onlarca eseri olmasına rağmen aslında tek bir roman yazdığını söyleyebiliriz. Çünkü eserleri tek bir iskeletin üzerine oturmaktadır. Onun eserlerinde doğaya sahip çıkanlar, doğanın özünü her şeyden üstün tutanlar yüceltilmiştir. Eserleri adalete, merhamete, sevgiye dairdir. Yazar eserlerinde, her alanda ezilenlerin yanında yer almış; kötünün ve zalimin ebedî bir adaletle cezalandırılması gerektiğini dile getirmiştir.

Bu parçada Yaşar Kemal ile ilgili olarak aşağıdakilerden hangisine değinilmemiştir?

- A) Zayıf olanların sesi olduğuna
- B) Eserlerinde ortak konuları işlediğine
- C) Kahramanlarının doğaya önem verdiğiğine
- D) Roman türündeki eserleriyle başarılı olduğuna

15. (I) Çocukların istenmeyen bazı davranışları veya önüne geçilemeyen korkuları olabilir. (II) Bunlar doğal ve aşılabilir durumlardır. (III) Bu tür sorunların üstesinden gelebilmek için farklı yöntemler denemek gerekebilir. (IV) Çocukların ebeveynleri ile iletişimleri, gelişimleri açısından oldukça önemlidir. (V) Bir yöntem işe yaramadığında başka yöntemler aramak ve bulmak zorunda kalınabilir.

Bu parçada numaralanmış cümlelerden hangisi parçanın düşünce akışını bozmaktadır?

- A) II. B) III. C) IV. D) V.

16. Fotoğraflara hiç bakmadım desem yeridir. Bakacaksam da bire bir fotoğraftan geçmeyi sevmiyorum. Fotoğraflara şöyle bir bakarım, ardından aklımda kalanı çizmeye çalışırım. Böylece daha özgün karakterler çıkarabiliyorum.

Bu parça aşağıdaki sorulardan hangisine cevap olarak söylenmiştir?

- A) Çizim aşamasında fotoğraflar üzerinde mi çalışırsınız?
- B) Eserinizde fotoğraflara yer vermenizdeki amaçlar nelerdir?
- C) Çocuklara yönelik kitaplarda hayvan kahramanların resimlerine neden yer verilmektedir?
- D) Çizimlerinizdeki karakterlerin seçilmesinin nedenleri nelerdir?

17. Bir ulusun şiiri demek ondaki dehalığın en doğru, en arı görünümü demektir. Milletin dehası her ülke şiirine kendine özgü bir renk, bir koku ve farklı bir seste yansır. Birçok milletin şiirinde alışveriş olsa da bu kendine özgülük daima kendini korur. Ortak konular bile o milletin kültür ve edebiyat geleneğine göre şekil alır.

Bu parçada asıl anlatılmak istenen aşağıdakilerden hangisidir?

- A) Farklı şiir anlayışları arasında benzerlikler bulunmaktadır.
- B) Şiir ayrı bir dehalik gerektiren bir türdür.
- C) Her milletin şiir anlayışında farklılıklar söz konusudur.
- D) Şiir, her dönemde kendini yenileyen bir tür olmuştur.

18. Kendimizi başka bir yaşamın içine atmak için tiyatronun rahat koltuklarına gömülüyoruz. Alışılmışın dışına çıkmanın başka yolu yok. Bir iki saat için de olsa kendimizi başkasında yaşama isteği duyuyoruz. Belki de başkasını, kendimizde yaşama isteği vardır bu duyguda. Bu açıdan bir şeylerden kopup bir yerlere sığınmadır tiyatro.

Bu parçanın ana düşüncesi aşağıdakilerden hangisidir?

- A) Tiyatro ile kendi yaşamımızdan uzaklaşıp farklı bir yaşamın içine gireriz.
- B) Tiyatro gerçeğe yakınlığı ile diğer edebî türlerden oldukça farklıdır.
- C) Tiyatronun, hayatın kendisi olması onu tercih edilir kılmıştır.
- D) Tiyatro kişinin kendi hayatını sorgulamasını sağlar.

19. Okyanusların derinlerindeki hidrotermal bacaların çevresi, bilinen en uç yaşam alanları arasında. Yer kabuğunun içine sızan okyanus suyu ısınıyor, kimyasal maddeleri emiyor ve okyanus dibindeki "hidrotermal baca" adı verilen yerlerden dışarı fışkırıyor. İçlerinden çıkan suyun sıcaklığı 400 dereceyi geçebilen bu bacaların etrafındaki dev midyeler, boyları iki metreye varabilen solucanlar, beyaz yengeçler ve diğer canlılar araştırmacıları hayrete düşüyor.

Bu parçanın anlatımında aşağıdakilerden hangisine yer verilmiştir?

- A) Sayısal ifadeye
- B) Karşılaştırmaya
- C) Açıklamaya
- D) Örneklere

1. OTURUM

20. Bugün okuduğum sanat eleştirileri içinde yüzeysel, saldırgan, zaman zaman temelsiz yazılara rastlıyorum. Çok kapsamlı bir araştırmaya dayanmadan, düşüncelerini temellendirmeden öznel yorumları kolayca savurdıklarını görüyorum. Doğru dürüst çalışan ve eleştirisini sağlam bir kurgu üzerine oturtan eleştirmen çok az.

Bu parçada yazarın sanat eleştirmenlerinde gördüğü eksiklik aşağıdakilerden hangisidir?

- A) Eleştirisini yaptıkları sanatçının düşüncelerini dikkate almamaları
- B) Eleştiri alanında kendilerini yetiştirmemeleri ve nesnellikten uzak olmaları
- C) Sanatçıyı değil eseri merkeze alan bir eleştiriyi benimsemeleri
- D) Okurun düşüncelerini önceleyen bir eleştiri anlayışına sahip olmaları

(407) DİL VE ANLATIM – 7

1. Aşağıdakilerden hangisi sanatsal bir metinden alınmıştır?

- A) Türkçede herkesin bildiği, kullandığı aşk, sevdâ gibi yabancı sözcüklerin yanı sıra sevgi ve sevi gibi kelimeler de vardır. Ancak Anadolu ağızlarında rastladığımız "ağın" sözcüğü ilgi çekici bir niteliktedir.
- B) Hıdırellez geldi. Güneş, toprağı yeniden ısıttı. Bütün bir kış bembeyaz bir uyku içinde hareketsiz duran köy, yavaş yavaş canlanmaya başlamıştı. Sığırtlarını önüne katıp tarlalara yönelen köylüler birer birer beliriyorlardı.
- C) Çok şey söylemez şair, sanki sözcüklerden tasarruf etmek başlıca dileğidir. İlk kitabı "Kınar Hanım'ın Denizleri" sözcük yığını yerine kavramlaşmış sözcükler kullanılan bir şiir kitabıdır. Ne saklayayım, Ece Ayhan'ın şiiri gelişkin bir şiirdir, bir kültür şiiridir.
- D) Konuşma diline perende attıranlardan biri de Ahmet Rasim'dir. Hoş, onun yazıları çoğunlukla fıkra niteliği taşır ama kendi de yazdıklarına fıkra gözüyle bakar; kimi yazılarının deneme olduğunu kabul etmemeye olanak yoktur.

2. Aşağıdakilerin hangisinde "fabl"ın tanımı doğru yapılmıştır?

- A) Genellikle yaratıcısı bilinmeyen, olağanüstü öge, kahraman ve olaylara yer veren anlatılardır.
- B) Yaşanmış ya da yaşanabilecek olayların kişi, yer ve zaman öğelerine bağlanarak anlatıldığı kısa yazılardır.
- C) Olmuş ya da olabilecek olayların kişi, yer ve zaman çerçevesi içinde anlatıldığı uzun, mensur eserlerdir.
- D) Ders vermek amacıyla hayvanlar ya da cansız varlıklar arasında geçen bir olayı genellikle manzum olarak anlatan yazılardır.

3. Ey bu toprak için toprağa düşmüş

- asker
- Gökten ecdâd inerek öpse o pâk alnı değer

Bu dizelerdeki altı çizili bölümde bulunan edebî sanat aşağıdakilerin hangisidir?

- A) Kinaye
- B) Benzetme
- C) Kişileştirme
- D) Abartma

4. • Hareketten çok ses taklidi, jest ve mimiklere dayanan bir sanattır.
• Sanatçı, dinleyicilerin toplandığı yerlerde yüksekçe bir yere çıkarak sanatını gösterir.
• Aksesuar olarak sadece omzunda bir mendil ve elinde bastonu bulunur.

Bu özellikler aşağıdaki geleneksel Türk tiyatrosu türlerinden hangisine aittir?

- A) Köy seyirlik oyunlarına
- B) Karagöz'e
- C) Meddaha
- D) Orta oyununa

5. I. Revü
II. Dram
III. Operet
IV. Absürt tiyatro

Numaralanmış tiyatro türlerinden hangileri müzikli oyundur?

- A) I ve II.
- B) I ve III.
- C) II ve III.
- D) III ve IV.

6. Yollar çok garipti. Bir palaskalı asker, fişek kemerli, Laz başlıklı insanlar birer ikişer görünüp kayboluyorlardı. Bütün bir İstanbul kafesi uzaktan geçip gidiyordu. İpten dizginli tahta semerler üzerinde nefer esvaplı zabıtlar, paltolu siviller görüyorduk. Biz kimse ile konuşmuyorduk.

Bu parçada anlatmaya bağlı metinlere ait aşağıdaki öğelerden hangisi belirgin değildir?

- A) Olay
- B) Kişi
- C) Zaman
- D) Mekan

7. Durum öyküsünün edebiyatımızdaki en önemli temsilcileri aşağıdaki seçeneklerin hangisinde bir arada verilmiştir?

- A) Refik Halit Karay – Ömer Seyfettin
- B) Halit Ziya Uşaklıgil – Yakup Kadri Karaosmanoğlu
- C) Orhan Kemal – Hüseyin Rahmi Gürpınar
- D) Memduh Şevket Esendal – Sait Faik Abasıyanık

8. Aşağıdakilerin hangisinde masal ile ilgili yanlış bir bilgi verilmiştir?

- A) İlk Türkçe masal kitabı olarak Binbir Gece Masalları kabul edilmektedir.
- B) Genellikle bir tekerlemeyle başlar.
- C) Doğası gereği "mutlu son"la biter.
- D) İlk söyleyeni belli değildir.

9. Aşağıdakilerin hangisinde halk şiiri nazım biçimleri bir arada verilmiştir?

- A) Koşma – sone – türkü – mesnevi
- B) Semai – şarkı – mâni – ilahi
- C) Koşma – semai – mâni – türkü
- D) Tuyuğ – şarkı – türkü – ilahi

10. Batı romanında sık başvurulan bu anlatım tekniği bir alıntının, bir davranış biçiminin ya da belli bir özelliğin roman boyunca sürekli bir biçimde yinelenmesidir.

Bu cümlede özelliği verilen çağdaş Batı romanına özgü anlatım tekniği aşağıdakilerden hangisidir?

- A) Bilinç akımı
- B) Leitmotiv
- C) Görece zaman anlayışı
- D) Montaj

1. OTURUM

11. • Gülünç, bayağı, korkunç olaylarla acıklı, ince ve güzel olayları iç içe anlatan bir tiyatro türüdür.
- Sadece nesir (düzyazı) şeklinde kaleme alınır.
 - Kişileri her tabakadan ve karakterden oluşabilir.
- Dram türü ile ilgili verilen bu cümleler doğru-yanlış olarak değerlendirildiğinde sıralama aşağıdakilerden hangisi olur?**
- A) D – Y – D B) Y – D – D
C) Y – Y – D D) D – D – Y

12. İşte, rüzgâr esiyor, dalgalar coştı yine;
Kumlara işlediğim hayalin de kayboldu
Hicranınla yanarken ben derinden derine,
Karşında, solan yüzüm gibi, güneş de soldu.
- Bu dörtlüğe hâkim olan duygu aşağıdakilerden hangisidir?**
- A) Pişmanlık B) Sevinç
C) Korku D) Özlem

13. **Aşağıda tiyatro ile ilgili verilen açıklamaların hangisi yanında yayıracı içinde verilen kavrama ait değildir?**
- A) Oyunun akışını metinden takip eden ve unutulmuş cümle ya da sözleri fısıldayarak hatırlatan görevli (süflör)
- B) Oyuncuların metne bağlı kalmadan zekâ ve kavrayışlarına göre başarı sağladıkları konuşma ve davranışlar (adaptasyon)
- C) Oyunun geçtiği yeri canlandırmak amacıyla kullanılan renk, ışık, eşya vb. araçların tümü (dekor)
- D) Bir oyunun kalabalık sahnesini doldurmak için kullanılan, konuşmayan ya da birkaç sözcük söyleyen kişi, kişiler (figüran)
14. Roman sanatının ilk başarılı örneği ---- tarafından yazılan ----.
- Bu cümlede boş bırakılan yerlere sırasıyla aşağıdakilerden hangileri getirilmelidir?**
- A) Victor Hugo – Sefiller'dir
B) Dostoyevski – Suç ve Ceza'dır
C) Cervantes – Don Kişot'tur
D) Stendhal – Kırmızı ve Siyah'tır

15. **Aşağıdakilerin hangisinde ben merkezli hikâye ile ilgili bir bilgi yanlıştır?**
- A) Yazar, iç dünyasının yansımalarından çok, dış dünyadaki gözlemlerini anlatır.
- B) Yazarın kişiliği ile kahramanın kişiliği iç içe girmiştir.
- C) Bunalım ve yaşama sevinci arasında kalan birey, var olandan hareketle dış dünyasına sığınır.
- D) Hikâyeler çarpıcı ve beklenmedik bir sonla bitirilir.

16. Yazarın kendi yaşamını anlattığı romanlardır. Dünya edebiyatında Alphonso Daudet'in "Küçük Şeyler" adlı romanı bu türe örnek gösterilebilir.
- Bu parçada hakkında bilgi verilen roman türü aşağıdakilerden hangisidir?**
- A) Sosyal roman
B) Otobiyografik roman
C) Tarihî roman
D) Macera romanı

17. **Aşağıdakilerden hangisi seyretmeye dayalı sanat dallarından değildir?**

- A) Sinema B) Tiyatro
C) Masal D) Opera

18. Bir aslan ölmüş ve hayvanlar Yeni kralı seçmek için toplanmışlar
Gitmiş getirmişler krallık tacını
Bir ejderhanın saklandığı yerden
Taç bütün hayvan başlarında denemiş
Bakmışlar uymuyor hiçbir başa
- Bu parça aşağıdaki metin türlerinin hangisinden alınmıştır?**
- A) Fabldan B) Masaldan
C) Romandan D) Hikâyeden

19. **Aşağıdakilerden hangisi kahramanlık konulu halk hikâyesine örnek gösterilebilir?**
- A) Kerem ile Aslı
B) Emrah ile Selvihan
C) Arzu ile Kamber
D) Battal Gazi

20. **Aşağıdaki cümlelerin hangisinde mecazmürsel (düz değişmece) yoktur?**
- A) Uçağımız akşam Trabzon'a inecek.
- B) Demlik kaynadı, ateşi söndürebilirsin.
- C) İstanbul'un gönlümdeki yeri bambaşka.
- D) Fuarda imza için ünlü kalemler bir araya gelmişti.

(408) DİL VE ANLATIM – 8

1. **Aşağıdakilerden hangisi sözlü anlatım türlerinden biridir?**

- A) Tiyatro B) Hikâye
C) Makale D) Açık oturum

2. Geçen gün babamla bir toplantı salonuna gittik. Bir dil profesörü geliştirdiği dil teorisiyle ilgili bilgiler verdi. Bir saat süren anlatımın sonunda dillerle ilgili pek çok şey öğrenerek eve döndüm.

- Bu parçada sözü edilen toplantının türü aşağıdakilerden hangisidir?**

- A) Konferans B) Panel
C) Münazara D) Sempozyum

3. **Aşağıdakilerin hangisi bilimsel bir yazıdan alınmıştır?**

- A) Öte tarafta kız, aynı gün bir önceki gibi hazırlanır. Bu defa elbise bezenmiş. Kız tahta kurulmuş.
- B) Bir söz vardır "Kambersiz düğün olmaz." diye. Kambersiz düğün olur mu, olmaz mı bilemem. Ama "Kamber"siz Arzu olmaz; bunu bilir, bunu söylerim.
- C) Bu yeni yöntem aracılığı ile zihnin nasıl işlediğini, hangi aktivite için beynin, hangi bölümünü kullandığını ve hangi sinyallere nasıl tepkiler verdiğini anlamak mümkün olacak.
- D) Açılan bir gülsün sen yaprak yaprak, Ben aşkımla bahar getirdim sana; Tozlu yollarından geçtiğim uzak iklimden şarkılar getirdim sana.

1. OTURUM

4. Münazara başkanının aşağıdakilerden hangisini yapması doğru değildir?

- A) Tartışılan konunun sınırlarının tartışmacılar ve dinleyiciler tarafından anlaşılmasını sağlamalıdır.
- B) Dinleyicileri taraflarını seçip onları desteklemeleri konusunda yüreklendirmelidir.
- C) Tartışmanın konu dışına çıkmasını engellemelidir.
- D) Tartışmacıların fikirlerini rahatça sunacakları bir ortam oluşturmalıdır.

5. Konferansla ilgili aşağıdakilerden hangisi yanlıştır?

- A) İlim, sanat, teknoloji, doğa vb. alanlarda verilebilir.
- B) Dil, ağırlıklı olarak göndergesel işlevde kullanılır.
- C) Konu ayrıntılı olarak ele alınmalı, iki saatten az sürmemelidir.
- D) Görsellerle desteklenerek dinleyicinin dikkati uyanık tutulmalıdır.

- 6. • Geniş halk kitlelerinin ilgi duyduğu bir konu seçilir.
- Bir salonda izleyici önünde veya televizyon ve radyolarda yapılır.
- Konuşmalar bir başkan tarafından yönetilir.

Bu özellikler aşağıdaki tartışma türlerinden hangisine aittir?

- A) Açık oturuma
- B) Sempozyuma
- C) Konferansa
- D) Münazaraya

- 7. Zıt kutuplu konular; iddia etme ve ispatlama kaygısı olduğu için - - - tartışmaya daha elverişlidir.

Bu cümlede boş bırakılan yere aşağıdakilerden hangisi getirilmelidir?

- A) forumda
- B) münazarada
- C) sempozyumda
- D) açık oturumda

- 8. • Sempozyumda alınan kararlar, basılı materyal hâline getirilerek kamuoyuyla paylaşılır.
- Sempozyumda her oturumun mutlaka bir başkanı bulunur.
- Sempozyum bir günden fazla sürmez.

Bu cümleler doğru-yanlış bakımından değerlendirildiğinde sıralama aşağıdakilerden hangisi olur?

- A) Y – D – D
- B) D – Y – Y
- C) Y – Y – D
- D) D – D – Y

9. Tartışmaya dinleyicilerin de aktif bir şekilde katıldığı sözlü anlatım türü aşağıdakilerden hangisidir?

- A) Münazara
- B) Forum
- C) Açık oturum
- D) Sempozyum

10. Aşağıdakilerden hangisi münazarada tartışmaya elverişli bir konu değildir?

- A) Akıllı tahta, eğitime önemli bir katkı sunmuştur.
- B) Akıllı telefonlar günlük hayatımızı kolaylaştırmaktadır.
- C) Türkçede yapım ekleri yoluyla yeni kelimeler türetilir.
- D) Yabancı dille eğitim ilkokuldan itibaren verilmelidir.

11. Bilimsel yazılarda dil hangi işlevde kullanılır?

- A) Heyecana bağlı
- B) Kanalı kontrol
- C) Sanatsal
- D) Göndergesel

12. Aşağıdakilerin hangisinde dipnot yazımı doğrudur?

- A) Doğan Aksan, Türkçenin Gücü, Bilgi Yayınevi, 6. Basım, Ankara 1999, s.35
- B) 6. Basım, Bilgi Yayınevi, Türkçenin Gücü, Doğan Aksan, Ankara 1999, s.35
- C) Ankara 1999, s.35, Doğan Aksan, Türkçenin Gücü, Bilgi Yayınevi, 6. Basım
- D) Türkçenin Gücü, Doğan Aksan, Ankara 1999, Bilgi Yayınevi, 6. Basım, s.35

- 13. I. Katılan herkese sırasıyla söz hakkı verilir.
- II. Söz alanlar konuyla ilgisi olmayan sorular da sorabilirler.
- III. Sorular kısa, açık ve net olmalıdır.
- IV. Kırıcılıktan uzak, samimi bir hava içerisinde yapılmalıdır.

Forumla ilgili numaralanmış bilgilerden hangileri yanlıştır?

- A) I ve II.
- B) I ve III.
- C) II ve III.
- D) III ve IV.

14. Aşağıdakilerden hangisi açık oturum amacını en iyi şekilde ifade etmektedir?

- A) Eğlendirirken düşündürmek
- B) Estetik zevk vermek
- C) Yeni bir şeyler öğretmek
- D) Problemlere yeni bakış açıları getirmek

15. Aşağıdakilerden hangisi sempozyum bildirisinin bölümlerinden biri değildir?

- A) Giriş
- B) Derinleşme
- C) Deney
- D) Bulgular

16. Aşağıdakilerden hangisi konferans veren kişinin konferans sırasında dikkat etmesi gerekenlerden biri değildir?

- A) Dinleyiciyi sıkmayacak şekilde süreyi ayarlamak
- B) Hazırlığını iyi yapmak, gerekirse konferansı vereceği yeri önceden görmek
- C) Konuyu dağıtmamak, ses tonunu iyi ayarlamak
- D) Konuşmanın etkili olması için sözlü anlatım tekniklerine uymak

17. Bilimsel yazılarla ilgili aşağıdakilerin hangisinde bilgi yanlıştır?

- A) Başkalarının görüşlerinden yararlandığında görüşü alınan kişinin belirtilmesine gerek yoktur.
- B) Bu tür yazılar için açıklık ve kesinlik vazgeçilmez ilkelerdir.
- C) Genellikle kanıtlayıcı, açıklayıcı ve öğretici anlatımdan yararlanılır.
- D) Uzman kişiler tarafından kısa, öz ve anlaşılır bir şekilde kaleme alınır.

18. Aşağıdaki sözlü anlatım türlerinin hangisinde başkan bulunması zorunlu değildir?

- A) Konferans
- B) Açık oturum
- C) Sempozyum
- D) Münazara

19. Forum başkanının aşağıdaki özelliklerden hangisini taşıması doğru değildir?

- A) Tartışma konusunu çok iyi bilmek
- B) Dinleyicilerin özelliklerini bilmek
- C) Baskıcı ve otoriter olmak
- D) Farklı düşünceler arasında ilişki kurabilmek

20. Tüm öğrencilerimiz fakültemizde 20-22 Eylül 2015 tarihleri arasında düzenlenecek - - - davetlidir.

Bu cümlede boş bırakılan yere sözlü anlatım türlerinin özellikleri göz önünde bulundurduğunda aşağıdakilerden hangisinin getirilmesi uygun olur?

- A) sempozyuma
- B) açık oturuma
- C) foruma
- D) münazaraya

1. OTURUM

(414) TÜRK EDEBİYATI – 4

1. Aşağıdaki bilgilerden hangisi yanlıştır?

- A) Türkler İslamiyet'i kabul etmeden önce Budizm, Maniheizm gibi dinlere inanıyordu.
- B) Muhakemetü'l Lügateyn, Mecalisü'n Nefais İslami Dönem'e ait ilk eserlerdir.
- C) Gök tanrı inancındaki ahlak ve erdem gibi anlayışlar Türklerin İslamiyet'i kabul etmesinde etkili olmuştur.
- D) İslamiyet'i topluluk hâlinde kabul eden ilk Türk devleti Karahanlılardır.

2. Aşağıdakilerden hangisi bir gazelin matla beytidir?

- A) Değilken birine lâıyk çü benden
Bana bu lutf ile ihsan nedendir
- B) Kılma insana hakâretle nazar
Anla sırr-ı nüsha-i kübrâya bak
- C) Cihani hiçe satmaktır adı aşk
Döküp varlığı gitmektir adı aşk
- D) Gördün mü bağda salınan âfeti
gönül
Serv-i hırâm derler ana âd u san ile

3. Kasidede doğa güzelliklerinin dile getirildiği bölüme - - - - denir.

Bu cümlede boş bırakılan yere aşağıdakilerden hangisi getirilmez?

- A) girizgâh
- B) fahiye
- C) medhiye
- D) nesib

4. Kimdir ki gamında nâle vü zar etmez Derdin sana nâle ile ızhar etmez Feryâdına hiç kimsenin yetmezsin Feryâd ki feryâd sana kâr etmez

Bu dördlüğün nazım biçimi aşağıdakilerden hangisidir?

- A) Gazel
- B) Koşma
- C) Rubai
- D) Mesnevi

5. "Danişmendname" ile ilgili aşağıda verilen bilgilerden hangisi yanlıştır?

- A) 13. yüzyılda yazıya geçirilmiştir.
- B) Aruz ölçüsüyle yazılmıştır.
- C) Osmanlı tarihçileri için kaynak niteliğindedir.
- D) Danişmend Gazi'nin Orta Doğu seferini ve savaşlarını konu alır.

6. Aşağıdakilerin hangisinde farklı bir durak kullanılmıştır?

- A) Kurtulamam üç nesnenin elinden
Biri firkat biri gurbet biri aşk
Üçü bilmez birbirinin dilinden
Biri firkat bir gurbet biri aşk
- B) O nazlı canana uğrasa yollar
Bize mesken oldu kahveler hanlar
Yârin meclisinde oturan canlar
Hesap etsin yıllar beş midir nedir
- C) Sedası bülbüldür kendisi civan
Pek tatlıdır dili kaşları keman
Şu benim aklımı başımdan alan
Tuti kumru gibi diller değil mi
- D) Uluslar anlaşsın savaş olmasın
İnsanlar yürektekî yara almasın
Sözlükte savaştan eser kalmamasın
Türküler söylesin barıştan yana

7. İnsan var ölse de sapmaz doğrudan İnsan var kaldırmak güçtür uykudan İnsan var geliri gayrimeşrudan Bereketsiz para pulu neyleyim

Bu dördlüğün konusuna göre türü aşağıdakilerden hangisidir?

- A) Taşlama
- B) Koçaklama
- C) Ağıt
- D) Güzelleme

8. Aşağıdakilerden hangisi âşık tarzı halk şiirinin özelliklerinden değildir?

- A) Hecenin 7, 8 ve 11'li kalıpları kullanılmıştır.
- B) Genellikle aşk, ayrılık, tabiat, güzellik, ölüm konuları işlenmiştir.
- C) En çok kullanılan nazım şekli koşma ve semaidir.
- D) Daha çok zengin uyak tercih edilmiştir.

9. Aşağıdakilerden hangisi geleneksel Türk tiyatrosu değildir?

- A) Karagöz
- B) Meddah
- C) Köy seyirlik oyunu
- D) Komedi

10. Sarı yapracığım sarı Girid'e gönderdim yârı Yıkılası Girid şarı Sefer döndü mü döner mi

Girid'in taşı kayası
Atludan çöktür yayası
Yeniçeriler ağası
Sefer döndü mü döner mi

Bu dizelerin nazım türü aşağıdakilerden hangisidir?

- A) İlahi
- B) Rubai
- C) Türkü
- D) Mânî

11. Aşağıdakilerden hangisi kesik mânî örneğidir?

- A) Su gelir deste gider
Ayrılrı dosta gider
Gurbet yansın yıkılsın
Sağ gelen hasta gider
- B) Bağ bana
Bahçe sana bağ bana
Değme zincir kâr etmez
Zülfün teli bağ bana
- C) Bahçenizde dut var mı
Havada bulut var mı
Ben yârimi kaybettim
Bulmaya umut var mı
- D) Ay doğar ayazlanır
Gün doğar beyazlanır
Mahmur gözlü sevdiğim
Uyanmaya nazlanır

12. Divan edebiyatında çeşitli devirlerde yaşayan şairlerin hayatları ve eserlerinden kısaca söz eden kitaplara - - - - denir.

Bu parçada boş bırakılan yere aşağıdakilerden hangisi getirilmez?

- A) seyahatname
- B) medhiye
- C) tezkire
- D) kaside

13. Aşağıdakilerden hangisi orta oyununun özelliklerinden değildir?

- A) Serim, düğüm, çözüm bölümlerinden oluşur.
- B) Orta oyununda kapı, dükkân, paravana ve meydan bulunur.
- C) Başkarakterleri Pişekâr ve Kavuklu'dur.
- D) Yazılı bir metin yoktur, doğaçlama oynanır.

14. Aşağıda verilen özelliklerden hangisi mânî nazım biçimine aittir?

- A) Uyak düzeni "aaba" biçimindedir.
- B) En az 3 en çok 5 dördlükten oluşur.
- C) Dördlüğün son iki dizesi doldurmadır.
- D) Son dördlükte şairin mahlası geçer.

15. Manas Destanı - - - - geleneklerini, ahlak ve aile hayatlarını, dünya ve ahiret görüşlerini anlatması açısından önem taşımaktadır.

Bu cümlede boş bırakılan yere aşağıdakilerden hangisi getirilmez?

- A) Kazakların
- B) Kırgızların
- C) Türkmenlerin
- D) Azerilerin

1. OTURUM

16. (I) 12 hikâyeden oluşan Dede Korkut Hikâyeleri Türk kültürü için önemli bir kaynaktır. (II) Hikâyelerde Müslüman Oğuzların iç ve dış savaşları anlatılır. (III) Sözlü gelenekte yaşayan bu hikâyeler ancak 17. yüzyılda yazıya geçirilmiştir. (IV) Canlı doğa tasvirlerine, hikâyelerde sık sık tekrarlayan kalıplaşmış söz biçimlerine yer verilmiştir. **Bu parçada numaralanmış cümlelerin hangisinde yanlış bir bilgi verilmiştir?**

A) I. B) II. C) III. D) IV.

17. Bir gün Nasrettin Hoca eşeğine binmiş kasabaya pazara giderken çocuklar yolunu kesmiş. Heyecanla hepsi de pazardan düdük istemişler. Ama içlerinden yalnızca biri para vermiş. Dönüşte Hoca'yla eşeğini karşıdan gören çocuklar koşup çevresini sarmış. "Hoca, düdüklere getirdin mi?" diye bağıriyorlarmış. Hoca, cebinden bir düdük çıkarıp parayı veren çocuğa uzatmış. Diğer çocuklar "Eee, hani bizim düdüklümüz?" diye söylenmeye başlamışlar. Bunun üzerine Hoca "Kusura bakmayın çocuklar." demiş. "Parayı veren, düdüğü çalar!"

Bu parçadan Nasrettin Hoca fıkralarıyla ilgili aşağıdakilerden hangisine ulaşamaz?

- A) Topluma ve insana ait durumlar bir nükteyle anlatılır.
B) Nasrettin Hoca'nın eşeği de olayların akışında etkilidir.
C) Hoca'nın bazı sözleri deyim, atasözü niteliği kazanmıştır.
D) Genellikle bir ders çıkarılır.

18. **Aşağıdaki eser - yazar eşleştirmelerinden hangisi yanlıştır?**

- A) Harname – Süleyman Çelebi
B) Hüsn ü Aşk – Şeyh Galip
C) Leyla ve Mecnun – Fuzuli
D) Garibname – Âşık Paşa

19. **Aşağıdakilerin hangisinde koşmayla ilgili doğru bir bilgi verilmiştir?**

- A) 8'li hece ölçüsüyle yazılır.
B) Yerme amacıyla söylenenlere ağıt denir.
C) Daha çok zengin uyak kullanılmıştır.
D) Uyak düzeni "aaab-cccb" şeklinde olabilir.

20. **Atabetü'l Hakayık ile ilgili aşağıdaki bilgilerden hangisi yanlıştır?**

- A) Yüksekli Edip Ahmet tarafından yazılmıştır.
B) Mesnevi türünün edebiyatımızdaki ilk örneğidir.
C) Edep, ahlak, töre ve dinî konularda öğütler verilmiştir.
D) İslami Dönem Türk Edebiyatı'nın önemli kaynaklarından.

(417) TÜRK EDEBİYATI – 7

1. Hecenin Beş Şairi'nden biri olan sanatçı Anadolu edebiyatının da önde gelen isimlerindedir. Millî ve yerli duyusu dile getirdiği şiiri olan "Han Duvarları", şaire ün kazandırmıştır.

Bu parçada hakkında bilgi verilen sanatçı aşağıdakilerden hangisidir?

- A) Enis Behiç Koryürek
B) Halit Fahri Ozansoy
C) Faruk Nafiz Çamlıbel
D) Orhan Seyfi Orhon

2. **Aşağıdakilerden hangisi Yedi Meşaleciler topluluğuna üye sanatçılarından biri değildir?**

- A) Necip Fazıl Kısakürek
B) Vasfi Mahir Kocatürk
C) Sabri Esat Siyavuşgil
D) Yaşar Nabi Nayır

3. **Aşağıdaki cümlelerin hangisinde bilgi yanlış vardır?**

- A) Ahmet Hamdi Tanpınar; ölüm, sonsuzluk, zaman, rüya gibi kavramları şiirine konu yapmıştır.
B) Necip Fazıl Kısakürek içe dönük, maneviyatçı, bireyci şiirin başarılı örneklerini vermiştir.
C) Cahit Sıtkı Tarancı şiirde toplumsal konulara yer vermiş; savaş, yoksulluk ve Anadolu'yu sıkça işlemiştir.
D) Nazım Hikmet şiirden ölçü ve uyak gibi bağları atarak yeni bir akımın başlatıcısı olmuştur.

4. Elinde Bursa çakısı, Boynunda kırmızı yazma; Değnek soyarsın akşamlara kadar, Fulya tarlasında.

Ben sana hayran,
Sen cama tırman.

Bu dizelerin, şekil ve içerik özellikleri göz önünde bulundurulduğunda aşağıdaki sanatçılardan hangisi tarafından kaleme alındığı söylenir?

- A) Ahmet Muhip Dıranas
B) Orhan Veli Kanık
C) Necip Fazıl Kısakürek
D) Ahmet Kutsi Tecer

5. **Aşağıdaki II. Yeni şairlerinden hangisi Türk-İslam mistisizmini ifade eden şiirleriyle tanınmıştır?**

- A) Sezai Karakoç
B) Turgut Uyar
C) Cemal Süreya
D) Edip Cansever

6. Sokaklarda
Ölümcül portakallar
Ve çivitsi bulutlar saat
Kaç olursa olsun
Üzünc yüklenmiş bir gemi
Akdeniz'de
Ölümcül
Çivitsi
Portakallar bulutlar

Ece Ayhan'dan alınmış bu dizelele ilgili aşağıdakilerden hangisi söylenemez?

- A) İmgeli ve kapalı bir anlatıma sahiptir.
B) Ölçü, uyak gibi ahenk öğeleri göz ardı edilmiştir.
C) Alışılmalı cümle kalıbının dışına çıkmıştır.
D) Millî hassasiyetler dile getirilmiştir.

7. **Aşağıdakilerin hangisinde Cumhuriyet Dönemi hikâye ve romanıyla ilgili bir bilgi yanlış vardır?**

- A) Her kesimden kahramanlara yer verilmiştir.
B) Eserler halkın anlayacağı bir dille kaleme alınmıştır.
C) Teknik açıdan zayıf eserler verilmiştir.
D) Günlük yaşam ve memleket gerçekleri işlenmiştir.

1. OTURUM

8. Aşağıdaki özelliklerin hangisi yanında yay araç içinde verilen sanatçı ile ilgili değildir?

- A) Özellikle romanlarında sosyal konuları tarihî plan içinde ele almıştır. (Kemal Tahir)
- B) Toplum hayatının aksayan yönlerini, gündelik olayları ve tipleri gülünç gösteren bir mizah üslubuyla anlatmıştır. (Aziz Nesin)
- C) Eserlerinde tabiat ve insan sevgisi ağır basan sanatçı, romanı destana yaklaştırmıştır. (Yaşar Kemal)
- D) Halikarnas Balıkcısı takma adıyla denizi ve tabiatı ele alan şiir ve hikâyeler yazmıştır. (Tarık Buğra)

9. - - - - , "Abdullah Efendi'nin Rüyaları" adı altında topladığı hikâyeleriyle rüyaya ve bilinçaltına önem vermiştir. **Bu cümlede boş bırakılan yere aşağıdakilerden hangisi getirilmez?**

- A) Necati Cumalı
- B) Ahmet Hamdi Tanpınar
- C) Sabahattin Ali
- D) Peyami Safa

10. Köyü konu alan edebiyata karşı 1950-60 arası etkisini gösteren bu edebî anlayışla yazılan eserlerde tedirginlik, yalnızlık gibi temalar işlenmiştir. Bireysel duyarlılıkların işlendiği bu eserlerde biçim kaygısı ağır basmıştır.

Aşağıdaki sanatçılardan hangisi bu parçada anlatılan anlayışla eser veren sanatçılardan biridir?

- A) Ferit Edgü
- B) Yakup Kadri Karaosmanoğlu
- C) Fakir Baykurt
- D) Halide Edip Adıvar

11. • İstanbul Şehir Tiyatrosu ve Devlet Tiyatrolarında yöneticilik yapmıştır. • Çağdaş Türk tiyatrosunun kuruluşunda rol oynamıştır.

Bu özellikler aşağıdaki sanatçılardan hangisi için söylenir?

- A) Orhan Asena
- B) Muhsin Ertuğrul
- C) Tarık Buğra
- D) Behçet Necatigil

12. Aşağıdaki tiyatro eserlerinden hangisi Necip Fazıl Kısakürek'e aittir?

- A) Maske ve Ruh
- B) Balıkesir Muhasebecisi
- C) Bir Adam Yaratmak
- D) Kafatası

13. 1942-1970 yılları arasında eser veren dönemin en popüler tiyatro yazarlarından. Sanatçı, toplumun güncel sorunlarını seyircinin kolayca tanıyabileceği durumlar içinde ele almıştır. Başlıca tiyatro eserleri şunlardır: Büyük Şehir, Ayarsızlar, Paydos, Harput'ta Bir Amerikalı...

Bu parçada hakkında bilgi verilen sanatçı aşağıdakilerden hangisidir?

- A) Turan Oflazoğlu
- B) Refik Erduran
- C) Güngör Dilmen Kalyoncu
- D) Cevat Fehmi Başkut

14. Aşağıdaki eserlerden hangisi farklı bir sanatçıya aittir?

- A) Deniz Aşırı
- B) Taymis Kıyıları
- C) Anadolu Notları
- D) Bizim Akdeniz

15. Övülmek isteği kutlu bir istektir. Kişinin işini sahiden benimsediğini, toplumu, insanlığı özünden üstün bilip onlara yaramak için çalıştığını gösterir. Ama kimin övmesine sevinebiliriz? Asıl övgü, bizdeki kutlu övülme ihtiyacını doyuracak övgü; kendimizden üstün, hiç olmazsa kendimizle eşit bildiğimiz kimselerden gelecek övgüdür.

Bu parçanın türü aşağıdakilerden hangisidir?

- A) Deneme
- B) Biyografi
- C) Gezi yazısı
- D) Makale

16. I. Makaleler güncel konularla ilgili olmak zorundadır.
II. Makale gazete ile birlikte gelişen bir türdür.
III. Edebiyatımızda ilk makale örneği Ahmet Haşim tarafından verilmiştir.
IV. Makaleler, inceleme ve araştırmaya dayanan yazılardır.

Numaralanmış bilgilerden hangileri yanlıştır?

- A) I ve II.
- B) I ve III.
- C) II ve III.
- D) III ve IV.

17. Aşağıdakilerden hangisi anı türünde yazılmış bir eser değildir?

- A) Portreler
- B) Ah Beyoğlu Vah Beyoğlu
- C) Akdeniz'de Bir Yaz Gezintisi
- D) Kırk Yıl

18. "Fıkra" ile ilgili aşağıdakilerin hangisinde bilgi yanlışı vardır?

- A) Bilimsel gerçekleri ortaya koyma amacı yoktur.
- B) Fıkra yazarının geniş bir genel kültüre sahip olması beklenir.
- C) Gazete ve dergiyle gelişip yaygınlaşmıştır.
- D) Makaleye göre daha uzun ve ayrıntılı bir yazı türüdür.

19. Aşağıdakilerden hangisi deneme türüne katkı sağlayan sanatçılardan biri değildir?

- A) Suut Kemal Yetkin
- B) Sabahattin Eyüboğlu
- C) Orhan Veli Kanık
- D) Nurullah Ataç

20. I. Anı yazılarında içten ve gerçekçi olmak gerekir.
II. Anılar, olayların yaşandığı anda, sıcağı sıcağına kaleme alınmasıyla oluşur.
III. Anı türü insanoğlunun yaşadıklarını paylaşma ihtiyacından doğmuştur.

Numaralanmış cümleler doğru – yanlış olarak değerlendirildiğinde sıralama aşağıdakilerin hangisi olur?

- A) D - D - Y
- B) Y - Y - D
- C) Y - D - Y
- D) D - Y - D

(418) TÜRK EDEBİYATI – 8

1. Toplum hayatını anlatmak, mahallî bir edebiyat yapmak sanatçının en önemli özelliğidir. Kuvvetli gözlemleriyle hayat sahnelerini, olayları, konuşmaları bütün canlılığıyla eserlerine yansıttı. İslami duyarlılığıyla millî kaygılarını birleştirdi. Çanakkale Şehitlerine, Küfe, Seyfi Baba başlıca şirleridir.

Bu parçada kısaca tanıtılan sanatçı aşağıdakilerden hangisidir?

- A) Nazım Hikmet
- B) Mehmet Akif Ersoy
- C) Turgut Uyar
- D) Atilla İlhan

1. OTURUM

2. Bu bir türkü:
Toprak çanaklarda
Güneşi içenlerin türküsü!
Bu bir örgü:
Alev bir saç örgüsü
Kıvrıyor;
Kanlı, kızıl bir meş'ale gibi yanıyor
Esmer alınlarında
- Bu dizelerin şekil ve içerik özellikleri göz önünde bulundurulduğunda aşağıdaki sanatçılardan hangisi tarafından yazıldığı söylenir?**
- A) Nazım Hikmet
B) Necip Fazıl Kısakürek
C) Yahya Kemal Beyatlı
D) Arif Nihat Asya
3. **Faruk Nafiz Çamlıbel ile ilgili aşağıdakilerin hangisinde bilgi yanlışı vardır?**
- A) Hecenin beş şairinden biri olan sanatçı Anadolu edebiyatın en tanınmış isimlerindedir.
B) Şiirde yurt güzelliklerini ve Anadolu insanının sıkıntılarını anlatmıştır.
C) Şiirlerindeki uyumu ölçü ve uyakla sağlamıştır.
D) "Kaldırımlar" şairin en tanınmış şiirlerinden biridir.
4. **Aşağıdaki sanatçılardan hangisi memleketçi edebiyatın temsilcilerinden değildir?**
- A) Kemalettin Kamu
B) Cemal Süreya
C) Zeki Ömer Defne
D) Behçet Kemal Çağlar
5. "Orda bir köy var uzakta;
O köy bizim köyümüzdür..."
dizeleriyle kulaklarımıza kazınan sanatçı şiirde ulusal kültürü ve yurt sevgisini işledi. Bu kaynak sanatçıyı folklor araştırmalarına yöneltti ve Anadolu kültürünü her yönüyle araştırmalarına konu edindi.
- Bu parçada kısaca tanıtılan sanatçı aşağıdakilerden hangisidir?**
- A) Halide Nusret Zorlutuna
B) Ömer Bedrettin Uşaklı
C) Ahmet Kutsi Tecer
D) Ahmet Muhip Dıranas
6. **Aşağıdakilerden hangisi Garip dışında yeniliği sürdüren şairlerden biridir?**
- A) Attila İlhan
B) Sezai Karakoç
C) Kemalettin Kamu
D) Süreyya Berfe
7. **Aşağıdakilerden hangisi Garip şiirinin özelliklerinden biri değildir?**
- A) Alaycı bir şiirdir, şaka ve nükteye bolca yer verilir.
B) Şiirin şekil özelliklerine (ölçü, uyak...) sıkı sıkıya bağlı kalınmıştır.
C) Günlük yaşam ve sıradan insanlar şiirin başlıca konuları olmuştur.
D) Konuşma dilinin doğallığından yararlanılmıştır.
8. "Edebiyatımızda İsimler Sözlüğü" adlı eserinde - - - - şiir serüvenini şöyle anlatır: "Ben mum alevinde pervane gibi hep aynı odakta yazdım şiirlerimi. Ev ve her günkü yaşamlar..."
- Bu parçada boş bırakılan yere aşağıdakilerden hangisi getirilmelidir?**
- A) Fazıl Hüsnü Dağlarca
B) Cahit Külebi
C) Behçet Necatigil
D) Hilmi Yavuz
9. **Aşağıdaki cümlelerin hangisinde bilgi yanlışı vardır?**
- A) Cahit Külebi, şiirde Karacaoğlan rahatlığı ve temiz bir dil ile kendi türküsünü söylemiştir.
B) Fazıl Hüsnü Dağlarca başlangıçtan yaşadığı döneme kadarki insanları kendine özgü hayal ve sembollerle işledi.
C) Şiirde aşk ve hüznün duygularını işleyen Garip akımı şairlerinden İlhan Geçer, yeni şiirin biçim olanaklarını da kullandı.
D) Şiir coğrafyasını Türk ve Batı şiiri özelliklerini kendisinde birleştirek işleyen Hilmi Yavuz serbest şiire bağlanmıştır.
10. Bulutların çıkınında
Mis kokulu güvercinleri gökyüzünün
Çıldırırlar insan gözlü kedileri
Ay doğar kuyulara yalın ayak
Telgraf tellerinde gemi leşleri
- Üslup ve içerik özellikleri dikkate alındığında bu dizelerin aşağıdaki şiir anlayışlarının hangisiyle yazıldığı söylenir?**
- A) Öz şiir anlayışını sürdüren şiir
B) Millî Edebiyat zevk ve anlayışını sürdüren şiir
C) Halk şiiri
D) II. Yeni şiiri
11. I. İmgeci bir şiirdir.
II. Bilinçaltına yönelmiştir.
III. Toplumsal konular işlenmiştir.
IV. Nükte ve şaşırtmaya bolca yer verilmiştir.
- Numaralanmış özelliklerin hangileri II. Yeni anlayışı için söylenemez?**
- A) I ve II. B) I ve III.
C) II ve IV. D) III ve IV.
12. **Aşağıdakilerden hangisi II. Yeni anlayışıyla yazan şairlerden biri değildir?**
- A) Turgut Uyar
B) Atıl Behramoğlu
C) Edip Cansever
D) Ece Ayhan
13. **Aşağıdaki şairlerden hangisi II. Yeni'ye has bir dil ve söylemle İslami konulara yönelmiştir?**
- A) Sezai Karakoç
B) Ece Ayhan
C) İlhan Berk
D) Ülkü Tamer
14. Toplumcu şiirde II. Yeni şiirinin fazla işlediği bunalım, yalnızlık ve sıkıntının yerini - - - - ve - - - - aldı.
- Bu cümlede boş bırakılan yerlere aşağıdakilerden hangisinin getirilmesi uygun olmaz?**
- A) ümit
B) geleceğe inanç
C) aşk acısı
D) hayatın zorlukları
15. **Aşağıdakilerden hangisi 1980 sonrası şiirin temsilcilerindendir?**
- A) Attila İlhan
B) Ahmet Haşım
C) Yahya Kemal Beyatlı
D) Haydar Ergülen
16. 1980 sonrası şiir - - - - andıran bir şiirdir.
- Bu cümlede boş bırakılan yere aşağıdakilerden hangisi getirilmelidir?**
- A) Öz şiir anlayışını sürdüren şiiri
B) Serbest nazım ve toplumcu şiiri
C) İkinci Yeni'yi
D) Millî Edebiyat zevk ve anlayışını sürdüren şiiri

1. OTURUM

17. I. Ölçü olarak aruz kullanılır.
II. Nazım birimi dörtlüktür.
III. Genellikle zengin uyak tercih edilir.
IV. İnsan, hayvan, doğa vb. konular işlenir.
- Numaralanmış özelliklerden hangileri halk şiiri için söylenemez?**
- A) I ve II. B) I ve III.
C) II ve IV. D) III ve IV.

18. Sabahattin Ali'nin roman alanında ustalığını kanıtladığı eserlerinden biridir. Annesi ve babası eşkiya baskınında öldürülen kahramanımızın yaşamı çevresinde kasaba ortamı, kasabada ki yaşam biçimi gözler önüne serilir.
- Bu parçada kısaca tanıtılan roman aşağıdakilerden hangisidir?**

- A) Kuyucaklı Yusuf
B) Küçük Ağa
C) Bizim Köy
D) Kürk Mantolu Madonna

19. Aşağıdakilerden hangisi Orhan Pamuk'a ait bir roman değildir?

- A) Cevdet Bey ve Oğulları
B) Kara Kitap
C) Yeni Hayat
D) Anayurt Oteli

20. Aşağıdakilerden hangisi Yedi Meşale topluluğunun sanatçılarından biridir?

- A) Orhan Asena
B) Ziya Osman Saba
C) Oğuz Atay
D) Necip Fazıl Kısakürek

(421) FİZİK – 1

1. Aşağıdakilerden hangisi vektörel bir büyüklüktür?

- A) Sürat B) Özkütle
C) Hız D) Hacim

2. Yapılan gözlemler sonucu nitel ya da nicel veriler elde edebiliriz.

Buna göre aşağıdakilerden hangisi nicel veridir?

- A) Bir kilogram elma 1000 grama eşittir.
B) Fizik dersi sınavında sınıf çok sıcak oldu.
C) Fizik dersinin sınavına çok çalıştım.
D) Uçakla yapılan seyahatler kısa sürer.

3. Fizik bilimi; madde, enerji ve bunlar arasındaki ilişkiyi inceler.

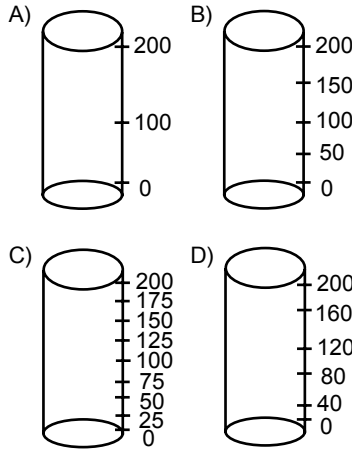
Buna göre;

- I. Isı
II. Uzunluk
III. Dalga
IV. Atom

konularından hangileri fizik biliminin konuları arasında yer alır?

- A) I ve II. B) III ve IV.
C) I, III ve IV. D) I, II, III ve IV.

4. Aşağıdaki dereceli silindirlere hangisi ile 125 cm^3 'lük suyun hacmini en az hata ile ölçebiliriz?



5. Bir karıncanın kütlesi $4 \cdot 10^{-6} \text{ kg}$ olduğuna göre gram cinsinden değeri kaçtır?

- A) 4 B) $4 \cdot 10^{-1}$
C) $4 \cdot 10^{-2}$ D) $4 \cdot 10^{-3}$

6. 10 cm^3 'lük demir plakanın kütlesi 78 gram olduğuna göre demirin özkütlesi kaç g/cm^3 'tür?

- A) 78 B) 7,8
C) 0,78 D) 0,078

7. Kenar uzunlukları 2 cm olan küpün dayanıklılığı aşağıdakilerden hangisidir?

- A) $\frac{1}{2}$ B) $\frac{1}{3}$ C) $\frac{1}{4}$ D) $\frac{1}{6}$

8. Yağmur sonrası su damlalarının yapraktan düşmeden yaprak üzerinde durduğu görülür.

Buna göre yaprak ve su damlaları arasındaki etkileşim fizikteki hangi olay ile açıklanır?

- A) Tutma (Kohezyon)
B) Yüzey gerilimi
C) Yapışma (Adezyon)
D) Manyetizma

9. Aşağıdakilerden hangisi gazlara ait bir özellik değildir?

- A) Belli bir hacimleri ve şekilleri yoktur.
B) Kolayca sıkıştırılabilirler.
C) Buldukları kabın şeklini alırlar.
D) Gazlarda maddeyi oluşturan tanecikler arasındaki çekim kuvveti katı ve sıvılara oranla daha fazladır.

10. Saf suyun yüzey gerilimi ile ilgili;

- I. Sıcaklık arttırılırsa artar.
II. Suya tuz ilave edilirse artar.
III. Suya deterjan ilave edilirse azalır.
- ifadelerinden hangileri doğrudur?**

- A) I ve II. B) II ve III.
C) I ve III. D) I, II ve III.

11. Gazın iyonlaşmış haline plazma denir.

Buna göre;

- I. Bulutlu havalarda oluşan şimşek
II. Kuzey kutup ışıkları
III. Azot gazı

örneklerinden hangileri plazmaya örnek verilebilir?

- A) Yalnız I B) I ve II.
C) II ve III. D) I, II ve III.

12. Hacmi 100 cm^3 olan suyun kütlesi kaç gramdır? ($d_{\text{su}} = 1 \text{ g/cm}^3$)

- A) 0,1 B) 1
C) 10 D) 100

13. Ahmet çevremizdeki hareketleri;

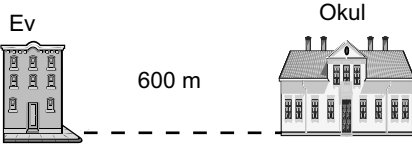
- I. Dönme
II. Öteleme
III. Titreşim hareketi olarak sınıflandırıyor.

Fizik bilimine göre sınıflandırmalardan hangileri doğrudur?

- A) Yalnız I B) I ve III.
C) II ve III. D) I, II ve III.

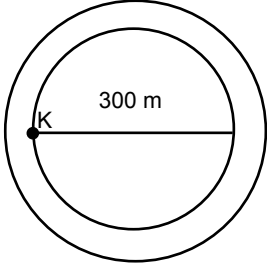
1. OTURUM

14. Bir öğrencinin evi ile okulu arası şekildeki gibi 600 m'dir.



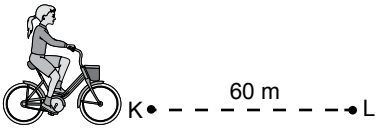
Buna göre evden çıkıp okula giden öğrenci tekrar eve dönerse yer değiştirmesi kaç m olur?

- A) Sıfır B) 600
C) 1200 D) 1800
15. Çembersel bir yarış pistinde deneme sürüşü yapan sürücü çapı 300 m olan yarış pistinde şekildeki K noktasından harekete başlayıp tekrar K noktasına gelerek hareketini tamamlıyor.



Sürücünün aldığı yol kaç metredir? ($\pi = 3$ alınacak.)

- A) 300 B) 600
C) 900 D) 1200
16. Parkta bisiklet süren Oya, şekildeki K konumundan L konumuna 20 s'de varıyor.

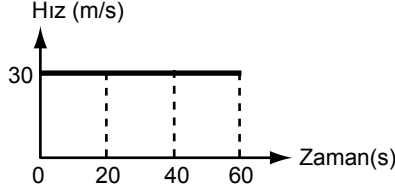


Buna göre Oya'nın hızı kaç m/s'dir?

- A) 3 B) 4 C) 6 D) 8
17. Aşağıdakilerden hangisi temas gerektirmeyen kuvvete örnek verilebilir?

- A) Sınıf dolabının itilmesi
B) Mıknatısın demir bilyeyi çekmesi
C) Halat çekme yarışında halatın çekilmesi
D) Basketbol topunun potaya atılması

18. Bir otomobile ait hız-zaman grafiği şekildeki gibidir.



Buna göre otomobilin 60 s sonundaki yer değiştirmesi kaç metredir?

- A) 600 B) 1200
C) 1800 D) 2400
19. Sürtünme kuvveti;

- I. Cisimlerin temas yüzeyinin alanına bağlıdır.
II. Sürtünen yüzeylerin cinsine bağlıdır.
III. Sürtünen yüzeye uygulanan tepki kuvveti toplam dik kuvvetle doğru orantılıdır.

İfadelerinden hangileri doğrudur?

- A) Yalnız I B) Yalnız III
C) II ve III. D) I, II ve III.

20. Bir cisme etki eden net kuvvetin sıfır olması durumunda;

Buna göre;

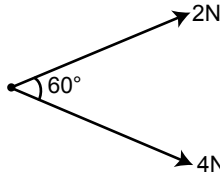
- I. Cisim durgun halde ise durmaya devam eder.
II. Hareketliyse sabit hızla hareketine devam eder.
III. Hareketliyse hızı artarak hareketine devam eder.

İfadelerinden hangileri eylemsizlik ile ilgili doğru bir bilgidir?

- A) Yalnız I B) I ve II.
C) II ve III. D) I ve III.

(425) FİZİK - 5

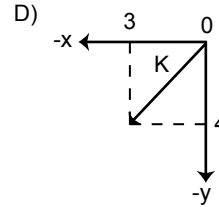
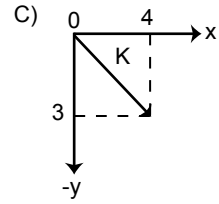
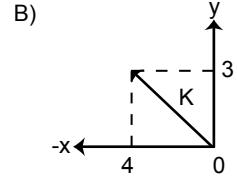
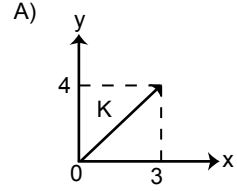
1. Aralarında 60° lık açı bulunan şekildeki noktasal cisme 2 N ve 4 N büyüklüğünde iki kuvvet uygulanıyor.



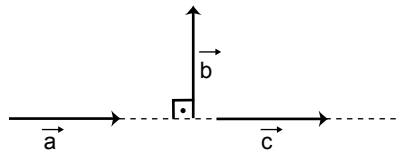
Buna göre kuvvetlerin bileşkesi kaç newton'dur? ($\cos 60^\circ = \frac{1}{2}$)

- A) $\sqrt{3}$ B) $2\sqrt{7}$
C) $\sqrt{11}$ D) $3\sqrt{3}$

2. $\vec{K}(4, -3)$ vektörünün Kartezyen koordinat sistemindeki çizimi aşağıdakilerden hangisidir?



3. Aynı düzlemde bulunan ve büyüklükleri eşit \vec{a} , \vec{b} , \vec{c} vektörleri şekildeki gibidir.

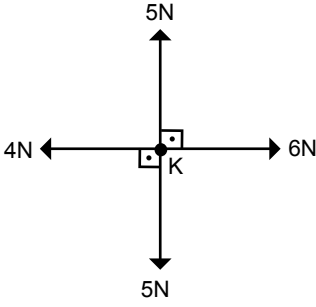


Buna göre $\vec{a} + \vec{b} - \vec{c}$ toplamı olan bileşke vektör aşağıdakilerden hangisidir?

- A)
- B)
- C)
- D)

1. OTURUM

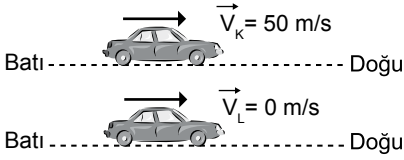
4. Şekildeki noktasal K cismine 5 N, 4 N, 6 N ve 5 N'luk kuvvetler etki etmektedir.



Buna göre K'ya etki eden bileşke kuvvet kaç newton'dur?

- A) 2 B) 8 C) 10 D) 15

5. Şekildeki K aracının hızı doğu yönünde sabit 50 m/s'dir. L aracı ise durmaktadır.



Buna göre K aracının sürücüsü duran L aracını hangi yönde hangi hızla gidiyor görür?

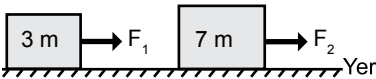
- A) Doğu yönünde, 50 m/s
B) Doğu yönünde, 100 m/s
C) Batı yönünde, 100 m/s
D) Batı yönünde, 50 m/s

6. Sürtünmesiz düzlemde duran 6 kg kütleli cisme 30 N'luk net kuvvet uygulanıyor.

Buna göre cismin ivmesi kaç m/s^2 'dir?

- A) 5 B) 12 C) 30 D) 36

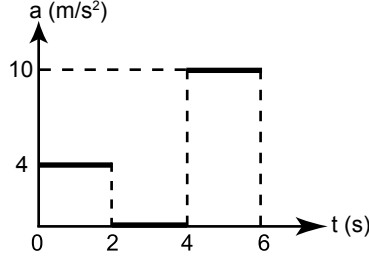
7.



Sürtünmesiz düzlemde kütleleri 3 m ve 7 m olan şekildeki cisimlerin ivmeleri eşit olduğuna göre bu cisimlere uygulanan kuvvetlerin $\frac{F_1}{F_2}$ oranı kaçtır?

- A) $\frac{3}{7}$ B) $\frac{7}{3}$ C) $\frac{10}{7}$ D) $\frac{8}{3}$

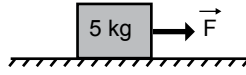
8. Kütleli 1 kg olan cisme ait ivme - zaman grafiği şekildeki gibidir.



Cismin ilk hızı 20 m/s olduğuna göre 6. saniye sonunda hızı kaç m/s olur?

- A) 28 B) 38 C) 48 D) 68

9. Kütleli 5 kg olan şekildeki cisim sürtünmesiz ortamda F kuvveti ile çekildiğinde cismin ivmesi $4 m/s^2$ oluyor.



Buna göre cisme uygulanan kuvvet kaç newton'dur?

- A) 5 B) 20 C) 25 D) 40

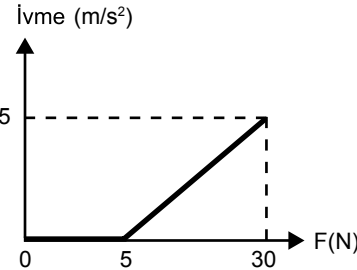
10. Sürtünme katsayısının 0,4 olduğu ortamda şekildeki 5 kg'lık cisim 60 N'luk kuvvetle çekiliyor.



Buna göre cismin ivmesi kaç m/s^2 'dir? ($g = 10N/kg$)

- A) 3 B) 4 C) 8 D) 12

11. Yatay bir düzlemde duran bir cisme düzleme paralel olarak uygulanan kuvvetin, cismin kazandığı ivmeye göre değişim grafiği şekildeki gibidir.



Buna göre cisimle zemin arasındaki sürtünme kuvveti (f_s) kaç newton'dur? ($g = 10N/kg$)

- A) 1 B) 2 C) 4 D) 5

12. İlk hızı 3 m/s olan araba düzgün olarak $2 m/s^2$ 'lik ivme ile hızlanıyor.

Buna göre arabanın 10 s sonraki hızı kaç m/s'dir?

- A) 23 B) 30 C) 38 D) 40

13. Hava sürtünme kuvveti, hava ortamında hareket eden cisimlere hareketine zıt yönünde etki eden direnç kuvvetidir.

Buna göre hava sürtünme kuvveti ile ilgili;

- I. Cismin yüzeyinin cinsine bağlıdır.
II. Cismin yüzeyinin büyüklüğü ile doğru orantılıdır.
III. Cismin hızının karesi ile doğru orantılıdır.

İfadelerinden hangileri doğrudur?

- A) Yalnız I B) I ve II
C) II ve III D) I, II ve III

14. Hızı 12 m/s olan araba trafik işaretlerini görünce frene basarak $4 m/s^2$ 'lik ivme ile düzgün olarak yavaşlıyor ve duruyor.

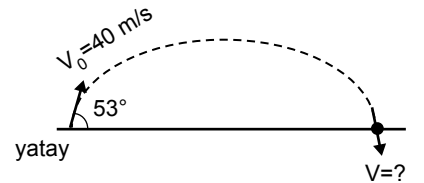
Buna göre arabanın duruncaya kadar aldığı yol kaç metredir?

- A) 10 B) 18 C) 22 D) 48

15. 45 m yükseklikten serbest düşmeye bırakılan top yere kaç saniyede düşer? ($g = 10N/kg$) (Hava sürtünmesi ihmal ediliyor.)

- A) 2 B) 3 C) 4 D) 9

16. Yerden 40 m/s hızla yatayla 53° açı yapacak şekilde bir cisim eğik olarak atılıyor.



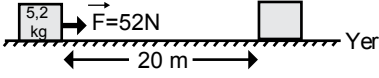
Buna göre cismin yere çarpma hızı kaç m/s olur?

- ($\sin 53^\circ = 0,8$ $\cos 53^\circ = 0,6$
 $g = 10 m/s^2$)

- A) 10 B) 20 C) 30 D) 40

1. OTURUM

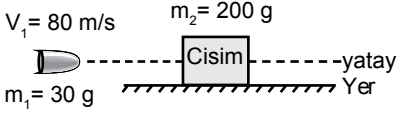
17. Sürtünmenin ihmal edildiği bir düzlemde 5,2 kg kütleli cisim 52N'luk net kuvvet etkisinde 20 m yolu 2 s'de alıyor.



Buna göre cisme verilen itme kaç $N \cdot s$ 'dir? ($g = 10N/kg$)

- A) 46 B) 72 C) 104 D) 142

18. Sürtünmesiz yatay düzlemde duran 200 g kütleli cisme 30 g kütleli mermi 80 m/s hızla çarpıp, yatay doğrultuda 30 m/s hızla cisimden çıkıyor.



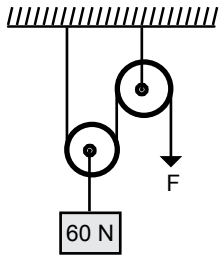
Buna göre mermi cismi terkettiği anda cismin hızı kaç m/s'dir?

- A) 7,5 B) 10
C) 12,5 D) 20

19. Aşağıdakilerden hangisi günlük hayatımızı kolaylaştıran basit makinelere örnek verilemez?

- A) Çıkrık
B) Makara
C) Eğik düzlem
D) Sıvılı termometre

20. Şekildeki makaralar özdeş ve her birinin ağırlığı 10 N'dur.



Buna göre 60N'luk yükü dengeleyen F kuvveti kaç N'dur? (Sürtünmeleri önemsenmeyecektir.)

- A) 20 B) 25 C) 35 D) 45

(432) KİMYA – 2

1. Aşağıda bazı kimyasal türlerin formülleri verilmiştir.

Buna göre verilenlerden hangisi iyon sınıfı bir kimyasal türdür?

- A) SO_3 B) P_2O_3
C) OH^- D) NO_2

2. Aşağıdakilerin hangisi kimyasal türler arası zayıf etkileşimlerden biridir?

- A) Hidrojen bağları
B) Metalik bağlar
C) İyonik bağlar
D) Kovalent bağlar

3. ^{16}S atomunun Lewis sembolü aşağıdakilerden hangisidir?

- A) $\cdot\dot{S}\cdot$ B) $\cdot S \cdot$ C) $:\ddot{S}:$ D) $\cdot\ddot{S}\cdot$

4. Ametal atomları arasında elektronların ortaklaşa kullanılması sonucu oluşan güçlü etkileşim türü aşağıdakilerden hangisidir?

- A) İyonik bağ
B) Kovalent bağ
C) Dipol-dipol bağları
D) İyon-dipol bağları

5. Aşağıdakilerden hangisi iyonik bağlı bir bileşiktir? (1H , 8O , 9F , ^{12}Mg)

- A) MgO B) H_2O
C) HF D) O_2

6. Aşağıda verilen elementlerin hangisinin metalik bağ oluşturması beklenir?

- A) ^{15}P B) ^{16}S C) ^{17}Cl D) ^{20}Ca

7. Aşağıda verilen olaylardan hangisi kimyasal değişimdir?

- A) Camın kırılması
B) Demirin paslanması
C) Ekmeğin dilimlenmesi
D) Buzun erimesi

8.

F
Cl
Br

 Yandaki şekilde periyodik tablodan halojenlere ait bir kesit verilmiştir.

Buna göre aynı şartlar altında bulunan;

- I. F_2
II. Cl_2
III. Br_2

molekülleri arasındaki London kuvvetlerinin doğru karşılaştırılması aşağıdakilerden hangisidir?

- A) I > II > III B) I > III > II
C) III > II > I D) II > I > III

9. $C_3H_8 + O_2 \rightarrow CO_2 + H_2O$

Tepkimesi en küçük tamsayılarla denkleştirildiğinde oksijen molekülünün katsayısı aşağıdakilerden hangisi olur?

- A) 2 B) 3 C) 4 D) 5

10. Aşağıdakilerden hangisi yanma tepkimesidir?

- A) $HCl_{(suda)} + NaOH_{(suda)} \rightarrow NaCl_{(suda)} + H_2O_{(s)}$
B) $Ag^+_{(suda)} + Cl^-_{(suda)} \rightarrow AgCl_{(k)}$
C) $2Mg_{(k)} + O_{2(g)} \rightarrow 2MgO_{(k)}$
D) $H^+_{(suda)} + OH^-_{(suda)} \rightarrow H_2O_{(s)}$

11. Endüstride petrolün damıtılması ile elde edilen propan ve bütandan oluşan bir gaz karışımı olan LPG nin açılımı aşağıdakilerden hangisidir?

- A) Sıvılaştırılmış petrol gazı
B) Deodorantlardaki itici gaz
C) Soğutucularda kullanılan gaz
D) Sıvılaştırılmış doğal gaz

12. Aşağıda verilenlerden hangisi basınç birimi değildir?

- A) mmHg B) atm
C) mol D) bar

13. $235 K = \dots \dots \dots ^\circ C$

Yukarıda verilen sıcaklık dönüşümünde boş bırakılan (- - -) yere hangisi yazılmalıdır?

- A) -508 B) -38
C) 38 D) 508

1. OTURUM

(436) KİMYA – 6

14. Belirli sıcaklık ve basınç koşullarında $6,02 \cdot 10^{22}$ tane H_2 gazı kaç mol olur?

- A) 10 B) 5 C) 1 D) 0,1

15. Sabit hacimli bir kapta bulunan bir miktar helyum gazının $327^\circ C$ 'taki basıncı $27^\circ C$ 'taki basıncının kaç katıdır?

- A) 2 B) 3 C) 4 D) 5

16. "Atmosfer (hava) bir gaz karışımı olup dünyamızı çevreleyerek bir katman oluşturur. Bileşiminde en fazla ---- gazı vardır."

Verilen ifadede boş bırakılan (---) yere aşağıdakilerden hangisi yazılmalıdır?

- A) Oksijen (O)
B) Argon (Ar)
C) Azot (N)
D) Karbon dioksit (CO_2)

17. Sıvılarla ilgili verilen bilgilerden hangisi yanlıştır?

- A) Sıvıların yüzey gerilimi vardır.
B) Bir sıvının viskozitesi büyüdükçe akıcılığı artar.
C) Sıvı moleküllerinin kendi arasında kohezyon kuvvetleri vardır.
D) Kaynama ve buharlaşma olayları birbirinden farklıdır.

18. Aşağıdakilerden hangisi kristal katı değildir?

- A) Yemek tuzu B) Elmas
C) İyot D) Cam

19. Saf bir maddenin katı halden doğrudan gaz hale geçmesi olayına ne ad verilir?

- A) Kırışma B) Süblimleşme
C) Yoğuşma D) Donma

20. Kaynama olayı ile ilgili aşağıdaki açıklamalardan hangisi doğrudur?

- A) Sıvının buhar basıncının atmosfer basıncına eşit olduğu anda başlar.
B) Deniz seviyesinden yükseklerle çıkıldıkça kaynama sıcaklığı artar.
C) Sıvı miktarı arttıkça kaynama sıcaklığı artar.
D) Sıvının yüzeyinde gerçekleşir.

1.

	Madde	Polar / Apolar
I	Sıvı NH_3	Polar
II	Benzen	Apolar
III	Br_2	Apolar

Verilen maddelerden hangileri saf suda iyi çözünür?

- A) Yalnız I B) Yalnız III
C) I ve II. D) II ve III.

2. 600 g kütlece %20 lik tuzlu su çözeltisine 200 g su ekleniyor. Oluşan çözelti kütlece yüzde kaçlıktır?

- A) 60 B) 40 C) 25 D) 15

3. 36 gram $C_6H_{12}O_6$ kullanılarak 400 mL çözelti hazırlanıyor.

Hazırlanan çözeltinin mol/L cinsinden derişimi aşağıdakilerden hangisidir? ($C_6H_{12}O_6 = 180g/mol$)

- A) 5 B) 2 C) 0,5 D) 0,2

4. Gazların çözünürlüğü ile ilgili verilen bilgilerden hangisi yanlıştır?

- A) Gazların çözünürlüğü sıcaklıkla ters orantılıdır.
B) Bütün gazların çözünürlüğü endotermiktir.
C) Gazların çözünürlüğü basınçla doğru orantılıdır.
D) Karıştırma ve temas yüzeyi gazların çözünürlüğünü değiştirmez.

5. I. Donma noktası alçalması
II. Buhar basıncı düşmesi
III. Kaynama noktası yükselmesi

Verilen özelliklerden hangileri çözeltilerdeki tanecik derişimine bağlı olarak değişir?

- A) Yalnız II B) I ve II.
C) II ve III. D) I, II ve III.

6. 2 molal şekerli su çözeltisi 1 atm basınçta kaç $^\circ C$ 'ta donmaya başlar? (Su için $K_d: 1,86^\circ C/m$)

- A) -3,72 B) -2,62
C) 2,62 D) 3,72

7. Aşağıdakilerden hangisi izokorik sisteme örnektir?

- A) Termostaki çay
B) Dödüklü tencere
C) İnsan vücudu
D) Otomobil motoru

8. Termodinamiğe ait niceliklerin değişimlerini gösteren işaretleme kuralları hangisinde yanlış verilmiştir?

	Süreç	İşaret
A) İş(W)	Sistem çevreye iş yapıyor	-
B) Isı(Q)	Çevreden sisteme ısı aktarılıyor	+
C) İş(W)	Çevre sisteme iş yapıyor	+
D) Isı(Q)	Sistemden çevreye ısı aktarılıyor	+

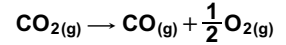
9. Bir gazın sıkıştırılması sırasında sisteme $300 J$ 'lük iş yapılmaktadır. Sistemin iç enerji artışı $225 J$ olduğuna göre alınan veya verilen ısı kaç J olur?

- A) +85 B) +75
C) -75 D) -85

10. I. $CO_{(g)} \rightarrow C_{(k)} + \frac{1}{2}O_{2(g)} \Delta H^\circ = +110,5 \text{ kJ/mol}$

II. $CO_{2(g)} \rightarrow C_{(k)} + O_{2(g)} \Delta H^\circ = +393,5 \text{ kJ/mol}$

Yukarıda verilen tepkimelerin entalpi değerleri bilindiğine göre;



tepkimesinin ΔH° değeri kaç kJ/mol'dür?

- A) +514 B) +283
C) -283 D) -514

11. Aşağıda verilen olayların hangisinde sistemin entropisindeki değişme doğru verilmiştir?

Olaylar	Entropi değişimi
A) İyodun süblimleşmesi	Artar
B) Glikozun suda çözünmesi	Azalır
C) Su buharının yoğuşması	Artar
D) Etanolün donması	Artar

1. OTURUM

12.

Madde	ΔH° (kJ/mol)
X _(g)	+45
Y _(g)	+85
Z _(g)	0

Buna göre;

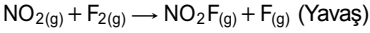
$X_{(g)} \rightarrow Y_{(g)} + \frac{1}{2}Z_{(g)}$ tepkimesinin entalpi değişimi (ΔH) kaç kJ'dür?

- A) -130 B) -40
C) +40 D) +130

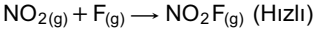
13. Tek basamak üzerinden yürüyen aşağıdaki tepkimelerden hangisi birinci dereceden bir tepkimedir?

- A) $H_{2(g)} + Cl_{2(g)} \rightarrow 2HCl_{(g)}$
B) $2NO_{(g)} + 2H_{2(g)} \rightarrow N_{2(g)} + 2H_2O_{(g)}$
C) $PCl_{5(g)} \rightarrow PCl_{3(g)} + Cl_{2(g)}$
D) $CaCO_{3(k)} \rightarrow CaO_{(k)} + CO_{2(g)}$

14. 1. Basamak:



2. Basamak:



Mekanizmalı bir tepkimenin basamakları yukarıda verilmiştir.

Buna göre aşağıdakilerden hangisi **yanlıştır**?

- A) Net tepkime;
 $2NO_{2(g)} + F_{2(g)} \rightarrow 2NO_2F_{(g)}$ şeklindedir.
B) F₂ katalizördür.
C) F ara üründür.
D) Tepkime hız bağıntısı $k \cdot [NO_2] \cdot [F_2]$ şeklindedir.

15. Aşağıdaki kimyasal denge tepkimelerinden hangisi heterojen denge tepkimesidir?

- A) $S_{(k)} + O_{2(g)} \rightleftharpoons SO_{2(g)}$
B) $2NOCl_{(g)} \rightleftharpoons 2NO_{(g)} + Cl_{2(g)}$
C) $N_{2(g)} + 3H_{2(g)} \rightleftharpoons 2NH_{3(g)}$
D) $HCN_{(suda)} \rightleftharpoons H^+_{(suda)} + CN^-_{(suda)}$

16. $X_{(g)} + 2Y_{(g)} \rightleftharpoons 2Z_{(g)}$ tepkimesinin 0°C'ta denge sabiti (K_c) değeri 2,24 ise aynı sıcaklıkta kısmi basınçlar cinsinden denge sabiti (K_p) değeri aşağıdakilerden hangisidir?

- A) 2,24 B) 1,12
C) 1 D) 0,1

17. I. SO_{3(g)} eklenmesi
II. Sıcaklığın düşürülmesi
III. Kabin hacminin artırılması
değişimlerinden hangileri yapılırsa; $2SO_{3(g)} + ısı \rightleftharpoons 2SO_{2(g)} + O_{2(g)}$ denge tepkimesinin ürünler yönünde ilerlemesi sağlanır?

- A) I ve II. B) I ve III.
C) II ve III. D) I, II ve III.

18. Bir deniz suyu örneğinde 25°C'ta $[OH^-] = 1.10^{-8} M$ olarak ölçülüyor. Bu deniz suyunun pH değeri aşağıdakilerden hangisidir?

- A) 8 B) 7 C) 6 D) 5

19. HA asidinin t°C sıcaklıktaki asitlik sabiti (K_a) 2.10^{-5} dir. HA asidinin 0,05 M lık çözeltisindeki pOH değeri aşağıdakilerden hangisidir?

- A) 3 B) 6 C) 8 D) 11

20. CaF₂ bileşiğinin 25°C'taki çözünürlüğü $2.10^{-4} mol/L$ olduğuna göre aynı sıcaklıktaki çözünürlük çarpımı ($K_{çç}$) değeri aşağıdakilerden hangisidir?

- A) $3,2.10^{-11}$ B) 32.10^{-8}
C) 4.10^{-12} D) 4.10^{-8}

(441) BİYOLOJİ – 1

1. Aşağıdakilerden hangisi iyi bir hipotezin özelliği **değildir**?

- A) Test edilebilir.
B) Kesin ispatlanabilir.
C) Yeni gerçeklere açıktır.
D) Eldeki verilere uygundur.

2. Biyoloji eğitimi alan kişiler,

- I. Doğa tarihi
II. Deniz biyolojisi
III. Doğa koruma uzmanlığı

Yukarıdaki alanlardan hangileri ile ilgilenirse ekoloji ile uğraşmış olur?

- A) Yalnız I B) I ve II
C) I ve III D) I, II ve III

3. Aşağıdakilerden hangisi canlıların ortak özelliklerinden biri **değildir**?

- A) Besin maddelerine ihtiyaç duyma
B) Hücre gruplarından meydana gelme
C) Atık maddeleri vücuttan uzaklaştırma
D) Organik besinleri monomerlerine parçalama

4. Bazı canlılarda görülen eşeyli üreme ile ilgili aşağıdakilerden hangisi **yanlıştır**?

- A) Üreme hücreleri mayozla oluşur.
B) Tür içinde dayanıksız bireyler oluşur.
C) Gametlerin birleşmesi ile zigot oluşur.
D) Üreme hücrelerine dişi ve erkek gamet denir.

5. Aşağıdakilerden hangisini bazı canlılar gerçekleştirir?

- A) Özümlenme B) Yadımlama
C) ATP sentezi D) Fotosentez

6. I. Hücre
II. Molekül
III. Organel
IV. Doku
V. Organ

Yukarıdakilerden hangileri tüm canlılarda ortak olarak bulunur?

- A) I ve II. B) I, II ve III.
C) I, III, IV ve V. D) I, II, III, IV ve V.

7. Suyun öz ısısının yüksek olması;

- I. Ortam sıcaklığının korunmasına
II. Sıcaklık dalgalanmalarının artmasına
III. Canlılarda vücut ısısının kolay kolay değişmemesine

verilenlerden hangilerine neden olur?

- A) Yalnız I B) I ve III.
C) II ve III. D) I, II ve III.

8. $NaOH + HCl \rightarrow NaCl + H_2O$
(Baz) (Asit) (?) (Su)

Yukarıdaki denklemde (?) işaretli yere ne yazılmalıdır?

- A) Soda B) Tuz
C) Kola D) İyon

1. OTURUM

9. Aşağıdakilerden hangisi asit özellik göstermez?

- A) Kola B) Mide özsuğu
C) Tükürük D) Şampuan

10. Bir polisakkarit olan glikojen aşağıdaki canlılardan hangisi tarafından sentezlenmez?

- A) Bitki B) Bakteri
C) Mantar D) Hayvan

11. Polisakkaritlerden kitin için;

- I. Suda çözünmez.
II. Azotlu polisakkarittir.
III. Böceklerin dış iskeletini oluşturur.
IV. Mantarlarda hücre çeperini oluşturur.

ifadelerinden hangileri doğrudur?

- A) I ve II. B) I, II ve IV.
C) I, III ve IV. D) I, II, III ve IV.

12. (X) Yağ asidi + Gliserol →
Nötral yağ + (Y) H₂O

Yukarıda verilen yağ oluşum denkleminde X ve Y yerine seçenektelerden hangisi yazılmalıdır?

- | | |
|------|---|
| X | Y |
| A) 3 | 3 |
| B) 1 | 3 |
| C) 3 | 1 |
| D) 1 | 1 |

13. I. Aktivasyon enerjisini düşürürler.
II. Reaksiyona özel moleküllerdir.
III. Sıcaklık ve pH değişiminden etkilendirler.

Verilen ifadelerinden hangileri enzimler için doğrudur?

- A) Yalnız I B) I ve III.
C) II ve III. D) I, II ve III.

14. I. Hücrenin özgüllüğünü kazandırır.
II. Zara seçici geçirgenlik özelliği kazandırır.
III. Hücrelerin birbirlerini tanınmasını sağlar.

Yukarıdakilerden hangileri hücre zarındaki glikokaliks tabakasının özelliklerindedir?

- A) Yalnız I B) I ve III.
C) II ve III. D) I, II ve III.

15. I. Sıcaklık
II. Yoğunluk farkı
III. Por sayısı
IV. Molekül büyüklüğü

Hücre ve bulunduğu ortam için yukarıda verilenlerden hangilerinin artışı difüzyon hızını azaltıcı yönde etki yapar?

- A) Yalnız I B) Yalnız IV
C) II ve III. D) I, II ve IV.

16. I. Hücre zarı
II. DNA
III. Çekirdek

Yukarıdakilerden hangileri prokaryot ve ökaryot hücrelerde ortak olarak bulunur?

- A) Yalnız I B) I ve II.
C) II ve III. D) I, II ve III.

17. Aşağıdaki hücre organellerinden hangisinde zarlı yapı görülmez?

- A) Golgi B) Koful
C) Ribozom D) Lizozom

18. Aşağıdakilerden hangisi hücre zarında gerçekleşen aktif geçiş çeşitlerinden biri değildir?

- A) Ozmoz B) Ekzositoz
C) Endositoz D) Aktif taşıma

19. Aşağıdakilerden hangisi hücre iskeleti elemanı olan ara filamentlerin özelliklerinden biridir?

- A) Kararsız bir yapıya sahiptir.
B) Mekanik etkilere dirençli değildir.
C) Mikrofilamentlerden daha incedir.
D) Hücre içinde organellerin sabitlenmesinde görev alır.

20. Aşağıdakilerden hangisi çift zarlı bir organdır?

- A) Golgi
B) Lizozom
C) Mitokondri
D) Endoplazmik retikulum

(443) BİYOLOJİ – 3

1. Mitoz bölünme sırasında gerçekleşen aşağıdaki olaylardan hangisi diğerlerinden önce meydana gelir?

- A) Çekirdek zarının oluşması
B) Kromozomların kutuplara çekilmesi
C) Kromozomların belirgin hâle geçmesi
D) Kromozomların ekvatorial düzlemde dizilmesi

2. Aşağıdakilerden hangisi mitoz bölünmenin anafaz safhasında meydana gelen bir olaydır?

- A) Kromozomların uzayıp incilmesi
B) Sentrozomlar arasında iğ ipliklerinin oluşması
C) Kromozomların ekvatorial düzlemde dizilmesi
D) Kromatitlerin kutuplara çekilmeye başlaması

3. I. Hayvan hücrelerinde boğumlanaarak gerçekleşir.
II. Bitki hücresinde orta lamel oluşumuyla gerçekleşir.
III. Orta lamel oluşumunda aktin ve miyozin iplikçikler görev yapar.

Sitokinezele ilgili yukarıda verilen bilgilerden hangileri doğrudur?

- A) Yalnız I B) I ve II.
C) I ve III. D) I, II ve III.

4. Aşağıdaki eşeysiz üreme çeşitlerinden hangisinde oluşan yeni hücre ana hücreden ayrılmayarak koloni oluşturabilir?

- A) Sporlanma B) Vejetatif üreme
C) Bölünme D) Tomurcuklanma

5. Yandaki hücre arka arkaya 3 defa mitoz bölünme geçiriyor.



Buna göre sonuçta oluşan hücre sayısı ve hücrelerin kromozom sayısı aşağıdakilerden hangisinde doğru verilmiştir?

	Hücre sayısı	Kromozom sayısı
A)	8	6
B)	4	3
C)	8	2
D)	3	2

1. OTURUM

6. Aşağıda verilen canlıların hangisinde rejenerasyonla çoğalma gözlenir?

- A) İnsan B) Örümcek
C) Semender D) Deniz yıldızı

7. Aşağıda verilen bitki – vejetatif üreme eşleştirmelerinden hangisi doğrudur?

- A) Çilek – Çelikle
B) Patates – Aşılama ile
C) Soğan – Yassı gövde ile
D) Afrika menekşesi – Rizom gövde ile

8. I. Sonuçta dört yeni hücre oluşur.
II. Cross – over Profaz I'de meydana gelir.

III. Homolog kromozomlar Anafaz I'de birbirinden ayrılır.

Verilen özelliklerden hangileri mayoz bölünme için doğrudur?

- A) Yalnız I B) I ve II.
C) II ve III. D) I, II ve III.

9. Döllenen yumurtanın gelişerek haploid (n) kromozomlu bireyler oluşturması aşağıdakilerden hangisi ile tanımlanır?

- A) Plazmit B) Partenogenez
C) Konjugasyon D) Eşeysiz üreme

10. I. Sonucunda canlı sayısı artar.
II. Genetik bilgi aktarımı tek taraflıdır.
III. Canlılar arası bilgi aktarımı sitoplazmik köprü ile gerçekleşir.

Verilenlerden hangileri paramesyumdaki konjugasyon için doğrudur?

- A) Yalnız I B) I ve II.
C) I ve III. D) I, II ve III.

11. Bir bal arısı topluluğundaki işçi, erkek ve kraliçe arının kromozom sayıları için aşağıdakilerden hangisi doğrudur?

	İşçi	Erkek	Kraliçe
A)	n	n	n
B)	2n	n	2n
C)	n	n	2n
D)	2n	2n	2n

12. I. Karın bölgesinin alt tarafında yer alır.
II. Kalın duvarlı ve kaslı bir yapıdadır.
III. Embriyonun doğuma kadar büyü-yüp geliştiği organdır.

Verilenlerden hangileri döl yatağı (rahim, uterus)'nın özelliklerindedir?

- A) Yalnız I B) I ve II.
C) I ve III. D) I, II ve III.

13. Yumurta ana hücresinden yumurta üretimi (Oogenez) sırasında I. mayoz bölünme sonucu oluşan büyük hücre aşağıdakilerden hangisi ile tanımlanır?

- A) Birincil oosit
B) İkincil oosit
C) Birincil polar hücre
D) İkincil polar hücre

14. I. Mayoz bölünme ile gerçekleşir.
II. Sonucunda dört üreme hücresi oluşur.

III. Kromozom sayısı yarıya iner.

Verilenlerden hangileri spermatogenez ve oogenez için ortaktır?

- A) Yalnız I B) I ve II.
C) I ve III. D) I, II ve III.

15. Aşağıdakilerden hangisi cinsel yolla bulaşan hastalıklardan biri değildir?

- A) AIDS B) Verem
C) Frengi D) Hepatit B

16. Hepatit B vücudumuzda hangi organın yapı ve fonksiyonlarına zarar verir?

- A) Kalp
B) Akciğer
C) Karaciğer
D) Kalın bağırsaklar

17. I. Genital bölgede enfeksiyona neden olur.
II. Bazı tiplerinin genital bölge kanserlerine neden olduğundan şüphelenilmektedir.

III. Genital bölge ve anüs etrafında siğiller oluşması ile belirti verir.

Verilen özellikler cinsel yolla bulaşan hangi hastalığın özellikleridir?

- A) HPV B) AIDS
C) Frengi D) Hepatit B

18. Embriyo ve tüm örtüleri dıştan saran koruyucu zar aşağıdakilerden hangisidir?

- A) Amniyon B) Koriyon
C) Allantoyis D) Vitellus kesesi

19. Aşağıdakilerden hangisi amniyosentez uygulaması için doğru değildir?

- A) Gebeliğin 16. Haftasında yapılmalıdır.
B) Ayrıntılı bir ultrason sonucunda yapılmalıdır.
C) Bütün anne adaylarına mutlaka uygulanmalıdır.
D) Uygulama esnasında sterilizasyona çok dikkat edilmelidir.

20. I. Bebeğin beyninin gelişmemesi.
II. Bebeğin beyin ve zarlarının dışarı fırlaması.
III. Bebeğin kafatası kemiklerinin bir kısmının oluşmaması.

Verilenlerden hangileri nöral tüpün açık kalması sonucu oluşur?

- A) Yalnız I B) I ve II.
C) I ve III. D) I, II ve III.

(446) BİYOLJİ – 6

1. I. Bükülme özelliği fazladır.
II. Kollajen liflerden dolayı basınca karşı dayanıklıdır.
III. Soluk borusu, burun ve kaburga uçlarında bulunur.

Yukarıdakilerden hangileri hiyalin kıkırdak için doğrudur?

- A) Yalnız I B) I ve II.
C) II ve III. D) I, II ve III.

2. Çizgili kasların kasılması sırasında meydana gelen değişimler için seçeneklerdeki ifadelerden hangisi doğrudur?

- A) A bandı daralır.
B) H bandı kaybolur.
C) I bandı genişler.
D) Z çizgileri birbirinden uzaklaşır.

3. Bir çizgili kasın kasılması sırasında aşağıdaki kimyasallardan hangisinin hücredeki miktarı artar?

- A) ATP B) Glikojen
C) Kreatin fosfat D) Laktik asit

1. OTURUM

4. Aşağıdakilerden hangisi D vitamini yetersiz alınması sonucu Ca^{+2} ve P eksikliğine bağlı ortaya çıkan iskelet sistemi rahatsızlığıdır?

- A) Raşitizm B) Bel fıtığı
C) Menisküs D) Osteoporoz

5. Aşağıdakilerden hangisi sindirim kanalında yer alan bir organ değildir?

- A) Mide B) Pankreas
C) Yemek borusu D) Kalın bağırsak

6. I. Besinlerin depo edilmesi.
II. Kasılma hareketleri ile mekanik sindirim yapılması.
III. Salgılanan enzimlerle proteinlerin kimyasal sindirimini başlatması.

Yukarıdakilerden hangileri midenin görevlerindedir?

- A) Yalnız I B) I ve II.
C) I ve III. D) I, II ve III.

7. Aşağıdaki enzimlerden hangisi karbonhidratların sindiriminde görev alır?

- A) Amilaz B) Pepsin
C) Lipaz D) Tripsin

8. Mide mukozasının yıpranma ve zarar görmesi ile ortaya çıkan sindirim sistemi hastalığı aşağıdakilerden hangisidir?

- A) İshal
B) Gastrit
C) Kabızlık
D) Laktoz hassasiyeti

9. Kalbi oluşturan tabakaların dıştan içe doğru sıralanışı aşağıdakilerden hangisinde verilmiştir?

- A) Endokard – Miyokard – Perikard
B) Miyokard – Perikard – Endokard
C) Perikard – Miyokard – Endokard
D) Perikard – Endokard – Miyokard

10. Aşağıdakilerden hangisi kalbin atış hızını yavaşlatır?

- A) Adrenalin
B) Asetil kolin
C) Nikotin ve kafein
D) Kanın pH'ının azalması

11. I. Tek yönde açılan kapakçıklar
II. Göğüs kafesinde meydana gelen basınç değişiklikleri
III. Kulakçıkların gevşemesi sırasında oluşan emme kuvveti

Verilenlerden hangileri kanın toplardamarlar içinde hareketini sağlayan etkilere aittir?

- A) Yalnız I B) I ve II.
C) I ve III. D) I, II ve III.

12. Aşağıdakilerden hangisi akyuvar sayısının kontrolsüz ve zarar verici şekilde artmasıyla ortaya çıkan dolaşım sistemi hastalığıdır?

- A) Anemi B) Lösemi
C) Kalp krizi D) Hipertansiyon

13. Aşağıdakilerden hangisi soluk alırken göğüs kafesinde meydana gelen değişikliklerden biri değildir?

- A) Göğüs boşluğu genişler.
B) Kaburgalar arası kaslar kasılır.
C) Göğüs boşluğunun basıncı düşer.
D) Diyafram kası gevşeyerek yukarı doğru çıkar.

14. I. Dışarıdan alınan havayı akciğerlere taşımak.
II. Kan ile hava arasında gaz alışverişini sağlamak.
III. Besinlerdeki enerjiyi kullanılabilir hale getirmek.

Verilenlerden hangileri solunum sisteminin görevleri arasında yer alır?

- A) Yalnız I B) I ve II.
C) I ve III. D) I, II ve III.

15. Aşağıdakilerden hangisi hava yollarının daralmasına neden olan kronik iltihaplanma hastalığıdır?

- A) Astım B) Vurgun
C) Pnömoni D) Tüberküloz

16. Aşağıdakilerden hangisinin miktarı böbrek atardamarında, böbrek toplardamarından daha azdır?

- A) Su B) Üre C) Tuz D) CO_2

17. Nefronun hangi kısmı suya geçirgen olmayıp, suyun geri emilimi yapılmaz?

- A) Distal tüp
B) Proksimal tüp
C) Henle kulpunun çıkan kolu
D) Henle kulpunun inen kolu

18. I. Genellikle havuzcuk kısmında oluşur.
II. Yapıları genellikle kalsiyum içeriklidir.
III. İdrar yollarında ilerlerken ağrı ve kanamalara neden olur.

Böbrek taşları ile ilgili yukarıda verilen bilgilerden hangileri doğrudur?

- A) Yalnız I B) I ve II.
C) I ve III. D) I, II ve III.

19. Hayvanların diğer bireylerde gözledikleri davranışları kendi davranış dağarcıklarına katmaları hangi tür öğrenmedir?

- A) Çağırışimsal öğrenme
B) Taklit yoluyla öğrenme
C) İzlenim yoluyla öğrenme
D) Kavrama yoluyla öğrenme

20. Arıların yaptığı halka ve sallanma dansları hangi tür sosyal davranışa örnektir?

- A) İletişim
B) İş birliği
C) Yurt savunma
D) Hiyerarşik konum

(461) EKONOMİ – 1

1. Devletin, bazı malların ithal ve ihracını yasaklayan önlemleri, ekonomi politikasının hangi vasıtaları olarak adlandırılır?

- A) Yönlendirici
B) Nicelik Belirleyen
C) Nitelik Belirleyen
D) Emredici

2. Ekonomide fiyat artış hızının yavaşlatılması, fiyatlarda az çok uzun bir süre içinde büyük oranlı değişmelerin önlenmesi, aşağıda verilen ekonomi politikasının başlıca hedeflerinden hangisiyle ilgilidir?

- A) Tam İstihdam
B) Ekonomik Denge
C) Hakça Gelir Dağılımı
D) Ekonomik Büyüme ve Kalkınma

3. Aşağıdakilerden hangisi kültürel mal olarak kabul edilir?

- A) Su B) Elbise
C) Ekmek D) Televizyon

1. OTURUM

4. Aşağıda verilen açıklamalardan hangisi tımdengelinin yetersizliklerinden biri değildir?

- A) Olaylarla olan ilgimiz kesilebilir.
- B) Bizi gözlemden yoksun bırakabilir.
- C) Somut şartlar üzerinden olayları inceler.
- D) Gerçeğe uygunluk kontrolü yapmamıza engel olabilir.

5. İnsanların siyah-beyaz televizyonu yerine renkli televizyonu seçmeleri aşağıda verilen ihtiyaç yasalarından hangisine bir örnek teşkil eder?

- A) İhtiyaçların miktarı sınırsızdır.
- B) İhtiyaçlar birbirine rakiptir.
- C) Bazı ihtiyaçların kapasiteleri sınırlıdır.
- D) İhtiyaçlar değişmektedir.

6. Servet ile ilgili verilen bilgilerden hangisi yanlıştır?

- A) Servet görecelidir.
- B) Servet bir miktardır.
- C) Toplam olarak ifade edilir.
- D) Servetin göstergesi sadece paradır.

7. Aşağıda verilenlerden hangisi "Üretim Değer Meydana Getirmek" görüşüne aykırı bir açıklamadır?

- A) Faaliyet süresince malın şekli değişir.
- B) Madde yerine başka bir madde geçer.
- C) Eski maddelerin değerleri daha büyük olur.
- D) Faaliyet sonunda malın değeri artar.

8. Pamuğun yeterli ölçüde üretildiği bölge ve ülkelerde tekstil endüstrisi de gelişir.

Verilen açıklama, hangi üretim faktörünün etkisi ile ilgilidir?

- A) Emek
- B) Doğa
- C) Sermaye
- D) Girişimci

9. Aşağıdakilerden hangisi birinci enerji kaynakları arasında yer almaz?

- A) Biogaz
- B) Doğal gaz
- C) Nükleer enerji
- D) Rüzgar enerjisi

10. Aşağıdaki açıklamaların hangisinde bir emek vardır?

- A) Dağ sporu yapmak
- B) Otomobil kullanmak
- C) Bir şoförün faaliyetleri
- D) Zevk için kürek çekmek

11. Aşağıdakilerden hangisi rekabetin olumsuz yönlerinden biridir?

- A) İşletmelerin gelişmesine katkı sağlaması
- B) Bazen kalitenin düşmesine neden olması
- C) Yeni üretim yöntemlerini geliştirmesi
- D) Fiyatların düşmesine neden olması

12. I. Faiz
II. Miras
III. Rant
IV. Bağış
V. Ücret

Gelirin özelliklerine göre yukarıdakilerden hangisi/hangileri ekonomide gelir kabul edilir?

- A) Yalnız V
- B) II ve IV.
- C) I, II ve IV
- D) I, III ve V.

13. Bir madenin değişik alanlarda farklı maliyetle çıkarılıp aynı fiyatla satılması hangi rantı meydana getirmiştir?

- A) Şehir rantını
- B) Mevki rantını
- C) Maden rantını
- D) Toprak rantını

14. Aşağıdakilerden hangisi ekonomik büyümenin göstergelerinden biridir?

- A) Vergi gelirlerinin artması
- B) Kamu giderlerinin artması
- C) Millî gelirin artması
- D) İthalat giderlerinin artması

15. Üretim miktarına göre belirlenen ücrete ne denir?

- A) Zamana göre ücret
- B) Parça başına ücret
- C) Gerçek ücret
- D) Aynı ücret

16. Girişimcinin üretim faaliyetine katılmasının karşılığı olarak elde ettiği gelire ne ad verilir?

- A) Kâr
- B) Ücret
- C) Faiz
- D) Maaş

17. Çalışmak isteyen herkese iş alanı sağlanmasıyla aşağıdakilerden hangisi gerçekleştirilmiş olur?

- A) Tam istihdam
- B) Ekonomik denge
- C) Ekonomik büyüme
- D) Gelir dağılımında eşitlik

18. Aşağıdakilerden hangisi enflasyonun nedenlerinden biridir?

- A) Faiz oranlarının düşmesi
- B) Ürün maliyetlerinin azalması
- C) Dolaşımdaki para miktarının artması
- D) Mal ve hizmet üretiminin artması

19. Türkiye'de aşağıdaki bankalardan hangisi kâğıt para basma yetkisine sahiptir?

- A) Halk Bankası
- B) Ziraat Bankası
- C) Vakıflar Bankası
- D) Merkez Bankası

20. Aşağıdaki tanımlardan hangisi mübadeleyi ifade etmektedir?

- A) Üretim faaliyeti sonucu elde edilen gelirin dağıtımıdır.
- B) Malların insanlar arasında el değiştirmesidir.
- C) Mal ve hizmetlerin elde edilmesi faaliyetidir.
- D) İhtiyaçların karşılanması için malların tüketilmesidir.

(465) TEMEL DİNİ BİL. – 1

1. Hangisi vahye dayalı dinlerden birisi değildir?

- A) Sihizm
- B) Hristiyanlık
- C) Yahudilik
- D) İslamiyet

2. Hangisi ilkel kabile dinlerinin genel özelliklerinden değildir?

- A) Büyüculük yaygındır.
- B) Kurucusu belli değildir.
- C) Belli bir bölgeye aittirler.
- D) Kutsal kitapları vardır.

3. Hangisi ibadetle ilgili doğru değildir?

- A) İnancı kuvvetlendirir.
- B) İnsanların sevgi ve saygısı hedeflenir.
- C) Manevi olarak insanı yükseltir.
- D) Allah rızasını kazanmak için yapılır.

1. OTURUM

4. Melekler ve görevleri dikkate alındığında aşağıdaki eşleştirmelerden hangisi doğrudur?

- A) Cebrail - Tabiat olaylarının oluşumu
- B) Mikail - Rızıkların dağıtımı
- C) İsrail - İnsanların canını almak
- D) Azrail - Sûr'a üflemek

5. Dünya hayatı sona erdikten sonra İsrail'in sûra üflemesiyle başlayan dirilme ve hesap gibi merhalelerden oluşan sonsuz bir hayattır.

Yukarıda tanımı verilen kavram hangisidir?

- A) Kıyamet
- B) Mahşer
- C) Ahiret
- D) Berzah

6. İnsanın, ailesinden görenek elde ettiği imana - - - - iman; bu imanın bilgiyle temellendirilmesi neticesinde - - - - imana ulaşılır.

Boşluklara hangi uygun kelimeler getirilmelidir?

- A) Taklidi - tahkiki
- B) Tahkiki - taklidi
- C) Tafsili - taklidi
- D) Tafsili - tahkiki

7. "Allah kimseye taşıyamayacağı yükü yüklemez..."
(Bakara suresi, 286. ayet)

Bu ayete bakıldığında ibadetlerle ilgili aşağıdakilerden hangisine ulaşılabilir?

- A) Yeri ve zamanı gözetilerek yapılmalıdır.
- B) Hasta ve yolcular için kolaylıklar sağlanmıştır.
- C) Gösterişten uzak yapılması istenmiştir.
- D) Dünya ve ahiret mutluluğu hedeflenmiştir.

8. Allah için bir çiçeği yaratmakla, kâinatı var etmek arasında fark yoktur. Çünkü Allah'ın her şeye gücü yeter.

Bu açıklama Allah'ın sıfatlarından hangisine işaret etmektedir?

- A) Basar
- B) Kelam
- C) Semi
- D) Kudret

9. Allah'ın var olmak için başkasına muhtaç olmaması, O'nun hangi sıfatını ifade etmektedir?

- A) Kıyam bi nefsihi
- B) Beka
- C) Muhalefetün il havadis
- D) Vahdaniyet

10. • Kulun pişmanlıkla içini Allah'a açmasıdır.

- Günahların affı için bir basamaktır.
- Hatadan dönmek ve bir daha yapmamaya karar vermektir.

Hakkında bilgi verilen kavram aşağıdakilerden hangisidir?

- A) İman
- B) İhsan
- C) Dua
- D) Tövbe

11. Aşağıdakilerden hangisi dua ile ilgili bir bilgi değildir?

- A) İnsanın zayıflığını anlayarak Allah'a yalvarmasıdır.
- B) Hz. Peygamber ibadetin özü olduğunu ifade eder.
- C) Kelime olarak " iyi iş ve davranış " anlamlarına gelmektedir.
- D) İnsanın Allah'ı, Rab ve İlah kabul etmesidir.

12. Ramazan ayının önemli olmasının asıl sebebi aşağıdakilerden hangisidir?

- A) Haram aylardan biri olması
- B) Kur'an'ın bu ayda inmeye başlaması
- C) Teravih namazının bu ayda kılınması
- D) Yardımlaşma ve dayanışmanın bu ayda artması

13. • İnek kutsal kabul edilir.

- Din adamlarına Brahman denir.
- Ganj nehrinde yıkanmak ibadettir.

Hakkında bilgi verilen din hangisidir?

- A) Budizm
- B) Konfüçyanizm
- C) Hinduizm
- D) Taoizm

14. Vakit namazlarından hangilerinin sünnetleri iki rekâttır?

- A) Akşam - Sabah
- B) İkinci - Öğle
- C) Akşam - İkinci
- D) Yatsı - Sabah

15. Aşağıdaki ibadetler ve bu ibadetlerle ilgili kavram eşleştirmelerinden hangisi yanlıştır?

- A) Namaz- Secde
- B) Hac- Tavaf
- C) Kurban- Mukabele
- D) Oruç- İftar

16. Hac yasaklarının başladığını temsil eder. Kadınlar için kendi günlük elbiselerinden, erkekler için izar ve rida adı verilen iki parçadan oluşmaktadır.

Hakkında bilgi verilen ibadet aşağıdakilerden hangisidir?

- A) Say yapmak
- B) İhrama girmek
- C) Vakfe yapmak
- D) İtikâfa girmek

17. Aşağıdakilerden hangisi İslamiyet'e ait bir anlayış değildir?

- A) Her çocuk günahsız ve hür doğar.
- B) Kimsenin kimseye bir üstünlüğü yoktur.
- C) Allah ile kul arasında aracı bir sınıf reddedilmiştir.
- D) Arap toplumu için gönderilmiş milli bir dindir.

18. Aşağıdakilerden hangisi namazın sünnetleri arasındadır?

- A) Kılınacak namaza niyet edilmesi
- B) Namazda sübhaneke duasının okunması
- C) Namaz kılan kişinin elbisesinin temiz olması
- D) Namazda ayaktaiken Kur'an-ı Kerim'den bir bölüm okunması

19. Allah'ın varlığını ve birliğini ifade eden kavram aşağıdakilerden hangisidir?

- A) Kelime-i tevhit
- B) Besmele
- C) Salavat
- D) Mevlit

20. Aşağıdakilerden hangisi zekâtla ilgili yanlış bir bilgidir?

- A) Medine Dönemi'nde farz kılınmıştır.
- B) Kişi zekâtını anne ve babasına veremez.
- C) Zekâtı verilecek malın üstünden iki yıl geçmesi gerekir.
- D) Sözlükte "çoğalmak, temizlik, bereket" gibi anlamlara gelir.

1. OTURUM

(477) İŞLETME – 2

1. Aşağıdakilerden hangisi işletmelerin gelirleri artırmak ve giderleri azaltmak amacıyla aldıkları tedbirlerden birisi değildir?

- A) Girdileri uygun fiyattan almak
- B) Üretimde kaliteyi artırmak
- C) Üretim süresini artırmak
- D) Seri üretim yapmak

2. Yönetici, astlarının faaliyetlerini yönlendirmesi ve onlara ne yapmaları gerektiğini bildirmesi sürecinde emir verirken aşağıda verilenlerden hangisini tercih etmemelidir?

- A) Yazılı iletişim yapmalı
- B) Emirleri kesin, açık vermeli
- C) Emirlerinin amaçlarını açıklamalı
- D) İmkansız emirler vermekten kaçınmalı

3. Aşağıdakilerden hangisi Klasik Yönetim Teorisinde etkinlik ve verimliliğin artırılması için hangi ilkelere uyulması gerektiğine yönelik yapılan araştırmalardan değildir?

- A) Hiyerarşik yapı
- B) Emir-komuta birliği
- C) Yapı ve insan davranışları
- D) İş bölümü ve uzmanlaşma

4. Bir yöneticinin üretim faktörlerini sistemli, uyumlu ve etkili biçimde kullanarak mal ve hizmet üretmek için çalışanların görevlerini en iyi biçimde yapmak üzere düzene koyması ve her türlü araç, gereç ve malzeme ile donatması, onun hangi yönetim fonksiyonunu yerine getirdiğini gösterir?

- A) Planlama
- B) Yönelme
- C) Organizasyon
- D) Koordinasyon

5. İşletmenin ihtiyaç duyduğu fonların en uygun şartlarda sağlanması ve bu fonların en etkin bir şekilde kullanılmasıyla ilgili faaliyetler aşağıdakilerden hangisi ile adlandırılmaktadır?

- A) Finans
- B) Finansman
- C) Finansal yönetim
- D) Finansman fonksiyonu

6. Belli mevsimlerde üretilen çay yaprağının depolarda saklanarak ihtiyaç duyulduğu zamanlarda üretim için fabrikalara gönderilmesinin pazarlama açısından sağladığı fayda aşağıdakilerden hangisidir?

- A) Mülkiyet faydası
- B) Zaman faydası
- C) Şekil faydası
- D) Yer faydası

7. İşletmeler tutundurma faaliyetlerinden en çok aşağıda verilenlerden hangisini tercih etmektedir?

- A) Reklam
- B) Satış teşvik
- C) Kişisel satış
- D) Halkla ilişkiler

8. Küçük imalatçılarla, küçük perakendeciler için en uygun ve en ekonomik olma niteliğine sahip dağıtım kanalı hangi seçenekte verilmiştir?

- A) Üretici → Perakendeci - Tüketici
- B) Üretici → Toptancı - Perakendeci - Tüketici
- C) Üretici → Acenta → Perakendeci - Tüketici
- D) Üretici → Acenta → Toptancı → Perakendeci - Tüketici

9. Bir işletme ürünlerini tüketicilere doğrudan dağıtım yoluyla ulaştırıyorsa aşağıdakilerden hangisi oluşmuş olan uygun şartlardan birisidir?

- A) Üretim hızının tüketim hızından fazla olması
- B) Tüketici ya da müşteri sayısının fazla olması
- C) Üretim - tüketim noktaları arası mesafenin uzak olması
- D) Birim fiyatının yüksek olması

10. Tüketiciler bir malı veya hizmeti satın aldıklarında, bu mal veya hizmet ile ilgili davranışlarını, beğenilerini ve görüşlerini üretimin hangi temel ögesini esas alarak oluştururlar?

- A) Çıktı
- B) İşlem
- C) Girdi
- D) Geri Bildirim

11. Bir işletmenin yetersiz stok bulundurmasının ya da gereğinden fazla stok bulundurmasının işletmeye en olumsuz yansımaları aşağıdakilerden hangisidir?

- A) İşletmenin kârlılığı azalır.
- B) Stok riskleri ortaya çıkabilir.
- C) Stok bulundurma gideri artar.
- D) Müşteri taleplerini karşılayamaz.

12. Bir işletme, bir yıl içinde üretimde kullanılan değerlerin toplam değeri içindeki nisbi önemini stok kontrolünde bir yöntem olarak kullanıyorsa aşağıda verilen yöntemlerden hangisini kullanmış olur?

- A) ABC yöntemi
- B) Sabit sipariş süresi yöntemi
- C) Sabit sipariş miktarı yöntemi
- D) Stoksuz malzeme yönetim sistemi

13. Aşağıdakilerden hangisi yönetimin özellikleri ile ilgili yanlış bir ifadedir?

- A) Yönetim, bir karar verme sürecidir.
- B) Yönetim bir yetki faaliyetidir.
- C) Yönetim tek yönlü bir faaliyettir.
- D) Yönetim verimliliği temel alır.

14. İşletmenin niteliğine uygun personel seçimi için aşağıda verilenlerden öncelikli olarak hangisinin yapılması gerekir?

- A) İşin profiline çıkarılması
- B) İş gereklerinin hazırlanması
- C) İş için uygun personel kriterlerinin belirlenmesi
- D) Personel ihtiyacı olan işlerin belirlenmesi

15. Türkiye İş Kurumunun, iş gücünün istihdam edilebilirliğini artırmaya yönelik yürüttüğü faaliyet hangisidir?

- A) İş gücü yetiştirmek
- B) İş gücü ihtiyaç analizleri yapmak
- C) İş gücü arz ve talebini belirlemek
- D) İş ve meslek analizleri yapmak

16. Hizmet içi eğitimi kapsamında işletme personeline yönelik düzenlenen iş başı eğitimin avantajları ile ilgili yanlış bir açıklama hangi seçenekte yapılmıştır?

- A) Kısa süreli ve maliyeti azdır.
- B) Öğrenilenler hemen uygulanır.
- C) Yapılan hatalar zamanla düzeltilir.
- D) İş gücü kaybı söz konusu değildir.

1. OTURUM

17. İşletmeler faaliyetlerini yürütürken çevrenin korunmasına yönelik alacağı tedbirlerden birisi aşağıdakilerden hangisi olamaz?

- A) Tesis kurulduktan sonra çevre sorunları dikkate alınmalıdır.
B) Üretimde yenilenebilir kaynaklar kullanılmalıdır.
C) Atıkların geri dönüşümü sağlanmalıdır.
D) Üretim yapan fabrika bacalarına filtre takılmalıdır.

18. İşletmeler çalışanların ücretlerini belirlerken dikkate alacağı unsurlardan en önemlisi hangisidir?

- A) Çalışana ücret konusunda bilgi verilmeli
B) Eşit işe eşit ücret verilmeli
C) Ücretlendirme konusunda objektif olunmalı
D) Yaşam düzeyini yükseltecek ölçüde olmalı

19. Çalışanın herhangi bir sebepten dolayı işletmeden ayrılması durumunda işletme tarafından ödenmesi zorunlu olan tazminat alabilmesi için o işletmede tam olarak kaç ay süreyle çalışmış olması gerekir?

- A) 3 B) 6 C) 9 D) 12

20. İşçi ile işveren arasında kurulan ilişki aşağıdakilerden hangisidir?

- A) Yönetim ilişkisi
B) İşveren ilişkisi
C) İşçi ilişkisi
D) İş ilişkisi

(479) MANTIK – 2

1. I. p
II. q
III. $\sim p$
IV. $q \Rightarrow r$

Yukarıdakilerden hangileri basit önermedir?

- A) I ve II. B) I ve III.
C) II ve IV. D) III ve IV.

2. Tümel evetleme önerme ekleminin sembolü aşağıdakilerden hangisidir?

- A) \sim B) \vee C) \wedge D) \Rightarrow

3. Herhangi bir önermede yüklem sadece bir ada yüklenirse "birli yüklem" adını alır.

Aşağıdakilerden hangisi birli yüklemli bir önermedir?

- A) $3 > 4$
B) Psikoloji bilimidir.
C) Ali, Ayşe ve Ahmet kardeştir.
D) Ankara, Eskişehir ile Kırıkkale arasındadır.

4. Bir bileşik önermede, önermenin tümünü etkileyen ekleme "ana eklem" denir.

Bu tanıma göre, $[(p \wedge q) \vee (p \vee q \Rightarrow r)]$ önermesinin ana eklemi aşağıdakilerden hangisidir?

- A) \wedge B) \vee C) \Rightarrow D) \Leftrightarrow

5. "Çalışkansa başarılı." önermesinin sembolleştirilmiş hali aşağıdakilerden hangisidir?

- A) $(p \Rightarrow q)$ B) $(p \vee q)$
C) $(p \Leftrightarrow q)$ D) $(p \wedge q)$

p	q	p ? q
D	D	D
D	Y	Y
Y	D	Y
Y	Y	D

Yukarıdaki doğruluk tablosunda "?" ile belirtilen yere önerme eklemelerinden hangisi getirilmelidir?

- A) \vee B) \wedge C) \Leftrightarrow D) \Rightarrow

7. Bir önermenin tutarlı olması aşağıdakilerden hangisine bağlıdır?

- A) Tüm yorumlamalarının yanlış olmasına
B) Tüm yorumlamalarının doğru olmasına
C) Önermenin tek bir ana bileşenin olmasına
D) Tüm yorumlamalarından en az birinin doğru olmasına

8. $\sim(p \wedge q)$ önermesinin eş değeri aşağıdakilerden hangisidir?

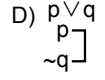
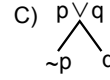
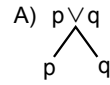
- A) $p \vee q$
B) $p \wedge q$
C) $\sim p \wedge \sim q$
D) $\sim p \vee \sim q$

I. Önerme	II. Önerme	III. Önerme	IV. Önerme
D	D	D	Y
D	Y	D	Y
Y	D	D	Y
Y	Y	D	Y

Yukarıdaki önermelerden hangisi geçerlidir?

- A) I. önerme B) II. önerme
C) III. önerme D) IV. önerme

10. $(p \vee q)$ önermesinin çözümleyici çizelgedeki çözümleme kuralı aşağıdakilerden hangisidir?



11. "Handan doktordur." önermesinin niceleme mantığındaki sembolik ifadesi aşağıdakilerden hangisidir?

- A) Fa B) $\sim Fa$
C) Fab D) Fabc

12. Aşağıdakilerden hangisi açık önermedir?

- A) $5+5=10$
B) x çift sayıdır.
C) Ali öğretmendir.
D) Tüm kelebekler kanatlıdır.

13. " $\forall x (x \text{ çiçektir.})$ " açık önermesi aşağıdaki evrenlerden hangisinde doğrudur?

- A) E={taş, demir, gümüş}
B) E={gül, papatya, menekşe}
C) E={tavşan, köpek, kedi}
D) E={Ayşe, Elif, Banu}

14. Aşağıdakilerden hangisi kiplik değişmezlerinden biri olan "zorunlu" ekleminin sembolüdür?

- A) \diamond B) \vee C) \square D) \sim

1. OTURUM

(484) SAĞLIK BİLGİSİ – 2

15. Aşağıdaki mantık sistemlerinden hangisi önermelerin “doğru”, “yanlış” dışında üçüncü bir değere sahip olabileceğini gösterir?

- A) Klasik mantık
- B) Kiplik mantığı
- C) İki değerli mantık
- D) Çok değerli mantık

16. Akıl genelden özele izlediği yoldur. Genel yargılardan hareketle tekilerin yargısına ulaşılır. Eğer öncüller doğruysa, zorunlu olarak sonuç da doğrudur.

Açıklaması verilen akıl yürütme biçimi aşağıdakilerden hangisidir?

- A) Tümünden gelim
- B) Tam Tüme varım
- C) Eksik Tüme varım
- D) Varsayımlı Dedüktif Yöntem

17. “Ağrı Dağı, Türkiye'nin en yüksek dağıdır.” önermesinin özdeşlik mantığında sembolleştirilmiş hali aşağıdakilerden hangisidir?

- A) $a \vee b$
- B) $a \Rightarrow b$
- C) $a \equiv b$
- D) $a \neq b$

18. Aksiyomlardan türetilmiş önermeler aşağıdakilerden hangisiyle ifade edilir?

- A) Tanım
- B) Teorem
- C) Özdeşlik
- D) Ad değişmezleri

19. Mantık felsefesinin amacı aşağıdakilerden hangisidir?

- A) Evreni anlamak ve açıklamak
- B) Bilimin dilsel yapısını çözümlemek
- C) Varlık hakkında bütünsel bir açıklama yapmak
- D) Mantığın anlam, ilke ve kavramlarıyla ilgili sorunları tartışmak

20. Aşağıdakilerden hangisi mantık ilkeleriyle ilgili sorunlardan değildir?

- A) Bir önermenin doğru olması ne anlama gelir?
- B) Mantık ilkeleri tek başına anlamlı mıdır?
- C) Mantık ilkeleri birbirleriyle ilişkili midir?
- D) Mantık ilkelerinin temel kaynağı nedir?

1. Aşağıdakilerden hangisi, ailenin evrensel olarak kabul gören işlevlerinden biri değildir?

- A) Yetiştirilen çocukların sosyalleşmesini önlemesi
- B) Çocukların sıcak ve sevgi dolu bir ortamda büyümesini sağlaması
- C) Yeni neslin gereksinimlerini karşılaması ve onların yetişmelerini sağlaması
- D) Eşlerin, kurdukları ekonomik iş birliğiyle aile bireylerinin barınma, beslenme, giyinme, eğitim gibi temel ihtiyaçlarını karşılaması

2. Sağlıklı bir evlilikte, karı kocanın sahip olması gereken özelliklerle ilgili olarak verilenlerden hangisi doğrudur?

- A) Birbirlerine karşı fiziksel ve sözel şiddet uygularlar.
- B) Evliliklerine ait gerçekçi olmayan beklentiler taşırlar.
- C) Evliliklerinde güç paylaşımı konusunda anlaşmaya varmışlardır.
- D) Birbirlerinin ailelerinden kaynaklanan çok fazla çatışma yaşarlar.

3. Aşağıda koruyucu aile hizmeti ile ilgili verilen bilgilerden hangisi doğrudur?

- A) Koruyucu aile yanına en fazla 1 çocuk yerleştirilebilir
- B) Bu hizmetten dolayı koruyucu ailelere bakım ücreti ödenmemesi
- C) Koruyucu aile yanına verilen çocuğun, hiçbir koşulda geri alınmaması
- D) Koruyucu aile olarak seçilenlerle, yükümlülüklerini içeren bir sözleşme imzalanması

4. Aşağıdakilerden hangisi, aile planlamasının anne sağlığına yararlarından biri değildir?

- A) Anne ölümlerini azaltması
- B) Sağlıklı doğan bebek sayısını artırması
- C) İstenmeyen gebelikleri ve düşükleri engellemesi
- D) Sık doğuma bağlı ortaya çıkan kadın hastalıklarını önlemesi

5. Kadınlarda genellikle her ay olgunlaşan yumurta hücresi, yumurtalıklardan serbest bırakıldıktan sonra yaklaşık kaç saat hayatta kalır?

- A) 24
- B) 48
- C) 72
- D) 96

6. I. Anne sütünü etkilemediği için emziren kadınlar da kullanabilir.
II. Kadında doğal olarak bulunan kadınlık hormonlarından yalnızca birini (progesteron) içerir.
III. 35 yaş ve üstünde olup sigara içen kadınlar bu yöntemle korunacaksa sigarayı bırakmalıdır.

Yukarıdakilerden hangileri, genel koruma yöntemlerinden “hapların” özelliklerindedir?

- A) Yalnız I
- B) Yalnız II
- C) Yalnız III
- D) I, II ve III.

7. Aşağıdakilerden hangisi, gebeliğin kesin tanısının koyulabilmesi için saptanması gereken bulgulardan dir?

- A) Bulantı
- B) Baş dönmesi
- C) Sık idrara çıkma
- D) Beta HCG seviyesi

8. I. Kansızlık
II. Boğmaca
III. Gebelik zehirlenmesi

Yukarıdakilerden hangileri, gebelikte yetersiz ve dengesiz beslenmeye bağlı ortaya çıkabilecek sorunlardandır?

- A) I ve II.
- B) I ve III.
- C) II ve III.
- D) I, II ve III.

9. Anne sütünün önemi ile ilgili olarak verilenlerden hangisi doğrudur?

- A) Bebeğe bağırsak enfeksiyonlarına neden olması
- B) Bebeklerin en fazla 1 ay anne sütüyle beslenmesi
- C) Anne sütünü yeterli alan bebeklerde gelişim geriliği görülmesi
- D) Doğumdan sonra gelen ilk sütün, antikor bakımından çok zengin olduğu için mutlaka bebeğe verilmesi

10. Kanser belirtilerinden herhangi biri hissedildiğinde, zaman kaybedilmeden hekime başvurmak şarttır. Hiç rahatsızlık duyulmasa bile yılda bir kez mutlaka genel kontrolden geçilmelidir.

Buna göre verilenlerden hangisi, kanserde erken tanının önemini artıran sebeplerdendir?

- A) Sakatlık bırakması
- B) Tedaviyi zorlaştırması
- C) Tedavi şansını artırması
- D) Doku ve organ kaybına sebep olması

1. OTURUM

11. Türkiye’de çocuklara uygulanan zorunlu aşı takvimine göre; sadece 2. ayın sonunda yaptırılması gereken aşı, aşağıdakilerden hangisidir?

- A) BCG B) KKK
C) OPA D) Hep B

12. Aşağıdakilerden hangisi, kanserden korunmaya yönelik olarak alınması gereken önlemlerdendir?

- A) Günlük 25-30 gram posa tüketilmesi
B) Doymamış yağ asidi içeren yağlardan kaçınılması
C) Doğal besinler yerine, kimyasal koruyuculu hazır yiyeceklerle beslenmenin tercih edilmesi
D) Yiyecekleri hazırlarken ızgara, fırında buğulama, haşlama gibi pişirme yöntemlerinin kullanılması

13. Aşağıdakilerden hangisi, şeker (diyabet) hastalarının uymaları gereken kurallardandır?

- A) Egzersiz yapmaktan kaçınmak
B) 2 yılda bir diş muayenesi yaptırmak
C) Şeker takibini düzenli olarak yapmak
D) Ayağı sıkı ayakkabılar tercih etmek

14. “Çoğunlukla genetik geçiş gösteren, vücutta kanın pıhtılaşma sisteminde rol alan faktör 8 ve 9 pıhtılaşma faktörlerinin eksikliği veya yokluğu nedeniyle ortaya çıkan ve pıhtılaşma bozukluğu oluşturan bir kan hastalığıdır.”

Yukarıdaki açıklama hangi kan hastalığına aittir?

- A) Kolera B) Bronşit
C) Kızamık D) Hemofili

15. Bir mikroorganizmanın herhangi bir yolla insan veya hayvan vücuduna girip yerleşerek çoğalmasına ne ad verilir?

- A) Ultrason
B) Enfeksiyon
C) Pastörizasyon
D) Dehidratasyon

16. Sıtma hastalığı, aşağıdaki vektörlerden hangisiyle sağlam kişilere bulaşır?

- A) Bit B) Pire
C) Kene D) Sivrisinek

17. Aşağıdakilerden hangisi, su ve besinlerle bulaşan hastalıkların önlenmesi için yapılması gereken uygulamalardandır?

- A) Açık gübreliklerin yapılması
B) Sağlıksız tuvaletlerin inşa edilmesi
C) Kişisel temizlik alışkanlığının sağlanması
D) Kanalizasyon sisteminin iyi olmadığı yerlerde suların kaynatılmadan kullanılması

18. Aşağıdakilerden hangisi, solunum yoluyla bulaşan hastalıkların genel özelliklerinden biri değildir?

- A) Mevsimlik özellik göstermesi
B) Aşılamayla koruma sağlamaktan kaçınılması
C) Kolay bulaşabilen hastalıklar olması
D) Solunum yoluyla insanlara geçmesi

19. I. Sağlık personelleri
II. Uyuşturucu bağımlıları
III. Kan ürünleri kullanması gerekenler
Yukarıdakilerden hangileri, AIDS’in bulaşma riskinin en yüksek olduğu gruplardandır?

- A) I ve II. B) I ve III.
C) II ve III. D) I, II ve III.

20. Aşağıdakilerden hangisi, evde hasta bakımında yapılması gereken uygulamalardandır?

- A) Hastaya ait atıkların kurallara uygun şekilde imha edilmesi
B) Solunum güçlüğü çeken hastanın baş tarafının alçakta tutulması
C) Hastanın oda ısısının, 25 derecenin üzerinde olacak şekilde ayarlanması
D) Hastaya fayda sağlayabilecek ilaçların hekime sorulmadan belirlenip verilmesi

(491) TRAF. VE İLK YARD. – 1

1. Yasal koşulların belirlediği trafik ölçütlerini, kişinin yaşantısı sırasında doğal davranışlar şekline dönüştürebilmek, kişilerin can ve mal güvenliğini sağlamak için yapılması gereken çalışmaların tümüne - - - - denir.

Bu ifadede boş bırakılan yere aşağıdakilerden hangisi yazılmalıdır?

- A) sürücü kursu
B) trafik eğitimi
C) trafik kuralları
D) trafik işaretleri

2. Aşağıdakilerden hangisi, sürücülerin uyması gereken kurallardandır?

- A) İniş eğimli yolda vitesi boşa almak
B) Otoyola girince hemen sol şeride geçmek
C) Bölünmüş kara yolunda, karşı yöndeki trafik için ayrılan yol bölümüne girmek
D) Aksine bir işaret yoksa daralan yol kesimlerinde, yüklü araçlara geçiş kolaylığı sağlamak

3. • Su ve çamur sıçratmak
• Korkutmak veya şaşırtmak
• Sigara külü veya izmaritlerini yola atmak

Yukarıdaki davranışları yapan sürücü için hangisi söylenebilir?

- A) Saygısız B) Sabırlı
C) Tedbirli D) Hoşgörülü

4. Egzoz emisyon ölçümünün yapılması, araçların çevreye verdiği zararlardan hangisini önlemeye yönelik bir çalışmadır?

- A) Su kirliliğini
B) Gürültü kirliliğini
C) Hava kirliliğini
D) Görüntü kirliliğini

5. “Trafik kazalarının % 99’u insan faktöründen kaynaklanmaktadır.”

Buna göre aşağıdakilerden hangisi, trafik kazalarında insan faktörünün etkisini azaltan davranışlardan biri değildir?

- A) Trafikte bireyin kendine aşırı güven duyması
B) Hoşgörülü ve sabırlı bir tutum içinde olunması
C) Trafik kurallarına uymanın alışkanlık haline getirilmesi
D) Sürücü ve yayaların, yolun kendilerine ait olan kısmını kullanması

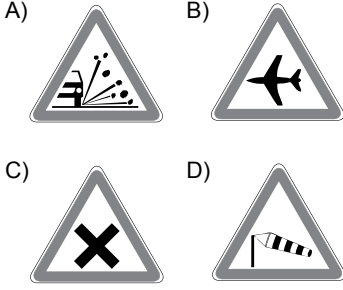
6. Aşağıdakilerden hangisi, otoyolda yapılabilecek davranışlardandır?

- A) Geri gitmek
B) Geriye dönmek
C) Zorunluluk dışında park etmek
D) Hızına uygun şeritte gitmek

1. OTURUM

7. "Trafik kazalarında insan, araç, yol ve iklim koşulları etkili olmaktadır."

Buna göre aşağıdaki trafik işaretlerinden hangisi, yoldan kaynaklanan bir tehlike olduğunu belirtmektedir?



8. Işıklı trafik cihazları ve trafik işaret levhalarına verilen zararlar kim tarafından karşılanır?

- A) İlgili belediyeler
B) Sorumlu kişiler
C) Emniyet Genel Müdürlüğü
D) Kara Yolları Genel Müdürlüğü

9. Aşağıdakilerden hangisi, araçlarda kullanılan emniyet kemerinin işlevlerinden biri değildir?

- A) Ölüm ve yaralanmaları azaltması
B) Araçtan dışarı fırlamaları önlemesi
C) Trafik kazalarını önlemek için kullanılması
D) Çarpma anında oluşabilecek etkileri, vücudun daha güçlü bölgelerine yönlendirmesi

10. Aşağıdakilerden hangisi, trafik kazalarının ülke ekonomisine verdiği, bedeli maddi olarak ölçülemeyen zararlardandır?

- A) Karayollarının yıpranması
B) Araçların hurdaya ayrılması
C) Trafik işaret ve levhalarının zarar görmesi
D) Ölüm ve yaralanma sonucunda insan gücü kaybının olması

11. Çocuk bağlama sistemi olmayan otomobil, yolcu ve yük taşımada kullanılan arazi taşıtı, kamyon, kamyonet ve çekicilerde kaç yaşın altındaki çocuklar taşınamaz?

- A) 3 B) 4 C) 5 D) 6

12. I. Sürüş öncesi düzenli ve yeterli uyuması
II. Sürüş sırasında emniyet kemerinin bağlanması
III. Trafik yoğunluğu fazla olan güzergâhların tercih edilmesi

Verilenlerden hangileri, güvenli yolculuk için alınması gereken önlemlerdendir?

- A) Yalnız I B) I ve II.
C) II ve III. D) I, II ve III.

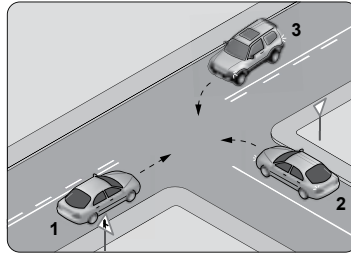
13. Aşağıdakilerden hangisi, araç hızının gerekli şartlara uygunluğunu sağlamak için yapılması gerekenlerdendir?

- A) Yüklemede gabarinin üzerine çıkılması
B) Dönemeçlere girerken hızın artırılması
C) Tepe üstlerine yaklaşırken hızın azaltılması
D) Diğer araçların ilerleyişine engel olacak şekilde yavaş sürülmesi

14. Aşağıdakilerden hangisi, aracın hızı arttıkça meydana gelebilecek tehlikeli durumlardandır?

- A) Güvenli sürüşün sağlanması
B) Fren mesafesinin artması
C) Aracın kontrol edilebilirliğinin artması
D) Engelle karşılaşıldığında, doğru noktada durulması

15. Şekildeki kavşakta 3 numaralı araç sürücüsü nasıl davranmalıdır?



- A) Hızını azaltmadan kavşağa girmeli
B) 2 numaralı araca ilk geçiş hakkını vermeli
C) 1 numaralı araca ilk geçiş hakkını vermeli
D) Sağda olduğu için ilk geçiş hakkını kendisi kullanmalı

16. Hastane ve okullara ait giriş çıkış kapılarının her iki yönünden kaç metrelik mesafe içinde park etmek yasaktır?

- A) 20 B) 15 C) 10 D) 5

17. I. Dönüş ışıklarının "geç" anlamında kullanılması
II. Öndeki aracı yakından takip ederken kısa hüzmelili farların yakılması
III. Sis ışıklarının, sis ve kar sebebiyle görüşün yetersiz olduğu haller dışında kullanılması

Yukarıdakilerden hangilerinin yapılması doğrudur?

- A) Yalnız I B) Yalnız II
C) Yalnız III D) I, II ve III.

18. Herhangi bir arıza veya trafik kazası nedeniyle karayolunda sürülemeyecek araçlar için (yol, hava ve trafik durumu ile gece ve gündüz oluşuna göre) diğer araç sürücülerinin açıkça görebilecekleri şekilde birer kırmızı yansıtıcı veya kırmızı ışıklı cihaz kullanılması mecburidir.

Buna göre diğer sürücülerin kaç metre mesafeden görebileceği şekilde aracın ön ve arkasına kırmızı yansıtıcı veya kırmızı ışıklı cihaz yerleştirilir?

- A) 150 B) 200
C) 250 D) 300

19. "Sürücü belgesi, sürücünün işlemlerini yaptığı kusura göre belirli bir süreliğine trafik zabıtarınca geri alınır."

Buna göre aşağıdakilerden hangisi, sürücü belgesinin geri alınmasını gerektiren kusurlardandır?

- A) Yasaklanmış yere araç park etmek
B) Maddi hasarlı kazada kusurlu olmak
C) Uyuşturucu veya uyarıcı madde kullanmak
D) Kanunda belirtilen miktarın altında alkolü olarak araç kullanmak

20. Aşağıdakilerden hangisi, otomobillerde bulundurulması gereken zorunlu malzeme ve gereçlerden biri değildir?

- A) Üçgen reflektör
B) İlk yardım çantası
C) Yangın söndürme cihazı
D) Sarı ışıklı, dönerli uyarı lambası

1. OTURUM

(502) İNGİLİZCE – 8

1-20. sorularda boş bırakılan yere uygun gelen kelime ya da ifadeyi işaretleyiniz.

- You pass your class - - - - you study regularly.**
A) if B) by
C) to D) of
- I didn't go to work yesterday - - - - I was ill.**
A) until B) after
C) before D) because
- We - - - - the high school by 2020.**
A) were finished
B) were finishing
C) will be finishing
D) will have finished
- If I - - - - strong, I would help you carry the piano.**
A) am B) were
C) have D) be
- I will run as fast - - - - I can.**
A) if B) so
C) as D) to
- If the weather had been nice, we - - - - on a picnic.**
A) would have gone
B) will have gone
C) have gone
D) had gone
- If you - - - - the iron, it - - - -.**
A) heat / expands
B) heated / will expand
C) heat / was expanding
D) heated / is expanding
- - - - that I live alone, I must cook my own food.**
A) For B) Since
C) Because D) Due to the fact

- The weather was rainy - - - - I took my umbrella.**
A) but B) so
C) yet D) in order to
- We rushed out of the concert hall - - - - the concert finished.**
A) to B) while
C) as soon as D) although
- The vase - - - - by Ali.**
A) was broken B) is breaking
C) breaks D) broke
- The 20th century is the - - - - of inventions.**
A) month B) year
C) day D) age
- I have hidden your mobile phone in a place - - - - you can't find.**
A) when B) where
C) why D) who
- - - - the end of this month, I will have finished my project.**
A) With B) On
C) By D) In
- While I - - - - English, my mother - - - - me.**
A) was studying / called
B) will study / is calling
C) study / have called
D) am studying / call
- This time tomorrow, I - - - - my homework.**
A) were doing B) will be doing
C) was doing D) am doing
- The window was cleaned - - - - Emine.**
A) than B) with
C) of D) by
- Turkish - - - - in Turkey.**
A) speak B) spoke
C) is spoken D) are speaking

- The school uniforms - - - - by students at school.**
A) should wear B) must be worn
C) is wearing D) have worn
- A: - - - - ?
B: In 1976.**
A) Where were you last night
B) What time was the party
C) Who was born in Turkey
D) When were you born

(502) ALMANCA – 8

1-17. sorularda boş bırakılan yere uygun gelen kelime ya da ifadeyi işaretleyiniz.

- Ich - - - - seit 10 Jahren Deutsch.**
A) spreche B) lebe
C) wohne D) laufe
- Eine Waschmaschine - - - -.**
A) laufen B) lesen
C) reparieren D) sprechen
- - - - Martin genug Geld spart, - - - - er nach Antalya fliegen.**
A) Hätte / würde
B) Wenn / wird
C) Hat / wird
D) Wenn / werden
- "Berlin" ist die - - - - Stadt in Deutschland.**
A) klein B) am kleinsten
C) groß D) größte
- Der Stuhl, auf - - - - du sitzt, ist kaputt.**
A) der B) die
C) das D) dem
- Autofahrer - - - - von rechts fahren. (Zorunluluk)**
A) müssen B) können
C) dürfen D) wollen
- - - - ist dein Lieblingsunterricht in der Schule?**
A) Wer B) Warum
C) Was D) Wem

1. OTURUM

8. Die Mutter - - - ihrer Tochter neue Schuhe kaufen. (İstek)

- A) kann B) soll
C) muss D) will

9. - - - - will heute mit uns schwimmen gehen?

- A) Wer B) Wie
C) Wo D) Was

10. Ich kann nicht singen, - - - - ich Halsschmerzen habe.

- A) denn B) weil
C) aber D) ob

11. Sollen wir Hasan - - - - Ayşe besuchen?

- A) aber B) weil
C) oder D) denn

12. A: Wie - - - - ich zum Bahnhof gehen?
B: Gehen Sie geradeaus. Biegen sie an der Ampel rechts ab.

- A) ist B) wird
C) habe D) kann

13. Die Familie Schumacher lebt - - - - 2 Jahren in Ankara.

- A) bis B) um
C) von D) seit

14. Mein Bruder - - - - nicht studieren.

- A) will B) ist
C) sind D) hat

15. Einen Brief - - - -.

- A) schreibe B) schreiben
C) schreibst D) schreibt

16. A: Mit - - - - willst du für die Prüfung lernen?
B: Mit Osman.

- A) wer B) wen
C) wem D) was

17. Sinop ist - - - - Stadt an der Schwarzmeerküste.

- A) ein B) eine
C) eins D) einen

18.



Was ist das?

- A) Ein Fluss B) Ein Baum
C) Ein See D) Ein Berg

19. "Frau Ekin kocht in der Küche." cümlesinin Türkçe karşılığı aşağıdakilerden hangisidir?

- A) Bayan Ekin mutfakta yemek yiyor.
B) Bayan Ekin mutfakta yemek yapıyor.
C) Bayan Ekin mutfakta yemek yaptı.
D) Bayan Ekin mutfakta yemek yapmak istiyor.

20. "fleişig" kelimesinin zıt anlamlısı aşağıdakilerden hangisidir?

- A) lang B) teuer
C) faul D) viel

(502) FRANSIZCA – 8

1-16. sorularda boş bırakılan yere uygun gelen kelime ya da ifadeyi işaretleyiniz.

1. - - - - sont allées au concert de Tarkan à İstanbul.

- A) Vous B) Tu
C) Ils D) Elles

2. Ils - - - - des informations à l'office de tourisme.

- A) a demandé
B) ont demandé
C) suis demandé
D) avons demandé

3. Il tourne un film d'action - - - - Paris - - - - France.

- A) à / en B) en / à
C) au / aux D) en / au

4. Pour acheter du saumon et du thon je vais chez - - - -.

- A) le dentiste B) le crémier
C) le poissonnier D) le bijoutier

5. Les pays africains sont - - - - que les pays européens.

- A) aussi froid
B) plus chauds
C) moins chaudes
D) plus froid

6. Pendant les grandes vacances, Sylvie a écrit trois cartes postales et trois lettres.

Alors, elle a écrit - - - - de lettres que de cartes postales.

- A) tant B) plus
C) autant D) moins

7. Comme dessert, - - - - de la crème brûlée.

- A) déjeune B) bois
C) dîne D) mange

8. Le lait coûte deux euros - - - -.

- A) le litre B) le mètre
C) le mètre carré D) le kilo

9. A : C'est - - - - le cinéma Rex?
B : Il est juste en face de l'Hôtel de ville.

- A) où B) ou
C) quand D) combien

10. Pour voir les monuments historiques à Paris, les touristes - - - - le bus à double étages.

- A) devient B) voient
C) prennent D) visitent

11. L'hôtel - - - - tu as vu est très luxueux.

- A) dont B) qui
C) où D) que

12. Ce professeur - - - - enseigne le français parle trois langues.

- A) qui B) pourquoi
C) que D) où

13. Mme Duval a vingt-six ans, c'est - - - -.

- A) un homme brun
B) une vieille dame
C) un vieux monsieur
D) une jeune femme

1. OTURUM

14. Si elle mange beaucoup de sucreries, elle ---- ses dents.

- A) perdrez B) sommes perdus
C) perdra D) perdrons

15. A: ---- vous avez fait à Nevşehir?
B : Nous avons visité la ville souterraine de Derinkuyu.

- A) Qu'est-ce que B) Quand
C) Combien D) Comment

16. Mon frère ne va pas à Eskişehir le matin mais il ---- va l'après-midi.

- A) par B) y
C) en D) les

17-20. sorularda verilen resme göre cümlede boş bırakılan kısmı tamamlayan sözcük ya da ifadenin bulunduğu seçeneği işaretleyiniz.

17.



Le dimanche matin, ils font ----.

- A) du judo B) du tennis
C) du bateau D) de l'escalade

18.



Pierre ne peut pas courir parce qu'il a ----.

- A) mal à l'estomac
B) mal aux dents
C) le bras cassé
D) la jambe cassée

19.



Quand il est fatigué, il ---- tôt.

- A) se peigne B) se promène
C) se couche D) s'habille

20.



Il a mal ----.

- A) au dos B) aux dents
C) aux jambes D) à la tête

(511) FIKIH – 1

1. "Kişinin bazı haklara sahip olmaya elverişli bulunması ve sorumlulukları yerine getirebilme yeteneğidir"

Bu tanım aşağıdaki kavramlardan hangisine aittir?

- A) Mükellefiyet B) Ehliyet
C) Ruhsat D) Azimet

2. Fıkıh ilmi için aşağıdakilerden hangisi doğru değildir?

- A) İnsanların Allah'a karşı kulluk görevlerini bilinçli bir şekilde yerine getirmelerini sağlar.
B) İnsanların kendi yararına ve zararına olan şeyleri bilmesini sağlar.
C) Adaletli, huzurlu ve istikrarlı bir toplum oluşmasına katkı sağlar.
D) İnsanların kulluk bakımından eşit olmasını sağlar.

3. "Bir kimsenin malına ve canına kasdedilen fiiller bu kapsamdadır. Adam öldürme, yaralama, hırsızlık vb. konulara ait hükümler bu konu başlığı altında incelenmektedir."

Metinde bahsedilen fıkıhın konusu aşağıdakilerden hangisidir?

- A) Ukubât B) Feraiz
C) Münakehât D) Muamelât

4. Aşağıdakilerden hangisi İmam Şafii'nin hüküm verirken başvurduğu delillerden biri değildir?

- A) Sahabe kavli B) Tümevarım
C) İstishab D) İcma

5. Aşağıdakilerden hangisi Hanefi mezhebi için söylenemez?

- A) Mezhep imamı Numan bin Sabit'tir.
B) İctihat ederken kıyas ve istihsana başvurulmuştur.
C) Hüküm vermede tündengelim yöntemi benimsenmiştir.
D) Türki cumhuriyetler, Kafkasya, Afganistan, gibi ülkelerde yaygın olarak benimsenmiştir.

6. Aşağıdakilerden hangisi sahabe dönemi içtihatlarından değildir?

- A) Muellafe-i kulub'a zekattan pay verilmesi
B) Savaş esirlerine ne yapılacağına karar verilmesi
C) Kıtık yıllarında yapılan hırsızlık suçuna ceza uygulanmaması
D) Kur'an'ın bir Mushaf haline getirilmesi

7. Aşağıdakilerden hangisi Hz. Peygamber dönemi hüküm koyma faaliyetleri hakkında söylenemez?

- A) Hz. Peygamber'in hüküm verirken kimi zaman sahabeye de danışması
B) Bazı hükümleri Hz peygamber kendisine sorulması durumunda vermesi
C) Hz. Peygamber'in herhangi bir durum olmaksızın doğrudan hüküm vermesi
D) Hz. Peygamber'in hüküm vermek için her zaman ayet gelmesini beklemesi

8. Aşağıdakilerden hangisi Tabiiler dönemi özelliklerinden değildir?

- A) Sorunlar içtihatlarla halledilmeye çalışılmıştır.
B) Fıkıh ilmi ile ilgili eserler yazılmaya başlanmıştır.
C) Şûra içtihadı bu dönemde ön plana çıkmıştır.
D) Mezheplerin oluşumu bu dönemde başlamıştır.

9. Mezhepler hangi dönemde kurumsal halini almıştır?

- A) Hz. Peygamber
B) Etba'üt-tabiin
C) Sahabe
D) Tabiin

10. Aşağıdakilerden hangisi farklı mezheplerin oluşumuna etki eden unsurlardan biri değildir?

- A) Dini metinlerdeki bazı ifadelerin farklı yorumlara imkân verecek tarzda olması
B) Hz. Peygamberin vefatından sonra çıkan siyasi, ilmi nitelikteki görüş ayrılıkları
C) Âlimlerin aynı etnik ve kültürel yapıya sahip toplumda yetişmiş olması
D) Sosyo- Kültürel farklılıklar

1. OTURUM

11. Aşağıdakilerden hangisi fıkıh usulü alanında yazılmış eserlerden biridir?

- A) Er-Risale B) El-Fıkh-ı Ekber
C) El- Mebcut D) Sahih-i Buhari

12. "Bu benim elde edebildiğim en güzel sonuçtur. Kim bundan daha güzelini bulursa onu kabul ederiz."

Ebu Hanife'nin bu ifadesinden aşağıdakilerden hangisi anlaşılabilir?

- A) En doğru sonuçları elde ettiği
B) Başka bir görüşü kabul etmeyeceği
C) Daha doğru ve mükemmel görüşlerin olduğu
D) Görüşünden başka doğru ve daha güzel görüşlerin olabileceği

13. • Amel-i ehl-i Medine'yi hüküm veren delil olarak kullanmıştır
• Zuhri ve Nafi gibi tabii âlimlerinden ders almıştır
• Etbâu't tabii âlimlerindedir
• Fıkhi görüşlerini el-Muvatta isimli eserde toplamıştır

Hakkında bilgi verilen mezhep imamı aşağıdakilerden hangisidir?

- A) Ebu Hanife
B) Malik bin Enes
C) İdris eş- Şafii
D) Ahmet bin Hanbel

14. "Ey iman edenler! Sarhoş iken ne söylediğini bilinceye kadar, bir de – yolcu olmanız durumu müstesna cünüp iken yıkanınca kadar namaza yaklaşmayın."

(Nisa suresi, 43.ayet)

Bu ayet aşağıdaki fıkıh ilkelerinden hangisi ile ilişkilendirilebilir?

- A) Mükellefiyette kolaylık
B) Helallerde genişlik, haramlarda sınırlılık
C) Hükümlerde tedricilik
D) Adaletin gerçekleşmesi

15. Aşağıdakilerden hangisi Caferi mezhebi ile sünni mezhepler arasındaki ortak görüşlerinden biridir?

- A) Abdestte ayakların mesh edilebilmesi
B) Namazların cem edilebilmesi
C) Kıyas ve icma delil olarak kabul edilmemesi
D) İman esasları ve temel ibadetler

16. İslam hukukuna göre bir kimsenin mükellef olabilmesi için aşağıdakilerden hangisi şart değildir?

- A) Akıl sahibi olmak
B) Müslüman olmak
C) Hür olmak
D) Ergenlik çağına girmiş olmak

17. Aşağıdakilerden hangisi fıkıh kavramını ifade etmez?

- A) Müctehit âlimlerin tafsili şer'i delillerden istinbat ettiği şer'i ameli hükümler
B) Kişinin günlük hayatında faydasına ve zararına olan şeyleri bilmesi
C) İyi ve tam anlamak, ince anlayış, keskin idrak
D) Her konuda bilgi sahibi olmak

18. Ahmet hak ve sorumluluklarını ancak velileri vasıtası ile gerçekleştirebilmektedir ancak bizzat kendisinin yerine getireceği fiillerle mükellef tutulmamaktadır. Hiçbir sözlü hukuki tasarrufu da geçerli değildir Yaptıklarından sorumlu tutulmamaktadır.

Buna göre Ahmet ile ilgili aşağıdakilerden hangisi söylenemez?

- A) Vücub ehliyeti vardır
B) Eda ehliyeti vardır
C) Ahmet 'in sebep olduğu zararları velileri ödemek zorundadır
D) Ahmet henüz yedi yaşına gelmemiştir

19. Farz : Şari'nin yapılmasını kesin ve bağlayıcı bir şekilde istediği fiildir
Vacip : Farz kadar kesin olmasa da yapılması emredilen fiildir
Sünnet : Hz. Peygamber'in farzlar ve vacipler dışında, yaptığı ve yapılmasını da tavsiye ettiği fiillerdir

Buna göre aşağıdakilerden hangisinde farz, vacip ve sünnet örnekleri sırasıyla verilmiştir?

- A) Zekât vermek-Fıtır sadakası vermek- Ezan okunması
B) Kurban kesmek-Namaz kılmak-Kamet getirmek
C) Oruç tutmak-Kurban kesmek-Cemaatle namaz kılmak
D) Bayram namazı kılmak-Hacca gitmek-Fıtır sadakası vermek

20. Aşağıdakilerden hangisi insanların özürlerinden dolayı geçici olarak konulmuş hükümlerden biri değildir?

- A) Makyajı olan insanın abdest almaması
B) Yolcu olanın ramazan ayında oruç tutmaması
C) Ölüm tehlikesi olan bir kimsenin ölmeyecek kadar domuz eti yemesi
D) Hasta olanların oruç tutmaması

(532) HZ. MUHAMMED'İN HAY. – 2

1. "Nefsim kudret elinde olan Allah'a yemin ederim ki, hiçbir kul kendisi için dilediğini komşusu için yahut din kardeşi için de dilemedikçe tam anlamıyla iman etmiş olmaz."

Bu hadiste vurgulanan asıl kavram aşağıdakilerden hangisidir?

- A) Vefa B) Sabır
C) Özgürlük D) Diğerkâmlık

2. Hangisi hukuk karşısında eşitlik anlayışına uygun bir davranıştır?

- A) Tarafsız olmak
B) Akrabaları kayırmak
C) Yalan şahitlik yapmak
D) Duygularla karar vermek

3. Peygamberimiz bulunduğu bir toplantıda ihtiyaç sahiplerine öncelik tanıır, özellikle kimsesiz olanlara ayrı bir ilgi gösterirdi.

Hz. Muhammed (sav.) 'in bu davranışı hangi özelliği için bir örnek oluşturmaz?

- A) Adalet
B) Merhamet
C) Alçakgönüllülük
D) Danışarak iş yapma

4. "Bir kadınla üç özelliğinden dolayı evlenilir; dini, malı ve güzelliği. Sen dindar olanı seç ki devamlı bereketler içerisinde olasın."

Bu hadis aşağıdakilerden hangisini vurgulamaktadır?

- A) Evlilikte önemli olan dinî ve ahlakî değerlerdir.
B) Eşler birbirleriyle uyum içinde olmalılardır.
C) Yuva kurmak isteyenlere yardım edilmelidir.
D) Evlilik insanı haramlardan korur.

1. OTURUM

5. • “Onlar, kendi canları çekmesine rağmen yemeği yoksula, yetime ve esire yedirirler.”
(İnsan suresi, 8. ayet)

- “Eğer kalbinin yumuşamasını istiyorsan fakiri doyur, yetimin başını okşa!”
(Hadis-i şerif)

Bu ayet ve hadis aşağıdakilerden hangisini vurgulamaktadır?

- A) Çocuklara sevgi ve merhametle yaklaşılmalıdır.
B) Yetimler ve ihtiyaç sahipleri gözetilmelidir.
C) İnsanlara adalette muamele edilmelidir.
D) Anne baba hakkına önem verilmelidir.

6. **Aşağıdakilerden hangisi Hz. Peygamber için kullanılan “Ailesizlere aile” ifadesinin kapsamında değildir?**

- A) Mağdur insanlara yardım etmesi
B) Öksüz ve yetimlere sahip çıkması
C) Fakir ve kimsesizlerle yakından ilgilenmesi
D) İlim öğrenmeye ve öğretmeye değer vermesi

7. **Kültürümüzde “bir bilene sormak” veya “ehline sormak” gibi ifadelerin kullanılması toplumumuzda aşağıdakilerden hangisine önem verildiğini göstermektedir?**

- A) Yardımlaşmaya
B) Hoşgörüyü
C) İstişareye
D) Çalışmaya

8. **İstişare edilecek kişilerde aşağıdaki özelliklerden hangisinin bulunmaması gerekir?**

- A) Kendini üstün görmesi
B) Doğru ve güvenilir olması
C) Akıl ve tecrübe sahibi olması
D) İnsan psikolojisinden anlaması

9. **Hangisi istişarenin sonuçları arasında yer almaz?**

- A) Müminlerin uyumlu çalışmasını sağlar.
B) Asıl yapılması gereken işler birikir.
C) İnsanlar arasında muhabbet oluşturur.
D) İnsan daha paylaşımcı ve sosyal olur.

10. **Kâbe'nin onarımı sırasında çıkan bir anlaşmazlıkta “Kâbe hakemliği” gibi önemli bir sorumluluğun Hz. Peygamber'e verilmiş olması onun hangi yönünü gösterir?**

- A) Cesur bir kişi olduğunu
B) Mesleğini iyi yaptığını
C) Adaletine güven duyulduğunu
D) Akrabalarıyla iyi geçindiğini

11. “Ey insanlar! Bakın biz sizi bir erkek ve bir kadından yarattık. Sizi birbirinizi tanıyasınız diye, milletlere ve kabilelere ayırdık. Şüphesiz Allah katında şerefli ve itibarlı olanınız O'ndan en çok sakınanınızdır. Şüphesiz Allah bilendir, her şeyden haberdar olanıdır.”
(Hucurat suresi, 13. ayet)

Buna göre İslamiyet'te üstünlüğün ölçüsü aşağıdakilerden hangisidir?

- A) Irk ve milliyet
B) Soy ve zenginlik
C) Allah'a olan yakınlık
D) Kadın ya da erkek olmak

12. Kendisi hakkında Abese suresinin ilk on ayeti nazil olmuştur. Her iki gözü de görmediği halde Hz. Peygamber tarafından toplumda diğer insanlar gibi yer edinmesi teşvik edilmiştir. Öyle ki Medineli halka Kur'an öğretmek ve namaz kıldırmakla görevlendirilmiştir.

Hakkında bilgi verilen sahabe aşağıdakilerden hangisidir?

- A) Abdullah b. Ümmi Mektum
B) Hz. Bilal Habeşi
C) Zeyd b. Harise
D) Ebu Hureyre

13. “Allah Teâlâ soyunuza ve nesebinize bakmaz; bedenlerinize ve mallarınıza da bakmaz; ancak kalplerinize bakar. Kimin salih (dürüst) bir kalbi varsa, Allah ona merhamet eder. Siz ancak Âdem'in evlatlarınsınız Allah katında en sevgiliniz, en ziyade - - - sahibi olanınızdır.”

Bu hadisteki boşluğa hangisinin getirilmesi gerekmektedir?

- A) ibadet
B) takva
C) evlat
D) bilgi

14. “Eğer kalbinin yumuşamasını istiyorsan fakiri doyur, yetimin başını okşa!”
Bu hadis ile aşağıdaki özelliklerden hangisine ulaşamaz?

- A) Merhamet
B) Cömertlik
C) Sevgi
D) Cesaret

15. “Zenginlerin davet edilip fakirlerin çağrılmadığı düşün yemeği ne fena bir yemektir.”

Bu hadiste aşağıdakilerden hangisi vurgulanmaktadır?

- A) İnsanlara konumuna bakmadan değer verilmelidir.
B) Düşünde yemek vermek sünnettir.
C) Evlilik İslamiyet'te tavsiye edilmiştir.
D) Davete icabet etmek gerekir.

16. **Aşağıdakilerden hangisi istişarenin önemini belirten bir atasözüdür?**

- A) Akılsız başın cezasını ayaklar çeker.
B) Kusursuz dost arayan dostsuz kalır.
C) Akıl akıldan üstündür.
D) Dost acı günde belli olur.

17. Hz. Peygamber döneminde fakir ve kimsesizlerin büyük çoğunluğunu Ashab-ı Suffa oluşturuyordu. Bu kimseler kendilerini ilim yoluna vakfetmiş, kimsesi olmayanlardı.

Bu bilgi aşağıdakilerden hangisini göstermektedir?

- A) Hukuk karşısında eşitliği
B) Kimsesizlere yapılan yardımı
C) Kararların istişare yolu ile alındığını
D) Ailesizlerin aile kurmasına destek olunmasını

18. **Aşağıdakilerden hangisi istişarenin faydalarından biri değildir?**

- A) Zengin bir bakış açısı edinilir.
B) İnsan daha sosyal ve paylaşımcı olur.
C) Müminlerin uyumlu çalışmasını sağlar.
D) Karar büyüklerin istediği doğrultuda alınır.

19. **Aşağıdakilerden hangisi İslam'ın yetime verdiği öneme örnek olmaz?**

- A) Hz. Peygamber'in yetim olması
B) Yetime bakanın cennetle müjdelenmesi
C) Yetimlerin mallarının alınmasının yasaklanması
D) Yetime yetiştirdiği ailenin malından miras kalabilmesi

1. OTURUM

20. "Kimsesiz kadınların ve fakirlerin yardımına koşan Müslüman, Allah için namaz kılan ve gündüz oruç tutan âbid gibidir."

Bu hadiste vurgulanmak istenen ana düşünce aşağıdakilerden hangisidir?

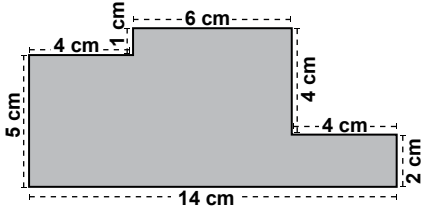
- A) İbadetlerde gösterişten uzak olunması
B) İhtiyacı olanlara yardım etmenin önemi
C) Kadın ve erkeklerin haklarının eşit olması
D) Namaz ibadetinin diğerlerinden üstünlüğü

(609) MATEMATİK – 6

1. Gerçekte 40 km'lik bir uzunluk, ölçeği $\frac{1}{200\,000}$ olan haritada kaç santimetredir?

- A) 40 B) 25 C) 20 D) 15

2.

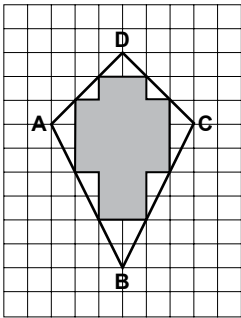


Şekilde ölçeği $\frac{1}{500}$ olan bir bahçenin planı verilmiştir.

Buna göre bu bahçenin gerçek çevresi kaç metredir?

- A) 200 B) 180 C) 150 D) 100

3.



Şekildeki ABCD dörtgeninde boyalı kısmın alanı 90 m^2 olduğuna göre ABCD dörtgeninin alanı kaç metrekaredir?

- A) 120 B) 125 C) 130 D) 135

4. Boyutları 8 cm, 10 cm ve 15 cm olan dikdörtgenler prizmasının yüzey alanı kaç santimetrekaredir?

- A) 1200 B) 1050
C) 700 D) 350

5. Bir havuzun, kenarlarının uzunlukları 6 m ve 16 m olan dikdörtgen şeklindeki tabanı, kenarlarının uzunlukları 25 cm ve 40 cm olan dikdörtgen şeklindeki fayanslarla boşluk kalmayacak şekilde kaplanacaktır.

Buna göre bu iş için en az kaç fayans gerekir?

- A) 1240 B) 960
C) 840 D) 720

6. Tabanının alanı $48\sqrt{2}\text{ cm}^2$ ve yüksekliği $6\sqrt{2}\text{ cm}$ olan silindirin hacmi kaç santimetreküptür?

- A) $432\sqrt{2}$ B) 576
C) $288\sqrt{2}$ D) 288

7. Hacmi $288\pi\text{ cm}^3$ olan bir kürenin yüzey alanı kaç π santimetrekaredir?

- A) 204 B) 184 C) 172 D) 144

8. Yarıçapının uzunluğu 10 cm olan bir küreyi içine alabilecek küpün hacmi en az kaç santimetreküptür?

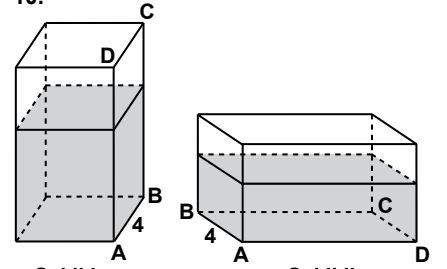
- A) 8000 B) 7200
C) 5600 D) 1000

9. Bir dikdörtgenler prizmasının x cm, y cm ve z cm olan boyutları sırasıyla 2, 3 ve 4 katına çıkarılarak bir dikdörtgenler prizması daha oluşturuluyor.

Buna göre bu iki prizmanın hacimleri oranı aşağıdakilerden hangisidir?

- A) 6 B) 9 C) 12 D) 24

10.



Şekil I

Şekil II

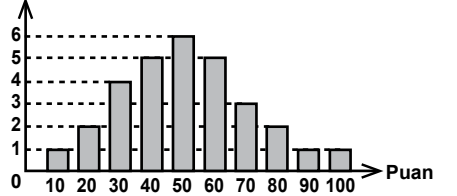
Şekil I'de içinde bir miktar su bulunan kare dik prizmada $|AB| = 4\text{ cm}$, $|BC| = 12\text{ cm}$ ve suyun yüksekliği 8 cm'dir.

Bu prizma, tabanı ABCD yüzü olacak biçimde Şekil II'deki konuma getirildiğinde suyun yüksekliği kaç santimetre olur?

- A) $\frac{8}{5}$ B) 2 C) $\frac{8}{3}$ D) 4

11.

Öğrenci Sayısı



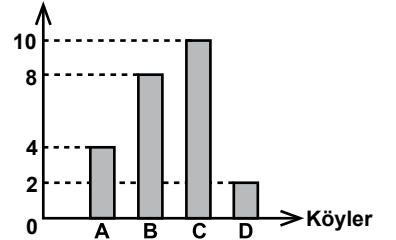
Yukarıdaki grafikte bir sınıfta matematik sınavından alınan puanların öğrenci sayısına göre dağılımı verilmiştir.

Buna göre sınıftaki öğrencilerin bu sınavdan aldıkları puanların ortalaması kaçtır?

- A) 51 B) 49 C) 47 D) 43

12.

Ürün Çeşit Sayısı



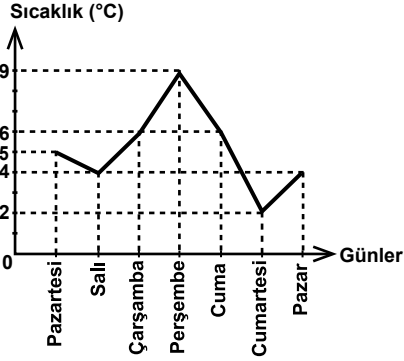
Yukarıdaki sütun grafiğinde dört köyde yetiştirilen ürün çeşitlerinin sayısının köylere göre dağılımı verilmiştir.

Buna göre bu veriler daire grafiği ile gösterildiğinde B köyünde yetiştirilen ürün çeşitlerinin sayısını veren daire diliminin merkez açısının ölçüsü kaç derece olur?

- A) 150 B) 120 C) 60 D) 30

1. OTURUM

13.

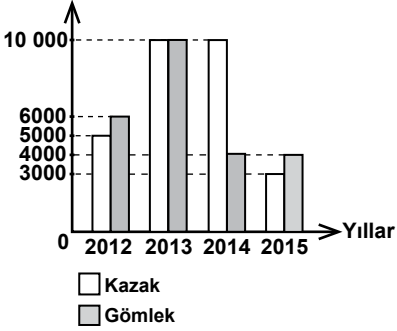


Şekildeki grafik bir kasabadaki bir haftalık sıcaklık değişimini göstermektedir.

Grafiğe göre aşağıdaki hangi günler arasında sıcaklık değişimi en fazladır?

- A) Salı - Çarşamba
B) Çarşamba - Perşembe
C) Perşembe - Cuma
D) Cuma - Cumartesi

14. Kazak ve Gömlek Sayıları



Yukarıdaki grafikte bir tekstil fabrikasında dört yılda üretilen gömlek ve kazak sayılarının yıllara göre dağılımı verilmiştir.

Buna göre dört yıl boyunca üretilen toplam kazak sayısı toplam gömlek sayısından kaç fazladır?

- A) 3000
B) 4000
C) 5000
D) 6000

15. 3 farklı pantolon, 4 farklı gömlek ve 5 farklı ayakkabısı olan bir kişi 1 pantolon, 1 gömlek ve 1 ayakkabıyı kaç farklı şekilde giyebilir?

- A) 14
B) 29
C) 48
D) 60

16. Bir madeni paranın 4 kez havaya atılması deneyinde örnek uzayın eleman sayısı kaç olur?

- A) 16
B) 8
C) 4
D) 2

17. Bir fırında üretilen ekmeklerden 21 tanesi tam gramaja, 7 tanesi eksik gramaja sahiptir.

Buna göre bu ekmeklerden rastgele 1 tane alan bir kişinin tam gramaja sahip ekmek alma olasılığı kaçtır?

- A) $\frac{21}{100}$
B) $\frac{1}{4}$
C) $\frac{3}{10}$
D) $\frac{3}{4}$

18. Bir kız, dört erkek öğrenci arasından rastgele seçilen 2 kişinin erkek olma olasılığı kaçtır?

- A) $\frac{1}{5}$
B) $\frac{2}{5}$
C) $\frac{3}{5}$
D) $\frac{4}{5}$

19. $A = \{a, b, c, d, e\}$ kümesinin alt kümelerinden rastgele seçilen 3 elemanlı bir kümenin a elemanına sahip olma olasılığı kaçtır?

- A) $\frac{1}{4}$
B) $\frac{3}{16}$
C) $\frac{1}{8}$
D) $\frac{1}{16}$

20. 3 kız, 3 erkek yan yana sıralandığında aynı cinsiyetten 2 kişinin yan yana gelmemesi olasılığı kaçtır?

- A) $\frac{3}{10}$
B) $\frac{1}{5}$
C) $\frac{1}{10}$
D) $\frac{1}{20}$

(611) KARŞ. DİN. TAR. – 1

1. Aşağıdakilerden hangisi dinleri öğrenmenin insana kazandırdıklarından biri değildir?

- A) Kültür sahibi olmak
B) Din hizmetlerini verimli hâle getirmek
C) Dinin özünde olmayanları dinden ayırt edebilmek
D) Gelecekte ortaya çıkacak dinler hakkında bilgi sahibi olmak

2. Aşağıdakilerden hangisi "din" kelimesinin Kuran-ı Kerim'de kullanılan anlamlarından biridir?

- A) Kanun-Hüküm
B) Ebet-Ezel
C) Hayır-Şer
D) İhsan-Lütuf

3. Aşağıdakilerden hangisi mitosların özelliklerinden biridir?

- A) Özünü tevhit inancı oluşturur.
B) Tanrı müşahhas bir şekilde tasavvur edilir.
C) Nübüvvet ve ahiret inancı esaslı üzerine kuruludur.
D) İnsanlar arası hukuki bir düzen oluşturmayı hedefler.

4. Ahiret inancı, insana aşağıdaki değerlerden hangisini kazandırmayı daha çok hedeflemektedir?

- A) Sorumluluk
B) Cömertlik
C) Sadakat
D) Hoşgörü

5. Aşağıdakilerden hangisi Yahudilik ile ilgili bir kavramdır?

- A) Nirvana
B) Günah itirafı
C) Seçilmişlik
D) Vaftiz

6. Aşağıdakilerden hangisi "On Emir" arasında yer almaz?

- A) Babana ve annene hürmet edeceksin.
B) Komşuna karşı yalan şahitlik yapmayacaksın.
C) Tanrı'nın adını boş yere ağzına almayacaksın.
D) Pazar gününü daima hatırlayıp onu kutsal bileceksin.

7. Aşağıdakilerden hangisi İslamiyet'ten önceki dinlerden biri değildir?

- A) Manihaizm
B) Mecusilik
C) Sabilik
D) Sihizm

8. Hz. İsa döneminde, Filistin hangi devletin hâkimiyeti altındaydı?

- A) Mısır
B) İran
C) Roma
D) Habeşistan

9. Çeşitli İncillerden dört tanesinin seçilerek sahih kabul edildiği konsul hangisidir?

- A) Efes
B) İznik
C) Kadıköy
D) İstanbul

10. Aşağıdakilerden hangisi Katolik mezhebine ait bir özelliktir?

- A) Dini başkan papadır.
B) Boşanmak serbesttir.
C) Noel 6 Ocak'ta kutlanır.
D) Sakramentlerden ikisi kabul edilir.

11. Hristiyanların, Hz. İsa'nın havarilerle yediği son akşam yemeğinin hatırasına düzenledikleri ayin hangisidir?

- A) Kuvvetlendirme (Konfirmasyon)
B) Evharistiya (Komünyon)
C) Günah itirafı (Tövbe)
D) Vaftiz

1. OTURUM

12. Katolik ve Ortodoks Hristiyanlar Hz. Meryem'in nerede öldüğünü kabul ederler?

- A) Roma B) Kudüs
C) Efes D) Hatay

13. İslam'a göre bütün peygamberler birer İslam peygamberi, onlara vahyolunan bütün ilahî mesajlar da insanlara dini öğreten ilahi buyruklardır.

Bu cümleden aşağıdakilerden (sonuçlardan) hangisi çıkarılamaz?

- A) Allah tüm peygamberlere vahyetmiştir.
B) Peygamberler aynı amaç için gönderilmişlerdir.
C) Peygamberler insanlar için birer öğretmendirler.
D) Peygamberler akıllı ve güvenilir insanlardır.

14. Yahudiler Müslümanları aşağıdaki grupların hangisinden kabul ederler?

- A) Putperest B) Müşrik
C) Nuhi D) İsevî

15. Aşağıdakilerden hangisi İslam'ın temel özelliklerinden biri değildir?

- A) Tevhit inancına dayanır.
B) Ruhban sınıfına değer verilir.
C) Tüm insanlara gönderilmiştir.
D) İnsanların günahsız doğduğu kabul edilir.

16. Hinduizm'de kast dışı kabul edilen ve toplumda hiçbir görevi ve hakkı bulunmayan kişilere ne denir?

- A) Paryalar B) Sudralar
C) Vaisyalar D) Brahmanlar

17. • Belli bir kurucusu yoktur.
• "Om" kelimesi ibadetin sembolüdür.
• Ölümler yakılarak külleri Ganj nehrine dökülür.
• Ruhun ölümsüz olduğu ve bedenden bedene göç ettiği kabul edilir.

Hakkında bilgi verilen din aşağıdakilerden hangisidir?

- A) Sihizm B) Şintoizm
C) Hinduizm D) Konfüçyanizm

18. "Buda"nın asıl adı nedir?

- A) Siddharta B) Kung Fu-Tzu
C) Nanak D) Parsva

19. Sihizm hangi bölgede ortaya çıkmış bir dindir?

- A) İran B) Japonya
C) Çin D) Hindistan

20.

I. Şintoizm	• Çin'in resmi devlet dinidir.
II. Konfüçyanizm	• Yüce tanrı Ahura Mazda'ya ibadet önemlidir.
III. Zerdüştlük	• Kurtuluş "sekiz dilimli yol"a uymakla mümkündür.
IV. Budizm	

Tablodaki dinler ve bilgiler eşleştirildiğinde hangi din dışarıda kalır?

- A) I. B) II. C) III. D) IV.

(617) SEÇ. DİL VE ANLA. – 7

1. Aşağıdaki cümlelerin hangisinde sanatsal metinlerle öğretici metinlerin karşılaştırmasında yanlışlık yapılmıştır?

- A) Sanatsal metinlerde amaç okuyucuya estetik zevk vermektir, öğretici metinlerde bilgi verme amacı vardır.
B) Sanatsal metinlerde gerçekler dile getirilir, öğretici metinlerde gerçeklerin yanı sıra kurmaca olaylar da anlatılır.
C) Sanatsal metinlerde dil sanatlıdır ve üslup kaygısı vardır, öğretici metinlerde açık ve sade bir dil kullanılır.
D) Sanatsal metinlerde dil şiirsel işlevde kullanılırken öğretici metinlerde genel olarak göndergesel işlevde kullanılır.

2. "Üç birlik" terimi aşağıdaki türlerin hangisine aittir?

- A) Romana B) Fabla
C) Tiyatroya D) Masala

3. • Duygu, düşünce ve hayallerin ölçülü ve uyaklı dizeler hâlinde örülmüş biçimlidir.
• Şiiri oluşturan dörder, beşer, altışar ve daha fazla dizelik kümelere verilen isimdir.
• Şiirdeki temel duygu ve düşüncedir.

Bu cümlelerde aşağıdaki kavramlardan hangisinin karşılığı verilmemiştir?

- A) Nazım biçimi B) Nazım
C) Tema D) Bent

4. Türk edebiyatında ilk yerli roman - - - - tarafından kaleme alınan - - - -.

Bu cümlede boş bırakılan yerlere sırasıyla aşağıdakilerden hangileri getirilmelidir?

- A) Namık Kemal – İntibah'tır
B) Şemsettin Sami – Taaşuk-ı Talat ve Fitnat'tır
C) Ahmet Mithat Efendi – Felatun Bey'le Rakım Efendi'dir
D) Recaizade Mahmut Ekrem – Araba Sevdası'dır

5. Aşağıdakilerden hangisi anlatmaya bağlı metinlerin yapısını oluşturan öğelerden değildir?

- A) Olay örgüsü B) Mekân
C) Zaman D) Yazar

6. Batı'da ilk fabl yazarı olarak kabul edilen sanatçı aşağıdakilerden hangisidir?

- A) Aisopos(Ezop)
B) La Fontaine
C) Andersen
D) Beydaba

7. Kuruluşlarındaki özellikle öteki masal türlerinden ayrılır. Küçük, önemsiz olayların birbiri ardına bağlanmasıyla oluşturulmuştur. Bağlantı ögesinin sayısı ölçüsünde masal uzar gider. (Keloğlan, Sırça Köşk...)

Bu parçada hakkında bilgi verilen masal türü aşağıdakilerin hangisidir?

- A) Hayvan masalları
B) Asıl masallar
C) Zincirlemeli masallar
D) Güldürücü hikâyeler, nükteli fıkralar ve yalanlamalar

8. Aşağıdakilerden hangisi Batı edebiyatında ünlü bir masal yazarıdır?

- A) Stendhal B) Shakespeare
C) Çehov D) Andersen

9. Aşağıdakilerden hangisi Türk kaynaklı halk hikâyelerindendir?

- A) Leyla ile Mecnun
B) Dede Korkut Hikâyeleri
C) Ferhat ile Şirîn
D) Yusuf ile Züleyha

1. OTURUM

10. Aşağıdakilerden hangisi olay öyküsünün özelliklerinden değildir?

- A) Bu tür öykülerde olaylar zinciri kişi, zaman, mekân ögesine bağlıdır.
- B) Olay, zamana göre mantıklı bir sıralama ile verilir.
- C) Olay, mekân, kişi ilişkisi okuyucuda gerçeklik duygusu uyandırır.
- D) Rastlantılara yer verilir ve öyküler beklenen bir sonla biter.

11. Akla karşı duyguyu, seçkin sınıfa karşı halkı, süslülüğe karşı doğallığı, kurallara karşı kuralsızlığı işleyen romanlardır. Namık Kemal'in "İntibah" adlı romanı bu roman türüne uygun bir örnektir.

Bu parçada tanıtılan roman türü aşağıdakilerden hangisidir?

- A) Romantik roman
- B) Klasik roman
- C) Realist roman
- D) Natüralist roman

12. Aşağıdakilerin hangisinde ilahi (hâkim) bakış açısı kullanılmıştır?

- A) Ben de onların arasındaydım ve onların arasında büyüğüm de yoktu. Yalnız bende meçhul bir hastalık vardı, sekiz yaşımdan beri çekiyordum.
- B) Arkamda açık duran balkon kapısından hafif bir rüzgâr giriyor, salona ıhlamur ve gül kokusu getiriyordu. Odaya ışık girinceye kadar gözlerimi hafifçe kapadım, bu köşke ait hatıralarımın uyanışına kendimi bıraktım.
- C) Hasta çocukların yanlarında ailelerinden birer büyük insan bulunuyor ve bu insanlar hastalarından daha endişeli görünüyorlar. Bir anne, pelerini ilikleme bahanesiyle omzu sarılı çocuğunun sırtını okşuyor. Onu biraz sonra çekeceği acıya hazırlamak için.
- D) Bir ağaç altına oturdum ve hasta dizimin zaviyesini her vakitki itina ile ayarlayarak bacağıma uzattım. Bu zavallı uzvumun talihine ait hiçbir şey düşünmek istemiyordum.

13. Dünya edebiyatında öykü türünün ilk örneğini veren sanatçı ve eseri aşağıdakilerden hangisidir?

- A) Boccacio – Decameron
- B) Çehov – Vişne Bahçesi
- C) Maupassant – Ay Işığı
- D) Puşkin – Maça Kızı

14. Aşağıdakilerden hangisi tarihi romana örnektir?

- A) Eylül
- B) Küçük Ağa
- C) Robinson Crusoe
- D) Sefiller

15. I. Mehmet Rauf'un Eylül adlı romanı edebiyatımızın ilk başarılı psikolojik romanı kabul edilir.

II. Halide Edip, Yakup Kadri, Reşat Nuri Tanzimat Dönemi romancılarındandır.

III. Servetfünun romanları teknik bakımdan Tanzimat romanları kadar başarılı değildir.

IV. Edebiyatımızda romanda 1950'den sonra "köy edebiyatı" denen bir anlayış gelişmiştir.

Numaralanmış cümlelerin hangilerinde roman türüyle ilgili bilgi yanlışlığı yapılmıştır?

- A) I ve II.
- B) I ve IV.
- C) II ve III.
- D) III ve IV.

16. • Yüksek ve soylu bir üslup kaygısı görülür.

• Kişiler çoğunlukla halktan insanlardır.

• Konular çağdaş toplumdan ve günlük hayattan alınır.

"Komedy" türü ile ilgili verilen cümleler doğru-yanlış olarak değerlendirildiğinde sıralama aşağıdakilerden hangisi olur?

- A) Y – D – D
- B) D – D – Y
- C) Y – Y – D
- D) D – Y – Y

17. Beş altı dakikaya sığdırılan tablolar hâlinde kısa, müzikli oyunlara - - - - denir.

Bu cümlede boş bırakılan yere aşağıdakilerin hangisi getirilmelidir?

- A) operet
- B) opera
- C) revü
- D) skeç

18. Aşağıdakilerden hangisi Karagöz oyunundaki tiplerden biri değildir?

- A) Zenne
- B) Çelebi
- C) Kavuklu
- D) Tuzsuz Deli Bekir

19. Sahici mi elinde tuttuğun o kartal kanadı

Sen tutun acıdan benim ellerim kanadı

Bu dizelerde altı çizili sözcüklerin kullanımıyla oluşan edebî sanat aşağıdakilerden hangisidir?

- A) Kişileştirme
- B) Cinas
- C) Benzetme
- D) Mecazımüsel

20. Aşağıdaki nazım şekillerinden hangisi Batı edebiyatından alınmıştır?

- A) Sone
- B) Murabba
- C) İlahi
- D) Müstezat

(618) SEÇ. DİL VE ANLA. – 8

1. Makalede temel öge - - - - .

Bu cümlede boş bırakılan yere aşağıdakilerden hangisi getirilmelidir?

- A) estetikdir
- B) düşüncedir
- C) sanattır
- D) hayaldir

2. Münazaranın başarıya ulaşması için tartışmacının aşağıdakilerden hangisini yapması doğru olmaz?

- A) Süslü söyleyişlere değil, sağlam fikirlere önem vermelidir.
- B) Tartışma konusu dışına çıkmamalıdır.
- C) Düşüncelerini açık ve anlaşılır bir şekilde söylemelidir.
- D) Münazarayı kişisel üstünlük meselesi olarak düşünmelidir.

3. • Konu hakkında aynı oturumda çeşitli kişilerin yaptıkları konuşmalardır.

• Özel olarak belirlenen davetliler, dinleyici olarak bulunur.

• Alınan kararlar bilimsel değer taşır.

Bu özellikler aşağıdaki tartışma türlerinden hangisine aittir?

- A) Sempozyuma
- B) Konferansa
- C) Foruma
- D) Münazaraya

4. Konferans, sunuş tekniği bakımından aşağıdaki türlerin hangisiyle benzerlik gösterir?

- A) Mülakat
- B) Açık oturum
- C) Sempozyum
- D) Söylev

1. OTURUM

5. Dil ve anlatım dersinde Aysun Öğretmen, öğrencilerin iki gruba ayrılarak düşüncelerini jüri önünde savunmalarını istemiştir. Tartışmanın sonunda galip tarafın jüri tarafından ilan edileceğini belirtmiştir.

Aysun Öğretmen öğrencilerden fikirlerini hangi tartışma türüyle açıklamalarını istemiştir?

- A) Forum B) Konferans
C) Münazara D) Sempozyum

6. Aşağıdakilerden hangisi Cumhuriyet'in ilk yıllarında yazdığı makalelerle dikkat çeken yazarlardan biridir?

- A) Tevfik Fikret
B) Namık Kemal
C) Falih Rıfkı Atay
D) Recaizade Mahmut Ekrem

7. Bilimsel yazıların - - - bölümünde metnin tamamında anlatılanların küçültülerek bir paragraf hâline getirilmiş biçimi yer alır.

Bu cümlede boş bırakılan yere aşağıdakilerden hangisi getirilmiştir?

- A) özet B) başlık
C) asıl metin D) giriş

8. • Amaç düşüncelerin karşı tarafa zorla benimsetilmeye çalışılmasıdır.
• En çok kullanılan tekniklerden biri de demagojidir.
• Öğrencilerin konuşma yeteneklerinin gelişmesine katkıda bulunur.
"Münazara" ile ilgili verilen cümleler doğru-yanlış bakımından değerlendirildiğinde sıralama aşağıdakilerin hangisi olur?

- A) D – Y – Y B) Y – Y – D
C) Y – D – D D) D – Y – D

9. Aşağıdakilerden hangisi sempozyum başkanının görevlerinden değildir?

- A) Oturumun başarı ve etkinliğinden sorumludur.
B) Konuşmacıların salonda hazır bulunmalarını sağlar.
C) Tartışmayı kazanan tarafı konuşmaların sonunda ilan eder.
D) Konuşmaların başında konuyla ilgili kısa bir giriş yapar.

10. I. Konuşmacılara sorulacak sorular
II. Açık oturumun yapılaş nedeni
III. Açık oturumu sonuca bağlamak
IV. Açık oturumun konusu ile ilgili olayın ya da gelişmelerin anlatımı
V. Konuşmaları özetlemek

Numaralanmış cümlelerle açık oturum planı oluşturulursa doğru sıralama aşağıdakilerin hangisi olur?

- A) II – V – III – IV – I
B) II – IV – I – V – III
C) III – V – II – IV – I
D) IV – II – I – III – V

11. Bir başkan yönetiminde, toplumu ilgilendiren bir konuda, farklı gruplardan oluşan dinleyicilerin söz sırası olarak konuşma kuralları içerisinde yaptıkları tartışmalara - - - - denir.

Bu cümlede boş bırakılan yere aşağıdakilerden hangisi getirilmiştir?

- A) konferans B) forum
C) açık oturum D) münazara

12. Aşağıdakilerden hangisi münazaraların değerlendirilmesinde göz önünde bulundurulmuş esaslardan değildir?

- A) Konuşmacıların siyasi düşüncelerinin hangi yönde olduğu
B) Tartışmacıların beden dilini doğru bir şekilde kullanıp kullanmadıkları
C) Konuşmacıların savunmalarında inandırıcı olup olmadıkları
D) Konuşmacıların konuyu açma, genişletme, örnekleme yetenekleri

13. Aşağıdakilerin hangisinde "dipnot" teriminin tanımı doğru yapılmıştır?

- A) Belli bir konu, yer veya dönemle ilgili yayınları kapsayan veya en iyilerini seçen eser.
B) Bir konu hakkındaki bilgilerin toplanması, analiz edilmesi, saklanması ve duyurulması.
C) Sayfa içinde geçen herhangi bir düşünce veya bilgi ile ilgili olarak sayfa altına konan açıklama.
D) Bir kitabın veya derginin kişi, konu, yer adı vb. bakımından içindekileri yer numarasıyla belirten alfabetik liste.

14. I. Tespit edilen kaynaklar önem sırasına göre dizilir ve incelenir.
II. Konu ile ilgili kaynaklar tespit edilir.
III. Kaynaklar incelenip fişlendikten sonra mantık sırasına göre sıralanır.

Numaralanmış cümlelerle bilimsel yazıların ön hazırlık çalışması oluşturulursa doğru sıralama aşağıdakilerin hangisi olur?

- A) I – III – II B) II – I – III
C) II – III – I D) III – I – II

15. Aşağıdakilerden hangisi tartışmalarda dinleyicilerin uyması gereken kurallardan biri değildir?

- A) Konuşmacıyı dikkat ve saygıyla dinlemek
B) Konuşma sırasında gerekli notları almak
C) Konuşmayı tarafsız olarak değerlendirebilmek
D) Konuşmaların akışının bozulmaması için soru sormaktan kaçınmak

16. I. Açık ve anlaşılır bir dil kullanılmamalıdır.
II. Her bir sunumun süresi bir saatten az olmamalıdır.
III. Bildiri metni yayımlanmaya uygun şekilde hazırlanmalıdır.
IV. Hazırlanacak bildiri metni sekiz sayfadan az olmamalıdır.

Numaralanmış cümlelerin hangilerinde "sempozyum"la ilgili bilgi yanlışı vardır?

- A) I ve II. B) I ve III.
C) II ve III. D) II ve IV.

17. Açık oturumda konuşmacı sayısının - - - - geçmemesi tercih edilir.

Bu cümlede boş bırakılan yere aşağıdakilerden hangisi getirilmiştir?

- A) üçü B) altıyı
C) sekizi D) onu

18. Bir konferansın etkili olması için konuşmacının aşağıdakilerden hangisini yapması uygun olur?

- A) Ses tonunu sık sık yükseltmelidir.
B) Konuşmasını notlarını okuyarak yapmalıdır.
C) Görsellere yer vermemeli, sadece sözlü anlatım kullanılmalıdır.
D) El ve vücut hareketlerini yerinde kullanmalıdır.

1. OTURUM

19. Aşağıdakilerden hangisi bilimsel yazı olarak değerlendirilemez?

- A) Makaleler
- B) Hikâye metinleri
- C) Konferans raporları
- D) Tarama değerlendirme yazıları

20. Makalenin ortaya çıkışında aşağıdakilerin hangisi etkili olmuştur?

- A) İnternet
- B) Radyo
- C) Televizyon
- D) Gazete ve dergiler

(624) SEÇ. TÜRK ED. – 4

1. Destan; Kırgızların geleneklerini, ahlak ve aile hayatlarını, dünya görüşlerini anlatması açısından önem taşımaktadır. Genellikle 7'li ve 8'li hece ölçüsüyle söylenen bu destanda yarım uyaklar ve mısra başlarında görülen aliterasyonlar vardır.

Bu parçada hakkında bilgi verilen destan aşağıdakilerin hangisidir?

- A) Edige Destanı
- B) Danişmendname
- C) Manas Destanı
- D) Cengiz Destanı

2. Aşağıdakilerden hangisi İslami Dönem Türk Edebiyatı'nın ilk ürünlerinden biri değildir?

- A) Kutadgu Bilig
- B) İskendername
- C) Atabet'ül-Hakayık
- D) Divanü Lügat'it Türk

3. I. Hakaniye lehçesi ile kaleme alınmıştır.
II. Hece ölçüsü kullanılmıştır.
III. Bir öğüt kitabıdır.
IV. Kaşgarlı Mahmut tarafından yazılmıştır.

Kutadgu Bilig ile ilgili numaralanmış bilgilerden hangileri yanlıştır?

- A) I ve III.
- B) I ve IV.
- C) II ve III.
- D) II ve IV.

4. - - - -, Türkçenin ilk sözlük ve dil bilgisi kitabıdır. Eserin içinde sözlü edebiyattan alınmış şiir örnekleri, Türkçe deyimler ve atasözleri vardır.

Bu parçada boş bırakılan yere aşağıdakilerden hangisi getirilmelidir?

- A) Atabet'ül-Hakayık
- B) Kutadgu Bilig
- C) Divanü Lügat'it Türk
- D) Divan-ı Hikmet

5. I. Divan-ı Hikmet dörtlüklerle ve hece ölçüsüyle yazılmıştır.

II. Dede Korkut Kitabı'nın yazarı Dede Korkut'tur.

III. Battalname'de Battal Gazi'nin İslamiyet uğruna Bizanslılarla yaptığı mücadeleler anlatılmaktadır.

Numaralanmış cümlelerde verilen bilgiler doğru - yanlış olarak değerlendirildiğinde sıralama aşağıdakilerden hangisi olur?

- A) D – Y – D
- B) D – D – Y
- C) Y – Y – D
- D) Y – D – D

6. Aşağıdaki eser – sanatçı eşleştirmelerinden hangisi yanlıştır?

- A) Çarhname – Baki
- B) Hüsn ü Aşk – Şeyh Galip
- C) Hayriyye – Nabi
- D) Mevlid – Süleyman Çelebi

7. Yaşam felsefesi ile bütün dünyaya sevgiyi, hoşgörüyü, iyiliği, güzelliği yansıtmış ve yol göstermiş bir Türk-İslam mutasavvıfı ve şairidir. "Mesnevi" adlı eseri tasavvufi, felsefi ve ahlaki bir eserdir.

Bu parçada kısaca tanıtılan sanatçı aşağıdakilerden hangisidir?

- A) Yunus Emre
- B) Hacı Bektaş-i Veli
- C) Mevlâna Celaleddin-i Rumi
- D) Kaygusuz Abdal

8. Divan edebiyatı ile ilgili aşağıdakilerin hangisinde yanlış bir bilgi vardır?

- A) Divan şiirinin temel ölçüsü aruzdur.
- B) Din dışı ve dinî-tasavvufi olmak üzere iki kolda gelişmiştir.
- C) En çok kullanılan uyak türleri tam ve zengin uyaktır.
- D) Beyitler konu bakımından birbirine bağlıdır.

9. Aşağıdakilerin hangisi bir gazelinmakta beytidir?

- A) Acep bu derdümün dermanı yok mı
Ya bu sabr itmegün oranı yok mı
- B) Yanaram mumlayın başdan ayağa
Nedür bu yanmanın pâyânı yok mı
- C) Güler düşmen benüm agladuguma
Acep şol kâfirin imânı yok mı
- D) Begüm Dehhânî'ye ölmezdin
öndin
Tapuna irmegün imkânı yok mı

10. • Divan şiirinde gazelden sonra en çok kullanılan nazım şeklidir.
• Beyit sayısı 33-99 arasında değişir.
• Bir kişiyi, yeri öven ya da yeren şiirlerdir.

Bu özellikler aşağıdaki türlerin hangisine aittir?

- A) Mesneviye
- B) Kasideye
- C) Terkihibente
- D) Terciibente

11. Lale Devri'nde yaşayan ve şarkılarıyla ün yapmış divan sanatçısı aşağıdakilerden hangisidir?

- A) Nedim
- B) Nabi
- C) Baki
- D) Fuzuli

12. I. Yazılı olarak gelişen bir edebiyattır.
II. Halkın konuşma diliyle ürünler verilmiştir.
III. Hece ölçüsü temel ölçüdür.
IV. Beyit nazım birimi kullanılmıştır.

Bu özelliklerden hangileri anonim halk şiiri için doğru değildir?

- A) I ve II.
- B) I ve IV.
- C) II ve III.
- D) III ve IV.

13. Belimizde kılıcımız kirmâni
Taşı deler mızrağımın temreni
Hakkımızda devlet eylemiş fermanı
Ferman padişahın dağlar bizimdir
Bu dörtlüğün konusuna göre türü aşağıdakilerden hangisidir?

- A) Taşlama
- B) Güzelleme
- C) Koçaklama
- D) Ağıt

14. - - - -, Türklere özgü bir nazım şeklidir. İlk söyleyeni unutulmuş bu nazım şeklinin en önemli özelliği ezgisidir. Bu nazım şeklinde aşk, ölüm, gurbet, ayrılık gibi bireysel; kıtlık, deprem, savaş gibi toplumsal konular işlenir.

Bu parçada boş bırakılan yere aşağıdakilerden hangisi getirilmelidir?

- A) Gazel
- B) Türkü
- C) Kaside
- D) Varsağı

1. OTURUM

15. Aşağıdakilerden hangisi tasavvuf edebiyatının önde gelen temsilcilerinden biri değildir?

- A) Mevlâna
- B) Yunus Emre
- C) Pir Sultan Abdal
- D) Karacaoğlan

16. Aşağıdakilerin hangisinde dinî-tasavvufî Türk şiiri nazım türleri bir arada verilmiştir?

- A) Koşma – nutuk – türkü – devriye
- B) Devriye – ilahi – şathiye – nefes
- C) Nutuk – rubai – şathiye – mâni
- D) Nefes – murabba – devriye – şathiye

17. Aşağıdakilerden hangisi kahramanlık konulu halk hikâyelerindendir?

- A) Kırmanşah
- B) Kerem ile Aslı
- C) Âşık Garip
- D) Tahir ile Zühre

18. Karagöz oyununa eskiden - - - - , - - - - , - - - - gibi adlar verilir.

Bu cümlede boş bırakılan yerlere aşağıdakilerden hangisi getirilemez?

- A) hayalbaz
- B) hayal-i zill
- C) zıll-ı hayal
- D) hayal-i sitare

19. Türkçe ilk şüara tezkiresini yazan kişi aşağıdakilerden hangisidir?

- A) İbnülemin Mahmut İnal
- B) Ali Şir Nevai
- C) Esrar Dede
- D) Latîfi

20. Aşağıdaki eserlerden hangisi Kâtip Çelebi'ye ait değildir?

- A) Cihannüma
- B) Fezleke
- C) Keşf'uz Zünun
- D) Dilgüşa

(627) SEÇ. TÜRK ED. – 7

1. Aşağıdaki sanatçılardan hangisi Beş Hececiler'den biridir?

- A) Melih Cevdet Anday
- B) Sabri Esat Siyavuşgil
- C) Kenan Hulusi Koray
- D) Yusuf Ziya Ortaç

2. "Anadolucu" ya da "memleketçi" edebiyat 1930'lara değin egemenliğini sürdürdü. Bu şiire ilk tepki, çıkardıkları ortak kitabın adından ötürü edebiyat tarihine - - - - adıyla geçen topluluktan geldi.

Bu parçada boş bırakılan yere aşağıdakilerin hangisi getirilmelidir?

- A) Yedi Meşaleciler
- B) Garipçiler
- C) II. Yeniciler
- D) Maviciler

3. • Cumhuriyet sonrası Türk şiirinde gerçek yeniliği başlatan kişi oldu.
• Şiirden ölçü, uyak gibi bağları atan bir akımın başlatıcısı kabul edildi.

Bu özellikler aşağıdaki sanatçılardan hangisine aittir?

- A) Faruk Nafiz Çamlıbel'e
- B) Necip Fazıl Kısakürek'e
- C) Nazım Hikmet'e
- D) Cahit Sıtkı Tarancı'ya

4. Aşağıdakilerin hangisinde bilgi yanlış vardır?

- A) Asaf Halet Çelebi sade ve açık şiire karşı şiirlerinde Doğu mistisizmi ile tasavvufu birleştirmiştir.
- B) Cahit Külebi, çok derinden sevgi duyduğu Anadolu'yu, aşk, hasret ve üzüntülerini anlatan lirik şiirler yazdı.
- C) Oktay Rifat şiirlerinde toplumsal sorunları tüm boyutlarıyla irdelemiş, ahenk öğelerine sıkı sıkıya bağlı kalmıştır.
- D) İçe dönük bir kişiliğe sahip olan Behçet Necatigil büyük şehirde kaybolmuş insanın karmaşık ruh dünyasını şiirlerine yansıtmıştır.

5. I. Atıf Behramoğlu, İsmet Özel, Refik Durbaş, Süreyya Berfe en önemli temsilcileridir.
II. Şiirde toplumsal mesaj verme kaygısı vardır.
III. Anlamda kapalılığı önemsemişlerdir.
IV. İmgenin yoğun olarak kullanıldığı bir şiir evreni oluşturmuşlardır.

Numaralanmış özelliklerden hangileri II. Yeni için söylenemez?

- A) I ve II.
- B) I ve III.
- C) II ve III.
- D) II ve IV.

6. Aşağıdakilerden hangisi Cumhuriyet Dönemi şairlerinden biri değildir?

- A) Fazıl Hüsnü Dağlarca
- B) Muallim Naci
- C) Turgut Uyar
- D) Necati Cumalı

7. Sanatçı, "Çalılıkusu" romanıyla ün kazanmıştır. Eserlerinde Anadolu kasaba ve şehirlerini fon olarak kullanmış, insanları sorunlarıyla işlemiştir.

Bu parçada kısaca tanıtilen sanatçı aşağıdakilerden hangisidir?

- A) Refik Halit Karay
- B) Reşat Nuri Güntekin
- C) Halide Edip Adıvar
- D) Yakup Kadri Karaosmanoğlu

8. Aşağıdakilerden hangisi günümüz romancılarından biri değildir?

- A) Selim İleri
- B) Murathan Mungan
- C) Enis Batur
- D) Halide Edip Adıvar

9. Aşağıdaki eserlerden hangisi farklı bir sanatçıya aittir?

- A) Aynaroz Kadısı
- B) İstanbul Efendisi
- C) Balıkesir Muhasebecisi
- D) Bir Kavuk Devrildi

10. Aşağıdaki eser-sanatçı eşleştirmelerinden hangisi yanlıştır?

- A) Çatıdaki Çatlak – Adalet Ağaoğlu
- B) Kral Üşümesi – Sabahattin Kudret Aksal
- C) İspinozlar – Orhan Kemal
- D) Cengiz Han'ın Bisikleti – Cevat Fehmi Başkut

11. 20. yüzyılın son yirmi yılında yazdığı yirmiden fazla oyunla kişilere yeni bakış açıları kazandırmaya, vicdanları doğrulara açmaya çalışmıştır. Oyunlarının renkli dünyasında sanatçılar, aydın geçinenler, bilim adamları, garsonlar, gezginler, astronotlar, satıcılar yer alır. Başlıca oyunları: Cumhuriyet Kızı, Yangın Yerde Orkideler, Maskeli Süvari, Çin Kelebeği...

Bu parçada hakkında bilgi verilen sanatçı aşağıdakilerden hangisidir?

- A) Memet Baydur
- B) Turan Ofazoğlu
- C) Murathan Mungan
- D) Aziz Nesin

1. OTURUM

12. Deneme ile ilgili aşağıdakilerden hangisi yanlıştır?

- A) Konu sınırlandırması yoktur.
- B) Oldukça uzun, derinlemesine yazılardır.
- C) Yazar, düşüncelerini samimi bir dille kaleme alır.
- D) Kesin sonuçlara erme, düşünce ispatlama gibi kaygılar yoktur.

13. Bir görüşü savunmak, bir düşünceyi kanıtlamak veya bilgi vermek amacıyla yazılan yazılara - - - - denir.

Bu cümlede boş bırakılan yere aşağıdakilerden hangisi getirilmelidir?

- A) deneme
- B) sohbet
- C) fıkra
- D) makale

14. Bir saat sonra Gürgenpınarı'na vardık. Burası yarı yol. İsmi gibi kendi de güzel bir köy; hülyalı bir yer, keyifli keyifli ağaçlar ve kıyıya bağlanmış iki üç yüz tonluk bir sürü gemi... Her birindeki çifte direklerin hep bir araya gelişi, hava içine, budanmış bir orman parçasının iz düşümünü çizmiş. Gemilerin sudaki akisleri yüzünden gövdeleri bir kat daha büyümüş görünüyor.

Bu metin aşağıdakilerin hangisinden alınmıştır?

- A) Fıkradan
- B) Gezi yazısından
- C) Makaleden
- D) Biyografiden

15. Edebiyatımızda - - - - türünün ilk örneklerinden biri de Babür Şah'ın yazdığı Babürname'dir.

Bu cümlede boş bırakılan yere aşağıdakilerin hangisi getirilmelidir?

- A) fıkra
- B) sohbet
- C) anı
- D) makale

16. Aşağıdakilerden hangisi Cumhuriyet Dönemi fıkra yazarları arasında gösterilemez?

- A) Burhan Felek
- B) Ziya Osman Saba
- C) Yakup Kadri Karaosmanoğlu
- D) Falih Rıfki Atay

17. Aşağıdakilerden hangisi gezi yazısı alanında eser veren sanatçılarından biri değildir?

- A) Yahya Kemal Beyatlı
- B) Kâtip Çelebi
- C) Evliya Çelebi
- D) Seydi Ali Reis

18. • Muharrir, Şair, Edip
• Kırk Yıl
• Saray ve Ötesi

Bu eserlerin türü aşağıdakilerden hangisidir?

- A) Gezi yazısı
- B) Makale
- C) Fıkra
- D) Anı

19. Edebiyatımızda ilk makale yazarı aşağıdakilerden hangisidir?

- A) Namık Kemal
- B) Ziya Paşa
- C) Şinasi
- D) Ahmet Mithat Efendi

20. • Senli benli deneme Almanya'da Heinrich Böll tarafından başlatılmıştır.

- Makalede yazar, söz oyunlarına başvurmalıdır.
- Gezi yazılarında yalın bir dil ve sürükleyici bir anlatım kullanılmalıdır.

Bu cümleler doğru – yanlış açısından değerlendirildiğinde sıralama aşağıdakilerin hangisi olur?

- A) D – D – Y
- B) Y – D – D
- C) D – Y – D
- D) Y – Y – D

(628) SEÇ. TÜRK ED. – 8

1. Nazım Hikmet ve Ercüment Behzat Lav'ın yazdıkları şiirler önceki dönemlerin edebî geleneklerinden bir kopuştur. Bu kopuşun temelinde aruz ve heceyi reddeden yeni bir anlayış, yeni bir biçim ve söyleyiş vardır.

Bu parçada hakkında bilgi verilen edebî anlayış aşağıdakilerden hangisidir?

- A) Millî Edebiyat zevk ve anlayışını sürdüren şiir
- B) Öz şiir anlayışını sürdüren şiir
- C) Serbest nazım ve toplumcu şiir
- D) İkinci Yeni şiiri

2. Aşağıdakilerin hangisinde Necip Fazıl Kısakürek ile ilgili yanlış bir bilgi vardır?

- A) Şiirlerinde madde ve ruh problemlerini, iç âlemin tutku ve duygularını işlemiştir.
- B) Ağır bir dil ve savruk bir üslup, şiirlerinin en zayıf noktasıdır.
- C) Halk şiirinin incelikleriyle Fransız şiirinin olgunluğunu birleştirmiştir.
- D) İçe dönük, bireyci, maneviyatçı şiirin başarılı örneklerini vermiştir.

3. Aşağıdakilerden hangisi "1940 Toplumcu Gerçekçi Kuşağı" olarak adlandırılan şairlerden biri değildir?

- A) Bedri Rahmi Eyüpoğlu
- B) Rıfat Ilgaz
- C) Enver Gökçe
- D) Cahit Irgat

4. Şiirlerini çoklukla hece ölçüsüyle ve içten bir söyleyişle yazan - - - -, "Bingöl Çobanları" adlı şiirinde yaşamından ve içli duygularından görüntüler vermiştir.

Bu cümlede boş bırakılan yere aşağıdakilerden hangisi getirilmelidir?

- A) Arif Nihat Asya
- B) Behçet Kemal Çağlar
- C) Faruk Nafiz Çamlıbel
- D) Kemalettin Kamu

5. Aşağıdaki cümlelerin hangisinde bilgi yanlışlığı vardır?

- A) Ahmet Muhip Dıranas'ın şiirinin özünü düşünle gerçek, alın yazısıyla istem, yaşamla ölüm arasındaki çatışma belirler.
- B) Şiirlerinde bireysel sıkıntıları işleyen Ahmet Arif, Batı geleneğinden beslenen şairlerimizdendir.
- C) Hilmi Yavuz, Anadolu şiirindeki imge ustalığının çağdaş şiirde özünden hiçbir şey yitirmeden nasıl kullanılabileceğinin başarılı örneklerini verir.
- D) İlk şiirlerinde biçim kaygısı ağır basan Cemal Süreya eski şiirle bağını sesten çok imge yoluyla kurar ve çağrışımlardan yararlanır.

6. Hayata dair her şey olmalı şiirde. Sizin sıradan gördüğünüz şeyler bile yer almalı benim dizelerimde. Şaşırması okuyucu şiirimi okuduğunda. Yaşama sevinciyle dolmalı aynı zamanda. Çünkü umut olmadan yaşam olmaz.

Şiirinin özelliklerini böyle dile getiren bir şairin aşağıdaki şiir anlayışlarından hangisine bağlı olduğu söylenir?

- A) Millî Edebiyat zevk ve anlayışını dile getiren şiire
- B) II. Yeni şiirine
- C) Garip şiirine
- D) 1980 sonrası şiire

1. OTURUM

7. Aşağıdakilerden hangisi Garip akımının temsilcilerinden biri değildir?

- A) Oktay Rifat Horozcu
- B) Melih Cevdet Anday
- C) Orhan Veli Kanık
- D) Orhan Seyfi Orhon

8. ---, Garip'in tam tersi bir noktadan yola çıkar. Söyleyişteki rahatlığın yerine şiir dilini zorlamayı, anlaşılabilirlik yerine anlamca kapalılığı, somuta karşılık soyutlamayı getirip halk şiiri-ne sırt çevirir.

Bu parçada boş bırakılan yere aşağıdakilerden hangisi getirilmelidir?

- A) II. Yeni
- B) İkinci Yeni sonrası toplumcu şiir
- C) 1980 sonrası şiir
- D) Cumhuriyet Dönemi halk şiiri

9. • Şiir, diğer sanat dallarıyla yakın ilişki içindedir.
• Romantizm ve parnasizm akımları II. Yeni'ye kaynaklık eder.
• Daha çok didaktik yönü ağır basan eserler verilmiştir.

"II. Yeni şiiri" ile ilgili verilen bu özellikler doğru-yanlış olarak değerlendirildiğinde sıralama aşağıdakilerin hangisi olur?

- A) D – D – Y
- B) Y – Y – D
- C) D – Y – Y
- D) Y – D – Y

10. Aşağıdakilerden hangisi II. Yeni şiirinin temsilcilerinden biridir?

- A) Hüseyin Atlansoy
- B) İlhan Berk
- C) Ömer Bedrettin Uşaklı
- D) Yusuf Ziya Ortaç

11. I. Yoğun söyleyişleri ve mistik bir hava yaratma ustalığıyla dikkati çeker.
II. 1980 sonrası kuşağın en önemli şairlerindedir.
III. Garip anlayışından esinlenerek kendi sesini ve söyleyişini bulmuştur.
IV. Yabancılaşma ve başkaldırı şiirinin iki ana temasıdır.

Numaralanmış cümlelerin hangileri İsmet Özel için söylenemez?

- A) I ve II.
- B) II ve III.
- C) II ve IV.
- D) III ve IV.

12. Aşağıdakilerin hangisi toplumcu şairlerin özelliklerinden biri değildir?

- A) Kendilerini toplumun sesi, sözcüsü olarak görmüşlerdir.
- B) Şiirde geleneksel söyleyişten yararlanmaya çalışmışlardır.
- C) Şiir dilinde aşırılıklardan kaçmışlardır.
- D) Kapalı ve imgelerle yüklü bir anlam benimsenmiştir.

13. 1980 sonrası şiirle ilgili aşağıdakilerin hangisinde bilgi yanlıştır?

- A) Bu dönem şiirinde kırsal kesimde yaşayan insanların derinlemesine incelendiği görülür.
- B) Türk şiir birikimini yeniden ve bir bütün olarak değerlendirme çabaları vardır.
- C) Şiirde yapı ve söyleyişe içerikten daha fazla önem verilmiştir.
- D) Uzak çağrışımlara önem verilmiş, şiir düzyazıya yaklaştırılmıştır.

14. Aşağıdakilerden hangisi Cumhuriyet Dönemi halk şairlerinden biri değildir?

- A) Âşık Veysel
- B) Murat Çobanoğlu
- C) Karacaoğlan
- D) Şeref Taşlıova

15. Eski dönemlerdeki âşık tipinin değişmesinde aşağıdakilerden hangisi en az etkilidir?

- A) Ekonomik şartlar
- B) Toplumsal şartlar
- C) Kitle iletişim araçları
- D) Osmanlı'nın yıkılışı

16. Aladır gözlerin siyahtır kuşun
Aradım cihanı bulunmaz eşin
Yaylanın karından beyazdır düşün
Uzanıp üstüne ölesim geldi
Konusuna göre bu dörtlüğün türü aşağıdakilerden hangisidir?

- A) Koçaklama
- B) Taşlama
- C) Ağıt
- D) Güzelleme

17. ---, ---, --- gibi sanatçılar Anadolu'ya açılarak eserlerinde yurdun güzelliklerini ve Anadolu insanının sıkıntılarını dile getirdiler.

Bu cümlede boş bırakılan yerlere aşağıdakilerden hangisi getirilemez?

- A) Orhan Şaik Gökyay
- B) Zeki Ömer Defne
- C) Orhan Veli Kanık
- D) Ahmet Kutsi Tecer

18. ...

Ben mi? Ben Ç. köyünden olurum, Çukurova'ya sıftah için indik. Esasta üç arkadaşlık biz. Köse Hasan öldü fukara, sen sağ ol. Pehlivan Ali de çekti gitti, kaldım ben. Ben de açtım gözümü. Usta oldum. Niyey? Şöyle bir vurdum zihnime; Yusuf dedim, köyden şehre ne demeye indin? İş güç sahibi olup iyi kötü üçün beşin yoluna bakmak için. Köye varınca köylüyü kendine güldürme. Yemin ettim duvar ustalığını belledim.

Bir romandan alınan bu parçanın üslup ve içerik bakımından özellikleri dikkate alındığında aşağıdaki roman geleneklerinden hangisiyle yazıldığı söylenir?

- A) Toplumcu gerçekçi
- B) Millî edebiyat zevk ve anlayışını sürdüren
- C) Bireyin iç dünyasını ele alan
- D) Modernizmi esas alan

19. Aşağıdakilerden hangisi toplumcu gerçekçi çizgide eser veren sanatçılardan biri değildir?

- A) Samim Kocagöz
- B) Orhan Kemal
- C) Kemal Bilbaşar
- D) Peyami Safa

20. Aşağıdakilerden hangisi günümüz roman ve hikâyecilerinden biridir?

- A) Halide Edip Adıvar
- B) Yakup Kadri Karaosmanoğlu
- C) Murathan Mungan
- D) Refik Halit Karay

(711) İSLAM TARİHİ – 1

1. İslam tarihinin ilk ve en önemli kaynağı, aşağıdakilerden hangisidir?

- A) Hadisler
- B) Efsaneler
- C) Siyer kitapları
- D) Kur'an-ı Kerim

2. Aşağıdaki İlk Çağ toplumlarından hangisinde yazılı tarihin gelişme göstermesi beklenmez?

- A) Türklerde
- B) İbranilerde
- C) Romalılarda
- D) Yunanlılarda

1. OTURUM

3. Ay yılı kaç gündür?

- A) 333 gün B) 354 gün
C) 360 gün D) 365 gün

4. Irak'ta devlet kurmuş olan Hireliler, aşağıdaki hangi devlete bağlı olarak hüküm sürmüşlerdir?

- A) Sasani
B) Memlûk
C) Büyük Selçuklu
D) Bizans İmparatorluğu

5. Aşağıdaki kentlerden hangisi hicretten sonra "Medinetü'n Nebi" (Peygamber şehri) adını almıştır?

- A) Taif B) Kudüs
C) Mekke D) Yesrib

6. Arap toplumundaki hayat tarzına verilen isimler aşağıdakilerden hangisinde birlikte verilmiştir?

- A) Hadari - Mevali
B) Bedevi - Hadari
C) Ummi - Hadari
D) Dâi - Bedevi

7. Cahiliye Dönemi'nde görülen aşağıdakilerden hangisine günümüzde rastlanmaz?

- A) Çapulculuk
B) Kan davası gütmek
C) İnsan haklarını çiğnemek
D) Kız çocuklarını canlı toprağa gömmek

8. Hz. Muhammed hangi yaşlarda iken annesinin yanında kalmıştır?

- A) 1 - 3 B) 4 - 6
C) 6 - 8 D) 9 - 12

9. Hz. Muhammed vahye muhatap olduktan sonra eşi Hz. Hatice ile birlikte aşağıdaki hangi kişiye giderek yaşadıklarını anlatmıştır?

- A) Ümmü Seleme
B) Mutim bin Adiy
C) Varaka bin Nevfel
D) Habeş Necaşisi Ashame

10. Hicretten sonra Hz. Muhammed Medine halkına, savaşlara kimlerin katılacağına karar verme yetkisinin kendisine ait olduğunu, Müslüman olsun ya da olmasın herkesin eşit haklara sahip olacağını, ayrıca dış baskılara karşı da birlikte hareket edileceğini duyurmuştur.

Hz. Muhammed'in Medine halkına yaptığı bu duyuru, aşağıdakilerden hangisine kanıt olarak gösterilebilir?

- A) Mekke'nin fethedildiğine
B) Askerliğin meslek hâline geldiğine
C) Yeni bir devletin temelini atıldığına
D) İslam dininin Kuzey Afrika'ya yayıldığına

11. Yahudilerin, Hicaz Bölgesi'nde siyasi bir güç olmalarını sona erdiren olay, aşağıdakilerden hangisidir?

- A) Hayber'in fethi
B) Mekke'nin ele geçirilmesi
C) Medine İslam Devleti'nin kurulması
D) Hudeybiye Barış Antlaşması'nın imzalanması

12. Müslümanların Bizans ile yaptığı ilk savaş, aşağıdakilerden hangisidir?

- A) Huneyn B) Yermük
C) Hendek D) Mute

13. Hz. Ömer Dönemi'nde gerçekleştirilen aşağıdaki çalışmalardan hangisi devlet idaresinde yönetim ve yargının birbirinden ayrılmasının amaçlandığını gösterir?

- A) Divan örgütünün kurulması
B) Devlet hazinesinin oluşturulması
C) İllere valilerin yanı sıra kadıların da gönderilmesi
D) Fethedilen yerlerin büyük illere (eyalet) ayrılması

14. İslam dünyasında, aşağıdakilerden hangisiyle birbirine muhalif "Hz. Ali taraftarları", "Muaviye taraftarları" ve "Hariciler" olmak üzere üç grup ortaya çıkmıştır?

- A) Hicretle
B) Hakem Olayı'yla
C) Kerbela Olayı'yla
D) Emevi Devleti'nin yıkılmasıyla

15. İslam tarihindeki "Harre Olayı", aşağıdaki olaylardan hangisinin artıcısı hükmünde sayılır?

- A) Sıffin Olayı B) Cemel Olayı
C) Zübeyr Olayı D) Kerbela Olayı

16. Muaviye'nin oğlu Yezid'i kendisine veliaht tayin ederek devletin ileri gelenlerine onaylatması, aşağıdakilerden hangisine yol açmıştır?

- A) Halifeliğin saltanata dönüşmesine
B) Müslümanların donanma kurmasına
C) Fetih hareketlerinin hızlanmasına
D) Devlet gelirlerinin artmasına

17. Abbasilerin, 718 yılında başlayıp otuz yıl süren kararlı muhalefeti sonucunda 750 yılında yıkılan devlet, aşağıdakilerden hangisidir?

- A) Emeviler
B) Memlûkler
C) Gırnata Sultanlığı
D) Endülüs Emevileri

18. İslam dünyasında Arapçanın bilim dili hâline gelmesinde, aşağıdakilerden hangisi etkili olmuştur?

- A) Arap harflerinin yazımının kolay olması
B) Medreselerde eğitimin Arapça yapılması
C) Halifenin bilim adamlarını desteklemesi
D) Arapların edebiyata önem vermesi

19. İspanyollar, 16. yüzyılda Hristiyan hâkimiyeti altında kalan Müslümanlar için aşağıdaki kavramlardan hangisini kullanmışlardır?

- A) Mürtet B) Mudejar
C) Berberi D) Muvelledun

20. Aşağıdakilerden hangisi, 1530 yılında İspanya sahillere yedi defa gönderdiği otuz altı parçalık donanmasıyla İspanyollardan zulüm gören yaklaşık 70.000 Müslüman'ı kurtarmıştır?

- A) Selçuklu beyi I. Alaeddin Keykubat
B) Gazne hükümdarı Sultan Mahmut
C) Osmanlı hükümdarı Fatih
D) Cezayir emiri Hızır Reis

1. OTURUM

(811) KELAM – 1

1. İslam dininin inanca ve davranışlara dair ilkelerini, naslardan hareketle belirleyen ve akli yöntemlerle temellendirip destekleyen bir ilim dalıdır.

Tanımı verilen kavram aşağıdakilerden hangisidir?

- A) Felsefe B) Mantık
C) Fıkıh D) Kelam

2. Hangisi kelam ilminin amaçlarından değildir?

- A) Diğer dini ilimlere kaynak olmak
B) İtikadi meseleleri delillendirmek
C) Tahkiki imandan taklidi imana ulaştırmak
D) Müslümanları batıl düşüncelerden korumak

3. Aşağıdakilerden hangi ikisi kelam ilminin kullandığı yöntemlerdendir?

- A) Gözlem – Yığmacılık
B) Tümevarım –Temsil
C) Tümdengelim- Taklit
D) Akılcılık- Tasnif

4. Kelam ilmi ile felsefe arasındaki ilişki hakkında hangisi söylenemez?

- A) Her ikisinin konusu da aynıdır.
B) Her ikisi de duyulardan faydalanır.
C) Felsefe farklı olarak nassı da kullanır.
D) Kelam, varlığı İslam açısından ele alır.

5. Aşağıdakilerden hangisi İslam'daki yorum farklılıklarının ortaya çıkış nedenlerinden biri değildir?

- A) Ortam ve kültür
B) İnsanın yapısı
C) Siyasi hadiseler
D) Mezhepler

6. Hz. Ali'nin Hz. Muhammed'den(sav.) sonra nass ve tayinle halife olduğuna, imametın kıyamete kadar onun ve Hz. Fatma'nın soyundan gelenlerin hakkı olduğuna inanan topluluklara verilen isimdir.

Burada hakkında bilgi verilen mezhep hangisidir?

- A) Şiiilik B) Mutezile
C) Haricilik D) Eşariye

7. • Müslümanlar arasında ortaya çıkan itikadi nitelikli ilk farklılaşma hareketidir.
• Bugün bu mezhebin sadece İbadiye kolu Kuzey Afrika'da yaşama şansı bulabilmiştir.
• Kendi inanç ve düşüncelerinin dışındaki hiç kimseyi Müslüman olarak kabul etmezler.

Özellikleri verilen mezhep aşağıdakilerden hangisidir?

- A) Şia B) Havarîç
C) Ehl-i sünnet D) Mürcie

8. Aşağıdaki görüşlerden hangisi Mürcie mezhebine ait değildir?

- A) Şartlı ve şüpheli iman olamaz.
B) Ameller imanın bir parçası değildir.
C) Kişi kendi fiillerinin yaratıcısıdır.
D) Büyük günah işleyenlerin durumuna Allah karar verecektir.

9. Aşağıdakilerden hangisi ameli-fıkhi mezheplerden biri değildir?

- A) Şafilik B) Malikilik
C) Caferilik D) Maturidilik

10. Allah'a zatında, sıfatlarında ve fiillerinde ortak koşan, Allah'ın yanında başka ilahlar edinen kimseye - - - - denir.

Boşluğa aşağıdaki kavramlardan hangisi getirilmelidir?

- A) Kâfir B) Müşrik
C) Mümin D) Münafık

11. Evrenin sonradan var olduğu tezine dayanır. Başlangıcı olan her şey sonradan yaratılmıştır. Her sonradan yaratılan, bir var ediciye muhtaçtır. Âlem de bir var ediciye muhtaçtır. Bu var edici ise Yüce Allah'tır.

Bu açıklama hangi varlık delilini ifade etmektedir?

- A) Hudus B) İmkân
C) Kemal D) Temanu'

12. "En güzel isimler Allah'ındır. Ona bu isimlerle dua edin..."
(A'raf suresi, 180. ayet)

Bu ayette bahsedilen isimleri ifade eden kavram aşağıdakilerden hangisidir?

- A) İsm-i Azam
B) Hisnu-l Müslim
C) Salavat-ı Şerife
D) Esmâ-yı Hüsnâ

13. Meleklerin varlığının en önemli delili aşağıdakilerden hangisidir?

- A) Duyular B) Akıl
C) Vahiy D) Kültür

14. Aşağıdaki ayetlerden hangisi meleklerin hızlı hareket etme özelliğini vurgulamaktadır?

- A) "Melekler ve Ruh ellibin yıllık bir günde oraya çıkarlar."
(Meâric suresi, 4. ayet)
B) "Hamd, ... melekleri ikişer, üçer ve dörder kanatlı elçiler kılan Allah'a mahsustur."
(Fâtır suresi, 1. ayet)
C) "Yaptıklarınızı bilen ve sizi gözetleyen değerli yazıcılar vardır."
(İnfitâr suresi, 10-12. ayet)
D) "Allah ve O'nun melekleri peygambere hep salat ederler."
(Ahzâb suresi, 56. ayet)

15. Kur'an-ı Kerim'de "Melekül-mevt" olarak adı geçen melek aşağıdakilerden hangisidir?

- A) İsrail B) Cebrail
C) Azrail D) Mikail

16. İslam'ın ilk inen ayeti aşağıdakilerden hangisidir?

- A) Oku B) Şükret
C) Dinle D) Sabret

17. Şeytanla ilgili aşağıdaki bilgilerden hangisi yanlıştır?

- A) İnsanlara kötülük ve günahları güzel gösterirler.
B) İnsanları yoldan çıkarabilme gücüne doğrudan sahiptirler.
C) İblis, ifrit, mişâ, marid gibi isimlerle pek çok kültürde karşılığı vardır.
D) İnatçı, haddi aşır kibirli, azgın, taşkın, şerli olan bütün kötü varlıkların ortak ismidir.

18. Kelam ilminde kullanılan delilleri mantıkla irtibatlandırarak üçüncü bir dönemin başlamasına yol açmıştır. Bu devirden sonra gelen kelam âlimlerine "Müteahhirin", ilklere ise "Mütekaddimin" denilmiştir.

Hakkında bilgi verilen kişi aşağıdakilerden hangisidir?

- A) Vasil bin Ata
B) İmam Maturidi
C) İbrahim Nazzam
D) İmam Gazali

1. OTURUM

19. Kelam ilminde varlıklar için kullanılan "mümkün" kavramı aşağıdaki-lerden hangisini ifade etmektedir?

- A) Var ya da yok olması eşit olan
- B) Yok olmayan, sürekli olan
- C) Mutlak var olan
- D) Mükemmel olan

20. Aşağıdakilerden hangisi Allah'ın zati sıfatlarından biridir?

- A) Basar
- B) Tekvin
- C) Vücut
- D) İlim

(931) SİYER – 1

1. Aşağıdakilerden hangisi Hz. Muhammed'in (sav.) hayatını öğrenme nedenlerinden biri değildir?

- A) İslam'ın doğru tanıtılmasına yardımcı olmak
- B) Kur'an'ın daha iyi anlaşılmasını sağlamak
- C) İncanın gereğini yerine getirmek
- D) Arap kültürünü benimsemek

2. Aşağıdaki kaynaklardan hangisi Hz. Muhammed'in (sav.) hayatı ile en az ilgilidir?

- A) Siyer
- B) Meğazi
- C) Felsefe
- D) İslam Tarihi

3. Soyları devam eden Araplara "Arab-ı bâkiye" denir.

Aşağıdaki kavimlerden hangisi "Arab-ı bâkiye" dendir?

- A) Kureyş
- B) Semûd
- C) Medyen
- D) Âd

4. Kâbe'de sa'y yapan hacılar aşağıdakilerden hangisinin hatirasını yâd etmiş olmazlar?

- A) Hz. İsmail
- B) Hz. İshak
- C) Hz. Hacer
- D) Hz. İbrahim

5. Mekke'de müşriklerin İslam'ı kabul etmemelerinin asıl sebebi aşağıdaki-lerden hangisidir?

- A) Yahudilerle dostluklarını bozmak istememeleri
- B) Hz. Muhammed'e (sav.) güvenmemeleri
- C) Atalarının inançlarına olan bağlılıkları
- D) Kur'an mesajlarının evrensel olması

- 6. I. 571 yılında gerçekleşmişti.
- II. Kâbe'ye saldıran Ebrehe, Yemen valisiydi.
- III. Ebrehe Mekke'nin reisi Ebu Talip ile görüşmüştü.
- IV. Ebrehe Kâbe'ye saldırmaktan sonra vazgeçmişti.

Fil olayı ile ilgili verilen bilgilerden hangileri doğrudur?

- A) I ve II.
- B) II ve III.
- C) II ve IV.
- D) III ve IV.

7. Aşağıdakilerden hangisi Haniflerin özelliklerinden biri değildir?

- A) Cahiliye inançlarına karşı çıkmaları
- B) Tevhit inancını benimsemeleri
- C) Dini toplu şekilde yaşamaları
- D) Putları reddetmeleri

8. Aşağıdakilerden hangisi Hz. Peygamber'in anne tarafından soyunu oluşturan atasıdır?

- A) Abdülmuttalip
- B) Vehb
- C) Haşim
- D) Zübeyr

9. Fatıma bint Esed, Hz. Muhammed (sav.)'in nesidir?

- A) Halası
- B) Sütkardeşi
- C) Büyükkannesi
- D) Amcasının eşi

10. Hz. Muhammed (sav.)'in 40 yaşına kadarki hayatı için aşağıdakilerden hangisi söylenemez?

- A) Ticaretle uğraştığı
- B) Kabile savaşlarına katıldığı
- C) Okuma-yazma eğitimi aldığı
- D) Medine'de akrabalarını ziyaret ettiği

11. Habeşistan'a hicret ile ilgili verilen bilgilerden hangisi doğrudur?

- A) Buraya hicret ayrı zamanlarda üç defa gerçekleşmiştir.
- B) Müslümanlar Habeş Necâşi'si Ashame' den iyi muamele görmüşlerdir.
- C) Müslümanların buraya hicret etmeleri Mekke'de müşriklerin mutlu etmişlerdir.
- D) Hicret mekânı olarak seçilmesinde Habeşlilerin putperest olması etkili olmuştur.

12. Üç yıl süren yakın çevreye davet dönemindeki Müslümanlarla ilgili verilen bilgilerden hangisi yanlıştır?

- A) Açığıktan ve topluca ibadet edebiliyorlardı.
- B) Hz. Peygamber ile Erkâm'ın evinde toplanıyorlardı.
- C) Müşriklerin saldırı ve hakaretlerine maruz kalıyorlardı.
- D) Çoğunluğu gençler, köleler ve kadınlardan oluşmakta idi.

13. İslam'ın getirdiği eşitlik anlayışı kadınlara ve kölelere bir takım haklar tanıyordu. Bu durum Mekke ileri gelenlerini rahatsız etmişti. Onlar bir köle ile eşit sayılmayı kabul edememişlerdi.

Burada müşriklerin İslam'ı kabul etmeme sebeplerinden hangisi anlatılmıştır?

- A) Atalara olan bağlılık
- B) Ekonomik sebepler
- C) Kabileler arası rekabetin artması
- D) Sosyal yapının değişmesi

14. Hz. Muhammed (sav.)'in Kâbe hakemliğinde başvurduğu çözüm şekli hangisi olmuştur?

- A) Kabile reislerinin Hacer-i Esvet'i tutup kaldırması bizzat kendisinin de yerine koyması
- B) Kimseyi karıştırmadan kendisinin Hacer-i Esvet'i taşıyıp yerine yerleştirmesi
- C) Hacer-i Esvet'i yerine koyma işini kura usulü ile halletmesi
- D) En yaşlı kabile üyesinin Hacer-i Esvet'i yerine koyması

15. Aşağıdakilerden hangisi Hz. Ömer'in Müslüman olması anlatılırken değinilen durumlardan biri değildir?

- A) Kendisinin Hz. Muhammed (sav.)'i öldürme kararı alması
- B) Ebu Cehil'in Hz. Peygamber'e hakaret etmesi
- C) Kız kardeşi ve eniştesinin Müslüman olmaları
- D) Kur'an-ı Kerim'in üslubundan etkilenmesi

16. Aşağıdakilerden hangisi Miraç Gecesi'nde gerçekleşenlerden biri değildir?

- A) Medine'ye hicrete izin verilmesi
- B) Beş vakit namazın farz kılınması
- C) Bakara suresinin son iki ayetinin inmesi
- D) İnananların cennete gideceğinin bildirilmesi

1. OTURUM

17. Aşağıdakilerden hangisi II. Akâbe Biati'nda Hz. Muhammed (sav.)'in yanında yer alanlardan biridir?

- A) Ebu Talip B) Hz. Ömer
C) Hz. Ebu Bekir D) Hz. Abbas

18. Aşağıdakilerden hangisi Müslümanların Medine'ye hicretlerine, Mekkeli müşriklerin engel olma sebeplerinden biri değildir?

- A) Ticaret yollarının güvenli bir halde kalmasını istemeleri
B) Müslümanların daha güçlü hale gelmelerinden korkmaları
C) Müslümanların Mekke'ye saldırmalarını engellemeye çalışmaları
D) "Peygamber şehri" unvanını Medinelilere kaptırmak istememeleri

19. Aşağıdaki yollardan hangisi Hz. Muhammed (sav.)'in hicrette izlediği, Mekkeli müşrikleri oyalama ve şaşırtmaya yönelik tedbirlerinden biridir?

- A) Rehber olarak Abdullah b. Ureykid'la anlaşması
B) Hz. Ebu Bekir'i yol arkadaşı olarak seçmesi
C) Sevr mağarasında üç gün kalması
D) Kuba köyünde konaklaması

20. I. Boykotun sona ermesi
II. Hz. Hatice'nin vefat etmesi
III. Beş vakit namazın farz kılınması
IV. Habeşistan'a ilk hicretin yapılması
Yukarıdakilerin kronolojik sıralaması hangisidir?

- A) I - II - III - IV B) I - II - IV - III
C) III - IV - II - I D) IV - I - II - III

(974) GİRİŞİMCİLİK – 1

1. Aşağıdakilerden hangisi işletmenin özel amaçlarındandır?

- A) Kâr sağlamak
B) Topluma hizmet etmek
C) İşletmenin yaşamını devam ettirmek
D) Mal ve hizmetlerin kalitesini sürekli arttırmak

2. İhtiyaçlar hiyerarşisine göre insanın fizyolojik ihtiyaçlarından sonra ortaya çıkan ihtiyacı aşağıdakilerden hangisidir?

- A) Güvenlik ihtiyacı
B) Başarma ihtiyacı
C) Saygı ihtiyacı
D) Sevgi ve ait olma ihtiyacı

3. Müteşebbis ile ilgili olarak aşağıda verilen bilgilerden hangisi yanlıştır?

- A) Kâr amacı güder.
B) Örgütsel birimler oluşturur.
C) Mal ve hizmet üretimi yapar.
D) Doğabilecek risklerden uzak durur.

4. Yokluk hissiyle belirip karşılama isteği uyandıran, karşılanmadığında sıkıntı veren, karşılandığında tatmin hissi veren ekonomik ve biyolojik olayın karşılığı aşağıdakilerden hangisidir?

- A) İhtiyaç B) Tüketim
C) Üretim D) Emek

5. Bir işletmenin kuruluş sürecinde, projenin niteliğine göre kuruluş ve konum yeri durumu, fabrika binası, üretim teçhizatı, güvenlik araştırması, doğal afet ve çevre kirliliği gibi konularda yapılan araştırma türü aşağıdakilerden hangisidir?

- A) Ekonomik araştırma
B) Teknik araştırma
C) Yasal araştırma
D) Mali araştırma

6. Yapılan ekonomik, teknik ve mali araştırmalar kapsamlı bir şekilde gözden geçirildikten sonra, işletmenin yasal biçimi, teknik nitelikleri, kapasitesi, ürün ve miktarları ile ilgili kesin planların yapılması işletme kurma sürecinin hangi aşamasını gösterir?

- A) Yatırım kararı verme
B) Ön proje
C) Yatırım projesi
D) Deneme üretimi

7. Aşağıdakilerden hangisi müteşebbisliğin en önemli özelliklerinden birisidir?

- A) Kararlılık
B) Uyumluluk
C) İş bitiricilik
D) İnisiyatif kullanma

8. Aşağıdakilerden hangisi talebin özelliklerinden biri değildir?

- A) Piyasanın olması
B) Satın alma gücü
C) Satın alma isteğinin var olması
D) Geniş bir zaman dönemini kapsaması

9. Üretim sırasında doğrudan kullanılmayan mallara " - - - " denir. Boş bırakılan yere aşağıdakilerden hangisi yazılmalıdır?

- A) yardımcı araçlar
B) işletme gereçleri
C) yatırım donatım malları
D) üretim gereçleri ve parçaları

10. Üretici ya da satıcıların belli bir zaman aralığında ve bir fiyat karşılığı piyasaya sürdükleri mal ve hizmet miktarına ne ad verilir?

- A) Talep B) Arz
C) Emek D) Fayda

11. Üretim yönetimi dönüşüm sürecinde aşağıdakilerden hangisi çıktı olarak kabul edilir?

- A) Emek B) Sermaye
C) Girişimci D) Hizmetler

12. Aşağıdakilerden hangisi müteşebbislerin teminat altına alınmış haklarından biri değildir?

- A) İsteddiği kâr elde etme hakkı
B) Sözleşme yapma hakkı
C) Meslek seçme hakkı
D) Mülkiyet hakkı

13. Aşağıdakilerden hangisi planlamada uyulacak kural olarak görülmez?

- A) Uygun bir süreyi kapsmalıdır.
B) Kesin uygulanabilir olmalıdır.
C) Basit ve anlaşılır olmalıdır.
D) Dengeli olmalıdır.

14. Aşağıdakilerden hangisi etkili denetimin ilkelerine aykırı bir açıklamadır?

- A) Denetleme esnek olmalıdır.
B) Denetleme gizli olmalıdır.
C) Denetleme şekli işletmeye uygun olmalıdır.
D) Denetlenme standartları önceden belirlenmelidir.

1. OTURUM

(999) MATEMATİK – 2

15. Aşağıdakilerden hangisi bir işletmenin şirket olma şartlarına uygun değildir?

- A) Ortak bir amaç olmalıdır.
- B) Ortaklar arası bir anlaşma olmalıdır.
- C) Şirket kuranların sayısı en az bir olmalıdır.
- D) Ortak üretim elemanlarına sahip olmalıdır.

16. Aşağıdakilerden hangisi İktisadi Devlet Teşekkülü değildir?

- A) Boru Hatları ile Petrol Taşıma AŞ
- B) Türkiye Kömür İşletmeleri
- C) Devlet Malzeme Ofisi
- D) Türkiye Cumhuriyeti Devlet Demiryolları

17. Limitet şirketler en az kaç ortak tarafından kurulabilir?

- A) 2 B) 4 C) 6 D) 10

18. Satış sürecinin aşamalarıyla ilgili olarak aşağıda verilenlerden hangisi yanlıştır?

- A) Satışın gerçekleştirilmesi
- B) İlginin isteğe dönüşmesi
- C) İsteğin arza dönüşmesi
- D) Dikkat çekme

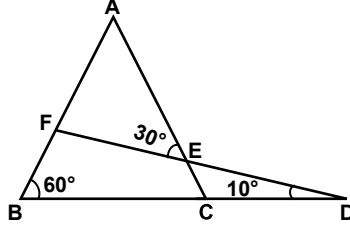
19. Seçici talebi yaratmaya yönelik bir reklam, aşağıda verilen reklam çeşitlerinden hangisi açısından değerlendirilmelidir?

- A) Reklam içeriği açısından
- B) Hedef kitle açısından
- C) Yapanlar açısından
- D) Amaçlar açısından

20. Bir işletmenin diğer işletmeye ait hisse senetlerini satın alarak o işletmenin hukuki varlığına son vermesiyle sağladığı tam birleşmeye ne ad verilir?

- A) Füzyon B) Konsernler
- C) Kornerler D) Merger

1.

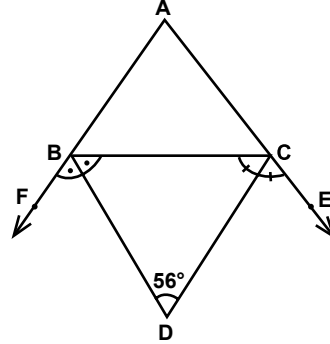


Şekildeki ABC ve BDF üçgenlerinde $m(\widehat{ABD}) = 60^\circ$, $m(\widehat{FEA}) = 30^\circ$ ve $m(\widehat{BDF}) = 10^\circ$ dir.

Buna göre $m(\widehat{CAB})$ kaç derecedir?

- A) 80 B) 70 C) 60 D) 50

2.

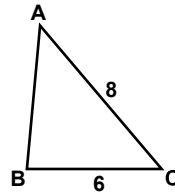


Şekilde $m(\widehat{FBD}) = m(\widehat{DBC})$, $m(\widehat{BCD}) = m(\widehat{DCE})$ ve $m(\widehat{BDC}) = 56^\circ$ dir.

Buna göre $m(\widehat{FAE})$ kaç derecedir?

- A) 34 B) 56 C) 68 D) 84

3.

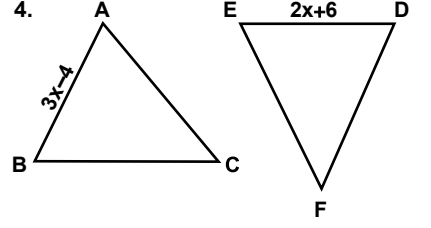


Şekildeki ABC üçgeninde $|AC| = 8 \text{ cm}$, $|CB| = 6 \text{ cm}$ ve $m(\widehat{C}) > m(\widehat{B})$ tür.

Buna göre $|AB|$ santimetre cinsinden kaç farklı tam sayı değeri alabilir?

- A) 8 B) 7 C) 6 D) 5

4.

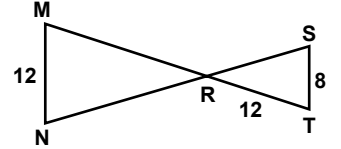


Şekilde $\widehat{ABC} \cong \widehat{DEF}$, $|AB| = (3x - 4) \text{ cm}$ ve $|DE| = (2x + 6) \text{ cm}$ 'dir.

Buna göre x kaçtır?

- A) 10 B) 9 C) 8 D) 6

5.

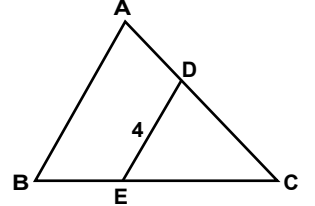


Şekilde $[MN] \parallel [ST]$, $[MT] \cap [NS] = \{R\}$ ve $|MN| = 12 \text{ cm}$, $|ST| = 8 \text{ cm}$, $|RT| = 12 \text{ cm}$ 'dir.

Buna göre $|MR|$ kaç santimetredir?

- A) 12 B) 14 C) 16 D) 18

6.

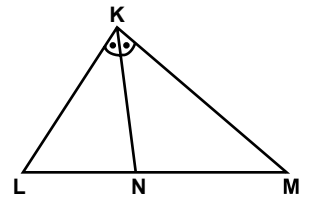


Şekildeki ABC üçgeninde $[DE] \parallel [AB]$, $|DC| = 2|AD|$ ve $|DE| = 4 \text{ cm}$ 'dir.

Buna göre $|AB|$ kaç santimetredir?

- A) 6 B) $\frac{11}{2}$ C) 5 D) $\frac{9}{2}$

7.



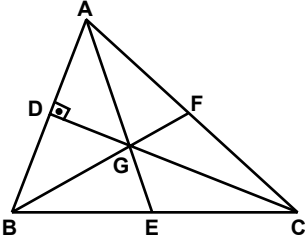
Şekildeki KLM üçgeninde $m(\widehat{LKN}) = m(\widehat{NKM})$, $|LM| = 30 \text{ cm}$ ve $3|KL| = 2|KM|$ 'dir.

Buna göre $|LN|$ kaç santimetredir?

- A) 9 B) 12 C) 15 D) 20

1. OTURUM

8.

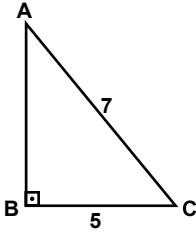


Şekildeki ABC üçgeninde $[AE]$, $[BF]$ ve $[CD]$ kenarortaylarının kesim noktası G'dir. $[CD] \perp [AB]$, $|DG| = 4$ cm ve $|FC| = 10$ cm'dir.

Buna göre $|AD|$ kaç santimetredir?

- A) $4\sqrt{3}$ B) $6\sqrt{3}$
C) 12 D) 16

9.

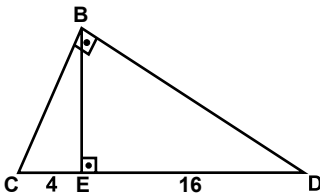


Şekildeki ABC üçgeninde $[AB] \perp [BC]$ ve $|AC| = 7$ cm, $|CB| = 5$ cm'dir.

Buna göre $|AB|$ kaç santimetredir?

- A) 3 B) $2\sqrt{5}$
C) $2\sqrt{6}$ D) 6

10.

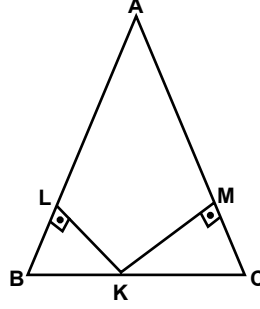


Şekildeki BCD üçgeninde $[BC] \perp [BD]$, $[BE] \perp [CD]$ ve $|CE| = 4$ cm, $|ED| = 16$ cm'dir.

Buna göre $|BE|$ kaç santimetredir?

- A) 4 B) 6 C) 8 D) 10

11.



Şekildeki ABC üçgeninde $|AB| = |AC| = 10$ cm, $[KL] \perp [AB]$, $[KM] \perp [AC]$ ve $|KL| = 2$ cm, $|KM| = 4$ cm'dir.

Buna göre $A(\widehat{ABC})$ kaç santimetrekaredir?

- A) 24 B) 30 C) 36 D) 60

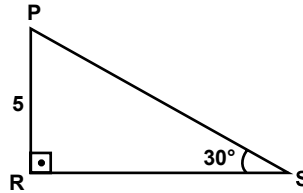
12. $\sin 150^\circ$, $\cos 310^\circ$, $\tan 120^\circ$ ve $\cot 190^\circ$ değerlerinin işaretleri sırasıyla aşağıdakilerden hangisinde verilmiştir?

- A) -, -, +, - B) +, -, -, -
C) -, +, +, + D) +, +, -, +

13. $0^\circ < x < 90^\circ$ ve $\cos x = \frac{2}{\sqrt{13}}$ olduğuna göre $\tan x$ değeri kaçtır?

- A) $\frac{3}{2}$ B) $\frac{\sqrt{13}}{3}$
C) $\frac{\sqrt{13}}{2}$ D) $\frac{13}{2}$

14.



Şekildeki PRS üçgeninde $[PR] \perp [RS]$, $m(\widehat{PSR}) = 30^\circ$ ve $|PR| = 5$ cm'dir.

Buna göre $|PS|$ kaç santimetredir?

- A) 14 B) 12 C) 10 D) 9

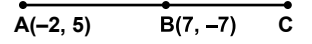
15. Kenarlarının uzunlukları 4 cm, 6 cm ve 8 cm olan üçgenin alanı kaç santimetrekaredir?

- A) $\sqrt{5}$ B) $3\sqrt{5}$
C) $\sqrt{15}$ D) $3\sqrt{15}$

16. $\vec{u} = (-3, 9)$ vektörünün uzunluğu kaç birimdir?

- A) $\sqrt{10}$ B) $3\sqrt{10}$
C) $4\sqrt{10}$ D) $5\sqrt{10}$

17.



Şekildeki AC doğru parçasında $2|AB| = 3|BC|$ olduğuna göre C noktasının koordinatları aşağıdakilerden hangisidir?

- A) (13, -15) B) (-8, 13)
C) (1, 1) D) (15, -8)

18. 2, 2, 3, 7, 11, 12, 20 veri grubunun ortancası ile açıklığının toplamı kaçtır?

- A) 20 B) 22 C) 25 D) 32

19. Aritmetik ortalaması 24 olan 4 sayıdan bir tanesi çıkarıldığında geriye kalan sayıların aritmetik ortalaması 20 olduğuna göre çıkarılan sayı kaçtır?

- A) 40 B) 36 C) 32 D) 28

20. Hilesiz bir zar atıldığında üst yüze gelen sayının asal olma olasılığı kaçtır?

- A) $\frac{1}{6}$ B) $\frac{1}{4}$ C) $\frac{1}{3}$ D) $\frac{1}{2}$

TEST BİTTİ.
CEVAPLARINIZI KONTROL
EDİNİZ.

CEVAP KÂĞIDI VE SORU KİTAPÇIĞI İLE İLGİLİ AÇIKLAMALAR

1. Cevap kâğıdınızdaki bilgilerin doğruluğunu kontrol ediniz ve cevap kâğıdınızı mürekkepli kalemle imzalayınız.
2. Cevap kâğıdı üzerinde kodlamalarınızı siyah kurşun kalemle yapınız.
3. Değiştirmek istediğiniz bir cevabı, yumuşak silgiyle cevap kâğıdını örselemeden temizce siliniz ve yeni cevabınızı kodlayınız.
4. Soru kitapçığının sayfalarını görevlilerin uyarıları doğrultusunda kontrol ediniz, baskı hatası var ise değiştirilmesini sağlayınız.
5. Soruların çözümü için size ayrıca boş kâğıt verilmeyecektir. Soru kitapçığının içindeki boş alanları soru çözümleri için kullanabilirsiniz.
6. Her sorunun dört seçeneğinden sadece biri doğrudur. Doğru seçeneği, cevap kâğıdınızın ilgili sütununa soru numarasını dikkate alarak yuvarlağın dışına taşırmadan kodlayınız. Soru kitapçığı üzerinde yapılan cevaplandırmalar dikkate alınmayacaktır.
7. Cevaplamaya istediğiniz dersin sorusundan başlayabilirsiniz. Cevabını bilmediğiniz sorular üzerinde fazla zaman kaybetmeden diğer sorulara geçiniz. Zamanınız kalırsa bu sorulara daha sonra dönebilirsiniz.
8. Yanlış cevaplarınız dikkate alınmadan sadece doğru cevaplarınız üzerinden puanlama yapılacaktır.
9. Soruları ve sorulara verdiğiniz cevapları, yanınızda götürmek amacıyla kaydetmeyiniz; hiçbir şekilde dışarı çıkarmayınız.
10. Sınav bitiminde soru kitapçığı ve cevap kâğıdını salon görevlilerine teslim ediniz.

SALON GÖREVLİLERİNCE SINAV BAŞLAMADAN ÖNCE ADAYLARA YAPILACAK SON UYARILAR

- Soracağınız bir şey varsa şimdi sorunuz, sınav başladıktan sonra sorularınıza cevap verilmeyecektir.
- Başlama zilini bekleyiniz.

Hepinize başarılar dileriz.

(Salon başkanı başlama ve bitiş saatini tahtaya yazacaktır.)

Bu kitapçığın her hakkı saklıdır. Hangi amaçla olursa olsun, kitapçığın tamamının veya bir kısmının Millî Eğitim Bakanlığı Ölçme, Değerlendirme ve Sınav Hizmetleri Genel Müdürlüğünün yazılı izni olmadan kopya edilmesi, fotoğraflarının çekilmesi, bilgisayar ortamına alınması, herhangi bir yolla çoğaltılması, yayımlanması veya başka bir amaçla kullanılması yasaktır. Bu yasağa uymayanlar, doğabilecek cezai sorumluluğu ve kitapçığın hazırlanmasındaki mali külfeti peşinen kabullenmiş sayılır.

7 OCAK 2017 TARİHİNDE YAPILAN AÇIKÖĞRETİM LİSESİ / MESLEKİ AÇIKÖĞRETİM LİSESİ
2016-2017 ÖĞRETİM YILI 1. DÖNEM SINAVI 1. OTURUM T KİTAPÇIĞI CEVAP ANAHTARI

(111) DİN KÜL. AHL. BİL. – 1

1. D
2. B
3. C
4. A
5. B
6. A
7. A
8. D
9. B
10. B
11. A
12. C
13. D
14. C
15. B
16. B
17. A
18. D
19. C
20. D

(115) DİN KÜL. AHL. BİL. – 5

1. C
2. A
3. B
4. A
5. D
6. D
7. B
8. C
9. D
10. B
11. D
12. A
13. B
14. C
15. A
16. C
17. D
18. A
19. C
20. D

(123) SEÇMELİ FELSEFE – 1

1. D
2. A
3. C
4. B
5. C
6. B
7. D
8. C
9. D
10. C
11. D
12. A
13. C
14. B
15. C
16. A
17. D
18. B
19. A
20. B

(136) TARİH – 6

1. C
2. A
3. B
4. D
5. C
6. A
7. B
8. A
9. B
10. A
11. D
12. B
13. D
14. C
15. A
16. C
17. A
18. B
19. D
20. D

(112) DİN KÜL. AHL. BİL. – 2

1. A
2. D
3. B
4. B
5. C
6. D
7. B
8. C
9. D
10. C
11. D
12. A
13. D
14. A
15. A
16. C
17. D
18. B
19. A
20. C

(121) FELSEFE – 1

1. A
2. B
3. D
4. C
5. D
6. A
7. D
8. C
9. D
10. B
11. D
12. B
13. C
14. B
15. A
16. D
17. C
18. B
19. A
20. A

(132) TARİH – 2

1. C
2. A
3. B
4. A
5. C
6. B
7. D
8. C
9. D
10. D
11. B
12. A
13. B
14. C
15. B
16. A
17. D
18. C
19. B
20. D

(151) COĞRAFYA – 1

1. C
2. D
3. A
4. B
5. C
6. A
7. C
8. C
9. D
10. B
11. D
12. A
13. B
14. D
15. C
16. D
17. A
18. C
19. B
20. A

7 OCAK 2017 TARİHİNDE YAPILAN AÇIKÖĞRETİM LİSESİ / MESLEKİ AÇIKÖĞRETİM LİSESİ
2016-2017 ÖĞRETİM YILI 1. DÖNEM SINAVI 1. OTURUM T KİTAPÇIĞI CEVAP ANAHTARI

(155) COĞRAFYA – 5	(181) İNGİLİZCE – 1	(181) FRANSIZCA – 1	(244) ALMANCA – 5
1. A	1. B	1. C	1. B
2. C	2. D	2. D	2. A
3. B	3. A	3. A	3. D
4. A	4. C	4. B	4. C
5. B	5. A	5. A	5. A
6. D	6. D	6. D	6. C
7. D	7. B	7. C	7. B
8. B	8. A	8. B	8. D
9. B	9. B	9. B	9. A
10. C	10. D	10. C	10. B
11. C	11. C	11. A	11. C
12. D	12. A	12. D	12. D
13. D	13. D	13. A	13. B
14. C	14. A	14. C	14. C
15. C	15. C	15. B	15. C
16. A	16. B	16. C	16. B
17. A	17. D	17. B	17. A
18. B	18. C	18. D	18. D
19. D	19. A	19. A	19. D
20. A	20. D	20. B	20. A

(157) COĞRAFYA – 7	(181) ALMANCA – 1	(244) İNGİLİZCE – 5	(244) FRANSIZCA – 5
1. D	1. A	1. D	1. D
2. A	2. C	2. A	2. A
3. D	3. B	3. C	3. B
4. C	4. A	4. C	4. C
5. B	5. C	5. B	5. A
6. D	6. D	6. D	6. D
7. B	7. A	7. A	7. C
8. A	8. B	8. D	8. B
9. C	9. C	9. B	9. A
10. A	10. D	10. C	10. B
11. A	11. B	11. A	11. D
12. B	12. C	12. D	12. C
13. C	13. D	13. C	13. C
14. D	14. C	14. A	14. B
15. B	15. D	15. B	15. A
16. D	16. B	16. A	16. D
17. C	17. A	17. D	17. D
18. B	18. D	18. D	18. A
19. C	19. A	19. C	19. C
20. A	20. B	20. B	20. B

7 OCAK 2017 TARİHİNDE YAPILAN AÇIKÖĞRETİM LİSESİ / MESLEKİ AÇIKÖĞRETİM LİSESİ
2016-2017 ÖĞRETİM YILI 1. DÖNEM SINAVI 1. OTURUM T KİTAPÇIĞI CEVAP ANAHTARI

(401) DİL ve ANLATIM – 1

1. C
2. C
3. B
4. D
5. C
6. A
7. D
8. D
9. B
10. A
11. C
12. B
13. C
14. B
15. C
16. D
17. A
18. C
19. B
20. A

(407) DİL ve ANLATIM – 7

1. B
2. D
3. A
4. C
5. B
6. C
7. D
8. A
9. C
10. B
11. A
12. D
13. B
14. C
15. A
16. B
17. C
18. A
19. D
20. C

(414) TÜRK EDEBİYATI – 4

1. B
2. C
3. D
4. C
5. D
6. A
7. A
8. D
9. D
10. C
11. B
12. C
13. A
14. A
15. B
16. C
17. B
18. A
19. D
20. B

(418) TÜRK EDEBİYATI – 8

1. B
2. A
3. D
4. B
5. C
6. A
7. B
8. C
9. C
10. D
11. D
12. B
13. A
14. C
15. D
16. C
17. B
18. A
19. D
20. B

(402) DİL ve ANLATIM – 2

1. B
2. B
3. C
4. C
5. A
6. D
7. D
8. A
9. B
10. C
11. C
12. A
13. C
14. D
15. C
16. A
17. C
18. A
19. D
20. B

(408) DİL ve ANLATIM – 8

1. D
2. A
3. C
4. B
5. C
6. A
7. B
8. D
9. B
10. C
11. D
12. A
13. A
14. D
15. B
16. B
17. A
18. A
19. C
20. A

(417) TÜRK EDEBİYATI – 7

1. C
2. A
3. C
4. B
5. A
6. D
7. C
8. D
9. B
10. A
11. B
12. C
13. D
14. C
15. A
16. B
17. C
18. D
19. C
20. D

(421) FİZİK – 1

1. C
2. A
3. D
4. C
5. D
6. B
7. A
8. C
9. D
10. B
11. B
12. D
13. D
14. A
15. C
16. A
17. B
18. C
19. C
20. B

7 OCAK 2017 TARİHİNDE YAPILAN AÇIKÖĞRETİM LİSESİ / MESLEKİ AÇIKÖĞRETİM LİSESİ
2016-2017 ÖĞRETİM YILI 1. DÖNEM SINAVI 1. OTURUM T KİTAPÇIĞI CEVAP ANAHTARI

(425) FİZİK – 5

1. B
2. C
3. A
4. A
5. D
6. A
7. A
8. C
9. B
10. C
11. D
12. A
13. D
14. B
15. D
16. D
17. C
18. A
19. D
20. C

(436) KİMYA – 6

1. A
2. D
3. C
4. B
5. D
6. A
7. B
8. D
9. C
10. B
11. A
12. C
13. C
14. B
15. A
16. D
17. B
18. C
19. D
20. A

(443) BİYOLOJİ – 3

1. C
2. D
3. B
4. D
5. A
6. D
7. C
8. D
9. B
10. C
11. B
12. D
13. B
14. C
15. B
16. C
17. A
18. B
19. C
20. D

(461) EKONOMİ. – 1

1. D
2. B
3. B
4. C
5. A
6. D
7. C
8. B
9. A
10. C
11. B
12. D
13. C
14. C
15. B
16. B
17. A
18. C
19. D
20. B

(432) KİMYA – 2

1. C
2. A
3. D
4. B
5. A
6. D
7. B
8. C
9. D
10. C
11. A
12. C
13. B
14. D
15. A
16. C
17. B
18. D
19. B
20. A

(441) BİYOLOJİ – 1

1. B
2. D
3. B
4. B
5. D
6. B
7. B
8. B
9. C
10. A
11. D
12. A
13. D
14. D
15. B
16. B
17. C
18. A
19. D
20. C

(446) BİYOLOJİ – 6

1. C
2. B
3. D
4. A
5. B
6. D
7. A
8. B
9. C
10. B
11. D
12. B
13. D
14. B
15. A
16. D
17. C
18. D
19. B
20. A

(465) TEMEL DİNİ BİL.– 1

1. A
2. D
3. B
4. B
5. C
6. A
7. B
8. D
9. A
10. D
11. C
12. B
13. A
14. A
15. C
16. B
17. D
18. B
19. A
20. C

7 OCAK 2017 TARİHİNDE YAPILAN AÇIKÖĞRETİM LİSESİ / MESLEKİ AÇIKÖĞRETİM LİSESİ
2016-2017 ÖĞRETİM YILI 1. DÖNEM SINAVI 1. OTURUM T KİTAPÇIĞI CEVAP ANAHTARI

(477) İŞLETME – 2

1. C
2. A
3. C
4. C
5. D
6. B
7. A
8. B
9. D
10. A
11. A
12. A
13. C
14. D
15. A
16. C
17. A
18. B
19. D
20. D

(484) SAĞLIK BİLGİSİ – 2

1. A
2. C
3. D
4. B
5. A
6. C
7. D
8. B
9. D
10. C
11. A
12. A
13. C
14. D
15. B
16. D
17. C
18. B
19. D
20. A

(502) İNGİLİZCE – 8

1. A
2. D
3. D
4. B
5. C
6. A
7. A
8. D
9. B
10. C
11. A
12. D
13. B
14. C
15. A
16. B
17. D
18. C
19. B
20. D

(502) FRANSIZCA – 8

1. D
2. B
3. A
4. C
5. B
6. C
7. D
8. A
9. A
10. C
11. D
12. A
13. D
14. C
15. A
16. B
17. A
18. D
19. C
20. B

(479) MANTIK – 2

1. A
2. C
3. B
4. B
5. A
6. C
7. D
8. D
9. C
10. A
11. A
12. B
13. B
14. C
15. D
16. A
17. C
18. B
19. D
20. A

(491) TRAF. VE İLK YARD. – 1

1. B
2. D
3. A
4. C
5. A
6. D
7. A
8. B
9. C
10. D
11. A
12. B
13. C
14. B
15. C
16. D
17. B
18. A
19. C
20. D

(502) ALMANCA – 8

1. A
2. C
3. A
4. D
5. D
6. A
7. C
8. D
9. A
10. B
11. C
12. D
13. D
14. A
15. B
16. C
17. B
18. D
19. B
20. C

(511) FIKİH – 1

1. B
2. D
3. A
4. B
5. C
6. B
7. D
8. C
9. B
10. C
11. A
12. D
13. B
14. C
15. D
16. C
17. D
18. B
19. C
20. A

7 OCAK 2017 TARİHİNDE YAPILAN AÇIKÖĞRETİM LİSESİ / MESLEKİ AÇIKÖĞRETİM LİSESİ
2016-2017 ÖĞRETİM YILI 1. DÖNEM SINAVI 1. OTURUM T KİTAPÇIĞI CEVAP ANAHTARI

(532) HZ. MUHAMMED'İN HAY. – 2

1. D
2. A
3. D
4. B
5. B
6. D
7. C
8. A
9. B
10. C
11. C
12. A
13. B
14. D
15. A
16. C
17. B
18. D
19. A
20. B

(611) KARŞ. DİN. TARİHİ – 1

1. D
2. A
3. B
4. A
5. C
6. D
7. D
8. C
9. B
10. A
11. B
12. C
13. D
14. C
15. B
16. A
17. C
18. A
19. D
20. A

(618) SEÇ. DİL ve ANLA. – 8

1. B
2. D
3. A
4. D
5. C
6. C
7. A
8. B
9. C
10. B
11. C
12. A
13. C
14. B
15. D
16. D
17. B
18. D
19. B
20. D

(627) SEÇ. TÜRK ED. –7

1. D
2. A
3. C
4. C
5. A
6. B
7. B
8. D
9. C
10. D
11. A
12. B
13. D
14. B
15. C
16. B
17. A
18. D
19. C
20. D

(609) MATEMATİK – 6

1. C
2. A
3. D
4. C
5. B
6. B
7. D
8. A
9. D
10. C
11. A
12. B
13. D
14. B
15. D
16. A
17. D
18. C
19. B
20. C

(617) SEÇ. DİL ve ANLA. – 7

1. B
2. C
3. A
4. B
5. D
6. A
7. C
8. D
9. B
10. D
11. A
12. C
13. A
14. B
15. C
16. A
17. D
18. C
19. B
20. A

(624) SEÇ. TÜRK ED. – 4

1. C
2. B
3. D
4. C
5. A
6. A
7. C
8. D
9. D
10. B
11. A
12. B
13. C
14. B
15. D
16. B
17. A
18. A
19. B
20. D

(628) SEÇ. TÜRK ED. –8

1. C
2. B
3. A
4. D
5. B
6. C
7. D
8. A
9. C
10. B
11. B
12. D
13. A
14. C
15. D
16. D
17. C
18. A
19. D
20. C

7 OCAK 2017 TARİHİNDE YAPILAN AÇIKÖĞRETİM LİSESİ / MESLEKİ AÇIKÖĞRETİM LİSESİ
2016-2017 ÖĞRETİM YILI 1. DÖNEM SINAVI 1. OTURUM T KİTAPÇIĞI CEVAP ANAHTARI

(711) İSLAM TARİHİ – 1

1. D
2. A
3. B
4. A
5. D
6. B
7. D
8. B
9. C
10. C
11. A
12. D
13. C
14. B
15. D
16. A
17. A
18. B
19. B
20. D

(931) SİYER – 1

1. D
2. C
3. A
4. B
5. C
6. B
7. C
8. B
9. C
10. C
11. B
12. A
13. D
14. A
15. B
16. A
17. D
18. D
19. A
20. B

(999) MATEMATİK – 2

1. A
2. C
3. D
4. A
5. D
6. A
7. B
8. D
9. C
10. C
11. B
12. D
13. A
14. C
15. D
16. B
17. A
18. C
19. B
20. D

(811) KELAM – 1

1. D
2. C
3. B
4. C
5. D
6. A
7. B
8. C
9. D
10. B
11. A
12. D
13. C
14. A
15. C
16. A
17. B
18. D
19. A
20. C

(974) GİRİŞİMCİLİK – 1

1. D
2. A
3. D
4. A
5. B
6. C
7. D
8. D
9. B
10. B
11. D
12. A
13. B
14. B
15. C
16. D
17. A
18. C
19. D
20. D