



TA
AÇIK ÖĞRETİM LİSESİ / MESLEKİ AÇIK ÖĞRETİM LİSESİ
2016 - 2017 ÖĞRETİM YILI
1. DÖNEM SINAVI

3.
OTURUM

8 OCAK 2017 Saat: 09.30

<u>DERS KODU VE ADI</u>	<u>SAYFA</u>	<u>DERS KODU VE ADI</u>	<u>SAYFA</u>	<u>DERS KODU VE ADI</u>	<u>SAYFA</u>
(113) DİN KÜL. AHL. BİL. - 3	3	(242) FRANSIZCA - 3	21	(478) MANTIK - 1	43
(114) DİN KÜL. AHL. BİL. - 4	4	(403) DİL VE ANLATIM - 3	22	(500) İNGİLİZCE - 6	44
(116) DİN KÜL. AHL. BİL. - 6	4	(405) DİL VE ANLATIM - 5	23	(500) ALMANCA - 6	45
(122) FELSEFE - 2	6	(406) DİL VE ANLATIM - 6	25	(500) FRANSIZCA - 6	45
(124) SEÇMELİ FELSEFE - 2	7	(413) TÜRK EDEBİYATI - 3	26	(503) SEÇMELİ TARİH - 3	46
(133) TARİH - 3	8	(416) TÜRK EDEBİYATI - 6	27	(504) SEÇMELİ TARİH - 4	47
(134) TARİH - 4	9	(426) FİZİK - 6	29	(505) SEÇMELİ COĞRAFYA - 3	48
(142) T.C. İNK. TAR. ATA. - 2	10	(427) FİZİK - 7	31	(506) SEÇMELİ COĞRAFYA - 4	49
(153) COĞRAFYA - 3	11	(428) FİZİK - 8	32	(533) HZ. MUHAMMED'İN HAY. - 3	51
(154) COĞRAFYA - 4	12	(433) KİMYA - 3	34	(534) HZ. MUHAMMED'İN HAY. - 4	52
(158) COĞRAFYA - 8	13	(434) KİMYA - 4	35	(608) DEM. VE İNSAN HAK. - 2	53
(163) MATEMATİK - 3	15	(435) KİMYA - 5	36	(613) SEÇ. DİL VE ANLA. - 3	55
(165) MATEMATİK - 5	16	(445) BİYOLOJİ - 5	37	(615) SEÇ. DİL VE ANLA. - 5	56
(206) PSİKOLOJİ - 1	17	(448) BİYOLOJİ - 8	38	(616) SEÇ. DİL VE ANLA. - 6	58
(209) SOSYOLOJİ - 2	18	(452) ÇAĞ.TÜRK DÜN.TAR. - 2	39	(623) SEÇ. TÜRK ED. - 3	59
(242) İNGİLİZCE - 3	19	(462) EKONOMİ - 2	40	(626) SEÇ. TÜRK ED. - 6	60
(242) ALMANCA - 3	20	(468) MATEMATİK - 8	41	(975) GİRİŞİMCİLİK - 2	61

ADAYLARIN DİKKATİNE!

- Her ders için 20 soru bulunmaktadır. Bu oturumda **180** dakikalık cevaplama süreniz vardır. Sınav başladıktan sonra ilk **30** dakika tamamlanmadan dışarı çıkmayınız.
- Sınav sırasında çanta, cep telefonu, saat, kablosuz iletişim sağlayan cihazlar ve kulaklık, kolye, küpe, bilezik, yüzük, broş ve benzeri eşyalar ile her türlü elektronik ve/veya mekanik cihazları yanınızda bulundurmuyunuz. Bu araçları yanınızda bulundurmanız ve kopya çekmeye teşebbüs etmeniz hâlinde sınavınız geçersiz sayılacaktır.
- Başvuru şartlarını taşımadığınız hâlde sınava girmeniz, kopya çekmeniz, başka adayın sınav evrakını kullanmanız, geçerli kimlik belgenizi ve sınav giriş belgenizi ibraz edemediğiniz durumlarda sınavınız geçersiz sayılacaktır.
- Sınavın değerlendirilmesi aşamasında, bilgisayar ortamında yapılan kopya analizinde sistemin ikili ve/veya toplu kopya tespiti hâlinde sınavınız geçersiz sayılacaktır.
- Adaylar, sınav kurallarına ve salon görevlilerinin tüm uyarılarına uymak zorundadır. Kurallara ve uyarılara uymayan adayların sınavları geçersiz sayılacaktır.**
- Sınav başladıktan sonra adayların salon görevlileri ve birbirleri ile konuşmaları; kalem, silgi vb. şeyleri istemeleri yasaktır.
- Adaylar sınav süresince, sınav giriş belgesi ile geçerli kimlik belgelerinden birinin aslını (fotoğraflı nüfus cüzdanı, pasaport veya sürücü belgesi) masalarının üzerinde bulundurmamak zorundadır.
- Sınav evraklarını teslim etmeyen, soru kitapçıklarının sayfalarından bir kısmını eksik teslim edenlerin sınavları geçersiz sayılacaktır.**
- Sınav başlamadan önce kitapçığın arkasındaki açıklamaları okuyunuz.

BAŞLAYINIZ DENMEDEN SORU KİTAPÇIKLARINI AÇMAYINIZ.

(113) DİN KÜL. AHL. BİL. – 3

1. "Her şey kendisine muhtaç olduğu halde kendisi hiçbir şeye muhtaç olmayan" **anlamına gelen Allah'ın ismi aşağıdakilerden hangisidir?**
- A) Samed B) Settar
C) Malik D) Cebbar
2. **Allah'ın yaratması ile ilgili aşağıdakilerden hangisi söylenemez?**
- A) Yaratdığı varlıkları koruyup kollar.
B) Dilediğini yaratması için "Ol!" demesi yeterlidir.
C) Evrendeki düzeni yaratıp onu kendi haline bırakmıştır.
D) Yalnızca Allah bir şeyi yoktan yaratabilme gücüne sahiptir.
3. **Duâ ile ilgili aşağıdakilerden hangisi söylenemez?**
- A) Aracı bir kişiye ihtiyaç vardır.
B) Belli bir zaman ve mekânı yoktur.
C) Dua eden gönlünde ferahlık hisseder.
D) İnsanın Allah katındaki değerini artırır.
4. "Onları, gaflet içinde bulunup iman etmezlerken, işin bitirileceği o pişmanlık günü ile uyar."
(Meryem suresi, 39.ayet)
Bu ayette aşağıdaki iman esaslarından hangisi vurgulanmıştır?
- A) Kader ve kaza
B) Ahiret
C) Melekler
D) Kitaplar
5. **Aşağıdakilerden hangisi Kur'an-ı Kerim okurken dikkat edilmesi gereken ilkelerden biri değildir?**
- A) Eûzu besmele ile başlamak
B) Abdestli bir şekilde okumak
C) Maddi beklentiler için okumak
D) Harfleri düzgün şekilde çıkarmak
6. **Aşağıdakilerden hangisi tövbenin sözlük anlamları arasında yer almaz?**
- A) Dönmek B) Azaltmak
C) Pişmanlık D) Vazgeçmek

7. **Aşağıdakilerden hangisi Allah'ın subutî sıfatlarından biridir?**
- A) Kıdem B) Beka
C) Vücut D) İrade
8. • Allah'ın emirlerine asla karşı gelmezler.
• Haberci, elçi, güç anlamlarına gelir.
Hakkında bilgi verilen varlık aşağıdakilerden hangisidir?
- A) Cin B) İnsan
C) Melek D) Peygamber
9. **Aşağıdakilerden hangisi peygamberlerin akıllı ve zeki olma özelliği verilen isimdir?**
- A) Sıdk B) Tebliğ
C) İsmet D) Fetanet
10. Ölüm - Mahşer - Amel defteri - Hesap - Mizan - ?
Ahiret hayatının aşamaları sırasıyla yazılmıştır. Buna göre soru işareti olan bölüme hangisi getirilmelidir?
- A) Sûr'un üflenmesi
B) Cennet/Cehennem
C) Kabir hayatı
D) Haşr/Dirilme
11. İnanan kimse elinde olmayan sıkıntı ve felaketler karşısında bunalıma düşmez, bunların Allah'ın takdiri olduğunu bilir. Kendi hatasının sonucunda karşılaştığı durumlarda ise pişman olur, yanlış tutum ve davranışlardan vazgeçer.
Bu paragrafta aşağıdaki inanç esaslarından hangisi vurgulanmaktadır?
- A) Kitaplara iman
B) Peygamberlere iman
C) Ahirete iman
D) Kader ve kazaya iman
12. Bir davranışın ibadet sayılabilmesi için öncelikle - - - şarttır.
Yukarıdaki cümlede boş bırakılan yere hangisinin getirilmesi uygun olur?
- A) niyet etmek
B) abdest almak
C) iman etmek
D) dua etmek
13. "Sav." ifadesinin açılımı aşağıdakilerden hangisidir?
- A) Aleyhisselam
B) Semiallahu limen hamideh
C) Sallallahu aleyhi vessellem
D) Selamün aleykum ve rahmetullah

14. I. Beden ile yapılan
II. Mal ile yapılan
III. Hem mal hem beden ile yapılan
Yukarıdaki ibadet çeşitlerine verilen örneklerin sıralaması hangisinde doğru verilmiştir?
- | I. | II. | III. |
|----------|-------|--------|
| A) Oruç | Zekât | Hac |
| B) Namaz | Oruç | Umre |
| C) Oruç | Namaz | Hac |
| D) Namaz | Zekât | Sadaka |
15. **Aşağıdakilerden hangisi Hz. Peygamberin sünnet çeşitlerine verilen isimlerden biri değildir?**
- A) Fiili B) Takriri
C) Sözlü D) Örfi
16. Kur'an-ı Kerim'in doğru bilgi, doğru inanç ve doğru davranışlarla gösterdiği İslam yoluna - - - denir.
Cümlede boş bırakılan yere hangisinin getirilmesi gerekir?
- A) sırat-ı müstakim
B) esbab-ı nüzul
C) tilavet
D) tefsir
17. **Hz. Muhammed (sav.) İslam'ı tebliğ etmeye öncelikle kimlerden başlamıştır?**
- A) Mekke'nin ileri gelenlerinden
B) Kimsesiz ve yoksullardan
C) Devlet başkanlarından
D) Yakın akrabalarından
18. **Kur'an-ı Kerim'in anlamının kısa açıklamalarla başka bir dile çevrilmesine ne ad verilir?**
- A) Tefsir B) Meal
C) Suhuf D) Tecvit
19. **Aşağıdakilerden hangisi tövbeyi geçerli kılan durumlardan biri değildir?**
- A) Günahı terk etmek
B) Yaptığına pişman olmak
C) İçten ve samimi olmak
D) Ölüm anında yapmaktır
20. Allah'ın rızasını kazanmak için yapılan her güzel iş, söz ve davranıştır.
Bu tanımda ifade edilen kavram hangisidir?
- A) Vacip B) Salih amel
C) Tevekkül D) Nimet

3. OTURUM

(114) DİN KÜL. AHL. BİL. – 4

1. Hukukun üstünlüğü herkes için geçerlidir. Hukuk kurallarında kimseye - - - tanınmaz, herkes eşittir.
Cümlede boş bırakılan yere hangisinin getirilmesi uygun olur?
- A) Hak B) Fırsat
C) Ehliyet D) Ayrıcalık
2. **Aşağıdakilerden hangisi kul hakkı ihaline girmez?**
- A) Vergi kaçırarak
B) Askere gitmek
C) Gıybet etmek
D) İftira atmak
3. İslam'a göre doğru bilgiye akıl, vahiy ve - - - ile ulaşılabilir.
Cümlede boş bırakılan yere hangisinin getirilmesi gerekir?
- A) Tahmin B) Rüya
C) Duyu D) Sezgi
4. Peygamberimiz Bedir Savaşı esirlerini, on Müslümana okuma-yazma öğretmesi karşılığında serbest bırakmıştır.
Hz. Peygamber bu davranışıyla aşağıdakilerden hangisinin önemini ortaya koymuştur?
- A) Eğitim B) Sağlık
C) Ekonomi D) Hukuk
5. **Vahiyler peygamberlere daha çok hangi yolla gelmiştir?**
- A) Rüya ile
B) Doğrudan
C) Perde arkasından
D) Cebrail vasıtasıyla
6. **Hz. Peygamber'e ilk vahiy nerede gelmiştir?**
- A) Hira Mağarası
B) Sevr Mağarası
C) Ranuna Vadisi
D) Arafat Tepesi
7. **İslam eğitim kurumlarından olan medreselerde ders veren kimsele-re ne isim verildi?**
- A) Müfessir B) Şeyhülislam
C) Müderris D) Kadı

8. **Avrupalı denizcilerin keşfetmesinden asırlar önce Antartika Kıtası'nın da içinde olduğu dünya haritasını çizen Müslüman bilim adamı kimdir?**
- A) İbn-ül Heysem
B) Ömer Hayyam
C) El-Battani
D) Piri Reis
9. **Kişinin hür iradesi ile düşünüp, dilediğini yapabilmesi aşağıdaki kavramlardan hangisiyle ifade edilir?**
- A) Özgürlük B) Eşitlik
C) Hoşgörü D) Adalet
10. **İslam tarihindeki ilk eğitim kurumu aşağıdaki meşitlerden hangisinin bünyesinde yer almıştır?**
- A) Mescid-i Kibleteyn
B) Kuba Mescidi
C) Mescid-i Nebi
D) Mescid-i Haram
11. **Aşağıdakilerden hangisi dinin doğru kaynaklardan öğrenilmesinin sonuçlarından biri değildir?**
- A) Yozlaşmanın başlaması
B) Dinin iyi anlaşılması
C) Halkın aydınlanması
D) Barışın hâkim olması
12. "Birbirinizin gizli ve ayıp hallerini araştırmayınız."
(Hucurat suresi, 12. ayet)
Bu ayet hangi temel hak ve özgürlüğe vurgu yapmaktadır?
- A) Yaşama ve sağlık hakkı
B) İnanç özgürlüğü
C) Düşünce özgürlüğü
D) Özel yaşamın gizliliği hakkı
13. **Din ve bilim hakkında aşağıda verilen bilgilerden hangisi yanlıştır?**
- A) Bilim nasıl sorusuna cevap arar.
B) Din niçin sorusuna cevap arar.
C) Din ve bilim insanı özgürleştirir.
D) Din ve bilim çatışır.
14. **Aşağıdaki bilgilerden hangisi yaşama ve sağlık hakkı ile ilgili değildir?**
- A) Tüm hak ve özgürlüklerin temelini oluşturur.
B) İslam bu hakkın çiğnenmesini büyük günah sayar.
C) Milli Eğitim Temel Kanunu ile güvence altına alınmıştır.
D) Zararlı alışkanlıklar bu hakkın bir gereği olarak yasaklanmıştır.

15. **İnanç özgürlüğü Anayasada hangi ilkeyle teminat altına alınmıştır?**
- A) Milliyetçilik
B) Laiklik
C) Cumhuriyetçilik
D) Halkçılık
16. **İslam tarihinde Hz. Ömer en çok hangi özelliğiyle bilinmektedir?**
- A) Sabrı B) İlmi
C) Adaleti D) Çalışkanlığı
17. **Peygamberimiz işinin ücretinin, alın teri kurumadan verilmesini istemiştir. Bu durum temel hak ve özgürlüklerden hangisine örnek oluşturur?**
- A) Sağlık hakkı B) Eğitim hakkı
C) İbadet hakkı D) Ekonomik hak
18. **Bir fikre körü körüne bağlanıp başka görüşlere düşmanlık beslemeye - - - adı verilir. Cümlede boş bırakılan yere hangisinin getirilmesi uygun olur?**
- A) Taassup B) Cahillik
C) İlkellik D) Bilimsellik
19. **Hz. Ömer zamanında devlet gelirlerinin adil bir şekilde dağıtılması için aşağıdakilerden hangisi kurulmuştur?**
- A) Tımar sistemi B) Divan teşkilatı
C) Darüşşifa D) Darülkurra
20. **Önceleri genel okuma-yazma öğretimi veren kurumlar görevini üstlenirken, sonraları çocuklara medrese öncesi eğitim veren ilk mektepler konumunu almıştır. İşlevi hakkında bilgi verilen kurum aşağıdakilerden hangisidir?**
- A) Beytü-l Hikme B) Kütüphaneler
C) Suffe D) Daru-l Aceze

(116) DİN KÜL. AHL. BİL. – 6

1. **1920'de kurulan Meclis Hükümeti döneminde din hizmetleri hangi kurum tarafından yürütülmekteydi?**
- A) Şeyhülislam
B) Maârif Vekâleti
C) Şer'îye ve Evkaf Vekâleti
D) Din İşleri Yüksek Kurulu

3. OTURUM

2. Hristiyanlıkta evlilik anlayışına göre aşağıdakilerden hangisi doğru değildir?

- A) Çok eşlilik normal kabul edilir.
- B) Hz. İsa ile kilisenin birliğini temsil eder.
- C) Katolik mezhebi zina dışında boşanmaya izin vermez.
- D) Evlenen çiftler Tanrı tarafından tek bir varlık olarak kabul edilir.

3. • “İçinizden gücü yeten evlensin. Çünkü iffeti ve namusu korumanın en etkili yolu evliliklidir.”

- “Nikâh benim sünnetimdir...”
- “Allah katında en sevimsiz helal boşanmadır.”

Bu hadislerden aşağıdakilerden hangisi çıkarılamaz?

- A) İslam dini evliliği teşvik etmiştir.
- B) Nikâh, topluma ilan edilerek yapılmalıdır.
- C) Boşanma yasaklanmamakla birlikte hoş karşılanmamıştır.
- D) İffet ve namusu korumanın en etkili yolu evlilik olarak gösterilmiştir.

4. Hz. Peygamber’in kızlarının en küçüğüdür. Kendisine “ beyaz, parlak ve aydın yüzlü kadın ” anlamına gelen “ Zehra ” denilmiştir. Ayrıca “namuslu kadın anlamına gelen “ Betül ” de denilmekteydi. Sağlık ve sosyal arđım alanındaki hizmetleriyle İslam kültüründe tanınmıştır.

Bilgileri verilen kişi Peygamber (sav.)’ın hangi kızıdır?

- A) Hz. Ümmüğülsüm
- B) Hz. Zeynep
- C) Hz. Rukiyye
- D) Hz. Fatma

5. Aşağıdakilerden hangisi Diyanet İşleri Başkanlığı için söylenemez?

- A) İslam dini ile ilgili hizmetler vermekle yükümlüdür.
- B) Bireylerin manevi ve ahlaki değerlere bağlılığını artırmayı amaçlamaktadır.
- C) İlahiyat fakültelerinde okutulacak ders programlarını düzenler.
- D) Din hizmeti veren özel kuruluşların faaliyetlerini değerlendirmekle görevlidir.

6. Aşağıdakilerden hangisi evlilik için söylenemez?

- A) Tarafların belirli bir süre için yaptıkları anlaşmadır.
- B) Neslin sağlıklı olarak devam etmesinin bir şartıdır.
- C) Her toplu kendi inanç ve kültürüne göre esaslara bağlamıştır.
- D) Tarihin bütün dönemlerinde var olmuş toplumsal bir kurumdur.

7. Aşağıdakilerden hangisi Diyanet İşleri Başkanlığı birimlerinden değildir?

- A) Din Hizmetleri Genel Müdürlüğü
- B) Eğitim Hizmetleri Genel Müdürlüğü
- C) Hac ve Umre Hizmetleri Genel Müdürlüğü
- D) Din Öğretimi Genel Müdürlüğü

8. Kur’an-ı Kerim okumak, anlamını öğrenmek, hafızlık yapmak, din eğitimi almak için kurslar düzenlemek ve Kur’an kursları açmak Diyanet İşleri Başkanlığının hangi biriminin görevidir?

- A) Din Hizmetleri Genel Müdürlüğü
- B) Eğitim Hizmetleri Genel Müdürlüğü
- C) Hac ve Umre Hizmetleri Genel Müdürlüğü
- D) Dini Yayınlar Genel Müdürlüğü

9. Aşağıdakilerden hangisi il müftülüklerine bağlı olarak görev yapar?

- A) Müezzin - Kayyım
- B) Vaiz - Vaize
- C) İl müftüsü
- D) İlçe müftüsü

10. Tarık imam-hatip lisesinde okuyan sesi güzel bir öğrencidir. Çeşitli ses, müzik ve şan eğitimleri alıp kendisini geliştirerek bu yeteneğini kullanacağı bir meslekte görev almak istemektedir.

Buna göre Tarık için aşağıdaki mesleklerden hangisi daha uygun olur?

- A) Müftü
- B) Vaiz
- C) İmam
- D) Müezzin

11. Cami ve mescitler ile diğer mekânlarda her türlü vasıtanın yararlanarak insanları dini konularda bilgilendirici ve doğru yolu gösterici nitelikte konuşmalar yapar. Genellikle Cuma ve bayram namazı öncesi ve haftanın belli günlerinde halkı aydınlatıcı bilgiler verir.

Görev alanı verilen din görevlisi aşağıdakilerden hangisidir?

- A) Müftü
- B) Vaiz
- C) İmam
- D) Müezzin

12. 1925’ te mecliste kabul edilen bir önerge üzerine Diyanet İşleri Başkanlığı tefsir yazma görevini aşağıdaki müfessirlerden hangisine vermiştir?

- A) Fahreddin Râzi
- B) İbn-i Kesir
- C) Elmalılı Muhammed Hamdi Yazır
- D) Mehmet Akif Ersoy

13. Aşağıdakilerden hangisi “Sahih-i Buhari Muhtasarı, Tecrid-i Sarih Tercümesi ve Şerhi” adlı hadis kaynağını Türkçe’ye tercüme etmiştir?

- A) Babanzade Ahmet Naim
- B) Recaizade Mahmut Ekrem
- C) Elmalılı M. Hamdi Yazır
- D) İmam Buhari

14. Cuma ve bayram namazlarında insanların dini konularda aydınlatmak ve onlara dini mesajlar vermek amacıyla yapılan konuşmaya ne ad verilir?

- A) Vaaz
- B) Hutbe
- C) Seminer
- D) Sohbet

15. İslam ve estetik arasındaki ilişki düşünüldüğünde aşağıdakilerden hangi sonuç çıkarılamaz?

- A) Dinimizin temizliğe önem vermesi; hamam, şadırvan gibi eserleri ortaya çıkarmıştır.
- B) Su içirmenin sevap olması; sebil ve çeşmelerin inşa edilmesine sebep olmuştur.
- C) Cemaatle namaz kılmanın teşvik edilmesi, camilerin yapılmasına sebep olmuştur.
- D) Dinimizin güzel sözünü teşvik etmesiyle Arap dilinin ve edebiyatının önemi artmıştır.

16. “Allah her şeyi güzel yaratmıştır. Siz de her şeyi güzel yapın.”

H. Peygamber’in bu sözü aşağıdakilerden hangisine daha çok değinmektedir?

- A) Söзде güzelliğ
- B) İş ve üründe güzelliğ
- C) Davranışta güzelliğ
- D) Fiziki yapıda güzelliğ

17. Aşağıdaki sanat ve sanatkar eşleştirmelerden hangisi yanlıştır?

- A) Hüsnühat- Hattat
- B) Tezhip- Müzehhip
- C) Minyatür- Heykeltıraş
- D) Nakış- Nakkaş

3. OTURUM

18. İslam medeniyetinde ortaya çıkan önemli sanat dallarından biri olup altın tozu ve boya kullanılarak yapılan süsleme sanatıdır. Bu sanatta sayfa kenarları, satır aralarındaki boşluklar, cümle ve ayet sonları renkli ve yaldızlı çizgilerle süslenir.

Bilgisi verilen sanat dalı aşağıdakilerden hangisidir?

- A) Tezhip B) Hüsnühat
C) Minyatür D) Ebru

19. Aşağıdaki eserlerden hangisi Mimar Sinan'a aittir?

- A) Sultan Ahmet Camii
B) İstanbul Şehzade (Mehmet) Camii
C) Bursa Ulu Camii
D) Zağnos Paşa Camii

20. İslam tarihinde yapılan ilk mescit aşağıdakilerden hangisidir?

- A) Mescid-i Nebi B) Mescid-i Aksa
C) Kuba Mescidi D) Dırar Mescidi

(122) FELSEFE – 2

1. Aşağıdakilerden hangisi ahlaki yargıların özelliklerinden değildir?

- A) Kurallar koyması
B) Yaptırım gücüne sahip olması
C) Toplumdan topluma değişebilmesi
D) Duygulara ve coşkuya dayanması

2. • Ahlakın övdüğü doğruluk, adalet gibi ahlaki nitelik taşıyan değerlerdir.
• İnsanın eylemlerinin ahlaki bakımdan iyi olup olmadığına karar veren iç mahkemedir.

Tanımlanan bu kavramlar aşağıdakilerin hangisinde sırasıyla verilmiştir?

- A) Erdem - vicdan
B) Erdem - özgürlük
C) Sorumluluk- vicdan
D) Özgürlük- sorumluluk

3. Hedonizme göre insan eylemlerinin ahlaki değeri aşağıdakilerden hangisi ile ölçülür?

- A) Kişiye verdiği hazla
B) Kişiye sağladığı faydayla
C) Kişiye sağladığı özgürlükle
D) Kişiye kazandırdığı bilgiyle

4. İndeterminist yaklaşıma göre birey, iyi-kötü, değerli-değersiz arasındaki seçimi kendi iradesiyle yapar. Determinizme göre ise, insanın irade ve eylemleri içten veya dıştan gelen nedenlerle belirlendiği için, bu nedenler bireyin kararlarını etkilemektedir.

Bu görüşler ahlak felsefesinde hangi soruya verilmiş yanıtları oluşturur?

- A) İyi nedir?
B) Ahlaki eylemin bir amacı var mıdır?
C) İnsan bencil mi yoksa özgeci midir?
D) İnsan ahlaki eylemde bulunurken özgür müdür?

5. "Bilginin yolunu izleyen erdemli ve mutlu olur." görüşü aşağıdaki filozoflardan hangisine aittir?

- A) J. Bentham B) Sokrates
C) Epiküros D) F. Nietzsche

6. Mevlana'ya göre gelip geçici zevkleri yenmenin ve Tanrı'yla bütünleşmenin yolu "aşk"tır. O halde, evrensel ahlak yasasının temeli de aşk ya da sevgidir. Bu sevgi ve aşk, insanın davranışlarında uyacağı ahlak yasasını gösterir.

Aşağıdaki yargılardan hangisi Mevlana'nın bu görüşlerine uygundur?

- A) Haz veren eylemler iyi, vermeyenler kötüdür.
B) Bir eylem iyi ideasına uygunsaydı iyi, değilse kötüdür.
C) Fayda sağlayan eylemler iyi, sağlamayanlar kötüdür.
D) Yaratılmış her varlığı sevmek iyi, sevmemek kötüdür.

7. Aşağıdakilerden hangisi devlet yönetim biçimlerinden değildir?

- A) Monarşi B) Meşruyet
C) Aristokrasi D) Demokrasi

8. Aşağıdakilerden hangisi siyaset felsefesinin temel soruları arasında yer alır?

- A) Güzel nedir?
B) Tanrı var mıdır?
C) Egemenliğin kullanılış biçimleri nelerdir?
D) İnsanın bu evrendeki yeri ve değeri nedir?

9. Platon'a göre devleti ortaya çıkaran, insanın ihtiyaçlarını tek başına karşılayamaması, gereksinimlerini karşılayabilmek için başkalarının yardımına muhtaç olması gibi doğal bir nedendir.

Platon'un bu görüşüne göre iktidarın kaynağı aşağıdakilerden hangisidir?

- A) Tanrı
B) Gelenekler
C) Hukuk kuralları
D) İnsanın doğal yapısı

10. Aşağıdakilerden hangisi ideal düzenin özgürlükle kurulabileceğini savunan görüşe uygun bir yargıdır?

- A) İdeal bir toplum düzeni kurulamaz.
B) İnsanlar arasında mutlak eşitlik sağlanmalıdır.
C) Bireysel özgürlüklerin önündeki engeller kaldırılmalıdır.
D) Özgürlük üretim araçlarının ortak mülkiyeti ile sağlanabilir.

11. Aşağıdakilerden hangisi devletin varlığı için zorunlu olan öğelerden değildir?

- A) Ülke
B) Egemenlik
C) Sivil toplum
D) İnsan topluluğu

12. Aşağıdakilerden hangisi korku ütopyaları arasında yer alır?

- A) 1984
B) Ütopya
C) Güneş Ülkesi
D) Erdemli Toplum

13. Yusuf Has Hacıp'e göre birey-devlet ilişkisinin sağlam temellere oturtulması için aşağıdakilerden hangisi gerekli değildir?

- A) Bireylerin erdemli davranması
B) Devletin adil yasalara dayanması
C) Devletin bireyin gelişimine katkıda bulunması
D) Bireylerin Tanrı inancını reddetmesi

14. "Güzelliği ve güzel sanatların doğasını inceleyen felsefe dalı" şeklinde tanımlanan kavram aşağıdakilerden hangisidir?

- A) İdea B) Etik
C) Estetik D) Mimesis

3. OTURUM

15. Doğaya uygunluk sanatın ayırt edici özelliği değildir. Eğer öyle olsaydı, fotoğrafçılık en değerli sanat olurdu ve resim sanatına ihtiyaç kalmazdı. Çünkü bir fotoğraf, nesnesini ona en uygun biçimde yansıtır.

Bu eleştiri aşağıdaki görüşlerden hangisine yapılmıştır?

- A) Bir sanat eseri doğayı yansıttığı ölçüde güzeldir.
B) Sanat eseri sanatçının yaratıcı hayal gücünün eseridir.
C) Sanat sanatçının madde ve biçimle oynamasıyla ortaya çıkar.
D) Doğada mükemmellik yoktur, sanatçı mükemmelliği kendisi yaratır.

16. Aşağıdakilerden hangisi estetik yargıların özelliklerinden değildir?

- A) Kişiden kişiye değişebilirler.
B) Kişinin duygularına bağlı ve öznel yargılardır.
C) Kültürel özelliklerden etkilenmezler.
D) Zaman içinde değişikliğe uğrayabilirler.

17. Din felsefesinin temel amacı aşağıdakilerden hangisidir?

- A) Tanrı'nın varlığını kanıtlamak
B) İnananların inançlarını güçlendirmek
C) Belli bir dinin akılsal savunusunu yapmak
D) Din olgusunu akla dayanarak açıklamaya çalışmak

18. "Tanrı'nın varlığını ve buyruklarını dolaylı ve dolaysız olarak peygamberler aracılığıyla insanlara duyurması" aşağıdaki hangi kavramla ifade edilir?

- A) İman
B) Vahiy
C) Kutsal
D) İbadet

19. Meydana gelen her şey, mantıken onu meydana getiren bir varlığa muhtaçtır. Evrende zaman içinde, sonradan meydana geldiğine ve hiçbir şey yoktan var olamayacağına göre, onu meydana getiren bir Tanrı vardır.

Yukarıda Tanrı'nın varlığına ilişkin kanıtlardan hangisi açıklanmıştır?

- A) Ahlaki kanıt
B) Ereklilik kanıtı
C) Ontolojik kanıt
D) Kozmolojik kanıt

20. Aşağıdaki görüşlerden hangisi Tanrı'nın varlığının veya yokluğunun bilinemeceğini savunur?

- A) Tanrıçılık
B) Yaradancılık
C) Tüm Tanrıçılık
D) Bilinemezlik

(124) SEÇMELİ FELSEFE – 2

1. Felsefenin ahlakı konu alan dalını ifade eden kavram aşağıdakilerden hangisidir?

- A) İyi
B) Etik
C) Vicdan
D) Estetik

2. Erdem, insan varlığına gerçek anlamını veren ahlaki niteliklerin bir toplamıdır. Ahlakın övdüğü, yapılması bireyden beklenen değerlerdir.

Bu tanıma göre aşağıdakilerden hangisi bir erdem değildir?

- A) Kötülük
B) Cesaret
C) Dürüstlük
D) Alçakgönüllülük

3. I. Evrensel ahlak yasası var mıdır?
II. Ahlaki eylemin amacı var mıdır?
III. İnsan ahlaki eylemde bulunurken özgür müdür?

Yukarıdakilerden hangileri ahlak felsefesinin temel soruları arasında yer alır?

- A) I ve II
B) I ve III
C) II ve III
D) I, II ve III

4. Oto determinizme göre insan, aklını kullanarak ve bilgi birikimini artırarak özgürleşebilir. Dolayısıyla özgürlüğün doğuştan getirildiği görüşüne karşı çıkar. Bu görüş, ahlaki eylemin kaynağını kişiliğe dayandırdığından özgürlüğe de yer vermektedir.

Buna göre aşağıdaki yargılardan hangisi oto determinizme ters düşer?

- A) İnsan özgür olabilir.
B) Özgürlük kişinin çabasına bağlıdır.
C) Her insan özgürlüğe sahip olarak doğar.
D) İnsanın bilgisi arttıkça, özgürlüğü de artar.

5. İyi niyete dayanan ve ödev duygusundan kaynaklanan her eylemin ahlaki olduğunu savunan filozof aşağıdakilerden hangisidir?

- A) Kant
B) Bergson
C) Epikuros
D) J.Paul Sartre

6. Ahlaksal egoizme göre, yaşamda ilk önce gelen ve her şeyden değerli olan şey bireyin kendi mutluluğu ve başarısıdır. Bütün insanlar kendi çıkarlarını gerçekleştirecek biçimde davranmak zorundadır. İyi ise bireyin, arzu ve ihtiyaçlarını karşılaması ve hedeflerini gerçekleştirmesi sonucu oluşur.

Bu parçadan aşağıdakilerin hangisine ulaşılabilir?

- A) En yüce değer başkalarına iyilik yapmaktır.
B) Ahlakta egemen olan şey insanın kendi çıkarıdır.
C) İnsan başkalarını mutlu ettiği ölçüde mutlu olur.
D) İyi tüm insanların ihtiyaçlarının karşılanmasıyla oluşur.

7. • İyi ideası, iyiliğin özünü oluşturur.
• Bir eylem iyi ideasına uygunsa iyi, değilse kötüdür.

Bu ahlak görüşünü savunan filozof aşağıdakilerden hangisidir?

- A) Platon
B) Aristippos
C) J. P. Sartre
D) Aristoteles

8. Aşağıdakilerden hangisi evrensel ahlak yasasını tasavvuf düşüncesiyle temellendiren düşünürler arasında yer almaz?

- A) Mevlâna
B) Sokrates
C) Yunus Emre
D) Hacı Bektaş Veli

9. "Belirli bir toplumda, bireyler arasındaki ilişkileri ve toplumsal yaşamı düzenleyen, devletin yaptırım gücüyle uyulması zorunlu hale getirilen kurallar bütünüdür."

Yukarıda siyaset felsefesinin hangi temel kavramı tanımlanmıştır?

- A) Hak
B) Devlet
C) Hukuk
D) Meşruiyet

10. Aşağıdakilerden hangisi bürokrasiye yöneltilen eleştirilerden biridir?

- A) Yasal kurallara ve yaptırımlara dayanması
B) İş bölümüyle oluşan görev dağılımının olması
C) Mevkilere göre verilmiş sorumluluğun bulunması
D) Araç olmaktan çıkıp siyasi bir güç haline gelmesi

3. OTURUM

11. Max Weber'e göre demokratik otoritenin kaynağı aşağıdakilerden hangisidir?

- A) Tanrı
- B) Gelenekler
- C) Yazılı hukuk kuralları
- D) Liderin olağanüstü nitelikleri

12. Aşağıdakilerden hangisi tüm insanların üzerinde anlaşabilecekleri ideal bir düzen oluşturulamayacağını savunan düşünürler arasında yer alır?

- A) Gorgias
- B) Adam Smith
- C) J. Stuart Mill
- D) Saint Simon

13. Karl Marx'a göre liberalizm, toplumu üretim araçlarına sahip olan burjuva sınıfı ve emeğini satarak geçimini sağlayan işçi sınıfı olarak eşitsiz bir şekilde bölmüştür. Bu eşitsizlik giderilmezse ülkenin bütünlüğü tehlikeye girecektir. İdeal düzen ancak, üretim araçlarının belli bir zümreye ait olmasıyla değil, toplumun ortak mülkiyeti ile sağlanabilir.

Aşağıdakilerden hangisi Marx'ın bu düşüncelerine uygun bir yargıdır?

- A) İdeal düzen hiçbir şekilde sağlanamaz.
- B) Liberalizm toplumda eşitsizliğe yol açmıştır.
- C) Üretim araçlarının mülkiyeti belli bir zümreye ait olmalıdır.
- D) Eşitliğin sağlanması ülkenin bütünlüğünü tehlikeye sokar.

14. Aşağıdakilerden hangisi Platon'a ait olan "Devlet" ütopyasının özelliklerinden değildir?

- A) Eğitime önem verilmesi
- B) Devletin sınıflardan oluşması
- C) Kadın erkek eşitliğinin olması
- D) Yöneticilerin din adamlarından seçilmesi

15. Aşağıdakilerden hangisi estetiğin soruları arasında yer alır?

- A) Devlet gücünü nereden alır?
- B) Ortak bir güzellik anlayışı var mıdır?
- C) İnsan eylemlerinin yöneldiği bir amaç var mıdır?
- D) Özgürlük ve sorumluluk arasında nasıl bir ilişki vardır?

16. I. Sanat insanı gündelik kaygılardan uzaklaştırır.
II. Sanat, sanatçının nesnelere taklit etmesiyle doğar.
III. Sanat ile oyun arasında bir benzerlik vardır.

Yukarıdaki görüşlerden hangileri sanatı oyun olarak gören yaklaşıma aittir?

- A) Yalnız I
- B) I ve II
- C) I ve III
- D) II ve III

17. "Sanat eserlerinin kişide yarattığı hoşlanma duygusu" aşağıdaki kavramlardan hangisi ile ifade edilir?

- A) Estetik haz
- B) Estetik özne
- C) Estetik tavr
- D) Estetik nesne

18. Aşağıdaki özelliklerden hangisi felsefenin dine bakış açısını yansıtmaz?

- A) Nesnellik
- B) Tarafılık
- C) Tutarlılık
- D) Rasyonellik

19. Aşağıdaki kavramlardan hangisi birden çok Tanrı'nın varlığına inanmayı ifade eder?

- A) Deizm
- B) Teizm
- C) Panteizm
- D) Politeizm

20. Bütün insanlar iyilik yapmaya kötü-lüklerden uzak durmaya eğilimlidir. Bu yasa öğrenilmemiştir ve vicdanlarımızda hazır olarak bulunur. Bunu da insana kazandıran Tanrı'dır.

Yukarıda Tanrı'nın varlığına ilişkin kanıtlardan hangisi açıklanmıştır?

- A) Ahlaki kanıt
- B) Ereklilik kanıtı
- C) Ontolojik kanıt
- D) Kozmolojik kanıt

(133) TARİH – 3

1. Osman Bey, 1281 yılında aşağıdakilerden hangisinin ölümü sonrasında Kayı boyunun başına geçmiştir?

- A) Orhan Bey
- B) Ertuğrul Gazi
- C) Şeyh Edebali
- D) İli. Alaeddin Keykubat

2. Osmanlı Devleti'ne katılan ilk beylik, aşağıdakilerden hangisidir?

- A) Germiyanogulları
- B) Karamanogulları
- C) Candaroğulları
- D) Karesioğulları

3. Aşağıdakilerden hangisi ilk Osmanlı - Bizans savaşı olma özelliğini taşır?

- A) Koyunhisar
- B) Sırpsındığı
- C) Maltepe
- D) Çirmen

4. Sazlıdere Savaşı'ndan sonra Osmanlı Devleti'ne başkent olan şehir, aşağıdakilerden hangisidir?

- A) Bilecik
- B) Bursa
- C) Edirne
- D) İstanbul

5. Şehit olan ilk Osmanlı padişahı, aşağıdakilerden hangisidir?

- A) I. Murat
- B) I. Selim
- C) I. Ahmet
- D) II. Osman

6. Aşağıdakilerden hangisi, Yıldırım Bayezit Dönemi'nde Osmanlı topraklarına katılan Anadolu beyliklerinden biri değildir?

- A) Aydınogulları Beyliği
- B) Hamitoğulları Beyliği
- C) Ramazanoğulları Beyliği
- D) Saruhanogulları Beyliği

7. Bağdat hükümdarı Ahmet Celayir ile birlikte Timur'a karşı giriştiği mücadeleyi kaybedince Osmanlı hükümdarı Yıldırım Bayezit'e sığınan Kara Yusuf Bey, aşağıdaki hangi devletin hükümdarıdır?

- A) Harzemşahlar
- B) Karakoyunlu
- C) Akkoyunlu
- D) Memlük

8. Osmanlı Devleti'nin Kuruluş Dönemi'nde meydana gelen aşağıdaki savaşlardan hangisi Haçlılarla yapılmamıştır?

- A) I. Kosova
- B) Niğbolu
- C) Ankara
- D) Varna

9. Aşağıdakilerden hangisi, Osmanlı Devleti'nin mali ve idari işlerinin yürütülmesinden sorumlu olan sınıftır?

- A) İlmiye
- B) Seyfiye
- C) Devşirme
- D) Kalemîye

10. Tımar sisteminin bozulması, aşağıdaki alanların hangisi üzerinde herhangi bir olumsuz etki yapmıştır?

- A) Dinî
- B) Siyasi
- C) Askerî
- D) Ekonomik

3. OTURUM

11. Asıl adı "Hızır Reis" olan ve Kanuni Sultan Süleyman Dönemi'nde Osmanlı hizmetine giren ünlü denizci, aşağıdakilerden hangisidir?

- A) Oruç Reis
B) Piyale Paşa
C) Kemal Reis
D) Barbaros Hayrettin Paşa

12. Osmanlı Devleti'nin ilk beylerbeyliği, aşağıdakilerden hangisidir?

- A) Anadolu B) Rumeli
C) Bağdat D) Mısır

13. Karadeniz, aşağıdaki hangi Osmanlı padişahı döneminde bir Türk gölü hâline gelmiştir?

- A) II. Ahmet B) II. Murat
C) II. Osman D) II. Mehmet

14. Osmanlı'nın 1656 – 1683 yılları arasında tarihlenen Köprülüler Dönemi'nin ilk sadrazamı, aşağıdakilerden hangisidir?

- A) Mehmet Paşa
B) Fazıl Ahmet Paşa
C) Fazıl Mustafa Paşa
D) Merzifonlu Kara Mustafa Paşa

15. Osmanlı Devleti'nde hangi sanatta uğraşanlara "nakkaş" adı verilirdi?

- A) Hat B) Ebru
C) Tezhip D) Minyatür

16. "...I...'da ipek, ...II...'da tiftik, ...III...'te de çuha üretimi öne çıkmıştır."

Verilen bilgi cümlesinin doğru olabilmesi için numaralandırılarak boş bırakılan yerlere, aşağıdakilerden hangisi yazılmalıdır?

	I	II	III
A)	İstanbul	Bursa	Selanik
B)	Van	Ankara	Bitlis
C)	Bursa	Ankara	Selanik
D)	Ankara	Adana	Siirt

17. Aşağıdakilerden hangisi coğrafi keşiflerin sebepleri arasında yer almaz?

- A) Doğu ülkelerinin zengin oluşu
B) Katolik Kilisesi'nde görülen bozulmalar
C) Avrupalıların Hristiyanlığı yayma düşüncesi
D) İpek ve Baharat yollarının Türklerin hâkimiyeti altında bulunması

18. Osmanlı Devleti, aşağıdaki antlaşmalardan hangisiyle doğuda en geniş sınırlara ulaşmıştır?

- A) Serav B) Kasrı Şirin
C) Nasuh Paşa D) Ferhat Paşa

19. Avrupa'da, aşağıdakilerden hangisinin sonucunda mezhep birliği bozulmuştur?

- A) Haçlı Seferleri
B) Veraset Savaşları
C) Reform hareketleri
D) Rönesans hareketleri

20. Yeniçeri Ocağı için söylenen "Ocak, devlet içindir." anlayışının 17. yüzyılda "Devlet, ocak içindir." şekline dönüşmesi, aşağıdakilerden hangisine ortam hazırlamış olabilir?

- A) İstanbul isyanlarına
B) Eyalet isyanlarına
C) Fransız İhtilali'ne
D) Lale Devri'ne

(134) TARİH – 4

1. Avrupa devletlerinin 18. yüzyılda devletler arası politikalarında benimseyip uyguladıkları "amaca ulaşmak için her türlü araca başvurma'nın uygun olduğu" anlayış tarzı, aşağıdakilerden hangisidir?

- A) Sosyalizm B) Liberalizm
C) Makyavelizm D) Panslavizm

2. 18. yüzyılda İngiltere, aşağıdaki devletlerden hangisine karşı Avrupa hürriyetinin savunucusu olmuştur?

- A) Fransa B) İspanya
C) Almanya D) Hollanda

3. İran'ın Kafkasya'daki toprakları, aşağıdaki hangi antlaşmayla Rusya ve Osmanlı devletleri arasında paylaşılmıştır?

- A) Kerden Antlaşması
B) İstanbul Antlaşması
C) Pasarofça Antlaşması
D) Ahmet Paşa Antlaşması

4. Osmanlı Devleti'ndeki azınlık ayaklanmalarının çıkmasında, Avrupa'da yaşanan aşağıdaki gelişmelerden hangisi etkili olmuştur?

- A) Rönesans hareketleri
B) Reform hareketleri
C) Sanayi İnkılabı
D) Fransız İhtilali

5. Kasrışirin Antlaşması'nın şartlarını içeren ve son Osmanlı – İran antlaşması olma özelliğini taşıyan antlaşma, aşağıdakilerden hangisidir?

- A) Serav Antlaşması
B) Kerden Antlaşması
C) Ahmet Paşa Antlaşması
D) Nasuh Paşa Antlaşması

6. Aşağıdakilerden hangisi III. Selim Dönemi gelişmelerinden biri değildir?

- A) Önemli Avrupa başkentlerinde daimî elçiliklerin açılması
B) Sağlık alanında ilk kez çiçek aşısının uygulanması
C) Rusya ile Yaş Antlaşması'nın imzalanması
D) Nizamıcedit ordusunun kurulması

7. Osmanlılar, 18. yüzyılın ilk çeyreğinde imzaladığı aşağıdaki hangi antlaşmayla Avrupa'nın askerî üstünlüğünü kabul ederek "Batılılaşma Hareketleri" denilen ıslahatlara başlamak zorunda kalmışlardır?

- A) Pasarofça Antlaşması
B) Balta Limanı Antlaşması
C) Küçük Kaynarca Antlaşması
D) Londra Boğazlar Sözleşmesi

8. Aşağıdakilerden hangisi, Sanayi İnkılabı'nın gerçekleşmesiyle ortaya çıkan ham madde ve pazar ihtiyacındaki artışın sonuçlarından biri değildir?

- A) Sömürgeciliğin yaygınlaşması
B) Büyük şirketlerin kurulması
C) Coğrafi keşiflerin başlaması
D) I. Dünya Savaşı'nın çıkması

9. Aşağıdakilerden hangisi Osmanlı toprak yönetiminde uygulanan sistemlerden biri değildir?

- A) Malikâne B) İltizam
C) Tımar D) Esham

3. OTURUM

10. Avusturya, aşağıdaki hangi antlaşmadan sonra Osmanlı Devleti ile barışçıl bir politika izlemeye karar vermiştir?

- A) Zıstovi Antlaşması
- B) Vasvar Antlaşması
- C) Pasarofça Antlaşması
- D) Küçük Kaynarca Antlaşması

11. Hemşireliğin kurucusu olarak bilinen Florence Nightingale (Florans Naytingel), aşağıdaki hangi yaşta gönüllü hasta bakıcı olarak İstanbul'a gelmiştir?

- A) 93 Harbi
- B) Dömeke
- C) Kırım
- D) Çanakkale

12. Padişah II. Mahmut'un âyanlarla imzaladığı sözleşme, aşağıdakilerden hangisidir?

- A) Mecelle
- B) Senediittifak
- C) Islahat Fermanı
- D) Tanzimat Fermanı

13. İngiliz, Fransız ve Rus gemilerinden kurulmuş müttefik donanma, aşağıdaki şehirlerin hangisinde bulunan Osmanlı donanmasını yakmıştır?

- A) İskenderiye
- B) Navarin
- C) Çeşme
- D) Sinop

14. 1829 Edirne Antlaşması'yla bağımsızlığını elde eden ülke, aşağıdakilerden hangisidir?

- A) Karadağ
- B) Bulgaristan
- C) Yunanistan
- D) Arnavutluk

15. "Devleti oluşturan bütün milletlerin din, mezhep ve ırk farkı gözetilmeden adalet, özgürlük ve eşitlik prensipleri içinde bir arada yaşamalarını amaçlayan fikir akımıdır."

Verilen tanım, aşağıdaki devleti kurtarmaya yönelik olarak ortaya atılan hangi fikir akımına aittir?

- A) Osmanlılık
- B) Turancılık
- C) İslamcılık
- D) Batıcılık

16. Milliyetçilik hareketleri sonucunda Osmanlı Devleti'nde imtiyaz elde eden ilk toplum, aşağıdakilerden hangisidir?

- A) Arnavutlar
- B) Yunanlılar
- C) Bulgarlar
- D) Sırpalar

17. Avrupa devletleri, 19. yüzyılda Osmanlı Devleti'nden alacaklarını tahsil etmek için, aşağıdakilerden hangisini kurmuşlardır?

- A) Kutsal İttifak'ı
- B) Eşkıncı Ocağı'nı
- C) İradicedit Hazinesi'ni
- D) Düyunuuumumiye İdaresini

18. Türk tarihinin ilk yazılı anayasası, aşağıdakilerden hangisidir?

- A) Mecelle
- B) Kanunuesasi
- C) Islahat Fermanı
- D) Tanzimat Fermanı

19. Osmanlı Devleti, tarihe "93 Harbi" olarak geçen savaşı, aşağıdaki hangi devletle yapmıştır?

- A) Avusturya
- B) İngiltere
- C) Rusya
- D) İtalya

20. Padişah II. Mahmut Dönemi'nde devlet memuru yetiştirmek için açılan okulun adı, aşağıdakilerden hangisidir?

- A) Mektebimaarifiadliye
- B) Mektebiülümedebiyeye
- C) Mektebiharbiye
- D) Cerrahhane

(142) T.C. İNK. TAR. ATA. – 2

1. Devlet düzeninin laikleştirilmesi hususunda atılan en büyük adım, aşağıdakilerden hangisidir?

- A) Çok partili döneme geçilmesi
- B) Cumhuriyetin ilan edilmesi
- C) Halifeliğin kaldırılması
- D) Türbelerin kapatılması

2. Türkiye'nin ilk muhalefet partisinin kapatılmasına neden olan olay aşağıdakilerden hangisidir?

- A) Şeyh Said İsyanı
- B) Menemen Olayı
- C) Halifelik kurumunun kapatılması
- D) Mustafa Kemal'e suikast girişiminin de bulunulması

3. İslam dünyasının ilk halifesi, aşağıdakilerden hangisidir?

- A) Hz. Muhammed
- B) Hz. Ebu Bekir
- C) Hz. Osman
- D) Hz. Ömer

4. 23 Nisan 1920'de açılan Türkiye Büyük Millet Meclisinde her kesimden farklı görüş ve düşünceye sahip insanlar olmasına rağmen herhangi bir siyasi parti kurulamayışının nedeni, aşağıdakilerden hangisidir?

- A) Üyelerin tamamının Türklere oluşması
- B) Kurtuluş Savaşı'nın devam ediyor olması
- C) Kabine sisteminin benimsenmesi
- D) Temsil Heyetinin feshedilmesi

5. Aşağıdaki ülkelerden hangisinin medeni kanunu, bir kurul tarafından Türkçeye çevrilerek yeniden düzenlenip "Türk Medeni Kanunu" olarak kabul edilmiştir?

- A) İngiltere
- B) Fransa
- C) İtalya
- D) İsviçre

6. Aşağıdakilerden hangisi, eğitim ve öğretimde Latin harflerinin kullanılmasının sağladığı yararlar arasında sayılamaz?

- A) Okuryazar oranının artması
- B) Okuma ve yazmanın kolaylaşması
- C) Çok sayıda şiir kitabının basılması
- D) Avrupa ile kültür alışverişinin hızlanması

7. Lozan Antlaşması'yla kazanılan kabotaj hakkı, aşağıdaki hangi anlamda gelmektedir?

- A) Kapitülasyonların kaldırılması
- B) Demir yollarının devletleştirilmesi
- C) Liman ve tersanelerin dış kaynaklarla inşa edilmesi
- D) Türk denizlerinde gemi işletme hakkının Türklere bırakılması

8. Birinci Beş Yıllık Kalkınma Planının hazırlanması, Atatürk'ün hangi ilkesinin uygulandığının göstergesidir?

- A) Laiklik
- B) Devletçilik
- C) Milliyetçilik
- D) Cumhuriyetçilik

9. Aşağıdakilerden hangisi eğitim ve öğretimin birleştirilmesiyle hedeflenen amaçlara aykırıdır?

- A) Kuşaklar arasındaki kültürel çatışmaları ortadan kaldırmak
- B) Eğitim ve öğretim kurumlarını devlet denetimine almak
- C) Düşünce ve bilgi birikimi farklı gençler yetiştirmek
- D) Eğitim sistemini laik ve bilimsel temellere dayandırmak

3. OTURUM

10. İzmir İktisat Kongresi ile kabul edilen "Ulusal Ekonomi İkesi", aşağıdakilerden hangisidir?

- A) Ekonomik bağımsızlığın her kesime korunması
- B) Ülkedeki yabancı işletmelerin sayıya artırılması
- C) Ekonomik kalkınmanın yabancı sermaye ile sağlanması
- D) Ham maddesi yurt dışından sağlanan fabrikaların kurulması

11. Osmanlılarda emniyet ve asayiş sağlayan kolluk kuvvetine ne ad verilir?

- A) Şurta
- B) Polis
- C) Levent
- D) Zaptiye

12. Aşağıdakilerden hangisi, Lozan Antlaşması sonrası millî dış politika sorunlarından biri değildir?

- A) Musul meselesi
- B) Kapitülasyonlar
- C) Nüfus mübadelesi
- D) Yabancı okullar sorunu

13. Sadabat Paketi'nin kurulmasına hangi devletin izlediği yayılmacı politikalar sebep olmuştur?

- A) İtalya
- B) Fransa
- C) Almanya
- D) Sovyet Rusya

14. Aşağıdaki tarihlerin hangisinde Anayasa'ya "Türk devleti laikdir." maddesi eklenmiştir?

- A) 23 Ekim 1923
- B) 03 Mart 1924
- C) 10 Nisan 1928
- D) 05 Şubat 1937

15. Aşağıdaki Atatürk ilkelerinden hangisi kanunlar önünde eşitliği gerektirir?

- A) Cumhuriyetçilik
- B) İnkılapçılık
- C) Devletçilik
- D) Halkçılık

16. II. Dünya Savaşı'nda Almanya'nın başını çektiği gruba ne ad verilir?

- A) Müttefik Devletleri
- B) İttifak Devletleri
- C) Mihver Devletleri
- D) Üçüncü Dünya ülkeleri

17. Atatürk'ün, 1 Kasım 1938'de Türkiye Büyük Millet Meclisinin yeni yasama yılı töreni için hazırladığı ve rahatsızlığı nedeniyle okuyamadığı açılış konuşmasını, onun yerine, aşağıdakilerden hangisi okumuştur?

- A) Başbakan İsmet İnönü
- B) TBMM Başkanı Fethi Okyar
- C) Başbakan Celal Bayar
- D) Genelkurmay Başkanı Fevzi Çakmak

18. Aşağıdakilerden hangisi, II. Dünya Savaşı'nın nedenlerinden biri değildir?

- A) 1929 Dünya Ekonomik Buhranı'nın etkisi
- B) Osmanlı Devleti'nin yıkılması
- C) I. Dünya Savaşı'nın olumsuz etkileri
- D) Büyük devletlerin ekonomik yarışı

19. Çin'e komünist rejimi ihraç eden ülke, aşağıdakilerden hangisidir?

- A) Rusya
- B) Küba
- C) İtalya
- D) Vietnam

20. Aşağıdaki devletlerden hangisinin, II. Dünya Savaşı sonrasında işgal ettiği Kore'den çekilmesi üzerine Kore'nin kuzeyine Ruslar, güneyine de Amerikalılar yerleşmiştir?

- A) Hindistan
- B) Almanya
- C) Vietnam
- D) Japonya

(153) COĞRAFYA – 3

1. Tor topoğrafyası aşağıdaki kayalardan hangisinin ayrışması sonucu oluşur?

- A) Andezit
- B) Bazalt
- C) Granit
- D) Volkan camı

2. Tortul kayaların oluşabilmesi için ilk önce aşağıdakilerden hangisinin gerçekleşmesi gerekir?

- A) Buldukları alanda ormanların gelişmesi
- B) Kuvvetli metamorfik faaliyetlerin gerçekleşmesi
- C) Volkanik faaliyetlerle tüflerin araziye yayılması
- D) Kayaların dış kuvvetlerce aşındırılıp taşınması

3. Kıtaların Kayma Teorisi aşağıdaki bilim adamlarından hangisine aittir?

- A) Albert Einstein
- B) Thomas Edison
- C) Alfred Wegener
- D) Toriçelli Mercury

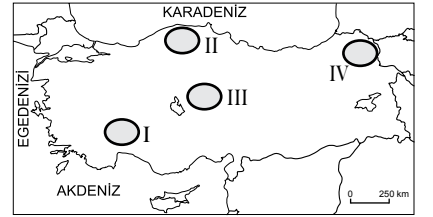
4. Levhaların sürekli hareket halinde olmalarının insanlar için en önemli sonucu aşağıdakilerden hangisidir?

- A) Depremlere neden olmaları
- B) Dağ oluşumlarına neden olmaları
- C) Sıcak su kaynaklarını doğurmaları
- D) Volkanik faaliyetleri oluşturmaları

5. Okyanusların yüzölçümlerine göre büyüken küçüğe sıralanışı aşağıdakilerden hangisinde doğru verilmiştir?

- A) Büyük okyanus, Hint okyanusu, Atlas okyanusu
- B) Büyük okyanus, Atlas okyanusu, Hint okyanusu
- C) Atlas okyanusu, Büyük okyanus, Hint okyanusu
- D) Hint okyanusu, Atlas okyanusu, Büyük okyanus

6.



Karstik göllerin kireç taşı gibi kolay eriyebilen yerlerde oluştuğu göz önüne alınırsa haritada numaralandırılarak verilen yerlerin hangisinde daha yaygın olduğu söylenebilir?

- A) I
- B) II
- C) III
- D) IV

7. Aşağıdakilerden hangisi toprak oluşumunu sağlayan iklim kaynaklı bir etkidir?

- A) Arazinin eğimi
- B) Bitkilerin asitleri
- C) Kayacın dokusu
- D) Toprağın yıkanması

8. Tropikal iklim bölgelerinde görülen uzun boylu ot toplulukları ile yer yer tek veya ağaç kümelerinden oluşan bitki topluluklarına ne ad verilir?

- A) Savan
- B) Maki
- C) Tundra
- D) Tayga

3. OTURUM

9. Aşağıdakilerden hangisi modern nüfus sayımlarının amaçlarından biri olamaz?

- A) Vergi yükümlülerini belirlemek
B) Nüfusun yaş gruplarını belirlemek
C) Tüketim alışkanlıklarını belirlemek
D) Kır ve kent nüfus miktarını belirlemek

10. Dünya nüfusunun; 2000 yılında 6 milyar, 2010'da ise 6.9 milyar olduğu düşünülürse 2016'da aşağıdaki değerlerden hangisine daha yakın olduğu söylenebilir?

- A) 7.1 Milyar B) 7.4 Milyar
C) 8.2 Milyar D) 8.5 Milyar

11. Tarımsal nüfus yoğunluğu ile fizyolojik nüfus yoğunluğu birbirine yakın olan bir ülkede çalışan nüfus hangi sektörde daha çok istihdam edilmektedir?

- A) Tarım B) Sanayi
C) İnşaat D) Hizmet

12. Aşağıdaki olayların hangisinde göç nedeni doğal sebeplerden kaynaklanmaktadır?

- A) Hukuk fakültesini kazanan Ayşe'nin Ankara'ya yerleşmesi
B) Ülkesindeki savaş nedeniyle Suriyeli ailenin Türkiye'ye gelmesi
C) Halil Amcanın erozyon nedeniyle köyünden Tokat'a göç etmesi
D) Ankara'da bir fabrikada iş bulan Ferhat'ın kasabasından ayrılması

13. Aşağıdakilerden hangisi 1960'lı yılların başından itibaren Türklerin çalışmak için gittiği Avrupa ülkelerinden biri değildir?

- A) Fransa B) Polonya
C) Avusturya D) Hollanda

14. İlk zanaatkarların Neolitik Çağ'da ortaya çıktığının kanıtı aşağıdakilerden hangisidir?

- A) Mağaralardaki süslemeler
B) Takasla ticaretin başlaması
C) Bazı hayvanların evcilleştirilmesi
D) Seramikten kap kacakların yapılması

15. Ekonomik faaliyetler kaç ana gruba ayrılır?

- A) 3 B) 4 C) 5 D) 6

16. Türkiye 36° - 42° kuzey paralelleri arasında yer almaktadır.

Sadece bu bilgilerden yararlanarak yurdumuzla ilgili aşağıdaki çıkarımlardan hangisi yapılamaz?

- A) Başlangıç Meridyeninin doğusundadır.
B) Yengeç Dönencesinin kuzeyindedir.
C) Ekvator, Türkiye'nin güneyindedir.
D) Güneyden kuzeye gidildikçe gölge boyu uzar.

17. Türkiye'de Paleozoikte başkalaşım uğrayarak sertleşmiş kütlelere ne denir?

- A) Tetis B) Pangea
C) Levha D) Masif

18.



Haritada verilen dağlardan hangisinin yeri yanlış gösterilmiştir?

- A) Köröğlü B) Kaz
C) Canik D) Mardin

19. Türkiye'de platoların şekillenmesinde etkili olan dış güç aşağıdakilerden hangisidir?

- A) Dalgalar B) Akarsular
C) Buzullar D) Rüzgarlar

20. Aşağıdakilerden hangisi Türkiye'de az yağış alan yerlerdendir?

- A) İğdır Ovası
B) Yıldız Dağları
C) Batı Karadeniz
D) Menteşe yöresi

(154) COĞRAFYA – 4

1. İyi yıkanmış olup, çay ve kivi yetiştirmek için elverişli olan toprak tipinin adı nedir?

- A) Alüvyal topraklar
B) Kırmızı Akdeniz toprakları
C) Çernezyom (kara) topraklar
D) Kahverengi orman toprakları

2. Antep fıstığı kurak bölgelerin kireçli topraklarında, patates ve soğan kumlu, üzüm ise kumlu-çakıllı topraklarda daha iyi yetiştiği gibi veriminde yüksektir.

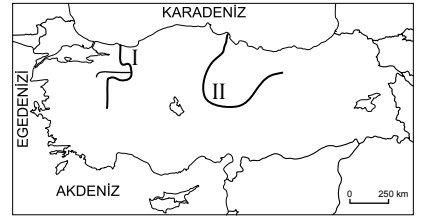
Bu bilgiye dayanarak aşağıdaki yargılardan hangisine ulaşılır?

- A) Tarımın Türkiye ekonomisinde önemi büyüktür.
B) Bazı bitkilerin daha iyi geliştiği topraklar vardır.
C) Tarımda gübre kullanmadan verim artırılmaz.
D) Çakıllı ve kumlu topraklar Türkiye'de yaygındır.

3. Kızılçam, karaçam, göknar, sedir ve ladin ağaçlarının ortak özellikleri aşağıdakilerden hangisidir?

- A) Relikt bitkiler olmaları
B) İğne yapraklı olmaları
C) Geniş yapraklı olmaları
D) Endemik bitkiler olmaları

4.



Akarsu

Haritada numaralandırılarak gösterilen akarsuların isimleri aşağıdakilerden hangisinde doğru verilmiştir?

- | | |
|-------------|------------|
| I | II |
| A) Seyhan | Ceyhan |
| B) Bakırçay | Gediz |
| C) Sakarya | Kızılırmak |
| D) Çoruh | Yeşilırmak |

5. Karadeniz kıyılarımızda deniz turizminin yeterince gelişmemiş olmasında aşağıdakilerden hangisinin etkisi yoktur?

- A) Çay ve fındık tarımının yaygın olmasının
B) Denize girme süresinin kısa olmasının
C) Kıyıların dik, plajların az olmasının
D) Deniz suyunun soğuk ve dalgalı olmasının

3. OTURUM

6. Aşağıdaki yerlerden hangisi Türkiye'de nüfusun ve yerleşmenin dağılımını etkileyen doğal bir unsurdur?

- A) Tahtalı Dağları
B) Ataş Petrol Rafinerisi
C) İzmit Limanı
D) Turizm tesisleri

7. Aşağıdakilerden hangisi sanayi şehirleri için kesinlikle söylenebilir?

- A) İthalat ve ihracat gelişmemiştir.
B) Enerji ve ham maddeye uzaktır.
C) Nüfus miktarı ve yoğunluğu yüksektir.
D) Ticaret ve hizmet sektörleri geri kalmıştır.

8. Hasan : Türkiye'de nüfusun % 80'i şehirlerde yaşar.
Zeynep : Türkiye'de aktif nüfusun çoğu hizmet sektöründe çalışır.
Tahsin : Nüfusumuzda erkek sayısı kadın sayısında fazladır.
Başak : Yaz aylarında sahil kentlerimizdeki otellerin doluluğu artmaktadır.

Yukarıdaki öğrencilerden hangisinin verdiği bilgi nüfusumuzun yapısal özelliği değildir?

- A) Hasan B) Zeynep
C) Tahsin D) Başak

9. Almanya, İngiltere, Fransa ve İtalya gibi ülkelerde aktif nüfus oranı % 80 e yaklaşmış iken bu değer ülkemizde % 50 civarındadır.

Bu durumun Türkiye'nin hangi özelliğinden kaynaklandığı söylenebilir?

- A) Tarımda istihdamın yüksek olmasından
B) İşsiz nüfus miktarının yüksek olmasından
C) İç göçlerin yoğun şekilde devam etmesinden
D) Nüfusun ülke geneline dengesiz dağılmasından

10. Aşağıdakilerden hangisi hızlı göç alan şehirlerde ortaya çıkan durumlardan biri değildir?

- A) Yeni iş kolları oluşur.
B) Belediye hizmetleri aksar.
C) Konut sıkıntısı ortaya çıkar.
D) Mal ve hizmetlere talep azalır.

11. Aşağıdaki illerimizin hangisinde nüfus yoğunluğu daha yüksektir?

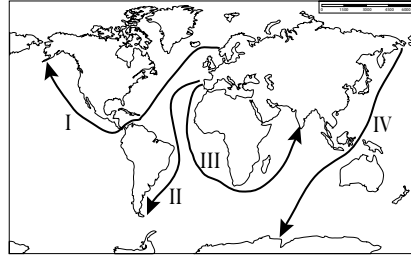
- A) Kocaeli B) Bursa
C) Erzurum D) Adana

12. I. Petrol
II. Baharat
III. Kağıt
IV. Radyo
V. Porselen

Verilenlerden hangileri Orta Çağ'da İpek Yolu ile Çin'den Avrupa'ya taşınan ürünlerdendir?

- A) Yalnız II B) I ve IV
C) II, III ve V D) I, II, III ve V

13.



Haritada numaralandırılarak verilen hatlardan hangisi İspanya ve Portekiz'in Ümit Burnu'nu kullanarak Hindistan'a ulaştığı rotayı göstermektedir?

- A) I B) II C) III D) IV

14. Bilgiyi geliştirerek doğru ve tam şekilde gelecek nesillere aktaran toplumların en önemli kazancı aşağıdakilerden hangisidir?

- A) Bilim ve teknolojiye hızlı ilerlemeleri
B) Çevre ve doğaya daha çok değer vermeleri
C) Gelenek ve göreneklerini devam ettirmeleri
D) Eğitim imkânlarını ülke geneline yaymaları

15. • 1914 de hizmete girmiştir.
• ABD ve Fransa'nın işbirliğiyle yapılmıştır.
• Atlas ve Pasifik (Büyük) okyanusları birbirine bağlar.

Yukarıdaki bilgiler hangi su yoluna aittir?

- A) Kiel Kanalı
B) Panama Kanalı
C) Korint Kanalı
D) Süveyş Kanalı

16. Aşağıdaki ülkelerin hangisinde kara yolu ağı daha gelişmiştir?

- A) Brezilya B) Fransa
C) Bulgaristan D) Libya

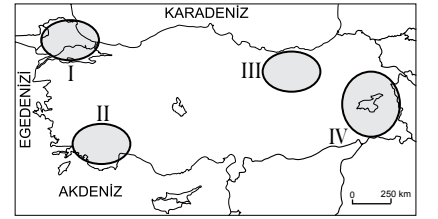
17. Aşağıdaki doğal afetlerden hangisinin oluşum süresi yıllar alabilir?

- A) Heyelan B) Çığ
C) Kuraklık D) Deprem

18. Aşağıdakilerden hangisi erozyonun sonuçlarından değildir?

- A) Ekolojik denge bozulur.
B) Tarımsal üretim azalır.
C) Açlık tehlikesi başlar.
D) Bitki çeşitliliği artar.

19.



Haritada numaralandırılarak verilen taralı alanların hangisinde sönmüş volkan dağları bulunur?

- A) I B) II C) III D) IV

20. Aşağıdakilerden hangisi sel ve taşkın oluşumuna engel olur?

- A) Hızlı kar erimesi
B) Bitki örtüsünün tahrip edilmesi
C) Toprağın suyu içine geçirmesi
D) Akarsu yataklarına yerleşmesi

(158) COĞRAFYA – 8

1. 1960'lı yıllardan sonra ülkemizde nüfus artış hızını düşürmeye yönelik politikalar uygulanmasının sebebi aşağıdakilerden hangisidir?

- A) Ortalama insan ömrünün uzaması
B) Kişi başına düşen geliri azaltacağı düşüncesi
C) Sanayi öncelikli kalkınmanın hedeflenmesi
D) Kentlere yoğun göç hareketinin başlaması

3. OTURUM

2. Türkiye nüfus politikalarının ikinci döneminin ana yönünü aşağıdaki-lerden hangisi belirlemiştir?

- A) Ekonomik koşullar
- B) Çevresel etkenler
- C) Nüfus hareketleri
- D) Doğal afetler

3.



Türkiye haritasında taranarak verilen yer hangi bölgesel kalkınma projesinin uygulandığı alandır?

- A) Yeşilirmak Havzası Gelişim Projesi
- B) Güneydoğu Anadolu Projesi
- C) Doğu Karadeniz Projesi
- D) Doğu Anadolu Projesi

4. Zonguldak, Bartın, Karabük Projesi kapsamında kalan bölgede hâkim olan ekonomik etkinlik aşağıdakilerden hangisidir?

- A) Turizm ve balıkçılık
- B) Tarım ve hayvancılık
- C) Madencilik ve ormancılık
- D) Demir-çelik sanayisi ve kömür işletmeleri

5. Bir ülkenin uluslararası alanda izlediği siyasette aşağıdaki özelliklerinden hangisinin etkisi daha azdır?

- A) Askeri gücünün
- B) Ekonomik gücünün
- C) Eğitim durumunun
- D) Teknolojik seviyesinin

6. Türkiye üç kıtanın birbirine yaklaştığı yerde bulunmakta, doğudan önemli petrol rezervlerine sahip Müslüman Orta Doğu ve Hazar havzası ile batıdan ise sanayileşmiş Avrupa arasında köprü konumundadır. Bunlara ek olarak Akdeniz, Ege ve Karadeniz'e sınırının bulunması İstanbul ve Çanakkale boğazlarına sahip olması ülkemizin - - - - önemini daha da arttırmaktadır.

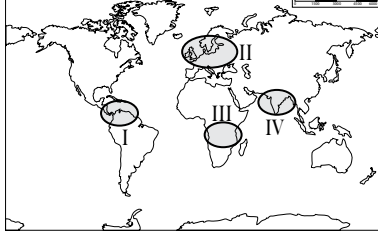
Metne göre boş bırakılan yere aşağıdakilerden hangisi gelmelidir?

- A) Turistik
- B) Askeri
- C) Jeopolitik
- D) Transit

7. Kuzey Kıbrıs Türk Cumhuriyeti bağımsızlığını hangi yıl ilan etmiştir?

- A) 1914
- B) 1960
- C) 1974
- D) 1983

8.



Haritada numaralandırılarak verilen yerlerin hangisinde insani gelişim endeksinde üst sıralarda yer alan ülkeler bulunmaktadır?

- A) I
- B) II
- C) III
- D) IV

9. Aşağıdakilerden hangisi gelişmiş ülkelerin özelliklerinden biri değildir?

- A) Nüfus artış hızları düşüktür.
- B) Gelişmiş ticari hayata sahiptir.
- C) Ekonomileri tarımsal üretime dayanır.
- D) Yüksek miktarda enerji kaynağı tüketirler.

10. Aşağıdaki ülkelerden hangisi insani gelişim endeksinde alt sıralarda yer almaktadır?

- A) Kenya
- B) Meksika
- C) Norveç
- D) Rusya

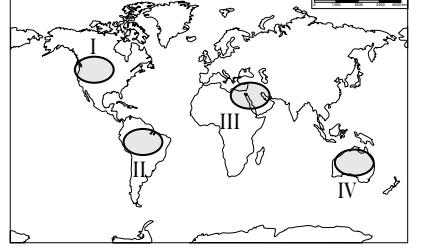
11. Afrika, Orta Doğu ve Güney Amerika'da ki pek çok ülkenin zengin doğal kaynaklara sahip oldukları halde kalkınamamalarının en önemli sebebi aşağıdakilerden hangisidir?

- A) Nüfus artışlarının yüksek olması
- B) Yetmişli personelinin az olması
- C) Başka ülkelerce sömürülmeleri
- D) Ulaşım ağlarının geri olması

12. Aşağıdaki su yollarından hangisi Orta doğu petrolünün tüketici ülkelere ulaştırılmasını sağlayan çıkış kapılarından biri değildir?

- A) Süveyş Kanalı
- B) Hürmüz Boğazı
- C) Macellan Boğazı
- D) Bab-ül Mendeb Boğazı

13.



Su sorunu haritada numaralandırılarak verilen yerlerin hangisinde sıcak çatışmalara neden olmaktadır?

- A) I
- B) II
- C) III
- D) IV

14. Aşağıdakilerin hangisi günümüzde sıcak çatışmalar yaşandığı Orta Doğu ülkelerinden biri değildir?

- A) Suriye
- B) Irak
- C) İsrail
- D) Nijerya

15. Aşağıdakilerden hangisi doğa ve insan arasında dengeyi bozarak sonu fakirliğe hatta açlığa kadar varabilecek soruna neden olan yanlış bir anlayıştır?

- A) Doğal kaynaklar bitmeyecek ölçüde sınırsızdır.
- B) Ülkeler sürdürülebilir kalkınmayı benimsemelidir.
- C) Teknoloji doğal kaynakların verimli tüketilmesini sağlar.
- D) Enerji üretiminde yenilenebilir kaynaklar değerlendirilmelidir.

16. Çin'de bambu ormanlarının giderek azalması aynı zamanda aşağıdaki hayvanlardan hangisinin doğal yaşam alanının daralması anlamına da gelmektedir?

- A) Kaplan
- B) Fil
- C) Panda
- D) Gergedan

17. Aşağıdakilerden hangisi su kaynaklarının korunmasının ve bilinçli tüketilmesinin en önemli gereğesidir?

- A) Sanayide tüketilmesi
- B) Temizlikte kullanılması
- C) Ulaşımında yararlanılması
- D) Yaşam için vazgeçilmez olması

3. OTURUM

18. Avrupa Birliği ülkelerinin;
- Arabaların yakıt tüketimlerini azaltma
 - Elektrikli taşıtlara vergi indirimi yapma
 - Fabrika bacalarına filtre takılması
- gibi çalışmaların ortak amacı aşağıdakilerden hangisidir?**
- A) Akarsuları korumak
B) Hava kirliliğini azaltmak
C) Daha az maden tüketmek
D) Trafikteki ölümleri azaltmak

19. Türkiye'nin de taraf olduğu Ramsar Sözleşmesi ile aşağıdakilerden hangisinin korunması hedeflenmiştir?

- A) Sulak alanların
B) Kültürel mirasın
C) Ozon tabakasının
D) Yabani bitki ve hayvanların

20. Aşağıdakilerden hangisi çevrenin korunmasına katkı yapar?

- A) Sanayi üretimini artırmak
B) Geri dönüşüme önem vermek
C) Yerleşim alanlarını genişletmek
D) Fosil yakıtların tüketimini artırmak

(163) MATEMATİK – 3

1. $\frac{3! \cdot 5!}{3! + 4!}$ işleminin sonucu kaçtır?
A) 12 B) 15 C) 20 D) 24

2. $P(n, 1) + C(n, 1) = 24$ olduğuna göre n kaçtır?
A) 12 B) 10 C) 8 D) 6

3. $A = \{0, 1, 2, 3, 4, 5, 6\}$ kümesinin elemanları ile rakamları birbirinden farklı dört basamaklı kaç farklı sayı yazılabilir?
A) 840 B) 720 C) 480 D) 360

4. Düzgün bir madeni para üç kez havaya atılıyor.

Paranın üst yüzüne üç atışta da yazı gelme olasılığı nedir?

- A) $\frac{5}{8}$ B) $\frac{3}{8}$ C) $\frac{1}{8}$ D) $\frac{1}{16}$

5. $f: \mathbb{R} \rightarrow \mathbb{R}$, $f(x + 3) = 2x - 5$ olduğuna göre $f^{-1}(3)$ kaçtır?
A) 9 B) 7 C) 6 D) 5

6. $f, g: \mathbb{R} \rightarrow \mathbb{R}$, $f(x) = 2x + 4$ ve $g(x) = 3x - 5$ olduğuna göre $(f - 4g)(2)$ kaçtır?
A) 4 B) 5 C) 6 D) 7

7. $f, g: \mathbb{R} \rightarrow \mathbb{R}$, $f(x) = 3x - 2$ ve $g(x) = 4x + 1$ olduğuna göre $(g \circ f)(-2)$ kaçtır?
A) 12 B) -6
C) -23 D) -31

8. Analitik düzlemde verilen $K(1, -5)$ ve $L(-7, -3)$ noktaları arasındaki uzaklık kaç birimdir?

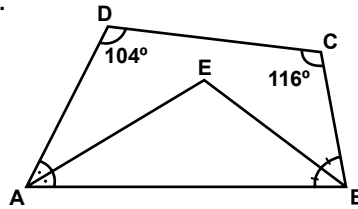
- A) $9\sqrt{17}$ B) 9
C) $2\sqrt{17}$ D) $\sqrt{17}$

9. Denklemleri $ax + by + 6 = 0$ ve $2x + 3y + 2 = 0$ olan doğrular çakışık olduğuna göre $a + b$ kaçtır?
A) 6 B) 9 C) 12 D) 15

10. Denklemi $3x + 4y - 5 = 0$ olan doğrunun eğimi nedir?

- A) $-\frac{3}{4}$ B) $\frac{3}{4}$
C) $\frac{4}{3}$ D) $\frac{5}{3}$

11.



Şekildeki ABCD dörtgeninde $[AE]$, \widehat{DAB} açısının; $[BE]$, \widehat{ABC} açısının açıortayı ve $m(\widehat{BCD}) = 116^\circ$, $m(\widehat{CDA}) = 104^\circ$ dir.

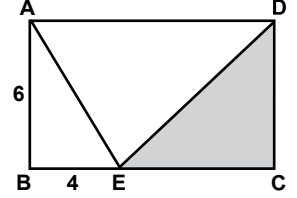
Buna göre $m(\widehat{AEB})$ kaç derecedir?

- A) 102 B) 110 C) 116 D) 120

12. Bir karenin bir kenarının uzunluğu $3\sqrt{3}$ cm olduğuna göre köşegenlerinden birinin uzunluğu kaç santimetredir?

- A) 12 B) 9
C) $3\sqrt{6}$ D) $3\sqrt{3}$

13.

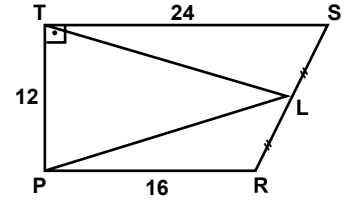


Şekildeki ABCD dikdörtgeninde $E \in [BC]$, $|AB| = 6$ cm, $|BE| = 4$ cm ve $A(ABCD) = 96$ cm² dir.

Buna göre $A(\widehat{ECD})$ kaç santimetrekaredir?

- A) 24 B) 28 C) 32 D) 36

14.



Şekildeki PRST dik yamuğunda $[PR] \parallel [TS]$ ve $[PT] \perp [TS]$ 'tir.

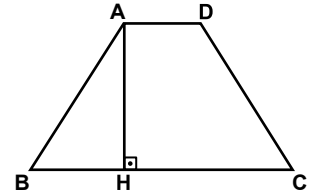
$|ST| = 24$ cm, $|TP| = 12$ cm,

$|PR| = 16$ cm ve $|RL| = |LS|$ 'tir.

Buna göre $A(\widehat{TPL})$ kaç santimetrekaredir?

- A) 120 B) 180 C) 240 D) 480

15.

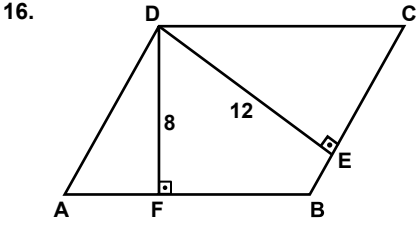


Şekildeki ABCD yamuğunda $[AD] \parallel [BC]$, $|AB| = |DC|$, $[AH] \perp [BC]$, $3|AD| = |BC|$ ve $A(\widehat{ABH}) = 18$ cm² dir.

Buna göre $A(ABCD)$ kaç santimetrekaredir?

- A) 54 B) 64 C) 72 D) 90

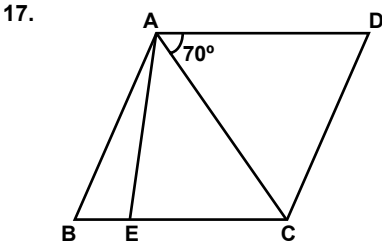
3. OTURUM



Şekildeki ABCD paralelkenarında $[DF] \perp [AB]$, $[DE] \perp [BC]$ ve $|DF| = 8 \text{ cm}$, $|AB| = 15 \text{ cm}$, $|DE| = 12 \text{ cm}$ 'dir.

Buna göre $|BC|$ kaç santimetredir?

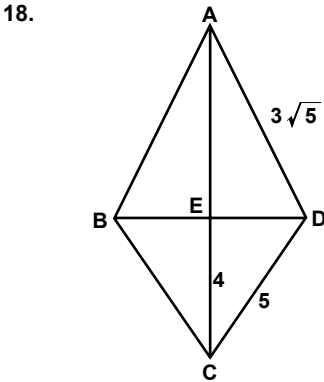
- A) 10 B) 9 C) 8 D) 6



Şekildeki ABCD eşkenar dörtgeninde $[AC]$ köşegen ve $m(\widehat{DAC}) = 70^\circ$, $m(\widehat{BAE}) = 20^\circ$ dir.

Buna göre $m(\widehat{AEC})$ kaç derecedir?

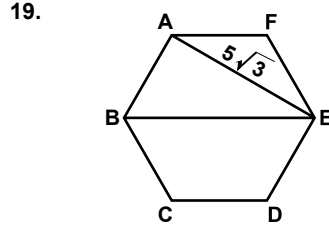
- A) 50 B) 60 C) 70 D) 80



Şekildeki ABCD deltoidinde $|AB| = |AD| = 3\sqrt{5} \text{ cm}$, $|BC| = |CD| = 5 \text{ cm}$ ve $|EC| = 4 \text{ cm}$ 'dir.

Buna göre $A(ABCD)$ kaç santimetrekaredir?

- A) 45 B) 36 C) 30 D) 24



Şekildeki ABCDEF düzgün altıgeninde $|AE| = 5\sqrt{3} \text{ cm}$ 'dir.

Buna göre $|BE|$ kaç santimetredir?

- A) 10 B) 12 C) 15 D) 18

20. Bir iç açısının ölçüsü, bir dış açısının ölçüsünün 3 katına eşit olan düzgün çokgenin kenar sayısı kaçtır?

- A) 5 B) 6 C) 7 D) 8

(165) MATEMATİK - 5

1. $f(n) = \frac{3n}{2n+1}$ dizisinin 4. terimi aşağıdakilerden hangisidir?

- A) $\frac{6}{5}$ B) $\frac{9}{7}$ C) $\frac{4}{3}$ D) $\frac{12}{7}$

2. İlk dört terimi 6, 13, 20, 27 olan aritmetik dizinin 21. terimi kaçtır?

- A) 153 B) 146 C) 132 D) 118

3. Altıncı terimi 96, üçüncü terimi 12 olan geometrik dizinin ortak çarpanı kaçtır?

- A) 2 B) $\frac{3}{2}$ C) 3 D) $\frac{5}{2}$

4. Aşağıdakilerden hangisi bir geometrik dizinin ilk beş terimi olabilir?

- A) 3, 6, 9, 12, 15
B) 3, 6, 12, 18, 24
C) 3, 9, 27, 81, 243
D) 3, 9, 15, 21, 27

5. 4A1 üç basamaklı bir doğal sayıdır. 4A1 tane soru, çözmeleri için üç çocuğa eşit olarak paylaşılacaktır.

Buna göre A'nın alabileceği değerler toplamı kaçtır?

- A) 1 B) 5 C) 9 D) 12

6. Aşağıdaki sayılardan hangisi 9 ile bölünebilir?

- A) 96 372 B) 90 003
C) 33 333 D) 27 395

7. Bir doğal sayının, 16 ile bölümünden kalan 11 olduğuna göre 4 ile bölümünden kalan kaçtır?

- A) 0 B) 1 C) 2 D) 3

8. İki basamaklı bir doğal sayının 4 ile bölümünden kalan 3 ve 5 ile bölümünden kalan 2 olduğuna göre bu sayı en az kaçtır?

- A) 27 B) 47 C) 67 D) 87

9. 36, 72 ve 90 sayılarının EBOB'u kaçtır?

- A) 45 B) 30 C) 18 D) 15

10. Bir fabrikada 10 dakika, 15 dakika ve 30 dakika aralıklarla üç farklı zil çalmaktadır.

Bu ziller birlikte çaldıktan en az kaç dakika sonra tekrar birlikte çalarlar?

- A) 60 B) 45 C) 30 D) 15

11. A ve B aralarında asal doğal sayılardır.

$\frac{A}{B} = \frac{50}{72}$ olduğuna göre $A + B$ kaçtır?

- A) 41 B) 61 C) 82 D) 122

12. Fiyatı 2800 lira olan buzdolabının 400 lirasını peşin ödeyen Selami Bey kalan borcunu 8 eşit taksitle ödeyecektir.

Buna göre her bir taksit kaç lira olur?

- A) 300 B) 350
C) 400 D) 450

13. Etiket fiyatı 80 lira olan bir malın %15 zamlı satış fiyatı kaç liradır?

- A) 102 B) 100 C) 96 D) 92

3. OTURUM

(206) PSİKOLOJİ – 1

14. Üç günde bir nöbet tutan bir doktor ilk nöbetini çarşamba günü tuttuğuna göre 11. nöbetini hangi gün tutar?

- A) Cumartesi B) Cuma
C) Perşembe D) Çarşamba

15. Un ve şekerden oluşan bir karışımın %60'ı un, kalanı şekerdir. Bu karışımındaki un miktarı %25 azaltılıp yerine aynı miktarda şeker ekleniyor.

Buna göre son durumdaki karışımın şeker oranı yüzde kaç olur?

- A) 35 B) 40 C) 45 D) 55

16. Bankaya 1 yıllığına %20 faizle yatırılan bir miktar para yıl sonunda faizleriyle birlikte 96 000 lira olarak çekiliyor.

Buna göre bankaya yatırılan para kaç liradır?

- A) 60 000 B) 70 000
C) 80 000 D) 90 000

17. Şeker oranı %60 olan 50 litre şekerli suya 25 litre saf su ilave edildiğinde yeni karışımındaki şeker oranı yüzde kaç olur?

- A) 30 B) 32 C) 35 D) 40

18. 8, 12 ve 16 yaşlarındaki üç kardeş yaşlarıyla ters orantılı olacak biçimde 65 adet bilyeyi paylaşıyor.

Buna göre en çok bilye alan kardeş kaç bilye almıştır?

- A) 30 B) 35 C) 40 D) 45

19. Bir bisikletli sabit hızla toplam 18 saatte, A şehrinden B şehrine gidip aynı yoldan A şehrine geri dönmüştür.

Buna göre bu bisikletli sabit hızını 3 katına çıkardığında A şehrinden B şehrine kaç saatte gidebilir?

- A) 1 B) 3 C) 6 D) 12

20. Eşit iş gücündeki 20 usta 1000 sandalyeyi 5 saatte yapmaktadır.

Buna göre bu ustalardan kaç 400 sandalyeyi 4 saatte yapabilir?

- A) 6 B) 8 C) 10 D) 12

1. Aşağıdakilerden hangisi doğrudan gözlemlenebilir bir davranıştır?

- A) Düşünmek
B) Rüya görmek
C) Hayal kurmak
D) Araba kullanmak

2. I. İnsan davranışlarının nedenini araştırmak
II. Toplumsal olayların nedenlerini incelemek
III. İnsanın çevresiyle uyum içinde olmasını sağlamak

Yukarıdakilerden hangileri psikolojinin amaçları arasında yer almaz?

- A) Yalnız I B) Yalnız II
C) I ve III D) II ve III

3. İç gözlem yönteminin kullanılması bilime aykırıdır.

- Bilinç hallerinin değil, gözlemlenebilir davranışların incelenmesi gerekir.
- İnsanı ve davranışlarını anlamak için, hayvan davranışları da incelenmelidir.

Bu görüşleri benimseyen psikolojik yaklaşım aşağıdakilerden hangisidir?

- A) Yapısalcı yaklaşım
B) İşlevselci yaklaşım
C) Davranışçı yaklaşım
D) Hümanistik yaklaşım

4. Psikolojinin uygulama alanlarından hangisi insanların zekâ, kişilik, ruh hastalıkları gibi çeşitli konulardaki problemlerinin teşhis edilmeleri ile ilgili olarak geliştirilen teknikler üzerinde çalışır?

- A) Klinik psikoloji
B) Eğitim psikolojisi
C) Hukuk psikolojisi
D) Endüstri psikolojisi

5. Aşağıdakilerden hangisi deneysel yöntemin aşamaları arasında yer almaz?

- A) Deney B) Gözlem
C) Görüşme D) Varsayım

6. Belli bir uyarıcının etkisiyle irademiz dışında ortaya çıkan ani tepkileri ifade eden kavram aşağıdakilerden hangisidir?

- A) Duyum B) İçgüdü
C) Refleks D) Dengelenme

7. Uyarıcıların organizmayı etkileyebilmesi için belli bir şiddet düzeyinde olması gerekir. Örneğin; insan gözü 380-760 milimikron arasındaki ışık dalgalarını renkli görür. Mor ve kırmızı ışınları göremez. Yine insan kulağı, saniyedeki titreşim sayısı, yani frekansı 20 ile 20000 olanları ses olarak işitir.

Yukarıda duyumun oluşması için gerekli olan hangi koşulardan söz edilmiştir?

- A) Organizmanın güdülenmesinden
B) Çevrede bir uyarıcının olmasından
C) Sağlıklı duyu organlarına sahip olunmasından
D) Uyarıcıların duyum eşikleri arasında olmasından

8. Aşağıdakilerden hangisi organizmanın aşırı uyarılmasına neden olmaz?

- A) Uyarıcı yoksunluğu
B) Yüksek gürültü
C) Şiddetli ağrı
D) Yüksek ısı

9. Aşağıdakilerden hangisi toplumsal güdülerin özellikleri arasında yer alır?

- A) Tamamıyla doğuştan getirilirler.
B) Bütün canlılarda ortak olan güdülerdir.
C) Doyurulmaları yaşamın devamı için zorunludur.
D) İnsanın toplum içinde yaşamasından kaynaklanırlar.

10. Bu, algılarımızın, inançlarımızın, davranışlarımızın altında yatan değerler sistemidir. Örneğin; bir Türk ile bir Fransız kurbacıya bacağı yemeğini gördüklerinde farklı tepki göstereceklerdir.

Yukarıda algıyla ilgili olan hangi kavram açıklanmıştır?

- A) Algı dayanağı
B) Algı yanılması
C) Algıda derinlik
D) Algıda bütünlük

3. OTURUM

11. Aşağıdakilerden hangisi halüsinasyon ile ilgili yanlış bir bilgidir?

- A) Gerçek bir algı yanıltması değildir.
- B) Çevrede uyarıcı olmaksızın meydana gelir.
- C) Tüm insanlarda görülen normal bir durumdur.
- D) Aşırı ve yetersiz uyarım halüsinasyonlara neden olabilir.

12. Aşağıdakilerden hangisi algıyı etkileyen dış faktörlerdendir?

- A) Duygular
- B) İhtiyaçlar
- C) Zihni tutumlar
- D) Kültürel çevre

13. Aşağıdaki davranışların hangisinde öğrenmenin etkisi yoktur?

- A) Belli bir dili konuşmak
- B) Sıcak havada terlemek
- C) Bir matematik problemini çözmek
- D) Bir oyunu kurallarına göre oynamak

14. Atlara konuşmayı, balıklara uçmayı, yılanlara yürümeyi öğretemeyiz.

Bu durumlar öğrenmeyi etkileyen hangi faktörden kaynaklanır?

- A) Olgunlaşmadan
- B) Güdülenmeden
- C) Türe özgü hazır oluştan
- D) Genel uyarılmışlık halinden

15. Edimsel koşullanmanın temelinde aşağıdakilerden hangisi bulunur?

- A) Bilişsel gereksinimlerin giderilmesi
- B) Problemin çözümünün aniden görülmesi
- C) Toplumsal davranışlara uyum sağlanması
- D) Haz veren duruma yönelerek, acı veren durumdan kaçılması

16. Bu öğrenme türünde organizma bir şeyin nasıl daha iyi yapılacağını öğrenir. Hem zihinsel durum hem de el, kol vb. hareketler önemlidir. Daktilo kullanmayı öğrenmek, bir müzik aleti çalmayı öğrenmek bu öğrenme türüne örnektir.

Yukarıda öğrenme türlerinden hangisi açıklanmıştır?

- A) Psikomotor öğrenme
- B) Model alarak öğrenme
- C) Kavrayış yolu ile öğrenme
- D) Klasik koşullanma yoluyla öğrenme

17. Aşağıdaki kavramlardan hangisi “yaşantıları, öğrenilen konuları, bunların geçmişle ilişkisini bilinçli olarak zihinde saklama gücü ve anımsama yetisi” olarak tanımlanır?

- A) Bellek
- B) Unutma
- C) Çağrışım
- D) Örgütlenme

18. Aşağıdakilerden hangisi unutmanın nedenleri arasında yer almaz?

- A) Öğrenilenlerin kullanılmaması
- B) Öğrenmeden sonra dinlenilmesi
- C) Beyinde hücre kaybının olması
- D) Öğrenilenlerin bilinçaltına atılması

19. Aşağıdakilerden hangisi problem çözmedeki bilişsel işlemlerin ilk aşamasıdır?

- A) Çözüm yollarının üretilmesi
- B) Çözüm yollarının değerlendirilmesi
- C) Problemin ne olduğunun belirlenmesi
- D) Problemin çözümünün gerçekleştirilmesi

20. Uzun süren uyku yoksunluğunda sinirlilik, gerginlik, kaygı, korku, hayal görme, konuşulanları anlayamama, ellerde titreme ve görme bozuklukları gibi belirtiler ortaya çıkmaktadır.

Buna göre uyku ile ilgili aşağıdakilerden hangisi söylenemez?

- A) Uyku fizyolojik bir ihtiyaçtır.
- B) Uyku yoksunluğu öğrenme gücünü artırır.
- C) Uyku ruh sağlığı üzerinde etkilidir.
- D) Uyku yoksunluğu sinir sistemini olumsuz etkiler.

(209) SOSYOLOJİ – 2

1. Aşağıdakilerden hangisi kültürün manevi öğelerinden değildir?

- A) Dil
- B) Okullar
- C) Değerler
- D) Gelenekler

2. I. Toplumsal olma
II. Zaman geçse de aynı kalma
III. Toplumların geçmişinden bağımsız olma

Yukarıdakilerden hangileri kültürün özellikleri arasında yer almaz?

- A) Yalnız I
- B) Yalnız II
- C) I ve III
- D) II ve III

3. Bir kültüre başka bir kültürden giren kimi öğelerin bazı bireyler ve gruplar tarafından benimsenmesi ile aşağıdakilerden hangisi ortaya çıkar?

- A) Alt kültür
- B) Manevi kültür
- C) Kültürel çatışma
- D) Kültürel emperyalizm

4. “Bireyin, doğumdan ölüme kadar toplumun istek ve beklentilerine uyacak şekilde etkilenmesi ve değiştirilmesi sürecidir.”

Bu tanım aşağıdaki hangi kavrama aittir?

- A) Kültür şoku
- B) Kültürleme
- C) Kültürel farklılık
- D) Kültürel yozlaşma

5. Toplumsal kurumlarla ilgili aşağıda verilen bilgilerden hangisi doğrudur?

- A) Toplumsal kurumlar birbirleriyle ilişki içine girmezler.
- B) Toplumsal kurumların ömrü bireylerin ömrüyle sınırlıdır.
- C) Her kurumdan beklenen kural, değer ve davranış örüntüleri aynıdır.
- D) Toplumsal kurumlar bir bütün olarak toplumsal sistemi oluştururlar.

6. Çocuğun içinde yaşadığı toplumun kültürünü öğrenme süreci ailede başlar.

Yukarıda ailenin hangi işlevinden söz edilmiştir?

- A) Psikolojik işlevinden
- B) Ekonomik işlevinden
- C) Toplumsallaştırma işlevinden
- D) Neslin devamını sağlama işlevinden

7. Aşağıdakilerden hangisi çekirdek ailenin özellikleri arasında yer almaz?

- A) Erkeğin birden fazla kadınla evlenmesiyle oluşur.
- B) Evlilik hukuk kurallarıyla gerçekleşir.
- C) Anne, baba ve evlenmemiş çocuklardan oluşur.
- D) Sanayi toplumlarında özellikle kentlerde görülür.

3. OTURUM

8. Tibet ve Alaska'da görülen ve az rastlanan bu evlilik türünde, bir kadın birden fazla erkekle evlenir.

Bu bilgi aşağıdaki evlilik türlerinden hangisine aittir?

- A) Polijini B) Poliandri
C) Egzogami D) Monogami

9. I. İnsanları psikolojik olarak rahatlatma
II. Birtakım kurallarla toplumsal düzeni sağlamaya çalışma
III. Kişiye nasıl bir yaşam sürmesi gerektiği konusunda öneriler sunma

Yukarıdakilerden hangileri dinin bireysel işlevleri arasında yer alır?

- A) Yalnız I B) I ve II
C) I ve III D) II ve III

10. "Ruha tapma" anlamına gelen bu inanca göre, doğadaki tüm varlıklar bir ruha sahip ve canlıdır. Tüm evren ruhlarla yönetilir.

Bu dini inanış şekli aşağıdakilerden hangisidir?

- A) Animizm B) Fetişizm
C) Politeizm D) Monoteizm

11. Aşağıdaki kavramlardan hangisi "doğadan elde edilen maddelerin yapılarında, biçimlerinde veya yerlerinde değişiklik yapmak için harcanan insan emeği" olarak tanımlanır?

- A) Fayda B) İş gücü
C) Tüketim D) Bölüşüm

12. Aşağıdaki kavramlardan hangisi ulusal para değerinin altın ve döviz karşısında devlet eliyle yükseltilmesini ifade eder?

- A) Deflasyon B) Enflasyon
C) Revalüasyon D) Devalüasyon

13. Sosyalist ekonomik sistem aşağıdakilerden hangisini sağlama iddiasıyla geliştirilmiştir?

- A) Özel mülkiyeti özendirme
B) Ekonomide rekabeti artırma
C) Devletlerin ekonomiye müdahalesini engelleme
D) Toplumsal ve ekonomik eşitsizlikleri ortadan kaldırma

14. Aşağıdakilerden hangisi devleti oluşturan temel unsurlardan biridir?

- A) Seçim B) Vatan
C) Meşruiyet D) Baskı grupları

15. Aşağıdakilerden hangisi demokratik yönetim anlayışına ters düşer?

- A) Halkın siyasetin dışında tutulması
B) Hukuksal alanda eşitliğin sağlanması
C) Güçler ayrılığı ilkesinin uygulanması
D) Temel hak ve özgürlüklerin korunması

16. 1 Kasım 1928 yılında kabul edilen Türk Harfleri Hakkındaki Kanun ile birlikte Arap harfleri kaldırılmıştır. Bu harflerin yerine, Latin harflerinin kullanılması kabul edilmiştir.

Bu uygulama aşağıdaki kavramlardan hangisine örnektir?

- A) İhtilale B) İsyana
C) İnkılâba D) Gerilemeye

17. Aşağıdaki toplumsal değişme tiplerinden hangisi toplumların kendiliğinden ve herhangi bir müdahale olmadan değişimini ifade eder?

- A) Serbest sosyal değişme
B) Baskı yolu ile değiştirme
C) Demokratik planlı değişme
D) Müdahale yoluyla sosyal değişme

18. Mısır, Mezopotamya gibi büyük uygarlıklar verimli tarım toprakları ve zengin maden kaynakları üzerinde kurulmuşlardır. Bu durum ekonomik zenginliği artırmış, daha hızlı toplumsal gelişme ve ilerlemeyi sağlayarak, toplumsal değişmeye neden olmuştur.

Yukarıda toplumsal değişmeye neden olan hangi faktörden söz edilmiştir?

- A) Nüfus
B) Fiziki çevre
C) Bilim ve teknoloji
D) Kitle iletişim araçları

19. Aşağıdakilerden hangisi toplumsal çözülmenin nedenleri arasında yer alır?

- A) Orta tabakanın genişlemesi
B) Toplumsal dayanışmanın artması
C) Millî birlik bilincinin güçlenmesi
D) Toplumsal bütünleşmenin sağlanamaması

20. Aşağıdaki toplumsal değişmeye neden olan durumlardan hangisi Cumhuriyet Döneminde gerçekleşmiştir?

- A) Halifeliğin kaldırılması
B) Yeniçeri ocağının kaldırılması
C) Kanun-i Esasi'nin ilan edilmesi
D) Tanzimat Fermanı'nın yayınlanması

(242) İNGİLİZCE – 3

1 - 20. sorularda boş bırakılan yere uygun gelen kelime ya da ifadeyi işaretleyiniz.

1. - - - - Ankara is a crowded city.

- A) A B) An
C) The D) -

2. Which one is - - - - pen?

- A) you B) your
C) yours D) yourselves

3. - - - - car in the garage is mine.

- A) That B) They
C) These D) Those

4. - - - - is your best friend in the class?

- A) Whose B) When
C) What D) Who

5. Ahmet studies - - - - lessons every day.

- A) his B) he's
C) him D) he

6. She doesn't have - - - - money.

- A) an B) any
C) many D) a few

7. We - - - - a comedy film now.

- A) watch B) watches
C) are watching D) is watching

8. The baby is sleeping - - - -.

- A) right now B) yesterday
C) last week D) next year

9. A: How often do you go shopping?
B: - - - -.

- A) Next Saturday B) Once a week
C) Last month D) Tomorrow

10. Tina - - - - eating out with her family.

- A) likes B) like
C) liking D) to like

3. OTURUM

11. A: ---- you enjoy playing football?

B: Yes, I ----.

- A) Does / don't B) Does / does
C) Do / don't D) Do / do

12. She couldn't pass the class ---- she didn't study hard.

- A) so B) or
C) because D) nor

13. Do you like drinking coffee ---- tea?

- A) because B) nor
C) so D) or

14. A: ----?

B: By car.

- A) Where is your school
B) How do you go to school
C) When do you go to school
D) What time do you go to school

15. My mother never ---- coke.

- A) are drinking B) is drinking
C) drinks D) drink

16. I usually ---- at 6:30 a.m. every morning.

- A) getting up B) to get up
C) gets up D) get up

17. A: How ---- books do you read in a month?

B: Three or four.

- A) any B) much
C) many D) some

18. A: ---- Eren got a red bicycle?

B: No, he hasn't.

- A) Is B) Has
C) Have D) Does

19. A: ---- days are there in a week?

B: Seven.

- A) How many B) How much
C) What time D) What colour

20. That is ---- bag.

- A) hers B) her
C) she D) she's

(242) ALMANCA – 3

1-15. sorularda boş bırakılan yere uygun gelen kelime ya da ifadeyi işaretleyiniz.

1. A: Wo sitzt Ali?

B: Auf ---- Sofa. (das Sofa, Dativ)

- A) dem B) die
C) das D) der

2. ---- Izmir ---- Bodrum sind es 200 km.

- A) Bis / zu B) Von / bis
C) Bei / zur D) Ab / um

3. A: Kommen Sie aus Deutschland ---- Österreich?

B: Aus Österreich.

- A) aber B) bis
C) oder D) woher

4. Alle Schüler müssen ---- 13.00 Uhr auf dem Sportplatz sein.

- A) bei B) am C) ob D) um

5. Wir wollen heute Abend ---- Restaurant essen.

- A) im B) ins C) um D) auf

6.



A: Wo sind die Schlüssel?

B: Sie hängen ---- Wand

- A) auf der B) an der
C) in der D) bei der

7. Ich werde Ayşe sagen, ---- ich später komme.

- A) denn B) darum
C) dass D) um

8. Eine jung- ---- Dame wartet auf den Bus. (Nominativ)

- A) -er B) -es
C) -en D) -e

9. A: ---- fliegt Susanne?

B: Nach Italien.

- A) Wohin B) Was
C) Womit D) Wann

10. Ali legt seine Bücher ---- Tisch.

- A) in das B) zu der
C) auf den D) in dem

11. Mehmet und Tom treffen ---- am Bahnhof.

- A) ich B) sein
C) unser D) sich

12. Die klein ---- Katzen sind sehr schön.

- A) -e B) -en C) -es D) -er

13.



Was ist sein Beruf?

Er ist ein ----.

- A) Fahrer B) Metzger
C) Lehrer D) Arzt


14. Das ---- Gebäude in der Türkei ist in Istanbul.

- A) hoch B) höher
C) höchste D) Hoheit

15. sitzen, ----, gegessen (Präteritum)

- A) saß B) sitzt
C) setzten D) setzte

16.



Was sind das?

- A) Pullover B) Schuhe
C) Strümpfe D) Handschuhe

17. Aşağıdakilerden hangisi ayrılabilir fiildir?

- A) gesehen B) geputzt
C) aufmachen D) verstehen

3. OTURUM

18. Hangisinde sıfatların zıt anlamlısı yanlış verilmiştir?

- A) kalt x sauber
B) lang x kurz
C) teuer x billig
D) schwarz x weiß

19. Aşağıdakilerden hangisi bileşik isimdir?

- A) Erfahrung B) Verstehen
C) Probieren D) Kühlschrank

20. Aşağıdakilerden hangisinin sözcük anlamı diğerlerinden farklıdır?

- A) Vogel B) Motorrad
C) Kamel D) Esel

(242) FRANSIZCA – 3

1-15. sorularda boş bırakılan yere uygun gelen kelime ya da ifadeyi işaretleyiniz.

1. - - - - a deux chats et deux chiens.

- A) Nous B) Vous
C) Elle D) Ils

2. - - - - sommes montés sur la tour Galata.

- A) Ils B) Nous
C) Elle D) Vous

3. J'ai une amie française - - - - me raconte souvent des histoires.

- A) que B) où
C) dont D) qui

4. Mon frère est né en 1977 - - - - il n'y avait pas de télé-couleurs.

- A) qui B) où
C) dont D) donc

5. Voilà une adresse Internet - - - - j'ai trouvée dans une revue spécialisée.

- A) dont B) qui
C) que D) où

6. - - - - il pleut, mon père met toujours des bottes.

- A) Quand B) Quelle
C) Pourquoi D) Combien

7. Paul s'est promené dans les rues de Mardin - - - - un mois.

- A) aux B) dans
C) au D) il y a

8. Il aime faire du - - - - dans les Alpes.

- A) musique B) ski
C) marche D) natation

9. - - - - mon père ira à la campagne pour observer les insectes.

- A) Le mois dernier
B) Demain matin
C) Hier soir
D) Pendant

10. La ville - - - - tu parles est au sud de la France.

- A) que B) qui
C) où D) dont

11. Les jeunes boivent du thé - - - - le match de basket à la télé.

- A) écouter B) en buvant
C) en regardant D) regarder

12. Le professeur - - - - porte une cravate en soie.

- A) venant B) en jouant
C) parler D) mange

13. Le week-end, je lis un roman en - - - - du café au lait.

- A) voyageant B) sachant
C) dansant D) buvant

14. Elles ne vont pas - - - - la bibliothèque - - - - vélo.

- A) au / aux B) à / à
C) en / en D) en / à

15. Pour acheter des livres, je vais à - - - -.

- A) la librairie B) la pharmacie
C) la papeterie D) la charcuterie

16. «Mon oncle et son fils aîné sont partis en vacances.» cümlesinde altı çizili sözcüklerin yerine aşağıdaki şahıs zamirlerinden hangisi konulabilir?

- A) Nous B) Vous
C) Ils D) Elles

17-18. sorularda verilen cümlelerin Türkçe karşılığını işaretleyiniz.

17. J'ai appris le français en étudiant deux ans à Paris.

- A) Paris'te iki yıl okuyarak Fransızca'yı öğrendim.
B) Paris'te hem çalıştım hem de okudum.
C) Paris'te bir yılda Fransızca'yı şöyle böyle öğrendik.
D) Bir yıl kaldığım Paris'te Fransızca'yı öğrenemedim.

18. Ma fille boit du lait en regardant le dessin animé.

- A) Kızım odasında film izlerken uyumuş.
B) Kızım yatmadan önce mutlaka süt içerdi.
C) Kızım çizgi film izlerken süt içer.
D) Kızım çizgi film izlerken sütünü döktü.

19-20. sorularda verilen cümlelerin Fransızca karşılığını işaretleyiniz.

19. Bahçede ağlayan çocuk yeğenimdir.

- A) La fille dansant dans la rue est ma nièce.
B) Le garçon pleurant dans le jardin est mon neveu.
C) Le garçon jouant au foot est mon neveu.
D) Le garçon brun faisant du vélo est mon fils.

20. Yitirdiği cüzdanını sokakta buldu.

- A) On m'a volé mon portefeuille dans la rue.
B) Il a vu son amie en rentrant de la banque.
C) Elle a perdu son sac en cuir.
D) Il a retrouvé son portefeuille dans la rue.

3. OTURUM

(403) DİL VE ANLATIM – 3

1. • Anlattığım konuyu kim özetleyecek?
• Tüm organlarımız gibi beynimiz de yaşlanır.
• Aracınızı lütfen buradan çekiniz!
- Bu cümlelerde aşağıdaki dil işlevlerinden hangisine örnek yoktur?**

- A) Göndergesel
B) Alıcıyı harekete geçirme
C) Dil ötesi
D) Kanalı kontrol

2. Çağımızda bilimsel ve teknolojik gelişmeler sayesinde iletişim olanakları çeşitlenmiştir. Bu da iletişimi hiç olmadığı kadar kolaylaştırmıştır. Hayatımızın her aşamasında var olan iletişim, bilişim teknolojilerinin yaygınlaşmasıyla küreselleşen dünyanın en temel ögesi hâline gelmiştir.
- Bu parçaya verilebilecek en uygun başlık aşağıdakilerden hangisidir?**

- A) İletişim ve Teknoloji
B) Küreselleşen Dünya
C) Çevre ve İletişim
D) Sağlıklı İletişim Yolları

3. İletişimde bir tür şifreleme söz konusu olduğundan konuşan iki kişinin birbirini anladığı seslerden oluşan ve belli kuralları olan her doğal dile - - - - denir.

Bu cümlede boş bırakılan yere aşağıdakilerden hangisi getirilmelidir?

- A) kod
B) kanal
C) dönüt
D) ileti

4. Tartışmadan önce probleme uygun dramatizasyonlar yapılabilir, sergiler ve yakın çevre gezilebilir, yazılı materyaller okunabilir, farklı kaynaklardan yararlanılabilir. Bu tür etkinlikler katılımcılarda ortak yaşantı oluşmasını sağlar, tartışmanın yöntemini belirler ve tartışmaya katılımı sağlar.
- Bu parçada tartışma yönteminin aşamalarından hangisi hakkında bilgi verilmiştir?**

- A) Değerlendirme
B) Problemin seçimi
C) Tartışmayı yönlendirecek soruların belirlenmesi
D) Araç ve tekniklerin belirlenmesi

5. Konuşma sırasında % 55 görüntü, % 38 ses, % 7 sözler etkilidir.

Bu bilgilerden hareketle bir sunumun etkili olması için aşağıdakilerden hangisi yapılmalıdır?

- A) Ses tonu konuya göre ayarlanmalıdır.
B) Anlatım görsel materyallerle desteklenmelidir.
C) Dinleyicilerle göz irtibatı kurulmalıdır.
D) Kısa ve net cümleler tercih edilmelidir.

6. Aşağıdakilerden hangisi tartışma başkanının görevlerinden değildir?

- A) Tartışmayı başlatmak
B) Konuşmacılara eşit süre vermek
C) Gerekliğinde konuyu toparlamak
D) Tartışmaya katılacak dinleyicileri seçmek

7. Aşağıdakilerden hangisi tartışmanın amaçlarından değildir?

- A) Düşüncelerin, gözlem ve kanıların değişmesini sağlamak
B) Bir konunun olumlu ya da olumsuz yönlerini ortaya koymak
C) Herkesi aynı doğrultuda düşünmeye sevk etmek
D) Bir konuya farklı yaklaşımlar kazandırmak

8. Panel ile - - - - üslup dışında özellikleri bakımından birbirine çok benzer. Panelin - - - - tek farkı ise seyircilerin tartışmaya aktif olarak katılmamasıdır.

Bu cümlede boş bırakılan yerlere aşağıdakilerden hangileri sırasıyla getirilmelidir?

- A) sunum – konferanstan
B) açık oturum – forumdan
C) forum – sempozyumdan
D) münazara – sunumdan

9. Hani eski iklimler,
Has ekmekten dilimler?
Hey gidi zamane hey!
Tesellsiz ilimler,
Adaletsiz taksimler...
Hani eski iklimler?

Bu dizelere hâkim olan duygu aşağıdakilerden hangisidir?

- A) Yaşama sevinci
B) Ayrılık acısı
C) Kaybetme korkusu
D) Geçmişe özlem

10. Aşağıdaki cümlelerin hangisinde dolaylı anlatım söz konusudur?

- A) Yorgunluğunuzu gidermek için kitap okuyunuz, derler.
B) Bu sular her derde devadır, diyerek bizi ikna etmeye çalıştı.
C) Eskiden buraların bağ bostan olduğunu söyler, dertlenir dururdu.
D) Doğru ölümün sırrına sahiptir, cümlesiyle başladı söze.

11. Karşıda ağır yüklü bir dağ, göl kıyısı boyunca yere çömelmişti; üst yarısı göğe ait, parlak beyazdı; alt yarısı ise karanlık ve zalim. Bir bakıma burası cennet ile yeryüzünün ayrıldığı yerdi.

Bu parçada aşağıdaki anlatım biçimlerinden hangisi kullanılmıştır?

- A) Açıklama
B) Betimleme
C) Öyküleme
D) Tartışma

12. (I) Gorki'nin otobiyografik üçlemesinin ilk kitabı olan "Çocukluğum", yazarın beş yaşında babasını kaybettiği tarihten başlayarak dede evinden ayrıldığı zamana kadarki yaşamını anlatıyor. (II) İkinci kitap olan "Ekmeğimi Kazanırken" çalışmak zorunda kaldığı dönemi anlatır. (III) Üçlemenin son kitabı ise "Benim Üniversitelerin" adını taşır. (IV) Bu üçleme Gorki'nin "Ana" romanını, o kadar bilinmese de, gölgede bırakacak değerdedir.

Bu parçada numaralanmış cümlelerden hangisi öznel anlatımlıdır?

- A) I. B) II. C) III. D) IV.

13. Aşağıdakilerin hangisinde farklı bir anlatıcı kullanılmıştır?

- A) Kuyumcu Nazım Efendi ellerini yıkamak için lavaboya yöneldi, musluğu açtı. Buz gibi akan suyun altına ellerini tuttu.
B) Önde Seyfi arkada Kenan otobüsünden inip dereye girdiler. Tekerin durumuna baktılar. Teker çamura iyiden iyiye saplanmıştı.
C) İnişteki merdivenin sahanlığında bir dilenci gördüm. Kadının duruma üzülüp cebimdeki son parayı da ona verdim.
D) Manav çırağı omzuna yüklendiği meyve kasalarıyla kamyona doğru gidiyordu. Manav Necmi ise tere batmış; kamyonun arkasındaki kasaları düzeltmeye çalışıyordu.

3. OTURUM

14. Evrende büyük miktarda karanlık madde olduğu biliniyor. Karanlık madde, ışıkla etkileşmediği için doğrudan gözlemlenemese de çevresinde sebep olduğu etkiler incelenerek evrenin hangi bölgelerinde ne kadar karanlık madde olduğu hesaplanabiliyor. Karanlık maddenin doğası ile ilgili çalışmalar hâlâ devam ediyor.

Bu parçanın anlatım biçimi aşağıdakilerden hangisidir?

- A) Açıklayıcı B) Tartışmacı
C) Öyküleyici D) Betimleyici

15. Anlatımda söz gereksiz yere uzatılmamalı, az sözcükle çok şey anlatılmalıdır.

Anlatımın taşınması gereken bu özellik aşağıdakilerden hangisidir?

- A) Akıcılık B) Tutarlılık
C) Özlülük D) Doğallık

16. Bu hastalık en çok okul çağındaki çocuklarda yaygın olarak görülmektedir.

Bu cümledeki anlatım bozukluğunun nedeni aşağıdakilerden hangisidir?

- A) Çelişen sözcüklerin bir arada kullanılması
B) Gereksiz sözcük kullanılması
C) Sözcüğün yanlış anlamda kullanılması
D) Tamlayan eki eksikliği

17. Aşağıdaki dizelerin hangisindeki altı çizili söz alışılmış bağdaştırıcıdır?

- A) Mektebe gittiğim o altın sabah
B) Bir an zamanın gölgesi yüze değer
C) Hissin ve aklın sonsuz memleketinde
D) Bembeyaz bulutlar gibi geçer göklerden

18. Batılı bir turizm uzmanı, "Yeryüzünde pek az memleket turist çekme bakımından Türkiye ile boy ölçüşebilir." diyor. Bu değerli övgü bir nezaket sözü değildir. Gerçekten yurdumuz, Akdeniz ikliminden Alpler iklimine kadar basamak basamak değişen tabiat nitelikleri ile deniz kıyıları, yüce dağlar, ormanlar, göller, çağlayanlar vb. güzellikleri yanında en eski uygarlıkların anılarını da sınırları içinde barındırır.

Bu parçanın anlatım türü aşağıdakilerden hangisidir?

- A) Öyküleyici
B) Mizahi
C) Kanıtlayıcı
D) Gelecekte söz eden

19. Aşağıdakilerden hangisi öyküleyici anlatımın özellikleri arasında sayılamaz?

- A) Dil daha çok göndergesel işlevde kullanılır.
B) Farklı anlatıcı türlerinden yararlanılabilir.
C) Kişi, zaman ve mekân öğeleriyle olay örgüsü aktarılır.
D) Bir olayın olması şarttır.

20. Okurlar otobiyografik öğeler taşıyan kitaplardan bir kat daha fazla etkilendir, diye düşünüyorum. Tamamen kurmaca olduğu düşünülen bir metinde bile -biz okuyucular fark edemsek de- yazarın birçok anısı, kederi, gözlemi vardır. Hâl böyleyken doğrudan yazarın kendi yaşam öyküsünden hareketle büyüyen, barındırdığı karmaşık duyguların yazar tarafından yaşandığını bilmek, kitabın ve anlatıklarının okur üzerindeki etkisini daha da artırır.

Bu parçanın yazarına göre otobiyografik eserlerin daha çok etkile-yici olmasının nedeni aşağıdakilerden hangisidir?

- A) Gerçek bir yaşamı anlatması
B) Öğretici yönünün ağır basması
C) Doğal bir anlatımın kullanılıyor olması
D) Heyecan unsurunun daima ön planda bulunması

(405) DİL VE ANLATIM – 5

1. Kardeşim Kaplan,

Ankara, 27 Ocak 1944

Bir yığın can sıkıntısı, üzüntü ve yorucu iş arasında mektubuna cevap veremedim. O bir tarafa, o güzel makalene de vaktinde teşekkür etmek lazımdı. Fakat daha iyisi tebrik etmeliyim. Çünkü hakikaten güzel makaleydi. Artık birinci sınıf bir muharrir olduğuna hiç şüphe etmiyorum. Sana çok bağlı olduğum için bundan mesudum.

Bu parça aşağıdaki mektup türlerinden hangisine örnektir?

- A) İş mektubuna
B) Edebî mektuba
C) Resmî mektuba
D) Açık mektuba

2. Aşağıdakilerden hangisi olay çevresinde oluşan metne örnektir?

- A) Doğu ve güneydoğudan gelen derelerin iki kıyısında kümelenmiş olan ağaçlık, bostan ve bahçeler Ankara Ovası'nın doğasına hâkim boz rengi yırtan iki kalın yeşillik çizgisi hâlinde göze çarpıyordu. Hatip Çayı, Ankara halkının, bağı bahçesi olmayan çoğunluğun yazlık gezinti, eğlence ve piknik yeri idi.
B) Öteden beri esnaf dükkânlarının duvarlarında mesaj niteliğinde sözler asılıdır. Daha ziyade sülüs ve talik stili olan bu yazılar esnaflar için vazgeçilmezdir.
C) Memidik söğüt yaprağı bıçağını olanca hızıyla kınından çekti, bıçak ay ışığında bir şimşek mavisinde parlayarak havada geniş bir yay çizdi. Memidik'in bütün bedeni avına atılmaya hazır kaya atmacaları gibi gerildi.
D) Sözcüklerin temel ve yan anlamlarının yanı sıra bir de duygu değerleri vardır. Ancak kimi sözcüklerde bu bulunmayabilir. Söz gelimi aç, üçgen, teğet sözcüklerinin duygusal bir değeri yoktur; kimi sözcüklerde ise çeşitli tasarımlar ve duyguları içeren ayrı bir katman var gibidir.

3. I. Günlük
II. Deneme
III. Biyografi
IV. Söyleşi

Yukarıda numaralanmış türlerden hangileri kişisel hayatı konu alan öğretici metinlerdendir?

- A) I ve III. B) I ve IV.
C) II ve III. D) II ve IV.

4. Mektup ile ilgili aşağıdakilerden hangisi yanlıştır?

- A) Çizgisiz beyaz kâğıda yazılmalıdır.
B) Karalama yapılmamalı, yazım kurallarına uyulmalıdır.
C) Anlatılmak istenen, açık ve kesin ifadelerle anlatılmalıdır.
D) Kurşun kalemle yazılma zorunluluğu vardır.

5. Anıları kaleme almak ne güzeldir. Ama ben günü gününe yazmayı severim. Fırından yeni çıkan sıcak ekmeğe gibi yaşadıklarım o günün sonunda tütmeli burnumda. Yaşanan her şey yazılmalı hatta hiçbir şey yaşanmamışsa bile.

Bu parçada söz edilen tür aşağıdakilerden hangisidir?

- A) Mektup B) Günlük
C) Gezi yazısı D) Otobiyografi

3. OTURUM

6. Batılı anlamda anı - - - - ile edebiyatımıza girmiştir.

Bu cümlede boş bırakılan yere aşağıdakilerden hangisi getirilmelidir?

- A) Tanzimat Dönemi
- B) Servetifünun Dönemi
- C) Fecriati Dönemi
- D) Millî Edebiyat Dönemi

7. 23 Mart 1876'da Diyarbakır'da doğdu. 25 Ekim 1924'te İstanbul'da yaşamını yitirdi. Asıl adı Mehmet Ziya. Babası yerel bir gazetede çalışan memurdu. Eğitimine Diyarbakır'da başladı. Amcasından geleneksel İslam ilimlerini öğrendi. 1895'te İstanbul'a gitti.

Bu parça aşağıdaki metin türlerinin hangisinden alınmıştır?

- A) Otobiyografiden
- B) Günlükten
- C) Biyografiden
- D) Anıdan

8. • Kişi sadece eğitim hayatını ele alır.
• Gerçeklerin yanında hayaller de anlatılır.
• Özne bir anlayışla kaleme alınır.

Bu cümleler otobiyografi açısından doğru-yanlış olarak değerlendirildiğinde sıralama aşağıdakilerden hangisi olur?

- A) D – Y – Y
- B) Y – D – Y
- C) D – D – Y
- D) Y – Y – D

9. Klasik edebiyatımızda gezi yazılarına verilen isim aşağıdakilerden hangisidir?

- A) Seyahatname
- B) Sefaretname
- C) Tezkire
- D) Siyer

10. Aşağıdaki eserlerden hangisi sohbet türündedir?

- A) Anadolu Notları
- B) Eşref Saati
- C) Türk'ün Ateşle İmtihanı
- D) Hac Yolunda

11. (I) Gece 21.00 sularında açıklama yapan İstanbul Orman Bölge Müdürü, adadaki yangının söndürüldüğünü açıkladı. (II) Bölge Müdürü, yangın sonucu yaklaşık 40 hektar alanın tahrip olduğunu belirtti. (III) Öğle saatlerinde çıkan yangın, itfaiye ekiplerinin özverili çalışması sonucu hava kararırken kontrol altına alındı. (IV) Saat 21.00 civarında tamamen söndürülen yangının soğutma çalışmaları sabaha kadar devam etti.

Bir haber yazısından alınan bu parçada numaralanmış cümlelerin hangisinde özne yargıya yer verilmiştir?

- A) I.
- B) II.
- C) III.
- D) IV.

12. Aşağıdakilerden hangisi Şinasi ve Ağâh Efendi tarafından çıkarılan ilk özel gazetedir?

- A) Takvim-i Vakayi
- B) Tercüman-ı Ahval
- C) Tasvir-i Efkâr
- D) Ceride-i Havadis

13. Fıkra türünün tanımı aşağıdakilerden hangisidir?

- A) Bir konuda bilgi vermek, bir gerçeği açıklamak ya da ispatlamak için her türlü kanıttan faydalanan, bunları bilimsel biçimde inceleyen fikir yazıdır.
- B) Bir düşünceyi, dönemi, sanatçıyı veya sanat eserini inceleyip olumlu ve olumsuz yönlerini değerlendirmek için yazılan yazılardır.
- C) Bir kişinin duygu ve gözlemlerini düzenli bir biçimde, tarih atarak günü gününe yazdığı yazılardır.
- D) Bir yazarın güncel ve önemli herhangi bir konu üzerinde kişisel görüş ve düşüncelerini akıcı bir dille, belgelendirme gereği duymadan ele aldığı yazılardır.

14. Dünya edebiyatında deneme türünün ilk örneklerini veren sanatçı aşağıdakilerden hangisidir?

- A) Bacon
- B) Montaigne
- C) Alain
- D) Stendhal

15. Aşağıdakilerden hangisi makalenin amaçlarından biri değildir?

- A) Eğlendirmek
- B) Düşündürmek
- C) Bilgi vermek
- D) İspatlamak

16. Cahit Külebi, hazır kalıplarla iş gördüğü için şiiri üzerinde düşünmeye lüzum görmüyor. Öz ile biçimin bağdaşması önemli değil ona göre. Kelimelerin belli bir anlamı karşılamak için değil, laf olsun diye ya da Külebi öyle hoşlanıyor diye şu veya bu düzene göre sıralandıkları anlaşılıyor.

Bu parça aşağıdaki metin türlerinden hangisine örnektir?

- A) Anıya
- B) Sohbeta
- C) Eleştiriye
- D) Gezi yazısına

17. Dil ve anlatım dersinde Ayhan Öğretmen öğrencilerden güncel bir konuyla ilgili kendi düşüncelerini, samimi bir dille kısa bir şekilde yazmalarını istemiştir. Yazdıkları yazıların okul gazetesinde yayımlanacağını da eklemiştir.

Ayhan Öğretmen'in öğrencilerden istediği yazının türü aşağıdakilerden hangisidir?

- A) Anı
- B) Makale
- C) Otobiyografi
- D) Fıkra

18. I. Tekzip: Yalanlama.
II. Asparagas: Çarpıcı haber.
III. Muhabir: Haber toplayan, bildiren kimse.
IV. Sürmanşet: Şişirme haber.
Haber yazılarıyla ilgili numaralanmış terimlerden hangileri yanlış açıklanmıştır?

- A) I ve II.
- B) II ve III.
- C) II ve IV.
- D) III ve IV.

19. - - - -; kelime anlamı olarak konuşma, görüşme, oturup söyleşme demektir. Bu türün en önemli özelliği okuyucuyla konuşur gibi yazılmasıdır.

Bu parçada boş bırakılan yere aşağıdakilerden hangisi getirilmelidir?

- A) Fıkra
- B) Sohbet
- C) Makale
- D) Eleştiri

20. Aşağıdakilerden hangisi gezi yazısı türü için söylenemez?

- A) Gezilen yerle ilgili kişisel düşüncelere yer verilebilir.
- B) Gezilen yerin sosyal, kültürel ve ekonomik özellikleri yansıtılır.
- C) Gezilen yerin sorunlarıyla ilgili kamuoyu oluşturma amacı güdülür.
- D) Açıklayıcı ve betimleyici anlatıma başvurulur.

3. OTURUM

(406) DİL VE ANLATIM – 6

1. Röportaj; araştırma, inceleme ve so-
ruşturmaya dayanan bazı gerçeklerin
ortaya çıkmasına yardımcı olan bir
türdür. - - - - ise soru ve cevaplardan
oluşur. Bu türde yazar, kendi düşün-
celerini ortaya koymaz.

**Bu parçada boş bırakılan yere
aşağıdakilerden hangisi getirilme-
lidir?**

- A) Mülakat B) Söylev
C) Anı D) Deneme

2. - - - -, sözlü anlatım türlerinden bi-
ridir.

**Bu cümlede boş bırakılan yere aşa-
ğıdakilerden hangisi getirilemez?**

- A) Röportaj B) Sohbet
C) Söylev D) Mülakat

3. (I) Röportaj yapan kişi, gördükleriyle
ve duyduklarıyla yetinmez; derinleme-
sine araştırma ve inceleme yaparak
ilgililerden bilgi alır. (II) Röportajda ele
alınan konular, toplumu ilgilendiren
olay ya da olgular olmalıdır. (III) Bu
olay ve olgular okuyucunun dikkatini
çekecek ve onları düşündürcek
şekilde düzenlenir. (IV) Röportajlarda
özellik değil, nesnellik hâkimdir.

**Bu parçada numaralanmış cüm-
lelerin hangisinde röportajla ilgili
bilgi yanlış vardır?**

- A) I. B) II. C) III. D) IV.

4. Çocuk kitapları çocukların estetik
duygusunu, sanat zevkini, şekil verme
bilincini, duygu dünyasını zenginleş-
tirmelidir. Onları sosyal olaylara karşı
duyarlı kılmalıdır. Görev anlayışını
uyandırmalıdır. Çevre bilincini kuvvet-
lendirmelidir. Öğrenme şevkini ve me-
rak duygusunu artırmalıdır. Ana dilini
kullanma becerilerini zenginleştirmeli,
dilini güzelliklerini ve gücünü fark et-
tirmelidir. Kitap; çocuğa vatan, millet,
bayrak sevgisi kazandırmalıdır.

**Bir mülakattan alınan bu parça
aşağıdaki sorulardan hangisine
cevap niteliğindedir?**

- A) Çocuk kitapları çocuklara ne tür
özellikler kazandırmalıdır?
B) Çocuk edebiyatının gelişimi konu-
sunda ne düşünüyorsunuz?
C) Günümüzde çocuk kitapları ço-
cukların gelişimine katkı sağlıyor
mu?
D) Çocuklara kitap okuma alışkanlığı
kazandırmak için neler yapılma-
lıdır?

5. Söylev, - - - -, - - - - aynı anlamda
kullanılan sözcüklendir.

**Bu cümlede boş bırakılan yerlere
aşağıdakilerin hangisinde verilen-
ler getirilmelidir?**

- A) hatip – sohbet
B) mülakat – nutuk
C) nutuk – hitabet
D) röportaj – hatip

6. Bir yeri konu alan röportaj aşağı-
daki türlerden hangisi ile benzerlik
gösterir?

- A) Söylev B) Sohbet
C) Gezi yazısı D) Mülakat

7. Aşağıdaki eserlerden hangisi rö-
portaj türünde yazılmamıştır?

- A) Ustalarla Konuşmalar
B) Çukurova Yana Yana
C) Telsiz Duvaksız Anadolu
D) Günlerin Götürdüğü

8. Ülkemizde toplanma ve özgürlüğün
sağlandığı II. Meşrutiyet'ten sonra
söylev türü görülmeye başlanmıştır.
Bu dönemde en tanınmış söylevciler
Ömer Naci ve Hamdullah Suphi'dir.
Cumhuriyet Dönemi'nin en büyük
söylevçisi ise - - - -

**Bu parçada boş bırakılan yere
aşağıdakilerden hangisi getirilme-
lidir?**

- A) Behçet Kemal Çağlar'dır.
B) Mustafa Kemal Atatürk'tür.
C) Rıza Tevfik Bölükbaşı'dır.
D) Süleyman Nazif'tir.

9. Halk sanatları belli bölgelerde mi
gelişmiştir yoksa bütün ülkede aynı
şekilde mi gelişmiştir?
- Türkiye'miz yer yer, bölge bölge
folklorik sanatlar bakımından çeşit-
lilik gösteren bir memleket. Bunlar
arasında bir tercih yapmanın imkânı
yok. Özellikleri bakımından hepsi
orijinal, hepsi değerli varlıklar.

**Bu metin aşağıdaki türlerden han-
gisine örnektir?**

- A) Mülakata B) Denemeye
C) Makaleye D) Sohbet

10. Gaz lambalarının ortaya çıkışı
18. yüzyılın başlarına denk gelir.
Yassılaştırılmış bir fitili gaz tankının
içinden geçirerek, en üste ise ko-
ruyucu bir şişe ekleyerek yapılan
gaz lambalarına ilk formunu İsviçre
vatandaşı Argand vermiş. 1775'te
Leger ve Alstroemer tarafından
ayrı ayrı bulunan yassı fitilin de bu
buluşun ortaya çıkmasına katkısı
büyüktür. Türkiye'de ise 1800'lü
yılların sonlarına doğru ev, dükkân
ve kahvehanelerde gaz lambaları ile
aydınlatma yapıldığını biliyoruz.

**Gaz lambasının tarihi gelişiminin
anlatıldığı bu metin aşağıdaki tür-
lerin hangisine örnektir?**

- A) Eleştiriye B) Sohbet
C) Söyleve D) Röportaja

11. Aşağıdakilerden hangisi söylev-
cinin yapması gerekenlerden biri
değildir?

- A) Konuşmasını jest ve mimiklerle
desteklemek
B) Ses tonunu sürekli yüksek tutmak
C) Dinleyicilerin kültür düzeylerini
dikkate almak
D) Söylevini etkili, heyecanlı ve açık
cümlelerle bitirmek

12. Sayın Milletvekilleri! Memleketimizin
her gün daha çok güçlenmesini
sağlamak için her alanda, her türlü
olasılığa karşı koyabilecek bir du-
rumda bulunmak ve dünyadaki bütün
olayların gelişimini büyük bir dikkatle
izlemek, barışsever siyasetimizin
dayandığı kuralların başlıcalarıdır.
Milletlerin güvenliği, genel ve ortak
anlaşmalarla sağlanabilir şekilde
kesin nitelikte ortaya atılan prensip-
ler, barışın korunması için bizim yö-
nümüzden kesin ve doğru sayılmaz.
Bunların her birini coğrafi ve siyasi
gerçeklere göre değerlendirmek, ba-
rış yolundaki özeni gerçeklere uydur-
mak her millet için ayrı bir görevdir.

**Bu metnin türü aşağıdakilerden
hangisidir?**

- A) Röportaj B) Mülakat
C) Söylev D) Sohbet

3. OTURUM

13. Aşağıdakilerin hangisinde bilgi yanlışı vardır?

- A) Bir topluluk önünde belli bir fikri, bir duyguyu aşılacak için yapılan etkili ve inandırıcı konuşmalara "mülakat" denir.
- B) Röportajlarda öğretici, açıklayıcı, kanıtlayıcı anlatım türlerinden yararlanır.
- C) Röportajlar, hem gezi yazılarının hem de makalelerin özelliklerini taşır.
- D) Söylev türünün ilk örnekleri eski Yunan ve Roma Dönemleri'nde görülür.

14. Aşağıdakilerden hangisi önemli mülakat yazarlarından biridir?

- A) Ruşen Eşref Ünyayın
- B) Peyami Safa
- C) Reşat Nuri Güntekin
- D) Mehmet Âkif Ersoy

15. Bilimsel toplantılarda, ilim ve fen insanlarının yaptıkları konuşmalara - - - -; genellikle parlamentolarda, diplomatik toplantılarda, mitinglerde yapılan siyasi amaçlı konuşmalara - - - - denir.

Bu cümlede boş bırakılan yerlere aşağıdakilerden hangileri sırasıyla getirilmelidir?

- A) siyasi söylev – iktisadi söylev
- B) akademik söylev – siyasi söylev
- C) iktisadi söylev – hukuksal söylev
- D) akademik söylev – hukuksal söylev

16. Ayşe, gazetecilerin yaşadığı sorunlarla ilgili bir proje hazırlamaktadır. Bu sebeple birkaç gazeteciyle görüşme yapmayı düşünmektedir.

Buna göre Ayşe'nin, düşüncesini gerçekleştirmek için kullanacağı tür aşağıdakilerden hangisi olacaktır?

- A) Söylev
- B) Anı
- C) Mülakat
- D) Eleştiri

17. "Karşılıklı buluşmak, görüşmek" anlamına gelen ve Arapça bir sözcük olan "- - - -" toplumu ilgilendiren önemli bir konuyu aydınlatmak için uzmanlarla yapılan görüşmeleri sorulu-cevaplı olarak aktaran yazılardır.

Bu parçada boş bırakılan yere aşağıdakilerden hangisi getirilmelidir?

- A) röportaj
- B) mülakat
- C) nutuk
- D) hatıra

18. Bir komutanın, ordunun moral gücünü yükseltmek ve güven duygusunu artırmak için yaptığı konuşmalar aşağıdakilerden hangisinin örneği olur?

- A) Dinsel söylev
- B) İktisadi söylev
- C) Hukuki söylev
- D) Askerî söylev

19. (I) Mısır'da sıcaklık sürekli yüksek değildir, evlerde ona göre yapılmıştır. (II) En sıcak günlerde odaların harareti 28 dereceden fazla olmaz. (III) Fakat bir yaz günü İstanbul böyle değildir. (IV) Doğup büyüdüğüm, bütün dostlarımın yaşadığı İstanbul gözlerimin önüne geliyor şimdi.

Bir röportajdan alınan bu parçada numaralanmış cümlelerin hangisinde yazım yanlışı vardır?

- A) I.
- B) II.
- C) III.
- D) IV.

20. Aşağıdaki cümlelerin hangisinin sonuna soru işareti getirilmelidir?

- A) Yağmurun ne zaman yağacağı belli olmaz
- B) Anneler Isparta'da kaç gün kalacakmış
- C) Toplantıya kimlerin katılacağını bilmiyoruz
- D) Kar yağdı mı bütün çocuklar sokağa çıktılar

(413) TÜRK EDEBİYATI – 3

1. Aşağıdakilerden hangisi edebiyat tarihinin sağladığı yararlarından değildir?

- A) Tarihî olayların nedenlerini ve sonuçlarını öğretir.
- B) Değişik çağlardaki kültür birikimini tanıtır.
- C) Toplumun değişen düşünce yapısını, dünya görüşünü yansıtır.
- D) Edebiyatın geçirdiği dönemleri anlatır.

2. İslamiyet Öncesi Türk Edebiyatı ile ilgili aşağıdaki bilgilerden hangisi yanlıştır?

- A) Yazılı eser verilmemiştir.
- B) Sanatçılara şaman, baksı, kam gibi adlar verilmiştir.
- C) Koşuklar kopuz adı verilen bir saz eşliğinde söylenmiştir.
- D) Sözlü ürünler düzyazı şeklinde değildir.

3. Türk edebiyatının gelişip değişiminde aşağıdaki olaylardan hangisinin etkisi en azdır?

- A) Orta Asya'dan Anadolu'ya doğru göç edilmesi
- B) Tanzimat Dönemi'nde Batı'nın örnek alınması
- C) Osmanlı Devleti'nin kurulması
- D) İslamiyet'in kabul edilmesi

4. I. Fecriati edebiyatı
II. Tanzimat edebiyatı
III. Millî Edebiyat
IV. Servetifünun edebiyatı

Türk edebiyatının numaralanmış dönemlerinin kronolojik sıralaması aşağıdakilerden hangisidir?

- A) II - I - IV - III
- B) II - IV - I - III
- C) IV - II - I - III
- D) IV - I - II - III

5. (I) İÖ 3 binlerde Mezopotamya'da doğmuş olan Gılgamış, bilinen en eski destandır. (II) Gılgamış Destanı'nın günümüze ulaşmış en kapsamlı metni Uygur dilinde yazılmıştır. (III) Ölümsüzlük otunu bulup da bir yılana kaptıran zalim Uruk Kralı Gılgamış ile arkadaşı Enkidu'nun öyküsü anlatılır. (IV) Bu destan Cumhuriyet Dönemi'nde Orhan Asena ve Melih Cevdet Anday gibi sanatçılara ilham kaynağı olmuştur.

Bu parçada numaralanmış cümlelerin hangisinde yanlış bilgi verilmiştir?

- A) I.
- B) II.
- C) III.
- D) IV.

6. Aşağıdakilerden hangisi sagu ile koşuk arasındaki farktır?

- A) Uyak düzeni
- B) Nazım birimi
- C) Ölçüsü
- D) Konusu

7. Aşağıdaki sanatçı – eser eşleştirmelerinden hangisi yanlıştır?

- A) Gülten Akın – Maraş'ın ve Ökkeş'in Destanı
- B) Fazıl Hüsni Dağlarca – Çakır'ın Destanı
- C) N. Y. Gençosmanoğlu – Bozkurtların Destanı
- D) Cahit Külebi – Çanakkale Destanı

8. Aşağıdakilerden hangisi İslamiyet sonrası Türk destanlarından?

- A) Göç Destanı
- B) Şu Destanı
- C) Cengiz Han Destanı
- D) Bozkurt Destanı

3. OTURUM

9. **Orhun Yazıtları ile ilgili aşağıda verilen bilgilerden hangisi yanlıştır?**

- A) Uygur Türklerinin yeniden devlet kurmaları anlatılır.
- B) Türk sözcüğünün geçtiği ilk metinlerdir.
- C) Söylev biçiminde yazılmıştır.
- D) Tonyukuk, Kültigin ve Bilge Kağan adına dikilmiştir.

10. **Aşağıdaki yazarlardan hangisi edebiyat tarihi alanında çalışma yapmamıştır?**

- A) Nihat Sami Banarlı
- B) Faruk Nafiz Çamlıbel
- C) Ahmet Hamdi Tanpınar
- D) Mehmet Fuat Köprülü

11. Ben, bizim konaktan Nafi Paşaların konağına sütunları gümüşten, kafesleri altın tellerden bir tahtirevan içinde, önüm sıra çalparalar çalınarak gitmiştim. Laleli'den Vefa'ya kadar geçtiğim yollarda halk öbek öbek sokaklara dökülmüş, at arabalarıyla geçen düğün alayımı seyretmişti. Kaynatamın divanhanesindeki koltuk töreninin geçit resmi ise ayrı bir ihtişama sahipti.

Bu parçadan hareketle olayların anlatıldığı döneme ilişkin aşağıdakilerden hangisiyle ilgili bilgilere ulaşılmaz?

- A) Mimari yapılar
- B) Ulaşım araçları
- C) Tarihî olaylar
- D) Gelenekler

12. I. Biş ernek tüz ermes.
II. Aç ne yemes tok ne times.
III. Ağılda oğlak bolsa arıkda oti biter.
Numaralanmış bu cümleler aşağıdaki türlerden hangisine örnektir?

- A) Destana
- B) Saguya
- C) Koşuğa
- D) Sava

13. Hakanlar öldüğünde yapılan ---- törenlerinde söylenen, ölen kişinin niteliklerinin dile getirildiği şiirlere ---- denirdi.

Bu cümlede boş bırakılan yerlere sırasıyla aşağıdakilerden hangisi getirilmelidir?

- A) toy – sav
- B) yağ – sagu
- C) ağıt – koşuk
- D) ayin – destan

14. Daha hiçbir şey yokken Tanrı Kayra Han'la uçsuz bucaksız su vardı. Kayra Han'dan başka gören, sudan başka görünen yoktu. Ay, yıldızlar, gök ve toprak yaratılmamıştı. Bütün tanrıların en büyüğü, varlıkların başlangıcı, insanoğlunun da ilk atası, Tanrı Kayra Han'ın bu sade sudan âlemde canı sıkılıyordu.

Bu parçada bahsedilen İslamiyet öncesi Türk destanı aşağıdakilerden hangisidir?

- A) Oğuz Kağan
- B) Yaratılış
- C) Türeyiş
- D) Ergenekon

15. I. Çinliler, Türklerin uğurlu taşını parça parça Çin'e götürdüler. Bundan sonra Türk yurdundaki bütün hayvanlar kendi dilleriyle bu kayanın gidişine ağladılar. İrmaklar kurudu. Toprak çatladı.
II. Gün, Ay, Yıldız tan yönüne gidip altın bir yay bulurlar. Gök, Dağ, Deniz batıya gidip gümüş bir ok bulurlar. Daha sonra babaları yurdu oğulları arasında üleştirir.
III. Dört yüz yıl yaşadıkları ülkeye sığınmayan Göktürkler buradan çıkmak isterler. Ama yol bulamazlar. O zaman yollarını kapayan demir dağı eriterek kendilerine yol açarlar.

Numaralanmış metinlerde aşağıdaki destanların hangisine ait bir bölüm verilmemiştir?

- A) Türeyiş'e
- B) Göç'e
- C) Ergenekon'a
- D) Oğuz Kağan'a

16. **Oğuz Kağan Destanı'nı yazıya geçiren kişi aşağıdakilerden hangisidir?**

- A) Cüveyni
- B) Yirmisekiz Mehmet Çelebi
- C) Reşidüddin
- D) Kültigin

17. I. Göktürk Yazıtları Türk edebiyatının ilk yazılı eseridir.
II. Türkler 5 ve 10. yüzyıllar arasında yaygın olarak Mani ve Sogut alfabetlerini kullanmışlardır.
III. Kalyanamkara ve Papamkara önemli Göktürk metinleridir.

Numaralanmış cümlelerde verilen bilgiler doğru - yanlış olarak değerlendirildiğinde sıralama aşağıdakilerden hangisi olur?

- A) Y – D – Y
- B) D – D – Y
- C) D – Y – Y
- D) Y – Y – D

18. Murat, toprağı sürdükten sonra hemen sabanı yerine bıraktı ve hayvanları ahıra soktu. Sonra vakit kaybetmeden odasına gitti. En çok ertesi gün yavuklusuna mektubu nasıl ulaştıracağı kurcalıyordu zihnini. "Akkepter Türküsü" nün sözlerini ekledi mi tamamdı mektup. Acaba yavuklusu ne derdi buna? Meğer aşk mektubu yazmak ne zormuş?

Bu parçadan olayların anlatıldığı dönemle ilgili aşağıdakilerden hangisiyle ilgili bilgilere ulaşamaz?

- A) Sanat
- B) Tarım
- C) Haberleşme
- D) Eğlence

19. "Fransa Sefaretnamesi", ---- 1720 yılında yaptığı Paris seyahatini anlatır. Burada kaleleri, sarayları, operayı, okulları, rasathaneyi, fabrikaları ve matbaayı gezerek edindiği izlenimleri aktarır. Yeni bir dünya keşfetmiş gibidir. Bir yıl sonra ülkesine döndüğünde sefaretnamesini padişaha ve sadrazama sunar.

Bu parçada boş bırakılan yere aşağıdakilerden hangisi getirilmelidir?

- A) Tonyukuk'un
- B) Abdülhak Şinasi Hisar'ın
- C) Nâif Kadim'in
- D) Yirmisekiz Çelebi Mehmet'in

20. **İlyada ve Odyssea destanını yazıya geçiren sanatçı aşağıdakilerden hangisidir?**

- A) Homeros
- B) Firdevsi
- C) Sophokles
- D) Çiçero

(416) TÜRK EDEBİYATI – 6

1. **Yenilikçi fikirleriyle servetifünun edebiyatının oluşumuna zemin hazırlayan sanatçı aşağıdakilerden hangisidir?**

- A) Muallim Naci
- B) Rezaizade Mahmut Ekrem
- C) Samipaşazade Sezai
- D) Namık Kemal

2. **Aşağıdakilerden hangisi servetifünun sanatçılarından biridir?**

- A) Ahmet Haşim
- B) Mehmet Akif Ersoy
- C) Cenap Şahabettin
- D) İbrahim Şinasi

3. OTURUM

3. Servetifünun Dönemi içinde şair olarak bilinen sanatçının edebî görüşlerini ifade eden yazıları oldukça önemlidir. "Şiirimiz" adıyla Servet-i Fünun dergisinde yayımladığı uzun makalesinde topluluğun sanat anlayışını ve eleştirilerini dile getirmiştir.

Bu parçada hakkında bilgi verilen sanatçı aşağıdakilerden hangisidir?

- A) Tevfik Fikret
B) Cenap Şahabettin
C) Süleyman Nazif
D) Ali Ekrem Bolayır

4. - - - -, Cenap Şahabettin'in gezi hatıralarını topladığı bir kitaptır. Bu kitapta yazarın Bulgaristan, Romanya, Macaristan, Çekoslovakya, Almanya ve Avusturya'ya yaptığı gezilerdeki izlenimleri anlatılmıştır.

Bu parçada boş bırakılan yere aşağıdaki eserlerden hangisi getirilmelidir?

- A) Göz Ucuyla Avrupa
B) Avrupa Mektupları
C) Frankfurt Seyahatnamesi
D) Romanya Mektupları

5. I. Edebiyatımızın ilk gerçekçi hikâye ve romancılarındandır.
II. Romanlarında sade bir dil kullanmıştır.
III. En önemli romanları Yaban ve Kıralk Konak'tır.
IV. Mensur şiir türünde eser vermiştir.

Numaralanmış cümlelerin hangileri Halit Ziya Uşaklıgil için söylenemez?

- A) I ve II. B) II ve III.
C) II ve IV. D) III ve IV.

6. Bir beyaz lerze, bir dumanlı uçuş;
Eşini gaip eyliyen bir kuş
Gibi kar
Geçen eyyam-ı nevbaharı arar.
Ey kulübün sürüd-ı şeydası
Ey kebuterlerin neşideleri,
O baharın bu işte ferdası:
Kapladı bir derin sükûta yeri
Karlar
...

Cenap Şahabettin'in "Elhan-ı Şita" adlı şiirinden alınan bu dizeler göz önünde bulundurduğunda Servetifünun Dönemi şiiri için aşağıdakilerden hangisi söylenir?

- A) "Sanat, toplum içindir." anlayışıyla toplumsal konular işlenmiştir.
B) Şiirler dörtlükler hâlinde yazılmıştır.
C) Sanatlı ve ağır bir dil kullanılmıştır.
D) Şiirde güzellik kaygısı değil, mesaj verme isteği ön plandadır.

7. Mensur şiirin ilk örneklerini veren sanatçımız ve eseri aşağıdakilerden hangisidir?

- A) Halit Ziya Uşaklıgil – Mensur Şiirler
B) Yakup Kadri Karaosmanoğlu – Erenlerin Bağından
C) Mehmet Rauf – Siyah İnciler
D) Halide Edip Adıvar – Mor Salkımlı Ev

8. Eser, Halit Ziya'nın en olgun eserlerindedir. Romanın konusu Boğaziçi yalılarında zengin aileler arasında geçmektedir. Romanın başkahramanları Adnan Bey, Bihter ve Behlül'dür.

Bu parçada kısaca tanıtılan eser aşağıdakilerden hangisidir?

- A) Mai ve Siyah
B) Kırık Hayatlar
C) Ferdi ve Şürekası
D) Aşk-ı Memnu

9. Ben romanda gerçeklerin tüm çıplaklığıyla anlatılmasından yanayım. Yazar, gözlemlerini eserine aynen aktarmalı; eserde kişiliğini gizlemelidir. Roman, okuyucuda gerçeklik duygusu uyandırmalıdır.

Düşüncelerini bu şekilde açıklayan bir yazarın, aşağıdaki akımların hangisine bağlı kalarak yazması beklenir?

- A) Realizm B) Klasisizm
C) Romantizm D) Sembolizm

10. • Edebiyatımızda yazılan ilk başarılı psikolojik romandır.

• Yazar, eserde olaylardan çok, kişilerin olaylara verdiği tepkiler üzerinde durmuştur.

• Eserin başkahramanları Suat, Süreyya ve Necip'tir.

Bu özellikler aşağıdaki eserlerin hangisine aittir?

- A) Mai ve Siyah'a
B) Eylül'e
C) Hayal İçinde'ye
D) Sinekli Bakkal'a

11. Aşağıdakilerden hangisi servetifünun edebiyatının genel özelliklerinden biri değildir?

- A) "Kulağa göre kafiye" anlayışı benimsenmiştir.
B) Aydınlarla seslenen sanatlı bir dil kullanılmıştır.
C) Şiirde aruz ölçüsü tercih edilmiştir.
D) Toplumsal konular ele alınmıştır.

12. Servet-i Fünun dergisi - - - - Fransızcadan çevirdiği "Edebiyat ve Hukuk" makalesini dergide yayımlamasıyla kapatılmıştır ve Servetifünun Dönemi sona ermiştir.

Bu cümlede boş bırakılan yere aşağıdakilerden hangisi getirilmelidir?

- A) Tevfik Fikret'in
B) Halit Ziya Uşaklıgil'in
C) Cenap Şahabettin'in
D) Hüseyin Cahit Yalçın'ın

13. I. "Sanat, şahsi ve muhteremdir." ilkesinden hareket etmişlerdir.
II. Sade ve açık bir dille eser vermişlerdir.
III. Edebiyatımıza çok önemli yenilikler getirmişlerdir.

Fecriati edebiyatıyla ilgili numaralanmış bu cümleler doğru – yanlış olarak değerlendirildiğinde sıralama aşağıdakilerden hangisi olur?

- A) Y - D - D B) D - Y - Y
C) D - D - Y D) Y - D - Y

14. Aşağıdakilerden hangisi Fecriati Bildirisi'nde imzası bulunan sanatçılardan?

- A) Mehmet Rauf
B) Yahya Kemal Beyatlı
C) Tahsin Nahit
D) Tevfik Fikret

15. - - - -, Osmanlı Devleti'nin gücünü Türk tarihi ve Türk kültüründen alması, "Türk ulusu" fikrinin yayılması düşüncesidir.

Bu cümlede boş bırakılan yere aşağıdakilerden hangisi getirilmelidir?

- A) Türkçülük
B) Osmanlıcılık
C) Batıcılık
D) İslamcılık

16. Şiirlerinde kapalılığa önem veren sanatçı, düzyazılarında oldukça sade bir dil kullandı. Sonbahar, akşam, mehtap, sessizlik, sararan yapraklar onun şiirlerinde en çok göze çarpan motifler olmuştur. Sanatçı, şiirlerini "Göl Saatleri ve Piyale" adında iki kitapta toplamıştır.

Bu parçada kısaca tanıtılan sanatçı aşağıdakilerden hangisidir?

- A) Mehmet Emin Yurdakul
B) Cenap Şahabettin
C) Ziya Gökalp
D) Ahmet Haşim

3. OTURUM

(426) FİZİK – 6

17. Güzel dil Türkçe bize,
Başka dil gece bize.
İstanbul konuşması
En saf, en ince bize.
Biçim ve içerik özellikleri göz önüne alındığında bu dizelerin aşağıdaki edebî dönemlerin hangisinde yazıldığı söylenir?

- A) Tanzimat
B) Servetifünun
C) Fecriati
D) Millî Edebiyat

18. Saf(öz) şiir anlayışının Türk edebiyatındaki önemli temsilcileri - - - - ve - - - - .

Bu cümlede boş bırakılan yerlere aşağıdakilerden hangileri getirilmelidir?

- A) Namık Kemal – Rezaizade Mahmut Ekrem'dir
B) Ahmet Haşim – Yahya Kemal Beyatlı'dır
C) Muallim Naci – Ahmet Haşim'dir
D) Tevfik Fikret – Mehmet Akif Ersoy'dur

19. I. Dilde sadeleşme esastır.
II. Halkın sorunları dile getirilmiştir.
III. Aruz ölçüsü kullanılmıştır.
IV. Divan şiiri nazım biçimleri tercih edilmiştir.

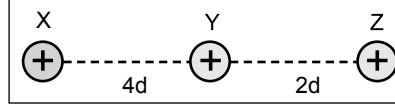
Numaralanmış özelliklerden hangileri Millî Edebiyat Dönemi için söylenemez?

- A) I ve II. B) I ve III.
C) II ve IV. D) III ve IV.

20. Aşağıdaki eserlerden hangisi Yakup Kadri Karaosmanoğlu'na aittir?

- A) Sinekli Bakkal
B) Çalıkuşu
C) Kiralık Konak
D) Memleket Hikâyeleri

1. Sürtünmesiz yatay düzlemde (+) yüklü iletken X, Y, Z küreleri şekildeki konumda bulunmaktadır.



Y küresi serbest bırakıldığında hareket etmediğine göre;

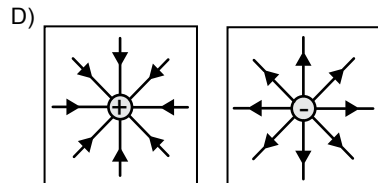
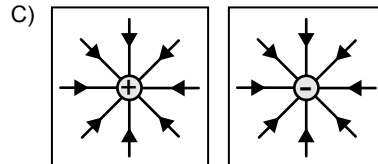
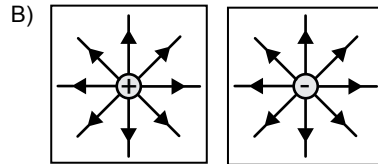
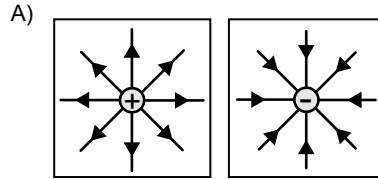
- I. X'in elektrik yükü Z'den büyüktür.
II. X'in elektrik yükü Y'den büyüktür.
III. Y'nin elektrik yükü Z'den büyüktür.

yargılarından hangileri kesinlikle doğrudur?

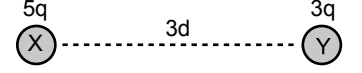
- A) Yalnız I B) I ve II
C) II ve III D) I, II ve III

2. Elektrik alan; pozitif birim yüke etki eden elektriksel kuvvettir.

Buna göre pozitif ve negatif yükün elektrik alan çizgileri aşağıdaki-lerden hangisinde doğru olarak verilmiştir?



3. Şekildeki gibi sabit tutulan X ve Y noktasal yükleri sırasıyla $5q$ ve $3q$ olup aralarındaki uzaklık $3d$ 'dir.



Buna göre yükler arasındaki elektriksel kuvvet kaç $k \cdot q^2/d^2$ 'dir?

- A) $\frac{1}{3}$ B) $\frac{2}{3}$ C) $\frac{5}{3}$ D) $\frac{7}{3}$

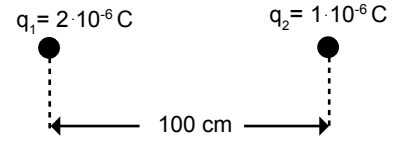
4. Yarıçapı 50 cm olan iletken bir küre $q = 8 \cdot 10^{-6}$ C'luk yük ile yükleniyor.

Kürenin merkezinden 30 cm uzaklıktaki bir noktada elektrik alanın büyüklüğü kaç N / C'dur?

($k = 9 \cdot 10^9$ Nm²/C²)

- A) Sıfır B) $12 \cdot 10^4$
C) $5 \cdot 10^8$ D) $7 \cdot 10^3$

5. Aralarında 100 cm uzaklık olan ve q_1, q_2 yüklerinden oluşan sistem şekildeki gibidir.

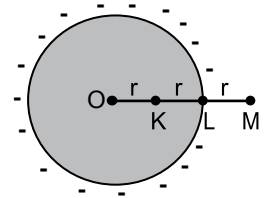


Buna göre elektrik potansiyel enerjisi kaç joule'dur?

($k = 9 \cdot 10^9$ N · m²/C²)

- A) $9 \cdot 10^{-3}$ B) $18 \cdot 10^{-3}$
C) $24 \cdot 10^{-3}$ D) $27 \cdot 10^{-3}$

6. Şekildeki 2r yarıçaplı içi boş iletken küre (–) negatif elektrikle yüklüdür.



Buna göre;

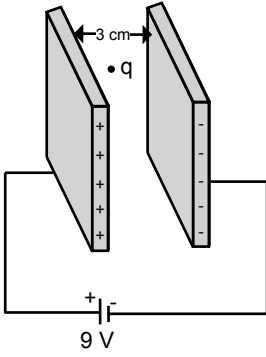
- I. M noktasının potansiyeli, K noktasının potansiyelinden büyüktür.
II. K noktasındaki elektrik alan M noktasındaki elektrik alandan büyüktür.
III. L noktasındaki potansiyel K noktasındaki potansiyele eşittir.

Yargılarından hangileri doğrudur?

- A) Yalnız I B) Yalnız III
C) II ve III D) I, II ve III

3. OTURUM

7. Şekildeki paralel levhalar arasındaki uzaklık 3 cm olup levhalara $V=9$ Volt potansiyel fark uygulanmaktadır.

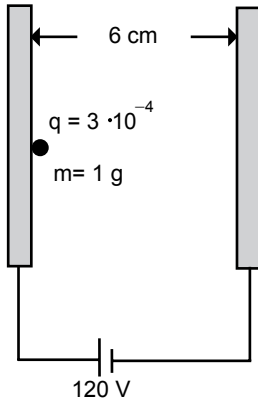


Buna göre levhalar arasına bırakılan ağırlığı ihmal edilmiş

$q = 1,6 \cdot 10^{-19}$ C 'luk yüke etki eden kuvvet kaç newton'dur? (Sürtünme önemsenmeyecektir.)

- A) $4,8 \cdot 10^{-17}$ B) $4,8 \cdot 10^{21}$
C) $4,8 \cdot 10^{-21}$ D) $4,8 \cdot 10^{17}$

8. Aralarındaki uzaklık 6 cm olan şekildedeki iletken özdeş paralel levhalara 120 V potansiyel fark uygulanıyor.



Kütlesi 1 g yükü $3 \cdot 10^{-4}$ C olan parçacık ağırlığı ihmal edilen sürtünmesiz ortama serbest bırakıldığında karşı levhaya kaç m/s hızla çarpar?

- A) $3\sqrt{2}$ B) $4\sqrt{2}$
C) $5\sqrt{2}$ D) $6\sqrt{2}$

9. Elektrik potansiyel enerjiyi ve elektrik yükünü depolayan araçlar aşağıdakilerden hangisidir?

- A) Termometre B) Sığaç
C) Barometre D) Termos

10. Alanı $30 \cdot 10^{-2} \text{ m}^2$ aralarındaki uzaklık $1 \cdot 10^{-2} \text{ m}$ olan armatürden oluşan kondansatörün sığası kaç Farad'tır?

$$(\epsilon = 9 \cdot 10^{-12} \text{ F/m})$$

- A) $140 \cdot 10^{-12}$ B) $175 \cdot 10^{-12}$
C) $270 \cdot 10^{-12}$ D) $345 \cdot 10^{-12}$

11. Her bir armatürde $9 \cdot 10^{-5}$ C 'luk yük bulunan $3 \cdot 10^{-6}$ F sığalı bir kondansatörün armatürleri arasındaki potansiyel farkı kaç volt'tur?

- A) 0,3 B) 3
C) 30 D) 300

12. Sığaçlar kullanıldıkları yere ve ihtiyaca göre;

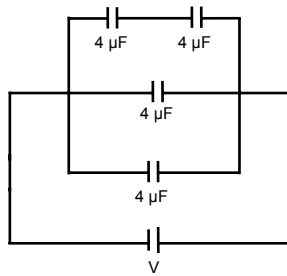
- I. Paralel plakalı
II. Silindirik
III. Küresel

şeklinde üretilmektedir.

Buna göre hangileri doğrudur?

- A) Yalnız I B) II ve III
C) I ve II D) I, II ve III

- 13.



Her birinin sığası $4 \mu\text{F}$ olan şekildedeki paralel bağlı sığaçların eş değer sığası kaç μF olur?

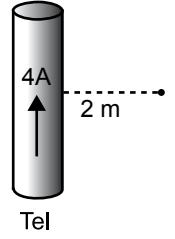
- A) 1 B) 4
C) 10 D) 16

14. Üzerinden 3A'lık akım geçen 0,2 m uzunluğundaki tel parçası 6 tesla şiddetindeki manyetik alan içine konuluyor.

Buna göre tele etkiyen manyetik kuvvet kaç newton'dur?

- A) 3,6 B) 4,8
C) 12,4 D) 18,5

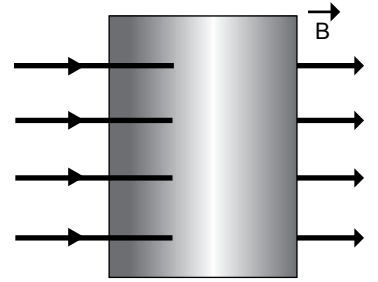
15. Şekildeki tel parçasının üzerinden gösterilen yönde 4A'lık akım geçmektedir.



Telden 2 m uzaklıktaki noktada oluşan manyetik alan kaç wb/m^2 'dir? ($K = 10^{-7} \text{ N/A}^2$)

- A) $2 \cdot 10^{-7}$ B) $4 \cdot 10^{-7}$
C) $8 \cdot 10^{-7}$ D) $12 \cdot 10^{-7}$

16. Düzgün bir manyetik alanda manyetik alan kaynağına yakın ve manyetik alana dik olarak konulan levha yüzeyinden geçen alan çizgileri şekildedeki gibidir.



Buna göre;

- I. Yüzeyin içerisinden belirli sayıda manyetik alan çizgisi geçer.
II. Manyetik alan çizgileri N kutbundan çıkıp S kutbuna girer.
III. Manyetik alan çizgileri N ve S kutuplarından uzaklaştıkça artar.

İfadelerinden hangileri doğrudur?

- A) Yalnız I B) I ve II
C) II ve III D) I, II ve III

17. Doğru akım kaynakları kimyasal enerjinin elektrik enerjisine dönüşmesi ile elde edilir.

Buna göre;

- I. Şarjlı elektrik süpürgeleri
II. Cep telefonları
III. Pille çalışan oyuncak arabaları eşyalarından hangilerinde doğru akım kaynağı kullanılmıştır?

- A) Yalnız I B) I ve II
C) II ve III D) I, II ve III

3. OTURUM

18. Aşağıdaki araçlardan hangisinde elektrik motoru kullanılmamıştır?

- A) Çamaşır makinesi
B) Buzdolabı
C) Eşit kollu terazi
D) Saç kurutma makinesi

19. I. Cep telefonlarının şarj aletleri
II. Televizyonlar
III. Şarjlı elektrik süpürgesi

Yukarıdakilerden hangilerinde transformatör kullanılmıştır?

- A) Yalnız I B) I ve II
C) II ve III D) I, II ve III

20. Verimi % 100 olan bir transformatörde primer devreye 200 V gerilim uygulandığında akım şiddeti 1 A'dır.

Sekonder devredeki akım şiddeti 20 A olduğuna göre sekonder devredeki gerilim kaç voltur?

- A) 2 B) 10 C) 20 D) 100

(427) FİZİK - 7

1. Aşağıda verilen hareketlerden;

- I. Dönme hareketi yapan dönme dolap
II. Çalışan vantilatör
III. Düz bir yolda sabit hızla giden araç

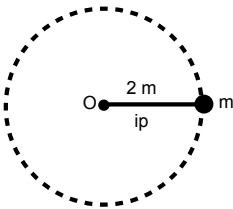
Hangileri düzgün çembersel harekete örnek olarak verilebilir?

- A) Yalnız I B) I ve II
C) II ve III D) I, II ve III

2. Dakikada 1200 devir yapan çamaşır makinesi kazanının frekansı kaç s^{-1} 'dir?

- A) 10 B) 20 C) 30 D) 40

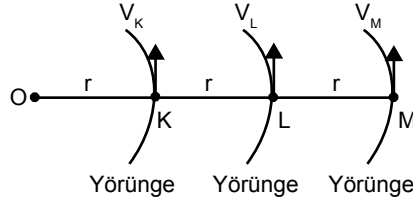
3. 2 m uzunluğunda ipin ucuna bağlanan m kütleli cisme şekildeki gibi sürtünmesiz yatay düzlemde saniyede 4 devir yaptırılarak döndürülüyor.



Buna göre cismin çizgisel hızı kaç m/s'dir? ($\pi = 3$ alınacak)

- A) 12 B) 24 C) 32 D) 48

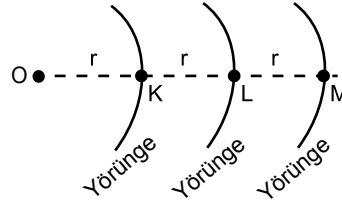
4. Şekildeki O noktası etrafındaki r, 2r, 3r yarıçaplı yörüngelerde sabit hızla K, L ve M cisimleri hareket ediyorlar.



Buna göre K, L ve M cisimlerinin hareketi sırasında sürekli aynı hızda kalmaları için çizgisel hızlarının (V_K, V_L, V_M) büyüklük ilişkisi nedir?

- A) $V_K = V_L = V_M$
B) $V_L > V_K > V_M$
C) $V_M > V_L > V_K$
D) $V_K > V_M > V_L$

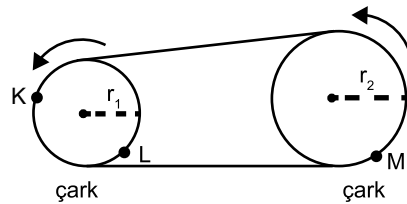
5. K, L ve M cisimleri şekildeki r, 2r ve 3r yarıçaplı dairesel yörüngelerde hareket edip aynı sürede aynı açıyı tarayıp başlangıç noktasına geliyorlar.



Buna göre K, L ve M cisimlerinin açısal hızlarının ($\omega_K, \omega_L, \omega_M$) büyüklük ilişkisi nedir?

- A) $\omega_K > \omega_L > \omega_M$
B) $\omega_M > \omega_L > \omega_K$
C) $\omega_L > \omega_K > \omega_M$
D) $\omega_K = \omega_L = \omega_M$

6. Şekildeki r_1, r_2 yarıçaplı kasnaklar birlikte dönüyorlar. ($r_2 > r_1$)



Buna göre kasnaklar üzerinde bulunan K, L ve M noktalarının periyotlarının (T_K, T_L, T_M) büyüklük ilişkisi nedir?

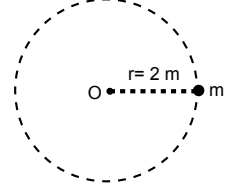
- A) $T_M > T_K = T_L$
B) $T_K = T_L = T_M$
C) $T_M > T_K > T_L$
D) $T_L > T_K > T_M$

7. Kütleli m olan bir cisim r yarıçaplı yörüngede v çizgisel hızı ile döndürülmektedir.

Buna göre bu cismin açısal momentumu (L) aşağıdakilerden hangisine eşittir?

- A) $2m \cdot v \cdot r$ B) $m \cdot v \cdot r$
C) $\frac{m \cdot v}{r}$ D) $\frac{m \cdot v \cdot r}{2}$

8. Sürtünmesiz yatay düzlemde yarıçapı 2 m olan çember etrafında dönen bir cisim şekildeki gibi 3 s'de 6 tur atmaktadır.



Buna göre cismin merkezciil ivmesi kaç m/s^2 'dir? ($\pi = 3$ alınacak)

- A) 144 B) 288
C) 320 D) 342

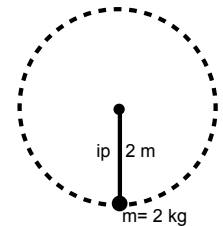
9. Düzgün çembersel hareket yapan bir cismin merkezciil kuvveti;

- I. kütleline
II. çizgisel hızına
III. rengine bağlıdır.

Niceliklerinden hangilerine bağlıdır?

- A) I ve II B) II ve III
C) I ve III D) Yalnız III

10. 2 m uzunluğundaki ipin ucuna 2 kg'lık bir cisim bağlanarak şekildeki gibi düşey düzlemde 3 rad/s açısal hızla döndürülüyor.



Buna göre cismin bağlı olduğu ip dönme sırasında en alt noktadan geçerken ipteki gerilme kuvveti kaç Newton'dur?

($g = 10 m/s^2$ alınacaktır.)

- A) 16 B) 24 C) 42 D) 56

3. OTURUM

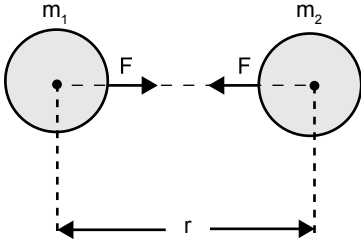
11. Tek renkli ışık ışınları dalga boyu mertebesinde bir yarıktan geçirilirse;

- I. Girişim
II. Kırınım
III. Yansımaya

Fiziksel olaylarından hangileri gerçekleşir?

- A) I ve II B) II ve III
C) I ve III D) I, II ve III

12. Aralarında r uzaklığı bulunan şekildeki m_1 ve m_2 kütleleri birbirlerine kütle çekim kuvveti (F) uygulamaktadır.



Bu kuvvet aşağıdakilerden hangisi ile hesaplanır?

(G = Kütle çekim sabiti)

- A) $G \cdot \frac{m_1 \cdot m_2}{r}$ B) $G \cdot \frac{m_1 \cdot m_2}{r^2}$
C) $G \cdot \frac{m_1 \cdot m_2}{2r}$ D) $G \cdot \frac{2m_1 \cdot m_2}{r}$

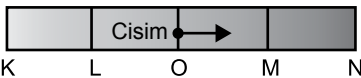
13. Kepler yasalarına göre;

- I. Her gezegen güneşin odak noktalarından birinde olduğu elips biçiminde bir yöründe hareket eder.
II. Güneşten herhangi bir gezegene doğru çizilmiş yarıçap vektörü eşit zamanda eşit alanlar tarar.
III. Güneşin etrafında dolanan iki gezegenin yarıçapları ve periyotları arasında bir oran yoktur.

yargılarından hangileri doğrudur?

- A) Yalnız I B) II ve III
C) I ve II D) I, II ve III

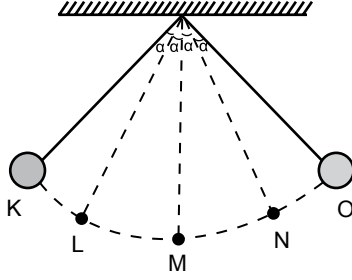
14. Şekildeki cisim KN arasında basit harmonik hareket yapmaktadır.



Cisim M noktasından harekete başlıyor. Cismin periyodu 12 s olduğuna göre, 8 s'de bulunduğu nokta neresidir? (KL = LO = OM = MN)

- A) MN arasında
B) LO arasında
C) KL arasında
D) OM arasında

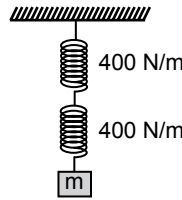
15. Şekildeki sarkaç K noktasına kadar çekilip bırakılıyor.



Sarkaç K'dan L'ye 3 s'de geldiğine göre sarkacın periyodu kaç saniyedir? ($2\alpha < 10^\circ$)

- A) 6 B) 9 C) 18 D) 24

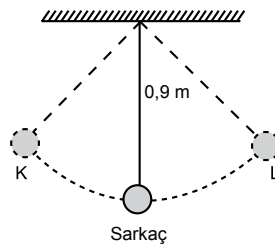
- 16.



Yay sabitleri 400 N/m olan şekildeki seri bağlı yayların eş değer yay sabiti kaç N/m'dir?

- A) 200 B) 400
C) 800 D) $\frac{1}{400}$

17. Şekildeki 0,9 m uzunluğundaki sarkaç KL arasında basit harmonik hareket yapmaktadır.



Buna göre hareketlinin periyodu kaç saniyedir?

($g = 10 \text{ m/s}^2$, $\pi = 3$ alınacak)

- A) 4,2 B) 3,8 C) 2,4 D) 1,8

18. Fizikteki kırınım olayı;

- I. Işık
II. Su
III. Ses

dalgaların hangilerinde gözlemlenir?

- A) I ve II B) II ve III
C) I ve III D) I, II ve III

19. Işık hareketi girişim ve kırınım için;

- I. Havadan cama giren ışığın hızı artar.
II. Girişim ve kırınım olayları ışığın dalga özelliğinin bir sonucudur.
III. Işık tek yarıқта kırınım deseninde merkezi saçak karanlıktır.

Yargılarından (D) doğru, (Y) yanlış sıralaması aşağıdakilerin hangisinde doğru verilmiştir?

	I	II	III
A)	D	D	Y
B)	Y	Y	D
C)	Y	D	Y
D)	D	Y	Y

20. Aşağıdakilerden hangisi elektromanyetik dalgalara örnek verilemez?

- A) Su dalgası
B) Mikrodalga
C) X ışınları
D) Radyo dalgaları

(428) FİZİK – 8

1. Thomson Atom modeline göre;

- I. Atom artı yüklü maddeden oluşmuştur.
II. Atom küre şeklindedir.
III. Atomdaki negatif yüklü tanecikler bu artı yüklü madde içine gömülmüştür.

Yargılarından hangileri doğrudur?

- A) Yalnız I B) II ve III
C) I ve II D) I, II ve III

2. Dalton atom teorisine göre;

- I. Elementler atom adı verilen küçük bölünmeyen taneciklerden oluşmuştur.
II. Bir elementin tüm atomlarının kütlesi ve diğer özellikleri aynıdır fakat diğer elementlerin atomlarından farklıdır.
III. Kimyasal bir bileşik iki ya da daha fazla elementin basit bir oranda birleşmesi ile oluşur.

Yargılarından hangileri doğrudur?

- A) Yalnız I B) I ve II
C) II ve III D) I, II ve III

3. OTURUM

3. Tek elektronlu bir atomda 1. yörünge-
deki elektronun açıl momentumu
aşağıdakilerden hangisidir?
(h = Planck sabiti)

- A) $\frac{h}{2\pi}$ B) $2\pi h$ C) $\frac{\pi}{h}$ D) h

4. Temel haldeki bir atomdan bir
elektron koparmak için gerekli en
düşük enerji nedir?

- A) Elektriksel enerji
B) İyonlaşma enerjisi
C) Isı enerjisi
D) Kinetik enerji

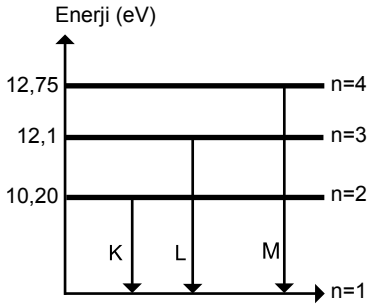
5. Temel halde bulunan bir atomu;

- I. Elektronla
II. Fotonla
III. Isıyla

Uyarma yöntemlerinden hangileri
ile uyarılabilir?

- A) Yalnız I B) I ve II
C) II ve III D) I, II ve III

6. Bir hidrojen atomuna ait enerji sevi-
yeleri şekildeki gibidir.



Buna göre K, L ve M ışıklarında-
ki dalga boylarının ($\lambda_K, \lambda_L, \lambda_M$)
büyüklük ilişkisi nedir?

- A) $\lambda_K > \lambda_L > \lambda_M$
B) $\lambda_K = \lambda_L = \lambda_M$
C) $\lambda_M > \lambda_L > \lambda_K$
D) $\lambda_L > \lambda_M > \lambda_K$

7. Atom altı parçacıklara;

- I. Leptonlar
II. Kuarklar
III. Hadronlar

İfadelerinden hangileri örnek ola-
bilir?

- A) Yalnız I B) II ve III
C) I ve II D) I, II ve III

8. Füzyon yakıtları fisyonu göre;

- I. Bol ve ucuzdur.
II. Daha çok enerji açığa çıkar.
III. Tepkime sonrası bolca radyoaktif
ürün meydana gelir.

Yargılarından hangileri doğrudur?

- A) I ve II B) II ve III
C) I ve III D) I, II ve III

9. Temel kuvvetler büyük patlama anın-
dan itibaren başlangıçta bir arada
bulunurken birkaç saniye sonra birbi-
rinden ayrılırlar.

Buna göre aşağıdakilerden hangi-
si temel kuvvet değildir?

- A) Elektromanyetik kuvvet
B) Kütle çekim kuvveti
C) Kaldırma kuvveti
D) Güçlü kuvvet

10. Bir elektronun 1 voltluk potansiyel
fark altında kazandığı enerjiye elekt-
ron volt denir.

Buna göre 1 eV kaç joule'dir?
(1 e.y= $1,6 \cdot 10^{-19}$ C)

- A) $1,6 \cdot 10^{-19}$ B) $3,2 \cdot 10^{-19}$
C) $6,4 \cdot 10^{-19}$ D) $8,2 \cdot 10^{-19}$

11. Bir fotosele 12 eV'luk enerjiye sahip
fotonlar gönderiliyor.

Kopan elektronların kinetik enerjisi
4 eV olduğuna göre metalin bağ-
lanma enerjisi kaç eV'tur?

- A) 6 B) 8 C) 10 D) 16

12. Dalga boyu 6200 \AA olan 10^{20} tane
fotonun enerjisi kaç eV'tur?
($hc= 12400 \text{ eV} \cdot \text{\AA}$)

- A) 10^{20} B) $2 \cdot 10^{20}$
C) $3 \cdot 10^{20}$ D) $4 \cdot 10^{20}$

13. Bazı düzenek örnekleri aşağıda
verilmiştir.

- I. Hırsız alarm sistemleri
II. Sinema filmlerinin ses kayıtlarının
okunması
III. Otomatik olarak açılıp kapanan
kapılar

Buna göre hangileri fotoelektrik
olayın uygulama alanlarına örnek
olabilir?

- A) Yalnız I B) II ve III
C) I ve II D) I, II ve III

14. De Broglie momentumu P olan tane-
ciğe eşlik eden dalganın dalga boyu
 $\lambda = \frac{h}{mV}$ 'dir. Eşit kütleli iki parçacı-
ğın hızları $V_K = V$, $V_L = 3V$ 'dir.

Parçacıklara eşlik eden dalga boy-
larının oranı ($\frac{\lambda_K}{\lambda_L}$) kaçtır?

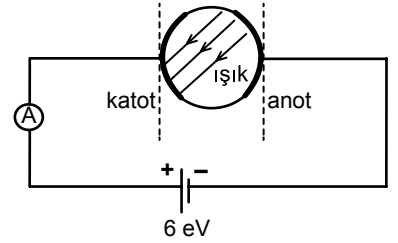
- A) 1 B) 3 C) 6 D) 9

15. Bir fotoselden kopan elektronlar
8 eV'luk maksimum kinetik enerji ile
anota çarpıyor.

Katot metalinin eşik dalga boyu
 6200 \AA olduğuna göre gelen foto-
nun enerjisi kaç eV'tur?
($hc= 12400 \text{ eV} \cdot \text{\AA}$)

- A) 6 B) 8 C) 10 D) 12

16. Şekildeki fotoselde katot metalinde
bağlanma enerjisi 9 eV'tur.



Katot üzerine ışık düşürüldüğünde
kopan elektron anota 20 eV'luk
kinetik enerji ile çarptığına göre
gelen ışığın enerjisi kaç eV'tur?

- A) 15 B) 29 C) 35 D) 41

17. Sağlık alanında kullanılan bazı ci-
hazlar aşağıda verilmiştir.

- I. Manyetik Rezonans Görüntüleme
II. Tomografi
III. Ultrason

Buna göre bu cihazlardan hangileri
biyomedikal cihazlara örnektir?

- A) Yalnız I B) II ve III
C) I ve II D) I, II ve III

18. Ses dalgalarının su altındaki yayı-
lımından yararlanarak yön bulma-
da, haberleşmede ve deniz araç-
larının tespitinde kullanılan araç
aşağıdakilerden hangisidir?

- A) Termal kamera
B) Sonar
C) Plazma
D) Diyot

3. OTURUM

19. Bazı uygulama örnekleri aşağıda verilmiştir.

- I. Malzeme ve imalat
- II. Uzun çalışmalar ve havacılık
- III. Çevre ve enerji
- IV. Tıp ve sağlık

Bu uygulamalardan hangileri nanoteknolojinin uygulama alanlarına örnektir?

- A) Yalnız I B) I ve III
C) II ve IV D) I, II, III ve IV

20. Aşağıda bilim araştırma merkezleri ve kuruluş amaçları eşleştirilmiştir.

- I. Tübitak - Bilim ve teknoloji alanlarında temel ve uygulamalı araştırmalar yapmak
- II. Nasa - Uzay çalışmalarına öncülük etmek
- III. Cern - Türkiye'deki maden yataklarını araştırmak

Bu eşleştirmelerden hangileri doğru verilmiştir?

- A) Yalnız I B) I ve II
C) I ve III D) I, II ve III

(433) KİMYA – 3

1. Aşağıda verilen maddelerin hangisi ile hazırlanan sulu çözelti asidik özellik gösterir?

- A) NH₃ B) KOH
C) NaOH D) HNO₃

2. Oda koşullarında hazırlanan bazı sulu çözeltilere ait pH değerleri aşağıdaki gibidir.

- I. pH = 3
- II. pH = 10
- III. pH = 14

Buna göre bu çözeltilerden hangileri baz çözeltilerdir?

- A) Yalnız I B) Yalnız II
C) II ve III. D) I, II ve III.

3. $\text{Ca(OH)}_2 + \text{H}_2\text{SO}_4 \rightarrow \text{CaSO}_4 + 2\text{H}_2\text{O}$

Yukarıda verilen tepkime ile ilgili aşağıdakilerden hangisi yanlıştır?

- A) Nötrleşme tepkimesidir.
B) CaSO₄ bazdır.
C) H₂SO₄ asittir.
D) Ca(OH)₂ bazdır.

4. "Asitler veya bazlarla etkileşerek renk değiştiren maddelere - - - - adı verilir."

Verilen ifadede boş bırakılan (- - - -) yere aşağıdakilerden hangisi yazılmalıdır?

- A) İndikatör B) Stokiyometri
C) Adezyon D) Viskozite

5. Aşağıda verilen asitlerden hangisi cam şişelerde saklanamaz?

- A) HI B) HCl
C) HF D) HCOOH

6. Aşağıda verilen metallerden hangisi sadece "kral suyu" denilen bir asit karışımında çözünür?

- A) Na B) Al
C) K D) Au

7. Aşağıda verilen metallerden hangisi derişik H₂SO₄ çözeltisine atıldığında SO₂ gazı açığa çıkar?

- A) Cu B) Ca
C) Mg D) Fe

8. Aşağıdakilerden hangisi amfoter metal değildir?

- A) Zn B) Sn C) Pb D) Ag

9. Asit yağmurları ile ilgili aşağıdaki açıklamalardan hangisi yanlıştır?

- A) Tarihi yapılara zarar verirler.
B) pH değeri 7'nin üstünde olan yağmurlardır.
C) İnsan sağlığına olumsuz etkileri vardır.
D) SO₂ ve NO₂ gazları yağmur suyunun asitliğini artırır.

10. • Kışın yolların buzlanmasını önlemede
• Hastalara verilen serumun bileşiminde
• Gıda endüstrisinde

Bazı kullanım alanları verilen maddelerde aşağıdakilerden hangisidir?

- A) NaOH B) NH₃
C) KNO₃ D) NaCl

11. Aşağıda verilen madde örneklerinden hangisi heterojen bir karışımdır?

- A) Hava B) Granit taşı
C) Tuzlu su D) Çelik

12. Aşağıda bazı karışım çeşitlerine örnekler verilmiştir.

- Emülsiyon → Süt
- Çözelti → Şekerli su
- Sıvı aerosol → Sis
- Süspansiyon → Duman

Bu eşleştirmelerden kaç tanesi doğrudur?

- A) 1 B) 2 C) 3 D) 4

13. I. Kolonya (alkollü su)
II. Gazoz
III. Hava

Yukarıda verilen çözeltilerin hangilerinde çözücü ve çözünen aynı fiziksel halde bulunur?

- A) Yalnız III B) I ve II.
C) I ve III. D) I, II ve III.

14. Kütlece %20'lik sodyum klorür (NaCl) içeren 150 gram sulu çözeltide kaç gram sodyum klorür bulunur?

- A) 30 B) 25 C) 20 D) 15

15.

	Madde	Polar/İyonik/ Apoler
I	Üre	Polar
II	Yemek tuzu	İyonik
III	Karbon tetraklorür	Apoler

Tabloda verilen maddelerden hangileri saf suda iyi çözünür?

- A) Yalnız II B) I ve II.
C) I ve III. D) I, II ve III.

16. 40 mL etanol ile 210 mL su karıştırılarak bir çözelti hazırlanıyor.

Buna göre bu çözeltideki etanolün hacimce yüzdesi kaçtır?

- A) 12 B) 16 C) 19 D) 20

17. I. Donma noktası düşmesi
II. Kaynama noktası yükselmesi
III. Özkütle

Verilenlerden hangileri koligatif özelliklidir?

- A) Yalnız I B) Yalnız III
C) I ve II. D) II ve III.

3. OTURUM

18. Aşağıdakilerden hangisi tanecik boyutu farkından yararlanılarak geliştirilen karışımları ayırma yöntemi?

- A) Diyaliz
B) Yüzdürme
C) Aktarma
D) Ayrımsal damıtma

19. Zeytinyağı- su gibi heterojen sıvı- sıvı karışımları ayırmak için aşağıdaki ayırma yöntemlerinden hangisi kullanılır?

- A) Ayırma hunisi (faz oluşturma)
B) Yüzdürme (flotasyon)
C) Ayrımsal damıtma
D) Süzme

20. Aşağıdakilerden hangisi karışımların süzme ile ayrılması yönteminin uygulamalarından değildir?

- A) Havadaki polen ve tozlara karşı kullanılan maskeler
B) Pişmiş makarnanın kevgir ile suyundan ayrılması
C) Araç motorlarının havadan gelen toz ve kirden korunması için kullanılan hava filtreleri
D) Tuzlu su karışımından tuz ve suyun birbirinden ayrılması

(434) KİMYA – 4

1. Aşağıda verilen enerji kaynaklarından hangisi fosil yakıt değildir?

- A) Kok kömürü B) Doğal gaz
C) Jeotermal D) Benzin

2. I. Güvenli bir şekilde saklanabilir.
II. Küresel ısınmaya sebep olur.
III. Fosil yakıtlar içinde en ucuz olanıdır.

Verilen ifadelerden hangileri kömürün yakıt olarak üstünlüklerindedir?

- A) Yalnız I B) I ve III.
C) II ve III. D) I, II ve III.

3. I. CH₄
II. C₂H₄
III. C₃H₄

Yukarıda verilen bileşiklerden hangileri alken sınıfı bir hidrokarbondur?

- A) Yalnız I B) Yalnız II
C) I ve III. D) II ve III.

4. Aşağıdakilerden hangisi yakıt olarak kullanılan petrol ürünü değildir?

- A) Petrol eteri B) Benzin
C) Gaz yağı D) Mazöt

5. Benzen bileşiği ile ilgili verilen bilgilerden hangisi yanlıştır?

- A) Suda iyi çözünür.
B) Kanserojen maddedir.
C) Aromatik hidrokarbondur.
D) Kapalı formülü C₆H₆ şeklindedir.

6. Aşağıdakilerden hangisi temiz enerji kaynaklarından?

- A) Güneş B) Fuel-Oil
C) Antrasit D) Linyit

7. Aşağıda verilenlerden hangisi bir polisakkarittir?

- A) Laktoz B) Nişasta
C) Maltoz D) Sakkaroz

8. Besinlerde bulunan nişastanın sindirimi sonucu elde edilen glikozun fazlası, hangi maddeye dönüştürülerek depo edilir?

- A) Glikojen B) Sakkaroz
C) Galaktoz D) Selüloz

9. İnsan vücudu aşağıdakilerden hangisini öncelikli enerji kaynağı olarak kullanır?

- A) Su B) Yağ
C) Karbonhidrat D) Protein

10. I. Proteinler vücudun yapı malzemesini oluşturur.
II. Proteinler 20 çeşit amino asitten oluşur.
III. Her amino asitin yapısında mutlaka amino (-NH₂) grubu bulunur.

Proteinlerle ilgili verilen ifadelerden hangileri doğrudur?

- A) Yalnız I B) I ve II.
C) II ve III. D) I, II ve III.

11. Suda bulunan kalsiyum (Ca²⁺) ve magnezyum (Mg²⁺) iyonlarının aşırısını çöktürüp sudan ayırma işlemine ne ad verilir?

- A) Dinlendirme
B) Klorlama
C) Sertlik (kireç) giderme
D) Koagülasyon (pıhtılaştırma)

12. Hazır gıdaların tadını güzelleştirmek ve lezzetini artırmak için kullanılan madde aşağıdakilerden hangisidir?

- A) Lesitin
B) Sorbik asit
C) Benzoik asit
D) Mono sodyum glutamat

13. Aşağıda formülü verilen maddelerden hangisi hijyen amaçlı kullanılır?

- A) NaClO B) NaHCO₃
C) NaCl D) Na₂SO₄

14. I. Kir çıkarma özellikleri vardır.
II. Yüzey aktif madde özelliği taşırlar.
III. Yapılarında polar ve apolar grup bulunur.

Sabun ve deterjanlarla ilgili verilen bilgilerden hangileri doğrudur?

- A) Yalnız I B) I ve II.
C) II ve III. D) I, II ve III.

15. • Elektrik kabloları

- Kapı ve pencere profilleri
• Yer ve cephe kaplamaları

Yukarıda bazı kullanım alanları verilen polimer hangisidir?

- A) Polietilen teraftalat (PET)
B) Poli vinil klorür (PVC)
C) Polistiren (PS)
D) Polietilen (PE)

16. Günlük hayatta kullandığımız kırtasiye malzemeleri ile ilgili verilen bilgilerden hangisi yanlıştır?

- A) Silgiler çoğunlukla kauçuktan yapılır.
B) Kurşun kalemin yazı ucu, grafit ve kil karışımıdır.
C) Kurşun kalemin sertlik derecesi "K" harfi ile belirtilir.
D) Tebeşirin temel bileşeni kalsiyum karbonat (CaCO₃)'tir.

17. I. Kapsüller
II. Tabletler
III. Şuruplar

Verilen ilaç formlarından hangileri piyasada yaygın olarak bulunur?

- A) Yalnız I B) I ve II.
C) II ve III. D) I, II ve III.

3. OTURUM

18. Aşağıdakilerden hangisi küresel ısınmanın beklenen sonuçlarından biri değildir?

- A) Dünyanın ortalama sıcaklığının artması
B) Denizlerdeki su seviyesinin düşmesi
C) İnsanlarda cilt kanserlerinin artması
D) İklim değişikliklerinin görülmesi

19. I. Plastikler
II. Asit yağmurları
III. Yoğun gübreleme

Verilenlerden hangileri toprak kirliliğine sebep olur?

- A) Yalnız I B) Yalnız II
C) I ve II. D) I, II ve III.

20. Aşağıda verilen gazlardan hangisinin sera etkisine katkısı en fazladır?

- A) N₂O B) CH₄
C) CO₂ D) H₂O

(435) KİMYA – 5

1. Bir radyo istasyonundan 10⁶ Hz frekansta yayılan sinyalin dalga boyu kaç metre olur? (c = 3.10⁸m/s)

- A) 3.10⁻² B) 3
C) 300 D) 3.10¹⁴

2. Aşağıda verilen elektromanyetik ışın türlerinden hangisinin dalga boyu en düşüktür?

- A) X- ışınları
B) Mor ötesi ışınlar
C) Radyo dalgaları
D) Görünür bölge ışınları

3. 3p orbitaline ait kuantum sayıları aşağıdakilerden hangisi olabilir?

	n	ℓ	m _ℓ
A)	0	1	0
B)	1	0	0
C)	3	0	-1
D)	3	1	+1

4. ¹¹Na, ¹⁵P, ¹⁷Cl elementleri için aşağıdakilerden hangisi doğrudur?

- A) Elektron ilgisi en büyük olan Na elementidir.
B) Birinci iyonlaşma enerjisi en büyük olan Cl elementidir.
C) P elementinin elektronegatifliği en yüksektir.
D) Atom yarıçapı en büyük olan Cl elementidir.

5. Aşağıda verilen elementlerden hangisi alkali metaller grubunda bulunur?

- A) ²He B) ⁸O
C) ¹⁹K D) ²⁰Ca

6. Aşağıdakilerin hangisinde hidrojen +1 yükseltgenme basamağına sahiptir? (¹H, ⁶C, ⁸O, ¹¹Na, ¹⁹K)

- A) H₂ B) H₂O
C) NaH D) CaH₂

7. 2 mol H₃PO₄ bileşiği kaç mol oksijen atomu içerir?

- A) 8 B) 4 C) 2 D) 1

8.

Bileşik formülü	Bileşik adı
• H ₂ O	Dihidrojen monoksit
• NaF	Sodyum florür
• PCl ₃	Fosfor triklorür
• Ca ₃ P ₂	Trikalsiyum difosfor

Yukarıda verilen bileşiklerden hangisinin adı yanlış yazılmıştır?

- A) H₂O B) NaF
C) PCl₃ D) Ca₃P₂

9. 0,4 mol C₂H₅OH bileşiğinin kütlesi kaç gramdır? (H:1 g/mol, C:12 g/mol, O:16 g/mol)

- A) 9,2 B) 18,4
C) 46 D) 115

10. H₃PO₄ + CaO → Ca₃(PO₄)₂ + H₂O

Tepkime denklemi en küçük tam sayılarla denkleştirildiğinde suyun katsayısı kaç olur?

- A) 1 B) 2 C) 3 D) 4

11. 2Fe_(k) + 3Cl_{2(g)} → 2FeCl_{3(k)}

tepkimesi ile ilgili verilen;

- I. Redoks tepkimesidir.
II. Cl₂ yükseltgendir.
III. Fe indirgendir.

ifadelerinden hangileri doğrudur?

- A) I ve II. B) I ve III.
C) II ve III. D) I, II ve III.

12. HBr_(suda) + KOH_(suda) → KBr_(suda) + H₂O_(s)

Verilen tepkime denklemi aşağıdaki tepkime türlerinden hangisine örnek gösterilebilir?

- A) Yanma tepkimesi
B) Redoks tepkimesi
C) Asit-baz tepkimesi
D) Çözünme-çökeltme tepkimesi

13. 2NO_(g) + O_{2(g)} → 2NO_{2(g)} tepkimesinde 30 gram NO gazının tamamı yeterince O₂ gazı ile tepkimeye girdiğinde kaç gram NO₂ gazı oluşur? (N:14 g/mol, O:16 g/mol)

- A) 30 B) 46 C) 60 D) 92

14. Karbon, hidrojen ve oksijen elementlerinden oluştuğu bilinen organik bir bileşiğin 88 gramında 48 gram karbon ve 32 gram oksijen elementi bulunmaktadır.

Bu bileşiğin basit formülü aşağıdakilerden hangisinde doğru olarak verilmiştir?

(H:1 g/mol, C:12 g/mol, O:16 g/mol)

- A) C₂H₄O B) C₃H₈O₃
C) C₅H₇O₂ D) C₄H₈O₂

15. Aşağıda verilen birim dönüşümlerinden hangisi yanlıştır?

- A) 1 mL = 1cm³
B) 1 bar = 10Pa
C) 1 atm = 76 cmHg
D) 1 dm³ = 1000mL

3. OTURUM

16. Sabit basınç altında 6 litrelik bir gazın sıcaklığı 27°C'tan 227°C'a çıkarılırsa son hacmi kaç litre olur?

- A) 3,6 B) 7,5
C) 10 D) 28

17. 5,6 litrelik kapalı bir kaptaki 0°C'ta bulunan 0,25 mol CO₂ gazının yapmış olduğu basınç kaç atm'dir?

- A) 0,001 B) 0,01
C) 0,1 D) 1

18. He ve SO₂ gazlarının sabit basınç ve sıcaklıktaki difüzyon hızlarının oranı aşağıdakilerden hangisidir? (He:4 g/mol, O:16 g/mol, S:32 g/mol)

- A) 4 B) 8 C) 12 D) 16

19. Bir gazın ideallik koşulları aşağıdakilerden hangisine bağlı değildir?

- A) Kabin şekli B) Gazın cinsi
C) Basınç D) Sıcaklık

20. Sabit hacimli kapalı bir kaptaki aynı sıcaklıkta 1 mol H₂, 0,5 mol He ve 0,5 mol CH₄ gazları bulunmaktadır. H₂ gazının kısmi basıncı 4 atm olduğuna göre kaba yapılan toplam basınç kaç atm'dir?

- A) 2 B) 4 C) 6 D) 8

(445) BİYOLOJİ – 5

1. Işık enerjisinden yararlanarak inorganik maddelerden organik madde sentezi yapan canlı grubu aşağıdakilerden hangisidir?

- A) Heterotrof B) Fotoototrof
C) Fotosentez D) Kemoototrof

2. I. Kıvrımlı bir yapıya sahip iç zara krista adı verilir.
II. İç zar stroma adı verilen yoğun bir sıvıyı çevreler.
III. Stroma içerisinde tilakoit denilen üçüncü bir zar sistemi mevcuttur.

Verilenlerden hangileri kloroplastın özelliklerindedir?

- A) Yalnız I B) I ve II
C) II ve III D) I, II ve III

3. Aşağıdakilerden hangisi fotosentez hızına etki eden kalıtsal faktörlerden birisidir?

- A) Su B) Mineraller
C) Ortam pH'ı D) Enzim miktarı

4. Klorofil yapısında bulunan mineral madde aşağıdakilerden hangisidir?

- A) Magnezyum (Mg)
B) Kalsiyum (Ca)
C) Potasyum (K)
D) Mangan (Mn)

5. Mitokondrisi olmadığı için enerji ihtiyacını sadece laktik asit fermentasyonu ile karşılayan hücre aşağıdakilerden hangisine aittir?

- A) Epitel B) Nöron
C) Alyuvar D) Kas

6. Yağ asitleri oksijenli solunuma aşağıda verilenlerden hangisine dönüşerek katılır?

- A) Pirüvik asit
B) Asetil CoA
C) Krebsin ara ürünleri
D) Glikolizin ara ürünleri

7. Aşağıdakilerden hangisi oksijenli ve oksijensiz solunum olaylarının son ürünlerinden biri değildir?

- A) Su B) Etil alkol
C) Laktik asit D) Pirüvik asit

8. Aşağıdakilerden hangisinin yapımında etil alkol fermentasyonu yapan mayalardan yararlanır?

- A) Turşu B) Peynir
C) Ekmek D) Yoğurt

9. Sinir hücrelerinde (nöron) uyarı iletiminin yönü aşağıdakilerden hangisindeki gibidir?

- A) Dendritten aksone
B) Çekirdekten dendrite
C) Aksone ucundan aksone
D) Hücre gövdesinden dendrite

10. Beyin zarlarının (Meningens zarları) dıştan içe doğru sıralanışı nasıldır?

- A) Sert zar – Örümceksi zar – İnce zar
B) İnce zar – Örümceksi zar – Sert zar
C) Örümceksi zar – Sert zar – İnce zar
D) Sert zar – İnce zar – Örümceksi zar

11. I. Miyelin kılıflı nöronlarda iletim hızıdır.
II. Aksone çapı arttıkça iletim hızı artar.
III. Ranvier boğumu sayısı arttıkça iletim hızı artar.

İmpuls taşıma hızını etkileyen faktörlerle ilgili yukarıdakilerden hangileri doğrudur?

- A) Yalnız I B) I ve II
C) I ve III D) I, II ve III

12. Vücut homeostasisini (iç denge) kontrol eden hipotalamus beynin hangi kısmında yer alır?

- A) Ön beyin B) Ara beyin
C) Orta beyin D) Arka beyin

13. Beyin zarlarının iltihaplanmasıyla oluşan hastalık aşağıdakilerden hangisidir?

- A) Kuduz B) Epilepsi
C) Menenjit D) Parkinson

14. Aşağıdakilerden hangisi hipofiz bezinin arka lobundan salgılanan bir hormondur?

- A) Büyüme hormonu
B) Antidiüretik hormon
C) Tiroid uyarıcı hormon
D) Folikül uyarıcı hormon

15. I. Kandaki şeker oranını düşürür.
II. Langerhans adacıklarının alfa hücrelerinden salgılanır.
III. Karaciğer ve kaslarda glikozun glikojene dönüşümünü sağlar.

İnsülin hormonu ile ilgili verilen bilgilerden hangileri doğrudur?

- A) Yalnız I B) I ve II
C) I ve III D) I, II ve III

16. Aşağıdakilerden hangisi böbrek üstü bezlerinin öz bölgesinden salgılanan bir hormondur?

- A) Kortizol
B) Adrenalin
C) Aldosteron
D) Eşeyssel hormonlar

17. Aşağıdakilerden hangisi hem enzim hem de hormon salgılayan bir bezdir?

- A) Tiroit B) Hipofiz
C) Paratiroit D) Pankreas

3. OTURUM

18. I. Uzağı iyi görememe sorunudur.
II. İnce kenarlı mercekle tedavi edilir.
III. Göz küresi önden arkaya doğru uzamıştır.

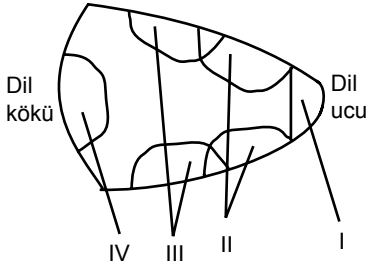
Miyop göz kusuru ile ilgili verilenlerden hangileri yanlıştır?

- A) Yalnız I B) Yalnız II
C) I ve III D) I, II ve III

19. Çekiç, örs ve üzengi kemikleri ku-
lağın hangi bölümünde bulunur?

- A) İç kulak B) Dış kulak
C) Orta kulak D) Kulak yolu

20.



Yanda şematize edilen dil yapısı incelendiğinde III numaralı bölge hangi tat için özelleşmiştir?

- A) Acı B) Ekşi C) Tatlı D) Tuzlu

(448) BİYOLOJİ – 8

1. Aşağıda verilen simbiyoz yaşam şekillerinden hangisi zorunlu mutualizme örnek gösterilir?

- A) Fil ile filin üzerinde yaşayan parazitleri yiyen kuş türü
B) Mantar ve algin oluşturduğu liken birliği
C) İnsan ile bağırsakta yaşayan tenya
D) Badem ağacı ile ökse otu

2. I. Funda-çalı evresi
II. Ot evresi
III. Liken evresi
IV. Yosun evresi
V. Ağaç evresi

Doğal bir ekosistemin birincil (primer) süksesyonunda gözlenen yukarıdaki evreler gerçekleşme önceliğine göre seçeneklerin hangisinde belirtildiği gibi sıralanır?

- A) II – I – III – V – IV
B) II – IV – V – III – I
C) III – IV – II – I – V
D) III – V – IV – II – I

3. Farklı popülasyonlara ait bireyler,

- I. Eş seçimi
II. Yaşam alanı
III. Besin

verilenlerin hangilerinden dolayı rekabete girmez?

- A) Yalnız I B) I ve II
C) I ve III D) II ve III

4. S tipi popülasyon gelişme grafiği dikkate alındığında büyüme hızının maksimum olduğu evre aşağıdakilerden hangisinde belirtilmiştir?

- A) Kuruluş evresi
B) Negatif artış evresi
C) Logaritmik artış evresi
D) Denge evresi

5. Taşıma kapasitesine ulaşmış bir popülasyon için;

- I. Üreme hızı minimumdur.
II. Çevre direnci en azdır.
III. Rekabet değeri düşüktür.

verilenlerden hangileri doğrudur?

- A) Yalnız I B) Yalnız II
C) I ve III D) II ve III

6. Aşağıda verilen canlılardan hangisi dünya üzerinde nesli tükenme tehlikesi altında olan türlere örnek gösterilmez?

- A) Fil B) Lemur
C) Albatros D) Kutup ayısı

7. Aşağıda verilenlerden hangisi bir popülasyon örneği değildir?

- A) Kahramanmaraş Başkonuş Yaylası'ndaki ala geyikler
B) Ankara Kızılcıhamam'daki ağaçlar
C) Bursa Uludağ'daki doğu kayınları
D) Mardin Mazıdağ'daki mazı meşeleri

8. Ekoton ile ilgili olarak;

- I. Popülasyona ait yaşam alanlarının geçiş bölgeleridir.
II. Tür çeşitliliği oldukça fazladır.
III. Rekabet oranı düşüktür.

verilenlerden hangileri doğrudur?

- A) Yalnız I B) I ve II
C) I ve III D) II ve III

9. Aynı ekosistemde yaşayan vaşak ve tavşan için,

- I. Aralarında besin için rekabet yaşanır.
II. Tavşan sayısının artması vaşak sayısını da artırır.
III. Vaşak sayısının azalması tavşanı olumlu etkiler.

ifadelerinden hangileri doğrudur?

- A) Yalnız II B) I ve II
C) I ve III D) II ve III

10. Kapalı ekosistem içerisinde yaşam sürdüren bir popülasyonun büyüme oranına aşağıdakilerden hangisi etki göstermez?

- A) Popülasyon içine olan göçler.
B) Doğum oranının artması
C) Salgın hastalık artışı
D) Besin kıtlığı

11. Aşağıdakilerden hangisi popülasyonlardaki gen frekansının değişmesine neden olan faktörlerden biri değildir?

- A) Göç
B) Mutasyon
C) İzolasyon (ayırılma)
D) Şansa bağlı çiftleşme

12. I. İçeriye ve dışarıya göç yoktur.
II. Mutasyon meydana gelmektedir.
III. Herhangi bir genin yararına veya zararına seçim yoktur.

Yukarıda verilenlerden hangileri Hardy-Weinberg kuralına göre dengeli bir popülasyonun özelliğidir?

- A) Yalnız I B) I ve II
C) I ve III D) I, II ve III

13. 50000 kişilik bir insan popülasyonunda 8000 kişi sarı saçlı ise, Hardy-Weinberg kuralına göre bu popülasyonda baskın genin frekansı kaçtır? (Siyah saç sarı saçla göre baskındır.)

- A) 0,84 B) 0,16 C) 0,6 D) 0,4

14. Aşağıdakilerden hangisi kalıtsal hastalıkların frekansında artışa neden olur?

- A) İslah
B) Akraba evlilikleri
C) Yapay seleksiyon (seçilim)
D) Popülasyon dışına göç

3. OTURUM

(452) ÇAĞ.TÜRK DÜN.TAR. – 2

15. Küçük popülasyonların gen havuzunda şansa bağlı olarak genetik kaymaların olmaması için aşağıdakilerden hangisi gereklidir?

- A) Rastgele çiftleşmeler olmalıdır.
- B) Mutasyonlar olmamalıdır.
- C) Doğal seçim olmamalıdır.
- D) Popülasyon kalabalık olmalıdır.

16. Canlılığın dünyamıza uzayda yaşayan farklı organizmalar tarafından getirildiğini savunan görüş aşağıdakilerden hangisidir?

- A) Biyogenez
- B) Abiyogenez
- C) Heterotrof
- D) Panspermia

17. • Yeryüzünün oluşum sürecindeki ilk jeolojik zamandır.
• Volkanik etkinlikler çok fazladır.
• İlk atmosfer ve okyanuslar bu zamanda oluşmuştur.

Yukarıda bazı özellikleri verilen kambriyen öncesi zaman dilimi aşağıdakilerden hangisidir?

- A) Hadeyan
- B) Arkeyan
- C) Proterozoik
- D) Paleozoyik

18. Yaradılış inancına göre;

- I. Gök, yer ve ikisi arasındaki tüm canlılar mutlak güç sahibi bir yaratıcı tarafından oluşturulmuştur.
- II. Tür çeşit sayısı sabit olup türler farklı zamanlarda yaratılmıştır.
- III. Canlılar arasında ara geçiş formları vardır.

verilenlerden hangileri doğrudur?

- A) Yalnız I
- B) Yalnız III
- C) I ve II
- D) II ve III

19. Heterotrof hipotezine göre ilkel dünya atmosferinde aşağıda verilen gazlardan hangisi yoktur?

- A) Metan
- B) Oksijen
- C) Hidrojen
- D) Su buharı

20. Aristo'nun kurguladığı abiyojenez hipotezi aşağıda verilen bilim adamlarından hangisinin yaptığı çalışmalar sonrası çürütülmüştür?

- A) Urey
- B) Miller
- C) Oparin
- D) Pasteur

1. Yumuşama politikasının ortaya çıkmasında en önemli etken, aşağıdakilerden hangisidir?

- A) Kore Savaşı
- B) Küba buhranı
- C) NATO'nun Kuruluşu
- D) Konvansiyonel (nükleer ve kimyasal olmayan) silahlardan nükleer silahlara geçiş

2. ABD, SSCB'nin Küba'ya yerleştirdiği füzeleri sökmeye karşılığında, aşağıdaki ülkelerin hangisindeki Jüpiter füzelerini sökmeyi kabul etmiştir?

- A) Fransa
- B) Türkiye
- C) Yunanistan
- D) Batı Almanya

3. Güney Vietnam, Kuzey Vietnam'ın saldırıları karşısında aşağıdaki hangi ülkeden yardım istemiştir?

- A) ABD
- B) Çin
- C) SSCB
- D) İngiltere

4. I. SSCB
II. Afganistan
III. Hindistan
IV. Pakistan

Keşmir Sorunu, yukarıdaki devletlerden hangilerini karşı karşıya getirmiştir?

- A) I ve II.
- B) II ve III.
- C) III ve IV.
- D) I, II ve IV.

5. Aşağıdakilerden hangisi, SSCB'nin Afganistan'ı işgali karşısında direnişin sembolü olmuştur?

- A) Taliban
- B) Mücahitler
- C) Muhacirler
- D) Kara Gömlekliler

6. Mısır ile İsrail arasında yapılan Camp David Antlaşmaları, aşağıdaki devletlerden hangisinin arabuluculuğu ile imzalanmıştır?

- A) İngiltere
- B) Türkiye
- C) SSCB
- D) ABD

7. Kara sularının deniz altındaki doğal uzantısına ne denir?

- A) FIR hattı
- B) Kayalık
- C) Platform
- D) Kıta sahanlığı

8. Türkiye ile Yunanistan arasında aşağıdaki konulardan hangisiyle ilgili bir sorun yaşanmamıştır?

- A) Kıbrıs Adası
- B) Osmanlı borçları
- C) Nüfus Mübadelesi
- D) Ege Kıta Sahanlığı

9. I. Türkiye
II. Azerbaycan
III. Ürdün
IV. Meksika

Verilenlerden hangileri, Kuzey Kıbrıs Türk Cumhuriyeti'nin kuruluşunu tanıyan devletlerdendir?

- A) Yalnız I.
- B) I ve II.
- C) I, II ve III.
- D) I, II, III ve IV.

10. Türkiye'nin 12 Mart 1971 muhtırası sonrasında ilk hükümetini, aşağıdakilerden hangisi kurmuştur?

- A) Bülent Ulusu
- B) Hasan Saka
- C) Nihat Erim
- D) Ferit Melen

11. Aşağıdakilerden hangisi, Yugoslavya'nın parçalanmasına karşı koyarak bağımsızlığını ilan eden diğer Yugoslav cumhuriyetlerine savaş açmıştır?

- A) Sırbistan
- B) Slovenya
- C) Hırvatistan
- D) Bosna - Hersek

12. Türkiye'nin 1959 yılında Avrupa Ekonomik Topluluğuna (AET) üyelik başvurusunu topluluk, aşağıdaki hangi gerekçe ile reddetmiştir?

- A) Türkiye'nin NATO'ya üye olmasını
- B) Türkiye'nin SSCB ile komşu olmasını
- C) Türk halkının çoğunluğunun Müslüman olmasını
- D) Türkiye'nin kalkınma düzeyinin yetersiz olmasını

13. Kıbrıs Cumhuriyeti, aşağıdaki devletlerden hangisine bağlıdır?

- A) Polonya
- B) Ukrayna
- C) Gürcistan
- D) Azerbaycan

14. 1991 yılında Doğu Bloğunun çökmesiyle, aşağıdaki devletlerden hangisi dünyanın tek süper gücü hâline gelmiştir?

- A) Almanya
- B) İngiltere
- C) Japonya
- D) ABD

3. OTURUM

15. SSCB'nin dağılmasıyla kurulan aşağıdaki devletlerden hangisi bir Türk cumhuriyeti değildir?

- A) Tacikistan B) Kırgızistan
C) Özbekistan D) Kazakistan

16. Filistin Devlet Başkanı Yaser Arafat, aşağıdakilerden hangisini "Küçük generallerim" diye isimlendirmiştir?

- A) Filistin halkını
B) Filistinli sanatçıları
C) Filistinli çocukları
D) Filistin Sivil Toplum Örgütlerini

17. Aşağıdakilerden hangisi, Türkiye'nin Balkanlardaki barışın tekrar sağlanması için yaptığı girişimlerden değildir?

- A) NATO'nun Kosova harekâtında aktif rol alması
B) Dağlık Karabağ sorununda Azerbaycan'a destek olması
C) Arnautluk'taki toplumsal olayların yatıştırılması için uluslararası barış gücünde yer alması
D) Boşnaklara yönelik saldırıların durdurulması için BM, NATO, AGİK ve İKÖ gibi uluslararası örgütler nezdinde girişimde bulunması

18.

**Oylarınızı
Atatürk ve İnönü'nün
başkanlık yaptığı
partiye veriniz!**

Yukarıdaki afiş hangi partiye ait olabilir?

- A) Anavatan Partisine
B) Demokrat Partiye
C) Cumhuriyet Halk Partisine
D) Cumhuriyetçi Köylü Millet Partisine

19. I. Ahmet Necdet Sezer
II. Süleyman Demirel
III. Turgut Özal
IV. Abdullah Gül

Yukarıda, Türkiye Cumhuriyeti Devleti'nin cumhurbaşkanlığı görevinde bulunmuş kişilerden bazıları karışık olarak verilmiştir.

Verilen bu kişilerin cumhurbaşkanlığı görevini yapma sırasına göre doğru sıralanışı, aşağıdakilerin hangisinde yapılmıştır?

- A) II - III - I - IV B) IV - I - II - III
C) I - IV - III - II D) III - II - I - IV

20. • Açılımı "Akut Solunum Yolu Yetmezliği Sendromu" dur.
• Hastalığa ilk defa 2003 yılında Asya, Kuzey Amerika ve Avrupa'da rastlanmıştır.
• Sebebi henüz bilinemeyen hastalığın kuluçka süresi 2 ila 7 gün arasındadır.
• Hastalık; öksürük, ateş, titreme ve baş ağrısı gibi belirtiler gösterir.
• Hastalığın temel yayılma nedeni öksürük ve hapşırıktır.

Hakkında kısa bilgi verilen hastalık, aşağıdakilerden hangisidir?

- A) SARS B) AIDS
C) Sıtma D) Hepatit

(462) EKONOMİ – 2

1. Malların doğrudan doğruya bir ihtiyacı karşılamak için kullanılmasına ne denir?

- A) Üretim
B) Dağıtım
C) Dolaylı tüketim
D) Dolaysız tüketim

2. Et fiyatlarının aşırı ölçüde artmasıyla insanların tavuk ve balığa olan taleplerinin yükselmesi, hangi ekonomi yasasına örnek olur?

- A) Enflasyon yasasına
B) İkame yasasına
C) Talep yasasına
D) Arz yasasına

3. Üretim faktörlerinden toprağın geliri aşağıdakilerden hangisidir?

- A) Kâr B) Faiz
C) Ücret D) Rant

4. Aşağıdakilerden hangisi çevre kirliliğine neden olan etkenlerdendir?

- A) Çevre eğitiminin yaygınlaştırılması
B) Altyapı işlerinin yapılması
C) Yeşil alanların artması
D) Nüfusun aşırı artması

5. Üretim faaliyetine katılan aşağıdaki elemanlardan hangisi üretim sonucunda değişikliğe uğrar?

- A) Ulaşım araçları
B) Ham maddeler
C) Makineler
D) Araziler

6. Üretim yöntemi ile millî gelirin hesaplanması için hangi değerler toplanır?

- A) Devletin bir yıl içinde topladığı vergiler
B) Bir yıl içinde mal ve hizmete yapılan harcamalar
C) Üretim faktörlerinin bir yıl içinde elde ettiği gelirler
D) Tarım, sanayi ve hizmet sektörlerinin bir yıl içinde ürettiği mal ve hizmet miktarları

7. Hazırlık evresi ya da eğitim gerektiren işlerde çalışanların emeğine ne denir?

- A) Vasıflı emek
B) Objektif emek
C) Vasıfsız emek
D) Subjektif emek

8. Maden rantının ortaya çıkış nedeni aşağıdakilerden hangisidir?

- A) Maden üretiminde farklı teknolojiler kullanılması
B) Tarım yapılan toprakların verimliliğinin farklı olması
C) Bir madenin değişik alanlarda farklı maliyetlerde üretilmesi
D) Şehrin değişik yerlerindeki konut ve iş yeri kiralalarının farklı olması

9. "Türkiye'nin asıl sahibi ve efendisi, gerçek üretici olan köylüdür. O hâlde herkesten daha çok refah, mutluluk ve servete hak kazanan ve layık olan da köylüdür..."

Atatürk, 1 Mart 1922'de TBMM'yi açış konuşmasında söylediği yukarıdaki sözleri ile aşağıdaki sektörlerden hangisinin önemini vurgulamıştır?

- A) Hizmet B) Tarım
C) Sanayi D) Ulaşım

10. Aşağıdaki açıklamalardan hangisi ekonomi biliminde tımdengelim yöntemini uygulamak isteyen ekonomistlerin görüşlerine aykırı bir açıklamadır?

- A) Ekonomik olaylar karmaşık olaylardır.
B) Gözlemlerle aynı sonuçlara varılamaz.
C) Ekonomik olaylar iç içe geçmiş olaylardır.
D) Ekonomik olay sürekli tekrarlanarak sonuç kontrol edilir.

3. OTURUM

11. Tasarruf aşağıdakilerden hangisinin oluşumunu sağlar?

- A) Giderin B) Üretimin
C) Gelirin D) Sermayenin

12. Fizyokrat ekonomistlerce tarımsal faaliyetlerin üretken olarak kabul edilmesi görüşü aşağıda verilen üretim kavramlarından hangisini ifade etmektedir?

- A) Üretim madde meydana getirmektir.
B) Üretim değer meydana getirmektir.
C) Üretim ekonomik malların miktarını arttırmaktır.
D) Üretim ekonomik malların faydasını arttırmaktır.

13. Üretime, bilgisi ve yaratıcı nitelikleri ile katılan bir girişimcinin, elde edilen gelirden aldığı pay aşağıdakilerden hangisidir?

- A) Kâr B) Ücret
C) Faiz D) Rant

14. I. Nitelik belirleyen vasıtalar → Kamulaştırma
II. Nicelik belirleyen vasıtalar → İhracat
III. Yönlendirici vasıtalar → Nüfus planlaması
IV. Emredici vasıtalar → Çalışma süreleri

Yukarıda ekonomi politikasının hedefleri ile yapılan eşleştirmelerden doğru olanları hangi seçenekte verilmiştir?

- A) I ve IV B) I ve III
C) II ve IV D) I, II ve III

15. Gelir ile servet terimlerinin karşılaştırılmasına yönelik verilen bilgilerden hangisi doğrudur?

- A) Gelir statiktir.
B) Servet dinamik ve devingendir.
C) Gelir, bir kişinin aktif ve pasifi arasındaki farkı belirtir.
D) Kişinin hukuken tasarruf edebildiği değerlerin bütünüdür.

16. Aşağıda verilenlerden hangisi doğanın üretim üzerine etkilerinden biri değildir?

- A) Üretim faaliyetlerinin şeklinin değişmesi
B) İklimin insanların isteğini olumlu veya olumsuz etkilemesi
C) Tarım ve sanayi üretiminin tümünün belirlenmesi
D) Üretim faaliyetlerinde mütteşebbisin belirlenmesi

17. Bir bahçenin sulanması hangi emek grubu içinde yer alır?

- A) Subjektif emek
B) Uygulayıcı emek
C) Yaşatıcı emek
D) Yönetici emek

18. Malın tanımına yönelik verilen özelliklerden hangisi yanlıştır?

- A) Mal kavramı ihtiyaç ile birlikte ortaya çıkmıştır.
B) İhtiyacı karşılamaya uygun vasıtalar birer maldir.
C) Doğadaki birçok bitki ve hayvan birer maldir.
D) Bir vasıtanın mal olabilmesi için doğada belirli bir ölçüde olması gerekir.

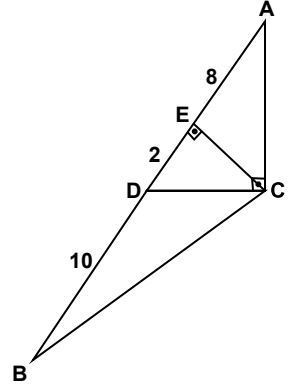
19. İnsanların ihtiyaçlarını doğrudan doğruya karşılamaya uygun olan, üretilebilen ve doğada belirli miktarda bulunan vasıtalara ne ad verilir?

- A) Mal B) Servet
C) Fayda D) Değer

20. Bir iş yerinde çalışan işçilerin ücret kesintisi korkusu yaşamaları, verimliliğe etki eden hangi etkenler arasında değerlendirilebilir?

- A) Objektif etkenler
B) Subjektif etkenler
C) İşletme organizasyonu
D) İşletme tekniğinin modernleştirilmesi

2.

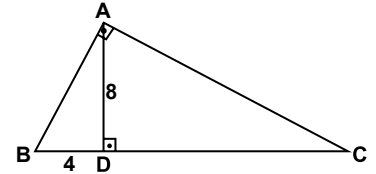


Şekildeki ABC üçgeninde $[CE] \perp [AB]$, $[AC] \perp [CD]$, $|AE| = 8$ cm, $|ED| = 2$ cm ve $|DB| = 10$ cm'dir.

Buna göre $|BC|$ kaç santimetredir?

- A) $\sqrt{10}$ B) $2\sqrt{10}$
C) $3\sqrt{10}$ D) $4\sqrt{10}$

3.

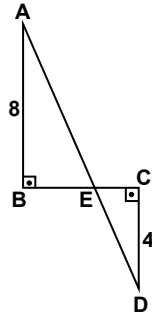


Şekildeki ABC üçgeninde $[BA] \perp [AC]$, $[AD] \perp [BC]$, $|BD| = 4$ cm ve $|AD| = 8$ cm'dir.

Buna göre $|DC|$ kaç santimetredir?

- A) 14 B) 16 C) 18 D) 20

4.



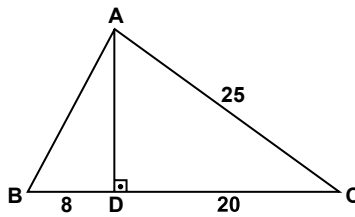
Şekilde $[AB] \perp [BC]$, $[BC] \perp [CD]$ ve A, E, D noktaları doğrusaldır. $|AB| = 8$ cm, $|DC| = 4$ cm ve $|AD| = 6\sqrt{5}$ cm'dir.

Buna göre $|BC|$ kaç santimetredir?

- A) 6 B) 8 C) 12 D) 24

(468) MATEMATİK - 8

1.

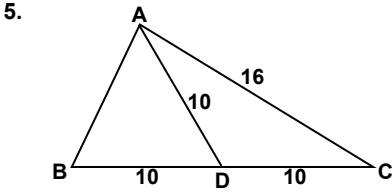


Şekildeki ABC üçgeninde $[AD] \perp [BC]$, $|BD| = 8$ cm, $|DC| = 20$ cm ve $|AC| = 25$ cm'dir.

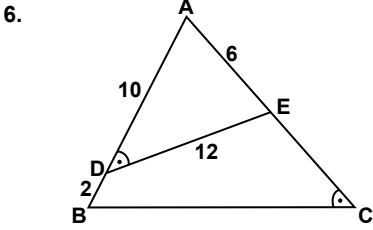
Buna göre $|AB|$ kaç santimetredir?

- A) 13 B) 15 C) 17 D) 19

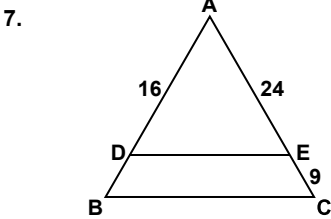
3. OTURUM



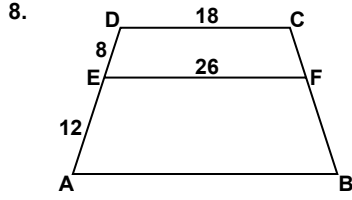
- Şekildeki ABC üçgeninde $|AD| = |BD| = |DC| = 10$ cm ve $|AC| = 16$ cm'dir.
Buna göre $|AB|$ kaç santimetredir?
A) 8 B) 10 C) 12 D) 14



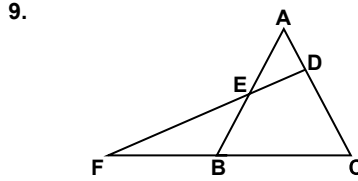
- Şekildeki ABC üçgeninde $m(\widehat{ADE}) = m(\widehat{BCA})$ ve $|AD| = 10$ cm, $|DB| = 2$ cm, $|DE| = 12$ cm, $|EA| = 6$ cm'dir.
Buna göre $|BC|$ kaç santimetredir?
A) 40 B) 36 C) 30 D) 24



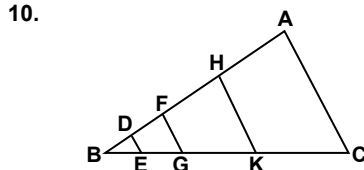
- Şekildeki ABC üçgeninde $[DE] \parallel [BC]$ ve $|AD| = 16$ cm, $|AE| = 24$ cm, $|EC| = 9$ cm'dir.
Buna göre $|DB|$ kaç santimetredir?
A) 5 B) 6 C) 7 D) 8



- Şekilde $[DC] \parallel [EF] \parallel [AB]$ ve $|DE| = 8$ cm, $|EA| = 12$ cm, $|DC| = 18$ cm, $|EF| = 26$ cm'dir.
Buna göre $|AB|$ kaç santimetredir?
A) 42 B) 40 C) 38 D) 36



- Şekildeki ABC ve DFC üçgenlerinde $3|BC| = 5|FB|$, $|DC| = 4|AD|$ ve $|AE| = 8$ cm'dir.
Buna göre $|EB|$ kaç santimetredir?
A) 6 B) 8 C) 10 D) 12



- Şekildeki ABC üçgeninde $[DE] \parallel [FG] \parallel [HK] \parallel [AC]$, $A(EGFD) = 16$ cm² ve $3|AH| = 4|HF| = 6|FD| = 12|DB|$ 'tir.
Buna göre $A(KCAH)$ kaç santimetrekaredir?
A) 128 B) 136 C) 140 D) 144

11. $\beta = 33^\circ 20'$ ve $\theta = 10^\circ 42'$ dir.
Buna göre $\beta - \theta$ aşağıdakilerden hangisidir?
A) $23^\circ 38'$ B) $23^\circ 22'$
C) $22^\circ 38'$ D) $22^\circ 22'$

12. 108° lik açının ölçüsü kaç radyandır?
A) $\frac{2\pi}{5}$ B) $\frac{3\pi}{5}$ C) $\frac{4\pi}{5}$ D) π

13. $\sin 540^\circ + \cos 1080^\circ$ işleminin sonucu kaçtır?
A) -2 B) -1 C) 0 D) 1

14. $\sin 317^\circ$, $\cos 256^\circ$, $\tan 200^\circ$ ve $\cot 412^\circ$ değerlerinin işaretleri sırasıyla aşağıdakilerden hangisinde verilmiştir?
A) -, -, +, + B) -, -, +, -
C) -, +, +, - D) +, -, +, +

15. $(1 + \tan^2 x) \cos^2 x - (\sin x - \cos x)^2$ işleminin sonucu aşağıdakilerden hangisidir?
A) $-2 \sin x \cdot \cos x$
B) $2 \sin x \cdot \cos x$
C) $\tan x$
D) $\cot x$

16. $\cot \frac{5\pi}{4} - \sin \frac{4\pi}{3} + \cos \frac{5\pi}{6}$ işleminin sonucu kaçtır?
A) -1 B) $1 - \sqrt{3}$
C) 1 D) $1 + \sqrt{3}$

17. $f(x) = \cos^3(7 - 3x) - \cot^2(2x + 5)$ fonksiyonunun periyodu radyan cinsinden aşağıdakilerden hangisidir?
A) $\frac{\pi}{2}$ B) $\frac{2\pi}{3}$ C) π D) 2π

18. $3 \sin x - 5 \cos y + 2$ ifadesinin alabileceği en büyük değer kaçtır?
A) 9 B) 10 C) 11 D) 12

19. $\cos x = \frac{3a-1}{2}$ olduğuna göre a'nın bulunduğu en geniş aralık aşağıdakilerden hangisidir?
A) $\left[-3, -\frac{1}{3}\right]$ B) $\left[-1, \frac{1}{3}\right]$
C) $\left[-\frac{1}{3}, 1\right]$ D) $\left[\frac{1}{3}, 3\right]$

20. $(270^\circ, 2)$ noktası $y = f(x)$ fonksiyonunun grafiği üzerinde olduğuna göre $f(x)$ 'in kuralı aşağıdakilerden hangisi olamaz?
A) $3 \sin x - 1$ B) $-2 \sin x$
C) $2 \cos x + 2$ D) $4 \cos 2x + 6$

(478) MANTIK – 1

1. Aşağıdakilerden hangisi “doğru düşünmenin bilimi” olarak tanımlanır?

- A) Fizik B) Mantık
C) Matematik D) Dedüksiyon

2. Her çiçek güzeldir.
Karanfil de çiçektir.
O halde, karanfil de güzeldir.

Yukarıda akıl yürütme biçimlerinden hangisi kullanılmıştır?

- A) Anoloji B) Benzeşim
C) Tüme varım D) Tümden gelim

3. Aşağıdakilerden hangisi akıl ilkelilerinden üçüncü durum olanaksızlığına örnektir?

- A) İnsan insandır.
B) Bütün insanlar ölümlüdür.
C) Kapı ya açıktır, ya da kapalıdır.
D) Ali hem çalışkan, hem de tembel olamaz.

4. Tek başına anlamı olmayan sözcükler terim sayılmaz.

Bu bilgiye göre aşağıdakilerden hangisi bir terim değildir?

- A) Ve B) Kedi
C) İnsan D) Çiçek

5. I. Ordu
II. Memur
III. Sendika

Yukarıdakilerden hangileri bireyler grubunu ifade edip, grupta gerçekleşen kolektif kavramlara örnektir?

- A) Yalnız I B) Yalnız II
C) I ve III D) II ve III

6. Bir kavramın içine aldığı birey sayısı ne kadar çoksa, kaplamı da o kadar fazladır.

Buna göre aşağıdaki kavramlardan hangisinin kaplamı en fazladır?

- A) Gül B) Bitki
C) Çiçek D) Beyaz gül

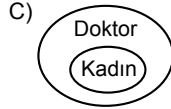
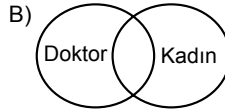
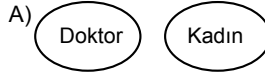
7. • Tüm insanlar ölümlüdür.
• Bazı kediler mavi gözlüdür.
• Dünya bir gezegendir.

Yukarıdaki altı çizili kavram çeşitleri sırasıyla hangi seçenekte doğru olarak verilmiştir?

- A) Tümel - Tikel -Tikel
B) Tikel –Tikel – Tümel
C) Tikel- Tümel- Tikel
D) Tümel - Tekil -Tikel

8. Bazı doktorlar kadındır.
Bazı kadınlar doktordur.

Bu önermelerdeki “doktor” ile “kadın” kavramları arasındaki ilişkiyi gösteren şema aşağıdakilerden hangisidir?



9. “Özgürlük; yalnız bir türe ait olan ve zorunlu olarak ayrıma bağlı olan özelliktir.”

Buna göre aşağıdakilerden hangisi insan türünün özgürlüğüdür?

- A) Uyumak
B) Beslenmek
C) Sosyalleşmek
D) Hareket etmek

10. Aşağıdakilerden hangisi beş tümelden biri değildir?

- A) Cins B) İlinti
C) Karşıtlık D) Özgürlük

11. I. Aşk
II. Koku
III. Nefret

Yukarıdakilerden hangilerinin tanımlı yapılamaz?

- A) Yalnız I B) I ve II
C) II ve III D) I, II ve III

12. Aşağıdakilerden hangisi bir önermede bulunması gereken özelliklerden değildir?

- A) Bir dileği ifade etmesi
B) Doğruluk değeri taşıması
C) En az bir yargı bildirmesi
D) Anlamlı cümlelerden oluşması

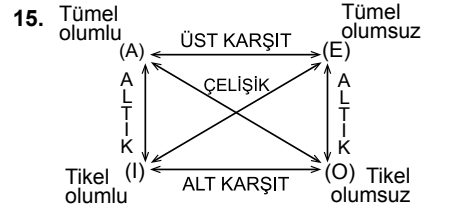
13. Aşağıdakilerden hangisi birden fazla yargıyı dile getiren bileşik önermelere örnektir?

- A) Ali çalışkandır.
B) Kadınlar çiçektir.
C) Bilim mantıksaldır.
D) İstanbul güzel ve büyük bir şehirdir.

14. Çıkarmalı önermeler, konunun bir kısmını ya da konuya giren bireylerin bir kısmını dışarda tutarak kurulan önermelerdir.

Buna göre aşağıdakilerden hangisi çıkarmalı önermedir?

- A) Benim dışımda herkes gitti.
B) İnsan çok yemek yerse kilo alır.
C) Öğrenmenin en iyi yolu okumaktır.
D) Bir ay öncesine kadar derslerim iyiydi.



Önermeler arasındaki karşı olma ilişkisi yukarıdaki kareye uygun olarak kurulduğuna göre, “Bazı insanlar güzeldir.” önermesinin alt karşıtı aşağıdakilerden hangisidir?

- A) Bütün insanlar güzeldir.
B) Hiçbir insan güzel değildir.
C) Bazı güzeller insan değildir.
D) Bazı insanlar güzel değildir.

16. “Düz döndürme; bir önermenin niteliğini bozmaksızın öznesini yüklem, yüklemine özne yaparak, anlamca eşdeğer yeni bir önerme oluşturmaktır.”

Buna göre “Bazı çocuklar melektir.” önermesinin düz döndürmesi aşağıdakilerden hangisidir?

- A) Bazı melekler çocuktur.
B) Bütün melekler çocuktur.
C) Hiçbir melek çocuk değildir.
D) Bazı melekler çocuk değildir.

3. OTURUM

17. Verilen önermelerden zorunlu olarak yeni bir önerme çıkarma işlemini ifade eden kavram aşağıdakilerden hangisidir?

- A) Tanım B) Kavram
C) Çıkarım D) Döndürme

18. Bütün öğrenciler çalışkandır.

Ayşe öğrencidir.
O halde, Ayşe çalışkan değildir.

Bu örnekte kıyas kurallarından hangisine uyulmamıştır?

- A) İki tikel öncülden bir sonuç çıkmaz.
B) İki olumsuz öncülden bir sonuç çıkmaz.
C) Orta terim sonuç önermesinde yer almaz.
D) İki olumlu öncülden çıkan sonuç olumludur.

19. Öğrenci kitap okur ise üniversiteyi kazanır.

Öğrenci kitap okumuştur.
O halde - - - -

Yukarıdaki kıyasta öncüllerden zorunlu olarak çıkacak sonuç hangisidir?

- A) Öğrenci üniversiteyi kazanır.
B) Tüm kitap okuyanlar öğrencidir.
C) Bazı öğrenciler kitap okumamıştır.
D) Üniversiteyi kazananlar öğrenci değildir.

20. Zihinde tam tasarlandığı halde, dilde ifadesi eksik olan kıyas çeşidi aşağıdakilerden hangisidir?

- A) Sorit B) Entimem
C) Delilli kıyas D) Karma kıyas

(500) İNGİLİZCE – 6

1 - 20. sorularda boş bırakılan yere uygun gelen kelime ya da ifadeyi işaretleyiniz.

1. - - - - you get up early, you can catch the school bus.

- A) If B) For
C) Before D) Although

2. I passed the exam - - - - I studied hard.

- A) or B) so
C) because D) while

3. - - - - my father came home, we had dinner.

- A) So B) For
C) While D) As soon as

4. The man - - - - had an accident was nervous.

- A) which B) who
C) when D) whose

5. This is the woman - - - - car fell into the river.

- A) who B) where
C) whose D) which

6. I couldn't buy the house - - - - was very expensive.

- A) which B) whose
C) what D) where

7. - - - - I went to bed, I brushed my teeth.

- A) Before B) While
C) After D) If

8. If I were you, I - - - -.

- A) will go to İzmir
B) must study hard
C) can help sick people
D) would give up smoking

9. If you - - - - the key, we - - - - the door.

- A) haven't forgotten / would have opened
B) had forgotten / couldn't have opened
C) will forget / will have opened
D) forget / had opened

10. We went to Cappadocia - - - -.

- A) tomorrow B) right now
C) last week D) now

11. This time next week, I - - - - to Antalya.

- A) drive B) am driving
C) have driven D) will be driving

12. It is raining outside and the roads are wet. Drive - - - -, please.

- A) carefully B) angrily
C) easily D) carelessly

13. I must finish my housework. - - - - you help me, please?

- A) Should B) Did
C) Can D) Are

14. I have - - - - friends at my new school.

- A) too B) any
C) many D) much

15. An airport is a place - - - - planes land.

- A) who B) where
C) whose D) when

16. The weather was - - - - cold that we couldn't go outside.

- A) such B) or
C) as D) so

17. I don't like tea so I - - - - drink it.

- A) always B) never
C) usually D) often

18. Don't forget to take your passport - - - - you go to the airport.

- A) so B) after
C) before D) because

19. I know - - - - he lives.

- A) where B) which
C) what D) who

20. - - - - she was reading a book, she fell asleep.

- A) After B) While
C) Before D) As soon as

3. OTURUM

(500) ALMANCA – 6

1-17. sorularda boş bırakılan yere uygun gelen kelime ya da ifadeyi işaretleyiniz.

1. Ali sagt, dass Hakan mit Klaus spielen - - - - .

- A) soll B) sollen
C) sollten D) sollst

2. A: Hallo Thomas, - - - - - ?
B: Tee.

- A) Was liest du?
B) Was isst du?
C) Was trinkst du?
D) Was schreibst du?

3. Die Mädchen, - - - - Haare schwarz sind, kommen aus Spanien.

- A) das B) deren
C) dessen D) dem

4. A: - - - - isst du deine Suppe?
B: Mit dem Löffel.

- A) Warum B) Wofür
C) Was D) Womit

5. Das sind Heike und ihre Familie. Sie - - - - in Düsseldorf.

- A) wohnen B) wohne
C) wohnt D) wohnst

6. Das Essen, - - - - ich im türkischen Restaurant gegessen habe, hat sehr gut geschmeckt.

- A) der B) die
C) das D) dem

7. Tag, - - - -, Monat

- A) Stunde B) Woche
C) Jahr D) Minute

8.



Was ist das?
Das ist - - - - .

- A) eine Tasse B) ein Baum
C) eine Blume D) ein Teller

9. Frau Taşkın, - - - - dieses Haus gehört, ist sehr jung.

- A) die B) der
C) das D) den

10. - - - - er gut gearbeitet hat, darf er eine Woche Urlaub machen.

- A) Wie B) Denn
C) Aber D) Weil

11. Die klein- - - - -, weiß- - - - Katze ist sehr schön.

- A) -e / -e B) -er / -er
C) -es / -es D) -en / -en

12. Sie ist gestern nicht nach Hause - - - - . (gehen, Partizip Perfekt)

- A) gehen B) ging
C) geht D) gegangen

13. Die Bibliothek ist - - - - der Schule.

- A) nach B) über
C) in D) zwischen

14. Helga und Martin machen in - - - - Türkei Urlaub.

- A) der B) die
C) das D) den

15. Sibel geht ins Restaurant, aber Peter ist - - - - Restaurant.

- A) in B) ins
C) in der D) im

16. - - - - es schneit, isst sie Eis.

- A) Trotzdem B) Obwohl
C) Weil D) Warum

17. Wir sind in Ankara. Alle denken, dass wir in Antalya - - - - .

- A) wären B) hätten
C) sein D) haben

18. "27" sayısının doğru yazılışı aşağıdakilerden hangisidir?

- A) zwanzigundsieben
B) siebzigundzwanzig
C) siebenundzwanzig
D) siebzehn

19. Sıfatların zıt anlamlısı hangi seçenekte doğru verilmiştir?

- A) groß x schön
B) viel x mehr
C) neu x teuer
D) lang x kurz

20. "Es ist halb zwölf Uhr." cümlesinin Türkçe karşılığı aşağıdakilerden hangisidir?

- A) Saat onbir.
B) Saat onbir buçuk.
C) saat oniki buçuk.
D) Saat oniki.

(500) FRANZIZCA – 6

1-20. sorularda boş bırakılan yere uygun gelen kelime ya da ifadeyi işaretleyiniz.

1. Le frère de mon père est mon - - - - .

- A) neveu B) grand-père
C) oncle D) tante

2. - - - - bois deux litres d'eau par jour.

- A) Il B) Je
C) Ils D) Elle

3. J'ai des enfants - - - - aiment beaucoup la musique.

- A) qui B) que
C) ce qui D) ce que

4. Décembre, janvier, février sont trois mois - - - - il neige beaucoup.

- A) que B) qui
C) quoi D) où

3. OTURUM

5. J'ai acheté un CD - - - - j'écoute souvent.

- A) où B) que
C) qui D) ce que

6. - - - - il fait beau, mon grand-père va à la pêche.

- A) Pourquoi B) Comment
C) Combien D) Quand

7. Je - - - - restée en France pendant une année.

- A) sommes B) ont
C) suis D) avez

8. Nous irons - - - - ensemble pour faire du ski.

- A) à la mer B) à la montagne
C) au cinéma D) à la poste

9. - - - - Mme Dumont est sortie de la banque à 17 heures.

- A) Lundi dernier
B) Mercredi prochain
C) Demain matin
D) Le mois prochain

10. J'ai vu un film - - - - on parle beaucoup.

- A) qui B) où
C) que D) dont

11. Selim écoute de la musique en - - - - du thé.

- A) lisez B) mange
C) buvant D) lisons

12. A: Tu es encore célibataire?

B: Non, je suis - - - - depuis trois mois.

- A) italien B) marié
C) cuisinier D) vieux

13. En venant, - - - - du pain.

- A) a acheté B) achète
C) acheté D) as acheté

14. S'il fait beau demain, j'irai - - - - à la mer.

- A) faire de la planche à voile
B) faire des randonnées
C) faire des achats
D) camper en pleine nature

15. Si tu es - - - -, alors tu ne manges pas de viande.

- A) généreuse B) végétarien
C) nerveuse D) timide

16. Ayşegül est fatiguée - - - - a beaucoup travaillé.

- A) parce qu'il
B) combien
C) parce qu'elle
D) comment

17. Ils - - - - dansé toute la nuit.

- A) sommes B) sont
C) allons D) ont

18. - - - - Angleterre, on roule - - - - gauche.

- A) Aux / à B) À / en
C) Au / aux D) En / à

19. Les passagers - - - - accueillis par les hôtesses.

- A) sont B) est
C) as D) ont

20. Ne mange pas avec - - - -.

- A) la rue B) une forêt
C) les doigts D) les fleurs

(503) SEÇMELİ TARİH – 3

1. Aşağıdakilerden hangisi, Osmanlı Devleti'nin gelişmesini kolaylaştıran etkenlerden biri değildir?

- A) Bizans İmparatorluğu'nda taht kavgalarının yaşanması
B) Türkiye Selçuklu Devleti'nin siyasi gücünün zayıflaması
C) Moğolların bir kolu olan İlhanlıların Anadolu'daki etkinliğinin azalması
D) Karamanoğulları'nın kendilerini Türkiye Selçuklu Devleti'nin mirasçısı olarak görmesi

2. "Belli bir iş kolunda usta, kalfa ve çırakları içine alan dernek" olarak tanımlayabileceğimiz kavram, aşağıdakilerden hangisidir?

- A) Kapan B) Lonca
C) Kaime D) Mültezim

3. Candaroğulları ile Menteşeoğulları beyliklerinin ortak özelliği, aşağıdakilerden hangisidir?

- A) Denizcilikle uğraşmaları
B) Batı Anadolu'da kurulmaları
C) Sivas yöresinde hüküm sürmeleri
D) Orhan Bey Dönemi'nde Osmanlılara bağlanmaları

4. Aşağıdakilerden hangisi ilmiye sınıfından değildir?

- A) Kadılar B) Sipahiler
C) Müftüler D) Müderrisler

5. Has, zeamet ve tımar, aşağıdakilerden hangisinin bölümlerini oluşturur?

- A) Mukataa B) Malikâne
C) Vakıf D) Dirlik

6. Divanda alınan savaş, barış ve idam kararlarının İslam'a uygun olup olmadığı konusunda görüş bildiren Divanîhümayun üyesi, aşağıdakilerden hangisidir?

- A) Nişancı
B) Defterdar
C) Şeyhülislam
D) Kubbealtı vezirleri

7. Aşağıdakilerden hangisi, Osmanlı hükümdarlarının kullandığı unvanlardan biri değildir?

- A) Han B) Kağan
C) Sultan D) Hüdavendigâr

8. Osmanlı ordusu Haçova Savaşı'nda, aşağıdaki hangi devletin önderliğinde oluşturulan Haçlı ordusunu yenilgiye uğratmıştır?

- A) Avusturya B) Lehistan
C) Fransa D) Malta

9. Tımar sistemi ile ilgili aşağıdaki bilgilerden hangisi yanlıştır?

- A) Toprağın mülkiyeti köylünündür.
B) Tımar sahibi kendilerine ayrılan arazide oturmak zorundadırlar.
C) Dirlik sahipleri ile reaya arasındaki ilişkiler kanunnameler ile düzenlenmiştir.
D) Tımar sahibi, gelirin ilk üç bin akçesiyle kendi geçimini sağlar, geri kalan her üç bin akçe için de bir atlı asker yetiştirir.

3. OTURUM

(504) SEÇMELİ TARİH – 4

10. Aşağıdakilerden hangisi başlan-
gıçta Osmanlı Devleti'nin bir "iç
sorun"u iken daha sonra "dış so-
run" hâlini almıştır?

- A) Şark Meselesi
- B) Cem Sultan Olayı
- C) Şeyh Bedrettin İsyanı
- D) Kutsal Emanetlerin İstanbul'a getirilmesi

11. Avrupa'da sanata ve bilime önem
veren "Mesen" sınıfı, aşağıdaki-
lerin hangisinin sonucunda oluş-
muştur?

- A) Rönesans hareketleri
- B) Reform hareketleri
- C) Yüzyıl Savaşları
- D) Coğrafi keşifler

12. Osmanlılar, Hint Deniz Seferleri'ni
aşağıdaki devletlerden hangisine
karşı düzenlemişlerdir?

- A) Venedik
- B) İspanya
- C) Portekiz
- D) Hollanda

13. "Akıl Çağı" denilince akla, aşağıda-
ki hangi yüzyıl gelir?

- A) XIX. yüzyıl
- B) XVIII. yüzyıl
- C) XVII. yüzyıl
- D) XVI. yüzyıl

14. Osmanlı tarihinde "Çınar Vakası"
olarak bilinen tarihî olay, aşağıdaki
hangi padişah döneminin önemli
siyasi olayıdır?

- A) IV. Murat
- B) IV. Mehmet
- C) IV. Mustafa
- D) I. Abdülhamit

15. Osmanlı Devleti'nde sancaklara
gönderilen şehzadelere yardımcı
olan bilgili ve deneyimli kişilere ne
ad verilir?

- A) Lala
- B) Kadı
- C) Yabgu
- D) Subaşı

16. Osmanlı Devleti'nde tek bir ticaret
maddesinin toptan satışının ya da
dağıtımının yapıldığı kapalı çarşı-
lara verilen isim, aşağıdakilerden
hangisidir?

- A) Bedesten
- B) Derbent
- C) Kapan
- D) Lonca

17. Osmanlı Devleti'nin kuruluş ve ge-
lişme dönemlerinde şehzadelere
hangisinin padişah olacağına dair
kesin bir kural yoktu. Padişah I.
Ahmet'ten itibaren Osmanlı ailesin-
den kimin padişah olacağı ise belli
bir kurala bağlanmıştır.

**Sözü edilen kural, aşağıdakilerden
hangisidir?**

- A) En küçük şehzadenin hükümdar yapılması
- B) Hanedanın en büyük ve en olgu-
nunun hükümdar olması
- C) Hanedan üyelerinden birinin se-
çimle padişah yapılması
- D) Şehzadelerin kendi aralarında
yapacakları siyasi ve askerî mü-
cadeleden galip çıkanın hüküm-
dar olması

18. Aşağıdakilerden hangisi, Osmanlı
Devleti'nin İstanbul'u fethetmesini
engelleyen olaylardan biri değil-
dir?

- A) Şehzade Mustafa Olayı
- B) Niğbolu Savaşı
- C) Cem Olayı
- D) Karamanoğulları ile yapılan mü-
cadeleler

19. • Levnî
• Nigârî
• Nakkaş Osman

**Verilen sanatçıların isim yaptıkları
sanat dalı, aşağıdakilerden hangi-
sidir?**

- A) Hat
- B) Müzik
- C) Mimari
- D) Minyatür

20. Panayırın pazarlardan en önem-
li farkı, aşağıdakilerden hangisi-
dir?

- A) Yılda bir defa kurulmaları
- B) Hayvan pazarı olması
- C) Sadece başkentte kurulması
- D) Sadece konfeksiyon ürünlerinin
satışının yapılması

1. Aşağıdaki antlaşmalardan hangi-
siyle Rusya'nın Lehistan'ın iç işle-
rine karışması önlenmiştir?

- A) Prut Antlaşması
- B) Belgrad Antlaşması
- C) Pasarofça Antlaşması
- D) Hünkâr İskelesi Antlaşması

2. Lale Devri'nin padişahı, aşağıdaki-
lerden hangisidir?

- A) II. Ahmet
- B) III. Ahmet
- C) III. Selim
- D) I. Mahmut

3. Yeni Çağ Avrupası'nda mutlak mo-
narşinin en güçlü olduğu devlet,
aşağıdakilerden hangisidir?

- A) İngiltere
- B) Hollanda
- C) Rusya
- D) Fransa

4. "Napolyon Bonapart kimdir?" so-
rusuna, aşağıdakilerden hangisi
doğru cevap olarak verilemez?

- A) Fransız komutanıdır.
- B) Fransa'nın 1804 - 1815 yılları ara-
sındaki imparatorudur.
- C) Osmanlı padişahlarından Genç
Osman ve IV. Murat'ın çağdaşıdır.
- D) Akka Kalesi önlerinde Nizamîci'dir
ordusuyla yaptığı mücadeleyi kay-
beden Fransız devlet adamıdır.

5. Özi Kalesi'nin Rusların eline geçti-
ğini öğrenince üzüntüsünden felç
geçiren ve kısa bir süre sonra da
ölen Osmanlı padişahı, aşağıdaki-
lerden hangisidir?

- A) III. Selim
- B) III. Ahmet
- C) III. Mustafa
- D) I. Abdülhamit

6. Amerikan bağımsızlık savaşı,
aşağıdaki devletlerden hangisine
karşı verilmiştir?

- A) İngiltere
- B) İspanya
- C) Hollanda
- D) Fransa

7. Osmanlı Devleti'nde ilk kez
Avrupa'ya öğrenci gönderilmesi,
aşağıdaki dönemlerin hangisinde
gerçekleşmiştir?

- A) Tanzimat Dönemi
- B) Köprülüler Dönemi
- C) II. Mahmut Dönemi
- D) III. Selim Dönemi

3. OTURUM

8. Devlet işlerinin görüşüldüğü Divanîhümayun'un yerini, 18. yüzyılın sonlarında aşağıdakilerden hangisi almıştır?

- A) Birun
- B) Babîâlî
- C) Divaniadliye
- D) Düyunuumumiye

9. Osmanlı Devleti;

- 1711'de Prut,
- 1774'de Küçük Kaynarca,
- 1792'de Yaş

antlaşmalarını, aşağıdaki hangi devletle imzalamıştır?

- A) Avusturya
- B) Venedik
- C) Rusya
- D) Fransa

10. "...I.... Dönemi'nde Osmanlı Devleti'ne iltica edip Müslüman olan ve "Ahmet" adını alan Comte De Bonneval tarafındanII.... kurulmuştur."

Verilen bilgi cümlesinin doğru olabilmesi için numaralandırılarak boş bırakılan yerlere, aşağıdakilerden hangisi yazılmalıdır?

	I	II
A)	I. Mahmut	Humbaracı Ocağı
B)	III. Selim	Cebeci Ocağı
C)	II. Mahmut	Topçu Ocağı
D)	I. Abdülhamit	Top Arabacıları Ocağı

11. 3 Kasım 1839 tarihinde gerçekleşen tarihi olay, aşağıdakilerden hangisidir?

- A) Islahat Fermanı'nın ilanı
- B) Kanunuesası'nın kabulü
- C) Kırım Savaşı'nın başlaması
- D) Gülhane Hatt-ı Hümayunu'nun okunması

12. I. Meşrutiyet anayasasında aşağıdaki hükümlerden hangisi yoktur?

- A) Kanunlarda son sözün padişaha ait olması
- B) Meclisin, hükümeti denetleme yetkisine sahip olması
- C) Yasama yetkisinin Âyan Meclisi ve Mebusan Meclisine ait olması
- D) Hükümetin kurulması ve görevden alma yetkisinin padişaha ait olması

13. Yeniçeri Ocağı'nın yerine kurulan yeni ordu, aşağıdakilerden hangisidir?

- A) Nizamıcedit
- B) Sekbanıcedit
- C) Hareket Ordusu
- D) Asakirimansureimuhammediye

14. Osmanlı Devleti, aşağıdaki hangi antlaşma ile Boğazlar konusunda son kez tek başına karar vermiştir?

- A) Londra Antlaşması
- B) Hünkâr İskeleyi Antlaşması
- C) Küçük Kaynarca Antlaşması
- D) Balta Limanı Ticaret Antlaşması

15. Osmanlı Devleti'nin 19. yüzyıl boyunca gerçekleştirmeyi istediği hedef, aşağıdakilerden hangisidir?

- A) Ülkede ağır sanayiye kurmak
- B) Cumhuriyet rejimine geçmek
- C) Devletin dağılmasını önlemek
- D) Kaybedilen toprakları geri almak

16. Günümüzde Türk eğitim sistemi içerisinde İstanbul Üniversitesi adıyla hizmet veren eğitim kurumu, aşağıdakilerden hangisidir?

- A) Darülfünun
- B) Robert Koleji
- C) İngiliz Erkek Lisesi
- D) Galatasaray Sultanisi

17. Osmanlı Devleti'nde çıkarılan ilk kadın dergisi, aşağıdakilerden hangisidir?

- A) İbret
- B) Diyojen
- C) Şükufezar
- D) Terakkiimuhadderat

18. Aşağıdakilerden hangisi, Birinci Dünya Savaşı'nın taarruz cephelelerinden biridir?

- A) Kafkas Cephesi
- B) Çanakkale Cephesi
- C) Makedonya Cephesi
- D) Suriye - Filistin Cephesi

19. Birinci Dünya Savaşı sonunda aşağıdaki devletlerin hangisinde rejim değişikliği olmuştur?

- A) İngiltere
- B) Almanya
- C) Japonya
- D) Fransa

20. Aşağıdakilerden hangisi, Osmanlı Devleti'nin Birinci Balkan Savaşı'nda yenilgiye uğramasının nedenleri arasında yer almaz?

- A) Osmanlı ordusunun dört ayrı cepheye savaşmak zorunda kalması
- B) Osmanlı askerlerinin bir bölümünün terhis edilmesi
- C) Osmanlı ordusundaki teknik donanım eksiklikleri
- D) Trablusgarp Savaşı'nın devam etmesi

(505) SEÇMELİ COĞRAFYA – 3

1. Aşağıdakilerden hangisi diğerlerine göre çok kolay aşınacak kadar yumuşak dokulu bir kayadır?

- A) Tüf
- B) Granit
- C) Bazalt
- D) Mermer

2. Fiziksel tortul kayaların oluşabilmesi için farklı türlerdeki ufalanmış kayaları taşıyarak çukur yerlerde birikmesini doğrudan sağlayan dış kuvvetler içinde aşağıdakilerden hangisi yoktur?

- A) Buzul
- B) Güneş
- C) Rüzgar
- D) Akarsu

3. Aşağıdaki levhalardan hangileri birbirlerine yaklaşıp hareket etmektedir?

- A) Afrika – Antarktika
- B) Avrasya – Hindistan
- C) Afrika - Güney Amerika
- D) Avustralya – Antarktika

4. Jeotermal bölgelerin temel özelliği aşağıdakilerden hangisidir?

- A) Yükseltilerinin fazla olması
- B) Orman bakımından fakir olmaları
- C) Faylarla parçalanmış araziler olmaları
- D) Metamorfik kayaların yaygın olması

5. Okyanus sularının farklı kimyasal ve fiziksel özelliklere sahip olmasını belirleyen faktör aşağıdakilerden hangisidir?

- A) Yükselti
- B) Rüzgar
- C) Enlem
- D) Baki

3. OTURUM

6. Volkanik dağlarda patlamadan sonra dağın tepesinde oluşan çukurlukta biriken suların oluşturduğu göllere ne ad verilir?

- A) Buzul göl B) Karstik göl
C) Yapay göl D) Krater göl

7. Amazon, Kongo, Ganj gibi düzenli rejime sahip akarsuların temel özelliği aşağıdakilerden hangisidir?

- A) Kar ve buz sularıyla beslenmeleri
B) Sık sık etraflarına taşkın yapmaları
C) Akım miktarlarının her mevsim birbirine yakın olması
D) Eğimi yüksek vadilerde hızlı akışlı olmaları

8. Topraklarla ilgili aşağıdakilerden hangisi söylenemez?

- A) Soğuk iklim bölgelerinde fiziksel ayrılmaya uğrar.
B) Erozyonla aşınsa bile kısa zamanda yeniden oluşur.
C) İçinde organizma, organik madde, hava ve su bulunur.
D) Oluşumunu tamamlamış toprak farklı katmanlara sahiptir.

9. Anadolu'da bir zamanlar orman yüzölçümünün şimdiki gibi % 25 değil % 75 lere yakın olduğu çeşitli kaynaklarda ve bilimsel araştırmalarda tespit edilmiştir. Fakat savaşlar, yakacak ihtiyacı, tarla açma gibi nedenlerle yüzyıllar içinde tüketilmiştir.

Verilen metinde ormanların dağılışında etkili olan hangi unsurdan bahsedilmiştir?

- A) Beşeri faktör
B) İklim faktörü
C) Toprak faktörü
D) Yer şekilleri faktörü

10. Genel olarak az gelişmiş veya gelişmemiş ülkelerde genç nüfus ve bağımlı nüfus miktarı yüksektir.

Aşağıdaki ülkelerden hangisi buna örnektir?

- A) Bangladeş B) Kanada
C) İspanya D) Danimarka

11. Aşağıdakilerden hangisi fazla beyin göçü alan ülkelerin ortak özelliğidir?

- A) Nüfuslarının az olması
B) Sanayilerinin gelişmiş olması
C) Avrupa Kıtası'nda yer almaları
D) Ekonomilerinin tarıma dayanması

12. Aşağıdakilerden hangisi göç alan yerlerde gözlemlenen olumlu bir durumdur?

- A) Trafikteki araç sayısının artması
B) Yeşil alanların yerleşime açılması
C) Fabrikaların şehir içlerinde kalması
D) Farklı kültürleri bir arada kaynaştırması

13. Paleolitik Çağ'ın temel geçim kaynağı aşağıdakilerden hangisidir?

- A) Avcılık B) Ticaret
C) Zanaatkarlık D) Hayvancılık

14. Bir gazetenin grafik-tasarım bölümünde grafiker olarak çalışmakta olan Aykut Bey kaçınıcı ekonomik faaliyet alanında görev yapmaktadır?

- A) İkincil B) Üçüncül
C) Dördüncül D) Beşincil

15. Yurdumuzda özellikle Ürgüp - Göreme çevresinde yaygın olup oluşumunda sel ve selinti sularının etkili olduğu aşınım şeklinin adı nedir?

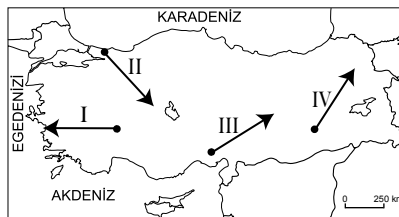
- A) Polye B) Menderes
C) Dev kazanı D) Peri bacaları

16. I. Oluşumlarının kısa zaman alması
II. Alüvyonlu topraklardan oluşması
III. Yüzölçümlerinin büyük olması
IV. Ilıman iklim şartları altında olması

Verilenlerden hangileri kıyı ovalarında tarımsal verimliliğin yüksek olmasının nedenlerindedir?

- A) Yalnız II B) I ve II
C) II ve IV D) III ve IV

17.



Haritada numaralandırılarak verilen hatlardan hangisinde ok yönünde gidildiğinde yıllık sıcaklık ortalamaları yükselmektedir?

- A) I B) II C) III D) IV

18. Yaz aylarında ülkemize güneydoğudan sokularak sıcak ve kurak etkiler yapan basınç merkezinin adı nedir?

- A) Azor dinamik yüksek basıncı
B) Basra termik alçak basıncı
C) Sibirya termik yüksek basıncı
D) İzlanda dinamik alçak basıncı

19. Karadeniz iklimiyle ilgili aşağıdakilerden hangisi söylenemez?

- A) Her mevsimi yağışlıdır.
B) Türkiye'nin kuzey kıyılarında görülür.
C) Orman gelişimine elverişli özellikler taşır.
D) Yaz ve kış sıcaklıkları arasında fark büyüktür.

20. Türkiye'de sis olayları aşağıdaki yerlerin hangisinde daha çok yaşanır?

- A) İç Anadolu'da
B) Ege kıyılarında
C) Akdeniz kıyılarında
D) Marmara Bölgesi'nde

(506) SEÇMELİ COĞRAFYA - 4

1. Tuz Gölü çevresiyle Konya Ovası'nda rastlanılan ve tarım yapmaya elverişli olmayan toprak türünün adı nedir?

- A) Tuzlu topraklar
B) Alüvyal topraklar
C) Kolüvyal topraklar
D) Çernezyom topraklar

2. TÜİK 2009 verilerine göre Türkiye arazi kullanımında aşağıdakilerden hangisinin oranı daha azdır?

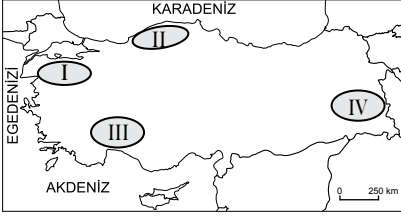
- A) Nadas alanlarının
B) Orman arazisinin
C) Çayır ve meraların
D) Sebze ve çiçek bahçelerinin

3. Türkiye'de ormanların kıyı bölgelerinde yoğunlaşmasının en önemli sebebi aşağıdakilerden hangisidir?

- A) Arazinin dağlık olması
B) Tarımda verimin yüksek olması
C) Nem ve yağış miktarının fazla olması
D) Ortalama sıcaklıkların yüksek olması

3. OTURUM

4.



Haritada numaralandırılarak verilen yerlerin hangisi Türkiye'nin göl bakımından fakir alanlarından biridir?

- A) I B) II C) III D) IV

5. Gökçeada, Bozcaada ve Ege'de rastlanılan, geçim kaynağı hayvancılık olan geçici yerleşme türünün adı nedir?

- A) Dam B) Ağıl
C) Çiftlik D) Divan

6. Doğal olmasına rağmen Sinop Limanı'nın gelişmemesinin en önemli sebebi aşağıdakilerden hangisidir?

- A) Nüfus miktarının az olması
B) Ilıman iklimin etkisinde olması
C) Orman bakımından zengin olması
D) Dağların iç kesimlerle ulaşımı zorlaştırması

7. Aşağıda verilen yerlerin hangisinde jeotermal kaynaktan elektrik üretimi için yararlanılır?

- A) Havza (Samsun)
B) Sarayköy (Denizli)
C) Diyardin (Ağrı)
D) Oylat (Bursa)

8. Geleceğe yönelik iş, eğitim, sağlık gibi ihtiyaçların belirlenebilmesi için öncelikle nüfusumuzun hangi yapısal özelliğinin analiz edilmesi gerekir?

- A) Eğitim durumu
B) Cinsiyete göre dağılımı
C) Yaş gruplarına dağılımı
D) Ekonomik faaliyet kollarına dağılımı

9. Nüfus yoğunluğunun en az olduğu ilimiz aşağıdakilerden hangisidir?

- A) Konya B) Kars
C) Sivas D) Tunceli

10. 1927 yılında ülkemizde yapılan ilk nüfus sayımında kırsal nüfus oranının % 84 olduğu belirlenmiştir.

Bu durum aşağıdakilerden hangisine kanıt oluşturmaktadır?

- A) Ülkenin uzun savaşlardan çıktığına
B) Ulaşım sistemlerinin geri kalmış olduğuna
C) Ekonominin tarım ve hayvancılığa dayandığına
D) Ülkenin yer şekillerinin engebeli ve dağlık olduğuna

11. Cumhuriyetin ilk yıllarından günümüze kadar nüfusumuzun aşağıdaki özelliklerinden hangisinde dönem dönem artış veya azalış yaşanmıştır?

- A) Nüfus miktarında
B) Nüfus artış hızında
C) Okur yazar oranında
D) Kentsel nüfus oranında

12. İpek Yolu ve bu güzergâhta yapılan ticaretle ilgili olarak aşağıdakilerden hangisi söylenemez?

- A) Asya ve Avrupa arasındaki ticaret yoludur.
B) İpek, kâğıt ve baharat çok taşınan ürünlerdir.
C) Kültür ve medeniyetlerin kaynaşmasını sağlamıştır.
D) Panama Kanalı'nın yapılmasıyla önemini kaybetmiştir.

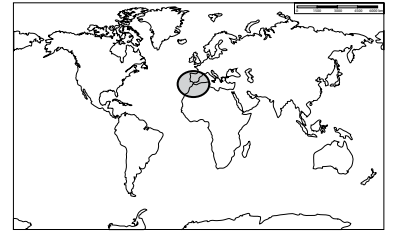
13. Coğrafi keşiflerin ilk önce Portekiz ve İspanya'nın kontrolünde gerçekleşmesinin en önemli sebebi aşağıdakilerden hangisidir?

- A) Denizcilikte gelişmiş olmaları
B) Coğrafi konumlarının uygunluğu
C) Bulaşıcı hastalıklarla mücadele etmeleri
D) Ekonomilerinin çökmek üzere olması

14. Matbaanın icadı ve yaygınlaşmasına bağlı olarak aşağıdakilerden hangisinin gerçekleşmesi beklenemez?

- A) Kitap fiyatlarının artması
B) Toplumların kültürünün artması
C) Kitapların geniş kitlelere ulaşması
D) Toplumlararası bilgi alışverişinin gelişmesi

15.



Yukarıdaki dünya haritasında daire içinde gösterilen boğazın adı nedir?

- A) Hürmüz Boğazı
B) Bering Boğazı
C) Cebelitarık Boğazı
D) Macellan Boğazı

16. Aşağıdaki su yollarından hangisinin ticari önemi daha azdır?

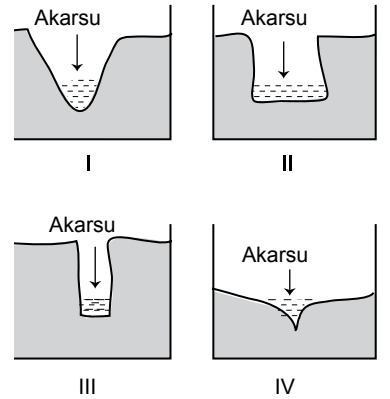
- A) Panama Kanalı'nın
B) Hürmüz Boğazı'nın
C) İstanbul Boğazı'nın
D) Korint Kanalı'nın

17. Volkanizma tüm canlılar için büyük felaketlere neden olmakla beraber sonrasında insanlar açısından önemli ekonomik fırsatlar da sunmaktadır.

Aşağıdakilerden hangisi bunlardan değildir?

- A) İnşaat sektörüne ham madde sağlaması
B) Hava sıcaklıklarını geçici olarak düşürmesi
C) Volkanik bölgelerin turistik değer kazanması
D) Verimli tarım topraklarını oluşturması

18. Aşağıda kesiti verilen vadilerdeki akarsuların akım miktarları aynıdır.



Buna göre akım miktarlarının iki kat artması durumunda hangi akarsuyun sel ve taşkın yapma riski daha yüksektir?

- A) I B) II C) III D) IV

3. OTURUM

19. Aşağıdakilerden hangisi heyelan, çığ ve erozyona karşı önceden alınabilecek ortak tedbirlerden biridir?

- A) Nöbetleşe ekim yapmak
- B) Toprakları nadasa bırakmak
- C) Ağaçlandırma çalışması yapmak
- D) Araziyi eğim yönüne dik sürmek

20. Aşağıdaki şehirlerden hangileri aynı deprem kuşağı üzerinde yer alır?

- A) Bolu - Erzurum
- B) İzmir - Kocaeli
- C) Aydın - Düzce
- D) Antalya - Erzincan

(533) HZ. MUHAMMED'İN HAY. – 3

1. Hz. Muhammed (sav.)'in doğduğu çevreyle ilgili aşağıdakilerden hangisi söylenemez?

- A) Kadın erkek eşit sayılırdı.
- B) Sözlü edebiyat ve şiir çok gelişmişti.
- C) "Cahiliye Dönemi" olarak adlandırılır.
- D) Her kabilenin kendine ait bir putu vardı.

2. Kurak ve sıcak bir iklime sahip olan Arabistan'ın büyük bir bölümü çöllerle kaplıydı. Mekke, dağlık bir bölgede yer aldığı için toprakları tarıma elverişli değildi.

Bu durum aşağıdakilerden hangisinin yaygınlaşmasına neden olmuştur?

- A) Sözlü edebiyat
- B) Hayvancılık
- C) Putperestlik
- D) Ticaret

3. – Oku!
– Ben okuma bilmem.
– Oku!
– Ben okuma bilmem.
– Oku! Yaratan Rabb'inin adıyla oku!

Bu konuşma ile ilgili aşağıdakilerden hangisi söylenemez?

- A) Sonrasında Alak suresinin ilk beş ayeti inmiştir.
- B) Kâbe'nin etrafında Mescid-i Haram'da gerçekleşmiştir.
- C) Hz. Muhammed (sav.) ile Cebrail arasında gerçekleşmiştir.
- D) 610 yılında Ramazan ayının Kadir Gecesi'nde gerçekleşmiştir.

4. Hz. Peygamber'in himayesini üstlenen son kişi aşağıdakilerden hangisidir?

- A) Halime
- B) Abdullah
- C) Ebu Talip
- D) Abdulmuttalip

5. Aşağıdakilerden hangisi Hz. Muhammed (sav.)'in peygamberliğine ilk inanarlardandır?

- A) Hz. Hamza
- B) Hz. Ömer
- C) Hz. Hatice
- D) Hz. Ayşe

6. Mekkeli müşriklerin baskıları artınca Müslümanlar ilk olarak nereye hicret etmişlerdir?

- A) Taif
- B) Habeşistan
- C) Medine
- D) Yemen

7. Hz. Peygamber'in "O ölünceye kadar Kureyş bana pek dokunmazdı." diyerek hatırladığı kişi kimdir?

- A) Ebu Talip
- B) Hz. Ömer
- C) Hz. Hatice
- D) Abdulmuttalip

8. Hz. Peygamber'in sağlıkla ilgili hadislerin bütününe ne ad verilir?

- A) Tıbb-ı Nebevi
- B) Kanun fi't-Tıb
- C) Kütüb-ü Sitte
- D) Riyazu's-Salihin

9. "Hiç kimse midesinden daha tehlikeli bir kap doldurmamıştır. Oysa insana kendisini ayakta tutacak kadar yemesi yeter. Kişi yiyeceği zaman midesinin üçte birini yemeğe, üçte birini içeceğe ve üçte birini de nefes alıp vermeye ayırmalıdır."

Bu hadis aşağıdakilerden hangisini tavsiye etmektedir?

- A) Helal lokma yemeyi
- B) Dengeli beslenmeyi
- C) Görgü kurallarına uymayı
- D) Temizliğe dikkat etmeyi

10. Aşağıdakilerden hangisi Hz. Peygamber'in sağlığa faydalı olduğu için tavsiye ettiği davranışlardan biri değildir?

- A) Bal yemek
- B) Kan vermek
- C) Spor yapmak
- D) Selam vermek

11. Hz. Muhammed (sav.) öfkelendiği zaman öfkesine kapılmayıp haksızlık yapmaz, sevdiklerini ölçülü sever, onları zaman zaman uyarır ve kayırmazdı.

Bu durum aşağıdakilerden hangisi için örnek oluşturur?

- A) İnançta denge
- B) İbadetlerde denge
- C) Duygularda denge
- D) Harcamalarda denge

12. İnanç konusundaki aşırılıklardan biri insanları fazlasıyla yüceltmedir. Tarih boyunca bazı insanlar peygamberleri ölçüsüzce yücelterek onların Allah'ın oğlu olduğunu iddia etme gibi aşırılıklara gitmişlerdir.

Aşağıdakilerden hangisi bu konuda Kur'an-ı Kerim'in verdiği örneklerden biridir?

- A) Hz. Âdem
- B) Hz. İsa
- C) Hz. Musa
- D) Hz. Yusuf

13. Bir iş yaparken acele etmemek, yapılacak işin öncesini ve sonrasını düşünmektir. Hata yapma ihtimalini asgariye indiren, insanı pişmanlığa düşmekten koruyan güzel bir özelliktir. Davranışlarda dengeli olmak için bu özelliğe çokça ihtiyaç duyulur.

Hakkında bilgi verilen bu kavram aşağıdakilerden hangisidir?

- A) İhsan
- B) Hilm
- C) Tevazu
- D) Teenni

14. Hz. Peygamber Uhut dağı kadar dahi altını olsa onu hiç bekletmeden ihtiyaç sahiplerine dağıtacağını belirtmiştir.

Aşağıdaki hadislerden hangisi bu durum ile ilişkilidir?

- A) Asıl yiğit öfkelendiği zaman öfkesine hâkim olan kişidir.
- B) Yüce Allah işi sağlam ve iyi yapmanızdan hoşnut olur.
- C) Allah cömerttir, cömertliği sever.
- D) Ameller niyetlere göredir.

15. Aşağıdakilerden hangisi şirkle ilgili doğru bir bilgi değildir?

- A) Allah'a ortak koşmaktır.
- B) Sapkın bir inançtır.
- C) İnançta aşırılığa düşmektir.
- D) Küçük günahlardandır.

3. OTURUM

16. "Benim kalbim temiz, ibadet yapmam gerekmez." gibi ifadeler dinimizin ilkeleriyle örtüşmeyen yanlış sözlerdir. Allah'ın emri olan ibadetleri yapmaksızın böyle bir iddiada bulunmak doğru değildir. Bu hususta Allah insanları Kur'an-ı Kerim'de uyarmaktadır.

Aşağıdaki ayetlerden hangisi bu konudaki uyarılardan biridir?

- A) "... Siz kendinizi temize çıkarmayın. Kimin gerektiği şekilde kullukta bulunduğu en iyi Allah bilir." (Necm suresi, 32. ayet)
- B) "Allah gökleri ve yeri hak ve hikmete uygun olarak yaratmıştır. İşte bunda inananlar için bir ibret vardır." (Ankebüt suresi, 44. ayet)
- C) "Rabbinin kitabından sana vahyedileni oku. O'nun kelimelerini değiştirecek hiçbir kimse yoktur..." (Kehf suresi, 27. ayet)
- D) "Ey iman edenler! Allah'a karşı gelmekten sakının ve doğrularla beraber olun." (Tevbe suresi, 119. ayet)

17.

	KONU	HADİSLER
I.	İbadette Denge	Sizden biriniz namaz kıldığı zaman, onu hafif tutsun.
II.	İnançta Denge	Allah'ın en çok hoşuna giden amel, az da olsa devamlı olanıdır.
III.	Davranışta Denge	Söz ve davranışlarında ileri gidip haddi aşanlar helak oldular.
IV.	Harcamalarda Denge	Kibirsiz ve israf etmeden yiyiniz, içiniz, giyiniz ve sadaka veriniz.

Bu tablodaki konu ve hadis eşleştirmelerinden hangisi yanlıştır?

- A) I. B) II. C) III. D) IV.

18. **Hangisi münafıklarla ilgili söylenemez?**

- A) Dostlarını yarı yolda bırakırlar.
B) Çıkarları değerlerinden önemlidir.
C) İkiyüzlü, çelişkili ve kararsız insanlardır.
D) Hz. Peygamber'in vefatından sonra ortaya çıkmışlardır.

19. Hz. Peygamber'in - - - olarak adlandırılan kabri Medine'de Mescid-i Nebevi'nin içinde bulunmaktadır.

Bu cümlede boş bırakılan yere aşağıdakilerden hangisi getirilmelidir?

- A) Cennet'ül Mualla
B) Cennet'ül Baki
C) Ravza-i Mutahhara
D) Ashab-ı Suffa

20. **İnançta dengeli olmanın en önemli şartı aşağıdakilerden hangisidir?**

- A) Allah'ı bir kabul etmek
B) Mal sevgisinden uzak olmak
C) Fayda vermeyen işleri terk etmek
D) İbadetleri vaktinde yerine getirmek

(534) HZ. MUHAMMED'İN HAY. – 4

1. **İslam'a göre bir insanı herhangi bir dine inanmaya zorlanmasının yasak olması aşağıdakilerden hangisi ile ilişkilendirilir?**

- A) İnanç özgürlüğü
B) İfade özgürlüğü
C) Ekonomik özgürlük
D) Dil özgürlüğü

2. "İşçinin ücretini alın teri kurumadan ödeyiniz."

Bu hadiste aşağıdaki davranışlardan hangisi için bir uyarı yapılmıştır?

- A) İşçiyi gücünü aşan işte çalıştırmak
B) Çalışanlar arasında ayırım yapmak
C) Çalıştırdığı elemanları küçümsemek
D) Çalışanına ücretini geciktirerek ödemek

3. "İlim öğrenmek her Müslüman kadın ve erkeğe farzdır."

Bu hadiste aşağıdakilerden hangisi vurgulanmaktadır?

- A) Eğitim karma yapılmalıdır.
B) İlim öğrenmek her yaşta gereklidir.
C) Eğitim tüm insanlar için bir gerekliliktir.
D) Toplumun eğitimi için önce kadın eğitilmelidir.

4. "Sizin en hayırlılarınız eşlerine karşı en iyi davrananınızdır."

Bu hadisten hangisi çıkarılamaz?

- A) Kadın hakları gözetilmelidir.
B) Kadınların onuru korunmalıdır.
C) Kadınlara değer vermek gerekir.
D) Kadınlar erkeklerden üstün tutulmalıdır.

5. **Hangisi Hz. Peygamber'in yönetim ilkelerinden değildir?**

- A) İşlerin ehli olanlara teslim edilmesi
B) Yöneticinin belirli bir soydan gelmesi
C) Halkın yönetime katılımının sağlanması
D) Toplumsal birlik ve beraberliğin oluşturulması

6. Mekke'nin seçkin ailelerinden birine mensup olan bir kişi hırsızlık yapmıştı. Bu ailenin ileri gelenleri suçlunun ceza almaması için Hz. Peygamber'in çok sevdiği Üsame b. Zeyd'i araya koydular. Hz. Peygamber de bunun üzerine şöyle buyurdu "Sizden öncekiler işte bu yüzden helak olmuştur. Onlar kanunları fakirlere uygular, zenginleri ise affederlerdi. Allah'a yemin olsun ki kızım Fatıma dahi hırsızlık yapsaydı ona ceza verirdim."

Buna göre aşağıdakilerden hangisine ulaşamaz?

- A) Yöneticiler adil davranmalıdırlar.
B) Fakirlerin işlediği suçlar affedilmelidir.
C) Adaletsizlik bir toplumu yok edecek kadar kötüdür.
D) Yakınımız aleyhine de olsa haktan yana olunmalıdır.

7. "İnkârcılar birbirleriyle müttefikler, siz de (birbirinizle) öyle olmadıkça yeryüzünde fitne ve büyük bir karışıklık baş gösterecektir."

(Enfal suresi, 73. ayet)

Bu ayet aşağıdakilerden hangisine örnek oluşturur?

- A) Yöneticilerle ilişkilerin nasıl olması gerektiğini
B) Yöneticilerde bulunması gereken özelliklere
C) Yönetilenlerin görev ve sorumlulukları
D) Yöneticilerin görev ve sorumlulukları

8. **Hz. Peygamber yönetimin ilk kuralı olarak aşağıdakilerden hangisini görmüştür?**

- A) Adalet B) Sabır
C) Çalışkanlık D) Cesaret

3. OTURUM

9. Medine Sözleşmesi'nde "Yahudiler müminlerle birlikte bir topluluklardır. Yahudilerin dinleri kendilerine, müminlerin dinleri de kendilerinedir. Buna gerek kendileri gerekse müttelikleri dâhildir." maddesi yer almaktadır.
Bu durum İslam dininin aşağıdakilerden hangisine önem verdiğini göstermektedir?
- A) İfade özgürlüğüne
B) İnanç özgürlüğüne
C) Ekonomik özgürlüklere
D) Kültürün korunmasına
10. "Müminlerin iman bakımından en mükemmeli, ahlakı en iyi olanıdır. Sizin en hayırlılarınız da kadınlara karşı hayırlı olanlarınızdır."
Bu hadisten aşağıdakilerden hangisine ulaşılamaz?
- A) Ahlak sahibi bir müminin imanı Allah katında daha değerlidir.
B) Kadınlara iyi davranmak ahlakın bir gereğidir.
C) Ahlak aile içinde de varlığını göstermelidir.
D) Çocukların da aile içinde görevleri vardır.
11. **Aşağıdakilerden hangisi İslam'a göre bir yöneticinin görevleri arasında sayılamaz?**
- A) Hukuka saygılı olmak
B) Halkın menfaatini düşünmek
C) Kararları tek başına almak
D) Herkese hakkını teslim etmek
12. **İslamiyet'e göre özgürlüklerin sınırları konusunda aşağıdaki ifadelerden hangisi yanlıştır?**
- A) Ekonomik özgürlük helallerle sınırlıdır.
B) Düşünme özgürlüğü başkasına hakaret içeriyorsa sınırlandırılır.
C) İfade özgürlüğü kamu düzenini ve toplumsal huzuru bozuyorsa sınırlandırılır.
D) İbadet özgürlüğü yaygın olan inancın ibadetleriyle sınırlandırılır.
13. Hz.Hatice ticaretle, Abdullah b. Mesud'un eşi Zeynep el sanatlarıyla, Rufeide, Ümmü Atiyye, Ümmü Ümare gibi hanım sahabeler de hastaları tedavi etmeleriyle tanınmışlardır.
Buna göre Hz. Peygamber dönemindeki kadınlar ile ilgili aşağıdakilerden hangisine ulaşılabılır?
- A) Evlilik kararlarında kızların görüşü alınmıştır.
B) Kadınlar sosyal hayatta yer almışlardır.
C) Kadınlar da mirastan pay almışlardır.
D) Kadınların eğitimine önem verilmiştir.
14. **Aşağıdakilerden hangisi İslam'a göre kadın erkek ilişkilerinde bulunması gereken özelliklerden biri değildir?**
- A) Zenginlik
B) Hoşgörü
C) Nezaket
D) Sabır
15. **Aşağıdaki ayetlerden hangisi inanç özgürlüğü ile doğrudan ilgili değildir?**
- A) "De ki: Hak (bu Kur'an), Rabb'inizdendir. Artık dileyen iman etsin, dileyen inkâr etsin ..."
(Kehf suresi, 29. ayet)
B) "Rabb'in dileseydi, insanları (aynı inanca bağlı) tek bir ümmet yapardı."
(Hûd suresi, 118. ayet)
C) "Allah kimin gönlünü İslam'a açmışsa o, Rabb'inden bir nur üzerinde değil midir?..."
(Zümer suresi, 22. ayet)
D) "Dinde zorlama yoktur, artık doğrulukla eğrilik birbirinden ayrılmıştır..."
(Bakara suresi, 256. ayet)
16. **Aşağıdakilerden hangisi İslam dinine göre kadın ile erkeğin eşit tutulduğu durumlardan biri değildir?**
- A) Fiziki özellikleri
B) Temel hakları
C) Yaratılış gayeleri
D) Hukuk karşısındaki durumları
17. **Yönetilenlerin yöneticilere karşı tutumlarında aşağıdakilerden hangisinin bulunmaması gerekir?**
- A) İlkeli olma
B) Fitneden uzak durma
C) Menfaat bekleme
D) Sınırsız sevgi, saygı gösterme
18. **Müslümanların fethettikleri topraklarda uyguladığı tutumlardan hangisi inanç ve ibadet özgürlüğü ile ilgilidir?**
- A) Yeşil alanlara zarar vermemişler, su kaynaklarını kirletmemişlerdir.
B) Din adamlarına, kilise, havra ve sinagoglara zarar vermemişlerdir.
C) Kadınlara, çocuklara, yaşlılara merhametle yaklaşmışlardır.
D) İnsanların evine, malına zorla sahip olmamışlardır.
19. "Kaynaşmanız için size kendi cinsinizden eşler yaratıp, aranızda sevgi ve merhamet peyda etmesi O'nun varlığının delillerindedir..."
(Rûm suresi, 21. ayet)
Bu ayete göre evlilik ile ilgili aşağıdakilerden hangisine ulaşılabılır?
- A) Neslin korunması için iyi bir yoldur.
B) Helal ve meşru bir şekilde olmalıdır.
C) Sevgi ve merhamet temelinde dayanmalıdır.
D) İki tarafın da hak ve sorumlulukları vardır.
20. İslam insanlara kazanma ve kazandıklarını harcama gibi ekonomik haklar verir. Fakat malını, kendine veya topluma zarar verecek şekilde harcaması yasaklanmıştır.
Buna göre aşağıdakilerden hangisi ekonomik bir hak olamaz?
- A) Miras
B) Ticaret
C) Rüşvet
D) Hibe

(608) DEM. VE İNSAN HAK. – 2

1. **Aşağıdaki kavramlardan hangisi "belli bir hukuk düzeni içerisinde, hukuk kurallarının kişilere belli yönde davranmaya izin vermesi, belli şeyleri istemeye yetkili kılması" şeklinde tanımlanır?**
- A) Hak
B) Ödev
C) Eşitlik
D) Sorumluluk
2. **Aşağıdaki haklardan hangisi diğerlerinden daha önce ortaya çıkmıştır?**
- A) Çevre hakkı
B) Barış hakkı
C) Gelişme hakkı
D) Mülkiyet hakkı

3. OTURUM

3. Mahkeme kararı olmadıkça kimsenin konutu aranamaz, telefonu dinlenemez. Güvenlik görevlilerinin konutları arayabilmek için, yetkili makamlardan izin almaları gerekir.

Bu hükümler aşağıdakilerden hangisini koruma amacı taşır?

- A) Kuvvetler birliğini
- B) Toplumsal dayanışmayı
- C) Özel yaşamın gizliliğini
- D) Mahkemelerin bağımsızlığını

4. T.C. 1982 Anayasası'nın 24.maddesinde; "Herkes, vicdan, dinî inanç ve kanaat hürriyetine sahiptir." ifadesi yer almaktadır.

Bu madde Türkiye Cumhuriyeti Devleti'nin sahip olduğu niteliklerden öncelikle hangisi ile ilgilidir?

- A) Laik devlet
- B) Sosyal devlet
- C) Hukuk devleti
- D) Teokratik devlet

5. Hukuk devletinde, devlet erkinin tek bir merkezde toplanmaması için, bir takım mekanizmalar geliştirilmiştir. Devletin erkleri olan yasama, yürütme ve yargı erkleri birbirlerinin alanına girmezler. Biri diğerinden daha üstün değildir.

Yukarıda hukuk devletinin gereklerinden hangisi açıklanmıştır?

- A) Kuvvetler ayrımı
- B) Kanun önünde eşitlik
- C) Devlet faaliyetlerinin belirliliği
- D) Kanunların Anayasaya uygunluğunun denetimi

6. Devlet Denetleme Kurulu aşağıdakilerden hangisine bağlıdır?

- A) TBMM'ye
- B) Başbakanlığa
- C) Cumhurbaşkanlığına
- D) Anayasa Mahkemesi'ne

7. Aşağıdakilerden hangisi demokrasinin ilkelerinden değildir?

- A) İnsan haklarının korunması
- B) Halk egemenliğinin benimsenmesi
- C) İnsanların yasalar önünde eşit olması
- D) Bireysel özgürlüklerin göz ardı edilmesi

8. Aşağıdakilerden hangisi ülkemizde yapılan seçimlerin dayandığı esaslardan değildir?

- A) Eşit oy ilkesi
- B) Gizli oy ilkesi
- C) Kapalı sayım döküm
- D) Tek dereceli seçim

9. Son Osmanlı Meclisi aşağıdaki hangi olay sonucunda kapatılmıştır?

- A) İstanbul'un işgali
- B) İkinci Meşrutiyet'in ilanı
- C) Meşveret Meclisi'nin kurulması
- D) 1924 Anayasasının yürürlüğe girmesi

10. Aşağıda 1921 Anayasası ile ilgili verilen bilgilerden hangisi doğrudur?

- A) Güçler ayrılığı ilkesi benimsenmiştir.
- B) Millî egemenlik ilkesi benimsenmiştir.
- C) Temel hak ve özgürlüklere yer verilmiştir.
- D) Çok partili siyasi hayata bu dönemde geçilmiştir.

11. Aşağıdaki davranışlardan hangisi demokrasiye ters düşer?

- A) Başkalarının haklarına saygılı olma
- B) Devlet yönetiminde söz sahibi olma
- C) Farklı inançlara hoşgörülle yaklaşma
- D) Düşüncelerini söylemekten kaçınma

12. • Çalışma ücretlerinin artırılması
• Çalışma koşullarının düzenlenmesi
• Çalışanlara iş güvencesi sağlanması
Birleşmiş Milletler Örgütü'nün bu amaçlarla faaliyet gösteren uzmanlık kuruluşu aşağıdakilerden hangisidir?

- A) Uluslararası PEN Kulübü
- B) Uluslararası Çalışma Örgütü
- C) Uluslararası Hukuk Komisyonu
- D) İnsan Hakları İçin Uluslararası Birlik

13. İnsan Hakları Evrensel Bildirgesi 1948 yılında aşağıdakilerden hangisi tarafından kabul edilmiştir?

- A) TBMM
- B) Avrupa Birliği
- C) Birleşmiş Milletler Örgütü
- D) Avrupa Güvenlik ve İşbirliği Teşkilatı

14. Aşağıdakilerden hangisi uluslararası sivil toplum örgütlerinin faaliyet alanlarından değildir?

- A) Gelir adaletsizliğinin önlenmesi
- B) Hızlı nüfus artışının desteklenmesi
- C) Düşünce özgürlüğü ihlallerinin önlenmesi
- D) Açlık, kıtlık ve salgın hastalıkların ortadan kaldırılması

15. Aşağıdakilerden hangisi insan hakları ihlallerine yol açmaz?

- A) İç çatışmalar
- B) Terör eylemleri
- C) Çevre kirliliğinin önlenmesi
- D) Bilim ve teknolojinin kontrolsüz kullanımı

16. Rönesans'la birlikte aşağıdakilerden hangisi önem kazanmıştır?

- A) İnsan aklı
- B) Dini inançlar
- C) Gelenek ve görenekler
- D) Toplumun ön yargıları

17. "Osmanlı Devleti'nde III. Selim'in orduyu modernleştirmek, iyileştirmek için yaptığı çalışmalar" aşağıdaki kavramlardan hangisine örnektir?

- A) İnkılab
- B) Reforma
- C) Gerilemeye
- D) Gelenekçiliğe

18. Atatürk İnkılabının öncelikli amacı aşağıdakilerden hangisidir?

- A) Halifeliliği kaldırmak
- B) Dünya barışının kalıcılığını sağlamak
- C) Halkın egemenliğine dayalı bir devlet sistemi kurmak
- D) Vatanın bağımsızlığını ve milletin özgürlüğünü sağlamak

19. I. Halk iradesinin üstün tutulması
II. Halk arasında sosyal dayanışmanın olması
III. Bazı kişi ya da gruplara ayrıcalık tanınması

Yukarıdakilerden hangileri halkçılık ilkesinin anlamları arasında yer alır?

- A) I ve II
- B) I ve III
- C) II ve III
- D) I, II ve III

3. OTURUM

20. Aşağıdakilerden hangisi Atatürk'ün demokrasi ve insan hakları konusundaki görüşlerini yanıtmaz?

- A) Egemenliğin halka ait olması
- B) Özgürlüklerin sınırsız olması
- C) Din ve vicdan hürriyetinin varlığı
- D) Baskıcı yönetim anlayışının reddedilmesi

(613) SEÇ. DİL VE ANLA. – 3

1. İletilen bilginin hem gönderici hem de alıcı tarafından anlaşıldığı ortamda bilginin göndericiden alıcıya aktarılma sürecine ---- denir.

Bu cümlede boş bırakılan yere aşağıdakilerden hangisi getirilmelidir?

- A) iletişim
- B) bağlam
- C) kanal
- D) dönüt

2. Minyatür eserlerde perspektif kullanımı sınırlıdır. Bir minyatür eserde yakındaki ve uzaktaki figürler yaklaşık olarak aynı boyuttadır. Minyatür eserlerde boyutları aynı olan iki figürden kâğıdın alt kısmındaki yakın, üst kısmındaki ise uzak sayılır.

Bu parçada dilin hangi işlevi kullanılmıştır?

- A) Göndergesel
- B) Heyecana bağlı
- C) Dil ötesi
- D) Kanalı kontrol

3. (I) Sunum, herhangi bir konuda bir grup ya da topluluğa bilgi vermek amacıyla yapılan etkinliklerin tümüne verilen addır. (II) Gruplara ve topluluklara hitap edebilmek için kullanılan önemli yazılı anlatım türleri arasında yer alır. (III) Sunumlarda amaç bir meseleyi anlatmak, konu hakkında dinleyici ve izleyicileri bilgilendirmektir. (IV) Konferanslar, sempozyumlar, resmî bayramlardaki törenler birer sunumdur.

Bu parçada numaralanmış cümlelerin hangisinde sunum ile ilgili yanlış bilgi verilmiştir?

- A) I.
- B) II.
- C) III.
- D) IV.

4. Aşağıdakilerden hangisi tartışmanın sağlıklı bir şekilde yürütülmesi için yapılacaklar arasında sayılmaz?

- A) Tartışılacak konu önceden belirlenmelidir.
- B) Tartışmayı yönetecek bir başkan seçilmelidir.
- C) Süslü ve sanatlı bir anlatım kullanılmalıdır.
- D) Taraflar birbirlerini sabırla dinmelidir.

5. Aşağıdakilerden hangisi bilgi edinme yolları arasında sayılmaz?

- A) Not almak
- B) Alıntı yapmak
- C) Özet çıkarmak
- D) Ezber yapmak

6. Güngörmüş kimseler, "Usta kırılmayacak; Hüda, ölmeyecek şey yapmamıştır." derler. Elbette, görür göze görünüp duran hazin hakikat böyledir.

Bu parçada anlatılmak istenen aşağıdakilerden hangisidir?

- A) Bütün eserler yok olmaya mahkûmdur.
- B) Sanatçı, eserleriyle insanların duygu âlemine seslenir.
- C) Eser vermek büyük emek harcamaya bağlıdır.
- D) Eserleriyle kalıcılığı yakalayan sanatçılar ölümsüzdür.

7. Aşağıdaki konulardan hangisi diğerlerine göre en fazla sınırlanmıştır?

- A) Sporun Gelişimi
- B) Güreş Sporunun Gelişimi
- C) Avrupa'da Sporun Tarihçesi
- D) Türkiye'de Güreşe Verilen Önem

8. Akşama dünya kadar vakit vardı. Ahmakıslatan henüz kesilmemişti. Biz neferle el ele bomboş sokaklarda yürüyorduk. Derken elimizdeki para ile çay içmek için bir kahveye girdik. İsmarladığımız çayları içmeden önce üşümüş ellerimizi bardakta ısıtmaya başladık.

Bu parçada kullanılan anlatım türü aşağıdakilerden hangisidir?

- A) Açıklayıcı
- B) Tartışmacı
- C) Öyküleyici
- D) Betimleyici

9. Söyle sevda içinde türkümüzü
Aç bembeyaz bir yelken
Neden herkes güzel olmaz
Yaşamak bu kadar güzelken?

Bu dizelere hâkim olan duygu aşağıdakilerden hangisidir?

- A) Hasret
- B) Yaşama sevinci
- C) Kaybetme korkusu
- D) Cesaret

10. Aşağıdakilerin hangisinde soyut anlatım söz konusudur?

- A) Kar durmuş, çocuklar kar topu oynamaya başlamıştı.
- B) Sizinle burada daha önce görüşmüştük.
- C) Heveslerimizin peşinden sürüklenmek doğru değil.
- D) Kitapları koltuğunun altına sıkıştırıp okula doğru gitti.

11. Aşağıdakilerden hangisi kanıtlanabilirlik açısından diğerlerinden farklıdır?

- A) O yıllarda İstanbul'un güzide semtlerinden olan Kartal'da oturuyorduk.
- B) İstanbul Üniversitesi Fen Fakültesi görkemli bir yapıydı.
- C) Bir grup katılımcı konferans salonundaki yerlerini almıştı.
- D) Üstün yetenekli mimarımız son projesiyle dikkatleri üzerine çekti.

12. Sanatçının her eserinde birbirine zıt düşecek fikirleri bulunmaktadır. Hatta bırakın farklı eserleri, aynı eserin bir yerinde "Asla olmaz!" dediği şeye başka bir yerinde "Kesinlikle olur!" dediğini görmek de mümkün. Sanatçının bu durumdan artık kurtulması gerekmektedir.

Bu parçada sözü edilen sanatçının, taşıması gereken özellik aşağıdakilerden hangisidir?

- A) Tutarlılık
- B) Özgünlük
- C) Etkileycilik
- D) Doğallık

13. Sevdiklerinize ara sıra beklenmedik sürprizler yaparak onları mutlu edebilirsiniz.

Bu cümlede numaralanmış sözlerden hangisi gereksiz kullanılmıştır?

- A) I.
- B) II.
- C) III.
- D) IV.

3. OTURUM

14. Eski işimiz işleri yetiştirmek için ayağını bile kıpırdatmazdı.
Bu cümledeki anlatım bozukluğunun nedeni aşağıdakilerden hangisidir?
- A) Gereksiz sözcük kullanımı
B) Deyimin yanlış kullanımı
C) Sözcüğün yanlış yerde kullanımı
D) Anlamca çelişen sözcüklerin bir arada kullanımı
15. I. Gidiyordum, gurbeti gönlümde duya duya,
II. Ulukışla yolundan Orta Anadolu'ya.
III. İlk sevgiye benzeyen ilk acı, ilk ayrılık!
IV. Yüreğimin yaktığı ateşle hava ılık.
Bu dörtlüğün kaçınıcı dizesinde alışılmamış bağdaştırmaya yer verilmiştir?
- A) I. B) II. C) III. D) IV.
16. **Aşağıdakilerden hangisi bir paragrafın giriş cümlesi olmaya uygun değildir?**
- A) Eski yüzyıllarda yazılmış bir sanat eserinin nasıl değerlendirileceği hâlâ tartışma konusudur.
B) Bu sanatçının son eseri, aynı ada sahip bir deneme, on sekiz öykü ve bir temenni yazısından oluşuyor.
C) II. Yeni şairleri imge kapısını ardına kadar açarak okuru kendi peşlerinden sürüklemişlerdir.
D) Müzikten anlamayan, edebiyatı bilmeyen, gazete okumayan bir toplumla bir yerlere varabilmek çok zordur.
17. • Savunulan ve karşı çıkılan düşüncelere yer verilir.
• Fıkra, deneme, makale, röportaj gibi türlerde kullanılır.
• Dil; sade, gösterişsiz ve pürüzsüz kullanılır.
Bu özellikler aşağıdaki anlatım türlerinden hangisi ile ilgilidir?
- A) Tartışmacı
B) Söyleşmeye bağlı
C) Öyküleyici
D) Düşsel

18. • Sohbet, mülakat, monolog ve diyalog metinlerinde söyleşmeye bağlı anlatım kullanılır.
• Öyküleyici anlatımda olay, yer, kişi, zaman unsurları yer alır.
• Öğretici anlatımda sanatlı ifadeleme ve mecazlı anlatıma sıkça yer verilir.
Bu cümleler doğru-yanlış olarak değerlendirildiğinde sıralama aşağıdakilerden hangisi olur?
- A) D – D – Y B) Y – Y – D
C) D – Y – D D) Y – D – D
19. Sıfatlar, isimlerin niteliklerini gösterir veya onları sayı, soru, belgisizlik ve işaret yoluyla belirtir. Birkaç sıfat arkaya sıralanarak bir ismi niteleyebilir veya belirtebilir. Niteleme sıfatları tek başına kullanıldığında adlaşır ve sıfat olmaktan çıkar. Bunun dışında sıfatlara getirilen eklerle onlara küçültme veya pekiştirme özellikleri kazandırılabilir.
Bu parçanın anlatımında aşağıdakilerden hangisi kullanılmıştır?
- A) Öyküleyici anlatım
B) Emredici anlatım
C) Mizahi anlatım
D) Öğretici anlatım
20. Okuma eğitiminin aile ve okulda başlaması gerektiğini düşünürüm. Öğrenmek için okumak, yaşamak için okumak düşüncesi bir "rehber" gibi benimsenmeli. Bir toplum eğitimi ve öğretimde bunu ıskalıyorsa o toplumun bilgiye erişmesi güçtür.

Bu parçanın sonuna düşüncenin akışına göre aşağıdakilerden hangisi getirilmelidir?
- A) Yazmak ise okumaktan çok daha farklı beceriler kazandırır insana.
B) Okumanın yanı sıra gezerek araştırma yapmak da gerekir.
C) Kısaca öğrenmeyi öğretmenin yolu okuyan bir toplum olmaktan geçiyor.
D) Toplum olmak ise öncelikle sağlıklı bir aile yapısı oluşturmakla mümkündür.

(615) SEÇ. DİL VE ANLA. – 5

1. **Aşağıdakilerden hangisi öğretici metinlerin özelliklerinden biri değildir?**
- A) Dil, açık ve anlaşılır bir biçimde kullanılır.
B) Bilgi vermek ve okuyucuyu aydınlatmak için yazılır.
C) Kurmaca değil, gerçeklik ön plandadır.
D) Her okuyan bu metinlerden farklı anlamlar çıkarır.
2. **Aşağıdakilerin hangisinde sanatsal metin türleri bir arada verilmiştir?**
- A) Anı – hikâye – fabl
B) Masal – halk hikâyesi – mesnevi
C) Günlük – mektup – biyografi
D) Hikâye – roman – sohbet
3. • Sağ alt köşeye adres yazılır.
• Sağ alt veya sağ üst tarafa tarih atılır.
• Ad-soyad sol üst köşeye yazılır.
"Resmî mektup"la ilgili bu cümleler doğru-yanlış olarak değerlendirildiğinde sıralama aşağıdakilerin hangisi olur?
- A) D – D – Y B) Y – Y – D
C) D – Y – Y D) Y – D – Y
4. **11 Ekim 2010**
Saat 23.00, uyumak üzereyim. Telefonum çaldı. Çok korktum. Gece çalan telefonlar nedense beni ürpertir.
12 Ekim 2010
Sabah kalktım, kısa bir yürüyüş yapıp ekmeğimi ve gazetemi aldım. Yine acı haberler... Ne zaman bu tür haberlere rastlamayacağız acaba?
Bu parça aşağıdaki metin türlerinin hangisinden alınmıştır?
- A) Anıdan
B) Mektuptan
C) Günlükten
D) Gezi yazısından

3. OTURUM

5. I. Mümkin olduğunca tarafsız bir şekilde kaleme alınmalıdır.
II. Sanatlı ve süslü bir anlatım kullanılmalıdır.
III. Olayların etkisini artırmak için abartmaya bolca yer verilmelidir.
IV. Dürüstlük, samimiyet ve sorumluluk duygusuyla yazılmalıdır.

Anı ile ilgili numaralanmış bu bilgilerden hangileri yanlıştır?

- A) I ve II. B) II ve III.
C) II ve IV. D) III ve IV.

6. Koblenz yakınlarında bulunan varillerde, cilde ve göze temas ettiğinde yakıcı etki yapan klorosülfürik asit olduğu belirtildi. Bölge sakinleri uzaklaştırıldıktan sonra variller uzmanlar tarafından imha edildi.

Bu parçada haber yazısına ait aşağıdaki öğelerden hangisinin cevabı yoktur?

- A) Ne zaman? B) Ne?
C) Kim? D) Nerede?

7. Edebiyatımızdaki ilk eleştiri eseri aşağıdakilerden hangisidir?

- A) Zafername
B) Talim-i Edebiyat
C) Tahrib-i Harabat
D) İstilahat-ı Edebiyye

8. Bilirsiniz beni, bilirsiniz de inanmazsınız bu dediklerime. Saçımın sakalımın akar gibi olduğu, benim kendime çekidüzen vermeyi bilmediğim doğrudur ama övünülecek bir şey mi bu? Süslenmek, bezenmek elimden gelmez ama süslenmeyi, bezenmeyi kötüllemeye kalkanlara pek kızarım.

Bu parça aşağıdaki metin türlerinin hangisinden alınmıştır?

- A) Sohbetten
B) Makaleden
C) Mektuptan
D) Gezi yazısından

9. • Bu türün edebiyatımızdaki ilk örneklerinden biri Evliya Çelebi'nin "Seyahatname"sidir.
• Tanımlama, betimleme ve açıklamadan yararlanır.
• İnsanoğlunun başka yerleri görme merakından doğmuştur.

Bu cümlelerde hakkında bilgi verilen tür aşağıdakilerin hangisidir?

- A) Günlük B) Mektup
C) Anı D) Gezi yazısı

10. Burdur'a bağlı Yeşilova ilçesinin Akçaköy'ünde 1929 yılında doğum. Altı çocuklu, az topraklı bir köylü ailesinin yukarıdan ikinci çocuğuyum. Babam Veli, Yemen'de seferberlikte askerlik etmiş; yaralanmış, esir düşmüş. Az toprakla çiftçilik yeterli bir iş olmadığı için bunun yanı sıra köy bakıcılığı ve değirmencilik de yapmış.

Bu parça aşağıdaki metin türlerinin hangisine örnektir?

- A) Biyografiye
B) Otobiyografiye
C) Gezi yazısına
D) Günlüğe

11. Tebrik mektupları, teşekkür mektupları, taziye mektupları, özür mektupları - - - içinde yer alır.

Bu cümlede boş bırakılan yere aşağıdakilerden hangisi getirilmelidir?

- A) iş mektupları
B) resmî mektuplar
C) edebî mektuplar
D) özel mektuplar

12. Aşağıdakilerin hangisinde haber yazılarıyla ilgili yanlış bir bilgi vardır?

- A) Günlük ve önemli olması gerekir.
B) Kolay anlaşılır, akıcı ve duru bir anlatıma sahip olmalıdır.
C) Haberi yazan kişi, tarafını belli etmelidir.
D) Yanlış anlaşılmalara yer verilmemelidir.

13. Aşağıdakilerden hangisi edebiyatımızda fıkralarıyla tanınan yazarlarımızdan biridir?

- A) Ahmet Mithat Efendi
B) Ahmet Rasim
C) Mehmet Âkif Ersoy
D) Tevfik Fikret

14. • Yazar işlediği konu üzerindeki çeşitli düşünceleri, kendi yorumunu da katarak ortaya koyar.
• Rahat okunan bir düşünce yazısıdır.
• Yazar kendisi ile tartışır, konuşur gibi yazar.

Bu özellikler aşağıdaki metin türlerinden hangisine aittir?

- A) Denemeye B) Makaleye
C) Anıya D) Eleştiriye

15. Aşağıdaki cümlelerin hangisinde bilgi yanlış yapılmıştır?

- A) Makalede ispatlama, iddia etme kaygısı vardır.
B) Fıkralar gazete ve dergilerde yayımlanan gününbirlik yazılardır.
C) Sohbetta ciddi ve ağırbaşlı bir üslup kullanılır.
D) Gezi yazısında görülen yerlerin kültür ve coğrafyaları hakkında da bilgiler verilir.

16. "Çok yaşayan değil, çok gezen bilir." sözünün doğruluğunu ispatlamak için düşüm yollara. Gözlemlerim sadece gözlemekle sınırlı kalmadı. Her şeyi yazdım. Çünkü keşfetmek ve yazmak benim vazgeçemediğim iki tutkumdu.

Bunları söyleyen bir kişinin yazdığı tür aşağıdakilerden hangisidir?

- A) Makale B) Gezi yazısı
C) Günlük D) Mektup

17. • Tek Adam
• İkinci Adam
• Dertli Dolap

Bu eserlerin türü aşağıdakilerden hangisidir?

- A) Otobiyografi B) Deneme
C) Günlük D) Biyografi

18. 1937 yılının bahar mevsimi idi. Orman Çiftliği'ne Akköprü tarafından gidiyorduk. Çiftliğin o tarafı meyve bahçesi hâline getirilmiş, fidanlar sıra sıra dikilmişti. Şimdi gölge ve bol yeşilliği ile çok güzel olan bu yol boyu, o zamanlar henüz küçük, çelimsiz ağaçların sıralandığı, yaz mevsiminde dahi pek güzel olmanın bir yeri. Atatürk, bu eski çıplak topraklar üzerindeki meyve bahçesi hâline gelmiş olan bu yerlere neşe ile bakıyordu.

...

Bu parça aşağıdaki metin türlerinin hangisinden alınmıştır?

- A) Günlükten
B) Mektuptan
C) Otobiyografiden
D) Anıdan

19. Yazarların kendi hayatlarını anlattıkları romanlar aşağıdaki türlerin hangisiyle benzerlik gösterir?

- A) Günlük B) Makale
C) Otobiyografi D) Biyografi

3. OTURUM

20. I. Hatıra, roman, gezi yazısı türündeki eserlerde günlükten yararlanılabilir.
II. Nesnellik hâkimdir ve dil göndergesel işlevde kullanılır.
III. Yazar, okuyucuyu düşünerek günlük tutar.
IV. Anlatılanlar içtenlikle ifade edilir.
“Günlük” ile ilgili numaralanmış özelliklerden hangileri **yanlıştır**?
- A) I ve III. B) II ve III.
C) II ve IV. D) III ve IV.

(616) SEÇ. DİL VE ANLA. – 6

1. Ey benim namlı, şerefli, sadık emirlerim! İyi bilirsiniz ki üstünde durduğumuz şu memleket ve maliki olduğumuz devlet, nice müşkül muharebe ve mücahedeler sonunda ecdadımız tarafından kazanılmış ve sonunda bize nasip olmuştur. Bugün sizlere derim ki canını feda etmeyen âşık vuslata nail olamaz. Vatan aşkı için nice kanlar döküldü, nice yaralar açıldı. Ama bu sayede nice müstahkem kaleler alındı.
Bu metnin türü aşağıdakilerden hangisidir?
- A) Söylev B) Söyleşi
C) Mülakat D) Röportaj
2. **Sezai Karakoç’un özelliklerinin anlatıldığı bir röportajın türü aşağıdakilerden hangisi olur?**
- A) Bir yeri konu alan
B) Eşyayı konu alan
C) Bir olayı konu alan
D) İnsanı konu alan
3. **Safranbolu’yu değişik özellikleriyle inceleyip kendi görüşleriyle destekleyerek bir yazı oluşturan ve bu yazıda çeşitli belgeler, fotoğraflar kullanan bir yazarın yazısı aşağıdaki türlerin hangisine örnektir?**
- A) Mülakata B) Röportaja
C) Makaleye D) Denemeye
4. **Aşağıdakilerden hangisi röportaj türünde yazılmıştır?**
- A) Son Kuşlar
B) Pembe İncili Kaftan
C) Yalnız Efe
D) Peri Bacaları

5. **Söylevle ilgili aşağıdakilerden hangisi söylenemez?**
- A) Söyleve dinleyicilerin ilgisini çekecek sözlerle başlanmalıdır.
B) Söylevci dilin özelliklerini iyi bilmelidir.
C) Dil; alıcıyı harekete geçirme, kanalı kontrol ve heyecana bağlı işlevde kullanılır.
D) Asıl amaç dinleyicilerde estetik zevk uyandırmaktır.
6. **Aşağıdakilerden hangisi Latin edebiyatının ünlü söylevcilerinden biridir?**
- A) Demosthenes
B) Çiçero
C) Montaigne
D) Moliere
7. Okumanın hayatımızda nasıl bir yeri vardır?
- Okuma, şimdi adına iletişim denen, bilgi alışverişini tek taraflı sağlayan bir hadisedir.
Okuyacağınız kitabı seçerken neye dikkat ediyorsunuz?
-Vaktiyle hemen hiçbir ayırım yapmadan elime geçen her kitabı okurdum. Artık kitap okurken bana faydası var mı, yok mu diyerek bir ayıklamaya gidiyorum.
Bu metin aşağıdaki türlerin hangisinden alınmıştır?
- A) Mülakattan B) Söylevden
C) Anıdan D) Fıkradan
8. I. Mülakat yapılacak kişiden randevu alınmalıdır.
II. Kişinin verdiği cevaplar düzeltilip aktarılmalıdır.
III. Mümkün olduğunca ayrıntıya girilmelidir.
IV. Konuşulanların dışına çıkılmamalıdır.
Mülakatla ilgili numaralanmış cümlelerin hangilerinde bilgi yanlışı vardır?
- A) I ve III. B) I ve IV.
C) II ve III. D) II ve IV.
9. **Aşağıdakilerden hangisi edebiyatımızda tanınmış mülakat yazarlarından biridir?**
- A) Yahya Kemal Beyatlı
B) Cemal Süreya
C) Hikmet Feridun Es
D) Necip Fazıl Kısakürek

10. **Yaşar Kemal ile ilgili her yönüyle bir araştırma yapıp bunu kamuoyu ile paylaşmak isteyen bir yazarın aşağıdaki türlerden hangisini kullanması uygun olur?**
- A) Söylev B) Gezi yazısı
C) Fıkra D) Röportaj
11. • Röportajlarda belge ve fotoğraflardan yararlanılmaz.
• Röportajlarda ağırlıklı olarak düşsel anlatım kullanılır.
• Röportajda açıklayıcı, kanıtlayıcı, öğretici anlatımdan yararlanılabilir.
Bu cümleler doğru-yanlış olarak değerlendirildiğinde sıralama aşağıdakilerden hangisi olur?
- A) D – Y – Y B) Y – D – D
C) D – D – Y D) Y – Y – D
12. **Röportaj türüyle ilgili aşağıdaki sanatçı-eser eşleştirmelerinden hangisi yanlıştır?**
- A) Nurullah Berk – Ustalarla Konuşmalar
B) Yaşar Kemal – Edebiyatçılarımız Konuşuyor
C) Fikret Otyam – Ha Bu Diyar
D) Mustafa Baydar – Edebiyatçılarımız Ne Diyorlar
13. I. Sayılardan sonra sıra bildirmek için kullanılır.
II. Sıralı cümleleri birbirinden ayırmak için konur.
III. Kendisinden sonra örnek verilecek cümlelerin sonuna konur.
Numaralanmış cümlelerde aşağıdaki noktalama işaretlerinden hangisinin kullanım yeri verilmemiştir?
- A) Virgül (,)
B) İki nokta (:)
C) Noktalı virgül (;)
D) Nokta (.)
14. **Cep telefonunun icadı ve günümüze kadar geçirdiği gelişim aşamalarını anlatan bir araştırma yazısının türü aşağıdakilerden hangisi olur?**
- A) Röportaj B) Biyografi
C) Söylev D) Eleştiri
15. **Aşağıdakilerden hangisi sözlü anlatım türlerinden biridir?**
- A) Fıkra B) Deneme
C) Mektup D) Mülakat

(623) SEÇ. TÜRK ED. – 3

16. Aşağıdaki sözcüklerin hangisinde ses türemesi vardır?

- A) Gönlümüzün
B) Affediyorum
C) Başlıyorlar
D) Küçücük

17. ---; genellikle parlamentolarda, diplomatik toplantılarda, mitinglerde yapılan konuşmalardır.

Bu cümlede boş bırakılan yere aşağıdakilerden hangisi getirilmelidir?

- A) İktisadi söylev
B) Siyasi söylev
C) Hukuksal söylev
D) Askerî söylev

18. Aşağıdaki cümlelerin hangisinde bilgi yanlış vardır?

- A) Söylevci konuşmasını jest ve mimiklerle desteklemelidir.
B) Röportajı gerçekleştiren kişi araştırmasına kendi düşüncelerini katmaz.
C) Mülakatta sorulan sorular herkesin anlayabileceği nitelikte olmalıdır.
D) Mülakatta dil, göndergesel ve alıcıyı harekete geçirme işleviyle kullanılır.

19. I. Onunla park da buluşmak üzere sözleştik.
II. Soruyu bilse de bilmese de önemli değil artık.
III. Akşam sinemaya Onur da gelecekmış.
IV. Bu ev kiralık da satılık da değil.

Numaralanmış cümlelerin hangisinde "de"nin yazımıyla ilgili bir yanlışlık yapılmıştır?

- A) I. B) II. C) III. D) IV.

20. Aşağıdaki cümlelerin hangisinin sonuna üç nokta (...) getirilmelidir?

- A) Gençler, bu ülkeyi sizler yücelteceksiniz
B) Çocuk bir şeyini kaybetmiş gibi sürekli ağlıyor, ağlıyor
C) Bunun böyle olacağını neden bana söylemediniz
D) Yağmurun hemen ardından güneş yüzünü gösterdi

1. (I) Edebiyat tarihi, medeniyet tarihinin en önemli kısmıdır. (II) Bir milletin uzun asırlar boyunca geçirdiği fikrî ve hissî gelişmeyi belirten bütün kalem ürünlerini inceleme ile onun manevi hayatını, gerçekte olduğu gibi yansıtmaya çalışır. (III) Bir milletin edebiyatı, millî ruhu ve millî hayatı göstermek için en samimi bir ayna sayılabilir. (IV) Bir milletin hayatı nasıl gördüğü, nasıl düşündüğü, nasıl hissettiği en doğru ve canlı bir şekilde o milletin fikir ve kalem ürünlerinde görülebilir.

Bu parçada numaralanmış cümlelerin hangisinde "edebiyat tarihi"nin işlevinden söz edilmiştir?

- A) I. B) II. C) III. D) IV.

2. Aşağıdaki sanatçılardan hangisi Türkiye'de ilk defa edebiyat tarihi incelemelerinde bilimsel yöntemleri ortaya koyan bilim insanıdır?

- A) M. Fuat Köprülü
B) Ziya Gökalp
C) Nihat Sami Banarlı
D) Mehmet Kaplan

3. Göktürk Kitabeleri'nde Doğu Göktürklerin tarihi anlatılmıştır. Yazıtlarda Göktürk Devleti'nin kuruluşu, Bilge Kağan ile Kül Tigin'in yaptıkları anlatılmıştır.

Bu parçadan hareketle edebiyatın özellikle hangi bilim dalıyla ilişkisi olduğu söylenir?

- A) Coğrafya B) Psikoloji
C) Felsefe D) Tarih

4. Türk dilinin günümüze kalan en eski ve değerli belgeleri 720-735 yıllarında yazılan ---.

Bu cümlede boş bırakılan yere aşağıdakilerden hangisi getirilmelidir?

- A) Dede Korkut Hikâyeleri'dir
B) Binbir Gece Masalları'dır
C) Göktürk Yazıtları'dır
D) İrk Bitig'dir

5. (I) İslamiyet'in kabulüyle Türk kültürü, İslam kültür ve uygarlığının etkisi altına girdi. (II) İslamiyet'in kuralları toplumun bütün kurallarının ve insanların yaşam biçimlerinin farklılaşmasını sağladı. (III) İslam kültürü sadece toplum yaşamını değil, Türk dilini ve edebiyatını da derinden etkiledi. (IV) Türkçe tamamen terk edilip Arapça konuşulmaya başlandı.

Bu parçada numaralanmış cümlelerin hangisinde bilgi yanlış vardır?

- A) I. B) II. C) III. D) IV.

6. Aşağıdakilerden hangisi İslami Dönem Türk Edebiyatı içinde yer almaktadır?

- A) Yazılı edebiyat
B) Anonim halk edebiyatı
C) Fecriati edebiyatı
D) Millî Edebiyat

7. Aşağıdakilerden hangisi Orta Asya Türk şiirinde işlenen konulardan biri değildir?

- A) Tasavvuf B) Savaş
C) At sevgisi D) Tabiat

8. Eski Türk şairlerine Türk boyları arasında ---, ---, --- gibi adlar veriliyordu.

Bu cümlede boş bırakılan yerlere aşağıdakilerden hangisi getirilemez?

- A) şaman B) oyun
C) aşık D) baksı

9. Destan, Balasagun yakınlarında bir şehir kuran Saka hükümdarının çevresinde oluşturulmuştur. Destanda hükümdarın ilginç özellikleri, Büyük İskender'le savaşları, Balasagun'da büyük bir kale ve şehir yaptırması anlatılır.

Bu parçada hakkında bilgi verilen destan aşağıdakilerden hangisidir?

- A) Alp Er Tunga Destanı
B) Göç Destanı
C) Şu Destanı
D) Yaratılış Destanı

10. **Orijinali**

Tünle bilem köçelim
Yamar suvın keçelim
Terngük suvın içelim
Yuvka yağı uvulsun

Günümüz Türkçesiyle

Geceleyin göçelim
Yamar suyunu geçelim
Pınar suyundan içelim
Yufka düşman ezilsin

İslamiyet öncesi sözlü ürünlerden alınan bu dörtlük için aşağıdakilerden hangisi söylenemez?

- A) Epik bir anlatımı vardır.
B) Bir destandan alınmıştır.
C) Benzetme sanatına başvurulmuştur.
D) Aruz ölçüsü kullanılmıştır.

3. OTURUM

11. İslamiyet öncesi Türk şiirinin dikkate değer örneklerini bulduğumuz kaynaklar aşağıdakilerin hangisinde bir arada verilmiştir?

- A) Divanü Lügat'it Türk – Turfan metinleri
- B) Kutadgu Bilig – Dede Korkut Hikâyeleri
- C) Atabet'ül-Hakayık – Danişmendname
- D) Divan-ı Hikmet – Risalet'ün Nushiyye

12. I. İlyada ve Odyssea, Türk destanlarının en eski örneklerindedir.
II. Şiirlerde ve destanda adı geçen Gılgamış, Uruk'ta hüküm süren bir kraldır.
III. "Kolları Bağlı Odysseus", Fazıl Hüsni Dağlarca tarafından kaleme alınan yapay bir destandır.

Numaralanmış cümlelerde verilen bilgiler doğru – yanlış olarak değerlendirildiğinde sıralama aşağıdakilerden hangisi olur?

- A) Y – Y – D
- B) Y – D – Y
- C) D – Y – D
- D) D – D – Y

13. Aşağıdakilerin hangisi yapay destan değildir?

- A) Sakarya Meydan Savaşı
- B) Seyran Destanı
- C) Atatürk Kurtuluş Savaşı'nda
- D) Göç Destanı

14. Sözlü edebiyat ürünü olan koşuk, günümüz halk edebiyatındaki ---- ilk biçimidir.

Bu cümlede boş bırakılan yere aşağıdakilerden hangisi getirilmiştir?

- A) destanın
- B) ağıdın
- C) semainin
- D) koşmanın

15. İranlı Firdevsi'nin Şehname adlı destanında Efrasiyab olarak yer verdiği Türk hükümdar ve destan kahramanı aşağıdakilerden hangisidir?

- A) Oğuz Kağan
- B) Battal Gazi
- C) Alp Er Tunga
- D) Dede Korkut

16. Aşağıdakilerin hangisi "sav"larla ilgili yanlış bir bilgidir?

- A) En eski örneklerine Atabet'ül-Hakayık adlı eserde rastlanmaktadır.
- B) Günümüzdeki tam karşılığı atasözüdür.
- C) Kimi örneklerinde ölçülü ve uyaklı söyleyiş görülmektedir.
- D) Türklerin hayat anlayışları konusunda ipucu içerir.

17. Yarattığı Destanı günümüzde ---- Türkleri arasında hâlâ söylenmektedir.

Bu cümlede boş bırakılan yere aşağıdakilerin hangisi getirilmiştir?

- A) Uygur
- B) Kırgız
- C) Altay
- D) Kazak

18. Aşağıdaki destanlardan hangisi Hun Türklerine aittir?

- A) Attila
- B) Türeyiş
- C) Alp Er Tunga
- D) Bozkurt

19. Aşağıdakilerden hangisi Türk destanlarındaki motiflerden biri değildir?

- A) Bozkurt
- B) Tapınak
- C) Işık
- D) Ağaç

20. Türk edebiyatının önemli metinlerinden olan eser, iyi düşünceli prensle kötü düşünceli prensin hikâyesini anlatır. Eserin aslı Sanskritçedir. Dinsel masal niteliği taşıyan metinde asıl anlatılmak istenen Budizm'dir.

Bu parçada hakkında bilgi verilen eser aşağıdakilerden hangisidir?

- A) İrk Bitig
- B) Sekiz Yüklemek
- C) Kalyanamkara ve Papamkara
- D) Altun Yaruk

(626) SEÇ. TÜRK ED. – 6

1. Rezaizade Mahmut Ekrem, Servet-i Fünun'u sanat ve edebiyat dergisi hâline getirmek için ---- derginin yazı işleri müdürlüğüne getirir.

Bu cümlede boş bırakılan yere aşağıdakilerden hangisi getirilmelidir?

- A) Cenap Şahabettin'i
- B) Tefik Fikret'i
- C) Halit Ziya Uşaklıgil'i
- D) Mehmet Rauf'u

2. Servetifünun edebiyatının diğer adı aşağıdakilerden hangisidir?

- A) Saray edebiyatı
- B) Klasik edebiyat
- C) Yüksek zümre edebiyatı
- D) Edebiyatırcıdede

3. Aşağıdakilerden hangisi Cenap Şahabettin'in düzyazı türündeki eserlerinden biri değildir?

- A) Hac Yolunda
- B) Avrupa Mektupları
- C) Tâmat
- D) Tiryaki Sözleri

4. Halit Ziya Uşaklıgil'in anılarını kaleme aldığı eseri aşağıdakilerden hangisidir?

- A) Mai ve Siyah
- B) Aşk-ı Memnu
- C) Kırk Yıl
- D) Ferdi ve Şürekası

5. Aşağıdakilerin hangisinde "Tevfik Fikret" ile ilgili yanlış bir bilgi vardır?

- A) Divan edebiyatının beyit anlayışını kırarak nazmı nesre yaklaştırmıştır.
- B) Aruzu Türkçeye ustalıkla uygulayan sanatçılardan biridir.
- C) Şiirde serbest müstezatı ve Batı'dan alınma nazım şekillerini kullanmıştır.
- D) Tüm şiirlerinde oldukça sade ve anlaşılır bir dil kullanmıştır.

6. Aşağıdakilerden hangisi edebiyatımızda nazmı nesre yaklaştıran sanatçılardan biridir?

- A) Mehmet Akif Ersoy
- B) Ahmet Haşim
- C) Yahya Kemal Beyatlı
- D) Namık Kemal

3. OTURUM

7. • Sözcüklerle resim yapma amacında olan Cenap Şahabettin, Fransız parnasyenlerden etkilenir.
• Mehmet Rauf'un mensur şiir türündeki eserinin adı "Sansar"dır.
• Tevfik Fikret, "Şermin" adlı şiir kitabını çocuklar için yazmıştır.

Bu cümleler doğru – yanlış olarak değerlendirildiğinde sıralama aşağıdakilerden hangisi olur?

- A) D – Y – D B) Y – Y – D
C) D – D – Y D) Y – D – D

8. I. Düzyazı cümleleriyle yazılmış şiirlerdir.
II. Vezin, kafiye gibi ahenk öğelerine yer verilir.
III. Mensur şiir yazar kişi duygularını daha rahat ifade eder.
IV. İlk olarak İngiliz edebiyatında ortaya çıkmıştır.

"Mensur şiir" ile ilgili olarak numaralanmış cümlelerin hangilerinde bilgi yanlış yapılmıştır?

- A) I ve III. B) II ve III.
C) II ve IV. D) III ve IV.

9. Aşağıdakilerden hangisi realist sanatçılardan biri değildir?

- A) Stendhal B) Tolstoy
C) Balzac D) Victor Hugo

10. Servetifünun Dönemi'nde şiirde - - - - ve - - - -; hikâye ve romanda - - - - etkili olmuştur.

Bu cümlede boş bırakılan yerlere sırasıyla aşağıdakilerden hangisi getirilmelidir?

- A) sembolizm – parnasizm – realizm
B) klasisizm – natüralizm – romantizm
C) sembolizm – klasisizm – parnasizm
D) romantizm – parnasizm – sembolizm

11. Aşağıdakilerden hangisi fecriati topluluğunun edebiyatta gerçekleştirmek istediklerinden biri değildir?

- A) Dilin, edebiyatın ve diğer bilimlerin ilerlemesine katkı sağlamak
B) Genç yetenekleri bir araya getirerek toplumu edebiyat konusunda aydınlatmak
C) Topluluk üyelerinin eserlerinden oluşan bir kütüphane kurmak
D) Yazı dilinin sadeleşmesi için çaba göstermek

12. II. Abdülhamit Dönemi nazırlarından olan Naim Efendi geleneklere ve göreneklere bağlı olarak yetişen bir kişidir. Damadı Servet Bey, tam bir Batı hayranı ve eğlenceye düşkün bir kişidir. Naim Efendi'nin torunları Seniha ve Cemil de eskiyi beğenmeyen, eğlence düşkünü kişilerdir.

Bu parçada kahramanları tanıtılan roman aşağıdakilerden hangisidir?

- A) Ateşten Gömlek
B) Çalılık
C) Yaban
D) Kiralık Konak

13. Fecriati topluluğunun tiyatro alanındaki en önemli ismidir. Sayısı az da olsa Âti ve Servet-i Fünun dergilerinde tiyatro eleştirileri yazmıştır. "Kösem Sultan, Hicranlar, Firar" tiyatro türündeki bazı eserleridir.

Bu parçada kısaca tanıtılan sanatçı aşağıdakilerden hangisidir?

- A) Ahmet Haşım
B) Emin Bülent
C) Tahsin Nahit
D) Yakup Kadri

14. Aşağıdakilerden hangisi Millî Edebiyat Dönemi temsilcilerinden biri değildir?

- A) Cenap Şahabettin
B) Ömer Seyfettin
C) Ali Canip Yöntem
D) Mehmet Emin Yurdakul

15. Edebiyat tarihi ve tarih araştırmacıdır. Eserlerinden bazıları şunlardır: Türk Edebiyatında Bazı Mutasavvıflar, Türk Edebiyatı Tarihi, Türk Saz Şairleri...

Bu parçada kısaca tanıtılan sanatçı aşağıdakilerden hangisidir?

- A) Ziya Gökalp
B) Mehmet Emin Yurdakul
C) Fuat Köprülü
D) Mehmet Akif Ersoy

16. Millî Edebiyat, 1911 yılının Nisan ayında Selanik'te - - - - dergisinde "Yeni Lisan" makalesinin çıkmasıyla başlamış kabul edilir.

Bu cümlede boş bırakılan yere aşağıdakilerin hangisi getirilmelidir?

- A) Türk Derneği
B) Türk Yurdu
C) Türk Ocağı
D) Genç Kalemler

17. "Yahya Kemal Beyatlı" ile ilgili aşağıdakilerden hangisi yanlıştır?

- A) Şiir dışında başka bir türde eseri yoktur.
B) Türkçeyi aruzla başarıyla uygulamıştır.
C) Şarkı, gazel ve rubai türünde şiirler yazmıştır.
D) Şiirlerinde Osmanlı tarihine özlem, İstanbul sevgisi, ölüm, deniz temalarını işlemiştir.

18. Aşağıdaki eserlerden hangisi Mehmet Akif Ersoy'a aittir?

- A) Gurabahane-yi Lakkakan
B) Azız İstanbul
C) Safahat
D) Rübab-ı Şikeste

19. Maupassant tarzı hikâyeciliğin edebiyatımızdaki en önemli temsilcisi aşağıdakilerden hangisidir?

- A) Tevfik Fikret
B) Halit Ziya Uşaklıgil
C) Ömer Seyfettin
D) Mehmet Emin Yurdakul

20. Aşağıdakilerden hangisi fecriati topluluğunun kısa süre içinde dağılmasının sebeplerinden biri değildir?

- A) O dönemin büyük sanatçıların geride bırakacak derecede güçlü eserler ortaya koyamamaları
B) Dönemin siyasal baskıları nedeniyle şiir dışında bir türde eser vermemeleri
C) Edebiyatımıza herhangi bir yenilik getirememeleri
D) Dillerinin sadelikten uzak olması

(975) GİRİŞİMCİLİK – 2

1. Çevre ile ilgili kalite belgesi aşağıdakilerden hangisidir?

- A) ISO 8000 B) ISO 9000
C) ISO 14000 D) ISO 22000

2. Çelik üretiminde kullanılan pik demir, hangi tür üretim mallarındandır?

- A) Ham maddeler
B) Yatırım donatım malları
C) Üretim gereçleri ve malları
D) Yardımcı araçlar

3. OTURUM

3. Aşağıda verilen etmenlerden hangisi bir işletmenin dış çevresinde yer alır?
- A) İş gücü B) Personel
C) Üretim D) Finans
4. Bir şirketin diğer işletmelere ait hisse senetlerine sahip olması yolu ile onları finansal ve yönetim olarak kontrolüne alma biçimine ne ad verilir?
- A) Tröst B) Holding
C) Kartel D) Konsorsiyum
5. Bir kişinin araba satın alması aşağıdakilerden hangisine örnek teşkil eder?
- A) Arz B) Talep
C) İstek D) Piyasa
6. Aşağıdakilerden hangisi günümüzde müteşebbisliğin çok önemli bir konuma sahip olmasının nedenlerinden biri olarak gösterilemez?
- A) İthalatın artmasını sağlar.
B) Kamu hizmetlerinin kalitesini artırır.
C) Vergi gelirlerinin artmasını sağlar.
D) Alt yapı hizmetlerinin giderilmesini sağlar.
7. Aşağıdakilerden hangisi bir işletmenin kuruluş yeri etmenlerinden birisi olarak düşünülemez?
- A) Sermaye faizi
B) Askeri tehlike
C) Personel giderleri
D) Sosyal kültürel şartlar
8. Maslow'un ihtiyaçlar hiyerarşisine göre, bir insanın saygı ihtiyaçlarından sonra ortaya çıkacak ihtiyaçları aşağıdakilerden hangisidir?
- A) Fizyolojik
B) Başarma
C) Güvenlik
D) Sevgi ve ait olma
9. Giyim mağazaları hangi tür işletmelere örnektir?
- A) Finans işletmeleri
B) Kiralama işletmeleri
C) Ticaret işletmeleri
D) Sanayi işletmeleri
10. "Hizmet işletmesi reklamı" hangi reklam çeşidi kapsamında değerlendirilmelidir?
- A) Reklam içeriği açısından
B) Hedef kitle açısından
C) Amaçlar açısından
D) Yapanlar açısından
11. İnternet girişimciliğinde paranın yerini, aşağıdakilerden hangisi almıştır?
- A) Hazine bonoları
B) Kredi kartları
C) Senet
D) Çek
12. Aşağıdakilerden hangisi fizibilite etüdünün yapılaş amaçlarındanıdır?
- A) Araştırma giderlerini artırmak
B) İşletmenin hangi büyüklükte ve nerede kurulacağını belirlemek
C) Prototip üretimi yapacak tesisi kurmak
D) Müşterilerden gelen şikayetleri dinlemek
13. Mal ya da hizmetleri bireysel gereksinimleri için alanlara "son tüketici" denir. Bu tanıma göre, aşağıdakilerden hangisi son tüketicidir?
- A) Normal insanlar
B) Fabrikatörler
C) Girişimciler
D) Robotlar
14. Aşağıdakilerden hangisi kamu işletmesi değildir?
- A) Kooperatifler
B) Özel bütçeli işletmeler
C) Kamu İktisadi Teşekkülleri
D) Özerk Bütçeli Devlet İşletmeleri
15. Aşağıdakilerden hangisi, iyi bir iş planının girişimciye sağlayacağı yararlardan biri değildir?
- A) Yatırım kararı almış girişimciye rehberlik eder.
B) İşletmenin pazara yakınlığını sağlar.
C) Girişimcilerin ve çalışanların dikkatini amaca yöneltir.
D) İşletmenin pozisyonunu gösterir.
16. Aşağıdakilerden hangisi, hukuki şekilleri bakımından işletmeler grubunda yer almaz?
- A) Kamu İşletmeleri
B) Özel İşletmeler
C) Ticaret İşletmeleri
D) Yabancı Sermayeli İşletmeler
17. Aşağıdaki bankalardan hangisi, ülkemizdeki KOBİ'lere (küçük ve orta büyüklükteki işletmeler) en büyük kredi desteği veren kuruluştur?
- A) Sümerbank
B) Ziraat Bankası
C) Türk Eximbank
D) Türkiye Halk Bankası
18. Özel bir girişimcinin yapacağı yatırıma temel oluşturacak ön projelerin değerlendirilmesinde ana ölçüt, aşağıdakilerden hangisidir?
- A) İstihdam
B) Üretimin temel süreçleri
C) Projenin yöre için önemi
D) Girişimin sağlayacağı kâr
19. Türk Ticaret Kanunu'na göre; bir ticari işletmeyi kısmen de olsa kendi adına işleten kişiye ne ad verilir?
- A) İşletmeci B) Müdür
C) Tacir D) İşçi
20. Aşağıdakilerden hangisi franchising türü değildir?
- A) Ürün ve marka franchisingi
B) Uluslararası franchising
C) Ulusal franchising
D) Patent franchisingi

TEST BİTTİ.
CEVAPLARINIZI KONTROL EDİNİZ.

CEVAP KÂĞIDI VE SORU KİTAPÇIĞI İLE İLGİLİ AÇIKLAMALAR

1. Cevap kâğıdınızdaki bilgilerin doğruluğunu kontrol ediniz ve cevap kâğıdınızı mürekkepli kalemle imzalayınız.
2. Cevap kâğıdı üzerinde kodlamalarınızı siyah kurşun kalemle yapınız.
3. Değiştirmek istediğiniz bir cevabı, yumuşak silgiyle cevap kâğıdını örselemeden temizce siliniz ve yeni cevabınızı kodlayınız.
4. Soru kitapçığının sayfalarını görevlilerin uyarıları doğrultusunda kontrol ediniz, baskı hatası var ise değiştirilmesini sağlayınız.
5. Soruların çözümü için size ayrıca boş kâğıt verilmeyecektir. Soru kitapçığının içindeki boş alanları soru çözümleri için kullanabilirsiniz.
6. Her sorunun dört seçeneğinden sadece biri doğrudur. Doğru seçeneği, cevap kâğıdınızın ilgili sütununa soru numarasını dikkate alarak yuvarlağın dışına taşırmadan kodlayınız. Soru kitapçığı üzerinde yapılan cevaplandırmalar dikkate alınmayacaktır.
7. Cevaplamaya istediğiniz dersin sorusundan başlayabilirsiniz. Cevabını bilmediğiniz sorular üzerinde fazla zaman kaybetmeden diğer sorulara geçiniz. Zamanınız kalırsa bu sorulara daha sonra dönebilirsiniz.
8. Yanlış cevaplarınız dikkate alınmadan sadece doğru cevaplarınız üzerinden puanlama yapılacaktır.
9. Soruları ve sorulara verdiğiniz cevapları, yanınızda götürmek amacıyla kaydetmeyiniz; hiçbir şekilde dışarı çıkarmayınız.
10. Sınav bitiminde soru kitapçığı ve cevap kâğıdını salon görevlilerine teslim ediniz.

SALON GÖREVLİLERİNCE SINAV BAŞLAMADAN ÖNCE ADAYLARA YAPILACAK SON UYARILAR

- Soracağınız bir şey varsa şimdi sorunuz, sınav başladıktan sonra sorularınıza cevap verilmeyecektir.
- Başlama zilini bekleyiniz.

Hepinize başarılar dileriz.

(Salon başkanı başlama ve bitiş saatini tahtaya yazacaktır.)

Bu kitapçığın her hakkı saklıdır. Hangi amaçla olursa olsun, kitapçığın tamamının veya bir kısmının Millî Eğitim Bakanlığı Ölçme, Değerlendirme ve Sınav Hizmetleri Genel Müdürlüğünün yazılı izni olmadan kopya edilmesi, fotoğraflarının çekilmesi, bilgisayar ortamına alınması, herhangi bir yolla çoğaltılması, yayımlanması veya başka bir amaçla kullanılması yasaktır. Bu yasağa uymayanlar, doğabilecek cezai sorumluluğu ve kitapçığın hazırlanmasındaki mali külfeti peşinen kabullenmiş sayılır.

08 OCAK 2017 TARİHİNDE YAPILAN AÇIKÖĞRETİM LİSESİ / MESLEKİ AÇIKÖĞRETİM LİSESİ
2015-2016 ÖĞRETİM YILI 1. DÖNEM SINAVI 3. OTURUM T KİTAPÇIĞI CEVAP ANAHTARI

(113) DİN KÜL. AHL. BİL. – 3

1. A
2. C
3. A
4. B
5. C
6. B
7. D
8. C
9. D
10. B
11. D
12. C
13. C
14. A
15. D
16. A
17. D
18. B
19. D
20. B

(116) DİN KÜL. AHL. BİL. – 6

1. C
2. A
3. B
4. D
5. C
6. A
7. D
8. B
9. D
10. D
11. B
12. C
13. A
14. B
15. D
16. B
17. C
18. A
19. B
20. C

(124) SEÇMELİ FELSEFE – 2

1. B
2. A
3. D
4. C
5. A
6. B
7. A
8. B
9. C
10. D
11. C
12. A
13. B
14. D
15. B
16. C
17. A
18. B
19. D
20. A

(134) TARİH– 4

1. C
2. A
3. B
4. D
5. B
6. B
7. A
8. C
9. D
10. A
11. C
12. B
13. B
14. C
15. A
16. D
17. D
18. B
19. C
20. A

(114) DİN KÜL. AHL. BİL. – 4

1. D
2. B
3. C
4. A
5. D
6. A
7. C
8. D
9. A
10. C
11. A
12. D
13. D
14. C
15. B
16. C
17. D
18. A
19. B
20. B

(122) FELSEFE – 2

1. D
2. A
3. A
4. D
5. B
6. D
7. B
8. C
9. D
10. C
11. C
12. A
13. D
14. C
15. A
16. C
17. D
18. B
19. D
20. D

(133) TARİH – 3

1. B
2. D
3. A
4. C
5. A
6. C
7. B
8. C
9. D
10. A
11. D
12. B
13. D
14. A
15. D
16. C
17. B
18. D
19. C
20. A

(142) T.C. İNK. TAR. ATA. – 2

1. C
2. A
3. B
4. B
5. D
6. C
7. D
8. B
9. C
10. A
11. D
12. B
13. A
14. D
15. D
16. C
17. C
18. B
19. A
20. D

08 OCAK 2017 TARİHİNDE YAPILAN AÇIKÖĞRETİM LİSESİ / MESLEKİ AÇIKÖĞRETİM LİSESİ
2015-2016 ÖĞRETİM YILI 1. DÖNEM SINAVI 3. OTURUM T KİTAPÇIĞI CEVAP ANAHTARI

(153) COĞRAFYA – 3

1. C
2. D
3. C
4. A
5. B
6. A
7. D
8. A
9. C
10. B
11. A
12. C
13. B
14. D
15. C
16. A
17. D
18. B
19. B
20. A

(158) COĞRAFYA – 8

1. B
2. A
3. A
4. D
5. C
6. C
7. D
8. B
9. C
10. A
11. C
12. C
13. C
14. D
15. A
16. C
17. D
18. B
19. A
20. B

(165) MATEMATİK – 5

1. C
2. B
3. A
4. C
5. D
6. A
7. D
8. A
9. C
10. C
11. B
12. A
13. D
14. B
15. D
16. C
17. D
18. A
19. B
20. C

(209) SOSYOLOJİ – 2

1. B
2. D
3. C
4. B
5. D
6. C
7. A
8. B
9. C
10. A
11. B
12. C
13. D
14. B
15. A
16. C
17. A
18. B
19. D
20. A

(154) COĞRAFYA – 4

1. D
2. B
3. B
4. C
5. A
6. A
7. C
8. D
9. B
10. D
11. A
12. C
13. C
14. A
15. B
16. B
17. C
18. D
19. D
20. C

(163) MATEMATİK – 3

1. D
2. A
3. B
4. C
5. B
6. A
7. D
8. C
9. D
10. A
11. B
12. C
13. D
14. A
15. C
16. A
17. B
18. C
19. A
20. D

(206) PSİKOLOJİ – 1

1. D
2. B
3. C
4. A
5. C
6. C
7. D
8. A
9. D
10. A
11. C
12. D
13. B
14. C
15. D
16. A
17. A
18. B
19. C
20. B

(242) İNGİLİZCE – 3

1. D
2. B
3. A
4. D
5. A
6. B
7. C
8. A
9. B
10. A
11. D
12. C
13. D
14. B
15. C
16. D
17. C
18. B
19. A
20. B

08 OCAK 2017 TARİHİNDE YAPILAN AÇIKÖĞRETİM LİSESİ / MESLEKİ AÇIKÖĞRETİM LİSESİ
2015-2016 ÖĞRETİM YILI 1. DÖNEM SINAVI 3. OTURUM T KİTAPÇIĞI CEVAP ANAHTARI

(242) ALMANCA – 3

1. A
2. B
3. C
4. D
5. A
6. B
7. C
8. D
9. A
10. C
11. D
12. B
13. B
14. C
15. A
16. D
17. C
18. A
19. D
20. B

(403) DİL VE ANLATIM – 3

1. C
2. A
3. A
4. D
5. B
6. D
7. C
8. B
9. D
10. C
11. B
12. D
13. C
14. A
15. C
16. B
17. D
18. C
19. A
20. A

(406) DİL VE ANLATIM – 6

1. A
2. B
3. D
4. A
5. C
6. C
7. D
8. B
9. A
10. D
11. B
12. C
13. A
14. A
15. B
16. C
17. B
18. D
19. A
20. B

(416) TÜRK EDEBİYATI – 6

1. B
2. C
3. D
4. B
5. B
6. C
7. A
8. D
9. A
10. B
11. D
12. D
13. B
14. C
15. A
16. D
17. D
18. B
19. D
20. C

(242) FRANZIZCA – 3

1. C
2. B
3. D
4. B
5. C
6. A
7. D
8. B
9. B
10. D
11. C
12. A
13. D
14. B
15. A
16. C
17. A
18. C
19. B
20. D

(405) DİL VE ANLATIM – 5

1. B
2. C
3. A
4. D
5. B
6. A
7. C
8. D
9. A
10. B
11. C
12. B
13. D
14. B
15. A
16. C
17. D
18. C
19. B
20. C

(413) TÜRK EDEBİYATI – 3

1. A
2. A
3. C
4. B
5. B
6. D
7. D
8. C
9. A
10. B
11. C
12. D
13. B
14. B
15. A
16. C
17. C
18. D
19. D
20. A

(426) FİZİK – 6

1. A
2. A
3. C
4. A
5. B
6. B
7. A
8. D
9. B
10. C
11. C
12. D
13. C
14. A
15. B
16. B
17. D
18. C
19. D
20. B

08 OCAK 2017 TARİHİNDE YAPILAN AÇIKÖĞRETİM LİSESİ / MESLEKİ AÇIKÖĞRETİM LİSESİ
2015-2016 ÖĞRETİM YILI 1. DÖNEM SINAVI 3. OTURUM T KİTAPÇIĞI CEVAP ANAHTARI

(427) FİZİK – 7

1. B
2. B
3. D
4. C
5. D
6. A
7. B
8. B
9. A
10. D
11. A
12. B
13. C
14. C
15. C
16. A
17. D
18. D
19. C
20. A

(433) KİMYA – 3

1. D
2. C
3. B
4. A
5. C
6. D
7. A
8. D
9. B
10. D
11. B
12. C
13. C
14. A
15. B
16. B
17. C
18. A
19. A
20. D

(435) KİMYA – 5

1. C
2. A
3. D
4. B
5. C
6. B
7. A
8. D
9. B
10. C
11. D
12. C
13. B
14. A
15. B
16. C
17. D
18. A
19. A
20. D

(448) BİYOLOJİ – 8

1. B
2. C
3. A
4. C
5. A
6. A
7. B
8. B
9. D
10. A
11. D
12. C
13. C
14. B
15. D
16. D
17. A
18. C
19. B
20. D

(428) FİZİK – 8

1. D
2. D
3. A
4. B
5. D
6. A
7. D
8. A
9. C
10. A
11. B
12. B
13. D
14. B
15. C
16. C
17. D
18. B
19. D
20. B

(434) KİMYA – 4

1. C
2. B
3. B
4. A
5. A
6. A
7. B
8. A
9. C
10. D
11. C
12. D
13. A
14. D
15. B
16. C
17. D
18. B
19. D
20. C

(445) BİYOLOJİ – 5

1. B
2. C
3. D
4. A
5. C
6. B
7. D
8. C
9. A
10. A
11. B
12. B
13. C
14. B
15. C
16. B
17. D
18. B
19. C
20. B

(452) ÇAĞ. TÜRK DÜN. TAR. – 2

1. D
2. B
3. A
4. C
5. B
6. D
7. D
8. B
9. A
10. C
11. A
12. D
13. B
14. D
15. A
16. C
17. B
18. C
19. D
20. A

08 OCAK 2017 TARİHİNDE YAPILAN AÇIKÖĞRETİM LİSESİ / MESLEKİ AÇIKÖĞRETİM LİSESİ
2015-2016 ÖĞRETİM YILI 1. DÖNEM SINAVI 3. OTURUM T KİTAPÇIĞI CEVAP ANAHTARI

(462) EKONOMİ – 2

1. D
2. B
3. D
4. D
5. B
6. D
7. A
8. C
9. B
10. D
11. D
12. A
13. D
14. B
15. D
16. D
17. B
18. C
19. A
20. B

(478) MANTIK – 1

1. B
2. D
3. C
4. A
5. C
6. B
7. A
8. B
9. C
10. C
11. D
12. A
13. D
14. A
15. D
16. A
17. C
18. D
19. A
20. B

(500) ALMANCA – 6

1. A
2. C
3. B
4. D
5. A
6. C
7. B
8. C
9. B
10. D
11. A
12. D
13. C
14. A
15. D
16. B
17. A
18. C
19. D
20. B

(503) SEÇMELİ TARİH – 3

1. D
2. B
3. A
4. B
5. D
6. C
7. B
8. A
9. A
10. B
11. D
12. C
13. C
14. B
15. A
16. C
17. B
18. C
19. D
20. A

(468) MATEMATİK – 8

1. C
2. D
3. B
4. A
5. C
6. D
7. B
8. C
9. D
10. A
11. C
12. B
13. D
14. A
15. B
16. C
17. D
18. B
19. C
20. A

(500) İNGİLİZCE – 6

1. A
2. C
3. D
4. B
5. C
6. A
7. A
8. D
9. B
10. C
11. D
12. A
13. C
14. C
15. B
16. D
17. B
18. C
19. A
20. B

(500) FRANSIZCA – 6

1. C
2. B
3. A
4. D
5. B
6. D
7. C
8. B
9. A
10. D
11. C
12. B
13. B
14. A
15. B
16. C
17. D
18. D
19. A
20. C

(504) SEÇMELİ TARİH – 4

1. A
2. B
3. D
4. C
5. D
6. A
7. C
8. B
9. C
10. A
11. D
12. B
13. D
14. B
15. C
16. A
17. D
18. A
19. B
20. D

08 OCAK 2017 TARİHİNDE YAPILAN AÇIKÖĞRETİM LİSESİ / MESLEKİ AÇIKÖĞRETİM LİSESİ
2015-2016 ÖĞRETİM YILI 1. DÖNEM SINAVI 3. OTURUM T KİTAPÇIĞI CEVAP ANAHTARI

(505) SEÇMELİ COĞRAFYA – 3

1. A
2. B
3. B
4. C
5. C
6. D
7. C
8. B
9. A
10. A
11. B
12. D
13. A
14. C
15. D
16. C
17. A
18. B
19. D
20. D

(533) HZ. MUHAMMED'İN HAY. – 3

1. A
2. D
3. B
4. C
5. C
6. B
7. A
8. A
9. B
10. D
11. C
12. B
13. D
14. C
15. D
16. A
17. A
18. D
19. C
20. A

(608) DEM. VE İNSAN HAKLARI – 2

1. A
2. D
3. C
4. A
5. A
6. C
7. D
8. C
9. A
10. B
11. D
12. B
13. C
14. B
15. C
16. A
17. B
18. D
19. A
20. B

(615) SEÇ. DİL ANLA. – 5

1. D
2. B
3. D
4. C
5. B
6. A
7. C
8. A
9. D
10. B
11. D
12. C
13. B
14. A
15. C
16. B
17. D
18. D
19. C
20. B

(506) SEÇMELİ COĞRAFYA – 4

1. A
2. D
3. C
4. B
5. A
6. D
7. B
8. C
9. D
10. C
11. B
12. D
13. B
14. A
15. C
16. D
17. B
18. D
19. C
20. A

(534) HZ. MUHAMMED'İN HAY. – 4

1. A
2. D
3. C
4. D
5. B
6. B
7. C
8. A
9. B
10. D
11. C
12. D
13. B
14. A
15. C
16. A
17. D
18. B
19. C
20. C

(613) SEÇ. DİL ANLA. – 3

1. A
2. A
3. B
4. C
5. D
6. A
7. D
8. C
9. B
10. C
11. C
12. A
13. C
14. B
15. D
16. B
17. A
18. A
19. D
20. C

(616) SEÇ. DİL ANLA. – 6

1. A
2. D
3. B
4. D
5. D
6. B
7. A
8. C
9. C
10. D
11. D
12. B
13. C
14. A
15. D
16. B
17. B
18. B
19. A
20. B

08 OCAK 2017 TARİHİNDE YAPILAN AÇIKÖĞRETİM LİSESİ / MESLEKİ AÇIKÖĞRETİM LİSESİ
2015-2016 ÖĞRETİM YILI 1. DÖNEM SINAVI 3. OTURUM T KİTAPÇIĞI CEVAP ANAHTARI

(623) SEÇMELİ TÜRK EDEB. – 3

1. B
2. A
3. D
4. C
5. D
6. B
7. A
8. C
9. C
10. D
11. A
12. B
13. D
14. D
15. C
16. A
17. C
18. A
19. B
20. C

(975) GİRİŞİMCİLİK – 2

1. C
2. C
3. A
4. B
5. B
6. A
7. C
8. B
9. C
10. D
11. B
12. B
13. A
14. A
15. B
16. C
17. D
18. D
19. C
20. D

(626) SEÇMELİ TÜRK EDEB. – 6

1. B
2. D
3. C
4. C
5. D
6. A
7. B
8. C
9. D
10. A
11. D
12. D
13. C
14. A
15. C
16. D
17. A
18. C
19. C
20. B