

OTURUM

1



T.C.

MİLLÎ EĞİTİM BAKANLIĞI
AÇIK ÖĞRETİM LİSESİ / MESLEKİ AÇIKÖĞRETİM LİSESİ
2014-2015 ÖĞRETİM YILI 1. DÖNEM SINAVI

1. OTURUM: 03 OCAK 2015 Saat:09.30

T

<u>DERS KODU VE ADI</u>	<u>SAYFA</u>	<u>DERS KODU VE ADI</u>	<u>SAYFA</u>	<u>DERS KODU VE ADI</u>	<u>SAYFA</u>
(111) DİN KÜL. AHL. BİL. – 1	2	(414) TÜRK EDEBİYATI – 4	27	(502) FRANSIZCA – 8	56
(112) DİN KÜL. AHL. BİL. – 2	3	(417) TÜRK EDEBİYATI – 7	28	(511) FIKİH – 1	57
(115) DİN KÜL. AHL. BİL. – 5	4	(418) TÜRK EDEBİYATI – 8	29	(525) SEÇ. Y. DİL İNG. – 5	58
(121) FELSEFE – 1	5	(421) FİZİK – 1	31	(525) SEÇ. Y. DİL ALM. – 5	59
(123) SEÇMELİ FELSEFE – 1	7	(425) FİZİK – 5	33	(525) SEÇ. Y. DİL FRAN. – 5	60
(132) TARİH – 2	9	(432) KİMYA – 2	35	(528) SEÇ. Y. DİL İNG. – 8	61
(136) TARİH – 6	10	(436) KİMYA – 6	36	(528) SEÇ. Y. DİL ALM. – 8	62
(151) COĞRAFYA – 1	11	(931) SİYER – 1	38	(528) SEÇ. Y. DİL FRAN. – 8	63
(155) COĞRAFYA – 5	12	(441) BİYOLOJİ – 1	39	(532) HZ. MUHAMMED'İN HAY. – 2	64
(157) COĞRAFYA – 7	14	(443) BİYOLOJİ – 3	40	(609) MATEMATİK – 6	65
(181) İNGİLİZCE – 1	15	(446) BİYOLOJİ – 6	41	(611) KARŞ. DİN. TAR. – 1	66
(181) ALMANCA – 1	16	(461) EKONOMİ – 1	43	(617) SEÇ. DİL ve ANLA. – 7	67
(181) FRANSIZCA – 1	17	(465) TEMEL DİNİ BİL. – 1	45	(618) SEÇ. DİL ve ANLA. – 8	68
(244) İNGİLİZCE – 5	18	(477) İŞLETME – 2	46	(624) SEÇ. TÜRK EDEB. – 4	70
(244) ALMANCA – 5	19	(479) MANTIK – 2	47	(627) SEÇ. TÜRK EDEB. – 7	71
(244) FRANSIZCA – 5	20	(484) SAĞLIK BİLGİSİ – 2	49	(628) SEÇ. TÜRK EDEB. – 8	72
(401) DİL VE ANLATIM – 1	21	(491) TRAF. ve İLK YARD. – 1	50	(711) İSLAM TARİHİ – 1	74
(402) DİL VE ANLATIM – 2	22	(495) GEOMETRİ – 5	52	(811) KELAM – 1	75
(407) DİL VE ANLATIM – 7	24	(502) İNGİLİZCE – 8	54	(974) GİRİŞİMCİLİK – 1	76
(408) DİL VE ANLATIM – 8	25	(502) ALMANCA – 8	55	(999) MATEMATİK – 2	78

ADAYLARIN DİKKATİNE!

- Her ders için **20** soru bulunmaktadır. Bu oturumda **180** dakikalık cevaplama süreniz vardır. Sınav başladıktan sonra ilk **30** dakika dolmadan dışarı çıkmayınız.
- Sınav sırasında sözlük, hesap cetveli veya makinesi, çağrı cihazı, cep telefonu, telsiz, radyo gibi elektronik iletişim araçlarını yanınızda bulundurmuyunuz. Bu araçları kullanmanız ve kopya çekmeye teşebbüs etmeniz hâlinde sınavınız geçersiz sayılacaktır.
- Başvuru şartlarını taşımadığınız hâlde sınava girmeniz, kopya çekmeniz, başka adayın sınav evrakını kullanmanız, geçerli kimlik belgenizi ve sınav giriş belgenizi ibraz edemediğiniz durumlarda sınavınız geçersiz sayılacaktır.
- Sınavın değerlendirilmesi aşamasında, kopya tespiti hâlinde sınavınız geçersiz sayılacaktır.

CEVAP KÂĞIDI VE SORU KİTAPÇIĞI İLE İLGİLİ AÇIKLAMALAR

- Cevap kâğıdınızdaki bilgilerin doğruluğunu kontrol ediniz ve cevap kâğıdınızı mürekkepli kalemle imzalayınız.
- Cevap kâğıdı üzerinde kodlamalarınızı kurşun kalemle yapınız.
- Değiştirmek istediğiniz bir cevabı, yumuşak silgiyle cevap kâğıdını örselemeden temizce siliniz ve yeni cevabınızı kodlayınız.
- Soru kitapçığının sayfalarını kontrol ediniz, baskı hatası var ise değiştirilmesini sağlayınız.
- Soruların çözümü için size ayrıca boş kâğıt verilmeyecektir. Soru kitapçığının içindeki boş alanları soru çözümleri için kullanabilirsiniz.
- Her sorunun dört seçeneğinden sadece biri doğrudur. Doğru seçeneği, cevap kâğıdınızın ilgili sütununa soru numarasını dikkate alarak yuvarlağın dışına taşırmadan kodlayınız. **Soru kitapçığı üzerinde yapılan cevaplandırmalar dikkate alınmayacaktır.**
- Cevaplamaya istediğiniz dersin sorusundan başlayabilirsiniz. Cevabını bilmediğiniz sorular üzerinde fazla zaman kaybetmeden diğer sorulara geçiniz. Zamanınız kalırsa bu sorulara daha sonra dönebilirsiniz.
- Yanlış cevaplarınız dikkate alınmadan sadece doğru cevaplarınız üzerinden puanlama yapılacaktır.
- Soruları ve sorulara verdiğiniz cevapları, yanınızda götürmek amacıyla kaydetmeyiniz; hiçbir şekilde dışarı çıkarmayınız.
- Sınav bitiminde, soru kitapçığı ve cevap kâğıdını salon görevlilerine teslim ediniz.**

BAŞLAYINIZ DENİLMEYEN SORU KİTAPÇIĞINI AÇMAYINIZ.

1. OTURUM

(111) DİN KÜL. AHL. BİL. – 1

1. Aşağıdakilerden hangisi tek tanrıcılık anlamına gelir?

- A) Monoteizm
- B) Politeizm
- C) Ateizm
- D) Satanizm

2. Aşağıdakilerden hangisi vahye dayalı dinlerden biridir?

- A) Budizm
- B) Ateizm
- C) Yahudilik
- D) Hinduizm

3. Aşağıdakilerden hangisi Peygamberimiz'in çocuklarından biri değildir?

- A) Abdullah
- B) Hacer
- C) Rukiye
- D) İbrahim

4. Hz. Muhammed'e ilk vahiy ne zaman ve nerede gelmiştir?

- A) 610 - Sevr mağarası
- B) 609 - Mekke
- C) 622 - Kâbe
- D) 610 - Hira mağarası

5. İnsanın ibadet etmesinin en önemli sebebi aşağıdakilerden hangisidir?

- A) Cennete girmek
- B) İyi insan olmak
- C) Günahlardan kurtulmak
- D) Allah'ın emrini yerine getirmek

6. Faydalı ve güzel işler yapmak ve Allah'ın yasakladığı kötü ve çirkin davranışlardan uzak durmak anlamına gelen kavram aşağıdakilerden hangisidir?

- A) Tevhit
- B) İbadet
- C) İman
- D) İslam

7. Temizlik türü açısından aşağıdakilerden hangisi diğerlerinden farklıdır?

- A) Elleri yıkamak
- B) Yere çöp atmamak
- C) Kötü sözden uzak durmak
- D) Dişleri fırçalamak

8. Aşağıdakilerden hangisi abdestin farzlarından biridir?

- A) Yüzü yıkamak
- B) Ağza su vermek
- C) Burna su vermek
- D) Boynu mesh etmek

9. Aşağıdakilerden hangisi ibadetin bireysel faydalarından biri değildir?

- A) İnancı kuvvetlendirir.
- B) Allah'a olan sevgiyi artırır.
- C) Sorumluluk bilincini geliştirir.
- D) Toplumsal barışa katkı sağlar.

10. "Allah sizin için kolaylık ister. Güçlük istemez" (Bakara Suresi, 185. ayet)

Aşağıdakilerden hangisi bu ayete verilecek örnek olamaz?

- A) Teyemmümle abdest alınması
- B) Yolculukta namazın terk edilmesi
- C) Hastaların Ramazan orucunu ertelemesi
- D) Oruç tutamayan yaşlıların fidye vermesi

11. Hz. Muhammed'in toplumsal dayanışma ve yardımlaşmaya katkı sağlayan faaliyetlerinden hangisi diğerlerinden önce gerçekleşmiştir?

- A) Hilfu'l-Fudul'a katılması
- B) Medine Sözleşmesi'ni yapması
- C) Hudeybiye Barış Antlaşmasını imzalaması
- D) Mekkeli müslümanlarla, Medineli müslümanları kardeş ilan etmesi

12. Aşağıdakilerden hangisi Peygamberimiz'in süt kardeşinin adıdır?

- A) Halime
- B) Fatma
- C) Şeyma
- D) Zehra

13. Hz. Muhammed'in doğduğu dönemdeki Arap toplumu hakkında aşağıdakilerden hangisi söylenemez?

- A) Güçlü ve zenginler zayıfları ezerdi.
- B) İçki içmek, kumar oynamak yaygındı.
- C) Güzel söz söylemek ve şiir gelişmişti.
- D) Okuma yazma bilenlerin sayısı çoktu.

14. I. Uhud Savaşı
II. Hudeybiye Antlaşması
III. Mekke'nin Fethi
IV. Mescidi Nebi'nin yapılması
Yukarıdaki olayların kronolojik sıralaması hangi seçenekte doğru verilmiştir?

- A) IV - I - II - III
- B) II - III - I - IV
- C) III - IV - I - II
- D) I - III - II - IV

15. Peygamberimiz'in gençlik yıllarında katıldığı Hilful Fudul (Erdemliler Birliği)'un kuruluş amacı aşağıdakilerden hangisidir?

- A) Mekke'nin tanıtımını yapmak
- B) Haksızlıklara engel olmak
- C) Akrabalık bağlarını güçlendirmek
- D) Ticaretin güçlenmesini sağlamak

16. Kur'an-ı Kerim'in indirilmesi sürecinde Mekke döneminde nazil olan ayetler en çok hangi konuları kapsamaktadır?

- A) Aile içi ilişkiler
- B) Ticaret hukuku
- C) İnanç esasları
- D) Toplumsal düzenlemeler

17. Kur'an-ı Kerim'in toplanması ve çoğaltılması hangi halifeler zamanında olmuştur?

- A) Hz. Osman - Hz. Ali
- B) Hz. Ebubekir - Hz. Osman
- C) Hz. Ömer - Hz. Ebubekir
- D) Hz. Ali - Hz. Ömer

1. OTURUM

18. Cumhuriyet döneminde biz-zat Atatürk tarafından talimat verilerek hazırlanan Kur'an çalışması aşağıdakilerden hangisidir?

- A) Hasan Basri Çantay - Kur'an-ı Hakim ve Meali Kerim
- B) Mehmet Akif Ersoy - Kur'an-ı Kerim Meali
- C) Elmalılı Hamdi Yazır - Hak Dini Kur'an Dili
- D) Kamil Miras - Tecridi Sarih Tercümesi

19. Harflerin çıkış yerlerine uygun olarak, hatasız biçimde Kur'an-ı Kerim okumasını öğreten ilim aşağıdakilerden hangisidir?

- A) Tecvit
- B) Mukabele
- C) Tefsir
- D) Hatim

20. Peygamberimiz her yıl Ramazan ayında o güne kadar inen ayetleri Cebrail ile karşılıklı okumuşlardır. Bu uygulama İslam toplumuna yerleşmiş ve gelenek halini almıştır. Bu durum aşağıdakilerden hangisiyle isimlendirilir?

- A) Tefsir
- B) Hafızlık
- C) Mukabele
- D) Hatim

(112) DİN KÜL. AHL. BİL. – 2

1. Bir toplumda eskiden beri uygulanan, nesilden nesile aktarılan kültürel değer, bilgi ve alışkanlıklara denir.

Boş bırakılan yere aşağıdakilerden hangisi gelmelidir?

- A) Din
- B) Örf
- C) İbadet
- D) Ahlak

2. Örf ve âdetler için aşağıdakilerden hangisi söylenemez?

- A) Din ile ilişkileri yoktur.
- B) Sosyal hayatı şekillendirir.
- C) Yazılı olmayan kurallardır.
- D) Toplum tarafından benimsenmiştir.

3. İslam'dan önce de var olan ve İslam'a ters düşmeyen örf ve âdetlerden biri aşağıdakilerden hangisidir?

- A) Kan davası
- B) Tefecilik yapmak
- C) Aşure orucu tutmak
- D) Şans oyunları

4. Peygamberimiz'in ahlaki sorulduğunda Hz. Aişe'nin verdiği cevap aşağıdakilerden hangisidir?

- A) Sünnet
- B) Örf ve âdetler
- C) Kur'an
- D) Anne-Baba

5. Aşağıdakilerden hangisi dinin amaçlarından biri değildir?

- A) İyiliğe yönlendirmek
- B) Doğruluğa teşvik etmek
- C) Kötülüklerden uzaklaştırmak
- D) Zengin olmayı sağlamak

6. Aşağıdakilerden hangisi Peygamberimiz'in insan haklarına verdiği öneme en iyi örnektir?

- A) Veda hutbesi
- B) Suffe okulunu açması
- C) Akabe biatlarını yapması
- D) Devlet başkanlarına mektup göndermesi

7. Aşağıdakilerden hangisi İslam dininin korunmasını istediği temel ilkelere biri değildir?

- A) Can
- B) Dil
- C) Mal
- D) Namus

8. Aşağıdakilerden hangisi laikliğin temel amaçlarından biri değildir?

- A) Din ve vicdan hürriyetini güvence altına almak.
- B) Dinin istismar edilmesine müsaade etmemek.
- C) İslam dinini ön plana çıkarmak.
- D) Ruhbanlık anlayışının oluşmasını önlemek.

9. "Din ve mezhep herkesin vicdanına kalmış bir iştir. Hiçbir kimse, bir dini ve bir mezhebi kabul etmeye zorlanamaz."

Bu paragrafta Atatürk aşağıdakilerden hangisine vurgu yapmıştır?

- A) İnanç hürriyeti
- B) Dinin önemi
- C) Aile hayatı
- D) Toplumsal değerler

10. Türkler Müslüman olmadan önce çeşitli dinlere inanmışlardır. Aşağıdakilerden hangisi bu dinlerden biri değildir?

- A) Zerdüştlük
- B) Budizm
- C) Yahudilik
- D) Hristiyanlık

11. Aşağıdakilerden hangisi Türklerin Müslüman olmadan önce benimsedikleri Gök Tanrı inancının temel özelliklerinden biri değildir?

- A) Gök Tanrı vardır ve birdir.
- B) Gök Tanrı'nın melekleri vardır.
- C) Dünya hayatından sonra sonsuz bir hayat vardır.
- D) Tanrı yaratan, yaşatan ve koruyandır.

12. Aşağıdakilerden hangisi Türklerin İslam dinini benimsemelerinde etkili olmamıştır?

- A) Müslüman tüccarların dürüstlüğü.
- B) İslam dininin hoşgörü ve sevgi anlayışı.
- C) İslam dininin Türklerin micazına uyması.
- D) Arapların Türkleri Müslümanlığa zorlaması.

13. Türkler arasında İslam anlayışının oluşmasında ve gelişmesinde aşağıdakilerden hangisinin etkisi olmamıştır?

- A) Ebu Hanife
- B) İmam Malik
- C) Hacı Bektaş Veli
- D) Ahmet Yesevi

1. OTURUM

14. • 1207 yılında Belh şehrinde doğmuştur.
• Asıl adı Celaleddin Muhammed'dir.
• Mesnevi adlı eseri vardır.
• 1273 yılında Konya'da vefat etmiştir.

Bu bilgiler aşağıdakilerden hangisine aittir?

- A) Hacı Bektaş Veli
B) Yunus Emre
C) Hacı Bayram Veli
D) Mevlana

15. 1281 yılında Horasan'da doğmuştur. Asıl adı Seyyid Muhammed bin İbrahim Ata'dır. Vaaz ve sohbetleriyle İslam dinini insanlara öğretmeye ve sevdirmeye çalışmıştır. Sohbet meclislerinde kolay anlaşılır, sade bir Türkçeyle "nefes" adı verilen beyitler söylemiştir. Manzum olarak söylediği şiirlerinin toplandığı "Makalat" adlı Arapça bir eseri vardır.

Bu parçada verilen bilgiler aşağıdakilerden hangisine aittir?

- A) Hacı Bayram Veli
B) Yunus Emre
C) Ahmet Yesevi
D) Hacı Bektaş Veli

16. • 767 yılında Gazze'de doğmuştur.
• 820 yılında Mısır'da vefat etmiştir.
• er-Risale ve el-Ümm en meşhur eserleridir.

Bu bilgiler aşağıdakilerden hangisine aittir?

- A) Ebu Hanife B) Şafii
C) Maturidi D) Eşari

17. Aşağıdakilerden hangisi Türk İslam sanatlarından biri değildir?

- A) Heykel B) Minyatür
C) Tezhip D) Hüsnü Hat

18. • Türk tasavvuf edebiyatının en büyük şairlerindedir.
• Hocası Tapduk Emre'dir.
• Şiirlerini Türkçe yazmıştır.
• Divan ve Risalet'ün-Nushiyye adlı eserleri vardır.

Bu bilgiler aşağıdakilerden hangisine aittir?

- A) Hacı Bayram Veli
B) Hacı Bektaş Veli
C) Ahmet Yesevi
D) Yunus Emre

19. Kitap kenarlarını ve satır aralarını altın tozu, çiçek ve nakışlarla süslemek olarak adlandırılan sanat dalı aşağıdakilerden hangisidir?

- A) Hüsnü Hat B) Ebru
C) Tezhip D) Minyatür

20. Nakşî, Levnî ve Nigarî gibi ünlü şahsiyetlerin eserler verdiği sanat dalı aşağıdakilerden hangisidir?

- A) Minyatür B) Hüsnü Hat
C) Tezhip D) Ebru

(115) DİN KÜL. AHL. BİL. – 5

1. "Kim hidayet yolunu seçerse bunu ancak kendi iyiliği için seçmiş olur; kim de doğruluktan ayrılırsa kendisine zarar vermiş olur."
(İsra Suresi, 15. ayet)

Bu ayette vurgulanan ana düşünce aşağıdakilerden hangisidir?

- A) İyiliğin değeri
B) İnsanın sorumluluğu
C) Kadere teslimiyetin önemi
D) Doğruluğun dinimizdeki yeri

2. Bir amaca ulaşmak için gereken bütün tedbirleri aldıktan sonra işin sonucunu Allah'a bırakıp ondan yardım beklemeye ne denir?

- A) Tevekkül B) Kaza
C) Kader D) İrade

3. İnsanın yaptıklarından sorumlu tutulmasının nedeni aşağıdaki-lerden hangisidir?

- A) Güçlü olması
B) Çalışkan olması
C) Akıllı olması
D) Yetenekli olması

4. Aşağıdakilerden hangisi ibadetlerde samimiyet anlayışına uygun düşmez?

- A) Gösteriştan uzak olmak.
B) Allah'ın rızasını gözetmek.
C) Maddi çıkar beklemek.
D) İçtenlikle davranmak.

5. "Ey iman edenler! Allah'a ve ahiret gününe inanmadığı halde malını gösteriş için harcayan kimse gibi, başa kakmak ve incitmek suretiyle, yaptığınız hayırları boşa çıkarmayın..."
(Bakara Suresi, 264. ayet)

Ayette eleştirilen davranış aşağıdakilerden hangisidir?

- A) Haset B) Gıybet
C) İftira D) Riya

6. Aşağıdakilerden hangisi ibadetlere getirilen kolaylıklardan biri değildir?

- A) Ezan için mikrofon kullanılması.
B) Hasta ve yaşlıların namazlarını oturarak kılması.
C) Hasta ve yolcuların Ramazan orucunu ertelemesi.
D) Suyun bulunmadığı durumda teyemmüm abdestinin alınması.

7. Aşağıdakilerden hangisi ibadetlerin bireysel faydalarından biri değildir?

- A) İmanı kuvvetlendirir.
B) Güven duygusunu geliştirir.
C) Sorumluluk bilincini geliştirir.
D) Sosyal yardımlaşmayı teşvik eder.

8. Toplumsal yardımlaşma ve dayanışmaya katkısı diğerlerine göre daha az olan ibadet aşağıdakilerden hangisidir?

- A) Kurban B) Zekat
C) Hac D) Sadaka

1. OTURUM

9. Aşağıdakilerden hangisi peygamberlerin ortak sıfatlarından biri değildir?

- A) Doğru olmak.
- B) Okur - yazar olmak.
- C) Güvenilir olmak.
- D) Günahtan uzak olmak.

10. Peygamberimiz'in gençliğinde Hılfu'l-Fudul (Erdemliler Birliği) topluluğuna katılması onun hangi özelliği ile daha çok ilgidir?

- A) Adaletli olması
- B) Güvenilir olması
- C) Sabırlı olması
- D) Merhametli olması

11. Aşağıdakilerden hangisi örnek bir Müslüman'ın özelliği olamaz?

- A) Akrabalarını ziyaret eder.
- B) Boş ve yararsız işlerden uzak durur.
- C) Ölçü ve tartıda hile yapmaz.
- D) Başkalarının kusurları ile alay eder.

12. Peygamberimiz'e "Emin" sıfatı verilmesinin sebebi aşağıdakilerden hangisidir?

- A) Sabırlı olması
- B) Güvenilir olması
- C) Akıllı ve zeki olması
- D) Günahtan uzak olması

13. • Siffin Savaşı sonucunda ortaya çıkmıştır.

- Hüküm vermek Allah'a aittir
- Ameller, imanın bir parçasıdır.

Verilen bu bilgiler aşağıdaki mezheplerden hangisine aittir?

- A) Caferilik
- B) Şafilik
- C) Haricilik
- D) Maturidilik

14. İslam tarihinde Hz. Muhammed'in vefatından sonra halifelğe Hz. Ali'nin getirilmesinin gerektiğini savunan mezhep aşağıdakilerden hangisidir?

- A) Mürcie
- B) Mutezile
- C) Şia
- D) Eşarilik

15. "İnsan kendi eylemlerinde tamamen özgürdür. Fiillerin yaratılmasında Allah'ın bir müdahalesi yoktur. Eğer insanın fiillerinin yaratıcısı Allah olsaydı, o zaman Allah'ın insanları cezalandırması anlamsız olurdu."

Bu düşünce mutezile mezhebini temel görüşlerinden hangisini ifade etmektedir?

- A) Tevhit
- B) Adalet
- C) El-Va'd ve'l-void
- D) El-Menziletü beyne'l-menzileteyn

16. • Mutezile mezhebine bir tepki olarak doğmuştur.
• İslam dininin inançla ilgili konularını Kur'an ve Sünnet temelinde akılla yorumlayarak açıklamıştır.
• İyi - kötü akılla değil vahiyle bilinir.

Verilen bu bilgiler aşağıdaki mezheplerden hangisine aittir?

- A) Eşarilik
- B) Hanbelilik
- C) Maturidilik
- D) Haricilik

17. Aşağıdakilerden hangisi tevekül anlayışı kapsamında değerlendirilemez?

- A) Çiftçinin tarlayı sürüp ekmesi.
- B) Öğrencinin hazırlanıp sınava girmesi.
- C) Hastanın ilacını kullanması.
- D) Namaz kılanın abdest alması.

18. Aşağıdakilerden hangisi İslam düşüncesinde ortaya çıkan yorum farklılıklarının sonuçlarından biri değildir?

- A) Düşünce zenginliği getirmiştir.
- B) Ekonomik rahatlık sağlamıştır.
- C) Tasavvufi oluşumları ortaya çıkarmıştır.
- D) Dini hayatta kolaylık sağlamıştır.

19. Aşağıdakilerden hangisi İslam düşüncesinde ortaya çıkan fıkhi mezheplerden biridir?

- A) Haricilik
- B) Şifilik
- C) Şafilik
- D) Eşarilik

20. Aşağıdakilerden hangisi İslam düşüncesindeki yorumların birleştiği temel konulardan biri değildir?

- A) Tevhit
- B) Nübüvvet
- C) Kur'an-ı Kerim
- D) Örf ve Adetler

(121) FELSEFE – 1

1. I. İnsanın pratik ihtiyaçlarını karşılama düşüncesinin ürünüdür.
II. Aynı konuda farklı sonuçlar ortaya konulabilen bir bilgidir.
III. Yaşamın anlamını sorgulayan bir bilgidir.
IV. Düzenli ve sistemli bir bilgidir.

Yukarıda verilen özelliklerden hangileri felsefi bilgiye aittir?

- A) I, II ve III
- B) II, III ve IV
- C) I, II ve IV
- D) I, II, III ve IV

2. Bilgiyi konu alan felsefe dalı aşağıdakilerden hangisidir?

- A) Epistemoloji
- B) Ontoloji
- C) Estetik
- D) Etik

3. • Yaratıcı insan aklının ürünüdür.
• Öznel ve özgün ürünler ortaya koyar.
• Objelere ilişkin doğru bilgiler vermesi zorunlu değildir.

Yukarıda özellikleri belirtilen bilgi çeşidi aşağıdakilerden hangisidir?

- A) Gündelik bilgi
- B) Dini bilgi
- C) Sanat bilgisi
- D) Felsefi bilgi

4. Felsefe ile sanatın ortak özellikleri ile ilgili aşağıdaki ifadelerden hangisi yanlıştır?

- A) Her ikisi de doğayı ve insanı konu edinirler.
- B) Her ikisinde de yaratıcılık söz konusudur.
- C) Yöneldikleri varlığı yansıtır ve onu yorumlarlar.
- D) Felsefe de sanat da doğruya ulaşmayı amaç edinir.

1. OTURUM

5. Aşağıdakilerden hangisi bilgi kuramının temel soruları arasında gösterilemez?
- A) Doğru bilginin ölçütü nedir?
B) Gerçekte var olan nedir?
C) Doğru bilgiye ulaşmak mümkün müdür?
D) İnsan varlığı ve nesnelere gerçekten bilebilir mi?
6. İnsan her şeyin ölçüsüdür. Herhangi bir konuda genel geçer bir yargıda bulunamayız. Herkesin üzerinde uzlaşabileceği doğru ya da yanlış hiçbir şey yoktur.
- Protagoras'ın bu görüşlerinden aşağıdakilerden hangisi çıkarılamaz?
- A) Doğru, kişiden kişiye değişir.
B) Her şeyden kuşku duymak gerekir.
C) Doğru bilgiye ulaşmak mümkündür.
D) Herkes için geçerli mutlak doğrular yoktur.
7. Aşağıdakilerden hangisi doğru bilgiye akıl yoluyla ulaşabileceğini savunan rasyonalist düşünürlerden biridir?
- A) Protagoras B) John Dewey
C) David Hume D) Hegel
8. Kant'a göre bilgilerimizin iki kaynağı vardır. Bunlar akıl ve deneydir. Deney dış dünyaya ilişkin bilgilerimizin ham maddesini, içeriğini verir. Akıl ise bu ham maddeyi düzenler, belli bir kalıba sokar. Kavramlar, deneyden gelen malzeme olmaksızın boş, deneyden gelen ham madde ise kavramlar olmaksızın kördür.
- Kant'ın bu görüşü dikkate alınarak aşağıdaki yargılardan hangisine ulaşılabilir?
- A) Akıl yoluyla doğru bilgiye ulaşılabilir.
B) Deney tek başına doğru bilgiye ulaştırma gücüne sahip bir araçtır.
C) Deney verilerinin akıl ile işlenmesiyle doğru bilgiye ulaşılabilir.
D) Duyumlar ve deney doğru bilgiye ulaşmada yeterlidir.
9. Aşağıdakilerden hangisi "Pozitivizm" akımının savunduğu görüşlerden birisi olamaz?
- A) Dış dünyayı sadece duyu deneyi yoluyla bilebiliriz.
B) Doğa olaylarının doğa üstü güçlerle bir ilgisi yoktur.
C) Düşünce teolojik ve metafizik öğelerden arındırılmalıdır.
D) Bilgilerimizin doğruluğunun ölçütü bireye sağladığı faydadır.
10. Aşağıdakilerden hangisi rasyonalizm ile emprizmin ortak yönüdür?
- A) Doğru bilgiye ulaşılabilirliğini kabul etmeleri
B) Doğuştan getirilen bilgilerin varlığını reddetmeleri
C) Doğru bilgiye sadece akıl yoluyla ulaşılabilirliğini söylemeleri
D) Bilgilerimizin doğuştan zihnimizde bulunduğunu kabul etmeleri
11. Bilgilerimizin kaynağının yalnızca deney olduğu görüşünde olan düşünürler hangisinde birlikte verilmiştir?
- A) Protagoras-Gorgias
B) John Locke - David Hume
C) Immanuel Kant - John Locke
D) Friedrich Hegel - Immanuel Kant
12. XIX. yüzyıl bilimin sanayi alanına uygulandığı bir dönem olmuştur. Teknolojinin gelişmesi bilimsel araştırmalarda yeni ufuklar açmıştır. Fizikte ışığın yayılması ve dalga kuramı; kimyada atomla ilgili çalışmalar, enerjinin korunumu yasası ve termodinamik yasası gibi gelişmeler sayılabilir. Bu dönem aynı zamanda bilimlerin felsefeden ayrılma sürecinin tamamlandığı bir dönem olmuştur.
- Buna göre XIX. yüzyıl bilimi ile ilgili olarak aşağıdakilerden hangisi söylenemez?
- A) Yeni bilim dallarının ortaya çıktığı bir dönemdir.
B) Bilim alanındaki buluşların yoğun olduğu bir dönem olmuştur.
C) Bilimsel çalışmalar felsefenin içinde yapılmaya devam etmiştir.
D) Bilimsel alandaki gelişmelerin sanayi alanına uygulanmaya başlandığı bir dönemdir.
13. İlkçağlarda tüm bilimlere kapsayan disiplin aşağıdakilerden hangisidir?
- A) Matematik B) Felsefe
C) Mantık D) Fizik
14. • Bilim insanları topluluğu, içinde yaşadıkları toplumun değer sisteminden bağımsız bilim üretemezler.
• Paradigma kavramını bilim felsefesi literatürüne kazandırmıştır.
• Bilimi, bilim insanları topluluğunun bir etkinliği olarak değerlendirir.
- Yukarıda düşüncelerinden bazıları verilen düşünür hangisidir?
- A) Thomas Kuhn
B) Edmund Husserl
C) Rudolf Carnap
D) Carl Gustav Hempel
15. Bilimin ürünü olan bilgi, onu ortaya koyan bilim insanının inançlarından, kişisel kanaatlerinden, dünya görüşünden bağımsız bir bilgidir. Bilimsel bilgi kişiden kişiye ya da toplumdan topluma değişmez.
- Yukarıda bilimsel bilginin hangi özelliği anlatılmaktadır?
- A) Olgusalılığı B) Rölatifliği
C) Eleştiriciliği D) Objektifliği
16. Bilim ve teknoloji yalnızca olumlu, yaşamı kolaylaştıran sonuçlar üretmez. İnternet ve cep telefonları bir yandan iletişimi kolaylaştırırken bir yandan da bağımlı bireyler meydana getirmekte, sosyalleşmeyi sanal ortamlarda yaşayan sorunlu bireyler yaratmaktadır. Bilim, olumlu ve yapıcı bir biçimde kullanıldığı zaman da olumsuz sonuçlar doğurduğu zaman da yaşamı doğrudan etkilemektedir.
- Yukarıda bilim ve teknolojinin hangi özelliği vurgulanmaktadır?
- A) Bilim ve teknoloji ürünlerinin hep insanlığın yararına olduğu
B) Bilim ve teknolojinin insanı ve insan ilişkilerini tahrip edici bir yanının da olduğu
C) Teknolojiyi kullanmayanların daha sağlıklı sosyalleştikleri
D) Teknolojik aygıtları kullanmanın gereksizliği

1. OTURUM

(123) SEÇMELİ FELSEFE – 1

17. Aşağıdakilerden hangisi varlık felsefesinin sorularından biri değildir?

- A) Varlığın kökeni nedir?
- B) Evrende bir düzen var mıdır?
- C) Varlık bir midir, çok mudur?
- D) Doğru bilgiye ulaşmak mümkün müdür?

18. Varlığı idea olarak kabul eden düşünürler aşağıdakilerin hangisinde birlikte verilmiştir?

- A) Herakleitos – Platon
- B) T. Hobbes – K. Marx
- C) Aristoteles – Farabi
- D) Hegel – Demokritos

19. • İki çeşit varlık vardır; mümkün varlık ve zorunlu varlık(Vacibü'l Vücut)
• Mümkün varlıklar varoluşlarını ilk varlık olan Tanrı'dan alırlar.
• Zorunlu varlık ise bir ve gerçek olan Tanrıdır. Tanrı var olmak için bir başka varlığa ihtiyaç duymaz.

Yukarıdaki görüşler hangi düşünürü aittir?

- A) Farabi
- B) Descartes
- C) Sokrates
- D) Demokritos

20. Aşağıdakilerden hangisi Platon'un varlık konusundaki görüşlerindedir?

- A) Her şey sürekli değişim ve dönüşüm içerisindedir.
- B) Gerçekte var olan varlıklar idealardır. Nesnel dünyasındaki varlıklar ise ideaların kopyasıdır.
- C) Gerçekte var olan idea yani formdur. Form ise bir şeyi her ne ise o şey yapan özdür.
- D) Varlık insan zihninden bağımsız olarak vardır. Maddî varlık dışında bir varlık yoktur.

1. Felsefenin incelediği ana konular aşağıdakilerden hangisinde doğru olarak verilmiştir?

- A) Bilgi felsefesi- Varlık felsefesi- Analitik felsefe
- B) Değer felsefesi- Tarih felsefesi- Varlık felsefesi
- C) Varlık felsefesi- Bilgi felsefesi- Değer felsefesi
- D) Siyaset felsefesi- Analitik felsefe- Varlık felsefesi

2. Aşağıdakilerden hangisi Aristoteles'in "ilk felsefe" adını verdiği metafiziğin ele aldığı problemlerden değildir?

- A) Ontolojik problemler
- B) Kozmolojik problemler
- C) Meşruiyetin ölçütü problemi
- D) Tanrı ve ruhla ilgili problemler

3. İnsanı ilgilendiren her şey felsefenin konusu olabilir. Felsefe geneli kucaklar, varlığı bir bütün olarak ele alır, belli bir insanı değil kendi özü ve yapısı içinde düşünülen insanı anlamaya çalışır, her zaman ve her yerde var olan değerleri temellendirmeye çalışır.

Yukarıda verilen açıklamada felsefenin hangi özelliği anlatılmaktadır?

- A) Evrensel olması
- B) Nesnel olması
- C) Yığılan bir bilgi olması
- D) Sistemli bir bilgi olması

4. Bilen özne ile bilinen nesne arasında kurulan bağ sonucunda ortaya çıkan ürün aşağıdakilerden hangisidir?

- A) Düşünme
- B) Obje
- C) Suje
- D) Bilgi

5. Bilgi türlerinin özellikleri ile ilgili olarak aşağıda verilenlerden hangisi yanlıştır?

Bilgi türü	Özne ile nesne arasındaki bağ	Öznellik Nesnelik
A) Dinsel bilgi	İnanç	Öznel
B) Sanat bilgisi	Hayal gücü	Nesnel
C) Bilimsel bilgi	Deney ve gözlem	Nesnel
D) Felsefi bilgi	Akıl yürütme	Öznel

6. Aşağıdakilerden hangisi bilgi kuramının temel kavramlarından değildir?

- A) Gerçeklik
- B) Hakikat
- C) Etik
- D) Obje

7. • Herkesin kabul etmesi gereken doğrular yoktur.
• İnsanı her şeyin ölçüsü olarak kabul etmişlerdir.
• İnsanlara para karşılığında güzel ve etkili konuşma dersleri vermişlerdir.

Yukarıda bazı özellikleri belirtilen Eski Yunan'da yaşamış olan düşünürler hangi isimle anılırlardı?

- A) Realistler
- B) Pragmatistler
- C) Stoacılar
- D) Sofistler

8. Aşağıdaki ifadelerden hangisi rasyonalist bir filozofun savunduğu düşüncelerden olamaz?

- A) Duyuların verdiği bilgi de akıl yoluyla elde edilen bilgi kadar önemlidir.
- B) Aklimız doğuştan birtakım ilkel ve yetilerle donatılmıştır.
- C) Akıl ve mantık süzgecinden geçmemiş bilgilere güvenilmez.
- D) Matematik ve mantığın bilgileri herkes için doğru bilgilerdir.

1. OTURUM

9. Gerçeklik ve doğruluk insanın bakış açısından, kanaatlerinden, dolayısıyla da eylemlerinden bağımsız değildir. Bundan dolayı gerçeklik, doğruluk ve insan eylemlerinin sonuçları, sağladığı başarı ve yararlarla değerlendirilir.
- Yukarıdaki görüş hangi felsefi akıma aittir?
- A) Septisizm B) Pozitivizm
C) Kritisizm D) Pragmatizm
10. Auguste Comte'un "üç hal yasası"nın evrelerinden pozitif düşünce döneminde, insanlar olayları, aşağıdakilerden hangisiyle açıklamaya çalışmışlardır?
- A) Soyut kavramlarla
B) Doğaüstü gizli güçlerle
C) Doğa yasaları ya da bilimle
D) Tanrıya ya da kutsal sayılan varlıklarla
11. I. Asıl gerçeklik idealar olduğundan doğru bilgi ideaların bilgisidir. Nesnelere dünyası idealar dünyasının bir gölgesidir.
II. İdealar nesnelere dışında, zaman ve uzayın ötesinde değil varlıkların içinde bulunan "öz"lerdir.
III. İnsan aklında doğuştan getirdiği bazı temel kalıplar (kategoriler) vardır. Bu kalıplar sayesinde insan bilgiyi biçimlendirir, genel kavramlar biçiminde ortaya koyar.
- Yukarıda verilenlerden hangileri Aristoteles'in görüşlerindedir?
- A) I ve II B) II ve III
C) I ve III D) I, II ve III
12. Aşağıdakilerden hangisi bilim felsefesinin incelediği konulardan değildir?
- A) Bilimsel kuramlarla gerçeklik arasındaki ilişkiyi incelemek
B) Bilimsel düşünüş biçimini felsefeye uyarlamak
C) Bilimin yapısını ve doğasını incelemek
D) Bilimde yöntem problemini incelemek
13. Ortaçağda bilimsel çalışmalarla ilgili olarak aşağıda verilen bilgilerden hangisi yanlıştır?
- A) Avrupa karanlık bir dönem yaşarken İslam kültür çevresinde bilim alanında tam bir aydınlık dönem yaşanıyordu.
B) Yalnızca dinsel düşünce ön plana çıkmış, bilim ve felsefe dinsel otoritenin izin verdiği kadar gelişebilmiştir.
C) Bu dönemde filozoflar yoğun olarak mantık tartışmaları yapmışlardır.
D) Bu dönemde bilimin Hristiyanlığın etkisinden kurtulduğu görülür.
14. Bilimi, ürün olarak anlamaya çalışan Mantıkçı pozitivistler olarak da bilinen yaklaşımın temsilcileri hangisinde birlikte verilmiştir?
- A) H. Reichenbach – R. Carnap
B) H. Reichenbach – S. Toulmin
C) T. Kuhn – C. G. Hempel
D) T. Kuhn – S. Toulmin
15. Bilimi bilim insanları topluluğunun bir etkinliği olarak gören bu yaklaşıma göre bilim, yapıldığı dönemin değerlerinden, inançlarından bağımsız değildir. Bilim insanları bulunduğu toplum ve çağın inanç, değer ve kültürel değişimlerinden etkilenmektedirler.
- Yukarıdaki metinde bilimi etkinlik olarak kabul edenlerin hangi özelliği vurgulanmaktadır?
- A) Bilim insanları çalışmalarında objektif olmak zorundadırlar.
B) Bilim insanları bilimsel çalışmalarında ortak hareket etmelidirler.
C) Bilim insanı yaşadığı toplumun değerlerinden bağımsız bilim üretemez.
D) Bilim insanı kendisinden önceki bilim adamlarının birikimlerinden yararlanmalıdır.
16. Aşağıdakilerden hangisi bilimsel yöntemin aşamalarından değildir?
- A) Gözlem yapma
B) Hipotez oluşturma
C) Teori geliştirme
D) Olması gerekene ulaşma
17. Varlığı bir bütün olarak ele alıp açıklamaya çalışan disiplinler aşağıdakilerin hangisinde birlikte verilmiştir?
- A) Metafizik - Fizik
B) Ontoloji – Metafizik
C) Epistemoloji – Ontoloji
D) Matematik – Fizik
18. • Bilgi felsefesinde her tür bilginin bir aldanma olduğunu, bilginin olmadığını
• Ahlak felsefesinde insan eylemlerini belirleyen değerlerin olmadığını
• Varlık felsefesinde hiçbir şeyin var olmadığını savunan felsefi öğretisi hangisidir?
- A) İdealizm B) Realizm
C) Nihilizm D) Kritisizm
19. Varlığın hem madde hem de düşüncenin ürünü olduğunu savunan düşünür aşağıdakilerden hangisidir?
- A) Descartes B) Herakleitos
C) Demokritos D) Hegel
20. Herakleitos'a göre "iki kez yıkanamazsınız aynı ırmakta, üzerinde akan sular şimdi yeni sulardır. Gerçekte akıp giden sular her seferinde onu başka bir ırmak yapmaktadır."
- Bu durum varlığın ne olduğu sorusuna cevap veren hangi görüşe örnek olur?
- A) Varlığı madde olarak kabul eden görüşe
B) Varlığı oluş olarak kabul eden görüşe
C) Varlığı idea olarak kabul eden görüşe
D) Varlığı fenomen olarak kabul eden görüşe

1. OTURUM

(132) TARİH – 2

1. İslâmiyet'in doğuşu sırasında Avrupa'da egemen olan din, aşağıdakilerden hangisidir?

- A) Zerdüştlük B) Hristiyanlık
C) Haniflik D) Musevilik

2. Aşağıdaki imparatorluklardan hangisi, 375 Kavimler Göçü sırasında Doğu - Batı olmak üzere ikiye ayrılmıştır?

- A) Roma B) Pers
C) İskender D) Çin

3. Cahiliye Dönemi'nde Arabistan'da konuşma ve yazı dili olarak aşağıdakilerden hangisi kullanılmıştır?

- A) Farsça B) Türkçe
C) İngilizce D) Arapça

4. Hz. Muhammed'in süt annesi aşağıdakilerden hangisidir?

- A) Meryem
B) Amine
C) Ümmü Eymen
D) Halime

5. Hz. Muhammed'e Nur Dağı'nda ilk vahyin geldiği mağara, aşağıdakilerden hangisidir?

- A) Sevr B) Beldibi
C) Hira D) Karain

6. Aşağıdakilerden hangisi Müslümanların, Mekke müşriklerine karşı kazandığı ilk askerî başarıdır?

- A) Hendek B) Bedir
C) Mute D) Tebük

7. 632 yılında vefat eden Hz. Muhammed'in kabri, aşağıdaki şehirlerden hangisindedir?

- A) Mekke B) Taif
C) Medine D) Riyad

8. Aşağıdakilerden hangisi Allah'ın birliğini, sıfatlarını, peygamberlik ve ahiretle ilgili konuları akıl ve mantık yoluyla ispat eden bilim dalıdır?

- A) Kelam B) Tefsir
C) Hadis D) Fıkıh

9. Aşağıdakilerden hangileri Büyük Selçuklu Devleti'nin kurucuları olarak kabul edilirler?

- A) İstemi Kağan - Bumin Kağan
B) Bilge Kağan - Kültigin
C) Osman Bey - Orhan Bey
D) Çağrı Bey - Tuğrul Bey

10. 1071 Malazgirt Savaşı'nda Büyük Selçuklu Devleti, aşağıdaki devletlerden hangisiyle mücadele etmiştir?

- A) Karahanlılar
B) Harzemşahlr
C) Bizans
D) Abbasiler

11. Türk - İslam devletlerinde gelirleri hayır kurumlarına aktarılan topraklar, aşağıdakilerden hangisidir?

- A) İktâ B) Vakıf
C) Has D) Mülk

12. Dünyada ilk üniversite olarak kabul edilen Nizamiye Medresesi, aşağıdaki şehirlerden hangisinde yapılmıştır?

- A) Tahran B) Bağdat
C) İstanbul D) Bakü

13. Aşağıdakilerden hangisi Büyük Selçuklu hükümdarlarından biri değildir?

- A) Yıldırım Bayezit
B) Alparslan
C) Melikşah
D) Sencer

14. Gazne Devleti'ne en güçlü dönemini yaşatan hükümdar, aşağıdakilerden hangisidir?

- A) Sebük Tigin B) Mesut
C) İsmail D) Mahmut

15. Aşağıdakilerden hangisi çöllerde yaşayan Araplara verilen isimdir?

- A) Hanif B) Medeni
C) Bedevi D) Ensar

16. "Allah'ın Arslanı" ve "Haydar'ı Kerrar" unvanları ile anılan sahabe, aşağıdakilerden hangisidir?

- A) Hz. Ömer B) Hz Osman
C) Hz. Ali D) Hz. Talha

17. Malazgirt Zaferi sonrasında Erzincan ve çevresinde kurulan Türk devleti, aşağıdakilerden hangisidir?

- A) Mengücekliler
B) Eretna
C) Danişmentliler
D) Saltuklular

18. Türkiye Selçuklu Devleti'nde Venedikliler ile ilk ticaret antlaşması yapan hükümdar, aşağıdakilerden hangisidir?

- A) II. Kılıç Arslan
B) I. Gıyaseddin Keyhüsrev
C) I. Alâeddin Keykubad
D) I. İzzeddin Keykavus

19. Türkiye Selçuklu Devleti'nde donanma komutanına "Melikü's Sevahil" veya "....." denilirdi.

Verilen cümlede boş bırakılan yere, aşağıdakilerden hangisi gelmelidir?

- A) "Mutasavvıf"
B) "Emir-i dad"
C) "Kadil-kudat"
D) "Reisü'l Bahr"

20. • Güçlü ve üstün durumda iken affetmek

- Kızgın iken yumuşak davranmak
• Düşmana iyilik etmek
• Kendisi muhtaç iken bile başkasına vermek

gibi 4 temel prensibe sahip esnaf teşkilatı, aşağıdakilerden hangisidir?

- A) Atabeylik B) Sipahiler
C) Ahilik D) Darül hikme

1. OTURUM

(136) TARİH – 6

1. İslamiyetten önce Arap Yarımadası ve daha birçok yerde insani, ahlaki ve dinî değerlerin kaybolduğu dönemi ifade etmek için aşağıdaki kavramlardan hangisi kullanılmaktadır?

- A) Fetret B) Hicret
C) Cahiliye D) Fütüvvet

2. Hicret sonrası ilk İslam devleti, aşağıdaki şehirlerin hangisinde kurulmuştur?

- A) Medine B) Mekke
C) Taif D) Hayber

3. Hz. Muhammed İslamiyeti;

- I- Mekke halkına
II- Yakın akrabalarına
III- En yakınındakilerine

tebliğe başlamıştır.

Yukarıda karışık olarak verilen olayların doğru sıralaması, aşağıdakilerin hangisinde verilmiştir?

- A) I - II - III B) II - III - I
C) I - III - II D) III - II - I

4. Hz. Muhammed'in 632 yılında vefatı sonrasında aşağıdakilerden hangileri sırasıyla halife seçilmişlerdir?

- A) Hz. Ebubekir, Hz. Ali, Hz. Osman, Hz. Ömer
B) Hz. Osman, Hz. Ömer, Hz. Ali, Hz. Ebubekir
C) Hz. Ebubekir, Hz. Osman, Hz. Ömer, Hz. Ali
D) Hz. Ebubekir, Hz. Ömer, Hz. Osman, Hz. Ali

5. İslam dininin getirmiş olduğu adalet ve eşitlik anlayışı aşağıdakilerden hangisine yol açmıştır?

- A) İslam devletlerinin büyük ve güçlü ordulara sahip olmasına
B) İslam dininin hızla geniş coğrafyalara yayılmasına
C) İslam devletlerinin ekonomisinin gelişmesine
D) Kur'an-ı Kerim'in Arapça yazılmasına

6. Türklerin İslamiyet'i kabul etmelerinde;

- I- Tek tanrı inancı
II- Cennet ve cehennem inancının olması
III- Emevilerin çok güçlü bir orduya sahip olması
IV- Temizliğe önem verilmesi
V- Güçlü bir ekonomiye sahip olmaları

faktörlerinden hangileri etkili olmamıştır?

- A) I, II ve III B) III ve V
C) II, IV ve V D) I, III ve V

7. Abbasiler Dönemi'nde Türkler özellikle teşkilatı içerisinde yer aldılar.

Verilen cümlede boş bırakılan yere, aşağıdakilerden hangisi getirilmelidir?

- A) Ekonomik B) İdari
C) Ordu D) Adli

8. Aşağıdaki devletlerden hangisinin yöneticileri Türk olup; yönetilen halkı farklı bir millete mensuptur?

- A) Tolunoğulları
B) Karahanlılar
C) Türkiye Selçukluları
D) Harzemşahlar

9. Orta Asya'da kurulan ilk Müslüman Türk devleti aşağıdakilerden hangisidir?

- A) Büyük Selçuklular
B) Karahanlılar
C) Gazneliler
D) Harzemşahlar

10. Gazne Devleti adını, aşağıdakilerin hangisinden alır?

- A) Kurucusunun isminden
B) Kurulduğu bölgeden
C) Kurucusunun geldiği sülaleden
D) Kurulduğu şehirden

11. • Türk tarihinde ilk defa sultan unvanını kullanmıştır.
• Hindistan'a 17 sefer yaparak İslamiyetin yayılmasını sağlamıştır.
• Gazne Devleti'ne en parlak zamanını yaşattır.

Yukarıda özellikleri verilen Türk hükümdarı aşağıdakilerden hangisidir?

- A) Gazneli Mahmut
B) Sebük Tegin
C) Alp Tegin
D) İbrahim

12. Büyük Selçuklu Devleti, Dandanakan Savaşı'nda aşağıdaki hangi devleti yenerek; resmen kurulmuştur?

- A) Karahanlılar
B) Samanoğulları
C) Gazneliler
D) Karahitaylar

13. Türk-İslam devletlerindeki göçebelerin temel geçim kaynağı, aşağıdakilerden hangisidir?

- A) Tarım B) Hayvancılık
C) Ticaret D) Balıkçılık

14. Büyük Selçuklu Devleti'nde, hükümdar çocukları olan şehzadeleri eğitmekle görevli kişilere ne ad verilir?

- A) Lala B) Hacıp
C) Atabey D) Naip

15. Aşağıdaki Türk-İslam devletlerinden hangisi Orta Asya'da kurulmamıştır?

- A) Gazneliler
B) Harzemşahlar
C) Karahanlılar
D) Tolunoğulları

1. OTURUM

(151) COĞRAFYA – 1

16. Büyük Selçuklu Devleti'nde uygulanan ikta sistemi sayesinde;

- I- Büyük ve disiplinli bir ordunun kurulması,
- II- Ülkenin eğitim seviyesinin yükseltilmesi,
- III- Devletin masraflarının azalması,
- IV- Ülkenin huzur ve güvenliğinin sağlanması,
- V- Ülkenin turizm potansiyelinin artması

gibi faktörlerden hangileri sağlanmıştır?

- A) I ve II B) I, III ve IV
C) I, II ve V D) II, III, IV ve V

17. Aşağıdakilerden hangisi Karahanlılar Dönemi'nde yaşayan Türk bilginlerinden biri değildir?

- A) Firdevsi
B) Yusuf Hâs Hâcîp
C) Kaşgarlı Mahmut
D) Edip Ahmet Yükneki

18. Dünyanın ilk üniversitesi olarak kabul edilen Medresesi, 1066 tarihinde Bağdat'ta Nizamülmülk tarafından kurulmuştur.

Verilen cümlede boş bırakılan yere aşağıdakilerden hangisi gelmelidir?

- A) Sahnı Seman
B) Fatih
C) Yağıbasan
D) Nizamiye

19. Kudüs'ü fethederek III. Haçlı Seferi'nin başlamasına yol açan ünlü Türk komutanı, aşağıdakilerden hangisidir?

- A) Çağrı Bey
B) Selahaddin Eyyubi
C) Celaleddin Harzemşah
D) Satuk Buğra Han

20. Mercidabık ve Ridaniye savaşlarını kazanarak Memluk Devleti'ne son veren Osmanlı padişahı, aşağıdakilerden hangisidir?

- A) Yavuz Sultan Selim
B) Kanuni Sultan Süleyman
C) Fatih Sultan Mehmet
D) II. Abdülhamit

1. Atmosferde meydana gelen doğa olaylarını inceleyen bilim dalı aşağıdakilerden hangisidir?

- A) Biyocoğrafya B) Hidroğrafya
C) Jemorfoloji D) Klimatoloji

2. Aşağıdakilerden hangisinin her haritada bulunması zorunludur?

- A) Ölçek B) İzohipsler
C) İdari sınırlar D) Nüfus dağılışı

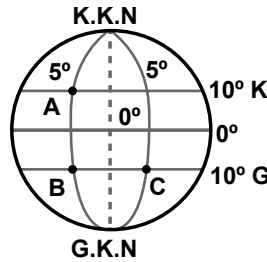
3. İsteddiğimiz kadar paralel çemberi çizebilecek iken paralellerin 180 tane olmasının sebebi nedir?

- A) Dünyanın geoit şekli
B) Ekvatora paralel uzanmaları
C) Birer derece açıyla çizilmeleri
D) Kutuplarda nokta halini alması

4. Haritalarda Dünya'nın şeklinden dolayı oluşan bozulmaları en aza indirmek için kullanılan yöntemlere ne ad verilir?

- A) Lejant B) Projeksiyon
C) Ölçek D) İzohips

5.



Şekilde gösterilen A, B, C noktaları için aşağıdakilerden hangisi söylenemez?

- A) C Doğu Yarım Küre'dedir.
B) A ile B'nin yerel saatleri aynıdır.
C) A ile B arası kuşuçu mu uzaklık 1110 km'dir.
D) B ile C başlangıç meridyenine eşit uzaklıktadır.

6. Renklendirme yöntemiyle hazırlanmış bir haritada renkler doğrudan neyi ifade etmektedir?

- A) Bitki örtüsünü
B) Yer şekillerini
C) Eğim değerlerini
D) Yükselti basamaklarını

7. Aşağıdakilerden hangisi Dünya'nın şeklinin küre değil de geoit olduğunu kanıtlar?

- A) Paralellerin boyları
B) Yerçekiminin değişmesi
C) Çizgisel hızın değişmesi
D) Güneş ışınlarının geliş açısı

8. Ekvatordan kutuplara doğru gidildikçe sıcaklığın azalması aşağıdakilerden hangisinin sonucudur?

- A) Dünya'nın şeklinin
B) Dünya'nın dönüş hızının
C) Dünya'nın hareketlerinin
D) Yörüngenin elips olmasının

9. Dünya'nın, kendi eksenini etrafındaki dönüşünü şimdikiinden 2 kat daha hızlı tamamladığı düşünülürse aşağıdaki ifadelerden hangisi doğru olur?

- A) Yerçekimi kuvveti artardı.
B) Ekvatorial kuşak genişlerdi.
C) Ortalama sıcaklık değerleri azalır.
D) 1 gün 24 saatten daha kısa olurdu.

10. İklim olayları atmosferin hangi katmanında meydana gelir?

- A) Strotosfer B) Troposfer
C) Mezosfer D) Termosfer

11. Aşağıdakilerden hangisinin sıcaklık üzerinde bir etkisi yoktur?

- A) Enlem B) Basınç
C) Yükselti D) Bakı

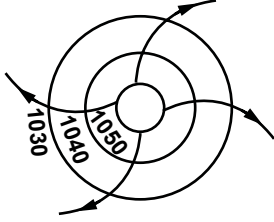
1. OTURUM

(155) COĞRAFYA – 5

12. Aşağıdakilerden hangisi atmosferin yerden yansıyan ışınlarla ısındığının kanıtıdır?

- A) Gazların %78'inin azot olması
- B) Zararlı ışınların dünyaya ulaşmasını engellemesi
- C) Atmosferde yükseldikçe sıcaklığın azalması
- D) Farklı özellikte katmanlardan oluşması

13.



Hava hareketleri şekilde gösterilen bir yer için aşağıdakilerden hangisi söylenemez?

- A) Kuzey Yarım Küre'dedir.
- B) Basınç değerleri yüksektir.
- C) Yağış oluşma ihtimali yüksektir.
- D) Alçalıcı hava hareketleri görülür.

14.

	Mutlak nem gr/cm ³	Maksimum nem gr/cm ³
I	20	30,4
II	21	28,0
III	24	32,6
IV	25	28,4

Tabloda mutlak ve maksimum nem değerleri verilen dört ayrı hava kütesinden hangisinin bağıl nemi daha yüksektir?

- A) I B) II C) III D) IV

15. • Yıllık ortalama sıcaklık 15-20 °C'dir.
• Yağışların %85'i yaz aylarında düşer.
• Güneydoğu Asya'da etkilidir.

Yukarıda bahsedilen iklim tipi aşağıdakilerden hangisidir?

- A) Çöl iklimi
- B) Muson iklimi
- C) Karasal iklim
- D) Akdeniz iklimi

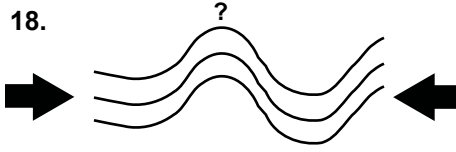
16. Yer kabuğu birbirini tamamlayan dev parçalardan oluşmuştur. Bu parçaların her birine ne ad verilir?

- A) Levha B) Sima
- C) Sial D) Manto

17. İç kuvvetlerin oluşmasına neden olan güç aşağıdakilerden hangisidir?

- A) Depremler
- B) Volkanizma
- C) Tektonik hareketler
- D) Konveksiyonel akıntılar

18.



Tabakaların yan basınçlar sonucu sıkışarak kıvrılmasıyla oluşmuş kubbemsi yapılara ne denir?

- A) Antiklinal B) Horst
- C) Graben D) Senklinal

19. Aşağıdakilerden hangisi karstik birikim şekillerinden biridir?

- A) Lapyta B) Dolin
- C) Sütun D) Uvala

20. Aşağıdaki yerçekillerinden hangisi buzullar tarafından oluşturulmuştur?

- A) Tafoni
- B) Düden
- C) Menderes
- D) Sander düzlüğü

1. Aşağıda verilen biyomlardan hangisinde biyoçeşitlilik daha zengindir?

- A) Dağ biyomu
- B) Tundra biyomu
- C) İğne yapraklı ormanlar
- D) Tropikal yağmur ormanları

2. I- Göç etme

II- Yeni ortama uyum sağlama
III- Canlı neslinin yok olması

Coğrafi şartların değişmesi canlılar üzerinde yukarıdakilerden hangilerine neden olur?

- A) I ve II B) II ve III
- C) I ve III D) I, II ve III

3. Atmosfere oksijen sağlayan en önemli kaynak aşağıdakilerden hangisidir?

- A) Elektrik deşarjları
- B) Volkanik faaliyetler
- C) Bitkilerin fotosentezi
- D) Besinlerin oksidasyonu

4. Ekosistemlerde üretici konumunda olan canlı türü aşağıdakilerden hangisidir?

- A) Bitkiler B) Otçullar
- C) Etçiller D) Ayrıştırıcılar

5. Bitki ve hayvan türleri okyanuslarda genellikle 100 m. derinliğe kadar olan kısımda yaşar. Bu durumun sebebi nedir?

- A) Tuz oranının fazla olması
- B) Yoğunluğun daha az olması
- C) Güneş ışınlarının buraya kadar ulaşabilmesi
- D) Suyun bu katmanda daha hareketli olması

1. OTURUM

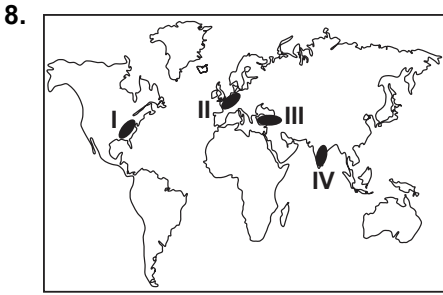
6. I- Evlenme yaşının düşürülmesi
II- Kadınların çalışma hayatına girmesi
III- Doğum kontrolü ile ilgili eğitimlerin yaygınlaştırılması

Yukarıdaki uygulamalardan hangileri nüfus artış hızını artırır?

- A) Yalnız I B) Yalnız III
C) I ve II D) II ve III

7. I- Üretimin artması
II- Tasarrufların azalması
III- İş gücü ihtiyacının azalması
- Yukarıdakilerden hangileri nüfus artış hızının yükselmesinin olumlu sonucudur?

- A) Yalnız I B) I ve II
C) I ve III D) II ve III



Haritada işaretli yerlerden hangisinde nüfus artış hızını azaltmaya yönelik politikalar uygulanmaktadır?

- A) I B) II C) III D) IV

9. Tarihsel süreçte ilk şehirler Mezopotamya, Nil vadisi, İndus nehri kıyıları gibi alanlarda kurulmuştur. Bu durumun sebebi nedir?

- A) Ulaşımın kolay olması
B) Tarım alanlarının varlığı
C) Ticari faaliyetlerin gelişmiş olması
D) Yeraltı kaynaklarının zengin olması

10. Kudüs şehrinin küresel etkiye sahip olmasındaki fonksiyon aşağıdakilerden hangisidir?

- A) Din B) Ticaret
C) Ulaşım D) Eğitim

11. Dünya genelinde şehirleşme oranı en fazla 2000 yılında gerçekleşmiştir. Bunun en önemli nedeni nedir?

- A) Sanayileşme
B) Siyasi faktörler
C) Hızlı nüfus artışı
D) Kültürel nedenler

12. Aşağıdaki şehirlerden hangisinin küresel etki alanı diğerlerine göre daha dardır?

- A) New York B) Roma
C) Sidney D) Tokyo

13. I- Deniz ürünleri soğutuculu kamyonlar sayesinde iç kesimlere ulaştırılmaktadır.
II- Kuş gribi sonrasında kırmızı et tüketimi artış göstermiştir.
III- Yağışlı geçen mevsimde otlaklar gürleşir ve hayvancılıkta verim artar.

Yukarıdakilerden hangisinde doğal şartların üretime olan etkisinden söz edilmiştir?

- A) Yalnız I B) Yalnız III
C) II ve III D) I ve III

14. En çok tüketilen maddeler aynı zamanda en çok üretilen ve dağıtılan maddelerdir. Aşağıdakilerden hangisi bu durumu destekler?

- A) Üretimi fazla olan ürünlerin dağıtımını azdır.
B) Ulaşımın gelişmesi ihtiyaçtan fazla üretim sağlar.
C) Dağıtımın geliştiği yerlerde tüketim fazla olur.
D) Bir ürünün pazarının gelişmesi üretim ve dağıtımını geliştirir.

15. Doğal kaynaklar yönünden fakir ancak sermaye, iş gücü ve teknoloji açısından zengin ülkeler dışarıdan hammadde alıp işleyerek açıklarını kapatmaktadır. Aşağıdakilerden hangisi bu ülkelere örnektir?

- A) Rusya B) Japonya
C) İran D) Hindistan

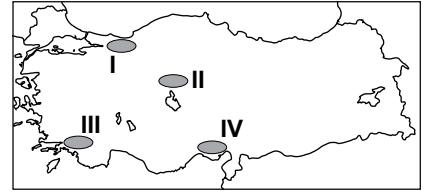
16. Yeryüzünde belirlenen en eski yerleşim alanları içerisinde Türkiye de bulunmaktadır. Bu durumun sebepleri arasında aşağıdakilerden hangisi gösterilemez?

- A) İklimin elverişli olması
B) Su kaynaklarının yeterli olması
C) Turizm potansiyelinin yüksek olması
D) Verimli tarım alanlarının bulunması

17. Ülkemizde volkanik sahalardaki ova ve platolar üzerinde aşağıdaki faaliyetlerden hangisi yaygın değildir?

- A) Madencilik B) Hayvancılık
C) Yerleşme D) Tarım

18.



Haritada işaretlenmiş bölgelerin hangisinde yer şekilleri yerleşme faaliyetlerini olumsuz etkilemiştir?

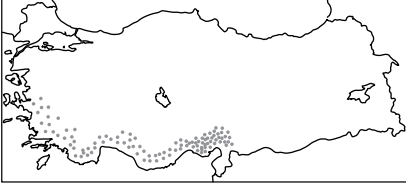
- A) I B) II C) III D) IV

19. Cumhuriyet kurulduktan sonra ekonomik kalkınmanın sağlanması amacıyla 1925 yılında Aşar Vergisi kaldırılmıştır. Bu uygulama ile öncelikle aşağıdakilerden hangisi hedeflenmiştir?

- A) Nüfus artış hızını yükseltmek
B) Tarım sektörünü desteklemek
C) Sanayinin gelişmesini sağlamak
D) Hammadde ithalatına öncelik vermek

1. OTURUM

20.



Doğal yetiştirme alanı haritada işaretlelenmiş olan tarım ürünü aşağıdakilerden hangisidir?

- A) Turunçgil B) Üzüm
C) Elma D) Tütün

(157) COĞRAFYA – 7

1. Aşağıdakilerden hangisinde ekstrem bir olaydan söz edilmiştir?

- A) Rüzgar bu aylarda hep böyle serinletici olur.
B) Bu günlerde hava sıcaklıkları mevsim normallerinde seyrediyor.
C) Son üç günde neredeyse bir yıldaki kadar yağmur yağdı.
D) Hafif sarsıntıyla yaşanan deprem herhangi bir hasara sebep olmadı.

2. Denizin altından geçerek Fransa ve İngiltere'yi iki ayrı demiryoluyla birbirine bağlayan tünelin adı nedir?

- A) Manş B) Slezya
C) Weser D) Central Valley

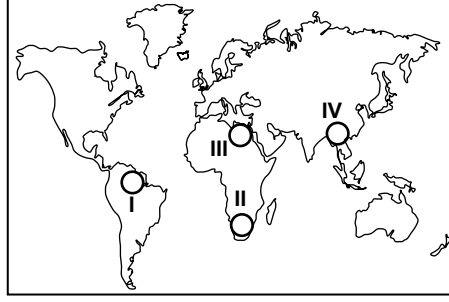
3. Aşağıdakilerden hangisi volkanik faaliyetlere bağlı olarak ortaya çıkabilecek durumlardan biri değildir?

- A) Verimli tarım alanları oluşur.
B) Canlı tür çeşitliliği ve miktarı artar.
C) Güneş ışınlarının yeryüzüne ulaşması engellenir.
D) Kısa veya uzun sürede hava sıcaklığı azalır.

4. Aşağıdakilerden hangisi atmosferde karbondioksit oranının artmasına sebep olmaktadır?

- A) Tarımsal gübreler
B) Fosil yakıtlar
C) Depremler
D) Buzullar

5.



Mısır Medeniyeti haritada numaralandırılarak verilen yerlerin hangisinde kurulmuştur?

- A) I B) II C) III D) IV

6. İlk medeniyetlerin ortaya çıktığı dönemlerde, silah yapımında kullanıldığı için savaşlarda üstünlük sağlayan maden aşağıdakilerden hangisidir?

- A) Bronz B) Bakır
C) Gümüş D) Demir

7. Sanayi Devrimi öncesinde toplumların çoğunlukla kalabalık ailelerden oluşmasının temel sebebi aşağıdakilerden hangisidir?

- A) Maden ocaklarının çok sayıda iş gücüne ihtiyaç duyması
B) Devletlerin aileleri nüfus artışına teşvik etmesi
C) Ekonominin temelini tarım ve hayvancılığın oluşturması
D) Savaşlarda insan gücünün belirleyici faktör olması

8. Aşağıdakilerden hangisi Ruhr Havzası'nın yoğunlaştığı ekonomik faaliyet alanlarından biri değildir?

- A) Makine-taşıt
B) Orman ürünleri
C) Elektronik aletler
D) Kimyasal maddeler

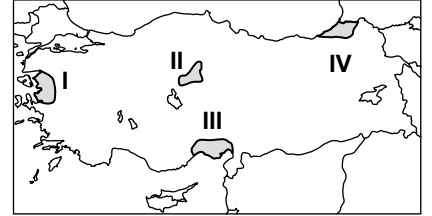
9. Aşağıdakilerden hangisi sağlıklı kentleşmenin göstergelerinden biridir?

- A) Kültürel eşitliliğin oluşması
B) Genç nüfus oranının artması
C) Arsa ve arazi fiyatlarının yükselmesi
D) Konut ve sanayi tesislerinin bir arada olması

10. Aşağıdakilerden hangisi insan hayatına ve istihdama yaptığı katkılar göz önüne alındığında daha önemli bir buluştur?

- A) Asansör
B) Otomobil
C) Televizyon
D) Çamaşır makinesi

11.



Haritada numaralandırılarak verilen yerlerin hangisi karasal iklim bölgesindedir?

- A) I B) II C) III D) IV

12. Aşağıdakilerden hangisi bir ülkede ulaşım yollarının gelişmesinin sonuçlarından değildir?

- A) Doğal ve tarihi mekanlar korunur.
B) Ülke savunmasına katkı yapar.
C) Ekonomik gelişmeyi hızlandırır.
D) Bölgeler arası iş bölümü geliştirir.

13. Aşağıdaki ülkelerden hangisi Cumhuriyet öncesi dönemde yurdumuza demir yolu yapımında öncülük edenlerden biridir?

- A) Almanya B) Hollanda
C) Çin D) ABD

14. Deniz yolu ulaşımı için aşağıdakilerden hangisi söylenemez?

- A) Yük ve yolcu taşımada en ekonomik ulaşım yöntemidir.
B) Bir seferde en fazla yük ve yolcu gemilerle taşınabilir.
C) Denizcilğimiz kıyı potansiyelinin çok üzerinde gelişmiştir.
D) Limanların gelişimini bağlantılı olduğu kara ve demir yolları da etkiler.

1. OTURUM

15. Aşağıdakilerden hangisi ulaşım ağının ortaya çıkmasını belirleyen beşeri unsurlarından biridir?

- A) Yeryüzü şekilleri
- B) Ekonomik yapı
- C) Maden yatakları
- D) İklim özellikleri

16. Ticaretin gelişip canlanmasında aşağıdakilerden hangisinin etkisi daha fazladır?

- A) Ulaşım ağının gelişmesi
- B) Tarımsal üretimin artması
- C) Üretim ve tüketimin artması
- D) Ticaret yapılan mekanların artması

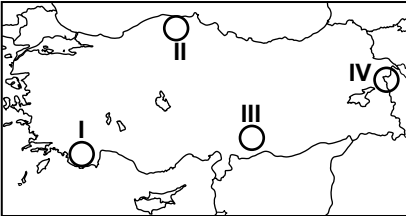
17. 2010 yılı verilerine göre Türkiye'nin ihracatının ithalatından fazla olduğu ülke aşağıdakilerden hangisidir?

- A) Irak
- B) Çin
- C) Almanya
- D) Rusya Federasyon

18. Türkiye'nin zengin tarihi mirasa sahip olmasının temel sebebi aşağıdakilerden hangisidir?

- A) İpek yolu üzerinde yer alması
- B) Farklı iklimlerin etkisinde olması
- C) Üç tarafın denizlerle çevrili olması
- D) Çok farklı uygarlıklara beşiklik etmesi

19.



Osmanlı mimarisinin önemli yapıtlarından biri olan İshakpaşa Sarayı haritada numaralandırılarak verilen alanların hangisinde yer almaktadır?

- A) I
- B) II
- C) III
- D) IV

20. Aşağıdakilerden hangisi bir ülkenin turizm potansiyelini olusturamaz?

- A) Doğal çevre
- B) Tarihi yapılar
- C) Sanayi tesisleri
- D) Kültürel değerler

(181) İNGİLİZCE – 1

1-20. sorularda boş bırakılan yere uygun gelen kelime ya da ifadeyi işaretleyiniz.

1. has her breakfast at 8:30 in the mornings.

- A) I
- B) She
- C) We
- D) They

2. I and my brother Ali have got sports cars. My car is black, car is red.

- A) my
- B) her
- C) his
- D) he

3. Mehmet is a hardworking student. He gets high marks.

- A) seldom
- B) never
- C) rarely
- D) always

4. Some people eat meat. They are vegetarian.

- A) never
- B) always
- C) often
- D) usually

5. I am very hot now. Could you the window, please?

- A) get
- B) take
- C) open
- D) come

6. The plane in İstanbul at 8:00 yesterday morning.

- A) played
- B) landed
- C) stopped
- D) watched


7. We this film two years ago.

- A) cut
- B) listened
- C) broke
- D) watched

8. I usually to work by bus, but today I to work.

- A) goes / walks
- B) go / am walking
- C) goes / am walking
- D) going / am walking

9.



The bank is the post office and the supermarket.

- A) between
- B) in front of
- C) opposite
- D) under

10. Ahmet has been studying Maths since the beginning of this week. I think

- A) he will fail his exams.
- B) he will get high marks.
- C) he doesn't like studying.
- D) he isn't a hardworking student.

11. I am very thirsty so

- A) she will help you.
- B) I am listening to music.
- C) I'll get some cold drinks.
- D) they are playing volleyball.

12. A : Who is

B : is Murat, my new classmate.

- A) he / I
- B) she / He
- C) he / She
- D) he / He

13. Student : How questions are there in the examination?

Teacher : There are twenty questions.

- A) some
- B) much
- C) many
- D) any

1. OTURUM

(181) ALMANCA – 1

1- 18. sorularda boş bırakılan yere uygun gelen ek, kelime ya da ifadeyi işaretleyiniz.

14. A : How water is there in the glass?
B : Some.
A) any B) many
C) much D) some
15. A : Excuse me, where is the post office?
B : straight and right. It is opposite the bank.
A) Go / take B) Take / come
C) Turn / turn D) Go / turn
16. A : Do you like ice-cream?
B : Of course, I
A : And your sister?
B : No, she
A) don't / does
B) do / doesn't
C) doesn't / don't
D) does / doesn't
17. Teacher : is Anıtkabir, Ali?
Ali : It is in Ankara.
A) Where B) When
C) How D) What
18. A : How often do you have a shower?
B :
A) Tomorrow.
B) Yesterday.
C) Next week.
D) Once a day.
19. A: May I use your English dictionary?
B:
A) Yes, sure.
B) Good idea!
C) Congratulations!
D) Sorry, it is closed.
20. A: I have a bad toothache.
B:
A) You must study.
B) You must go to work.
C) You should go to the dentist.
D) You should drink cold water.

1. Guten Morgen! Ich Peter und das Ali.

- A) heißt / ist B) heiße / ist
C) heiße / bin D) heißt / bin

2. Das ist mein - Freund. heißt Michael.

- A) - / Er B) - / Sie
C) -e / Er D) -e / Sie

3. 16,, 18

- A) Sieben
B) Siebzig
C) Siebzehn
D) Zehn und sieben

4. Eine Hase ist

- A) langsam B) schnell
C) schlau D) groß

5. 8.30 Uhr fängt meine Arbeit an.

- A) Um B) Im C) Am D) Von

6.



Wo ist das Kind?
Es ist dem Teddybär.

- A) vor B) unter
C) neben D) auf

7. 15. Mai habe ich Geburtstag.

- A) Um B) Im C) Am D) Bis

8. Februar,, April

- A) Januar B) März
C) Mai D) Juni

9. Hans sagt, er mir bei den Hausaufgaben helfen wird.

- A) denn B) weil
C) dass D) aber

10. In einer Metzgerei kann ich kaufen.

- A) Spielzeug B) T-Shirt
C) Fleisch D) Banane

11. A: wohnst du?
B: Ankara.

- A) Was / Aus B) Wohin / In
C) Wo / Aus D) Wo / In

12. A: gehst du zur Schule?
B: Mit dem Fahrrad.

- A) Woher B) Was
C) Wohin D) Womit

13. A: ist Ahmet?
B: Er ist 16 Jahre alt.

- A) Wie heißt B) Wo wohnt
C) Was ist D) Wie alt

14. A: Was du?
B: Ich Basketball.

- A) mache / spielt
B) macht / spielst
C) machst / spiele
D) machen / spielen

15. A: Herzlich Willkommen! Wie ist Name?

B: Name ist Lea.

- A) mein / Sein B) dein / Mein
C) sein / Unser D) euer / Sein

1. OTURUM

16.



A: Wie spät ist es?

B: Es ist.

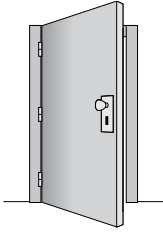
- A) Viertel vor neun
- B) Viertel vor zehn
- C) Viertel nach neun
- D) Viertel nach zehn

17. A: Entschuldigung! Können Sie mir sagen wie spät es ist?

B:

- A) Auf Wiedersehen!
- B) Guten Morgen
- C) Freut mich
- D) Halb acht

18.



A: Ist das ein Stuhl?

B: Nein, das ist kein... Stuhl

A: Das ist ein- Tür.

- A) - / -e
- B) -e / -e
- C) - / -
- D) -es / -e

19. Aşağıdakilerden hangisi anlamca diğerinden farklıdır?

- A) Flugzeug
- B) Auto
- C) Schiff
- D) Schuhe

20. Aşağıdaki sıfatlardan hangisinin karşıtı doğru verilmiştir?

- A) warm-kalt
- B) viel-mehr
- C) schön-groß
- D) lang-teuer

(181) FRANSIZCA – 1

1-16. sorularda boş bırakılan yere uygun gelen kelime ya da ifadeyi işaretleyiniz.

1. aimons la cuisine italienne.

- A) Elles
- B) Nous
- C) Ils
- D) Vous

2. Hier soir, est rentrée à 20 h.

- A) elle
- B) tu
- C) je
- D) il

3. Tolga en Italie par avion avec la compagnie Turkish Airlines.

- A) es arrivé
- B) suis arrivé
- C) est arrivé
- D) est arrivée

4. Dimanche dernier, mon frère acheté le nouveau CD de Candan Erçetin.

- A) est
- B) as
- C) es
- D) a

5. Les enfants sortis du cinéma.

- A) ont
- B) sont
- C) est
- D) êtes

6. Cemil a passé à Samsun.

- A) le visage
- B) la rue
- C) les yeux
- D) la nuit

7. Il a plu la semaine à Antalya.

- A) aucun
- B) personne
- C) toute
- D) chaque

8. Elles ont..... professeur que l'an dernier.

- A) les mêmes
- B) le même
- C) les autres
- D) certaine

9. A: Zeynep est fiancée?

B: Oui,

- A) elle est jeune
- B) elle est veuve
- C) elle est fiancée
- D) elle est mariée

10. Si j'étais jeune, je le tour du monde à moto.

- A) ferais
- B) ai fait
- C) faisais
- D) ont fait

11. S'il ne fait pas froid, ils à la campagne.

- A) étaient allés
- B) étaient allées
- C) iront
- D) iront

12. A: Tu travailles en Belgique ?
B: Non, je en Belgique.

- A) ne pas travailler
- B) ne travaille pas
- C) ne travaillent pas
- D) travailler

13. A: Tu as déjà lu ce livre?
B: Oui, je ai lu la semaine dernière?

- A) le (l')
- B) lui
- C) leur
- D) la (l')

14. A: Tu aimes les films de karaté?
B: Oui, je aime beaucoup.

- A) le (l')
- B) des
- C) les
- D) de la

15. A: Tu prends du thé?
B: Non, je ne prends pas thé.

- A) des
- B) de la
- C) du
- D) de

16. Un peigne sert à

- A) manger
- B) téléphoner
- C) se lever
- D) se coiffer

1. OTURUM

(244) İNGİLİZCE – 5

1-19. sorularda boş bırakılan yere uygun gelen kelime ya da ifadeyi işaretleyiniz.

17. Cümleler sırasıyla okunduğunda anlam bütünlüğünü bozan cümleyi bulunuz.

(I) Elle est vieille. (II) Elle est sincère. (III) Elle a visité Mardin. (IV) Elle a les yeux marron.

A) III B) IV C) I D) II

18- 20. sorularda verilen resme göre doğru ifadenin bulunduğu seçeneği işaretleyiniz.

18.



- A) Il a une casquette et il porte des lunettes.
B) Il a de la barbe et il porte une casquette.
C) Il a une moustache et il porte une montre
D) Il a les lèvres minces et il porte une casquette.

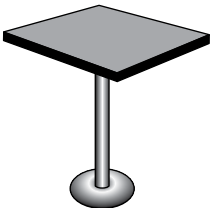
19.



Elle est très

- A) sympa B) musclé
C) sportif D) paresseux

20.



La table est

- A) ronde B) carrée
C) longue D) pointu

8. Technology has made our lives easier but it has some for us.

- A) disadvantages
B) precautions
C) researches
D) resources

9. When I was a child, I drink much more milk than now.

- A) should B) have to
C) used to D) might

10. Your father never drinks cold water,

- A) will he? B) does he?
C) won't he? D) doesn't he?

11. The weather will be nice at the weekend. Let's go out somewhere,

- A) don't we? B) will we?
C) do we? D) shall we?

12. Melis and Murat met with Maths teacher in his room for the project,

- A) didn't she? B) didn't he?
C) didn't they? D) didn't you?

13. Tuna can speak three different foreign languages,?

- A) can he B) can't he
C) will he D) won't he

14. Uğur began to work in this company in 2000. He has worked here

- A) for weeks
B) since last year
C) since New Year
D) for fourteen years

1. It hasn't snowed in Antalya many years.

- A) for B) since
C) to D) at

2. Turkish Republic of Northern Cyprus has been independent 1984.

- A) never B) for
C) since D) ever

3. To lose weight you need to eat

- A) less B) much
C) most D) worse

4. Today, Ahmet is than yesterday.

- A) good B) best
C) the best D) better

5. Konya is than all the other cities in Turkey.

- A) large B) larger
C) largest D) the largest

6. The air in the big cities is more than in the village.

- A) crowded B) comfortable
C) polluted D) pleasant

7. People have to use the for the benefit of human kind.

- A) invitations B) scientists
C) questions D) inventions

1. OTURUM

(244) ALMANCA – 5

1- 18. sorularda boş bırakılan yere uygun gelen ek, kelime ya da ifadeyi işaretleyiniz.

15. I something to eat for lunch. You don't need to cook anything.

- A) have bought
- B) was buying
- C) had bought
- D) would buy

16. What you after graduating from the university?

- A) were / doing B) are / doing
- C) do / do D) will / do

17. When the phone rang, Alice a book.

- A) was reading
- B) is reading
- C) has read
- D) will read

18. Oğuz an accident and a tree while he to an important meeting last week.

- A) had / was crashing / was going
- B) have / crashes / was going
- C) had / crashed / was going
- D) had / crashed / went

19. A: did your father for your birthday?

B: A pet.

- A) What / buy B) What / bought
- C) Why / buy D) Where / bought

20. Aşağıda karışık olarak verilen kelimelerin doğru sıralandığı seçeneği işaretleyiniz.

I / When / went / it / was snowing / out
1 2 3 4 5 6

- A) 2 / 3 / 1 / 4 / 5 / 6
- B) 2 / 1 / 3 / 6 / 4 / 5
- C) 2 / 1 / 4 / 6 / 5 / 3
- D) 2 / 5 / 3 / 4 / 1 / 6

1. Herbst,, Frühling

- A) Woche B) Monat
- C) Sommer D) Winter

2. Der Spielfilm beginnt 19.00 Uhr.

- A) im B) um C) am D) bis

3. Ein Jahr hat Monate.

- A) zehn B) elf
- C) zwölf D) zwanzig

4. gut,, am besten

- A) besser B) guter
- C) lieber D) beste

5. billig, billig –..., am billig –...

- A) –sten / –er B) –en / –er
- C) –er / –sten D) –e / –er

6. Dienstag,, Donnerstag

- A) Mittwoch B) Freitag
- C) Samstag D) Montag

7. Atatürk ist Jahre 1881 in Selanik geboren.

- A) bis B) am C) um D) im

8.



Fahrrad

- A) reiten B) spielen
- C) arbeiten D) fahren

9. Ich lese die Zeitungen, die Nachrichten verfolgen.

- A) um / zu B) von / bis
- C) aber / bis D) und / zum

10. Suzi hat April Geburtstag.

- A) im B) um C) von D) bis

11. Du machst deine Hausaufgaben. Du hast eine Belohnung verdient.

- A) trotzdem B) nie
- C) immer D) selten

12. hat sie sich auf diese Vorführung vorbereitet.

- A) Ziemlich B) Denn
- C) Tagelang D) Ungefähr

13. Ich tanze gern, es Spaß macht.

- A) weil B) aber
- C) denn D) um

14. Das Geschäft ist Montag Freitag geöffnet.

- A) um / zu B) je / mehr
- C) weil / aber D) von / bis

15. A:dauert die Fahrt nach Antalya?

B: Ungefähr 6 Stunden.

- A) Wann B) Wo
- C) Wie lange D) Wie oft

16. A: hat deine Schwester Sport Unterricht?

B: Donnerstag Nachmittag.

- A) Wo / Im
- B) Wann / Am
- C) Wozu / Um
- D) Wie oft / Von

1. OTURUM

17.



A: Entschuldigung. Wo ist die Bibliothek?

B: Sie ist der Post.

- A) vor B) neben
C) unter D) auf

18. A: Ich habe den neuen Film nicht gesehen.

B: du doch den neuen Film gesehen!

- A) Könntest B) Hätttest
C) Wärest D) Seiest

19.



Wie spät ist es?

- A) Es ist halb sechs.
B) Es ist Viertel vor sieben.
C) Es ist Viertel nach sechs.
D) Es ist Viertel nach sieben.

20. Juni, Juli, August hangi mevsimin aylarıdır?

- A) Frühling B) Sommer
C) Herbst D) Winter

(244) FRANSIZCA – 5

1- 16. sorularda boş bırakılan yere uygun gelen ek, kelime ya da ifadeyi işaretleyiniz.

1. Sommes- arrivés à temps à la gare?

- A) elles B) vous
C) ils D) nous

2. veut visiter le nord de la Turquie

- A) Elle B) Tu C) Je D) Elles

3. Tarkan est un chanteur chante aussi en anglais..

- A) ce qui B) qui
C) ce que D) que

4. C'est la ville il a habité pendant des années.

- A) où B) ce qui
C) que D) ce que

5. Le pays je préfère est la Turquie.

- A) où B) que C) qui D) donc

6.il fait beau, Pierre va à la chasse avec son chien.

- A) Combien B) Comment
C) Quand D) Pourquoi

7. Nous avons écouté de la musique les vacances d'été.

- A) enfin B) pendant
C) pour D) il y a

8. Elles iront ensemble pour faire du ski nautique

- A) au stade
B) à la bibliothèque
C) au musée
D) à la mer

9., je suis allé au Corée du Sud.

- A) Lundi prochain
B) L'an dernier
C) Juin prochain
D) Le mois prochain

10. C'est le professeur le fils joue au football en Italie.

- A) que B) qui C) dont D) où

11. Serkan fait de la peinture

- A) chante B) en chantant
C) chanter D) chanté

12. M.Dupont dans le parc national, étudie la nature.

- A) travaillant B) oubliant
C) pendant D) apportant

13. Pendant ses en bateau sur le Bosphore, il lit des livres.

- A) vêtements B) livres
C) animaux D) promenades

14. S'il fait chaud demain, nous irons en piscine

- A) se lever B) visiter
C) nager D) se laver

15. avons bu un thé sur la terrasse d'un café.

- A) Ma femme
B) Mon ami et moi
C) Mon frère et sa femme
D) Mon frère

16. Angleterre, les anglais roulent gauche

- A) Aux / au B) À / en
C) En / à D) Au / au

1. OTURUM

17 - 18. sorularda verilen cümlelerin Türkçe karşılığını işaretleyiniz.

17. Les enfants sont sortis de l'école en courant.

- A) Çocuklar koşarak okuldan çıktılar.
- B) Çocuklar bazen okuldan koşarak çıkıyorlar.
- C) Çocuklar okuldan erken çıktılar.
- D) Çocuklar bugün okuldan geç çıkıyorlar.

18. Mon père prend sa douche en chantant.

- A) Babam duşunu soğuk suyla alıyor.
- B) Babam duşunu sıcak suyla almaz.
- C) Babam duşunu hep ılık çalarak alır.
- D) Babam şarkı söyleyerek duşunu alır.

19 - 20. sorularda verilen cümlelerin Fransızca karşılığını işaretleyiniz.

19. Sokakta dans eden bir genç kız gördüm.

- A) J'ai vu un beau garçon chantant dans la rue.
- B) J'ai rencontré un jeune dansant dans la cour.
- C) J'ai vu une jeune fille dansant dans la rue.
- D) Je vois une jeune fille dansant dans la cour.

20. Paul kahvaltısını yaparken telefonla konuşuyordu.

- A) Paul parlait au téléphone en prenant son petit déjeuner
- B) Paul a parlé au téléphone en prenant son déjeuner.
- C) Paul parle toujours au téléphone en prenant le dîner
- D) Paul a parlé au téléphone en prenant du thé.

(401) DİL VE ANLATIM – 1

1. Aşağıdakilerden hangisi doğal göstergeye örnektir?

- A) Gökyüzündeki bulutlar
- B) Duvar yazıları
- C) Trafik levhaları
- D) Duvardaki bilgisayar resmi

2. Aşağıdakilerden hangisi iletişime ihtiyaç duyulma nedenlerinden biri olamaz?

- A) İnsanın günlük gereksinimlerini karşılama isteği
- B) Yazım ve noktalama kurallarına gereksinim duyulması
- C) İnsanın duygu ve düşüncelerini anlatma isteği
- D) İnsanın sosyal bir varlık olması

3. Duygu, düşünce ve isteklerin yazı, konuşma ve görsel araçlarla iletilmesine (.....) denir.

Bu cümlede boş bırakılan yerlere aşağıdaki sözcüklerden hangisi getirilmelidir?

- A) edebiyat
- B) kültür
- C) iletişim
- D) dil bilim

4. Aşağıdakilerden hangisi iletişim öğelerinden biri değildir?

- A) Kaynak
- B) Mesaj
- C) Alıcı
- D) Plan

5. Aşağıdakilerden hangisi "bağlam" sözcüğünü ifade eder?

- A) Kişilerin birbiriyle konuşması durumu
- B) İletişimi yapıldığı ortam
- C) Kişilerin aktardıkları mesajın önemi
- D) İletişimde gazete, tv, radyo kullanılması

6. Aşağıdakilerden hangisi dil bilgisinin bölümlerinden biri olarak sayılamaz?

- A) Edebi sanat bilgisi
- B) Ses bilgisi
- C) Biçim bilgisi
- D) Anlam bilgisi

7. Aşağıdakilerden hangisi dili bir iletişim aracı olarak diğerlerinden üstün kılan temel özelliğidir?

- A) Toplumun kültürünü yansıtması
- B) Tarihi olayları aktarması
- C) Duygu ve düşünceleri yazılı ve sözlü açık olarak anlatması
- D) Toplumdan topluma farklılık göstermesi

8. Aşağıdaki cümlelerden hangisinde bir bilgi yanlışlığı yapılmıştır?

- A) Konuşma dili kişilerin kültür düzeylerine göre değişiklikler gösterebilir.
- B) Okuma yazma oranı düştükçe dil kullanımında yöresel farklılıklar artar.
- C) Dillerde coğrafya ve toplumsal farklılıklar nedeniyle farklılaşmalar olur.
- D) İnsanların yüzyıllardır birbirlerine sözlü olarak aktardıkları dile yazı dili denir.

9. Türkçe köken bakımından aşağıdaki dil ailelerinden hangisi içinde sayılabilir?

- A) Hint-Avrupa dil ailesi
- B) Hami-Sami dil ailesi
- C) Ural-Altay dil ailesi
- D) Bantu dilleri ailesi

10. Aşağıdakilerin hangisinde Türkçenin ses özellikleri yanlış olarak verilmiştir?

- A) Ünlü uyumu vardır.
- B) Sözcük çekim sırasında uğradığı değişikliklerle yeni anlamlar kazanır.
- C) Sonda eklemeli bir yapısı vardır.
- D) Sözcüklerde erkek ve dişi ayrımı yoktur.

11. Aşağıdakilerden hangisi, Batı Türkçesi olarak bilinen Oğuzcanın günümüzde yaşayan kollarından biridir?

- A) Özbekçe
- B) Uygur Türkçesi
- C) Türkiye Türkçesi
- D) Kırım-Tatar Türkçesi

1. OTURUM

12. Aşağıdakilerden hangisi ilk dönemlerde Türkçenin gelişimine katkı sağlayan eserlerden biri olarak sayılamaz?

- A) Kutadgu Bilig
- B) İstiklal Marşı
- C) Divanü Lügati't-Türk
- D) Atabetü'l Hakayık

13. Aşağıdakilerden hangisi Türkçenin ünlü uyumlarına aykırı bir sözcüktür?

- A) Başlangıç
- B) Kapalılık
- C) Üzgünsen
- D) Hafiften

14. Havalar güzel gidiyor

I

Sen de çiçek actın erkenden

II

Küçük zerdali ağacım

III

Aklın ermeden

IV

Yukarıdaki numaralandırılmış sözcüklerin hangisinde Türkçe kurallara aykırılık vardır?

- A) I.
- B) II.
- C) III.
- D) IV.

15. I. Gözlerimizin önünde
II. İlginç bir yaşam sürdürdü
III. Anlattı, dinledi, güldürdü
IV. Ölümü düşünmüyorduk

Yukarıdaki numaralandırılmış dizelerin hangisinde ünsüz benzeşmesi bulunan bir sözcük vardır?

- A) I.
- B) II.
- C) III.
- D) IV.

16. Aşağıdaki dizelerin hangisinde ünlü düşmesi bulunan bir sözcük kullanılmıştır?

- A) Tırmanır biri el ermez dikliklere
- B) Yalnızlığın ışığını söndüren nedir
- C) Biri ordusunu yayar birdenbire
- D) Gelmen bir iyiliktir diyecektim

17. Aşağıdaki cümlelerin hangisinde yazım yanlışı vardır?

- A) Özet anlatı, gösterme yönteminde bir tekniktir.
- B) Edebi metinlerin geleneksel yapıları bozulmuştur.
- C) Naturalistlerde karakter diye birşey yoktur.
- D) Roman sözcüğü bugünkü anlamını 15. yüzyılda almıştır.

18. Aşağıdaki cümlelerin hangisinde "de, da"nın yazımında yanlışlık yapılmıştır?

- A) Çocukluğunda dinlediği hikâyeleri bize anlatırdı.
- B) Kitap uzun olsada okumaya kararlıydı.
- C) Çok yakında size iyi haberlerim var.
- D) Geçen akşam rüyasında beyaz bir at görmüş.

19. Osman Bey, onüç yıl önce

I

gördüğü bu kişileri Kurban Bayramı'nın ilk günü

II

yeniden mi görmüş, yoksa

III

hayale mi kapılmış, tam olarak ayırt edemiyordu.

IV

Yukarıdaki numaralandırılmış sözlerden hangisinin yazımında yanlışlık yapılmıştır?

- A) I.
- B) II.
- C) III.
- D) IV.

20. Aşağıdaki cümlelerden hangisinin sonuna nokta (.) konmaz?

- A) Her güzel şey gibi bu görüşme de bitti
- B) İstanbul, yedi yıl sonra ABD başkanını ağırladı
- C) Cuma akşamı verilen yemekte kimler yoktu ki
- D) Korkup kaçmanın doğru olmadığını herkes bilir

(402) DİL VE ANLATIM – 2

1. I. Hafta sonunda çoğunlukla dinlenirim.
II. Bu kitapları okumak için rahatlıkla izin alabilirsin.
III. Sorunları güzellikle çözmek gerekmez mi?
IV. Sabah saatlerinde genellikle trafik sıkışık olur.

Yukarıdaki altı çizili sözcükler hangileri anlamca birbirine en yakındır?

- A) I. - II.
- B) I. - IV.
- C) II. - III.
- D) III. - IV.

2. Aşağıdaki altı çizili sözcüklerden hangisi gerçek anlamıyla kullanılmıştır?

- A) Oyuncuların renkli dünyası onu biraz korkutmuştu.
- B) Kadının keskin bakışları karşısında hepimiz sustuk.
- C) Nermin konuştuğunda ben aynı odada uzaklara gidiyordum.
- D) Kapı açık kalınca mutfağa kedi girmiş.

3. "Kaçmak" sözcüğü aşağıdaki cümlelerin hangisinde "mekan olarak uzaklaşmak, başka bir yere gitmek" anlamında kullanılmıştır?

- A) İstanbul'un insanı yutan havasında bir haftalığına kaçmıştı.
- B) Kuyucaklı Yusuf, olaylardan kırk gün kaçabilmişti.
- C) Zihnimde kaçmak istedim, ama yapamadım.
- D) Bilgisayar başında saatler ve kalarak gerçek yaşamdan kaçıyor.

1. OTURUM

4. Aşağıdaki cümlelerin hangisinde deyim anlamına uygun kullanılmamıştır?

- A) En karışık sorunları bile tereyağından kıl çeker gibi kolayca çözerdi.
- B) Düşün gününde kesenin ağzını açmış, çalışanlar bile yanından uzak durmuştu.
- C) Kedi yere düşen etleri kaşla göz arasında hızla kaçırdı.
- D) Kıl payı son maçtaki üç puanı alması nedeniyle şampiyon oldu.

5. Aşağıdaki cümlelerin hangisinde eş sesli sözcük kullanılmıştır?

- A) Çocuk anlamlı sözcükler söylüyordu.
- B) Geç kalkınca otobüse yetişemedi.
- C) Her zor, başka bir kolay demektir.
- D) Gün olur, sen de amacına ulaşırsın.

6. Türk edebiyatı, uzun yıllar Batı edebiyatının gölgesinde yürümek zorunda kaldı.

Bu cümledeki “gölgesinde yürümek” sözüyle anlatılmak istenen aşağıdakilerden hangisidir?

- A) Hiçbir varlık gösterememek
- B) Etki altında kalmak
- C) Yeni türler üretememek
- D) O alanda yeni olmak

7. Aşağıdaki cümlelerin hangisinde deyim açıklaması doğru verilmemiştir?

- A) Çamur atmak: Bir kimseyi lekelemeye çalışmak
- B) Dişini sıkmak: Sıkıntılara, zorluklara katlanmak
- C) Göz kulak olmak: Bir kimseyi koruyup kollamak
- D) Hatır gönül bilmemek: İnsanlara karşı nerede nasıl davranacağını bilmemek

8. I. Gerçekler, dikenlerle yalanlar ise renk renk çiçeklerle çevrelenmiştir.

II. İstemesini bilersen her şeyi elde edebilirsin.

III. Güzel süslenmeyince çirkin, çirkin bakım yapılıncı güzel görünebilir.

IV. İnsanları tanımak için bir süre onlarla beraber olmak gerekir.

Yukardaki cümlelerden hangileri anlamca birbirine en yakındır?

- A) I. - II.
- B) I. - III.
- C) II. - IV.
- D) III. - IV.

9. Aşağıdaki cümlelerin hangisinde “küçümseme” anlamı söz konusudur?

- A) Başladığı hangi işi tamamlamıştır ki Sami Bey?
- B) Şiirlerini sıkça okuduğum kişiyi ilk defa görüyordum.
- C) Her şair, gerçek şiiri yakalamak için çaba gösterir.
- D) İstemeden kırdığı arkadaşına bir özür borçluydu.

10. I. Attila İlhan'ın şiiri ne kolay ne de zor anlaşılabilir.
II. Şiirsel tadın alınabileceği bir şiirdir.
III. Okurun önünde onun popülaritesi olması, herkesin içindeki şiiri keşfetmesinden kaynaklanır.
IV. Hepimiz içinde keşfedilmeyi bekleyen bir şiirsellik vardır.

Yukarıdaki cümlelerin hangisinde neden - sonuç ilişkisi vardır?

- A) I.
- B) II.
- C) III.
- D) IV.

11. Aşağıdaki cümlelerin hangisinde “üslup” ile ilgili bir yargı söz konusudur?

- A) Yazar, romanda II. Meşrutiyet dönemi basın yaşamını işlemiş.
- B) İlk şiirlerinde akıcı, kıvrak, insanı yormayan bir hava yakalamış.
- C) Kitap içerik ve baskı olarak çok konuşulacaktı.
- D) Öykü bir yıl dolmadan ikinci baskısını yaptı.

12. “bayrağını, bir, hedefin, olduğunu, başarı, gerekir, varılacak, sallamak, öncelikle, için, bilmek”

Yukarıda karışık olarak verilen sözcüklerle kurallı ve anlamlı bir cümle oluşturulduğunda sıralamada sondan ikinci sözcük hangisi olur?

- A) bayrağını
- B) gerekir
- C) sallamak
- D) bilmek

13. Bilginin olmak için çalışmanın olmak gerekir.

Bu cümlede boş bırakılan yerlere aşağıdaki sözcük çiftlerinden hangisi getirilmelidir?

- A) yönü - önemi
- B) aynası - zorluğu
- C) efendisi - kölesi
- D) yardımcısı - uzmanı

14. Aşağıdaki altı çizili sözcüklerden hangisi anlamını değiştiren bir ek almamıştır?

- A) Dağılmış yankılı sesler dört yana.
- B) Gönül aynasına yansımış gümüş semaver.
- C) Korkunun kimseye bir faydası yok.
- D) Umarım hep bir özgürlük ateşinde.

15. Aşağıdaki altı çizili sözcüklerden hangisi yapısı bakımından farklıdır?

- A) Uzak mavi bir şehir kulelerden
- B) Dalgın bir kar sürekli yağıyor
- C) Zarif bir hüznün bembeyaz dolaşan
- D) Umut, salonların her hoş rüyası

16. Aşağıdaki dizelerin hangisinde sıfat tamlaması kullanılmıştır?

- A) Ben bugün yarimden ayrı düşeli
- B) Her günüm bir yıla döndü gidiyor
- C) Yine zindan oldu dünya başıma
- D) Sinem ateşlere yandı gidiyor

1. OTURUM

(407) DİL VE ANLATIM – 7

17. Aşağıdakilerin hangisinde cümle, özne - nesne - yüklem biçiminde sıralanmıştır?

- A) Yaz tatili bu yıl uzun sürdü.
- B) Dügün yaklaştıkça Ali Bey'in heyecanı arttı.
- C) Her insan zor gününde komşu-sunu arar.
- D) Çocuklar, okuldan arta kalan zamanlarını değerlendiriyor.

18. Sultan Hamid, elinde tutmakta devam etmiş olduğu telgrafi bir kere daha dudaklarında pek acı bir tebessümle okudu.

Bu cümlede aşağıdaki öğelerden hangisi yoktur?

- A) Özne
- B) Belirtili Nesne
- C) Zarf tümleci
- D) Dolaylı tümleç

19. Aşağıdakilerden hangisi anlamca olumlu bir cümledir?

- A) Şiir, hiçbir zaman gerçek şairi unutturmaz.
- B) Bir haftadır ne gelen var ne de giden.
- C) Herkes gibi ben de denize yakın olmak istedim.
- D) Nadide Hanım, kızının kaçma düşüncesini hiç benimsemedi.

20. Aşağıdaki dizelerin hangisi yüklemine yerine göre farklı bir cümle oluşturmaktadır?

- A) Benim dostum gelişinden bellidir
- B) Ak elleri deste deste güllüdür
- C) Güzel seven yiğitler de bellidir
- D) Melil mahzun gezer eller içinde

1. Aşağıdakilerden hangisi sanat metinlerinin özelliklerinden biridir?

- A) Dil göndergesel işleviyle kullanılır.
- B) Her okuyucu farklı anlamlar çıkarabilir.
- C) Nesnel anlatım kullanılır.
- D) Üslup kaygısı güdülmez.

2. Aşağıdakilerden hangisi sanat metinlerine örnek gösterilebilir?

- A) Siyasi miting konuşması metni
- B) Panel konuşması metni
- C) Çocuklara anlatılan masal
- D) Köşe yazısı

3. Aşağıdakilerden hangisi göstermeye bağlı geleneksel türlerden biri değildir?

- A) Komedi
- B) Orta oyunu
- C) Karagöz
- D) Meddah

4. Orhan Veli, 13 Nisan 1914'te Beykoz'da doğdu. Orhan Veli'nin çocukluğu Beykoz ve Beşiktaş'ta geçti. İlk dört sınıfı Galatasaray Lisesi'nde okuyan Orhan Veli, 1925 yılında babasının arzusu ile annesiyle beraber Ankara'ya gitti. İlkokuldan son sınıfında Oktay Rifat'la, lisenin birinci sınıfında Melih Cevdet'le karşılaşmıştı.

Bu parça aşağıdaki türlerden hangisinden alınmıştır?

- A) Biyografi
- B) Günlük
- C) Mektup
- D) Röportaj

5. Şakaklarım kar mı yağdı ne var? Benim mi Allah'ım bu çizgili yüz? Ya gözler altındaki mor halkalar? Neden böyle düşman

görünürsünüz,

Yıllar yılı dost bildiğim aynalar?

Bu dizelerle ilgili olarak aşağıdakilerden hangisi söylenemez?

- A) Mecaz anlamlı sözcükler kullanılmıştır.
- B) Sanatsal bir anlatım söz konusudur.
- C) Açıklayıcı bir anlatım vardır.
- D) Zevk verme amacına yöneliktir.

6. Aşağıdakilerden hangisi öğretici metin örneği olarak gösterilebilir?

- A) Babaannenin anlattığı fabl
- B) Bir dergide yayınlanan makale
- C) Bir ozanın söylediği şiir
- D) Radyoda anlatılan bir halk hikâyesi

7. Aşağıdakilerden hangisi anlatmaya bağlı edebi türlere örnek gösterilemez?

- A) Masal
- B) Fabl
- C) Roman
- D) Dram

8. Sanat metinleri ile bilimsel metinlerin temel farkı aşağıdakilerden hangisinde verilmiştir?

- A) Metnin plana göre hazırlanıyor olması
- B) Metnin estetik bir duyuş yansıtıyor olması
- C) Metnin mesaj içeriyor olması
- D) Metnin başlığının olması

9. I. Sorunların olduğu gibi anlatımı söz konusudur.

II. Güzellik oluşturma kaygısı vardır.

III. İçerik kaygısı ön plandadır.

IV. Sözcükler çok anlamlılığa açıktır.

Yukarıdakilerden hangileri sanatsal metnin özelliklerindedir?

- A) I. - III.
- B) I. - IV.
- C) II. - III.
- D) II. - IV.

1. OTURUM

10. Aşağıdakilerden hangisi fabl türünün özelliklerinden biridir?

- A) Tekerleme ile başlar
- B) Kahramanlar çocuklardır.
- C) Öğüt verme amacı taşır.
- D) Yazar düşüncelerini kanıtlamak zorundadır.

11. Aşağıdakilerden hangisi hikâyede bulunan bölümlerden biri değildir?

- A) Serim
- B) Düşüm
- C) Öğüt
- D) Çözüm

12. Aşağıdakilerin hangisinde masalın özellikleri yanlış verilmiştir?

- A) Anonimdir.
- B) Olağanüstü varlıklara yer verilir.
- C) Olabilecek nitelikteki olaylar anlatılır.
- D) Kahramanları soylu kişilerden seçilir.

13. Türk edebiyatında fabl türünün ilk örneği olarak kabul edilen mizahi nitelikli eser aşağıdakilerden hangisidir?

- A) Babürname
- B) Harname
- C) Seyahatname
- D) Cihannüma

14. İntibah, Namık Kemal tarafından 1876 yılında yazılmıştır. Romantizmin anlatım özelliklerini taşıyan eser, edebi nitelikleri yüksek olan ilk roman olarak kabul edilir. Babasını kaybetmiş bir delikanlının önüne çıkan engellere karşı tavrı ve hayata tutunma süreci anlatılır. Bu parçada dil hangi işlevde kullanılmıştır?

- A) Göndergesel işlevde
- B) Kanal kontrol işlevinde
- C) Sanatsal işlevde
- D) Alıcıyı harekete geçirme işlevinde

15. Aşağıdakilerden hangisi Türk edebiyatındaki olay öykücülüğünün öncü ismi olan sanatçıdır?

- A) Yakup Kadri Karaosmanoğlu
- B) Ömer Seyfettin
- C) Ahmet Hamdi Tanpınar
- D) Tarık Buğra

16. "Otlakçı, Mendil Altında" gibi ünlü hikâye kitaplarının yazarı olan sanatçı aşağıdakilerden hangisidir?

- A) Halide Edip Adıvar
- B) Memduh Şevket Esendal
- C) Osman Cemal Kaygılı
- D) Ziya Osman Saba

17. Türk edebiyatında Batılı tarzda yazılıp oynanan ilk tiyatro eseri aşağıdakilerden hangisidir?

- A) Vatan Yahut Silistre
- B) Finten
- C) Celalettin Harzemşah
- D) Kara bela

18. Aşağıdaki eşleştirmelerden hangisi yanlıştır?

- A) Telemak - İlk çeviri roman
- B) Cezmi - İlk tarihi roman
- C) Araba Sevdası - İlk realist roman
- D) Eylül - İlk edebi roman

19. Dans gösterisi biçiminde ortaya konan müzikli tiyatro türüne verilen ad aşağıdakilerden hangisidir?

- A) Opera
- B) Gösteri
- C) Skeç
- D) Bale

20. Yakup Kadri Karaosmanoğlu'nun "Kiralık Konak" adlı eseri konusu bakımından aşağıdaki roman türlerinden hangisine örnek olur?

- A) Sosyal roman
- B) Tarihî roman
- C) Macera romanı
- D) Psikolojik roman

(408) DİL VE ANLATIM – 8

1. Aşağıdakilerden hangisi açık oturumun özelliklerinden değildir?

- A) Yarışma havası içinde gerçekleştirilir.
- B) Konuya hâkim bir başkan tarafından yönetilir.
- C) Konuşmacı sayısının altı kişiyi geçmemesi tercih edilir.
- D) Ortaya atılan düşüncelerin, verilen örneklerin bilimsel geçerliliği olmalıdır.

2. Belli bir konuyu aydınlatmak amacıyla bilim adamı ve araştırmacıların bir araya geldikleri ve konuşmacıların konunun belirli bölümlerini sundukları tartışmalı toplantılara ne ad verilir?

- A) Röportaj
- B) Söylev
- C) Münazara
- D) Sempozyum

3. Alanında uzman kişilerin bir konuyu açıklamak, tanıtmak, konu hakkında bilgi vermek amacıyla yaptıkları konuşmalara ne ad verilir?

- A) Mülakat
- B) Söylev
- C) Münazara
- D) Konferans

4. Aşağıdakilerden hangisi grup halinde yapılan türlerden biri değildir?

- A) Nutuk
- B) Forum
- C) Açık oturum
- D) Panel

5. Aşağıdakilerden hangisi konferansın özelliklerinden değildir?

- A) Dinleyicinin ilgisini çekecek şekilde düzenlenir.
- B) Konferans konuları teknik bilimlerle sınırlıdır.
- C) Dinleyicileri bilgilendirmek amacıyla düzenlenir.
- D) Özgün düşünceler dile getirilir.

1. OTURUM

6. Bir konunun dinleyiciler önünde söyleşi havası içinde birkaç kişi tarafından tartışıldığı sözlü anlatım türü aşağıdakilerden hangisidir?
- A) Açık oturum B) Konferans
C) Münazara D) Forum
7. Alınan kararların bilimsel değer taşınması amacıyla basılı materyal hâline dönüştürüldüğü toplantı türü aşağıdakilerden hangisidir?
- A) Açık oturum B) Konferans
C) Sempozyum D) Forum
8. Önceden belirlenmiş bir konuda farklı görüşlere sahip kişilerin bir araya gelerek kendi görüşlerini savunurken karşı tarafın zayıf noktalarını aramak için yaptıkları eğitim amaçlı tartışma türüne ne ad verilir?
- A) Sempozyum B) Münazara
C) Açık oturum D) Forum
9. Aşağıdakilerden hangisi sempozyum başkanının görevlerinden değildir?
- A) Başlangıçta konuyla ilgili kısa bir giriş yapmalı.
B) Konuşmacıların salonda hazır bulunmalarını sağlamalı.
C) Sempozyum bildirisinin basım ve dağıtımını yapmalı.
D) Konuşmalar bittikten sonra konuyu dinleyicilerin tartışmasına açmalı.
10. Toplumu ilgilendiren bir konuda farklı gruplardan oluşan dinleyicilerin söz sırası olarak yaptıkları tartışmalara ne ad verilir?
- A) Mülakat B) Söylev
C) Konferans D) Forum
11. Aşağıdakilerden hangisi münazarada uyulması gereken kuralardan biri değildir?
- A) Süslü söyleyişlere değil; sağlam fikirlere önem verilmeli.
B) Gerektiğinde tartışma konusunun yönünü değiştirilmeli.
C) Daha önce söylenmiş düşünceleri tekrarlanılmamalı.
D) Düşünceler açık, kısa ve anlaşılır ifade edilmeli.
12. Aşağıdakilerden hangisi forum başkanında bulunması gereken özelliklerden biri değildir?
- A) Tartışma konusunu iyi bilmeli.
B) Konuşmacı ve dinleyicileri iyi tanımalı.
C) Benzer toplantılarda daha önceden başkanlık yapmış olmalı.
D) Konuşmanın akışını yönetebilecek hoşgörü ve otoriteye sahip olmalı.
13. Aşağıdakilerden hangisi münazara türüne ait bir özellik değildir?
- A) Görüş ve karşı görüş bir hakem kurulu karşısında savunulur.
B) Gruplar gerektiğinde dinleyici olarak gelenlerden yardım alır.
C) Üçer ya da dörder kişilik gruplar arasında yapılır.
D) Benlik, üstün gelme duygusu değil gerçeğe varma amaçlarıdır.
14. Aşağıdakilerden hangisi münazaralarda hakem kurulunun konuşmaları değerlendirme esaslarından değildir?
- A) Savunmada inandırıcı olma
B) Konuyu metne bakmadan sunma
C) Beden dilini doğru kullanabilme
D) Karşı grubun konuşmasını engelleme
15. Toplantılarda konuşulanların bir tutanakla tespit edilmesi aşağıdakilerin hangisinde zorunludur?
- A) Dernek toplantısı
B) Konferans
C) Münazara
D) Forum
16. Toplantıların düzenleniş nedeni aşağıdaki seçeneklerin hangisinde doğru verilmiştir?
- A) Tartışma-bilgi alışverişi
B) Dinleme-eğlenme
C) Tanışma-yönetim kurulu seçme
D) Sorun çözümü-araştırma yapma
17. Aşağıdakilerden hangisi bilimsel yazı olarak değerlendirilemez?
- A) Tarama ve değerlendirme makaleleri
B) Konferans raporu
C) Gezi yazısı
D) Toplantı özeti
18. Bilimsel yazılarda sayfa içinde geçen bir düşünce veya bilgi ile ilgili olarak sayfa altına konulan açıklamaya ne ad verilir?
- A) Kaynakça B) Dipnot
C) İndeks D) Bibliyografya
19. Aşağıdakilerden hangisi bilimsel yazının bölümlerinden değildir?
- A) Başlık B) Özet
C) Giriş D) Rapor
20. Aşağıda verilen dipnot örneklerinden hangisinin yazımı doğrudur?
- A) (1) Mehmet Kaplan, Hikâye Tahlilleri, Dergâh Yayınları, 10. Baskı, İstanbul 2004, s.96.
B) (1) Hikâye Tahlilleri, Mehmet Kaplan, Dergâh Yayınları, 10. Baskı, İstanbul 2004, s.96.
C) (1) Dergâh Yayınları, Mehmet Kaplan, Hikâye Tahlilleri, 10. Baskı, İstanbul 2004, s.96.
D) (1) İstanbul 2004, Mehmet Kaplan, Hikâye Tahlilleri, Dergâh Yayınları, 10. Baskı, s.96.

1. OTURUM

(414) TÜRK EDEBİYATI – 4

1. Bilip sözlese sözce biligke sanur Bilgisiz sözi öz başına yiyür (Bilerek söylenen söz bilgi sayılır Bilgisizin sözü kendi başını yer)

İki neng bile er karımaz özi Bir edgü kılınçlı bir edgü sözi (İnsan iki şey ile korur kendini Bir iyi işi, bir de iyi sözü)

Yukarıdaki düzelerin konu ve biçim özellikleri dikkate alındığında aşağıdaki eserlerden hangisinden alınmış olabilir?

- A) Muhakemet'l Lugateyn
- B) Divanü Lügati't-Türk
- C) Kutadgu Bilig
- D) Divan-ı Hikmet

2. I. Ansiklopedi niteliğinde ilk Türkçe sözlüktür.
II. İslamiyet öncesi döneme ait şiirlere yer verilmiştir.
III. Türkçenin bilinen ilk yazılı metnidir.
IV. Kaşgarlı Mahmut tarafından yazılmıştır.

Divanü Lügati't-Türk ile ilgili yukarıdaki verilen bilgilerden hangisi yanlıştır.

- A) I. B) II. C) III. D) IV.

3. Aşağıdakilerden hangisi İslami döneme geçişte görülen ilk eserlerin özelliklerinden biri değildir?

- A) Dini değerlere bağlılığı anlatmak
- B) Arapça sözcüklere yer vermek
- C) Hakaniye lehçesiyle yazılmış olmak
- D) İslamiyet öncesi şiirin şekil özelliklerini bütünüyle korumak

4. XIII. ve XIV. yy. da Anadolu bölgesinde gelişen Türk edebiyatı için aşağıdakilerden hangisi söylenemez?

- A) Halkın anlayabileceği bir Türkçe kullanılmıştır
- B) Ürünler genellikle dini ve kahramanlık konuludur.
- C) Siyasi çalkantıların edebiyata etkisi olmuştur.
- D) Hece ölçüsü ile ilk ürünler bu dönemde verilmiştir.

5. İlahi türü ile ilgili aşağıdaki verilen bilgilerden hangisi yanlıştır?

- A) Hece ölçüsünün 7'li, 8'li kalıpları kullanılır.
- B) Allah, peygamber, din sevgisi anlatılır.
- C) Ezgili bir söyleyişi vardır.
- D) Söyleyeni belli değildir.

6. Dede Korkut Hikâyeleri'nin özellikleri için aşağıdakilerden hangisi söylenemez?

- A) Eser, 12 hikâyeden oluşur.
- B) Eserin yazarı Dede Korkut adlı kişidir.
- C) Hikâyelerde Müslüman Oğuzların iç ve dış savaşları anlatılır.
- D) Hikâyeler düz yazı ve şiir karışık olarak yazılmıştır.

7. "Danışmendname" ile ilgili olarak aşağıdakilerden hangisi söylenemez?

- A) Halkın kolay anlayabileceği bir dille yazılmıştır.
- B) Aruz ölçüsünün kalıplarıyla yazıya geçirilmiştir.
- C) Eser, Çağatay Türkçesiyle yazıya geçirilmiştir.
- D) Danışmend Gazi'nin İslamiyet uğruna verdiği mücadeleler anlatılmaktadır.

8. Aşağıdakilerden hangisi mesnevi türünün özelliklerinden biri değildir?

- A) Nazım birimi beyittir
- B) En az 33, en fazla 99 beyitten oluşur
- C) Uyak düzeni aa/bb/cc ... biçimindedir.
- D) En uzun nazım biçimidir.

9. XIII. ve XIV. yy. da Anadolu'da siyasi gelişmelerin, çalkantıların çok olması insanları daha çok dini alana yöneltmiştir.

Bu durum aşağıdaki edebi gelişmelerden hangisinin oluşmasına neden olmuştur?

- A) Destan dönemi Türk edebiyatının oluşumuna
- B) Modern Türk edebiyatının oluşumuna
- C) Divan edebiyatının oluşumuna
- D) Tasavvufi Türk edebiyatının oluşumuna

10. Dede Korkut Hikâyeleri'nin dil özellikleri ile ilgili aşağıdakilerden hangisi söylenemez?

- A) Türkçe cümle özellikleri taşımaktadır.
- B) Benzetme ve tekrarlamaların hiç kullanılmadığı görülür.
- C) Anlatımda bir destansılık görülür.
- D) İslamiyet etkisiyle Arapça sözcüklerin kullanıldığı görülmektedir.

11. Aşağıdakilerden hangisi Türk edebiyatının İslami dönemdeki ayrımlarından biri değildir?

- A) Anonim halk edebiyatı
- B) Aşık edebiyatı
- C) Tekke edebiyatı
- D) Destan dönemi Türk Edebiyatı

12. Aşağıda Kudatgu Bilig'te yer alan kahramanlar ve onların simgelemesi eşleşmelerinden hangisi yanlıştır?

- A) Ögdilmiş - Akıl
- B) Kün Toğdı - adalet
- C) Ay Toldı - mutluluk
- D) Bilge Kağan - Cesaret

13. Batı Türkistan'ın Sayram şehrinde doğmuş İslami ilimlerini ve tasavvuf bilgilerini Buhara bölgesinde edinmiş bulunan [.....], tarikat kurucusu, şair ve din büyüğü, "hikmet" adlı şiirleriyle Türk dünyasının manevi hayatını etkilemiş nadir kişilerdendir.

Bu parçada özellikleri tanıtilan kişi aşağıdakilerden hangisidir?

- A) Dede Korkut
- B) Ahmet Yesevi
- C) Hacı Bektaş-ı Veli
- D) Yunus Emre

14. Aşağıdakilerden hangisi 13. ile 19. yy. arasında etkili olan divan edebiyatı'na verilen adlardan biridir?

- A) Dinî edebiyat
- B) Yazılı edebiyat
- C) Klasik edebiyat
- D) Modern edebiyat

1. OTURUM

15. İslamiyet etkisindeki dönemde oluşturulan ilk edebi ürünler [.....] lehçesi ile oluşturulmuştur.

- A) Karahanlı B) Oğuz
C) Azeri D) Türkmen

16. Aşağıdakilerden hangisi divan edebiyatı'nın özelliklerinden biridir?

- A) Geniş halk kitlelerince benimsenmiştir.
B) İslamiyet öncesi Şamanizm inancına uygun yapılıdır.
C) Yalın bir dil kullanılır.
D) Oluşumunda Arap ve Fars edebiyatları etkili olmuştur.

17. Destan dönemi ile İslamiyet etkisinde gelişen Türk edebiyatı dönemlerinde aşağıdakilerden hangisinde bir değişim görülmez?

- A) Nazım birimi
B) Ölüm teması
C) Nazım biçimi
D) Ölçü

18. Aşağıdaki eşleştirmelerden hangisi yanlıştır?

- A) Kutadgu Bilig - Aruzla yazılan ilk eser
B) Hoca Dehhani - Divan edebiyatının kurucusu
C) Hacı Bayram-ı Veli - Yesevilik tarikatının kurucusu
D) Yunus Emre - Tasavvuf edebiyatı

19. I. Cömertlik, cimrilik, kibir, iyi huy gibi ahlaki konularda öğütler verir.

II. Beyit ve dörtlükler biçiminde karışık olarak yazılmıştır.

III. Edip Ahmet Yüekneki tarafından yazılmıştır.

Numaralandırılmış cümlelerde özellikleri tanıtılan eser aşağıdakilerden hangisidir?

- A) Göktürk Yazıtları
B) Kutadgu Bilig
C) Atabetü'l Hakayık
D) Dede Korkut Hikâyeleri

20. Aşağıdakilerden hangisi 14. yy. divan edebiyatı sanatçılarından Ahmedi'ye ait bir eserdir?

- A) İskendername
B) Leyla ve Mecnun
C) Kanuni Mersiyesi
D) Yusuf ile Züleyha

(417) TÜRK EDEBİYATI - 7

1. Aşağıdakilerden hangisinde Modern Türk Edebiyatı dönemlerinin tarihleri doğru olarak verilmiştir?

- A) Tanzimat Dönemi (1860 - 1891)
B) Servetifünun Dönemi (1896 - 1910)
C) Millî Edebiyat Dönemi (1901 - 1911)
D) Cumhuriyet I. Dönemi (1912 - 1940)

2. Cumhuriyet Dönemi Türk Edebiyatı'nın başlangıcı için ölçü alınan siyasi gelişme aşağıdakilerden hangisidir?

- A) I. Dünya Savaşı'nın bitmesi
B) Türk Dil Kurumu'nun açılması
C) Kurtuluş Savaşı'nın kazanılması
D) Cumhuriyet'in ilan edilmesi

3. "19. Asır Türk Edebiyatı Tarihi" adlı eser aşağıdaki araştırmacılarımızdan hangisine aittir?

- A) Ahmet Hamdi Tanpınar
B) İsmail Habib Sevük
C) Agâh Sırrı Levent
D) Ahmet Kabaklı

4. Aşağıdakilerden hangisi Cumhuriyet Dönemi Türk Edebiyatı'nın genel özelliklerinden biri değildir?

- A) Yazı ve konuşma dili ayrımı kaldırılmıştır.
B) Konu ve mekan olarak Anadolu işlenmiştir.
C) Köy yaşamı eserlerde işlenmiştir.
D) Divan edebiyatının dil özellikleri benimsenmiştir.

5. Aşağıdakilerden hangisi Cumhuriyet Dönemi'nde romancılığı ile öne çıkan sanatçılardan biridir?

- A) Yahya Kemal Beyatlı
B) Yakup Kadri Karaosmanoğlu
C) Ziya Osman Saba
D) Faruk Nafiz Çamlıbel

6. Aşağıdakilerden hangisi gazeteciliğin yaygınlaşmasıyla gelişen edebi türlerden biri değildir?

- A) Şiir B) Makale
C) Gezi Yazısı D) Anı

7. Edebiyatımızda ilk örneği "Tercüman-ı Ahval Mukaddimesi" olarak bilinen edebi tür aşağıdakilerden hangisidir?

- A) Deneme B) Eleştiri
C) Makale D) Gezi Yazısı

8. Aşağıdakilerden hangisinde makale türünün özelliklerinden biri yanlış verilmiştir?

- A) Genellikle bilim, sanat konularında yazılır.
B) Kolay anlaşılabilir, senli benli anlatımı vardır.
C) Bilgi vermek amacı taşır.
D) Bir düşüncüyü savunmak amacıyla yazılır.

9. Aşağıdakilerden hangisi deneme türünün özelliklerinden biri değildir?

- A) Konu sınırı yoktur.
B) Konu ile ilgili deliller ortaya konur.
C) Okuyucuya düşüncesini kabul ettirme kaygısı yoktur.
D) İçten ve doğal bir anlatım kullanılır.

10. I. Güncel konular işlenir.
II. Okuyucular, yazıları sıcağı sıcağına okur.
III. Kısa, gazete ve dergi yazıdır.

Yukarıda özellikleri verilen edebi tür aşağıdakilerden hangisidir?

- A) Makale B) Deneme
C) Fıkra D) Gezi Yazısı

1. OTURUM

11. Aşağıdaki türlerden hangisi asıl gelişimini Cumhuriyet Dönemi'nde gerçekleştirir?

- A) Deneme B) Fıkra
C) Şiir D) Tiyatro

12. Aşağıdakilerden hangisi Cumhuriyet Dönemi'nde görülen edebi anlayışlardan biri değildir?

- A) Dini - maneviyatçı anlayış
B) Memleketçi anlayış
C) Saf şiir anlayışı
D) Fecriati anlayışı

13. Aşağıdakilerden hangisi Cumhuriyet Dönemi'nde görülen edebi topluluklardan biridir?

- A) Tanzimatçılar
B) Servetifünuncular
C) Yeni Lisançılar
D) Yedi Meşaleciler

14. Aşağıdakilerden hangisi Cumhuriyet Dönemi sanatçılarından biri değildir?

- A) Tevfik Fikret
B) Cahit Külebi
C) Ziya Osman Saba
D) Ahmet Muhip Dıranas

15. Aşağıdaki sanatçı - eser eşleştirmelerinden hangisi yanlıştır?

- A) Necip Fazıl Kısakürek - Çile
B) Mehmet Akif Ersoy - Safahat
C) Halide Edip Adivar - Yaban
D) Faruk Nafiz Çamlıbel - Han Duvarları

16. Aşağıdakilerden hangisi deneme türünde eser vermiş önemli yazarlarımızdan biri değildir?

- A) Ahmet Haşim
B) Nurullah Ataç
C) Hüseyin Cahit Yalçın
D) Sabahattin Eyüpoğlu

17. Niğde'ye yaklaşıyorduk. Yanımda oturan bir Niğdeli, şehrin eteğini saran ağaç kümeleri arasında pek iyi seçemediğim bir noktayı işaret etti. "Faruk Nafiz'in hanı." dedi. Büyük şairin han sahibi olduğu günleri de inşaallah görürüz. Fakat yol arkadaşımın bana gösterdiği bina, sadece Faruk Nafiz'in unutulmaz "Han duvarları" şiirinde, tasvir ettiği han idi. Kıyafetinden anlaşıldığına göre Niğdeli arkadaş bir esnaf yahut işçi idi.

Bu parça aşağıdaki edebi türlerden hangisinden alınmış olabilir?

- A) Fıkra B) Makale
C) Biyografi D) Gezi Yazısı

18. Miratül Memalik (Ülkelerin Görünümü) adını taşıyan, ilk gezi yazısı örneği aşağıdakilerden hangisi tarafından yazılmıştır?

- A) Ziya Paşa
B) Katip Çelebi
C) Bağdatlı Ruhi
D) Seydi Ali Reis

19. Aşağıdaki sanatçı - eser eşleştirmelerinden hangisi yanlış verilmiştir?

- A) Ahmet Haşim - Frankfurt Seyahatnamesi
B) Fatih Rıfki Atay - Denizaşırı
C) Halit Ziya Uşaklıgil - Hac Yolunda
D) Reşat Nuri Güntekin - Anadolu Notları

20. Aşağıdakilerden hangisi gezi yazısının özelliklerinden biri değildir?

- A) Amaç, görülen yerleri tanıtmaktır.
B) Gezilen yerler uzun betimlemelerle anlatılır.
C) İlgi çekecek nitelikteki olaylar anlatılır.
D) Anlatımı inandırıcı olmalı, düşünce kanıtlanmalıdır.

(418) TÜRK EDEBİYATI – 8

1. Aşağıdakilerden hangisi "öz şiir" anlayışının özelliklerinden biri değildir?

- A) Sanat, sanat için yapılmalıdır.
B) Sanat, hiçbir ideolojinin egemenliğinde olmamalıdır.
C) Sanat, topluma yön verme ödevine sahiptir.
D) Şiir anlaşılaktan çok duyulmak, hissedilmek için yazılır.

2. Cumhuriyet Dönemi şiirinin öncü şairlerinden biridir. Şiirlerinde yaşama sevinç, ölüm korkusu, yalnızlık, aşk gibi temaları işlemiştir. Şiirlerinde Baudelaire, Verlaine gibi Fransız şairlerin etkisinde kalmıştır. Otuz Beş Yaş, Ömrümde Sükut eserlerinden bazılarıdır.

Bu parçada tanıtılan şair aşağıdakilerden hangisidir.

- A) Orhan Veli Kanık
B) Cahit Sıtkı Tarancı
C) Ahmet Muhip Dıranas
D) Yahya Kemal Beyatlı

3. Aşağıdakilerden hangisi Cumhuriyet Dönemi'nde etkili olan edebi gruplardan biri değildir?

- A) Garipçiler
B) Yeni Lisançılar
C) Beş Hececiler
D) Yedi Meşaleciler

4. Aşağıdakilerden hangisi "Yedi Meşaleciler" grubunun özelliklerinden biridir?

- A) Anadolu ve Anadolu insanı şiirlerde anlatılır.
B) Yurdun güzellikleri, yurdu kurtarmak için verilen mücadele konu olarak işlenir.
C) Uyak ve ölçüye karşı çıkılır.
D) Edebiyatta; samimilik, içtenlik ve yenilik hakim olmalı ilkesi savunulur.

1. OTURUM

5. Şiirlerinde evler, odalar, sokak, doğa konularını işlemiştir. Ev konusunu çok işlemesi nedeniyle "evler şairi" olarak anılmıştır. Bir anlayışın egemenliğine girmeden kendine özgü bir şiir dünyası kurmuştur. Halk kültüründen aldığı unsurları Batı şiiri ile birleştirmiştir. Radyo oyunu da yazmıştır. **Kapalı Çarşı, Evler, Eski Toprak eserlerinden bazılarıdır.** Bu parçada tanıtılan sanatçı aşağıdakilerden hangisidir?

- A) Cahit Külebi
- B) Sezai Karakoç
- C) Behçet Necatigil
- D) Asaf Halet Çelebi

6. Aşağıdakilerden hangisi "Yedi Meşaleciler" topluluğunda yer alan sanatçılardan biridir?

- A) Ahmet Hamdi Tanpınar
- B) Ziya Osman Saba
- C) Fazıl Hüsnü Dağlarca
- D) Necip Fazıl Kısakürek

7. Aşağıda verilen bilgilerden hangisi doğrudur?

- A) Ahmet Hamdi Tanpınar, yalnızca şiir yazmış, toplumcu şiirin öncü sanatçılarından değildir.
- B) Sembolizm şairler toplumsal sorunları ön planda tutmuşlardır.
- C) Öz şiir anlayışındaki Türk şairleri imge yüklü bir dil kullanmışlardır.
- D) Necip Fazıl Kısakürek, bayrak şairi olarak tanınmıştır.

8. Aşağıdaki sanatçı-eser eşleştirmelerinden hangisi **yanlıştır**?

- A) Cahit Külebi - Hikâye
- B) Ahmet Haşim - Merdiven
- C) Necip Fazıl Kısakürek - Çile
- D) Yahya Kemal Beyatlı - Bursa'da Zaman

9. Yedi tepeye kurulmuş
Pul pul
Gümüş gümüş balıkları
Pul pul
Işıktan sudan örülmüş
Canım İstanbul
(Bedri Rahmi Eyüpoğlu)
Bu şiirde işlenen tema aşağıdakilerden hangisidir?

- A) İstanbul'un güzellikleri
- B) İstanbul'un tarihi
- C) İstanbul'un önemi
- D) İstanbul'un kalabalıklığı

10. Aşağıdakilerden hangisi toplumcu gerçekçi şiir için söylenebilir?

- A) En önemli temsilcisi Sezai Karakoç'tur.
- B) Sembolizm akımından etkilenmişlerdir.
- C) Sanatın sosyal sorunlara çözüm getirmesi gerektiğini savunmuşlardır.
- D) İ. Yeni şiirinden etkilenmişlerdir.

11. Trrum

trrum

trrum!

trak tiki tak

Makineleşmek istiyorum

Beynimden, etimden, iskeletimden geliyor bu!

Her dinamoyu

Altıma almak için çıldırıyorum.

(Nazım Hikmet)

Yukarıdaki dizeler Nazım

Hikmet'in hangi edebi akımdan etkilendiğini göstermektedir?

- A) Realizm
- B) Fütürizm
- C) Romantizm
- D) Klasisizm

12. Aşağıdakilerden hangisi Necip Fazıl Kısakürek'in işlediği ana temalardan biridir?

- A) Dünyanın güzellikleri
- B) Madde ve ruh problemleri
- C) Batı'ya olan hayranlık
- D) Deniz özlemi

13. Yurt güzelliklerini anlatan "Çoban Çeşmesi" adlı eser aşağıdaki sanatçılardan hangisine aittir?

- A) Kemalettin Kamu
- B) Ömer Bedrettin Uşaklı
- C) Faruk Nafiz Çamlıbel
- D) Necmettin Halil Onan

14. Yurt sevgisi, yurdun güzellikleri gibi konuları lirik bir tarzda işlemiştir. Halk edebiyatımızın şekil ve ölçü anlayışını başarıyla uygulamıştır. "Bingöl Çobanları" adlı yurt güzelliklerini anlattığı şiiriyle tanınmıştır. İstanbul'un işgali dolayısıyla yazdığı "Gurbet" adlı şiiri dolayısıyla "gurbet şairi" olarak da bilinir.

Bu parçada tanıtılan sanatçı aşağıdakilerden hangisidir?

- A) Kemalettin Kamu
- B) Zeki Ömer Defne
- C) Arif Nihat Asya
- D) Halide Nuster Zorlutuna

15. Havaya Çizilen Dünya ilk şiir kitabıdır. Halk şiir geleneğinden modern tarza uzanan geniş bir alandaki biçim özelliklerini denemiştir. Yenilik peşinde koşan, sürekli kendini yenilemeye çalışan biridir. Kurtuluş Savaşı süresince anlattığı Çakır'ın Destanı, Üç Şehitler Destanı gibi eserleri nedeniyle destan şairi olarak da anılır.

Bu parçada özellikleri tanıtılan sanatçı aşağıdakilerden hangisidir?

- A) Ahmet Hamdi Tanpınar
- B) Fazıl Hüsnü Dağlarca
- C) Asaf Halet Çelebi
- D) Bedri Rahmi Eyüpoğlu

1. OTURUM

16. Eve ekmek ve tuz götürmeyi Böyle havalarda unuttum Şiir yazma hastalığım Böyle havalarda nüksetti Beni bu güzel havalar mahvetti

Bu şiir, söyleyiş özellikleri dikkate alındığında aşağıdakilerden hangisinin etkisinde yazılmıştır?

- A) Garipçiler
B) Saf şiirciler
C) Beş hececiler
D) Toplumcu gerçekçiler

17. (I) Orhan Veli, geleneksel şiir anlayışına karşı çıkmıştır. (II) Yazdığı "Garip" ön sözünde şiirle ilgili düşüncelerini dile getirmiştir. (III) Konuşma dili ile sıradan günlük konuları işlemiştir. (IV) Ahengi sağlamak için ölçü ve aliterasyonların önemini savunmuştur.

Orhan Veli Kanık ile ilgili yukarıdaki bilgilerden hangisinde yanlışlık yapılmıştır?

- A) I. B) II. C) III. D) IV.

18. I. Sanat sanat için yapılmalı diyerek bireysel konuları işlemişlerdir.
II. Halk edebiyatı nazım biçimlerini kullanmışlardır.
III. Basitlik, sadelik düşüncesiyle şairane söyleşilere karşı çıkmışlardır.

Bu bilgilerle aşağıdaki edebi anlayışlar eşleştirildiğinde hangisi dışarıda kalır?

- A) I. Yeni
B) Yedi Meşale
C) Maviciler
D) Millî edebiyatçı anlayışı

19. Aşağıdakilerden hangisinde II. Yeni akımının özellikleri yanlış verilmiştir?

- A) Şiirde aklın ön plana geçmesine karşı çıkmışlardır.
B) Halk şiir geleneğinin biçimlerinden yararlanmışlardır.
C) İmgeli, soyut bir şiir dili oluşturmuşlardır.
D) Söz sanatlarına yer vermişlerdir.

20. Mavi dergisini çıkarmış, Mavici akımın temsilcisi olmuştur. Garip şiirini çok basit, II. Yeni şiirini karışık ve zayıf bularak ikisine de karşı çıkmıştır. Bazen bireyci bazen toplumcu bir çizgide aşk, barış, özgürlük, insan sevgisi gibi konuları işlemiştir. Tutkunun Günlüğü, Sisler Bulvarı, Ben Sana Mecburum şiir kitaplarından bazılarıdır.

Bu parçada tanıtılan sanatçı aşağıdakilerden hangisidir?

- A) Ahmet Oktay
B) Attila İlhan
C) Hilmi Yavuz
D) İlhan Geçer

(421) FİZİK - 1

1. Elektrik akımını geçiren telin etrafında oluşan manyetik alanı, mıknatısları ve mıknatısların demir, nikel, kobalt gibi maddeleri çekmesini inceleyen fizik biliminin alt alanı aşağıdakilerden hangisidir?

- A) Elektrik
B) Mekanik
C) Manyetizma
D) Termodinamik

2.

Kaplıcanın suyu çok sıcak.

Can'ın boyu çok kısa.



Ömer



Elif

Halının kenar uzunlukları 2 m ve 3 m olarak ölçülmüştür.

Bu çanta çok ağır.



Ali



Yahya

Yukarıdaki gözlemleri yapan öğrencilerden hangisinin gözlemi nicel gözlemdir?

- A) Ömer B) Elif
C) Ali D) Yahya

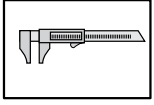
3. Aşağıdakilerden hangisinde temel büyüklüğün birimi (SI) birim sistemine göre yanlış yazılmıştır?

- A) Uzunluk - Metre
B) Elektrik akımı - Amper
C) Sıcaklık - Kelvin
D) Zaman - Saat

1. OTURUM

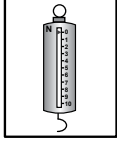
4. Bir maddenin kütlesini ölçmeye yarayan alet aşağıdakilerden hangisidir?

A)



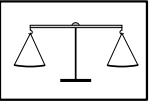
Kumpas

B)



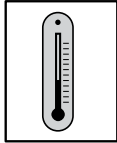
Dinamometre

C)



Eşit kollu terazi

D)



Termometre

5. Fizikteki büyüklükler skaler ve vektörel büyüklükler olarak ikiye ayrılır.

Buna göre aşağıdakilerden hangisi skaler bir büyüklüktür?

- A) Tarlanın alanı 12000 m^2 'dir.
B) Rüzgar 42 km/h hızla esiyor.
C) Kamyonun hızı 80 km/h tir.
D) Kitabın ağırlığı 20 N dur.

6. Aşağıda verilen büyüklüklerin birim çevirmelerinden hangileri doğrudur?

- I- $4 \text{ ton} = 4000 \text{ kg}$
II- $70 \text{ dk} = 4200 \text{ s}$
III- $24 \text{ dm} = 0,24 \text{ m}$


- A) Yalnız I
B) I ve II
C) I ve III
D) I, II ve III

7. Gücü 4 kW olan bir ısıtıcı 6 saat boyunca çalıştırılıyor.

Buna göre bu ısıtıcı kaç kWh enerji harcamış olur?

- A) 12 B) 24 C) 240 D) 24000

8. Sürtünmesiz yatay düzlemdeki bir cisme etki eden net kuvvetin yola bağlı değişim grafiği şekildeki gibidir.



Buna göre, cisme etki eden net kuvvetin 4 m yol sonunda yaptığı iş kaç joule'dür?

- A) 10 B) 20 C) 40 D) 50

9. Hasan, 6 kg kütleli su dolu kovayı, yerden 8 m yükseklikteki binanın üstüne çıkarıyor.

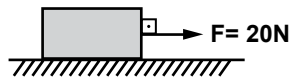
Buna göre, Hasan'ın yerçekim kuvvetine karşı yaptığı iş kaç joule'dür? ($g = 10 \text{ m/s}^2$)

- A) 480 B) 80 C) 60 D) 48

10. Aşağıdaki olayların hangisinde fiziksel anlamda iş yapılmıştır?

- A) Başındaki su dolu kabı yatay yolda taşıyan kadın
B) Sırt çantası ile yatay yolda okula giden çocuk
C) Kuyudan kova ile su çeken adam
D) Masasında oturan öğrenci

11. Yol boyunca 5 N 'luk sürtünme kuvvetinin etki ettiği tahta bloğa 20 N 'luk kuvvet şekildeki gibi uygulanıyor.



Cismin 4 m 'lik yatay yol boyunca hareket ettirilmesi sonucunda kuvvetin yaptığı iş (W_F) ile sürtünme kuvvetinin yaptığı iş (W_{Fs}) arasındaki fark kaç J'dür?

- A) 20 B) 60 C) 80 D) 100

12. Kütleli 12 kg olan bir kartal 5 m/s hızla uçarken sahip olduğu kinetik enerji kaç J'dür?

- A) 30 B) 60 C) 150 D) 300

13. Bir asansörde, 1600 J 'lük enerji harcadığında 1200 J 'lük iş elde edildiği ölçüldü.

Buna göre asansörün verimi % kaçtır?

- A) 75 B) 80 C) 85 D) 90

14. Aşağıdakilerden hangisi yenilenebilir enerji kaynaklarından?

- A) Jeotermal enerji
B) Rüzgar enerjisi
C) Güneş enerjisi
D) Nükleer enerji

15. Aşağıdakilerin hangisinde ısı yalnızca ışıma yoluyla yayılmıştır?

- A) Güneşin dünyamızı ısıtması
B) Kaloriferin odamızı ısıtması
C) Sobaya eli değen çocuğun elinin yanması
D) Sıcak yemek içindeki kaşığı eline alan kişinin elinin yanması

16. Bir metal kaşığın sıcaklığı Celcius termometresi ile 30°C olarak ölçüldü. Bu kaşığın sıcaklığı Kelvin termometresi ile ölçülseydi kaç $^\circ\text{K}$ olarak ölçülürdü?

- A) 253 B) 273 C) 293 D) 303

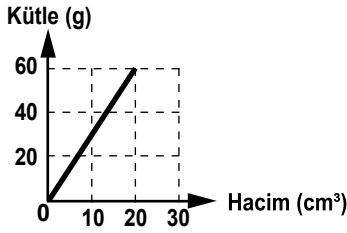
1. OTURUM

(425) FİZİK – 5

17. İçinde 80 cm^3 su bulunan dereceli silindirin içine bir demir bilye atılıyor. Bilye suya atıldığında su seviyesinin 110 cm^3 olduğu gözleniyor. Buna göre demir bilyenin hacmi kaç cm^3 tür?

A) 20 B) 30 C) 80 D) 190

18. Katı bir maddenin kütle-hacim grafiği şekildeki gibidir.



Buna göre bu katının 180 g ağırlığındaki bir parçasının hacmi kaç cm^3 tür?

A) 30 B) 60 C) 120 D) 160

19. Aşağıdakilerden hangisi kimyasal değişmeye uğramıştır?

A) Camın kırılması
B) Mumun erimesi
C) Elmanın çürümesi
D) Suyun kaynaması

20. Hidrojen bombasının patlamasıyla açığa çıkan büyük enerji aşağıdakilerden hangisi ile açıklanır?

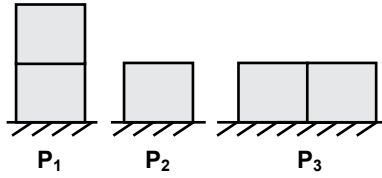
A) Füzyon B) Filyon
C) Bileşik D) Fiziksel değişim

1. Ağırlıkları eşit K ve L küplerinin yüzey alanları sırası ile $2S$ ve $3S$ kadardır.

K küpünün yere uyguladığı basınç P olduğuna göre L'nin yere uyguladığı basınç kaç P olur?

A) $\frac{1}{2}$ B) 1 C) $\frac{3}{2}$ D) $\frac{2}{3}$

2. Küp şeklindeki özdeş cisimler şekildeki gibi üç farklı konumda yatay zemine yerleştiriliyor.



Cisimlerin zemine yaptıkları P_1 , P_2 ve P_3 basınçları arasındaki ilişki aşağıdakilerden hangisi gibidir?

A) $P_1 > P_2 = P_3$
B) $P_1 = P_2 = P_3$
C) $P_2 > P_3 > P_1$
D) $P_1 = P_2 > P_3$

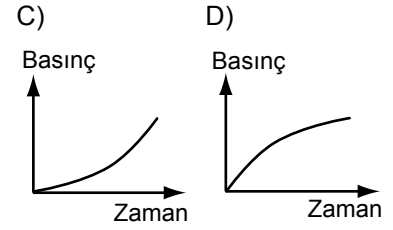
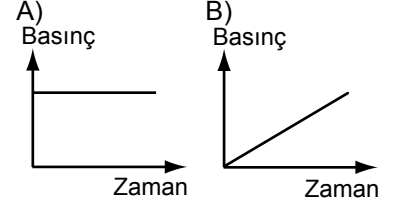
3. Su ile tamamen dolu bir kabın içine bırakılan cisim, kaptan 3 N ağırlığında su taşıyor.

Buna göre, cisme uygulanan kaldırma kuvveti kaç N 'dur?

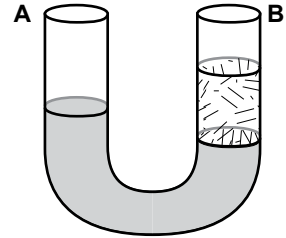
A) 6 B) 4 C) 3 D) 2

4. Küp şeklindeki boş bir kaba, akış hızı sabit olan musluktan su dolduruluyor.

Buna göre, sıvının tabana uyguladığı basınç ile zaman arasındaki grafik aşağıdakilerden hangisi olabilir?



5. Şekildeki U borusunun A koluındaki sıvının yoğunluğu $0,6 \text{ g/cm}^3$ 'tür.



Sıvılar U borusundan şekildeki gibi dengede olduğuna göre; B borusundaki kolda bulunan sıvının yoğunluğu aşağıdakilerden hangisi olabilir?

A) 0,9 B) 0,8 C) 0,7 D) 0,4

6. Aşağıdakilerden hangisi ısı birimi olarak kullanılır?

A) Joule B) Pascal
C) Kelvin D) Celcius

1. OTURUM

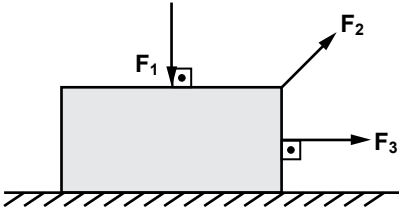
7. Metal bir bilyenin üç farklı sıvı içinde denge durumu şekildeki gibidir.



Buna göre, sıvıların bilyeye uyguladığı F_K , F_L ve F_M kaldırma kuvvetleri arasındaki ilişki nasıldır?

- A) $F_K > F_L > F_M$
 B) $F_K > F_M > F_L$
 C) $F_K = F_L = F_M$
 D) $F_K > F_L = F_M$

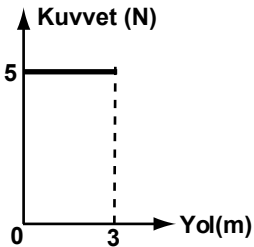
8. F_1 , F_2 ve F_3 kuvvetleri şekildeki cisme ayrı ayrı uygulanıyor.



Buna göre, hangi kuvvetler tek başına iş yapabilir?

- A) Yalnız F_1 B) F_1 ve F_2
 C) F_2 ve F_3 D) F_1, F_2 ve F_3

9. Bir cisme uygulanan kuvvet ile aldığı yol, şekildeki grafikte verilmiştir.



Buna göre, 3 m yol sonunda kuvvetin yaptığı iş kaç N.m'dir?

- A) 20 B) 15 C) 10 D) 5

10. Kütlesi 1 kg olan bir oyuncak arabanın hızı 2 m/s'dir.

Buna göre, bu arabanın kinetik enerjisi kaç J'dür?

- A) 2 B) 4 C) 6 D) 8

11. Sürtünmesiz yatay düzlemde 2 m/s hızla hareket eden 2 kg kütleli bir cisme, ilk hızı yönünde 7 N'luk kuvvet 3 m'lik yol boyunca etki ediyor.

Buna göre, cismin son hızı kaç m/s olur?

- A) 6 B) 5 C) 4 D) 3

12. Kütlesi 2 kg olan içi boş silindirin yarıçapı 0,1 m'dir.

Buna göre, silindirin eylemsizlik momenti kaç kg.m²'dir?

- A) $5 \cdot 10^{-2}$ B) $4 \cdot 10^{-2}$
 C) $3 \cdot 10^{-2}$ D) $2 \cdot 10^{-2}$

13. Yay sabiti 100 N/m olan bir yay 0,2 m sıkıştırılırsa yayda depo edilen enerji kaç J'dür?

- A) 2 B) 3 C) 4 D) 5

14. Hava sürtünmesinin önemsenmediği bir yerde 2 metre yükseklikten bir cisim serbest bırakılıyor.

Buna göre, cisim yere kaç m/s hızla çarpar? ($g = 10 \text{ m/s}^2$)

- A) $4\sqrt{10}$ B) $3\sqrt{10}$
 C) $2\sqrt{10}$ D) $\sqrt{10}$

15. Kütlesi 1200 kg, hızı 20 m/s olan bir otomobilin momentumu kaç kg.m/s'dir?

- A) 48000 B) 24000
 C) 12000 D) 6000

16. Üzerinden 1A'lık akım geçen telin 10 cm uzağında oluşan manyetik alanın şiddeti kaç Tesla'dır? ($K = 10^{-7} \text{ T.m/A}$)

- A) $4 \cdot 10^{-6}$ B) $3 \cdot 10^{-6}$
 C) $2 \cdot 10^{-6}$ D) 10^{-6}

17. Üzerinden i akımı geçen ℓ uzunluğundaki selenoidin merkezinde B manyetik alanı oluşmaktadır.

Sadece akım şiddeti 2i olursa manyetik alan kaç B olur?

- A) 1 B) 2 C) 3 D) 4

18. Boyu 1 m olan tel 5 T manyetik alan içinde, alana dik durmaktadır.

Telin üzerinden 1 A'lık akım geçtiğine göre, tele etki eden kuvvet kaç N'dür?

- A) 5 B) 7 C) 9 D) 10

19. q yüküne sahip bir parçacık B manyetik alanında manyetik alana dik doğrultuda v hızıyla hareket ederse bu yüklü parçacığa etki eden kuvvet aşağıdakilerden hangisi ile ifade edilir?

- A) $\frac{B \cdot q}{v}$ B) $\frac{B \cdot v}{q}$
 C) $B \cdot q \cdot v$ D) $B \cdot q$

1. OTURUM

20. Aşağıdaki maddelerden hangisi diyamanyetik maddelere örnek olabilir.

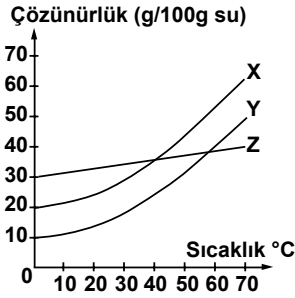
- A) Demir B) Nikel
C) Alüminyum D) Bakır

(432) KİMYA – 2

1. Sulu çözelti kullanılarak hazırlanan bir elektrik devresi çalışıyorsa, bu devrede elektrolit olarak kullanılan madde aşağıdakilerden hangisi olabilir?

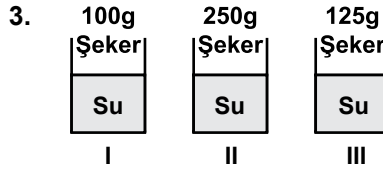
- A) Karbon dioksit
B) Etil alkol
C) Şeker
D) Yemek tuzu

2. X, Y, Z maddelerine ait çözünürlük - sıcaklık grafiği verilmiştir.



Grafiğe göre, bu maddelerin çözünürlükleriyle ilgili aşağıdakilerden hangisi doğrudur?

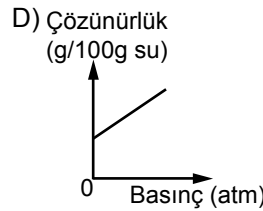
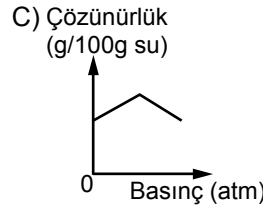
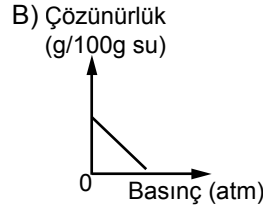
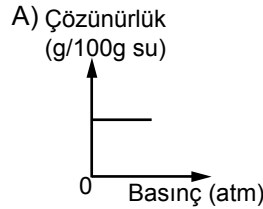
- A) 0 °C'ta Y'nin çözünürlüğü en fazladır.
B) X ve Y ısı alarak, Z ısı vererek çözünür.
C) 50 °C'ta çözünürlüğü en fazla olan X'tir.
D) X, Y ve Z kesinlikle gaz maddelerdir.



Aynı miktarda su kullanılarak hazırlanan yukarıdaki çözeltilerin, seyreltikten derişige doğru sıralaması hangisinde doğru verilmiştir?

- A) I - II - III B) I - III - II
C) II - III - I D) II - I - III

4. H₂ gazının 20 °C'ta, sudaki çözünürlüğünün basınçla değişimini gösteren grafik aşağıdakilerden hangisi olabilir?



5. Aşağıdakilerden hangisi, tane-cik boyutu farkından yararlanarak karışımları ayırmada kullanılan yöntemlerden biridir?

- A) Eleme B) Yüzdürme
C) Aktarma D) Damıtma

6. Bir katının sıvı içinde dağılmasıyla oluşan karışım, süzme işlemi ile bileşenlerine ayrılıyor. Buna göre, karışım ile ilgili aşağıdakilerden hangisi doğrudur?

- A) Homojendir.
B) Heterojendir.
C) Saf maddedir.
D) Katı, sıvıda çözülmüştür.

7. Buğday ve saman savrulduğunda rüzgar yardımıyla birbirinden ayrılıyor. Bu ayırma işlemi, buğday ve samanın aşağıdaki özelliklerinden hangisinin farklı olmasına dayanır?

- A) Erime noktalarının
B) Tane büyüklüklerinin
C) Yoğunluklarının
D) Çözünürlüklerinin

8. İçinde bakır metali bulunan altın bir kolye saflaştırılmak isteniyor. Bu amaçla kolyeye aşağıdaki işlemlerden hangisi uygulanmalıdır?

- A) Damıtma
B) Buharlaştırma
C) Erime noktası farkı
D) Ayrımsal kristalleştirme

9. Apolar yağ molekülleri, polar yapıdaki suda çözünmez, ancak sabunlu sularda çözünür. Bunun nedeni sabunun aşağıdaki hangi özelliği ile ilgilidir?

- A) Polar uç içermesi
B) Apolar uç içermesi
C) Çok sayıda C ve H atomundan oluşması
D) Katı ve sıvı hâlde olabilmesi

1. OTURUM

(436) KİMYA – 6

10. Aşağıdakilerden hangisi sabun ve deterjanların ortak özelliğidir?

- A) Hidrofil ve hidrofob uç içerme
- B) Ca^{2+} ve Mg^{2+} iyonları ile çökelek oluşturma
- C) Kuvvetli bazik çözelti oluşturma
- D) Sert sularda köpürebilme

11. Çamaşır sodası, zor yağların temizlenmesinde tercih edilir. Çamaşır sodası bu temizleme işlemini, yağları aşağıdakilerden hangisine dönüştürerek gerçekleştirir?

- A) Baza
- B) Aside
- C) Çamaşır suyuna
- D) Yağ asidi tuzuna

12. Aşağıdakilerden hangisi klorlu çamaşır sularında bulunan yükseltgen maddelerden biridir?

- A) NaClO
- B) KOH
- C) H_2O_2
- D) Na_2CO_3

13. Kirecin söndürülmesi bir hidrasyon (su katılması) olayıdır. Buna göre, aşağıdaki tepkime denklemlerinden hangisi kirecin söndürülmesi olayına aittir?

- A) $2\text{CaO} \cdot \text{SiO}_2 + 2\text{H}_2\text{O} \rightarrow \text{CaO} \cdot \text{SiO}_2 \cdot \text{H}_2\text{O} + \text{Ca}(\text{OH})_2$
- B) $\text{Ca}(\text{OH})_2 + \text{CO}_2 \rightarrow \text{CaCO}_3 + \text{H}_2\text{O}$
- C) $\text{CaO} + \text{H}_2\text{O} \rightarrow \text{Ca}(\text{OH})_2$
- D) $\text{CaCO}_3 \rightarrow \text{CaO} + \text{CO}_2$

14. Aşağıdaki maddelerden hangisinin yapısında kil bulunmaz?

- A) Çini
- B) Porselen
- C) Tuğla
- D) Lehim

15. Aşağıdakilerden hangisi yağlı boyaların üretiminde kullanılan inceltici (çözücü) maddelerden biri değildir?

- A) Alkol
- B) Aseton
- C) Su
- D) Tiner

16. Aşağıdakilerden hangisi elektrik yalıtım malzemesi olarak kullanılabilir?

- A) Çelik
- B) Porselen
- C) Beyaz altın
- D) Gümüş para

17. Yeşil bitkilerde gerçekleşen tepkimelerden ikisi ile ilgili bilgiler verilmiştir.

- I. Tepkime: Havadan CO_2 alınır ve besin üretilir.
- II. Tepkime: Havadan O_2 alınır ve enerji üretilir.

Buna göre, I. ve II. tepkimeler aşağıdakilerden hangisidir?

- | | |
|---------------|------------|
| I | II |
| A) Fotosentez | Solunum |
| B) Sindirim | Fotosentez |
| C) Solunum | Fotosentez |
| D) Sindirim | Solunum |

18. Hem insanlarda hem de yeşil bitkilerde aşağıdakilerin hangisinde verilen tepkimeler gerçekleşir?

- A) Yalnız fotosentez
- B) Yalnız solunum
- C) Sindirim ve fotosentez
- D) Solunum ve fotosentez

19. Besin içeriklerinden birisinin kimyasal sindirimine ait tepkime aşağıda verilmiştir.



Bu tepkimedeki X maddesi aşağıdakilerden hangisi olabilir?

- A) Nişasta
- B) Yağ
- C) Protein
- D) Glikoz

20. Aşağıdaki maddelerden hangisi çevre kirliliğine neden olmaz?

- A) O_3
- B) CO_2
- C) SO_2
- D) O_2

1. Arrhenius teorisine göre aşağıdakilerden hangisinin sulu çözeltisi asit özelliği gösterir?

- A) NH_3
- B) HCl
- C) CO_2
- D) CaO

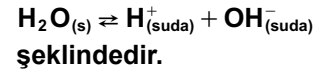
2. Aşağıdaki bileşiklerden hangisinin sulu çözeltisi bazik özellik gösterir? ($3\text{Li}, 6\text{C}, 7\text{N}, 8\text{O}, 16\text{S}$)

- A) Li_2O
- B) CO_2
- C) N_2O
- D) SO_2

3. CH_3COOH 'in değeri aşağıdaki asitlerden hangisinin değeriyle aynıdır?

- A) H_2CO_3
- B) H_3PO_4
- C) H_2SO_4
- D) HNO_3

4. Saf suyun iyonlaşma denklemini,



şeklinde gösterilir.

Buna göre, suyun iyonlaşma sabitini (K_{su}) veren bağıntı aşağıdakilerden hangisidir?

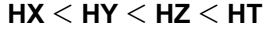
- A) $K_{su} = \frac{[\text{H}^+][\text{OH}^-]}{[\text{H}_2\text{O}]}$
- B) $K_{su} = \frac{[\text{H}_2\text{O}]}{[\text{H}^+][\text{OH}^-]}$
- C) $K_{su} = [\text{H}^+][\text{OH}^-]$
- D) $K_{su} = [\text{H}^+][\text{OH}^-][\text{H}_2\text{O}]$

5. pH değeri 4 olan bir çözeltideki H^+ ve OH^- iyonlarının derişimi kaç molardır?

- | | | |
|----|--------------------------------------|---------------------|
| | $\frac{[\text{H}^+]}{[\text{OH}^-]}$ | |
| A) | 4×10^{-1} | 4×10^{-13} |
| B) | 4×10^{-4} | 4×10^{-10} |
| C) | 1×10^{-4} | 1×10^{-10} |
| D) | 1×10^{-10} | 1×10^{-4} |

1. OTURUM

6. Periyodik tablonun aynı A grubunda bulunan X, Y, Z ve T elementlerinin hidrojenli bileşiklerinin asitlik kuvveti sıralaması,



şeklinde dir. Buna göre, bu A grubundaki ilk element aşağıdakilerden hangisi olabilir?

- A) X B) Y C) Z D) T

7. Belirli bir sıcaklıkta, 0,001 molar NH_3 çözeltisinin pOH değeri kaçtır? ($K_b = 1 \times 10^{-5}$)

- A) 1×10^{-5} B) 1×10^{-4}
C) 4 D) 5

8. 0,4 M 200 mL NaOH çözeltisini tamamen nötrleştirmek için 0,2 M'lık HCl çözeltisinden kaç mL gerekir?

- A) 100 B) 200 C) 300 D) 400

9. Bazı asit ve bazların kuvveti tabloda verilmiştir.

Asit ve Bazın Kuvveti	Formülü
Kuvvetli baz	KOH
Kuvvetli asit	HCl
Zayıf baz	NH_3
Zayıf asit	CH_3COOH

Tabloya göre, aşağıda verilen madde çiftlerinden hangisi ile bir tampon çözelti hazırlanır?

- A) CH_3COOK ve CH_3COOH
B) KCl ve HCl
C) KOH ve HCl
D) NH_3 ve CH_3COOH

10. ZnO bileşiği; NaOH karşısında asit, HCl karşısında ise baz gibi davranır.

Bu özelliğinden dolayı ZnO aşağıdaki sınıflamalardan hangisine dahil edilir?

- A) Nötr tuz
B) Amfoter madde
C) Tampon çözelti
D) İndikatör madde

11. Redoks tepkimeleri ile ilgili aşağıdakilerden hangisi yanlıştır?

- A) Tepkimede alınan ve verilen elektron sayısı eşittir.
B) İndirgenme ve yükseltgenme birlikte gerçekleşir.
C) İndirgen ve yükseltgen maddeler bulunur.
D) Daima kendiliğinden gerçekleşir.

12. I- H_2O

II- NH_3

III- NaH

Yukarıdaki bileşiklerin hangilerinde hidrojen atomunun yükseltgenme basamağı +1'dir?

- A) Yalnız III B) I ve II
C) II ve III D) I, II ve III

13. Bir volta pili ile ilgili aşağıdakilerden hangisi doğrudur?

- A) İki yarı pilden oluşur.
B) Elektronlar katottan anota doğru akar.
C) Anotta indirgenme gerçekleşir.
D) Katotta yükseltgenme gerçekleşir.

14. Hidrojenin yükseltgenme eğilimi, Ag'nin yükseltgenme eğiliminden büyük olduğuna göre, Ag ve standart hidrojen elektrot ile oluşturulmuş bir volta pilinde anot yarı tepkimesi hangisidir?

- A) $\text{H}_{2(g)} \rightarrow 2\text{H}_{(suda)}^+ + 2\text{e}^-$
B) $\text{Ag}_{(suda)}^{+2} + 2\text{e}^- \rightarrow \text{Ag}_{(k)}$
C) $2\text{H}_{(suda)}^+ + 2\text{e}^- \rightarrow \text{H}_{2(g)}$
D) $\text{Ag}_{(k)} \rightarrow \text{Ag}_{(suda)}^{+2} + 2\text{e}^-$

15. İki yarı pilin indirgenme yarı tepkimeleri ve standart indirgenme gerilimleri verilmiştir.



Buna göre, Pb – Cu yarı pilleriyle oluşturulan elektrokimyasal pil ile ilgili aşağıdakilerden hangisi doğrudur?

- A) Pil çalışmaz.
B) $\text{Pb}_{(suda)}^{+2}$ indirgenir.
C) $\text{Cu}_{(k)}$ yükseltgenir.
D) $E_{\text{pil}}^0 = +0,47$ voltur.

16. Ag yarı pilinin tepkimesi ve standart indirgenme gerilimi verilmiştir.



Buna göre, $2\text{Ag}_{(k)} \rightarrow 2\text{Ag}_{(suda)}^+ + 2\text{e}^-$ yarı tepkimesinin gerilimi kaç voltur?

- A) -1,60 B) -0,80
C) +0,80 D) +1,60

17. Aşağıdakilerden hangisi çalışan bir derişim pilinin şemasıdır?

- A) $\text{Pb}/\text{Pb}^{+2}(0,1\text{M})//\text{Pb}^{+2}(0,001\text{M})/\text{Pb}$
B) $\text{Al}/\text{Al}^{+3}(0,1\text{M})//\text{Al}^{+3}(0,1\text{M})/\text{Al}$
C) $\text{Pb}/\text{Pb}^{+2}(0,01\text{M})//\text{Pb}^{+2}(0,1\text{M})/\text{Pb}$
D) $\text{Al}/\text{Al}^{+3}(0,1\text{M})//\text{Pb}^{+2}(1\text{M})/\text{Pb}$

18. Asidik ortamda gerçekleşen $\text{Cr}_2\text{O}_7^{2-} + \text{Cl}^- \rightarrow \text{Cr}^{+3} + \text{Cl}_2$ tepkimesinin denklemi en küçük tam sayılarla denkleştirildiğinde H_2O 'nun kat sayısı kaç olur?

- A) 2 B) 3 C) 6 D) 7

19. CuCO_3 'ün sulu çözeltisinin elektroliz edilmesiyle anotta ve katotta hangi maddeler açığa çıkar?

	Anotta açığa çıkan madde	Katotta açığa çıkan madde
A)	Cu	O_2
B)	O_2	Cu
C)	H_2	O_2
D)	O_2	H_2

20. Erimiş AgNO_3 tuzu, 10 amperlik bir akımla 10 dakika elektroliz edilirse katotta kaç gram Ag metali birikir? ($\text{Ag} = 108 \text{ g/mol}$)

- A) 0,11 B) 2,24
C) 6,71 D) 10,8

1. OTURUM

(931) SİYER – 1

1. Aşağıdakilerden hangisi Hz. Muhammed'in hayatını öğrenmenin gerekçelerinden biri olamaz?

- A) Davranışlarının örnek alınmasını sağlar.
- B) Peygamberi daha iyi tanıtmamızı sağlar.
- C) Kur'an-ı Kerim'in anlaşılmasına yardımcı olur.
- D) Müslümanlara bilimsel buluşlar konusunda rehberlik eder.

2. Aşağıdakilerden hangisinde siyerin konusu tam olarak verilmiştir?

- A) Hz. Muhammed'in peygamberlik dönemini kapsar.
- B) Hz. Muhammed'in doğumundan vefatına kadar geçen süredir.
- C) Hz. Muhammed'in çocukluk ve gençlik dönemidir.
- D) Hz. Muhammed'in hicretini ve savaşlarını içine alır.

3. İslam öncesi Arap yarımadasında, şehirlerdeki kabile meclisine verilen isim aşağıdakilerden hangisidir?

- A) Mele
- B) Bedevi
- C) Hadari
- D) Mevali

4. İslam öncesi Mekke ile ilgili aşağıdakilerden hangisi doğrudur?

- A) Okuma yazma bilenlerin sayısı oldukça fazlaydı.
- B) Mekkelilerin takvimi "Güneş Takvimi" idi.
- C) Hicaz bölgesinin dini ve ticari merkeziydi.
- D) Haniflik insanlar arasında en yaygın inanç biçimiydi.

5. Aşağıdakilerden hangisi Kâbe'nin isimlerinden biri değildir?

- A) Beytü'l - Hikme
- B) Beytü'l - Haram
- C) Beytü'l - Mamur
- D) Beytü'l - Atik

6. Aşağıdaki olayların hangisi 622 yılında gerçekleşmiştir?

- A) Habeşistan'a hicret
- B) Müslümanlara boykot uygulanması
- C) Hz. Hatice'nin vefat etmesi
- D) İlk cuma namazının kılınması

7. Hz. Muhammed'in doğum tarihi aşağıdakilerden hangisidir?

- A) 10 Rebiulahir 570
- B) 12 Rebiülevvel 571
- C) 10 Zilhicce 570
- D) 12 Zilkade 571

8. Aşağıdakilerden hangisi Hilfu'l-Fudul tarafından alınan kararlardan biri değildir?

- A) Haksızlığa uğrayanların hakkı aranacaktır.
- B) Haksızlık yapanlara hoşgörü gösterilmeyecektir.
- C) Haksızlığa uğrayanların zararları oluşturulacak ortak bütçeden ödenecektir.
- D) Haksızlığa uğrayanın hakkı alınıncaya kadar onunla birlikte hareket edilecektir.

9. Hz. Muhammed aşağıdaki çocuklarının hangisinin ismiyle künyelenmiştir?

- A) Fatma
- B) Kasım
- C) Abdullah
- D) İbrahim

10. Hz. Muhammed'in peygamberlik öncesi hayatıyla ilgili aşağıdakilerden hangisi söylenemez?

- A) Yetim ve fakirleri gözetirdi.
- B) İnsan haklarına saygılıydı.
- C) Ticari hayatı başarı ve güven vericiydi.
- D) Yaşadığı toplumun ahlakını benimsemişti.

11. Hz. Muhammed ile ilgili verilen bilgilerden hangisi yanlıştır?

- A) Amcası Ebu Lehep ile ticari yolculuk yapmıştır.
- B) Kabe hakemliğiyle toplumsal barışa katkı sağlamıştır.
- C) Hz. Hatice'nin vefatına kadar başka biri ile evlenmemiştir.
- D) Kendisine vahiy gelmeden önce de Tevhit inancına sahiptir.

12. Aşağıdaki ayeti kerimelerden hangisi diğerlerinden sonra indirilmiştir?

- A) "En yakın akrabana uyar" (Şuara Suresi, 214. ayet)
- B) "Sana emrolunanı açıkça söyle ve müşriklere aldırma" (Hicr Suresi, 94. ayet)
- C) "Ey bürünüp sarılan! Kalk ve insanları uyar..." (Müddesir Suresi, 1.-2. ayetler)
- D) "Kendisine ayetlerimizden bir kısmını gösterelim diye kulunu bir gece Mescid-i Haram'dan çevresini bereketlendirdiğimiz Mescid-i Aksa'ya götüren Allah'ın şanı yücedir..." (İsra Suresi, 1. ayet)

13. İslam'ın ilk dönemi ile ilgili aşağıda verilen bilgilerden hangisi yanlıştır?

- A) Haşimoğulları davetin ilk yıllarında Hz. Muhammed'e destek vermeyeceklerini bildirmişlerdir.
- B) Hz. Muhammed Dârü'l - Erkam'dan Hz. Ömer'in Müslüman olduğu yıl ayrılmıştır.
- C) Hz. Hatice'nin kızları anneleriyle aynı zamanda İslam'ı kabul etmişlerdir.
- D) Müşrikler İslam'ın yayılması üzerine Utbe b. Rebia'yı Hz. Muhammed'e antlaşmak üzere göndermişlerdir.

1. OTURUM

14. Aşağıdakilerden hangisi Mekke müşriklerin İslam'ı reddetmelerinin nedenlerinden biri değildir?

- A) Ahiret inancını kabul etmek istememeleri
- B) Eski inançları ve atalarına olan bağlılıkları
- C) Mekke'yi terk etmek istememeleri
- D) İslam'ın getirdiği eşitlik anlayışının sosyal dengeleri değiştirmesinden rahatsız olmaları

15. Habeşistan'a yapılan hicretlere aşağıdaki sahabelerden hangisi katılmamıştır?

- A) Osman b. Affan
- B) Zübeyr b. Avvam
- C) Ali b. Ebi Talib
- D) Cafer b. Ebi Talib

16. Aşağıdakilerden hangisi müşriklerin Müslümanlara uyguladıkları boykotu sona erdirmeye sebeplerinden biri değildir?

- A) Müslümanların dinlerine daha fazla sarılmaları
- B) Müslümanların kendi kabilelerinden gördükleri yardıma engel olamamaları
- C) Müşriklerin hedefledikleri başarıya ulaşmaları
- D) Bazı müşriklerin boykotu bitirmek istemeleri

17. Hz. Muhammed Taif yolculuğu dönüşünde aşağıdakilerden hangisinin himayesinde Mekke'ye girmiştir?

- A) Mutim b. Adiy
- B) Zeyd b. Harise
- C) Ömer b. Hattab
- D) Hamza b. Abdulmuttalip

18. İsrâ ve Miraç olayının gerçekleştiği tarih aşağıdakilerden hangisidir?

- A) 27 Muharrem 622
- B) 27 Şaban 619
- C) 27 Ramazan 620
- D) 27 Recep 621

19. 620 yılında Akabe mevkiinde Hz. Muhammed'le görüşüp İslam'ı kabul eden altı kişilik Medineli grup hangi kabiledendir?

- A) Evs
- B) Hazreç
- C) Ben-i Nadir
- D) Ben-i Kaynuka

20. Aşağıdakilerden hangisi II. Akabe Biatı'nda Müslümanların söz verdiği konulardan biri değildir?

- A) İyiliği emredip kötülüğe engel olmak
- B) Bollukta ve darlıkta mali yardım yapmak
- C) Ailelerini korudukları gibi Hz. Muhammed'i korumak
- D) Ticari ilişkilerinde faizle muameleden sakınmak

(441) BİYOLOJİ – 1

1. Aşağıdakilerden hangisi bilim insanlarının sahip olması gereken özelliklerinden değildir?

- A) Akılcı ve gerçekçidir.
- B) Ön yargılı ve tarafıdır.
- C) Yeniliklere açık ve aydın bir kişiliğe sahiptir.
- D) Çalışmaları için uygun yöntemleri belirleyebilir.

2. I- Test edilebilir olmalıdır.
II- Eldeki verilere ters düşmemelidir.

III- Yeni tahminler yapabilmemize ve yeni gerçeklere ulaşabilmemize olanak sağlamalıdır.

İyi bir hipotez yukarıda verilenlerden hangilerine sahip olmalıdır?

- A) Yalnız I
- B) I ve II
- C) II ve III
- D) I, II ve III

3. Canlıların metabolizmalarındaki yapım faaliyetlerine ne ad verilir?

- A) Sindirim
- B) Anabolizma
- C) Katabolizma
- D) Heterotrof beslenme

4. Hayvanlarda metabolizma sonucu oluşan zararlı atıkların seyreltilerek vücuttan atılması, suyun hangi özelliği ile gerçekleştirilir?

- A) Molekülleri arasında çekim kuvveti olması
- B) Buharlaşma ve yoğuşma özelliği
- C) Öz ısının yüksek olması
- D) Çözücü özelliği

5. Aşağıdakilerden hangisi mineraller için yanlış bir bilgidir?

- A) Enerji kaynağı olarak kullanılırlar.
- B) 70 kg'lık bir insanda ortalama 3 kg mineral bulunur.
- C) Suda çözünmüş olarak veya yiyeceklerle vücudumuza alınırlar.
- D) Enzimlerin yapısına kofaktör olarak katılıp, düzenleyici olarak kullanılırlar.

6. Aşağıdakilerden hangisinin pH'ı diğerlerine göre en yüksektir?

- A) Kola
- B) Şampuan
- C) Amonyak
- D) Mide özsuyu

7. Aşağıdaki karbonhidratlardan hangisi monosakkaritler grubunda yer alır?

- A) Maltoz
- B) Laktoz
- C) Galaktoz
- D) Sakkaroz

8. Hayvanların karaciğer ve kaslarında depo edilen ve suda çözünebilir polisakkarit aşağıdakilerden hangisidir?

- A) Nişasta
- B) Glikojen
- C) Selüloz
- D) Kitin

1. OTURUM

9. I- Yağ sentezi bir hidroliz olayıdır.
II- Yağların yapı taşları gliserol ve yağ asitleridir.
III- Yağların bazı çeşitleri hücre zarının yapısına katılır.
Yağlarla ilgili olarak verilen bilgilerden hangileri doğrudur?
A) Yalnız I B) I ve II
C) II ve III D) I, II ve III
10. Aşağıdakilerden hangisi proteinlerin organizmadaki görevlerinden değildir?
A) Hücre yapımı ve dokuların onarımını sağlama
B) Antikor yapısına katılarak bağışıklık sağlama
C) Hemoglobin yapısına katılarak solunum gazlarını taşıma
D) Deri altında depolanarak ısı yalıtımı ve mekanik etkilere karşı koruma
11. Eksikliğinde gece körlüğü, kalp ve böbrek hastalıkları, halsizlik, deride kuruma ve pullanmaya sebep olan vitamin aşağıdakilerden hangisidir?
A) A B) B C) C D) D
12. Enzimlerin özellikleriyle ilgili aşağıda verilenlerden hangisi yanlıştır?
A) Aktivasyon enerjisini yükseltirler.
B) Enzimler reaksiyonlara özeldir.
C) Enzim, substrata geçici olarak aktif bölgesinden bağlanır.
D) Bazı enzimler tersinir (çift yönlü) çalışırlar.
13. Aşağıda verilen moleküllerden hangisi hem DNA hem de RNA'nın yapısında bulunur?
A) Riboz B) Deoksiriboz
C) Urasil D) Fosforik asit
14. Aşağıdakilerden hangisi ekzerjonik tepkimelerdendir?
A) Ekzositoz
B) Sinirsel iletim
C) Oksijenli solunum
D) Biyosentez reaksiyonları

15. Aşağıdaki organellerin hangisinde iki katlı zar bulunur?
A) Lizozom B) Mitokondri
C) Koful D) Golgi aygıtı
16. I- DNA
II- RNA
III- Ribozom
Yukarıdakilerden hangisi mitokondrinin matriksinde bulunur?
A) Yalnız I B) I ve II
C) II ve III D) I, II ve III
17. Bitkilerde sarı, turuncu ve kırmızı renk veren pigmentleri içeren organel ne ad verilir?
A) Kromoplast
B) Lökoplast
C) Golgi aygıtı
D) Endoplazmik retikulum
18. Hücre zarında karbonhidrat ve yağların birlikte oluşturduğu yapı aşağıdakilerden hangisidir?
A) Lipoprotein
B) Glikoprotein
C) Glikolipit
D) Fosfolipit
19. I- Sıcaklığın artması moleküllerin difüzyonunu hızlandırır.
II- İki ortam arasındaki yoğunluk farkı arttıkça difüzyon hızı azalır.
Yukarıda difüzyonla ilgili olarak verilenler için ne söylenebilir?
A) Yalnız I doğru
B) Yalnız II doğru
C) Her ikisi de doğru
D) Her ikisi de yanlış
20. Aşağıdakilerden hangisi ökaryot hücrelerin özelliklerindedir?
A) Hepsinin hücre çeperi vardır.
B) Çekirdek zarları mevcuttur.
C) Organellerinin hepsi zarlıdır.
D) DNA sitoplazmada dağınık olarak bulunur.

(443) BİYOLOJİ – 3

1. Aşağıdakilerden hangisi bilim adamının özelliklerinden değildir?
A) Akılcı ve gerçekçi davranır.
B) Meraklı ve iyi bir gözlemcidir.
C) Daha önce yapılan gözlem ve deneylerin etkisinde kalır.
D) Yaptığı çalışmalarda dikkatli, kararlı, şüpheci ve sabırlıdır.
2. I- Eldeki verilere ters düşmemelidir.
II- Yeni tahminler yapabilmemize ve gerçekleri bulabilmemize olanak sağlamalıdır.
Yukarıda bilimsel bir hipotez ile ilgili olarak verilenler için ne söylenebilir?
A) Yalnız I doğru
B) Yalnız II doğru
C) Her ikisi de doğru
D) Her ikisi de yanlış
3. 1700'lü yıllarda ilk bilimsel sınıflandırmayı yapan bilim adamı aşağıdakilerden hangisidir?
A) Robert Hooke
B) Carolus Linnaeus
C) James Watson
D) Francis Crick
4. Bitkileri inceleyen bilim dalına ne ad verilir?
A) Botanik B) Anatomi
C) Genetik D) Biyokimya
5. Bir araştırmacı hipotezi ile ilgili deneylerinde;
I- Boyama
II- Fiksasyon
III- Vital inceleme
gibi yöntemlerden hangilerini kullanabilir?
A) Yalnız I B) I ve II
C) II ve III D) I, II ve III

1. OTURUM

6. Aşağıdakilerden hangisi, dünyadaki tüm canlılar için enerji kaynağıdır?

- A) Algler
- B) Güneş
- C) Bitkiler
- D) Mikroskobik canlılar

7. Aşağıda verilen canlı gruplarının hangisinde ototrof beslenme görülür?

- A) Algler
- B) Böcekler
- C) Mantarlar
- D) Hayvanlar

8. İki farklı türün karşılıklı olarak birbirinden yararlandığı simbiyotik yaşam birliğine ne ad verilir?

- A) Karnivor
- B) Mutualizm
- C) Kommensalizm
- D) Parazit yaşam

9. • Tilki
• Tavşan
• Havuç
• Kurt

Yukarıda verilen canlılardan, bir besin zinciri oluşturmak istersek, ilk basamağa hangisi yazılmalıdır?

- A) Tilki
- B) Tavşan
- C) Kurt
- D) Havuç

10. Bitkisel besinlerdeki karbonun kaynağı aşağıdakilerden hangisidir?

- A) Havadaki karbon dioksit
- B) Petroldeki karbonlu bileşikler
- C) Yağmur suları
- D) Topraktaki azotlu bileşikler

11. Bir popülasyonda yaşlı bireyler genç bireylerden fazla ise, bu popülasyonun zamana bağlı durumunu aşağıdakilerden hangisi açıklar?

- A) Büyümektedir.
- B) Küçülmektedir.
- C) Dengededir.
- D) Önce büyüyüp sonra dengeye gelecektir.

12. Bir çam ormanında, zamanla çamların yerine çalılıklar baskın tür haline gelmişse, bu duruma ne ad verilir?

- A) Süksesyon
- B) Popülasyon
- C) Komünite
- D) Erozyon

13. Belirli bir alanda yaşayan farklı popülasyonların hepsine birden ne ad verilir?

- A) Tür
- B) Ekosistem
- C) Biyosfer
- D) Komünite

14. Aşağıdakilerden hangisi ses kirliliğinin, insan üzerindeki fizyolojik etkilerindedir?

- A) Stres
- B) Sinirlilik
- C) Yüksek tansiyon
- D) Uyku düzensizlikleri

15. I- Plansız kentleşme
II- Tarımda kullanılan ilaçlar
III- Hava kirliliği sonucu oluşan asit yağmurları

Yukarıdakilerden hangileri toprak kirliliğine neden olan etmenlerdendir?

- A) Yalnız I
- B) I ve II
- C) II ve III
- D) I, II ve III

16. Aşağıdakilerden hangisi erozyonun önlenmesi için alınması gereken tedbirlerden değildir?

- A) Toprağın yanlış kullanımı önlenmeli
- B) Tarımda aşırı ilaç kullanımı önlenmeli
- C) Ormanların ve bitki örtüsünün tahribi engellenmeli
- D) İnsanlar erozyon konusunda bilinçlendirilmeli

17. Bitki köklerinin yer çekimine doğru yönelmesine ne denir?

- A) Fotonasti
- B) Termonasti
- C) Jeotropizma
- D) Kemotropizma

18. İnsanda;

- I- Vücut sıcaklığı
- II- Nabız sayısı
- III- Hormon salgısı

verilerinin hangilerinde biyolojik saate göre değişiklik gözlenir?

- A) Yalnız I
- B) I ve II
- C) II ve III
- D) I, II ve III

19. Aşağıdaki hayvanların hangisinde grup lideri bulunmaz?

- A) Kartal
- B) Kaplan
- C) Maymun
- D) Aslan

20. Aşağıdakilerden hangisi canlıların oluşumu ile ilgili biyogenez görüşünü ortaya atan bilim adamlarından birisidir?

- A) Aristo
- B) Darwin
- C) Louis Pasteur
- D) Stanley Miller

(446) BİYOLOJİ – 6

1. P: DD dd
F₁: Dd

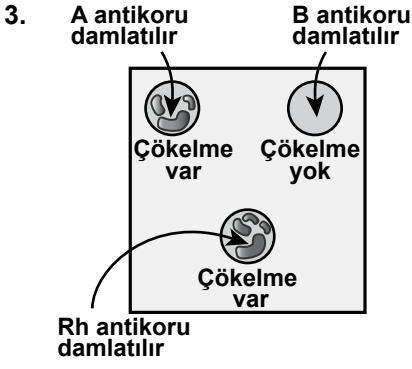
Yukarıda verilen çaprazlamadaki F₁ dölünün kendileştirilmesi ile elde edilecek F₂ dölleri fenotip ayrışım oranı aşağıdakilerin hangisinde verilmiştir?

- A) 1
- B) 1:1
- C) 3:1
- D) 1:2:1

2. Bağımsız genler ile ifade edilen, AaBbCcDd genotipine sahip birey mayoz hücre bölünmesi ile en fazla kaç çeşit gamet oluşturabilir?

- A) 4
- B) 8
- C) 12
- D) 16

1. OTURUM



Yukarıdaki şekilde Ali'den alınan kan damlaları üzerine antikorların damlatılması sonucu oluşan çökme durumu gösterilmiştir.

Buna göre Ali'nin kan grubu nedir?

- A) A Rh- B) B Rh-
C) A Rh+ D) B Rh+

4. Kuşların cinsiyetine göre vücut hücrelerindeki kromozom durumu;

$16 + ZZ \rightarrow$ Erkek

$16 + ZW \rightarrow$ Dişi
şeklindedir.

Buna göre kuşların eşey tayini ile ilgili aşağıdakilerden hangisi yanlıştır?

- A) Eşeyi tek tip gonozom belirler.
B) Dişiler heterogametik, erkekler ise homogametiktir.
C) Oluşacak yavrunun cinsiyetini belirleyen dişi bireydir.
D) Erkek birey, mayoz hücre bölünmesi ile tek tip gamet oluşturur.

5. Yapışık parmaklılık özelliği ile ilgili gen sadece Y kromozomu üzerinde bulunmaktadır.

Yapışık parmaklılık görülen bir babanın, erkek çocuğunun yapışık parmaklı olma olasılığı % kaçtır?

- A) 0 B) 25 C) 50 D) 100

6. İnsanda mayoz hücre bölünmesinde otozomal kromozomlardaki ayrılmama sonucunda, aşağıdaki gametlerden hangisi oluşmaz?

- A) $21+X$ B) $22+X$
C) $21+Y$ D) $23+X$

7. Aşağıda verilenlerden hangisi çift halkalı pürin grubu organik bazlardandır?

- A) Adenin B) Timin
C) Urasil D) Sitozin

8. Bir protein sentezinde en fazla kaç çeşit amino asit kullanılabilir?

- A) 8 B) 12 C) 18 D) 20

9. Gen (nokta) mutasyonu ile oluşan, bozuk yapı ve çözünürlükteki hemoglobin oluşumu nedeniyle alyuvarların şekli bozulur ve vücuda yeterli oksijen taşıyamaz.

Bu durumun görüldüğü hastalık aşağıdakilerden hangisidir?

- A) Hemofili
B) Yapışık parmaklılık
C) Orak hücreli anemi
D) Kırmızı-yeşil renk körlüğü

10. Protein sentezinde aşağıdakilerden hangisi görev almaz?

- A) Enzim B) ATP
C) mRNA D) Yağ asitleri

11. Gen klonlama işleminde aşağıdakilerden hangisi ilk önce yapılır?

- A) Genetiği değiştirilmiş plazmit bakteriyeye aktarılır.
B) Klonlanacak genin aktarılacağı plazmit, bakteriden ayrıştırılır.
C) Ayrıştırılan plazmit restriksiyon enzimleri ile kesilir.
D) Genetiği değiştirilmiş bakteri kültüre alınarak çoğaltılır.

12. Bitkisel ve hayvansal organizmalarda yüksek kaliteli ve verimli döller elde etmek için ıslah yöntemi kullanılır.

Aşağıdakilerden hangisi modern ıslah yönteminin özelliğidir?

- A) İstenilen özelliklere sahip organizmayı elde etmek çok uzun zaman alır.
B) ıslah için kullanılacak genetik materyal sınırlıdır.
C) Gen aktarımı ve klonlama gibi yöntemler kullanılır.
D) İstenilen özelliklerin aktarımında sadece ebeveynlerin DNA' ları kullanılır.

13. Ekolojik nişleri çakışan, iki farklı tür arasında kesinlikle görülmeyen etkileşim hangisidir?

- A) Tür içi rekabet
B) Türler arası rekabet
C) Av-avcı ilişkisi
D) Mutualizm

14. Birlikte yaşayan (simbiyotik) iki tür canlıdan birisi fayda sağlarken diğerinin zarar gördüğü birliktelik aşağıdakilerden hangisidir?

- A) Mutualizm
B) Gevşek mutualizm
C) Kommensalizm
D) Parazitizm

15. Çam, badem vb. ağaçların üzerinde yaşayarak, sömürücü emçlelerini konağın odun borularına uzatan, buradan su ve minerallerini alan, yarı parazit bitki aşağıdakilerden hangisidir?

- A) Canavar otu B) Ökse otu
C) Küsküt otu D) Yonca

1. OTURUM

(461) EKONOMİ – 1

16. Popülasyonun büyüklüğüne etki eden faktörler;

- I- Doğumlar
- II- Ölümler
- III- İç göçler
- IV- Dış göçler

Yukarıda verilen faktörlerden hangilerinin büyük olması ile popülasyon kesinlikle büyüyecektir?

- A) I ve III
- B) I ve IV
- C) II ve III
- D) II ve IV

17. Aşağıdakilerin hangisinde “popülasyonun taşıma kapasitesi” tanımlanmıştır?

- A) Belirli bir alanda yaşayan bir türe ait bulunabilecek en fazla fert sayısıdır.
- B) Birim alan ya da hacimdeki aynı popülasyona ait birey sayısıdır.
- C) Belirli bir zamanda popülasyonu oluşturan birey sayısıdır.
- D) Popülasyonun yaşadığı çevrede sürekli büyümesine engel olan her türlü çevre faktörleridir.

18. Bir popülasyonda, üreme öncesi dönemdeki birey sayısı, üreme dönemindeki birey sayısından fazladır.

Bu popülasyon için aşağıdaki değerlendirmelerden hangisi doğrudur?

- A) Dengededir.
- B) Büyümektedir.
- C) Küçülmektedir.
- D) Yok olmaktadır.

19. Aşağıda verilenlerden hangisi “biyolojik çeşitliliğin” azalmasına neden olmaz?

- A) Çarpık kentleşme
- B) Plansız madencilik
- C) Doğal hayatı koruma
- D) Baraj ve otoyol yapımı

20. Aşağıda verilenlerden hangisi çayırın faydalarından değildir?

- A) Etçil hayvanlar için besin kaynağıdır.
- B) Kirlenen havayı temizler.
- C) Toprağı korur.
- D) Suyu tutar.

1. A ülkesi yeni ekonomik yılda, ekonomik kalkınma hızını % 7 olarak hedeflemiş ve bu orana ulaşabilmek için en uygun önlemlerin ne olması gerektiğini belirlemiştir. Buna göre A ülkesi ekonomik alanda neyi ortaya koymuştur?

- A) Ekonomi teorisini
- B) Ekonomi sınıflamasını
- C) Ekonomi yöntemini
- D) Ekonomi politikasını

2. “Doğruluğu tartışmasız kabul edilen bazı temel varsayımlardan hareket ederek bunların tek olaylara uygulanması” ekonomi biliminin hangi yöntemini açıklamaktadır?

- A) Tümdengelim
- B) Tümevarım
- C) Karma Yöntem
- D) Grupla Çalışma

3. “Malların miktarını veya faydasını artırmak amacıyla yapılan faaliyetlerin, harcanan çabaların tümünü” ifade eden klasik sınıflama bölümü aşağıdakilerden hangisidir?

- A) Dağıtım
- B) Değişim
- C) Üretim
- D) Tüketim

4. 1923 yılında kurulan yeni Türkiye Devleti, savaş meydanlarında kazanılan başarıların tek başına bir anlamının olmadığını farkında olarak, Türkiye'nin ekonomi politikasını belirlemek için iktisat kongresi düzenlemiştir. Türkiye Cumhuriyeti'nin ilk iktisat kongresi olan bu kongre hangi tarihte, nerede toplanmıştır?

- A) 1924, Ankara
- B) 1923, İzmir
- C) 1923, İstanbul
- D) 1924, Samsun

5. Aşağıdakilerden hangisi kültürel mal olarak kabul edilir?

- A) Elbise
- B) Televizyon
- C) Otomobil
- D) Su

6. Antalya’da yaşayan ve dağcılık faaliyetine katılacak olan Zafer, temmuz ayında alışverişe çıkar. Tezgâhtarlara; eksi 20 derecede dahi giyebileceği bir mont ihtiyacı duyduğunu söyler. Montla birlikte kalın çoraplar, eldiven, atkı gibi soğukta giyebileceği kıyafetler alır.

Zafer’in bu davranışı ihtiyaçların hangi özelliğine örnek olabilir?

- A) İhtiyaçların niteliği cinsiyete göre değişir.
- B) İhtiyaçlar kişinin zevkine göre değişir.
- C) İhtiyaçlar kişinin alım gücüne göre değişir.
- D) İhtiyaçların niteliği ortama göre değişir.

7. • İhtiyacı ile birlikte ortaya çıkmıştır ve ihtiyaçlar ile vasıtanın arasındaki ilgiyi anlatır.
• Üretilebilir nitelik taşır.
• Doğada belirli ölçüde olması ve vasıtayı oluşturmak için insanın bir emek harcaması gerekir.

Yukarıda özellikleri sıralanan ekonomi ile ilgili kavram, aşağıdakilerden hangisidir?

- A) Enerji
- B) Mal
- C) Sermaye
- D) Fayda

8. Aşağıdakilerden hangisi, doğanın üretim üzerindeki etkisi ile ilgili değildir?

- A) İklim yapısı
- B) Toprak ve toprak altı
- C) Nüfus yoğunluğu
- D) Yeryüzü şekilleri

1. OTURUM

9. Aşağıdakilerden hangisi birinci enerji kaynakları arasında yer alır?

- A) Bitümlü şist B) Şehir gazı
C) Biogaz D) Elektrik

10. Türkiye'nin toplam enerji ihtiyacının % 66'sı Güneş enerjisinden karşılanabilir. Aşağıdakilerden hangisi bu enerjiden yararlanılan alanlara bir örnek değildir?

- A) Konut ve otel ısıtmasında kullanılması
B) Sıcak su elde edilmesi
C) Seracılıkta kullanılması
D) Kaplıca tedavisinde kullanılması

11. Türkiye; sayısı fazla ve genç bir nüfusa sahiptir. Bu durumun ülke ekonomisine katkısı nedir?

- A) Toplumun tasarruf gücünü artırması
B) Ekonomik faaliyetlerin hızlanması
C) Üretilen malların iç piyasada tüketilmesi
D) Sosyal yapının dinamik olması

12. Aşağıdakilerden hangisi kullanıldıkları alana göre ticari sermayedir?

- A) Ziraat makineleri
B) Ulaştırma araçları
C) Yazı makineleri
D) Hammaddeler

13. Aşağıdakilerden hangisi sermayenin oluşmasındaki kaynaklardan biri değildir?

- A) Tasarruf
B) Zorunlu tasarruf
C) Özfinansman
D) Bilanço

14. Aşağıdakilerden hangisi tasarrufun objektif etkenleri ile ilgili yanlış bir ifadedir?

- A) Tasarrufa etki eden etkenlerin başında insanların gelir düzeyleri gelir.
B) İnsanların sahip oldukları servetin gelecekteki değeri tasarruf üzerine etki etmez.
C) Devlet mali politikada kabul ettiği vergi oranları ile tasarruf üzerine derin etkiler yapabilir.
D) Faiz insanları tasarrufa yöneltten vasıtalı nedenlerden biridir.

15. Bir evin yıllık geliri 30.000 TL'dir. Faiz oranının % 50 olduğu bir zamanda bu evin bir yıllık sermaye değeri ne olur?

- A) 40.000 TL B) 50.000 TL
C) 60.000 TL D) 70.000 TL

16. "Belli bir unvan altında az sayıda ortak tarafından kurulan ve gerek şirketin, gerek ortakların sorumluluğu sınırlanmamış olan şirket" aşağıdakilerden hangisidir?

- A) Kollektif Şirket
B) Anonim Şirket
C) Limited Şirket
D) Adi Komandit Şirket

17. Aşağıdaki maddelerden hangisi kooperatifin özelliği değildir?

- A) Serbest ve istemli kuruluşlardır.
B) Devlet veya başka bir kuruluşun isteği ile kurulmazlar.
C) Az sayıda ortak tarafından kurulurlar.
D) Sadece ortaklarına yardım için kurulurlar.

18. "Atatürk'ün ekonomi politikası anti-enflasyonist para politikası, kaynak harcama dengesini korumaya yönelik denk bütçe politikası, ulusal kaynakların etkili ve rasyonel kullanımını sağlayan planlı gelişme politikası, sektörler arası dengesizlikleri gidermeye ve ekonomik gelişmeyi hızlandırmaya yönelik yatırım politikalarıdır."

Bu metne göre, aşağıda verilenlerden hangisi Atatürk'ün ekonomi politikaları ile ters düşmektedir?

- A) Bütçeyi denkleştirmek
B) Ülkede enflasyonu önlemek
C) Millî kaynakları kullanmak
D) Ülkemize ihracatı özendirmek

19.

Türk Ekonomisinde Reel Büyüme Hızı (GSMH'nin Artış Hızı) (%) (1968 Fiyatlarıyla)	
DÖNEMLER	BÜYÜME HIZI (%)
Birinci Plan Dönemi (1963-1967) Yıllık Ortalama	6.6
İkinci Plan Dönemi (1968-1972) Yıllık Ortalama	7.1
Üçüncü Plan Dönemi (1973-1977) Yıllık Ortalama	6.5
Dördüncü Plan Dönemi (1979-1983) Yıllık Ortalama	2.1

Verilen tabloya göre ülkemizde büyüme hızının yüksek olduğu dönem hangisidir?

- A) Birinci Plan Dönemi
B) İkinci Plan Dönemi
C) Üçüncü Plan Dönemi
D) Dördüncü Plan Dönemi

20. Aşağıdakilerden hangisi İktisadi Devlet Kuruluşlarındandır?

- A) Et Balık Kurumu
B) Türkiye Elektrik Kurumu
C) Tarım İşletmeleri Genel Müdürlüğü
D) Savunma Donatım İşletmeleri Genel Müdürlüğü

1. OTURUM

(465) TEMEL DİNİ BİL. – 1

1. Kelime olarak itaat, hüküm, örf, âdet, ceza ve mükâfat gibi anlamlara gelen kavram aşağıdakilerden hangisidir?
- A) Din B) İman
C) İbadet D) Amel
2. İkel kabile dinleri hakkında aşağıda verilen bilgilerden hangisi doğrudur?
- A) Kutsal kitapları bulunur.
B) Belli bir peygamberleri vardır.
C) Büyücülük yaygındır.
D) Evrenseldir.
3. Kast sistemi aşağıdaki dinlerin hangisinde vardır?
- A) Caynizm B) Budizm
C) Sihizm D) Hinduizm
4. Yusuf peygamber hakkında aşağıda verilen bilgilerden hangisi doğrudur?
- A) Babası Hz. İshak'tır.
B) Mısır'da yaşamıştır.
C) Hz. Musa'dan sonra peygamber olmuştur.
D) İsrailoğulları onun zamanında köleleştirilmiştir.
5. Aşağıdaki dinlerden hangisi Nasranilik olarak da anılır?
- A) Musevilik B) Hristiyanlık
C) Budizm D) Sihizm
6. Kur'an-ı Kerim'de "... onu ne öldürdüler ne de astılar... Allah onu kendi katına yükseltti..." (Nisa Suresi, 157 ve 158. ayetler) Bu ayetlerde konu edilen peygamber aşağıdakilerden hangisidir?
- A) Hz. İbrahim
B) Hz. Musa
C) Hz. İsa
D) Hz. Davut

7. I. Daha sağlıklı büyümesi
II. Saf bir dil öğrenmesi
III. Ahlaklı yetişmesi
IV. Putlardan uzak tutulması
Hz. Muhammed'in süt anneye verilmesinin sebepleri hangi seçenekte bir arada verilmiştir?
- A) I ve II B) I ve III
C) III ve IV D) II ve IV
8. Aşağıdakilerden hangisi Hz. Muhammed'in kız çocuklarından biri değildir?
- A) Hz. Zeynep
B) Hz. Rukiye
C) Hz. Ayşe
D) Hz. Fatıma
9. Hz. Peygamber; "Kim Ebu Sufyân'ın evine girerse emniyettedir. Kim kendi evinde kalırsa emniyettedir. Kim Harem-i Şerife girerse emniyettedir." sözünü ne zaman söylemiştir?
- A) Mekke'nin fethinde
B) Medine'ye hicrette
C) Veda Hutbesinde
D) İlk vahiy geldiğinde
10. Amentü esasları aşağıdakilerden hangisini ifade eder?
- A) İslam'ın şartlarını
B) Namazın farzlarını
C) Ahlak esaslarını
D) İmanın şartlarını
11. "Kıyamet günü için adalet terazilerini kurarız. Hiç kimseye haksızlık edilmez. (İnsanın yaptığı iş) bir hardal tanesi ağırlığında olsa da onu getiririz. Hesap görücü olarak biz yeteriz" (Enbiya Suresi, 47. ayet) Bu ayetten aşağıdakilerden hangisi çıkarılamaz?
- A) Yapılanların hesabının verileceği
B) Ahirette kimseye haksızlık yapılmayacağı
C) Allah'ın küçük günahları affedeceği
D) Dünya hayatının sona ereceği

12. "Onlar bilmiyorlar mı ki, gizlediklerindeki açıkladıklarını da Allah bilir." (Bakara Suresi, 77. ayet) Bu ayette Allah'ın sıfatlarından hangisinden bahsedilmektedir.
- A) Hayat B) İlim
C) Basar D) İrade
13. "Melekler ve Ruh (Cebrail), oraya miktarı (dünya senesi ile) elli bin yıl olan bir günde yükselip çıkar." (Mearic Suresi, 4. ayet) Verilen ayette meleklerin hangi özelliğine işaret edilmektedir?
- A) Nurdan yaratıldıklarına
B) Cinsiyetlerinin olmadığına
C) Kanatlı olduklarına
D) Hızlı hareket ettiklerine
14. "De ki: Ben de sizin gibi bir beşerim ancak bana vahyolunuyor..." (Kehf Suresi, 110. ayet) Bu ayette Hz. Muhammed'in hangi özelliği dile getirilmektedir?
- A) Peygamber olduğu
B) Güvenilir olduğu
C) Merhametli olduğu
D) Güzel ahlaklı olduğu
15. Hastalıkta ve yolculukta ibadetleri yerine getirmede Müslümanlara bazı kolaylıklar tanınmıştır. Örneğin yolcuya cuma namazı ve oruç farz değildir. Aşağıdaki ayetlerden hangisi bu konuya örnek verilebilir?
- A) "... Namaz, insanı kötülüklerden ve hayasızlıktan alıkoyar." (Ankebut Suresi, 45. ayet)
B) "...Allah kimseye taşıyamayacağı yükü yüklemesiz..." (Bakara Suresi, 286. ayet)
C) "Ey Resulum... sen dini Allah'a has kılarak kulluk et." (Zümer Suresi, 2. ayet)
D) "Namazı önemsemeyen, gösteriş yapmak için kılanlara yazıklar olsun." (Maun Suresi, 4 - 6. ayetler)

1. OTURUM

(477) İŞLETME – 2

16. Aşağıdakilerden hangisi abdestin farzları arasında yer almaz?

- A) Yüzü yıkamak
- B) Ağıza su vermek
- C) Başını mesnetmek
- D) Ayakları yıkamak

17. Ettihiyyatü - Allahümmealli - Allahühümmebarik, duaları aşağıdaki namazların hangisinin ilk oturuşunda okunur?

- A) Öğle namazının ilk sünneti
- B) Öğle namazının farzı
- C) Yatsı namazının farzı
- D) İkinci namazının sünneti

18. Aşağıdakilerden hangisi cemaatle namaz kılmanın amaçlarından biri olamaz?

- A) Müslümanlar arasında manevi bağı kuvvetlendirmek.
- B) İnananlar arasında sevgi ve muhabbet yerleştirmek.
- C) Sağlıklı ve zinde bir bedene sahip olmak.
- D) Daha fazla sevap kazanmak.

19. • Sözlükte; temizlik, bereket, çoğalmak anlamına gelir.
• İslam'ın beş temel esasından biridir.
• Medine döneminde farz kılınmıştır.

Hakkında bilgi verilen ibadet aşağıdakilerden hangisidir?

- A) Namaz
- B) Oruç
- C) Hac
- D) Zekat

20. Aşağıdakilerden hangisi bir dua cümlesidir?

- A) "Rabbin için namaz kıl, kurban kes."
(Kevser Suresi, 2. ayet)
- B) "Kalpler Allah'ı anmakla huzur bulur."
(Râd Surasi, 28. ayet)
- C) "De ki: Rabb'im! Affet, merhamet et, sen merhametlilerin en hayırlısısın."
(Mü'minun Suresi, 118. ayet)
- D) "... Her kim bir insanın hayatını kurtarırsa bütün insanların hayatını kurtarmış gibi olur..."
(Maide Suresi, 32. ayet)

1. Yönetim, herhangi bir işletmede aşağıdakilerden hangisini temel amaç edinir.

- A) İstihdam yaratmayı
- B) Kusursuz örgütlenmeyi
- C) Denetlemeyi sıklaştırmayı
- D) Ekonomik etkinlik ve verimliliği

2. Modern Yönetim Teorisi, diğer teorilerden farklı olarak aşağıdakilerden hangisini özümseyerek dikkate almıştır?

- A) Çevre unsurunu
- B) İnsan unsurunu
- C) İş bölümünü
- D) Hiyerarşik yapıyı

3. Aşağıdakilerden hangisi organizasyon (örgütlenme) ile belirlenemez?

- A) Kimin hangi araç ve gereci kullanacağı.
- B) İnsanların yetki ve sorumlulukları.
- C) İş yapacak kişilerin sahip olacağı özellikler.
- D) Nereye, ne zaman ve ne kadar mal/hizmet satılacağı.

4. Bir işletmede, işletmenin ihtiyacı olan fon miktarını belirlemek ve bu fonların nereden, nasıl ve ne zaman karşılanacağına ilişkin kararları kim alır?

- A) Bankacı
- B) İşletme sahibi
- C) Finans yöneticisi
- D) Genel müdür

5. Aşağıdakilerden hangisi pazarlamanın özelliklerinden değildir?

- A) Mübadele işlemidir.
- B) İnsani ihtiyaçlar karşılanır.
- C) Tüketiciler fiyatları belirler.
- D) Planlama ve uygulama sürecidir.

6. Hedef tüketici kitleyi üründen, işletmeden, hizmetlerden, yapılan çalışmalardan haberdar etmek, onları inandırmak, belli bir davranışa yönlendirme ve hatırlatma çabalarına ne nedir?

- A) Tutundurma
- B) Reklam
- C) Kampanya
- D) Pazarlama

7. Doğrudan dağıtımın söz konusu olabilmesi için aşağıda verilen şartlardan hangisinin sağlanması gereklidir?

- A) Tüketici ya da müşteri sayısının çok olması.
- B) Tüketim hızının, üretim hızından fazla olması.
- C) Üretim ve tüketim noktaları arasındaki mesafenin az olması
- D) Mal ve hizmetle belli bir üretim kalitesinin olmaması.

8. Aşağıdakilerden hangisi üretim sisteminin dört temel ögesinden biridir?

- A) İade
- B) Nakil
- C) Çıktı
- D) Enerji

9. Bir işletmede;

- Üretimin aksaması
- Müşteri taleplerinin karşılanamaması
- Müşterinin rakip firmayı kaptırılması
- Kârının azalması

gibi sonuçların yaşanmasına sebep olan aşağıdakilerden hangisidir?

- A) Kalite anlayışını düşürmek.
- B) Stokları yetersiz tutmak.
- C) Yüksek fiyat politikası uygulamak.
- D) İşletmeye uygun bina bulmamak.

1. OTURUM

10. Aşağıdakilerden hangisi Anadolu Ahilik kültüründe yoktur?

- A) Kaliteyi ucuza üretmek.
- B) Millî birlik ve bütünlüğü korumak.
- C) Üretim yaptığı alanda tek olmak.
- D) Sosyal dayanışma ve yardıma önem vermek.

11. Aşağıdakilerden hangisi bir işletmenin etkin ve verimli yönetilmesinde daha büyük önem taşır?

- A) Fiyat politikası
- B) İnsan kaynağı
- C) Ham madde stoğu
- D) Müşteri memnuniyeti

12. Aşağıdakilerden hangisi insan kaynaklarının çalışma alanında yer alan konulardan biri değildir?

- A) İşçi sağlığı ve güvenliği
- B) İş analizlerinin yapılması
- C) Performans değerlendirmesi
- D) Depolama ve sevkiyatın kontrolü

13. İşletme çalışanlarının bireysel başarılarını ve belirli bir zaman içinde davranışlarını değerlendirilen ve ölçen sürece ne denir?

- A) İşletme analizi
- B) Çalışma ilişkileri
- C) Eğitim ve geliştirme
- D) Performans değerlendirme

14. Aşağıdakilerden hangisi oryantasyon kavramının en basit açıklamasıdır?

- A) İş başvurusu
- B) Çalışma prensipleri
- C) İşe alıştirme
- D) Tüketici şikayetleri

15. Aşağıdakilerden hangisi hizmet içi eğitimin sonuçlarından biri değildir?

- A) Bilgi ve becerileri artırır.
- B) Çalışan personelin iş yükünü artırır.
- C) Mesleki kariyer yapılması sağlar.
- D) Teknolojik gelişmelerin takip edilmesini sağlar.

16. Araştırma faaliyetleri ile üretim faaliyetlerini arasındaki köprü görevini aşağıdakilerden hangisi yerine getirir?

- A) Geliştirme faaliyetleri
- B) Finansal araştırma
- C) Pazarlama
- D) Yönetim

17. İşçi'nin tanımının yapıldığı İş Kanunu sayısı kaçtır?

- A) 1452
- B) 4857
- C) 6654
- D) 9321

18. İşçiye sağlanan ek ödemelerin katılmadığı ücrete ne denir?

- A) Maaş
- B) Asgari ücret
- C) İhbar ücreti
- D) Asıl ücret

19. Doğal çevrenin kirlenmesi ve bozulmasının en önemli sebebi aşağıdakilerden hangisidir?

- A) Nüfus artış hızının yüksekliği.
- B) Yaşanabilen alanların azlığı.
- C) İnsanların çok üretim ve tüketim yapması.
- D) İnsanlarda çevre bilincinin olmaması.

20. Aşağıdakilerden hangisi yenilenebilir doğal kaynaklardandır?

- A) Rüzgar
- B) Petrol
- C) Bakır
- D) Uranyum

(479) MANTIK – 2

1. Aşağıdakilerden hangisi sembolik mantığın bölümlerinden biri değildir?

- A) Kiplik mantığı
- B) Klasik mantık
- C) Özdeşlik mantığı
- D) İki değerli mantık

2. Aşağıda verilen önermelerden hangisi tikel evetleme önermesidir?

- A) $\sim p \wedge q$
- B) $(p \vee q) \Rightarrow (q \vee p)$
- C) $(p \vee q) \vee (q \wedge p)$
- D) $(p \vee q) \Leftrightarrow (q \rightarrow p)$

3. “ $(p \vee q) \Rightarrow \sim (p \wedge r)$ ” önermesinin ana bileşenleri hangisinde birlikte verilmiştir?

- A) $(p \vee q)$
- B) $(p \vee q), \sim (p \wedge r)$
- C) $(p \vee q), (p \wedge r)$
- D) \Rightarrow, \sim

4. Aşağıdaki sembolleştirilmiş önermelerden “ \sim ” deęilleme eklemi hangisinde ana eklem olarak kullanılmıştır?

- A) $\sim (p \vee q)$
- B) $\sim p \vee \sim q$
- C) $\sim p \Rightarrow q$
- D) $(\sim p \wedge \sim q) \Leftrightarrow \sim r$

5. “Öğrenci, öğretmen ve veli birbirini tamamlar.”

Önermesi kaç yüklemli bir önermedir?

- A) Birli
- B) İkili
- C) Üçlü
- D) Dörtlü

1. OTURUM

6. “İnsan çalışır ve gayret ederse mutlu olur.”

Önermesinin önermeler mantığındaki sembolleştirilmiş biçimi aşağıdakilerden hangisidir?

- A) $p \wedge q \Rightarrow r$ B) $p \vee q \Rightarrow r$
C) $p \wedge q \Rightarrow r$ D) $p \Rightarrow q$

7.

I	II	III	IV
$p \Rightarrow q$	$\sim p \Leftrightarrow q$	$(p \vee q) \wedge p$	$(p \vee q) \vee (p \Rightarrow q)$
D	Y	D	D
Y	D	D	D
D	D	Y	D
D	Y	Y	D

Yukarıda doğruluk değerleri verilen numaralandırılmış önermelerden hangisi **geçerlidir**?

- A) I numaralı önerme
B) II numaralı önerme
C) III numaralı önerme
D) IV numaralı önerme

8.

$\sim p \Rightarrow q$	$p \vee q$
D	D
D	D
D	D
Y	Y

Yukarıda doğruluk değerleri verilen önermelerle ilgili aşağıdakilerden hangisi söylendiğinde **doğru olur**?

- A) Önermeler geçerlidir.
B) Önermeler tutarlıdır.
C) Önermeler totolojidir.
D) Önermeler denk değildir.

9. $\sim (p \wedge q)$ önermesinin, çözümleyici çizelge kuralına göre açılımı hangisinde ifade edilmiştir?

A) $1 \sim (p \wedge q)$



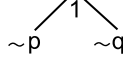
B) $\sim (p \wedge q)$



C) $1 \sim (p \wedge q)$



D) $1 \sim (p \wedge q)$



10. Aşağıdakilerden hangisi bileşik bir önermedir?

- A) $\forall x G_x$ B) $\exists x F_x$
C) $\forall x F_x$ D) $F_a \vee G_b$

11. “Hava güneşliyse oyun oynayacağım.”

önermesinin niceleme mantığında sembolik ifadesi hangisidir?

- A) $F_a \Rightarrow G_b$ B) $F_a \Rightarrow \sim G_b$
C) $\exists x F_x \vee G_x$ D) $\exists x \sim G_x \Rightarrow F_x$

12. Öznesi açıkça belli olmayan, içinde değişken bulunan önermeler, açık önermelerdir.

Aşağıdakilerden hangisi açık önerme **değildir**?

- A) $y + 8 = 12$
B) $5x = 4y$
C) Bitki fotosentez yapar.
D) Z bir hayvan değildir.

13. “ $\forall x (x \text{ sosyal bilimdir})$ ” açık önermesinin doğruluk değeri aşağıda verilen evrenlerden hangisinde doğrudur?

- A) $E = \{ \text{fizik, kimya, biyoloji} \}$
B) $E = \{ \text{kimya, sosyoloji, tarih} \}$
C) $E = \{ \text{felsefe, biyoloji, matematik} \}$
D) $E = \{ \text{sosyoloji, psikoloji, tarih} \}$

14. “Tatilde bütün klasikleri okuyacağım.” biçimindeki bir önermeye, geleceğe ilişkin bir bilgi verdiği için doğru ya da yanlış diyemeyiz. Bu türden önermelerin doğru ya da yanlış olması olasıdır, ancak kesin değildir.

Bu durum aşağıdaki mantık sistemlerinin hangisinin ortaya çıkmasına neden olmuştur?

- A) Çok değerli mantık
B) Niceleme mantığı
C) İki değerli mantık
D) Kiplik mantığı

15. Bir önermenin “gerçek”, “zorunlu” ve “mümkün” değerlerini aldığı mantık sistemi aşağıdakilerden hangisidir?

- A) Kiplik mantığı
B) Varlık mantığı
C) Özdeşlik mantığı
D) Üç değerli mantık

16. “İlgaz dağı vardır.” önermesinin varlık mantığındaki sembolik ifadesi hangisidir?

- A) E_a B) $E! a$
C) $a \equiv b$ D) $\diamond p$

17. Doğruluğu açık ve seçik olarak belirli olan bu yüzden ispatlanmasına gerek olmayan önermelere ne ad verilir?

- A) Teorem B) Aksiyom
C) Tutarlılık D) Çıkarım

18. Aşağıdaki yargılardan hangisi **yanlıştır**?

- A) Bilimsel teorileri oluşturan önermelerin doğruluğu sadece mantıksal yolla denetlenebilir.
B) Mantığın doğa bilimlerine uygulanması, bilimsel önermelerin sembolleştirilmesine dayanır.
C) Doğa bilimleri, kendi konuları üzerinde deneysel yöntemi kullanarak ispat yapmaya çalışır.
D) Aklın denetiminden geçmeden bir deney düzeneği kurulamaz.

1. OTURUM

19. Aşağıdakilerden hangisi mantıklı bir insanda görülmesi beklenen bir özellik değildir?

- A) İspatlanmamış güvenilir olmayan bilgilere inanmaz.
- B) Zihninde birbirleriyle çelişik düşüncelere yer vermez.
- C) Duygular ve önyargılar karar verme sürecini etkiler.
- D) Eleştirel bir düşünme biçimine sahiptir.

20. I- Bilimin dilsel yapısı ile ilgili sorunlar
II- Geçerlilik kavramıyla ilgili sorunlar
III- Mantık değişmezleri ile ilgili sorunlar
IV- Doğruluk ve varlıkla ilgili sorunlar

Yukarıda verilenlerden hangileri mantık felsefesinin ele aldığı sorunlardandır?

- A) I ve II
- B) I ve IV
- C) I, II ve III
- D) II, III ve IV

(484) SAĞLIK BİLGİSİ – 2

1. I- 20 yaşından önce
II- 35 yaşından sonra
III- 1. doğumdan sonra

Annenin yukarıdaki durumlardan hangisinde olması, doğumlarda anne ve bebek ölümlerini artırır?

- A) Yalnız I
- B) I ve II
- C) II ve III
- D) I, II ve III

2. Gebeliğin aşağıda verilen hangi aylarında, düşük olma olasılığı daha yüksektir?

- A) 3.
- B) 5.
- C) 6.
- D) 9.

3. I- Mikropsuzdur.
II- Vücut proteinlerine dönüşür.
III- Bağışıklık maddeleri içerir.
Yukarıdakilerden hangileri anne sütünün özelliklerindedir?

- A) Yalnız I
- B) I ve II
- C) II ve III
- D) I, II ve III

4. I- Gebelikte annenin radyasyon etkisi altında kalması
II- Doğum sırasında bebeğin anne karnında oksijensiz kalması
III- Gebelikte annenin sigara ve bağımlılık yapan maddeleri kullanması

Gebelik dönemini etkileyen yukarıdaki faktörlerden hangileri doğacak bebeğin beyinde kalıcı hasarlara yol açabilir?

- A) Yalnız I
- B) I ve II
- C) II ve III
- D) I, II ve III

5. Aşağıdakilerden hangisi 6 aylık bebeğin bedensel yetenekler ve zihinsel gelişim özelliklerinden değildir?

- A) Destekle oturabilir.
- B) Elinden tutulunca yürür.
- C) Yabancıları, tanıdıklarından ayırabilir.
- D) Alt çenede ilk kesici dişleri çıkar.

6. Gebe kadın gebeliği süresince yeterli ve dengeli beslemek zordur.

Aşağıdakilerden hangisi gebelikte yeterli ve dengeli beslenmenin amaçlarından değildir?

- A) Vücutundaki mineral depolarını dengede tutmak
- B) Gebe kadının fazla kilo almasını sağlamak
- C) Anne karnındaki bebeğin sağlıklı büyüme ve gelişmesini sağlamak
- D) Kendi fizyolojik gereksinimlerini (enerji ve besin öğelerini) karşılamak

7. Aşağıdakilerden hangisi, zatürre hastalığı açısından riskli gruplar içerisinde değildir?

- A) Prematüre bebekler
- B) Kronik hastalığı olan çocuklar
- C) Bağışıklık sistemi güçlü olanlar
- D) Sigara dumanına maruz kalan çocuklar

8. Aşağıdaki hastalıklardan hangisi, kirli ve mikroplu, içme ve kullanma sularından oluşur?

- A) Tifo
- B) Obezite
- C) Guatr
- D) Down Sendromu

9. Bir bulaşıcı hastalık etkeninin vücuda girmesiyle hastalığın ortaya çıkmasına kadar geçen süreye ne ad verilir?

- A) Prion
- B) Portör
- C) Kuluçka süresi
- D) Bulaşma süresi

10. Mikroorganizmaların salgıladığı zehirli maddelerin, sebep olduğu hastalık aşağıdakilerden hangisidir?

- A) Grip
- B) Kolera
- C) Tetanos
- D) Amipli dizanteri

11. Aşağıdakilerden hangisi bulaşıcı hastalıklardan korunma yolları içerisinde yer almaz?

- A) Yerlere tükürülmemeli
- B) Peynir yapıldıktan sonra bekletilmeden tüketilmeli
- C) Pastörize edilmiş sütler tüketilmeli
- D) Öksürürken, aksırırken ağız kapatılmalı

12. Bulaşıcı hastalıklardan korunmada, aşağıda verilenlerden hangisi sağlam kişiye yönelik önlemlerdedir?

- A) Bağışıklama
- B) Tıbbi gözlem
- C) Ateş ve nabız takibi
- D) Hastanın tedavi edilmesi

1. OTURUM

13. Nabız ile ilgili olarak aşağıda verilenlerden hangisi yanlıştır?

- A) Nabız, kalp hızının ve ritminin göstergesidir.
- B) Bir dakikadaki kalp vuruş sayısı, nabızdır.
- C) Nabız hızı yaşa bağlı olarak değişmez.
- D) Efor sarfettikten sonra nabız artar.

14. Aşağıdakilerden hangisi ilkyardımanın öncelikli amaçları arasında yer almaz?

- A) Hayati tehlikenin ortadan kaldırılması
- B) Yaşamsal fonksiyonların sürdürülmesinin sağlanması
- C) Yaralının durumunun kötüleşmesinin önlenmesi
- D) İlaçla tedavinin yapılması

15. Aşağıdakilerden hangisi ev kazalarından korunmak için yapılması gerekenlerden değildir?

- A) Çocuk oyun alanları mutfak dışında olmalıdır.
- B) Aydınlanma gölge yapacak tarzda olmalıdır.
- C) Vantilatör varsa koruma kalkanı olmalıdır.
- D) Banyo tabanı kaygan olmamalıdır.

16. Kalp durmasına en kısa sürede müdahale edilmezse dokuların oksijenlenmesi bozulur.

Bu durum aşağıdaki organlardan, öncelikle hangisinde hasar oluşturur?

- A) Mide
- B) Beyin
- C) Karaciğer
- D) Kalın bağırsak

17. İlkyardımcı, hasta ya da yaralının sağlık kuruluşuna sevkini sağlamak için, aşağıdaki telefon numaralarından hangisini arar?

- A) 112
- B) 154
- C) 155
- D) 110

18. Aşağıdakilerden hangisi, kimyasal yanık çeşitlerindedir?

- A) Isı ile oluşan
- B) Elektrik ile oluşan
- C) Asit alkali madde ile oluşan
- D) Sürtünme ile oluşan

19. Aşağıdakilerden hangisi sıcak çarpmasında risk grupları içerisinde yer alır?

- A) Sürekli ve bilinçsiz diyet uygulayanlar
- B) Bol miktarda sıvı tüketenler
- C) Mevsime uygun giyinenler
- D) Direk güneş ışığında kalmaayanlar

20. Aşağıdakilerden hangisi, zehirlenmelerde, dolaşım sistemi bozukluğu belirtilerindedir?

- A) Bulantı
- B) Bilinç kaybı
- C) Nefes darlığı
- D) Nabız bozukluğu

(491) TRAF. ve İLK YARD. – 1

1. I- Taşıt yolu üzerinde bulunur.

II- Trafik işaretleri ile belirlenmiş alandır.

III- Yayaların güvenli geçebilecekleri alandır.

Yaya geçidi için yukarıda verilenlerden hangileri söylenebilir?

- A) Yalnız I
- B) I ve II
- C) II ve III
- D) I, II ve III

2. Sürücülerin aşağıdakilerden hangisini yapması yasaktır?

- A) Bağlantı yollarında geri gitmeleri
- B) Trafik işaret levhalarına uymaları
- C) Trafik polisinin ikazlarına uymaları
- D) Işıklı trafik işaret cihazlarının sinyallerine uymaları

3. Trafik ortamını paylaşanlarda, aşağıdaki tutum ve davranışlardan hangisinin bulunması hâlinde, trafik düzeni ve güvenliği olumlu yönde etkilenir?

- A) Aşırı tepki gösterilmesi
- B) Birdenbire sinirlenilmesi
- C) Bencillikten uzak durulması
- D) Kaba ve saldırgan davranılması

4. Aşağıdakilerden hangisi, tedbirsiz ve saygısız araç sürmeye örnek değildir?

- A) Yayalara su sıçratılması
- B) Hız kurallarına uyulması
- C) Diğer sürücülerin korkutulması
- D) Elinde cep telefonu ile araç kullanılması

5. • Taşıttan sarkmak
• Habersiz inmek-binmek

Yukarıda verilenlerin yapılması, trafik kazalarında rol oynayan faktörlerden hangisinin içinde değerlendirilir?

- A) Araç kusurları
- B) Yaya kusurları
- C) Yolcu kusurları
- D) Sürücü kusurları

6. Trafik görevlisinin, geceleyin ışıklı işaret çubuğunu şekildeki gibi hareket ettirmesinin sürücüler için anlamı nedir?



- A) Dur işareti
- B) Geç işareti
- C) Yavaşlatma işareti
- D) Hızlandırma işareti

7. Aşağıdakilerin hangisinde durulur ve yol kontrol edildikten sonra geçilir?

- A) Sarı ışıkta
- B) Kırmızı ışıkta
- C) Aralıklı yanıp sönen sarı ışıkta
- D) Aralıklı yanıp sönen kırmızı ışıkta

1. OTURUM

8. Şekildeki trafik işareti hangi yol bölümünde bulunur?



- A) Virajlı B) Eğimli
C) Kaygan D) Kasisli

9. Koşulların uygun olması hâlinde sürücü, kesik yol çizgileri boyunca aşağıdakilerden hangisini yapabilir?

- A) Diğer şeride geçemez.
B) Önündeki aracı geçebilir.
C) Takip mesafesini azaltabilir.
D) Sol şeritte sürekli seyredebilir.

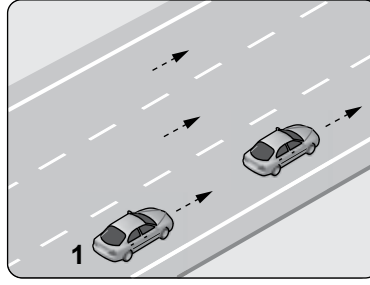
10. Aşağıdakilerden hangisi, araçlarda olası bir kaza anında ölüm ve yaralanmaların en aza indirilmesi amacıyla alınan önlemlerdendir?

- A) Seyir esnasında emniyet kemeri kullanılması
B) Trafikteki motorlu araç sayısının artırılması
C) Aracın kapılarının açık tutulması
D) Koyu renk giysiler giyilmesi

11. Aşağıdakilerden hangisi, güvenli yolculuk için alınması gereken önlemlerdendir?

- A) İçkili olarak araç kullanılması
B) Aracın bakımının yetkili servislerde yaptırılması
C) Sürüş öncesi düzensiz ve yetersiz uyku uyuması
D) Trafik yoğunluğu fazla olan güzergâhların seçilmesi

12.



Şekildeki 1 numaralı araç sürücüsünün, önündeki aracı geçmesi sırasında aşağıdakilerden hangisini yapması yasaktır?

- A) Önündeki aracı, sağından veya banketten yararlanmak suretiyle geçmesi
B) Geçiş yapacağı araç sürücüsünü korna veya selektör yaparak uyarması
C) İşaret vermeden önce iç ve dış aynalardan trafiği kontrol etmesi
D) Uygun zaman ve mesafede dönüş ışıklarını yakması

13. Aşağıdakilerden hangisi, sola dönüş yapan araç sürücülerinin uymak mecburiyetinde olduğu kurallardan biri değildir?

- A) Hızını azaltmak
B) Dönüş işareti vermek
C) Dönüşü dar bir kavisle yapmak
D) Dönüşe başlamadan önce sağdan gelen taşıtlara ilk geçiş hakkını vermek

14. Trafik zorunlulukları dışında araçların, insan indirmek-bindirmek, eşya yüklemek-boşaltmak veya beklemek amacı ile kısa bir süre için durdurulmasına ne ad verilir?

- A) Durma B) Duraklama
C) Park etme D) Trafikten men

15. Sürücüler, geceleri yakın ilerisi görülmeyen kavşak, dönemeç ve tepe üstlerine yaklaşırken gelişlerini nasıl haber vermek zorundadır?

- A) Dönüş ışıklarını yakarak
B) Birkaç defa korna çalarak
C) Acil uyarı ışıklarını yakarak
D) Yakın ve uzağı gösteren ışıkları art arda ve sıra ile yakarak

16. Yayalar, karanlıkta ya da görüşün yetersiz olduğu durumlarda trafik kazalarından korunmak için aşağıdaki önlemlerden hangisini almak zorundadır?

- A) Koyu renk giysiler giymek
B) Yıllık hayat sigortası yaptırmak
C) Üzerlerinde yansıtıcı aksesuar bulundurmak
D) Trafik yoğunluğu az olan şeritten yürümek

17. Yayalar, kara yolunda karşıdan karşıya güvenli geçiş yapabilmek için aşağıdakilerden hangisini kullanmaz?

- A) Okul geçitlerini
B) Alt ve üst geçitleri
C) Trafik ışıklarının bulunduğu yerleri
D) İlerisi görülmeyen tepe üstü ve dönemeçli yolları

18. Motorlu bisiklet ve motosikletlerin sürülmesi sırasında sürücülerin aşağıdakilerden hangisini kullanması zorunludur?

- A) Eldiven
B) Rüzgârlık
C) Emniyet kemeri
D) Koruma başlığı ve koruma gözlüğü

19. Üzerinde renk ve teknik değişiklik yapılan veya kullanım amacı değiştirilen araçlara ait tescil belgeleri, sahiplerinin gerekli uygunluğu sağlamaları bakımından kaç gün süre ile geçerliliğini korur?

- A) 30 B) 40 C) 50 D) 60

20. Aşağıdaki durumların hangisinde araç trafikten men edilir?

- A) Sürücünün, sürücü belgesi yanında yoksa
B) Zorunlu mali sorumluluk sigortası yoksa
C) Araç sahibi tarafından kullanılmıyorsa
D) Kasko sigortası yoksa

1. OTURUM

1. Bir dış açısının ölçüsü 24° olan düzgün çokgen kaç kenarlıdır?

- A) 12 B) 13 C) 14 D) 15

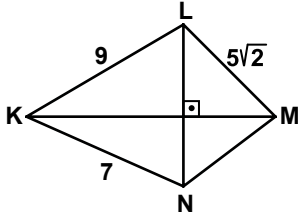
2. 12 kenarlı bir çokgenin köşegenlerinin sayısı kaçtır?

- A) 24 B) 36 C) 48 D) 54

3. Bir köşesinden geçen köşegen sayısı 5 olan çokgenin iç açılarının ölçüleri toplamı kaç derecedir?

- A) 1440 B) 1260
C) 1080 D) 900

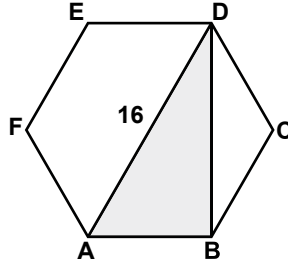
4.



Şekildeki KLMN dörtgeninde $[LN] \perp [KM]$ 'tir. $|KL| = 9$ cm, $|LM| = 5\sqrt{2}$ cm ve $|KN| = 7$ cm olduğuna göre, $|MN|$ kaç santimetredir?

- A) 3 B) 4
C) $2\sqrt{3}$ D) $3\sqrt{2}$

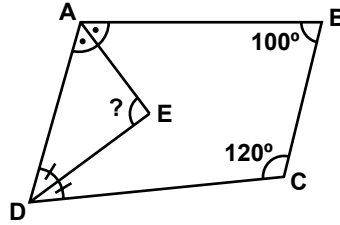
5.



Şekildeki ABCDEF düzgün altıgeninde $|DA| = 16$ cm olduğuna göre, $A(\widehat{ABD})$ kaç santimetrekaredir?

- A) 32 B) $32\sqrt{3}$
C) 64 D) $64\sqrt{3}$

6.

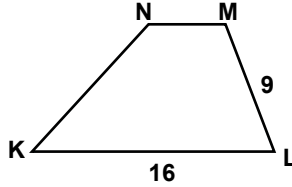


Şekildeki ABCD dörtgeninde; $[AE]$, \widehat{BAD} 'nın ve $[DE]$, \widehat{ADC} 'nin açıortaylarıdır.

$m(\widehat{ABC}) = 100^\circ$ ve $m(\widehat{BCD}) = 120^\circ$ olduğuna göre, $m(\widehat{AED})$ kaç derecedir?

- A) 90 B) 100
C) 110 D) 120

7.

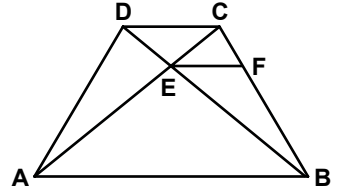


Şekildeki KLMN yamuğunda, $[KL] \parallel [NM]$,

$2 \cdot m(\widehat{KLM}) = m(\widehat{MNL})$, $|ML| = 9$ cm ve $|KL| = 16$ cm'dir. Buna göre, KLMN yamuğunun çevresi kaç santimetredir?

- A) 41 B) 49 C) 58 D) 64

8.

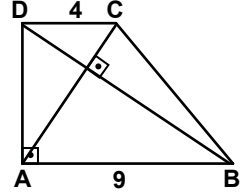


Şekildeki ABCD yamuğunda, $[AB] \parallel [EF] \parallel [DC]$ 'dir.

$|CF| = 3$ cm, $|EF| = 4$ cm ve $|BF| = 5$ cm olduğuna göre, $|CD|$ kaç santimetredir?

- A) 6 B) $\frac{32}{5}$
C) 7 D) $\frac{36}{5}$

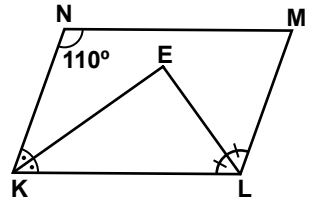
9.



Şekildeki ABCD dik yamuğunda $[DC] \parallel [AB]$, $[DA] \perp [AB]$ ve $[DB] \perp [CA]$ 'tir. $[DC] = 4$ cm ve $|AB| = 9$ cm olduğuna göre, $|DA|$ kaç santimetredir?

- A) 5 B) 6 C) 12 D) 13

10.

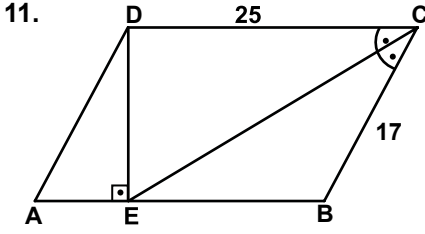


Şekildeki KLMN paralelkenarında; $[KE]$, \widehat{NKL} 'nin ve $[LE]$, \widehat{KLM} 'nin açıortaylarıdır.

$m(\widehat{KNM}) = 110^\circ$ olduğuna göre, $m(\widehat{ELK}) - m(\widehat{EKL})$ kaç derecedir?

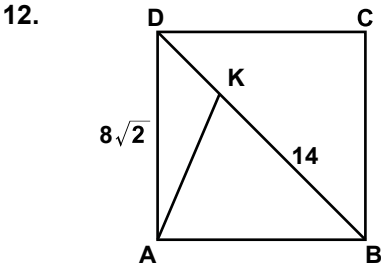
- A) 20 B) 30
C) 35 D) 40

1. OTURUM



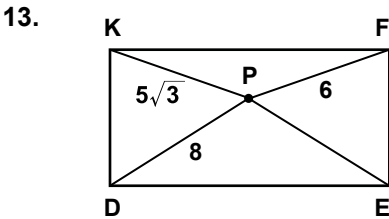
Şekildeki ABCD paralelkenarında; $[DE] \perp [AB]$ ve $[CE], \widehat{DCB}$ 'nin açıortayıdır. $|DC| = 25$ cm ve $|CB| = 17$ cm olduğuna göre, $|DE|$ kaç santimetredir?

- A) 9 B) 10 C) 12 D) 15



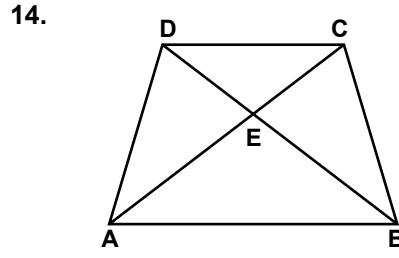
Şekildeki ABCD karesinde $[DB]$ köşegendir. $|DA| = 8\sqrt{2}$ cm ve $|KB| = 14$ cm olduğuna göre, $|KA|$ kaç santimetredir?

- A) 10 B) 9 C) 8 D) 5



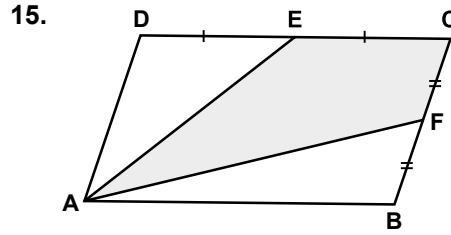
Şekildeki DEFK dikdörtgeninde $|DP| = 8$ cm, $|PF| = 6$ cm ve $|KP| = 5\sqrt{3}$ cm olduğuna göre, $|PE|$ kaç santimetredir?

- A) 5 B) 7
C) $6\sqrt{3}$ D) $8\sqrt{3}$



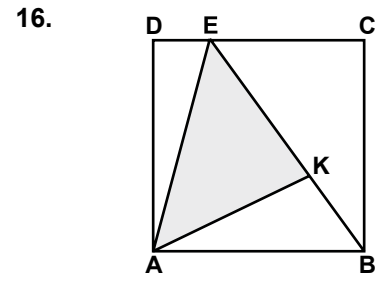
Şekildeki ABCD yamuğunda $[AC] \cap [BD] = \{E\}$ ve $[AB] \parallel [DC]$ 'dir. $A(\widehat{EDC}) = 5$ cm², $A(\widehat{ECB}) = 10$ cm² olduğuna göre, $A(ABCD)$ kaç santimetrekaredir?

- A) 30 B) 45 C) 60 D) 75



Şekildeki ABCD paralelkenarında, E ve F noktaları buldukları kenarların orta noktalarıdır. $A(EAFC) = 38$ cm² olduğuna göre, $A(ABCD)$ kaç santimetrekaredir?

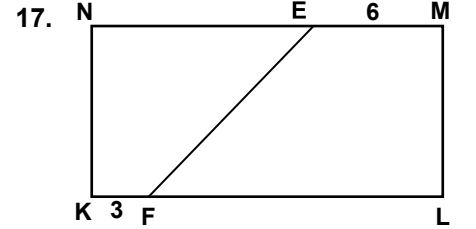
- A) 47 B) 57 C) 66 D) 76



Şekildeki ABCD karesinde, $|EB| = 4|KB|$ 'tir.

$A(\widehat{AKE}) = 96$ cm² olduğuna göre, $A(ABCD)$ kaç santimetrekaredir?

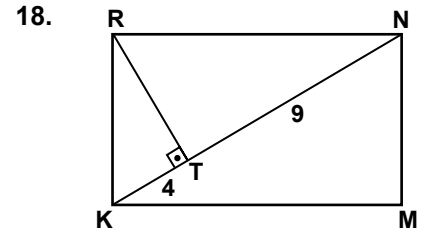
- A) 160 B) 192
C) 256 D) 288



Şekildeki KLMN dikdörtgeninde, $|EM| = 6$ cm ve $|KF| = 3$ cm'dir.

$\frac{A(KFEN)}{A(FLME)} = \frac{2}{3}$ olduğuna göre, $|NE| + |FL|$ kaç santimetredir?

- A) 9 B) 12 C) 21 D) 24



Şekildeki KMNR dikdörtgeninde, $[RT] \perp [KN]$ 'tir. $|KT| = 4$ cm ve $|TN| = 9$ cm olduğuna göre, $A(\widehat{KTR})$ kaç santimetrekaredir?

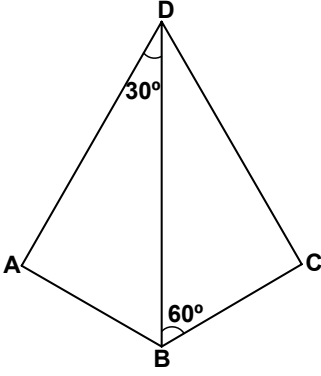
- A) 12 B) 24 C) 36 D) 48

1. OTURUM

(502) İNGİLİZCE – 8

1-18. sorularda boş bırakılan yere uygun gelen kelime ya da ifadeyi işaretleyiniz.

19.



Şekildeki ABCD deltoidinde $m(\widehat{ADB}) = 30^\circ$ ve $m(\widehat{DBC}) = 60^\circ$ dir. $|AD| = |DC| = 18$ cm olduğuna göre, A(ABCD) kaç santimetrekaredir?

- A) 162 B) $108\sqrt{3}$
C) $144\sqrt{3}$ D) 324

20. Bir eşkenar dörtgenin çevresi 20 cm ve köşegenlerinin uzunlukları toplamı 14 cm'dir. Buna göre, bu eşkenar dörtgenin alanı kaç santimetrekaredir?

- A) 12 B) 18 C) 24 D) 30

9. Bora by a stranger yesterday.

- A) called B) will be calling
C) is called D) was called

10. By the time Snow White comes home, the Seven Dwarves to the cave.

- A) had been going
B) are going to go
C) will have gone
D) will be going

11. When the police came, the golden necklace

- A) had been stolen
B) have stolen
C) is stolen
D) to steal

12. If I abroad, I would have come to your graduation.

- A) won't have been
B) hadn't been
C) haven't been
D) wouldn't be

13. Sena the door until we finish painting the walls.

- A) have been painted
B) had been painting
C) will have painted
D) will be painting

14. If you your hands after going to the toilet, you sick.

- A) washes / hadn't got
B) wash / wouldn't got
C) wash / won't get
D) had washed / get

15. If you are tired,

- A) get some sleep.
B) wash the dishes.
C) go to work on foot.
D) clean the house quickly.

1. the end of this year, we will have started the project.

- A) In B) On
C) Of D) By

2. Aydın must study as hard he can in order to pass the exam.

- A) if B) so
C) as D) on

3. Take a map with you you can find your way easily.

- A) because B) so that
C) whenever D) after

4. She failed the exam that she didn't study regularly.

- A) due to the fact
B) although
C) in order to
D) wherever

5. Don't worry! You will be walking

- A) yet B) after
C) before D) soon

6. This time, we will be celebrating our 25th wedding anniversary.

- A) yesterday B) next month
C) last year D) a week ago

7. If I miss the class, the teacher angry with me.

- A) is getting B) will get
C) had got D) would get

8. The conference in Glasgow.

- A) is holding B) had held
C) will be held D) used to hold

1. OTURUM

(502) ALMANCA – 8

1- 17. sorularda boş bırakılan yere uygun gelen ek, kelime ya da ifadeyi işaretleyiniz.

16. I would get married to a queen
.....

- A) if I am a prince.
- B) if I were a king.
- C) if I have a place.
- D) if I had got money.

17. , I could have won a scholarship.

- A) If I would get up early
- B) If I always study hard
- C) If I had studied more
- D) If I got high marks

18. A: I can't find my umbrella.
B: Look at you usually put it.

- A) when B) where
- C) while D) whenever

19. Aşağıda verilen cümlelerin "passive" (edilgen) halini işaretleyiniz
"I cleaned the house yesterday."

- A) The house was cleaned yesterday.
- B) He cleaned the house yesterday.
- C) The house was cleaned by servants.
- D) It will be cleaned next week.

20. Aşağıda verilen cümlelerin "active" (etken) hâlini işaretleyiniz.
"The meeting is being held now."

- A) I will hold a meeting soon.
- B) The boss was at the meeting.
- C) We need a meeting urgently.
- D) They are holding the meeting now.

9. Ich kann kein neues Auto kaufen, ich kein Geld habe.

- A) als B) dass
- C) denn D) weil

10. Ihr morgen ins Theater gehen.

- A) werde B) wirst
- C) werdet D) werden

11. Die Frau, dort sitzt, ist eine Französin.

- A) die B) das
- C) der D) sie

12. "Kızılırmak" ist ein in der Türkei.

- A) Stadt B) Berg
- C) Dorf D) Fluss

13. Wir in der Schule.

- A) lernt B) lernen
- C) gelernt D) lernte

14. Der Berg Uludağ ist der Berg der Türkei.

- A) tiefste B) länger
- C) schönste D) kleine

15. Maschinenbau studiert.

- A) Ich habe B) Ich werde
- C) Ich möchte D) Ich will

16. Eine Brücke

- A) studieren B) lesen
- C) gehen D) bauen

17. ich viel Geld, ich ein Flugzeug kaufen.

- A) Wäre /wenn
- B) Wenn / hätte
- C) Hätte / würde
- D) Würde / hätte

1. Kommst du aus Ankara aus Istanbul?

- A) oder B) weil
- C) um D) denn

2. Sie ihren Vater zur Schule rufen. (Mecburiyet)

- A) kann B) will
- C) soll D) möchte

3. wann lebst du in Deutschland?

- A) Ist B) Seit
- C) Sind D) Wird

4. ist deine Lieblingsfarbe?

- A) Wer B) Wem
- C) Wann D) Was

5. Mit so wenig Geld wir nicht leben.

- A) kann B) gekonnt
- C) können D) könnt

6. In einem Restaurant man essen.

- A) kann B) können
- C) gekonnt D) könnt

7. ich Zeit habe, werde ich dich besuchen.

- A) Dass B) Denn
- C) Das D) Wenn

8. A: willst du später wohnen?
B: Ich möchte in Antalya wohnen.

- A) Was B) Wo
- C) Wer D) Wann

1. OTURUM

18. Was macht ein Reiseleiter?


- A) Filme drehen
- B) Touristen führen
- C) Kinder erziehen
- D) Kranke heilen

19. Was ist er von Beruf?



- A) Koch
- B) Pilot
- C) Lehrer
- D) Arzt

20. Was ist das?



- A) Ein Ort
- B) Eine Burg
- C) Eine Schule
- D) Ein Krankenhaus

(502) FRANSIZCA – 8

1 - 18. sorularda boş bırakılan yere uygun gelen kelime ya da ifadeyi işaretleyiniz.

1.ne m'a rien dit.

- A) Tu
- B) Vous
- C) Je (J')
- D) Il

2. Avant de sortir, les lumières.

- A) éteignez
- B) croyons
- C) parlons
- D) appelez

3. Ce soir, on va au cinéma. N'oublie pas de (d') trois tickets

- A) entendre
- B) habiter
- C) acheter
- D) respecter

4. Le café à 23 heures.

- A) ferme
- B) cherche
- C) bois
- D) mange

5. J'ai vu le film Pek Yakında je trouve super.

- A) qui
- B) que
- C) où
- D) dont

6. A : Qu'est-ce que tu prends comme boisson ?

B : Je prends

- A) de la salade
- B) de l'eau minérale
- C) des olives
- D) du pain complet

7. A : Ertan téléphone souvent à..... ?

B : Oui, il lui téléphone souvent.

- A) ses parents
- B) tes cousins
- C) son père
- D) leurs enfants

8. A : Et toi, tu ne prends pas d'omelette?

B : Si, mais je peux manger une fois par semaine

- A) les
- B) y
- C) lui
- D) en

9. Les turcs mangent 7 kilos de viandes personne ans

- A) en / dans
- B) par / par
- C) en / en
- D) dans / en

10. Je ne suis jamais allé à Istanbul mais mon oncle habite.

- A) y
- B) en
- C) par
- D) le

11. Suat a rendez-vous à 10 heures. Il est déjà 10h.15 Il est

- A) à l'heure
- B) à midi
- C) en avance
- D) en retard

12. Elle a cassé les verres sa maladresse.

- A) à cause de
- B) grâce à
- C) parce que
- D) pourquoi

13. Pour maigrir, il faut

- A) faire du sport
- B) manger des gâteaux
- C) prendre des kilos
- D) manger beaucoup

14. j'irai en vacances au Kenya.

- A) Hier
- B) Samedi dernier
- C) l'été prochain
- D) Avant-hier

15. A : Tu viens à ma petite fête? B :

- A) Si j'ai faim, je mange du chocolat
- B) Si je vais mieux, je veux venir
- C) S'il y a un bon film, je veux aller
- D) Si j'ai soif, je veux boire du lait

16. Il n'a pas fait ses devoirs, car un bon film à la télé.

- A) il pleuvait
- B) il y avait
- C) il faisait froid
- D) c'était

17. Jean : Sylvie, je n'ai plus de pain, tu peux aller ?

Sylvie : D'accord, il faut autre chose ?

Jean : Oui, deux croissants pour le petit déjeuner.

- A) à la pharmacie
- B) à la librairie
- C) à la boulangerie
- D) à la mairie

18. Tu peux conduire mais il faut être

- A) distraite
- B) gras
- C) marron
- D) attentif

1. OTURUM

(511) FIKIH – 1

19- 20. sorularda verilen resme göre cümlede boş bırakılan kısmı tamamlayan sözcük ya da ifadenin bulunduğu seçeneği işaretleyiniz.

19.



M.Dupont est qui a deux filles.

- A) un jeune homme
- B) une vieille femme
- C) un vieil homme
- D) une fausse amie

20.



Quand il fait beau,

- A) il promène son chien dans le parc
- B) ils vont à la chasse avec des chats.
- C) elles se promènent toujours dans le parc
- D) il va à la pêche avec ses chiens

1. Aşağıdakilerden hangisi fıkıh ilminin amaçlarından biri değildir?

- A) İnsanlar arası ilişkilerin olumlu yönde ilerlemesini sağlamak.
- B) İnsanların kendi yararına ve zararına olan şeyleri bilmek.
- C) İnsanın Allah'a karşı görevlerini bilinçli bir şekilde yerine getirmesini sağlamak.
- D) İnsanların itikadi meseleleri delilleriyle öğrenmelerini sağlamak.

2. Aşağıdakilerden hangisi fıkıh ilminin konusudur?

- A) Meleklerin özellikleri
- B) Hadislerin sıhhat derecesi
- C) Dini hükümlerin kaynakları
- D) İslam düşüncesinde ortaya çıkan itikadi mezhepler

3. Miras ve vasiyet ile ilgili konular fıkıh ilminin hangi başlığı altında ele alınır?

- A) Feraiz
- B) Ukubat
- C) Muamelat
- D) Münakehat

4. Aşağıdakilerden hangisi fıkıh usulü alanında yazılmış bir eser değildir?

- A) Er-Risale
- B) El-Fıkhü'l-Ekber
- C) El-Mustasfa
- D) El-Muvafakat

5. Dinî hükümlerin, bir anda ve topluca değil de zaman içerisinde ihtiyaçlara göre konulması fıkıh usulünün hangi temel amacı ile ilgilidir?

- A) Haramda sınırlılık
- B) Helallerde genişlilik
- C) Hükümlerde tedricilik
- D) Kamu yararının gözetilmesi

6. • 622-632 yıllarını kapsayan dönemdir.
• Müslümanlar bu dönemde devlet kurmuşlardır.
• Muamelat, aile, miras ve ceza gibi konularda ilke ve kurallar konulmuştur.

Bu bilgiler fıkıhın hangi dönemine aittir?

- A) Mekke dönemi
- B) Tabiin dönemi
- C) Sahabe dönemi
- D) Medine dönemi

7. Fıkıh ilmi ile ilgili eserler hangi dönemde yazılmaya başlanmıştır?

- A) Tabiin dönemi
- B) Sahabe dönemi
- C) Hz. Peygamber dönemi
- D) Mezheplerin ortaya çıktığı dönem

8. İmam Yusuf, İmam Muhammed ve İmam Züfer hangi fıkıhî mezhebin önde gelen alimleridir?

- A) Malikilik
- B) Hanefilik
- C) Şafilik
- D) Hanbelilik

9. Aşağıdakilerden hangisi İslam düşüncesinde ortaya çıkan fıkıhî bir mezhep değildir?

- A) Caferilik
- B) Eşarilik
- C) Malikilik
- D) Hanbelilik

10. • Zührî ve Nafî gibi tabiin alimlerinden ders almıştır.
• Muvatta isimli eseri hadis alanında önemli bir kaynaktır.
• Medine halkının uygulamalarını fıkıhî delil olarak kabul eder.

Bu bilgiler aşağıdaki fıkıh alimlerinden hangisine aittir?

- A) Cafer b. Sadık
- B) Ahmet b. Hanbel
- C) Malik b. Enes
- D) Muhammed b. İdris es-Şafii

1. OTURUM

11. Aşağıdakilerden hangisinin vücut ehliyeti eksiktir?

- A) Anne karnındaki ceninin
- B) Yedi yaşına gelmemiş çocukların
- C) Yedi yaşından buluş çağına kadar olan dönemdeki çocukların
- D) Buluş çağından sonraki dönemdeki kişilerin

12. Eda ehliyeti aşağıdakilerden hangisinde doğru açıklanmıştır?

- A) Ayı ayrı her bir ferdin yerine getirmesi gereken yükümlülüklerdir.
- B) Belli bir vakitte yapılması şart olan farzlardır.
- C) Kişinin yapıp yapmamakta özgür bırakıldığı fiillerdir.
- D) Kişinin sahip olduğu hakları kullanabilmesidir.

13. Aşağıdakilerden hangisi ehliyeti ortadan kaldıran mütesep arızalara örnektir?

- A) Çocukluk
- B) Unutkanlık
- C) Bayılmak
- D) Sarhoşluk

14. Şari'nin kesin ve bağlayıcı bir şekilde yapılmasını istediği fiillere ne ad verilir?

- A) Farz
- B) Vacip
- C) Sünnet
- D) Müstehap

15. Aşağıdaki eşleştirmelerden hangisi yanlıştır?

- A) Mutlak farz → Zekât
- B) Mukayyed farz → Hac
- C) Farz-ı ayn → Beş vakit namaz
- D) Farz-ı kifaye → Ramazan orucu

16. Peygamberimizin çoğunlukla yerine getirdiği bazen de terk ettiği sünnettir.

Bu tanım aşağıdakilerden hangisine aittir?

- A) Ahad sünnet
- B) Meşhur sünnet
- C) Mükked sünnet
- D) Gayri mükked sünnet

17. Yapılması dinen hoş karşılanmayan, kesin ve açık delillerle yasaklanmayan fiillere ne denir?

- A) Haram
- B) Mekruh
- C) Müfsit
- D) Mübah

18. Aşağıdakilerden hangisi fikhî hükümlerin aslı kaynaklarından biri değildir?

- A) İcma
- B) Kıyas
- C) Sünnet
- D) İstihsan

19. Aşağıdakilerden hangisi icma'nın gerçekleşmesi için gerekli olan şartlardan biri değildir?

- A) İcma şer-i bir konuda olmalıdır.
- B) Müçtehidlerin tamamı fikir birliği etmelidir.
- C) İcma eden alimlerin müçtehid olmaları gerekir.
- D) İcma Hz. Peygamber hayatta iken meydana gelmiş olmalıdır.

20. İctihat ile ilgili aşağıdakilerden hangisi söylenemez?

- A) Dinin yaşanmasını zorlaştırır.
- B) Fıkıh tarihinde bir zenginliktir.
- C) Yeni sorunlara çözüm bulmaktır.
- D) Fıkıhın, hayatla paralel gitmesini sağlar.

(525) SEÇ. Y. DİL İNG. – 5

1-19. sorularda boş bırakılan yere uygun gelen kelime ya da ifadeyi işaretleyiniz.

1. My motorbike hasn't worked I came here.

- A) for
- B) since
- C) while
- D) when

2. The little boy has been alone.....a long time.

- A) then
- B) since
- C) for
- D) after

3. I saw him, he was reading a book in the library.

- A) From
- B) While
- C) Since
- D) When

4. I was sunbathing you were having time with your friends.

- A) while
- B) after
- C) before
- D) so far


5. She hopes her father will be here

- A) yesterday
- B) next week
- C) since Monday
- D) at the moment

6. You should walk than before to lose weight.

- A) more
- B) little
- C) less
- D) far

7. A snake is more than a rabbit.



- A) comfortable
- B) talkative
- C) polite
- D) dangerous

8. I studied for this Maths exam than the previous one.

- A) nearer
- B) carefully
- C) harder
- D) frequently

9. Focus on your work more So you can be successful.

- A) fluently
- B) carefully
- C) dangerously
- D) carelessly

10. Yesterday, the teacher asked a question and I the answer easily.

- A) gave
- B) helped
- C) went
- D) called

1. OTURUM

11. The company a healthy profit since he started to work there.

- A) made B) makes
C) to make D) has made

12. While I the house, the children were playing in the garden.

- A) cleaned
B) am cleaning
C) was cleaning
D) were cleaning

13. She turned the computer on and for her project work.

- A) searches B) to search
C) searching D) searched

14. They never helped us,?

- A) weren't they B) didn't they
C) were they D) did they

15. Let's have a break,?

- A) shall we B) will we
C) don't we D) aren't we

16. Teacher: Don't make noise kids,.....?

- A) do you
B) are you
C) will you
D) have you

17. I a famous musician in the future.

- A) will be B) were
C) was D) have been

18. Cemre be a student at primary school two years ago.

- A) should B) can
C) may D) used to

19. A: I need some money because I have lost my purse.

B: Don't worry! I you some

- A) am taking B) will give
C) will show D) hope

20. Aşağıda verilen bilgilere göre doğru seçeneği işaretleyiniz.

Red Car	fast	300.000 TL
Blue Car	slow	10.000 TL

- A) The blue car is faster than the red car.
B) The red car is slower than the blue car.
C) The red car is more expensive than the blue car.
D) The blue car is more expensive than the red car.

(525) SEÇ. Y. DİL ALM. – 5

1- 18. sorularda boş bırakılan yere uygun gelen ek, kelime ya da ifadeyi işaretleyiniz.

1. Ich habe jeden Tag 16.00 Uhr Schule.

- A) am B) im C) bis D) in

2. A: Wie oft gehst du schwimmen?
B:

- A) Von B) Etwa
C) Immer D) Sicher

3. Er hat sich Paar neue Schule gekauft.

- A) ein B) einen
C) eins D) eine

4. Eine Woche hat 7

- A) Tage B) Jahre
C) Monate D) Stunden

5. Die Türkei ist als Deutschland.

- A) kalt
B) warm
C) wärmer
D) am kältesten

6. Die Ferien beginnen Montag.

- A) in B) um C) am D) bis

7. Ich denke, der Film dauert nicht länger zwei Stunden.

- A) von B) um C) bis D) als

8. Juni,, August.

- A) Mai B) Juli
C) September D) April

9. Die Schule beginnt immer 8.00 Uhr.

- A) am B) um C) im D) in

10. Zwischen 07.00 - 10.00 Uhr ist

- A) Morgen B) Mittag
C) Nachmittag D) Abend

11. Januar, Februar, März sind die

- A) Wochentage
B) Jahreszeiten
C) Tageszeiten
D) Monate

12. A: lernt Peter so viel?
B: er morgen eine wichtige Prüfung hat.

- A) Warum / Weil
B) Wozu / Weil
C) Warum / Um
D) Wozu / Um

13. Ein Flugzeug ist schnell- ein Auto.

- A) -ste als B) -er als
C) so wie D) genau so

14. Der Kontinent Europa ist Asien.

- A) klein B) so klein
C) kleiner als D) größer

15. klein, am kleinsten

- A) kleiner B) kleine
C) kleinen D) kleines

1. OTURUM

16. Heike und Sabine nächste Woche in die Türkei fliegen.

- A) will B) wird
C) werde D) werden

17. A: lernt Ayla Deutsch?
B: ihrem Brieffreund schreiben.

- A) Wie / Von - mit
B) Wozu / Um - zu
C) Warum / Bis - zu
D) Womit / Von - mit

18. Musik

- A) essen
B) trinken
C) treiben
D) hören



19. Wie spät ist es?



- A) Es ist drei Uhr.
B) Es ist vier Uhr.
C) Es ist fünf Uhr.
D) Es ist sechs Uhr.

20. "Herbst" mevsiminin ayları hangisidir?

- A) März, April, Mai
B) Juni, Juli, August
C) Dezember, Januar, Februar
D) September, Oktober, November

(525) SEÇ. Y. DİL FRAN. – 5

1 – 18. sorularda boş bırakılan yere uygun gelen kelime ya da ifadeyi işaretleyiniz.

1. ont regardé leurs émissions préférées à la télé.

- A) Nous B) Ils
C) Elle D) Vous

2. Hier soir, est rentrée à six heures du matin.

- A) elle B) il C) elles D) lui

3. Sylvie? C'est la fille joue du piano.

- A) dont B) que
C) qui D) donc

4. Paris est la ville se trouve la tour Eiffel.

- A) que B) qui C) où D) donc

5. Voici la moto rouge Çetin a achetée.

- A) qui B) ce qui
C) ce que D) que

6.il fait chaud, Pierre va à la piscine.

- A) Pourquoi B) Quand
C) Comment D) Combien

7. Nous nous sommes promenés dans les rues de Bodrum été.

- A) en B) au
C) il y a D) dans

8. Paul a fait du dans les Alpes dimanche dernier.

- A) boxe B) natation
C) marche D) ski

9., j'irai au lac d'Abant pour faire du camping.

- A) Lundi dernier
B) Demain
C) Hier
D) Pendant

10. L'enfant le père habite à Trabzon, est joueur de football.

- A) qui B) que
C) où D) dont

11. Les enfants apprennent beaucoup de choses la télé .

- A) regardez B) regardé
C) en regardant D) regarder

12. Leo Messi au football à l'équipe de Barcelone est sympa.

- A) jouant B) en jouant
C) jouer D) jouent

13. Ayten fait de l'aérobique en de la musique.

- A) écoute B) écoutant
C) écouter D) écoutons

14. Ils ne vont pas..... l'école pied.

- A) au / en B) en / en
C) à / en D) à / à

15. Pour me baigner, je vais

- A) à la mairie
B) à la librairie
C) à la plage.
D) à la bibliothèque

16. "M. et Mme Dubois sont partis en vacances." cümlesinde altı çizili sözcüklerin yerine aşağıdaki şahıs zamirlerinden hangisi konulabilir?

- A) Ils B) Nous
C) Vous D) Elles

1. OTURUM

17 - 18. sorularda verilen cümlelerin Türkçe karşılığını işaretleyiniz.

17. Il a vu son fils regardant le match de tennis.

- A) Oğlunu tenis oynarken izliyor.
- B) Tenis maçı izleyen oğlunu gördü.
- C) Tenis oynarken birden oğlunu fark etti.
- D) Tenis oynayan oğlunu izliyordu.

18. Canan lit le journal en écoutant la radio.

- A) Canan gazete okurken radyo dinleyemez
- B) Canan gazete okurken radyo dinledi.
- C) Canan radyo dinlerken gazete okuyamaz.
- D) Canan radyo dinlerken gazete okuyor.

19 - 20. sorularda verilen cümlelerin Fransızca karşılığını işaretleyiniz.

19. Süt içen çocuklar sınıftan çıktılar.

- A) J'ai vu des enfants buvant du lait dans la rue.
- B) Des enfants veulent boire du lait dans le jardin.
- C) Les enfants buvant du lait sont sortis de la classe.
- D) Des enfants prenant du lait entrent dans la classe.

20. Televizyon izlerken ödevlerini yapıyorlardı.

- A) Ils faisaient leurs devoirs en regardant la télévision.
- B) Ils mangeaient devant la télévision.
- C) Ils s'endormaient en regardant la télévision.
- D) Ils ont fait leurs valises en regardant la télévision.

(528) SEÇ. Y. DİL İNG. – 8

1-20. sorularda boş bırakılan yere uygun gelen kelime ya da ifadeyi işaretleyiniz.

1. They will have been living here for six years next month.

- A) by
- B) on
- C) at
- D) then

2. The company closed by the government.

- A) had
- B) was
- C) has
- D) have

3. If I had wings, I fly.

- A) must
- B) will
- C) could
- D) may

4. you come here, I will have moved to Italy.

- A) Recently
- B) Last week
- C) Yesterday
- D) By the time

5. He wanted to know if Aslı was ill. he called her this morning.

- A) Although
- B) Because
- C) Why
- D) So

6. She can't walk fast she is overweight.

- A) since
- B) while
- C) so far
- D) until

7. You will fail you don't study hard and regularly.

- A) although
- B) after
- C) as long as
- D) while

8. I talk to him, I feel quite happy.

- A) So far
- B) Whenever
- C) Recently
- D) While

9. My mum a cake if we have a birthday party.

- A) is making
- B) would make
- C) might make
- D) makes

10. If you fill a balloon with hot air, it

- A) is rising
- B) rises
- C) would rise
- D) could rise

11. If I go to Paris, I Eiffel Tower.

- A) had visited
- B) could visit
- C) will visit
- D) visited

12. I an operation this time next week.

- A) have
- B) had had
- C) have had
- D) will be having

13. The bank by three thieves.

- A) had robbed
- B) was robbed
- C) to rob
- D) robs

14. If you mix red and blue, you purple.

- A) must get
- B) get
- C) could get
- D) would get

15. The rules by the students at school.

- A) must be obeyed
- B) had been living
- C) will have frozen
- D) are going to read

16. If the police had caught the thief, he

- A) was imprisoned
- B) will be imprisoned
- C) can be imprisoned
- D) would have been imprisoned

1. OTURUM

17. If I had a magic wand, I

- A) would help poor people
- B) will fly around the world
- C) could have bought a car
- D) can give you much money

18. If we, we would have been the world champion.

- A) had won the match
- B) might have called him
- C) have finished the work
- D) would attend the course

19. Where will you be living when

- A) you washed the dishes
- B) he is reading a book
- C) you go to France
- D) they will call you

20. I will be at the meeting hall

- A) since morning
- B) at the moment
- C) this time last year
- D) in a few minutes

(528) SEÇ. Y. DİL ALM. – 8

1- 16. sorularda boş bırakılan yere uygun gelen ek, kelime ya da ifadeyi işaretleyiniz.

1. Meine Mutter kommt heute Kayseri zurück.

- A) im
- B) um
- C) aus
- D) am

2. A: fährst du in die Ferien?

B: Mit dem Zug.

- A) Wofür
- B) Wann
- C) Wohin
- D) Womit

3. Hans spart Geld ein Auto kaufen.

- A) von / bis
- B) bis / zu
- C) um / zu
- D) mit / für

4. Wenn ich ein Arzt, ich armen Menschen helfen.

- A) wäre / würde
- B) würde / wäre
- C) war / wird
- D) wird / war

5. Wenn es klingelt, die Schüler nach Hause gehen.

- A) wird
- B) werde
- C) will
- D) werden

6. A: Was du essen?
B: Ich möchte gerne Fisch essen.

- A) hast
- B) hätte
- C) möchtest
- D) möchte

7. - Was glaubst du, welche Mannschaft heute gewinnen?
- Ich glaube Deutschland.

- A) werden
- B) wird
- C) wurde
- D) geworden

8. Berlin ist die von Deutschland.

- A) Straße
- B) Dorf
- C) Hauptstadt
- D) Ort

9. Ich gehe zum Arzt, ich krank bin.

- A) dass
- B) das
- C) denn
- D) wenn

10., du mir etwas Geld leihen?

- A) Kannst
- B) Kann
- C) Könnte
- D) Können

11. A: studiert man?
B: An einer

- A) Wie / Gymnasium
- B) Wer / Universität
- C) Wo / Realschule
- D) Wo / Universität

12. In der Berufsschule erlernt man einen

- A) Abitur
- B) Beruf
- C) Sport
- D) Schule

13. ihr euren Zimmer aufgeräumt.

- A) Habt
- B) Habe
- C) Hat
- D) Haben

14. Istanbul ist die Stadt der Türkei.

- A) groß
- B) größer
- C) am größten
- D) größte

15. Wie ich Ihnen helfen?

- A) können
- B) kann
- C) bin
- D) sind

16. Mein Vater sagt immer, ich Medizin studieren soll.

- A) um
- B) und
- C) dass
- D) weil

17.



Was ist sie von Beruf?

- A) Lehrerin
- B) Krankenschwester
- C) Ärztin
- D) Beamtin

18. "Fleißig" kelimesinin karşıtı aşağıdakilerden hangisidir?

- A) faul
- B) lustig
- C) schnell
- D) langsam

19. Was ist das?

- A) Ein Wegweiser
- B) Ein Baum
- C) Ein Verkehrsschild
- D) Eine Zeitung



1. OTURUM

20. Aşağıdakilerden hangisi ayrılabilir fiildir? (Trennbare Verben)

- A) verlieren B) gewinnen
C) ausgehen D) entladen

(528) SEÇ. Y. DİL FRAN. – 8

1 – 18. sorularda boş bırakılan yere uygun gelen kelime ya da ifadeyi işaretleyiniz.

1. Hier soir, est rentré à cinq heures du matin

- A) Tu B) elle C) Je (J') D) Il

2. Avant de sortir, votre manteau.

- A) éteindrez B) croyons
C) parlons D) mettez

3. Ce soir, on va au cinéma. N'oublie pas de (d') cinq tickets

- A) venir B) continuer
C) acheter D) porter

4. Le café à 23 heures.

- A) ferme B) cherche
C) bois D) mange

5. Ma mère a vu le film Titanic elle trouve super.

- A) qui B) où
C) que (qu') D) dont

6. A : Qu'est-ce que tu prends comme boisson ?

B : Je prends

- A) un gâteau au chocolat
B) du jus d'orange
C) des pommes de terre
D) du beurre

7. A: Aykut téléphone souvent à..... ?

B: Oui, il leur téléphone souvent.

- A) ses parents B) son cousin
C) son père D) sa fille

8. A: Et toi, tu ne prends pas d'omelette ?

B: Si, mais je peux manger deux fois par semaine

- A) les B) y C) lui D) en

9. Les turcs boivent 25 litres de lait personne ans

- A) en / dans B) par / par
C) en / en D) dans / en

10. Je ne suis jamais allé au Canada mais mon frère habite.

- A) y B) en C) par D) le

11. Pierre a rendez-vous à 11 heures. Il est déjà 11h.20

Il est

- A) à l'heure B) en retard
C) en avance D) à midi

12. Il a cassé les verres sa maladresse.

- A) parce que B) grâce à
C) à cause de D) pourquoi

13. Pour grossir, il faut

- A) faire du sport
B) perdre du kilo
C) marcher
D) manger beaucoup

14. ils iront en vacances en Espagne.

- A) Avant-hier
B) Lundi dernier
C) l'été prochain
D) Hier

15. A: Tu viens à mon anniversaire?
B:

- A) S'il a faim, il mange de la salade
B) Si je vais mieux, je veux venir
C) S'il y a un bon film, je veux aller
D) S'il a soif, il veut boire du lait

16. Hakan n'a pas fait ses devoirs, car un film d'action à la télé.

- A) il faisait chaud
B) c'était
C) il faisait froid
D) il y avait

17. Pierre : Sylvie, je n'ai plus de viande, tu peux aller?

Charlotte : D'accord, il faut autre chose ?

Pierre : Oui, du poulet pour demain.

- A) à la boucherie
B) à la librairie
C) à la boulangerie
D) à l'hôtel

18. Tu peux conduire mais il faut être

- A) longue B) nouveau
C) attentif D) hypocrite

19- 20. sorularda verilen resme göre doğru ifadenin bulunduğu seçeneği işaretleyiniz.

19.



Mme. Dupont qui est, a deux chats et un chien.

- A) une jeune fille
B) une vieille femme
C) un vieil homme
D) un gentil homme

1. OTURUM

20.



Quand fait beau,

- A) il fait du vélo
- B) il voyage en auto
- C) il lave sa moto
- D) il répare son vélo

(532) HZ. MUHAMMED'İN HAY. – 2

1. Hz. Muhammed, ordunun başına yönetme, beceri ve kabiliyeti olan yetenekli kimseleri komutan olarak atamıştır. Nitekim bir sefer öncesinde de azatlı kölenin oğlu Usame'yi komutan olarak görevlendirmiştir.

Bu parçada Hz. Muhammed'in hangi ilkeyi esas aldığı söylenebilir?

- A) Takva
- B) Liyakat
- C) Merhamet
- D) Cömertlik

2. Sahabeden iki kişi bir konuda tartışırken biri diğerine teninin renginden dolayı "kara kadının oğlu" demişti. Durum Hz. Muhammed'e aktarılınca, O da sözü söyleyen sahabiyeye "Sende cahiliye adetleri görüyorum." diyerek hatalı olduğunu ifade etmişti.

Bu parçada Peygamberimiz'in eleştirdiği tutum aşağıdakilerden hangisidir?

- A) Irkçılık
- B) İftira
- C) Yalancılık
- D) Gıybet

3. Hz. Muhammed bir hadisinde; "Ey insanlar! Dikkat edin, sizin Rabb'iniz birdir, babanız da birdir, Adem'dir. Dikkat edin, hiçbir Arab'ın, yabancı üzerine, hiç bir yabancının Arap üzerine, siyahın kırmızı renkli üzerine, kırmızının siyah üzerine üstünlüğü yoktur. Fazilet ve üstünlük ancak takva iledir." buyurmuştur.

Bu hadiste vurgulanmak istenen ana düşünce aşağıdakilerden hangisidir?

- A) Adalet
- B) Hoşgörü
- C) Eşitlik
- D) Doğruluk

4. Aşağıdaki ayetlerin hangisi Allah'a kullukta eşitliğe işaret etmektedir?

- A) "... Eğer karar verirken aralarında adaletle karar ver. Çünkü Allah adil olanları sever." (Maide Suresi, 42. ayet)
- B) "Ey iman edenler! Allah için hakkı ayakta tutan, adaletle şahitlik eden kimseler olun..." (Maide Suresi, 8. ayet)
- C) "Muhakkak ki Allah, adaleti, iyiliği, akrabaya yardım etmeyi emreder..." (Nahl Suresi, 90. ayet)
- D) "Mümin olarak, erkek veya kadın, her kim salih ameller işlerse işte onlar cennete girerler ve zerre kadar haksızlığa uğratılmazlar." (Nisa Suresi, 124. ayet)

5. Mekke'deki kabileler Hacerü'l - Esved'in yerine konması hususunda, Hz. Muhammed'den hakem olmasını istediler.

Hz. Muhammed'in hangi özelliğinden dolayı Mekkeliler ondan yardım istemiştir?

- A) Merhametli olmasından
- B) Sabırlı olmasından
- C) Adaletli olmasından
- D) Peygamber olmasından

6. Hz. Muhammed'e "Muhammedü'l Emin" şeklinde hitap edilmeye ne zaman başlanmıştır?

- A) Medine döneminde
- B) İslam'dan önce Mekke'de
- C) Mekke'nin fethinden sonra
- D) İsrâ ve Miraç hadisesinden sonra

7. Empati kavramı aşağıdakilerden hangisinin içinde değerlendirilebilir?

- A) Diğerkamlık
- B) Merhamet
- C) Adalet
- D) Sabır

8. Hz. Muhammed'in bulunduğu mecliste aşağıdaki davranışlardan hangisi görülürdü?

- A) İnsanların mahremiyetinin konuşulması
- B) Yapılan hata ve yanlışların yüze vurulması
- C) Soylu ve zenginlere özel muamele yapılması
- D) Yaşlılara saygı ve merhamet gösterilmesi

9. Aşağıdakilerden hangisi İslam dininin sakınılmasını istediği davranışlardan biri değildir?

- A) Kibir
- B) Cimrilik
- C) Kıskançlık
- D) Alçakgönüllülük

10. Hz. Peygamber bir hadisinde; "Eğer kalbinin yumuşamasını istiyorsan fakiri doyur, yetimin başını okşa." diye buyurmuştur.

Bu hadiste aşağıdakilerden hangisine değilmiştir?

- A) Şefkatli olmak
- B) Yardım etmek
- C) Adaletli davranmak
- D) Yumuşak kalpli olmak

11. Hz. Hatice Peygamberimiz'e "Korkma, Allah'a yemin ederim ki, O hiç bir zaman seni utandırmaz. Çünkü sen akraba hakkına riayet edersen, doğru konuşursun; aciz olanların işini yüklenirsin, fakiri doyurur, misafiri ağırlar halka yardım edersin." demiştir.

Bu metinde Hz. Muhammed'in hangi özelliğine değilmiştir?

- A) Cesaret
- B) Yardımseverlik
- C) Cömertlik
- D) Doğruluk

1. OTURUM

12. Hz. Peygamber Hicret'ten önce Medineli müslümanlara Kur'an öğretmek için aşağıdaki sahabilerden hangilerini görevlendirmiştir?

- A) Hz. Ali - Abdullah b. Ömer
B) Musab b. Umeyr - Umme Mektum
C) Hz. Hamza - Cafer b. Ebu Talip
D) Bilal-i Habeşi - Ammar b. Yasir

13. Aşağıdakilerden hangisi Peygamberimiz'in âmâ olan Abdullah b. Ümmi Mektum'a verdiği görevlerden değildir?

- A) Kadılık
B) İmamlık
C) Müezzinlik
D) Kur'an öğreticiliği

14. Peygamberimiz aşağıdaki sahabelerden hangisine müezzinlik görevi vermiştir?

- A) Ammar b. Yasir
B) Halid b. Velid
C) Abdullah b. Ömer
D) Bilal-i Habeşi

15. Hz. Peygamber evlilik konusunda aşağıdakilerden hangisini öncelikli olarak tavsiye etmiştir?

- A) Soy
B) Güzellik
C) Ahlak
D) Zenginlik

16. İstişare ile ilgili aşağıdakilerden hangisi söylenemez?

- A) Ortak akıl oluşturmaktır.
B) Kendi başına hareket etmektir.
C) Yanılma payını azaltmaya çalışmaktır.
D) Başkalarının düşüncelerini önemsemektir.

17. Hz. Peygamber aşağıdaki olayların hangisinde Sahabeyle istişare etmemiştir?

- A) Mescid-i Nebi'nin nereye yapılacağı
B) Bedir Savaşı'nın nerede yapılacağı
C) Bedir Savaşı'nda ele geçen esirlerin durumu
D) Uhut Savaşı'nın nasıl yapılacağı

18. "Danışan dağları aşmış, danışmayan düz ovada yolunu şaşır-
mış" atasözü aşağıdakilerden hangisinin önemini dile getirmektedir?

- A) Merhamet B) İstişare
C) Hoşgörü D) Doğruluk

19. Aşağıdaki ifadelerden hangisi istişarenin önemi ile ilgili değildir?

- A) "Her şeyi anlayan, idrak eden akıl bile, dostların ayrılığı ile yayı kırılmış okçu gibi şaşırır kalır." (Mevlana)
B) "...Her ilim sahibinin üstünde daha iyi bir bilen vardır." (Yusuf Suresi, 76. ayet)
C) Akıl akıldan üstündür. (Deyim)
D) "İlim öğrenmek kadın - erkek her Müslümana farzdır." (Hadisi Şerif)

20. İstişare yoluyla çözümlenen aşağıdaki olaylardan hangisi Hz. Muhammed zamanında gerçekleşmiştir?

- A) Hz. Ömer'in Şam'a girmemesi
B) Hz. Ebu Bekir'in halife seçilmesi
C) Namaza davetin ezanla olması
D) Kur'an-ı Kerim'in iki kapak arasında toplanması

(609) MATEMATİK - 6

1. $\frac{(n+2)!}{(n+1)!} = 8$ olduğuna göre, n kaçtır?

- A) 3 B) 4 C) 6 D) 7

2. $A = \{1, 3, 5, 7, 8\}$ kümesinin elemanları kullanılarak rakamları birbirinden farklı 3 basamaklı kaç farklı sayı yazılabilir?

- A) 20 B) 60 C) 90 D) 125

3. Birbirinden farklı 2 matematik, 2 fizik ve 3 kimya kitabı düz bir rafa yan yana dizilecektir. Kimya kitapları yan yana olmak şartıyla bu diziliş kaç farklı şekilde yapılabilir?

- A) 120 B) 144 C) 360 D) 720

4. Anne, baba ve 4 çocuktan oluşan bir aile yuvarlak masa etrafına kaç farklı şekilde oturabilirler?

- A) 360 B) 240
C) 144 D) 120

5. "KAYAK" sözcüğündeki harflerle anlamlı ya da anlamsız 5 harfli kaç farklı sözcük yazılabilir?

- A) 30 B) 60 C) 90 D) 120

6. $Y = \{1, 2, 3, 4, 5, 6\}$ kümesinin dört elemanlı alt kümelerinin kaç tanesinde 6 elemanı bulunur?

- A) 10 B) 12 C) 21 D) 35

1. OTURUM

7. 10 kişi arasından bir başkan ve bir başkan yardımcısı kaç farklı şekilde seçilebilir?

- A) 100 B) 90 C) 20 D) 19

8. Bir torbanın içinde aynı özelliğe sahip 2 mavi, 3 kırmızı ve 4 beyaz bilye vardır. Torbaya geri atılmamak şartıyla art arda çekilen iki bilyeden birincinin kırmızı, ikincinin beyaz olma olasılığı nedir?

- A) $\frac{1}{6}$ B) $\frac{1}{9}$ C) $\frac{1}{2}$ D) $\frac{1}{36}$

9. Bir zar ile bir madeni para havaya atılıyor. Zarın üst yüzüne gelen sayının 2'den büyük ve paranın tura gelme olasılığı nedir?

- A) $\frac{1}{3}$ B) $\frac{1}{4}$ C) $\frac{1}{9}$ D) $\frac{1}{12}$

10. $2 \cdot 3 + 4 \cdot 5 + 6 \cdot 7 + \dots + 20 \cdot 21$ toplamının değeri kaçtır?

- A) 1540 B) 1550
C) 1650 D) 1700

11. $\sum_{k=1}^{20} (k+2)$ değeri kaçtır?

- A) 200 B) 212 C) 232 D) 250

12. $\prod_{k=2}^{15} \log_k(k+1)$ değeri kaçtır?

- A) 16 B) 8 C) 4 D) 1

13. $\prod_{k=2}^{13} \left(1 + \frac{1}{k}\right)$ değeri kaçtır?

- A) $\frac{14}{13}$ B) $\frac{7}{5}$ C) 7 D) 14

14. Aşağıdakilerden hangisi bir dizedir?

- A) $f(n) = \frac{n+4}{n-3}$
B) $g(n) = \sqrt{n^2 - 16}$
C) $t(n) = 3^{\frac{n+1}{n-3}}$
D) $h(n) = \frac{2^n}{n+1}$

15. $(a_n) = \left(\frac{3n+m}{2n+4}\right)$ dizisi sabit bir dizi olduğuna göre, m kaçtır?

- A) 3 B) 6 C) 12 D) 24

16. $(a_n) = \left(\frac{n+2}{2n-3}\right)$ dizisinin kaç terimi negatiftir?

- A) 1 B) 2 C) 3 D) 4

17. $(a_n) = \left(\frac{2n+3}{n+1}\right)$ dizisinin limiti kaçtır?

- A) 1 B) 2 C) 5 D) 6

18. Üçüncü terimi 20, sekizinci terimi 65 olan aritmetik dizinin ilk 10 teriminin toplamı kaçtır?

- A) 410 B) 425 C) 445 D) 450

19. Beşinci terimi 32 ve sekizinci terimi 256 olan geometrik dizinin ortak çarpanı kaçtır?

- A) $\frac{1}{8}$ B) $\frac{1}{4}$ C) 2 D) 16

20. $\sum_{n=1}^{\infty} \frac{3^{n+1}}{6^n}$ değeri kaçtır?

- A) $\frac{1}{6}$ B) $\frac{3}{2}$ C) 2 D) 3

(611) KARŞ. DİN. TAR. – 1

1. Dinler tarihinin konusu aşağıdakilerden hangisinde tam olarak verilmiştir?

- A) İslam dini
B) İlahi dinler
C) Geçmişte yaşamış dinler
D) Geçmişte ve günümüzde var olan tüm dinler

2. Dinler tarihi, ferden dini tecrübesini ve bu tecrübenin tezahürlerini ortaya koymak için aşağıdaki bilim dallarından hangisinden faydalanır?

- A) Din Felsefesi
B) Din Psikolojisi
C) Din Sosyolojisi
D) Din Fenomolojisi

3. Dinler tarihi ile ilgili aşağıdakilerden hangisi yanlıştır?

- A) İslam dininin savunmasını yapar.
B) Kur'an-ı Kerim'in bazı ayetlerini kendisine konu oluşturur.
C) Bu alanda ilk çalışmalar İslam dünyasında başlamıştır.
D) Ülkemizde ders olarak Osmanlı'nın son dönemlerinde okutulmaya başlanmıştır.

4. "Din, akıl sahibi şuurlu insanları kendi irade ve arzularıyla hayırlı olan şeylere sevkeden ilahi bir kanundur."

İslam alimlerinin bu tanımına göre din ile ilgili aşağıdakilerden hangisi söylenemez?

- A) İlahi kaynaklıdır.
B) İnsanları kötü işlere sevketmez.
C) Din seçiminde kişilere baskı yapılamaz.
D) Bireyin iç dünyasında yaşaması gereken duygudur.

5. Din ve mitoloji ile ilgili verilen bilgilerden hangisi yanlıştır?

- A) Dinin kaynağı Tanrı, mitolojinin ki ise insandır.
B) Dinin hukuki bağlayıcılığı vardır. Mitolojinin yoktur.
C) Dinin Tanrısı somut, mitolojinin ki ise soyuttur.
D) Mitoloji inanç ve tapınma noktasına geldiğinde dine zarar verir.

1. OTURUM

6. Aşağıdakilerden hangisi dinin bireysel faydalarındandır?

- A) Yaşama sevincine katkı sağlama.
- B) Sadakanın yaygınlaşması.
- C) Gıybet ve iftiranın azalması.
- D) Birlik ve beraberliği güçlendirmesi.

7. Yahudi inancına göre "İlk Yahudi" aşağıdakilerden hangisidir?

- A) İshak
- B) Yakup
- C) İbrahim
- D) İsmail

8. Aşağıdakilerden hangisi Yahudiliğin temel özelliklerinden biri değildir?

- A) Mabet
- B) Misyonerlik
- C) Kutsal Toprak
- D) Seçilmişlik

9. Aşağıdakilerden hangisi Reformist Yahudiler'in görüşlerindedir?

- A) Yaşanılan her yer kutsaldır.
- B) Yahudiler her ülkede kendi kültürünü yaşmalıdır.
- C) Sinagoglarda kadın ve erkek beraber oturmalıdır.
- D) Kadınlar haham olarak görev alamazlar.

10. Türkiye Yahudilerinin yasal temsilcisi kimdir?

- A) Papa
- B) Patrik
- C) Haham
- D) Hahambaşı

11. Aşağıdakilerden hangisi Hristiyan mezheplerinden biri değildir?

- A) Katolik
- B) Ortodoks
- C) Reformist
- D) Protestan

12. Katolik Kilisesi'nin 1962 - 1965 yılları arasında, kendi anlayışını çağın şartlarına uydurmak, kendilerine olan karşıtlığı azaltmak, dini yaşamayı kolaylaştırmak amacıyla yaptığı konsül aşağıdakilerden hangisidir?

- A) I. Vatikan
- B) II. Vatikan
- C) III. İstanbul
- D) IV. İstanbul

13. Hristiyanların, ekmek ve şarapla yaptıkları ayin aşağıdakilerden hangisidir?

- A) Vaftiz
- B) Evharistiya
- C) Son Yağlama
- D) Günah İtirafı

14. • Ülkemizde yaşayan en kalabalık Hristiyan gruptur.
• İstanbul'daki Patriklığe bağlıdır.

Hakkında bilgi verilen ülkemizde yaşayan Hristiyan grup aşağıdakilerden hangisidir?

- A) Rumlar
- B) Süryaniler
- C) Ermeniler
- D) Arap Ortodokslar

15. İslam dinine göre aşağıdakilerden hangisi yanlıştır?

- A) Peygamberler insanüstü varlıklardır.
- B) Allah'ın birliği dinin temelidir.
- C) Allah ile kul arasında herhangi bir aracı kabul edilmez.
- D) Suçun bireyselliği esastır.

16. İslam mabetlerinde kişi veya varlıkların resim ve heykellerine rastlanmaz. Bunun asıl sebebi aşağıdakilerden hangisidir?

- A) İslam'da akla ve bilime verilen önem.
- B) Resim ve heykel sanatının İslam coğrafyasında gelişmemiş olması.
- C) İslam'ın tövbe ve bağışlanmayı kul ile Allah arasında bir ilişki olarak görmesi.
- D) İslam'ın, putperestlik ve şirke götürecek her türlü yolu engellemesi.

17. • Kurucusu Siddharta Gautama'dır.

- Hinduizmin, Brahman şekilliliği ve kast taassubuna karşı bir harekettir.
- İzdırabın kaynağı olan arzu ve ihtiraslardan kurtulmak "Sekiz dilimli yol'u" izlemekle mümkündür.

Hakkında bilgi verilen din hangisidir?

- A) Budizm
- B) Sihizm
- C) Caynizm
- D) Taoizm

18. Aşağıdaki dinlerin hangisinde "kurucu"nun isminden bahsedilmez?

- A) Zerdüştlük
- B) Şintoizm
- C) Sihizm
- D) Caynizm

19. • Getirdiği din tek tanrı inancına dayanır.
• Ahura Mazdah'a ibadet, Feriştelerle hürmet, şeytanlara lanet O'nun öğretilerindedir.
• Gathalar diye adlandırılan kutsal metinler kendisine atfedilir.

Hakkında bilgi verilen din kurucusu kimdir?

- A) Guru Nanak
- B) Lao - Tzu
- C) Zerdüş
- D) Konfüçyüs

20. Aşağıdakilerden hangisi yaşayan kabile dinlerinin genel özelliklerindedir?

- A) Din kurucuları vardır.
- B) Kutsal kitaplara sahiptir.
- C) Evrensel özelliğe sahip dinlerdir.
- D) Yüce tanrı inancına sahiptirler.

(617) SEÇ. DİL ve ANLA. - 7

1. Aşağıdakilerden hangisi sanatsal metinlerin özelliklerinden biri değildir?

- A) Dil sanatsaldır.
- B) Gerçeklik ön plandadır.
- C) Mecazlı ifadelerle yer verilir.
- D) Okuyucuya zevk verme amacı taşır.

2. Aşağıdakilerden hangisi sanatsal metinlere örnek gösterilebilir?

- A) Röportaj
- B) Söyleşi
- C) Biyografi
- D) Tiyatro

3. Sanat, bilim, politika ve başka alanlarda tanınmış kişilerin yaşamalarını anlatan yazı türüne verilen ad aşağıdakilerden hangisidir?

- A) Otobiyografi
- B) Söylev
- C) Biyografi
- D) Seyahatname

1. OTURUM

4. Aşağıdakilerden hangisi anlatmaya bağlı metinlerin yapı unsurlarından biri değildir?

- A) Yazar B) Yer
C) Zaman D) Kişi

5. Kahramanları hayvanlar ya da cansız varlıklar olan ders vermek amacı taşıyan eğitici genellikle de manzum nitelik taşıyan yazılara verilen ad aşağıdakilerden hangisidir?

- A) Fabl B) Destan
C) Hikâye D) Orta oyunu

6. Aşağıdaki verilen eserlerden hangisinin türü halk hikâyesidir?

- A) Kerem ile Aslı
B) Ayaşlı ve Kiracıları
C) Sodom ve Gomore
D) Memleket Hikâyeleri

7. Anlatmaya bağlı metinlerde anlatım halkalar biçiminde olan (.....) üzerine kuruludur.

Bu cümlede boş bırakılan yere aşağıdakilerden hangisi getirilmelidir?

- A) anlatıcı B) bakış açısı
C) mekan D) olay

8. Aşağıdaki türlerden hangisi anlatım özellikleri yönünden diğerlerinden farklıdır?

- A) Deneme B) Makale
C) Şiir D) Fıkra

9. Aşağıda verilen bilgilerden hangisi yanlıştır?

- A) Öğretici metinler kurallaştırılmış yargılar taşır.
B) Bilimsel metinler öğretici bir içeriğe sahiptir.
C) Öğretici metinler okunduğu gibi anlaşılır.
D) Öğretici metinler sanatsal amaç taşır.

10. Aşağıdakilerden hangisine masal türünün özelliklerinden biridir?

- A) Yer ve zaman belirlidir.
B) Gelecek zaman kipi kullanılır.
C) Hayal ürünü olan kısa hikâyelerdir.
D) Varlıklar gerçek yaşamdan seçilir.

11. I. Ağırbaşlı ciddi bir anlatım öne çıkar.
II. Somut olaylarla anlatım sağlar.
III. Kolay anlaşılır bir özelliktedir.
IV. Kahramanları genellikle hayvan ve bitkilerdir.

Yukarıdakilerin hangisinde fabl türünün özelliği yanlış verilmiştir?

- A) I. B) II. C) III. D) IV.

12. Aşağıdakilerden hangisi fabl türündeki eserleriyle tanınmış sanatçılardan biridir?

- A) Tarık Buğra
B) La Fontaine
C) Dostoyevski
D) Cengiz Aytamav

13. Aşağıdakilerden hangisi Türk edebiyatında öykücülüğün gelişimine katkıda bulunmuş öncü sanatçılardan biri değildir?

- A) Sabahattin Ali
B) Refik Halit Karay
C) Yahya Kemal Beyatlı
D) Memduh Şevket Esenal

14. Olmuş ya da olabilecek nitelikteki olayları yer, zaman ve kişilere bağlı olarak anlatan uzun eserlere verilen ad aşağıdakilerden hangisidir?

- A) Öykü B) Roman
C) Destan D) Halk hikâyesi

15. Aşağıdakilerden hangisi Sait Faik Abasıyanık'a ait eserlerden biri değildir?

- A) Semaver
B) Son Kuşlar
C) Mahalle Kahvesi
D) Gurbet Hikâyeleri

16. Roman türü aşağıdaki özelliklerden hangisindeki farklılık nedeniyle hikâyeye türünden ayrılmaz?

- A) Olayların iç içe olması
B) Kişi sayısının fazla olması
C) Yazarın tanınmış olması
D) Yerin çok ve farklı özelliklerde olması

17. Türk edebiyatında Batılı tarzda yazılmış olan ilk tiyatro eseri aşağıdakilerden hangisidir?

- A) Gülnihal
B) Afife Anjelik
C) Şair Evlenmesi
D) Keşanlı Ali Destanı

18. Gölge oyununda Karagöz ile Hacivat'ın birbirlerine tekerlemeler söyleyerek iğnelemeler yaptığı diyaloglu bölüm aşağıdakilerden hangisidir?

- A) Mukaddime B) Muhavere
C) Fasil D) Bitiş

19. Aşağıdakilerden hangisi modern tiyatro türlerinden biri değildir?

- A) Trajedi B) Orta oyunu
C) Komedi D) Dram

20. Aşağıdakilerden hangisi göstermeye bağlı metinlerden biridir?

- A) Destan B) Fabl
C) Hikâye D) Trajedi

(618) SEÇ. DİL ve ANLA. – 8

1. Bilimsel yazılarda aşağıdaki anlatım türlerinden hangisi kullanılmaz?

- A) Tartışmacı
B) Kanıtlayıcı
C) Açıklayıcı
D) Öyküleyici

2. Bilimsel yazılarda metnin tamamında anlatılanların küçültülerek bir paragraf hâline getirilip verildiği bölüm aşağıdakilerden hangisidir?

- A) Başlık B) Giriş
C) Özet D) Sonuç

1. OTURUM

3. Toplumu ilgilendiren bir konuda farklı gruplardan oluşan dinleyicilerin söz sırası olarak yaptıkları tartışmalara ne ad verilir?
- A) Forum B) Sempozyum
C) Münazara D) Konferans
4. Yazar, düşünür ve sanatçıların veya alanında uzman kişilerin bilgi vermek, bir konuyu açıklamak, öğretmek amacıyla yaptıkları konuşmalara ne ad verilir?
- A) Söylev B) Münazara
C) Konferans D) Mülakat
5. Belli bir konuyu aydınlatmak amacıyla bilim adamı ve araştırmacıların bir araya geldikleri ve konuşmacıların konunun belirli bölümlerini sundukları tartışmalı toplantılara ne ad verilir?
- A) Forum B) Sempozyum
C) Mülakat D) Röportaj
6. Bir kitabın veya derginin kişi, konu, yer adı vb. bakımından içindekileri yer numarasıyla belirten ve eserlerin arkasında yer alan alfabetik listeye ne ad verilir?
- A) Dipnot
B) İndeks
C) Kaynakça
D) Dokümantasyon
7. Aşağıdakilerden hangisi öğretici metinler arasında yer almaz?
- A) Öykü B) Makale
C) Fıkra D) Biyografi
8. “Konferansta amaç dinleyicileri (...)” cümlesi aşağıdakilerin hangisiyle tamamlanmalıdır?
- A) güldürmektir.
B) coşkulandırmaktır.
C) bilgilendirmektir.
D) duygulandırmaktır.
9. Aşağıdakilerden hangisi bilimsel yazılarda kullanılan “bibliyografya” teriminin karşılığıdır?
- A) Dokümantasyon
B) Kaynakça
C) İndeks
D) Dipnot
10. İbrahim Şinasi ve Ağâh Efendi tarafından 1860 yılında çıkarılan ilk özel gazete aşağıdakilerden hangisidir?
- A) Tercüman-ı Ahval
B) Ceride-i Havadis
C) Takvim-i Vekayi
D) Tasvir-i Efkâr
11. Türk edebiyatında ilk makaleyi yazan sanatçı aşağıdakilerden hangisidir?
- A) Tevfik Fikret
B) İbrahim Şinasi
C) Ahmet Mithat Efendi
D) Mehmet Fuat Köprülü
12. Aşağıdakilerden hangisi bilimsel yazılar için söylenemez?
- A) Yazarın belli bir bilgi birikimine sahip olması gerekir.
B) Öznel yaklaşım öne çıkarılır.
C) Okuyucuyu bilgilendirme amacı taşır.
D) Kesin ve açık ifadeler yer verilir.
13. Bir konunun dinleyiciler önünde söyleşi havası içinde birkaç kişi tarafından tartışıldığı sözlü anlatım türü aşağıdakilerden hangisidir?
- A) Nutuk B) Açık oturum
C) Konferans D) Röportaj
14. Aşağıdakilerden hangisi mü-nazaradaki bir grup başkanının görevlerinden değildir?
- A) Konuşanların düşüncelerini rahatlıkla söyleyebilecekleri bir ortam sağlamak
B) Konunun nitelik ve sınırlarının dinleyiciler tarafından anlaşılmasını sağlamak
C) Tartışmanın konu dışına çıkmasını, gereksiz yere uzamasını önlemek
D) Ortaya çıkan düşünceleri değerlendirip kazanan tarafı belirlemek
15. Gazetelerin ilk sayfasının birinci sütununda yayımlanan, günlük olaylarla ilgili görüş belirten yazılara ne ad verilir?
- A) Deneme B) Biyografi
C) Eleştiri D) Başmakale
16. “Makalede temel öge (...)” cümlesinde boş bırakılana yere aşağıdakilerden hangisi getirilmelidir?
- A) duygudur.
B) deneyimdir.
C) düşüncedir.
D) dil ve anlatımdır.
17. Aşağıdakilerden hangisi sözlü anlatım türlerinden biri değildir?
- A) Forum B) Makale
C) Münazara D) Konferans
18. Aşağıdakilerin hangisinde toplantılarda konuşulanların bir tutanakla tespit edilmesi zorunludur?
- A) Dernek toplantısı
B) Konferans
C) Mülakat
D) Söylev
19. Aşağıdakilerden hangisi konferans sırasında dikkat edilmesi gerekenlerden biri değildir?
- A) Dinleyicilerin sıkılmaması için fazla uzun sürmemeli.
B) Dinleyicilerin kültür ve zevk düzeyleri dikkate alınmalı.
C) Konu dağıtılmamalı, ses tonu konuşmaya göre ayarlanmalı.
D) Konferansçı konunun dağılmasını engellemek için konferansını elindeki notları okuyarak sürdürmeli.
20. “Toplum mu sanatçıyı yetiştirir, sanatçı mı toplumu yetiştirir?” konusu aşağıdaki toplantı türlerinin hangisiyle tartışılmalıdır?
- A) Sempozyum
B) Konferans
C) Münazara
D) Panel

1. OTURUM

(624) SEÇ. TÜRK EDEB. – 4

1. Aşağıdakilerden hangisi İslamiyet etkisinde gelişen Türk edebiyatı geçiş döneminin özellikleri arasında yer almaz?

- A) Hece ölçüsü ile aruz ölçüsü birlikte kullanılmıştır.
- B) Nazım birimi dördlük ve beyittir.
- C) İslamiyet öncesi öz Türkçe israrla korunmaktadır.
- D) İslamiyet öncesi kültür ile İslamiyet etkisindeki kültür bir aradadır.

2. Aşağıdaki eşleştirmelerden hangisi yanlıştır?

- A) Kırgız Türklerine ait dünyanın en uzun destanı - Manas Destanı
- B) Orhun Yazıtları'nın bulunduğu ülke - Türkiye
- C) Orhun Yazıtları'nda adına anıt diktirilen hükümdar - Bilge Kağan
- D) Bilinen ilk türk şairi - Arpınçur Tigin

3. Türk edebiyatında XIII. ve XIV. yy. da yaşanan gelişmeler ile ilgili aşağıdakilerden hangisi söylenemez?

- A) Eserlerde Türklerin İslamiyet öncesi dönemdeki yaşamları ve dinleri övülmektedir.
- B) Arapça ve Farsça sözcükler dilimize girmeye başlamıştır.
- C) Türk edebiyatında yeni türler kullanılmaktadır.
- D) Battalname, Danişmendname gibi ürünler oluşmaya başlamıştır.

4. Karamanoğlu Mehmet Bey, 1277 yılında bir ferman yayımlayarak; "Bugünden sonra divanda, dergâhta, mecliste, meydanda Türkçeden başka bir dil kullanılmayacaktır." demiştir.

Buna göre, Karamanoğlu Mehmet Bey bu fermanla aşağıdakilerden hangisini amaçlamış olamaz?

- A) Türkçe konuşan insanları başka topluluklardan uzaklaştırmayı
- B) Türkçe konuşmayı özendirmeyi
- C) Türkçe sevgisi oluşturmayı
- D) Türkçeyi başka diller etkisinden korumayı

5. Aşağıdakilerden hangisi XIII. ve XIV. yy. da Anadolu sahasında tasavvuf etkisiyle edebi ürün veren sanatçılardan biri değildir?

- A) Hoca Dehhani
- B) Mevlana
- C) Yunus Emre
- D) Hacı Bektaş-ı Veli

6. Aşağıdaki bilgilerden hangisi "gazel" türü için doğru değildir?

- A) Aşk, sevgi, ayrılık gibi konular işlenir.
- B) Son beyitte şairin mahlasına yer verilir.
- C) Halk edebiyatı nazım biçimlerinden biridir.
- D) Kısa ve özlü şiiirlerdir.

7. Aşağıdakilerden hangisi Türk edebiyatındaki ünlü mesnevilerden biri değildir?

- A) Battalname
- B) Harname
- C) Hüsn ü Aşk
- D) Leyla ve Mecnun

8. Aşağıdakilerden hangisi Kutadgu Bilig'in özelliklerinden biri değildir?

- A) Karahanlılar döneminde yazılmıştır.
- B) Dil olarak yabancı etkilerden uzaktır.
- C) Mesnevi biçiminde yazılmıştır.
- D) Alegorik bir anlatımı vardır.

9. Aşağıdakilerden hangisi coşku ve heyecanı dile getiren ürünlerle bir örnek sayılmaz?

- A) Yunus Emre'den ilahi
- B) Evliya Çelebi'nin seyahatnamesi
- C) İslamiyet öncesi döneme ait bir sağı
- D) Sezai Karakoç'a ait bir şiiir

10. İslamiyet etkisinde gelişen Türk edebiyatında aşağıdakilerden hangisinde bir değişim görülmez?

- A) Millet Adı
- B) İnanç
- C) Kültür
- D) Dil

11. Türk edebiyatında İslamiyet etkisindeki ilk yazılı metinler (.....) devleti zamanında oluşturulmuştur.

Buna göre, bu cümlede boş bırakılan yere aşağıdakilerden hangisi getirilmelidir?

- A) Gazneliler
- B) Osmanlılar
- C) Selçuklular
- D) Karahanlılar

12. Aşağıdaki sanatçı-eser eşleştirmelerden hangisi doğrudur?

- A) Atabetü'l Hakayık - Edip Ahmet Yükneki
- B) Mesnevi - Yunus Emre
- C) Orhun Yazıtları - Dede Korkut
- D) Satuk Buğra Destanı - Satuk Buğra Han

13. Bilgili insan beline Taş kuşansa kaş olur Bilgisizin yanına Altın konsa taş olur.

İslamiyet etkisinde gelişen Türk edebiyatının ilk örneklerinden olan bu şiiir ile ilgili aşağıdakilerden hangisi söylenemez?

- A) Nazım birimi dördlüktür.
- B) Uyak örgüsü abab biçimindedir.
- C) Bilginin önemi anlatılmaktadır.
- D) Yunus Emre tarafından yazılmıştır.

14. Allah'ı, peygamberi öven, din sevgisini, coşkulu bir dille anlatan şiiirlerdir. 7, 8 ve 11'li hece ölçüsüyle yazılır. Kurucusu Yunus Emre'dir.

Bu parçada özellikleri tanımlanan edebi tür aşağıdakilerden hangisidir?

- A) İlahi
- B) Semai
- C) Münacaat
- D) Hikmet

15. Aşağıdaki sanatçılardan hangisi tasavvuf konusunu eserlerinde işlemiştir?

- A) Ahmet Yesevi
- B) Karacaoğlan
- C) Nedim
- D) Baki

1. OTURUM

(627) SEÇ. TÜRK EDEB. – 7

16. Bilirim seni, yalan dünyasın
Evliyaları alan dünyasın
Kaçan kurtulsa kuş kurtulaydı
Şahin kanadın kıran dünyasın
Bu dizelerde işlenen tema aşağıdakilerden hangisidir?

- A) Gökyüzünün sonsuzluğu
- B) Dünyanın gelip geçiciliği
- C) Doğal yaşama özlem
- D) Yaşamın güzelliği

17. Aşağıdakilerden hangisi “Dede Korkut Hikâyeleri”nde yer alan hikâyelerden biridir?

- A) Mani dininin kabulü
- B) Aslı ile Kerem'in aşkı
- C) Tepegöz
- D) Hz. Hamza'nın kahramanlıkları

18. I. Battal Gazi, İslam uğruna savaşan bir kahramandır.
II. Battal Gazi, İslam öncesi dönemdeki bir hükümdardır.
III. Battal Gazi, elinde sazıyla dolaşan bir halk ozanıdır.
IV. Battal Gazi, bir aşk öyküsünün kahramanıdır.

Battalname'deki Battal Gazi, tipi ile ilgili yukarıdakilerden hangisi doğrudur?

- A) I. B) II. C) III. D) IV.

19. Aşağıdaki nazım biçimlerinden hangisi özellikleri yönünden diğerlerinden farklıdır?

- A) Gazel B) Mesnevi
- C) Nefes D) Kaside

20. “Mesnevi” türü ile ilgili aşağıdakilerden hangisi doğrudur?

- A) Hece ölçüsü ile yazılır.
- B) Tasavvuf halk edebiyatı nazım biçimidir.
- C) İlk örneklerini Hacı Bektaş-ı Veli vermiştir.
- D) Uzun öyküler bu nazım biçimi ile yazılmıştır.

1. Aşağıdakilerden hangisi Cumhuriyet Dönemi'nde işlenen konulardan biri değildir?

- A) Kahramanlık
- B) Savaşın Gerekliliği
- C) İnkılaplar
- D) Kurtuluş Mücadelesi

2. Aşağıdakilerden hangisi Cumhuriyet Dönemi'nde şiir yazan sanatçılardan biridir?

- A) Orhan Kemal
- B) Kemal Tahir
- C) Behçet Necatigil
- D) Tarık Buğra

3. Aşağıdakilerden hangisi Cumhuriyet Dönemi Türk Şiiri için söylenebilir?

- A) Farklı özelliklerde şiir anlayışları oluşmuştur.
- B) Süslü bir anlatım kullanılmıştır.
- C) İstanbul ve çevresi anlatılmıştır.
- D) Halk şiiri anlayışının geçerli olamayacağı vurgulanmıştır.

4. Aşağıdakilerden hangisi gazete çevresinde gelişen edebi türlerden biridir?

- A) Günlük B) Fıkra
- C) Roman D) Şiir

5. Aşağıdakilerden hangisi makalenin özelliklerinden biri değildir?

- A) Kesin sonuçlara varmadan, samimi bir üslup kullanılır.
- B) Yalın ve yoğun bir anlatım vardır.
- C) Söz oyunlarına başvurulmaz.
- D) Uzmanlık gerektiren bir yazı türüdür.

6. Deneme türünün kurucusu olarak kabul edilen Fransız yazar aşağıdakilerden hangisidir?

- A) Montaigne B) A. Huxley
- C) J. P. Sartre D) A. Camus

7. Yazarın her hangi bir konu üzerinde kesin hükümlere varmadan kişisel görüş ve düşüncelerini anlattığı yazı türüne (.....) denir.

Bu cümlede boş bırakılan yere aşağıdakilerden hangisi getirilmelidir?

- A) anı B) fıkra
- C) eleştiri D) deneme

8. Aşağıdaki sanatçı-eser eşleştirmelerinden hangisi yanlıştır?

- A) Cahit Sıtkı Tarancı - Otuz Beş Yaş
- B) Turgut Uyar - Büyük Saat
- C) Peyami Safa - Çalikuşu
- D) Sabahattin Ali - Kıyıcaklı Yusuf

9. Gezi yazısında aşağıdaki özelliklerden hangisi öne çıkar?

- A) Gözlem
- B) Yazıldığı Dönem
- C) Yazarın Kişiliği
- D) Uzaklık

10. Aşağıdakilerden hangisi Türk edebiyatındaki en önemli gezi yazarlarından biridir?

- A) Evliya Çelebi
- B) Ali Canip Yöntem
- C) Halit Ziya Uşaklıgil
- D) Namık Kemal

11. Aşağıdaki eser-tür eşleştirmelerinden hangisi yanlıştır?

- A) Saray ve Ötesi - Anı
- B) Karalama Defteri - Mektup
- C) Bize Göre - Deneme
- D) Hac Yolunda - Gezi Yazısı

12. Aşağıdakilerden hangisi anı türünün Türk edebiyatındaki ilk örneğidir?

- A) Saltukname B) Harname
- C) Babürname D) Seyahatname

1. OTURUM

13. Zengin Brezilya topraklarının Atlantik üstünde büyük limanları var; kuzeyden güneye doğru, Bahai, Rio de Jaonerio, Santos... Bunlar Amazonya'nın kauçuk ve kerestesini, Tropika hükümetlerinin şeker kamışını, tütününü ve kakaosunu Sainte Paule'un kahvesini boşaltan altın ağızlarıdır.

Amerika kıtasının deniz üstünde çıkıntı ve girintileri pek az olduğu için kıtanın zengin şehirleri limanlardır.

Bu parça, aşağıdaki edebi türlerden hangisine örnektir?

- A) Fıkra B) Gezi Yazısı
C) Eleştiri D) Söyleşi

14. Gezi yazılarına eski zamanlarda verilen ad aşağıdakilerden hangisidir?

- A) Divan B) Seyahatname
C) Seyyah D) Sefaretname

15. Aşağıdakilerden hangisi Cumhuriyet Dönemi'nde eser vermiş deneme yazarlarından biridir?

- A) Cenap Şahabettin
B) Ömer Seyfettin
C) Halit Ziya Uşaklıgil
D) Suut Kemal Yetkin

16. Sonbahar geldi; takvimin değil, içinde yaşadığımız, ruhumuzla bir parçası olduğumuz şehrin ve manzaranın sonbaharı... Havada üzüntüye, bir nevi bekleyişe benzeyen bir hâl, güneşte çok belirsiz, hafif bir akik rengi var. Gökyüzü âdeta ıslak bir göz gibi insana bakıyor.

Bu parça aşağıdaki edebi türlerden hangisine örnektir?

- A) Günlük B) Deneme
C) Makale D) Mektup

17. Aşağıdaki sanatçılardan hangisi Cumhuriyet Dönemi öğretici metin yazarlarından biridir?

- A) Asaf Halet Çelebi
B) Sabahattin Ali
C) Orhan Veli Kanık
D) Ahmet Hamdi Tanpınar

18. On dokuzuncu yüzyıl Türk romanının yaygın konularından birini de esaret meselesi oluşturur. Yüzyılın sonuna kadar sürekli olarak bazen güçlü bir tema hâlinde, bazen asıl konunun aralarında varlığını hissettirir. Aynı kahramanlar yirminci yüzyıl romanlarında konak ve yalılarda, artık köle oldukları bile unutulmuş, sadakatli hatta bazen aile içinde çocuklar ve gençler üzerinde otorite sahibi bir arap bacı, kalfa yahut dadı olarak varlıklarını bir süre daha devam ettirmişlerdir.

Bu parça aşağıdaki türlerden hangisinden alınmıştır.

- A) Makale B) Fıkra
C) Anı D) Gezi Yazısı

19. Aşağıdaki eserlerden hangisi Nurullah ATAÇ'a ait değildir?

- A) Günce
B) Karalama Defteri
C) Kültür ve Dil
D) Günlerin Getirdiği

20. İnsan; yaşadığı, tanık olduğu olayların, gerçeklerin kendisiyle birlikte yok olup gitmesine katlanamaz. Yazarak topluma, gelecek zamanlardaki insanlara yararlı olmak, bir iz bırakmak ister. Kimi zaman da yaşadığı dönemle hesaplaşma ve başkalarıyla paylaşma isteği ağır basar.

Bu cümlelerde sözü edilen edebi tür aşağıdakilerden hangisidir?

- A) Makale B) Anı
C) Fıkra D) Eleştiri

(628) SEÇ. TÜRK EDEB. – 8

1. Aşağıdaki bilgilerden hangisi doğru değildir?

- A) Cumhuriyet Dönemi Türk Edebiyatı 1940 öncesi ve sonrası diye ikiye ayrılır.
B) Öz şiir anlayışındaki şairler postmodernist olarak adlandırılmıştır.
C) Sembolist şairler varlığın kendisinden çok görüntüsünü, izlenimini anlatmışlardır.
D) Necip Fazıl Kısakürek, şiirin dışında tiyatro da yazmıştır.

2. Aşağıdaki sanatçı-eser eşleştirmelerinden hangisi yanlıştır?

- A) Ahmet Kutsi Tecer - Nerdesin
B) Ziya Osman Saba - Sebil ve Güvercinler
C) Yahya Kemal Beyatlı - Sessiz Gemi
D) Cahit Sıtkı Tarancı - Asım'ın Nesli

3. Aşağıdakilerden hangisi "Beş Hececiler" olarak bilinen sanatçılardan biridir?

- A) Ali Canip Yöntem
B) Ahmet Kutsi Tecer
C) Faruk Nafiz Çamlıbel
D) Mehmet Emin Yurdakul

4. Aşağıdakilerden hangisi öz şiir anlayışı ile ürün veren sanatçılardan bir değildir?

- A) Ahmet Arif
B) Ahmet Haşim
C) Ahmet Hamdi Tanpınar
D) Ahmet Muhip Dıranas

5. Fransız Baudelaire, P. Verlaine gibi şairlerden etkilenmiştir. Geleneksel şiir ile Batı şiirini başarıyla kaynaştırmıştır. Şiirlerinde hece ölçüsünü kullanmış, ahenge önem vermiştir. Olvida, Kar, Fahriye Abla ünlü şiirlerindedir.

Bu parçada tanıtılan sanatçı aşağıdakilerden hangisidir?

- A) Ahmet Muhip Dıranas
B) Orhan Veli Kanık
C) Ziya Osman Saba
D) Yahya Kemal Beyatlı

1. OTURUM

6. Aşağıdakilerden hangisi toplumcu gerçekçi sanatçılardan birisi değildir?

- A) Ahmet Arif
- B) Rifat Ilgaz
- C) Ercüment Behzat Lav
- D) Ahmet Kutsi Tecer

7. Olayları toplumsal gerçeklik içinde ele alıp var olan aksaklıklara çözüm yolları öneren edebi anlayış aşağıdakilerden hangisidir?

- A) Öz şiir
- B) Serbest nazım ve toplumcu şiir
- C) Garipçi şiir
- D) Millî Edebiyat zevk ve anlayışını sürdüren şiir

8. Aşağıdakilerden hangisi Yahya Kemal Beyatlı'nın özelliklerinden bir değildir?

- A) Osmanlı kültürüne bağlı kalmıştır.
- B) Şiirde uyak ve ölçünün gereksiz olduğunu savunmuştur.
- C) Vatan, millet, İstanbul sevgisi gibi konuları işlemiştir.
- D) Şiiri, bir tür musiki olarak kabul etmiştir.

9. Şimdi hiçbirinden eser yok Gitti o geceler o cenk kitapları Dağıldı kalelerin önündeki askerler Çocukluk güzün dökülen yaprakları gibi.

(Sezai Karakoç)

Bu dizelerde işlenen tema aşağıdakilerden hangisidir?

- A) Özlem
- B) Korku
- C) Beklenti
- D) Doğanın güzelliği

10. Arif Nihat Asya ile ilgili aşağıdakilerden hangisi söylenebilir?

- A) Bayrak şairi olarak tanınmıştır.
- B) Büyük Doğu dergisini kurmuştur.
- C) Bütün şiirlerini aruz ölçüsü ile yazmıştır.
- D) Ölüm korkusu temasını işlemiştir.

11. Ağır ağır çıkacaksın bu merdivenlerden
Eteklerinde güneş rengi bir yığın yaprak
Sular sarardı ... Yüzün perde perde solmakta
Kızıl havaları seyret ki akşam olmakta
(Ahmet Haşim)

Bu dizeler ritimli ve ahenkli söyleyiş özellikleri dikkate alındığında Ahmet Haşim'in hangi akımından etkilendiğini göstermektedir?

- A) Sembolizm
- B) Kübizm
- C) Naturalizm
- D) Sürrealizm

12. Aşağıdakilerden hangisi Garip akımının temsilcilerinden biridir?

- A) Oktay Rifat
- B) Atilla İlhan
- C) Fazıl Hüsni Dağlarca
- D) Cemal Süreya

13. Aşağıdakilerden hangisi II. Yeni akımı şairlerinden biri değildir?

- A) Özdemir Asaf
- B) Turgut Uyar
- C) Edip Cansever
- D) Cemal Süreya

14. Aşağıdakilerden hangisi Melih Cevdet Anday'a ait değildir?

- A) Telgrafhane
- B) Rahatı Kaçan Ağaç
- C) Kendi Gökkubbemiz
- D) Kolları Bağlı Odysseus

15. "Garip" akımı şiiri ile ilgili olarak aşağıdakilerden hangisi söylenemez?

- A) Edebi sanatlara karşı çıkmıştır.
- B) Şiirin günlük konuşma dili ile yazılması gerektiği savunmuştur.
- C) Sıradan, basit konular şiirde işlenmiştir.
- D) Divan edebiyatının imge ve söyleşilerine yer verilmiştir.

16. Yolda çağlayanlar yapan kaynağın
İzinden yürüdüm ta aşağılara Akşamdı, dönerken gezdiğim dağın
Gölgesi vurmuştu karşı dağlara

Bu dizeler ile ilgili aşağıdakilerden hangisini söylemek yanlıştır?

- A) 11'li hece ölçüsü ile yazılmıştır.
- B) Tam uyak kullanılmıştır.
- C) Yurt güzellikleri işlenmiştir.
- D) II. Yeni akımı etkisinde yazılmıştır.

17. İkinci Yeni'ye has dil ve söylem özelliklerini kullanarak İslam dinini esas alan konulara yöneldi. İslam mitolojisini kucaklayan sanatçı, şiirini sağlam bir metafizik zemine oturttu. Aşk, hürriyet, yaşam olguları işlediği konulardır. Monna Roza, Hızır'la Kırk Saat, Sesler, Körfez eserlerinden bazılarıdır.

Bu parçada özellikleri tanımlanan sanatçı aşağıdakilerden hangisidir?

- A) Turgut Uyar
- B) Ece Ayhan
- C) İsmet Özel
- D) Sezai Karakoç

18. İmgeye kapılarını sonuna kadar açarak, edebi sanatlara özgürlük tanımak, sıradanlıktan ayrılmak, halk kültüründen uzaklaşmak, nükteden kaçmak, aydın azınlığa seslenmek gerektiğini söyleyen edebi anlayış aşağıdakilerden hangisidir?

- A) II. Yeni
- B) I. Yeni
- C) Mavi
- D) Yedi Meşale

19. Aşağıdaki sanatçı - eser eşleştirmelerinden hangisi yanlıştır?

- A) Atilla İlhan - Ayrılık Sevdaya Dahil
- B) Behçet Necatigil - Karadut
- C) Ahmet Arif - Hasretinden Prangalar Eskittim
- D) Cemal Süreyya - Sevda Sözlere

1. OTURUM

20. Çamlıbel'den Tokat'a doğru Tozlu yolların aktığı ırmak Ben seni çoktan unuttum Sen de unuttun mu dön geri bak. Bu dizeler söyleyiş ve biçim özellikleri dikkate alındığında aşağıdakilerin hangisine ait olduğu söylenebilir?

- A) Necip Fazıl Kısakürek
- B) Yahya Kemal Beyatlı
- C) Cahit Külebi
- D) İlhan Berk

(711) İSLAM TARİHİ – 1

1. Allah'a ortak koşana ne ad verilir?

- A) Kıpti
- B) Kâfir
- C) Müşrik
- D) Münafık

2. Aşağıdakilerden hangisi, İslam öncesi Arap Yarımadası'ndaki inanışlardan biri değildir?

- A) Mecusilik
- B) Yahudilik
- C) Putperestlik
- D) Bedevilik

3. "Hadari" kavramının anlamı, aşağıdakilerden hangisinde doğru verilmiştir?

- A) Sahabe
- B) Çöl ve vahalarda göçebe hayatı yaşayan Araplar
- C) Aynı soydan gelen kişilerin oluşturduğu topluluk
- D) Köy, kasaba ve şehirlerde yerleşik hayat süren Araplar

4. İslam inancına göre Kur'an-ı Kerim dünya semasına hepsi birden olarak, aşağıdaki hicri ayların hangisinde indirilmiştir?

- A) Muharrem
- B) Ramazan
- C) Recep
- D) Şaban

5. Hz. Muhammed'in Medine'ye hicret ettiği sırada orada yaşayan iki Arap kabilesi, aşağıdakilerden hangisinde birlikte verilmiştir?

- A) Evs ve Hazreç
- B) Ensar ve Muhacir
- C) Nadir ve Hevazin
- D) Kaynuka ve Kurayza

6. Hz. Muhammed, ilk vahiyden kaç yıl sonra açıktan İslam'a davete başlamıştır?

- A) 3
- B) 4
- C) 5
- D) 6

7. Hz. Muhammed'in peygamberliğine karşı müşriklerin gösterdiği tepkiler arasında aşağıdakilerden hangisi yoktur?

- A) İftira atma
- B) Alaya alma
- C) İlişkileri kesme
- D) Hoşgörülü olma

8. Aşağıdakilerden hangisi, Birinci Akabe Biatına katılanların Hz. Muhammed'e yapacaklarına dair söz verdikleri konulardan biri değildir?

- A) Zina etmeme
- B) İçki içmeme
- C) İftira atmama
- D) Çocuk öldürmeme

9. "İlk dönem İslam tarihçileri, olayları aktarmada genellikle "....." metodunu benimsemişlerdir."

Verilen cümlelerin doğru olabilmesi için boş bırakılan yere, aşağıdakilerden hangisi yazılmalıdır?

- A) "Sözlü rivayet"
- B) "Kronikler"
- C) "Yazılı kaynaklar"
- D) "Arşiv malzeme"

10. Eski zamanlardan beri çok kullanılan takvimlerden biri olan "Kameri Takvim"i ilk kullanan ilk Çağ halkı, aşağıdakilerden hangisidir?

- A) Lidyalılar
- B) Urartular
- C) Babilliler
- D) Hititler

11. Aşağıdaki halifelerden hangisinin künyesi Ebu Hafsa'dır?

- A) Hz. Ali
- B) Hz. Ömer
- C) Hz. Osman
- D) Hz. Ebu Bekir

12. • Sıffin Savaşı
• Cemel Olayı
• Hz. Osman'ın şehit edilmesi
Verilen olayların ortak özelliği, aşağıdakilerden hangisidir?

- A) Hz. Ali Dönemi'nde gerçekleşmiş olmaları
- B) Dört Halife Dönemi'ni sona erdirmeleri
- C) Arap milliyetçiliğini zayıflatmaları
- D) İslam dünyasında iç karışıklıklara neden olmaları

13. "Tahkim Antlaşması", aşağıdakilerden hangisi ile ilgilidir?

- A) Puvatya Savaşı'yla
- B) Mekke'nin fethiyle
- C) Sıffin Olayı'yla
- D) Cemel Olayı'yla

14. İslam tarihinde "Dört Halife Devri" olarak bilinen dönem, aşağıdaki olaylardan hangisiyle sona ermiştir?

- A) Hakem Olayı'yla
- B) Kerbela Olayı'yla
- C) Hz. Ali'nin şehit edilmesiyle
- D) Hz. Osman'ın şehit edilmesiyle

15. Aşağıdaki devletlerden hangisi Avrupa'nın fethini gerçekleştirmek için büyük mücadeleler vermiştir?

- A) Danişmentli Beyliği
- B) Endülüs Emevileri
- C) Büyük Selçuklular
- D) Anadolu Selçukluları

16. Felsefe alanında yetkin isimlerden biri olan İbn Meymun, aşağıdaki filozoflardan hangisinin öğrencisidir?

- A) İbn Rüşd
- B) İbn Tufeyl
- C) İbn Bacce
- D) Muhammed bin Meserre

17. Çin, aşağıdaki savaşlardan hangisiyle Batı Türkistan için tehlike olmaktan çıkmıştır?

- A) Talas
- B) Cemel
- C) Puvatya
- D) Nihavent

1. OTURUM

18. Endülüs Emevi halifesi II. Hişam'ın çocuk oluşundan faydalanarak yönetimde etkin rol oynayan devlet adamı, aşağıdakilerden hangisidir?

- A) İbn Ebi Âmir
- B) Tarık bin Ziyat
- C) Yusuf bin Taşin
- D) Muhyittin İbn Arabi

19. Abbasiler Dönemi'nde Bağdat yakınlarında Türkler için kurulan Samarra kenti, Türklerin hangi özelliğini korumaya yönelik bir çalışmadır?

- A) Bağımsızlık
- B) Savaşçılık
- C) Tek tanrıcılık
- D) Devlet kuruculuk

20. Abbasilerde, halifenin siyasi otoritesinin zayıflaması üzerine idareciler arasında ortaya çıkan iktidar mücadelesine son vermek amacıyla kurulan müesses, aşağıdakilerden hangisidir?

- A) Hacıplık
- B) Vezirlik
- C) Şurtalık
- D) Emirü'l - Ümeralık

(811) KELAM – 1

1. Aşağıdakilerden hangisi kelim ilminin amaçları arasında yer almaz?

- A) İnanç esaslarını açıklamak.
- B) İnananları taklitten kurtarmak.
- C) İbadetlerin doğru yapılmasını sağlamak.
- D) Eleştirilere karşı inanç esaslarını savunmak.

2. Aşağıdakilerden hangisi kelim biliminin mütakaddimin alimlerinden biridir?

- A) Bakıllani
- B) Cürcani
- C) Beydavi
- D) Taftazani

3. Aşağıdakilerden hangisi itikadi mezheplerden biri değildir?

- A) Mürci'e
- B) Eş'ariye
- C) Maturidiye
- D) Hanbelilik

4. Sosyal hayatın kendine özgü dinamizmi, din anlayışlarında bazı farklılaşmalara yol açar. Sosyal yapının etkin olması sonucu oluşan bu farklılaşmalar, dinin anlaşılma biçimi olan mezheplerin doğuşunu doğrudan etkilemiştir.

Bu paragrafta, İslam düşüncesinde ortaya çıkan yorum farklılıklarının sebeplerinden hangisi açıklanmıştır?

- A) Dini metinler
- B) Ortam ve kültür
- C) İnsanın yapısı
- D) Siyasi hadiseler

5. • Siffin Savaşı'ndaki hakem meselesinden dolayı fiilen ortaya çıkmıştır.
• İtikadi nitelikli ilk fırkalaşma hareketidir.

Hakkında bilgi verilen itikadi mezhep aşağıdakilerden hangisidir?

- A) Mürcie
- B) Mutezile
- C) Şiilik
- D) Haricilik

6. • Hz. Ali'nin, Hz. Muhammed'den sonra nass ve tayinle halife olduğuna inanılır.
• İmametın kıyamete kadar Hz. Ali'nin soyundan gelenlerin hakkı olduğu savunulur.

Bu bilgiler aşağıda verilen itikadi mezheplerden hangisine aittir.

- A) Şia
- B) Kaderiyye
- C) Cebriyye
- D) Mutezile

7. Allah zatında, sıfatlarında ve fiillerinde birdir. Allah'ın sıfatları zatının aynıdır. Allah zatı ile bilir, zatı ile görür ve zatı ile işitir.

Bu paragrafta Mutezile'nin beş esasından hangisi açıklanmıştır?

- A) Adalet
- B) Tevhit
- C) el-Vad ve'l-Vaid
- D) el-Menziletü beyne'l menziletayn

8. Aşağıdakilerden hangisi Eş'ari mezhebine ait bir görüş değildir?

- A) Kur'an, Allah kelamı olup yaratılmamıştır.
- B) İnsanın fiilleri Allah tarafından yaratılmaktadır.
- C) Büyük günah işleyen kimse kafir olur.
- D) İman, bilgi ve kalp ile tasdikten ibarettir.

9. Aşağıdaki eserlerden hangisi İmam Maturidi'ye aittir?

- A) Fıkh-ı Ekber
- B) Kitabu't - Tevhit
- C) Makalatül - İslamiyyin
- D) El-İbane an Usulü'd Diyane

10. Aşağıdakilerden hangisi Maturidi mezhebinin görüşleri arasında yer almaz?

- A) İman, artar ve eksilir.
- B) İman, kalp ile tasdik, dil ile ikardır.
- C) İnsan aklıyla Allah'ın varlığı fikrine ulaşabilir.
- D) Büyük günah, insanı imandan çıkartmaz.

11. • el-Ümm fıkhı dair en önemli eseridir.
• İstihsan'ı ve Mesalih-i Mürseleyi delil olarak kabul etmez.

Bu bilgiler aşağıda verilen fıkh alimlerinden hangisine aittir?

- A) Cafer b. Sadık
- B) Ahmet b. Hanbel
- C) Enes b. Malik
- D) Muhammet b. İdris eş-Şafii

12. Kalbiyle tasdik etmediği halde dil ile inandığını söyleyen kimseye ne denir?

- A) Kafir
- B) Fasık
- C) Münafık
- D) Müşrik

1. OTURUM

13. Evren, içindeki her şeyle beraber mümkün bir varlıktır. Her mümkün kendisini var eden bir vacibe ihtiyaç duyar. Bu vacip varlığı zorunlu olan Allah'tır.

Bu metinde Allah'ın varlığı ile ilgili hangi delil açıklanmıştır?

- A) Hudus
B) İmkan
C) Kemal
D) Gaye ve Nizam

14. "Allah evlat edinmemiştir; O'nunla beraber hiçbir tanrı da yoktur. Aksi takdirde her tanrı kendi yarattığını sevk ve idare eder ve mutlaka onlardan biri değerine üstün gelirdi..." (Mü'minun Suresi, 91. ayet)

Bu ayet Allah'ın varlığı ve birliği ile ilgili hangi delile örnek gösterilebilir?

- A) Temanu
B) İmkan
C) Hudus
D) Kemal

15. Allah'ın zati sıfatlarından birisi olan "muhafeftü'n li'l-havadis" aşağıdakilerden hangisinde doğru açıklanmıştır?

- A) Varlığının kendinden olmasıdır.
B) Varlığının sonunun olmamasıdır.
C) Varlığının başlangıcı olmamasıdır.
D) Sonradan yaratılan hiçbir şeye benzememesidir.

16. Allah'ın varlığı kendi zatının gereğidir. O, var olmakta başka bir varlığa muhtaç değildir.

Bu metinde Allah'ın zati sıfatlarından hangisi açıklanmıştır?

- A) Vücut
B) Kıdem
C) Vahdaniyet
D) Kıyam binefsihi

17. "Ölümsüz ve daima diri olan Allah'a dayanıp güven..." (Furkan Suresi, 58. ayet)

Bu ayette Allah'ın subuti sıfatlarından hangisi dile getirilmektedir?

- A) Hayat
B) İlim
C) Semi
D) Basar

18. Aşağıda verilen ayetlerden hangisi Allah'ın tekvin sıfatından söz etmektedir?

- A) "...Allah her şeyi iştir ve bilir." (Bakara Suresi, 256. ayet)
B) "O, her an yaratma halindedir." (Rahman Suresi, 29. ayet)
C) "...Şüphesiz Allah her şeye kadirdir." (Bakara Suresi, 148. ayet)
D) "... O'nun benzeri hiçbir şey yoktur..." (Şûrâ Suresi, 11. ayet)

19. "Yaptıklarınızı bilen ve sizi gözetleyen değerli yazıcılar vardır." (İnfitar Suresi, 10-12. ayetler)

Bu ayet aşağıda verilen meleklerden hangisine işaret etmektedir?

- A) Hafaza
B) Mukarrebun
C) Kiramen Katibin
D) Münker Nekir

20. Meleklerle ilgili aşağıdakilerden hangisi söylenemez?

- A) Allah'ı hamd ve tesbih ederler.
B) İradelerini istedikleri yönde kullanırlar.
C) Allah'ın izniyle insan kılığına girerler.
D) İnsana iyilik ve güzelliği telkin ederler.

(974) GİRİŞİMCİLİK – 1

1. Karşılandığı zaman zevk ve haz veren, karşılanmadığında ise acı ve üzüntüye neden olan duygulara ne ad verilir?

- A) Ekonomi
B) Tercih
C) İhtiyaç
D) Hizmet

2. Aşağıdakilerden hangisi kültürel ihtiyaçlardan biridir?

- A) Yeme
B) Giyinme
C) Barınma
D) Kitap okuma

3. İnsan ihtiyaçlarını karşılamak amacıyla yapılan üretimin gerçekleştirilmesi için bazı faktörlere ihtiyaç duyulmaktadır. Aşağıdakilerden hangisi bu faktörlerden biri değildir?

- A) Hizmet
B) Sermaye
C) Emek
D) Girişimci

4. Satın alma gücü olan bir kişinin otomobil almak istemesi aşağıdakilerden hangisine örnek teşkil eder?

- A) Arz
B) Piyasa
C) Talep
D) Fiyat

5. Aşağıdakilerden hangisi girişimciliğin temel kavramlarından biri değildir?

- A) Risk alma
B) Ekonomik olma
C) Öncü olma
D) Yenilikçi olma

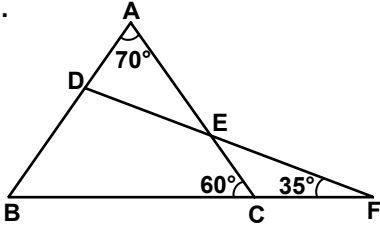
6. Aşağıdakilerden hangisi iyi bir yöneticinin özelliklerinden biridir?

- A) Her türlü riski göze almalı
B) Sorumluluk almaktan kaçınmalı
C) İşini ve çalışanlarını iyi tanımalı
D) Grup çalışmalarına karşı olmalı

1. OTURUM

7. İnsanların yarattığı değerlerle ülkelerin zenginliklerinin nasıl ortaya çıktığını; bunların ülkeler ve insanlar arasında nasıl bölüştüğünü inceleyen bilim dalı, aşağıdakilerden hangisidir?
- A) Ekonomi B) Tarih
C) Sosyoloji D) Coğrafya
8. Aşağıdakilerden hangisi iyi bir liderin başlıca özelliklerinden biri değildir?
- A) Lider ekip kurandır.
B) Lider sorgulayandır.
C) Lider etkileyendir.
D) Lider yargılayandır.
9. Aşağıdakilerden hangisi kadın girişimcilerin karşılaştıkları sorunlardan biridir?
- A) Kadınların girişimciliğini engelleyen yasal düzenlemeler
B) Kadınların eğitim düzeylerinin düşük olması
C) Kadının ev dışında çalışmasına olumlu bakılmaması
D) Kadın girişimcilerin teknolojiyi kullanamamaları
10. Ekonomik, ideolojik ve siyasal ön yargıları hiçe sayarak kendi projelerini kabul ettirmeyi başaran ve uygulamaya taşıdığı "Sosyal Girişimcilik" kavramı ile 2006 Yılı Nobel Barış ödülünü kazanan ekonomi profesörü, aşağıdakilerden hangisidir?
- A) Grameen Bankın
B) Florence Nightingale
C) Muhammad Yunus
D) Marco Polo
11. Sosyal girişimciliğin kalkınmadaki önemi ile ilgili aşağıda verilen bilgilerden hangisi yanlıştır?
- A) Eşitliği ortadan kaldırır.
B) Ekonomik kalkınmayı sağlar.
C) Yeni ürün ve hizmetler sunar.
D) Sosyal sermaye oluşturur.
12. Aşağıdakilerden hangisi kendi işini kurmanın avantajlarından biri değildir?
- A) Bağımsız çalışmayı sağlar.
B) Liderlik yapma şansı verir.
C) Fikirleri uygulama olanağı sağlar.
D) Yüksek kazanç elde etme olasılığı yoktur.
13. Aşağıdakilerden hangisi girişimciliği teşvik eden faktörlerden biridir?
- A) Vasiyet
B) Dış baskılar
C) Emek
D) Eğitim ve güven
14. Aşağıdakilerden hangisi girişimcide olması gereken kişisel özelliklerden biridir?
- A) Yönetim becerisi
B) Risk almama
C) Kararsızlık
D) Hırslı olmama
15. Aşağıdakilerden hangisi girişimcilerin başarısızlığına neden olan hatalardan biridir?
- A) Müşteri sayısını artırma
B) Yüksek maliyet
C) Ölçülü büyüme
D) Yeterli sermaye
16. Aşağıdakilerden hangisi insan ihtiyaçlarını karşılamak üzere ekonomik mal ve hizmet üretiminin gerçekleştirilebilmesi için üretim faktörlerini bir araya getiren kişidir?
- A) Yönetici B) Lider
C) Girişimci D) Personel
17. Bir kimsenin davranış ya da kararları sonucunda kaybetme şansına maruz kalmasına verilen ad aşağıdakilerden hangisidir?
- A) Fayda B) Hayal
C) Risk D) Zarar
18. Şirketlerin ürünlerini, hizmetlerini ve üretim yöntemlerini sürekli olarak değiştirmeleri ve yenileme işlemi aşağıdakilerden hangisidir?
- A) Yenilikçilik B) Rekabet
C) Pazarlama D) Ticaret
19. Modern hemşireliğin kurucusu olan, ilk hemşirelik okulunu kuran ve hastane şartlarının iyileştirilmesi için mücadele eden sosyal girişimci, aşağıdakilerden hangisidir?
- A) Eli Whitney
B) Thomas Alva Edison
C) Florence Nightingale
D) Napolyon Bonapart
20. Aşağıdakilerden hangisi girişimcilikte yaratıcılığın aşamalarından değildir?
- A) Kuluçka
B) Bilgi toplama
C) Değerlendirme
D) Keşfetme

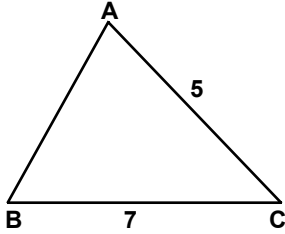
1.



Şekilde $m(\widehat{ACB}) = 60^\circ$,
 $m(\widehat{DFB}) = 35^\circ$ ve $m(\widehat{BAC}) = 70^\circ$
 olduğuna göre, $m(\widehat{BDF})$ kaç
 derecedir?

A) 85 B) 95 C) 100 D) 105

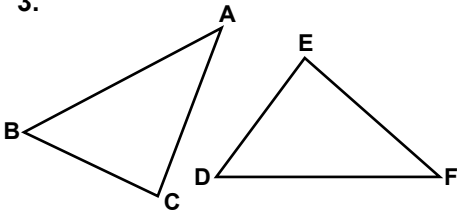
2.



Şekildeki \widehat{ABC} 'nde $|AC| = 5$ cm
 ve $|BC| = 7$ cm olduğuna göre,
 $|AB|$ 'nin santimetre cinsinden
 alabileceği **en büyük** ve **en küçük**
 tam sayı değerlerinin toplamı
 kaçtır?

A) 11 B) 12 C) 13 D) 14

3.

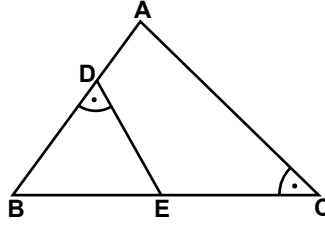


Şekilde $\widehat{BCA} \cong \widehat{DEF}$ 'tir.
 $|BA| = (2x - 2)$ cm ve
 $|DF| = (3x - 5)$ cm olduğuna
 göre, $|AB|$ kaç santimetredir?

A) 2 B) 4 C) 6 D) 8

1. OTURUM

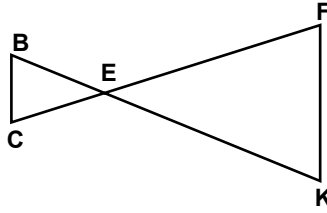
4.



Şekilde $m(\widehat{BDE}) = m(\widehat{ACB})$ 'tir.
 $|BC| = 10$ cm ve $|AB| = 2|EB|$
 olduğuna göre, $|BD|$ kaç santi-
 metredir?

A) 3 B) 4 C) 5 D) 6

5.



Şekilde $\widehat{BEC} \sim \widehat{KEF}$ olduğuna
 göre, aşağıdaki orantılardan
 hangisi doğrudur?

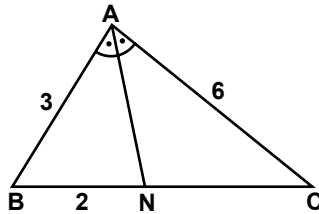
A) $\frac{|BE|}{|EF|} = \frac{|BC|}{|KE|}$

B) $\frac{|EC|}{|EF|} = \frac{|KF|}{|BC|}$

C) $\frac{|CB|}{|EK|} = \frac{|CE|}{|EB|}$

D) $\frac{|BC|}{|KF|} = \frac{|BE|}{|KE|}$

6.

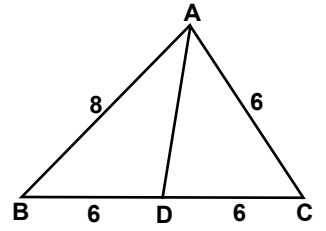


Şekildeki \widehat{ABC} 'nde;
 $[AN]$, \widehat{BAC} 'nin açıortayıdır.
 $|AB| = 3$ cm, $|AC| = 6$ cm ve
 $|BN| = 2$ cm olduğuna göre,
 $|AN|$ kaç santimetredir?

A) $\sqrt{10}$ B) $2\sqrt{3}$

C) $\sqrt{14}$ D) $3\sqrt{2}$

7.

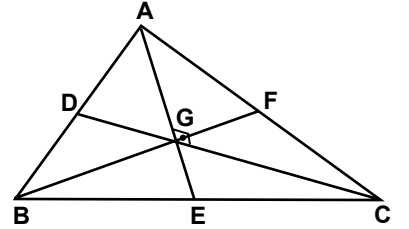


Şekildeki \widehat{ABC} 'nde $|AB| = 8$ cm
 ve $|AC| = |BD| = |DC| = 6$ cm
 olduğuna göre, $|AD|$ kaç santi-
 metredir?

A) $\sqrt{14}$ B) $\sqrt{17}$

C) $2\sqrt{7}$ D) $4\sqrt{2}$

8.

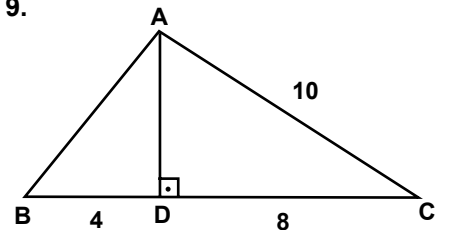


Şekilde $[AE]$, $[CD]$ ve $[BF]$
 kenarortaylarının kesim nok-
 tası G'dir. $|BG| = 10$ cm ve
 $m(\widehat{AGC}) = 90^\circ$ olduğuna göre,
 $|AF|$ kaç santimetredir?

A) $\frac{5}{2}$ B) 5

C) $\frac{15}{2}$ D) 10

9.



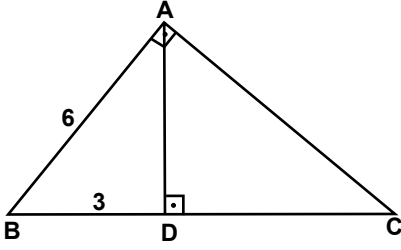
Şekildeki \widehat{ABC} 'nde
 $[AD] \perp [BC]$ 'tir. $|AC| = 10$ cm,
 $|BD| = 4$ cm ve $|DC| = 8$ cm
 olduğuna göre, $|AB|$ kaç santi-
 metredir?

A) 5 B) $\sqrt{26}$

C) 7 D) $2\sqrt{13}$

1. OTURUM

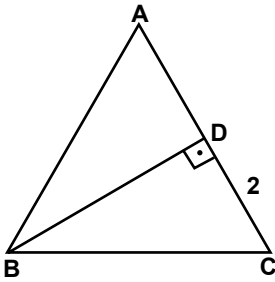
10.



Şekildeki \widehat{ABC} 'nde, $[AB] \perp [AC]$ ve $[AD] \perp [BC]$ 'tir. $|AB| = 6$ cm ve $|BD| = 3$ cm olduğuna göre, $|DC|$ kaç santimetredir?

- A) 2 B) 6 C) 9 D) 12

11.



Şekildeki \widehat{ABC} eşkenar üçgen ve $|DC| = 2$ cm olduğuna göre, $|DB|$ kaç santimetredir?

- A) $\frac{2\sqrt{3}}{3}$ B) $2\sqrt{3}$
C) $3\sqrt{2}$ D) 4

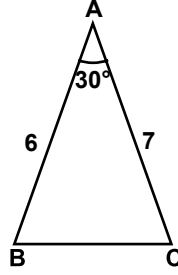
12. $\cos 210^\circ$, $\sin 155^\circ$, $\tan 310^\circ$ ve $\cot 70^\circ$ değerlerinin işaretleri sırasıyla aşağıdakilerden hangisinde verilmiştir?

- A) +, +, -, + B) +, -, +, -
C) -, -, +, - D) -, +, -, +

13. $0^\circ < \alpha < 90^\circ$ ve $\sin \alpha = \frac{5}{13}$ olduğuna göre, $\cot \alpha$ değeri kaçtır?

- A) $\frac{12}{5}$ B) $\frac{14}{13}$ C) $\frac{12}{13}$ D) $\frac{5}{14}$

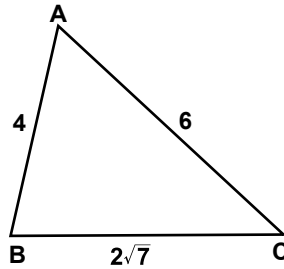
14.



Şekildeki \widehat{ABC} 'nde $m(\widehat{BAC}) = 30^\circ$, $|AB| = 6$ cm ve $|AC| = 7$ cm olduğuna göre, $A(\widehat{ABC})$ kaç santimetrekaredir?

- A) $\frac{21}{4}$ B) 7
C) $\frac{21}{2}$ D) 21

15.



Şekildeki \widehat{ABC} 'nde $|AB| = 4$ cm, $|AC| = 6$ cm ve $|BC| = 2\sqrt{7}$ cm olduğuna göre, $m(\widehat{BAC})$ kaç derecedir?

- A) 30 B) 45 C) 60 D) 120

16. A, B, D, E noktaları aynı düzlemde bulunmaktadır. Buna göre, $\vec{AB} + \vec{BD} + \vec{DE}$ aşağıdaki vektörlerden hangisine eşittir?

- A) \vec{AE} B) \vec{BE}
C) \vec{AD} D) \vec{ED}

17. A(-5) ve B(-2) noktaları veriliyor. Buna göre, $|\vec{AB}|$ kaç birimdir?

- A) -7 B) -3 C) 3 D) 7

18. 3, 2, 2, 4, 4, 3, 2, 1, 3, 2 veri grubunun tepe değeri kaçtır?

- A) 1 B) 2 C) 3 D) 4

19. Üç sayının aritmetik ortalaması 30° 'dur. Bu sayılardan ikisinin aritmetik ortalaması 40 olduğuna göre, üçüncü sayı kaçtır?

- A) 10 B) 20 C) 30 D) 40

20. Bir kutuda 3 bozuk, 7 sağlam ampul vardır. Kutudan rastgele çekilen bir ampulün bozuk olma olasılığı nedir?

- A) $\frac{7}{10}$ B) $\frac{4}{7}$ C) $\frac{3}{7}$ D) $\frac{3}{10}$

**TEST BİTTİ.
CEVAPLARINIZI KONTROL EDİNİZ.**

SINAV SÜRESİNCE UYULACAK KURALLAR

1. Adaylar, sınav kurallarına ve salon görevlilerinin tüm uyarılarına uymak zorundadırlar. Kurallara ve uyarılara uymayan adayların sınavları geçersiz sayılacaktır.
2. Sınav başladıktan sonra adayların salon görevlileri ve birbirleri ile konuşmaları, kalem, silgi vb. şeyleri istemeleri yasaktır.
3. Adaylar sınav süresince, sınav giriş belgesi ile birlikte kimlik belgelerinden birini (nüfus cüzdanı, pasaport veya sürücü belgesi) masalarının üzerinde bulundurmamak zorundadırlar.

SALON GÖREVLİLERİNCE SINAV BAŞLAMADAN ÖNCE ADAYLARA YAPILACAK SON UYARI

- Soracağınız bir şey var mı? Varsa şimdi sorunuz.
- Sınav başladıktan sonra sorularınıza cevap verilmeyecektir.
- Başlama zilini bekleyiniz.
- Hepinize başarılar dileriz.

(Salon başkanı başlama ve bitiş saatini tahtaya yazacaktır.)

Bu kitapçığın her hakkı saklıdır. Hangi amaçla olursa olsun, kitapçığın tamamının veya bir kısmının Millî Eğitim Bakanlığı Ölçme, Değerlendirme ve Sınav Hizmetleri Genel Müdürlüğünün yazılı izni olmadan kopya edilmesi, fotoğraflarının çekilmesi, bilgisayar ortamına alınması, herhangi bir yolla çoğaltılması, yayımlanması veya başka bir amaçla kullanılması yasaktır. Bu yasağa uymayanlar, doğabilecek cezai sorumluluğu ve kitapçığın hazırlanmasındaki mali külfeti peşinen kabullenmiş sayılır.

3 OCAK 2015 TARİHİNDE YAPILAN AÇIKÖĞRETİM LİSESİ / MESLEKİ AÇIKÖĞRETİM LİSESİ
2014-2015 ÖĞRETİM YILI 1. DÖNEM SINAVI 1. OTURUM T KİTAPÇIĞI CEVAP ANAHTARI

DİN KÜL. AHL. BİL. – 1

1. A
2. C
3. B
4. D
5. D
6. B
7. C
8. A
9. D
10. B
11. A
12. C
13. D
14. A
15. B
16. C
17. B
18. C
19. A
20. C

DİN KÜL. AHL. BİL. – 5

1. B
2. A
3. C
4. C
5. D
6. A
7. D
8. C
9. B
10. A
11. D
12. B
13. C
14. C
15. B
16. A
17. D
18. B
19. C
20. D

SEÇMELİ FELSEFE – 1

1. C
2. C
3. A
4. D
5. B
6. C
7. D
8. A
9. D
10. C
11. B
12. B
13. D
14. A
15. C
16. D
17. B
18. C
19. A
20. B

TARİH – 6

1. C
2. A
3. D
4. D
5. B
6. B
7. C
8. A
9. B
10. D
11. A
12. C
13. B
14. C
15. D
16. B
17. A
18. D
19. B
20. A

DİN KÜL. AHL. BİL. – 2

1. B
2. A
3. C
4. C
5. D
6. A
7. B
8. C
9. A
10. C
11. B
12. D
13. B
14. D
15. D
16. B
17. A
18. D
19. C
20. A

FELSEFE – 1

1. B
2. A
3. C
4. D
5. B
6. C
7. D
8. C
9. D
10. A
11. B
12. C
13. B
14. A
15. D
16. B
17. D
18. C
19. A
20. B

TARİH – 2

1. B
2. A
3. D
4. D
5. C
6. B
7. C
8. A
9. D
10. C
11. B
12. B
13. A
14. D
15. C
16. C
17. A
18. B
19. D
20. C

COĞRAFYA – 1

1. D
2. A
3. C
4. B
5. C
6. D
7. B
8. A
9. D
10. B
11. B
12. C
13. C
14. D
15. B
16. A
17. D
18. A
19. C
20. D

3 OCAK 2015 TARİHİNDE YAPILAN AÇIKÖĞRETİM LİSESİ / MESLEKİ AÇIKÖĞRETİM LİSESİ
2014-2015 ÖĞRETİM YILI 1. DÖNEM SINAVI 1. OTURUM T KİTAPÇIĞI CEVAP ANAHTARI

COĞRAFYA – 5	İNGİLİZCE – 1	FRANSIZCA – 1	ALMANCA – 5
1. D	1. B	1. B	1. D
2. D	2. C	2. A	2. B
3. C	3. D	3. C	3. C
4. A	4. A	4. D	4. A
5. C	5. C	5. B	5. C
6. A	6. B	6. D	6. A
7. C	7. D	7. C	7. D
8. D	8. B	8. B	8. D
9. B	9. A	9. C	9. A
10. A	10. B	10. A	10. A
11. A	11. C	11. C	11. C
12. C	12. D	12. B	12. C
13. B	13. C	13. A	13. A
14. D	14. C	14. C	14. D
15. B	15. D	15. D	15. C
16. C	16. B	16. D	16. B
17. A	17. A	17. A	17. B
18. C	18. D	18. D	18. B
19. B	19. A	19. A	19. B
20. A	20. C	20. B	20. B

COĞRAFYA – 7	ALMANCA – 1	İNGİLİZCE – 5	FRANSIZCA – 5
1. C	1. B	1. A	1. D
2. A	2. A	2. C	2. A
3. B	3. C	3. A	3. B
4. B	4. B	4. D	4. A
5. C	5. A	5. B	5. B
6. D	6. C	6. C	6. C
7. C	7. C	7. D	7. B
8. B	8. B	8. A	8. D
9. D	9. C	9. C	9. B
10. B	10. C	10. B	10. C
11. B	11. D	11. D	11. B
12. A	12. D	12. C	12. A
13. A	13. D	13. B	13. D
14. C	14. C	14. D	14. C
15. B	15. B	15. A	15. B
16. A	16. C	16. D	16. C
17. A	17. D	17. A	17. A
18. D	18. A	18. C	18. D
19. D	19. D	19. A	19. C
20. C	20. A	20. B	20. A

3 OCAK 2015 TARİHİNDE YAPILAN AÇIKÖĞRETİM LİSESİ / MESLEKİ AÇIKÖĞRETİM LİSESİ
2014-2015 ÖĞRETİM YILI 1. DÖNEM SINAVI 1. OTURUM T KİTAPÇIĞI CEVAP ANAHTARI

DİL ve ANLATIM – 1

1. A
2. B
3. C
4. D
5. B
6. A
7. C
8. D
9. C
10. B
11. C
12. B
13. D
14. A
15. C
16. B
17. C
18. B
19. A
20. C

DİL ve ANLATIM – 7

1. B
2. C
3. A
4. A
5. C
6. B
7. D
8. B
9. D
10. C
11. C
12. C
13. B
14. A
15. B
16. B
17. A
18. D
19. D
20. A

TÜRK EDEBİYATI – 4

1. C
2. C
3. D
4. D
5. D
6. B
7. C
8. B
9. D
10. B
11. D
12. D
13. B
14. C
15. A
16. D
17. B
18. C
19. C
20. A

TÜRK EDEBİYATI – 8

1. C
2. B
3. B
4. C
5. C
6. B
7. C
8. D
9. A
10. C
11. B
12. B
13. C
14. A
15. B
16. A
17. D
18. C
19. B
20. B

DİL ve ANLATIM – 2

1. B
2. D
3. A
4. B
5. B
6. B
7. D
8. B
9. A
10. C
11. B
12. D
13. C
14. B
15. B
16. B
17. D
18. D
19. C
20. D

DİL ve ANLATIM – 8

1. A
2. D
3. D
4. A
5. B
6. A
7. C
8. B
9. D
10. D
11. B
12. C
13. B
14. D
15. A
16. A
17. C
18. B
19. D
20. A

TÜRK EDEBİYATI – 7

1. A
2. D
3. A
4. D
5. B
6. A
7. C
8. B
9. B
10. C
11. A
12. D
13. D
14. A
15. C
16. C
17. D
18. D
19. C
20. D

FİZİK – 1

1. C
2. C
3. D
4. B
5. A
6. B
7. B
8. D
9. A
10. C
11. B
12. C
13. A
14. D
15. A
16. D
17. B
18. B
19. C
20. A

3 OCAK 2015 TARİHİNDE YAPILAN AÇIKÖĞRETİM LİSESİ / MESLEKİ AÇIKÖĞRETİM LİSESİ
2014-2015 ÖĞRETİM YILI 1. DÖNEM SINAVI 1. OTURUM T KİTAPÇIĞI CEVAP ANAHTARI

FİZİK – 5

1. D
2. A
3. C
4. B
5. D
6. A
7. C
8. C
9. B
10. A
11. B
12. D
13. A
14. C
15. B
16. C
17. B
18. A
19. C
20. D

KİMYA – 6

1. B
2. A
3. D
4. C
5. C
6. A
7. C
8. D
9. A
10. B
11. D
12. B
13. A
14. A
15. D
16. B
17. C
18. D
19. B
20. C

BİYOLOJİ – 1

1. B
2. D
3. B
4. D
5. A
6. C
7. C
8. B
9. C
10. D
11. A
12. A
13. D
14. C
15. B
16. D
17. A
18. C
19. A
20. B

BİYOLOJİ – 6

1. C
2. D
3. C
4. A
5. D
6. B
7. A
8. D
9. C
10. D
11. B
12. C
13. A
14. D
15. B
16. A
17. A
18. B
19. C
20. A

KİMYA – 2

1. D
2. C
3. B
4. D
5. A
6. B
7. C
8. C
9. B
10. A
11. D
12. A
13. C
14. D
15. C
16. B
17. A
18. B
19. A
20. D

SİYER – 1

1. D
2. B
3. A
4. C
5. A
6. D
7. B
8. C
9. B
10. D
11. A
12. D
13. A
14. C
15. C
16. C
17. A
18. D
19. B
20. D

BİYOLOJİ – 3

1. C
2. C
3. B
4. A
5. D
6. B
7. A
8. B
9. D
10. A
11. B
12. A
13. D
14. C
15. D
16. B
17. C
18. D
19. A
20. C

EKONOMİ. – 1

1. D
2. A
3. C
4. B
5. A
6. D
7. B
8. C
9. A
10. D
11. B
12. C
13. D
14. B
15. C
16. A
17. C
18. D
19. B
20. A

3 OCAK 2015 TARİHİNDE YAPILAN AÇIKÖĞRETİM LİSESİ / MESLEKİ AÇIKÖĞRETİM LİSESİ
2014-2015 ÖĞRETİM YILI 1. DÖNEM SINAVI 1. OTURUM T KİTAPÇIĞI CEVAP ANAHTARI

TEMEL DİNİ BİL.- 1

1. A
2. C
3. D
4. B
5. B
6. C
7. A
8. C
9. A
10. D
11. C
12. B
13. D
14. A
15. B
16. B
17. D
18. C
19. D
20. C

MANTIK - 2

1. B
2. C
3. B
4. A
5. C
6. C
7. D
8. B
9. D
10. D
11. A
12. C
13. D
14. A
15. A
16. B
17. B
18. A
19. C
20. D

TRAF. VE İLK YARD. - 1

1. D
2. A
3. C
4. B
5. C
6. A
7. D
8. C
9. B
10. A
11. B
12. A
13. C
14. B
15. D
16. C
17. D
18. D
19. A
20. B

İNGİLİZCE - 8

1. D
2. C
3. B
4. A
5. D
6. B
7. B
8. C
9. D
10. C
11. A
12. B
13. C
14. C
15. A
16. B
17. C
18. B
19. A
20. D

İŞLETME - 2

1. D
2. A
3. D
4. C
5. C
6. A
7. C
8. C
9. B
10. C
11. B
12. D
13. D
14. C
15. B
16. A
17. B
18. D
19. C
20. A

SAĞLIK BİLGİSİ - 2

1. B
2. A
3. D
4. D
5. B
6. B
7. C
8. A
9. C
10. C
11. B
12. A
13. C
14. D
15. B
16. B
17. A
18. C
19. A
20. D

GEOMETRİ - 5

1. D
2. D
3. C
4. D
5. B
6. C
7. A
8. B
9. B
10. A
11. D
12. A
13. A
14. B
15. D
16. C
17. C
18. A
19. B
20. C

ALMANCA - 8

1. A
2. C
3. B
4. D
5. C
6. A
7. D
8. B
9. D
10. C
11. A
12. D
13. B
14. C
15. A
16. D
17. C
18. B
19. A
20. B

3 OCAK 2015 TARİHİNDE YAPILAN AÇIKÖĞRETİM LİSESİ / MESLEKİ AÇIKÖĞRETİM LİSESİ
2014-2015 ÖĞRETİM YILI 1. DÖNEM SINAVI 1. OTURUM T KİTAPÇIĞI CEVAP ANAHTARI

FRANSIZCA – 8

1. D
2. A
3. C
4. A
5. B
6. B
7. C
8. D
9. B
10. A
11. D
12. A
13. A
14. C
15. B
16. B
17. C
18. D
19. C
20. A

SEÇ. Y. DİL İNG. – 5

1. B
2. C
3. D
4. A
5. B
6. A
7. D
8. C
9. B
10. A
11. D
12. C
13. D
14. D
15. A
16. C
17. A
18. D
19. B
20. C

SEÇ. Y. DİL FRAN. – 5

1. B
2. A
3. C
4. C
5. D
6. B
7. A
8. D
9. B
10. D
11. C
12. A
13. B
14. D
15. C
16. A
17. B
18. D
19. C
20. A

SEÇ. Y. DİL ALM. – 8

1. C
2. D
3. C
4. A
5. D
6. C
7. B
8. C
9. D
10. A
11. D
12. B
13. A
14. D
15. B
16. C
17. B
18. A
19. C
20. C

FIKİH – 1

1. D
2. C
3. A
4. B
5. C
6. D
7. A
8. B
9. B
10. C
11. A
12. D
13. D
14. A
15. D
16. C
17. B
18. D
19. D
20. A

SEÇ. Y. DİL ALM. – 5

1. C
2. C
3. A
4. A
5. C
6. C
7. D
8. B
9. B
10. A
11. D
12. A
13. B
14. C
15. A
16. D
17. B
18. D
19. B
20. D

SEÇ. Y. DİL İNG. – 8

1. A
2. B
3. C
4. D
5. D
6. A
7. C
8. B
9. D
10. B
11. C
12. D
13. B
14. B
15. A
16. D
17. A
18. A
19. C
20. D

SEÇ. Y. DİL FRAN. – 8

1. D
2. D
3. C
4. A
5. C
6. B
7. A
8. D
9. B
10. A
11. B
12. C
13. D
14. C
15. B
16. D
17. A
18. C
19. B
20. A

3 OCAK 2015 TARİHİNDE YAPILAN AÇIKÖĞRETİM LİSESİ / MESLEKİ AÇIKÖĞRETİM LİSESİ
2014-2015 ÖĞRETİM YILI 1. DÖNEM SINAVI 1. OTURUM T KİTAPÇIĞI CEVAP ANAHTARI

HZ. MUHAMMED'İN HAY. – 2

1. B
2. A
3. C
4. D
5. C
6. B
7. A
8. D
9. D
10. C
11. A
12. B
13. A
14. D
15. C
16. B
17. A
18. B
19. D
20. C

KARŞ. DİN. TARİHİ – 1

1. D
2. B
3. A
4. D
5. C
6. A
7. C
8. B
9. A
10. D
11. C
12. B
13. B
14. C
15. A
16. D
17. A
18. B
19. C
20. D

SEÇ. DİL ve ANLA. – 8

1. D
2. C
3. A
4. C
5. B
6. B
7. A
8. C
9. B
10. A
11. B
12. B
13. B
14. D
15. D
16. C
17. B
18. A
19. D
20. C

SEÇ. TÜRK EDEB. – 7

1. B
2. C
3. A
4. B
5. A
6. A
7. D
8. C
9. A
10. A
11. B
12. C
13. B
14. B
15. D
16. B
17. D
18. A
19. C
20. B

MATEMATİK – 6

1. C
2. B
3. D
4. D
5. A
6. A
7. B
8. A
9. A
10. C
11. D
12. C
13. C
14. D
15. B
16. A
17. B
18. B
19. C
20. D

SEÇ. DİL ve ANLA. – 7

1. B
2. D
3. C
4. A
5. A
6. A
7. D
8. C
9. D
10. C
11. A
12. B
13. C
14. B
15. D
16. C
17. C
18. B
19. B
20. D

SEÇ. TÜRK EDEB. – 4

1. C
2. B
3. A
4. A
5. A
6. C
7. A
8. B
9. B
10. A
11. D
12. A
13. D
14. A
15. A
16. B
17. C
18. A
19. C
20. D

SEÇ. TÜRK EDEB. – 8

1. B
2. D
3. C
4. A
5. A
6. D
7. B
8. B
9. A
10. A
11. A
12. A
13. A
14. C
15. D
16. D
17. D
18. A
19. B
20. C

3 OCAK 2015 TARİHİNDE YAPILAN AÇIKÖĞRETİM LİSESİ / MESLEKİ AÇIKÖĞRETİM LİSESİ
2014-2015 ÖĞRETİM YILI 1. DÖNEM SINAVI 1. OTURUM T KİTAPÇIĞI CEVAP ANAHTARI

İSLAM TARİHİ – 1

1. C
2. D
3. D
4. B
5. A
6. A
7. D
8. D
9. A
10. C
11. B
12. D
13. C
14. C
15. B
16. A
17. A
18. A
19. B
20. D

GİRİŞİMCİLİK – 1

1. C
2. D
3. A
4. C
5. B
6. C
7. A
8. D
9. C
10. C
11. A
12. D
13. D
14. A
15. B
16. C
17. C
18. A
19. C
20. D

KELAM – 1

1. C
2. A
3. D
4. B
5. D
6. A
7. B
8. C
9. B
10. A
11. D
12. C
13. B
14. A
15. D
16. D
17. A
18. B
19. C
20. B

MATEMATİK – 2

1. B
2. D
3. B
4. C
5. D
6. A
7. A
8. B
9. D
10. C
11. B
12. D
13. A
14. C
15. C
16. A
17. C
18. B
19. A
20. D