

OTURUM

2



T.C.

MİLLÎ EĞİTİM BAKANLIĞI  
ÖLÇME, DEĞERLENDİRME VE SINAV HİZMETLERİ  
GENEL MÜDÜRLÜĞÜ  
AÇIK ÖĞRETİM LİSESİ / MESLEKİ AÇIK ÖĞRETİM LİSESİ  
2015-2016 ÖĞRETİM YILI EK SINAV  
2. OTURUM: 21 AĞUSTOS 2016 Saat: 14.00

T

DERS KODU VE ADI	SAYFA	DERS KODU VE ADI	SAYFA	DERS KODU VE ADI	SAYFA
(111) DİN KÜL. AHL. BİL. – 1	3	(424) FİZİK – 4	31	(613) SEÇ. DİL VE ANLA. – 3	59
(112) DİN KÜL. AHL. BİL. – 2	4	(433) KİMYA – 3	33	(614) SEÇ. DİL VE ANLA. – 4	61
(113) DİN KÜL. AHL. BİL. – 3	5	(434) KİMYA – 4	34	(615) SEÇ. DİL VE ANLA. – 5	62
(114) DİN KÜL. AHL. BİL. – 4	6	(443) BİYOLOJİ – 3	35	(616) SEÇ. DİL VE ANLA. – 6	64
(123) SEÇ. FELSEFE – 1	8	(444) BİYOLOJİ – 4	37	(617) SEÇ. DİL VE ANLA. – 7	66
(124) SEÇ. FELSEFE – 2	9	(451) ÇAĞ. TÜRK VE DÜN. TAR. – 1	38	(618) SEÇ. DİL VE ANLA. – 8	68
(151) COĞRAFYA – 1	11	(455) DEM. ve İNSAN HAK. – 1	39	(623) SEÇ. TÜRK ED. – 3	69
(152) COĞRAFYA – 2	12	(461) EKONOMİ – 1	41	(624) SEÇ. TÜRK ED. – 4	70
(181) İNGİLİZCE – 1	14	(462) EKONOMİ – 2	42	(625) SEÇ. TÜRK ED. – 5	72
(181) ALMANCA – 1	15	(476) İŞLETME – 1	43	(626) SEÇ. TÜRK ED. – 6	73
(181) FRANSIZCA – 1	16	(477) İŞLETME – 2	44	(627) SEÇ. TÜRK ED. – 7	75
(182) İNGİLİZCE – 2	17	(481) SANAT TARİHİ – 1	46	(628) SEÇ. TÜRK ED. – 8	76
(182) ALMANCA – 2	18	(482) SANAT TARİHİ – 2	47	(711) İSLAM TARİHİ – 1	78
(182) FRANSIZCA – 2	18	(503) SEÇ. TARİH – 3	48	(712) İSLAM TARİHİ – 2	79
(401) DİL VE ANLATIM – 1	19	(504) SEÇ. TARİH – 4	49	(931) SİYER – 1	81
(402) DİL VE ANLATIM – 2	21	(505) SEÇ. COĞRAFYA – 3	51	(932) SİYER – 2	82
(411) TÜRK EDEBİYATI – 1	23	(506) SEÇ. COĞRAFYA – 4	52	(975) GİRİŞİMCİLİK – 2	83
(412) TÜRK EDEBİYATI – 2	25	(511) FİKİH – 1	53	(998) MATEMATİK – 1	84
(421) FİZİK – 1	27	(512) FİKİH – 2	55	(999) MATEMATİK – 2	86
(422) FİZİK – 2	29	(531) HZ. MUHAMMED'İN HAY. – 1	56		
(423) FİZİK – 3	30	(532) HZ. MUHAMMED'İN HAY. – 2	57		

**ADAYLARIN DİKKATİNE!**

- Her ders için **20** soru bulunmaktadır. Bu oturumda **180** dakikalık cevaplama süreniz vardır. Sınav başladıktan sonra ilk **30** dakika dolmadan dışarı çıkmayınız.
- Sınav sırasında sözlük, hesap cetveli veya makinesi, çağrı cihazı, cep telefonu, telsiz, radyo ve bilgisayar özelliği bulunan elektronik cihazlarınızı yanınızda bulundurmuyunuz. Bu araçları kullanmanız ve kopya çekmeye teşebbüs etmeniz hâlinde sınavınız geçersiz sayılacaktır.
- Başvuru şartlarını taşımadığınız hâlde sınava girmeniz, kopya çekmeniz, başka adayın sınav evrakını kullanmanız, geçerli kimlik belgenizi ve sınav giriş belgenizi ibraz edemediğiniz durumlarda sınavınız geçersiz sayılacaktır.
- Sınavın değerlendirilmesi aşamasında, bilgisayar ortamında yapılan kopya analizinde ikili veya toplu kopya tespiti hâlinde sınavınız geçersiz sayılacaktır.

**CEVAP KÂĞIDI VE SORU KİTAPÇIĞI İLE İLGİLİ AÇIKLAMALAR**

- Cevap kâğıdınızdaki bilgilerin doğruluğunu kontrol ediniz ve cevap kâğıdınızı mürekkepli kalemle imzalayınız.
- Soru kitapçığının sayfalarını kontrol ediniz, baskı hatası var ise değiştirilmesini sağlayınız.
- Soruların çözümü için size ayrıca boş kâğıt verilmeyecektir. Soru kitapçığının içindeki boş alanları soru çözümleri için kullanabilirsiniz.
- Her sorunun dört seçeneğinden sadece biri doğrudur. Doğru seçeneği, cevap kâğıdınızın ilgili sütununa soru numarasını dikkate alarak yuvarlağın dışına taşırmadan kodlayınız. **Soru kitapçığı üzerinde yapılan cevaplandırmalar dikkate alınmayacaktır.**
- Cevap kâğıdı üzerinde kodlamalarınızı kurşun kalemle yapınız.
- Değiştirmek istediğiniz bir cevabı, yumuşak silgiyle cevap kâğıdını örselemeden temizce siliniz ve yeni cevabınızı kodlayınız.
- Cevaplamaya istediğiniz dersin sorusundan başlayabilirsiniz. Cevabını bilmediğiniz sorular üzerinde fazla zaman kaybetmeden diğer sorulara geçiniz. Zamanınız kalırsa bu sorulara daha sonra dönebilirsiniz.
- Yanlış cevaplarınız dikkate alınmadan sadece doğru cevaplarınız üzerinden puanlama yapılacaktır.
- Soruları ve sorulara verdiğiniz cevapları, yanınızda götürmek amacıyla kaydetmeyiniz; hiçbir şekilde dışarı çıkarmayınız.
- Sınav bitiminde, soru kitapçığı ve cevap kâğıdını salon görevlilerine teslim ediniz, aksi takdirde sınavınız geçersiz sayılacaktır.**

**BAŞLAYINIZ DENMEDEN SORU KİTAPÇIĞINI AÇMAYINIZ.**



## 2. OTURUM

(111) DİN KÜL. AHL. BİL. – 1

1. Aşağıdakilerden hangisi insanı diğer canlılardan ayıran özelliklerden biri değildir?

- A) Görme B) Anlama  
C) İnanma D) Düşünme

2. “De ki: O Allah birdir. Allah samedir. (Hiçbir şeye muhtaç olmayıp her şey ona muhtaçtır.) O doğurmamış ve doğmamıştır. Onun hiçbir dengi yoktur.”

(İhlâs suresi, 1-4. ayetler)

Bu ayetlerde anlatılan inanç sistemi aşağıdakilerden hangisidir?

- A) Ateizm B) Politeizm  
C) Satanizm D) Monoteizm

3. Aşağıdakilerden hangisi gusül abdestinin şartları arasında yer almaz?

- A) Bütün bedeni yıkamak  
B) Başı mesh etmek  
C) Burnu yıkamak  
D) Ağız yıkamak

4. Peygamber Efendimizi daha iyi tanımak, onun sünnetlerini anlamak amacıyla her yıl 20 Nisan’da ülkemizde düzenlenen etkinlik aşağıdakilerden hangisidir?

- A) Kadir gecesi  
B) Miraç kandili  
C) Kutlu Doğum Haftası  
D) Camiler ve Din Görevlileri Haftası

5. Aşağıdakilerden hangisi Peygamberimizin aile büyüklüğünden biri değildir?

- A) Ebu Talip  
B) Hz. Hamza  
C) Abdulmuttalip  
D) Hz. Mus’ab b. Umeyr

6. Mekke’de zulme uğrayanların haklarını savunmak amacıyla kurulan ve Peygamberimizin de genç yaşta katılıp destek verdiği cemiyetin adı nedir?

- A) Suffa  
B) Hilfü’l Fudûl  
C) Daru’l Nedve  
D) Muallâka-i Seb’a

7. Hz. Muhammed (sav.)’e ilk vahiy ne zaman ve nerede indirilmiştir?

- A) 610 yılı Ramazan ayı-Mekke  
B) 632 yılı Ramazan ayı-Medine  
C) 630 yılı Recep ayı-Mekke  
D) 622 yılı Recep ayı-Medine

8. Hicret kaç tarihinde ve nereye yapılmıştır?

- A) 622-Habeşistan  
B) 620-Medine  
C) 622-Medine  
D) 632-Taif

9. Veda Hutbesiyle ilgili aşağıdakilerden hangisi söylenemez?

- A) Müslümanlara bir vasiyet niteliğindedir.  
B) Kur’an’ın ana konuları vurgulanmaktadır.  
C) İnsan haklarına dair mesajlar içermektedir.  
D) Yöneticilerinin nasıl seçileceği açıklanmaktadır.

10. Kur’an’ı Kerim’i, harflerin ve kelimelerin hakkını vererek, tecvit kurallarına uygun şekilde ve anlamını düşünerek okumak aşağıdakilerin hangisiyle ifade edilir?

- A) Mukabele B) Tertîl  
C) Tefsir D) Hatim

11. • Tanrının varlığını kabul etmezler.  
• Evrenin kendiliğinden var olduğunu savunurlar.

Bu bilgiler aşağıda verilen inanma biçimlerinden hangisine aittir?

- A) Monoteizm B) Ateizm  
C) Politeizm D) Satanizm

12. Aşağıdakilerden hangisi ilahi bir din değildir?

- A) Hinduizm B) Hristiyanlık  
C) İslamiyet D) Yahudilik

13. İtaat, kulluk, tapınma ve boyun eğme gibi anlamlara gelen kavram aşağıdakilerden hangisidir?

- A) İman B) İhsan  
C) Takva D) İbadet

14. “İman edip iyi işler yapanlar cennet bahçelerindedir. Rab’lerinin yanında onlara diledikleri her şey vardır. İşte büyük lütuf budur.”

(Şûrâ suresi, 22. ayet)

Bu ayette ibadetin kişiye sağladığı faydalardan hangisi dile getirilmektedir?

- A) İnsanı ümitsizlikten koruyacağı  
B) Allah’a olan inancı pekiştireceği  
C) İbadet eden insanın ahirette ödüllendirileceği  
D) İnsanda sorumluluk bilincini geliştireceği

15. “... Biz bunlara (putlara) sadece bizi Allah’a yaklaştırmaları için tapıyoruz...”

(Zümer suresi, 3. ayet)

Ayette dile getirilen ifade aşağıda verilen inanç gruplarından hangisine aittir?

- A) Müşrikler B) Hristiyanlar  
C) Hanifler D) Yahudiler

16. Hz. Muhammed (sav.)’in, insanları, İslam’a gizli bir şekilde davet ettiği üç yıllık dönem hangi ayetle son bulmuştur?

- A) “Yaratan Rabb’inin adıyla oku!”  
(Alak suresi, 1. ayet)  
B) “Ey örtünüp bürünen kalk da uyar.”  
(Müddessir suresi, 1 ve 2. ayetler)  
C) “Sana emrolunani açıkça söyle.”  
(Hicr suresi, 94. ayet)  
D) “De ki: O Allah birdir, tekdir.”  
(İhlâs suresi, 1. ayet)

## 2. OTURUM

17. Hz. Muhammed (sav.)'in kabrine verilen isim aşağıdakilerden hangisidir?

- A) Kâbe
- B) Suffe
- C) Mescid-i Nebi
- D) Ravza-i Mutahhara

18. Kur'an-ı Kerim'in parça parça indirilmesinin aşağıdakilerden hangisini kolaylaştırdığı söylenemez?

- A) Yazılmasını
- B) Anlaşılmasını
- C) Ezberlenmesini
- D) Kitap haline getirilmesini

19. Kur'an-ı Kerim hakkında aşağıda verilen bilgilerden hangisi yanlıştır?

- A) Vahiy kâtipleri tarafından yazılmıştır.
- B) Hz. Ömer zamanında kitap haline getirilmiştir.
- C) Zeyd b. Sabit, Kur'an-ı Kerim'i çoğaltmakla görevlendirilmiştir.
- D) İndirilme süreci 23 yılda tamamlanmıştır.

20. "Sen af yolunu tut, iyiliği emret ve cahillerden yüz çevir."

(Arâf suresi, 199. ayet)

Bu ayet Kur'an'ın ana konularından hangisine örnek olur?

- A) İnanç
- B) İbadet
- C) Ahlâk
- D) Tarih

### (112) DİN KÜL. AHL. BİL. – 2

1. Bir toplumda eskiden beri uygulanan, nesilden nesile aktarılan kültürel değer, bilgi ve alışkanlıklara ..... denir.

Boş bırakılan yere aşağıdakilerden hangisi gelmelidir?

- A) din
- B) örf
- C) ibadet
- D) ahlak

2. Örf ve âdetler için aşağıdakilerden hangisi söylenemez?

- A) Din ile ilişkileri yoktur.
- B) Sosyal hayatı şekillendirir.
- C) Yazılı olmayan kurallardır.
- D) Toplum tarafından benimsenmiştir.

3. İslam'dan önce de var olan ve İslam'a ters düşmeyen örf ve âdetlerden biri aşağıdakilerden hangisidir?

- A) Kan davası gütmek
- B) Tefecilik yapmak
- C) Aşure orucu tutmak
- D) Fal bakmak

4. Aşağıdakilerden hangisi Peygamberimiz'in insan haklarına verdiği öneme en iyi örnektir?

- A) Veda hutbesi
- B) Suffe okulunu açması
- C) Akabe biatlarını yapması
- D) Devlet başkanlarına mektup göndermesi

5. Aşağıdakilerden hangisi İslam dininin korunmasını istediği temel ilkelerden biri değildir?

- A) Can
- B) Dil
- C) Mal
- D) Namus

6. Türkler Müslüman olmadan önce çeşitli dinlere inanmışlardır.

Aşağıdakilerden hangisi bu dinlerden biri değildir?

- A) Zerdüştlük
- B) Budizm
- C) Yahudilik
- D) Hristiyanlık

7. Türkler arasında İslam anlayışının oluşmasında ve gelişmesinde aşağıdakilerden hangisinin etkisi diğerlerine göre daha azdır?

- A) Ebu Hanife
- B) Ahmet Yesevi
- C) Hacı Bektaş Veli
- D) İmam Malik

8. Aşağıdakilerden hangisi Türk İslam sanatlarından biri değildir?

- A) Heykel
- B) Minyatür
- C) Tezhip
- D) Hüsnü Hat

9. • Türk tasavvuf edebiyatının en büyük şairlerindedir.  
• Hocası Tapduk Emre'dir.  
• Şiirlerini Türkçe yazmıştır.  
• Divan ve Risalet'ün-Nushiyye adlı eserleri vardır.

Bu bilgiler aşağıdakilerden hangisine aittir?

- A) Hacı Bayram Veli
- B) Hacı Bektaş Veli
- C) Ahmet Yesevi
- D) Yunus Emre

10. Nakşî, Levnî ve Nigarî gibi ünlü şahsiyetlerin eserler verdiği sanat dalı aşağıdakilerden hangisidir?

- A) Tezhip
- B) Hüsnü Hat
- C) Minyatür
- D) Ebru

11. Ahlâki değerleri ifade etmek için kullanılan kavramlar hangi seçenekte verilmiştir?

- A) Sevap-Günah
- B) İyi-Kötü
- C) Helal-Haram
- D) Güzel-Çirkin

12. Değerler hakkında aşağıdakilerden hangisi söylenemez?

- A) Temeli aile ortamında atılır.
- B) Toplumun manevi ihtiyacını karşılar.
- C) Toplumu birleştirici rol üstlenir.
- D) Kanunlarla belirlenir.

13. Aşağıdakilerden hangisi İslam dininin etkisiyle oluşmuş bir adettir?

- A) İsim koymak
- B) Düğün yapmak
- C) Mevlit okutmak
- D) Cenaze töreni düzenlemek

## 2. OTURUM

14. Vurulup tertemiz alından uzanmış yattıyor.  
Bir hilâl uğruna ya Rab, ne güneşler batıyor!

M. Akif Ersoy

**Bu mısralarda hangi değerden söz edilmektedir?**

- A) Kültür B) Bayrak  
C) Bilim D) Medeniyet

15. Seçme ve seçilme hakkı aşağıdakilerden hangisiyle ilgilidir?

- A) Eğitim hakkı  
B) Sosyal haklar  
C) Ekonomik haklar  
D) Siyasi haklar

16. Divan-ı Hikmet adlı eser aşağıdaki mutasavvıflardan hangisine aittir?

- A) Mevlana  
B) Ahmet Yesevi  
C) Yunus Emre  
D) Hacı Bayram Veli

17. Aşağıdaki Türk büyüklerinden hangisi daha çok, esnaf üzerinde etkili olmuş ve ticaret ahlâkının yerleşmesinde rol oynamıştır?

- A) Ahi Evran  
B) Ebu Hanife  
C) Yunus Emre  
D) Hacı Bektaş Veli

18. Aşağıdaki âlimlerden hangisi daha çok tıp alanında çalışmalarıyla bilime katkı sağlamıştır?

- A) Uluğ Bey B) Ali Kuşçu  
C) Harezmi D) İbn-i Sina

19. Kur'an-ı Kerim, Mekke'de indi, Mısır'da okundu, İstanbul'da yazıldı.

**Bu ifadede Türklerin, hangi alanda İslam sanatına yaptıkları katkıya işaret edilmektedir?**

- A) Hat B) Ebru  
C) Tezhip D) Minyatür

20. • Müslüman Türk coğrafyacısı ve denizcisidir.  
• Dünya haritasını günümüzdeki ölçülere yakın biçimde çizen ilk kişidir.

**Bu bilgiler aşağıdaki bilim adamlarından hangisine aittir?**

- A) Birunî  
B) Farabî  
C) Piri Reis  
D) Fahreddin Razi

### (113) DİN KÜL. AHL. BİL. – 3

1. Aşağıdakilerden hangisi farz bir ibadet değildir?

- A) Oruç tutmak  
B) Namaz kılmak  
C) Zekat vermek  
D) Kurban kesmek

2. Aşağıdakilerden hangisi dua ederken en çok dikkat etmemiz gereken hususlardan biridir?

- A) Sadece ihtiyacımız olduğunda dua etmeliyiz.  
B) Samimi ve içten gelerek dua etmeliyiz.  
C) Dualarımızı sadece Arapça ile yapmalıyız.  
D) Anne - babamızın isteği ile dua etmeliyiz.

3. Aşağıdakilerden hangisi sadece Allah'a ait olan (zati) sıfatlardan biridir?

- A) İrade B) Kudret  
C) Beka D) Basar

4. "Göklerin ve yerin yaratılışında, gece ile gündüzün birbiri ardınca gelip gidişinde akli selim sahipleri için gerçekten açık ibretler vardır."  
(Âl-i İmran Suresi, 190. ayet)

**Bu ayette vurgulanan ana düşünce aşağıdakilerden hangisidir?**

- A) Allah'ın varlığı  
B) Allah'ın adaleti  
C) Allah'ın cömertliği  
D) Allah'ın merhameti

5. Aşağıdakilerden hangisi hacın farzlarından biri değildir?

- A) Arafat'ta vakfe yapmak  
B) İhrama girmek  
C) Kurban kesmek  
D) Kabe'yi tavaf etmek

6. Peygamberlerin Allah'tan aldıkları vahyi insanlara ulaştırmasına ne denir?

- A) Tebliğ B) Fetanet  
C) İsmet D) Sıdk

7. Hacın farz olması için aşağıdakilerden hangisi gerekli değildir?

- A) Hür olmak  
B) Zengin olmak  
C) Erkek olmak  
D) Ergenlik çağına girmiş olmak

8. Zekat ile ilgili aşağıda verilen bilgilerden hangisi yanlıştır?

- A) Zengin müslümanlara farzdır.  
B) Ramazan ayında verilmesi gerekir.  
C) Verilecek malın üzerinden bir yıl geçmelidir.  
D) Toprak ürünlerinin zekatı 1/10'dur.

9. Kurban ibadeti ile ilgili aşağıdakilerden hangisi yanlıştır?

- A) Koyun ve keçi bir yaşını doldurmalıdır.  
B) Kurban bayramının her günü kurban kesilebilir.  
C) Kurban edilecek hayvanlar sağlıklı olmalıdır.  
D) Deve, yedi kişi tarafından kurban edilebilir.

## 2. OTURUM

10. Aşağıda verilen ayetlerden hangisi konusu itibariyle diğerlerinden farklıdır?

A) "Gökleri yedi kat yaratan O'dur. Rahman'ın yaratmasında bir düzensizlik göremezsin. Gözünü çevir de bir bak bozukluk görüyor musun?"  
(Mülk Suresi, 3. ayet)

B) "Gökten bir ölçüye göre suyu indiren O'dur. Biz onunla kupkuru ölü bir memlekete hayat verdik."  
(Zuhuf Suresi, 11. ayet)

C) "Geceyi ve gündüzü, güneşi ve ayı yaratan O'dur. Her biri bir yörengede hareket etmektedir."  
(Enbiya Suresi, 33. ayet)

D) "Ey insanlar! Rabbinize karşı gelmekten sakının. Ne babanın evladı, ne evladın babası için bir şey ödeyemeyeceği günden çekinin..."  
(Lokman Suresi, 33. ayet)

11. Aşağıdakilerden hangisi Kur'an'ın temel amaçlarından biri değildir?

- A) İnsanları doğru davranışa yönlendirmek
- B) Bilimsel konularda insanlara bilgi vermek
- C) Kişiyi batıl inanç ve hurafelerden uzak tutmak
- D) İnsanların dünya ve ahiret mutluluğunu sağlamak

12. Melekler için aşağıdakilerden hangisi söylenemez?

- A) Erkeklik ve dişilikleri yoktur.
- B) Son derece kuvvetli ve süratli varlıklardır.
- C) İnsanlar gibi irade sahibi varlıklardır.
- D) Allah'ın bildirdikleri dışında bir şey bilmezler.

13. Peygamberimize "Muhammedü'l-Emin" denilmesinin sebebi aşağıdakilerden hangisidir?

- A) Ticaret ile uğraşması
- B) Son peygamber olması
- C) Alçakgönüllü davranması
- D) Güvenilir bir insan olması

14. Aşağıdakilerden hangisi Hz. Muhammed (sav.)'in insani yönüyle ilgilidir?

- A) İbadetleri açıklaması
- B) Hastalandığında tedavi olması
- C) İnsanları uyarması
- D) Vahyi insanlara ulaştırması

15. Kur'an'ı Kerim'in kısa açıklamalarıyla bir dilden başka bir dile aktarılmasına ne denir?

- A) Tecvit
- B) Meal
- C) Hatim
- D) Mukabele

16. Peygamberimizin tebliğ metoduunda aşağıdakilerden hangisi yoktur?

- A) Zorlama
- B) Hoşgörü
- C) Müjdeleme
- D) Öğüt verme

17. Ayetlerin anlaşılması konusunda sahabeler zaman zaman görüş ayrılığına düşmüşlerdir. Böyle durumlarda peygamberimiz vahyin nasıl anlaşılması ve yaşanması gerektiğini Müslümanlara öğretmiştir.

**Bu metnin başlığı aşağıdakilerden hangisi olabilir?**

- A) Hz. Muhammed (sav.) Kur'an'ı Açıklayıcıdır
- B) Hz. Muhammed (sav.) Uyarıcıdır
- C) Hz. Muhammed (sav.) Bir İnsandır
- D) Hz. Muhammed (sav.) İnsanlığa Rahmettir

18. Aşağıda verilen namazlardan hangisi sünnettir?

- A) Cuma namazı
- B) Cenaze namazı
- C) Yatsı namazı
- D) Teravih namazı

19. Arafat Dağı'nda, Kurban Bayramı'nın Arefe günü, güneşin doğuşu ile batışı arasında bir süre bulunmaya ne denir?

- A) Vakfe
- B) Tavaf
- C) Şavt
- D) Sa'y

20. Ahirete iman eden bir insandan aşağıdakilerden hangisi beğlenmez?

- A) Kötülüklerden uzak durması
- B) İyi ve güzel davranışlar sergilemesi
- C) İbadetlerini yerine getirmesi
- D) Sürekli ölümü temenni etmesi

### (114) DİN KÜL. AHL. BİL. – 4

1. "Allah'a ve ahiret gününe inanan kimse, komşusuna eziyet etmesin." "Müslüman, elinden ve dilinden başka Müslümanların zarar görmediği kimsedir."

"Müslümanların kanları, malları, namusları ve şerefleri kendi aralarında kutsal Mekke kadar, hac ayları ve günleri kadar saygındır, dokunulmazdır."

**Verilen hadisler aşağıdakilerden hangisi ile en çok ilgilidir?**

- A) Kul hakkı
- B) Eğitim hakkı
- C) İnanç hakkı
- D) Mülkiyet hakkı

2. İslam'da ilk eğitim kurumu aşağıdakilerden hangisidir?

- A) Medrese
- B) Suffe
- C) Beytül Hikme
- D) Tekke

3. Aşağıdakilerden hangisi Diyanet İşleri Başkanlığı'nın kurulmasındaki amaçlardan biri değildir?

- A) Hurafelerin önüne geçmek
- B) Dinin doğru anlaşılmasını sağlamak
- C) Din hizmetlerinde birliği sağlamak
- D) Dinin devlet üzerindeki etkisini artırmak

4. Gökyüzünü izlemeye ve gezegenlerin yerini hesaplamaya yarayan "Usturlap" aletini icad eden Müslüman bilim adamı aşağıdakilerden hangisidir?

- A) Biruni
- B) Harezmi
- C) Battani
- D) İbrahim el-Fezari

## 2. OTURUM

5. • İlk Müslüman matematikçilerdendir.  
• Astronomi ve coğrafya alanlarında da çalışmalar yapmıştır.  
• Sıfırlı ondalık sistemini bulmuştur.  
• Cebir ve logoritmanın kurucusu sayılır.

**Bu bilgiler, aşağıdaki bilim adamlarından hangisine aittir?**

- A) Harezmi B) Piri Reis  
C) İbn Sina D) Biruni

6. "Kim bir mü'mini bile bile öldürürse onun cezası, içinde temelli kalacağı cehennemdir. Allah ona öfkelenmiş, onu lanetlemiş ve ona büyük bir azap hazırlamıştır."  
(Nisa Suresi, 93. ayet)

**Bu ayet aşağıdaki haklardan hangisi ile ilgilidir?**

- A) Eğitim hakkı  
B) İnanç hakkı  
C) Yaşama hakkı  
D) Ekonomik hakkı

7. Aşağıdakilerden hangisi kul hakkı ihlâli kapsamında değerlendirilmez?

- A) İstişare etmek  
B) Hırsızlık yapmak  
C) Gıybet etmek  
D) İftira atmak

8. Piri Reis aşağıda verilen alanlardan hangisinde bilime katkı sağlamıştır?

- A) Coğrafya B) Fizik  
C) Tefsir D) Tıp

9. Aşağıda verilen hadislerden hangisi İslam'ın eğitime verdiği önem ile ilgili değildir?

- A) "İlim ve hikmet Müslüman'ın yitiğidir. Nerede bulursa onu alır."  
B) "İlim öğrenmek kadın - erkek her Müslüman'a farzdır."  
C) "İlim için yola çıkan kimse, dönünceye kadar Allah yolundadır."  
D) "Kim Allah'a ve ahiret gününe iman ediyorsa, ya hayır konuşsun ya da sussun."

10. Din ve bilim hakkında aşağıdakilerden hangisi söylenemez?

- A) Din, bilimi teşvik eder.  
B) Din, ilahidir; bilim ise beşeridir.  
C) Din ve bilim çatışma halindedir.  
D) Din ve bilim, insanı özgürleştirir.

11. "İlim ve hikmet, Müslümanın yitiğidir. Nerede bulursa onu alır."

**Bu hadiste aşağıdaki hak ve özgürlüklerden hangisine işaret edilmiştir?**

- A) Düşünce özgürlüğü  
B) Eğitim hakkı  
C) İfade özgürlüğü  
D) İbadet hakkı

12. Taassup ile ilgili aşağıdakilerden hangisi yanlıştır?

- A) Bilinçli bireyler yetiştirir.  
B) Dinin özüyle uyuşmaz.  
C) Eğitimle ortadan kaldırılabılır.  
D) Dinin yozlaşmasına sebep olur.

13. Kul hakkının affı aşağıdakilerden hangisiyle olur?

- A) Tövbe etmekle  
B) Aynı günahı tekrar işlememekle  
C) Haksızlığa uğrayanın bağışlamasıyla  
D) İbadetleri düzenli yerine getirmekle

14. İslam dini aşağıdakilerden hangisini yasaklamamıştır?

- A) İftira atmak  
B) Söz taşımak  
C) Yalan söylemek  
D) Gıpta etmek

15. Aşağıdaki âlimlerden hangisinin çalışmaları diğerlerinden farklı bir alandadır?

- A) Biruni B) Buhari  
C) Uluğ Bey D) Ali Kuşçu

16. Aşağıdaki ayetlerden hangisi İslam'ın yaşama hakkına verdiği önemi ifade eder?

- A) "Dinde zorlama yoktur. Hakikat, iman ile küfür apaçık meydana çıkmıştır..."  
(Bakara suresi, 256. ayet)  
B) "Ey insanlar! Sizi ve sizden öncekileri yaratan Rabb'inize kulluk ediniz..."  
(Bakara suresi, 21. ayet)  
C) "Ey inananlar! Mallarınızı aranızda haksızlık yaparak değil, karşılıklı rıza ile yapılan ticaretle yiyin..."  
(Nisâ suresi, 29. ayet)  
D) "Kim bir kimsenin hayatını kurtarırsa, bütün insanları kurtarmış gibidir."  
(Mâide suresi, 32. ayet)

17. "De ki; O Kur'an, Rabb'inizden gelen bir haktır. Artık dileyen iman etsin, dileyen inkâr etsin..."  
(Kehf suresi, 29. ayet)

**Bu ayet aşağıdakilerden hangisiyle ilgilidir?**

- A) İbadet hakkı  
B) İnanç özgürlüğü  
C) Düşünce özgürlüğü  
D) İfade özgürlüğü

18. Kişinin hayatını devam ettirebilmesi için gereken maddi imkânları elde edebilme hakkıdır.

**Bu tanım aşağıdaki haklardan hangisine aittir?**

- A) Ekonomik haklar  
B) Yaşama hakkı  
C) İbadet hakkı  
D) Eğitim hakkı

19. Medreselerde ders okutmakla görevli hocalara ne ad verilir?

- A) Müftü B) Müfessir  
C) Müderris D) Mütfekkir

20. Din-bilim ilişkisi hakkında aşağıdakilerden hangisi söylenemez?

- A) Din, bilimi teşvik eder.  
B) Din ve bilim birbiriyle çatışmaz.  
C) Din sadece ahiretle, bilim ise dünya ile ilgilidir.  
D) Dinin kaynağı vahiy, bilimin kaynağı ise akıldır.

## 2. OTURUM

### (123) SEÇ. FELSEFE – 1

1. Aşağıdakilerden hangisi felsefenin doğrudan incelediği konulardan değildir?

- A) Varlık
- B) Sanat
- C) Bilgi
- D) Tarihsel süreçte toplumların gelişimi

2. Bilginin kaynağını, ilkelerini, yöntemini araştıran felsefe dalı aşağıdakilerden hangisidir?

- A) Ahlak felsefesi
- B) Bilgi felsefesi
- C) Varlık felsefesi
- D) Siyaset felsefesi

3. “Her felsefe disiplininin ele aldığı konu insanın bir özelliğine tekabül eder.”

**Buna göre aşağıdaki felsefe disiplinlerinden hangisinin karşılık geldiği insani özellik yanlış verilmiştir?**

Felsefe Disiplini    İnsani Özellik

- A) Din Felsefesi    Konuşmak
- B) Tarih Felsefesi    Hatırlamak
- C) Bilgi Felsefesi    Bilmek
- D) Sanat Felsefesi    Duygulanmak

4. Aşağıdakilerden hangisi felsefe ile bilimin ortak özelliklerinden değildir?

- A) Doğruya ulaşma amacıyla olmak
- B) Akıl ve mantık ilkelerine bağlı kalmak
- C) Deney yaparak kesin sonuçlara ulaşmak
- D) Hazır bilgilerle yetinmemek

5. Aşağıdakilerden hangisi bilgi kuramının temel kavramlarından?

- A) Temellendirme
- B) Özgürlük
- C) Erdem
- D) Güzel

6. Şüpheyi amaç edinen Pyrrhon'a göre bilginin kaynağı duyumlardır. Duyumlar ise öznel olduğundan kişiden kişiye farklılık gösterir. Öznel duyumlardan hareketle, nesnel bir gerçekliğin bilgisine varılamaz.

**Buna göre aşağıdakilerden hangisi Pyrrhon'un düşüncesi-ne uygundur?**

- A) Bilginin kaynağı sezgidir.
- B) Doğru bilgiye ulaşmak mümkün değildir.
- C) Akıl yoluyla doğru bilgiye ulaşılr.
- D) Kişiden kişiye değişmeyen bilgiye ulaşmak mümkündür.

7. Doğru bilginin ölçütlerine “empirizm” felsefi yaklaşımının verdiği cevap aşağıdakilerden hangisidir?

- A) Akla dayanan bilgi doğrudur.
- B) Sezgiye dayanan bilgi doğrudur.
- C) Fayda sağlayan bilgi doğrudur.
- D) Deneye dayanan bilgi doğrudur.

8. Aşağıdakilerden hangisi rasyonalist bir filozoftur?

- A) Farabi
- B) John Locke
- C) David Hume
- D) Auguste Comte

9. Kant, doğru bilgiye ulaşmada akıl ve deneyin bir arada bulunması gerektiğini, tek başına aklın veya deneyin yetersiz olduğunu ifade etmiştir.

**Buna göre Kant'ın savunduğu düşünce akımı aşağıdakilerden hangisidir?**

- A) Olguculuk    B) Eleştircilik
- C) Faydacılık    D) Deneycilik

10. Pozitivist düşünür Auguste Comte'a göre insanlar, pozitif evrede olayları aşağıdakilerden hangisine dayanarak açıklar?

- A) Gizil güçlere
- B) İlahi kaynaklara
- C) Deney ve gözlemlere
- D) Kutsal sayılan varlıklara

11. Bilim felsefesi, bilimi ve bilimsel bilgiyi konu edinerek felsefenin bilimi sorgulamasıdır.

**Buna göre aşağıdakilerden hangisi bilim felsefesinin sorularındandır?**

- A) İnsan kararlarında özgür müdür?
- B) Bilgimiz nasıl oluşuyor?
- C) Varlık var mıdır?
- D) Bilim nedir?

12. Batıda Ortaçağ boyunca bilimsel gelişmeler durma noktasına gelirken, İslam dünyasında bilim önemli gelişmeler kaydetmiştir. Bu gelişmelerin nedeni İslamiyetin doğuşu ve yayılışı sırasında Müslüman önderlerin bilimsel düşüncüyü teşvik etmeleridir. Bu dönemde matematik, tıp, astronomi, doğa bilimleri ve birçok alanda çalışmalar yapılmıştır.

**Buna göre Ortaçağda bilimsel gelişmeler için aşağıdakilerden hangisi söylenemez?**

- A) Bilimin sadece Batıda ilerlediği
- B) Birçok bilimsel alanda çalışmalar yapıldığı
- C) İslam dünyasında bilimin gelişme kaydettiği
- D) İslam dünyasında bilimsel düşüncelerin teşvik edildiği

13. Reichenbach'e göre bilimselliğin ölçütü doğrulanabilirliktir. Doğrulanabilen (olgulara dayanan) önermeler anlamlı, metafizik önermeler ise doğrulanabilme özelliğine sahip olmadığı için anlamsız, dolayısıyla bilim dışıdır.

**Aşağıdakilerden hangisi doğrulanabilen önermelere örnek oluşturur?**

- A) Ruh ölümsüzdür.
- B) Ölüm mutlu sonudur.
- C) Dışarıda yağmur yağıyor.
- D) Zaman sonsuzdur.



## 2. OTURUM

14. Olguların saptanmasından sonraki bilimsel yöntem aşamaları aşağıdakilerden hangisinde doğru sıralamayla verilmiştir?

- A) Kuram - Deney - Hipotez - Gözlem
- B) Deney - Kuram - Gözlem - Hipotez
- C) Hipotez - Kuram - Deney - Gözlem
- D) Gözlem - Hipotez - Deney - Kuram

15. Bilim birbirleriyle çelişen önermeleri kabul etmez. Önermeler kendi içerisinde tutarlı olmalıdır.

**Yukarıda bilimin hangi özelliği vurgulanmıştır?**

- A) Objektiflik
- B) Gözlenebilirlik
- C) Mantık kurallarına uygunluk
- D) Eleştirelilik

16. Bilimler doğaya egemen olmayı amaçlarken, teknoloji sayesinde de hayatı kolaylaştırır.

**Buna göre bilimin yaşantımızdaki işlevi aşağıdakilerden hangisidir?**

- A) Olgusal olması
- B) Yarar sağlaması
- C) Akıllı kullanması
- D) Hayata aktarılması

17. Varlığı bütün olarak ele alıp varlıkla ilgili problemleri inceleyen felsefe dalı "varlık felsefesi"dir.

**Aşağıdakilerden hangisi varlık felsefesinin varlığa dair sorulardan değildir?**

- A) Varlık var mıdır?
- B) Varlığın ana maddesi nedir?
- C) Doğru bilginin ölçütü nedir?
- D) Varlık madde ve düşünce midir?

18. Herakleitos'a göre evren sürekli değişim, akış ve oluş halindedir. Doğa gibi insan da, ruhu ve bedeni ile sürekli bir değişim içindedir. Buna rağmen sürekli değişen evrende değişmeyen tek şey değişimi gösteren yasadır.

**Bu açıklama aşağıdakilerden hangisiyle uygunluk gösterir?**

- A) Değişmeyen tek şey değişimdir.
- B) Hiçbir şey değişmez.
- C) Varlığı bilemeyiz.
- D) Varlık idealardır.

19. • Platon'a göre nesnelere dünyadaki masa, insan, çiçek gibi geldiğinde yok olurken, güzellik ideası kalıcı ve sürekli var olmaktadır. İdealar, dış dünyadaki varlıkların kendisinden pay aldıkları özlerdir.  
• Aristoteles'e göre gerçekten var olan şu masa, şu çiçek, şu insandır. İdea somut varlıkların dışında ayrı bir dünyada değildir.

**Buna göre Platon'un varlık görüşünü Aristoteles'in varlık görüşünden ayıran özellik aşağıdakilerden hangisidir?**

- A) Varlığı idea olarak kabul etmesi
- B) İdeayı somut varlıklarla sınırlandırması
- C) Tek gerçekliği somut varlıkların oluşturması
- D) İdeayı somut varlıkların dışında ayrı bir dünyada görmesi

20. Varlığın insan zihninden bağımsız olarak var olduğunu, maddi varlık dışında bir varlığın bulunmadığını, maddenin var olmak için düşünceye ihtiyacı olmadığını savunan felsefe akımı hangisidir?

- A) İdealizm
- B) Düalizm
- C) Nihilizm
- D) Materyalizm

### (124) SEÇ. FELSEFE - 2

1. Aşağıdakilerden hangisi ahlak felsefesinin temel kavramlarından değildir?

- A) Erdem
- B) Sorumluluk
- C) İktidar
- D) Özgürlük

2. • İyi, insanın seçimiyle değer verilir.  
• Özgürlük, bireyin bir baskı ve zorlama olmadan kendi seçimlerine göre isteklerini gerçekleştirmesidir.

**Bu bilgilere göre özgürlük ve iyinin ortak yönü aşağıdakilerden hangisidir?**

- A) İnsan iradesine dayanması
- B) İnsanın sadece iyiye yönelmesi
- C) İnsana fayda sağlaması
- D) İnsanın ölçülü hareket etmesi

3. Aşağıdaki yaklaşımlardan hangisi evrensel ahlak yasasının varlığını kabul eder?

- A) Haz Ahlakı
- B) Sezgicilik
- C) Fayda ahlakı
- D) Anarşizm

4. Aristoteles'e göre cesaret denilen erdem, bilgiye dayanmayan gözünü budaktan sakınmama ile korkaklık arasında bir özelliktir.

**Buna göre Aristoteles için aşağıdakilerden hangisi erdemdir?**

- A) Davranışlardan haz almak
- B) Kendi çıkarını düşünmek
- C) Kural tanımamak
- D) İki aşırı uç arasında orta yolu bulmak

5. Sartre'a göre insan, kendinden önce gelen ve onu belirleyen bir öze sahip değildir. İnsan önce var olmuş sonra kendi özünü oluşturmuştur.

**Buna göre Sartre'ın düşüncesi aşağıdaki yargılardan hangisini desteklemez?**

- A) İnsanın kendi tercihleri vardır.
- B) İnsan, yaşamını kendi belirler.
- C) İnsan özgür bir varlıktır.
- D) İnsanın özü önceden belirlenmiştir.

## 2. OTURUM

6. Ahlak anlayışını varlık felsefesine dayandırarak, evren ve Tanrı'yı bir gören, insanın bilgi sayesinde olumsuz duygulardan kurtulacağını söyleyen panteist filozof aşağıdakilerden hangisidir?

- A) Spinoza B) Kant  
C) Platon D) Sokrates

7. Tasavvuf düşüncesinde Tanrı'ya ulaşabilme yolu aşağıdakilerden hangisidir?

- A) Deney  
B) Akıl  
C) Sezgi ve aşk  
D) Çıkar duygusu

8. Aşağıdakilerden hangisi siyaset felsefesinin temel kavramlarından?

- A) Doğruluk B) Yönetim  
C) Erdem D) Bilgi

9. İnsanı her şeyin ölçüsü olarak kabul eden sofistlerin ideal düzenle ilgili temel düşüncesi aşağıdakilerden hangisidir?

- A) İdeal düzen yoktur.  
B) İdeal düzen eşitliğe dayanmalıdır.  
C) İdeal düzen adalete dayanmalıdır.  
D) İdeal düzen özgürlüğe dayanmalıdır.

10. İnsanda duygu, cesaret ve akıl olmak üzere üç yeti vardır. Bu üç yeti devlette üretici sınıf, asker sınıfı ve yönetici sınıfa karşılık gelir. İdeal devlet filozofların krallığında gerçekleşecektir.

**Bu düşünce aşağıdaki filozoflardan hangisine aittir?**

- A) Sokrates B) Platon  
C) Aristoteles D) Protagoras

11. Aşağıdaki ütopya ve ütopya yazan düşünür eşleştirmelerinden hangisi doğrudur?

- A) Platon - Yeni Dünya  
B) Georg Orwel - Ütopya  
C) Farabi - Erdemli Toplum  
D) Thomas More - 1984

12. Aşağıdakilerden hangisi sivil toplumu oluşturan öğelerden değildir?

- A) Çoğulculuk  
B) Hoşgörü  
C) Demokrasi  
D) Siyasi otoritenin etkisinde olma

13. Aşağıdakilerden hangisi ideal düzeni belirleyen ölçütlerden biri değildir?

- A) Eşitlik B) Özgürlük  
C) Korku D) Adalet

14. XI. yüzyılda yaşamış, birey, devlet ve yaşamı konu alan "Kutadgu Bilig" adlı eseriyle ün kazanmış ünlü Türk düşünürü hangisidir?

- A) Yusuf Has Hacip  
B) Hacı Bektaş Veli  
C) Yunus Emre  
D) Farabi

15. Güzelliği sorgulayan felsefe dalı aşağıdakilerden hangisidir?

- A) Epistemoloji  
B) Estetik  
C) Ontoloji  
D) Etik

16. Croce'ye göre doğada mükemmellik yoktur. Sanatçı, mükemmel olanı kendi yeteneğiyle oluşturur.

**Croce'nin bu görüşü sanatın oluşumu konusunda aşağıdaki yargılardan hangisine uygundur?**

- A) Sanat taklittir.  
B) Sanat bir oyundur.  
C) Sanat bir yaratmadır.  
D) Sanat taklidin taklidir.

17. I. Estetik yargılar bireyseldir.  
II. Estetik yargılar kültürden etkilenir.  
III. Estetik yargılar objektiftir.

**Verilenlerden hangileri estetik yargıların özelliklerindedir?**

- A) Yalnız I B) I ve II  
C) II ve III D) I, II ve III

18. Din felsefesi, dinle ilgili konu ve soruları akla dayanarak açıklamaya çalışır.

**Buna göre aşağıdakilerden hangisi din felsefesinin sorularından değildir?**

- A) Tanrı var mıdır?  
B) Ölüm bir son mudur?  
C) Evren yaratılmış mıdır?  
D) Bilginin kaynağı nedir?

19. Tanrı'nın evrenden ayrı bir varlığı yoktur ve Tanrı evrenin kendisidir. Evrende var olan her şey Tanrı'yı oluşturur. İnsan da Tanrı'nın bir parçasıdır.

**Parçada sözü edilen görüş aşağıdakilerden hangisidir?**

- A) Teizm B) Ateizm  
C) Deizm D) Panteizm

20. Teoloji, bir dini esas olarak onu temellendirmeye ve savunmaya çalışır. Din felsefesi ise dini genel olarak nesnel bir yaklaşımla ele alır.

**Buna göre teolojinin din felsefesinden farkı aşağıdakilerden hangisidir?**

- A) İnandığı dinin akılsal savununu yapması  
B) Bütün dinlere tarafsız yaklaşması  
C) Dinlere eleştirel yaklaşması  
D) İncanın temellerini sorgulaması

## 2. OTURUM

### (151) COĞRAFYA – 1

1. • Toprak  
• Ana kaya  
• Sıradağlar

**Yukarıda verilenler hangi doğal ortamda yer almaktadır?**

- A) Litosfer B) Atmosfer  
C) Hidrosfer D) Biyosfer

2. Harita çizimlerinde Dünya'nın şeklinden kaynaklanan bozulmaları azaltmak için kullanılan yöntemlere ne ad verilir?

- A) Tarama yöntemi  
B) Modelleme yöntemi  
C) Projeksiyon yöntemi  
D) Gölgeleme yöntemi

3. A ve B merkezleri arasında 76 dakika yerel saat farkı bulunmaktadır.

**Bu bilgiden hareketle, bu iki merkez ile ilgili aşağıdakilerden hangisine ulaşılabılır?**

- A) Aralarındaki sıcaklık farkına  
B) Aralarındaki paralel farkına  
C) Aralarındaki yükselti farkına  
D) Aralarındaki meridyen farkına



**Haritada verilen şehirlerden hangi ikisi arasında yerel saat farkı en azdır?**

- A) İzmir – Yozgat  
B) İzmir – Mardin  
C) İzmir – Iğdır  
D) Zonguldak – Mardin

5. Aşağıdakilerden hangisi Dünya'nın yıllık hareketinin sonuçlarındandır?

- A) Mevsimlerin oluşması  
B) Ekvator'da sıcaklığın kutuplardan fazla olması  
C) Günlük sıcaklık farklarının oluşması  
D) Gün içinde gölge yönünün değişmesi

6. Ekvator'dan kutuplara doğru gidildikçe genel olarak aşağıdakilerden hangisinde azalma olur?

- A) Sıcaklık ortalamalarında  
B) Denizlerin tuzluluk oranında  
C) Meridyenler arasındaki mesafede  
D) Gece ve gündüz sürelerinin yıl içerisindeki değişiminde

7. Aşağıdaki ifadelerden hangisinde bir yerin iklimi ile ilgili bilgi verilmiştir?

- A) Yazlar sıcak ve kurak geçer.  
B) Hafta boyunca yağışlı hava hakimdir.  
C) Gece sıcaklıkları düşük değerlerde seyrediyor.  
D) Yoğun sis, kara ve deniz ulaşımını etkiliyor.

8. Dünya'nın güneşe olan uzaklığının yıl içinde değişmesi aşağıdakilerden hangisi ile ilgilidir?

- A) Dünya'nın şekliyle  
B) Dünya'nın eksen eğikliğiyle  
C) Dünya'nın günlük hareketiyle  
D) Dünya'nın yörünge şekliyle

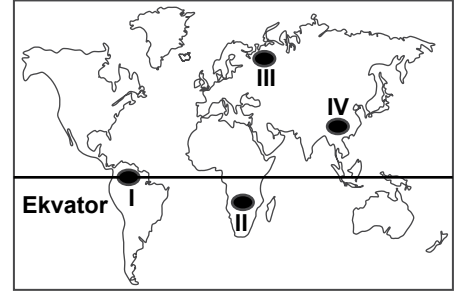
9. Aşağıdaki gazlardan hangisinin atmosferdeki oranı daha fazladır?

- A) Oksijen B) Azot  
C) Su buharı D) Karbondioksit

10. Aşağıdakilerden hangisi atmosferin etkilerinden biri değildir?

- A) Dünya'nın yörünge hızının değişmesini sağlar.  
B) Canlıların yaşamasına olanak sağlar.  
C) Yeryüzünde sıcaklığın dengeli dağılmasını sağlar.  
D) Güneşten gelen zararlı ışınları filtreler.

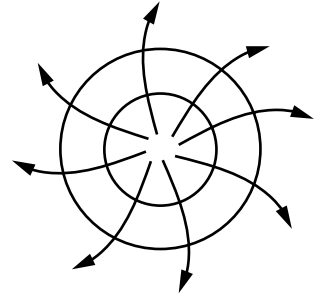
11. İnsanların giysi seçimi yaşadıkları yerin özelliklerine göre farklılık gösterir.



**Buna göre haritada numaralandırılarak verilen yerlerden hangisinde yıl boyunca kalın giysiler daha çok kullanılır?**

- A) I B) II C) III D) IV

12. Aşağıdaki görselde bir yerin hava hareketi gösterilmiştir.



**Bu yer için aşağıdakilerden hangisi söylenebilir?**

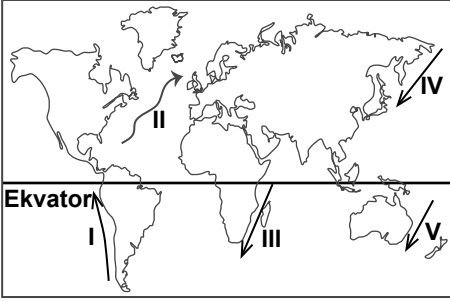
- A) Alçak basınç merkezidir.  
B) Güney Yarım Küre'de yer alır.  
C) Basınç değerleri çevresine oranla daha azdır.  
D) Hava hareketi merkezden çevreye doğrudur.

## 2. OTURUM

13. Ülkemizdeki dağların güney yamaçlarının kuzey yamaçlarına göre genellikle daha sıcak olması aşağıdakilerden hangisinin sonucudur?

- A) Nem B) Bakı  
C) Yükselti D) Dünya'nın şekli

14. Okyanus akıntıları geldikleri yerin sıcaklık özelliklerini gittikleri yere taşır.



Buna göre haritada numaralandırılarak verilen akıntılardan hangileri sıcaklığı düşürür?

- A) I ve II B) I ve IV  
C) II ve III D) III ve V

15. Aşağıdakilerden hangisi atmosfer basıncını etkileyen faktörler arasında yer almaz?

- A) Yükselti B) Yoğunluk  
C) Yer çekimi D) Bitki örtüsü

16. Aşağıdakilerden hangisi sürekli rüzgarlardandır?

- A) Alize rüzgarları  
B) Föhn rüzgarları  
C) Meltem rüzgarları  
D) Muson rüzgarları

17. - Ülkemizin güney ve batı kıyılarında etkilidir.  
- Kışlar ılık ve yağışlıdır.

Yukarıda bazı özellikleri verilen iklim aşağıdakilerden hangisidir?

- A) Savan iklimi  
B) Karasal iklim  
C) Akdeniz iklimi  
D) Karadeniz iklimi

18. Kıta ve levhaların hareket etmesinin nedeni aşağıdakilerden hangisidir?

- A) Akarsuların aşındırması  
B) Dünya'nın günlük hareketi  
C) Dünya'nın yıllık hareketi  
D) Mantodaki konveksiyonel akıntılar

19. Aşağıdakilerden hangisi iç kuvvetlerden değildir?

- A) Volkanizma B) Depremler  
C) Buzullar D) Orojenez

20. Sarkıt, dikit ve sütun gibi yer şekillerinin yaygın olarak bulunduğu bir bölge ile ilgili aşağıdakilerden hangisi kesinlik ifade eder?

- A) Bitki örtüsü cılızdır.  
B) Karstik kayalar yaygındır.  
C) Her mevsim yağışlıdır.  
D) Yer şekilleri engebesizdir.

### (152) COĞRAFYA – 2

1. Aşağıda beşeri coğrafyanın alt dalları ve ilgilendikleri konu eşleştirmelerinden hangisi yanlış verilmiştir?

- A) Nüfus coğrafyası – Göçler  
B) Siyasi coğrafya – Volkanizma  
C) Yerleşme coğrafyası – Konut tipleri  
D) Tarım coğrafyası – Ormancılık

2. I. Nüfus miktarının fazla olması  
II. Kurulduğu arazinin yer şekli özellikleri  
III. Çalışanların çoğunun tarım dışı sektörlerde faaliyet göstermesi

Yukarıdakilerden hangileri şehir yerleşmelerini kır yerleşmelerinden ayıran özelliklerdendir?

- A) Yalnız I B) Yalnız II  
C) I ve III D) II ve III

3. Aşağıdakilerden hangisi yeryüzünde yerleşmeyi sınırlandıran faktörlerden değildir?

- A) Denizler B) Buzullar  
C) Çöller D) Ovalar

4. I. Arazinin engebesiz olması  
II. Su kaynaklarının az olması  
III. Yerleşimin şehir merkezlerine uzak olması

Yukarıdakilerden hangileri yerleşmelerin toplu olmasında etkili olmuştur?

- A) Yalnız I B) Yalnız II  
C) I ve II D) II ve III

5. Anadolu'da aşağıdaki devletlerden hangisine ait eserlerin bulunma olasılığı daha azdır?

- A) Selçuklu B) Memluk  
C) Osmanlı D) Bizans

6. Büyük tehlikeler oluşmasına rağmen nüfusun volkanik arazilerde yoğunlaşması bu arazilerin aşağıdaki özelliklerinden hangisinin sonucudur?

- A) Verimli olması  
B) Engebeli olması  
C) Genç oluşumlu olması  
D) Yükseltinin fazla olması

7. Aşağıdakilerden hangisi ülkemizdeki kıyı ovalarındandır?

- A) Erbaa Ovası  
B) Iğdır Ovası  
C) Konya Ovası  
D) Antalya Ovası

8. Ankara 1825 yılında nüfus bakımından 36. sırada yer alırken günümüzde 2. sırada yer almaktadır.

Bu durum üzerinde Ankara'nın aşağıdaki özelliklerinden hangisi daha fazla etkili olmuştur?

- A) İdari merkez olması  
B) Tarımsal üretiminin artması  
C) Ticaret potansiyelinin artması  
D) Ulaşım hatları üzerinde bulunması

## 2. OTURUM

9. - Ege Denizi oluşmuştur.  
- İstanbul ve Çanakkale boğazları oluşmuştur.  
- Ülkemiz günümüzdeki son şeklini almıştır.

**Yukarıda verilen oluşumların yaşandığı jeolojik devir aşağıdakilerden hangisinde verilmiştir?**

- A) Kuaterner B) Mezozoik  
C) Paleozoik D) Tersiyer

10. **Aşağıdakilerden hangisi akarsuların oluşturduğu yer şekillerinden değildir?**

- A) Menderes B) Mantar kaya  
C) Dev kazanı D) Kırgıbayır

11.



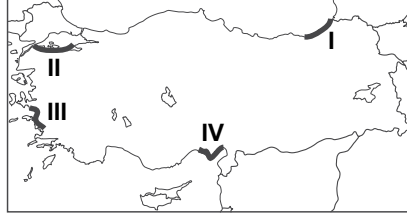
**Yukarıda verilen yer şekillerinin görüldüğü bir bölge ile ilgili aşağıdakilerden hangisi kesinlikle söylenebilir?**

- A) Bitki örtüsü gürdür.  
B) Yağış rejimi düzenlidir.  
C) Volkanik kayalar bulunur.  
D) Tarım potansiyeli yüksektir.

12. **Pamukkale travertenleri oluşum bakımından aşağıdakilerden hangisine örnek oluşturur?**

- A) Dalga aşındırma şekillerine  
B) Karstik biriktirme şekillerine  
C) Akarsu aşındırma şekillerine  
D) Rüzgar biriktirme şekillerine

13. **Dağların kıyıya paralel uzandığı yerlerde, falez oluşumu daha fazladır.**



**Buna göre, haritada taralı alanlardan hangisinde falezler daha yaygındır?**

- A) I B) II C) III D) IV

14. I. Mağaralar, sarkıt ve dikitler  
II. Cennet ve Cehennem obrukları  
III. Ürgüp-Göreme peribacaları

**Yukarıdaki turizm zenginliklerinden hangilerinin oluşumunda karstik arazinin varlığı birinci dereceden etkili olmuştur?**

- A) Yalnız I B) Yalnız II  
C) I ve II D) II ve III

15. **Ülkemizde aşağıdaki iklim tiplerinden hangisi görülmez?**

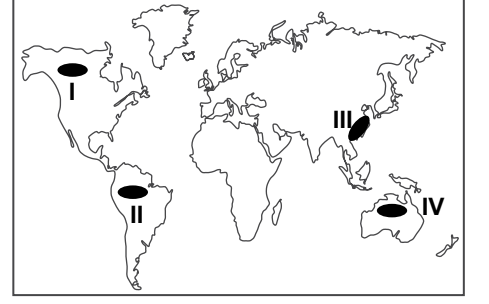
- A) Akdeniz iklimi  
B) Karadeniz iklimi  
C) Karasal iklim  
D) Muson iklimi

16. - Ülkemizin en yağışlı iklimidir.  
- Yazlar serin, kışlar ılık geçer.  
- Bitki örtüsü gür ormanlardır.

**Yukarıda bazı özellikleri verilen iklim tipi aşağıdakilerden hangisinde verilmiştir?**

- A) Karadeniz iklimi  
B) Akdeniz iklimi  
C) Karasal iklim  
D) Savan iklimi

17.



**Haritada numaralandırılarak verilen yerlerden hangisi Dünya'nın yoğun nüfuslu yerlerindedir?**

- A) I B) II C) III D) IV

18. Nemlilik, aşırı soğuma ve ısınmayı engellediği için nemli bölgelerde kış sıcaklık ortalamaları kurak bölgelerden daha yüksektir.

**Buna göre aşağıdaki illerden hangisinin kış sıcaklık ortalamalarının daha yüksek olması beklenir?**

- A) Ankara B) Antalya  
C) Kırşehir D) Batman

19. **Dünya üzerinde aşağıdaki kriterlere göre yapılan bölge sınıflandırmalarından hangisinde İngiltere ve Japonya aynı tür bölge sınırları içinde yer alır?**

- A) İklim tipi  
B) Konuşulan dil  
C) Kültür özellikleri  
D) Gelişmişlik düzeyi

20. **Aşağıdakilerden hangisi sanayi faaliyetlerinin doğal çevreye olumsuz etkilerini azaltmak için yapılacak çalışmalar arasında yer almaz?**

- A) Atık arıtma tesisleri kurmak  
B) Atıkların geri dönüşümüne önem vermek  
C) Enerji verimliliğini artırıcı tedbirler almak  
D) Doğal kaynakların kullanımını artırmak

1 - 20. sorularda boş bırakılan yere uygun gelen kelime veya ifadeyi işaretleyiniz.

1.



The cat is sleeping - - - - the door.

- A) in front of    B) between  
C) under        D) on

2. I don't like vegetables very much and I - - - - eat tomatoes and potatoes.

- A) always        B) usually  
C) often         D) never

3. - - - - Black Sea is the home of many creatures.

- A) -                B) An  
C) A                D) The

4. The classroom is getting colder. - - - -, please!

- A) Write the exercises  
B) Don't use your pen  
C) Close the window  
D) Don't be late

5. Two of my students - - - - ill yesterday so they couldn't come to school.

- A) were            B) will  
C) was            D) are

6. I believe the boy - - - - more successful in the next exam.

- A) was            B) to be  
C) will be        D) is being

## 2. OTURUM

7. Most people - - - - televisions at their homes until 1970s in Turkey.

- A) don't have  
B) didn't have  
C) won't have  
D) hasn't have

8. I - - - - to İstanbul for an important meeting at 10 o'clock tomorrow.

- A) am going to fly  
B) has flown  
C) flies  
D) flew

9. Ali's grandparents - - - - us yesterday and we drank something.

- A) became        B) bought  
C) visited        D) wore

10. Deniz and Bora - - - - always - - - - to music loudly when I go to bed at nights.

- A) will / listen  
B) are / listening  
C) have / listened  
D) were / listening

11. Suna is a hardworking student. She - - - - does her homework regularly.

- A) never            B) seldom  
C) sometimes    D) always

12. Hakan and Selim are playing in the school garden - - - - .

- A) at the moment  
B) next week  
C) yesterday  
D) every day

13. I will be in Italy - - - - .

- A) two days ago  
B) next month  
C) every day  
D) right now

14. My father went to the supermarket to buy - - - - sugar and milk.

- A) any            B) many  
C) some         D) a few

15. A: How - - - - milk do you need?  
B: I need a glass of milk.

- A) many            B) much  
C) any              D) some

16. A: - - - - do you live?  
B: I live in İzmir.

- A) What            B) When  
C) Where          D) Why

17. A: - - - - do you visit your relatives?  
B: Once a month.

- A) How often      B) Where  
C) Whose          D) How much

18. A: Where - - - - you last week?  
B: I - - - - in Bursa.

- A) were / were  
B) was / were  
C) were / was  
D) was / was

19. A: What is your sister doing?  
B: - - - - .

- A) She likes swimming  
B) She will read a book  
C) She is going to sleep  
D) She is walking outside

20. A: - - - - ?

B: I'm sorry. It's broken.

- A) May I borrow your umbrella  
B) Would you like an apple  
C) What does he look like  
D) Can you ride a horse

(181) ALMANCA – 1

1-20. sorularda boş bırakılan yere uygun gelen ek, kelime veya ifadeyi işaretleyiniz.

1. Das sind - - - - neuen Freunde. Sie - - - - Deutsche.

- A) unser / ist    B) unsere / sind  
C) uns / sind    D) unsere / ist

2. - - - - , 17, 18

- A) sechzehn    B) fünfzehn  
C) vierzehn    D) sechzig

3. Hallo, ich - - - - Peter. Wie - - - - du?

- A) heißt / heiße  
B) heißen / heißt  
C) heiße / heißt  
D) heißen / heißen

4. Mai, - - - - , Juli

- A) Juni    B) August  
C) September    D) April

5. Lehrer : Ali, wo ist - - - - Tasche?  
Ali : - - - - Tasche ist unter dem Tisch.

- A) mein / Meine  
B) dein / Deine  
C) mir / Dir  
D) deine / Meine

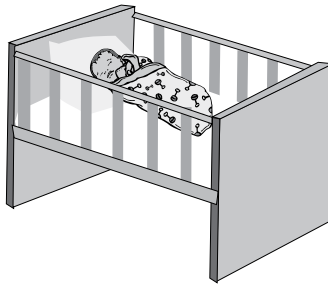
6. Thomas: - - - - machst du nach der Schule?

Atakan : Ich - - - - in die Bibliothek.

- A) Wer / geht  
B) Was / gehe  
C) Warum / komme  
D) Wie / komme

## 2. OTURUM

7.




Wo ist das Baby?  
Es ist - - - - Bett.

- A) über    B) vor  
C) im    D) neben

8. Wir essen jeden Abend - - - - 18:00 Uhr.

- A) am    B) um  
C) im    D) bei

9.



A: Ist das - - - - Hund?  
B: Nein, das ist - - - -Katze.

- A) eine / ein    B) ein / einen  
C) einen / eine    D) ein / eine

10. Der Lehrer sagt, - - - - Hasan mehr lernen soll.

- A) damit    B) um  
C) dass    D) weil

11. Im Supermarkt kann ich - - - - kaufen.

- A) Gemüse    B) Haus  
C) Auto    D) Hund

12. Ich brauche ein- - - - - neu- - - - - Brille.

- A) -en / -    B) - / -es  
C) -en / -en    D) -e / -e

13. Ali kann so schnell - - - - ich laufen.

- A) sein    B) ist  
C) wie    D) als

14. A: - - - - kommt sie?  
B: Aus Italien.

- A) Wie    B) Wann  
C) Was    D) Woher

15. A: Hasan, kannst du bitte das Fenster - - - - ?

B: Ja, natürlich.

- A) schreibe    B) aufstehen  
C) setzen    D) öffnen


16. - - - - 25. Januar haben wir Ferien.

- A) Am    B) Im    C) Um    D) Bei

17. Ein Jahr hat zwölf - - - - .

- A) Tage    B) Wochen  
C) Monate    D) Jahre

18.



A: Wo ist meine Tasche?  
B: Sie ist - - - - dem Tisch.

- A) auf    B) neben  
C) über    D) unter

19. Ich habe viel- - - - - Bücher gelesen.

- A) -e    B) -er    C) -es    D) -en

20. A: - - - - du Klavier spielen?  
B: Nein, leider nicht.

- A) Kann    B) Kannst  
C) Können    D) Konnte

1 - 16. sorularda boş bırakılan yere uygun gelen kelime veya ifadeyi işaretleyiniz.

1. - - - - aimons les chansons françaises.
- A) Elles B) Vous  
C) Ils D) Nous
2. Hier matin, - - - - as marché cinq kilomètres.
- A) tu B) elles  
C) il D) je
3. Metin et Emel - - - - en Espagne par avion avec la compagnie Turkish Airlines.
- A) sommes arrivés  
B) sont arrivés  
C) sont arrivées  
D) êtes arrivés
4. La semaine dernière, nous - - - - vendu notre vieille voiture.
- A) sommes B) ont  
C) avons D) sont
5. M. Gilbert - - - - sorti de l'hôtel à 7 heures.
- A) êtes B) est  
C) ont D) sont
6. Eren et sa famille ont passé - - - - à Rize.
- A) la rue  
B) le visage  
C) le week-end  
D) les yeux
7. Nous avons visité - - - - les musées d'Amsterdam.
- A) aucun B) chaque  
C) personne D) tous

## 2. OTURUM

8. Mon cousin est né - - - - jour que moi.
- A) le même B) les mêmes  
C) certaine D) les autres
9. A: Beyza est célibataire?  
B: Non, - - - - depuis deux mois.
- A) il est beau  
B) il est divorcé  
C) elle est mariée  
D) elle est jeune
10. Si je savais ton adresse, je t' - - - - une carte postale.
- A) ont envoyé B) ai envoyé  
C) envoyais D) enverrais
11. Si tu veux, nous - - - - ensemble avant d'aller au concert.
- A) mangerons  
B) avions mangé  
C) mangerions  
D) aviez mangé
12. A: Vous écoutez les informations à la radio?  
B: Non, je - - - - les informations à la radio.
- A) n'écoutent pas  
B) n'écoute pas  
C) ne pas écouter  
D) écouter
13. A: Tu as déjà vu le Mont Nemrut?  
B: Non, je ne - - - - ai pas vu.
- A) le (l') B) lui  
C) la (l') D) leur
14. A: Tu aimes la danse africaine?  
B: Oui, je - - - - aime bien.
- A) les B) le (l')  
C) la (l') D) des

15. A: Est-ce qu'il y a de l'eau fraîche dans le frigo?  
B: Non, il n'y a pas - - - - eau fraîche dans le frigo.
- A) des B) de la  
C) du D) de (d')
16. Un peigne sert à - - - - .
- A) lire  
B) se coiffer  
C) dormir  
D) se brosser les dents
17. Cümleler sırasıyla okunduğunda anlam bütünlüğünü bozan cümleyi bulunuz.
- (I) Elle est souriante. (II) Elle continue tout droit. (III) Elle a les yeux bleus. (IV) Elle porte des lunettes.
- A) III B) IV C) II D) I

18-19 ve 20. sorularda verilen resme göre doğru ifadenin bulunduğu seçeneği işaretleyiniz.

18.



- A) Il a une moustache et il porte un foulard.  
B) Il a de la barbe et il porte une montre.  
C) Il a un chapeau et il porte des lunettes.  
D) Il a les cheveux frisés et il porte un blouson.

19.



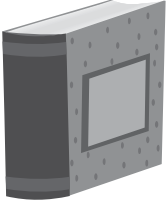
Il est très - - - - .

- A) paresseuse B) souriante  
C) gentille D) musclé



## 2. OTURUM

20.



Le livre est - - - - .

- A) pointu      B) rond  
C) épais      D) carrée

### (182) İNGİLİZCE – 2

1 - 20. sorularda boş bırakılan yere uygun gelen kelime veya ifadeyi işaretleyiniz.

1. I haven't seen her - - - - many years.

- A) since      B) for  
C) ever      D) never

2. You should do your homework - - - - .

- A) themselves      B) himself  
C) yourself      D) myself

3. Tomorrow is my day off, so I - - - - work.

- A) don't have to  
B) shouldn't  
C) couldn't  
D) mustn't

4. I - - - - be at home than work here.

- A) prefer  
B) shouldn't  
C) would rather  
D) don't have to

5. My sister is - - - - than me. She weighs 50 kilos and I weigh 60.

- A) taller      B) bigger  
C) heavier      D) thinner

6. Drive - - - - . It is raining outside heavily.

- A) suddenly      B) urgently  
C) carefully      D) loudly

7. I couldn't sleep - - - - last night. It was too hot.

- A) good      B) well  
C) badly      D) slowly

8. - - - - I saw Michael in a shopping mall, he was talking to a man.

- A) When      B) While  
C) Where      D) Why

9. If I - - - - talented enough, I would be an actor.

- A) will be      B) am  
C) were      D) are

10. Mary is 20 years old now. She - - - - never - - - - since she was born.

- A) was / speaking  
B) have / spoken  
C) is / speaking  
D) has / spoken

11. Before dinner, my wife and I - - - - something for dinner from the supermarket.

- A) bought      B) run  
C) started      D) saw

12. I think that long blue T-shirt - - - - you better.

- A) should buy      B) could try  
C) will suit      D) went with

13. What - - - - you - - - - before you went to the hospital?

- A) did / do  
B) do / have  
C) are / studying  
D) will be / tasting

14. Ayşe - - - - in the school volleyball team while she - - - - to primary school.

- A) heard / has gone  
B) having / is having  
C) were / are going  
D) was / was going

15. Emily: May I use your dictionary?

Emily asked me if she - - - - use my dictionary.

- A) might      B) may  
C) can      D) will

16. Ali asked Barış if he wanted to watch a film with him.

Ali to Barış: - - - - ?

- A) Where do you want to watch a film  
B) Why did you stay at home alone  
C) Do you want to watch a film with me  
D) Did you want to watch a film with Barış

17. I would help poor people if - - - - .

- A) she loses the match  
B) they worked very well  
C) you could see a doctor  
D) I had much more money

18. My family members aren't with me now. I wish - - - - .

- A) they were with me  
B) they will be here  
C) they like being here  
D) they aren't there now

19. Sue has never tasted Chinese food, - - - - ?

- A) does she      B) has she  
C) doesn't she      D) hasn't she

20. A: Would you - - - - to drink coffee or milkshake?

B: Of course, coffee.

- A) rather      B) prefer  
C) know      D) call

(182) ALMANCA – 2

1 - 13. sorularda boş bırakılan yere uygun gelen ek, kelime veya ifadeyi işaretleyiniz.

1. - - - - sie mir gesagt, dass sie kein Geld hat, - - - - ich ihr Geld geben.

- A) Hätte / würde  
B) Werden / haben  
C) Haben / werden  
D) Würde / hätte

2. Das Wetter ist heute - - - - warm - - - - gestern.

- A) so / so B) so / wie  
C) wie / wie D) wie / so

3. Das Mädchen spielt mit - - - - Katze.

- A) der B) die C) das D) dem

4. Wir sitzen - - - - 2 Stunden im Bus.

- A) seit B) bis C) um D) denn

5. Ich esse nicht viel Schokolade, - - - - ich nicht dick werde.


- A) weil B) als  
C) damit D) womit

6. A: - - - - hast du heute Mittag gegessen?

B: Ich habe Nudeln gegessen.

- A) Wie B) Wer  
C) Was D) Warum

7.



A: Wo ist die Katze?

B: Sie ist - - - - Bett.

- A) auf dem B) unter dem  
C) in der D) neben der

2. OTURUM

8. Thomas und Susanne geh- - - - - zusammen in die Schule, aber Ali geh- - - - - alleine.

- A) -st / -en B) -t / -t  
C) -en / -t D) -t / -en

9. Das ist die Frau, - - - - ich gestern im Fernsehen gesehen habe.

- A) der B) die  
C) das D) den

10. Hakan geht - - - - Post. (die Post)

- A) im B) zu C) zur D) in

11. Wir können Döner - - - - Pizza essen.

- A) aber B) weil  
C) denn D) oder

12. Wenn ich Zeit - - - -, - - - - ich mit dir in den Urlaub fahren.

- A) hätte / würde  
B) habe / sein  
C) würde / hätte  
D) werde / habe

13. Ich lese viel, - - - - gute Noten zu bekommen.

- A) um B) im C) am D) weil

14. "lesen" fiilinin 3. tekil şahsa göre çekimi aşağıdakilerden hangisidir?

- A) lese B) lest  
C) lesen D) liest

15. Aşağıdakilerden hangisi bir grup oluşturulduğunda diğerlerinden farklıdır?

- A) Vogel B) Hund  
C) Katze D) Fahrrad

16. Aşağıdakilerden hangisi bir grup oluşturulduğunda diğerlerinden farklıdır?

- A) Birne B) Kaffee  
C) Apfel D) Orange

17. "fahren" fiilinin "Perfekt" hali aşağıdakilerden hangisidir?

- A) fährt B) fuhr  
C) fährst D) gefahren

18. Kurallı bir cümle oluşturunuz.

Türkei - aus - Ayla - kommt  
1 2 3 4  
- der  
5

- A) 1 / 2 / 3 / 4 / 5  
B) 3 / 5 / 1 / 2 / 4  
C) 3 / 4 / 2 / 5 / 1  
D) 5 / 1 / 3 / 2 / 4

19. Aşağıdakilerden hangisi sıfatır? (Adjektiv)

- A) singen B) teuer  
C) schwimmen D) kaufen

20. "gehen" fiilini 2. tekil şahsa göre çekimi aşağıdakilerden hangisidir?

- A) gehen B) gehe  
C) geht D) gehst

(182) FRANSIYZCA – 2

1 - 17. sorularda boş bırakılan yere uygun gelen kelime veya ifadeyi işaretleyiniz.

1. - - - - allez souvent au théâtre à Paris?

- A) Vous B) Nous  
C) Elle D) Elles

2. Il a acheté un cadeau pour Alice, - - - - il ne l'a pas donné.

- A) en B) mais  
C) aux D) où

## 2. OTURUM

3. - - - - je fais du sport, je me sens en pleine forme.  
A) Ce que B) Comment  
C) Combien D) Comme
4. C'est ce roman - - - - je veux offrir à Gizem.  
A) ce que B) donc  
C) que D) qui
5. Voulez-vous du café - - - - du thé?  
A) mais B) donc  
C) ou D) car
6. Invite tes amis - - - - je connais.  
A) que B) ce que  
C) où D) qui
7. Mon frère travaille - - - - Tokyo - - - - Japon.  
A) en / aux B) à / en  
C) de / en D) à / au
8. - - - - mars et mai c'est avril.  
A) Sous B) Entre  
C) Sur D) Dans
9. Louise a acheté un appartement - - - - a quatre chambres.  
A) que B) qui  
C) ce qui D) dont
10. Marie - - - - trente cinq heures par semaine.  
A) travaille B) travailler  
C) as travaillé D) travailles
11. A: Quand est-ce que tu es arrivé à Ankara ?  
B: Je suis arrivé à Ankara - - - - cinq mois.  
A) dans B) en  
C) depuis D) il y a

12. A: Pourquoi va-t-elle chez le médecin?  
B: Parce qu'elle a mal à - - - - .  
A) la fête B) le cou  
C) la tête D) le bras droit
13. A: Quand sort le directeur de la banque?  
B: Il - - - - sort à sept heures.  
A) des B) de C) y D) en
14. A: D'où viens-tu?  
B: Je viens - - - - Italie.  
A) des B) du  
C) de(d') D) la
15. A: Tu déjeunes à la cantine ?  
B: Non, je n'- - - - déjeune pas. Je rentre chez moi.  
A) y B) aux  
C) de D) en
16. A: Vous mangez des hamburgers?  
B: Non, nous n'- - - - mangeons pas.  
A) de la B) en  
C) y D) au
17. La bicyclette est - - - - chère que la voiture.  
A) autant B) aussi  
C) moins D) plus
18. "Efe et Asya aiment beaucoup la musique hip-hop." cümlesinde altı çizili sözcüklerin yerine aşağıdaki şahıs zamirlerinden hangisi konulabilir?  
A) Elles B) Il  
C) Elle D) Ils

19.



Verilen resme göre cümlede boş bırakılan kısmı tamamlayan ifadenin bulunduğu seçeneği işaretleyiniz.

Ils font - - - - .

- A) de la danse  
B) du rafting  
C) du ski nautique  
D) de la peinture

20.



Bu trafik işaretinin anlamı nedir?

- A) Passage pour piétons  
B) Endroit fréquenté par des enfants  
C) Annonce de feux tricolores  
D) Circulation à sens unique

(401) DİL VE ANLATIM – 1

1. Aşağıdakilerin hangisinde bilgi yanlış vardır?
- A) Günlük yaşamda, evde, sokakta kullanılan dile konuşma dili denir.  
B) Konuşma dilinde ses tonuna, vurgu ve tonlamaya dikkat etmeye gerek yoktur.  
C) Dillerde coğrafya ve toplumsal ayrılıklar nedeniyle lehçe, şive, ağız gibi farklılaşmalar olur.  
D) Gazete ve dergilerde, resmî yazışmalarda kullanılan dile yazı dili denir.

## 2. OTURUM

2. I. En Eski Türkçe Çağı  
II. İlk Türkçe Çağı  
III. Altay Çağı  
IV. Eski Türkçe Çağı

**Yukarıda numaralanmış Türk dilinin gelişim aşamaları aşağıdakilerin hangisinde doğru sıralanmıştır?**

- A) I – IV – II – III  
B) II – I – IV – III  
C) III – I – II – IV  
D) IV – II – III – I

3. **Aşağıdaki cümlelerin hangisinde tüm sözcükler küçük ünlü uyumuna uymaktadır?**

- A) Durmuş Ali'nin karısı olanı biteni görmüştü.  
B) Çavuş, heybesinden evrakları çıkarıp çadıra götürdü.  
C) Masanın üzerinde antika bir daktilo bulunmaktaydı.  
D) Sınırlar kalkınca sevenler birbirine kavuştular.

4. **Aşağıdaki dizelerin hangisinde ünsüz benzeşmesi yoktur?**

- A) Gökteki uçurumdan başım dönse de  
Sokulurdum az daha, az daha  
B) Batakta. Bir sarmaşık gibiydi batak,  
Bir tuz ki aşımıza karışmış,  
C) Uzuyor koyu bir katranla yapışkan  
Parmakların ucunda ip gibi.  
D) Güvercinin tüylerinde batak.  
Batak. En uzak ışılı yıldızda.

5. **Aşağıdaki cümlelerin hangisinde yazım yanlışları vardır?**

- A) Kitabı sanat severler büyük bir ilgiyle karşıladı.  
B) Misafirler bizi dış hatlar terminalinde bekliyor.  
C) Yarın Orta Anadolu'da yağış bekleniyor.  
D) 17. yüzyılda İspanya'da iç savaş mı yaşanmıştı?

6. Ne anlarmış benim fedakârlığımı  
senin amcan ( ) Çocuklarıma bir lokma haram yedirmedim ( ) işte o kadar ( ) Zaten onun da beni anlamasını beklemiyorum ( )

**Bu parçada ayrıca boş bırakılan yerlere sırasıyla aşağıdaki noktalama işaretlerinden hangileri getirilmelidir?**

- A) (!) (,) (!) (.) B) (?) (:) (...) (!)  
C) (?) (,) (!) (.) D) (!) (!) (...) (!)

7. **Aşağıdakilerden hangisi dil bilgisinin inceleme alanına girmez?**

- A) Dilin doğuşu ve gelişimi  
B) Sözcüklerin yapısı  
C) Sözcüklerin anlamları  
D) Yazarların edebî kişilikleri

8. Eklemeli (bitişken) dillerde bir veya daha çok heceli köklere yapım ve çekim ekleri eklenir. Getirilen ekler kökle kaynaşır. Köke getirilen yapım ekleri ile yeni sözcükler türetilir. Yeni ekler eklendiğinde kökte bir değişiklik olmaz.

**Aşağıdakilerden hangisi bu parçada tanıtılan dil grubuna girer?**

- A) Türkçe B) Arapça  
C) İngilizce D) Çince

9. **Aşağıdakilerin hangisinde bilgi yanlışları vardır?**

- A) Arapça, yapı bakımından çekimli dil grubunda bulunur.  
B) Türkçe, köken bakımından Ural-Altay dil ailesi içinde yer alır.  
C) Japonca yapı bakımından eklemeli diller grubunda bulunur.  
D) İngilizce, köken bakımından Hami-Sami dil ailesi içinde yer alır.

10. **Aşağıdakilerden hangisi Ural-Altay dillerinin özelliklerinden biri değildir?**

- A) Sondan eklemeli bir yapıya sahiptir.  
B) Sözcüklerde dil bilgisi bakımından erkek ve dişi tür ayrımı vardır.  
C) Ses, yapı ve söz dizimi bakımından benzerlikler bulunur.  
D) Ünlü uyumu vardır.

11. **Aşağıdaki cümlelerin hangisinde "de, da"nın yazımında yanlışlık yapılmıştır?**

- A) Bu tartışmaya dinleyiciler de sorularıyla katılabilir.  
B) Şiirde genellikle ses uyumuna dikkat edilir.  
C) Arkadaşlarımla konuşurken öğretmen de yanımızdaydı.  
D) Kısa bir yazının özetinde kısa olacaktır.

12. **Aşağıdaki cümlelerden hangisinin sonuna farklı bir noktalama işareti getirilmelidir?**

- A) Buralara yağmur yağdı mı her yer mis gibi toprak kokar  
B) İnsanları niçin bir saattir burada bekletiyorsunuz  
C) Otobüsün ne zaman kalkacağını kimse bilmiyordu  
D) Bugünlerde ne evde ne okulda rahat edebiliyordu

13. **Aşağıdakilerin hangisinde iletişimle ilgili yanlış bir bilgi vardır?**

- A) İlk insanlar, birtakım sesler çıkararak ve işaretleyerek iletişim kurmuşlardır.  
B) İşaretleşme, en güçlü iletişim biçimidir.  
C) Günümüzde trafik işaretleri, amblem ve semboller birer iletişim aracıdır.  
D) İletişim ilk çağlardan günümüze kadar pek çok aşamadan geçmiştir.

## 2. OTURUM

14. Aşağıdakilerin hangisi dilin, kültür taşıyıcısı olduğuna örnek gösterilebilir?

- A) Hasankeyf'te milattan önceki döneme ait mimari yapıların bulunması
- B) Antalya'da Antik Yunan Dönemi'ne ait amfi tiyatronun bulunması
- C) Ayasofya Camii'nin miladi 2. yüzyıla ait sanat anlayışının özelliklerini taşıması
- D) Orhun Yazıtları'nın Türk devlet anlayışı hakkında bilgiler vermesi

15. Dilin önemli özelliklerinden birisi, içinde konuşulduğu toplumların her türlü birikimini nesilden nesile aktarmasıdır. İnsanlar kimi yaşamsal ve fiziksel özelliklerini kalıtım yoluyla elde ederler. Ancak dili anne ve babamızdan kalıtım yoluyla değil, içinde büyüdüğümüz toplulukta insanları dinleyerek, onlara benzemeye çalışarak, onlarla konuşarak, doğuştan getirdiğimiz dil yetisini işleyerek edinmiş oluruz. İnsanoğlu, içinde yetiştiği topluluğun dilini edindikten sonra dil aracılığı ile o topluluğun tüm birikimlerini kendisinden sonra gelen kuşaklara aktarır. Toplumları kalıcı kılan, dilin bu özelliğidir.

**Bu parçada vurgulanan düşünce aşağıdakilerden hangisidir?**

- A) İnsanları toplum yapan her türlü değer, dil vasıtasıyla geleceğe aktarılır.
- B) Dil, insanlar arasında anlaşmayı sağlayan en önemli araçtır.
- C) Toplum olmanın ilk şartı aynı dili konuşmaktır.
- D) Dil, kendisini sürekli yenileyen canlı bir varlıktır.

16. Aşağıdakilerden hangisi Türkçenin gelişmesine katkı sağlayan eserlerden biri değildir?

- A) Şehname
- B) Kutadgu Bilig
- C) Atabetü'l Hakayık
- D) Divanü Lügati't Türk

17. (I) Ağaçtan yapılmış yüksek kulübede konuşuyoruz Salih ile. (II) Gözü sürekli yüz metre ötedeki oğlunda. (III) Bir kayanın üstüne çömelmiş, kumluk bir bölgeyi gözetliyor. (IV) Bir anda elini yukarı kaldırarak ayağa fırlıyor.

**Bu parçada numaralanmış cümlelerin hangisinde ünlü düşmesine uğramış bir sözcük vardır?**

- A) I. B) II. C) III. D) IV.

18. Aşağıdaki cümlelerin hangisinde büyük harflerin kullanımıyla ilgili bir yazım yanlışı yapılmıştır?

- A) Behçet Kemal Çağlar, Ankaralı Âşık Ömer mahlasıyla şiirler yazmıştır.
- B) Türkler, 8. yüzyıldan itibaren İslamiyet'i kabul etmeye başlamıştır.
- C) Edebiyat Öğretmeni Ayşe hanım şiir dinletisi düzenleyecekmiş.
- D) Kırıkkale, İç Anadolu'nun önemli sanayi şehirlerindedir.

19. Kardeşim de geldimi

I II  
kayıp olan yüzüğü hep birlikte  
III  
aramaya başlayacaktık.  
IV

**Bu cümlede numaralanmış sözlerin hangilerinde yazım yanlışı vardır?**

- A) I ve II. B) I ve III.
- C) II ve III. D) III ve IV.

20. Aşağıdaki cümlelerin hangisinde kesme işaretinin ( ' ) kullanımı yanlıştır?

- A) Kitabın 50'nci sayfasında ilginç bir tablo var.
- B) Atatürk'ün doğduğu ev müze hâline getirilmiştir.
- C) ÖSYM'nin yayımladığı duyuru, adayları yakından ilgilendiriyor.
- D) Türk Dil Kurumu'ndan konuyla ilgili bir açıklama yapılmadı.

### (402) DİL VE ANLATIM – 2

1. Aşağıdaki cümlelerin hangisinde sıfat tamlaması yoktur?

- A) Yağmur damlaları buraya ulaşamıyordu.
- B) Kedi, peynirden kocaman ısırık alıp kaçtı.
- C) Son oyunda tiyatro tıklım tıklım doluydu.
- D) Arkadaşım ancak ikinci otobüse binebildi.

2. Aşağıdaki cümlelerden hangisi sadece özne ve yüklemden oluşmuştur?

- A) Susma, dayanılması çok güç bir hazırcıdır.
- B) Elinle yaptığın iyiliği dilinle zıyan etme.
- C) Başa kakılan iyilik daima hakaret yerine geçer.
- D) En kötü isyanları, aç kalan karınlar doğurur.

3. (I) Epey uzun bir süre boyunca bu hissini tadını çıkardım. (II) Bu bana, paranın getirdiği maddi karşılıktan daha çok haz veriyordu. (III) Ama sonunda bu haz giderek azaldı. (IV) Bana eziyet eden bir düşünceye dönüştü.

**Bu parçada numaralanmış cümlelerden hangisi yapıca farklıdır?**

- A) I. B) II.
- C) III. D) IV.

4. Aşağıdaki cümlelerin hangisinde ek fiil kullanılmıştır?

- A) Kulaklarımızda sıradan bir şarkının ezgisi çınlayıp durdu.
- B) Paris'te güneşli taşralılar hakkında anlatılanları anımsadım.
- C) Kılık kıyafet konusunda o da çok zevksizdi.
- D) Okuduğunuz kitaptan yanlış sonuç çıkarmışsınız.

## 2. OTURUM

5. Akşamı getiren sesleri dinle  
I  
Dinle de gönlümü aliver gitsin  
II  
Saçlarımdan tutup kor gözlerinle  
III IV  
Yaşlı gözlerime dalıver gitsin  
**Bu dörtlükte numaralanmış sözcüklerden hangisi iyelik eki almamıştır?**  
A) I. B) II. C) III. D) IV.

6. **Aşağıdaki atasözlerinin hangisinde karşıt anlamlı sözcükler kullanılmamıştır?**

- A) Az veren candan, çok veren maldan.  
B) Yel ile gelen sel ile gider.  
C) Dost başa, düşman ayağa bakar.  
D) Yalancının mumu yatsıya kadar yanar.

7. “Yıldız” sözcüğü “Güneş ve Ay dışında gökyüzünde görülen gök cisimlerinden her biri” anlamında kullanılırken zamanla “Herkesçe çok sevilen, mesleğinde parlayan sanatçı” anlamında da kullanılmaya başlanmıştır. Hatta bu sözcük günümüzde “sinema, televizyon sanatçısı” anlamını da karşılar olmuştur.

**Bu parçada anlatılan durum aşağıdakilerden hangisiyle ilgilidir?**

- A) Anlam genişlemesi  
B) Anlam daralması  
C) Anlam iyileşmesi  
D) Anlam kötüleşmesi

8. **Aşağıdaki dizelerin hangisinde altı çizili söz grubu isim tamlamasıdır?**

- A) Bir kalın perdeydi geceler mutsuz, buruşuk.  
B) Her sabah ufuklardan mavi şarkılar gelir.  
C) Gözümün önünden mevsimler geçer.  
D) Gelmedi hiç senden ses, kara bahtım.

9. **Aşağıdakilerden hangisi isim cümlesidir?**

- A) Şehir merkezine beş dakikada vardık.  
B) Yurdunun taşına toprağına derin derin baktı.  
C) Parktaki salıncaklar çiçeklerle süslenmişti.  
D) En eski uygarlıkların izleri bu topraklardadır.

10. **Aşağıdaki cümlelerden hangisinin yüklemi haber kiplerinden biriyle çekimlenmemiştir?**

- A) İşleri uzayınca son otobüsü de kaçırmış.  
B) Yarışmada dereceye girenlere ödülleri dağıtıldı.  
C) İnsanların düşüncelerine değer vermelisin.  
D) Yarın akşam annemle sinemaya gideceğiz.

11. Uyu! Gözlerinde renksiz bir perde,  
I  
Bir parça uzaklaş kederlerinden  
II  
Bir ruh gülümsüyor gibi derinden  
III IV  
Mehtabın ördüğü saatler nerde

**Bu dizelerdeki altı çizili sözcüklerden hangisi kökünün türü yönüyle diğerlerinden farklıdır?**

- A) I. B) II. C) III. D) IV.

12. **Aşağıdaki cümlelerin hangisinde altı çizili sözcük türemiş değildir?**

- A) Annemizin şefkati, babamızın güveni, ilk aşkımızdır vatan.  
B) Refik Halit, Türkiye’de mizaha bir yenilik ve tazelik getirmiştir.  
C) 15. yüzyıl şairlerinden Şeyhî aynı zamanda büyük bir doktordu.  
D) Vefalı bir insan olan Mehmet Âkif, dostlarını sık sık ziyarete giderdi.

13. **Aşağıdaki atasözlerinin hangisinde mecazlı bir söyleyiş yoktur?**

- A) Minareyi çalan kılıfını hazırlar.  
B) Sarımsağı gelin etmişler de kırk gün kokusu çıkmamış.  
C) Yalancının mumu yatsıya kadar yanar.  
D) Güvenme varlığa, düşersin darlığa.

14. **Aşağıdaki cümlelerin hangisindeki ikileme kuruluşu bakımından farklıdır?**

- A) Adam mal mülke konunca kendisini kaybetti.  
B) Müdür Bey kılık kıyafetimize dikkat etmemizi istedi.  
C) Eş dost bu mutlu günümde beni yalnız bırakmadı.  
D) Yol o kadar çamurluydu ki bata çıka ilerlemeye çalışıyorduk.

15. **Aşağıdaki cümlelerden hangisi bir paragrafın giriş cümlesi olmaya en uygundur?**

- A) Yaşayıp yaşamama işi de isteğe bağlı değil, çevreyle doğrudan ilgilidir.  
B) Mutluluğumuz da mutsuzluğumuz da sözcüklere verdiğimiz anlamlara bağlıdır.  
C) Sözcüklerinde gözlemlediğimiz bu şiirselliği Türkçenin deyimlerinde de bulabiliriz.  
D) Gerçekten de dil ve düşünce karşılıklı olarak birbirlerini oluşturur.

16. **Aşağıdakilerden hangisi sözde soru cümlesidir?**

- A) Bizimle okula kadar gelebilir misiniz?  
B) Öğretmen bugün gelmeyecek miymiş?  
C) O sanatçının hangi romanını okudun?  
D) Senin ne kadar inatçı olduğunu bilmez miyiz?

17. “Kime yazar denir, kime yazar denmez?” sorusu yanında, “Kime yazar demek gerekir, kime yazar demek gerekmez?” sorusu da hemen hemen hiç umursanmayan bir sorudur. Sık sık birbirleriyle karıştırılan bu iki soru çevresinde beni en çok çileden çıkaran olgu her yanda karşılaşılan bir alışkanlık: Çevirmenleri yazardan saymamak! Katlanamıyorum bu duruma. Bol keseden “yazarlık” dağıtanlar, söz çevirmene geldi mi ağızlarını bile açmıyorlar. Dedim ya tam da buna dayanamıyorum!

**Bu parça aşağıdakilerden hangisine örnektir?**

- A) Olay paragrafı  
B) Betimleme paragrafı  
C) Düşünce (fikir) paragrafı  
D) Düşsel (fantastik) paragraf

## 2. OTURUM

18. Türkler akıncı bir kavim oldukları için gittikleri ve yerleştikleri her yerde yabancı tesirlere maruz kalmışlardır. Yalnız Çin'de değil, başka ülkelerde hanedan veya devlet kuran Türklerden de zamanla yok olanlar vardır. Bulgarlar IX. yüzyıldan önce Türk'tüler. Fakat bu asırdan sonra Slav ve Hristiyan kültürü tesiri altında kalarak millî şahsiyetlerini kaybetmişlerdir. Çin'de büyük bir devlet kuran Tabgaçlar da Budizm'i kabul ettikten sonra yok olmuşlardır. Yalnız İslamiyet, birçok bakımdan eski Türk medeniyetine uygun olduğu için Türklerin asırlarca süren büyük bir devlet ve medeniyet kurmasını sağlamıştır.

**Bu parçadan aşağıdakilerin hangisine ulaşılamaz?**

- A) Dünya üzerinde benliklerini kaybeden Türk boylarının olduğu
- B) İslamiyet'in kabulüyle Türklerin yerleşik yaşama geçtiğine
- C) İslam dini sayesinde Türklerin güçlü devlet kurduğuna
- D) Türklerin farklı kültürlerden etkilendiğine

19. Çevremde dayak kadar zararlı olduğunu gördüğüm bir eski eğitim yolu da öğüt vermedir. Hiçbir çocuğun öğütlere kulak astığını görmüş değilim. Tersine, öğüt dinlemekten bunalan, kafasına zorla sokulmak istenen akla karşı koyan çocuklar, gençler görmüşümdür. Dayak gibi öğüt de tepeden inme bir eğitimidir. O da bir çeşit ezme, küçültmedir insanı. Öğüt veren, örnek olmayandır çokluk. Oğluna durmadan yalan söyleyen bir babanın doğruluk öğütleri vermesinden daha gülünç ne olabilir? Çocuk da bizim gibi söze değil işe bakar.

**Bu parçada asıl anlatılmak istenen aşağıdakilerden hangisidir?**

- A) Çocukların eğitiminde kullanılan en zararlı yöntemlerden biri öğüt vermektir.
- B) Çocukların, büyüklerinden öğrenecekleri şeyleri televizyondan, sanal âlemden öğrenmeleri sakıncalıdır.
- C) Anne-babaların çocuklarına yalan söylemeleri onların çocuklar tarafından sorgulanmasına neden olur.
- D) Büyükler küçükleri sözle değil, model olarak doğruya ve güzele kolay bir şekilde yönlendirebilir.

20. Deneme, karakter itibarıyla bir fikir yazısıdır ama ne makale ne fıkra ne de bütünüyle sohbet niteliği gösterir. Başlı başına bir yazı çeşidi olarak karşımıza çıkar. Belli bir kaideye dayanmaz, kesin kurallara sahip değildir. İddiacı ve ispatlayıcı bir havası yoktur. - - -

**Bu parçanın sonuna düşüncenin akışına göre aşağıdakilerden hangisi getirilmelidir?**

- A) Yazar, bir düşüncenin peşine takılır ve okuru da bu düşüncenin peşinde sürükler.
- B) Bu türde yazar; konu seçmekte, anlatmada, üslupta ve planda serbesttir denebilir.
- C) Deneme birçok türün özelliğini bünyesinde taşıdığı için fazla tercih edilmektedir.
- D) Deneme yazarı, yazılarında ciddi konuları tercih ederek okuru yönlendirmeye çalışır.

### (411) TÜRK EDEBİYATI – 1

1. **Aşağıdakilerden hangisi İslami Devir Türk Edebiyatı içinde yer almaz?**

- A) Klasik edebiyat
- B) Âşık edebiyatı
- C) Anonim halk edebiyatı
- D) Millî Edebiyat

2. **Aşağıdaki eserlerden hangisi İslamiyet Öncesi Türk Edebiyatı Dönemi'ne aittir?**

- A) Göktürk Abideleri
- B) Kutadgu Bilig
- C) Divanü Lügati't Türk
- D) Atabetü'l Hakayık

3. **Aşağıdaki seçeneklerin hangisinde divan şiiri nazım biçimle ri bir arada verilmiştir?**

- A) Koşma- semai- tuyuğ
- B) Gazel- koşma- türkü
- C) Gazel- kaside- mesnevi
- D) Semai-mesnevi- nutuk

4. Beni candan usandırdı cefâdan yâr usanmaz mı  
Felekler yandı âhımdan murâdım şem'i yanmaz mı

Kamu bîmârına cânan devâ-yı derd ider ihsân  
Niçin kılmaz bana derman beni bimar sanmaz mı

**Bu dizelerle ilgili aşağıdakilerden hangisi söylenemez?**

- A) Divan şiiri geleneğiyle yazılmıştır.
- B) Süslü, sanatlı bir dil kullanılmıştır.
- C) Aruz ölçüsüyle yazılmıştır.
- D) Zengin kafiye kullanılmıştır.

5. **Aşağıdakilerden hangisi halk şiirinin özelliklerinden değildir?**

- A) Dil halkın kullandığı konuşma dilidir.
- B) Ulusal ölçümüz olan hece ölçüsü kullanılmıştır.
- C) Nazım birimi olarak beyit kullanılmıştır.
- D) Ürünler saz şairi ya da âşıklar tarafından saz eşliğinde söylenmiştir.

6. **Aşağıdaki sözlü ve yazılı anlatım karşılaştırmalarından hangisi yanlıştır?**

- A) Sözlü anlatımın düzyazı ve şiir türleri varken yazılı anlatımın türleri yoktur.
- B) İkisinde de duygu ve düşüncenin güzel ve etkili dile getirilmesi önemlidir.
- C) Sözlü anlatımda ses tonu ve vurgulama; yazılı anlatımda ise yazım ve noktalama önemlidir.
- D) Yazılı anlatımda metni tekrar okuma olanağı varken sözlü anlatımda dinlenen konunun tekrarı yoktur.

7. Dalgalandığın yerde ne korku ne keder...  
Gölgende bana da, bana da yer ver!

**Bu dizelerdeki uyak türü aşağıdakilerden hangisidir?**

- A) Yarım uyak
- B) Zengin uyak
- C) Cinaslı uyak
- D) Tam uyak

## 2. OTURUM

8. Kara sevda söylenirmiş dillerde Bülbülün arzusu açan güllerde Ben sen için her gün gurbet ellerde Bilmem bakıyor mu yola gözlerin

**Bu dörtlük konusuna göre aşağıdaki koşma türlerinden hangisine örnektir?**

- A) Koçaklama B) Taşlama  
C) Güzelleme D) Ağıt

9. Tanıdığım bir ağaç var  
Etlik bağlarına yakın  
Saadetin adını bile duymamış  
Allah'ın işine bakın

**Bu dizelerde aşağıdaki söz sanatlarından hangisi kullanılmıştır?**

- A) Benzetme B) Anımsatma  
C) Kişileştirme D) Tekrarlama

10. Mavi yaz akşamları, patikalarda,  
dalgın,  
Gideceğim, sürüne sürüne buğ-  
daylara.  
Ayaklarımda ıslaklığı küçük otla-  
rın;  
Yıkasın, bırakacağım başımı  
rüzgâra

**Bu dörtlüğün teması aşağıdaki-  
lerden hangisidir?**

- A) Memleket özlemi  
B) Doğa sevgisi  
C) Yalnızlık  
D) Vatan sevgisi

11. 1912 kışı bir karabasan gibi çök-  
müştü payitahtın üzerine. Sadece  
askerî mağlubiyetimizden söz  
etmiyorum, hakiki bir felaketten  
söz ediyorum. Balkanlardaki yıkı-  
mın neticesi bize kadar ulaşmış;  
köyünden, evinden sürülen on  
binlerce muhacir Dersaadet'e ak-  
mıştı. Kendi hemşehrilerini doyur-  
makta güçlük çeken şehir, devasa  
bir açlık yuvasına dönüşmüştü.

**Bu edebî metin oluşturulur-  
ken aşağıdaki bilim dallarının  
hangisinden yararlanılmıştır?**

- A) Tarih B) Coğrafya  
C) Fizik D) Biyoloji

12. İnsanların ihtiyaçlarını karşılamak amacıyla yapılan bir eğitimin yanı sıra deneyim ve beceri gerekti- ren, el emeğine dayanan faaliyet- lere "zanaat" denir.

**Buna göre aşağıdakilerden hangisi zanaat dallarından de-  
ğildir?**

- A) Terzilik  
B) Eleştirmenlik  
C) Berberlik  
D) Demircilik

13. Her millet, dilini ve kültürünü yüzyıllar boyunca yoğurur. Bu esnada o, akan bir nehir gibi içinden geçtiği her topraktan bazı unsurlar alır. Her medeni milletin konuşma ve yazı dili, karşılaştığı medeniyetlerden alınma kelime ve deyimlerle doludur. Bu bakımdan her milletin dili, o milletin çağ- lar boyunca yaşadığı tarihin âdeta özetidir. Dile bu gözle bakılırsa dil mana kazanır.

**Bu parçada dille ilgili asıl anla-  
tılmak istenen aşağıdakilerden  
hangisidir?**

- A) İnsanlar arasındaki en önemli iletişim aracıdır.  
B) Ulusal birlik ve beraberliğin sağlanmasındaki en önemli unsurdur.  
C) Ait olduğu milletin; tarihinin ve kültürel değerlerinin izlerini yansıtır.  
D) Kendine özgü kurallar çer- çevesinde gelişen canlı bir varlıktır.

14. Söylenmek istenen düşüncenin herkes tarafından aynı şekilde kolayca anlaşılmasına "açıklık" denir.

**Buna göre aşağıdaki cümlele-  
rin hangisinde açıklık ilkesine  
uyulmamıştır?**

- A) Sanayileşmeyle eski düzen değişmiş, yeni bir kent olgusu doğmuştur.  
B) Ben şiiri kolayca yazan, bir iki okuyuşta yayıma hazır hâle getiren bir şair değilim.  
C) Her yaz baba ocağına gittiği- mizde içimde tarifsiz, büyük bir sevinç oluşur.  
D) Romanını elime ilk aldığımda ne diyeceğimi bilememiş, göz- yaşlarıma engel olamamıştım.

15. Aşağıdakilerden hangisi edebî bir metinden alınmıştır?

- A) Mersin'in Gülnar ilçesinde 2008'de çıkan yangın sonucu kızılçam ormanları ve makilik alanlar kül oldu. Bu, son yılların en büyük yangınıydı.  
B) Deniz iki günlük poyrazı, üstüne lodosu savuşturmuştu, şimdi pürüzsüz ve fosforluymdu. Vapur ilerliyor, apak balık sürüleri kayarak kenarlara kaçı- şıyordu.  
C) Fossil kayıtlarından elde edilen verilerle şu andaki durum kar- şılaştırıldığında bugün canlı türlerinin tarihin herhangi bir döneminden 50 kat daha yük- sek bir hızla yok olduğu ortaya çıkıyor.  
D) Gaziantep Kalesi'nin altındaki tünellerin su altında kalan kı- sımalarında yoğun bir çalışma yürütülüyor. Bu çalışmayla antik yer altı yapıları bir bir gün yüzüne çıkarılıyor.

16. Akıl yaşta değil baştadır başta  
Kişinin miktarı bilinir işte  
Herkes bir değildir yaradılıştta  
İnsandan insana imtiyaz olur

**Bu dizeler aşağıdaki gelenek-  
lerden hangisiyle oluşturul-  
muştur?**

- A) Halk edebiyatı  
B) Divan edebiyatı  
C) İslamiyet öncesi edebiyat  
D) Servetifünun edebiyatı

17. Bâd-ı sabâ selâm söyle o yâre  
Mübârek hâtırı hoş mudur nedir

**Bu dizelere**

- I. mestan elâ gözler  
II. bulamam çâre  
III. nideyim yitirdim  
IV. yaş mıdır nedir

**sözleri eklenerek çapraz uyak  
düzenine uygun olarak anlamlı  
bir dörtlük oluşturulursa nu-  
maralanmış bu sözlerin dizilimi  
aşağıdakilerden hangisi olur?**

- A) I - III B) II - III  
II - IV I - IV  
C) III - II D) III - IV  
I - IV II - I



## 2. OTURUM

### 18. MEHMET

Gemiler pupa yelken yol alırsa  
Karada...  
Gemilerim dağdan dağa  
Yelken açar çağdan çağa.

### KORO

Buyurdu Hünkâr, sefer var  
Denizden karaya, karadan denize  
Açılın ormanlar, düzelin dağlar  
taşlar!  
Buyurdu Hünkâr, yol olun bize!

**Bu dizeler konusuna göre aşağıdaki şiir türlerinden hangisine örnektir?**

- A) Lirik B) Pastoral  
C) Didaktik D) Dramatik

### 19. Sonsuzluk kervanı, istemem azat! Köleniz olmakmış gerçek hürriyet

**Yukarıdaki altı çizili dizede hangi söz sanatı vardır?**

- A) Tekrir B) Tezat  
C) Telmih D) Mübalağa

### 20. Tasavvuf edebiyatında tarikatta yeni girenlere tarikatın adap ve erkânını öğretmek amacıyla söylenen şiirlere - - - - , varlığın Allah'tan çıkararak evreni dolaştıktan sonra tekrar Allah'a dönmesini anlatan şiirlere - - - - denir.

**Bu parçada boş bırakılan yerlere sırasıyla aşağıdakilerden hangisi getirilmelidir?**

- A) nutuk – devriye  
B) ilahi – devriye  
C) şathiye – nutuk  
D) nefes – ayin

### (412) TÜRK EDEBİYATI – 2

### 1. Aşağıdaki destanlardan hangisi İslamiyet sonrası destanlar arasında yer alır?

- A) Alp Er Tunga Destanı  
B) Oğuz Kağan Destanı  
C) Battal Gazi Destanı  
D) Ergenekon Destanı

### 2. Yapma destanı doğal destandan ayıran en önemli fark aşağıdakilerin hangisidir?

- A) Toplumun ortak duygu, düşünce ve inançlarını dile getirmesi  
B) Manzum olması  
C) Kimin tarafından yazıldığına bilinmesi  
D) Tarihî bir olayı anlatması

### 3. Aşağıdaki hangi açıklama, yanında ayrıca içinde verilen kavrama uygun değildir?

- A) Sürükleyici bir olayın mantıksal bir gelişim içinde yer aldığı hikâye (durum öyküsü)  
B) Nazım şeklinde yazılmış hikâye (manzum hikâye)  
C) Fransız edebiyatında Maupassant tarafından geliştirilen hikâye (olay öyküsü)  
D) Öyküde ele alınan olayın sonuçlandığı bölüm (çözüm)

### 4. Aşağıdakilerden hangisi orta oyununun asıl kişilerindendir?

- A) Pişekâr B) Hacivat  
C) Karagöz D) Çelebi

### 5. Aşağıdakilerden hangisi öğretici metinlerin yazılış amaçlarından değildir?

- A) Bilgi vermek  
B) Haber vermek  
C) Edebî zevk uyandırmak  
D) Kanıları değiştirmek

### 6. Masalla ilgili aşağıdaki bilgilerden hangisi yanlıştır?

- A) Anlatımda abartılı olaylara yer verilir.  
B) Anlatım genellikle duyulan geçmiş zaman kipiyle yapılır.  
C) Olayın geçtiği yer ve zaman genelde belirlidir.  
D) Başında, ortasında ve sonunda kalıplaşmış sözler kullanılır.

### 7. Mesnevi, divan edebiyatında bulunmayan - - - - ve - - - - türünü karşılamaktadır.

**Bu cümlede boş bırakılan yerlere sırasıyla aşağıdakilerden hangisi getirilmelidir?**

- A) fıkra – makale  
B) öykü – roman  
C) mektup – günlük  
D) deneme – sohbet

### 8. 18. yüzyıl sonlarına doğru komedi ve dram türlerinin karışmasıyla meydana gelmiştir. Hayatın hem acıklı hem gülünç yanlarını bir arada veren bir oyundur. Genel olarak orta tabaka insanların hayat çatışmaları bu oyunlarda işlenir.

**Bu parçada özellikleri verilen tiyatro türü aşağıdakilerden hangisidir?**

- A) Vodvil B) Fars  
C) Opera D) Dram

### 9. - - - - Karagöz'le Hacivat'ın aralarında geçen konuşmaların yer aldığı bölümdür, asıl oyunla ilgisi yoktur.

**Bu cümlede boş bırakılan yere aşağıdakilerden hangisi getirilmelidir?**

- A) Giriş B) Muhavere  
C) Fasil D) Bitiş

### 10. Türkçede "fıkra" sözcüğü, aşağıdaki anlamların hangisi için kullanılmaz?

- A) Tiyatro eleştirisi  
B) Gazete yazısı  
C) Küçük nükteli hikâye  
D) Kanun maddelerinin alt bölümleri

### 11. Aşağıdakilerden hangisi anlatmaya bağlı metinlerin özelliklerinden değildir?

- A) Olay çevresinde gelişir.  
B) Metinlerin mutlaka bir anlatıcısı bulunur.  
C) Konuşma dilinin canlılığı sahnede yansıtılır.  
D) Serim, düğüm ve çözüm bölümlerinden oluşur.

## 2. OTURUM

12. Kasabanın turistik sayılacak eli yüzü düzgün birkaç lokantası var. Ama en eski olanı, mimarisi düzgün, çevresi bakımlı, denize nazır, mülkî erkânın ve tüccarların devam ettiği Şehir Kulübü. Bu kulübün en nefis köşesi de denize bakan lokanta kısmıydı. Hatırlı misafirler hep orada ağırlanırdı. Kaymakam da Saadet ve Eşref'i burada ağırladı. Mekânda tüm personel onların karşısında esas duruşa geçmişti.

**Bu parçada öykü öğelerinden hangisi belirgin değildir?**

- A) Olay                      B) Kişiler  
C) Yer                        D) Zaman

13. **Aşağıdaki sanatçılardan hangisi öykü türünde eser vermiştir?**

- A) Cahit Külebi  
B) Fakir Baykurt  
C) Sezai Karakoç  
D) Orhan Veli Kanık

14. **Aşağıdakilerin hangisinde farklı bir bakış açısı kullanılmıştır?**

- A) Bakışlarındaki iğneleyici ifadeler değişmedi. Daha kötülerini de gördüğümünden umurumda olmazdı ama şimdi mağdur olan bir çocuk vardı karşımda.  
B) Derneğe girince büyükçe bir manzara fotoğrafı karşıladı bizi. Buraya defalarca gelmiş olmama rağmen bu kadar büyük olmasına şaşırarak bir süre duraksadım fotoğrafın önünde.  
C) Dik merdivenleri hiç zorlanmadan keçi gibi tırmanan Ali, üçüncü kattaki çelik kapının önüne geldiğinde nefes nefese kalmıştı. Buraya yalnız geldiği için kapıyı çalmada bir an duraksadı.  
D) Ekmeği alıp arabayı çalıştırdım, birkaç dakika sonra zamana inatla direnen cumbalı fakirhanemin önündeydim. Köpeğim Karabaş beni görünce tembel tembel esneyerek yattığı yerden kalkıp beni karşıladı.

15. Öğretmenimiz sınıfta bir şiir okudu. Bu şiirde ne anlatılmak istendiğini bizlere sordu. Ben bu şiirde, kaybetme korkusunun dile getirildiğini söylerken bir arkadaşım ise şiirin sevgiliye duyulan aşkı ifade ettiğini söyledi. Bir başka arkadaşım ise şairin memleket hasretiyle yandığını söyledi. Öğretmenimiz bütün bu yorumların doğru olduğunu, edebî eserlerin böyle bir özelliği olduğunu belirtti.

**Bu parçada öğretmen, edebî eserlerin hangi özelliğini anlatmak istemiştir?**

- A) Her insana göre farklı anlam ifade edebileceğini  
B) Anlaşılmasının oldukça zor olabileceğini  
C) Sanatçıların kişiliklerinden izler taşıyabileceğini  
D) Oluşturulmasının büyük bir emek gerektirdiğini

16. **Aşağıdaki yapma destan ve sanatçı eşleştirmelerinden hangisi yanlıştır?**

- A) Çılgın Orlando – Ariosto  
B) Kurtarılmış Kudüs – Tasso  
C) Sakarya Meydan Savaşı – Nazım Hikmet  
D) Üç Şehitler Destanı – Fazıl Hüsni Dağlarca

17. Bir eşeğin öküzlere özenip onlar gibi davranması sonucunda kulağını ve kuyruğunu kaybetmesini anlatan Şeyhî'nin ünlü mesnevisi "Harname" divan edebiyatının en önemli eserleri arasında yer alır.

**Bu cümlede sözü edilen eser konusuna göre aşağıdaki mesnevi türlerinden hangisine örnektir?**

- A) Aşk hikâyeleri  
B) Cenk destanları  
C) Dinî ve tasavvufi  
D) Ahlaki ve didaktik

18. Gençlere eğitim verirken aslında kendi kalıplarımıza göre düşünmeyi öğretmek, yalnız onlar için değil, bütün toplum için zararlı bir tutumdur. Kendi kendini tekrarlamamanın, kısırlık içinde yüzüp durmanın en kolay yolu bu. Hele işin başlangıcında birtakım kavramları verirken onlara kendi değer yargılarımızı yüklersek belki çok uslu bir kuşak yetiştirebiliriz. Bazen de tam aksine farkında olmadan onları saldırganlığa itebiliriz. Kendi değerlerimize göre yetiştirdiğimiz gençler, kurulu düzenin en etkili savunucusu görünebilir bize. Ama araştırmayı, bir konu üzerinde kafa yormayı bilmeyen genç, öğretilenlerin dışında kalan yeni durumlar karşısında şaşkınlaşır ve rüzgârlar önünde savrulur durur.

**Bu parçada savunulan düşünce aşağıdakilerden hangisidir?**

- A) Gençlere kendi ayakları üzerinde durmaları için fırsat verilmelidir.  
B) Yeni nesillere düşünmeyi ve araştırmayı öğretmek gerekir.  
C) Eleştiriye açık bireyler yetiştirmek toplumsal kalkınmayı sağlar.  
D) Toplum değerlerinin zaman içerisinde değişebileceği unutulmamalıdır.

19. 20 Haziran 1861'de Abdülmecid'in erken ölümü üzerine tahta geçen kardeşi Abdülaziz, ağabeyi kadar Batı hayranı olmakla beraber ülkenin çağdaşlaşmasına da karşı değildi. Fakat o da devletin yönetimi konusunda bütün yetkinin kendisinde toplanmasına, yani Osmanlı devlet geleneğinin devamına taraftardı ve bu geleneği sonuna kadar sürdürdü. Zaten Gülhane Hattı Hümayunu siyasi olmaktan çok hukuki bir belge idi.

**Bu parça aşağıdaki öğretici metin türlerinden hangisine örnektir?**

- A) Tarihî metin  
B) Felsefi metin  
C) Bilimsel metin  
D) Dinî metin

## 2. OTURUM

20. Şiirde, mısralar içinde yerlerini alan kelimelerin yarattığı sestene ayrı bir anlam yoktur. Bir şiirin sesi ve anlamı, bedenle ruh gibidir; o kadar kaynaşmıştır. Böyle olunca saf ve gerçek bir şiirde söylenen ancak bir türlü söylenebilir. Yani söylenmiş olduğu gibi söylenir. Oysa bir düşünceyi nesir dili ile türlü şekillerde söyleyebiliriz. Canınız kahve mi istiyor, bunu türlü türlü söyleyebilirsiniz, anlam birdir. Şiire gelince iş değişir. Şiirdeki bir mısradaki kelimelerin yerlerini değiştirdiniz mi şiirden iz bile kalmaz.

**Bu parçada aşağıdakilerden hangisine değinilmemiştir?**

- A) Şiir dili ile düzyazı dilinin farklı özelliklere sahip olduğuna  
B) Şiirde ahenk ve manayı birbirinden ayırmanın mümkün olmadığına  
C) Bir şiirin sözcüklerinin yerini değiştirmenin şiiri yok etmek anlamına geldiğine  
D) Şiir yazabilmek için dilin tüm imkânlarından yararlanmak gerektiğine

### (421) FİZİK – 1

1. Işıkla ilgili olaylar ve ışığın madde ile etkileşimi fizik biliminin hangi alt alanı ile ilgilidir?

- A) Isı B) Hareket  
C) Optik D) Dalgalar

2. Aşağıdakilerden hangisi nicel bir veridir?

- A) Hafta sonu evlerde temizlik yapılır.  
B) Öğrencilerin yarıyıl tatili bitti.  
C) Antalya yazın çok sıcak olur.  
D) Isparta'dan Ankara'ya otobüs ile 7 saatte gidilir.

3. Temel büyüklükler ile ilgili verilen ölçme araçları aşağıdakilerden hangisinde doğru eşleşmiştir?

Temel büyüklük	Ölçme aracı
Uzunluk	Terazi
Zaman	Kronometre
Işık şiddeti	Fotometre

A)

Temel büyüklük	Ölçme aracı
Uzunluk	Kronometre
Zaman	Termometre
Işık şiddeti	Terazi

B)

Temel büyüklük	Ölçme aracı
Uzunluk	Metre
Zaman	Kronometre
Işık şiddeti	Fotometre

C)

Temel büyüklük	Ölçme aracı
Uzunluk	Metre
Zaman	Terazi
Işık şiddeti	Ampermetre

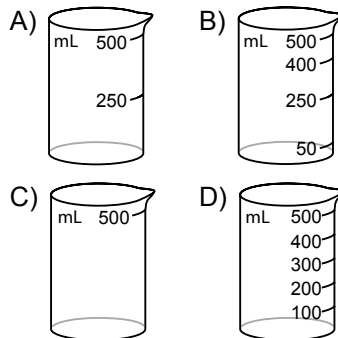
D)

4. Aşağıdakilerden hangisi vektörel büyüklüktür?

- A) Suyun özkütlesi  $1 \text{ g/cm}^3$ 'tür.  
B) Emel masayı sola doğru  $20 \text{ N}$ 'luk kuvvet ile çekiyor.  
C) Laboratuvardaki cam bardağın hacmi  $250 \text{ cm}^3$ 'tür.  
D) Sınıftaki en zayıf öğrenci  $34 \text{ kg}$ 'dır.

5. Emel mutfakta yapacağı kurabiye için  $200 \text{ mL}$  sıvı yağ kullanmalıdır.

**Buna göre aşağıdaki hangi cam kabı kullanırsa  $200 \text{ mL}$  yağı en doğru ölçer?**



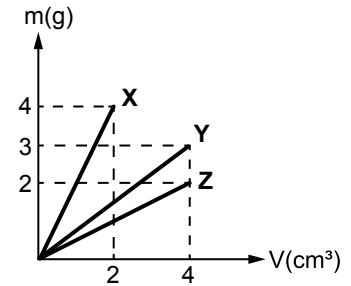
6.  $3 \text{ ton}$  toz şeker kaç miligram (mg) toz şeker eder?

- A)  $3 \cdot 10^9$  B)  $3 \cdot 10^6$   
C)  $3 \cdot 10^{12}$  D)  $3 \cdot 10^3$

7. Bir kenarı  $4 \text{ cm}$  olan küp şeklindeki K cisminin kütlesi  $6,4 \text{ gram}$  olduğuna göre K'nın özkütlesi kaç  $\text{g/cm}^3$ 'tür?

- A) 4 B) 0,3 C) 0,1 D) 2

8. X, Y, Z cisimlerinin kütle - hacim grafiği şeklindeki gibidir.



**Buna göre cisimlerin özkütlelerinin büyüklük sıralaması aşağıdakilerden hangisidir?**

- A)  $d_x > d_y = d_z$   
B)  $d_x > d_y > d_z$   
C)  $d_y = d_z > d_x$   
D)  $d_z > d_y > d_x$

9. Bir cismin dayanıklılığı kesit alanı/hacim oranı ile hesaplandığına göre yarıçapı  $3 \text{ cm}$ , yüksekliği  $12 \text{ cm}$  olan metal silindirik kabın dayanıklılığı aşağıdakilerden hangisidir?

( $\pi = 3$  alınacak)

- A)  $\frac{1}{36}$  B)  $\frac{1}{27}$   
C)  $\frac{1}{12}$  D)  $\frac{1}{3}$

10. Gazın iyonlaşmış haline plazma denir.

**Buna göre aşağıdakilerden hangisi plazmalara örnek verilemez?**

- A) Güneş B) Azot gazı  
C) Yıldızlar D) Şimşek

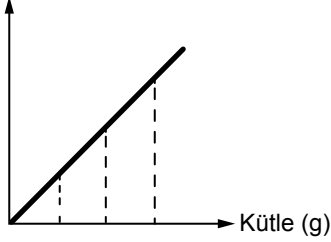
## 2. OTURUM

11. Fotokopi kağıdına ait kütle ve hacim ölçümleri tabloda verilmiştir.

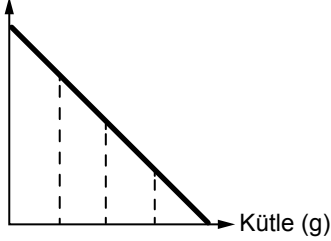
Kütle (g)	Hacim (cm <sup>3</sup> )
20	30
50	75
90	135

Tablodaki verileri kullanarak özgül kütle - kütle grafiği çizilirse aşağıdakilerden hangisi gibi olabilir?

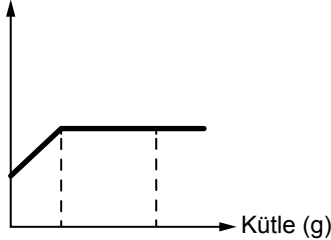
A) Özgül kütle (g/cm<sup>3</sup>)



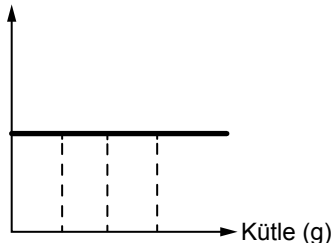
B) Özgül kütle (g/cm<sup>3</sup>)



C) Özgül kütle (g/cm<sup>3</sup>)



D) Özgül kütle (g/cm<sup>3</sup>)



12. Yarıçapı 200 m olan dairesel bir yolun yarısını 20 s'de alan motosikletlinin sürati kaç m/s'dir. ( $\pi = 3$  alınacak)

- A) 100      B) 40  
C) 30      D) 10

13. Belirli basınç ve sıcaklıkta gazlarla ilgili:

- I. Kolaylıkla sıkıştırılabilirler.  
II. Gazı oluşturan atomlar öteleme hareketi yaparlar.  
III. Buldukları kabı doldurarak kabın şeklini alırlar.

Yargılarından hangileri doğrudur?

- A) Yalnız I      B) I ve II  
C) Yalnız III      D) I, II ve III

14. Aşağıdaki olaylardan hangisi kılcallık ile doğrudan ilgilidir?

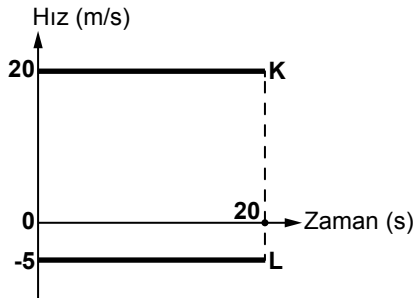
- A) Suyu dokundurulan peçetenin suyu emmesi  
B) Küçük böceklerin su yüzeyinde yürümesi  
C) Zeytinyağı ve suyun birbirine karışmaması  
D) Yaprak üzerinde küre şeklini almış su damlalarının bulunması

15. Ali evinden çıktıktan sonra 300 metre kuzeye, 500 metre doğuya ve daha sonra 300 metre güneye doğru yürüyüp okuluna ulaşıyor.

Buna göre Ali'nin yer değiştirmesi kaç metredir?

- A) 1200      B) 800  
C) 600      D) 500

16. Düz bir yolda aynı noktadan harekete başlayan K ve L araçlarının hız-zaman grafikleri şekildeki gibidir.



Buna göre 20 s sonunda araçlar arası uzaklık kaç metredir?

- A) 500      B) 400  
C) 100      D) 50

17. Hareketi başlatan, hareketin hızını değiştiren veya cisimlerde şekil değişikliğine sebep olan etkiye ne ad verilir?

- A) Konum      B) Kuvvet  
C) İvme      D) Hız

18. Bütün kuvvetler bir etkileşim sonucu oluşur.

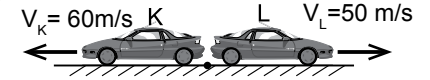
Buna göre;

- I. Futbol topuna vurulması  
II. Market arabasının itilmesi  
III. Rüzgarın uçurtmayı uçurması

yukarıdaki etkileşimlerin hangilerinde temas gerektiren kuvvetler uygulanmıştır?

- A) I ve II      B) Yalnız II  
C) Yalnız III      D) I, II ve III

- 19.



Doğrusal bir yolda şekildeki gibi aynı noktadan sabit hızla ve zıt yönde harekete başlayan K ve L araçlarının 40 s sonra aralarındaki uzaklık kaç metre olur?

- A) 4400      B) 2400  
C) 2000      D) 1100

20. Net bir kuvvetin etkisi altında hareket eden bir cismin ivmesi uygulanan kuvvetle doğru orantılı, kütleyle ters orantılıdır.

Bu tanımın matematiksel ifadesi aşağıdakilerden hangisidir?

- A) İvme = Kuvvet x Kütle  
B) İvme = Kuvvet / Kütle  
C) İvme = Kütle / Kuvvet  
D) İvme = Kuvvet + Kütle

## 2. OTURUM

### (422) FİZİK – 2

#### 1. Aşağıdaki olayların hangisinde fiziksel anlamda iş yapılmamıştır?

- A) Market arabasının itilerek yol alması
- B) Bir kutunun yerden kaldırılarak dolaba konulması
- C) Kahvaltı masasında oturulması
- D) Bir evin ikinci katına yük taşınması

#### 2. Yerde duran demir bilyeye 75 N'luk kuvvet uygulanıp, uygulanan kuvvet doğrultusunda 6 m hareket ettiriliyor.

**Buna göre yapılan iş kaç juldür? (Sürtünme yok)**

- A) 450
- B) 300
- C) 150
- D) 75

#### 3. Hülya bisikleti ile giderken hızı 12 m/s olarak ölçülüyor.

**Hülya ve bisikletin toplam kütleleri 54 kg olduğuna göre kinetik enerji kaç juldür?**

- A) 4760
- B) 3888
- C) 2785
- D) 1467

#### 4. Kütleleri 4 kg olan bir kutuya 50 J kütle çekim potansiyel enerji kazandırmak için kaç metre yüksekliğe çıkarmamız gerekir? ( $g = 10 \text{ m/s}^2$ )

- A)  $\frac{5}{4}$
- B)  $\frac{3}{2}$
- C)  $\frac{1}{2}$
- D) 1

#### 5. Bir inşaat işçisi 80 N ağırlığındaki tahta kutuyu 6 m yükseklikte olan ikinci kata 60 saniyede taşıyor.

**Buna göre işçinin gücü kaç watt olur?**

- A) 12
- B) 8
- C) 6
- D) 5

#### 6. Aşağıdaki araçlardan hangisi kimyasal enerjiyi kinetik enerjiye çevirir?

- A) Florasan lamba
- B) Elektrik motoru
- C) Flaman ampul
- D) Araba motoru

#### 7. Aşağıdakilerden hangisi fosil yakıt değildir?

- A) Petrol
- B) Kömür
- C) Deniz
- D) Doğal gaz

#### 8. Aşağıdakilerden hangisi yenilenemez enerji kaynaklarına örnek olarak verilebilir?

- A) Nükleer enerji
- B) Dalga enerjisi
- C) Gelgit enerjisi
- D) Jeotermal enerji

#### 9. Dengeli beslenmek ile ilgili;

- I. Çeşitli yiyecek gruplarından yeterli miktarda yememiz mümkündür.
- II. Besinlerden aldığımız enerji ile harcadığımız enerjinin dengeli olması gerekir.
- III. Enerji dengesini sağlayamazsak ya kilo alırız ya da kilo veririz.

**yargılarından hangileri doğrudur?**

- A) Yalnız I
- B) I ve II
- C) II ve III
- D) I, II ve III

#### 10. Aşağıdakilerden hangisi enerji tasarrufu için yapılan bir uygulama değildir?

- A) Isıyı ayarlayabilen kalorifer vanası kullanmak
- B) Yemek pişirmek için düdüklü tencere kullanmak
- C) Toplu taşıma araçları yerine özel otomobil kullanmak
- D) Odaları aydınlatmada flaman ampullü avize kullanmak

#### 11. Termometrenin hassasiyeti

- I. içindeki sıvının cinsi
- II. bölme sayısı
- III. kılcal borunun cinsi

**niceliklerinden hangilerine bağlıdır?**

- A) I ve II
- B) II ve III
- C) I ve III
- D) I, II ve III

#### 12. Bir öğrenci okul laboratuvarında kendi termometresini yapar ve kendi isminin baş harfini verir. Bu termometrede saf suyun donma sıcaklığını $-30^\circ\text{M}$ , kaynama sıcaklığını $120^\circ\text{M}$ olarak belirler.

**Bu termometre ile laboratuvarın sıcaklığını  $15^\circ\text{M}$  olarak okursa laboratuvarın sıcaklığı kaç  $^\circ\text{C}$ 'tur?**

- A) 32
- B) 30
- C) 28
- D) 24

#### 13. Bir maddenin sıcaklık değişiminden faydalanarak ısı miktarını ölçmeye yarayan araca ne ad verilir?

- A) Termometre
- B) Kalorimetre
- C) Dinamometre
- D) Termistör

#### 14. Sıcaklık ile ilgili;

- I. Bir enerjidir.
- II. Madde miktarına bağlıdır.
- III. Termometre ile ölçülür.

**yargılarından hangileri doğrudur?**

- A) Yalnız III
- B) I ve II
- C) II ve III
- D) I, II ve III

#### 15. Çaydanlıktaki 500 g suyun sıcaklığını $20^\circ\text{C}$ 'tan $90^\circ\text{C}$ 'a çıkarmak için suya verilmesi gereken ısı miktarı kaç kaloridir? ( $C_{su} = 1 \text{ cal/g}^\circ\text{C}$ )

- A) 35
- B) 350
- C) 3500
- D) 35000

#### 16. Bazı maddeler katı haldeyken ısı enerjisi alarak sıvı hale geçmeden gaz haline geçerler.

**Bu olaya ne ad verilir?**

- A) Süblimleşme
- B) Yoğunlaşma
- C) Buharlaşma
- D) Erime

#### 17. $0^\circ\text{C}$ 'ta 1 g buz $0^\circ\text{C}$ 'ta su haline getirmek için gerekli ısı miktarı kaç kaloridir? ( $L_f = 80 \text{ cal/g}$ )

- A) 0,8
- B) 8
- C) 80
- D) 800

## 2. OTURUM

### 18. Küresel ısınmaya karşı;

- I. Evsel atıkları geri dönüştürmek
- II. Her yıl bir ağaç dikmek
- III. Yenilenebilir enerji kaynaklarını kullanmak
- IV. Isınma sistemlerini bilinçli kullanmak

işlemlerinden hangileri gerçekleştirilmelidir?

- A) I ve II      B) Yalnız IV  
C) I ve III      D) I, II, III ve IV

### 19. Enerji iletim hızı maddenin,

- I. cinsi
- II. iki ucu arası sıcaklık farkı
- III. kalınlığı

faktörlerinden hangilerine bağlıdır?

- A) Yalnız I      B) Yalnız III  
C) I ve II      D) I, II ve III

### 20. Termostatlar sıcaklığı kontrol eden mekanizmalardır. Buna göre;

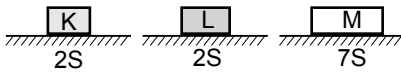
- I. elektrikli ısıtıcı
- II. buzdolabı
- III. kalorifer vanaları

araçlarının hangilerinde termostat kullanılabilir?

- A) I, II ve III      B) I ve II  
C) Yalnız II      D) Yalnız III

### (423) FİZİK – 3

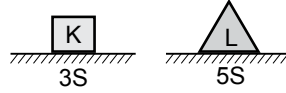
1. Ağırlıkları aynı olan şekildeki K, L, M cisimlerinin taban alanları sırasıyla 2S, 2S, 7S'dir.



Buna göre cisimlerin basınç kuvvetleri  $F_K$ ,  $F_L$ ,  $F_M$ 'nin büyüklükleri arasındaki ilişki nasıldır?

- A)  $F_K > F_L > F_M$   
B)  $F_K = F_L > F_M$   
C)  $F_M > F_K = F_L$   
D)  $F_K = F_L = F_M$

2. Şekildeki K ve L cisimlerinin yatay düzleme yaptıkları basınçlar eşittir.



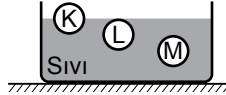
Buna göre K cisminin ağırlığı ( $G_K$ ), L cisminin ağırlığının ( $G_L$ ) kaç katıdır?

- A)  $\frac{3}{5}$       B)  $\frac{2}{5}$       C)  $\frac{1}{5}$       D) 1

3. Otomobil lastiklerinin basınçlarını ölçmek için kullanılan araçlara ne ad verilir?

- A) Dinamometre  
B) Termometre  
C) Barometre  
D) Manometre

4. Eşit hacimli K, L, M cisimleri sıvı içinde şekildeki gibi dengededir.



Buna göre cisimlerin ağırlıkları  $G_K$ ,  $G_L$ ,  $G_M$ 'nin büyüklükleri arasındaki ilişki nedir?

- A)  $G_K > G_L > G_M$   
B)  $G_M > G_L > G_K$   
C)  $G_M = G_L > G_K$   
D)  $G_K = G_L = G_M$

### 5. Aşağıda verilen;

- I. Katı maddeler, üzerlerine uygulanan kuvveti aynen iletir.
- II. Deniz seviyesinden yükseklere çıkıldıkça açık hava basıncı artar.
- III. Kaldırma kuvvetinin büyüklüğü sıvının özkütlesi ile doğru orantılıdır.

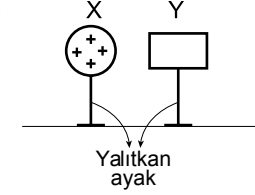
yargılarının doğru (D) ve yanlış (Y) sınıflandırılmasıyla oluşan tablo aşağıdakilerden hangisidir?

- |    | I | II | III |
|----|---|----|-----|
| A) | D | Y  | D   |
| B) | D | D  | Y   |
| C) | Y | D  | D   |
| D) | Y | Y  | D   |

6. Elektrik yüklerinin özellikleri ile ilgili aşağıdaki ifadelerden hangisi yanlıştır?

- A) Elektriklenmeyi sağlayan temel parçacık nötrondur.  
B) Nötr atomda pozitif yük sayısı negatif yük sayısına eşittir.  
C) Atom çekirdeğinde, pozitif yükler hareket etmez.  
D) Elektronlar cisimler arasında alınıp verilebilir.

### 7.



Artı yüklü X cismi, iletken ve yüksüz Y cismine şekildeki gibi yaklaştırılırsa Y cisminin yük dağılımı aşağıdakilerden hangisi gibi olur?

- A)      B)   
C)      D)

8. Aşağıdakilerden hangisi iletken maddedir?

- A) Porselen      B) Kauçuk  
C) Tuzlu su      D) Cam

### 9. Metal tellerin direnci ile ilgili,

- I. Telin boyu ile ters orantılıdır.
- II. Telin kesit alanı ile doğru orantılıdır.
- III. Telin cinsine bağlıdır.

yargılarından hangileri yanlıştır?

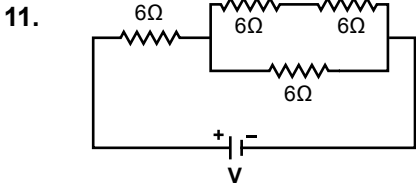
- A) Yalnız I      B) I ve II  
C) II ve III      D) Yalnız III

10. İletken K telinin uçları arasında 24 V gerilim uygulanınca 2A'lık akım geçmektedir.

Buna göre telin direnci kaç ohmdur?

- A) 12      B) 24      C) 36      D) 48

## 2. OTURUM



Şekildeki devrede eşdeğer direnç kaç ohmdur?

- A) 24 B) 18 C) 12 D) 10

12. 30 V'luk potansiyel farkı altında 2A akım geçiren bir iletkenin 15 saniyede harcadığı enerji kaç juldür?

- A) 3600 B) 1200  
C) 900 D) 180

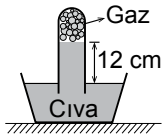
13. Elektrik akımının manyetik etkisiyle üretilmiş teknolojik araçlara;

- I. bulaşık makinası  
II. saç kurutma makinası  
III. bilgisayar

aletlerinden hangileri örnek olarak verilebilir?

- A) Yalnız I B) Yalnız II  
C) II ve III D) I, II ve III

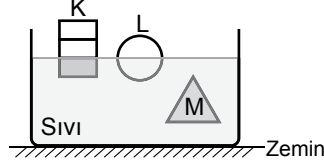
14. Açık hava basıncının 76 cm-Hg olduğu bir yerde şekildeki boruda civa yüksekliği 12 cm'dir.



Buna göre borudaki gaz basıncı kaç cm-Hg'dir?

- A) 76 B) 72 C) 64 D) 38

15. Ağırlıkları eşit K, L, M cisimleri şekildeki gibi sıvı içinde dengededir.

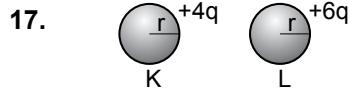


Buna göre cisimlere etkileyen kaldırma kuvvetleri ( $F_K, F_L, F_M$ ) arasındaki büyüklük ilişkisi nedir?

- A)  $F_M > F_L > F_K$   
B)  $F_K > F_L > F_M$   
C)  $F_K = F_L = F_M$   
D)  $F_K = F_L > F_M$

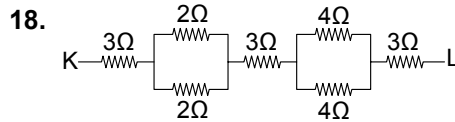
16. Aralarındaki uzaklık 3 m olan  $q_1 = 10^{-4}C$  ve  $q_2 = 2 \cdot 10^{-4}C$ 'luk yüklü cisimlerin birbirlerine uyguladıkları kuvvetin büyüklüğü kaç N'dur? ( $k = 9 \cdot 10^9 \frac{N \cdot m^2}{C^2}$ )

- A) 20 B) 30 C) 60 D) 270



Yükleri +4q ve +6q olan K, L küreleri birbirlerine dokundurulup ayrılırsa kürelerin son yükleri kaç q olur?

- A)  $\frac{K}{2q} \quad \frac{L}{5q}$   
B)  $5q \quad 5q$   
C)  $6q \quad 4q$   
D)  $6q \quad 6q$



Şekildeki devrede K - L arası eşdeğer direnç kaç  $\Omega$ 'dur?

- A) 16 B) 12 C) 18 D) 21

19. Açık hava basıncını ölçen alet aşağıdakilerden hangisidir?

- A) Altimetre B) Manometre  
C) Batimetre D) Barometre

20. Miknatısın kutuplarının oluşturduğu manyetik alandaki itme veya çekme durumları aşağıdakilerden hangisinde doğru verilmiştir?

- A)  $\boxed{N} \quad \boxed{S}$  B)  $\boxed{N} \quad \boxed{S}$   
 $\leftarrow \text{İter} \rightarrow \quad \rightarrow \text{Çeker} \leftarrow$
- C)  $\boxed{N} \quad \boxed{N}$  D)  $\boxed{S} \quad \boxed{S}$   
 $\rightarrow \text{Çeker} \leftarrow \quad \rightarrow \text{Çeker} \leftarrow$

### (424) FİZİK - 4

1. Periyodik dalga üreten bir kaynak saniyede 16 dalga üretiyorsa kaynağın periyodu kaç s'dir?

- A)  $\frac{1}{16}$  B) 16 C) 8 D)  $\frac{1}{8}$

2. Aşağıdakilerden hangisi elektromanyetik dalgalara örnek değildir?

- A) Radyo dalgaları  
B) X-ışınları  
C) Su dalgaları  
D) Gama ışınları

3. Periyodik bir dalga kaynağı saniyede 4 dalga üretmektedir. Dalgaların yayıldığı ortamdaki hızı 20 cm/s olduğuna göre dalga boyu kaç cm'dir?

- A) 5 B) 10 C) 15 D) 20

4. Aşağıdakilerden hangisi yalnızca enine dalga özelliği gösterir?

- A) Su dalgası  
B) Yay dalgası  
C) Ses  
D) Elektromanyetik dalga

5. Bir dalga leğeninde doğrusal dalgalara 16 yarıklı stroboskobun arkasından bakılıyor. Stroboskobun frekansı  $\frac{1}{2} s^{-1}$  olduğunda dalgalarda hareketsizmiş gibi görünüyor.

Dalgaların frekansı kaç s<sup>-1</sup>'dir?

- A) 4 B) 6 C) 8 D) 10

## 2. OTURUM

6. Gergin bir yayda oluşturulan atmanın hızı;

- I. yayı geren kuvvetin büyüklüğü
- II. yayın kütlesi
- III. yayın uzunluğu

verilenlerden hangilerinin arttırılmasıyla hızı artar?

- A) Yalnız I
- B) I ve III
- C) II ve III
- D) I, II ve III

7. Su dalgalarıyla ilgili;

- I. Su dalgaları derin ortamda sığ ortama göre daha yavaş ilerler.
- II. Su dalgalarının dalga boyu derin ortamda sığ ortama göre daha küçüktür.
- III. Su dalgalarının frekansı dalga kaynağının frekansına bağlıdır.

yargılarından hangileri doğrudur?

- A) Yalnız I
- B) Yalnız III
- C) II ve III
- D) I, II ve III

8. Birbirine eklenmiş ince ve kalın yaylardan kalın yayda oluşturulan periyodik dalgalar ince yaya geçtiğinde;

- I. frekansı
- II. hızı
- III. dalga boyu

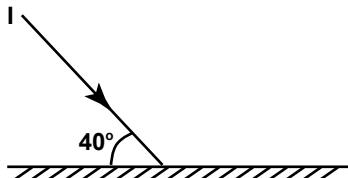
niceliklerinden hangileri artar?

- A) I ve II
- B) II ve III
- C) I ve III
- D) I, II ve III

9. Aşağıdakilerden hangisi saydam olmayan maddelere örnek verilir?

- A) Hava
- B) Su
- C) Taş
- D) Buzlu cam

10. Düzlem aynaya şekildeki gibi gelen I ışınının düzlem aynadan yansımaya açısı kaç derecedir?

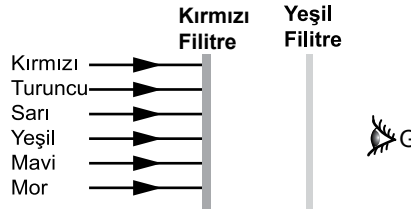


- A) 40
- B) 50
- C) 60
- D) 70

11. Çukur aynanın önüne yerleştirilen bir cismin görüntüsü aşağıdakilerden hangisi gibi olamaz?

- A) Düz ve cisimden büyük
- B) Ters ve cisimden büyük
- C) Ters ve cisimden küçük
- D) Düz ve cisimden küçük

12. Üzerine beyaz ışık düşürülen renkli saydam maddelere (filtreler) G noktasından bakıldığında hangi renkte görünür?



- A) Siyah
- B) Sarı
- C) Kırmızı
- D) Yeşil

13. Bir merceğin odak uzaklığı;

- I. merceğin kırılma indisi
  - II. ortamın indisi
  - III. merceklerin eğrilik yarıçapları
- yargılarından hangilerine bağlıdır?

- A) I ve II
- B) II ve III
- C) I ve III
- D) I, II ve III

14. İnce kenarlı bir mercekte sonsuzdaki bir cismin görüntüsü nerede oluşur?

- A) Merkezde
- B) Merkez ile odak arasında
- C) Odakta
- D) Odak ile mercek arasında

15. Işık prizmasına gönderilen beyaz ışık renklerine ayrıldığında en çok kırılan ışık hangi renktir?

- A) Kırmızı
- B) Yeşil
- C) Sarı
- D) Mor

16. Deprem dalgaları ile ilgili;

- I. Yer kabuğundaki kırılma sonucu oluşan titreşim hareketine deprem dalgası denir.
- II. Deprem dalgaları geçtiği yerleri sarsarak ciddi hasarlara yol açabilir.
- III. Deprem dalgaları kaynaktan uzaklaştıkça enerjisini azaltarak yayılır.

yargılarından hangileri doğrudur?

- A) Yalnız I
- B) I ve III
- C) I, II ve III
- D) II ve III

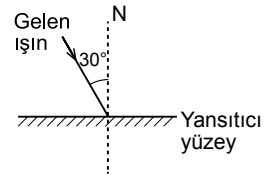
17. Bir dalga kaynağı 4s'de 60 dalga üretiyor. Dalga boyu  $\lambda=8$  cm olduğuna göre yayılan dalgaların hızı kaç cm/s'dir?

- A) 340
- B) 120
- C) 80
- D) 24

18. Aşağıdakilerden hangisi saydam cisimdir?

- A) Buzlu cam
- B) Mumlu kağıt
- C) Hava
- D) Toprak

19.



Şekildeki gibi yansıtıcı yüzeye 30°'lik açı ile gelen ışığın yansımaya açısı kaç derecedir?

- A) 30
- B) 40
- C) 60
- D) 90

20. Sonsuzdaki bir cismin kalın kenarlı mercekteki görüntüsü ile ilgili,

- I. Cismin olduğu taraftadır.
- II. Sanaldır.
- III. Odakta nokta şeklinde oluşur.

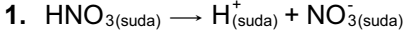
yargılarından hangileri doğrudur?

- A) I, II ve III
- B) I ve II
- C) Yalnız III
- D) Yalnız I



## 2. OTURUM

(433) KİMYA – 3



**Sudaki iyonlaşma denklemleri yukarıdaki gibi olan  $\text{HNO}_3$  'ün sulu çözeltisi ile ilgili aşağıdakilerden hangisi yanlıştır?**

- A)  $25^\circ\text{C}$  'de pH değeri 7'den küçüktür.  
 B) Turnusol kağıdını kırmızıya çevirir.  
 C) Elde kayganlık hissi uyandırır.  
 D) Elektrik akımını iletir.

2. **Aşağıdaki tepkimelerde su ile etkileşen türlerden hangisi bazik özellik gösterir?**

- A)  $\text{CO}_2 + \text{H}_2\text{O} = \text{HCO}_3^- + \text{H}^+$   
 B)  $\text{SO}_2 + \text{H}_2\text{O} = \text{HSO}_3^- + \text{H}^+$   
 C)  $\text{NH}_4\text{Br} + \text{H}_2\text{O} = \text{NH}_3 + \text{Br}^- + \text{H}_3\text{O}^+$   
 D)  $\text{NaCN} + \text{H}_2\text{O} = \text{HCN} + \text{Na}^+ + \text{OH}^-$

3. Bazı sulu çözeltilere ait pH değerleri aşağıdaki gibidir.

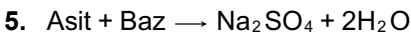
- pH = 0
- pH = 5
- pH = 9
- pH = 14

**Buna göre bu çözeltilerden kaç tanesi baz çözeltilidir?**

- A) 1 B) 2 C) 3 D) 4

4. **Aşağıda verilen maddelerden hangisi ile hazırlanan sulu çözeltideki  $\text{OH}^-$  iyon sayısı  $\text{H}^+$  iyon sayısından fazladır?**

- A)  $\text{NH}_3$  B)  $\text{CH}_3\text{COOH}$   
 C)  $\text{H}_2\text{SO}_4$  D)  $\text{HClO}_4$



**Yukarıda verilen tepkimede kullanılan asit ve baz aşağıdakilerin hangisinde doğru verilmiştir?**

	Asit	Baz
A)	$\text{H}_2\text{S}$	$\text{NaOH}$
B)	$\text{H}_2\text{SO}_4$	$\text{NaOH}$
C)	$\text{NaOH}$	$\text{H}_2\text{SO}_4$
D)	$\text{NaOH}$	$\text{H}_2\text{S}$

6. **Yaygın adı potastokstik olan bileşiğin formülü aşağıdakilerden hangisidir?**

- A) KOH B) NaOH  
 C) CaO D)  $\text{CaCO}_3$

7. • Halk arasında karınca asidi olarak bilinir.  
 • Böcek öldürücü ilaç üretiminde kullanılır.

**Yukarıda bazı özellikleri verilen madde aşağıdakilerden hangisidir?**

- A) HF B)  $\text{H}_2\text{SO}_4$   
 C) HCl D) HCOOH

8. **Aşağıda verilen tepkimelerden hangisinin sonucunda gaz açığa çıkmaz?**

- A)  $\text{Ca} + \text{H}_2\text{SO}_4 \rightarrow$   
 B)  $\text{Al} + \text{HCl} \rightarrow$   
 C)  $\text{Au} + \text{HCl} \rightarrow$   
 D)  $\text{Zn} + \text{HNO}_3 \rightarrow$

9. I.  $\text{SO}_2$   
 II.  $\text{SO}_3$   
 III.  $\text{NO}_2$

**Yukarıda verilenlerden hangileri asit yağmurlarına sebep olur? ( $7\text{N}, 8\text{O}, 16\text{S}$ )**

- A) Yalnız I B) I ve II  
 C) II ve III D) I, II ve III

10. **Aşağıda bazı tuzlara ait yaygın adlar verilmiştir.**

**Buna göre hangi tuzun yaygın adı yanlış yazılmıştır?**

Tuz formülü	Yaygın adı
A) NaCl	Sofra tuzu
B) $\text{Na}_2\text{CO}_3$	Çamaşır sodası
C) $\text{CaSO}_4$	Sönmüş kireç
D) $\text{NH}_4\text{Cl}$	Nişadır

11. **Aşağıda verilen madde örneklerinden hangisi homojen bir karışımdır?**

- A) Kan B) Ayran  
 C) Su D) Tuzlu su

12.

	Madde	Molekül polarlığı
I.	Sıvı yağ	Apolar
II.	Etanol	Polar
III.	Karbon tetraklorür	Apolar

**Verilen maddelerden hangileri saf suda iyi çözünür?**

- A) Yalnız II B) I ve II  
 C) I ve III D) I, II ve III

13. **Aşağıda verilen çözelti örneklerinin hangisinde hem çözücü madde sıvı hem de çözünen madde sıvıdır?**

- A) Tuzlu su B) Temiz hava  
 C) Kolonya D) Çelik

14. **40 gram şekerin 160 gram saf su içerisinde tamamen çözünmesi sonucu hazırlanan çözeltide şekerin kütlece yüzde derişimi kaçtır?**

- A) 4 B) 20 C) 30 D) 80

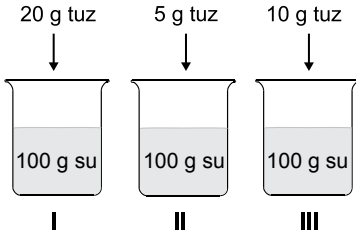
15. **1 mg  $\text{Ca}^{2+}$  iyonu bulunan 100 gram suyun derişimi kaç ppm' dir?**

- A) 0,1 B) 1  
 C) 10 D) 100

## 2. OTURUM

(434) KİMYA – 4

16. Aynı şartlarda bulunan su örneklerine üzerindeki maddeler eklenerek tamamen çözünüyor.



Hazırlanan bu çözeltilerin kaynama noktalarının karşılaştırılması aşağıdakilerin hangisinde doğru verilmiştir?

- A) II > III > I    B) I > II > III  
C) III > I > II    D) I > III > II
17. Aşağıdakilerden hangisi tanecik boyutu farkından yararlanılarak yapılan bir ayırma yöntemidir?
- A) Diyaliz    B) Yüzdürme  
C) Damıtma    D) Ayırma hunisi

18.

Madde	Kaynama noktası
Etil alkol	78°C
Su	100°C

Buna göre etil alkol - su karışımı hangi yöntemle ayrılabilir?

- A) Ayırma hunisi  
B) Ayrımsal damıtma  
C) Süzme  
D) Yüzdürme
19. • Süt  
• Şekerli su  
• Hava  
• Gazoz
- Yukarıda verilen karışım örneklerinden kaç tanesi çözeltilidir?
- A) 1    B) 2    C) 3    D) 4
20. Hacimce % 20'lik etil alkol içeren 300 mL sulu çözeltide kaç mL etil alkol vardır?
- A) 10    B) 20    C) 40    D) 60

1. Metan (CH<sub>4</sub>), etan (C<sub>2</sub>H<sub>6</sub>) ve propan (C<sub>3</sub>H<sub>8</sub>) gibi uçucu hidrokarbonlar karışımı olan fosil yakıt aşağıdakilerden hangisidir?

A) Linyit    B) Kok kömür  
C) Antrasit    D) Doğalgaz

2. • Ham madde olarak kömür havasız ortamda tepkimeye sokulur.  
• Saf karbon ve külden oluşan gözenekli bir katıdır.  
• Endüstriyel amaçlar için ham madde olarak kullanılır.

Yukarıda bazı özellikleri verilen kömür çeşidi aşağıdakilerden hangisidir?

A) Antrasit    B) Turba  
C) Kok    D) Linyit

3. Petrol ürünlerinde kütlece yüzde bileşimi en fazla olan element aşağıdakilerden hangisidir?

A) Karbon (C)  
B) Hidrojen (H)  
C) Oksijen (O)  
D) Kükürt (S)

4. Benzen (C<sub>6</sub>H<sub>6</sub>) halkasındaki bir C atomunun bir N atomu ile yer değiştirmesi sonucu oluşan C<sub>5</sub>H<sub>5</sub>N bileşiğinin adı aşağıdakilerden hangisidir?

A) Tolüen    B) Amonyak  
C) Anilin    D) Piridin

5. Güneş enerjisi için;

I. Çevreye olumsuz bir etkisi yok sayılır.  
II. Yenilenebilir enerjilerdendir.  
III. %100 verimle elektriğe dönüştürülebilir.

verilenlerden hangileri doğrudur?

A) I ve II    B) I ve III  
C) II ve III    D) I, II ve III

6. Aminoasit molekülünde - - I - - grubuna amino, - - II - - grubuna karboksil grubu denir.

Yukarıda verilen açıklamadaki I ve II numaralı boşluklara aşağıdakilerden hangisi getirilmelidir?

	I	II
A)	-OH	-CN
B)	-NH <sub>2</sub>	-COOH
C)	-COOH	-NH <sub>2</sub>
D)	-CN	-OH

7. Aşağıdakilerden hangisi bir polisakkarittir?

A) Glikoz    B) Fruktoz  
C) Maltoz    D) Nişasta

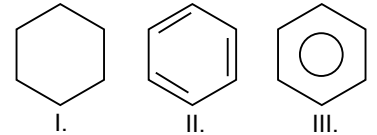
8. Bitki kökenli yakıtlar için;

I. Temiz enerji kaynaklarıdır.  
II. Açığa çıkardıkları enerjiye biyoenerji denir.  
III. Bu yakıtlara biyokütle de denir.

yargılarından hangileri doğrudur?

A) Yalnız I    B) I ve II  
C) II ve III    D) I, II ve III

9.



Yukarıda verilenlerden hangileri benzenin (C<sub>6</sub>H<sub>6</sub>) gösterim şekillerindedir?

A) Yalnız I    B) Yalnız II  
C) II ve III    D) I, II ve III

10. Hidrokarbonlar için;

I. Pi (π) bağı içerirler.  
II. C ve H atomlarından oluşurlar.  
III. Doymuşlardır.

yargılarından hangileri kesinlikle doğrudur?

A) Yalnız I    B) Yalnız II  
C) I ve II    D) II ve III

## 2. OTURUM

11. ---- ve ---- iyonları bakımından zengin sulara sert su denir.

**Verilen boşluklara aşağıdaki iyon çiftlerinden hangisinin gelmesi uygundur?**

- A)  $Ca^{2+}$  ve  $Mg^{2+}$   
B)  $Cr^{3+}$  ve  $K^+$   
C)  $Na^+$  ve  $Ba^{2+}$   
D)  $Li^+$  ve  $K^+$

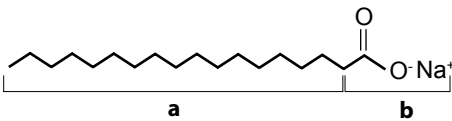
12. Aşağıdakilerden hangisi şehirlerde kullanılan suların artırımında uygulanan işlemlerden değildir?

- A) Dinlendirme  
B) Florlama  
C) Sertlik (kireç) giderme  
D) Havalandırma

13. Aşağıdaki açıklamalardan hangisi yanlıştır?

- A) Tatlı su kaynaklarının veya yataklarının yakınına yerleşim yerleri kurulmalıdır.  
B) Sert sular sabun ile temas ettiğinde sabun taşı denilen bir çökelek oluştururlar.  
C) Kireçli kaynak sularının pH değeri 7' den büyüktür.  
D) İçme sularında bulunan mikroorganizmalar kolera, tifo ve dizanteri gibi salgın hastalıklara yol açabilir.

14. Bir moleküle ait çizgi - bağ gösterimi aşağıdaki gibidir.



**Bu molekül ile ilgili;**

- I. Sabuna aittir.  
II. b kısmı hidrofildir.  
III. a kısmı hidrofobtur.

**İfadelerden hangileri doğrudur?**

- A) Yalnız I  
B) I ve II  
C) II ve III  
D) I, II ve III

15. "Avrupa Birliği, gıda katkı maddelerini kısa yoldan göstermek için bir kodlama sistemi geliştirmiştir. Bu sistemde her katkı kodu ---- harfi ile başlar ve üç veya dört rakamdan oluşan bir sayı ile tamamlanır."

**Verilen ifadede boş bırakılan yere aşağıdakilerden hangisi getirilmelidir?**

- A) E B) D C) U D) T

16. Aşağıdakilerden hangisi doğal bir polimer değildir?

- A) Kauçuk B) Naylon  
C) İpek D) Protein

17. Aşağıda verilenlerden hangisi sabunlar ve deterjanlar için ortak özelliktir?

- A) Bitkisel ve hayvansal yağlardan elde edilir.  
B) Hidrofil ve hidrofob uç içerir.  
C) Sert sulardan çok az etkilenir.  
D) Doğada kolay parçalanamayan maddelerden oluşur.

18. Bazı bileşiklere ait bileşik formülü ve yaygın isimleri aşağıdaki gibidir.

	Bileşik formülü	Yaygın adı
I.	$CaCO_3$	Kireç taşı
II.	$CaO$	Sönmüş kireç
III.	$Ca(OH)_2$	Sönmemiş kireç

**Verilen bileşiklerden hangilerinin yaygın adı doğru verilmiştir?**

- A) Yalnız I  
B) I ve II  
C) II ve III  
D) I, II ve III

19. Aşağıdakilerden hangisi sera gazlarını artıran insan faaliyetleri arasında yer alır?

- A) Yakma sistemlerinin geliştirilmesi  
B) Ormanlık alanların artırılması  
C) Petrol rafinerileri gibi endüstriyel faaliyetler  
D) Fosil yakıt tüketiminin azaltılması

20. I. Plastikler  
II. Piller ve aküler  
III. Endüstri atıkları

**Yukarıda verilenlerden hangileri toprak kirliliğine neden olan etkenlerdendir?**

- A) Yalnız I  
B) I ve II  
C) II ve III  
D) I,II ve III

(443) BİYOLOJİ – 3

1. Aşağıda verilenlerden hangisi hücre döngüsünün interfaz basamağında görülür?

- A) DNA eşlenmesi  
B) Sitokinez  
C) Telofaz  
D) Metafaz

2. • Mitozun ikinci evresidir.  
• Kromozomlar kinetokorlarından iğ ipliklerine tutunmuştur.  
• Kromozomların mikroskopta en belirgin görüldüğü evredir.

**Özellikleri verilen mitoz bölünme evresi aşağıdakilerden hangisidir?**

- A) Profaz  
B) Anafaz  
C) Metafaz  
D) Telofaz

3. Kromozom sayısı 12 olan bir hücre arka arkaya dört mitoz bölünme geçirirse,

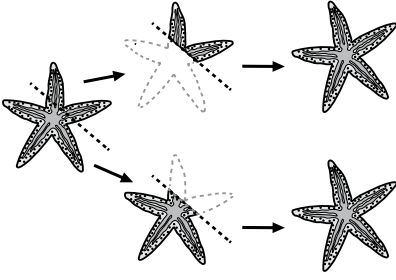
- a) Oluşan hücre sayısı  
b) Her bir hücrenin kromozom sayısı

**değerleri aşağıdakilerden hangisinde verilmiştir?**

- |    | a  | b  |
|----|----|----|
| A) | 8  | 6  |
| B) | 8  | 12 |
| C) | 16 | 6  |
| D) | 16 | 12 |

## 2. OTURUM

4.



Denizyıldızı için verilen eşeysiz üreme şekli aşağıdakilerden hangisidir?

- A) Bölünme
- B) Rejenerasyon
- C) Spor
- D) Tomurcuklanma

5. Hidranın tomurcuklanması sonucu oluşan ve ana bireye bağlı kalarak yaşayan canlıya a, koloniden eşeysiz çoğalarak ayrılan ve serbest olarak yaşayan bireylere de b denildiğine göre, a ve b için aşağıdakilerden hangisi yanlıştır?

- A) a, poliptir.
- B) b, medüzdür.
- C) b, tomurcuklanarak çoğalır.
- D) a ve b ana bireyle aynı genetik yapıya sahiptir.

6. Bazı bitkilerin yan dallarının uçları toprakla örtülüp gelişmeye bırakılabilir. Toprak altında kalan dallardan yeni kökler meydana gelir ve gelişir. Yan dalların gelişimleri yeterli düzeye geldiğinde ana bitkiden kesilerek ayrılır.

Yukarıda anlatıldığı şekilde bir bitkinin vejetatif üremesi hangi yöntemle olur?

- A) Daldırma
- B) Aşılama
- C) Çelikleme
- D) Doku kültürü

7. I. Mayoz bölünmelerle gamet oluşturulur.  
II. Döllenmeyle zigot oluşur.  
III. Oluşan bireyler ata bireylerden farklı kalıtsal özelliklere sahiptir.

Verilenlerden hangileri bir canlının eşeysiz üremesi sırasında gözlenmez?

- A) I ve II
- B) I ve III
- C) II ve III
- D) I, II ve III

8. a. Tetrat oluşması  
b. Homolog kromozomların ayrılması  
c. Kardeş kromatitlerin ayrılması  
d. Kromozom sayısının sabit kalması

Verilenler Mayoz I ve Mayoz II'de gerçekleşenler şeklinde sınıflandırılırsa hangisi doğru olur?

- | Mayoz I   | Mayoz II |
|-----------|----------|
| A) a ve b | c ve d   |
| B) a ve c | b ve d   |
| C) b ve c | a ve d   |
| D) b ve d | a ve c   |

9. Mayoz bölünmede kalıtsal çeşitlilik gözlenmesinin asıl nedeni verilenlerden hangisidir?

- A) Cross-over'ın görülmesi
- B) Homolog kromozomların ayrılması
- C) İki aşamada gerçekleşmesi
- D) Tek interfaz olması

10. Bakterilerde gözlenen konjugasyon olayı ile ilgili verilenlerden hangisi yanlıştır?

- A) Konjugasyonda görev yapan eşey piluslarının üretilmesi için gerekli bilgiyi taşıyan plazmite F plazmiti denir.
- B) Konjugasyon olayında gen aktarımı F+'dan F-'ye doğru tek yönlü gerçekleşir.
- C) Konjugasyon ile ani sıcaklık değişimleri, besin yetersizliği, antibiyotik uygulaması gibi durumlara dirençli bakteriler oluşur.
- D) Konjugasyon ile birey sayısı artırılarak bakteri türlerinin devamlılığı sağlanmıştır.

11. Aşağıda verilen hücrelerin hangisi mayoz bölünme geçiremez?

- A) Yumurta hücresi
- B) Sperm ana hücresi
- C) Yumurta ana hücresi
- D) Spor ana hücresi

12. Bir homolog kromozom çiftinin bir araya gelerek oluşturduğu dört kromatitli yapıya ne ad verilir?

- A) Cross-over
- B) Sinaps
- C) Tetrat
- D) Konjugasyon

13. Bakteri hücrelerinde ana kalıtım maddelerinden başka, daha küçük olan halkasal DNA'ya ne ad verilir?

- A) Plazmit
- B) Gen
- C) Pilus
- D) Nükleotit

14. Kraliçe arı(2n)  $\xrightarrow{I}$  Yumurta  $\xrightarrow{II}$  Erkek arı(n)

Arılarda gözlenen yukarıdaki olaylar ile ilgili verilenlerden hangisi yanlıştır?

- A) Yumurta mayoz sonucu oluşmuştur.
- B) II. Olayda mitoz bölünme gerçekleşir.
- C) I. Olayda oluşan yumurta n kromozomludur.
- D) Bu olaylar sadece arılarda görülür.

15. İnsanda üreme sisteminin temel görevi nedir?

- A) Gamet oluşturmak
- B) Kalıtsal devamlılık sağlamak
- C) Çeşitlilik sağlamak
- D) Birey sayısını artırmak

16. İnsanda erkek ve dişinin üreme organlarında meydana gelen sperm ve yumurta hangi açıdan farklılık gösterebilir?

- A) Mayoz sonucu oluşma
- B) Kromozom sayısı
- C) Gonozom çeşidi
- D) Üreme organında oluşma

17. Aşağıdakilerden hangisi insan embriyosunun gelişmesi sırasında embriyoyu korumak, gaz alış-verişini düzenlemek, beslenmeyi sağlamak ve atıkları uzaklaştırmak için görevli yapılardan biri değildir?

- A) Blastula
- B) Koriyon zarı
- C) Göbek bağı
- D) Amniyon zarı

## 2. OTURUM

18. Aşağıdakilerden hangisi cinsel yolla bulaşan hastalıklardan biri değildir?

- A) AIDS B) Frengi  
C) Hepatit B D) Diabet

19. Evli çiftlere istedikleri zaman ve istedikleri kadar çocuk sahibi olmaları konusunda yapılan planlamanın sağladığı yarar aşağıdakilerden hangisi olamaz?

- A) Ailenin sağlıklı ve eğitilmiş çocuk yetiştirmesi daha kolaylaşır.  
B) Çok sayıda çocuk sahibi olunarak çocuk bakımı geliştirilir.  
C) Ailelere bakabilecekleri kadar çocuk sahibi olma bilinci kazandırılır.  
D) Toplumda eğitim düzeyi daha yüksek bireyler kazandırılır.

20. Mayoz bölünmenin canlılar için önemi aşağıdakilerden hangisinde yanlış verilmiştir?

- A) Türün kromozom sayısı korunur.  
B) Genetik çeşitlilik sağlanır.  
C) Kromozom sayısı yarıya indirilir.  
D) Kalıtsal devamlılık sağlanır.

### (444) BİYOLOJİ – 4

1. • Kalıtsal olarak bir canlıdan yavrulara aktarılabilen özelliklerdir.  
• Bir karakterin kalıtımından sorumlu gen çeşitlerinden her biridir.  
• Kromozomlarda, her karakter için ilgili genin kapladığı bölgedir.

Verilen açıklamalar incelendiğinde aşağıdakilerden hangisinin karşılığı yoktur?

- A) Dominant B) Lokus  
C) Karakter D) Alel

2. Homozigot sarı tohumlu bezelyenin yeşil tohumlu bezelye ile tozlaştırılmasıyla oluşacak F<sub>2</sub> dölündeki fenotip oranı ne olur? (Sarı tohumluluk yeşil tohumluluk üzerine baskındır.)

- A) 1 : 1 B) 1 : 2  
C) 1 : 3 D) 1 : 2 : 1

3. 2n = AaBbCCDdee genotipli bir hücrenin mayoz bölünme yapmasıyla oluşacak gamet çeşit sayısı aşağıdakilerden hangisinde verilmiştir?

- A) 4 B) 8 C) 16 D) 32

4. Eksik baskınlıkla ilgili olarak,

- I. Bir karakteri belirleyen genlerin birbiri üzerine baskınlık kuramaması sonucu oluşur.  
II. Oluşan fenotip çeşit sayısı daima genotip çeşit sayısından fazla olur.  
III. Sadece bitkilerde gözlenebilen bir durumdur.

verilenlerden hangileri doğrudur?

- A) Yalnız I B) I ve II  
C) I ve III D) II ve III

5.

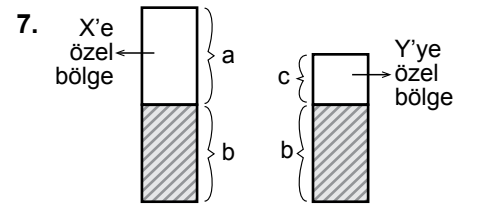
Kan grubu fenotipi	A	B	AB	0
Alyuvardaki Antijen	I		II	
Plazmadaki Antikor		III		IV

Kan grupları ile ilgili verilen tablo incelendiğinde I, II, III ve IV için aşağıdakilerden hangisi yanlıştır?

- A) I, A antijenidir.  
B) II' de iki farklı antijen bulunur.  
C) III, Anti - B' dir.  
D) IV' te iki farklı antikor bulunur.

6. Heterozigot A Rh + kan gruplu bir kadınla, heterozigot B Rh - kan gruplu bir erkeğin evliliğinden 0 Rh - kan gruplu bir kız çocuğunun olma olasılığı nedir?

- A) 1 / 8 B) 1 / 16  
C) 1 / 32 D) 3 / 32



Verilen şekil incelendiğinde a, b ve c için aşağıdakilerden hangisi yanlıştır?

- A) Renk körlüğü geni a'da taşınır.  
B) b'deki özelliklerin kadınlarda görülme olasılığı yüksektir.  
C) c'deki özellikler sadece erkeklerde ortaya çıkar.  
D) Balık pulluluk ve yapışık parmaklık c'deki genlerle taşınır.

8. Renk körlüğü genini taşıyan sağlıklı bir kadınla, renk körü bir erkeğin evliliğinden doğacak çocuklarla ilgili aşağıdakilerden hangisi yanlış olur?

- A) Sağlıklı erkek çocukları olabilir.  
B) Renk körü erkek çocukları olabilir.  
C) Renk körü kız çocuğu olmaz.  
D) Taşıyıcı kız çocukları olabilir.

9. I. 22 + X  
II. 22 + Y  
III. 22 + XX  
IV. 22 + 0

Verilen gametlerden hangilerinin döllenmesiyle Tripl - X sendromu ortaya çıkar?

- A) I ve III B) II ve III  
C) II ve IV D) III ve IV

10. Down sendromlu bireylerle ilgili olarak verilenlerden hangisi yanlış bir açıklamadır?

- A) 47 kromozomludurlar.  
B) Erkekleri 45 + XX formülü ile gösterilir.  
C) Otozomal ayrılmama sonucu oluşur.  
D) Eşey organları tam gelişmediği için kısırdırlar.

## 2. OTURUM

11. DNA parmak analizi, verilen hangi olayın çözümünde kullanılmaz?

- A) Çeşitliliğin artırılması
- B) Babalık davaları
- C) Göçmen sorunları
- D) Türlerin korunması

12. DNA parmak izi analizi suçluların belirlenmesinde kullanılan oldukça yaygın bir analiz yöntemidir.

**Olay yeri incelemelerinde hangisinden alınacak kalıntılar suçluların bulunmasında kolaylık sağlamaz?**

- A) Kıl
- B) Kan
- C) Tükürük
- D) İdrar

13. Aşağıdakilerden hangisi biyoteknolojide kullanılan modern yöntemlerden biri değildir?

- A) Hamurun mayalanması
- B) Yapay dölleme
- C) Poliploidi
- D) Gen klonlaması

14. Aşağıdakilerden hangisi ülkemizdeki popülasyonlardan biri değildir?

- A) Karadeniz'deki hamsi balıkları
- B) Toroslardaki sarı çamlar
- C) Kutuplardaki penguenler
- D) Bolu ormanlarındaki meşe palamutları

15. Yerküre üzerindeki canlı ve cansız varlıkların yer aldığı katmana biyosfer denir. Biyosferin yapısında da popülasyon, komünite ve ekosistem yer alır.

**Buna göre bu kavramların büyüklüklerine göre sıralanışı nasıl olmalıdır?**

- A) Popülasyon > Komünite > Ekosistem
- B) Ekosistem > Komünite > Popülasyon
- C) Ekosistem = Komünite = Popülasyon
- D) Ekosistem = Komünite > Popülasyon

16. Aşağıdakilerden hangisi ekosistemin abiyotik faktörlerinden biri değildir?

- A) Bitkiler
- B) İklim
- C) Mineral
- D) Sıcaklık

17. Aşağıdakilerden hangisi ayrıştırıcıların özelliklerinden biri değildir?

- A) Organik artık maddeleri ayrıştırırlar.
- B) Toprağı mineral bakımından zenginleştirirler.
- C) Toprağa organik madde sağlamış olurlar.
- D) Madde döngüsünde rol oynarlar.

18. Holozoik beslenen canlılar kendi içlerinde otçul, etçil ve hepçil beslenenler olmak üzere üç grupta incelenirler.

**Buna göre aşağıdakilerden hangisi bu üç grup canlıda görülen ortak özelliklerdendir?**

- A) Bitkisel kaynaklı beslenirler.
- B) Sindirim kanalı uzundur.
- C) Sindirim sistemleri iyi gelişmiştir.
- D) Kesici ve köpek dişleri gelişmiştir.

19. Aşağıdakilerden hangisi karşılıklı yarar ilişkisine dayanan bir birliktelik örneği değildir?

- A) Alg - Mantar
- B) Canavarotu – Elma ağacı
- C) Termit - Selüloz sindiren bakterisi
- D) Timsah – Kürdan kuşu

20. Besin piramidinde, piramidin tavanından tabanına doğru gidildikçe aşağıdakilerden hangisi gözlenmez?

- A) Vücut büyüklüğü azalır.
- B) Biyokütle artar.
- C) Zehir birikimi azalır.
- D) Birey sayısı azalır.

(451) ÇAĞ.TÜRK VE DÜN.TAR. – 1

1. • Hammadde ve pazar sorunu  
• Sanayi İnkılabı'nın etkisi  
• Sömürgecilik

**gibi gelişmeler I. Dünya Savaşı'nın hangi nedenlerindenidir?**

- A) Dinî
- B) Coğrafi
- C) Kültürel
- D) Ekonomik

2. Paris Konferansı'nın toplanmasının temel amacı aşağıdakilerden hangisidir?

- A) I. Dünya Savaşı'nda yenilen devletlerle yapılacak antlaşmaları görüşmek
- B) Almanya'nın Alsas - Loren Bölgesi'ni Fransa'ya geri vermesini sağlamak
- C) Osmanlı Devleti'nin toprak bütünlüğünü korumak
- D) İstanbul merkezli Bizans Devleti'ni kurmak

3. I. Versay Antlaşması  
II. Nöyvi Antlaşması  
III. Sen Jermen Antlaşması  
IV. Sevr Antlaşması

**Yukarıda verilen I. Dünya Savaşı'nı bitiren antlaşmaların kronolojik sıralaması hangi seçenekte doğru yapılmıştır?**

- A) I - II - III - IV
- B) II - IV - III - I
- C) I - III - II - IV
- D) IV - III - I - II

4. Aşağıdakilerden hangisi Lenin ile ilgili doğru bir bilgi değildir?

- A) Vladimir İlyiç Ulyanov ya da diğer adıyla Lenin, 21 Ocak 1924'te ölmüştür.
- B) Ekim Devrimi'nin lideri ve Sovyetler Birliği'nin kurucusudur.
- C) Ölümünden sonra yerine Nikita Kruşçev geçmiştir.
- D) Rus sosyalist devrimcisi ve politikacıdır.

## 2. OTURUM

5. 1922 yılında Ürdün aşağıdaki hangi devletin mandası olarak kurulmuştur?

- A) Almanya B) İngiltere  
C) Fransa D) İtalya

6. Mançurya toprakları üzerindeki Japon - Rus rekabeti hangi yıl savaşa dönüşmüştür?

- A) 1904 B) 1914  
C) 1931 D) 1961

7. • İtalya'da faşist bir parti kuran Mussolini'nin gizli örgüt mensuplarına verilen isimdir.  
• 1922 yılında Napoli'den Roma'ya yürüyerek mevcut hükümeti devirmiş ve Mussolini'nin iktidara gelmesini sağlamışlardır.

Hakkında kısa bilgi verilen örgüt aşağıdakilerden hangisidir?

- A) Naziler  
B) Basmacılar  
C) Bolşevikler  
D) Kara Gömlekliler

8. Atatürk Dönemi'nde Türkiye en çok aşağıdaki hangi devlet ile yakın ilişkiler kurmaya çalışmıştır?

- A) ABD B) Fransa  
C) İngiltere D) Sovyet Rusya

9. Aşağıdaki devletlerden hangisi "Müttefik" grubunda yer alır?

- A) SSCB B) İtalya  
C) Almanya D) Japonya

10. Almanya 13 Mart 1938'de aşağıdaki ülkelerden hangisiyle birleştiğini ilan ederek bu ülkeyi ilhak etmiştir?

- A) Belçika B) Polonya  
C) Avusturya D) Çekoslovakya

11. II. Dünya Savaşı yıllarında Maginot Hattı'nı oluşturan devlet aşağıdakilerden hangisidir?

- A) Japonya B) Fransa  
C) Almanya D) İtalya

12. Ülkemizde "Varlık Vergisi" uygulaması yaklaşık kaç yıl devam etmiştir?

- A) 7 B) 5,5 C) 3 D) 1,5

13. 29 Eylül 1938 tarihinde İngiltere, Almanya, İtalya ve Fransa arasında yapılan ve Çekoslovakya'nın batısındaki Südetler bölgesinin Almanya tarafından ilhak edilmesini onaylayan bir antlaşmayla sonuçlanan konferans aşağıdakilerden hangisidir?

- A) Yalta B) Tahran  
C) Münih D) San Francisco

14. Türkiye'de 1940'lı yılların başında temel tüketim mallarının karne ile dağıtım kontrolünün yanı sıra iç ve dış ticarete fiyatları tespit etmek amacıyla kurulan kurumlar aşağıdakilerden hangisinde birlikte verilmiştir?

- A) Ticaret Ofisi - İaşe Müsteşarlığı  
B) Türk Tanıtma Vakfı - Et ve Balık Kurumu  
C) Türk Standartları Enstitüsü - Türkiye İhracatçılar Merkezi  
D) Türkiye Elektrik Kurumu - Tarım Satış Kooperatifleri Birliği

15. 1945'e kadar uluslararası ilişkilerin ve dünya politikasının merkezi aşağıdaki kıtalardan hangisi olmuştur?

- A) Asya B) Avrupa  
C) Afrika D) Kuzey Amerika

16. Soğuk Savaş'ın "Müttefik olmayan sadece düşman olabilir." mantığı aşağıdakilerden hangisine neden olmuştur?

- A) Blokların kurulmasına  
B) II. Dünya Savaşı'nın çıkmasına  
C) Birleşmiş Milletler Teşkilatının kurulmasına  
D) Almanya'nın "Doğu" ve "Batı" şeklinde ikiye ayrılmasına

17. Hindistan ve Pakistan aşağıdaki hangi ülkeyle yaptığı mücadele sonucunda bağımsızlıklarını kazanmışlardır?

- A) Fransa B) Almanya  
C) Hollanda D) İngiltere

18. 1948 yılında Demokrat Partinin (DP) iktidara karşı muhalefeti yetersiz gören bir grup milletvekilinin DP'den istifa ederek kurduğu yeni parti aşağıdakilerden hangisidir?

- A) Millet Partisi  
B) Anavatan Partisi  
C) Demokratik Sol Parti  
D) Millî Kalkınma Partisi

19. Birleşmiş Milletler Teşkilatının "Ekonomik ve Sosyal Konsey"ine bağlı olarak görev yapan ve İngilizce kısaltması "IMF" olan uzman kuruluşun Türkçe adı aşağıdakilerden hangisidir?

- A) Dünya Sağlık Örgütü  
B) Gıda ve Tarım Örgütü  
C) Uluslararası Para Fonu  
D) Uluslararası Çalışma Örgütü

20. Aşağıdaki devletlerden hangisinin paktan ayrılmasından sonra Bağdat Paketi'nin adı "CENTO" (Central Treaty Organization - Merkezî Antlaşma Örgütü) olarak değiştirilmiştir?

- A) İran B) Irak  
C) Türkiye D) Pakistan

(455) DEM. ve İNSAN HAK. – 1

1. Kişileri devlete, topluma karşı koruyan hak ve özgürlüklere "koruyucu haklar" denir.

Aşağıdakilerden hangisi koruyucu haklardandır?

- A) Özel hayatın gizliliği  
B) Eğitim ve öğrenim hakkı  
C) Seçme ve seçilme hakları  
D) Kamu hizmetlerine girme hakkı

## 2. OTURUM

2. Normlar hiyerarşisine göre Anayasadan sonra aşağıdakilerden hangisi gelir?

- A) Yönetmelik B) Tüzük  
C) Kanun D) Genelge

3. Aşağıdakilerden hangisi devletin varlığı için zorunlu bir öge değildir?

- A) Halk  
B) Ülke  
C) Egemenlik  
D) Sivil toplum kuruluşları

4. I. Devletin sosyal denge ve barışı sağlaması  
II. Devletin hukuki düzenlemelerini dini kurallara göre yapması  
III. Din, vicdan, kanaat ve ibadet hürriyetlerinin sağlanması

Verilenlerden hangileri laikliğin ilkelerindedir?

- A) Yalnız I B) Yalnız II  
C) Yalnız III D) II ve III

5. Aşağıdakilerden hangisi sosyal devlet olmanın öncelikli gereklerindedir?

- A) Kuvvetler ayrımı  
B) Gelir adaleti ve eşitlik  
C) İdarenin hukuka bağlılığı  
D) Din ve devlet işlerinin birbirinden ayrılması

6. • Meclis araştırması,  
• Genel görüşme,  
• Gensoru,  
• Meclis soruşturması,

verilen idare üzerinde denetim yolları aşağıdakilerden hangisi ile gerçekleşir?

- A) Türkiye Büyük Millet Meclisi  
B) Askeri Yargıtay  
C) Devlet Denetleme Kurulu  
D) Yüksek Denetleme Kurulu

7. 1961 Anayasa'sının öngördüğü, insan haklarını kayıtsız ve koşulsuz bir biçimde gerçekleştirmeye yönelik, kişi hak ve özgürlüklerinin önündeki bütün engelleri kaldırmayı kendine ödev edinen devlettir.

Verilen açıklama aşağıdakilerden hangisine aittir?

- A) Laiklik ilkesine  
B) Milliyetçilik ilkesine  
C) Kuvvetler ayrımı ilkesine  
D) İnsan haklarına dayalı devlet anlayışına

8. Aşağıdakilerden hangisi Batıda Rönesans döneminde ortaya çıkan genel düşüncelerden biri değildir?

- A) Ulus devlet düşüncesi  
B) Liberal devlet anlayışı  
C) Doğal hukuk düşüncesi  
D) Dine dayalı insan ve doğa anlayışı

9. Aşağıda seçimlerle ilgili verilen uygulamalardan hangisi demokratik toplum düzeninin kurulmasını zorlaştıran bir unsurdur?

- A) Genel oy B) Gizli oy  
C) Kısıtlı oy D) Açık sayım

10. Aşağıdakilerden hangisi çoğulcu demokrasinin özelliklerinden değildir?

- A) Kültürel tekelciliği dışlaması  
B) Hiç kimseyi başkası gibi davranmaya zorlamaması  
C) Tek tip toplum oluşturma gayreti içinde olması  
D) Toplumdaki farklılıklara hoşgörü ve saygıyı gerektirmesi

11. Gülhane Hattı Humayunu'nun (1839 yılı) devlet otoritesinin kullanımı konusunda getirdiği en önemli yenilik aşağıdakilerden hangisidir?

- A) Müslümanlarla gayrimüslimlere eşit haklar tanınması  
B) Herkese can, mal, namus güvenliği sağlanması  
C) Vergi alanında yeni düzenlemeler getirmesi  
D) Padişahın yetkilerinin tek tarafı olarak kısıtlanması

12. Aşağıdakilerden hangisi 1921 Anayasası'nın temel özelliklerindedir?

- A) İnsan haklarına dayalı devlet anlayışını benimsemesi  
B) Güçler birliğine dayalı meclis hükümeti sistemini benimsemesi  
C) Yasaların anayasaya uygunluğu için yargısal denetimin getirilmesi  
D) Kadınlara seçme ve seçilme hakkının verilmesi

13. Aşağıdakilerden hangisi demokratik yaşam tarzını benimsemiş olan bireylerden beklenen bir davranıştır?

- A) Yönetim mekanizması içerisinde değil sadece yönetilen durumunda olma  
B) Mücadelelerinde sivil toplum örgütlerini dışlama  
C) Farklı düşüncelere hoşgörüyle bakabilme  
D) Hakları çiğnendiğinde pasif kalma

14. • Çalışma ilişkilerinin düzenlenmesi  
• Çalışanlar için elverişli çalışma koşullarının sağlanması  
• Ülkelerde çalışma ile ilgili yasalarda standart sağlanması

Özellikleri verilen Birleşmiş Milletler Örgütü'nün uzmanlık kuruluşu aşağıdakilerden hangisidir?

- A) Apartheid'a Karşı Grup  
B) Uluslararası Çalışma Örgütü  
C) Çocuk Hakları Komitesi  
D) İşkenceye Karşı Komite

15. Avrupa Birliği, üyelerinden ve birliğe dahil olmak isteyen ülkelere belli kriterleri sağlamasını istemektedir.

Bu kriterlerden demokrasi ve insan haklarıyla ilgili olanı aşağıdakilerden hangisinin adıyla anılmaktadır?

- A) Kopenhag B) Davos  
C) Helsinki D) Malta



## 2. OTURUM

### (461) EKONOMİ – 1

16. Düşünce, ifade ve basın özgürlüğünün sağlanması için 1921 yılında kurulan uluslararası sivil toplum kuruluşu aşağıdakilerden hangisidir?

- A) Uluslararası Kızılhaç Komitesi
- B) Uluslararası PEN Kulübü
- C) Uluslararası Af Örgütü
- D) Green Peace

17. Günümüzde dünyanın bazı ülkelerinde yaşayan insanlar kilo verebilmek için sağlık kuruluşlarına bir dolu para harcarken, bazı bölgelerde ise insanlar ya açlıktan ölmekte ya da yetersiz beslenme sonucu sağlıklarını kaybedip temel insan hakkı olan yaşama ve sağlık hakkından mahrum olmaktadır.

**Bu durum insan haklarının korunmasında engel olan sebeplerden hangisini ifade etmektedir?**

- A) Savaşlar
- B) Uluslararası terör
- C) Hızlı toplumsal değişim
- D) Bölgesel kalkınmışlık farkları

18. Kelime anlamı "yeniden doğuş" olan kavram aşağıdakilerden hangisidir?

- A) Rönesans
- B) Kamuoyu
- C) Teokrasi
- D) Aydınlanma

19. Bir toplumda toplumsal yapının bütününe dokunmaksızın eskiden, güncelliğini kaybeden, toplumun ihtiyaçlarına cevap veremeyen kurum ve kuralların düzeltilmesi ve iyileştirilmesi aşağıdaki kavramlardan hangisiyle ifade edilir?

- A) Devrim
- B) Reform
- C) Eşitlik
- D) Laiklik

20. Aşağıdakilerden hangisi halkçılık ilkesinin bir gereğidir?

- A) Halkın iradesinin üstün tutulması
- B) Vatandaşlar arasında ayırım yapılması
- C) Halk arasında dayanışmanın azalması
- D) Halkın kaderini yöneticilerin belirlemesi

1. Aşağıdakilerden hangisi paranın işlevlerinden biridir?

- A) Değişim aracı olması
- B) Değerini koruması
- C) Bölünebilir olması
- D) Güvenilir olması

2. Üretim faktörlerinden emeğin özelliklerine göre aşağıdakilerden hangisi yanlıştır?

- A) Zevk için yapılan faaliyetler emek kabul edilmez.
- B) Üretimde kullanılan hayvan gücü emek kabul edilir.
- C) Makinelerin üretimdeki faaliyetleri emek kabul edilmez.
- D) İnsanların mal ve hizmet üretmek için yaptıkları faaliyetler emek kabul edilir.

3. Aşağıdakilerden hangisi bir ülkenin ekonomi politikasının başlıca hedeflerinden olamaz?

- A) Tam istihdam sağlamak
- B) Ekonomik dengeyi sağlamak
- C) Büyüme ve kalkınmayı gerçekleştirmek
- D) Yüksek enflasyonu gerçekleştirmek

4. Ülkelerarası millî gelirin karşılaştırılması hangi para birimi ile yapılmaktadır?

- A) İngiliz Sterlini
- B) Rus Rublesi
- C) Japon Yeni
- D) ABD Doları

5. Doğa, toprak yapısı ve iklim etkiyle tarım ve sanayi üretimini doğrudan etkiler.

**Bu açıklamaya göre pamuğun yeterli ölçüde üretildiği bölgelerde hangi endüstri gelişmiştir?**

- A) Otomotiv
- B) Şeker
- C) Demir
- D) Tekstil

6. Gelirin özelliklerine göre aşağıdakilerden hangisi ekonomide gelir kabul edilmez?

- A) Bağış
- B) Faiz
- C) Ücret
- D) Kâr

7. İşçilerin çalışmaları karşılığı aldıkları para miktarı hangi ücreti oluşturur?

- A) Reel ücreti
- B) Aynı ücreti
- C) Akort ücreti
- D) Nominal ücreti

8. Aşağıdakilerden hangisi mal ve hizmet fiyatının oluşumunda doğrudan etkilidir?

- A) Arz ve talep
- B) Kalite ve marka
- C) Belirli bir piyasa
- D) Satın alma gücü

9. Aşağıdakilerden hangisi üretim faaliyetidir?

- A) Uçak, tren, otobüs gibi şehirlerarası araçlarla seyahat edilmesi
- B) Kömürün yakılarak termik santralinde elektrik enerjisi elde edilmesi
- C) Seyahat acentesi ile turistik geziye çıkılması
- D) Evde ısınmak amacıyla doğal gaz yakılması

10. İhtiyaçları karşılanmalarındaki şiddet derecesine göre sınıflandırdığımızda aşağıdakilerden hangisi lüks ihtiyaçlara örnek olur?

- A) Giyecek
- B) Otomobil
- C) Su
- D) Ekmek

11. Ekonomi biliminin tanımı kapsamında yapılan açıklamalardan hangisi doğrudur?

- A) İnsanların ihtiyaçları sınırlıdır.
- B) İhtiyaçları karşılayan araçlar (mallar) sınırsızdır.
- C) İhtiyaçlar mallardan çok daha fazladır.
- D) Ekonominin temeli bolluk olaydır.

## 2. OTURUM

12. Aşağıdakilerden hangisi bazı ihtiyaçlar arasında ikame olayının gelişmesine bir örnek olarak gösterilemez?

- A) Arpa ve çavdar karışımı ekmeğın, buğday ekmeğının yerini alması
- B) Pekmezin, şekerin yerine konması
- C) Sentetik kumaşların, yünün ve pamuğın yerini alması
- D) Et, sebze ve süt ihtiyaçlarının, şeker ihtiyacının yerine geçmesi

13. Aşağıda verilenlerden hangisi üretimin başlıca faktörleri arasında yer almaz?

- A) Sermaye
- B) Girişimci
- C) Piyasa
- D) İş gücü

14. Sanayide kumaşın hazır elbise hâline getirilerek faydasının artırılması aşağıda verilen üretim faaliyetlerinden hangisi ile ilgilidir?

- A) Şekil faydası yaratan üretim faaliyetleri
- B) Mekân faydası yaratan üretim faaliyetleri
- C) Zaman faydası meydana getiren üretim faaliyetleri
- D) Mülkiyet faydası meydana getiren üretim faaliyetleri

15. Üretime toprağı ile katılan bir insanın elde edilen gelirden aldığı paya ne denir?

- A) Rant
- B) Ücret
- C) Faiz
- D) Kâr

16. Doğruluğı tartışmasız kabul edilen bazı temel varsayımlardan hareket ederek bunların tek olaylara uygulanmasını isteyen bir ekonomist ekonomi biliminde hangi yöntemin uygulanmasını istemektedir?

- A) Tümevarım yöntemi
- B) Tümdengelim yöntemi
- C) Karma yöntem
- D) Tartışma yöntemi

17. Bir toplumda belirli bir sürede üretilen malların üretime katkıda bulunan etkenlerin sahipleri arasında dağılımını ifade eden klasik sınıflama türü aşağıdakilerden hangisidir?

- A) İnkisam
- B) Değişim
- C) Üretim
- D) Tüketim

18. Aşağıdakilerden hangisi kolektif şirket ortağının sorumluluklarından biri değildir?

- A) Sınırlanmamış olan bir sorumluluk vardır.
- B) Şirketi genişletme cesaretine sahiptirler.
- C) Şirketin çıkarları için çok çaba sarfeder.
- D) Bütün servetiyle sorumludur.

19. Aşağıdakilerden hangisi kültürel mal olarak kabul edilir?

- A) Televizyon
- B) Otomobil
- C) Konut
- D) Ekmek

20. Aşağıdakilerden hangisi sermayeyi oluşturan öğelerden biri değildir?

- A) Önceden üretilmişlerdir.
- B) Yeni bir üretimde kullanılırlar.
- C) Doğa ve emeğin birleşmesinden oluşmuştur.
- D) İhtiyaç ve faydanın birleşmesinden oluşmuştur.

### (462) EKONOMİ – 2

1. Aşağıdakilerden hangisi gelir çeşitlerinden biridir?

- A) Miras
- B) Bağış
- C) Ücret
- D) Sadaka

2. Bir ihtiyaca cevap veren malın miktarı ne kadar az olursa, ..... o kadar çok olur.

Boş bırakılan yere aşağıdakilerden hangisi yazılmalıdır?

- A) miktarı
- B) faydası
- C) üretimi
- D) tüketimi

3. Aşağıdakilerden hangisi tekel piyasasının özelliklerindedir?

- A) Tek alıcının olması
- B) Çok sayıda alıcının olması
- C) Çok sayıda satıcının olması
- D) Satıcıların rekabet içinde olması

4. İnsan ihtiyaçlarını karşılayan mal ve hizmetleri meydana getirmek ve malların faydasını artırmak için yapılan faaliyetlere ne denir?

- A) Dağıtım
- B) Tüketim
- C) Fayda
- D) Üretim

5. Sermaye = (Mevcutlar + .....)  
- (Borçlar)

Yukarıda boş bırakılan yere aşağıdakilerden hangisi yazılmalıdır?

- A) Alacaklar
- B) Öz sermaye
- C) Ham maddeler
- D) Amortisman

6. Hiçbir ekonomik faaliyette bulunmadan elde edilen mallara ne denir?

- A) Üretim malı
- B) Tüketim malı
- C) Ekonomik mal
- D) Serbest mal

7. İkame yasası gereği, et fiyatlarının aşırı yükselmesiyle tüketicilerin aşağıdaki mallardan hangisine talepleri artması beklenir?

- A) Giyecek
- B) Tavuk
- C) Bulgur
- D) İçecek

8. Aşağıdakilerden hangisi reel ücretin tanımıdır?

- A) Alınan ücretin satın alma gücü
- B) Parça başına hesaplanan ücret
- C) Zaman birimine göre hesaplanan ücret
- D) İşçinin çalışmasına karşılık aldığı para miktarı

9. Tasarruf aşağıdakilerden hangisinin oluşumunu sağlar?

- A) Giderin
- B) Üretimin
- C) Gelirin
- D) Sermayenin

## 2. OTURUM

10. Malların insanlar arasında el değiştirmesine ne denir?

- A) Üretim B) Mübadele  
C) Tüketim D) İnkısam

11. Üretim faktörlerinden toprağın geliri aşağıdakilerden hangisidir?

- A) Kâr B) Faiz  
C) Ücret D) Rant

12. Bir ülkenin bir yıl içinde ürettiği toplam mal ve hizmet üretiminin parasal değerine ne denir?

- A) Temelli gelir  
B) Millî gelir  
C) Gerçek gelir  
D) İtibari gelir

13. Aşağıdakilerden hangisi millî gelir hesaplama yöntemlerinden biri değildir?

- A) Harcama sistemi  
B) Üretim sistemi  
C) Gelir sistemi  
D) Vergi sistemi

14. Aşağıdakilerden hangisi çevre kirliliğine neden olan etkenlerdendir?

- A) Çevre eğitiminin yaygınlaştırılması  
B) Altyapı işlerinin yapılması  
C) Yeşil alanların artması  
D) Nüfusun aşırı artması

15. Üretim faaliyeti sonucunda girişimcinin payı olan gelir aşağıdakilerden hangisidir?

- A) Ücret B) Faiz  
C) Kâr D) Rant

16. Millî gelirin üretim faktörlerinin üretimden aldıkları paylara göre dağılımına ne denir?

- A) Fonksiyonel dağılım  
B) Sektörel dağılım  
C) Bölgesel dağılım  
D) Kişisel dağılım

17. Fiyatlar genel seviyesinin yükselmesine ne denir?

- A) Arz B) Enflasyon  
C) Deflasyon D) Talep

18. Malların insanlar arasında el değiştirmesine aracılık eden ve herkesce kabul edilen ortak bir ölçme birimi işlevi gören ödeme aracına ne denir?

- A) Gümüş B) Döviz  
C) Para D) Kredi

19. Aşağıdakilerden hangisi ekonomi politikasının başlıca hedeflerindedir?

- A) Dış ödemeler dengesini sağlamak  
B) Tarım sektörünü desteklemek  
C) İhracatı desteklemek  
D) Üretimi yönlendirmek

20. Belirli bir yılın fiyatları üzerinden hesaplanan millî gelire ne denir?

- A) Gayrisafi millî hasıla  
B) Reel millî gelir  
C) Yurt içi hasıla  
D) Safi millî gelir

### (476) İŞLETME – 1

1. Lider ile yöneticiyi birbirinden ayıran özellik hangi seçenekte verilmiştir?

- A) Lider, işi doğru yapar, yönetici doğru işi yapar.  
B) Yönetici koruyucudur, lider geliştiricidir.  
C) Lider denetime güvenir, yönetici insana güvenir.  
D) Yönetici yenilik getirir, lider kuralları izler ve uygular.

2. Aşağıdakilerden hangisi, tacir olabilmenin şartlarından birisi değildir?

- A) Ticari bir işletmenin var olması  
B) Ticari bir işletmenin kendine ait olması  
C) Ticari bir işletmenin işletilmesi  
D) Ticari bir işletmenin kendi adına işletilmesi

3. I. Tüketici  
II. Fayda  
III. Üretim  
IV. Emek  
V. Doğa

Mal ve hizmet üretmek için üretim faktörlerini bir araya getirmek isteyen bir girişimci yukarıda verilenlerden hangilerine ihtiyaç duyar?

- A) I ve II B) I ve III  
C) I, II ve III D) IV ve V

4. "Rekabet edebilme duygusu" ihtiyaçlar hiyerarşisinin hangi sınıflaması içinde yer alır?

- A) Statü ve saygınlık ihtiyacı  
B) Kendini geliştirme ihtiyacı  
C) Ait olma ihtiyacı  
D) Güvenlik ihtiyacı

5. I. Yemek yemek  
II. Spor yapmak  
III. Giyinmek  
IV. Kitap okumak  
V. Su içmek

Yukarıda verilen ihtiyaçlardan birincil olanların tamamı hangi seçenekte verilmiştir?

- A) I ve II B) II, III ve IV  
C) I, III ve V D) III, IV ve V

6. Verimlilik ilkelerinden "analitik ilkesi"ne ait doğru açıklama hangi seçenekte verilmiştir?

- A) Girdi seçimini doğru yapmak  
B) Kaynakları en ucuz ve en az kullanmak  
C) Girdilerin fayda-maliyet analizini yapmak  
D) Kaynakları zamanında ve yerinde kullanmak

7. Üretim faktörlerinin ekonomiden aldıkları paylar hangi seçenekte doğru olarak gösterilmiştir?

- | Üretim faktörleri | Aldığı pay |
|-------------------|------------|
| A) Emek           | Kâr        |
| B) Girişimci      | Faiz       |
| C) Sermaye        | Ücret      |
| D) Doğa           | Rant       |

## 2. OTURUM

8. Amacı; teknik engelleri kaldırarak, yeni piyasalara ve ekonomik gelişmelere öncülük etmek ve dünya ticaretini kolaylaştırmak olan uluslararası standart kuruluşu aşağıdakilerden hangisidir?

- A) Uluslararası Elektronik Komisyonu
- B) Uluslararası Standardizasyon Organizasyonu
- C) Uluslararası Telekomünikasyon Birliği
- D) Avrupa Uyumluk

9. Mal ve hizmet arasındaki farklara yönelik yapılan açıklamalardan hangisi yanlıştır?

Mallar	Hizmetler
A) Devredilebilir.	Devredilemez.
B) Müşteri sürecin bir parçasıdır.	Müşteri süreçten ayrıdır.
C) Sermaye yoğunudur.	Emek yoğunudur.
D) Tekniktir.	İnsan odaklıdır.

10. Aşağıda verilenlerden hangisi işletmenin özel amaçlarından biridir?

- A) Kâr elde etmek
- B) Topluma hizmet etmek
- C) İşletmenin varlığını devam ettirmek
- D) Uzun vadeli büyümeyi hedef hâline getirmek

11. Aşağıda yapılan açıklamalardan hangisi bir işletmenin varlığını devam ettirme sürecinde uzun vadede iflasla karşı karşıya kalabileceğini göstermektedir?

- A) İşletmenin kârlılığı tercih etmesi
- B) Kaliteli mal ve hizmet üretmesi
- C) Tüketicilerin istek ve ihtiyaçlarına cevap vermesi
- D) Topluma hizmet etmeye ağırlık vermesi

12. Bir iktisadi Devlet Teşekkülü olan Devlet Malzeme Ofisi aşağıda verilen bakanlıklardan hangisine bağlıdır?

- A) Maliye Bakanlığı
- B) Millî Savunma Bakanlığı
- C) Gıda, Tarım ve Hayvancılık Bakanlığı
- D) Ulaştırma, Denizcilik ve Haberleşme Bakanlığı

13. Yabancı sermayeli kuruluş olarak Bursa ilimizde kurulan ve sebze soslari, hardal, bulyon ve sebze çorbaları üreten Nestle Türkiye Gıda Sanayi AŞ. adlı işletme hangi ülkeye aittir?

- A) Japonya
- B) İsviçre
- C) ABD
- D) İngiltere

14. Sermaye şirketlerinin üstünlüklerine yönelik verilen açıklamalardan hangisi yanlıştır?

- A) Yönetim etkindir.
- B) Büyüme imkânları fazladır.
- C) Kredi bulma imkânları fazladır.
- D) Ortaklığın süresi zamanla sınırlandırılmıştır.

15. Anonim şirketin kuruluşu için en az kaç gerçek veya tüzel kişi gerekir?

- A) 3
- B) 5
- C) 8
- D) 10

16. Şahıs ve sermaye şirketleri arasındaki farklar hangi seçenekte yanlış olarak verilmiştir?

Şahıs Şirketleri	Sermaye Şirketleri
A) Sözleşme oy birliği ile değiştirilebilir.	Sözleşme oy çokluğu ile değiştirilebilir.
B) Sermaye paylara bölünebilir.	Sermaye paylara bölünemez.
C) Ortaklığın devri güçtür.	Ortaklığın devri kolaydır.
D) Eşit oy hakkı vardır.	Oy hakkı sermaye payı ile orantılıdır.

17. Bir işletmenin kuruluş yeri seçiminde yapılacak iş gücü değerlendirmesi ile ilgili aşağıdakilerden hangisi önemsizdir?

- A) İş gücünün yönetimi
- B) İş gücünün niteliği
- C) İş gücünün maliyeti
- D) İş gücünün miktarı

18. Bir işletmenin kuruluş işlemleri ile ilgili aşağıdakilerden hangisi işletmenin belediyeye karşı sorumluluklarından biri değildir?

- A) İş yeri açma ve çalışma ruhsatı alma
- B) Hafta sonu çalışma ruhsatı alma
- C) İşe başlama bildirimini verme
- D) Çevre temizlik vergisi ödeme

19. İnşaat alanlarında işe başlatılan sigortalıların Sosyal Güvenlik Kurumuna bildirimini ne kadar süre içerisinde yapılmalıdır?

- A) İşe başlatılmadan önce
- B) İşe başlatıldığı gün
- C) 10 gün içinde
- D) 1 ay içinde

20. Tüzel kişilerin meslek odalarına kayıt olabilmeleri için aşağıdakilerden hangisi gerekli bir evrak değildir?

- A) Fotoğraf
- B) İlan gazetesi
- C) İmza sirküleri
- D) Ana sözleşme

(477) İŞLETME – 2

1. Aşağıdakilerden hangisi yöneticide bulunması gerekli özelliklerden biridir?

- A) Yeni düşüncelere kapalı olmalı
- B) Sorumluluk almaktan kaçınmalı
- C) Görüşlerini çalışanlardan saklamalı
- D) Çalışanlar ile etkili iletişim kurabilmeli

## 2. OTURUM

2. İhtiyaçlarını karşılamak üzere mal ve hizmetleri satın alan ve kullanan kişilere ne denir?
- A) Üretici B) Girişimci  
C) Tüketici D) Yönetici
3. Aşağıdakilerden hangisi mal ve hizmet üretmek için işletmelerde bir araya getirilen üretim faktörlerinden değildir?
- A) Doğal kaynak  
B) Sermaye  
C) Emek  
D) Mal
4. Aşağıdakilerden hangisi tüm işletmeler için genel olan faaliyet alanını ifade eder?
- A) Topluma sosyal fayda sağlamak  
B) Ekonomik mal veya hizmet üretmek  
C) İnsanların ihtiyaç duyduğu hizmetleri sağlamak  
D) Başka işletmeler için gerekli olan malları üretmek
5. Kâr amacıyla üretim faktörlerini bir araya getirerek mal ve hizmet üretim faaliyetinde bulunan kişilere ne denir?
- A) Pazarlamacı  
B) Yönetici  
C) Lider  
D) Girişimci
6. Belirli bir maddi varlığı olmayan, ancak mal gibi insan ihtiyaçlarını karşılayan faaliyetlere hizmet denir?  
**Bu tanıma göre aşağıdakilerden hangisi hizmetlere örnek olur?**
- A) Eğitim B) Hastane  
C) Okul D) Ekmek
7. Kamu kuruluşları bünyesinde faaliyette bulunan kreşlerin kurulma amaçları işletmelerin hangi amacına örnek olur?
- A) Verimli olmak  
B) Kâr elde etmek  
C) Topluma hizmet etmek  
D) Mal ve hizmet üretmek
8. İşletmelerin çalışanlarını memnun etmek ve onların daha verimli olmalarını sağlamak için aşağıdakilerden hangisini yapmaları etkili olur?
- A) Topluma hizmet etmek  
B) Çalışanlarına iyi ücret ödemek  
C) Kaliteli mal ve hizmet üretmek  
D) Tüketicileri doğru bilgilendirmek
9. Bir ticari işletme için aşağıdakilerden hangisi vazgeçilmez amaçtır?
- A) Kâr elde etme  
B) Topluma hizmet etme  
C) Çalışanlara iyi ücret ödeme  
D) Tüketicilerin ihtiyacı olan malları sunma
10. Aşağıdakilerden hangisi kamu işletmelerinin özelliklerindendir?
- A) Özel yasalarla kurulması  
B) Sermayelerinin az olması  
C) Ortak sayısının çok olması  
D) Her alanda tekel oluşturması
11. Aşağıdakilerden hangisi hizmet işletmelerine örnek olmaz?
- A) Otel  
B) Hastane  
C) Ulaşım işletmesi  
D) Makarna fabrikası
12. İşletmenin hangi işlevinde müşterilerin mal ve hizmet alımlarını sürdürmelerini sağlamak ve yeni müşteriler kazanmak amacı güdülür?
- A) Finansman B) Yönetim  
C) Pazarlama D) Üretim
13. Aşağıdakilerden hangisi sermaye şirketlerinin şahıs işletmelerine göre olumlu yönlerinden biridir?
- A) Karar almanın kolay olması  
B) Yetkilerin bir kişide toplanması  
C) Kuruluş işlemlerinin uzun zaman alması  
D) Büyüme yeteneğinin sonsuz olması
14. İşletmelerde üretim işlevi ile aşağıdakilerden hangisi yerine getirilir?
- A) Gerekli kredilerin sağlanması  
B) Mal ve hizmetlerin elde edilmesi  
C) Mal ve hizmet tanıtımının yapılması  
D) İşletmede düzenli çalışmanın sağlanması
15. Aşağıdaki işletme çeşitlerinden hangisi üretim araçlarının mülkiyetine göre işletmeler sınıflandırılması içinde yer almaz?
- A) Hizmet işletmeleri  
B) Kamu işletmeleri  
C) Özel işletmeler  
D) Karma işletmeler
16. Aşağıdaki işletme yöneticilerinden hangisi diğerlerinin en üstünde yer alır?
- A) Şube müdürü  
B) Servis şefi  
C) Genel müdür  
D) Ustabaşı
17. Aşağıdakilerden hangisi işletmelerin çalışanlarına karşı olan sorumluluklarından biridir?
- A) Kaliteli mal ve hizmet üretme  
B) İş güvenliğini sağlama  
C) Çevreyi kirletmeme  
D) Vergi ödeme
18. I- Sevk ve idare  
II- Organizasyon  
III- Planlama  
IV- Denetim  
**İşletme yöneticisi yukarıda verilen yönetim işlevlerini hangi sırayla yerine getirir?**
- A) III - IV - II - I  
B) I - II - III - IV  
C) III - II - I - IV  
D) IV - II - III - I
19. İşletmelerin yeni yatırımlar yapması aşağıdaki ekonomik sorunlardan hangisine olumlu etki yapar?
- A) Sermaye yetersizliğine  
B) Çevre kirliliğine  
C) Enflasyona  
D) İşsizliğe

## 2. OTURUM

20. İşletme yönetiminin organizasyon işlevinde son olarak aşağıdakilerden hangisi yapılır?

- A) Yapılacak işlerin belirlenmesi
- B) Yetki ve sorumlulukların belirlenmesi
- C) İşleri yapacak kişilerin göreve atanması
- D) Çalışma yerleri kullanılacak araç ve yöntemlerin seçilmesi

### (481) SANAT TARİHİ – 1

1. Bir nesnenin sanat eseri olarak sayılabilmesi için belirli özelliklerinin olması gerekir.

**Aşağıdakilerden hangisi sanat eserinde olması gereken özelliklerden değildir?**

- A) Sanatçının duygularını yansıtması
- B) Özgün ve tek olması
- C) Bir yaratıcılık sürecinin ürünü olması
- D) İnsanların maddi ihtiyaçlarını karşılaması

2. Aşağıdakilerden hangisi sanatın türleri arasında gösterilemez?

- A) Pratik sanatlar
- B) Fonetik sanatlar
- C) Dramatik ve ritmik sanatlar
- D) Plastik sanatlar

3. İkel sanat eserlerinin ortaya konmasındaki amaç aşağıdakilerden hangisidir?

- A) Kendini ifade etmek
- B) Toplumu yönlendirmek
- C) Bir gereksinimini karşılamak
- D) Yaşadığı ortamı güzelleştirmek

4. Anadolu'da tarih öncesi çağlara ait ilk buluntular ve yerleşimler, aşağıdakilerden hangisinde doğru eşleştirilmiştir?

- A) Maden Çağı - Karain
- B) Neolitik Çağ - Çatalhöyük
- C) Peleolitik Çağ - Truva
- D) Mezolitik Çağ - Alacahöyük

5. Tarih öncesi çağların buluntuları arasında yer alan küçük heykelticiklere ne ad verilir?

- A) idol
- B) ikona
- C) tablet
- D) keramik

6. Aşağıdakilerden hangisi Maden Çağı'nın özelliklerinden değildir?

- A) Kalay ve bakırın karışımından elde edilen tunçun kullanılma başlanması
- B) İlk kent devletleri ve siyasi örgütlenmelerin başlaması
- C) Altın ve gümüşün özellikle süs eşyalarında yaygın olarak kullanılması
- D) Kilden yapılmış bereketi sembolize eden şişman kadın heykellerinin yapılması

7. Tümülüsler soylular ve yöneticiler için yapılmış mezar anıtlarıdır. Toprağa kazılmış ahşap mezar odasının üzeri ağaç gövdeleri, taş ve moloz kullanılarak kapatılmış ve üzeri toprakla örtülmüştür.

**Yukarıda anlatılan mezar yapısı hangi İlk Çağ Anadolu uygarlığında ilk kez ve yaygın olarak kullanılmıştır?**

- A) Hititlerde
- B) Friglerde
- C) Urartularda
- D) Lidyalılarda

8. Aşağıdakilerden hangisi Mısır uygarlığına ait piramitlere verilen isimlerdendir?

- A) Keops - Kefren - Mikerinos
- B) Dor - İyon - Korint
- C) Agora - Odeon - Stadium
- D) Apsis - Narteks - Atrium

9. Mısırlıların kullandığı eski Mısır yazısına ne ad verilir?

- A) Çivi yazısı
- B) Hiyeroglif
- C) Grek
- D) Kiril

10. Yunan mimarlığının en önemli yapı tipi aşağıdakilerden hangisidir?

- A) Tapınak
- B) Mezar
- C) Tiyatro
- D) Agora

11. "Orta Çağ sanatlarından olan Roman ve Gotik sanatları - - - - 'da ortaya çıkmışlardır."

**Verilen bilgi cümlesinin doğru olabilmesi için boş bırakılan yere aşağıdakilerden hangisi yazılmalıdır?**

- A) Almanya
- B) Fransa
- C) İtalya
- D) İspanya

12. Rönesans mimarisinde daha çok hangi malzemeler kullanılmıştır?

- A) Taş - Kerpiç
- B) Taş - Mermer
- C) Tuğla - Ahşap
- D) Tuğla - Mermer

13. Gotik mimarisinin en önemli katedrallerinden biri olan "Notre Dame Katedrali" günümüzde aşağıdaki şehirlerin hangisindedir?

- A) Viyana
- B) Londra
- C) Roma
- D) Paris

14. • Resimlerde ideal güzellik ve doğaya uygunluk vardır.  
• Resimlerde yer alan figürler uyumlu ve durgundur.  
• Perspektifin resimlerdeki etkisi artmıştır.  
• Sıcak ve pırıltılı renkler kullanılmıştır.  
• Dinî konuların yanında doğa motifleri, güncel konular ve mitolojik hikâyeler de resme girmiştir.

**Yukarıda hangi sanat akımının resim özelliklerinden bahsedilmektedir?**

- A) Barok
- B) Rönesans
- C) Realizm
- D) Neoklasik

15. Tek mekândan oluşan küçük kiliselere ne ad verilir?

- A) Katedral
- B) Havra
- C) Höyük
- D) Şapel

## 2. OTURUM

### (482) SANAT TARİHİ – 2

16. İki duvarı ya da ayağı birbirine bağlayan ve üzerine gelen duvar ağırlığını yanlardaki ayaklara bindiren mimari öğeye ne ad verilir?

- A) Kemer B) Korniş  
C) Kiriş D) Kripta

17. Çiçek ve meyvelerin belirli bir düzende yer aldığı natürmort tarzı resimler aşağıdaki hangi dönemde ortaya çıkmıştır?

- A) Fovizm B) Soyut resim  
C) Barok D) Sürrealizm

18. Aşağıdaki sanat akımlarından hangisi Barok ve Rokoko akımlarına tepki olarak doğmuştur?

- A) Empresyonizm  
B) Metafizik resim  
C) Neoklasisizm  
D) Romantizm

19. Realizmin önderi ve en önemli ismi olarak kabul edilen sanatçı aşağıdakilerden hangisidir?

- A) Van Gogh  
B) Francisco Goya  
C) Antonio Canova  
D) Gustave Courbet

20. Aşağıdaki sanat akımlarından hangisinin sanatçıları toplum dışına itilmişleri, yoksulları, akıl hastalarını ve onların iç dünyalarındaki fırtınaları, kaygıları ve korkuları eserlerine taşımışlardır?

- A) Dadaizm  
B) Soyut resim  
C) Empresyonizm  
D) Ekspresyonizm

1. “Orta Asya'nın kuzeyi iğne yapraklı ağaçlardan oluşan - - - - ormanlarıyla kaplıdır.”

Verilen cümlede boş bırakılan yere, aşağıdakilerden hangisi yazılmalıdır?

- A) tundra B) bozkır  
C) savan D) tayga

2. Büyük Hun Devleti'ni kuran Hunlar, aşağıdaki yerlerden hangisini ülkelerinin başkenti yapmışlardır?

- A) Ötüken B) Turfan  
C) Yarkent D) Karakorum

3. Pazırık kurganı, Hun Dönemi'nin en önemli kurganlarından biridir.

1929 yılında Pazırık kurganını bulan arkeologlar aşağıdakilerin hangisinde birlikte verilmiştir?

- A) Radloff – Rudenko  
B) Rudenko – Gryazınov  
C) Radloff – Zeki Velidi Togan  
D) Edward Hallett Carr – Halil İnalçık

4. Orta Asya Türk sanatında, öldürülen her düşman için dikilen kabbartmalı taşlara ne ad verilir?

- A) Sır B) Yazıt  
C) Balbal D) Şerefe

5. Türk sanatı aşağıdakilerden hangisiyle yerleşik bir sanat olma niteliği kazanmıştır?

- A) Göktürk Devleti'nin kurulmasıyla  
B) Yazının bulunmasıyla  
C) Orhun yazıtlarıyla  
D) Uygurlarla

6. Camilerdeki ibadet mekânına ne ad verilir?

- A) Harim B) Mihrap  
C) Minber D) Şadırvan

7. Aşağıdaki camilerden hangisi, erken dönem İslam camilerinin yapılmasına örnek teşkil etmiştir?

- A) Mescid-i Aksa  
B) Mescid-i Nebevi  
C) Kordoba Camisi  
D) İsfahan Mescid-i Cuması

8. “Karahanlı yapılarının temellerinde - - I - -, duvarlarında ise - - II - - ve - - III - - kullanılmıştır.”

Verilen cümlelerin anlamca doğru olabilmesi için numaralandırılarak boş bırakılan yerlere aşağıdakilerden hangisi yazılmalıdır?

	I	II	III
A)	mermer	ahşap	tuğla
B)	taş	mermer	kerpiç
C)	kerpiç	ahşap	alçı
D)	taş	kerpiç	tuğla

9. Aşağıdaki hangi dönemde ilk defa “Eyvanlı tip” camiler inşa edilmeye başlanmıştır?

- A) Gazneli  
B) Karahanlı  
C) Büyük Selçuklu  
D) Anadolu Selçuklu

10. Aşağıdakilerden hangisi, Anadolu'da yapılmış ilk Türk camisi olma özelliğine sahiptir?

- A) Divriği Ulu Camisi  
B) Malatya Ulu Camisi  
C) Diyarbakır Ulu Camisi  
D) Konya Alaeddin Camisi

11. Aşağıdaki türbelerden hangisi İslam sanatının ilk türbesi olarak kabul edilir?

- A) Kubbet'üs Süleybiye  
B) Kümbet-i Surkh  
C) Ayşe Bibi  
D) Arap Ata

12. Caminin ezan okunma işlevi için yapılmış olan kulemsi bölümlerine ne ad verilir?

- A) Minber B) Minare  
C) Mihrap D) Mahfil

## 2. OTURUM

13. Fuat Köprülü'ye göre "Ribat" terimi hangi yüzyılda ortaya çıkmıştır?

- A) 15.yy B) 13.yy  
C) 12.yy D) 10.yy

14. Aşağıdaki bilgilerden hangisi Ankara Aslanhane Camisi'yle ilgili değildir?

- A) Beş nefli ahşap bir yapıdır.  
B) Portale bitişik olan minaresi tuğla dekorludur.  
C) Düz çatılı olan cami, "Kırk Direkli Cami" olarak da bilinir.  
D) Kitabesinde Hüsameddin ile Hasan adında iki kardeş tarafından tamir ettirildiği yazılıdır.

15. Anadolu Selçuklu kervansarayları kaç tipte inşa edilmişlerdir?

- A) 4 B) 3 C) 2 D) 1

16. Seyyah Evliya Çelebi'nin "Bursa'nın Ayasofya'sı" olarak betimlediği yapı aşağıdakilerden hangisidir?

- A) Bursa Ulu Camisi  
B) Bursa Yeşil Camisi  
C) Bursa Yeşil Türbesi  
D) Bursa Muradiye Medresesi

17. Osmanlı sanatının aşağıdaki hangi dönemleri "Türk Ampir Üslup Dönemi" olarak isimlendirilir?

- A) 1900 - 1930  
B) 1860 - 1900  
C) 1808 - 1860  
D) 1730 - 1808

18. Aşağıdakilerden hangisi halıyı meydana getiren ve halının esasını oluşturan ögedir?

- A) Yöre B) Renk  
C) Motif D) Düğüm

19. Artuklular ve Selçuklular zamanında yapılan cami ve medreselerde kullanılan cam çeşidi aşağıdakilerden hangisidir?

- A) Beykoz B) Şemsiye  
C) Sodakalsik D) Çeşmibülbül

20. Türk resim sanatı hangi yıllarda soyut sanat akımının etkisine girmiştir?

- A) 1940'lar B) 1950'ler  
C) 1970'ler D) 1980'ler

### (503) SEÇ. TARİH - 3

1. Osmanlı Devleti'ne "Halifelik" kurumu aşağıdaki devletlerden hangisinin yıkılması sonucunda geçmiştir?

- A) Babür  
B) Memluk  
C) Altın Orda  
D) Büyük Selçuklu

2. Sazlıdere Savaşı'ndan sonra Osmanlı başkenti olan şehir aşağıdakilerden hangisidir?

- A) İstanbul B) Bilecik  
C) Edirne D) Bursa

3. Osmanlılarda XVI. yüzyıla kadar aşağıdakilerden hangisi "sancağa çıkmaz" usulüne tabilerdi?

- A) Veziriazamlar  
B) Şehzadeler  
C) Padişahlar  
D) Kadılar

4. Osmanlı Devleti 1402 - 1413 yılları arasında yaşanan Fetret Devri'ne aşağıdaki hangi savaş sonunda girmiştir?

- A) Ankara B) Niğbolu  
C) Çirmen D) I. Kosova

5. Aşağıdaki yerlerden hangisinin Osmanlı Devleti'nin eline geçmesiyle Osmanlılar Avrupa Kıtası'nda ilk kez toprak sahibi olmuştur?

- A) Niş  
B) Edirne  
C) Çimpe Kalesi  
D) Niğbolu Kalesi

6. Karadeniz, Fatih Sultan Mehmet Dönemi'nde fethedilen aşağıdaki yerlerden hangisiyle bir Türk gölü hâline gelmiştir?

- A) Kastamonu B) Gökçeada  
C) Trabzon D) Kırım

7. Osmanlı Devleti'nin ilk dinsel ve sosyal nitelikli ayaklanması olan Şeyh Bedreddin İsyanı, hangi padişah döneminin önemli siyasi olayıdır?

- A) I. Murat B) I. Bayezit  
C) I. Mehmet D) I. Süleyman

8. I. Fransa  
II. Venedik  
III. Avusturya  
IV. Hollanda

Osmanlı Devleti yukarıda verilen devletlerden hangilerine ekonomik ayrıcalıklar (kapitülasyonlar) tanımıştır?

- A) Yalnız I B) I ve III  
C) I, II ve IV D) I, II, III ve IV

9. Osmanlı Devleti'nde "Halife" unvanını taşıyan ilk padişah aşağıdakilerden hangisidir?

- A) Kanuni Sultan Süleyman  
B) Yavuz Sultan Selim  
C) Fatih Sultan Mehmet  
D) II. Abdülhamit

10. Aşağıdaki adalardan hangisi Fatih Sultan Mehmet Dönemi'nde fethedilmemiştir?

- A) Rodos B) Taşoz  
C) İmroz D) Eğriboz

11. Safevi hükümdarı Şah İsmail'i Çaldıran Savaşı'nda yenilgiye uğratan Osmanlı padişahı, aşağıdakilerden hangisidir?

- A) Kanuni Sultan Süleyman  
B) Fatih Sultan Mehmet  
C) Yavuz Sultan Selim  
D) Yıldırım Bayezit



## 2. OTURUM

12. Osmanlı padişahı Kanuni Sultan Süleyman Fransa kralı I. Fransuva'yı aşağıdaki devletlerden hangisinin baskısından kurtarmıştır?

- A) Almanya B) İngiltere  
C) Lehistan D) Rusya

13. • II. Mehmet Dönemi'nde meydana gelmiştir.  
• Bu savaştan sonra Akkoyunlu Devleti kendini bir daha toparlamamıştır.  
• Savaşın sonunda Doğu Anadolu'nun güvenliği sağlanmıştır.

**Hakkında bilgi verilen savaş, aşağıdakilerden hangisidir?**

- A) Ridaniye B) Otlukbeli  
C) Mercidabık D) II. Kosova

14. Asıl adı "Hızır Reis" olan ve Kanuni Sultan Süleyman Dönemi'nde Osmanlı hizmetine giren ünlü Osmanlı denizcisi aşağıdakilerden hangisidir?

- A) Oruç Reis  
B) Piyale Paşa  
C) Seydi Ali Reis  
D) Barbaros Hayrettin Paşa

15. Avrupa'da meydana gelen aşağıdaki gelişmelerden hangisinin Osmanlı Devleti'nde etkisi görmemiştir?

- A) Coğrafi keşiflerin  
B) Fransız İhtilali'nin  
C) Sanayi İnkılabı'nın  
D) Reform hareketlerinin

16. Osmanlı ordusu Haçova Meydan Savaşı'nda aşağıdaki devletlerden hangisini yenilgiye uğratmıştır?

- A) Avusturya B) Lehistan  
C) Rusya D) İran

17. Osmanlı Devleti batıda en geniş sınırlarına aşağıdaki hangi antlaşma ile ulaşmıştır?

- A) Edirne - Segedin  
B) Karlofça  
C) Vasvar  
D) Bucaş

18. Osmanlı Devleti'nin en önemli sorununun gelir - gider dengesizliği olduğunu düşünerek modern anlamda ilk kez bütçe çalışması yapan devlet adamı aşağıdakilerden hangisidir?

- A) Süleyman Paşa  
B) Köprülü Mehmet Paşa  
C) Tarihçi Ahmet Paşa  
D) Köprülü Fazıl Ahmet Paşa

19. Aşağıdakilerden hangisi XVII. yüzyılda Osmanlı Devleti'nde görülen iç isyanların siyasi nedenlerinden değildir?

- A) Rüşvet ve adam kayırmanın artması  
B) Merkezî otoritenin zayıflaması  
C) Tımar sisteminin bozulması  
D) Tarımsal üretimin azalması

20. • 17. yüzyılda yaşamış bir Türk gezginidir.  
• Enderun'a giren gezgin, dayısı Melek Ahmet Paşa aracılığıyla IV. Murat'ın hizmetine girmiştir.  
• Kaleme aldığı 10 ciltlik "Seyahatname" adlı eseri Türk gezi edebiyatının başyapıtı sayılır.

**Hakkında bilgi verilen Türk gezgin aşağıdakilerden hangisidir?**

- A) Piri Reis  
B) Evliya Çelebi  
C) Nasreddin Hoca  
D) Hezarfen Ahmet Çelebi

(504) SEÇ. TARİH - 4

1. Osmanlı Devleti'nde açılan Türk matbaasında ilk olarak aşağıdaki hangi eserler basılmıştır?

- A) Volkan Gazetesi  
B) Yusuf ile Züleyha Mesnevisi  
C) "Çingiraklı Tatar" adlı mizah dergisi  
D) "Vankulu" adlı Türkçe - Arapça sözlük

2. Osmanlı Devleti, XVIII. yüzyılın başlarında "- - I - -" politikası izlerken bu yüzyılın sonunda ise "- - II - -" politikası izlemeye başlamıştır.

**Verilen cümlede numaralandırılarak boş bırakılan yerlere, aşağıdakilerden hangileri yazılırsa bilgi doğru olur?**

	I	II
A) denge		yumuşama
B) yumuşama		saldırı
C) kaybettiği toprakları geri alma		denge
D) yumuşama		kaybettiği toprakları geri alma

3. Yakın Çağ'ın başlangıcı sayılan tarihi gelişme aşağıdakilerden hangisidir?

- A) Yazının icadı  
B) Fransız İhtilali  
C) Sanayi İnkılabı  
D) İstanbul'un fethi

4. Tarihe "Edirne Vakası" olarak geçen 1703 tarihli isyan sonucunda tahttan indirilen Osmanlı padişahı aşağıdakilerden hangisidir?

- A) II. Mustafa B) I. Abdülhamit  
C) III. Ahmet D) II. Süleyman

5. "Baytar Mektebi", aşağıdaki hangi alanda eğitim vermek üzere açılmış bir okuldur?

- A) Tıp B) Hukuk  
C) Eczacılık D) Veterinerlik

6. Bulgaristan aşağıdaki antlaşmalardan hangisiyle üç bölgeye ayrılmıştır?

- A) Zıştovi B) Bükreş  
C) Berlin D) Sevr

## 2. OTURUM

7. Yirmi sekiz Çelebi Mehmet, Lale Devri'nde aşağıdaki şehirlerden hangisine elçi olarak gönderilmiştir?

- A) Roma B) Paris  
C) Viyana D) Moskova

8. Fransızlar, 1802 yılında imzaladıkları El - Arış Antlaşması ile aşağıdaki yerlerden hangisini Osmanlılara geri vermek zorunda kalmışlardır?

- A) Mısır B) Eflak  
C) Kırım D) Hicaz Bölgesi

9. "1868 - 1878 yılları arasında Ahmet Cevdet Paşa başkanlığındaki ilmî bir heyet tarafından İslam hukukuna bağlı kalınarak hazırlanan - - - - , şeri mahkemelerde 1877 - 1926 yılları arasında hukuki kaynak olarak kullanılmıştır."

Verilen cümlelerin doğru olabilmesi için boş bırakılan yer, aşağıdakilerden hangisiyle tamamlanmalıdır?

- A) Risale  
B) Mecelle  
C) Kanunname  
D) Teşkilâtesasiye

10. Kırım Savaşı, aşağıdaki antlaşmalardan hangisiyle sona ermiştir?

- A) Hünkâr İskeleyi  
B) Edirne  
C) Atina  
D) Paris

11. Osmanlı Devleti, aşağıdaki antlaşmalardan hangisiyle bir Avrupa devleti sayılmış ve Avrupa devletler hukukundan yararlanması kabul edilmiştir?

- A) Edirne B) Berlin  
C) Bucaş D) Paris

12. "Sırplar, - - I - - ile özerklik kazandılar ve - - II - - ile de tam bağımsız oldular."

Verilen cümlelerin doğru olabilmesi için numaralandırılarak boş bırakılan yerlere sırasıyla aşağıdakilerden hangisi yazılmalıdır?

	I	II
A)	Bükreş Antlaşması	Edirne Antlaşması
B)	Berlin Antlaşması	Edirne Antlaşması
C)	Edirne Antlaşması	Berlin Antlaşması
D)	Atina Antlaşması	İstanbul Antlaşması

13. Aşağıdakilerden hangisi Osmanlı Devleti'nin demokratik yönetime geçtiğinin kanıtıdır?

- A) Mebusan Meclisinin açılması  
B) Yeniçeri Ocağı'nın kaldırılması  
C) Âyanlarla Senediittifak'ın yapılması  
D) Hareket Ordusunun 31 Mart Olayı'nı bastırması

14. Aşağıdakilerden hangisi II. Meşrutiyet Dönemi'nde kurulan siyasi partilerden biridir?

- A) Halk Fırkası  
B) Ahrar Fırkası  
C) Terakkiperver Cumhuriyet Fırkası  
D) Sulh ve Selamet-i Osmaniye Fırkası

15. Edirne Antlaşması'yla bağımsızlığını kazanan devlet aşağıdakilerden hangisidir?

- A) Yunanistan B) Bulgaristan  
C) Sırbistan D) Arnavutluk

16. Avrupa devletleri, XIX. yüzyılın sonlarına doğru Osmanlı Devleti'nden alacaklarını tahsil etmek için aşağıdakilerden hangisini kurmuşlardır?

- A) Kutsal İttifak'ı  
B) Kuvayıinzibatiye'yi  
C) Boğazlar Komisyonunu  
D) Düyunumumiye İdaresini

17. İlk Türk tiyatro eseri olan "Şair Evlenmesi"nin yazarı aşağıdakilerden hangisidir?

- A) Şinasi B) Ziya Gökalp  
C) Münif Paşa D) Namık Kemal

18. Rusya'nın Slav asıllı bütün halkları kendi yönetimi altında toplayarak dünya Slav birliğini sağlamayı ifade eden kavram aşağıdakilerden hangisidir?

- A) Panislamizm  
B) Panславизм  
C) Pantürkizm  
D) Komünizm

19. II. Balkan Savaşı'nda Osmanlı ordusunun Midye - Enez sınırını aşması, Osmanlı Devleti'nin aşağıdakilerden hangisinin şartlarını kabul etmediğini gösterir?

- A) 1912 tarihli Uşi Antlaşması'nın  
B) 1913 tarihli İstanbul Antlaşması'nın  
C) 1913 tarihli Londra Antlaşması'nın  
D) 1918 tarihli Mondros Ateşkes Antlaşması'nın

20. • 27 Mayıs 1915 tarihinde Osmanlı Devleti tarafından çıkartılmış bir kanundur.  
• Bu kanunla savaş alanı içindeki Ermenileri ülkenin daha güvenli yerlerine gönderilerek oralara yerleştirilmeleri amaçlanmıştır.  
• Ermenileri kapsayan yer değiştirme uygulamasının yasal dayanağını oluşturur.

Verilenler, aşağıdakilerden hangisiyle ilgilidir?

- A) Ege Adaları'yla  
B) Tehcir Kanunu'yla  
C) Nüfus Mübadelesiyle  
D) Başkomutanlık Kanunu'yla

## 2. OTURUM

(505) SEÇ. COĞRAFYA – 3

1. Mağara ve polye gibi yer şekillerinin oluşumunda aşağıdaki kayaç gruplarından hangisi daha fazla etkili olmuştur?

- A) Püskürük kayaçlar
- B) Başkalaşım kayaçlar
- C) Kimyasal tortul kayaçlar
- D) Organik tortul kayaçlar

2.



Yukarıdaki gösterilen yeryüzü şekli aşağıdakilerden hangisidir?

- A) Tor topoğrafyası
- B) Dev kazanı
- C) Peribacaları
- D) Traverten

3. I. Tüm kayaçlarda fosil bulunur.  
II. Magmanın yeryüzüne çıkıp soğumasıyla dış püskürük kayaçlar oluşur.  
III. Yer şekillerinin oluşumunda kayaçların fiziksel ve kimyasal yapılarının da etkisi vardır.

Kayaçlar hakkında verilen ifadelerden hangileri doğrudur?

- A) I ve II
- B) I ve III
- C) II ve III
- D) I, II ve III

4. Aşağıdakilerden hangisi kayaçların fiziksel ayrışmasına neden olan durumlardan değildir?

- A) Sıcaklık farkı
- B) Metamorfizma
- C) Bitki köklerinin gelişimi
- D) Dış kuvvetlerin aşındırma faaliyetleri

5.



Yukarıdaki haritada numaralandırılarak verilen yerlerin hangisinde karstik kayaçlar daha yaygındır?

- A) I
- B) II
- C) III
- D) IV

6. Set gölleri, su kütlelerinin önünün çeşitli nedenlerle kapanması sonucunda oluşur.

Buna göre, aşağıdakilerden hangisi set göllerinin oluşmasına neden olan durumlardan değildir?

- A) Heyelan
- B) Dalga biriktirmesi
- C) Volkan patlaması
- D) Okyanus akıntıları

7. Güneydoğu Asya Kıyıları'nda nüfus yoğunluğunun fazla olmasının nedenleri arasında aşağıdakilerden hangisi gösterilemez?

- A) Uygun iklim koşulları
- B) Topraklarının verimli olması
- C) Doğum oranlarının fazla olması
- D) Volkanik olayların sık yaşanması

8. • Bitki örtüsü yok denecek kadar azdır.  
• Su kaynakları yetersizdir.  
• Dünya'nın seyrek nüfuslu alanları arasındadır.

Özellikleri verilen yer aşağıdakilerden hangisi olabilir?

- A) Sahra Çölü
- B) Batı Avrupa
- C) Hindistan Yarımadası
- D) Himalaya Dağları

9. Amazon Havzası'nın özellikleri arasında aşağıdakilerden hangisi gösterilemez?

- A) Yıllık yağış miktarı fazladır.
- B) Nüfus yoğunluğu fazladır.
- C) Yıllık sıcaklık farkı azdır.
- D) Bitki örtüsü ormandır.

10. Akarsularla taşınan malzemelerin bir vadinin önünü tıkaması sonucu oluşan göllere ne denir?

- A) Baraj gölü
- B) Karstik göl
- C) Kıyı set gölü
- D) Alüvyal set gölü

11. Düzenli rejime sahip bir akarsu hakkında aşağıdakilerden hangisi kesin olarak söylenir?

- A) Kar erimeleriyle beslenir.
- B) Sularını denize ulaştıramaz.
- C) Birden fazla kaynaktan beslenir.
- D) Akımı yıl içerisinde fazla değişiklik göstermez.

12. I. Fay kaynağı  
II. Karstik kaynaklar  
III. Gayzer kaynağı

Yukarıda verilenlerden hangileri sıcak su kaynaklarıdır?

- A) Yalnız I
- B) Yalnız II
- C) I ve II
- D) I ve III

13. Geçirimli tabakalardan sızarak geçirimsiz bir tabaka üzerinde biriken sulara ne denir?

- A) Göl
- B) Yer altı suları
- C) Okyanus
- D) Açık havza

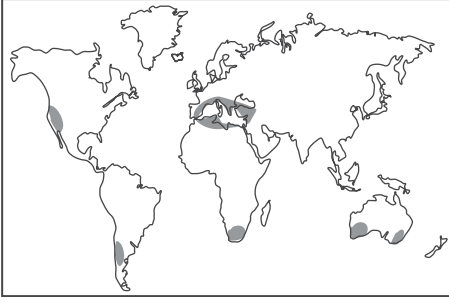
14. • Orta kuşağın yarı kurak bölgelerinde görülürler.  
• Seyrek ve cılız ot topluluklarıdır.  
• Ülkemizde oldukça geniş bir dağılışı gösterir.

Yukarıda özellikleri verilen bitki topluluğu hangisidir?

- A) Maki
- B) Bozkır
- C) Savan
- D) Tundra

## 2. OTURUM

15.



Haritada işaretlenerek verilen yerlerde yaygın olan bitki topluluğu aşağıdakilerden hangisidir?

- A) Maki
- B) Savan
- C) İğne yapraklı orman
- D) Geniş yapraklı orman

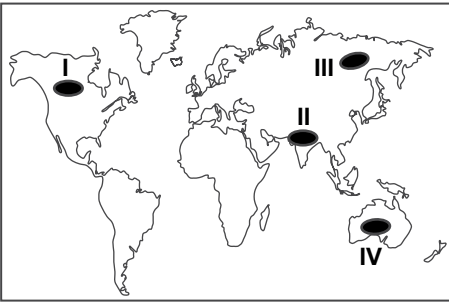
16. Alçak kesimlerden yükseklerle doğru çıkıldıkça bitki türlerinin değişmesinin temel nedeni aşağıdakilerden hangisidir?

- A) Sıcaklık
- B) Basınç
- C) Yağış
- D) Rüzgar

17. Aşağıdakilerden hangisi insanların yerleşik hayata geçtikleri dönemin özellikleri arasında gösterilemez?

- A) Bazı hayvanlar evcilleştirilmiştir.
- B) Verimli topraklar önem kazanmıştır.
- C) Avrupa Kıtası'na işçi göçleri artmıştır.
- D) Tarım ürünlerinin beslenmedeki önemi artmıştır.

18.



Haritada işaretlenerek verilen yerlerden hangisinde tarımsal nüfus yoğunluğu daha fazladır?

- A) I
- B) II
- C) III
- D) IV

19. Aşağıdakilerden hangisi göçler üzerinde etkili olan çekici faktörler arasında gösterilemez?

- A) Sağlık hizmetlerinin yetersizliği
- B) İş imkanlarının çok olması
- C) İstikrarlı yönetimin olması
- D) Gelişmiş eğitim imkanlarının olması

20. Aşağıdaki ülkelerden hangisinin nüfus piramidi düzgün üçgene daha çok benzer?

- A) Rusya
- B) Kanada
- C) Japonya
- D) Endonezya

### (506) SEÇ. COĞRAFYA – 4

1. Aşağıdaki toprak türlerinden hangisinin ülkemizin iç kesimlerindeki yayılış alanı daha fazladır?

- A) Çernezyom
- B) Kırmızı Akdeniz toprakları
- C) Kahverengi bozkır toprakları
- D) Kahverengi orman toprakları

2. Eğirdir, Burdur, Beyşehir ve Acıgöl'ün içinde bulunduğu yere aşağıdaki isimlerden hangisi verilmektedir?

- A) Göller Yöresi
- B) Menteşe Yöresi
- C) Ergene Havzası
- D) Biga Yarımadası

3. İç Anadolu'nun bozkırlarla kaplı dağlarında adacıklar halinde meşe, ardıç ve karaçamla rastlanmaktadır.

Bu durum İç Anadolu ile ilgili aşağıdakilerden hangisine kanıt oluşturur?

- A) Nemliliğin fazla olduğuna
- B) Platoların geniş alan kapladığına
- C) Küçükbaş hayvancılığın yaygın olduğuna
- D) Ormanların tahrip edildiğine

4. Hinterland (art bölge) ekonomik olarak limanı besleyen, limanla mal gönderen ya da mal temini yapan alanlardır.

Buna göre, aşağıdaki şehirlerden hangisi İzmir limanının hinterlandının dışındadır?

- A) Samsun
- B) Kütahya
- C) Manisa
- D) Denizli

5. Türkiye dünyanın en eski yerleşim alanlarından biridir.

Bu durum üzerinde aşağıdakilerden hangisinin etkisi yoktur?

- A) İkliminin elverişli olmasının
- B) Levha sınırında yer almasının
- C) Su kaynaklarının yeterli olmasının
- D) Verimli tarım alanlarının bulunmasının

6. Türkiye'nin nüfus yapısında 1927-2015 yılları arasında meydana gelen değişim ile ilgili aşağıdakilerden hangisi söylenemez?

- A) Nüfus miktarı artmıştır.
- B) Eğitim seviyesi yükselmiştir.
- C) Bebek ölüm oranları artmıştır.
- D) Ortalama yaşam süresi uzamıştır.

7. - Köye bağlı yerleşme birimleri içerisinde en yaygın olanıdır.  
- Yaz dönemlerinde halkın hayvanları otlatmak için çıktıkları alanlardır.  
- Günümüzde Karadeniz ve Akdeniz dağlarında turizm faaliyetlerine de konu olmaktadır.

Yukarıda özellikleri verilen yerleşme birimi aşağıdakilerden hangisidir?

- A) Divan
- B) Mezra
- C) Yayla
- D) Mahalle

8. Aşağıdakilerden hangisi dünya ticaret yollarında daha köklü değişikliklere neden olmuştur?

- A) Coğrafi keşifler
- B) Birinci Dünya Savaşı
- C) Yerleşik hayata geçilmesi
- D) Derebeyliklerin ortadan kalkması

## 2. OTURUM

9. Günümüzde insan ve toplumlararası haberleşme ve iletişimde aşağıdakilerden hangisinin etkisi daha azdır?

- A) Telefon B) Telgraf  
C) İnternet D) Televizyon

10. - Nüfus miktarı  
- Okuryazar nüfus oranı  
- Kentsel nüfus miktarı  
- Eğitim seviyesi

1927 – 2010 yılları arasında Türkiye nüfusu ile ilgili yukarıda verilenlerden kaç tanesinde artış olmuştur?

- A) 1 B) 2 C) 3 D) 4

11. Aşağıdakilerden hangisi ülkemizde erozyon şiddetinin artması halinde gerçekleşecek durumlardan değildir?

- A) Bitki türü çeşitliliğinin artması  
B) Ekolojik dengenin bozulması  
C) Tarımsal üretimin azalması  
D) Besin maddesi açığının başlaması

12. Aşağıdaki coğrafi faktörler ile sebep olduğu doğal afet eşleştirmelerinden hangisi yanlış verilmiştir?

- A) Yer şekilleri - Heyelan  
B) Jeolojik yapı - Depremler  
C) İklim özellikleri - Kuraklık  
D) İnsan faktörü - Volkanizma

13. • Toprağı korumak  
• Doğal yaşamı zenginleştirmek  
• Mobilya ve kağıt sanayi hammaddesini artırmak

Yukarıdaki amaçları gerçekleştirebilmek için aşağıdakilerden hangisinin yapılması daha uygun olur?

- A) Tarım alanlarını genişletmek  
B) Orman alanlarını genişletmek  
C) Yerleşim alanlarını genişletmek  
D) Akarsular üzerinde barajlar yapmak

14. • Dünyadaki en geniş yayılış alanı Türkiye olup kıyından 1000-1200 metrelere kadar çıkar.  
• Akdeniz ve Ege bölgelerinde geniş alan kaplar.  
• Işığı seven ve hızlı büyüyen bir ağaç türüdür.

Yukarıda bazı özellikleri verilen ağaç türü aşağıdakilerden hangisidir?

- A) Fıstık çamı B) Meşe  
C) Kayın D) Kızılçam

15. Aşağıdakilerden hangisi toplumlar arasındaki iletişimin artmasında etkili olan unsurlardan değildir?

- A) Yazını icadı  
B) Barutun icadı  
C) Telefonun icadı  
D) Matbaanın icadı

16. Dünya'daki deniz trafiği aşağıda verilen bölgelerden hangilerinde en yoğunur?

- A) Doğu Asya – Doğu Avrupa  
B) Orta Asya – Güney Afrika  
C) Batı Avrupa – Kuzey Amerika  
D) Güney Amerika – Kuzey Afrika

17. Aşağıdakilerden hangisi erozyonu önlemek için alınacak tedbirlerden değildir?

- A) Eğimli yamaçların teraslanması  
B) Doğal bitki örtüsünün korunması  
C) Meralarda aşırı otlatmanın yapılması  
D) Ağaçlandırma çalışmalarının yapılması

18. Aras ve Kura nehirleri aşağıdakilerden hangisine dökülmektedir?

- A) Basra Körfezi  
B) Hazar Denizi  
C) Karadeniz  
D) Akdeniz

19. Aşağıdakilerden hangisi afet sonrasında yapılması gerekenlerdendir?

- A) Afet yönetimi ve planlamasının yapılması  
B) Afet riski olan yerlerin belirlenmesi  
C) Afetlere karşı eğitim ve tatbikat yapılması  
D) Yiyecek, su ve ilaç dağıtımının yapılması

20. Aşağıdakilerden hangisi depreme karşı alınacak tedbirler arasında yer almaz?

- A) Ağaçlandırma çalışmalarının yapılması  
B) Binaların deprem yönetmeliğine uygun yapılması  
C) Arama ve kurtarma ekiplerinin kurulması  
D) Halkın depreme karşı alınacak tedbirler konusunda bilinçlendirilmesi

(511) FIKIH – 1

1. Aşağıdakilerden hangisi fıkıh ilminin konusudur?

- A) Meleklerin özellikleri  
B) Hadislerin sıhhat derecesi  
C) Dini hükümlerin kaynakları  
D) İslam düşüncesinde ortaya çıkan itikadi mezhepler

2. Miras ve vasiyet ile ilgili konular fıkıh ilminin hangi başlığı altında ele alınır?

- A) Feraiz B) Ukubat  
C) Muamelat D) Münakehat

3. Dinî hükümlerin, bir anda ve topluca değil de zaman içerisinde ihtiyaçlara göre konulması fıkıh usulünün hangi temel amacı ile ilgilidir?

- A) Haramda sınırlılık  
B) Helallerde genişlilik  
C) Hükümlerde tedricilik  
D) Kamu yararının gözetilmesi

## 2. OTURUM

4. • 622-632 yıllarını kapsayan dönemdir.  
• Müslümanlar bu dönemde devlet kurmuşlardır.  
• Muamelat, aile, miras ve ceza gibi konularda ilke ve kurallar konulmuştur.

**Bu bilgiler fıkıhın hangi dönemine aittir?**

- A) Mekke dönemi  
B) Tabiin dönemi  
C) Sahabe dönemi  
D) Medine dönemi

5. İmam Yusuf, İmam Muhammed ve İmam Züfer hangi fikhî mezhebin önde gelen alimleridir?

- A) Malikilik B) Hanefilik  
C) Şafilik D) Hanbelilik

6. Aşağıdakilerden hangisinin vücub ehliyeti eksiktir?

- A) Anne karnındaki ceninin  
B) Yedi yaşına gelmemiş çocukların  
C) Yedi yaşından buluş çağına kadar olan dönemdeki çocukların  
D) Buluş çağından sonraki dönemdeki kişilerin

7. Aşağıdakilerden hangisi ehliyeti ortadan kaldıran müktesep arızalara örnektir?

- A) Sarhoşluk B) Unutkanlık  
C) Bayılmak D) Çocukluk

8. Peygamberimizin bazen yerine getirdiği bazen de terk ettiği sünnettir.

**Bu tanım aşağıdakilerden hangisine aittir?**

- A) Ahad sünnet  
B) Meşhur sünnet  
C) Mükked sünnet  
D) Gayri mükked sünnet

9. Yapılması dinen hoş karşılanmayan, kesin ve açık delillerle yasaklanmayan fiillere ne denir?

- A) Haram B) Mekruh  
C) Müfsit D) Mübah

10. Aşağıdakilerden hangisi fikhî hükümlerin aslı kaynaklarından biri değildir?

- A) İcma B) Kıyas  
C) Sünnet D) İstihsan

11. Kur'an ve Sünnet gibi fikhî delillerden dini hükümler ortaya koyabilme bilgi ve becerisine sahip kimselere ne ad verilir?

- A) Müfessir B) Müçtehit  
C) Muhaddis D) Murakıp

12. Borçlar, alım-satım, kira ve sözleşme gibi mâlî konularla ilgili hükümler fıkıhın aşağıdaki konularından hangisinin içerisinde incelenir?

- A) Ukubât B) Münakehât  
C) Muamelât D) Feraiz

13. Aşağıdakilerden hangisi fıkıh usûlünün konuları arasında yer almaz?

- A) Kaynaklardan nasıl hüküm çıkarılacağını belirlemek  
B) Bir fikhî hükmün hangi kaynaklardan alınacağını belirlemek  
C) Fıkıhın dayandığı temel ilke ve esasların neler olduğunu belirlemek  
D) Karşılaşılan meseleler hakkında haram, mekruh gibi hükümler vermek

14. "Gücünüzün yeteceği işleri yapınız, vallahi siz yorulmadıkça Allah yorulmaz."

**Bu hadis fıkıh ilminin temel ilkelerinden hangisi için dayanak oluşturur?**

- A) Helallerde genişlik  
B) Haramlarda sınırlılık  
C) Mükellefiyette kolaylık  
D) Hükümlerde tedricilik

15. Rey ekolünün temelleri aşağıdaki sahabelerin hangisi tarafından atılmıştır?

- A) İbn Ömer B) İbn Mesut  
C) İbn Abbas D) Zeyd b.Sabit

16. • Fikhî görüş bakımından Hanefiliğe yakındır.  
• Şia'nın en büyük koludur.  
• İmamiyye ve İsnâaşeriyye olarak da adlandırılır.

**Hakkında bilgi verilen mezhep aşağıdakilerden hangisidir?**

- A) Caferi Mezhebi  
B) Maliki Mezhebi  
C) Şafi Mezhebi  
D) Hanbeli Mezhebi

17. Aşağıdakilerden hangisi sünneti gayri müekkededir?

- A) Ezan okumak  
B) Kamet getirmek  
C) Farz namazları cemaatle kılmak  
D) İkinci namazının sünnetini kılmak

18. Hanefi mezhebi dışındaki mezhepler sünnet ve müstehab kavramlarının yerine aşağıdakilerden hangisini kullanmışlardır?

- A) Vacip B) Mendup  
C) Mübah D) Makbul

19. İnsanların özürlerinden dolayı geçici olarak konulmuş hükümlere ne denir?

- A) Azimet B) Ruhsat  
C) Sahih D) Fâsid

20. Aşağıdakilerden hangisi icma ile belirlenmiş durumlardan biri değildir?

- A) Sünnetin dinin temel kaynaklarından kabul edilmesi  
B) Kur'an'ın Mushaf haline getirilmesi  
C) Alkollü içeceklerin haram kılması  
D) Cuma vaktinde iki ezan okunması

## 2. OTURUM

(512) FIKIH – 2

**1. Aşağıda verilen vakitlerin hangisinde nafile ve kaza namazı kılınmaz?**

- A) Yatsı namazından sabah namazına kadar olan sürede
- B) Güneşin doğuşundan itibaren yaklaşık 45 dakika sonrasındaki sürede
- C) İkinci namazı vakti girmeden önceki yaklaşık 15 dakikalık sürede
- D) İmsak vakti girmeden önceki 30 dakikalık sürede

**2. Aşağıdakilerden hangisi namazın dışındaki farzlardan biridir?**

- A) Kıraat
- B) Ka'de-i Ahire
- C) Niyet
- D) İftitah Tekbiri

**3. "Hac, Arafat'tan ibarettir."**

**Bu hadis aşağıdaki kavramlardan hangisi ile ilgilidir?**

- A) Vakfe
- B) Şavt
- C) Tavaf
- D) Sa'y

**4. Aşağıdaki namazların hangisinde imam kıraatı sesli yapmaz?**

- A) Sabah namazı
- B) Cuma namazı
- C) Akşam namazı
- D) İkinci namazı

**5. Aşağıdaki durumlardan hangisi orucu bozmaz?**

- A) Yanlışlıkla bir şeyler yiyip içmek
- B) Kasten bir şeyler yiyip içmek
- C) Unutarak bir şeyler yiyip içmek
- D) Kendi isteği ile ağız dolusu kusmak

**6. Kaza orucunu hastalık nedeniyle bozan kişi ne yapmalıdır?**

- A) Bir daha tutması gerekmez.
- B) Tutup tutmamakta serbesttir.
- C) Altmış gün kefaret orucu tutmalıdır.
- D) Uygun bir zamanda tekrardan tutmalıdır.

**7. Cemaatle kılınması zorunlu olan namaz aşağıdakilerden hangisidir?**

- A) Vitir namazı
- B) Cuma namazı
- C) Teravih namazı
- D) Beş vakit namaz

**8. Gusül abdesti olmayan kişilerin, aşağıdakilerden hangisini yapmalarında dinen bir sakınca yoktur?**

- A) Dua etmelerinde
- B) Namaz kılmalarında
- C) Kâbe'yi tavaf etmelerinde
- D) Kur'an-ı elle tutmalarında

**9. Namaz bittikten sonra namazın farzlarından birini terk ettiğini fark eden kişi ne yapmalıdır?**

- A) Hemen sehiv secdesi yapmalıdır.
- B) Namazını tekrardan kılmalıdır.
- C) Sadece terk ettiği rüknü yerine getirmelidir.
- D) Bir şey yapması gerekmez.

**10. Aşağıdakilerden hangisi abdestin farzlarından biridir?**

- A) Bismele ile başlamak
- B) Boynu mesh etmek
- C) Ağız ve burnu temizlemek
- D) Başını mesh etmek

**11. "Elbiseni temiz tut, her türlü pislikten uzak dur." (Müddessir suresi, 4-5. ayetler)**

**Bu ayet aşağıdaki konulardan hangisi ile ilişkilendirilebilir?**

- A) Tevekkül
- B) Taharet
- C) Ukubat
- D) Muamelat

**12. Toprak ürünlerinden alınan zekât miktarı aşağıdakilerden hangisinde doğru verilmiştir?**

- A) 1/10
- B) 1/20
- C) 1/30
- D) 1/40

**13. Aşağıdakilerden hangisi namazın hazırlık şartlarından biri değildir?**

- A) Vakit
- B) Niyet
- C) Kıyam
- D) Setr-i Avret

**14. Aşağıdakilerden hangisi ihram yasakları arasında yer almaz?**

- A) Güzel koku sürmek
- B) Tırnakları kesmek
- C) Bitkileri koparmak
- D) Banyo yapmak

**15. "Mallarını Allah yolunda harcamanların durumu, her başağında yüz dane olmak üzere, yedi başak veren bir danenin durumu gibidir. Allah dilediğine kat kat verir. Allah'ın lütfü geniştir, o bilendir." (Bakara suresi, 261. ayet)**

**Bu ayette zekâtın hangi yönüne vurgu yapılmıştır?**

- A) Malı temizlediği
- B) Günahlardan arındırdığı
- C) Malı bereketlendirdiği
- D) Fakire verilmesi gerektiği

**16. • Kâbe'nin etrafında dönülerek yapılır.  
• Haccin farzları arasında yer alır.**

**Hakkında bilgi verilen kavram aşağıdakilerden hangisidir?**

- A) Sa'y
- B) Tavaf
- C) Vakfe
- D) Şeytan taşlama

**17. Hükmü itibarı ile diğerlerinden farklı olan farz namaz aşağıdakilerden hangisidir?**

- A) Cenaze namazı
- B) Cuma namazı
- C) Yatsı namazı
- D) Sabah namazı

## 2. OTURUM

18.	Oruç Çeşidi	Hükmü
I	Kefaret orucu	Farz
II	Kaza orucu	Sünnet
III	Şevval orucu	Nafile
IV	Ramazan orucu	Farz

Tabloda verilen eşleştirmelerden hangisi yanlıştır?

- A) I B) II C) III D) IV

19. “İnsan ölünce üç ameli dışında bütün amellerinin sevabı kesilir; kesintisiz iyilik, kendisinden faydalanılan ilim ve arkasından dua eden hayırlı evlat.”

Bu hadis aşağıdaki kavramlardan hangisi ile ilişkilendirilebilir?

- A) Zekât  
B) İtikâf  
C) Sadaka-i Fıtr  
D) Sadaka-i Cariye

20. Aşağıdakilerden hangisi ramazan ayına özgü bir ibadet değildir?

- A) Fitre B) İtikâf  
C) Umre D) Teravih

### (531) HZ. MUHAMMED'İN HAY. – 1

1. Hz. Peygamber “Dört şey tüm peygamberlerin sünnetlerindedir: Utanma duygusu, güzel koku sürünmek, dişleri temizlemek ve .....” buyurmuştur.

Hadiste boş bırakılan yere aşağıdakilerden hangisi getirilmelidir?

- A) Zekilik B) Doğruluk  
C) Eminlik D) Evlenmek

2. 619 yılına, Müslümanlarca Hüzün Yılı denilmesinin sebebi aşağıdakilerden hangisidir?

- A) Hz. Muhammed (sav.)'in Taif'de taşlanması  
B) Mekke'li müşriklerin boykot uygulaması  
C) Ebu Talip ve Hz. Hatice'nin vefat etmesi  
D) Hz. Muhammed (sav.)'in Uhut'ta yaralanması

3. Aşağıdakilerden hangisi Peygamberimizin torunlarından biridir?

- A) Hüseyin B) İshak  
C) Kasım D) Ömer

4. Aşağıdakilerden hangisi Hz. Peygamber'in öğütlediği davranışlar arasında yer almaz?

- A) Zorlaştırıcı olmak  
B) Hoşgörülü olmak  
C) Güler yüzlü olmak  
D) Kolaylaştırıcı olmak

5. Tüm ibadet ve davranışlarımızda Allah'ı görüyormuş gibi davranmak aşağıdakilerden hangisiyle adlandırılır?

- A) İman B) İbadet  
C) İhsan D) Ahlak

6. Aşağıdakilerden hangisi edep ve haya sahibi olmanın sonuçlarından biri değildir?

- A) Kişilerin arkalarından yapmadıkları şeyleri söylemek  
B) Başkalarının ayıp ve kusurlarını örtmek  
C) Kötü olan herşeyden uzak durmaya çalışmak  
D) İstenmeyen bir şey gördüğünde mahcubiyet duymak

7. Ebu'l-Kasım aşağıdakilerden hangisinin künyesidir?

- A) Hz. Ali  
B) Hz. Ömer  
C) Hz. Osman  
D) Hz. Muhammed (sav.)

8. Hz. Muhammed (sav.)'in “Ben Abdullah b. Cüda'nın evinde öyle bir sözleşmede yer aldım ki, bu sözleşmeyi kızıl develere değiştirmem. Eğer şuan böyle bir sözleşmeye çağrılısam hemen gider orada bulunurum.” dediği sözleşme aşağıdakilerden hangisidir?

- A) Medine Vesikası  
B) Hilfu'l-Fudûl  
C) Akabe Biatı  
D) Hudeybiye Antlaşması

9. Hz. Muhammed (sav), Adal ve Kare kabilelerine İslam'ı öğretmek için Asım b. Sabit önderliğinde on sahabe göndermiştir. Yolda Huzeyl kabilesinden yüz kişilik bir çete bu sahabilere saldırmış sekizi şehit edilmiş, ikisi de esir alınmıştır.

Bu olay İslam tarihinde hangi isimle anılmaktadır?

- A) Raci olayı  
B) Bir-i Ma'üne olayı  
C) Beni Nadir savaşı  
D) Beni Müstalik savaşı

10. Beş vakit namaz aşağıdaki kandil gecelerinin hangisinde farz kılınmıştır?

- A) Berat B) Regaib  
C) Kadir D) Miraç

11. Giyim konusunda aşağıdakilerden hangisi İslam dininin bakış açısını yanıtmaz?

- A) Temiz olmak  
B) Tertipli olmak  
C) Gösterişli olmak  
D) Sade olmak

12. Allah'ın yasakladığı şeylerden nefsinin korunması anlamına gelen kavram aşağıdakilerden hangisidir?

- A) Tefekkür B) İffet  
C) Hidayet D) Salih Amel

13. “Yavrum! Şüphesiz yapılan iş bir hardal tanesi ağırlığında olsa veya bir kayanın içinde, yahut göklerde ya da yerin içinde bile olsa, Allah onu çıkarır getirir. Çünkü Allah en gizli şeyleri bilendir, (her şeyden) hakkıyla haberdar olandır.”

(Lokman suresi, 16. ayet)

Bu ayette aşağıdakilerden hangisi vurgulanmaktadır?

- A) Şükür B) İhsan  
C) Tevbe D) Sabır



## 2. OTURUM

14. Allah, satışında hoşgörülü, alışında hoşgörülü, ödemesinde hoşgörülü kimseleri sever.

**Bu hadisin ana düşüncesi aşağıdakilerden hangisidir?**

- A) Adil olmak  
B) Cimri olmak  
C) Anlayışlı olmak  
D) Cesaretli olmak

15. İslam öncesinde Arapların yaptıkları savaşlardan bazılarının "Ficar Savaşı" olarak adlandırılmasının sebebi aşağıdakilerden hangisidir?

- A) Haram aylarda yapılması  
B) Hz. Muhammed (sav.)'in de katılımı  
C) Ticaret güvenliğini sağlamak için yapılması  
D) Kâbe'de Harem bölgesinde yapılması

16. Aşağıdakilerden hangisi Peygamberimizin çocuklarından biri değildir?

- A) Hz. İbrahim B) Hz. Abdullah  
C) Hz. Kasım D) Hz. İsmail

17. Hz. Muhammed (sav.) ile ilgili aşağıdakilerden hangisi söylenemez?

- A) İşlerini en güzel bir biçimde yapmıştır.  
B) Yaşantısıyla Müslümanlara örnek olmuştur.  
C) Hayatının her anında tek başına karar almıştır.  
D) Şahsına yapılan kötülükleri affetmiştir.

18. Aşağıdakilerden hangisi Hudeybiye Antlaşması maddelerinde yer almaz?

- A) Bu anlaşma on yıl geçerli olacaktır.  
B) Muhacir ile Ensar birbiriyle kardeş ilan edilmiştir.  
C) Müslümanlar Mekke'de bulunduğu günlerde Kureyşliler Mekke dışına çıkacaklardır.  
D) Kureyş dışındaki kabileler, iki taraftan istedikleriyle anlaşma yapmakta serbest olacaklardır.

19. Hz. Muhammed (sav.) işlerini en güzel biçimde yapmıştır. O, özensizce yapılan işleri tasvip etmemiş ve ashabını bu konuda uyarmıştır. Yapılan iş her ne olursa olsun, onun güzel yapılmasını emreden efendimiz bütün işlerin aynı dikkat ve titizlikle yapılmasını arzu etmiştir.

**Peygamberimizin aşağıdaki davranışlarından hangisi bu paragrafın ana düşüncesi ile ilgili değildir?**

- A) Mescitlerin temiz tutulmasını istemesi  
B) Dağınık kıyafetli olan ashabını uyarması  
C) Namaza başlamadan önce safları düzeltmesi  
D) Yetimlere bakmanın sadaka olacağını söylemesi

20. Aşağıdakilerden hangisi bir Müslümandan beklenen davranışlardandır?

- A) Yaptıklarından sorumlu olacağı bilinciyle hareket eder.  
B) İşlerinde sorumlu davranmaktan kaçınır.  
C) Kötülüğe fazlasıyla karşılık verir.  
D) Yaptığı iyilikleri başa kakar.

### (532) HZ. MUHAMMED'İN HAY. – 2

1. Hz. Muhammed (sav.), ordunun başına yönetme, beceri ve kabiliyeti olan yetenekli kimseleri komutan olarak atamıştır. Nitekim bir sefer öncesinde de azatlı kölenin oğlu Usame'yi komutan olarak görevlendirmiştir.

**Bu parçada Hz. Muhammed (sav.)'in hangi ilkeyi esas aldığı söylenebilir?**

- A) Takva B) Liyakat  
C) Merhamet D) Cömertlik

2. Aşağıdakilerden hangisi İslam dininin sakınılmasını istediği davranışlardan biri değildir?

- A) Kibir  
B) Cimrilik  
C) Kıskançlık  
D) Alçakgönüllülük

3. Hz. Muhammed (sav.) bir hadisinde "Ey insanlar! Dikkat edin, sizin Rabb'iniz birdir, babanız da birdir, Adem'dir. Dikkat edin, hiçbir Arab'ın, yabancı üzerine, hiç bir yabancıya Arap üzerine, siyahın kırmızı renkli üzerine, kırmızının siyah üzerine üstünlüğü yoktur. Fazilet ve üstünlük ancak takva iledir." buyurmuştur.

**Bu hadiste vurgulanmak istenen ana düşünce aşağıdakilerden hangisidir?**

- A) Adalet B) Hoşgörü  
C) Eşitlik D) Doğruluk

4. Hz. Muhammed (sav.)'in bulunduğu mecliste aşağıdaki davranışlardan hangisi görülürdü?

- A) İnsanların mahremiyetinin konuşulması  
B) Yapılan hata ve yanlışların yüze vurulması  
C) Soylu ve zenginlere özel muamele yapılması  
D) Yaşlılara saygı ve merhamet gösterilmesi

5. Hz. Peygamber Hicret'ten önce Medineli müslümanlara Kur'an öğretmek için aşağıdaki sahabilerden hangilerini görevlendirmiştir?

- A) Hz. Ali - Abdullah b. Ömer  
B) Musab b. Umeyr - Ummi Mektum  
C) Hz. Hamza - Cafer b. Ebu Talip  
D) Bilal-i Habeşi - Ammar b. Yasir

6. Aşağıdakilerden hangisi Peygamberimiz'in âmâ olan Abdullah b. Ümmi Mektum'a verdiği görevlerden değildir?

- A) Kadılık  
B) İmamlık  
C) Müezzinlik  
D) Kur'an öğreticiliği

7. Hz. Peygamber evlilik konusunda aşağıdakilerden hangisini öncelikli olarak tavsiye etmiştir?

- A) Soy B) Güzellik  
C) Ahlak D) Zenginlik

## 2. OTURUM

8. Hz. Peygamber aşağıdaki olayların hangisinde sahabeyle istişare etmemiştir?

- A) Mescid-i Nebi'nin nereye yapılacağı
- B) Bedir Savaşı'nın nerede yapılacağı
- C) Bedir Savaşı'nda ele geçen esirlerin durumu
- D) Uhut Savaşı'nın nasıl yapılacağı

9. Peygamberimizin oğlu vefat ettiği gün Güneş tutuldu. Bazı insanlar, Güneş'in bu sebeple tutulduğunu söylediler. Bunun üzerine Peygamberimiz: "Ay ve Güneş Allah'ın ayetlerinden sadece iki ayettir. Bunlar, birinin ölümü veya doğumu için tutulmazlar. Onu tutulmuş gördüğünüz zaman, açılıncaya kadar Allah'a dua edin ve namaz kılın." buyurdu.

**Aşağıdakilerden hangisi bu metinden çıkarılacak bir sonuç olamaz?**

- A) Doğa olaylarını açıklamak bilimin görevidir.
- B) Güneş tutulması sırasında namaz kılınabilir.
- C) Ay ve Güneş için belirlenmiş yasalar vardır.
- D) Peygamberin oğlu da diğer insanlar gibi ölümlüdür.

10. Allah adına size sığınana yardım edip sığındırın. Allah adını anarak isteyene verin. Allah rızası için düştüğünüz tehlikeli durumdan yardım isteyene yardım edin. Size iyilik yapanı mükafatlandırın. Eğer bir şey bulamazsanız razı ettiğiniz inancınıza kadar ona dua ediniz.

**Aşağıdakilerden hangisi bu hadisten çıkarılamaz?**

- A) İyilik karşılıksız bırakılmamalı
- B) Tehlikede olana yardım edilmeli
- C) İsteyen bir kimse boş çevrilmemeli
- D) Cemaatle namaz kılmaya özendirilmeli

11. Peygamberimizin vefatından sonra, Müslümanların istişare ile aldıkları ilk karar aşağıdakilerden hangisidir?

- A) Kur'an'ın kitap haline getirilmesi
- B) Halifenin seçilmesi
- C) Namaza çağrının nasıl olacağı
- D) Peygamberimizin defnedilmesi

12. Çocuklarından birine mal bırakan ama diğer çocuklarına bırakmayan birisine Peygamberimiz: "İyilik ve lütufta hepsinin eşit olmaları seni sevindirmez mi?" demiş. Adam, "evet" deyince, Peygamberimiz "Sana iyilik yapmaları senin onlar üzerindeki hakkın olduğu gibi, aralarında adaletli davranman da onların senin üzerindeki haklarıdır." demiştir.

**Bu metnin ana düşüncesi aşağıdakilerden hangisidir?**

- A) Çocuklara miras bırakılmalıdır.
- B) Çocukların anne - baba üzerinde hakları vardır.
- C) Çocuklar arasında adaletli davranılmalıdır.
- D) Anne - babanın çocuklar üzerinde hakkı vardır.

13. Aşağıdaki ifadelerden hangisi istişarenin önemi ile ilgili değildir?

- A) "Her şeyi anlayan, idrak eden akıl bile, dostların ayrılığı ile yayı kırılmış okçu gibi şaşırır kalır." (Mevlana)
- B) "...Her ilim sahibinin üstünde daha iyi bir bilen vardır." (Yusuf Suresi, 76. ayet)
- C) Akıl akıldan üstündür. (Deyim)
- D) "İlim öğrenmek kadın - erkek her Müslümana farzdır." (Hadisi Şerif)

14. İstişare yoluyla çözümlenen aşağıdaki olaylardan hangisi Hz. Muhammed (sav.) zamanında gerçekleşmiştir?

- A) Hz. Ömer'in Şam'a girmekten vazgeçmesi
- B) Hz. Ebu Bekir'in halife seçilmesi
- C) Namaza davetin ezanla olması
- D) Kur'an-ı Kerim'in iki kapak arasında toplanması

15. İlk vahiy geldiğinde eşinin tavsiyesiyle Peygamberimizin istişarede bulunduğu kişi aşağıdakilerden hangisidir?

- A) Varaka b. Nevfel
- B) Hz. Ebu Bekir
- C) Zeyd b. Sabit
- D) Hz. Osman

16. Peygamberimiz bazen kendi görüşüne uygun düşmese de istişare sonucu alınan kararları uygulamaya koymuştur.

**Aşağıdakilerden hangisi bu duruma verilecek bir örnektir?**

- A) Hendek kazılma fikrinin kabul edilmesi
- B) Uhud'da meydan savaşı yapılması
- C) Mescidi Nebi'nin yapılması
- D) Mescide minber yapılması

17. Aşağıdakilerden hangisi kendisiyle istişare edilen kişide bulunması gereken özelliklerden biri değildir?

- A) Bilgi sahibi olması
- B) Güvenilir olması
- C) Samimi olması
- D) Erkek olması

18. Bir kişi, bilge adama gelerek: "Hani Kur'an'da her türlü bilgi var diyordunuz. Bana Kur'an'da hamurun nasıl yapıldığını anlatan bir bilgi gösterebilir misiniz?" der. Bilge adam, "Bilmiyorsanız bir bilene sorun ayetini okumadın mı?" diyerek cevap verir.

**Bilge adam aşağıdaki kavramlardan hangisine vurgu yapmıştır?**

- A) İman
- B) Tebliğ
- C) İstişare
- D) Tevekkül

## 2. OTURUM

19. Peygamberimiz, insanlara yardım eli uzatılırken hiçbir şeyi küçük ve önemsiz görmemek gerektiğini belirtmektedir. Zira iyiliğin küçüğü büyüğü olmaz. Kişinin niyeti yapılan yardımın mahiyetinden daha önemlidir.

**Aşağıdakilerden hangisi bu metnin ana düşüncesi ile ilişkilendirilemez?**

- A) Namazlar oturarak kılınmalıdır.
- B) Otobüste yaşlılara yer verilmelidir.
- C) Borçlu arkadaşına destek olunmalıdır.
- D) Görme engelli birine yardımcı olunmalıdır.

20. Aşağıdakilerden hangisi istişarenin faydaları arasında sayılmaz?

- A) Ortak hareket etme bilinci kazandırır.
- B) Karşımızdakine değer verdiğimiz belli olur.
- C) Farklı görüşler sayesinde düşünce dünyamız zenginleşir.
- D) Lider olma isteğimiz karşılık bulur.

### (613) SEÇ. DİL VE ANLA. – 3

1. İletişimin gerçekleştiği alana ---- denir.

**Bu cümlede boş bırakılan yere aşağıdaki kavramlardan hangisi getirilmelidir?**

- A) kanal
- B) gönderici
- C) bağlam
- D) dönüt

2. Aşağıdakilerden hangisi sunumdan önce yapılması gerekenlerden biri değildir?

- A) Güncel bir konu seçilmelidir.
- B) Bol ve değişik kaynaklardan yararlanılmalıdır.
- C) Kullanılacak malzemeler kontrol edilmelidir.
- D) Konuşmacı jest ve mimiklerine dikkat etmelidir.

3. Dillerini öğrenmek istediğimiz yabancı toplumlar yalnızca teknik ve bilim üreterek gelişmedi. Shakespeare (Şekspir), Victor Hugo, Hegel, Marks ve yüzlerce ne bilgisayar programladılar ne de uzay aracı üzerinde çalıştılar. Toplumsal bilincin bu üstün yaratıcıları ürettikleri zihinsel ürünlerle insanlara yeni değerler kazandırdılar. Onlara düşünme yeteneği ve yöntemleri kazandırdılar. Düşünen, araştıran ve yeni düşünceler üreten insan da bilimi ve tekniği üretti.

**Bu parçanın ana düşüncesi aşağıdakilerden hangisidir?**

- A) Sanatçıların birçoğu aynı zamanda bilim ve teknolojiyle ilgilenmiştir.
- B) Bilimsel gelişmelerin temelinde düşünce alanındaki gelişmeler yatmaktadır.
- C) Sanat, toplumsal huzuru ve barışı sağlamada önemli bir etkidir.
- D) Toplumsal bilinç oluşmadan ülkelerin gelişmesi ve ilerlemesi mümkün değildir.

4. Bazı öykücülerin kendi yazdıklarına hiçbir katkıları yoktur. Yazdıklarını başka öykücülerin cümleleriyle, öykü kalıplarıyla anlatırlar. Yazdıklarında yer değişir, isimler değişir; özündeki anlam ise kopya olarak kalır. Oysa bir öykücü önce özgün olmalıdır.

**Bu parça aşağıdaki yargılardan hangisiyle tamamlanamaz?**

- A) Bir kimseye öykücüdür diyebilmek için onun başka öykücülerini hatırlatmaması gerekir.
- B) Cümleleriyle, ifadeleriyle farklı bir üslup ortaya koymalıdır.
- C) İyi öykücüler, baktıkları olaylarda yalnız kendilerince ortaya çıkarılan ilişkileri görürler.
- D) Edebiyat dünyasında yaygınlaşan sözlerden, betimlemelerden yararlanmalıdır.

5. Babası görmesin diye ortadan kaldırdığı gazeteleri çünkü her gün acı verici haberler çıkıyordu.

**Bu cümledeki anlatım bozukluğunun nedeni aşağıdakilerden hangisidir?**

- A) Gereksiz sözcük kullanımı
- B) Dolaylı tümleş eksikliği
- C) Sözcüğün yanlış yerde kullanımı
- D) Özne – yüklem uyumsuzluğu

6. Toplumunu ilgilendiren bir konunun dinleyiciler önünde, sohbet havasında içinde uzmanları tarafından tartışıldığı konuşmalara ---- denir.

**Bu cümlede boş bırakılan yere aşağıdakilerden hangisi getirilmelidir?**

- A) forum
- B) konferans
- C) panel
- D) münazara

7. Ovada, Grişgal'e gelen yollardan bir toz dumandır kalkıyordu. Nice bin atlı, imdada koşuyor sanılırdı. Düşman, bu hâli görünce şaşırıldı. İki ateş arasında kaldığını anladı. Hâlbuki toz duman içinde yaklaşılanlar ancak on beş gaziydi. Bozgun başladı.

**Bu parçada ağır basan anlatım biçimi aşağıdakilerden hangisidir?**

- A) Öyküleme
- B) Açıklama
- C) Betimleme
- D) Tartışma

8. Soğuk bir rüzgâr, uğultuyla sokağa doluyor, bir kasırgaya dönüşüp dört bir yanı zorluyor. Pencere, kapılar, sokak lambaları savruluyor. Bir restoran levhası onu demire bağlayan halkalardan kurtulmak için deli gibi çırpınıyor.

**Bu parçanın anlatımı için aşağıdakilerden hangisi söylenebilir?**

- A) Görme, dokunma ve işitme duyusuyla algılanacak ayrıntılar bulunmaktadır.
- B) Üçüncü kişi anlatımı kullanılmıştır.
- C) Dolaylı anlatıma örnek cümleler vardır.
- D) Betimleyici ifadeler yer verilmiştir.

## 2. OTURUM

9. "Gereksiz söze ne hacet, insan ne anlatmak istiyorsa bunu en kısa şekilde anlatmalı ki sözüne yalan karışmasın." derdi ve bir şey anlatırken az konuşur, konuşurken kısa cümleler kurar, işe yaramayan tek sözcük bile kullanmazdı.

**Bu parçada sözü edilen kişinin hangi anlatım özelliği vurgulanmaktadır?**

- A) Açıklık B) Özlülük  
C) Akıcılık D) Özgünlük

10. **Aşağıdaki cümlelerde altı çizili sözlerden hangisi alışılmamış bağdaştırmaya örnektir?**

- A) Tabağın üzerindeki çürük elmayı iştahla yedi.  
B) Tarıladaki kızarmış domateslere imrenerek baktı.  
C) Bir acı söz insanın yüreğinde derin yaralar açar.  
D) Konuşurken uzun cümle kurmaktan kaçınılıyoruz.

11. - Eyvah! Otobüsü kaçırdım.  
- Çocuklar, sınıfın pencerelerini kapatınız!  
- Arkadaşlar, herkes adresi iyice öğrendi mi?

**Bu cümleler dilin aşağıdaki işlevlerinden hangisini örneklenmez?**

- A) Kanalı kontrol işlevi  
B) Göndergesel işlev  
C) Alıcıyı harekete geçirme işlevi  
D) Heyecana bağlı işlev

12. I. Yeri geldiğinde tartışmaya müdahale ederek tarafını belli eder.  
II. Her bir konuşmacıya eşit konuşma süresi verir.  
III. Tartışmanın havasının dağılması için konu dışı tartışmaları teşvik eder.  
IV. Tartışma kurallarına uymayanları uygun bir şekilde uyarır.

**Yukarıda numaralanmış cümlelerin hangilerinde tartışma başkanının görevleriyle ilgili yanlış bilgi verilmiştir?**

- A) I ve II. B) I ve III.  
C) II ve III. D) III ve IV.

13. **Aşağıdakilerden hangisi tartışma yönteminin aşamalarından biri değildir?**

- A) Tartışma konusunun seçimi  
B) Tartışmayı yönlendirecek soruların seçimi  
C) Araç ve tekniklerin belirlenmesi  
D) Katılımcılara soru soracak dinleyicilerin seçimi

14. **Anlatıma hazırlık aşamasında aşağıdakilerden hangisi en az fayda sağlar?**

- A) Ezber yapmak  
B) Not almak  
C) Alıntı yapmak  
D) Özet çıkarmak

15. **Aşağıdakilerin hangisinde konu daha az sınırlandırılmıştır?**

- A) Sevgi  
B) Türk edebiyatında anne sevgisi  
C) Anne sevgisi  
D) Dünya edebiyatında anne sevgisi

16. **Aşağıdaki cümlelerin hangisinde yanlış anlamda sözcük kullanımından kaynaklanan bir anlatım bozukluğu vardır?**

- A) Çoban, sürüyü akşam güneşiyle birlikte köye doğru sürmeye başladı.  
B) Gençlere dil şuuru kazandırılması için farklı çalışmalar yapılmalıdır.  
C) Bu kentlin insana ferahlık veren bir havası vardı.  
D) Çorap dokuyarak geçimini sağlamaya çalışıyordu.

17. I. Bilgi verme amacı vardır.  
II. Olay, kişi, zaman, mekân öğelerine yer verilir.  
III. Olaylar sadece birinci kişili anlatımla aktarılır.  
IV. Roman, öykü, masal gibi türlerde bu anlatım kullanılır.

**Numaralanmış cümlelerin hangilerinde öyküleyici anlatımla ilgili bilgi yanlış vardır?**

- A) I ve II. B) I ve III.  
C) II ve III. D) III ve IV.

18. Yola çıkalı ne kadar olmuştu? Günler geçti, geceler geçti; derken yine günler geçti. Atreju ne kadar zamandır yolda olduklarını bilmiyordu. Ejderha, uykusunda da uçabiliyordu; hep böyle gidiyor, gidiyordu ve Atreju da ejderhanın beyaz yelesine sımsıkı sarılmış durumda ara sıra kestiriyordu.

**Bu parçanın anlatım türü aşağıdakilerden hangisidir?**

- A) Betimleyici anlatım  
B) Kanıtlayıcı anlatım  
C) Düşsel (fantastik) anlatım  
D) Emredici anlatım

19. Edebiyat Öğretmeni Ömer Bey, öğrencilerinden köylerinin veya yaşadıkları çevrenin tarihî ve doğal güzelliklerini anlatan bir kompozisyon yazmalarını istemiştir.

**Buna göre öğrencilerin yazacakları kompozisyona en uygun anlatım türü aşağıdakilerden hangisi olur?**

- A) Düşsel  
B) Betimleyici  
C) Tartışmacı  
D) Söyleşmeye bağlı

20. Şiir dediğimiz türün temel özelliği, kendisini var eden parçalara ayrılmayışıdır. Bir hikâyenin, bir romanın iletildiği haber bir başka biçimde de ortaya konabilir. Bu yüzden de bir hikâyeye, bir roman zaman zaman özetlenebilir, bölümlere ayrılabilir. En azından, metni hep göz önünde tutmaksızın hakkında konuşulabilir. Oysa şiirde özgün bir mantık vardır ve bir bütün olarak değerlendirilebilir. Başka bir biçim içinde varlığını sürdüremez, başka kelimelerin bileşimine tercüme edilemez.

**Bu parçada anlatılmak istenen aşağıdakilerden hangisidir?**

- A) Şiir hiçbir türe sığdırılmayan, değiştirilemeyen kendine has anlatım şekli olan bir türdür.  
B) Roman, öykü, masal gibi türlerin ifade zenginliği olarak şiirden üstün olduğu söylenebilir.  
C) Şairlerin oluşturduğu dünyanın gerçeğin ta kendisi olmasını beklemek haksızlıktır.  
D) Son yıllarda edebî türler birbirinin sınırlarını sıkça ihlal etmektedir.

## 2. OTURUM

(614) SEÇ. DİL VE ANLA. – 4

1. (I) Karanlık, ıslak, soğuk bir gün başlıyordu. (II) Oysa bu karanlığın, bu ıslaklığın, bu soğuğun içinde tarifsiz bir sevinç vardı. (III) Pencerenin perdesini aralayıp sokağa baktı. (IV) Çamurlu sular, günün ilk ışıkları altında, kirliliği bir ırmak gibi akıyordu.

**Bu parçada numaralanmış cümlelerin hangisinde eylemsi kullanılmıştır?**

- A) I. B) II. C) III. D) IV.

2. **Aşağıdaki cümlelerin hangisinde her iki sözcüğü de anlam kaybına uğramış bir birleşik isim kullanılmıştır?**

- A) Yeryüzünde senin gibi çalışkan kimse yok bence.  
B) Atasözleri uzun deneyimler sonucunda oluşmuştur.  
C) Yaylada sivrisinekler insana hiç huzur vermiyordu.  
D) Kardeşim çok küçükken suçüçeği geçirmiş.

3. Nedense acılar geliyor dilime

acı kelimeler

I

Zincire vurulmuş bir bedene

utançla isyan edenler

II

Kadim bir nehre

buhar fokurdayan resim yani

III

İkiye bölünen göğsümden akıp gitmededir

Sorular gibi sarktı suratımızdan

IV

önce güz yaprakları

**Lirik anlatımla oluşturulmuş bu parçada altı çizili sözlerden hangisinde mecazlı bir söyleyiş yoktur?**

- A) I. B) II. C) III. D) IV.

4. **Aşağıdaki cümlelerin hangisinde çekimli fiil kullanılmamıştır?**

- A) Sizlerle burada görüştüğüm için çok memnun oldum.  
B) Yıllardır bu iş yerinde mutlu bir şekilde çalışıyordum.  
C) Burada ailenle çok güzel günler yaşamış olmalısın.  
D) Burası birçok kuş türünün bir arada yaşadığı bir vadidir.

5. **Aşağıdaki cümlelerin hangisinde yer-yön zarfı çekim eki olarak isimleşmiştir?**

- A) Dün akşam yukarı katta büyük bir gürültü koptu.  
B) Bilmediğiniz konularda ileri atılmanız oldukça yanlıştır.  
C) Salonu boşaltıp içeriği havalandırmayı düşünmüştüm.  
D) Kullanmadığın eşyaları dışarı çıkarmalısın.

6. Bahçede sıra sıra erik ağaçları vardı. Melahat Teyze, "Oğlum, haydi toplayın da yiyin!" dedi. Bir yandan topladığımız erikleri yiyor, bir yandan da iri iri eriklerin bir kısmını kuyunun yanında biriktiriyorduk. Erikler tatlıydı. Bizim bücür durmadan yiyor, çekirdekleri çimenlerin üstüne fırlatıyordu. Kuyudan bir kova su çektim, içtik. Çayıra oturduk. Biraz dinlendik.

**Bu parçanın anlatımıyla ilgili olarak aşağıdakilerden hangisi söylenemez?**

- A) Öyküleyici anlatıma başvurulmuştur.  
B) Farklı duyularla algılanabilecek ayrıntılara yer verilmiştir.  
C) İkilemeler kullanılmıştır.  
D) Karşılaştırmalardan yararlanılmıştır.

7. **Aşağıdaki cümlelerin hangisinde soru anlamı zamirle sağlanmıştır?**

- A) Bu meyveleri hangi marketten aldınız?  
B) Öğrenciler hafta sonunda nereye gidecekler?  
C) Kümeste kaç tavuk var?  
D) Bugün bize misafir geleceğini nasıl anladınız?

8. Yıllık çobanlarının dumana boğulmuş ve yağmurla yıkanmış çadırları; su basan arazide, kızarmış çayırların üzerinde kapkara duruyordu. Atların buğu tüten ağızlarından kokulu, ince, mavi dumanlar yükseliyordu. Zayıflamış aygırlar sonbahar telaşıyla ve olanca sesleriyle kişniyor, kısraklar her tarafa dağılıyordu. Dağlardan inen davar sürüleri, bölünmüş gruplar hâlinde doluşuyordu tarlalarda. Kurumuş, kararmış bozkır toynak izleriyle, patikalarla dolmuştu.

**Bu parçada aşağıdaki anlatım türlerinden hangisi ağır basmaktadır?**

- A) Kanıtlayıcı anlatım  
B) Betimleyici anlatım  
C) Açıklayıcı anlatım  
D) Tartışmacı anlatım

9. Ne bir türkü söylersin gizlice ağlayarak  
Ne her akşam içinde bir yara göz göz açar  
Ne efkâr basar seni akşamları ansızın  
Ne uykuların kaçar

**Bu dördükte aşağıdakilerin hangisi yoktur?**

- A) Belirtme sıfatı  
B) Durum zarfı  
C) Edat  
D) Bağlaç

10. **Aşağıdakilerin hangisinde ünlem cümleye "rahatlama" anlamı katmıştır?**

- A) Oh, sonunda bu zor işin üstesinden geldim!  
B) Bravo, çok güzel bir hikâye yazmışsın!  
C) Eyvah, servis şoförünü aramayı unuttum!  
D) Aa, bu kadar ekmeği kim yiyecek?

## 2. OTURUM

11. Araba Taşkent'in inişli yokuşlu dağ yoluna girmişti. Kâh kurumuş sel çukurlarından geçiyor kâh boş tarlaların, bozulmuş bağların kenarlarını takip ediyordu. Seyrek fasıllarla tek tük köylülere, yorgunlukta inler gibi ses çıkaran kağnilara, sırtlarında çalı demeti taşıyan çıplak ayaklı kadınlara tesadüf ediliyordu. İnce bir bağ yolundan uzun boylu, yakışıklı, uzun bıyıklı iki jandarma geliyordu. Yanımızdan geçerken arabacıya "Selamünaleyküm!" dediler, biri dik dik bana baktı.

**Bu parçada öyküleyici anlatıma ait aşağıdaki öğelerden hangisi belirgin değildir?**

- A) Kişi B) Olay  
C) Mekân D) Zaman

12. "Büyük" sözcüğü aşağıdaki cümlelerinin hangisinde isim görevinde kullanılmıştır?  
A) Büyüklerin tavsiyelerine uymak gerekir.  
B) Hiçbir konuda büyük konuşmalısın.  
C) Babam büyük bir iş almıştı.  
D) Orhan, yaşından oldukça büyük gösteriyordu.

13. Aşağıdaki altı çizili sıfatların hangisi yapıcı türemiştir?  
A) Arkadaş dediğin zor zamanlarda ortaya çıkmalı.  
B) Onun çok güçlü bir iradesi vardı.  
C) Ağrı Dağı beyaz örtüsünü sırtına almış.  
D) Ağır işlerde çalıştığı için çok yıpranmıştı.

14. Rüzgâr esmiyor, yağmur dindi  
Fotoğrafın solgun, sis içinde kalbim  
Bir şarkı mırıldansam sensiz oluyor  
Dokunsam anılar kırılıp dağılıyor

**Bu dizelerdeki anlatım türü aşağıdakilerin hangisidir?**

- A) Coşku ve heyecana bağlı anlatım  
B) Söyleşmeye bağlı anlatım  
C) Mizahi anlatım  
D) Gelecekte söz eden anlatım

15. I. Olağanüstü olaylar ve kişiler anlatılabilir.  
II. Kelimeler gerçek anlamıyla kullanılır.  
III. Anlatımda abartıdan kaçınılır.  
IV. Eylemler ön plandadır.

**Yukarıda numaralanmış özelliklerden hangileri destansı (epik) anlatım için doğru değildir?**

- A) I ve II. B) I ve III.  
C) II ve III. D) III ve IV.

16. • Cevaplamaya istediğiniz sorudan başlayabilirsiniz.  
• Cevaplarınızı koyu siyah ve yumuşak uçlu bir kurşun kalemle işaretleyiniz.  
• Cevap kâğıdınızı buruşturmayınız, katlamayınız.

**Bu cümleler aşağıdaki anlatım türlerinin hangisine örnektir?**

- A) Açıklayıcı anlatıma  
B) Betimleyici anlatıma  
C) Öğretici anlatıma  
D) Emredici anlatıma

17. Aşağıdaki cümlelerden hangisinin yüklemi etken çatılıdır?

- A) Şehrin her tarafına laleler ekilmiş.  
B) Az önce seni aramış.  
C) Arabaları dün çalınmış.  
D) Camlar çok güzel silinmiş.

18. Bir sabah tedirgin düşlerden uyanan Gregor Samsa dev gibi bir böceğe dönüşmüş buldu kendini. Bir zırh gibi sertleşmiş sırtının üzerinde yatıyor, başını biraz kaldırıncaya yay biçiminde katı bölmelere ayrılıp bir kümbet yapmış kahverengi karnını görüyor. Vücudunun kalan bölümüne oranla acınacak kadar cılız bir sürü bacakçık ne yapacaklarını şaşırmış, gözlerinin önünde aralıksız çakıp sönüyordu.

**Bu parçanın anlatım türü aşağıdakilerden hangisidir?**

- A) Düşsel (Fantastik) anlatım  
B) Mizahi anlatım  
C) Açıklayıcı anlatım  
D) Destansı anlatım

19. Aşağıdaki cümlelerin hangisinde "ile" sözcüğü bağlaç olarak kullanılmıştır?

- A) Buraya kadar arkadaşıyla gelmiş, buradan sonra yalnız devam edecek.  
B) Kimseyle görüşmeden okulu bırakma kararı almış.  
C) Kalemle defterin dostluğu gibiydi dostlukları.  
D) Eşyaları uçakla Trabzon'a göndereceklermiş.

20. - Bu metinler varsayım ile oluşturulur.  
- Hava tahminlerinde bu anlatım türü kullanılır.  
- Olandan çok, olması istenen anlatılır.

**Bu özellikler aşağıdaki anlatım türlerinin hangisine aittir?**

- A) Söyleşmeye bağlı anlatım  
B) Tartışmacı anlatım  
C) Mizahi anlatım  
D) Gelecekte söz eden anlatım

(615) SEÇ. DİL VE ANLA. – 5

1. Aşağıdakilerden hangisi sanat metinleri için söylenemez?

- A) Yazar, kurmaca bir dünya oluşturur.  
B) Kelimeler soyut anlam taşır.  
C) Açıklama, düşündürme amaçtır.  
D) Ait olduğu toplumun zevk ve kültürünü içinde barındırır.

2. - - - - edebiyatımızın önemli gezi yazarlarından sayılabilir.

**Bu cümlede boş bırakılan yere aşağıdakilerden hangisi getirilemez?**

- A) Cenap Şahabettin  
B) Falih Rıfkı Atay  
C) Direktör Ali Bey  
D) Yahya Kemal Beyatlı

## 2. OTURUM

### 3. Resmî mektuplarla ilgili aşağıdakilerden hangisi yanlıştır?

- A) Çizgisiz beyaz kâğıda okunaklı ve kısa yazılmalıdır.
- B) Konu açıkça ortaya konmalıdır.
- C) Sağ alt köşeye adres, sol alt köşeye ad ve soyad yazılır.
- D) Resmî mektuplar ve iş mektupları şekil olarak birbirine benzer.

### 4. 1313 (1897) tarihinde İstanbul'da doğmuşum; ocak ayının 23'ü imiş. Anam, Japonya'dan dönüşte batan Ertuğrul Fırkateyn'i süvarisi Tekirdağlı deniz yarbayı Ali Bey'in kızı Bayan Neyyire; babam Trabzonlu Hasan Âli Efendi'nin (eski posta ve telgraf nazırı) oğlu Bay Ali Rıza'dır.

#### Bu parça aşağıdaki edebî türlerin hangisinden alınmıştır?

- A) Biyografi
- B) Otobiyografi
- C) Hatıra
- D) Günlük

### 5. Dünyadaki sel baskınlarının verdiği zararlar ürkütücü boyutlara ulaştı. 240 milyon kişiyi etkilediği söylenen bu yaz selleri, resmî açıklamalara göre şimdiye kadar 2 binin üzerinde insanın ve sayısı bilinmeyen diğer canlıların yaşamlarına mal oldu. Yaklaşık 14 milyon kişi evini terk etmek zorunda kaldı. Sel, eylülün ortasında da Meksika'nın Chiapas (Çiapas) eyaletinin Valdivia (Valdivya) köyünü yok etti.

#### Bu parça için aşağıdakilerden hangisi söylenemez?

- A) Dil, heyecana bağlı işlevde kullanılmıştır.
- B) Bir makaleden alınmıştır.
- C) Bilgi verme amacı vardır.
- D) Kelimeler genelde gerçek anlamlarıyla kullanılmıştır.

### 6. Ömer Seyfettin'in "Forsa" adlı hikâyesi aşağıdaki metin türlerinin hangisi içinde yer alır?

- A) Gazete çevresinde gelişen metin
- B) Kişisel hayatı konu alan metin
- C) Anlatmaya bağlı edebî metin
- D) Göstermeye bağlı edebî metin

### 7. Birbirini tanıyan kişilerin (akraba, eş, dost, kardeş vb.) duygu ve düşüncelerini paylaşmak için birbirlerine yazdıkları mektuplara - - - - denir.

#### Bu cümlede boş bırakılan yere aşağıdakilerden hangisi getirilmelidir?

- A) özel mektup
- B) edebî mektup
- C) iş mektubu
- D) resmî mektup

### 8. I. Okuyucu gözetilerek yazılır. II. Yazıldığı günün tarihi atılır. III. Dil genellikle heyecana bağlı işlevde kullanılır. IV. Anlatılanlar içtenlikle ifade edilir.

#### Yukarıdakilerden hangisi günlüğün özelliklerinden değildir?

- A) I. B) II.
- C) III. D) IV.

### 9. Edebiyatta, sanatta, bilimde, politikada ya da başka bir alanda tanınmış kişilerin yaşamlarını anlatan yazı türüdür. Yaşamı yazılacak kişinin günlüklerinden, anılarından, mektuplarından ve etrafındaki yazarların izlenimlerinden yararlanır. Bu yazı türünde tarafsız davranılır, kişisel duygu ve düşüncelere yer verilmez.

#### Bu parçada tanıtılan yazı türü aşağıdakilerden hangisidir?

- A) Sohbet B) Biyografi
- C) Otobiyografi D) Gezi yazısı

### 10. Eskiden gezi yazılarına - - - - , geziye çıkmayı uğraş edinmiş kişilere de - - - - denirdi.

#### Bu cümlede boş bırakılan yerlere sırasıyla aşağıda verilenlerden hangisi getirilmelidir?

- A) tezkire - gezgin
- B) seyahatname - şua
- C) seyahatname - seyyah
- D) tezkire - âlim

### 11. Aşağıdaki parçalardan hangisi öğretici bir metinden alınmış olamaz?

- A) Her zaman elimizin altında bulunan Türkçe Sözlük'te madde başı olarak verilen sözler ile bunların anlamlarına dair açıklamaların daha iyi anlaşılabilmesi amacıyla yazarlarımızdan, şairlerimizden seçilen örnek cümlelerin aktarılması eskiden beri benimsenmiş bir yoldur.
- B) Ben hece şiirini, modern şiirimizin başlangıcı olduğu noktadan itibaren severim. Herhangi bir ölçüyü bilmem. Tekrarlar birçok şiirimde göze çarpar ve şiire devinim kazandırmak, bir etkiyi güçlendirmek amacını taşır.
- C) Cüneyt Hoca, edebiyat okumalarıyla kültürümüzün, dilimizin, medeniyetimizin yıldız şehri İstanbul'un edebiyata; edebiyatçının da bu şehir bağlamında insanlığa kattıklarını irdedeceğini belirterek başladı sözlerine.
- D) Yutkundü, tekrar bir şeyler demeye niyetlendi ama yine diyemedi; öylece kaldı, kararsız. Sonra aniden arkasını döndü, Arnavut taşı döşeli sokakta yavaş adımlarla ilerlemeye başladı. Lambaların sokağa düşen ışıklarına basa basa...

### 12. Müştak Bey: Nedir bu?

Ziba Dudu: İşte sana ömür boyu can yoldaşı olacak olan sevgili karın Sakine Hanım.

Müştak Bey: O bana can yoldaşı olacağına benim canım çıksa daha canıma minnet.

Ziba Dudu: (Habbe Kadın'a)

Damat Bey sayıklamaya başladı. Galiba sevincinden aklını kaybetti.

#### Bu metin için aşağıdaki sınıflandırmalardan hangisi doğrudur?

- A) Gazete Çevresinde Oluşan Öğretici Metin – Deneme
- B) Göstermeye Bağlı Edebî Metin – Tiyatro
- C) Kişisel Hayatı Ele Alan Öğretici Metin – Günlük
- D) Anlatmaya Bağlı Edebî Metin – Roman

## 2. OTURUM

13. Türk Dil Kurumuna 05.09.2015

Kurumunuz tarafından yayımlanan ve aşağıda isimleri yazılı eserleri, verilen adrese göndermenizi rica ederim.

Saygılarımla İmza  
Sezgin HAYIR

Tekirdağ Lisesi  
Tekirdağ

Yazım Kılavuzu: 50 adet  
Türkçe Sözlük: 60 adet

**Bu mektubun türü aşağıdakilerden hangisidir?**

- A) Edebî Mektup  
B) Özel Mektup  
C) Açık Mektup  
D) İş Mektubu

14. 1975 senesiydi. İlkokul ikiye gidiyordum. O yıl Çocuk Bayramı için törenlerde bana şiir okuma görevi vermişti öğretmenim. Bana çok güvendiğini bu işi kolaylıkla yapacağımı da eklemeyi unutmamıştı. Çok güzel hazırlanmıştım, şiiri kelimesi kelimesine ezberlemiştim. Tören günü sahneye çıktığımda şiirin bir dizesi bile aklımda kalmamıştı. Ağlaya ağlaya sahneden kaçışımı hiç unutmuyorum.

**Bu parça aşağıdaki metin türlerinin hangisine örnektir?**

- A) Anı B) Günlük  
C) Mektup D) Deneme

15. Amerikan Havacılık ve Uzay Dairesi (NASA) tarafından yapılan araştırmalara göre Kuzey Kutbu'ndaki buzullar, eskisinden daha hızlı eriyor. NASA'nın 2004 ve 2005 uydu verilerine göre Kuzey Kutbu'nun tüm yıl boyunca kalan daimi buzulları yüzde 14 oranında azaldı. NASA uzmanları, bunun Türkiye'nin yüzölçümü kadar bir buzul kütlelerinin Kuzey Kutbu'nda erimesi anlamına geldiğini belirtiyorlar.

**Bu parça aşağıdaki metin türlerinin hangisinden alınmıştır?**

- A) Söyleşi B) Haber Yazısı  
C) Gezi Yazısı D) Biyografi

16. Dünya edebiyatında deneme türünün ilk örneklerini - - - - vermiştir.

**Bu parçada boş bırakılan yere aşağıdakilerden hangisi getirilmelidir?**

- A) Bacon B) Moliere  
C) Alain D) Montaigne

17. Yazar hikâye türündeki bu eserinde insan hayatında göz ardı edilen incelikleri, yerli ve asil duruşu, kadın duyarlığında kolayca fark edilmeyen kırılğan dokuları etkili bir dille anlatmış ve Türkçenin anlatı imkânlarına yeni kapılar aralamıştır.

**Bu parça aşağıdaki metin türlerinin hangisinden alınmıştır?**

- A) Günlük B) Eleştiri  
C) Sohbet D) Gezi yazısı

18. • Bilgi vermek, bir düşünceyi ispatlamak için yazılan yazılardır.  
• Gazete ve dergilerde yayımlanır.  
• Dil sade, açık ve anlaşılırdır.

**Bu özellikler aşağıdaki metin türlerinden hangisine aittir?**

- A) Makale B) Deneme  
C) Sohbet D) Gezi yazısı

19. • Şevket Rado – Eşref Saat  
• Nurullah Ataç – Karalama Defteri  
• Suut Kemal Yetkin – Edebiyat Söyleşileri

**Yazarıyla verilen bu eserler aşağıdaki metin türlerinden hangisine örnektir?**

- A) Mektup B) Makale  
C) Fıkra D) Sohbet

20. **Aşağıdakilerin hangisi "fıkra" türü için söylenemez?**

- A) Yazar, yazılarında ispat kaygısı taşır.  
B) Samimi, senli benli bir üslubu vardır.  
C) Giriş, gelişme ve sonuç bölümlerinden oluşur.  
D) Güncel, siyasal, toplumsal yazılardır.

(616) SEÇ. DİL VE ANLA. – 6

1. **Aşağıdaki anlatım türlerinden hangisinin röportajda kullanımı daha azdır?**

- A) Söyleşmeye bağlı anlatım  
B) Kanıtlayıcı anlatım  
C) Düşsel anlatım  
D) Öyküleyici anlatım

2. **Söylevle ilgili aşağıdakilerden hangisi yanlıştır?**

- A) Söylev dinleyicilerin ilgisini çekecek cümlelerle başlanmalıdır.  
B) Söylev sırasında dinleyicilere söz hakkı verilmelidir.  
C) Konuşma esnasında vurgu ve tonlamaya dikkat edilmelidir.  
D) Konuşmalar jest ve mimiklerle desteklenmelidir.

3. - Türkiye'de tarih okuma eğilimi ya da merakı ne düzeyde?  
- Yeni nesiller tarih konusunda açık fikirli artık. İspanyolca öğrenen geniş bir kitle var, bunlar tarih inceliyorlar. Arapça ve Farsça üzerine çalışanlar artıyor. Tarih okuma kültürü yavaş yavaş gelişiyor.

**Bu metnin türü aşağıdakilerden hangisidir?**

- A) Deneme B) Makale  
C) Mülakat D) Söylev

4. Sözlü anlatım türlerini şöyle sıralayabiliriz: - - - - , - - - - , - - - - .

**Bu cümlede boş bırakılan yerlere aşağıdakilerden hangisi getirilemez?**

- A) mülakat B) söyleşi  
C) söylev D) röportaj

5. Yusuf, Türk edebiyatı öğretmenin verdiği proje ödevi için iki saz şairiyle görüşme yapacak ve ödevini bu görüşmeye göre hazırlayacaktır.

**Buna göre Yusuf ödevini aşağıdaki türlerin hangisinden yararlanarak oluşturur?**

- A) Makale B) Mülakat  
C) Söylev D) Gezi yazısı



## 2. OTURUM

6. Palas Gölü ne yazık ki Türkiye'deki sulak alanların karşılaştığı temel problemlerle tehdit altında. Bölge halkı 2002 yılına kadar gölün kurutulmasını istiyordu. Ekonomik bakımdan gölün kendilerine yarar sağlamadığını söyleyen bazı kişiler gölün kurutulmasıyla yeni tarım arazilerinin oluşacağını savunuyordu. Bu istek doğrultusunda Devlet Su İşleri, 1989 yılında Palas Gölü'nün kurutulmasına yönelik bir ön proje hazırladı.

**Bu metnin türü aşağıdakilerden hangisidir?**

- A) Mülakat B) Söylev  
C) Anı D) Röportaj

7. Aşağıdakilerden hangisi ülkemizde önemli söylevcilerden biri değildir?

- A) Mustafa Kemal Atatürk  
B) Ömer Naci  
C) Hamdullah Suphi Tanrıöver  
D) Yaşar Kemal

8. Topluluk karşısında konuşma sanatına - - - -, bu konuşmayı yapan kişiye de - - - - denir.

**Bu cümlede boş bırakılan yerlere sırasıyla aşağıdakilerden hangisi getirilmelidir?**

- A) söylev – muhabir  
B) nutuk – eleştirmen  
C) hitabet – hatip  
D) mülakat – ozan

9. Söylev türünün ilk örnekleri - - - - ve - - - - Dönemleri'nde görülmüştür.

**Bu cümlede boş bırakılan yerlere aşağıdakilerden hangisi getirilmelidir?**

- A) Eski Yunan – Roma  
B) Sümer – Pers  
C) Asur – Roma  
D) Eski Yunan – Sümer

10. Bir insanı konu alan röportaj aşağıdaki türlerden hangisi ile benzerlik gösterir?

- A) Gezi yazısı B) Biyografi  
C) Nutuk D) Sohbet

11. Arkadaşlar! Sizler doğrudan doğruya milletimizi oluşturan halk sınıflarının içinden ve onlar tarafından seçilmiş olarak geliyorsunuz. Bunun için memleketimizin, milletimizin hâlini, ihtiyacını, emellerini, üzüntülerini yakından biliyorsunuz. Sizin söyleyeceğiniz sözler, alınmasını isteyeceğiniz önlemler doğrudan halkın dilinden söylenmiş gibi kabul olunur. Bu, en büyük doğrudur.

**Bu metnin türü aşağıdakilerden hangisidir?**

- A) Söylev B) Mülakat  
C) Röportaj D) Deneme

12. Aşağıdakilerden hangisi konularına göre röportaj türleri arasında yer almaz?

- A) Bir kuruluşu konu alan röportaj  
B) Bir insanı konu alan röportaj  
C) Bir eşyayı konu alan röportaj  
D) Bir yeri konu alan röportaj

13. Mahkemelerde savcı ve avukatların yargılama sırasında savunmak ya da suçlamak amacıyla söyledikleri sözler - - - -

**Bu cümlede boş bırakılan yere aşağıdakilerin hangisi getirilmelidir?**

- A) hukuksal söylevidir.  
B) askerî söylevidir.  
C) siyasi söylevidir.  
D) dinsel söylevidir.

14. Aşağıdaki özelliklerden hangisi söylevin amacını ortaya koymaktadır?

- A) Söylev, tiyatro ile gelişmiştir ve her yazı türü yeri geldikçe söylevden yararlanır.  
B) Söylevde dilin alıcıyı harekete geçirme ve heyecana bağlı işlevi birlikte kullanılır.  
C) Söylev, toplulukları duygulandırma, coşturma ve belli bir düşünceden yana çekme nitelikleri taşır.  
D) Söylevcinin konuştuğu konuyu çeşitli yönleri ile bilmesi ve söyleyeceklerine inanması gerekir.

15. İlkokulda iken Namık Kemal'in Tefik Fikret'in, Mehmet Emin'in şiirlerini okumayı pek severdim. Fransız mektebine geçtiğimde durmamacasına roman okumak sevdiğime tutuldum. Yine o tarihlerde Diyarbakır'daki kız kardeşime uzun manzum mektuplar yazdığımı hatırlıyorum. Fakat bende edebiyata ve bilhassa şiire karşı hakiki ve köklü denebilecek ilk alaka Galatasaray Lisesi onuncu sınıfta sıra arkadaşım Ziya Osman Saba'nın delaletiyle tanıdığım Baudelaire ile başlar. Bu dev Fransız şairini içime sindire sindire okuduktan sonradır ki, şiir yazmak benim için teneffüs etmek, yemek içmek gibi tabii bir hayat faaliyeti oldu.

**Bir mülakattan alınan bu parça aşağıdaki sorulardan hangisine cevap niteliğindedir?**

- A) Edebiyata karşı ilginiz ne zaman ve nasıl başladı?  
B) Gençliğinizdeki edebî ortam nasıldı?  
C) İlk şiirlerinizde hangi temaları işlediniz?  
D) Çocukluğunuz nasıl geçti?

16. İbadethanelerde dinin esaslarını açıklayan, bireysel ve toplumsal sorunları dinsel açıdan yorumlayan söylev türü aşağıdakilerin hangisidir?

- A) İktisadi söylev  
B) Akademik söylev  
C) Dinî söylev  
D) Siyasi söylev

17. Edebiyatımızda ilk mülakat örneği sayılan eser ve yazarı aşağıdakilerin hangisidir?

- A) Nurullah Berk – Ustalarla Konuşmalar  
B) Ruşen Eşref Ünaydın – Diyorlar ki  
C) Yaşar Nabi Nayır – Edebiyatçılarımız Konuşuyor  
D) Mustafa Baydar – Edebiyatçılarımız Ne Diyor

## 2. OTURUM

18. Ülkemizde toplanma ve söz öz-  
gürlüğünün sağlandığı - - - sonra  
söylev türü görülmeye başlanmıştır.

**Bu cümlede boş bırakılan yere  
aşağıdakilerden hangisi getiril-  
melidir?**

- A) Tanzimat'tan  
B) Cumhuriyet'ten  
C) Milli Mücadele'den  
D) II. Meşrutiyet'ten

19. Aşağıdaki cümlelerin hangisin-  
de "da, de"nin yazımı ile ilgili  
yazım yanlış yapılmıştır?

- A) Bu romanı da severek okudum.  
B) Son okuduğum öykü de olay  
örgüsü karışık.  
C) İlkokulda başarılı bir öğrenciydim.  
D) Ben de bu konuda farklı düşün-  
üyorum.

20. Kayaların içine oyulmuş bir de-  
likten yukarı tırmanmaya çalışı-  
yoruz. "Oradan çıkamayız." diyor  
arkadaşım. "Ama başka yer yok."  
diyorum karşılık olarak. Civar kö-  
yün yakınlarındaki iki katlı bir "ma-  
ğara evin" üst kattaki odalarına  
tırmanıyoruz. Ön cephe tamamen  
kopup düşmüş, oraya çıkmak için  
bu delikten başka şansımız yok.  
Normalde oldukça sert bir kayaç  
olan kireçtaşı, bu yörelerde inanıl-  
maz derecede yumuşak.

**Bir röportajdan alınan bu pa-  
ragrafta hangi anlatım türleri  
kullanılmıştır?**

- A) Öyküleyici – betimleyici  
B) Öyküleyici – tartışmacı  
C) Kanıtlayıcı – mizahi  
D) Tartışmacı – betimleyici

(617) SEÇ. DİL VE ANLA. – 7

1. Aşağıdakilerden hangisi halk  
hikâyelerinin genel özelliklerin-  
dendir?

- A) Olağanüstüklere yer verilmez.  
B) Genellikle aşk ve kahramanlık  
konusu işlenir.  
C) Anlatım nazım biçimindedir.  
D) Süslü ve ağır bir dil kullanılır.

2. Aşağıdakilerin hangisinde  
yanlış bir bilgi verilmiştir?

- A) "Şair Evlenmesi" edebiyatı-  
mızda Batı tarzında yazılan ilk  
tiyatrodur.  
B) Türk edebiyatındaki ilk öykü  
Ahmet Mithat Efendi'nin  
"Letaif-i Rivayet" adlı eseridir.  
C) Edebiyatımızda ilk yerli roman  
Şemsettin Sami'nin "Taaşuk-ı  
Talat ve Fitnat" adlı eseridir.  
D) Edebiyatımızdaki ilk psikolojik  
roman Mehmet Rauf'un "9.  
Hariciye Koşuşu" adlı eseridir.

3. Şiirin en önemli unsurlarından biri  
de söz sanatlarıdır. Edebi sanat-  
lar, dizelere çağrışım zenginliği ve  
çok boyutluluk katar.

**Buna göre aşağıdakilerden  
hangisinin çağrışım yönünden  
zengin olduğu söylenemez?**

- A) Bir deniz kıyısında kursam ku-  
lübemi...  
İsterim her şeyim denizden  
yana olsun.  
Çakıl taşları, şeytan minareleri,  
yosun,  
Deniz sesi, deniz ufku, deniz  
meltemi  
B) Senin yanındayken, avuçla-  
rım da  
Suda sabun gibi eriyor za-  
man...  
Ve sanki yağ gibi kayıp gidiyor  
Bir balık ellerimin arasından  
C) Saçlarım tutuştu önce,  
Gözlerim yandı kavruldu.  
Bir avuç kül oluverdim,  
Külüm havaya savruldu  
D) Bazen bir tebessüm, tutuşmuş  
mercan  
Rüyasıyla sanki kanlı bir çiçek,  
Ve saçlar ümitsiz öyle yüzecek  
Olgun akşamların ağırlığından

4. Genç yazarların ilk başta düş-  
tüğü hatalardan biri de güzel ve  
etkili yazmanın süslü yazmakla  
mümkün olacağını sanmaları-  
dır. Yazdıklarını söz sanatlarıyla  
çarpıcı hâle getirmeye çalışırlar.  
Ta ki fazla sosun yemeğinin tadı-  
nı bozduğu gibi fazla süsün de  
metnin anlam tadını bozduğunu  
anladıkları güne kadar.

**Bu parçaya göre genç yazarlar  
aşağıdaki anlatım niteliklerin-  
den hangisine uymamaktadır?**

- A) Akıcılık B) Tutarlılık  
C) Yalınlık D) Duruluk

5. Gökyüzünden yağmur değil, bir  
ırmak iniyordur sanki. Hava karar-  
maya başlamıştır. Adamın yüreği  
parçalanır hâllerine. "Ali Kardaş!  
Korkuyorlar şimdi fukaracıklar."  
der. "Şu yağmurun da ettiğine  
bak! Durmuyor, etmiyor. Şunların  
hâline acısa da dursa, dursa Ali  
Kardaş! Bir kuş parlarsa korku-  
yorlar." diye devam eder. Yüreği  
göğsüne sığmıyordur şimdi. Akıllı  
fikri zavallı fukaracıklarda.

**Bu parçanın anlatımıyla ilgili  
aşağıdakilerden hangisi söyle-  
nemez?**

- A) Olayın geçtiği mekân betimle-  
yerek verilmiştir.  
B) İlahi (Hâkim) bakış açısıyla  
anlatılmıştır.  
C) Zaman unsuruna yer verilmiş-  
tir.  
D) Kişiler, ruh hâliyle yansıtılmış-  
tır.

6. Ders vermek amacıyla kahra-  
manları hayvanlar ya da cansız  
varlıklar olan bir olayı genellikle  
manzum olarak anlatan yazılara  
- - - - denir.

**Bu cümlede boş bırakılan yere  
aşağıdakilerden hangisi getiril-  
melidir?**

- A) fabl B) roman  
C) hikâye D) şiir

7. Aşağıdakilerden hangisi hikâye  
türünün temel öğelerinden de-  
ğildir?

- A) Olay B) Zaman  
C) Yer D) Yazar

8. Aşağıdakilerden hangisi hâkim  
(ilahi) bakış açısının özellikle-  
rinden değildir?

- A) Kahramanların gizli konuşma-  
ları, kafalarından ve gönüllerin-  
den geçenler anlatılır.  
B) Her şeyi bilen bir anlatıcının  
bakış açısıdır.  
C) Anlatıcı zaman zaman kendi  
yorumlarını ekleyebilir.  
D) Birinci kişili anlatım söz konu-  
sudur.

## 2. OTURUM

9. Aşağıdakilerden hangisi trajedinin özelliklerinden değildir?

- A) Erdeme ve ahlaka önem verilir.
- B) Eser baştan sona kadar ciddi bir hava içinde geçer.
- C) Seyircide acıma ve korku duyguları uyandırılarak ruhu tutkularından kurtarma amaçlanır.
- D) Kişiler çoğunlukla halktan insanlardır.

10. - - - - komedyasında olaylar, merak uyandıracak ve şaşırtacak biçimde düzenlenir; çoğunlukla güldürmekten başka bir amaç güdülmeyiz.

**Bu cümlede boş bırakılan yere aşağıdakilerden hangisi getirilmelidir?**

- A) Karakter
- B) Töre
- C) Entrika
- D) Yergi

11. Şakaklarıma kar mı yağdı ne var? Benim mi Allah'ım bu çizgili yüz? Ya gözler altındaki mor halkalar Neden böyle düşman görünürsünüz Yıllar yılı dost bildiğim aynalar?

**Bu dizeler için aşağıdakilerden hangisi söylenemez?**

- A) Sanatsal bir metinden alınmıştır.
- B) Mecaz anlamlı sözcükler vardır.
- C) Bilgi vermek amacıyla yazılmıştır.
- D) Dil, şiirsel işlevde kullanılmıştır.

12. Bir varmış, bir yokmuş. Bir padişah varmış. Bu padişahın gayet güzel, akıllı bir kızı varmış. Kız her sabah yatağından kalkarmış, babasının odasına gider, onun elini öpermiş; babası da kızın iki yanağından öper, ona: "Hayırdır inşallah, ne rüya gördün?" diye sorarmış. Kız da rüyasını anlatmış. Bu, böyle yıllarca sürüp gitmiş.

**Bu parça aşağıdaki metin türlerinin hangisinden alınmıştır?**

- A) Fabl
- B) Masal
- C) Manzum hikâye
- D) Tiyatro

13. Romanda belli bir sınıfı ya da belli bir insan eğilimini temsil eden kişi - - - -, olumlu ve olumsuz yönleriyle ile verilen, genel temsil özelliği göstermeyen kişiler ise - - - - olarak adlandırılır.

**Bu parçada boş bırakılan yerlere aşağıdakilerden hangisi sırasıyla getirilmelidir?**

- A) aktris – aktör
- B) karakter – tip
- C) figüran – başoyuncu
- D) tip – karakter

14. Kalem böyle çalınmıştır yazıma Yazım kışıma uymaz, kışım yazıma

**Bu dizelerde aşağıdaki edebî sanatlardan hangisi vardır?**

- A) Teşbih (benzetme)
- B) İntak (konuşurma)
- C) Cinas
- D) Teşhis (kişileştirme)

15. I. Leyla ile Mecnun  
II. Dede Korkut Hikâyeleri  
III. Yusuf ile Züleyha  
IV. Kerem ile Aslı

**Numaralanmış halk hikâyelerinden hangileri Türk kaynaklıdır?**

- A) I ve II.
- B) I ve III.
- C) II ve III.
- D) II ve IV.

16. Orta oyunu ile ilgili aşağıdakilerin hangisinde bilgi yanlıştır?

- A) Belli bir olayın çevresinde örülmüş çalgı, şarkı, dans, taklit ve konuşmalardan oluşur.
- B) Seyircilerle çevrili bir alanda, belli bir konu çevresinde, yazılı bir metne sadık kalarak oynanan oyunlardır.
- C) Dekor olarak "yeni dünya" adı verilen bir paravana ile "dükkân" adı verilen birkaç alçak iskemle kullanılır.
- D) Oyunun iki başkişisi, Hacivat'la Karagöz'ün karşılığı sayabileceğimiz Pişekâr ile Kavuklu'dur.

17. Hayaliyle tesellüdür gönül, meyli-visâl itmez  
Gönülden taşra bir yâr olduğun âşık hayâl itmez

**Bu dizeler aşağıdaki şiir geleneklerinden hangisiyle yazılmıştır?**

- A) Halk edebiyatı
- B) Millî Edebiyat
- C) Divan edebiyatı
- D) Cumhuriyet Dönemi

18. Aşağıdakilerden hangisi Türk şiirinin millî nazım birimidir?

- A) Dörtlük
- B) Beyit
- C) Bent
- D) Üçlük

19. Aşağıdakilerden hangisi edebiyatımızın önemli masal derleyicilerindedir?

- A) Eflatun Cem Güney
- B) Ahmet Hamdi Tanpınar
- C) Ömer Seyfettin
- D) Halit Ziya Uşaklıgil

20. Seni düşünürken  
Bir çakıl taşı ısınır içimde  
Bir kuş gelir yüreğimin ucuna konar  
Bir gelincik açılır ansızın  
Bir gelincik sinsi kanar

**Bu dizelere hâkim olan tema aşağıdakilerden hangisidir?**

- A) Ölüm
- B) Aşk
- C) Ayrılık
- D) Doğa

## 2. OTURUM

(618) SEÇ. DİL VE ANLA. – 8

### 1. Aşağıdakilerden hangisi konferansçının yapması gerekenler arasında yer almaz?

- A) Konferansçı heyecanı ile değil, akli ve sağduyusuyla hareket etmelidir.
- B) Konferansçı kötü sayılabilecek konuşmalardan ve argo sözler kullanmaktan kaçınmalıdır.
- C) Anlaşılmayan konular yeniden anlatılmalı, gerekirse süre uzatılıp anlatılanlar tekrarlanmalıdır.
- D) Sözlü anlatım tekniklerine uymalı, elindeki notları dinleyiciye okumak yerine onlara hatırlamak için bakmalıdır.

### 2. Tartışma, açık oturum, sempozyum, forum gibi sözlü anlatım türlerinin dinleyiciler huzurunda ve birden fazla konuşmacı tarafından yapılmasının nedeni aşağıdakilerden hangisidir?

- A) Bir konu üzerinde birlikte ve daha ayrıntılı düşünme
- B) Etki gücünü kişi sayısına göre belirleme
- C) Fikirlerin daha çok kişi tarafından yayılmasını sağlama
- D) Fikirlerin daha çok kişi tarafından desteklenmesini sağlama

### 3. Bir makale yazarının davranışlarından hangisi bilimsel etik açısından gereklidir?

- A) Makalede yer alan kısaltma ve terimleri açıklaması
- B) Makalede işlenen konunun daha önceki yayınlarda nasıl ele alındığını açıklaması
- C) Makalede ele aldığı konuyu araştırmada nasıl bir yöntem izlediğini ortaya koyması
- D) Konu hakkında başkalarına ait bilgi ve görüşleri dipnot ile belirtmesi

### 4. Makaleyi; fıkra, deneme, sohbet, eleştiri gibi öğretici metinlerden ayıran özellik aşağıdakilerden hangisidir?

- A) Açıklayıcı, tartışmacı, kanıtlayıcı anlatımla yazılmaları
- B) Ele alınan düşünce, iddia ve görüşün belge ve kanıtlarla savunulması
- C) Güzel sanatlar, politika, toplumsal ve bilimsel konular, günlük olaylar, ülke sorunları hakkında yazılmaları
- D) Gazete ve dergilerde yer almaları

### 5. Aşağıdakilerden hangisi bilimsel yazı türüdür?

- A) Sempozyum
- B) Toplantı Özetleri
- C) Deneme
- D) Fıkra

### 6. - - - - dil ağırlıklı olarak göndergesel işlevde kullanılırken - - - - ise alıcıyı harekete geçirme işlevinde kullanılır.

**Bu cümlede boş bırakılan yerlere aşağıdakilerden hangileri sırasıyla getirilmelidir?**

- A) Söylevde – sempozyumda
- B) Konferansta – söylevde
- C) Münazarada – forumda
- D) Söylevde – konferansta

### 7. Aşağıdakilerin hangisi açık oturumun özelliklerinden biri değildir?

- A) Problemlere yeni bakış açıları getirmek amaçlanır.
- B) Konuya hâkim olan bir başkan tarafından yönetilir.
- C) Sonuç bölümünde oturumun genel değerlendirmesi yapılır.
- D) Yarışma havasında gerçekleştirilir.

### 8. Toplum ilgilendiren bir konuda, farklı kesimlerden oluşan dinleyicilerin söz sırası olarak konuşma kuralları içerisinde yaptıkları tartışmalara - - - - denir.

**Bu cümlede boş bırakılan yere aşağıdakilerin hangisi getirilmelidir?**

- A) açık oturum B) münazara
- C) forum D) sempozyum

### 9. Bilimsel yazıların bu bölümünde, makalede ifade edilenlerin kolay ve doğru anlaşılmasına yarayacak temel bilgiler verilmelidir. Ayrıca makaleye konu olan araştırmada nasıl bir yöntem izlendiği ve bu yöntemin seçiliş sebebi de bu bölümde ortaya konmalıdır.

**Bu parçada bilimsel yazıların hangi bölümünden söz edilmektedir?**

- A) Giriş
- B) Özet
- C) Asıl metin
- D) Sonuç ve tartışma

### 10. Aşağıdakilerden hangisi bilimsel yazı olarak değerlendirilemez?

- A) Tarama ve değerlendirme
- B) Konferans raporları
- C) Roman özetleri
- D) Ekolojik denge konulu bir makale

### 11. 12. sınıf öğrencisi Onur, izlediği bir tartışmada dinleyicilerin oturum başkanından söz alıp sorular sorduklarını görmüştür.

**Onur'un izlediği tartışmanın türü aşağıdakilerden hangisidir?**

- A) Münazara
- B) Konferans
- C) Sempozyum
- D) Forum

### 12. Konferansçının aşağıdakilerden hangisini yapması doğru olmaz?

- A) Çok dikkat çekici şekilde giyinmemeli, ölçülü olmalıdır.
- B) Ses tonunu çok iyi ayarlamalı, ne çok yüksek ne de kısık sesle konuşmalıdır.
- C) Anlatacağı konuyu derinlemesine ele almalı, konferansı mümkünse uzatmalıdır.
- D) Gerekli yerlerde görsel materyalleri kullanıp ilgi çekmelidir.

## 2. OTURUM

13. Aşağıdaki kavramların hangisi yanlış tanımlanmıştır?

- A) Kaynakça: Belli bir konu, yer veya dönemle ilgili yayınları kapsayan veya en iyilerini seçen eser.  
B) Dokümantasyon: Bir konu hakkındaki bilgilerin toplanması, analiz edilmesi, saklanması ve duyurulması, belge bilimi.  
C) İndeks: Bir kitabın veya derginin kişi, konu, yer adı vb. bakımından içindekileri yer numarasıyla belirten liste, dizin.  
D) Bibliyografya: Sayfa içinde geçen herhangi bir düşünce veya bilgi ile ilgili olarak sayfa altına konan açıklama.

14. Makale türü gazete ve dergilerin ortaya çıkışıyla başlamıştır. İlk gazetenin MÖ 1750 civarında - - - - çıktığı tahmin edilmektedir.

**Bu cümlede boş bırakılan yere aşağıdakilerden hangisi getirilmelidir?**

- A) Eski Yunan'da  
B) Bizans'ta  
C) Roma'da  
D) Mısır'da

15. • Önceden belirlenmiş bir konuşmacı grubu bulunur.  
• Bir gün sürebileceği gibi birkaç gün de sürebilir.  
• Konuşmalar oturumlar hâlinde devam eder.

**Bu özellikler aşağıdaki tartışma türlerinden hangisine aittir?**

- A) Açık oturum  
B) Sempozyum  
C) Konferans  
D) Münazara

16. Bir fizik profesörünün suyun kaldırma gücü ile ilgili yazdığı bir makale aşağıdaki metin türlerinden hangisi içinde sınıflandırılır?

- A) Bilimsel Yazılar  
B) Anlatmaya Bağlı Metinler  
C) Coşku ve Heyecanı Dile Getiren Metinler  
D) Göstermeye Bağlı Metinler

17. Bir açık oturumda başkan olarak görevlendirilen Yunus Bey şu noktalara dikkat etmiştir:

- I. Her bir konuşmacıya eşit süre vermeye çalışmıştır.  
II. Tartışmanın kavgaya dönüşmesine izin vermemiştir.  
III. Kimi zaman kendisi tartışmaya doğrudan katılıp düşüncelerini savunmuştur.  
IV. Konuşmacılara sorular yönelterek onların fikirlerini açıklamalarını sağlamıştır.

**Yunus Bey bu açık oturumla ilgili kaç numaralı cümlede yanlış bir davranışta bulunmuştur?**

- A) I. B) II. C) III. D) IV.

18. Tartışmalarda dinleyicilerin aşağıdaki davranışlardan hangisini göstermesi uygun değildir?

- A) Konuşmacılara sorularını söz hakkı alarak sormalıdır.  
B) Kendi düşüncesini sonuna kadar savunarak salondakileri ikna etmeye uğraşmalıdır.  
C) Gerekli yerlerde kısa kısa notlar almalıdır.  
D) Konuşmaları tarafsız bir şekilde ve sabırla dinlemelidir.

19. I. Daha önce verilen örnekleri sıkça tekrarlamak  
II. Tartışma konusu dışına çıkmamak  
III. Aynı konuda sürekli söz almaya çalışmak  
IV. Ortaya çıkan sonucu hoşgörüle karşılamak

**Numaralanmış cümlelerden hangileri münazarada uyulması gerekenlerden biri değildir?**

- A) I ve II. B) I ve III.  
C) II ve III. D) III ve IV.

20. Aşağıdaki sözlü anlatım türlerinin hangisinde oturumu yöneten bir başkanın olması zorunlu değildir?

- A) Konferans  
B) Açık oturum  
C) Sempozyum  
D) Münazara

(623) SEÇ. TÜRK ED. - 3

1. I. Göktürk  
II. Arap  
III. Latin  
IV. Uygur

**Türkler İslamiyet'ten önce yukarıda numaralanmış alfabelerden hangilerini kullanmışlardır?**

- A) I ve II. B) I ve IV.  
C) II ve III. D) III ve IV.

2. Toplum hayatında iz bırakan tarihî veya sosyal olayların yaşandığı ve bu olaylar içinde üstün niteliklerle yükseltilmiş efsanevi kahramanların rol aldığı destan oluşum aşamasına - - - - denir.

**Bu cümlede boş bırakılan yere aşağıdakilerden hangisi getirilmelidir?**

- A) doğuş aşaması  
B) yayılma aşaması  
C) derleme aşaması  
D) yazıya geçirme aşaması

3. Türkiye'de edebiyat tarihi incelemelerinde ilk defa bilimsel yöntemleri ortaya koyan sanatçı aşağıdakilerden hangisidir?

- A) Faruk Nafiz Çamlıbel  
B) Enis Behiç Koryürek  
C) Yahya Kemal Beyatlı  
D) Mehmet Fuat Köprülü

4. Deriden kesilmiş insan, hayvan, bitki, eşya vb. birtakım figürlerin arkadan ışık verilerek bir perde üzerine yansıtılması temeline dayanan geleneksel Türk tiyatrosu çeşididir. İki ana kahraman etrafında gelişen bu oyun Evliya Çelebi'ye göre Anadolu'ya Selçuklular zamanında girmiştir.

**Bu parçada tanıtılan oyun aşağıdakilerden hangisidir?**

- A) Meddah  
B) Orta oyunu  
C) Gölge oyunu  
D) Köy seyirlik oyunu

## 2. OTURUM

5. Tanzimat Dönemi'nde Türk aydın ve sanatçıları Batı'ya yönelmişlerdir. Bunun sonucunda zamanla toplum yapısında ve Türk kültüründe değişimler başlamıştır. Bu değişimler edebiyatın da yenileşmesini sağlamıştır. Bu yüzden bu dönemle birlikte "Batı Etkisinde Gelişen Türk Edebiyatı Dönemi" başlamış kabul edilir.

**Bu parçaya göre Türk edebiyatında yeni bir dönemin başlamasında aşağıdakilerden hangisi daha etkili olmuştur?**

- A) Kültürel farklılaşma
- B) Dil anlayışı
- C) Din değişikliği
- D) Dil coğrafyası

6. • Uma gelse kut gelir. ( Eve konuk gelse uğur da gelir.)  
• Ağılda oğlak bolsa arıkta otı öner. ( Ağılda oğlak doğsa ovada otu biter.)  
• Biş ernek tüz ermes. (Beş parmak düz olmaz.)

**Bu cümleler aşağıdaki türlerden hangisine örnektir?**

- A) Sagu
- B) Sav
- C) Koşuk
- D) Destan

7. **Aşağıdakilerden hangisi Uygur destanları arasında yer almaz?**

- A) Bozkurt
- B) Türeyiş
- C) Göç
- D) Mani Dininin Kabulü

8. İslamiyet öncesi Türk edebiyatında ağıt, yas şiiri anlamına gelen - - - -, toplum tarafından sevilen kimselerin ölümüne duyulan üzüntüyü ifade eden şiirlerdir.

**Bu cümlede boş bırakılan yere aşağıdakilerden hangisi getirilmelidir?**

- A) sav
- B) sagu
- C) koşuk
- D) destan

9. **Aşağıdakilerden hangisi doğal destan değildir?**

- A) Ergenekon
- B) Oğuz Kağan
- C) Alp Er Tunga
- D) Kaybolmuş Cennet

10. **Aşağıdakilerden hangisi Orhun Yazıtları ile ilgili çalışma yapmamıştır?**

- A) Necib Asım
- B) Muharrem Ergin
- C) Halit Ziya Uşaklıgil
- D) Hüseyin Namık Orkun

11. Ülkemizde Batılı anlamda edebiyat tarihi çalışmaları Tanzimat Dönemi'nde başlar. Bu alandaki ilk kapsamlı çalışma, yazarın 1928 yılında yayımladığı "Edebiyat Tarihi" adlı eseridir. Türk edebiyat tarihinin kurucusu sayılır.

**Bu paragrafta sözü edilen yazar aşağıdakilerden hangisidir?**

- A) Ahmet Hamdi Tanpınar
- B) Nihat Sami Banarlı
- C) Şükran Kurdakul
- D) Fuat Köprülü

12. **Eski Türkçede "sav" olarak adlandırılan özlü sözlerin günümüzdeki karşılığı aşağıdakilerden hangisidir?**

- A) Atasözü
- B) Deyim
- C) Vecize
- D) Cümle

13. Etil suvi aka turur  
Kaya tübi kaka turur  
Balık telim baka turur  
Kölüng takı küşerür

**Koşuktan alınmış bu dördlüğün uyak düzeni aşağıdakilerden hangisidir?**

- A) aaaa
- B) aabc
- C) abab
- D) aabb

14. "İlyada" ve "Odyssea" destanlarının derleyicisi aşağıdakilerden hangisidir?

- A) Sophokles
- B) Aiskhilos
- C) Homeros
- D) Euripides

15. **Tarihte Türk sözcüğünün ilk kez geçtiği metin aşağıdakilerden hangisidir?**

- A) Divanü Lügati't Türk
- B) Oğuz Kağan Destanı
- C) Göktürk Kitabeleri
- D) Alp Er Tunga Sagusu

16. "Şaman, oyun, baksı, ozan" gibi adlar, Türk boyları arasında kimin için kullanılmıştır?

- A) Hükümdar
- B) Şair
- C) Asker
- D) Kahraman

17. "Kalyanankara ve Papamkara" adlı eser için aşağıdakilerden hangisi söylenemez?

- A) Eserin aslı Sanskritçedir.
- B) Dinsel masal niteliği taşır.
- C) Asıl anlatılmak istenen İslamiyet'tir.
- D) Eserin adı iyi düşünceli prensle kötü düşünceli prensten alınmıştır.

18. **Aşağıdaki sanatçılardan hangisi edebiyat tarihi alanında çalışma yapmamıştır?**

- A) Ahmet Hamdi Tanpınar
- B) Abdülhak Şinasi Hisar
- C) Ağah Sırrı Levent
- D) Nihat Sami Banarlı

19. **Bilinen en eski destan aşağıdakilerden hangisidir?**

- A) Gılgamış
- B) İlyada
- C) Odyssea
- D) Şu

20. **Aşağıdaki bilim dallarından hangisi edebiyat tarihinin ilgi alanı içinde yer almaz?**

- A) Tarih
- B) Felsefe
- C) Biyoloji
- D) Bibliyografya

(624) SEÇ. TÜRK ED. – 4

1. **Aşağıda gazel ile ilgili verilen bilgilerden hangisi yanlıştır?**

- A) İlk beytine matla, son beytine makta denir.
- B) En güzel beytine beytül-gazel denir.
- C) aa bb cc dd ... biçiminde uyaklanır.
- D) Düz gazel ve musammat gazel olmak üzere biçim bakımından iki çeşittir.

## 2. OTURUM

2. Aşağıdakilerden hangisi Dede Korkut Hikâyeleri'nin bir özelliği değildir?

- A) Destan-hikâye özelliği taşıyan metinlerden oluşmaktadır.
- B) Dede Korkut adlı bilge kişinin ve çocuklarının hayatı anlatılmaktadır.
- C) Yer yer olağanüstülüklerle yer verilmiştir.
- D) Eserin geniş adı "Oğuz Boyu'nun Dili ile Dede Korkut Kitabı"dır.

3. "Kutadgu Bilig" adlı eser için aşağıdaki yargılardan hangisi yanlıştır?

- A) Mesnevi nazım şekliyle yazılmıştır.
- B) 6645 beyitten oluşan alegorik bir eserdir.
- C) Hakaniye (Doğu) Türkçesiyle kaleme alınmıştır.
- D) Aşk ve tabiat sevgisi konularını işlemektedir.

4. "Cömertlikte ve yardım etmekte akarsu gibi ol." cümlesinin sahibi, yaşam felsefesi ile bütün dünyaya sevgiyi, hoşgörüyü, iyiliği ve güzelliği yansıtmış ve yol göstermiş bir Türk İslam mutasavvıfı ve şairidir. "Bilginler Sultanı" olarak anılan bu şairin yazdığı "Mesnevî", tasavvufî, felsefî ve ahlaki bir eserdir.

**Bu parçada tanıtılan mutasavvıf aşağıdakilerden hangisidir?**

- A) Şeyyad Hamza
- B) Mevlâna Celaleddin Rumî
- C) Yusuf Has Hacip
- D) Sünbülzâde Vehbi

5. Âşık edebiyatı ile ilgili olarak aşağıdakilerden hangisi söylenemez?

- A) Nazım birimi beyittir.
- B) Şiirlerde daha çok yarım uyak tercih edilir.
- C) En çok kullanılan nazım şekilleri koşma ve semaidir.
- D) Aşk, ayrılık, güzellik, ölüm, tabiat, kahramanlık gibi konular işlenmiştir.

6. Aşağıdakilerden hangisi ağıt mânilerine örnektir?

- A) Bura Yemendir  
Gülü çemendir  
Giden gelmiyor  
Acep nedendir
- B) Su gelir deste gider  
Ayrılır dosta gider  
Gurbet yansın yıkılsın  
Sağ gelen hasta gider
- C) Almaya al olaydım  
Selviye dal olaydım  
Ela gözlü yârimin  
Atına nal olaydım
- D) Mendilin uçları  
Çıkamam yokuşları  
Yâre selam götürün  
Yedi dağın kuşları

7. Aşağıdaki eserlerden hangisi Yunus Emre'ye aittir?

- A) Hayriyye
- B) Terkib-i Bent
- C) Risaletü'n Nushiye
- D) Atabetü'l-Hakayık

8. Bir zengin hast(a) olsa çok  
hekim gelir  
Avrupa'dan yâresine em gelir  
Bir fakirin ölüsüne kim gelir  
Hoca bile elin vurmaz parasız.  
Âşık Ali İzzet

**Bu dördüğüün konusuna göre türü aşağıdakilerden hangisidir?**

- A) Ağıt
- B) Taşlama
- C) Güzelleme
- D) Koçaklama

9. Halk şiirinde tekdüzeliği önlemek ve şiirde belli bir ses uyumu oluşturmak amacıyla dizelerin belli parçalara ayrıldığı yerlere verilen ad aşağıdakilerden hangisidir?

- A) Hece ölçüsü
- B) Durak
- C) Kalıp
- D) Vezin

10. Aşağıdakilerden hangisi tasavvuf düşünürlerine verilen addır?

- A) Tevhid
- B) Devriye
- C) Münacaat
- D) Mutasavvıf

11. Kutadgu Bilig kahramanlarından her biri, bir kavramı temsil etmektedir.

**Buna göre aşağıdaki eşleştirmelerden hangisi yanlıştır?**

- A) Ay Toldı – Mutluluk
- B) Kün Togdı – Adalet
- C) Ögdilmiş – Akıl, anlayış
- D) Ogdurmuş – Cesaret

12. Aşağıdaki eser – sanatçı eşleştirmelerinden hangisi yanlıştır?

- A) Kutadgu Bilig – Ali Şir Nevai
- B) Divanü Lügati't Türk – Kaşgarlı Mahmut
- C) Atabetü'l Hakayık – Edip Ahmet Yükneki
- D) Divan-ı Hikmet – Hoca Ahmet Yesevi

13. 1277 yılında Karamanoğlu Mehmet Bey'in, fermanında "Bugünden sonra divanda, dergâhta, bergâhta, mecliste, meydanda Türkçeden başka bir dil kullanılmayacaktır." demesinin asıl amacı aşağıdakilerden hangisidir?

- A) Türkçeyi edebî bir dil hâline getirmek
- B) Türkçeyi diğer dillerin etkisinden korumak
- C) Türkçenin zengin bir dil olduğunu ortaya koymak
- D) Türkçenin çok köklü bir dil olduğunu hatırlatmak

14. İlahilere çeşitli tekke ve dergâhlarda ----, ----, ---- gibi adlar verilmiştir.

**Bu cümlede boş bırakılan yerlere aşağıdakilerden hangisi getirilemez?**

- A) nefes
- B) koşuk
- C) tapuğ
- D) âyin

## 2. OTURUM

15. Aşağıdaki sanatçılardan hangisi eserlerinde tasavvuf konusunu ele almamıştır?

- A) Ahmedî
- B) Mevlâna
- C) Yunus Emre
- D) Hacı Bektaşî Veli

16. Aşağıdakilerden hangisi anonim halk edebiyatı için söylenemez?

- A) Nazım birimi dörtlüktür.
- B) Sözlü olarak yaşayan bir edebiyattır.
- C) Sade, anlaşılır bir dille oluşturulmuştur.
- D) Ürünlerde aruz ölçüsü kullanılmıştır.

17. Divan edebiyatında çeşitli devirlerde yaşayan şairlerin hayat ve eserlerini ele alan kitaplara - - - - adı verilir.

**Bu cümlede boş bırakılan yere aşağıdakilerden hangisi getirilmelidir?**

- A) tezkire
- B) mektup
- C) rubai
- D) methiye

18. XIX. yüzyılda yazıya geçirmeye başlanan Karagöz'ün bütün oyunlarını "Karagöz" adlı eserinde derleyen sanatçı aşağıdakilerden hangisidir?

- A) Cevdet Kudret
- B) Orhan Kemal
- C) Peyami Safa
- D) Edip Cansever

19. XVI. yüzyılda yaşayan sanatçı "sultan'üş şuara" (şairler sultanı) olarak anılmıştır. Söz ve anlam oyunlarına önem veren sanatçı aruz ölçüsünü ustaca kullanmıştır. Özellikle gazel türündeki şiirleriyle tanınan sanatçının bir de divanı vardır. Ayrıca Kanuni'nin ölümü üzerine yazdığı "Kanuni Mersiyesi" de oldukça ünlüdür.

**Bu parçada hakkında bilgi verilen sanatçı aşağıdakilerden hangisidir?**

- A) Fuzuli
- B) Nedim
- C) Baki
- D) Nef'i

20. Aşağıdaki nazım biçimlerinden hangisi beyitlerden oluşmaktadır?

- A) Tuyuğ
- B) Rubai
- C) Mesnevi
- D) Murabba

### (625) SEÇ. TÜRK ED. - 5

1. Aşağıdakilerden hangisi Tanzimat edebiyatına ait bir roman değildir?

- A) İntibah
- B) Araba Sevdası
- C) Yaban
- D) Zehra

2. Aşağıdakilerden hangisi ilk atasözleri kitabıdır?

- A) Harabat
- B) Zemzeme
- C) Müntehabat-ı Eşar
- D) Durub-ı Emsal-i Osmaniye

3. Tanzimat edebiyatının en mücadeleci şairi sayılır. Edebiyatımızın pek çok alanında eserler verdi. Onun "Cezmi" romanı edebiyatımızın ilk tarihî romanı kabul edilir.

**Bu parçada tanıtılan edebiyatçı aşağıdakilerden hangisidir?**

- A) Ziya Paşa
- B) Namık Kemal
- C) Ahmet Mithat Efendi
- D) Abdülhak Hamit Tarhan

4. "Terkib-i Bend" adlı eseriyle tanınmıştır. Bu eserinde eski edebiyatımızda olmayan düşünceleri ele alarak toplumu bilinçlendirmeye çalışmış, toplum sorunlarına çare aramıştır.

**Bu parçada sözü edilen eserin yazarı aşağıdakilerden hangisidir?**

- A) Şinasi
- B) Ziya Paşa
- C) Namık Kemal
- D) Muallim Naci

5. Aşağıdaki eser - tür eşleştirmelerinden hangisi yanlıştır?

- A) Küçük Şeyler - eleştiri
- B) Afife Anjelik - tiyatro
- C) İntibah - roman
- D) Makber - şiir

6. Aşağıdakilerden hangisi Tanzimat edebiyatının ikinci dönem sanatçılarından biri değildir?

- A) Namık Kemal
- B) Samipaşazade Sezai
- C) Rezaizade Mahmut Ekrem
- D) Abdülhak Hamit Tarhan

7. Şairin, eşi Fatma Hanım'ın ölümü üzerine yazdığı bir mersiyedir. Bu eser, her biri sekizer dizeden oluşan bentler hâlinde yazılmıştır. Tamamı 295 bentlik bu eserde şair, ölüm karşısındaki duygu ve düşüncelerini, acılarını, feryatlarını dile getirmiştir.

**Bu parçada tanıtılan eserin sanatçısı aşağıdakilerden hangisidir?**

- A) Muallim Naci
- B) Abdülhak Hamit Tarhan
- C) Nabizade Nazım
- D) Şemsettin Sami

8. İlk resmî gazete aşağıdakilerden hangisidir?

- A) Tercüman-ı Ahval
- B) Ceride-i Havadis
- C) Takvim-i Vekayi
- D) Tasvir-i Efkâr

9. "Şiir ve İnşa" isimli makale aşağıdaki yazarlardan hangisi tarafından yazılmıştır?

- A) Şinasi
- B) Ziya Paşa
- C) Namık Kemal
- D) Nabizade Nazım

10. Tanzimat edebiyatının başlaması aşağıdaki gelişmelerin hangisi ile gerçekleşmiştir?

- A) Tanzimat Fermanı'nın ilan edilmesi
- B) İlk edebî romanın yayımlanması
- C) İlk özel gazetenin çıkması
- D) İlk roman çevirisi

11. Tanzimat Fermanı aşağıdakilerden hangisi tarafından hazırlanmıştır?

- A) Mustafa Reşit Paşa
- B) Ahmet Cevdet Paşa
- C) Ziya Paşa
- D) Ali Paşa



## 2. OTURUM

12. Eserde Bihruz Bey tipi ile miras-yediliği ve Batılılaşmayı giyim, kuşam ve gereksiz yerlerde Fransızca sözcükler kullanma olarak algılayan anlayış eleştirilmektedir. Bu tür Batılılaşmanın insanı gülünç duruma düşüreceğini vurgulayan eser, edebiyatımızın ilk realist romanıdır.

**Bu parçada tanıtılan eser aşağıdakilerden hangisidir?**

- A) Sergüzeşt  
B) Araba Sevdası  
C) Eylül  
D) Cezmi

13. Aşağıdakilerin hangisinde **bilgi yanlış** vardır?

- A) Edebiyat, toplumların gelişmesini sağlayan bir bilim dalıdır.  
B) Edebiyatla sosyal ve siyasi yaşam arasında etkileşim söz konusudur.  
C) Edebiyat; düşüncelerin gelişmesini, duyguların zenginleşmesini sağlar.  
D) Toplumların yüzyıllar boyunca geçirdiği aşamalar edebî esere yansır.

14. Aşağıdakilerden hangisi **Tanzimat II. Dönem edebiyatının özellikleri arasında sayılmaz?**

- A) Dilde sadeleşme çabaları terk edilmiştir.  
B) Eserlerde bireysel temalar ele alınmıştır.  
C) Realizm akımı etkili olmuştur.  
D) Toplum için sanat anlayışı benimsenmiştir.

15. İbrahim Şinasi aşağıdaki türlerden hangisinde **eser vermemiştir?**

- A) Şiir  
B) Roman  
C) Tiyatro  
D) Makale

16. Aşağıdaki eser-tür eşleştirmelerinden hangisi **yanlıştır?**

- A) Takip – hikâye  
B) Sergüzeşt – roman  
C) Eş'ar-ı Ziya – şiir  
D) Afife Anjelik – tiyatro

17. Ne efsunkâr imişsin âh ey dîdar-ı hürriyyet  
Esîr-i aşkın olduk gerçi kurtulduk esaretten  
Namık Kemal'in "Hürriyet Kasidesi"nden alınmış bu dizele-rine bakıldığında kasidelerde ele alınan klasik konulardan uzaklaşıldığı görülmektedir.

**Bu bilgiden hareketle Tanzimat Dönemi şiiri için aşağıdakilerden hangisi söylenebilir?**

- A) Aruz ölçüsü terk edilerek hece ölçüsü kullanılmıştır.  
B) Batı edebiyatından alınan nazım şekilleri tercih edilmiştir.  
C) Eski şiire şekil olarak bağlı kalınmış, şiirin içeriği değiştirilmiştir.  
D) Şiirde parnasizm ve sembolizm akımlarının etkisi söz konusudur.

18. Romantizm akımının ilkelerini ortaya koyarak bu akımın doğmasını sağlayan Fransız yazar aşağıdakilerden hangisidir?

- A) La Fontaine  
B) Moliere  
C) Mallarme  
D) Victor Hugo

19. Tanzimat Dönemi'nde roman ve hikâye türlerinde verdiği eserlerle halka okumayı sevdirmeyi amaçlamıştır. Halkı bilinçlendirmeyi amaçlayan sanatçı eserlerinde toplumsal konuları ele almıştır. Yanlış Batılılaşmayı ele aldığı Felâtnun Bey ile Rakım Efendi romanı, bu konuyu işleyen başarılı bir eserdir.

**Bu parçada söz edilen sanatçı aşağıdakilerden hangisidir?**

- A) Abdülhak Hamit Tarhan  
B) Ahmet Vefik Paşa  
C) Şemsettin Sami  
D) Ahmet Mithat Efendi

20. Aşağıdaki sanatçılardan hangisi **La Fontaine'den fabl çevirileri yapmıştır?**

- A) Namık Kemal  
B) İbrahim Şinasi  
C) Yusuf Kamil Paşa  
D) Ziya Paşa

(626) SEÇ. TÜRK ED. – 6

1. Aşağıdakilerden hangisi **Tevfik Fikret için doğru bilgi değildir?**

- A) Servetifünûn Dönemi'nin en önemli şairlerindedir.  
B) Oğlu Halûk'un kişiliğinde bütün gençlere seslendi.  
C) Divan edebiyatındaki beyit anlayışına sadık kaldı.  
D) Çocuklar için yazdığı şiirlerini "Şermin" adlı kitapta topladı.

2. Aşağıdakilerin hangisinde **bütün şiirlerinde yalnızca aruz ölçüsünü kullanan sanatçılar yer almaktadır?**

- A) Ahmet Haşim, Mehmet Âkif, Cenap Şehabettin  
B) Tevfik Fikret, Yahya Kemal, Mehmet Âkif  
C) Ahmet Haşim, Tevfik Fikret, Yahya Kemal  
D) Yahya Kemal, Cenap Şehabettin, Mehmet Âkif

3. Güzel dil Türkçe bize,  
Başka dil gece bize  
İstanbul konuşması  
En saf, en ince bize.

**Bu dizeler aşağıdaki sanat topluluk veya eğilimlerinden hangisinin dil anlayışını belirtmektedir?**

- A) Tanzimatçılar  
B) Servetifünuncular  
C) Fecriâtîciler  
D) Millî Edebiyatçılar

4. "Kendi Gök Kubbemiz" ve "Eski Şiirin Rüzgârıyla" adlı eserlerin şairi aşağıdakilerden hangisidir?

- A) Tevfik Fikret  
B) Ahmet Haşim  
C) Yahya Kemal Beyatlı  
D) Cenap Şehabettin

## 2. OTURUM

5. Rezaizade Mahmut Ekrem birtakım gençleri çevresinde topladı. Bir dergide toplanarak yeni bir hareket yarattılar. Bunlar arasında "estetik zevki" ön plana çıkaran ve özgün tavırları ile ün kazanmış iki şairimiz de vardır.
- Bu parçada söz edilen dergi ve iki ünlü şairimiz aşağıdakilerin hangisinde bir arada verilmiştir?**
- A) Genç Kalemler; Ziya Gökalp, Muallim Naci  
B) Servet-i Fünûn; Tevfik Fikret, Cenap Şehabettin  
C) Genç Kalemler; Rezaizade Mahmut Ekrem, Abdülhak Hamit  
D) Servet-i Fünûn; Mehmet Raûf, Şinasi
6. **Asıl amacı şiirde söze önem vermek olan öz şiir (saf şiir) anlayışının Türk edebiyatındaki iki önemli temsilcisi aşağıdaki seçeneklerin hangisinde yer almaktadır?**
- A) Faruk Nafiz Çamlıbel, Ziya Gökalp  
B) Cenap Şehabettin, Enis Behiç Koryürek  
C) Ahmet Haşim, Yahya Kemal Beyatlı  
D) Mehmet Âkif Ersoy, Tahsin Nahit
7. **Servetifünun hikâye ve romanında aşağıdaki edebî akımlardan hangisinin etkisi vardır?**
- A) Sembolizm B) Realizm  
C) Parnasizm D) Romantizm
8. **Aşağıdakilerden hangisi fecriâti topluluğu sanatçılarından biri değildir?**
- A) Ömer Seyfettin  
B) Emin Bülent  
C) Ahmet Haşim  
D) Ahmet Samim
9. **Aşağıdakilerden hangisi tiyatro türünde yazılmamıştır?**
- A) Canavar (Faruk Nafiz Çamlıbel)  
B) Aziz İstanbul (Yahya Kemal Beyatlı)  
C) Hançer (Reşat Nuri Güntekin)  
D) Kösem Sultan (Tahsin Nahit)
10. **Aşağıdakilerden hangisi Cenap Şehabettin'in Bulgaristan, Romanya, Macaristan, Çekoslovakya, Almanya ve Avusturya'ya yaptığı gezilere ait duygularını, düşüncelerini ve bu gezilerde kendisini etkileyen önemli olayları anlattığı eseridir?**
- A) Avrupa Mektupları  
B) Tiryaki Sözleri  
C) Nesr-i Sulh  
D) Tâmat
11. **Servetifünun Dönemi'nde aşağıdaki türlerin hangisinde daha az eser verilmiştir?**
- A) Roman B) Hikâye  
C) Tiyatro D) Şiir
12. **Aşağıdakilerden hangisi Servetifünun şiiri için söylenemez?**
- A) Sembolizm ve parnasizm akımlarının etkisindedir.  
B) Aşk, doğa gibi bireysel konular işlenmiştir.  
C) Batı'dan sone ve terzarima gibi türler alınmıştır.  
D) Sade ve anlaşılır bir dil kullanılmaya çalışılmıştır.
13. **Edebiyatımızda ilk kez bir bildiri ile kurulduğunu ilan eden edebî topluluk aşağıdakilerden hangisidir?**
- A) Yedi Meşaleciler  
B) Beş Hececiler  
C) Servetifünun  
D) Fecriati
14. I. Edebiyata herhangi bir yenilik getirememeleri  
II. Klasisizm akımına bağlı kalmaları  
III. Doğal olmayan bir dil ve üslup kullanmaları  
IV. Şiir türüne gereken önemi vermemeleri
- Yukarıdakilerden hangileri Fecriati topluluğuna yöneltilen eleştiriler arasında gösterilemez?**
- A) I ve II. B) II ve III.  
C) II ve IV. D) III ve IV.
15. **Edebiyatımızda mensur şiir türünde eser veren sanatçılar aşağıdakilerin hangisinde bir arada verilmiştir?**
- A) Mehmet Rauf – Halit Ziya Uşaklıgil  
B) Tevfik Fikret – Hüseyin Rahmi Gürpınar  
C) Halit Ziya Uşaklıgil – Ahmet Haşim  
D) Ahmet Mithat Efendi – Mehmet Rauf
16. **Tevfik Fikret'in çocuklar için yazdığı şiir kitabı aşağıdakilerden hangisidir?**
- A) Haluk'un Defteri  
B) Rubab-ı Şikeste  
C) Tarih-i Kadim  
D) Şermin
17. **Aşağıdakilerden hangisi Millî Edebiyat sanatçılarının amaçlarından?**
- A) Konuşma dilini edebî dil hâline getirmek  
B) Aruz ölçüsünü Türkçeye uygulamak  
C) Batı'daki edebî gelişmeleri yakından takip etmek  
D) Sanat için sanat anlayışıyla eser vermek
18. **Hikâye, roman, anı türlerinde eser veren sanatçı başlangıçta bireysel tutkuları, kadın psikolojisini ele aldı. Kurtuluş Savaşı yıllarında ise millî temalara yönelmiş ve ülkenin kurtuluşuna ilişkin konuları ele almıştır. Ateşten Gömlek, Vurun Kahpeye sanatçının önemli eserlerindedir.**
- Bu parçada tanıtılan sanatçı aşağıdakilerden hangisidir?**
- A) Ziya Gökalp  
B) Mehmet Rauf  
C) İbrahim Şinasi  
D) Halide Edip Adıvar

## 2. OTURUM

19. (I) Sanatçı, edebî hayatına Fecriati topluluğunda başlamış, daha sonra Millî Edebiyat anlayışına uygun eserler vermiştir. (II) Manzum hikâye, şiir, gezi yazısı ve roman türlerinde eserler vermiştir. (III) İlk romanı Kıralk Konak'ta kuşaklar arası çatışmayı işlemiştir. (IV) Her bir romanında bir dönemi ya da toplumsal olayları irdelemiştir.

**Bu parçada numaralanmış cümlelerin hangisinde Yakup Kadri Karaosmanoğlu ile ilgili yanlış bir bilgi verilmiştir?**

- A) I. B) II. C) III. D) IV.

20. **Aşağıdaki eserlerden hangisi Mehmet Emin Yurdakul'a ait değildir?**

- A) Türk Sazı  
B) Türkçe Şiirler  
C) Ey Türk Uyan  
D) Türkçülüğün Esasları

### (627) SEÇ. TÜRK ED. – 7

1. Gazete ve dergilerin yaygınlaşması bu türün gelişmesini sağlamıştır. Servet-i Fünûn, Genç Kalemler, Dergâh, Türk Yurdu gibi dergiler bu konuda etkili olmuştur. Bu yıllarda bu türün usta yazarları arasında Ahmet Rasim, Refik Halit Karay ve Ahmet Haşim akla ilk gelenlerdir.

**Bu parçada anlatılan edebî tür aşağıdakilerden hangisidir?**

- A) Fıkra B) Roman  
C) Tiyatro D) Deneme

2. **Aşağıdaki eser-yazar eşleştirmelerinden hangisi yanlıştır?**

- A) Hürrem Sultan - Orhan Asena  
B) Bekçi Murtaza - Halide Edip Adivar  
C) Bir Adam Yaratmak - Necip Fazıl Kısakürek  
D) Mahmud ile Yezida - Murathan Mungan

3. Cumhuriyet döneminde mizah edebiyatı, güldürürken düşündürmeyi de amaçlayan bir mizah anlayışıyla yeni boyutlara ulaştı.

**Aşağıdakilerden hangisi bu alanda eser veren yazarlardan biri değildir?**

- A) Aziz Nesin  
B) Rifat Ilgaz  
C) Muzaffer İzgü  
D) Feyzi Halıcı

4. • Şiirsel söyleyişte konuşma dilinin yalınlığından faydalandılar.  
• Varlık dergisinde ölçüsüz, uykusuz, şairanelikten uzak yeni bir şiir akımı başlattılar.  
• Yaşama sevincini, günlük hayatı, küçük adamın derterini konu edindiler.

**Bu özellikler aşağıdaki edebî toplulukların hangisiyle ilgilidir?**

- A) Fecriaticiler  
B) Garipçiler  
C) Yedi Meşaleciler  
D) II. Yeni

5. Hecenin beş şairinden biri olan şair Anadolu edebiyatının en öne çıkan adıdır. Millî ve yerli sanat anlayışına göre kaleme aldığı "Han Duvarları" en tanınmış şiirlerindedir.

**Bu parçada bahsedilen şair aşağıdakilerden hangisidir?**

- A) Enis Behiç Koryürek  
B) Turgut Uyar  
C) Faruk Nafiz Çamlıbel  
D) Orhan Seyfi Orhon

6. **Deneme türünün öncüsü ve temsilcisi olan yazar, aşağıdakilerden hangisidir?**

- A) Montaigne B) Albert Camus  
C) T.S. Eliot D) Bacon

7. **Aşağıdaki eserlerden hangisi Nurullah Ataç'a aittir?**

- A) Mavi Sürgün  
B) Günlerin Götürdüğü  
C) Aziz İstanbul  
D) Karalama Defteri

8. **Reşat Nuri Güntekin'in gezi yazısı türündeki eseri aşağıdakilerden hangisidir?**

- A) Anadolu Notları  
B) Bir Bulut Kaynıyor  
C) Pasifik Kıyılarında  
D) Frankfurt Seyahatnamesi

9. **Yazarın herhangi bir konu üzerinde kesin hükümlere varmadan, kendi kişisel görüş ve düşüncelerini anlattığı yazı türü aşağıdakilerden hangisidir?**

- A) Roman B) Hikâye  
C) Deneme D) Makale

10. **Aşağıdakilerden hangisi gezi yazısının özelliklerinden biri değildir?**

- A) Yalın bir dil, renkli ve sürükleyici bir anlatım kullanılmalıdır.  
B) Karşılaştırmalara yer vermekten kaçınılmalıdır.  
C) Gezilen yerler yüzeysel değil, özüne inilerek anlatılmalıdır.  
D) Hayal ürünü anlatımlara yer verilmemelidir.

11. İbrahim Şinasi ve Ağâh Efendi'nin 1860'ta birlikte çıkardıkları

I  
"Tercüman-ı Hakikat" adlı gazetede  
II  
ilk makale Şinasi tarafından

III  
yazılmıştır. Namık Kemal yazılarında "vatan, millet ve özgürlük"

IV  
gibi konuları işlemiştir.

**Bu parçada numaralanmış yerlerin hangisinde bilgi yanlış söz konusudur?**

- A) I. B) II. C) III. D) IV.

## 2. OTURUM

12. Anılarını kaleme alanlar kendi yaşam öykülerini de ayrıntılı bir şekilde incelerler. Bu bakımdan anı türü ile - - - - zaman zaman örtüşür. Ancak anı türünde hayat hikâyesi bir araç durumundayken bu türde ise amaçtır. Anıda amaç, yaşananlardan yola çıkarak dönemi ve çevredekileri anlatmaktır.

**Bu parçada boş bırakılan yere aşağıdakilerden hangisi getirilmelidir?**

- A) fıkra B) mektup  
C) otobiyografi D) gezi yazısı

13. Ünlü denizcilerimizden - - - - Hindistan, Afganistan, Buhara ve Maveraünnehir'i dolaşmış ve Türkçe ilk gezi kitabını yazmıştır. Ünlü bilgin - - - - ise Cihannüma adlı eserinde Osmanlı ülkesinde gezip gördüğü yerleri anlatmıştır.

**Bu parçada boş bırakılan yerlere aşağıdakilerden hangileri sırasıyla getirilmelidir?**

- A) Seydi Ali Reis – Kâtip Çelebi  
B) Koçi Bey – Mercimek Ahmet  
C) Piri Reis – Seydi Ali Reis  
D) Evliya Çelebi – Yirmi Sekiz Çelebi Mehmet

14. Aşağıdakilerden hangisi yurt dışı gezi yazılarına örnektir?

- A) Reşat Nuri Güntekin – Anadolu Notları  
B) Fikret Otyam – Gide Gide  
C) Yaşar Kemal – Bu Diyar Baştan Başa  
D) Nadir Paksoy – Bir Demet Pasifik

15. Edebiyatımızda anı türünün ilk önemli eseri aşağıdakilerden hangisidir?

- A) Ali Şir Nevai – Mecalis'ün Nefais  
B) Babür Şah – Babürname  
C) Kâtip Çelebi – Fezleke  
D) Evliya Çelebi – Seyahatname

16. Aşağıdaki dizelerden hangisi Cumhuriyet Dönemi'nde yazılmış olamaz?

- A) Kim bilir neredesiniz,  
Geçen dakikalarım  
Kim bilir neredesiniz  
B) Ayrılığın yırtıcı hislerini besteler  
Sonu gelmez yollarda kağnı gıcırtiları  
C) Memleket isterim  
Gök mavi, dere yeşil, tarla sarı olsun  
Kuşların, çiçeklerin diyarı olsun  
D) Bende yok sabr ü sükûn sende vefâdan zerre  
İki yokdan ne çıkar fikredelim bir kerre

17. Aşağıdakilerin hangisinde bilgi yanlış vardır?

- A) Yakup Kadri Karaosmanoğlu, Tanzimat'tan Cumhuriyet'e Türk toplumunun geçirdiği tarihsel aşamaları konu edinir.  
B) Halide Edip Adıvar, bireysel duyguları yansıtan romanlarının yanı sıra toplumsal konulara da yönelir.  
C) Reşat Nuri Güntekin, duygusal bir gerçeklikle Anadolu'ya, Anadolu insanının dünyasına eğilir.  
D) Peyami Safa, toplum sorunlarını ele aldığı eserlerinde ruhsal tasvirlerle girişmeden gerçekçi bir bakış açısıyla sorunlara çözüm arar.

18. Cumhuriyet'in ilk yıllarında tiyatrodaki en verimli isimlerden biridir. Eserlerinde yöneticilerin açgözlülüğünü ironik bir şekilde eleştirir. En önemli tiyatro eserleri şunlardır: İstanbul Efendisi, Aynaroz Kadısı, Bir Kavuk Devrildi...

**Bu parçada tanıtılan sanatçı aşağıdakilerden hangisidir?**

- A) Muhsin Ertuğrul  
B) Müsahipzade Celal  
C) Refik Erduran  
D) Sabahattin Kudret Aksal

19. Çocukluğumun en güzel, hiç unutamadığım şeylerinden biriydi mahallemize gelen leblebici. Plastik toplarımız patlayınca atmazdık onları çöpe. Çünkü haftada iki üç kere leblebici amca uğradı sokağımıza. Patlak toplarımızı ona verir, ondan leblebi tozu veya leblebi şekeri alırdık. O yıllar her şeyin hemen tüketilmediği kanaat yıllarıydı.

**Bu parça aşağıdaki metin türlerinin hangisinden alınmıştır?**

- A) Anı B) Gezi yazısı  
C) Makale D) Fıkra

20. Aşağıdakilerden hangisi Cumhuriyet Dönemi'nde yazdıkları fıkralarla dikkat çeken isimlerden biri değildir?

- A) Yakup Kadri Karaosmanoğlu  
B) Halide Edip Adıvar  
C) Tevfik Fikret  
D) Falih Rıfkı Atay

(628) SEÇ. TÜRK ED. – 8

1. Türk hikâye ve romanında toplumcu gerçekçiliğin öncülerindedir. Sanatın tek amacının insanları daha iyiye, daha doğruya, daha güzele yükseltmek olduğunu belirten yazarın önemli romanlarından biri Kuyucaklı Yusuf'tur.

**Bu parçada bahsedilen yazar, aşağıdakilerden hangisidir?**

- A) Aziz Nesin  
B) Fakir Baykurt  
C) Sabahattin Ali  
D) Necati Cumalı

2. "Tutunamayanlar" adlı eseriyle postmodern romanın yolunu açan yazarımız aşağıdakilerden hangisidir?

- A) Oğuz Atay B) Bilge Karasu  
C) Latife Tekin D) İnci Aral

## 2. OTURUM

3. KAR  
Kardır yağın üstümüze geceden  
Yağmurla karanlık bir düşünceden,  
Ormanın uğultusuyla birlikte  
Ve dört nala dümdüz bir mavilikte  
Kar yağıyor üstümüze inceden.
- Bu şiir, Anadolu şiiir dışında günün sorunlarına değil, insan duygularının sonsuzluğuna yönelen şairlerin en önemlilerinden birine aittir.
- “Olvido”, “Fahriye Abla” gibi şiirleriyle de tanınmış bu şair, aşağıdakilerden hangisidir?
- A) Behçet Kemal Çağlar  
B) Ahmet Muhip Dıranas  
C) Halide Nusret Zorlutuna  
D) Orhan Veli Kanık
4. Hikâyelerinde net bir şekilde giriş, gelişme ve sonuç bölümlerinin bulunmadığı, şiirsel bir anlatımın ağır bastığı bir tarzı sürdürmüştür. Hikâyelerindeki kahramanların çoğu kendisidir. “Bir İlkbahar Hikâyesi, Mahalle Kahvesi, Havada Bulut, Semaver” en tanınmış hikâyelerindendir.
- Bu parçada tanıtılan Cumhuriyet Dönemi hikâyecimiz aşağıdakilerden hangisidir?**
- A) Memduh Şevket Esendal  
B) Reşat Nuri Güntekin  
C) Refik Halit Karay  
D) Sait Faik Abasıyanık
5. Türk romanında modern anlatım teknikleri, bireyin iç dünyasına yönelik konuları ile dikkat çeken romancılardan biridir. “Aylak Adam” ve “Anayurt Otel” adlı romanlarında, okuru, bilinçaltının gizemli ve karışık dünyasında dolaştırır.
- Bu parçada bahsedilen yazar aşağıdakilerden hangisidir?**
- A) Tezer Özlü  
B) Yusuf Atılgan  
C) Necip Fazıl Kısakürek  
D) Fakir Baykurt
6. Gün olur, alır başımı giderim  
Denizden yeni çıkmış ağların  
Kokusunda  
Şu ada senin, bu ada benim,  
Yelkovan kuşlarının peşi sıra.  
Orhan Veli
- Bu dizelerden yola çıkılarak Orhan Veli’nin şiiriyle ilgili aşağıdakilerden hangisi söylenebilir?**
- A) Süslü, ağır bir dil kullandığı  
B) Nükteli bir söyleyişi yeğlediği  
C) Toplumsal sorunlara değindiği  
D) Ölçü ve uyağa önem vermediği
7. Aşağıda verilen bilgilerden hangisi yanlıştır?
- A) Anadolu ve Anadolu insanının ele alındığı ilk hikâyeye ve roman örnekleri Cumhuriyet Dönemi’nde verilmiştir.  
B) Köylüyü anlatan ilk roman Nabizade Nazım’ın “Karabibik” adlı eseridir.  
C) Refik Halit Karay “Memleket Hikâyeleri” adlı eseriyle köylüleri ve yaşamlarını konu almıştır.  
D) Memduh Şevket Esendal, Sait Faik Abasıyanık Cumhuriyet Dönemi’nin önemli hikâyecilerindendir.
8. - - - - divan şiirinden etkiler taşıyan şiirini resim sanatıyla özdeşleştirerek zenginleştirdi. İnsanın sıkıntılarını, bunalımlarını dile getirirken şiirlerinde mitolojiye yer verdi. “Kuşatma, Yer Çekimli Karanfil” eserlerinden bazılarıdır.
- Bu parçada boş bırakılan yere aşağıdakilerden hangisi getirilmelidir?**
- A) Ece Ayhan  
B) Sezai Karakoç  
C) Cemal Süreyya  
D) Edip Cansever
9. Aşağıdakilerden hangisi halk ozanı değildir?
- A) İsmet Özel  
B) Karacaoğlan  
C) Şeref Taşlıova  
D) Âşık Zülali
10. Yedi yaşında geçirdiği hastalık nedeniyle gözlerini yitirdi. Yer yer yerel sözcüklerle süslediği sade bir Türkçe ile şiirlerini, geleneksel âşık şiiri nazım şekillerinden koşma, semai, destan şeklinde söyledi.
- Bu parçada tanıtılan halk ozanı, aşağıdakilerden hangisidir?**
- A) Ali İzzet  
B) Âşık Talibî Coşkun  
C) Murat Çobanoğlu  
D) Âşık Veysel
11. Aşağıdakilerden hangisi köyü, köylüyü ve Anadolu’yu anlatan eserlerden biri değildir?
- A) Karabibik  
B) Küçük Paşa  
C) Tutunamayanlar  
D) Memleket Hikâyeleri
12. Cumhuriyet sonrası Türk şiirinde gerçek yenilik - - - - tarafından başlatıldı. Sanatçı; özü, biçimin bağlarından kurtararak serbest şiir olarak nitelenen ve şiirden ölçü, uyak gibi bağları atan bir akımın başlatıcısı oldu.
- Bu parçada boş bırakılan yere aşağıdakilerden hangisi getirilmelidir?**
- A) Turgut Uyar  
B) Mehmet Âkif Ersoy  
C) Nazım Hikmet  
D) Necip Fazıl Kısakürek
13. Üç arkadaşın 1930’lu yılların sonuna doğru başlattığı bu hareket Cumhuriyet Dönemi’nin ikinci edebî topluluğunu oluşturmuştur. Bu üç arkadaş gelenekçi şiir anlayışına karşı yazdıklarıyla yenilikçi şiirin egemenliğini ilan etmiştir. Üç genç şairin ilk ürünleri vezinsiz, kafiyesiz, günlük dile dayalı, kısa şiirlerdir.
- Bu parçada tanıtılan edebî anlayış aşağıdakilerden hangisidir?**
- A) I. Yeni  
B) II. Yeni  
C) Beş Hececiler  
D) Yedi Meşaleciler

## 2. OTURUM

14. Aşağıdakilerden hangisi 1940 sonrası Türk hikâye ve romanında toplumcu gerçekçi çizgi-  
de eser veren sanatçılardan biri değildir?

- A) İlhan Berk  
B) Kemal Bilbaşar  
C) Samim Kocagöz  
D) Orhan Kemal

15. Aşağıdakilerden hangisi Mahmut Makal'ın köy notlarını topladığı romanının adıdır?

- A) Köygöçüren  
B) Bizim Köy  
C) Çıkrıklar Durunca  
D) Hanımın Çiftliği

16. Aşağıdakilerden hangisi günümüz hikâye ve romancıları arasında sayılamaz?

- A) Orhan Pamuk  
B) Elif Şafak  
C) Sait Faik Abasıyanık  
D) Murathan Mungan

17. Cumhuriyet Dönemi halk şiiriyle ilgili aşağıdakilerden hangisi söylenemez?

- A) Ağır, sanatlı bir dil ve imgelerle yüklü bir anlatım benimsenmiştir.  
B) Aşk, doğa, özlem, ölüm, yiğitlik en çok işlenen konulardandır.  
C) Dörtlükler hâlinde ve hece ölçüsüyle yazılan şiirlerden oluşur.  
D) Geniş halk yığınlarının özlemi-  
ni, acısını, sevincini dile getirir.

18. Belimizde kılıcımız kirmani  
Taşı deler mızrağımın temreni  
Hakkımızda devlet eylemiş fermanı  
Ferman padişahın dağlar bizimdir

**Bu dördlük konusuna göre aşağıdaki nazım türlerinin hangisine örnektir?**

- A) Taşlamaya  
B) Koçaklamaya  
C) Güzellemeye  
D) Ağıta

19. Yalnızca şiirin öne çıkarıldığı, aslolan üründür anlayışının egemen olduğu bir dönemdir. Bu dönemde şiirle yeniden yüzleşilir. İnsani duyarlılık ve evrensel deneyimler şiirin gözde değerleri olur. Bu dönem şiiri bir iç hesaplaşmayı beraberinde getirir. Haydar Ergülen, Hüseyin Atlansoy, Enver Ercan gibi şairler bu dönemin önemli isimlerindedir.

**Bu parçada anlatılan edebî dönem aşağıdakilerden hangisidir?**

- A) 1980 Sonrası Şiir  
B) Garip (I. Yeni) Akımı  
C) Millî Edebiyat Zevk ve Anlayışını Sürdüren Şiir  
D) Saf Şiir

20. Aşağıdakilerden hangisi Millî Edebiyat zevk ve anlayışını sürdüren şairlerden biri değildir?

- A) Arif Nihat Asya  
B) Ahmet Kutsi Tecer  
C) Attila İlhan  
D) Kemalettin Kamu

### (711) İSLAM TARİHİ – 1

1. "İslam tarihi - - - - bir bilimdir."

**Verilen cümlede boş bırakılan yere, aşağıdakilerden hangisi yazılmalıdır?**

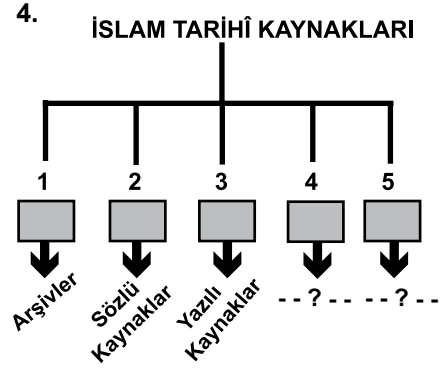
- A) edebî B) sosyal  
C) sayısal D) estetik

2. İslam tarihinin ilk ve en önemli kaynağı aşağıdakilerden hangisidir?

- A) Hadisler  
B) Tefsirler  
C) Kur'an-ı Kerim  
D) Teracim kitapları

3. Tarihte "Fil Yılı" olarak bilinen olay, miladi kaç yılında gerçekleşmiştir?

- A) 571 B) 610  
C) 622 D) 630



**Verilen şemada boş bırakılan 4. ve 5. maddelere gelmesi gerekenler, aşağıdakilerin hangisinde birlikte verilmiştir?**

	4	5
A)	Kitabeler	Ahitnameler
B)	Mimari Eserler	Örf - Adetler
C)	Müzelik	Rivayetler
D)	Müzelik	Açık Hava

5. Arap Yarımadası'nın Bahreyn Bölgesi'ni içine alan bölgesine ne ad verilir?

- A) Tihame B) Hicaz  
C) Necid D) Arud

6. "- - - - yapılan savaşlara Ficâr Savaşları denir."

**Verilen cümlede boş bırakılan yere aşağıdakilerden hangisi yazılmalıdır?**

- A) Üç aylarda  
B) Haram aylarda  
C) Ramazan ayında  
D) Kurban Bayramı'nda

7. • Ukâz  
• Mina  
• Suhâr  
• Debâ

**Verilen kavramlar aşağıdakilerden hangisiyle ilişkilendirilebilir?**

- A) Ünlü Arap kabileleri  
B) Kâbe'deki dört büyük put  
C) Meşhur panayır merkezleri  
D) Arap Yarımadası'nda kurulan devletler

## 2. OTURUM

8. Hanifler aşağıdaki hangi peygamberin dinini yaşatmaya çalışırlardı?

- A) Hz. İdris B) Hz. Musa  
C) Hz. Adem D) Hz. İbrahim

9. Allah, Hz. Muhammed (sav.)'e peygamberliğinin kaçınıcı yılında İsrâ ve Miraç mucizeleri ile ilahî lütf ve ihsanlarda bulunmuştur?

- A) 21. B) 15. C) 11. D) 8.

10. Mekkelilerin Bedir Savaşı'nın intikamını almak ve Müslümanları ortadan kaldırmak istemeleri, aşağıdaki hangi savaşın nedenlerinden birini oluşturur?

- A) Mute B) Uhut  
C) Hendek D) Huneyn

11. Medine'deki Evs ve Hazreç kabilelerinin tamamına yakını, aşağıdaki sahabelerden hangisinin gayretleri sonucunda Müslüman olmuşlardır?

- A) Abdullah bin Cübeyr  
B) Nuaym bin Mesut  
C) Zübeyr bin Avvam  
D) Mus'ab bin Umeyr

12. İran'ın tamamının kontrolü aşağıdaki savaşların hangisinin sonucunda Müslümanların eline geçmiştir?

- A) Nihavent B) Kadisiye  
C) Tebük D) Mute

13. Aşağıdaki halifelerden hangisinin döneminde fethedilen yerler ilk defa yönetim birimlerine ayrılmıştır?

- A) Hz. Ali  
B) Hz. Ömer  
C) Hz. Osman  
D) Hz. Ebu Bekir

14. Zatu's Savarı Savaşı'yla ilgili aşağıdaki bilgilerden hangisi yanlıştır?

- A) Finike açıklarında meydana gelmiştir.  
B) Hz. Ömer Dönemi siyasi olaylarından biridir.  
C) 500 gemiden oluşan Bizans donanması yok edilmiştir.  
D) Bizans İmparatoru II. Konstantin ile Abdullah bin Sa'd komutasındaki İslam donanması arasında gerçekleşmiştir.

15. Emevilerin ve Abbasilerin güçlü bir ordu kurmaya önem veremelerinin asıl nedeni, aşağıdakilerden hangisidir?

- A) İç ayaklanmaları bastırmak  
B) Kan davalarına son vermek  
C) İslamiyet'i yeni coğrafyalara yaymak  
D) Ülkelerini Bizans saldırılarına karşı korumak

16. Batılı bir tarihçinin "Batı Avrupa'yı, hatta İngiltere'yi muhtemel bir Moğol saldırısından kurtaran kişi" diye övdüğü Memlûk sultanı aşağıdakilerden hangisidir?

- A) Baybars  
B) Kalavun  
C) Tomanbay  
D) Kansu Gavri

17. Muaviye Dönemi'nde fethedilen Horasan ve Sind bölgeleri, idari bakımdan aşağıdaki yerlerden hangisine bağlıdır?

- A) Bakü B) Basra  
C) Taşkent D) Buhara

18. Halife III. Yezit'in yerine geçen İbrahim bin Velit, aşağıdakilerden hangisi tarafından tahttan indirilmiştir?

- A) Hz. Hüseyin'in torunu Zeyd bin Ali  
B) Kuzey Afrika valisi Musa bin Nusayr  
C) Endülüs valisi Abdurrahman el - Gafiki  
D) Azerbaycan valisi Mervan bin Muhammed

19. Abbasi halifelerinden Me'mun ve Mu'tasım dönemlerinde güçlenen mezhep aşağıdakilerden hangisidir?

- A) Cebriyye B) Halvetiye  
C) Mutezile D) Kadiriye

20. Kastilya kraliçesi İzabella ile Aragonya kralı Ferdinand'ın evlenmeleriyle siyasi birliğini kuran devlet aşağıdakilerden hangisidir?

- A) İspanya B) İtalya  
C) İngiltere D) Almanya

### (712) İSLAM TARİHİ – 2

1. İlk Abbasi halifesi, aşağıdakilerden hangisidir?

- A) Harun Reşit  
B) Ebu Cafer Mansur  
C) Muhammed Mehdi  
D) Ebu'l Abbas Abdullah

2. Halife Mansur'un Dicle Nehri kıyısında kurduğu "Medinetü's - Selam" şehri, bugünkü aşağıdaki şehirlerden hangisidir?

- A) Kûfe B) Basra  
C) Bağdat D) İsfahan

3. Arap olmayan Müslümanların savaşlarda elde edilen ganimetlerden Araplara göre daha az pay almasına son veren Emevi halifesi, aşağıdakilerden hangisidir?

- A) İbrahim bin Velid  
B) Ömer bin Abdülaziz  
C) Hişam bin Abdülmelik  
D) Süleyman bin Abdülmelik

## 2. OTURUM

4. Aşağıdaki bilgilerden hangisi Halit Bermeki ile ilgili değildir?

- A) Memluk sultanı Baybars ile çağdaştır.
- B) Aslen İran kökenli Bermeki ailesindedir.
- C) Bermeki ailesinden ilk Müslüman olan kişidir.
- D) Halife Ebu Abbas Dönemi'nin Divanü'l-Haraç ve Divanü'l-Cünd'ün başkanıdır.

5. Şiilere göre Hz. Peygamber'in vasisi, aşağıdakilerden hangisidir?

- A) Ömer bin Abdülaziz
- B) İmam Ebu Hanife
- C) Ebu Abbas
- D) Hz. Ali

6. Abbasi Devleti'nin toprakları üzerinde ortaya çıkan bölgesel yönetimlerle, bu yönetimlerin kurulduğu coğrafi bölgeler, aşağıda eşleştirilmiştir.

**Bu eşleştirmelerden hangisi yanlıştır?**

- A) Suriye ve El-Cezire = Hamdaniler
- B) Kuzey Afrika = Ağlebiler
- C) Mısır = Tahiriler
- D) Sistan = Saffariler

7. Tarihçiler, "Kerbela'dan sonra - - - - daha şiddetli ve daha acı bir facia yaktır." demişlerdir.

**Verilen cümlede boş bırakılan yere, aşağıdakilerden hangisi yazılmalıdır?**

- A) Şam'dan
- B) Fah'dan
- C) Basra'dan
- D) Bağdat'tan

8. Araplar tarafından aşağıdakilerden hangisi "el Kubbetü't - Türkiyye" diye adlandırılmıştır?

- A) Türk çadırı
- B) Samarra kenti
- C) Topkapı Sarayı
- D) İstanbul'daki Ayasofya

9. Talas Savaşı sonrasında Arapların aşağıdaki hangi Türk boyuyla ilişkileri dostça gelişmemiştir?

- A) Karluklarla
- B) Kıpçaklarla
- C) Akhunlarla
- D) Hazarlarla

10. Oğuzlar arasında İslamiyet kaçınıcı yüzyılda hâkim bir din hâline gelmiştir?

- A) 8. yy
- B) 9. yy
- C) 10. yy
- D) 11. yy

11. Tarihte Müslüman toplumlarıdaki insanlar inanış yönünden kaç gruba ayrılmıştır?

- A) 2
- B) 4
- C) 5
- D) 7

12. Dinî literatürde "yıldızlara tapanlara" verilen isim, aşağıdakilerden hangisidir?

- A) Mani
- B) Musevi
- C) Sâbii
- D) Mecusi

13. İlk dönemlerde ilim adamlarının ders halkaları öncelikle nerelerde oluşturulmuştur?

- A) Camilerde
- B) Saraylarda
- C) Kahvehanelerde
- D) Bağ ve bahçelerde

14. İslam Devleti'nin kullandığı paralar üzerinde ilk tasarrufu (paralar üzerinde değişiklikler yapıp yeniden bastırma) yapan halife, aşağıdaki halifelerden hangisidir?

- A) Hz. Ali
- B) Hz. Ömer
- C) Hz. Osman
- D) Hz. Ebu Bekir

15. Aşağıdaki İslamî terimlerden hangisi diğerlerinden farklıdır?

- A) Siyer
- B) Fıkıh
- C) Zekât
- D) Kelam

16. Hat sanatı özellikle aşağıdaki sanatlardan hangisiyle iç içedir?

- A) Çini
- B) Heykel
- C) Minyatür
- D) Tezhip

17. Osmanlılarda "baş vezir"e ne ad verilir?

- A) Sadrazam
- B) Cebecibaşı
- C) Padişah
- D) Reisülküttap

18. Afrika kıtasında bulunan bazı ülkeler, başkentleriyle aşağıda eşleştirilmiştir.

**Bu eşleştirmelerden hangisi doğrudur?**

- A) Tunus - Rabat
- B) Somali - Cibuti
- C) Sudan - Hartum
- D) Etiyopya - Trablus

19. "Uzun yüzyıllar içerisinde İslam toplumları arasında çeşitli parçalanmalar, politik ve fikrî ayrılmalar olmuşsa da, Müslümanların birliğini; Emeviler Dönemi'nde - - I - - , Abbasiler Dönemi'nde - - II - - ve Osmanlılar zamanında da - - III - - şehirleri temsil etmiştir."

**Verilen bilgi cümlesinin doğru olabilmesi için numaralandırılarak boş bırakılan yerlere aşağıdakilerden hangisi getirilmelidir?**

	I	II	III
A)	Kahire	Kabil	İstanbul
B)	Şam	Bağdat	İstanbul
C)	Mekke	Tahrân	Edirne
D)	İskenderiye	Medine	Konya

20. Mısır halkından olan kimselere verilen isim aşağıdakilerden hangisidir?

- A) Zerdüş
- B) Hacip
- C) Kıpti
- D) Mevali



## 2. OTURUM

(931) SİYER – 1

1. Aşağıdakilerden hangisinde siyerin konusu tam olarak verilmiştir?

- A) Hz. Muhammed (sav.)'in peygamberlik dönemini kapsar.
- B) Hz. Muhammed (sav.)'in doğumundan vefatına kadar geçen süredir.
- C) Hz. Muhammed (sav.)'in çocukluk ve gençlik dönemidir.
- D) Hz. Muhammed (sav.)'in hicretini ve savaşlarını içine alır.

2. İslam öncesi Arap yarımadasında şehirlerdeki kabile meclisine verilen isim aşağıdakilerden hangisidir?

- A) Mele
- B) Bedevi
- C) Hadari
- D) Mevali

3. Aşağıdakilerden hangisi Kâbe'nin isimlerinden biri değildir?

- A) Beytül - Hikme
- B) Beytül - Haram
- C) Beytül - Mamur
- D) Beytül - Atik

4. Hz. Muhammed (sav.)'in doğum tarihi aşağıdakilerden hangisidir?

- A) 10 Rebiulahir 570
- B) 12 Rebiülevvel 571
- C) 10 Zilhicce 570
- D) 12 Zilkade 571

5. Hz. Muhammed (sav.)'in peygamberlik öncesi hayatıyla ilgili aşağıdakilerden hangisi söylenemez?

- A) Yetim ve fakirleri gözetirdi.
- B) İnsan haklarına saygılıydı.
- C) Ticaret hayatında başarılı ve güven vericiydi.
- D) Yaşadığı toplumun ahlakını benimsemişti.

6. Habeşistan'a hicret eden ilk kabilede Hz. Peygamberin kızlarından hangisi yer almıştır?

- A) Hz. Zeynep
- B) Hz. Fatıma
- C) Hz. Rukiye
- D) Hz. Ümmü Gülsüm

7. Hz. Muhammed (sav.) ile ilgili verilen bilgilerden hangisi yanlıştır?

- A) Amcası Ebu Lehep ile ticari yolculuk yapmıştır.
- B) Kabe hakemiğiyle toplumsal barışa katkı sağlamıştır.
- C) Hz. Hatice'nin vefatına kadar başka biri ile evlenmemiştir.
- D) Kendisine vahiy gelmeden önce de Tevhit inancına sahiptir.

8. Aşağıdakilerden hangisi eski devirlerde yaşamış Arab-ı bâide denen ve Kur'an'da da ismi geçen kavimlerden biri değildir?

- A) Âd
- B) Semûd
- C) Medyen
- D) Cürhüm

9. Habeşistan'a yapılan hicretlere aşağıdaki sahabelerden hangisi katılmamıştır?

- A) Osman b. Affan
- B) Zübeyr b. Avvam
- C) Ali b. Ebi Talib
- D) Cafer b. Ebi Talib

10. İsra ve Miraç olayının gerçekleştiği tarih aşağıdakilerden hangisidir?

- A) 27 Muharrem 622
- B) 27 Şaban 619
- C) 27 Ramazan 620
- D) 27 Recep 621

11. 620 yılında Akabe mevkiinde Hz. Muhammed (sav.)'le görüşüp İslam'ı kabul eden altı kişilik Medineli grup hangi kabiledeydi?

- A) Evs
- B) Hazreç
- C) Ben-i Nadir
- D) Ben-i Kaynuka

12. El-Müsned isimli hadis kitabı aşağıdaki âlimlerden hangisine aittir?

- A) Ahmed b. Hanbel
- B) Malik b. Enes
- C) Ebu Davud
- D) İbn Mace

13. Aşağıdakilerden hangisi Mekkeli müşriklerin İslam'ı reddetmelerinin nedenlerinden biri değildir?

- A) Ahiret inancını kabul etmek istememeleri
- B) Eski inançları ve atalarına olan bağlılıkları
- C) Mekke'yi terk etmek istememeleri
- D) İslam'ın getirdiği eşitlik anlayışının sosyal dengeleri değiştirmesinden rahatsız olmaları

14. İslam öncesinde Arap yarımadasının Mekke, Taif ve Medine şehirlerinde aşağıdaki inançlardan hangisi daha çok yaygındır?

- A) Hristiyanlık
- B) Yahudilik
- C) Mecusilik
- D) Putperestlik

15. Arap yarımadasında köy, kasa ve şehirlerde yerleşik hayat yaşayanlara ne denir?

- A) Mevalî
- B) Bedevî
- C) Hadarî
- D) İbranî

16. İslam öncesi Hicaz bölgesinde kadınların konumları hakkında verilen bilgilerden hangisi yanlıştır?

- A) Hür kadınlar erkeklere denk değildir.
- B) Hür kadınlar cariyelerden üstündürlük.
- C) Hürler ve cariyeler olmak üzere iki sınıftır.
- D) Hür kadınlar mirastan erkeklerin yarısı kadar pay alırlar.

17. Fil olayı esnasında Mekke'nin reisi aşağıdakilerden hangisidir?

- A) Abdulmuttalip
- B) Ebu Talip
- C) Kusay
- D) Haşim

18. Aşağıdakilerden hangisi Hz. Peygambere vahiy geldikten sonra gerçekleşmiştir?

- A) Hz. Ayşe ile evlenmesi
- B) Hilfu'l-Fudul'a katılması
- C) Ficar savaşına katılması
- D) Amcasıyla ticaret yapması

## 2. OTURUM

19. Hz. Muhammed (sav.) çocukluğunu yanında geçirdiği Ebu Talib'in hanımı Fatıma binti Esed'i ve dadısı Ümmü Eymen'i her zaman hayırla yâd etmiş ve onlarla ilgilenmiştir.

**Hz. Peygamberin bu davranışı onun hangi özelliğini ön plana çıkarmaktadır?**

- A) Doğruluğunu
- B) Güvenirliğini
- C) Vefakârlığını
- D) Cömertliğini

20. Hz. Muhammed (sav.) hangi olaydan sonra açıktan tebliğe başlamıştır?

- A) Taif yolculuğundan sonra
- B) Hz. Ömer'in Müslüman olmasıyla
- C) İlk vahyin gelmesiyle
- D) Hz Hatice'nin vefatıyla

(932) SİYER – 2

1. Hendek savaşında hendek kazma fikrini ortaya atan sahabe aşağıdakilerden hangisidir?

- A) Selman-ı Farisi
- B) Hz. Ebubekir
- C) Hz. Ömer
- D) Halid b. Velid

2. Hz. Muhammed (sav.)'in katıldığı son sefer aşağıdakilerden hangisidir?

- A) Taif Kuşatması
- B) Tebuk Seferi
- C) Kureyzoğulları Seferi
- D) Mustalikoğulları Seferi

3. Müslümanların Medine'de toplumsal konuları konuşup karara bağladığı yer aşağıdakilerden hangisidir?

- A) Darun Nedve
- B) Daru'l - Erkam
- C) Mescid-i Dırar
- D) Mescid-i Nebevi

4. Medine'de ensar ve muhacirler arasındaki kardeşleştirme uygulamasının asıl amacı aşağıdakilerden hangisidir?

- A) Müslümanlar arasındaki kabile ayrımlarına son vermek
- B) Müslümanlar arasındaki kan davalarını ortadan kaldırmak
- C) Müslümanlar arasında yardımlaşma ve dayanışma sağlamak
- D) Ensar'ın İslam dinine uyum sağlamasını kolaylaştırmak

5. Aşağıdakilerden hangisi Medine Sözleşmesi'nin amaçlarından biri değildir?

- A) İdari birliği sağlamak.
- B) Dini birliği sağlamak.
- C) Toplumsal huzuru sağlamak.
- D) Müslümanların güvenliğini sağlamak.

6. Aşağıdakilerden hangisi Mekke'nin fethinde yaşanan olaylardan değildir?

- A) Şehir savaş yapılmadan alındı.
- B) Hz. Muhammed (sav.)'in emriyle Kâbe putlardan temizlendi.
- C) Mekke'de ilk ezan Bilal-i Habeşi tarafından okundu.
- D) Mekkeli müşriklerin malları ganimet olarak Müslümanlara dağıtıldı.

7. "Ey iman edenler! Allah'ın size olan nimetinin anın. Hani üzerinize düşman orduları gelmiş, biz de onların üzerine rüzgar ve göndermediğiniz ordular göndermiştik..." (Ahzab Suresi, 9. ayet)

**Bu ayette anlatılan olay hangi savaşta gerçekleşmiştir?**

- A) Hendek
- B) Bedir
- C) Uhud
- D) Hayber

8. "Senetü'l - Vüfud" kavramıyla İslam tarihinde aşağıdakilerden hangisi kastedilmiştir?

- A) Savaş yılı
- B) Hüzün yılı
- C) Fetihler yılı
- D) Heyetler yılı

9. Aşağıdakilerden hangisi Uhud Savaşının sonuçlarından değildir?

- A) Medine'deki Müslümanların can güvenliği tehlikeye girmiştir.
- B) Müslümanlardan Musab b. Umeyr ve Hz. Hamza şehit olmuştur.
- C) Müşrikler bir çok esir ve ganimet elde etmiştir.
- D) Bu savaş müşriklerin cesareti ni artırmıştır.

10. Hz. Muhammed (sav.) Kur'an-ı Kerim'de "Ümmi" bir peygamber olarak vasıflandırılmıştır. Bununla aşağıdakilerden hangisi anlatılmak istenmiştir?

- A) Okuma - yazma bilmediği
- B) Kendisinin bir beşer olduğu
- C) Son peygamber olduğu
- D) İnsanlar için rahmet olduğu

11. Müslümanlar Hayber'de kimlere karşı savaşmıştır?

- A) Hristiyanlar
- B) Yahudiler
- C) Mecusiler
- D) Putperestler

12. Hz. Peygamber, İslam'a davet mektubu gönderdiği ülke krallarından hangisinin ölümü üzerine gıyabi cenaze namazı kılmıştır?

- A) Bizans İmparatoru Herakliyus
- B) Habeş Kralı Necaşi
- C) İran Kısrası Perviz
- D) Mısır Mukavkısı

13. Hz. Peygamber, davasından vazgeçmesi karşılığında kendisine teklif edilen dünyalıkları kabul etmemiştir. "Güneş'i sağ elime, Ay'ı sol elime verseler yine de bu davamdan vazgeçmem" demiştir.

**Bu olayda Hz. Peygamberin hangi özelliği öne çıkmaktadır?**

- A) Diğerkamılığı
- B) Merhameti
- C) Kararlılığı
- D) Adaleti

## 2. OTURUM

14. Hz. Peygamberin yaptırdığı ilk nüfus sayımında Medine'deki Müslümanların sayısı ne kadar çıkmıştır?

- A) On bin B) Yedi bin  
C) Üç bin D) Bin beşyüz

15. Hz. Muhammed (sav.) aşağıdaki konulardan hangisi hakkında kesin bir bilgi vermemiştir?

- A) Namazların kaç rekât olduğu  
B) İbadetlerin yapılaş şekilleri  
C) Kıyametin kopacağı saati  
D) Kimlerin zekât vereceği

16. Mescid-i Nebi'nin aşağıdaki fonksiyonlarından hangisi günümüzde devam etmemektedir?

- A) İlim öğretilmesi  
B) İbadet yeri olması  
C) Vaaz ve sohbet edilmesi  
D) Devlet işlerinin yürütülmesi

17. Ahzâb suresinin 33. ayeti nazil olunca Hz. Peygamber yanında bulunan yakınlarını kollarının altına alarak "Allah'ım, bunlar benim Ehl-i Beyt'imdir. Onları günahlarından temizle" demiştir.

Aşağıdakilerden hangisi bu olayda orada bulunanlardan biri değildir?

- A) Hz. Hatice B) Hz. Fatıma  
C) Hz. Hasan D) Hz. Hüseyin

18. Kâbe'nin tamiri esnasında çıkan anlaşmazlıkta Hz. Muhammed (sav.)'in hakem olması, tarafları sevindirmişti.

Onları sevindiren Hz. Muhammed (sav.)'in hangi özelliğidir?

- A) Sabrı  
B) Adaleti  
C) Cesareti  
D) Merhameti

19. Hz. Muhammed (sav.)'in hayatında kardeşleştirme diye bilinen "muahat" üç kez yapılmıştır.

Aşağıdakilerden hangisi bunlardan biri değildir?

- A) Muhacir ve Ensar'ın kardeşleştirilmesi  
B) Evs ve Hazreç kabilelerinin kardeşleştirilmesi  
C) Müslümanlarla Ehli Kitabın kardeşleştirilmesi  
D) İslam ilk yıllarında Müslümanların kardeşleştirilmesi

20. Aşağıdakilerden hangisi Medine Sözleşmesi'ne gerek duyulmasının nedenlerinden biri değildir?

- A) Şehrin savunmasını sağlamak  
B) Medine'de idari birliği sağlamak  
C) Müslümanların güvenliğini sağlamak  
D) Yahudilerin Mekke'ye göç etmelerini sağlamak

### (975) GİRİŞİMCİLİK – 2

1. Özel bir girişimcinin yapacağı yatırıma temel oluşturacak ön projelerin değerlendirilmesinde ana ölçüt, aşağıdakilerden hangisidir?

- A) İstihdam  
B) Üretimin temel süreçleri  
C) Projenin yöre için önemi  
D) Girişimin sağlayacağı kâr

2. Aşağıdakilerden hangisi fizibilite etüdünün yapılaş amaçlarındandır?

- A) Araştırma giderlerini artırmak  
B) İşletmenin hangi büyüklükte ve nerede kurulacağını belirlemek  
C) Prototip üretimi yapacak tesisi kurmak  
D) Müşterilerden gelen şikayetleri dinlemek

3. Aşağıdakilerden hangisi bir yatırım projesinin gelişim süreçlerinden biri değildir?

- A) Fabrikanın kurulması  
B) Proje fikrinin doğuşu  
C) Ön fizibilite etüdü  
D) Fizibilite etüdü

4. Aşağıdakilerden hangisi fizibilite etüdünün araştırma aşamalarındandır?

- A) İş planı  
B) Pazar stratejisi  
C) Araştırma-Geliştirme  
D) Örgütsel araştırmalar

5. Aşağıdakilerden hangisi girişimcilerin iş fikri geliştirme konusunda kullanabilecekleri başlıca yöntemlerden değildir?

- A) Rüyada görme  
B) Yeni bir iş fikri geliştirme  
C) Başkalarının iş fikirlerini model alma  
D) Başkalarından yeni iş fikirleri satın alma

6. Aşağıdakilerden hangisi iyi bir iş planının girişimciye sağlayacağı yararlarından biri değildir?

- A) Yatırım kararı almış girişimciye rehberlik eder.  
B) İşletmenin pazara yakınlığını sağlar.  
C) Girişimcilerin ve çalışanların dikkatini amaca yöneltir.  
D) İşletmenin pozisyonunu gösterir.

7. Aşağıdaki bilgilerden hangisi bir iş planının "Girişimcinin Kişisel Bilgileri" bölümünde yer alır?

- A) Gelir / Gider / Kaynak Analizleri  
B) Ürün / Hizmet Satış Planı  
C) İş Yeri Ruhsat Bilgileri  
D) Medeni Hâli

## 2. OTURUM

8. Mal ya da hizmetleri bireysel gereksinimleri için alanlara "son tüketici" denir.  
**Bu tanıma göre, aşağıdakilerden hangisi son tüketicidir?**

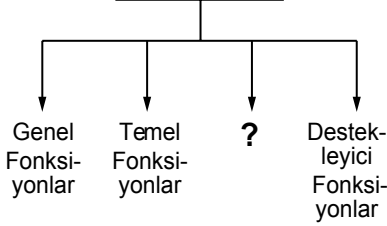
A) Normal insanlar  
B) Fabrikatörler  
C) Girişimciler  
D) Robotlar

9. Kâr amacıyla mal ve hizmet üretmek ya da pazarlamak için üretim faktörlerini bir araya getiren ekonomik birime - - - - denir.

**Verilen cümlede boş bırakılan yere, aşağıdakilerden hangisi yazılmalıdır?**

A) işletme B) finansman  
C) pazarlama D) tüccar

10. İşletmenin Temel Fonksiyonları



**Verilen şemada boş bırakılan yere aşağıdakilerden hangisi getirilmelidir?**

A) Kolaylaştırıcı Fonksiyonlar  
B) Sanatsal Fonksiyonlar  
C) Sanal Fonksiyonlar  
D) Dinî Fonksiyonlar

11. Bir kişinin araba satın alması aşağıdakilerden hangisine örnek teşkil eder?

A) Arz B) İstek  
C) Talep D) Piyasa

12. Verilen açıklamalardan hangisi işletmenin özel amaçlarından birisidir?

A) Kâr sağlamak  
B) Topluma hizmet etmek  
C) İşletmenin yaşamını devam ettirmek  
D) Tüketicide iyi izlenim bırakmak

13. Çevre ile ilgili kalite belgesi aşağıdakilerden hangisidir?

A) ISO 8000 B) ISO 9000  
C) ISO 14000 D) ISO 22000

14. Aşağıdakilerden hangisi karar vermenin özelliklerine uygun bir açıklama değildir?

A) Karar verme bir planın yapılmasıdır.  
B) Karar verme süreci geleceğe yöneliktir.  
C) Karar süreci rasyonelliğe dayanır.  
D) Karar verme sorun çözme sürecidir.

15. Aşağıdaki açıklamalardan hangisi, işletme yönetiminde başarılı bir yöneticinin "Harekete Geçiricilik" niteliğini göstermektedir?

A) Kişilere karşı güvenini gösterme  
B) Kişisel güveni ifade etme  
C) Tutarlı davranışlar gösterme  
D) Görüşlerini rahatça ifade edebilme

16. "Sermaye Paylara Bölünmüş Komandit Şirketler", özel işletmelere göre aşağıda yapılan sınıflamalardan hangisinin kapsamına girmektedir?

A) Ortaklıklar  
B) Kooperatifler  
C) Tek Kişi İşletmeleri  
D) Dernek ve Vakıfların İktisadi İşletmeleri

17. "Hizmet işletmesi reklamı" hangi reklam çeşidi kapsamında değerlendirilmelidir?

A) Reklam içeriği açısından  
B) Hedef kitle açısından  
C) Amaçlar açısından  
D) Yapanlar açısından

18. Bir şirketin diğer işletmelere ait hisse senetlerine sahip olması yolu ile onları finansal ve yönetim olarak kontrolüne alma biçimine ne ad verilir?

A) Tröst B) Kartel  
C) Holding D) Konsorsiyum

19. Satışın temel ilkelerine aykırı bir açıklama hangi seçenekte verilmiştir?

A) Pazar şartları bilinmelidir.  
B) Satış için tüm çabalar sarf edilmiştir.  
C) Satış, satıcıya göre düzenlenmelidir.  
D) Pazarlama elemanlarına uygun şartlar yaratılmalıdır.

20. Aşağıdakilerden hangisi kamu iktisadi kuruluşlarından birisidir?

A) Türkiye Kömür İşletmeleri  
B) Devlet Malzeme Ofisi  
C) Toprak Mahsulleri Ofisi  
D) Posta ve Telgraf Teşkilatı Genel Müdürlüğü

### (998) MATEMATİK - 1

1. Aşağıdaki kümelerden hangisi boş kümedir?

A)  $A = \{x | x < 5, x \in Z\}$   
B)  $B = \{x | 3 < 2x + 1 < 11, x \in N\}$   
C)  $C = \{x | 2x + 7 = 10, x \in R\}$   
D)  $D = \{x | x^2 = 5, x \in N\}$

2.  $A = \{a, b, \{a, b\}, \{c, d\}, e\}$  kümesinin alt küme sayısı kaçtır?

A) 16 B) 32  
C) 64 D) 128

3.  $A = \{x | x < 6, x \in Z^+\}$  kümesine eşit olan küme aşağıdakilerden hangisidir?

A)  $K = \{0, 1, 2, 3, 4, 5, 6\}$   
B)  $L = \{0, 1, 2, 3, 4, 5\}$   
C)  $M = \{1, 2, 3, 4, 5\}$   
D)  $N = \{1, 2, 3, 4, 5, 6\}$

## 2. OTURUM

4. Satranç veya yüzme kurslarından en az birine katılan 50 kişilik öğrenci grubunda 32 kişi satranç, 27 kişi yüzme kursuna katılmaktadır. Bu öğrenci grubunda yalnız satranç kursuna katılan kaç kişi vardır?

- A) 20      B) 21  
C) 22      D) 23

5.  $(x + 4, 13) = (5, 2x + y + 3)$  olduğuna göre  $x + y$  kaçtır?

- A) 7      B) 8      C) 9      D) 10

6.  $M = \{1, a, 2, b, 3, c\}$  kümesi veriliyor.  $s(M \times N) = 24$  olduğuna göre  $N$  kümesinin eleman sayısı kaçtır?

- A) 4      B) 5      C) 6      D) 7

7.  $\frac{3\sqrt{2}}{7}$  sayısı aşağıdakilerden hangisi ile çarpılırsa sonuç bir rasyonel sayı olur?

- A)  $\frac{1}{3}$       B) 7  
C)  $\sqrt{\frac{8}{7}}$       D)  $\frac{1}{\sqrt{8}}$

8.  $|\sqrt{3} - 1| + |\sqrt{3} - \sqrt{5}| + |4 - \sqrt{5}|$  işleminin sonucu kaçtır?

- A)  $\sqrt{5}$       B)  $\sqrt{5} - \sqrt{3}$   
C) 3      D) 5

9.  $|2x - 3| < 5$  eşitsizliğini sağlayan kaç tam sayı değeri vardır?

- A) 4      B) 5      C) 6      D) 7

10.  $(-27)^3 \cdot (-3)^{-4}$  işleminin sonucu aşağıdakilerden hangisidir?

- A)  $3^7$       B)  $3^5$   
C)  $-3^{-5}$       D)  $-3^5$

11.  $(96)^2 \cdot (25)^5$  sayısı kaç basamaklıdır?

- A) 9      B) 10      C) 11      D) 12

12.  $\sqrt{108} + \sqrt{48} - \sqrt{12}$  işleminin sonucu kaçtır?

- A)  $12\sqrt{3}$       B)  $10\sqrt{3}$   
C)  $8\sqrt{3}$       D)  $6\sqrt{3}$

13. 40 kişilik bir sınıftaki erkek öğrencilerin sayısının kız öğrencilerin sayısına oranı  $\frac{2}{3}$ 'tür.

Buna göre bu sınıfta kaç kız öğrenci vardır?

- A) 18      B) 20      C) 22      D) 24

14.  $7(x - 2) - 2(x + 1) = 3(x - 1) + 2x$  denkleminin gerçekte sayılar kümesindeki çözüm kümesi aşağıdakilerden hangisidir?

- A)  $\{ \}$       B)  $\{-5\}$   
C)  $\{0\}$       D)  $\{5\}$

15.  $\begin{cases} 3x - 2y = 6 \\ x + y = 2 \end{cases}$  denklem

sisteminin çözüm kümesi aşağıdakilerden hangisidir?

- A)  $\{(1, 1)\}$       B)  $\{(2, 0)\}$   
C)  $\{(3, -1)\}$       D)  $\{(4, -2)\}$

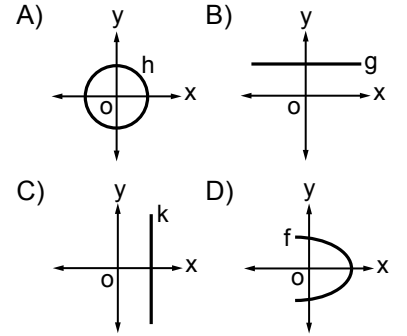
16. Bir babanın bugünkü yaşı oğlunun bugünkü yaşının 3 katına eşittir. 13 yıl sonra babanın yaşı oğlunun yaşının 2 katına eşit olacağına göre babanın bugünkü yaşı kaçtır?

- A) 42      B) 39      C) 36      D) 33

17. A ve B şehirleri arasındaki uzaklık 300 kilometredir. A şehrinden saatteki hızı 80 km ve B şehrinden saatteki hızı 70 km olan iki araç birbirlerine doğru aynı anda hareket ediyorlar. Buna göre bu araçlar B şehrinden kaç kilometre uzakta karşılaşırlar?

- A) 140      B) 150  
C) 180      D) 200

18. Aşağıda grafikleri verilen bağıntılardan hangisi bir fonksiyon grafiğidir?



19.  $f: \mathbb{R} \rightarrow \mathbb{R}$  ve  $f(x - 3) = 2x - 9$  olduğuna göre  $f(5)$  kaçtır?

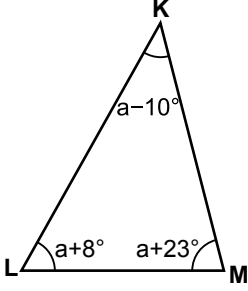
- A) 7      B) 1      C) -3      D) -5

20.  $f: \mathbb{R} \rightarrow \mathbb{R}$ ,  $f(x) = (m - 5)x^2 + nx$  fonksiyonu birim fonksiyon olduğuna göre  $m + n$  kaçtır?

- A) 4      B) 5      C) 6      D) 7

2. OTURUM

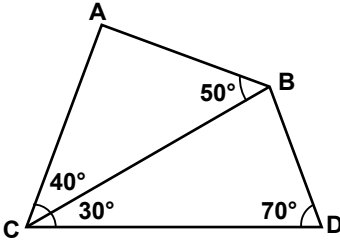
1.



Şekildeki KLM üçgeninde  $m(\widehat{MKL}) = a - 10^\circ$ ,  $m(\widehat{KLM}) = a + 8^\circ$  ve  $m(\widehat{LMK}) = a + 23^\circ$  olduğuna göre  $a$  kaç derecedir?

- A) 51 B) 52 C) 53 D) 54

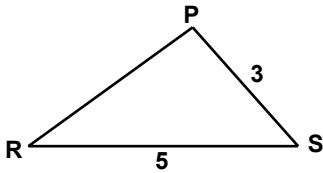
2.



Şekilde  $m(\widehat{ACB}) = 40^\circ$ ,  $m(\widehat{CBA}) = 50^\circ$ ,  $m(\widehat{BCD}) = 30^\circ$  ve  $m(\widehat{CDB}) = 70^\circ$  olduğuna göre en uzun kenar aşağıdaki-lerden hangisidir?

- A) [AB] B) [BC]  
C) [CA] D) [DC]

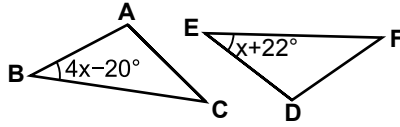
3.



Şekildeki PRS üçgeninde  $|RS| = 5$  cm ve  $|SP| = 3$  cm olduğuna göre  $|PR|$ 'nin santimetre cinsinden alabileceği tam sayı değerlerinin toplamı kaçtır?

- A) 25 B) 18 C) 12 D) 7

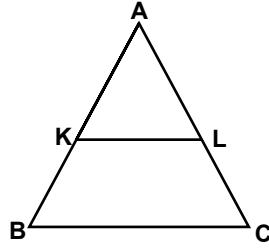
4.



Şekildeki ABC ve DEF üçgenleri için  $\widehat{ABC} \cong \widehat{DEF}$ 'tir.  $m(\widehat{ABC}) = 4x - 20^\circ$  ve  $m(\widehat{DEF}) = x + 22^\circ$  olduğuna göre  $x$  kaç derecedir?

- A) 12 B) 13 C) 14 D) 15

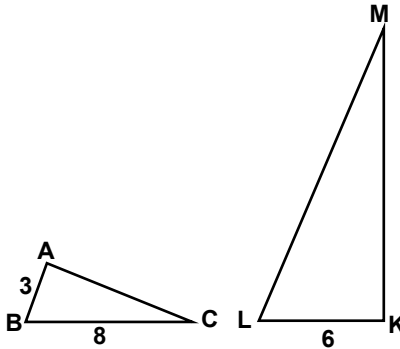
5.



Şekildeki ABC üçgeninde  $[KL] \parallel [BC]$ ,  $\frac{|AK|}{|KB|} = \frac{4}{3}$  ve  $|KL| = 20$  cm olduğuna göre  $|BC|$  kaç santimetredir?

- A) 42 B) 35 C) 30 D) 28

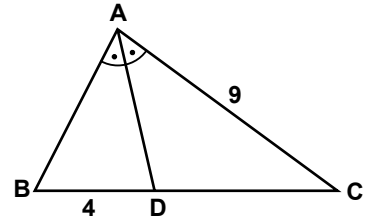
6.



Şekildeki ABC ve KLM üçgenleri için  $\widehat{ABC} \sim \widehat{KLM}$ 'dir.  $|AB| = 3$  cm,  $|BC| = 8$  cm ve  $|LK| = 6$  cm olduğuna göre  $|ML|$  kaç santimetredir?

- A) 9 B) 12 C) 15 D) 16

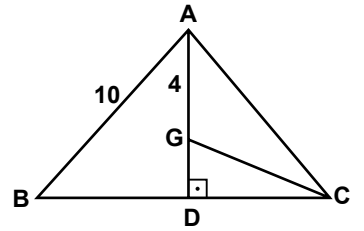
7.



Şekildeki ABC üçgeninde  $[AD]$ ,  $\widehat{BAC}$ 'nın açıortayıdır.  $|BD| = 4$  cm,  $|CA| = 9$  cm ve  $|AB| = |DC|$ 'tir. Buna göre  $|AB|$  kaç santimetredir?

- A) 4 B) 5 C) 6 D) 7

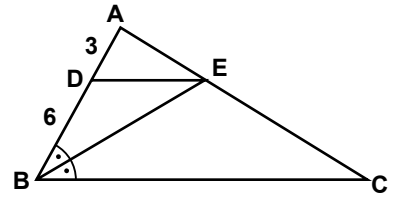
8.



Şekildeki ABC üçgeninin ağırlık merkezi G noktasıdır.  $[AD] \perp [BC]$ ,  $|AB| = 10$  cm ve  $|AG| = 4$  cm olduğuna göre  $|GC|$  kaç santimetredir?

- A) 10 B)  $2\sqrt{17}$   
C)  $\sqrt{14}$  D)  $\sqrt{10}$

9.

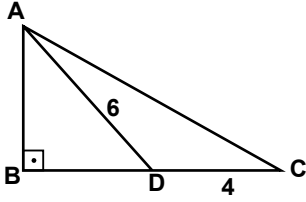


Şekildeki ABC üçgeninde,  $[BE]$ ,  $\widehat{ABC}$ 'nin açıortayıdır.  $[DE] \parallel [BC]$ ,  $|AD| = 3$  cm ve  $|DB| = 6$  cm olduğuna göre  $|BC|$  kaç santimetredir?

- A) 6 B) 9 C) 12 D) 18

## 2. OTURUM

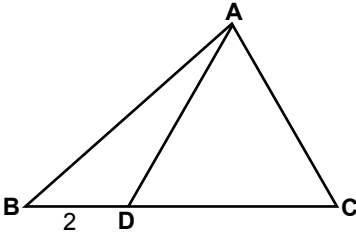
10.



Şekildeki ABC dik üçgeninde,  $|BD| = |DC|$ ,  $|AD| = 6$  cm ve  $|DC| = 4$  cm olduğuna göre  $|AC|$  kaç santimetredir?

- A)  $2\sqrt{5}$       B)  $2\sqrt{7}$   
C)  $2\sqrt{13}$      D)  $2\sqrt{21}$

11.



Şekildeki ADC üçgeni eşkenar üçgendir.  $|BD| = 2$  cm ve  $|BC| = 6$  cm olduğuna göre  $|AB|$  kaç santimetredir?

- A)  $\sqrt{7}$       B)  $2\sqrt{7}$   
C)  $4\sqrt{2}$      D)  $\sqrt{35}$

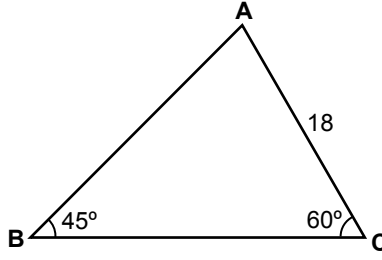
12.  $\cos 320^\circ$ ,  $\sin 190^\circ$ ,  $\cot 200^\circ$  ve  $\tan 140^\circ$  değerlerinin işaretleri sırasıyla aşağıdakilerden hangisinde verilmiştir?

- A) +, +, -, -      B) -, +, -, +  
C) +, -, +, -      D) -, -, +, +

13.  $\sin 150^\circ + \tan 45^\circ$  kaçtır?

- A)  $\frac{1}{2}$       B)  $\frac{3}{2}$   
C)  $\frac{\sqrt{3}+2}{2}$     D)  $\frac{\sqrt{3}-2}{2}$

14.



Şekildeki ABC üçgeninde  $m(\widehat{ABC}) = 45^\circ$ ,  $m(\widehat{ACB}) = 60^\circ$  ve  $|AC| = 18$  cm olduğuna göre  $|AB|$  kaç santimetredir?

- A)  $9\sqrt{6}$       B)  $9\sqrt{3}$   
C)  $9\sqrt{2}$       D) 9

15. Bir ABC üçgeninde

$|AB| = 6$  cm,  $|BC| = 8$  cm ve  $|AC| = 10$  cm olduğuna göre  $A(\widehat{ABC})$  kaç santimetrekaredir?

- A) 24    B) 20    C) 12    D) 10

16. K, L, N, P, R noktaları aynı düzlemde bulunan farklı noktalarıdır. Buna göre,  $\overrightarrow{KL} + \overrightarrow{LN} + \overrightarrow{NR} + \overrightarrow{RP}$  aşağıdaki vektörlerden hangisine eşittir?

- A)  $\overrightarrow{KR}$     B)  $\overrightarrow{KP}$     C)  $\overrightarrow{KN}$     D)  $\overrightarrow{KL}$

17. M(-7) ve N(4) noktaları veriliyor. Buna göre  $|\overrightarrow{MN}|$  kaç birimdir?

- A) 3    B) 6    C) 8    D) 11

18. 5, 6, 6, 2, 7, 3, 3, 9, 10 veri grubunun ortanca değeri kaçtır?

- A) 7    B) 6,5    C) 6    D) 5,5

19. Dört sayının aritmetik ortalaması 15'tir. Bu sayılardan üçünün aritmetik ortalaması 12 olduğuna göre dördüncü sayı kaçtır?

- A) 18    B) 20    C) 22    D) 24

20. Bir otobüste 10 erkek, 16 kadın yolcu vardır. Erkeklerin 4'ü, kadınların 8'i gözlüklüdür. Buna göre otobüsten inen bir yolcunun gözlüklü veya kadın olması olasılığı nedir?

- A)  $\frac{10}{13}$     B)  $\frac{15}{26}$     C)  $\frac{5}{13}$     D)  $\frac{5}{26}$

**TEST BİTTİ.  
CEVAPLARINIZI KONTROL EDİNİZ.**

### SINAV SÜRESİNCE UYULACAK KURALLAR

- 1. Adaylar, sınav kurallarına ve salon görevlilerinin tüm uyarılarına uymak zorundadır. Kural-lara ve uyarılara uymayan adayların sınavları geçersiz sayılacaktır.**
- 2. Sınav başladıktan sonra adayların salon görevlileri ve birbirleri ile konuşmaları; kalem, silgi vb. şeyleri istemeleri yasaktır.**
- 3. Adaylar sınav süresince, sınav giriş belgesi ile kimlik belgelerinden birini (nüfus cüzdanı, pasaport veya sürücü belgesi) masalarının üzerinde bulundurmamak zorundadır.**
- 4. Sınav evraklarını teslim etmeyen, soru kitapçıklarının sayfalarından bir kısmını eksik teslim edenlerin sınavları geçersiz sayılacaktır.**

### SALON GÖREVLİLERİNCE SINAV BAŞLAMADAN ÖNCE ADAYLARA YAPILACAK SON UYARILAR

- Soracağınız bir şey varsa şimdi sorunuz, sınav başladıktan sonra sorularınıza cevap verilmeyecektir.
- Başlama zilini bekleyiniz.

Hepinize başarılar dileriz.

(Salon başkanı başlama ve bitiş saatini tahtaya yazacaktır.)

**Bu kitapçığın her hakkı saklıdır. Hangi amaçla olursa olsun, kitapçığın tamamının veya bir kısmının Millî Eğitim Bakanlığı Ölçme, Değerlendirme ve Sınav Hizmetleri Genel Müdürlüğünün yazılı izni olmadan kopya edilmesi, fotoğraflarının çekilmesi, bilgisayar ortamına alınması, herhangi bir yolla çoğaltılması, yayımlanması veya başka bir amaçla kullanılması yasaktır. Bu yasağa uymayanlar, doğabilecek cezai sorumluluğu ve kitapçığın hazırlanmasındaki mali külfeti peşinen kabullenmiş sayılır.**



21 AĞUSTOS 2016 TARİHİNDE YAPILAN AÇIK ÖĞRETİM LİSESİ / MESLEKİ AÇIK ÖĞRETİM LİSESİ  
2015-2016 ÖĞRETİM YILI EK SINAVI 2. OTURUM T KİTAPÇIĞI CEVAP ANAHTARI

DİN KÜL.AHL.BİL. – 1	DİN KÜL.AHL.BİL. – 3	SEÇ. FELSEFE – 1	COĞRAFYA – 1
1. A	1. D	1. D	1. A
2. D	2. B	2. B	2. C
3. B	3. C	3. A	3. D
4. C	4. A	4. C	4. B
5. D	5. C	5. A	5. A
6. B	6. A	6. B	6. D
7. A	7. C	7. D	7. A
8. C	8. B	8. A	8. D
9. D	9. B	9. B	9. B
10. B	10. D	10. C	10. A
11. B	11. B	11. D	11. C
12. A	12. C	12. A	12. D
13. D	13. D	13. C	13. B
14. C	14. B	14. D	14. B
15. A	15. B	15. C	15. D
16. C	16. A	16. B	16. A
17. D	17. A	17. C	17. C
18. D	18. D	18. A	18. D
19. B	19. A	19. D	19. C
20. C	20. D	20. D	20. B

DİN KÜL.AHL.BİL. – 2	DİN KÜL.AHL.BİL. – 4	SEÇ. FELSEFE – 2	COĞRAFYA – 2
1. B	1. A	1. C	1. B
2. A	2. B	2. A	2. C
3. C	3. D	3. B	3. D
4. A	4. D	4. D	4. C
5. B	5. A	5. D	5. B
6. C	6. C	6. A	6. A
7. D	7. A	7. C	7. D
8. A	8. A	8. B	8. A
9. D	9. D	9. A	9. A
10. C	10. C	10. B	10. B
11. B	11. B	11. C	11. C
12. D	12. A	12. D	12. B
13. C	13. C	13. C	13. A
14. B	14. D	14. A	14. C
15. D	15. B	15. B	15. D
16. B	16. D	16. C	16. A
17. A	17. B	17. B	17. C
18. D	18. A	18. D	18. B
19. A	19. C	19. D	19. D
20. C	20. C	20. A	20. D

21 AĞUSTOS 2016 TARİHİNDE YAPILAN AÇIK ÖĞRETİM LİSESİ / MESLEKİ AÇIK ÖĞRETİM LİSESİ  
2015-2016 ÖĞRETİM YILI EK SINAVI 2. OTURUM T KİTAPÇIĞI CEVAP ANAHTARI

İNGİLİZCE – 1

1. A
2. D
3. D
4. C
5. A
6. C
7. B
8. A
9. C
10. B
11. D
12. A
13. B
14. C
15. B
16. C
17. A
18. C
19. D
20. A

FRANSIZCA – 1

1. D
2. A
3. B
4. C
5. B
6. C
7. D
8. A
9. C
10. D
11. A
12. B
13. A
14. C
15. D
16. B
17. C
18. A
19. D
20. C

ALMANCA – 2

1. A
2. B
3. A
4. A
5. C
6. C
7. B
8. C
9. B
10. C
11. D
12. A
13. A
14. D
15. D
16. B
17. D
18. C
19. B
20. D

DİL ve ANLATIM – 1

1. B
2. C
3. A
4. D
5. A
6. C
7. D
8. A
9. D
10. B
11. D
12. B
13. B
14. D
15. A
16. A
17. B
18. C
19. C
20. D

ALMANCA – 1

1. B
2. A
3. C
4. A
5. D
6. B
7. C
8. B
9. D
10. C
11. A
12. D
13. C
14. D
15. D
16. A
17. C
18. D
19. A
20. B

İNGİLİZCE – 2

1. B
2. C
3. A
4. C
5. D
6. C
7. B
8. A
9. C
10. D
11. A
12. C
13. A
14. D
15. A
16. C
17. D
18. A
19. B
20. B

FRANSIZCA – 2

1. A
2. B
3. D
4. C
5. C
6. A
7. D
8. B
9. B
10. A
11. D
12. C
13. D
14. C
15. A
16. B
17. C
18. D
19. B
20. C

DİL ve ANLATIM – 2

1. A
2. A
3. A
4. C
5. A
6. D
7. A
8. C
9. D
10. C
11. C
12. A
13. D
14. D
15. B
16. D
17. C
18. B
19. D
20. B

21 AĞUSTOS 2016 TARİHİNDE YAPILAN AÇIK ÖĞRETİM LİSESİ / MESLEKİ AÇIK ÖĞRETİM LİSESİ  
2015-2016 ÖĞRETİM YILI EK SINAVI 2. OTURUM T KİTAPÇIĞI CEVAP ANAHTARI

TÜRK EDEBİYATI – 1	FİZİK – 1	FİZİK – 3	KİMYA – 3
1. D	1. C	1. D	1. C
2. A	2. D	2. A	2. D
3. C	3. C	3. D	3. B
4. D	4. B	4. C	4. A
5. C	5. D	5. A	5. B
6. A	6. A	6. A	6. A
7. D	7. C	7. B	7. D
8. C	8. B	8. C	8. C
9. C	9. C	9. B	9. D
10. B	10. B	10. A	10. C
11. A	11. D	11. D	11. D
12. B	12. C	12. C	12. A
13. C	13. D	13. D	13. C
14. D	14. A	14. C	14. B
15. B	15. D	15. C	15. C
16. A	16. A	16. A	16. D
17. C	17. B	17. B	17. A
18. D	18. D	18. B	18. B
19. B	19. A	19. D	19. C
20. A	20. B	20. B	20. D

TÜRK EDEBİYATI – 2	FİZİK – 2	FİZİK – 4	KİMYA – 4
1. C	1. C	1. A	1. D
2. C	2. A	2. C	2. C
3. A	3. B	3. A	3. A
4. A	4. A	4. D	4. D
5. C	5. B	5. C	5. A
6. C	6. D	6. B	6. B
7. B	7. C	7. B	7. D
8. D	8. A	8. B	8. D
9. B	9. D	9. C	9. C
10. A	10. C	10. B	10. B
11. C	11. D	11. D	11. A
12. D	12. B	12. A	12. B
13. B	13. B	13. D	13. A
14. C	14. A	14. C	14. D
15. A	15. D	15. D	15. A
16. C	16. A	16. C	16. B
17. D	17. C	17. B	17. B
18. B	18. D	18. C	18. A
19. A	19. D	19. A	19. C
20. D	20. A	20. A	20. D

21 AĞUSTOS 2016 TARİHİNDE YAPILAN AÇIK ÖĞRETİM LİSESİ / MESLEKİ AÇIK ÖĞRETİM LİSESİ  
2015-2016 ÖĞRETİM YILI EK SINAVI 2. OTURUM T KİTAPÇIĞI CEVAP ANAHTARI

BİYOLOJİ – 3

1. A
2. C
3. D
4. B
5. C
6. A
7. D
8. A
9. A
10. D
11. A
12. C
13. A
14. D
15. A
16. C
17. A
18. D
19. B
20. D

ÇAĞ. TÜRK DÜN. TAR. – 1

1. D
2. A
3. C
4. C
5. B
6. A
7. D
8. D
9. A
10. C
11. B
12. D
13. C
14. A
15. B
16. A
17. D
18. A
19. C
20. B

EKONOMİ – 1

1. A
2. B
3. D
4. D
5. D
6. A
7. D
8. A
9. B
10. B
11. C
12. D
13. C
14. A
15. A
16. B
17. A
18. B
19. C
20. D

İŞLETME – 1

1. B
2. B
3. D
4. A
5. C
6. C
7. D
8. A
9. B
10. D
11. D
12. A
13. B
14. D
15. B
16. B
17. A
18. C
19. B
20. A

BİYOLOJİ – 4

1. A
2. C
3. B
4. A
5. C
6. B
7. B
8. C
9. A
10. B
11. A
12. D
13. A
14. C
15. B
16. A
17. C
18. C
19. B
20. D

DEM. VE İNSAN HAK. – 1

1. A
2. C
3. D
4. C
5. B
6. A
7. D
8. D
9. C
10. C
11. D
12. B
13. C
14. B
15. A
16. B
17. D
18. A
19. B
20. A

EKONOMİ – 2

1. C
2. C
3. B
4. D
5. A
6. D
7. B
8. A
9. D
10. B
11. D
12. B
13. D
14. D
15. C
16. A
17. B
18. C
19. A
20. B

İŞLETME – 2

1. D
2. C
3. D
4. B
5. D
6. A
7. C
8. B
9. A
10. A
11. D
12. C
13. D
14. B
15. A
16. C
17. B
18. C
19. D
20. D

21 AĞUSTOS 2016 TARİHİNDE YAPILAN AÇIK ÖĞRETİM LİSESİ / MESLEKİ AÇIK ÖĞRETİM LİSESİ  
2015-2016 ÖĞRETİM YILI EK SINAVI 2. OTURUM T KİTAPÇIĞI CEVAP ANAHTARI

SANAT TARİHİ – 1	SEÇ. TARİH – 3	SEÇ. COĞRAFYA – 3	FIKİH – 1
1. D	1. B	1. C	1. C
2. A	2. C	2. A	2. A
3. C	3. B	3. C	3. C
4. B	4. A	4. B	4. D
5. A	5. C	5. B	5. B
6. D	6. D	6. D	6. A
7. B	7. C	7. D	7. A
8. A	8. D	8. A	8. D
9. B	9. B	9. B	9. B
10. A	10. A	10. D	10. D
11. B	11. C	11. D	11. B
12. B	12. A	12. D	12. C
13. D	13. B	13. B	13. D
14. B	14. D	14. B	14. C
15. D	15. D	15. A	15. B
16. A	16. A	16. A	16. A
17. C	17. D	17. C	17. D
18. C	18. C	18. B	18. B
19. D	19. D	19. A	19. B
20. D	20. B	20. D	20. C

SANAT TARİHİ – 2	SEÇ. TARİH – 4	SEÇ. COĞRAFYA – 4	FIKİH – 2
1. D	1. D	1. C	1. B
2. A	2. C	2. A	2. C
3. B	3. B	3. D	3. A
4. C	4. A	4. A	4. D
5. D	5. D	5. B	5. C
6. A	6. C	6. C	6. D
7. B	7. B	7. C	7. B
8. D	8. A	8. A	8. A
9. C	9. B	9. B	9. B
10. C	10. D	10. D	10. D
11. A	11. D	11. A	11. B
12. B	12. C	12. D	12. A
13. D	13. A	13. B	13. C
14. C	14. B	14. D	14. D
15. B	15. A	15. B	15. C
16. A	16. D	16. C	16. B
17. C	17. A	17. C	17. A
18. D	18. B	18. B	18. B
19. B	19. C	19. D	19. D
20. B	20. B	20. A	20. C

21 AĞUSTOS 2016 TARİHİNDE YAPILAN AÇIK ÖĞRETİM LİSESİ / MESLEKİ AÇIK ÖĞRETİM LİSESİ  
2015-2016 ÖĞRETİM YILI EK SINAVI 2. OTURUM T KİTAPÇIĞI CEVAP ANAHTARI

HZ. MUHAMMED'İN HAY. – 1

1. D
2. C
3. A
4. A
5. C
6. A
7. D
8. B
9. A
10. D
11. C
12. B
13. B
14. C
15. A
16. D
17. A
18. B
19. D
20. A

SEÇ. DİL VE ANLATIM – 3

1. C
2. D
3. B
4. D
5. B
6. C
7. A
8. C
9. B
10. C
11. B
12. B
13. D
14. A
15. A
16. D
17. B
18. C
19. B
20. A

SEÇ. DİL VE ANLATIM – 5

1. C
2. D
3. C
4. B
5. A
6. C
7. A
8. A
9. B
10. C
11. D
12. B
13. D
14. A
15. B
16. D
17. B
18. A
19. D
20. A

SEÇ. DİL VE ANLATIM – 7

1. B
2. D
3. A
4. D
5. A
6. A
7. D
8. D
9. D
10. C
11. C
12. B
13. D
14. C
15. D
16. B
17. C
18. A
19. A
20. B

HZ. MUHAMMED'İN HAY. – 2

1. B
2. D
3. C
4. D
5. B
6. A
7. C
8. A
9. A
10. D
11. B
12. C
13. D
14. C
15. A
16. B
17. D
18. C
19. A
20. D

SEÇ. DİL VE ANLATIM – 4

1. C
2. D
3. B
4. D
5. C
6. D
7. B
8. B
9. C
10. A
11. D
12. A
13. B
14. A
15. C
16. D
17. B
18. A
19. C
20. D

SEÇ. DİL VE ANLATIM – 6

1. C
2. B
3. C
4. B
5. B
6. D
7. D
8. C
9. A
10. B
11. A
12. A
13. A
14. C
15. A
16. C
17. B
18. D
19. B
20. A

SEÇ. DİL VE ANLATIM – 8

1. C
2. A
3. D
4. B
5. B
6. B
7. D
8. C
9. A
10. C
11. D
12. C
13. D
14. D
15. B
16. A
17. C
18. B
19. B
20. A

21 AĞUSTOS 2016 TARİHİNDE YAPILAN AÇIK ÖĞRETİM LİSESİ / MESLEKİ AÇIK ÖĞRETİM LİSESİ  
2015-2016 ÖĞRETİM YILI EK SINAVI 2. OTURUM T KİTAPÇIĞI CEVAP ANAHTARI

SEÇ. TÜRK EDEB. – 3	SEÇ. TÜRK EDEB. – 5	SEÇ. TÜRK EDEB. – 7	İSLAM TARİHİ – 1
1. B	1. C	1. A	1. B
2. A	2. D	2. B	2. C
3. D	3. B	3. D	3. A
4. C	4. B	4. B	4. D
5. A	5. A	5. C	5. D
6. B	6. A	6. A	6. B
7. A	7. B	7. D	7. C
8. B	8. C	8. A	8. D
9. D	9. B	9. C	9. C
10. C	10. C	10. B	10. B
11. D	11. A	11. B	11. D
12. A	12. B	12. C	12. A
13. A	13. A	13. A	13. B
14. C	14. D	14. D	14. B
15. C	15. B	15. B	15. C
16. B	16. A	16. D	16. A
17. C	17. C	17. D	17. B
18. B	18. D	18. B	18. D
19. A	19. D	19. A	19. C
20. C	20. B	20. C	20. A

SEÇ. TÜRK EDEB. – 4	SEÇ. TÜRK EDEB. – 6	SEÇ. TÜRK EDEB. – 8	İSLAM TARİHİ – 2
1. C	1. C	1. C	1. D
2. B	2. A	2. A	2. C
3. D	3. D	3. B	3. B
4. B	4. C	4. D	4. A
5. A	5. B	5. B	5. D
6. A	6. C	6. D	6. C
7. C	7. B	7. A	7. B
8. B	8. A	8. D	8. A
9. B	9. B	9. A	9. D
10. D	10. A	10. D	10. D
11. D	11. C	11. C	11. A
12. A	12. D	12. C	12. C
13. B	13. D	13. A	13. A
14. B	14. C	14. A	14. B
15. A	15. A	15. B	15. C
16. D	16. D	16. C	16. D
17. A	17. A	17. A	17. A
18. A	18. D	18. B	18. C
19. C	19. B	19. A	19. B
20. C	20. D	20. C	20. C

21 AĞUSTOS 2016 TARİHİNDE YAPILAN AÇIK ÖĞRETİM LİSESİ / MESLEKİ AÇIK ÖĞRETİM LİSESİ  
2015-2016 ÖĞRETİM YILI EK SINAVI 2. OTURUM T KİTAPÇIĞI CEVAP ANAHTARI

SİYER – 1

1. B
2. A
3. A
4. B
5. D
6. C
7. A
8. D
9. C
10. D
11. B
12. A
13. C
14. D
15. C
16. D
17. A
18. A
19. C
20. B

GİRİŞİMCİLİK – 2

1. D
2. B
3. B
4. C
5. A
6. B
7. D
8. A
9. A
10. A
11. C
12. D
13. C
14. A
15. B
16. A
17. D
18. C
19. C
20. D

MATEMATİK – 2

1. C
2. D
3. A
4. C
5. B
6. D
7. C
8. B
9. D
10. D
11. B
12. C
13. B
14. A
15. A
16. B
17. D
18. C
19. D
20. A

SİYER – 2

1. A
2. B
3. D
4. C
5. B
6. D
7. A
8. D
9. C
10. A
11. B
12. B
13. C
14. D
15. C
16. D
17. A
18. B
19. C
20. D

MATEMATİK – 1

1. D
2. B
3. C
4. D
5. C
6. A
7. D
8. C
9. A
10. D
11. C
12. C
13. D
14. A
15. B
16. B
17. A
18. B
19. A
20. C