

OTURUM

1



T.C.

MİLLÎ EĞİTİM BAKANLIĞI  
ÖLÇME, DEĞERLENDİRME VE SINAV HİZMETLERİ  
GENEL MÜDÜRLÜĞÜ  
AÇIK ÖĞRETİM LİSESİ / MESLEKİ AÇIKÖĞRETİM LİSESİ  
2014-2015 ÖĞRETİM YILI EK SINAV  
1. OTURUM: 12 EYLÜL 2015 Saat: 10.00

T

DERS KODU VE ADI	SAYFA	DERS KODU VE ADI	SAYFA	DERS KODU VE ADI	SAYFA
(115) DİN KÜL. AHL. BİL. - 5	2	(242) İNGİLİZCE - 3	35	(465) TEMEL DİNİ BİL. - 1	66
(116) DİN KÜL. AHL. BİL. - 6	3	(242) ALMANCA - 3	36	(466) TEMEL DİNİ BİL. - 2	67
(117) DİN KÜL. AHL. BİL. - 7	4	(242) FRANZIZCA - 3	37	(478) MANTIK - 1	69
(118) DİN KÜL. AHL. BİL. - 8	5	(243) İNGİLİZCE - 4	38	(479) MANTIK - 2	70
(121) FELSEFE - 1	6	(243) ALMANCA - 4	38	(483) SAĞLIK BİLGİSİ - 1	71
(122) FELSEFE - 2	8	(243) FRANZIZCA - 4	39	(484) SAĞLIK BİLGİSİ - 2	72
(131) TARİH - 1	10	(244) İNGİLİZCE - 5	40	(491) TRAF. VE İLK YARD. - 1	74
(132) TARİH - 2	11	(244) ALMANCA - 5	41	(492) TRAF. VE İLK YARD. - 2	75
(133) TARİH - 3	12	(244) FRANZIZCA - 5	42	(500) İNGİLİZCE - 6	77
(134) TARİH - 4	13	(403) DİL VE ANLATIM - 3	43	(500) ALMANCA - 6	78
(135) TARİH - 5	14	(404) DİL VE ANLATIM - 4	45	(500) FRANZIZCA - 6	79
(136) TARİH - 6	15	(405) DİL VE ANLATIM - 5	46	(501) İNGİLİZCE - 7	79
(141) T.C. İNK. TAR. VE ATA. - 1	16	(406) DİL VE ANLATIM - 6	48	(501) ALMANCA - 7	80
(142) T.C. İNK. TAR. VE ATA. - 2	18	(407) DİL VE ANLATIM - 7	49	(501) FRANZIZCA - 7	81
(153) COĞRAFYA - 3	19	(408) DİL VE ANLATIM - 8	50	(502) İNGİLİZCE - 8	82
(154) COĞRAFYA - 4	20	(413) TÜRK EDEBİYATI - 3	52	(502) ALMANCA - 8	83
(155) COĞRAFYA - 5	21	(414) TÜRK EDEBİYATI - 4	53	(502) FRANZIZCA - 8	84
(156) COĞRAFYA - 6	22	(415) TÜRK EDEBİYATI - 5	54	(533) HZ. MUHAMMED'İN HAY. - 3	85
(157) COĞRAFYA - 7	24	(416) TÜRK EDEBİYATI - 6	56	(534) HZ. MUHAMMED'İN HAY. - 4	87
(158) COĞRAFYA - 8	25	(417) TÜRK EDEBİYATI - 7	57	(608) DEMOKRASI ve İNS. HAK. - 2	88
(163) MATEMATİK - 3	26	(418) TÜRK EDEBİYATI - 8	58	(611) KARŞ. DİN. TAR. - 1	89
(164) MATEMATİK - 4	27	(431) KİMYA - 1	60	(612) KARŞ. DİN. TAR. - 2	91
(206) PSİKOLOJİ - 1	29	(432) KİMYA - 2	61	(811) KELAM - 1	92
(207) PSİKOLOJİ - 2	30	(441) BİYOLOJİ - 1	63	(812) KELAM - 2	93
(208) SOSYOLOJİ - 1	32	(442) BİYOLOJİ - 2	64	(974) GİRİŞİMCİLİK - 1	94
(209) SOSYOLOJİ - 2	33	(452) Ç. TÜRK ve DÜNYA TAR. - 2	65		

ADAYLARIN DİKKATİNE!

- Her ders için **20** soru bulunmaktadır. Bu oturumda **180** dakikalık cevaplama süreniz vardır. Sınav başladıktan sonra ilk **30** dakika dolmadan dışarı çıkmayınız.
- Sınav sırasında sözlük, hesap cetveli veya makinesi, çağrı cihazı, cep telefonu, telsiz, radyo gibi elektronik iletişim araçlarını yanınızda bulundurmuyunuz. Bu araçları kullanmanız ve kopya çekmeye teşebbüs etmeniz hâlinde sınavınız geçersiz sayılacaktır.
- Başvuru şartlarını taşımadığınız hâlde sınava girmeniz, kopya çekmeniz, başka adayın sınav evrakını kullanmanız, geçerli kimlik belgenizi ve sınav giriş belgenizi ibraz edemediğiniz durumlarda sınavınız geçersiz sayılacaktır.
- Sınavın değerlendirilmesi aşamasında, bilgisayar ortamında yapılan kopya analizinde ikili veya toplu kopya tespiti hâlinde sınavınız geçersiz sayılacaktır.

CEVAP KÂĞIDI VE SORU KİTAPÇIĞI İLE İLGİLİ AÇIKLAMALAR

- Cevap kâğıdınızdaki bilgilerin doğruluğunu kontrol ediniz ve cevap kâğıdınızı mürekkepli kalemle imzalayınız.
- Cevap kâğıdı üzerinde kodlamalarınızı kurşun kalemle yapınız.
- Değiştirmek istediğiniz bir cevabı, yumuşak silgiyle cevap kâğıdını örselemeden temizce siliniz ve yeni cevabınızı kodlayınız.
- Soru kitapçığının sayfalarını kontrol ediniz, baskı hatası var ise değiştirilmesini sağlayınız.
- Soruların çözümü için size ayrıca boş kâğıt verilmeyecektir. Soru kitapçığının içindeki boş alanları soru çözümleri için kullanabilirsiniz.
- Her sorunun dört seçeneğinden sadece biri doğrudur. Doğru seçeneği, cevap kâğıdınızın ilgili sütununa soru numarasını dikkate alarak yuvarlağın dışına taşırmadan kodlayınız. **Soru kitapçığı üzerinde yapılan cevaplandırmalar dikkate alınmayacaktır.**
- Cevaplamaya istediğiniz dersin sorusundan başlayabilirsiniz. Cevabını bilmediğiniz sorular üzerinde fazla zaman kaybetmeden diğer sorulara geçiniz. Zamanınız kalırsa bu sorulara daha sonra dönebilirsiniz.
- Yanlış cevaplarınız dikkate alınmadan sadece doğru cevaplarınız üzerinden puanlama yapılacaktır.
- Soruları ve sorulara verdiğiniz cevapları, yanınızda götürmek amacıyla kaydetmeyiniz; hiçbir şekilde dışarı çıkarmayınız.
- Sınav bitiminde, soru kitapçığı ve cevap kâğıdını salon görevlilerine teslim ediniz.**

**BAŞLAYINIZ DENİLMEYEN SORU KİTAPÇIĞINI AÇMAYINIZ.**

## 1. OTURUM

(115) DİN KÜL. AHL. BİL. – 5

1. “Başınıza gelen herhangi bir musibet, kendi ellerinizle işledikleriniz yüzündendir...”  
(Şûrâ suresi, 30. ayet)

**Bu ayette aşağıdakilerden hangisine işaret edilmektedir?**

- A) İnsan, kaderinde olanı yaşar.  
B) Musibetler Allah'ın takdiri iledir.  
C) İnsan kendine zarar vermemelidir.  
D) İnsanın kaderi, kendi iradesine göre şekillenir.

2. “... Bir konuda karar verince (artık) Allah'a güven. Zira Allah, ona güven duyanları sever.”  
(Âl-i İmran suresi, 159. ayet)

**Bu ayette vurgulanan husus aşağıdakilerden hangisidir?**

- A) Takdir      B) Rıza  
C) Tevekkül      D) Tedbir

3. Doğal afetlere kader açısından bakıldığında aşağıdakilerden hangisi **yanlıştır**?

- A) Gereken tedbirleri aldıktan sonra oluşan can ve mal kaybını “Allah'ın takdiri böyleymiş” diyerek karşılamak hatadır.  
B) Doğal afetlerden korunmak için her birey, imkânı ölçüsünde önlem almalıdır.  
C) Doğal afetlerin oluşma zamanı belirsizdir.  
D) Tabii afetler, insan iradesinin dışında gelişir.

4. Hz. Muhammed açıktan tebliğle emrolunduğunda Safa Tepesi'ne çıkmış ve şehir halkını oraya davet etmişti. Onlara: “Şayet ben size şu tepenin arkasında bir düşman var desem, inanır mısınız?” diye sorduğunda Mekkeliler; “Sen asla yalan söylemedin, senin söyleyeceğin her şeye inanırız” dediler.

**Mekkelilerin bu tepkisi**

**Hz. Muhammed'in hangi özelliğinin Peygamber olmadan önce de Mekkeliler tarafından kabul gördüğüne delildir?**

- A) Cesareti      B) Güvenilirliği  
C) Bilgili oluşu      D) Hoşgörüsü

5. “Ehl-i Beyt” ne anlama gelmektedir?

- A) Peygamberimizin ailesi ve torunları  
B) Peygamberimizin arkadaşları  
C) Peygamberimizin Vahiy Katipleri  
D) Peygamberimizle hicret eden sahabiler

6. Aşağıdakilerden hangisi İslam düşüncesindeki yorum farklılıklarının sebeplerinden biri **değildir**?

- A) Ortam ve kültür farklılığı  
B) Sosyal ve siyasi sebepler  
C) Hz. Peygamber dönemi siyasi olaylar  
D) İnsanın yapısındaki farklılıklar

7. Aşağıdakilerden hangisi siyasi-itikadi mezheplerden biridir?

- A) Haricilik      B) Hanefilik  
C) Şafilik      D) Malikilik

8. “Kim hidayet yolunu seçerse bunu ancak kendi iyiliği için seçmiş olur; kim de doğruluktan ayrılırsa kendisine zarar vermiş olur.”  
(İsra Suresi, 15. ayet)

**Bu ayette vurgulanan ana düşünce aşağıdakilerden hangisidir?**

- A) İyiliğin değeri  
B) İnsanın sorumluluğu  
C) Kadere teslimiyetin önemi  
D) Doğruluğun dinimizdeki yeri

9. İnsanın yaptıklarından sorumlu tutulmasının nedeni aşağıdakilerden hangisidir?

- A) Güçlü olması  
B) Çalışkan olması  
C) Akıllı olması  
D) Yetenekli olması

10. Aşağıdakilerden hangisi ibadetlerde samimiyet anlayışına uygun **düşmez**?

- A) Gösterişten uzak olmak.  
B) Allah'ın rızasını gözetmek.  
C) Maddi çıkar beklemek.  
D) İçtenlikle davranmak.

11. Aşağıdakilerden hangisi ibadetlerin bireysel faydalarından biri **değildir**?

- A) İmanı kuvvetlendirir.  
B) Güven duygusunu geliştirir.  
C) Sorumluluk bilincini geliştirir.  
D) Sosyal yardımlaşmayı teşvik eder.

12. Aşağıdakilerden hangisi peygamberlerin ortak sıfatlarından biri **değildir**?

- A) Doğru olmak.  
B) Okur - yazar olmak.  
C) Güvenilir olmak.  
D) Günahattan uzak olmak.

13. “İnsan kendi eylemlerinde tamamen özgürdür. Fiillerin yaratılmasında Allah'ın bir müdahalesi yoktur. Eğer insanın fiillerinin yaratıcısı Allah olsaydı, o zaman Allah'ın insanları cezalandırması anlamsız olurdu.”

**Bu düşünce mutezile mezhebinin temel görüşlerinden hangisini ifade etmektedir?**

- A) Tevhit  
B) Adalet  
C) El-Va'd ve'l-void  
D) El-Menziletü beyne'l-menzileteyn

14. Aşağıdakilerden hangisi tevekkül anlayışı kapsamında **değerlendirilemez**?

- A) Çiftçinin tarlayı sürüp ekmesi.  
B) Öğrencinin hazırlanıp sınava girmesi.  
C) Hastanın ilacını kullanması.  
D) Namaz kılanın abdest alması.

15. Hayır ve şer hakkında aşağıdakilerden hangisi **söylenemez**?

- A) Hayrı da şerri de Allah yaratır.  
B) İslam, insanı şerden uzaklaşmaya yöneltir.  
C) Allah, insanlara hayır olanı emretmiştir.  
D) Şer, Allah'ın iradesi ve takdiri dışında gerçekleşir.

16. Aşağıdakilerden hangisi ibadetlerde samimi ve içten olmayı ifade eden bir kavram **değildir**?

- A) Riya      B) Takva  
C) İhlas      D) İhsan

## 1. OTURUM

(116) DİN KÜL. AHL. BİL. – 6

17. Aşağıdakilerden hangisi ibadetlerdeki kolaylığa örnek verilemez?

- A) Su bulunmadığında teyemmüm ile abdest alınması
- B) Hasta veya yaşlılıktan dolayı ayakta duramayanların oturarak namaz kılması
- C) Zengin Müslümanların malının kırkta birini zekât olarak vermesi
- D) Yolculuk durumunda dört rekâtlik farz namazın iki rekât olarak kılması

18. Aşağıdakilerden hangisi Hz. Muhammed (sav.)'in soyunu ifade eden bir kavram değildir?

- A) Ehl-i Beyt
- B) Seyyid
- C) Şerif
- D) Şeyh

19. • İyi ve kötünün aklın bilgisi dâhilinde olduğunu söylemiştir.  
• Büyük günah işleyen bir kimsenin dinden çıkmayacağını savunmuştur.  
• Hanefiler itikatta onun görüşlerini benimsemişlerdir.

Hakkında bilgi verilen mezhep imamı aşağıdakilerden hangisidir?

- A) Numan b. Sabit
- B) İmam Maturidi
- C) Cafer-i Sadık
- D) İmam Eş'ari

20. el-Ümm ve er-Risale adlı eserler aşağıdaki âlimlerden hangisine aittir?

- A) İmam Ebu Hanife
- B) İmam İdris eş-Şafii
- C) İmam Enes b. Malik
- D) İmam Ahmet b. Hanbel

1. "Allah katında en sevimsiz helal, boşanmadır."  
(Hadis-i Şerif)

Bu hadis aşağıdakilerden hangisiyle ilişkilendirilebilir?

- A) Ailenin kurulması
- B) Ailenin korunması
- C) Aile içi iletişimin önemi
- D) Aile içi sorumluluklar

2. "Dikkat ediniz!, Sizin, kadınlarınız üzerinde, kadınlarınızın da sizin üzerinizde hakları vardır..."  
(Hadis-i Şerif)

"Hiçbir baba çocuğuna güzel ahlaktan daha üstün bir bağışta bulunmamıştır."  
(Hadis-i Şerif)

Aşağıdakilerden hangisi bu iki hadisten çıkarılacak bir sonuç değildir?

- A) Kadınların erkekler üzerinde haklarının bulunduğu
- B) Güzel ahlaklı çocuklar yetiştirmenin önemi
- C) Kadın ve erkeğin her bakımdan eşit olduğu
- D) Çocuk terbiyesinin maddi mirastan daha önemli olduğu

3. Aşağıdakilerden hangisi Diyanet İşleri Başkanlığının görevleri arasında yer almaz?

- A) Toplumun tarihi ve kültürel değerlerini korumak
- B) Dini konularda yayınlar yaparak halkı aydınlatmak
- C) Halkın dini konularda doğru bilgilenmesini sağlamak
- D) Ceza ve tutukevlerindeki mahkûmlara dini hizmet vermek

4. Aşağıdakilerden hangisi il müftülüğüne bağlı olarak çalışmaz?

- A) Cezaevi vaizi
- B) Müezzin - kayyım
- C) Cami dernek başkanı
- D) Kur'an kursu öğreticisi

5. Aşağıdakilerden hangisi müezzin - kayyımın vazifeleri arasında yer almaz?

- A) Caminin temizliğini ve bakımını yapmak
- B) Namaz vakti geldiğinde ezan okumak
- C) Farz namaz kılınırken kamet getirmek
- D) Cami ve mescitlerde halkı aydınlatıcı konuşmalar yapmak

6. İslam medeniyetinde ortada bir cami ve bu caminin etrafında medrese, darüşşifa, darülaceze (yaşlılar evi), aşevi, hamam gibi eserlerin bir arada yapıldığı mimari eserlere ne ad verilir?

- A) Daru'l-Hikme
- B) Bedesten
- C) Sebil
- D) Külliye

7. Aşağıdakilerden hangisi Türk musikisinin önemli isimlerinden biridir?

- A) Hafız Osman
- B) Dede Efendi
- C) Nabi
- D) Baki

8. Aşağıdakilerden hangisi Diyanet İşleri Başkanlığı'nın eğitim hizmetlerinden biri değildir?

- A) Kur'an kursları açmak.
- B) Vaaz ve hutbeler vermek.
- C) Mahkûmları irşad etmek.
- D) Din Kültürü ve Ahlak Bilgisi öğretmenlerini yetiştirmek.

9. Kur'an-ı Kerim'i iyi kavrayan bir kişiden aşağıdaki davranışlardan hangisi beklenmez?

- A) Hayatın güzelliklerini anlayabilir.
- B) Yaratılıştaki hikmeti fark eder.
- C) Dünyayı bırakıp sadece ahirete çalışır.
- D) Çevresindeki olup bitenlere duyarlı olur.

## 1. OTURUM

10. Aşağıda verilen ayetlerden hangisi konusu itibariyle diğerlerinden farklıdır?

- A) "Güzel söz ve bağışlama, arkasından incitme gelen sadakadan daha iyidir..."  
(Bakara Suresi, 263. ayet)
- B) "Yapıp yaratımların en güzeli olan Allah pek yücedir."  
(Mü'minun Suresi, 14. ayet)
- C) "Kullarıma söyle, sözün en güzelini söylesinler..."  
(İsra Suresi, 53. ayet)
- D) "(Resulüm) Sen, Rabbinin yoluna hikmetle ve güzel öğütle çağır ve onlarla en güzel şekilde mücadele et."  
(Nahl Suresi, 125. ayet)

11. Aşağıdakilerden hangisi külliye-nin bölümlerinden biri değildir?

- A) Tekke B) Aşevi  
C) Şifahane D) Cami

12. Divan Edebiyatı'nda, Peygamberimiz'e duyulan sevgi ve saygıyı ortaya koyan, onu öven şiirlere ne ad verilir?

- A) Münacaat B) Na'at  
C) Mersiye D) Gazel

13. Aşağıdakilerden hangisi hat sanatıyla uğraşmamıştır?

- A) Hafız Osman  
B) Hamit Aytaç  
C) Necmettin Okyay  
D) Sadullah Ağa

14. • Kağıt süsleme sanatlarından biridir.  
• Özel boylarla yapılır.  
• Su üzerine yapılan şekiller kağıda çıkarılır.

Bu bilgiler aşağıda verilen sanat dallarından hangisine aittir?

- A) Hüsnü Hat  
B) Minyatür  
C) Ebru  
D) Tezhip

15. "Rabb'in sadece kendisine kulluk etmenizi, anne ve babanıza iyi davranmanızı kesin bir şekilde emretti. Onlardan biri veya her ikisi senin yanında yaşlanırsa, kendilerine 'öf' bile deme; onlara azarlamama; ikisine de güzel söz söyle."  
(İsrâ suresi, 23. ayet)

Bu ayetten aşağıdakilerden hangisi çıkarılamaz?

- A) Anne ve babaya saygılı davranmalı  
B) Anne ve babaya güzel söz söylemeli  
C) Anne ve babanın ihtiyaçlarını gidermeli  
D) Anne ve babanın her dediğine itaat etmeli

16. Diyanet İşleri Başkanlığı ne zaman kurulmuştur?

- A) 1920 B) 1924  
C) 1927 D) 1930

17. Hak Dini Kur'an Dili adlı tefsir çalışmasını aşağıdakilerden hangisi yapmıştır?

- A) Kâmil Miras  
B) Konyalı Mehmet Efendi  
C) Babanzade Ahmet Naim  
D) Elmalılı Muhammed Hamdi Yazır

18. Aşağıdakilerden hangisi müftünün görevidir?

- A) Din hizmetlerini ve dini müesseseleri yönetmek  
B) Camilerde din hizmetlerini yürütmek  
C) Dini konularda fetva yayınlamak  
D) Vakit namazlarını cemaate kaldırmak

19. Aşağıda verilen hadislerden hangisi İslam'ın "Sıla-i rahim"e verdiği önemi dile getirmektedir?

- A) Yakınları ile ilişkisini kesen kimse cennete giremez.  
B) Çocuklarınıza hoşça davranın ve onları güzel terbiye edin.  
C) Küçüklerine merhamet etmeyen, büyüklerine saygı göstermeyen bizden değildir.  
D) Sizin en hayırlınız, kadınlara karşı en iyi davrananınızdır.

20. Aşağıdaki eserlerden hangisi Ahmet Yesevi'ye aittir?

- A) Vesiletü'n-Necat  
B) Makalat  
C) Divan-ı Hikmet  
D) Mesnevi

(117) DİN KÜL. AHL. BİL. – 7

1. Yüce Allah'ın aşağıdaki isimlerinden hangisi tövbe ve bağışlama ile ilgili değildir?

- A) el-Hakîm B) es-Settâr  
C) el-Afüvv D) el-Gaffâr

2. Ahirete inanan bir kişide aşağıdakilerden hangisinin azalması beklenir?

- A) İç huzurun  
B) Güzel davranışların  
C) Hırs ve bencilliğin  
D) Sorumluluk duygusunun

3. I. Sübhaneke duası  
II. Salli-Barik duaları  
III. Zamm-ı sure

Yukarıdaki dua ve surelerden hangisi/hangileri cenaze namazında okunmaz?

- A) Yalnız I B) Yalnız II  
C) Yalnız III D) II ve III

4. "O (Allah) hanginizin daha güzel iş yapacağını denemek için ölümlü ve hayatı yarattı..."  
(Mülk suresi, 2. ayet)

Bu ayette yaratılışla ilgili aşağıdaki sorulardan hangisinin cevabı yoktur?

- A) Kim? B) Nasıl?  
C) Niçin? D) Neyi?

5. Hz. Peygamberin "Sizin en hayırlınız Kur'an'ı öğrenen ve öğreteninizdir." sözü sünnetin hangi çeşidine örnek oluşturur?

- A) Sözlü sünnete  
B) Fiili sünnete  
C) Takriri sünnete  
D) Destekleyici sünnete

## 1. OTURUM

6. Aşağıdakilerden hangisi meşhur hadis alimi İmam Buharî'nin eseridir?

- A) Câmiu's-Sahih
- B) Sünen-i Buharî
- C) Müsned
- D) Muvatta

7. Aşağıdakilerden hangisi tasavvufi bir tarikatın öncüsüdür?

- A) Ata b. Ebi Rebah
- B) Harun er-Reşid
- C) Ahmet b. Hanbel
- D) Şeyh Nasîruddin

8. Cenaze namazının şartları aşağıdaki seçeneklerden hangisinde doğru olarak verilmiştir?

- A) Kıyam - Kıraat
- B) Ruku - Secde
- C) Kıyam - Tekbirler
- D) Kıyam - Selam

9. Aşağıdakilerden hangisi ölmüş bir insan için yapılması gereken görevlerden biri değildir?

- A) Ölüyü yıkamak.
- B) Cenaze namazına katılmak.
- C) Onun için dua etmek.
- D) Terk ettiği ibadetleri yerine getirmek.

10. Aşağıdaki meleklerin hangisi Sur'a üflemeyle görevlidir?

- A) Azrail
- B) İsrail
- C) Mikail
- D) Cebrail

11. Aşağıdakilerden hangisi tövbede aranan şartlardan değildir?

- A) Gunahtan uzaklaşmak.
- B) Hatasından pişman olmak.
- C) Günahı işlememeye kararlı olmak.
- D) Hatalarını başkalarıyla paylaşmak.

12. İslam'ın tasavvufi yorumları arasında aşağıdakilerden hangisi yer almaz?

- A) Yesevilik
- B) Kadirilik
- C) Maturidilik
- D) Nakşibendilik

13. Aşağıdakilerden hangisi Hoca Ahmet Yesevi'nin Anadolu'ya manevi fetihler için yolladığı halifelerindendir?

- A) Ahmet Rifai - Yunus Emre
- B) Hasan Basri - Rabia Adeviyye
- C) Zinnun Mısri - Beyazid Bistami
- D) Hacı Bektaş Veli - Sarı Saltuk

14. Aşağıdakilerden hangisi Alevilik - Bektaşilik'te yer almaz?

- A) Cem
- B) Sema
- C) Gülbeng
- D) Musahip

15. Bağışlama için aşağıdakilerden hangisi söylenemez?

- A) Yüceliktir
- B) Acizliktir
- C) Merhamettir
- D) Fırsat vermektir

16. Hz. Muhammed (sav.)'in aşağıdaki davranışlarından hangisi mü'minler için bağlayıcı değildir?

- A) Kişisel tercihleri
- B) Ahlaki tutumları
- C) İman esasları ile ilgili sözleri
- D) İbadet ile ilgili uygulamaları

17. Aşağıdakilerden hangisi tasavvufi düşüncenin ortaya çıkmasında etkili olmamıştır?

- A) Siyasi anlaşmazlıkların olması
- B) Dinin özünden çok dış görünüşüne önem verilmesi
- C) İnsanların farklı özelliklere sahip olması
- D) Kuran'ın indirilmesinin yirmi üç yıl sürmesi

18. Aşağıdakilerden hangisi tasavvufi düşüncede önemli olan ah-lâk ilkeleri arasında yer almaz?

- A) Öfkene hakim ol.
- B) Asla elindekini yeterli görme.
- C) Vaktini hayırlı işlerde değerlendir.
- D) Kendin için istemediğini başkası için de isteme.

19. "Divan-ı Hikmet", "Mesnevi" ve "Makalat" adlı eserler hangi bilim dalıyla ilgilidir?

- A) Hadis
- B) Fıkıh
- C) Siyer
- D) Tasavvuf

20. Alevilik - Bektaşilik geleneğinde "dua" anlamına gelen kavram aşağıdakilerden hangisidir?

- A) Deyiş
- B) Gülbenk
- C) Nefes
- D) Tevella

### (118) DİN KÜL. AHL. BİL. – 8

1. Aşağıdakilerden hangisi barışın sonuçları arasında yer almaz?

- A) Kalkınma
- B) Kargaşa
- C) Özgürlük
- D) Güven

2. Aşağıdakilerden hangisi toplumsal barışın oluşmasına katkı sağlamaz?

- A) Tüm insanların aynı atadan (Hz. Adem'den) geldiğini kabul etmek
- B) Herkese karşı hoşgörülü olmaya gayret etmek
- C) İnsanların inanç ve düşüncelerine saygılı olmak
- D) Toplumları aynı örf, âdet ve din etrafında toplamak

3. Cumhuriyetin ilk yıllarında çıkartılan Tevhid-i Tedrisat Kanunu ile aşağıdakilerden hangisinin varlığına son verilmiştir?

- A) Medreselerin
- B) İlahiyat fakültelerinin
- C) Diyanet İşleri Başkanlığının
- D) İmam-Hatip okullarının

4. Aşağıdakilerden hangisi Atatürk döneminde yaşamış din adamlarından değildir?

- A) Muhammed Hamdi Yazır
- B) Hasan Hayrullah Efendi
- C) Ahmed Naim Efendi
- D) Rifat Börekçi

## 1. OTURUM

5. Japonların milli dini aşağıdakilerden hangisidir?

- A) Caynizm B) Sihizm  
C) Taoizm D) Şintoizm

6. Aşağıdakilerden hangisi Hristiyanlarca kutsal kabul edilen dört İncil'den biridir?

- A) Yuhanna B) Gemara  
C) Vaisya D) Yehova

7. Buda'nın heykellerinin bulunduğu kutsal mekânlara ne denir?

- A) Kşatriya B) Sudra  
C) Sangha D) Pagoda

8. Aşağıdakilerden hangisinin İslam düşüncesinde yeri yoktur?

- A) Antlaşmalara sadık kalmak.  
B) Haksızlığa aynısıyla karşılık vermek.  
C) İnsanlara iyi ve güzeli tavsiye etmek.  
D) Kendisi için istediğini kardeşi için de istemek.

9. Aşağıdakilerden hangisi İslam'a göre savaşmayı haklı kılan sebeplerden değildir?

- A) Toprakları genişletmek  
B) Barışa katkı sağlamak.  
C) Nefsi müdafaa etmek.  
D) Hak ve hürriyetleri korumak.

10. Aşağıdakilerden hangisi Tevhid-i Tedrisat Kanunu'yla gelen yeniliklerdendir?

- A) Milli Eğitim Bakanlığı'nın kurulması  
B) Medreselerdeki eğitimin modernize edilmesi  
C) Tekke ve zaviyelerin birleştirilmesi  
D) Din öğretiminin Diyanet İşleri Başkanlığı'na bırakılması

11. Hristiyanlık'ta yeni doğan bebeklerin ve Hristiyanlık dinine girecek olanların kutsal su ile yıkanıp günahattan arınması için yaptıkları ayine ne denir?

- A) Evharistiya B) Afaroz  
C) Vaftiz D) Paskalya

12. İslam dini için aşağıdakilerden hangisi söylenemez?

- A) Son ilahi dindir.  
B) Mesajları bölgeseldir.  
C) İnsanların günahsız doğduğu kabul edilir.  
D) Kutsal kitabı hiçbir değişikliğe uğramamıştır.

13. Hinduizm'de "Kişi geçmiş yaşantısında ne yapmışsa gelecekte onu görür." şeklinde ifade edilen inanç hangisidir?

- A) Yoga B) Karma  
C) Nirvana D) Kast sistemi

14. Rebiulevvel ayının 12. gecesinde kutlanan kandil aşağıdakilerden hangisidir?

- A) Berat B) Miraç  
C) Mevlit D) Regaip

15. "Hep birlikte Allah'ın ipine (Kur'an'a) sınımsız yapışın, parçalanmayın. Allah'ın size olan nimetini hatırlayın; Hani siz birbirinize düşman kişiler idinizde, O gönüllerinizi birleştirmiş ve O'nun nimeti sayesinde kardeş kimseler olmuştunuz..."  
(Âl-i İmrân suresi, 103. ayet)

Bu ayette tavsiye edilen davranış aşağıdakilerden hangisidir?

- A) Adalet B) Temizlik  
C) Hoşgörü D) Kardeşlik

16. Aşağıdaki ibadetlerin hangisi sosyal yardımlaşmaya ve dayanışmayı hedeflemektedir?

- A) Hac B) Oruç  
C) Zekât D) Namaz

17. İlk kabile dinlerinde ayin ve törenleri yöneten din adamlarına ne denir?

- A) Mana B) Tabu  
C) Totem D) Şaman

18. Hinduizm'deki kast sistemi ile ilgili aşağıda verilen bilgilerden hangisi yanlıştır?

- A) Kişinin kast grubu ergenliğe erdikten sonra belirlenir.  
B) Kastın üst kısmını din adamları ve aydınlar sınıfı oluşturur.  
C) Kastın en alt sınıfını işçi ve köleler oluşturur.  
D) Aynı kasttan olanlar, sofrada birlikte yemek yiyebilirler.

19. Ülkemizde İmam Hatip Okulu açılması kararı hangi tarihte alınmıştır?

- A) 1921 B) 1961  
C) 1924 D) 1982

20. Aşağıdaki olaylardan hangisinde Hz. Muhammed (sav.)'in bağışlayıcılık özelliği ön plana çıkmıştır?

- A) Veda Hutbesi  
B) Mekke'nin fethi  
C) Medine Sözleşmesi  
D) Akabe Biatları

### (121) FELSEFE – 1

1. I. İnsanın pratik ihtiyaçlarını karşılama düşüncesinin ürünüdür.  
II. Aynı konuda farklı sonuçlar ortaya konulabilen bir bilgidir.  
III. Yaşamın anlamını sorgulayan bir bilgidir.  
IV. Düzenli ve sistemli bir bilgidir.

Yukarıda verilen özelliklerden hangileri felsefi bilgiye aittir?

- A) I, II ve III B) II, III ve IV  
C) I, II ve IV D) I, II, III ve IV

2. Bilgiyi konu alan felsefe dalı aşağıdakilerden hangisidir?

- A) Epistemoloji B) Ontoloji  
C) Estetik D) Etik

## 1. OTURUM

3. Aşağıdakilerden hangisi felsefe ve dinin ortak amaçlarındanıdır?

- A) Toplumsal yasaları belirleme
- B) İlahi bilgileri insanlara iletme
- C) Evreni ve insanı anlama ve açıklama
- D) Doğrulara akıl ve akıl yürütme yoluyla ulaşma

4. Varlığın nedenlerini ve temel ilkelerini sorgulayan tanrı, ruh, ölümsüzlük gibi felsefenin ilk ve son sorunlarıyla uğraşan alan aşağıdakilerden hangisidir?

- A) Metafizik B) Düalizm
- C) Apesteriori D) Fenomenoloji

5. Aşağıdakilerden hangisi bilgi kuramının temel soruları arasında gösterilemez?

- A) Doğru bilginin ölçütü nedir?
- B) Gerçekte var olan nedir?
- C) Doğru bilgiye ulaşmak mümkün müdür?
- D) İnsan varlığı ve nesnelere gerçekten bilebilir mi?

6. • İnsan her şeyin ölçüsüdür.  
• Herhangi bir konuda genel geçer bir yargıda bulunamayız.  
• Herkesin üzerinde uzlaşabileceği doğru ya da yanlış hiçbir şey yoktur.

Protagoras'ın bu görüşlerinden aşağıdakilerden hangisi çıkarılamaz?

- A) Doğru, kişiden kişiye değişir.
- B) Her şeyden kuşku duymak gerekir.
- C) Doğru bilgiye ulaşmak mümkündür.
- D) Herkes için geçerli mutlak doğrular yoktur.

7. Aşağıdakilerden hangisi doğru bilgiye akıl yoluyla ulaşılabilirliğini savunan rasyonalist düşünürlerden biridir?

- A) Protagoras B) John Dewey
- C) David Hume D) Hegel

8. Kant'a göre bilgilerimizin iki kaynağı vardır. Bunlar akıl ve deneydir. Deney dış dünyaya ilişkin bilgilerimizin ham maddesini, içeriğini verir. Akıl ise bu ham maddeyi düzenler, belli bir kalıba sokar. Kavramlar, deneyden gelen malzeme olmaksızın boş, deneyden gelen ham madde ise kavramlar olmaksızın kördür.

Kant'ın bu görüşü dikkate alınarak aşağıdaki yargılardan hangisine ulaşılabilir?

- A) Akıl yoluyla doğru bilgiye ulaşılabilir.
- B) Deney tek başına doğru bilgiye ulaştırma gücüne sahip bir araçtır.
- C) Deney verilerinin akıl ile işlenmesiyle doğru bilgiye ulaşılabilir.
- D) Duyular ve deney doğru bilgiye ulaşmada yeterlidir.

9. Aşağıdakilerden hangisi "Pozitivizm" akımının savunduğu görüşlerden birisi olamaz?

- A) Dış dünyayı sadece duyu deneyi yoluyla bilebiliriz.
- B) Doğa olaylarının doğa üstü güçlerle bir ilgisi yoktur.
- C) Düşünce teolojik ve metafizik öğelerden arındırılmalıdır.
- D) Bilgilerimizin doğruluğunun ölçütü bireye sağladığı faydadır.

10. Doğru bilgiye deney, gözlem ve aklın bir arada kullanılarak ulaşılabilirliğini savunarak rasyonalizm ve emprizm akımlarının sentezini yapan yaklaşım hangisidir?

- A) Kritisizm B) Septisizm
- C) Pragmatizm D) Entüisyonizm

11. Doğruluğu ve gerçekliği tek yanlı olarak yalnızca eylemlerin sonuçları ile değerlendiren ve onlara yalnızca sağladığı "fayda" açısından bakan felsefi akım aşağıdakilerden hangisidir?

- A) Pozitivizm B) Pragmatizm
- C) Emprizm D) Entüisyonizm

12. Bilimin tarihsel süreç içinde gelişimi ile ilgili olarak aşağıda verilenlerden hangisi yanlıştır?

- A) Rönesans'la birlikte felsefe ve bilim, dinin etkisine tekrar girmiştir.
- B) Orta çağda İslam dünyasında bilim alanında büyük gelişmeler yaşanmıştır.
- C) İlk çağlarda bilimin mitoloji, din ve büyü ile içi içe olduğu görülür.
- D) İlk filozoflar aynı zamanda büyük birer bilim adamıdır.

13. İlk çağlarda tüm bilimlere kapsayan disiplin aşağıdakilerden hangisidir?

- A) Matematik B) Felsefe
- C) Mantık D) Fizik

14. Thomas Kuhn'a göre olağan bilim döneminde, paradigma tarafından çözülemeyen bazı sorunlar ortaya çıkar. Paradigma evren hakkında doyurucu yanıtlar verememeye başlar ve bilim bir bunalım dönemi içine girer.

Kuhn'a göre yaşanan bu bunalım dönemi nasıl aşılanır?

- A) Takip edilen yöntem gözden geçirilir.
- B) Var olan paradigma etrafında sorun çözülmeye çalışılır.
- C) Yeni bir paradigma ortaya konularak bilimsel devrim gerçekleşir.
- D) Mevcut paradigma farklı bilim insanlarının uygulamasına sunulur.

15. Aşağıdakilerden hangisi bilimsel bilginin özelliklerinden biri değildir?

- A) Genellemeler yapar
- B) Eleştiricidir
- C) Olgusaldır
- D) Özneldir

## 1. OTURUM

16. Bilim ve teknoloji yalnızca olumlu, yaşamı kolaylaştıran sonuçlar üretmez. İnternet ve cep telefonları bir yandan iletişimi kolaylaştırırken bir yandan da bağımlı bireyler meydana getirmekte, sosyalleşmeyi sanal ortamlarda yaşayan sorunlu bireyler oluşturmaktadır. Bilim, olumlu ve yapıcı bir biçimde kullanıldığı zaman da olumsuz sonuçlar doğurduğu zaman da yaşamı doğrudan etkilemektedir.

**Yukarıda bilim ve teknolojinin hangi özelliği vurgulanmaktadır?**

- A) Bilim ve teknoloji ürünlerinin hep insanlığın yararına olduğu
- B) Bilim ve teknolojinin insanı ve insan ilişkilerini tahrip edici bir yanının da olduğu
- C) Teknolojiyi kullanmayanların daha sağlıklı sosyalleştikleri
- D) Teknolojik aygıtları kullanmanın gereksizliği

17. Thales evrenin ana maddesinin "su" olduğunu, her şeyin sudan oluştuğunu söylerken Anaksimenes ana maddenin "hava" olduğunu Herakleitos ise "ateş" olduğunu savunmuştur.

**Yukarıda verilen farklı görüşlerin ortak noktası hangisidir?**

- A) Varlığın var olup olmadığını ispatlamaya çalışmaları
- B) "Varlığın ana maddesi nedir?" sorusuna yanıt aramaları
- C) Varlığı tanımlamanın imkansız olduğunu savunmaları
- D) Varlığın sürekli bir değişim içinde olduğunu söylemeye çalışmaları

18. Felsefede hiçbir şeyin var olmadığını, hiçbir şeyin bilineme-yeceğini savunan öğretiyi ne ad verilir?

- A) Metafizik
- B) Ontoloji
- C) Anarşizm
- D) Nihilizm

19. Aşağıdakilerden hangisi Platon'un varlık konusundaki görüşlerindedir?

- A) Her şeyin temelinde diyalektik vardır.
- B) Her varlığın bir maddesi bir de formu vardır.
- C) Gerçekte var olan varlıklar idealar dünyasındadır.
- D) Her şey madde ile başlar, düşünce maddenin ürünüdür.

20. Aşağıdakilerden hangisi materyalizme ait bir düşünce olamaz?

- A) Bütün varlıklar cisimseldir.
- B) Varlığın ana maddesi maddedir.
- C) Madde düşünceden bağımsız olarak vardır.
- D) Madde bir hayalden ibarettir var olan her şey zihinseldir.

### (122) FELSEFE – 2

1. Ahlak felsefesinin temel kavramlarından hangisinin anlamı yanlış olarak verilmiştir?

- A) Vicdan: Bireyi eylemleri hakkında bir yargıda bulunmaya zorlayan duygu.
- B) Sorumluluk: İnsanların kendi eylemlerinin sonucunu üstlenmesi.
- C) İyi: Değer verilen beklentilere uygun olan davranışlar.
- D) Özgürlük: İyi olana yönelme.

2. Aşağıdakilerden hangisi "İnsan ahlaki eylemde bulunurken özgür müdür?" sorusuna verilen yanıtlardan değildir?

- A) Bir eylem iyi ideasına uygunsaydı iyidir.
- B) İnsan kararlarında ve eylemlerinde özgür değildir.
- C) Birey iyi ve kötü arasındaki seçimini kendi iradesiyle yapar.
- D) İnsan aklını kullanarak ve bilgi birikimini artırarak özgürleşebilir.

3. Ahlak yargıları değerlerle ilgilidir ve insanın nasıl davranacağını belirler. Bilimsel yargılar ise olaylar arasındaki değişmez neden sonuç ilişkilerini gösteren evrensel yasalardır.

**Buna göre Ahlaki yargıların bilimsel yargıdan temel farkı aşağıdakilerden hangisidir?**

- A) Olaylar arasındaki neden - sonuç ilişkilerini ortaya koyması
- B) Olması gerekeni ortaya koyması
- C) Evrensel özelliğe sahip olması
- D) Nesnel olması

4. Devletin iktidar gücünü hiçbir iç veya dış baskı olmadan kullanmasını ifade eden kavram aşağıdakilerden hangisidir?

- A) Meşruiyet
- B) Bürokrasi
- C) Egemenlik
- D) Sivil toplum

5. Ahlaksal eylemler insana mutluluk veriyorsa iyi, vermiyorsa kötüdür. Bütün insanlar eylemlerini kendilerine yarar sağlayacak biçimde düzenler.

**Bu ifade aşağıdakilerden hangisine aittir?**

- A) Varoluşçuluk
- B) Sezgicilik
- C) Anarşizm
- D) Faydacılık

6. Evrensel ahlak yasasının varlığını kabul eden düşünürlerden Sokrates'e göre "mutluluk" nasıl sağlanır?

- A) İyi ideasına uygun olan davranışlarla
- B) Acıdan kaçıp hazza yaklaşarak
- C) Bilgide temellenen erdemle
- D) Eylemlerdeki denge ve uyumla

7. İnsan, varlığın birliğine ya da Tanrıya üç aşamadan geçerek ulaşabilir. Bu aşamalardan geçen insan kamil insandır. Kamil insan yaratılanla yaratılanı bir ve aynı şeyler olarak görür.

**Bu birliğe Aynü'l cem diyen düşünürün ismi aşağıdakilerden hangisidir?**

- A) Yunus Emre
- B) Hacı Bektaş Veli
- C) Farabi
- D) İbn-i Sina



## 1. OTURUM

8. Demokratik veya hukuksal otoritenin kaynağı, insanın doğal yeti, nitelik ve gereksinimlerinden doğan yazılı hukuk kurallarıdır. Hukuk kuralları yönetilenleri olduğu gibi yönetenleri de bağlar.

**Bu anlayış aşağıdakilerden hangisini sağlamaya yöneliktir?**

- A) Bütün insanların hukuk karşısında eşit olmasını
- B) Yönetici sınıfa ayrıcalık tanımmasını
- C) Devlette sürekliliğin sağlanmasını
- D) Karizmatik lider oluşturmasını

9. Hobbes'a göre devlet yapma bir cisimdir. Doğada asıl gerçek olan tek tek cisimlerin bir araya gelerek başka şeyleri oluşturması gibi asıl gerçek olan tek tek bireyler de bir araya gelerek kurumları, kurumlar da devleti oluşturmuşlardır.

**Parçada verilen düşüncenin ana teması aşağıdakilerden hangisidir?**

- A) İdeal düzenin olmadığı
- B) Devletin karmaşayı oluşturduğu
- C) Devletin doğal bir kurum olduğu
- D) Devletin insanlar tarafından oluşturulan bir kurum olduğu

10. İdeal düzenin her şeyden önce inanç, vicdan, düşünce ve ekonomi alanında serbest girişim özgürlüğü başta olmak üzere tüm etkinlik alanlarında özgürlüğe önem verilme ile gerçekleşeceğini savunan düşünür aşağıdakilerden hangisidir?

- A) Adam Smith B) Karl Marx
- C) Protagoras D) Saint Simon

11. Aşağıdakilerden hangisi sivil toplum örgütleri için söylendiğinde **yanlış** olur?

- A) Sivil toplum örgütleri toplumların gelişmişliğine önemli katkıda bulunur.
- B) Toplumun kendi çıkarlarını korumak amacıyla kurduğu örgütlenmelerdir.
- C) Devlet desteği olmadan sivil toplum örgütleri başarılı olamazlar.
- D) Güçlü sivil toplum örgütlenmeleri devletleri yönlendirme gücüne sahip olur.

12. 1984 isimli eserinde baskıcı yönetimleri gözlemleyerek bu durumun değişmemesi halinde dünyanın gelecekte alacağı görünümü anlatmaya çalışan düşünür kimdir?

- A) Campanella
- B) Thomas More
- C) George Orwell
- D) Charles De Montesquieu

13. Aşağıdakilerden hangisi, ideal düzen arayışlarıyla ilgili olarak yazılmış ütopyik bir eserdir?

- A) Hükümdar
- B) Yeni Dünya
- C) Kutadgu Bilig
- D) Kanunların Ruhü

14. Sanatçı dışarıdan almış olduğu izlenimlerle işe başlar ve bu izlenimler sanatçı için ham bir malzemedir. Sanatçı bu ham malzemeleri işler, dönüştürür ve bir sentez haline getirir.

**Bu düşünceye göre sanatçı eserlerini aşağıdakilerden hangisine göre oluşturur?**

- A) Oyun olarak sanat.
- B) Yaratma olarak sanat.
- C) Taklit olarak sanat.
- D) Yansıtma olarak sanat.

15. İnsanlar tarafından oluşturulmuş ve insanda estetik bir haz oluşturan yapıtlar aşağıdakilerden hangisiyle ifade edilir?

- A) Sanat eseri B) Estetik özne
- C) Estetik tavır D) Estetik haz

16. Mecnun'a Leyla için "Bunca çaba bunca mücadele bu kara kuru kız için miydi ? "dediklerinde "Siz bir de onu benim gözlerimle bir görün" demiş.

**Yukarıdaki ifadeler aşağıdaki yargılardan hangisini destekler niteliktedir?**

- A) Güzellik her dönemin ortak problemi olmuştur.
- B) Güzellik estetik öznenen bağımsız olarak vardır.
- C) Güzelliğin algılanması bireysel duygulara bağlıdır.
- D) Güzellik kavramı bireyin aldığı sanat eğitimine göre değişir.

17. Yaratıcının kendi varlığını, insan için hayatın anlamını, neyin iyi neyin kötü olduğunu dolaylı ya da doğrudan peygamberler aracılığıyla insanlara duyurması hangi kavramla ifade edilir?

- A) Kutsal B) Vahiy
- C) İbadet D) İman

18. Aşağıdakilerden hangisi tanrının varlığını kabul eden görüşlerden **değildir**?

- A) Teizm B) Deizm
- C) Panteizm D) Ateizm

19. Aşağıdakilerden hangisi din felsefesinin temel sorularından **değildir**?

- A) Ruh ölümsüz müdür?
- B) Tanrının varlığı kanıtlanabilir mi?
- C) İnsan için vahiy mümkün müdür?
- D) Ortak estetik yargılar var mıdır?

20. Din felsefesi dinin doğasını, dinsel inancın anlamını, dinin insan yaşamındaki yerini açıklamak, sorgulamak ve eleştirmek amaçlıdır. Nesnellik, akla dayanmak ve tutarlı olmak din felsefesinin dinlere bakış tarzını oluşturur.

**Buna göre aşağıdaki yargılardan hangisine ulaşılabilir?**

- A) Din felsefesinin dine rasyonel olarak yaklaşması gerektiği
- B) Din felsefesinin belirli bir dini temel alarak açıklamalarını yaptığı
- C) Bilimin dinsel bilgileri esas kabul etmesi gerektiği
- D) Dinin felsefenin verilerinden yararlanması gerektiği

## 1. OTURUM

(131) TARİH – 1

1. “Geçmişte yaşamış insan topluluklarının yaşayışlarını, birbirleri ile olan ilişkilerini, kültür ve medeniyetlerini yer ve - - - göstererek, sebep-sonuç belirterek belgelere dayalı olarak inceleyen bir bilim dalıdır.”

Verilen tarih tanımında boş bırakılan yere, aşağıdakilerden hangisi yazılmalıdır?

- A) Zaman B) Olay  
C) Olgu D) Tasnif

2. Aşağıdaki faaliyetlerden hangisi, tarihin konusu içerisinde yer almaz?

- A) Siyasal B) Kültürel  
C) Astronomi D) Dini

3. Aşağıdakilerden hangisi, tarihin zamana göre sınıflandırılmasına örnektir?

- A) Türkiye Tarihi  
B) Orta Çağ Tarihi  
C) Avrupa Tarihi  
D) Tıp Tarihi

4. Osmanlı Devleti'nde mali alanda - - - - takvim kullanılırken; gündelik hayatta ise hicri takvim kullanılırdı.

Verilen bilgi cümlesinde boş bırakılan yere, aşağıdakilerden hangisi gelmelidir?

- A) Celali B) Miladi  
C) Rumi D) Selimi

5. Kullandığı “Karbon 14” metoduyla tarihî buluntuların madde yapısını inceleyerek, buluntuların ait olduğu dönemi belirlemeye çalışan tarihe yardımcı bilim dalı, aşağıdakilerden hangisidir?

- A) Coğrafya  
B) Nüvizmatik  
C) Sanat Tarihi  
D) Kimya

6. İlahi dinlere göre ilk insanlar, aşağıdakilerden hangileridir?

- A) Adem ve Havva  
B) Yusuf ve Züleyha  
C) Süleyman ve Belkis  
D) İsa ve Meryem

7. Hiyeroglif adı verilen resimli yazıyı, aşağıdaki uygarlıklardan hangisi bulmuştur?

- A) Akadlar B) Mısırlılar  
C) Elamlar D) Amurrular

8. Aşağıdaki İlk Çağ uygarlıklarından hangileri İran'da siyasi faaliyette bulunmuşlardır?

- A) Sümerler - Asurlular  
B) Lidyalılar - Frigyalılar  
C) Hititler - Urartular  
D) Medler - Persler

9. Kavimler Göçü'nü başlatan millet, aşağıdakilerden hangisidir?

- A) İngilizler B) Almanlar  
C) Türkler D) Yunanlılar

10. Arilerin, Hindistan'a getirdikleri ve Hint toplumunu dört temel sınıfa ayırdıkları sistem, aşağıdakilerden hangisidir?

- A) Tımar Sistemi  
B) İktâ Sistemi  
C) Kast Sistemi  
D) Devşirme Sistemi

11. Aşağıdakilerden hangisi Kavimler Göçü'nün sonuçlarından biri değildir?

- A) Avrupa Hun Devleti yıkıldı.  
B) Türk kültürü Avrupa'da yayıldı.  
C) Roma İmparatorluğu ikiye ayrıldı.  
D) Avrupa'da derebeylik ortaya çıktı.

12. Aşağıdakilerden hangisi Orta Çağ Avrupası'nda ortaya çıkan sosyal sınıflardan biri değildir?

- A) Asiller B) Rahipler  
C) Zenginler D) Burjuvalar

13. İslamiyeti benimseyen ilk Türk topluluğu, aşağıdakilerden hangisidir?

- A) Avarlar B) Karluklar  
C) Hazarlar D) Peçenekler

14. Tunguzlar, Hun hükümdarı Mete'den birçok istekte bulunmuş ve Mete de bu istekleri kabul etmiştir. Fakat Tunguzlar bir toprak parçasını istediklerinde Mete hiddetlenerek “Devletin temeli olan toprağı biz nasıl veririz?” diyerek Tunguzlara savaş açmıştır.

Bu durum Türklerin hangi özelliğine kanıt olarak gösterilebilir?

- A) Liderlik  
B) Doğa sevgisi  
C) Vatan sevgisi  
D) Bağımsızlık arzusu

15. İlk Türk devletlerinde, Orta Asya'nın iklimi ve yeryüzü şekillerinden dolayı ekonominin temeli, aşağıdakilerden hangisine dayanmaktadır?

- A) Tarım B) Ticaret  
C) Denizcilik D) Hayvancılık

16. Aşağıdakilerden hangisi Anadolu uygarlıklarından biri değildir?

- A) Hititler B) Lidyalılar  
C) Babiller D) İyonyalılar

17. İlk Türk devletlerinde devlet işlerinin görüşüldüğü büyük meclislere ne ad verilir?

- A) Kut B) Turan  
C) Balbal D) Kurultay

18. İlk Türk devletlerinde töreye uymamak en büyük suç sayılmıştır. Hükümdarın bile töreye uymak zorunda olması Türklerde, aşağıdaki ilkelerden hangisinin kesin olarak benimsendiğinin göstergesidir?

- A) Vatan sevgisi  
B) Kanun üstünlüğü  
C) Bağımsızlık duygusu  
D) Hükümdar otoritesi

## 1. OTURUM

19. Lidyalıların ordularında yabancı ülkelerden aldıkları ücretli askerleri kullanmaları, askerlerin birbiriyle anlaşmalarını zorlaştırmıştır. **Bu durumun aşağıdakilerin hangisine neden olduğu savunulabilir?**

- A) Parayı bularak kullanmalarına  
B) Ekonomik açıdan zayıflamalarına  
C) Anadolu'da ticaretin artışı göstermesine  
D) Devletin yıkılma sürecini hızlandırdığına

20. **Günümüzdeki Hazar Denizi ismini, aşağıdaki Türk devletlerinin hangisinden almıştır?**

- A) Hazarlar B) Kumanlar  
C) Macarlar D) Avarlar

### (132) TARİH – 2

1. **İslâmiyet'in doğuşu sırasında Avrupa'da egemen olan din, aşağıdakilerden hangisidir?**

- A) Zerdüştlük B) Hristiyanlık  
C) Haniflik D) Musevilik

2. **Aşağıdaki imparatorluklardan hangisi, 375 Kavimler Göçü sırasında Doğu - Batı olmak üzere ikiye ayrılmıştır?**

- A) Roma B) Pers  
C) İskender D) Çin

3. **Cahiliye Dönemi'nde Arabistan'da konuşma ve yazı dili olarak aşağıdakilerden hangisi kullanılmıştır?**

- A) Farsça B) Türkçe  
C) İngilizce D) Arapça

4. **Hz. Muhammed'in süt annesi aşağıdakilerden hangisidir?**

- A) Meryem  
B) Amine  
C) Ümmü Eymen  
D) Halime

5. **Hz. Muhammed'e Nur Dağı'nda ilk vahyin geldiği mağara, aşağıdakilerden hangisidir?**

- A) Sevr B) Beldibi  
C) Hira D) Karain

6. **Aşağıdakilerden hangisi Müslümanların, Mekke müşriklerine karşı kazandığı ilk askerî başarıdır?**

- A) Hendek B) Bedir  
C) Mute D) Tebük

7. **632 yılında vefat eden Hz. Muhammed'in kabri, aşağıdaki şehirlerden hangisinde?**

- A) Mekke B) Taif  
C) Medine D) Riyad

8. **Aşağıdakilerden hangisi Allah'ın birliğini, sıfatlarını, peygamberlik ve ahiretle ilgili konuları akıl ve mantık yoluyla ispat eden bilim dalıdır?**

- A) Kelam B) Tefsir  
C) Hadis D) Fıkıh

9. **Aşağıdakilerden hangileri Büyük Selçuklu Devleti'nin kurucuları olarak kabul edilirler?**

- A) İstemi Kağan - Bumin Kağan  
B) Bilge Kağan - Kültigin  
C) Osman Bey - Orhan Bey  
D) Çağrı Bey - Tuğrul Bey

10. **1071 Malazgirt Savaşı'nda Büyük Selçuklu Devleti, aşağıdaki devletlerden hangisiyle mücadele etmiştir?**

- A) Karahanlılar  
B) Harzemşahlar  
C) Bizans  
D) Abbasiler

11. **Aşağıdaki devletlerden hangisi Mısır'da bir dönem egemenlik kuran Türk devletlerinden biri değildir?**

- A) İhşidiler B) Tolunoğulları  
C) Osmanlılar D) Karahanlılar

12. **Aşağıdakilerden hangisi tarihte "İlk Müslüman Türk Hükümdarı" unvanını almıştır?**

- A) Bilge Kül Kadir Han  
B) Yusuf Kadir Han  
C) Satuk Buğra Han  
D) Tabgaç Buğra Han

13. • 11. yüzyılda yaşamış Türk dil bilginidir.  
• En ünlü eseri Divan-ı Lügati't Türk'tür.

- Yukarıda hakkında bilgi verilen Türk bilgini, aşağıdakilerden hangisidir?**

- A) Ahmet Yesevi  
B) Yusuf Has Hacip  
C) Kaşgarlı Mahmut  
D) Yüknekli Edip Ahmet

14. **Büyük Selçuklu Devleti ile Bizans arasında yapılan ilk savaş, aşağıdakilerden hangisidir?**

- A) Pasinler Savaşı  
B) Malazgirt Savaşı  
C) Koyunhisar Savaşı  
D) Dandanakan Savaşı

15. **Tuğrul Bey'in Abbasi Halifesinden "Doğunun ve Batının Sultanı" unvanını alması, Türk ve İslam tarihinde aşağıdaki sonuçlardan hangisini ortaya çıkarmıştır?**

- A) Halifelik makamı Türklerin eline geçmiştir.  
B) Türkler, İslam diniyle tanışma imkânı bulmuşlardır.  
C) Türkler, halifelik makamına son vermişlerdir.  
D) İslam dünyasının siyasi liderliği Türklerin eline geçmiştir.

16. **Selçuklularda, aşağıdaki mimari eserlerden hangisinin yaptırılış nedeni, ticareti geliştirmek ve buldukları bölgede güvenliği sağlamaktır?**

- A) Medrese B) Kervansaray  
C) Darüşşifa D) İmarethane

## 1. OTURUM

17. Aşağıdaki olaylardan hangisi Gaznelilerin yıkılmasında **daha çok etkili** olmuştur?

- A) Taht kavgaları
- B) Gurluların baskıları
- C) Dandanakan Savaşı
- D) Şii Büveyhoğullarının faaliyetleri

18. Nizamiye Medreseleri, aşağıdaki Türk - İslam devletlerinden hangisinin dönemine aittir?

- A) Gazneliler
- B) Osmanlılar
- C) Karahanlılar
- D) Büyük Selçuklular

19. Selçuklularda, vergi gelirlerinin Sultana bırakıldığı topraklar, aşağıdakilerden hangisidir?

- A) Has
- B) İhta
- C) Vakıf
- D) Mülk

20. Selçukluların Türk mimarisine kazandırdıkları yapı şekli, aşağıdakilerden hangisidir?

- A) Kümbetler
- B) Kervansaraylar
- C) Medreseler
- D) Darüşşifalar

(133) TARİH – 3

1. Aşağıdakilerden hangisi XIV. yüzyılda Yakın Doğu'da kurulmuş devletlerden biridir?

- A) Büyük Selçuklu
- B) Asya Hun
- C) Memluk
- D) Uygur

2. 1243 Köseadağ Savaşı'nda Selçuklu Devleti'ni yenilgiye uğratan devlet, aşağıdakilerden hangisidir?

- A) Memluk
- B) Bizans
- C) Altın Orda
- D) İlhanlı

3. Osmanlı Beyliği Bizans ile mücadele ederken gaza ve cihat anlayışıyla gelen - - - - adı verilen Türkmen topluluklarının desteğini sağladı.

Verilen bilgi cümlesinde boş bırakılan yere, aşağıdakilerden hangisi gelmelidir?

- A) Tekfur
- B) Kazasker
- C) Müsellem
- D) Gaziyanırım

4. Edirne, hangi padişah döneminde başkent yapılmıştır?

- A) Orhan Bey
- B) I. Murat
- C) Yıldırım Bayezit
- D) II. Mehmet

5. 1402 Ankara Savaşı'nda Yıldırım Bayezit'i esir alarak Osmanlı Devleti'ne yıkılma tehlikesi yaşatan ünlü Türk hükümdarı, aşağıdakilerden hangisidir?

- A) Timur
- B) Baybars
- C) Tumanbay
- D) Attila

6. Osmanlı devlet teşkilatı ve idari yapısında Müslüman Türk devletlerinin kurumları ile Orta Asya - - - - devlet geleneğinin derin bir etkisi bulunmaktadır.

Verilen bilgi cümlesinde boş bırakılan yere aşağıdakilerden hangisi gelmelidir?

- A) Arap
- B) Çin
- C) Türk
- D) İran

7. Osmanlı Devleti'nde yasama, yürütme ve yargı yetkileri aşağıdakilerden hangisinde toplanmıştır?

- A) Şeyhülislam
- B) Kazasker
- C) Nişancı
- D) Padişah

8. Osmanlı Devleti'nde Anadolu Beylerbeyliği'nin merkezi olarak kabul edilen şehir, aşağıdakilerden hangisidir?

- A) Malatya
- B) Kütahya
- C) Trabzon
- D) Van

9. Osmanlı Devleti'nde dirlik sahibi kişilerin beslemek zorunda oldukları askerlere verilen isim, aşağıdakilerden hangisidir?

- A) Cebelü
- B) Yeniçeri
- C) Azap
- D) Silahtar

10. II. Bayezit devrinin askeri başarıları açısından sönük geçmesinin sebebi, aşağıdakilerden hangisidir?

- A) Fetret Devri
- B) Çınar Vakası
- C) Cem Olayı
- D) Coğrafi Keşifler

11. Aşağıdaki olaylardan hangisinin sonucunda Karadeniz'i Akdeniz'e bağlayan ticaret yolları Osmanlı'nın kontrolüne geçmiştir?

- A) Kırım'ın Fethiyle
- B) Kıbrıs'ın alınmasıyla
- C) I. Kosova Savaşı'nın kazanılmasıyla
- D) İstanbul'un Fethiyle

12. Osmanlı Devleti'nde hukuk sistemi örfi ve şeri olmak üzere ikiye ayrılmıştır.

Bu hukuk sistemine kaynaklık eden temel faktörler sırasıyla aşağıdakilerden hangisidir?

- A) Gelenekler - İslam dini
- B) İslam dini - Ekonomik yapı
- C) Gelenekler - Veraset anlayışı
- D) Veraset anlayışı - Ekonomik yapı

13. Aşağıdakilerden hangisi Osmanlı Devleti'ndeki **en büyük** yönetim birimidir?

- A) Köy
- B) Kaza
- C) Sancak
- D) Eyalet

14. Osmanlı Devleti'nde mali işlerin düzenlenmesi, hazinenin gelir ve giderlerinin hesaplanması görevini yürüten divan üyesi, aşağıdakilerden hangisidir?

- A) Nişancı
- B) Kazasker
- C) Defterdar
- D) Şeyhülislam

## 1. OTURUM

(134) TARİH – 4

15. Sancakların güvenlik ve hukuk işlerinden sorumlu olan görevlileri, aşağıdakilerden hangilerinde birlikte verilmiştir?

- A) Sancakbeyi - Kazasker
- B) Yeniçeri Ağası - Subaşı
- C) Yiğitbaşı - Kazasker
- D) Subaşı - Kadı

16. Osmanlı Devleti'nde eğitim ve öğretimin ilk basamağı, aşağıdakilerden hangisidir?

- A) Medrese
- B) Sıbyan Mektebi
- C) Enderun Mektebi
- D) Şehzadegan Mektebi

17. Aşağıdakilerden hangisi Coğrafi keşifleri kolaylaştıran başlıca faktörlerden biri değildir?

- A) Pusulanın Avrupalılarca tanınması
- B) Coğrafya bilgisindeki yeni gelişmeler
- C) Barutun ateşli silahlarda kullanılması
- D) Okyanusa dayanıklı gemilerin yapılması

18. Avusturya kralının, protokol bakımından Osmanlı veziriazamına denk sayıldığı antlaşma, aşağıdakilerden hangisidir?

- A) Karlofça Antlaşması
- B) İstanbul Antlaşması
- C) Ankara Antlaşması
- D) Serav Antlaşması

19. Kağıt süsleme sanatı olup özel karışımli suyun içine boya serpiştirilmesiyle yapılan süsleme sanatı, aşağıdakilerden hangisidir?

- A) Ebru
- B) Hat
- C) Tezhip
- D) Çinicilik

20. 17. yüzyılda yetişen ve 10 ciltlik "Seyahatname" adlı eserinde gezdiği, gördüğü memleketlerin tarih, coğrafya ve kültürlerini anlatan bilgin, aşağıdakilerden hangisidir?

- A) Piri Reis
- B) Ali Kuşçu
- C) Evliya Çelebi
- D) Âşık Paşazade

1. XVIII. yüzyılda Avrupalı devletlerin, devletler arası politika ve çıkar çatışmalarında "amaca ulaşmak için her türlü araca başvurulabileceği" anlayışıyla hareket ettikleri fikir akımı, aşağıdakilerden hangisidir?

- A) Feodalizm
- B) Sosyalizm
- C) Makyavelizm
- D) Kapitalizm

2. Osmanlı tarihinde 1718-1730 yılları arasındaki döneme ne ad verilir?

- A) Lale Devri
- B) Tanzimat Devri
- C) Meşrutiyet Devri
- D) Fetret Devri

3. Sanayi İnkılabı sonrasında en büyük sömürge imparatorluğunu aşağıdaki devletlerden hangisi kurmuştur?

- A) Fransa
- B) İtalya
- C) Rusya
- D) İngiltere

4. Amerika Birleşik Devletleri'nin ilk cumhurbaşkanı aşağıdakilerden hangisidir?

- A) Demirbaş Şarl
- B) Bismarck
- C) Metternich
- D) George Washington

5. XIX. yüzyıl Osmanlı Devleti için - - - - olarak kabul edilir.

Verilen bilgi cümlesinde boş bırakılan yere aşağıdakilerden hangisi gelmelidir?

- A) Aydınlanma Çağı
- B) Ayaklanmalar yüzyılı
- C) Akıl Çağı
- D) Demokrasi yüzyılı

6. III. Selim Dönemi'nde yapılan ıslahatların tümüne "- - - -" adı verilir.

Boş bırakılan yere aşağıdakilerden hangisi gelmelidir?

- A) Sekbanıcedit
- B) İradıcedit
- C) Eşkinçi
- D) Nizamıcedit

7. Osmanlı Divan teşkilatında bulunan reisülküttabın görevi, aşağıdakilerden hangisidir?

- A) Mali işler
- B) Eğitim ve adalet işleri
- C) Dış işleri
- D) Donanma işleri

8. XVIII. yüzyıldan itibaren Osmanlı Devleti'nde başkanlığını sadrazamın yaptığı, devlet işlerinin görüldüğü yere verilen isim, aşağıdakilerden hangisidir?

- A) Kurultay
- B) Babıali
- C) Meclis
- D) Divan

9. Osmanlı Devleti'nde padişahın mutlak otoritesinin sınırlandırıldığı ilk belge, aşağıdakilerden hangisidir?

- A) Magna Carta
- B) Kanunuesasi
- C) İnsan Hakları Bildirgesi
- D) Senediittifak

10. Askerî amaçlarla da olsa Osmanlı Devleti'nde ilk nüfus sayımı, aşağıdaki hangi padişah döneminde yapılmıştır?

- A) II. Mahmut
- B) I. Mustafa
- C) Abdülaziz
- D) Abdülmecit

11. 1882 yılında Mısır'ı işgal eden devlet, aşağıdakilerden hangisidir?

- A) Fransa
- B) Prusya
- C) İngiltere
- D) Avusturya

## 1. OTURUM

12. Osmanlı Devleti'nde milletisadık (Sadık millet) olarak adlandırılan azınlık, aşağıdakilerden hangisidir?

- A) Sırlar B) Ermeniler  
C) Rumlar D) Bulgarlar

13. Avrupa devletleri, 1882 yılında aşağıdaki kurumlardan hangisini kurarak Osmanlı Devleti'nin pul, tütün, tuz, ipek, bal gibi gelir kaynaklarına el koymuştur?

- A) Maarifiadliye  
B) Divanihümayun  
C) Düyunuümumiye  
D) Mızıkaıyihümayun

14. Osmanlı Devleti'nin ilk anayasası, aşağıdakilerden hangisidir?

- A) Mecelle  
B) Senediittifak  
C) Kanunuesasi  
D) Teşkilatıesasiye

15. 19. yüzyılda Rus Çarı I. Nikola'nın "Hasta Adam" tabiri ile adlandırdığı devlet, aşağıdakilerden hangisidir?

- A) İtalya  
B) Fransa  
C) İngiltere  
D) Osmanlı Devleti

16. Osmanlı Devleti, aşağıdaki savaşların hangisinde ilk kez İngiltere ve Fransa'dan borç para almıştır?

- A) 93 Harbi  
B) Kırım Savaşı  
C) Balkan Savaşı  
D) I. Dünya Savaşı

17. Sanayi İnkılabı, Osmanlı Devleti'nde aşağıdaki hangi ekonomik alanı daha çok olumsuz etkilemiştir?

- A) Dokuma sanayisini  
B) Hayvancılığı  
C) Balıkçılığı  
D) Tarımı

18. Osmanlı padişahı, aşağıdakilerden hangisiyle ilk kez kendi gücünün üstünde kanun gücü olduğunu kabul etmiştir?

- A) Mecelle'yle  
B) Senedi İttifakla  
C) İslahat Fermanı'yla  
D) Tanzimat Fermanı'yla

19. Osmanlı Devleti'nde Tanzimat Dönemi'nde, başkanlığını Ahmet Cevdet Paşa'nın yaptığı bir komisyon tarafından hazırlanan medeni kanun, aşağıdakilerden hangisidir?

- A) Mecelle  
B) Kanunuesasi  
C) Senedi İttifak  
D) Tanzimat Fermanı

20. 31 Mart Vakası sonucunda tahttan indirilen Osmanlı padişahı, aşağıdakilerden hangisidir?

- A) III. Selim  
B) II. Mahmut  
C) I. Abdülmecit  
D) II. Abdülhamit

### (135) TARİH – 5

1. Orta Asya'da sert ve karasal bir iklimin hüküm sürmesi, yağışların yetersiz olması; yazların sıcak ve kurak, kışların ise dondurucu ve fırtınalı geçmesi sebebiyle Türklerin başlıca geçim kaynağı;

- I. Tarım  
II. Ticaret  
III. Hayvancılık

faaliyetlerinden hangileri olmuştur?

- A) Yalnız I B) Yalnız III  
C) I ve II D) I, II ve III

2. Türk ana yurdunda rastlanan en eski kültür Abakan veya ---- adıyla anılırdı.

Verilen cümlede boş bırakılan yere aşağıdakilerden hangisi getirilmelidir?

- A) Afanasyevo B) Tagar  
C) Karasuk D) Taştık

3. Aşağıdakilerden hangisi, Orta Asya'daki Türk göçlerinin nedenlerinden biri değildir?

- A) Sanayi kuruluşlarının yetersiz olması  
B) Nüfusun artması ve otlakların yetersizliği  
C) Boylar arasında yaşanan siyasi anlaşmazlıklar  
D) Boyların bağımsızlığının tehlikeye düşmesi

4. Aşağıdaki toplumlardan hangisi, tarihte "bozkırın kuyumcuları" olarak anılmıştır?

- A) Oğuzlar B) Persler  
C) İskitler D) Sümerler

5. Tarihte bilinen ilk Türk Devleti aşağıdakilerden hangisidir?

- A) Uygur Devleti  
B) Hazar Devleti  
C) Türgiş Devleti  
D) Büyük Hun Devleti

6. MÖ 214 yılında tamamlanan Çin Seddi, aşağıdaki hangi kavmin Çin'e akınlarını durdurmak amacıyla yapılmıştır?

- A) Almanlar B) İngilizler  
C) Fransızlar D) Türkler

7. • Babasını tahttan indirip "şanyü" unvanıyla tahta çıkmış,  
• Türk tarihinde orduyu onluk sisteme göre düzenleyerek ilk düzenli orduyu kurmuş,  
• Çin'e sefer düzenleyerek Çin'i vergiye bağlamış

olan ünlü Türk hükümdarı, aşağıdakilerden hangisidir?

- A) Teoman B) Mete  
C) Bilge Kağan D) Kutluk Kağan

8. Ak Hun Devleti, aşağıdaki hangi iki devletin ittifakı sonrasında yıkılmıştır?

- A) Sasani - Kök Türk  
B) Sasani - Bizans  
C) Bizans - Kök Türk  
D) Kök Türk - Çin

## 1. OTURUM

(136) TARİH – 6

9. Türklerin Çin esaretinde yaşamasını kabul edemeyen ve otuz dokuz arkadaşıyla Çin sarayını basarak Çin imparatorunu kaçırmayı planlayan efsanevi Türk kahramanı, aşağıdakilerden hangisidir?
- A) Kara Murat B) Tarkan  
C) Kürşad D) Köroğlu
10. Moğolların Türkleşmesinde rol oynayan Türk topluluğu, aşağıdakilerden hangisidir?
- A) Hazarlar B) Peçenekler  
C) Kırgızlar D) Uygurlar
11. Uygur Devleti'nin kurucusu aşağıdakilerden hangisidir?
- A) Attila  
B) Teoman  
C) Kapgan Kağan  
D) Kutluk Bilge Kül Kağan
12. Uygurlarda tarım faaliyetlerinin başlaması ve mimari eserlerin yapılması, aşağıdakilerden hangisinin bir sonucudur?
- A) Yerleşik hayata geçmelerinin  
B) Mani dinini benimsemelerinin  
C) Yüksek tekerlekli araba yapmalarının  
D) Göçebe yaşam tarzını benimsemelerinin
13. Moğol hâkimiyetine giren ilk Türk kavmi, aşağıdakilerden hangisidir?
- A) Avarlar B) Hazarlar  
C) Karluklar D) Kırgızlar
14. Türk tarihinde Museviliği kabul eden ilk ve tek Türk devleti, aşağıdakilerden hangisidir?
- A) Karluklar B) Hazarlar  
C) Avarlar D) Türgişler
15. Orta Asya'da Türkler, ölen kahramanlarının mezarları başına, hayat-tayken yendiği ve öldürdüğü düşmanlarının heykellerini dikerlerdi. Bu heykellere verilen isim aşağıdakilerden hangisidir?
- A) Tarıglağ B) Kurgan  
C) Balbal D) Börk
16. 751 yılında Araplarla Çinliler arasında yapılan Talas Savaşı'nda, Müslüman Arapların yanında yer alarak Çinlilerin yenilmesine katkıda bulunan Türk topluluğu, aşağıdakilerden hangisidir?
- A) Karluklar B) Bulgarlar  
C) Türgişler D) Hazarlar
17. İlk Türk devletlerinde, Türk devlet ve sosyal hayatını düzenleyen hukuki kurallar bütününe ne ad verilir?
- A) Kut B) Töre  
C) Tudun D) Mecelle
18. Aşağıdakilerden hangisi ilk Türk devletlerinde hükümdara verilen unvanlardan biri değildir?
- A) Han B) Kağan  
C) Padişah D) Hakan
19. Aşağıdakilerden hangisi Orta Asya'da kurulan ilk Türk devletlerinin başlıca gelir kaynaklarından biri değildir?
- A) Halktan toplanan vergiler  
B) Bağlı devletlerden alınan vergiler  
C) Ticaret yollarından sağlanan vergiler  
D) Su kanalları ve boğazlardan geçen gemilerden alınan vergiler
20. Emevilerin Arap olmayanları köle olarak görmeleri ve Arap milliyetçiliği politikası gütmeleri, aşağıdakilerden hangisine neden olmuştur?
- A) İslamiyetin yayılması yavaşlamıştır.  
B) Emevilerin yıkılması gecikmiştir.  
C) İslamiyete geçiş hızlanmıştır.  
D) İslamiyete olan ilgi artmıştır.
1. İslamiyetten önce Arap Yarımadası ve daha birçok yerde insani, ahlaki ve dinî değerlerin kaybolduğu dönemi ifade etmek için aşağıdaki kavramlardan hangisi kullanılmaktadır?
- A) Fetret B) Hicret  
C) Cahiliye D) Fütüvvet
2. Hicret sonrası ilk İslam devleti, aşağıdaki şehirlerin hangisinde kurulmuştur?
- A) Medine B) Mekke  
C) Taif D) Hayber
3. Hz. Muhammed İslamiyeti;
- I. Mekke halkına  
II. Yakın akrabalarına  
III. En yakınındakilerine  
tebliğe başlamıştır.
- Yukarıda karışık olarak verilen olayların doğru sıralaması, aşağıdakilerin hangisinde verilmiştir?
- A) I - II - III B) II - III - I  
C) I - III - II D) III - II - I
4. Hz. Muhammed'in 632 yılında vefatı sonrasında aşağıdakilerden hangileri sırasıyla halife seçilmişlerdir?
- A) Hz. Ebubekir, Hz. Ali, Hz. Osman, Hz. Ömer  
B) Hz. Osman, Hz. Ömer, Hz. Ali, Hz. Ebubekir  
C) Hz. Ebubekir, Hz. Osman, Hz. Ömer, Hz. Ali  
D) Hz. Ebubekir, Hz. Ömer, Hz. Osman, Hz. Ali
5. İslam dininin getirmiş olduğu adalet ve eşitlik anlayışı aşağıdakilerden hangisine yol açmıştır?
- A) İslam devletlerinin büyük ve güçlü ordulara sahip olmasına  
B) İslam dininin hızla geniş coğrafyalara yayılmasına  
C) İslam devletlerinin ekonomisinin gelişmesine  
D) Kur'an-ı Kerim'in Arapça yazılmasına

## 1. OTURUM

6. Türklerin İslamiyet'i kabul etmelerinde;

- I. Tek tanrı inancı
- II. Cennet ve cehennem inancının olması
- III. Emevilerin çok güçlü bir orduya sahip olması
- IV. Temizliğe önem verilmesi
- V. Güçlü bir ekonomiye sahip olmaları

**faktörlerinden hangileri etkili olmamıştır?**

- A) I, II ve III      B) III ve V  
C) II, IV ve V      D) I, III ve V

7. Abbasiler Dönemi'nde Türkler özellikle - - - - teşkilatı içerisinde yer aldılar.

**Verilen cümlede boş bırakılan yere, aşağıdakilerden hangisi getirilmelidir?**

- A) Ekonomik      B) İdari  
C) Ordu              D) Adli

8. Aşağıdaki devletlerden hangisinin yöneticileri Türk olup; yönetilen halkı farklı bir millete mensuptur?

- A) Tolunoğulları  
B) Karahanlılar  
C) Türkiye Selçukluları  
D) Harzemşahlar

9. Orta Asya'da kurulan ilk Müslüman Türk devleti aşağıdakilerden hangisidir?

- A) Büyük Selçuklular  
B) Karahanlılar  
C) Gazneliler  
D) Harzemşahlar

10. Gazne Devleti adını, aşağıdakilerin hangisinden alır?

- A) Kurucusunun isminden  
B) Kurulduğu bölgeden  
C) Kurucusunun geldiği sülaleden  
D) Kurulduğu şehirden

11. Aşağıdakilerden hangisi, Büyük Selçuklu Devleti'nin toprakları üzerinde kurulan devletlerden biri değildir?

- A) Suriye Selçukluları  
B) Türkiye Selçukluları  
C) Medine Selçukluları  
D) Irak ve Horasan Selçukluları

12. Harzemşahlar Devleti'nin yıkılışına sebep olan devlet, aşağıdakilerden hangisidir?

- A) Anadolu Selçukluları  
B) Büveyhoğulları  
C) Karahanlı  
D) Gazne

13. Türk-İslam devletlerinde ülke, hükümdar ailesinin ortak malı sayılmıştır. Tahta geçme konusunda belli bir veraset sistemi yoktur.

**Tahta geçmenin belirli bir kurala bağlanmamış olması, aşağıdakilerden hangisine neden olmuştur?**

- A) Taht kavgalarına  
B) Devletin zenginleşmesine  
C) Sınırların genişlemesine  
D) Merkezî otoritenin güçlenmesine

14. Aşağıdakilerden hangisi Selçuklularda hükümdarlık sembollerinden biri değildir?

- A) Para bastırma  
B) Hutbe okutma  
C) Bayrak  
D) Kopuz

15. Türk-İslam devletlerinde devlet yönetiminde hükümdardan sonra en yetkili kişi, aşağıdakilerden hangisidir?

- A) Hacıp              B) Vezir  
C) İlbaşı              D) Çavuş

16. Türklerin İslamiyet'i kabullerinden sonra yazılan ilk İslami Türkçe eser, aşağıdakilerden hangisidir?

- A) Şehname  
B) Tarih-i Yemin  
C) Kutadgu Bilig  
D) Divan-ı Hikmet

17. Aşağıdakilerden hangisi Türk-İslam devletlerinde toprak sistemi ile ilgili değildir?

- A) İкта              B) Has  
C) Mülk              D) Ulak

18. İsmi Latinceye "Alkhorizmi", Fransızcaya "Algorithme" şeklinde geçen, 9. yüzyılda yetişen, cebir alanında ilk defa eser yazan Müslüman - Türk matematik, coğrafya ve astronomi âlimi, aşağıdakilerden hangisidir?

- A) Gazali              B) Cüveyni  
C) Harezmi              D) Ömer Hayyam

19. • Fatımi Devleti'ni yıkan,  
• Haçlılardan Kudüs'ü geri alan,  
• Suriye ve Filistin üzerindeki Hristiyan üstünlüğüne son veren

**devlet, aşağıdakilerden hangisidir?**

- A) Memlûkler      B) Fatımiler  
C) Eyyübiler      D) Moğollar

20. Memlûk Devleti'nin resmî dili, aşağıdakilerden hangisidir?

- A) Arapça              B) Türkçe  
C) Farsça              D) Çince

(141) T.C. İNK. TAR. VE ATA. – 1

1. Çıkarlarına uygun olması nedeniyle İtalya'nın Trablusgarp'ı işgal etmesine göz yuman devletler, aşağıdakilerin hangisinde birlikte verilmiştir?

- A) İran - Almanya - İngiltere  
B) İngiltere - Fransa - Rusya  
C) Fransa - Kanada - İsveç  
D) Rusya - Almanya - İspanya

2. Balkan Savaşları sonrasında, aşağıdaki sorunlardan hangisi ortaya çıkmıştır?

- A) Kıbrıs Sorunu  
B) Arnavutluk Sorunu  
C) Balkan Türkleri Sorunu  
D) Bosna - Hersek Sorunu



## 1. OTURUM

3. "20. yüzyılın başlarında kalkındırma görünümü altında Osmanlı Devleti üzerinde etkisini giderek artıran devlet - - - olmuştur."
- Verilen cümlelerin doğru olabilmesi için boş bırakılan yere aşağıdaki devletlerden hangisi yazılmalıdır?
- A) Almanya B) İngiltere  
C) Fransa D) Rusya
4. İzmir yöresinin işgali sırasında Yunanlıların bölgede yaptığı katliamların gerçekliğini onaylayan ve işgalin bir ilhaka dönüştüğünü dünya kamuoyuna duyuran yabancı kaynaklı ilk resmî belge, aşağıdakilerden hangisidir?
- A) Wilson Bildirisi  
B) Petrograd Protokolü  
C) Sevr Antlaşma Metni  
D) Amiral Bristol Raporu
5. Amerikan manda yönetimini isteyenler tarafından kurulan millî varlığa düşman cemiyet, aşağıdakilerden hangisidir?
- A) Teali İslam Cemiyeti  
B) Hürriyet ve İtilaf Fırkası  
C) İngiliz Muhipler Cemiyeti  
D) Wilson Prensipleri Cemiyeti
6. Osmanlı Devleti'nin paylaşılması tasarıları sırasında Yunanistan'a da pay verilmesi, aşağıdakilerin hangisinde kararlaştırılmıştır?
- A) Paris Konferansı'nda  
B) Petrograd Protokolü'nde  
C) Lozan Barış Görüşmeleri'nde  
D) Sen Jan dö Moren Antlaşması'nda
7. I. Dünya Savaşı'ndan Mondros Ateşkes Antlaşması'nı imzalayarak ayrılan İttifak Devleti, aşağıdakilerden hangisidir?
- A) Almanya  
B) Bulgaristan  
C) Osmanlı Devleti  
D) Avusturya - Macaristan İmparatorluğu
8. Mustafa Kemal'in 5 Temmuz 1917 tarihinde komutanlığına atandığı VII. Ordu, aşağıdakilerden hangisine bağlıdır?
- A) Düzenli Ordu  
B) Hareket Ordusu  
C) Hilâfet Ordusu  
D) Yıldırım Orduları Grubu
9. Mustafa Kemal binbaşı rütbesine, aşağıda verilen hangi savaş sırasında terfi etmiştir?
- A) I. Balkan Savaşı  
B) II. Balkan Savaşı  
C) Trablusgarp Savaşı  
D) Sakarya Meydan Savaşı
10. Atatürk'ün "Hakikati konuşmaktan çekinmeyiniz." sözü, onun hangi kişilik özelliğini yansıtır?
- A) İyi kalpliliğini  
B) Gerçekçi oluşunu  
C) Vatan ve millet sevgisini  
D) Birleştirme ve bütünleştirme yönünü
11. Kurtuluş Savaşı'nın ilk siyasi belgesi, aşağıdakilerden hangisidir?
- A) Wilson İlkeleri  
B) Amasya Genelgesi  
C) Misakımillî Kararları  
D) Amasya Görüşmeleri
12. Millî Mücadele Dönemi'nde TBMM'nin varlığına ve otoritesine karşı çıkarılan cezalandırmak amacıyla çıkarılan kanun, aşağıdakilerden hangisidir?
- A) Takrir-i Sükûn Kanunu  
B) Başkomutanlık Kanunu  
C) Tevhid-i Tedrisat Kanunu  
D) Hıyanet-i Vataniye Kanunu
13. Türk tarihinde, Mondros Ateşkes Antlaşması'ndan I. TBMM'nin açılmasına kadar geçen döneme ne ad verilir?
- A) Kongreler Dönemi  
B) Cumhuriyet Dönemi  
C) Millî Mücadele Dönemi  
D) Meclis Hükûmeti Dönemi
14. Misakımillî'ye temel olan "Millî sınırlar içinde bulunan vatan bir bütündür, parçalanamaz." kararı, aşağıdakilerin hangisinde alınmıştır?
- A) Son Osmanlı Mebusan Meclisi'nde  
B) Amasya Görüşmelerinde  
C) Erzurum Kongresi'nde  
D) Amasya Genelgesi'nde
15. Temsil Heyeti'ne Millî Mücadele'yi sevk ve idare yetkisi, aşağıdakilerden hangisiyle verilmiştir?
- A) Misakımillî'yle  
B) Sivas Kongresi'yle  
C) Havza Genelgesi'yle  
D) Cumhuriyetin ilanıyla
16. Aşağıdakilerden hangisi "Elviye-i Selase" olarak kabul edilen şehirlerden değildir?
- A) Kars B) Batum  
C) Ardahan D) Erzurum
17. TBMM'nin İkinci İnönü galibiyeti sonrasında TBMM ile olan ilişkisini düzelterek ilerletmek isteyen ve bu amaçla da Malta'da tuttuğu Türk esirleri serbest bırakan devlet, aşağıdakilerden hangisidir?
- A) Fransa B) İngiltere  
C) Almanya D) Rusya
18. "Türk kuvvetlerinin - - - Savaşı'nı kazanmasından sonra İtilaf Devletleri, Londra'da bir konferans düzenlemeye karar vermişlerdir."
- Verilen bilginin doğru olabilmesi için cümlede boş bırakılan yere, aşağıdakilerden hangisi yazılmalıdır?
- A) Dumlupınar B) Sakarya  
C) I. İnönü D) II. İnönü
19. TBMM, aşağıdaki kişilerden hangisini 8 Kasım 1920'de Moskova'ya büyükelçi olarak atamıştır?
- A) Ali Fuat Cebesoy  
B) Kâzım Karabekir  
C) İsmet İnönü  
D) Refet Bele

## 1. OTURUM

20. Millî Mücadele Dönemi'nde, Türkiye Büyük Millet Meclisi tarafından yapılan ilk inkılap, aşağıdakilerden hangisidir?

- A) Saltanatın kaldırılması
- B) Halifeliğe son verilmesi
- C) Tekke ve zaviyelerin kapatılması
- D) Soyadı Kanunu'nun çıkarılması

(142) T.C. İNK. TAR. VE ATA. – 2

1. TBMM tarafından halife olarak seçilen Abdülmecit Efendi'nin yetkilerini aşarak padişah gibi davranması, aşağıdaki inkılaplardan hangisinin yapılmasına gerekçe olmuştur?

- A) Halifeliğin kaldırılması
- B) Saltanatın kaldırılması
- C) Tekke ve türbelerin kapatılması
- D) Türk Medeni Kanunu'nun çıkarılması

2. Türkiye Büyük Millet Meclisinin açılmasından kaç gün sonra cumhuriyet ilan edilmiştir?

- A) 1095
- B) 1280
- C) 1284
- D) 1320

3. Aşağıdakilerden hangisi, meclis hükûmeti sisteminin ortaya çıkardığı sorunları çözümlenerek hükûmet bunalımlarını önlemek amacıyla yapılmıştır?

- A) Halifeliğin kaldırılması
- B) Cumhuriyetin ilan edilmesi
- C) Medreselerin kapatılması
- D) Şeyh Sait İsyanı'nın bastırılması

4. Menemen Olayı, aşağıdaki siyasi fırkalardan (partilerden) hangisinin kapanması sonrasında çıkmıştır?

- A) Halk Fırkası
- B) Serbest Cumhuriyet Fırkası
- C) Terakkiperver Cumhuriyet Fırkası
- D) İttihat ve Terakki Fırkası

5. Osmanlı Devleti'nde şeri davalara bakan görevli aşağıdakilerden hangisidir?

- A) Kadı
- B) Sipahi
- C) Emir-i Dad
- D) Yiğitbaşı

6. Aşağıdakilerden hangisi Şeyh Sait İsyanı'nın sonuçlarından biri değildir?

- A) Takrir-i Sükûn Kanunu'nun çıkarılması
- B) İstiklal Mahkemelerinin yeniden kurulması
- C) İsmet Paşa Hükûmetinin istifası
- D) Terakkiperver Cumhuriyet Fırkasının kapatılması

7. Cumhuriyet Dönemi'nde çıkarılan aşağıdaki kanunlardan hangisiyle Türk kadınlara dilediği mesleğe girme hakkı tanınmıştır?

- A) Soyadı Kanunu
- B) Türk Medeni Kanunu
- C) Teşvik-i Sanayi Kanunu
- D) Tevhid-i Tedrisat Kanunu

8. Aşağıdakilerden hangisi, Türk Dili Tetkik Cemiyetinin kuruluş amaçlarından biri değildir?

- A) Türk dilini yabancı sözcüklerden kurtarmak
- B) Türkçeyi millî ve çağdaş bir dil hâline getirmek
- C) Türkçenin bilim ve kültür dili olmasını sağlamak
- D) Türk tarihini Türkçe olarak yeniden yazmak

9. Aşağıdaki kavramlardan hangisi "ekonomi andı" anlamında da kullanılmaktadır?

- A) Ahd-i millî
- B) Misakımillî
- C) Kuvayımillî
- D) Misakıiktisadi

10. Sözlükte, "Gelişip güzelleşmesi, hayat şartlarının uygun duruma getirilmesi için üzerinde çalışılmış olan, bakımlı, imar edilmiş, mamur" şeklinde geçen kavram, aşağıdakilerden hangisidir?

- A) Seciye
- B) Mümtaz
- C) Bayındır
- D) İzmihlal

11. Aşağıdaki gelişmelerden hangisi Balkan Antantı'nın kurulmasında doğrudan etkili olmuştur?

- A) II. Dünya Savaşı'nın çıkması
- B) Boğazlar Komisyonu'nun kaldırılması
- C) Almanya ve İtalya'nın saldırgan politikalar izlemesi
- D) II. Dünya Savaşı'nda ABD'nin Japonya'ya atom bombası atması

12. Atatürk Döneminde gerçekleşen aşağıdaki olaylardan hangisi, Türk - Sovyet ilişkilerinde ayrılığın ilk adımını oluşturmuştur?

- A) Sadabat Paktı'nın kurulması
- B) Hatay'ın ana vatana katılması
- C) Türkiye'nin Birleşmiş Milletlere üye olması
- D) Montrö Boğazlar Sözleşmesi'nin imzalanması

13. Aşağıdakilerden hangisi, hâkimiyetin kaynağına göre devlet şekillerinden biri değildir?

- A) Teknokratik
- B) Teokratik
- C) Oligarşik
- D) Monarşik

14. Türkiye Cumhuriyeti'nin ikinci cumhurbaşkanı olan İsmet İnönü'nün mezarı, aşağıdaki yerlerden hangisindedir?

- A) Anıtkabir'de
- B) I. TBMM binasında
- C) Etnografya Müzesinde
- D) Çanakkale Millî Parkı'nda

15. Osmanlı Devleti'nde Müslüman teb'a ile gayrimüslimler, Tanzimat Fermanı'yla eşit haklara sahip olmuşlardır.

Bu uygulama, aşağıdaki Atatürk ilkelerinden hangisiyle yakından ilgilidir?

- A) Milliyetçilik
- B) Halkçılık
- C) Devletçilik
- D) Cumhuriyetçilik

16. İstiklal Savaşı'mızın başlangıcından itibaren birleştirici rol oynayan ilke, aşağıdakilerden hangisidir?

- A) Laiklik
- B) Devletçilik
- C) Milliyetçilik
- D) Cumhuriyetçilik

17. II. Dünya Savaşı yıllarında İtalya'daki mevcut iktidarın ideolojisi, aşağıdakilerden hangisidir?

- A) Liberalizm
- B) Komünizm
- C) Nazizm
- D) Faşizm

## 1. OTURUM

18. II. Dünya Savaşı'nın Müttefik Devletlerce kazanılmasında, aşağıdaki devletlerden hangisinin savaşa girmesi etkili olmuştur?

- A) ABD
- B) Japonya
- C) Finlandiya
- D) Sovyetler Birliği

19. Aşağıdakilerden hangisi, Cumhuriyet Halk Partisinden siyasi iktidarı devralan siyasi partidir?

- A) Demokrat Parti
- B) Doğruyol Partisi
- C) Millî Kalkınma Partisi
- D) Cumhuriyetçi Köylü Millet Partisi

20. Kore Sorunu, aşağıdaki savaşlardan hangisinin sonunda ortaya çıkmıştır?

- A) I. Dünya
- B) II. Dünya
- C) I. Balkan
- D) II. Balkan

### (153) COĞRAFYA – 3

1. Tor topoğrafyasının oluşumunda aşağıdaki kayaç gruplarından hangisi etkili olmuştur?

- A) Kimyasal tortul kayaçlar
- B) İç püskürük kayaçlar
- C) Fiziksel tortul kayaçlar
- D) Dış püskürük kayaçlar

2. Kayaç döngüsü ile kayaçlar milyonlarca yıl içerisinde birbirine dönüşebilmektedir.

Aşağıdakilerden hangisi bu dönüşümün evreleri arasında gösterilemez?

- A) Buharlaşıma
- B) Erime
- C) Aşınma
- D) Soğuma

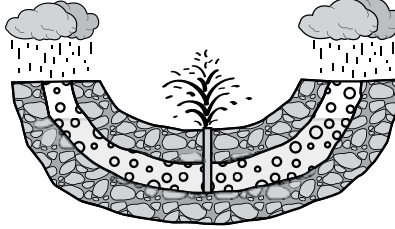
3. İki okyanusal levhanın birbirinden uzaklaştığı yerlerde hangi yeryüzü şekli oluşur?



- A) Kırık dağlar
- B) Kıvrım dağlar
- C) Okyanus hendekleri
- D) Okyanus ortası sırtlar

4. Levha sınırları ile aşağıdakilerden hangisinin dağılışı arasında paralellik yoktur?

- A) Depremler
- B) Dağlık alanlar
- C) Volkanik alanlar
- D) Sıcak su kaynakları

5.



-  Geçirimsiz tabaka
-  Geçirimli tabaka

Şekilde gösterilen kaynak türü aşağıdakilerden hangisidir?

- A) Gayzer
- B) Fay kaynağı
- C) Karstik kaynak
- D) Artezyen

6. Aşağıdaki toprak türlerinden hangisinin humus oranı daha azdır?

- A) Kahverengi orman toprakların
- B) Çernezyom toprakların
- C) Çöl topraklarının
- D) Laterit toprakların

7. Herhangi bir toprak türünün tarımsal verimliliği üzerinde aşağıdakilerden hangisinin etkisi yoktur?

- A) Toprağın renginin
- B) Toprağın yıkanma oranının
- C) İçerisindeki mineral maddelerin
- D) Toprak üzerindeki bitki örtüsünün

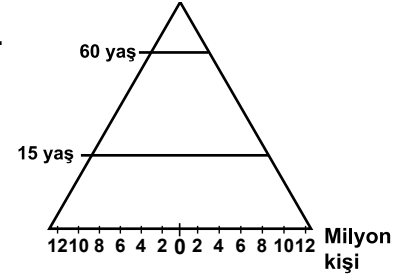
8. Aşağıdakilerden hangisi bitki örtüsünün dağılışına etki eden doğal faktörler arasında gösterilemez?

- A) İklim
- B) Yer şekilleri
- C) Toprak özellikleri
- D) Tarım faaliyetleri

9. Sıcaklık ortalaması yüksek, yağışın az olduğu bir iklim tipinde aşağıdaki bitki topluluklarından hangisi gelişebilir?

- A) Maki
- B) Tundra
- C) Muson ormanları
- D) Geniş yapraklı ormanlar

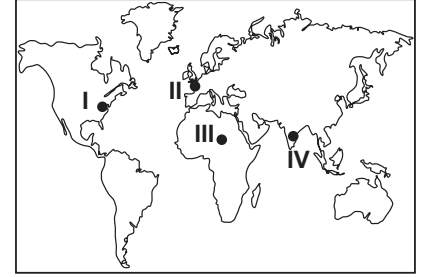
10.



Düzgün üçgene benzeyen nüfus piramidine sahip bir ülke için aşağıdaki çıkarımlardan hangisi yapılamaz?

- A) Doğum oranı yüksektir.
- B) Ortalama ömür uzundur.
- C) Kişi başına düşen milli gelir azdır.
- D) Tarım sektöründe çalışanların oranı fazladır.

11.



Yukarıdaki Dünya haritasında işaretli noktaların hangisinde nüfus yoğunluğunun fazla olmasında ulaşım faaliyetleri daha etkili olmuştur?

- A) I. ve II.
- B) II. ve III.
- C) I. ve IV.
- D) II. ve IV.

12. Aşağıdakilerden hangisi göçe neden olan siyasi bir faktördür?

- A) İş imkanı
- B) Eğitim
- C) Sağlık
- D) Mübadele

13. I. Güçlü imparatorluklar kuruldu.  
II. Yerleşik hayata geçildi.  
III. Takas yoluyla ticari faaliyetler başladı.

Yukarıdakilerden hangisi Kalkolitik çağda gerçekleşen bir gelişmedir?

- A) Yalnız I
- B) Yalnız II
- C) Yalnız III
- D) I ve III

## 1. OTURUM

14. Yoğun göç alan şehirlerde fabrikaların yerleşim alanlarının içerisinde kalmasının sebebi nedir?

- A) Doğal afetler
- B) Sağlık hizmetleri
- C) Doğal kaynaklar
- D) Gecekondulaşma

15. Aşağıdaki kayalardan hangisinin sertlik derecesi daha düşüktür?

- A) Volkan tüfü
- B) Mermer
- C) Çakıl taşı
- D) Granit

16. Akdeniz ile Karadeniz kıyılarımız karşılaştırıldığında aşağıdaki özelliklerden hangisi aynıdır?

- A) Sıcaklık ortalaması
- B) Yeraltı kaynakları
- C) Bitki örtüsü
- D) Dağların kıyıya uzanışı

17. Ülkemizde Erzurum-Kars platosu üzerinde tarımsal faaliyetlerin yetersiz olmasının sebebi aşağıdakilerden hangisidir?

- A) Nüfus yoğunluğunun az olması
- B) Çernezyom toprakların yaygın olması
- C) Sıcaklık ortalamasının düşük olması
- D) Tarım teşviklerinin yeterli olması

18. Aşağıdakilerden hangisi tabakaların sıkışıp kırılması sonucu oluşmuş dağ kütlelerimizden değildir?

- A) Bozdağlar
- B) Küre Dağları
- C) Aydın Dağları
- D) Yunt Dağları

19. Ülkemizde ardışık iki meridyen arası yaklaşık 85-86 km. dir. Bu durum aşağıdakilerden hangisiyle ilgilidir?

- A) Kuzey Yarım Küre'de olması
- B) Mevsimlerin belirgin olarak yaşanması
- C) 36° - 42° Kuzey paralelleri arasında bulunması
- D) Kış mevsiminde cephesel yağışların görülmesi

20. Ülkemiz genelinde kıyı kesimler ile iç kesimler arasında yağış farkı vardır. Bu durumun sebebi nedir?

- A) Bitki örtüsü
- B) Yer şekilleri
- C) Matematik konum
- D) Toprak özellikleri

### (154) COĞRAFYA – 4

1. Ülkemizin iç kesimlerinde görülen ve üzerinde ağırlıklı olarak tahıl tarımının yapıldığı toprak türü nedir?

- A) Terra-Rossa topraklar
- B) Kara topraklar (Çernezyom)
- C) Kahverengi orman toprakları
- D) Kestane renkli bozkır toprakları

2. Aşağıdakilerden hangisi orman yan ürünüdür?

- A) Reçine
- B) Parke
- C) Kağıt
- D) Tomruk

3. Aşağıdakilerden hangisi alüvyal toprakların özelliklerinden biri değildir?

- A) Horizonları gelişmiş; olup zor işlenirler.
- B) Eski göl tabanlarında yaygındırlar.
- C) Mineral ve organik maddece zengindirler
- D) Dış kuvvetlerin taşıdığı malzemelerin birikmesiyle oluşmuşlardır.

4. Aşağıda verilen yerlerin hangisinde endemik bitkiler daha fazla görülür?

- A) Iğdır Ovası
- B) Toros Dağları
- C) Aydın Dağları
- D) Trakya Yarımadası

5. Aşağıdakilerden hangisi nüfus ve yerleşme faaliyetlerini etkileyen beşeri faktördür?

- A) Sıcaklık
- B) Madencilik
- C) Jeolojik yapı
- D) Su kaynakları

6. Aşağıdakilerden hangisi dağlık yerleşme tipinin oluşmasına sebep olan faktörlerden biri değildir?

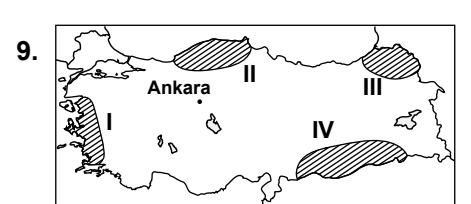
- A) Yer şekillerinin engebeli olması
- B) Su kaynaklarının zengin olması
- C) Tarım arazilerinin parçalı olması
- D) Nüfus yoğunluğunun düşük olması

7. Aşağıdaki şehirlerden hangisinde sanayi faaliyetleri daha yoğundur?

- A) Ordu
- B) Muğla
- C) Bursa
- D) Erzincan

8. Aşağıdakilerden hangisi "aktif nüfus" kavramını doğru açıklamaktadır?

- A) Çalışma çağına olduğu halde çalışmayan nüfusa denir.
- B) Genel nüfus içinde bir işte çalışan nüfusun tamamına denir.
- C) Çalışma çağındaki dilimde olup işi olan nüfusa denir.
- D) İş olsun olmasın çalışma çağındaki nüfusun tamamına denir.



Haritada numaralandırılarak verilen alanların hangisinde kuraklık daha etkili olmaktadır?

- A) I.
- B) II.
- C) III.
- D) IV.

## 1. OTURUM

10. Aşağıdakilerden hangisi erozyon oluşumuna neden olan faktörlerdendir?

- A) Arazi yapısının eğimli oluşu
- B) Tarlaların eğim yönüne dik şekilde sürülmesi
- C) Arazinin zengin bitki örtüsüne sahip olması
- D) Arazinin sert ve dayanıklı kayalardan oluşması

11. Aşağıdaki ülkelerden hangisinde heyelan olayları daha çok yaşanır?

- A) İngiltere
- B) Irak
- C) Hindistan
- D) Almanya

12. Aşağıdakilerden hangisi deprem öncesi alınması gereken önlemlerdendir?

- A) Güç kaynaklarının enerjisini kesmek
- B) Panik yapmadan sakinliği korumak
- C) Balkon ve merdivenlerden uzak durmak
- D) Acil kurtarma ve yardım ekipleri oluşturmak

13. Aşağıdakilerden hangisi zonal toprakların temel özelliğidir?

- A) Organik madde bakımından zengin olmaları
- B) Oluştukları yerde yağış miktarlarının az olması
- C) Üzerlerinde küçükbaş hayvancılığının yaygın olması
- D) Ana kayanın bulunduğu yerde çözünerek oluşmuş olmaları

14. • 15-20 metre boyunda Batı ve Güney Anadolu'da yaygındır.  
• Gençlik döneminde yuvarlak, yaşlılık döneminde şemsiye biçiminde tepeye sahiptir.  
• Tohumları yetiştiği yerlerdeki köylüler için gelir kaynağıdır.

Yukarıda bazı özellikleri sıralanan ağaç türünün adı nedir?

- A) Fıstık çamı
- B) Kayın
- C) Sarıçam
- D) Kızılcım

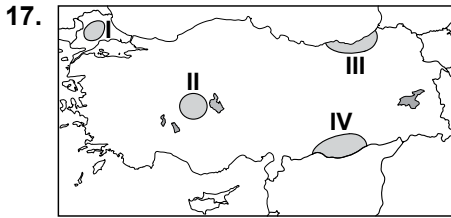
15. Ülkemizin sıcak su kaynakları bakımından zengin olmasında aşağıdakilerden hangisi etkili olmuştur?

- A) Ova ve platoların geniş yer tutması
- B) Ortalama yükseltisinin 1132 m. olması
- C) Aktif bir tektonik yapıya sahip olması
- D) Dağların doğu-batı yönde uzanması

16. Ülkemizde orman alanları genellikle kıyı bölgelerde yoğunudur.

Bu durumun temel sebebi nedir?

- A) Nem
- B) Sıcaklık
- C) Basınç
- D) Rüzgar



Haritada numaralandırılarak verilen taralı alanlardan hangisinde dağınık yerleşme tipi daha yaygındır?

- A) I.
- B) II.
- C) III.
- D) IV.

18. Batı Karadeniz'de yaygın olan, birkaç mahallenin tek muhtarlık olarak birleştiği kır yerleşmesine ne ad verilir?

- A) Divan
- B) Mezra
- C) Çiftlik
- D) Kom

19. Sümerler M.Ö. 600 yılında aşağıdakilerden hangisini icat etmişlerdir?

- A) Pusulayı
- B) Kağıdı
- C) Matbaayı
- D) Yazıyı

20. Aşağıdakilerden hangisi doğal afetlerin zararlarını azaltmaya yönelik önlemlerden biri olamaz?

- A) Sivil savunma eğitimleri yapmak
- B) Konut ve yapıları yeterince sağlam yapmak
- C) Ülke nüfusunu belli bölgelerde yoğunlaştırmak
- D) Afet riski olan alanların uzağına yerleşmek

## (155) COĞRAFYA – 5

1. Bitkilerin yeryüzüne dağılışı aşağıdakilerden hangisinin dağılışını doğrudan etkiler?

- A) İklim tipleri
- B) Kayaç yapısı
- C) Hayvan türleri
- D) Yer şekilleri

2. Karasal biyomlar genellikle hangi coğrafi özelliğe göre sınıflandırılır?

- A) Yer şekillerine göre
- B) Toprak özelliklerine göre
- C) Bitki örtüsüne göre
- D) Enlem değerlerine göre

3. Aşağıdakilerden hangisi bir ekosistemi oluşturan canlı öğelerdendir?

- A) Karbonhidrat
- B) Mikroorganizmalar
- C) Karbondioksit
- D) Protein

4. Bir ülkede uygulanan nüfus politikası aşağıdakilerden hangisini daha az etkiler?

- A) Turizm faaliyetleri
- B) Tasarruf miktarı
- C) İş gücü ihtiyacı
- D) Eğitim durumu

5. Aşağıdaki olaylardan hangisi dünya genelinde şehirleşmenin büyük bir hız kazanmasında etkili olmuştur?

- A) Yerleşik hayata geçiş
- B) Pusulanın icadı
- C) Sanayi inkılabı
- D) Coğrafi keşifler

6. Aşağıdakilerden hangisinde dağıtım faaliyetlerinden söz edilmiştir?

- A) Gemilerde balıkların dondurularak işlenmesi balık üretimini arttırmıştır.
- B) Sanayinin gelişmesiyle el tezgahlarının yerini fabrikalar almıştır.
- C) Nitelikli iş gücünün azalması üretimi olumsuz etkilemektedir.
- D) Kahve fazla tüketildiğinden ana vatani dışında da üretilmektedir.



## 1. OTURUM

7. Bir şehrin sanayisinin gelişmesinde aşağıdakilerden hangisinin etkisi en azdır?

- A) Bilgi ve teknoloji birikiminin
- B) Çevresindeki enerji kaynaklarının
- C) Ulaşım ağının
- D) Doğal güzelliklerinin

8. İnsanların ekonomik faaliyetlerinin temelinde doğal kaynaklar yer almaktadır.

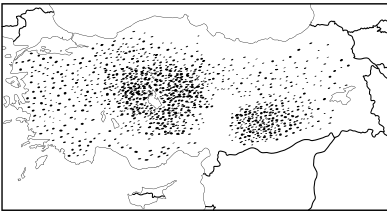
**Aşağıdakilerden hangisi bu duruma örnek olarak gösterilemez?**

- A) Nüfus artışının çevre kirliliğine neden olması
- B) Ağaçların yapı malzemesi olarak kullanılması
- C) Yer şekillerinin turizm faaliyetlerine konu olması
- D) Toprağın işlenmesi

9. Ülkemizin aşağıdaki özelliklerinden hangisi, siyasi ve ekonomik durumunu daha çok etkilemiştir?

- A) Dağlık bir ülke olması
- B) Yarım ada üzerinde bulunması
- C) Orta kuşakta bulunması
- D) Çanakkale ve İstanbul boğazlarına sahip olması

10.



Haritada üretim alanları gösterilen tarım ürünü aşağıdakilerden hangisidir?

- A) Turunçgil
- B) Buğday
- C) Fındık
- D) Zeytin

11. Aşağıdaki olaylardan hangisi su döngüsü içerisinde yer almaz?

- A) Buharlaşıma
- B) Terleme
- C) Başkalaşım
- D) Yoğuşma

12. Bolu çevresinde kümes hayvancılığının yoğun olmasının en önemli nedeni aşağıdakilerden hangisidir?

- A) İklimin elverişli olması
- B) Yer şekillerinin etkisi
- C) Kalabalık şehirlere yakın olması
- D) Yeterli sermayenin burda bulunması

13. Ülkemizde en fazla can ve mal kaybına neden olan doğal afet aşağıdakilerden hangisidir?

- A) Deprem
- B) Heyelan
- C) Sel
- D) Orman yangını

14. Aşağıda verilen biyomlardan hangisinde biyoçeşitlilik daha zengindir?

- A) Dağ biyomu
- B) Tundra biyomu
- C) İğne yapraklı ormanlar
- D) Tropikal yağmur ormanları

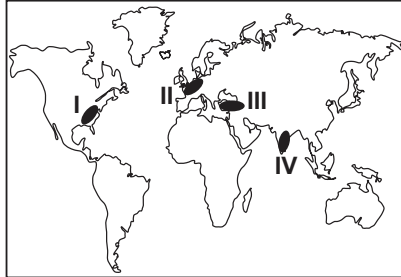
15. Atmosfere oksijen sağlayan en önemli kaynak aşağıdakilerden hangisidir?

- A) Elektrik deşarjları
- B) Volkanik faaliyetler
- C) Bitkilerin fotosentezi
- D) Besinlerin oksidasyonu

16. I. Üretimin artması  
II. Tasarrufların azalması  
III. İş gücü ihtiyacının azalması  
Yukarıdakilerden hangileri nüfus artış hızının yükselmesinin olumlu sonucudur?

- A) Yalnız I.
- B) I. ve II.
- C) I. ve III.
- D) II. ve III.

17.



Haritada işaretli yerlerden hangisinde nüfus artış hızını azaltmaya yönelik politikalar uygulanmaktadır?

- A) I.
- B) II.
- C) III.
- D) IV.

18. Ülkemizde volkanik sahalardaki ova ve platolar üzerinde aşağıdaki faaliyetlerden hangisi yaygın değildir?

- A) Madencilik
- B) Hayvancılık
- C) Yerleşme
- D) Tarım

19. Cumhuriyet kurulduktan sonra ekonomik kalkınmanın sağlanması amacıyla 1925 yılında Aşar Vergisi kaldırılmıştır

**Bu uygulama ile öncelikle aşağıdakilerden hangisi hedeflenmiştir?**

- A) Nüfus artış hızını yükseltmek
- B) Tarım sektörünü desteklemek
- C) Sanayinin gelişmesini sağlamak
- D) Hammadde ithalatına öncelik vermek

20. Doğal kaynaklar yönünden fakir ancak sermaye, iş gücü ve teknoloji açısından gelişmiş ülkeler dışarıdan hammadde alıp işleyerek açıklarını kapatmaktadır.

**Aşağıdakilerden hangisi bu ülkelere örnektir?**

- A) Suriye
- B) Japonya
- C) İran
- D) Hindistan

### (156) COĞRAFYA – 6

1. Aşağıdakilerden hangisi kültürü oluşturan manevi unsurlardandır?

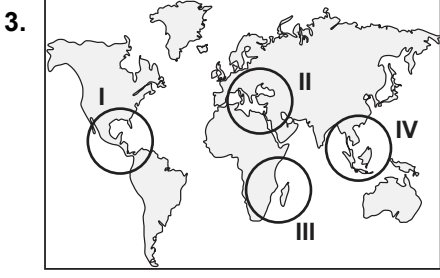
- A) Simgeler
- B) İklim özellikleri
- C) Hukuk kuralları
- D) Toprak özellikleri

2. Dünya Ticaret Ağı Haritası incelendiğinde; Kuzey Amerika, Batı Avrupa, Doğu ve Güneydoğu Asya'da ticaretin yoğun olduğu görülür.

**Bu durumun temel sebebi aşağıdakilerden hangisidir?**

- A) Yeryüzü şekillerinin uygun olması
- B) Ulaşım sistemlerinin gelişmiş olması
- C) Nüfus yoğunluklarının yüksek olması
- D) Üretim, pazar ve yatırımların yoğun olması

## 1. OTURUM



**Dünyanın Yedi Harikası, haritada numaralandırılarak verilen alanlardan hangisinin içinde yer alır?**

A) I. B) II. C) III. D) IV.

4. **Japonya'nın nüfus özellikleriyle ilgili aşağıda verilenlerden hangisi yanlıştır?**

- A) Nüfusunun yaklaşık %80'i kentlerde yaşar.  
B) Dünya'da nüfus yoğunluğu en yüksek ülkelerdendir.  
C) Ortalama insan ömrü yüksektir.  
D) Etnik ve kültürel çeşitlilik fazladır.

5. I. Nüfusun büyük kısmının kırsal alanlarda yaşaması  
II. Doğal kaynaklara sahip ülkeleri sömürmesi  
III. Avrupa'daki siyasi ve dini çatışmalardan etkilenmemesi  
IV. Bilim ve sanat adamlarına özgür ortam sunması

**Verilenlerden hangileri sanayileşme hareketinin ilk önce İngiltere'de başlamasının nedenlerindendir?**

A) Yalnız II. B) I. ve II.  
C) II., III. ve IV. D) I., II. ve III.

6. **Ülkelerin enerji üretiminde yenilenebilir kaynaklara ağırlık vermesinin en önemli sebebi aşağıdakilerden hangisidir?**

- A) Yenilenebilir kaynakların ekonomik olması  
B) Doğal kaynak rezervlerinin giderek azalması  
C) Yenilenebilir kaynakların çevreyi az kirlenmesi  
D) Her yerde yenilenebilir kaynaklara kolay ulaşılabilmesi

7. **Dünya genelinde linyit kömürünün en büyük kullanım alanı aşağıdakilerden hangisidir?**

- A) Ulaşım  
B) Konut ısıtma  
C) Elektrik üretimi  
D) Demir-çelik üretimi

8. **Aşağıdakilerden hangisi özellikle açık işletme madencilik faaliyetlerine bağlı olarak ortaya çıkan çevre sorunlarından değildir?**

- A) Bitki örtüsünün zarar görmesi  
B) Topraktaki kimyasal yapının değişmesi  
C) Havadaki karbonmonoksit oranının artması  
D) Yer üstü ve yer altı sularının kirlenmesi

9. **Önceleri küçük bir yerleşim merkezi iken 1948 yılında Raman Dağı'nda petrolün bulunmasıyla çok hızlı gelişerek 1990 yılında il statüsüne kavuşan şehrimiz aşağıdakilerden hangisidir?**

- A) Ardahan B) Batman  
C) Osmaniye D) Aksaray

10. **Aşağıdakilerden hangisi Dünya'nın önemli orman ürünleri üretim alanlarından biridir?**

- A) Orta Asya  
B) Amazon Havzası  
C) Kuzey Afrika  
D) Avustralya'nın iç kısımları

11. **Ülkeler ve bölgeler arasında ticaretin gelişmesine aşağıdakilerden hangisi daha çok katkı sağlar?**

- A) Ham madde üretiminin artması  
B) Dünya genelinde nüfus artış hızının düşmesi  
C) Ulaşım sistemlerindeki teknolojik gelişmeler  
D) Yenilenebilir enerji kaynaklarına olan talebin artması

12. **Aşağıdaki turizm faaliyetlerinden hangisi sportif aktiviteler grubunda değerlendirilemez?**

- A) Kongre B) Alpinizm  
C) Kamping D) Kanotaj

13. **Hindistan'ın en önemli tarım ürünü aşağıdakilerden hangisidir?**

- A) Elma B) Çeltik  
C) Mısır D) Muz

14. **2. Dünya Savaşı'nı kazanan ülkeler arasında savaş sonunda çıkabilecek anlaşmazlıkları çözmek, barış ve güvenliği sağlamak amacıyla 1945'te kurulan örgütün adı nedir?**

- A) Avrupa Birliği  
B) Birleşmiş Milletler  
C) Uluslararası Para Fonu  
D) Kuzey Atlantik Antlaşması Örgütü

15. **Tarım arazilerinin giderek değerlenmesinde aşağıdakilerden hangisinin etkisi daha fazladır?**

- A) Sanayinin gelişmesinin  
B) Erozyonun hızlanmasının  
C) Nüfusun sürekli artmasının  
D) Sulu tarımın yaygınlaşması

16. **Sıcak su kaynaklarından yararlanılarak üretilen enerji türüne ne ad verilir?**

- A) Hidroelektrik enerjisi  
B) Nükleer enerji  
C) Jeotermal enerji  
D) Rüzgar enerjisi

17. **Gelişmiş ülkeler doğal kaynaklarını kullanırken aşağıdakilerden hangisine daha fazla önem verir?**

- A) Ham madde üretimini arttırmayı  
B) Dış satımdan elde edeceği döviz miktarına  
C) Ham maddeyi işleyecek enerji kaynağının teminine  
D) Doğal çevrenin korunmasına yönelik önlemlere

18. **Petrol üretiminde meydana gelen dalgalanmalar aşağıdaki sektörlerden hangisini daha çok etkiler?**

- A) Turizm B) Hayvancılık  
C) Ulaşım D) Tarım

19. **Atıkların geri dönüşümde kullanılmasının temel amacı aşağıdakilerden hangisidir?**

- A) Yeni iş alanları açmak  
B) Sanayi üretimini arttırmak  
C) Enerji maliyetini düşürmek  
D) Doğal kaynakların aşırı tüketimini önlemek

## 1. OTURUM

20. Aşağıdakilerden hangisi radyasyon yayan yapay kaynaklardan **değildir**?

- A) Nükleer silahlar
- B) X ışını makineler
- C) Hidroelektrik santraller
- D) Radyoaktif izotop kullanımı

### (157) COĞRAFYA – 7

1. Aşağıdakilerden hangisinde **ekstrem bir olaydan söz edilmiştir**?

- A) Rüzgar bu aylarda hep böyle serinletici olur.
- B) Bu günlerde hava sıcaklıkları mevsim normallerinde seyrediyor.
- C) Son üç günde neredeyse bir yıldaki kadar yağmur yağdı.
- D) Hafif sarsıntıyla yaşanan deprem herhangi bir hasara sebep olmadı.

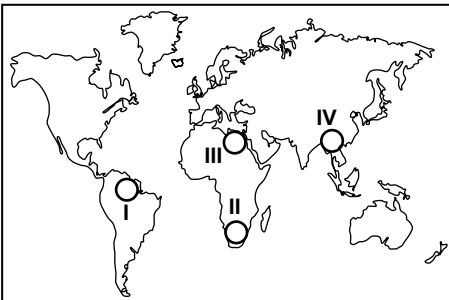
2. Denizin altından geçerek Fransa ve İngiltere'yi iki ayrı demiryoluyla birbirine bağlayan tünelin adı nedir?

- A) Manş
- B) Slezya
- C) Weser
- D) Central Valley

3. Aşağıdakilerden hangisi **volkanik faaliyetlere bağlı olarak ortaya çıkabilecek durumlardan biri değildir**?

- A) Verimli tarım alanları oluşur.
- B) Canlı tür çeşitliliği ve miktarı artar.
- C) Güneş ışınlarının yeryüzüne ulaşması engellenir.
- D) Kısa sürede hava sıcaklığı azalır.

4.



Mısır Medeniyeti haritada numaralandırılarak verilen yerlerin hangisinde kurulmuştur?

- A) I.
- B) II.
- C) III.
- D) IV.

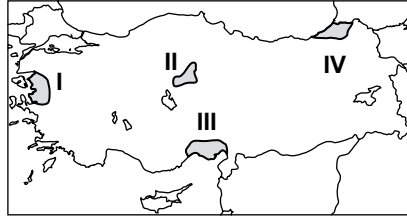
5. Sanayi Devrimi öncesinde toplumların çoğunlukla kalabalık ailelerden oluşmasının temel sebebi aşağıdakilerden hangisidir?

- A) Maden ocaklarının çok sayıda iş gücüne ihtiyaç duyması
- B) Devletlerin aileleri nüfus artışına teşvik etmesi
- C) Ekonominin temelini tarım ve hayvancılığın oluşturması
- D) Savaşlarda insan gücünün belirleyici faktör olması

6. Aşağıdakilerden hangisi Ruhr Havzası'nın yoğunlaştığı ekonomik faaliyet alanlarından biri **değildir**?

- A) Makine-taşıt
- B) Orman ürünleri
- C) Elektronik aletler
- D) Kimyasal maddeler

7.



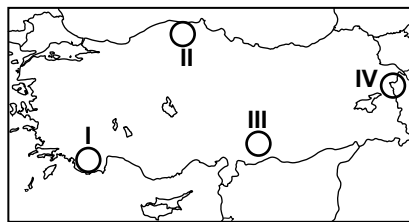
Haritada numaralandırılarak verilen yerlerin hangisi karasal iklim bölgesi içerisindedir?

- A) I.
- B) II.
- C) III.
- D) IV.

8. Ticari faaliyetlerin gelişmesinde aşağıdakilerden hangisinin etkisi **daha fazladır**?

- A) Ulaşım ağının gelişmesi
- B) Tarımsal üretimin artması
- C) Maden rezervlerinin azalması
- D) Ticaret yapılan mekanların artması

9.



Osmanlı mimarisinin önemli yapıtlarından biri olan İshakpaşa Sarayı haritada numaralandırılarak verilen alanların hangisinde yer almaktadır?

- A) I.
- B) II.
- C) III.
- D) IV.

10. 2010 yılı verilerine göre Türkiye'nin ihracatının ithalatından fazla olduğu ülke aşağıdakilerden hangisidir?

- A) Irak
- B) Çin
- C) Almanya
- D) Rusya Federasyonu

11. Aşağıdaki ekonomik faaliyetlerden hangisi, bir kasabanın kültürel özelliklerini **daha hızlı** değiştirir?

- A) Tarım
- B) Hayvancılık
- C) Turizm
- D) Madencilik

12. I. İş gücü  
II. Verimli topraklar  
III. Yer altı kaynakları  
IV. Su kaynakları

Yukarıda verilenlerden hangileri İlk Çağ'da yerleşim yerlerinin seçilmesinde etkili olmuştur?

- A) Yalnız I.
- B) I. ve III.
- C) II. ve IV.
- D) II., III. ve IV.

13. Aşağıdakilerden hangisi **düzensiz kentleşmeye örnek olarak gösterilebilir**?

- A) Ulaşım sistemlerinin hızlı gelişimi
- B) Lüks ve pahalı konut yapımının artması
- C) Sağlık kurumlarının sayısının artması
- D) Sanayi tesislerinin yerleşim alanları içinde kalması

14. Ülkemizin hemen hemen her bölgesinde, farklı dönemlere ait tarihi yapıların bulunması aşağıdakilerden hangisine **kanıt** olarak gösterilebilir?

- A) Farklı iklim tiplerinin görülmesi
- B) Doğal afetlerin sıklıkla yaşanması
- C) Tarih boyunca farklı medeniyetlere ev sahibi olması
- D) Enerji kaynağı bakımından zengin olması

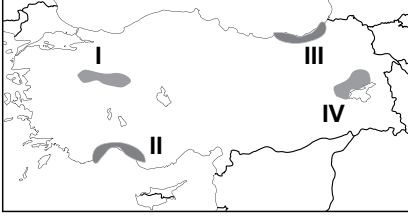


## 1. OTURUM

15. Aşağıdaki şehirlerden hangisinin 2015'de nüfusunun 20 milyonu aşması beklenmemektedir?

- A) Berlin B) Bombay  
C) Delhi D) Mexico City

16.



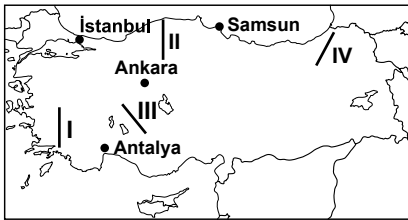
Haritada numaralandırılarak verilen taralı alanlardan hangisinde turizm faaliyetleri daha yaygındır?

- A) I. B) II. C) III. D) IV.

17. Üretim merkezleri ile tüketim merkezleri arasında ticaretin gelişmesini aşağıdaki ekonomik faaliyetlerden hangisi daha çok etkiler?

- A) Ulaşım B) Madencilik  
C) Turizm D) Tarım

18. Engebeli alanlar, karayolu ve demiryolu ulaşımını en fazla zorlaştıran unsurlardır.



Buna göre haritada numaralandırılarak verilen hatlardan hangisi, bu olumsuz durumdan daha az etkilenir?

- A) I. B) II. C) III. D) IV.

19. Bölge ve ülke imkanlarının gücünü tanıtmak, üretici ile tüketiciyi buluşturmak amacıyla yapılan organizasyonlara ne ad verilir?

- A) Panayır B) Hal  
C) Pazar D) Fuar

20. Aşağıdakilerden hangisi botanik turizmine konu olan doğal unsurdur?

- A) Travertenler  
B) Mağaralar  
C) Göller  
D) Endemik bitkiler

### (158) COĞRAFYA – 8

1. Ülkemizde bölgesel kalkınma projelerinin yapılmasının en önemli sebebi aşağıdakilerden hangisidir?

- A) Ülke dışına yapılan göçleri en aza indirmek  
B) Nüfusun ülkeye dengeli şekilde dağılmasını sağlamak  
C) Bölgeler arasındaki gelişmişlik farkını ortadan kaldırmak  
D) Ülkenin tarım potansiyelini en iyi şekilde değerlendirmek

2. Aşağıdakilerden hangisi Doğu Karadeniz Projesi'nin (DOKAP) kapsadığı illerden biri değildir?

- A) Samsun B) Bayburt  
C) Artvin D) Rize

3. Aşağıdakilerden hangisi Türkiye'nin sınır komşusu değildir?

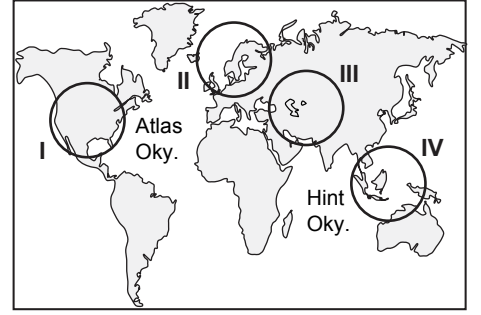
- A) İran  
B) Gürcistan  
C) Ermenistan  
D) Rusya Federasyonu

4. Petrol, doğal gaz ve kömür gibi yer altı kaynaklarına sahip olmak, denetimini kontrol altında tutmak devletlerin en temel politikalarından biri olmuştur.

Bunun sebebi aşağıdakilerden hangisidir?

- A) Enerji üretiminin istihdam yaratması  
B) Enerji taşımacılığının gelir sağlaması  
C) Enerji tüketiminin gelişmişlik için ölçüt olması  
D) Ekonomik faaliyetlerin enerji kaynaklarına bağımlı olması

5.



Hazar Havzası petrol rezervleri haritada numaralandırılarak verilen alanların hangisinde yer almaktadır?

- A) I. B) II. C) III. D) IV.

6. Aşağıdakilerden hangisi uluslar arası alanda sıcak çatışmalara neden olan doğal unsurlardandır?

- A) Sınır anlaşmazlıkları  
B) Ulaşım yolları  
C) Siyasi hedefler  
D) Enerji kaynakları

7. Aşağıdakilerden hangisi çevre yönetiminin amaçlarından biri olamaz?

- A) Yararlanılan doğal kaynakları çeşitlendirmek  
B) Tüm canlıların dengeli bir çevrede yaşamasını sağlamak  
C) Ekolojiyi bozmadan ekonomik kalkınmayı sağlamak  
D) Doğal kaynakların hızlı tüketilmesi

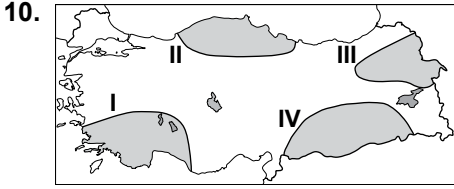
8. Ülkemizde 1963 yılından sonra nüfus artış hızını düşürmeye yönelik politikaların uygulamasındaki amaç aşağıdakilerden hangisidir?

- A) Kentlere göçü yavaşlatmak  
B) Ekonomik kalkınmayı hızlandırmak  
C) Gıda üretimini arttırmak  
D) Askeri gücü azaltmak

9. Türkiye'de aşağıda verilen yaş gruplarının hangisinde nüfus miktarı daha azdır?

- A) 0-4 B) 15-19  
C) 30-34 D) 60-64

## 1. OTURUM



Yukarıdaki haritada, numaralandırılarak verilen alanlardan hangisi GAP'ın uygulandığı bölgeyi göstermektedir?

- A) I. B) II. C) III. D) IV.

11. Aşağıdaki gelişmelerden hangisi Türkiye'nin jeopolitik durumunu etkilemez?

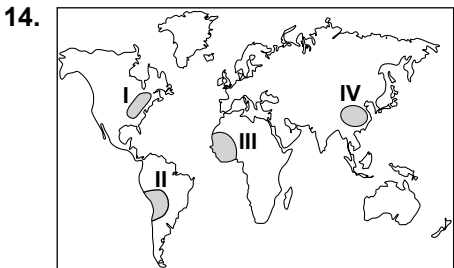
- A) SSCB'nin dağılması  
B) Türkiye'deki il sayısının artması  
C) KKTC'nin kurulması  
D) Petrol boru hatlarının yer değiştirmesi

12. Türkiye, Fırat ve Dicle nehirlerinin sularının kullanımıyla ilgili sorunları hangi ülkelerle yaşamaktadır?

- A) Gürcistan - Ermenistan  
B) Rusya Federasyonu - İran  
C) Suriye - Irak  
D) Bulgaristan - Yunanistan

13. 1999'da uluslararası finansal sistemlerle ilgili konularda görüş alışverişi ve işbirliği yapmak amacıyla kurulan örgütün adı nedir?

- A) BM B) G-20  
C) İKÖ D) NATO



2010 yılı Dünya İnsani Gelişmişlik Endeksi Raporu'na göre, haritada numaralandırılarak verilen alanların hangisinde insani gelişme endeksi daha yüksektir?

- A) I. B) II. C) III. D) IV.

15. Aşağıdakilerden hangisi günümüzdeki sıcak çatışma bölgelerinden biri değildir?

- A) Orta Doğu B) Batı Avrupa  
C) Kuzey Afrika D) Kafkasya

16. Hürmüz Boğazı aşağıda verilen enerji kaynaklarından hangisinin sevkiyatında önemli bir çıkış kapısıdır?

- A) Linyit B) Petrol  
C) Uranyum D) Taş kömürü

17. Aşağıdakilerden hangisinde habitatın tanımı verilmiştir?

- A) Belli bir canlı türünün yaşadığı bölgeden ayrılıp başka bölgeye yerleşmesidir.  
B) Bir canlının zaman içinde biyolojik olarak değişime uğraması olayıdır.  
C) Bir canlının doğal olarak yaşayıp, çoğaldığı, neslini devam ettirdiği yerdir.  
D) Bir bölgenin üzerinde canlıların yaşadığı doğal ortamın kirlenerek özelliğini kaybetmesidir.

18. Doğal afetlere karşı günümüzde alınan önlemlerin eskisine oranla daha başarılı olmasının en önemli sebebi aşağıdakilerden hangisidir?

- A) Nüfus miktarının artması  
B) Teknolojinin gelişmesi  
C) Afetlerin daha az yaşanması  
D) İklim özelliklerinin değişmesi

19. • 1903 yılında Afrika'da memeli hayvanları korumak amacıyla kurulmuştur.  
• Kruger ve Serengeti Milli parklarının yapımında etkin rol oynamıştır.  
• Merkezi Cambridge'tir.

Yukarıda bazı özellikleri verilen çevresel örgütün adı nedir?

- A) Green Peace  
B) Dünya Dostları  
C) Dünya Vahşi Yaşam Fonu  
D) Uluslararası Fauna ve Flora

20. Aşağıdakilerden hangisi dünya doğal miras eserlerinin korunmasına katkı yapmaz?

- A) Ormanlarımızı genişletmek  
B) Yenilenebilir enerji kaynaklarını kullanmak  
C) Az yakıt tüketen araçlar kullanılmak  
D) Tarım alanlarını yapılaşmaya açmak

### (163) MATEMATİK – 3

1.  $5! + n \cdot 4! = 6!$  olduğuna göre,  $n$  kaçtır?

- A) 12 B) 24 C) 25 D) 30

2. Bir çember üzerinde 6 nokta işaretleniyor. Köşeleri bu noktalar olan en fazla kaç üçgen çizilebilir?

- A) 40 B) 30 C) 20 D) 15

3. Hilesiz iki zar atılması deneyinde üst yüze gelen sayıların toplamının 4 olma olasılığı nedir?

- A)  $\frac{1}{18}$  B)  $\frac{1}{12}$  C)  $\frac{5}{36}$  D)  $\frac{1}{6}$

4. 6 kişiden ikisi, iki kişilik bir sıraya kaç farklı biçimde oturabilirler?

- A) 30 B) 20 C) 15 D) 10

5.  $f, g: \mathbb{R} \rightarrow \mathbb{R}$ ,  $f(x) = x^2 + 3x - 1$  ve  $g(x) = 3x - 5$  olduğuna göre,  $(f + g)(1)$  değeri kaçtır?

- A) 3 B) 1 C) -1 D) -3

6. Aşağıda verilen fonksiyonlardan hangisi tek fonksiyondur?

- A)  $f(x) = x^3 + 2x$   
B)  $g(x) = x^2 - x$   
C)  $h(x) = x^3 + 1$   
D)  $k(x) = x^4 + 2x^2$

7.  $f: \mathbb{R} \rightarrow \mathbb{R}$  bire bir ve örten bir fonksiyondur.  $f(x + 5) = x - 1$  olduğuna göre,  $f^{-1}(3)$  kaçtır?

- A) 3 B) 5 C) 9 D) 11

## 1. OTURUM

8.  $f, g: \mathbb{R} \rightarrow \mathbb{R}$ ,  $f(x) = 2x^2 + x - 4$  ve  $g(x) = x^2 - 4$  olduğuna göre,  $(g \circ f)(1)$  değeri kaçtır?

A) 11 B) 6 C) -1 D) -3

9. Analitik düzlemde verilen  $K(-3, 4)$  ve  $L(5, -2)$  noktaları arasındaki uzaklık kaç birimdir?

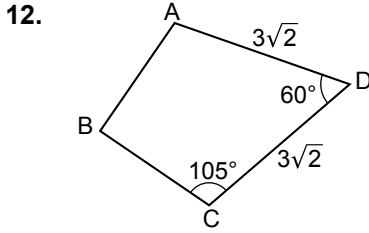
A)  $2\sqrt{2}$  B) 4  
C)  $2\sqrt{10}$  D) 10

10.  $5x + my - 4 = 0$  doğrusu  $A(2, -2)$  noktasından geçtiğine göre,  $m$  kaçtır?

A) 1 B) 2 C) 3 D) 4

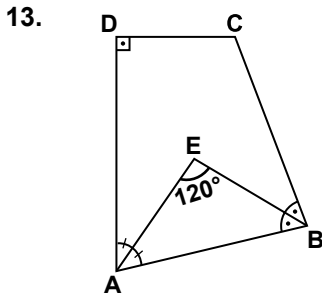
11. Denklemi  $3x - 2y + 1 = 0$  olan doğrunun eğimi nedir?

A)  $\frac{3}{2}$  B)  $\frac{1}{2}$  C)  $-\frac{1}{2}$  D)  $-\frac{3}{2}$



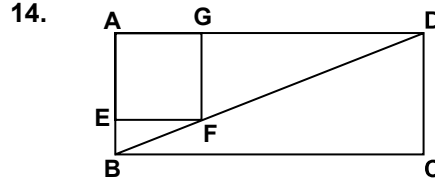
Şekildeki dörtgende,  $m(\widehat{ADC}) = 60^\circ$  ve  $m(\widehat{DCB}) = 105^\circ$  dir.  $|AB| = |BC|$ ,  $|AD| = |DC| = 3\sqrt{2}$  cm olduğuna göre,  $|BC|$  kaç santimetredir?

A)  $2\sqrt{2}$  B) 3  
C) 6 D)  $5\sqrt{2}$



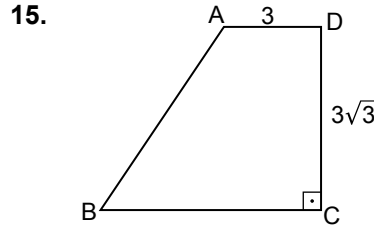
Şekildeki ABCD dörtgeninde  $[AE]$ ,  $\widehat{DAB}$ 'nin;  $[BE]$ ,  $\widehat{ABC}$ 'nin açıortayıdır.  $m(\widehat{AEB}) = 120^\circ$  ve  $m(\widehat{ADC}) = 90^\circ$  olduğuna göre,  $m(\widehat{DCB})$  kaç derecedir?

A) 110 B) 120 C) 140 D) 150



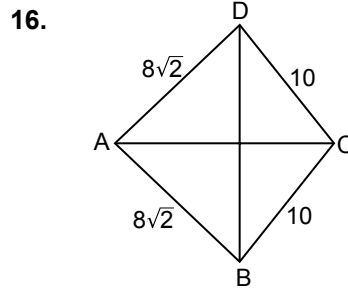
Şekilde ABCD dikdörtgen ve AEGF bir karedir.  $A(AEGF) = 9 \text{ cm}^2$  ve  $|AB| = 4 \text{ cm}$  olduğuna göre,  $|BD|$  kaç santimetredir?

A) 13 B)  $4\sqrt{10}$   
C) 7 D) 5



Şekildeki ABCD dik yamuğunda  $[AD] \parallel [BC]$  ve  $[DC] \perp [BC]$ 'tir.  $|AB| = |BC|$ ,  $|AD| = 3 \text{ cm}$  ve  $|DC| = 3\sqrt{3} \text{ cm}$  olduğuna göre,  $|BC|$  kaç santimetredir?

A) 3 B) 4 C) 5 D) 6

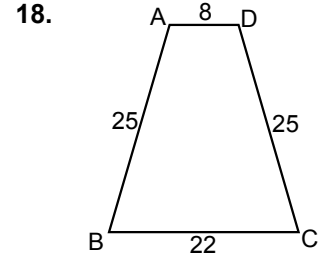


Şekildeki ABCD deltoidinde  $|AB| = |AD| = 8\sqrt{2} \text{ cm}$ ,  $|DC| = |BC| = 10 \text{ cm}$  ve  $|DB| = 16 \text{ cm}$  olduğuna göre, ABCD deltoidinin alanı kaç santimetrekaredir?

A) 112 B) 120  
C) 128 D) 136

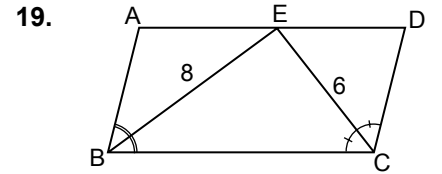
17. Köşegen uzunlukları 24 cm ve 10 cm olan eşkenar dörtgenin çevresi kaç santimetredir?

A) 44 B) 52 C) 58 D) 68



Şekildeki ABCD ikizkenar yamuğunda  $[AD] \parallel [BC]$ 'dir.  $|AD| = 8 \text{ cm}$ ,  $|AB| = |DC| = 25 \text{ cm}$  ve  $|BC| = 22 \text{ cm}$  olduğuna göre, ABCD yamuğunun alanı kaç santimetrekaredir?

A) 192 B) 200  
C) 264 D) 360



Şekildeki ABCD paralelkenarında E noktası  $[AD]$ 'nin üzerindedir.  $[BE]$ ,  $\widehat{ABC}$ 'nin;  $[CE]$ ,  $\widehat{BCD}$ 'nin açıortayıdır.  $|BE| = 8 \text{ cm}$  ve  $|EC| = 6 \text{ cm}$  olduğuna göre,  $|AD|$  kaç santimetredir?

A) 10 B) 14 C) 20 D) 28

20. Bir dış açısının ölçüsü  $40^\circ$  olan düzgün çokgen kaç kenarlıdır?

A) 6 B) 9 C) 10 D) 12

### (164) MATEMATİK - 4

1.  $i^{14} + i^{15} + i^{16}$  ifadesi aşağıdaki-lerden hangisine eşittir?

A)  $2 - i$  B)  $1 - i$   
C) 1 D)  $-i$

2.  $4x^2 - 12x + m = 0$  denkleminin çakışık iki kökü olduğuna göre,  $m$  kaçtır?

A) 9 B) 12 C) 18 D) 36

## 1. OTURUM

3.  $2x^2 - 14x + 30 = 0$  denkleminin kökleri toplamı kaçtır?

- A) 7                      B) 14  
C) 15                      D) 30

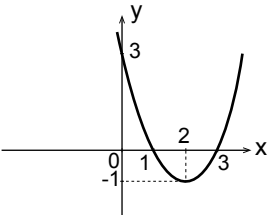
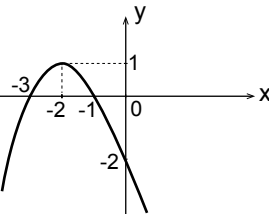
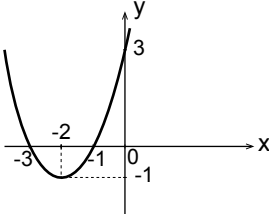
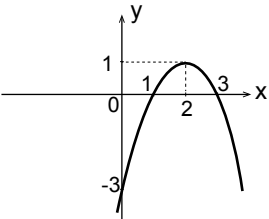
4.  $z_1 = 1 + 3i$  ve  $z_2 = 2 + 2i$  olduğuna göre,  $z_1 \cdot z_2$  aşağıdakilerden hangisidir?

- A)  $2 + 6i$                 B)  $8 + 8i$   
C)  $-4 + 8i$                D)  $2 - 6i$

5. Aşağıdaki ifadelerden hangisi polinomdur?

- A)  $P(x) = 4x^3 + 2x^2 + \frac{3}{x}$   
B)  $Q(x) = 5x^2 + 4\sqrt{x} + 3$   
C)  $R(x) = 2x^4 + 3x^{-3} + 2$   
D)  $T(x) = 3x^3 + \sqrt{2}x^2 + 1$

6.  $f: \mathbb{R} \rightarrow \mathbb{R}$ ,  $f(x) = x^2 + 4x + 3$  fonksiyonunun grafiği aşağıdakilerden hangisidir?

- A) 
- B) 
- C) 
- D) 

7.  $\frac{x^2 + 5x + 6}{x^2 - 4} \cdot \frac{x^2 - 9}{x^2 + 3x - 18}$  ifadesinin en sade biçimi aşağıdakilerden hangisidir?

- A)  $\frac{x+6}{x+2}$                       B)  $\frac{x+6}{x-2}$   
C)  $\frac{x+2}{x+6}$                       D)  $\frac{x-2}{x+6}$

8.  $P(x) = 4x^3 - 6x^2 - 3x + 2$  polinomunun  $x - 2$  ile bölümünden kalan kaçtır?

- A) 4                      B) 2  
C) -1                      D) -3

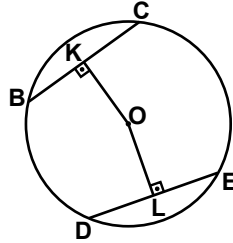
9.  $x + \frac{1}{x} = 5$  ise  $x^2 + \frac{1}{x^2}$  kaçtır?

- A) 23    B) 24    C) 25    D) 27

10.  $a(1 - b^2) + b(a^2 - 1)$  ifadesinin çarpanlarından biri aşağıdakilerden hangisidir?

- A)  $a + b$                       B)  $2b - a$   
C)  $1 + ab$                       D)  $1 - ab$

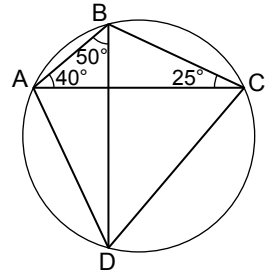
11.



Şekilde B, C, D ve E noktaları O merkezli çemberin üzerindedir.  $[OK] \perp [BC]$ ,  $[OL] \perp [DE]$ ,  $|BC| = |DE|$ ,  $|OK| = (4x - 3)$  cm ve  $|OL| = (3x + 1)$  cm olduğuna göre, x kaç santimetredir?

- A) 5    B) 4    C) 3    D) 2

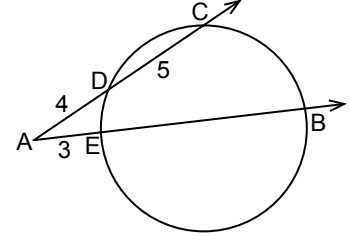
12.



Şekilde A, B, C ve D noktaları çember üzerindedir.  $m(\widehat{BAC}) = 40^\circ$ ,  $m(\widehat{DBA}) = 50^\circ$  ve  $m(\widehat{BCA}) = 25^\circ$  olduğuna göre,  $m(\widehat{CAD})$  kaç derecedir?

- A) 55    B) 60    C) 65    D) 70

13.



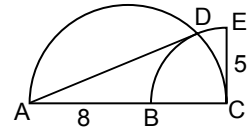
Şekildeki çembere  $[AC, D]$  ve  $[AB, E]$  noktalarında,  $[AB, E]$  ve  $[B]$  noktalarında kesmektedir.  $|AD| = 4$  cm,  $|DC| = 5$  cm ve  $|AE| = 3$  cm olduğuna göre,  $|EB|$  kaç santimetredir?

- A) 6    B) 7    C) 8    D) 9

14. Yarıçapının uzunluğu 15 cm olan bir çemberin  $144^\circ$ lik ölçüye sahip yayının uzunluğu kaç santimetredir? ( $\pi$  yerine 3 alınız.)

- A) 30    B) 36    C) 48    D) 72

15.



Şekildeki C merkezli çeyrek çember ile  $[AC]$  çaplı yarı çember D noktasında kesilmektedir. A, B, C noktaları doğrusal,  $|EC| = 5$  cm ve  $|AB| = 8$  cm olduğuna göre,  $|AD|$  kaç santimetredir?

- A) 18    B) 13    C) 12    D) 10

## 1. OTURUM

### (206) PSİKOLOJİ – 1

16. Bir düzgün sekizgen dik piramidin taban ayrıtlarından birinin uzunluğu 16 cm ve yan yüz yüksekliği 10 cm olduğuna göre, yanal alanı kaç santimetrekaredir?

- A) 480 B) 640  
C) 810 D) 960

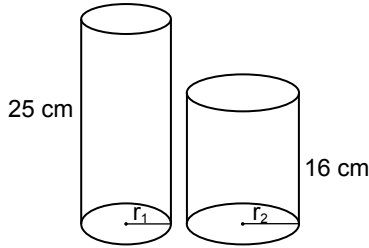
17. Hacmi  $300 \text{ cm}^3$  ve yüksekliği 12 cm olan kare dik prizmanın yanal alanı kaç santimetrekaredir?

- A) 120 B) 150  
C) 200 D) 240

18. Taban çapının uzunluğu 32 cm ve yüksekliği 6 cm olan dik dairesel koninin hacmi kaç santimetreküptür? ( $\pi$  yerine 3 alınız.)

- A) 512 B) 640  
C) 1280 D) 1536

19.



Şekildeki  $r_1$  ve  $r_2$  yarıçaplı dik dairesel silindirlerin yükseklikleri sırasıyla 25 cm ve 16 cm'dir. Silindirlerin hacimleri eşit olduğuna göre,  $\frac{r_1}{r_2}$  nedir?

- A)  $\frac{4}{5}$  B)  $\frac{3}{5}$  C)  $\frac{2}{5}$  D)  $\frac{1}{5}$

20. Yarıçapının uzunluğu 8 cm olan kürenin yüzey alanı kaç santimetrekaredir? ( $\pi$  yerine 3 alınız.)

- A) 832 B) 768  
C) 704 D) 640

1. Organizmanın doğrudan veya dolaylı olarak gözlenebilen tüm etkinliklerine davranış denir.

**Buna göre aşağıdakilerden hangisi dolaylı olarak gözlenebilen davranışa örnektir?**

- A) Kitap okumak  
B) Bisiklete Binmek  
C) Şiddetli patlama ile irkilmek  
D) Bir projeyi zihinde tasarlamak

2. İnsan bir robot veya makine değildir. İnsan kendisinden, davranışlarından, oluşturacağı kimliğinden sorumludur. İnsan kendine göre bir değerdir ve insan doğası iyilik temelleri üzerine kuruludur.

**Bu görüşleri savunan psikolojik yaklaşım aşağıdakilerden hangisidir?**

- A) Hümanistik yaklaşım  
B) Psikodinamik yaklaşım  
C) Fonksiyonel yaklaşım  
D) Biyolojik yaklaşım

3. Sanık ve tanığın psikolojik durumları, sorgulanması, yargılanması ve yasalar karşısında insanların tutum ve tavırlarını araştıran psikoloji alanı aşağıdakilerden hangisidir?

- A) Klinik psikoloji  
B) Endüstri psikolojisi  
C) Hukuk psikolojisi  
D) Eğitim psikolojisi

4. Bir değişkenin etkilerini gözlemek üzere koşulları hazırlanmış, yaş cinsiyet, eğitim, yetenek gibi birbirlerine oldukça benzeyen kişilerden oluşturulmuş, kontrol ve deney grubunun kullanıldığı araştırma yöntemi aşağıdakilerden hangisidir?

- A) İç gözlem B) Görüşme  
C) Deney D) Test

5. İki değişken arasındaki ilişki miktarına korelasyon denir. Değişkenlerden biri arttıkça diğeri de artıyorsa pozitif, biri arttıkça diğeri azalıyorsa negatif korelasyon söz konusudur.

**Aşağıdaki değişkenlerden hangisinde negatif korelasyon vardır?**

- A) Sınav kaygısı - başarılı olma  
B) Yemek yeme - şişmanlama  
C) Spor yapma - sağlıklı yaşam  
D) Zeka - başarı

6. Mor ötesi ışınları göremediğimiz gibi 20 frekansın altındaki sesleride işitemeyiz.

**Buna göre duyumun gerçekleşmesi aşağıdakilerden öncelikle hangisine bağlıdır?**

- A) Bir uyarının olması  
B) Uyarının dikkati çekmesi  
C) Duyu organlarının sağlam olması  
D) Uyarıcı şiddetinin duyum eşikleri arasında olması

7. Organizmanın ihtiyaçların etkisiyle harekete hazır hale gelerek amaca yönelik davranışta bulunmasına ve amaca ulaştıktan sonra rahatlamasına güdülenme denir.

**Buna göre aşağıdakilerden hangisinde güdülenme sürecinin sıralaması doğru olarak verilmiştir?**

- A) İhtiyaç → Güdü → Dürtü → Davranış → Doyum  
B) İhtiyaç → Dürtü → Güdü → Davranış → Doyum  
C) Davranış → Dürtü → Güdü → Doyum → İhtiyaç  
D) Güdü → Dürtü → Davranış → Doyum → İhtiyaç

8. I. Gürültülü bir ortamdaki sestен rahatsız olan kişinin bir süre sonra sestен rahatsız olmaması.  
II. Uzun süre hiçbir uyarıcının alınmaması insanlarda normal fonksiyonların bozulmasına sebep olabilir.

**Bu olaylarla ilgili olan kavramlar aşağıdakilerden hangisinde birlikte verilmiştir?**

- A) Dengelenme- aşırı uyarılma  
B) Alışma- yetersiz uyarılma  
C) Algıda organizasyon-duyarlılık  
D) Yetersiz uyarılma- aşırı uyarılma

## 1. OTURUM

9. Aşağıdakilerden hangisi toplumsal güdülerden değildir?

- A) Dinlenme
- B) Başarılı olma
- C) Statü kazanma
- D) Güvende olma

10. • Arkadaşlarıyla parkta oynayan çocuklar zamanın nasıl geçtiğinin farkında bile olmazlar.  
• İstemediğimiz halde katılmak zorunda olduğumuz toplantı bir türlü bitmek bilmez.

Verilen örnekler aşağıdakilerden hangisini gösterir?

- A) Dikkat süresinin kişiden kişiye değişebileceğini
- B) Algılamada kişisel deneyimlerin etkisi
- C) Algıda değişmezlik
- D) Subjektif zaman algısı

11. Aşağıdakilerden hangisi psikolojik illüzyona örnektir?

- A) Enine çizgili elbise giyen birinin kilolu algılanması
- B) Çay bardağına batırılmış kaşığın kırık gibi görünmesi
- C) İssiz yolda giden birinin yoldaki ipi yılan olarak algılaması
- D) Bir saniyede perdeye ard arda yansıtılan resimlerin hareketli algılanması

12. I. Algıların biçim ve düzene sokulmasıdır.

II. Organizmanın gelen uyarıcılardan bir kısmını algılayıp bir kısmını algılamamasıdır.

III. Bir nesnenin çevresindeki uyarıcı ve yapısındaki değişikliklere karşın algısal niteliğini korumasıdır.

Yukardakiler sırasıyla algının hangi özelliklerini ifade etmektedir?

I	II	III
A) Algıda Derinlik	Algıda Seçicilik	Algıda Örgütlenme
B) Algıda Örgütlenme	Algıda Seçicilik	Algıda Değişmezlik
C) Algıda Örgütlenme	Algıda Değişmezlik	Algıda Seçicilik
D) Algıda Seçicilik	Algıda Derinlik	Algıda Örgütlenme

13. Aşağıdakilerden hangisi öğrenmeye örnektir?

- A) Ateşten eli yanan bir çocuğun ateşe bir daha yaklaşmaması.
- B) Yeni doğan bebeğin ağlamaya başlaması.
- C) Kişinin şiddetli patlama sesiyle irkilmesi.
- D) Örümceğin ağını örmesi.

14. Edimsel koşullanma organizmayı ödüle götüren ya da cezadan kurtaran bir davranışın organizma tarafından öğrenilmesidir.

Buna göre aşağıdakilerden hangisi edimsel koşullanma yoluyla öğrenmeye örnek olur?

- A) İsmail'in sigaranın zararlarını, izlediği bir televizyon programından öğrenmesi
- B) Elektrik akımının etkisinde kalan bir köpeğin, elektriği kesen düğmeye basmayı öğrenmesi
- C) Kedi tarafından tırmalanan bir çocuğun tüm kedilerden korkmaya başlaması.
- D) Bir gencin taraftarı olduğu takımın yıldız futbolcusu gibi giyinmesi

15. Bir grup okçuya yaptıkları atışların sonuçları yedinci atışa kadar bildirilmiş daha sonraki atışların sonuçları ise bildirilmemiştir. Denemeler sonunda atış yapan grubun yedinci atıştan sonra başarısının düştüğü görülmüştür.

Aşağıdakilerden hangisi bu durumu açıklar?

- A) Çalışmanın zamanlara bölünmesi başarıyı artırır.
- B) Denemelerin sayısının artışı başarıyı olumlu etkiler.
- C) Elde edilen sonucun bilinmesi başarıyı artırır.
- D) Ödül başarıyı artıran bir etkiye sahiptir.

16. • İki aylık bir bebeğe yürümeyi öğretemeyiz.  
• Bir köpeğe konuşmayı öğretmek mümkün değildir.

Yukarıdaki durumlar öğrenme için gerekli olan faktörlerden hangileri ile ilgilidir?

- A) Olgunlaşma – Türe özgü hazır olma
- B) Güdülenme – Genel uyarılmışlık hali
- C) Hazır bulunuşluluk – Zeka
- D) Olgunlaşma – Yaş

17. Aşağıdakilerden hangisi belleğin temel işlemlerinden değildir?

- A) Kodlama
- B) Saklama
- C) Çağırma
- D) Dengelenme

18. Geçmişte öğrendiğimiz herhangi bir bilgi, beceri ve nesnelerin geçici veya sürekli olarak yitirilmesi, tanınmaması olayı aşağıdakilerden hangisiyle adlandırılır?

- A) Ket vurma
- B) Transfer
- C) Unutma
- D) Yansıtma

19. Uygunun uyku sırasındaki göz hareketlerine göre iki farklı dönem vardır. Bu dönemler hangisinde birlikte verilmiştir?

- A) NREM – REM
- B) BİORİTİM – EKG
- C) EEG – REM
- D) REM – EMG

20. Uyku ve rüyalar ile ilgili aşağıdaki yargılardan hangisi yanlıştır?

- A) Uyku bütün organizmanın olduğu gibi sinir sisteminin de dinlenmesini sağlar.
- B) İnsanın istekleri, arzuları, beklentileri, korkuları rüyalara neden olurlar.
- C) Uyku ve rüya insanın en temel fizyolojik ihtiyaçlarındandır.
- D) Bazı insanların uykularında rüya görmedikleri bilinmektedir.

### (207) PSİKOLOJİ – 2

1. Aşağıdakilerden hangisinde zekanın rolü en fazladır?

- A) Uyuklama
- B) Aşırı güdültüyle irkilme
- C) Sayılarla işlem yapabilme
- D) Yanıp sönen ışığı farketme

2. 11-12 yaşlarına kadar hızlı bir gelişim gösteren zeka, 12 yaşından sonra gelişim hızı biraz düşmekle beraber olgunlaşma sınırına kadar devam eder. 19- 20 yaşlarında zihin gücü gelişebileceği tavan sınırına erişmiştir. Yaklaşık 50'li yaşlardan sonra zihin gücü zayıflamaya başlar.

Bu durum zeka ile ilgili aşağıdakilerden hangisine örnektir?

- A) Zeka üzerinde çevrenin etkisi.
- B) Zeka üzerinde kalıtımın etkisi.
- C) Zeka öğrenme ilişkisi.
- D) Zekanın yaşa göre gelişimi.

## 1. OTURUM

3. Bir test ne kadar dikkatli hazırlanmış olursa olsun, hazırlandıkları kültürden bağımsız olmayıp o kültürün etkilerini taşırlar. Bu nedenle bir test farklı bir kültürde uygulanacağı zaman, o kültürün unsurlarına uyarlanmalıdır.

**Bu durum zeka testinin hangi özelliğe sahip olmasını gerektirir?**

- A) Testin standardizasyonu
- B) Testin güvenilirliği
- C) Testin geçerliliği
- D) Testlerin uzman kişilerce uygulanması

4. Aşağıdakilerden hangisi normal zeka bölümünü gösterir?

- A) 121-140
- B) 90-110
- C) 70-89
- D) 0-24

5. Yaratıcı düşünme; üreten, yeni durumları araştıran, eski sorunlara yeni çözüm yolları bulan, düşünene göre yeni olma özelliği gösteren problem çözme biçimidir.

**Aşağıdakilerden hangisi yaratıcı düşünmeyle ilgili değildir?**

- A) Bilim adamının icatları
- B) Ev hanımının örgüde çıkardığı yeni bir model
- C) Bir sorunun alışılmış kalıpların dışında çözülemeyeceği inancı
- D) Öğrencinin bir soruyu alışılmışın dışında farklı bir şekilde çözmesi

6. İnsanın yaratılışına bağlı olarak ortaya çıkan, doğuştan getirildiği fizyolojik kaynaklı kişilik özellikleri aşağıdakilerden hangisi ile ifade edilir?

- A) Karakter
- B) Algı
- C) Mizaç
- D) İlgı

7. Kişiliği id, ego, süper ego olmak üzere üç kısma ayıran psikodinamik kuramın temsilcisi aşağıdakilerden hangisidir?

- A) W. Wundt
- B) S. Freud
- C) Hipokrat
- D) Platon

8. Evrende kendi varlığını oluşturan tek varlık insandır. O kendisini nasıl gerçekleştirmişse öyledir. İnsan yaşama sürecinde kendi yolunu seçmeli, kişiliğinin yitilmesi karşısında özgür iradesiyle direnmelidir.

**Bu açıklamaya göre kişiliğin oluşumuyla ilgili aşağıdakilerden hangisi söylenebilir?**

- A) İnsanın yaşama hiçbir müdahalesi söz konusu değildir.
- B) İnsanın kişiliği psikolojinin denetimi ile gerçekleşmelidir.
- C) İnsan kendi yaşamına kendisi anlam vermelidir.
- D) İnsan kaderine boyun eğmelidir.

9. Aşağıdakilerden hangisi kişiliği ölçme için kullanılan testlerden değildir?

- A) Mürekkep leke testi
- B) Binet - Simon zeka testi
- C) Resim yorumlama testi
- D) Hikaye tamamlama testi

10. Organizmanın hedefe yönelik davranışlarının amaca ulaşmasının sürekli engellenmesi halinde aşağıdaki tepkilerden hangisi beklenmez?

- A) Hayal kırıklığı
- B) Saldırganlık
- C) İçe dönme
- D) Kendine güven

11. Doğal afetler, savaşlar, gelişimsel olaylar, hayatın normal akışını bozan gerginlik, kaygı oluşturan durumların kişide yol açtığı zorlanma durumu aşağıdakilerden hangisi ile ifade edilir?

- A) Stres
- B) Çatışma
- C) Engellenme
- D) Dengelenme

12. Aynı anda istenmeyen iki durum arasında seçim yapılamaması kaçınma kaçınma çatışmasına yol açar.

**Aşağıdakilerden hangisi bu çatışma türüne uygun bir örnek değildir?**

- A) Kırk satır mı, kırk katır mı
- B) Ne anadan geçilir, ne de yardan
- C) Aşağı tükürsem sakal, yukarı tükürsem bıyık
- D) Ya bu deveyi güdersin ya bu diyardan gidersin

13. Dedikodu yapanların başkalarını dedikoducu olarak görmesi hangi savunma mekanizmasıyla açıklanır?

- A) Ödünleme
- B) Yansıtma
- C) Yüceltme
- D) Yön değiştirme

14. Aşağıdakilerden hangisi stresle baş etmede kullanılan duygusal yöntemlerdendir?

- A) Olaylara yaklaşım biçimi çatışmaları azaltıcı nitelikte olmalı
- B) Düzenli bedensel egzersizlerle rahatlamaya çalışılmalı
- C) Stresli iken kesik kesik ve sık sık nefes alınmalı
- D) Zaman iyi planlanarak değerlendirilmeli

15. Normal davranış, doğal koşullara, yere, zamana ve kurallara uygun olan davranıştır.

**Buna göre aşağıdakilerden hangisi normal davranış örneği değildir?**

- A) Karşıdan karşıya geçen yaşlı birine yardım edilmesi
- B) Sorunların nedenlerinin araştırılması
- C) Yakını ölen birinin kahkahayla gülmesi
- D) Merak edilen konunun araştırılması

16. Aşırı derecede kuşku duyarlar. Kendi yetersizliklerini üstünlük duygusuyla kapatırlar. Sürekli takip edildikleri, haksızlığa uğradıkları, öldürülmek istendikleri kuşkusuyla yaşarlar.

**Açıklanan psikotik bozukluk tipi aşağıdakilerden hangisinde verilmiştir?**

- A) Şizofreni
- B) Paranoya
- C) Bellek yitimi
- D) Manik-depresif psikoza

## 1. OTURUM

### (208) SOSYOLOJİ – 1

17. Bireyin davranışını ve görüşlerini baskı nedeniyle değiştirip, yanlış olduğunu bile bile başkaları öyle davrandığı için aynı davranışta bulunması hangi kavramla ifade edilir?

- A) Uyma davranışı
- B) Sosyal sorumluluk
- C) İkna olma
- D) Çatışma

18. Bireyin kişilere, nesnelere, olaylara ve ortama önceden belirlenen tarzda olumlu ya da olumsuz tepkide bulunma eğilimine tutum denir.

**Aşağıdakilerden hangisi tutuma örnektir?**

- A) Susayınca su içme
- B) Yorulunca dinlenme
- C) Arkadaşlarla konuşma
- D) Yalan söylemeye karşı olma

19. Aşağıdakilerden hangisi bireyin kimlik oluşum süreciyle ilgili olarak söylenemez?

- A) Kim olduğunu, neye yönelmesi gerektiğini bilir.
- B) Kendi ruhsal durumu, aile ve çevre şartlarını tanır.
- C) Bilgi ve becerisine göre neler yapması gerektiğine karar verir.
- D) Kimlik oluşumunun sadece taklit ve özdeşimlerin birbirine eklenmesi ile oluşan bir bütünlük olduğunu bilir.

20. Çocukluk döneminde anne-babasını örnek alanlar, ergenlik döneminde dışa yönelerek sevdiği, güvendiği, kendisini olduğu gibi kabul ettiğine inandığı kişiler gibi olmak ister.

**Kişilerin çocuklukta ve ergenlikte modele benzeme çabası aşağıdakilerden hangisiyle ifade edilmektedir?**

- A) Özdeşleşme
- B) Rol çatışması
- C) Kimlik kargaşası
- D) Olgunlaşma

1. Aşağıdakilerden hangisi sosyolojinin amaçlarından değildir?

- A) Toplumsal grupların yapısını incelemek
- B) Toplum ve toplumsal ilişkileri anlamaya çalışmak
- C) Toplumsal yapının istenilen biçimde yapılandırılmasını sağlamak
- D) Toplumsal değişimlerin yönleri hakkında öngörülerde bulunmak

2. Toplumsal olay, toplumsal ilişkiler sonucunda tek tek ortaya çıkan yeri ve zamanı belirli değişmelerdir.

**Buna göre aşağıdakilerden hangisi toplumsal olaya örnek olarak verilebilir?**

- A) Evlilik
- B) 1.Körfez Savaşı
- C) Kentleşme sorunları
- D) Köyden kente göç

3. Aynı fiziksel mekanı paylaşmayan ancak yaş, cinsiyet, meslek, gelir, eğitim gibi ortak özellikleri olan bireylerin gruplandırılması aşağıdakilerden hangisiyle ifade edilir?

- A) Toplumsal kategori
- B) Gösteri topluluğu
- C) Toplumsal grup
- D) Toplumsal yığın

4. Toplumlar farklı ölçütler kullanılarak sınıflandırılmıştır. Ekonomi ölçütü kullanılarak yapılan sınıflandırmada aşağıdaki toplum tiplerinden hangisi bulunmaz?

- A) Feodal
- B) Kapitalist
- C) Sosyalist
- D) Teolojik

5. Bir toplumun kültürel yapısı üzerinde yaşanan doğa dikkate alınmadan anlaşamaz.

**Buna göre sosyoloji bir toplumun kültürel yapısını incelerken aşağıdaki bilimlerden hangisinin verilerinden yararlanmak zorundadır?**

- A) Coğrafya
- B) Ekonomi
- C) Psikoloji
- D) Hukuk

6. Sosyolojik bir inceleme yapan araştırmacı kendi değer yargılarından arınmış olarak çalışmasına başlamalı, değer yargılarına ters düşse bile tarafsız davranmaktan vazgeçmemelidir.

**Yukarıda verilen açıklama bilimsel çalışmalarda uyulması gereken ön kabullerden hangisiyle ilgilidir?**

- A) Konunun sınırlandırılması ilkesi
- B) Nedensellik ilkesi
- C) Nesnellik ilkesi
- D) Somutluk ilkesi

7. Bir şehrin lise öğrencilerinin gelecekte beklentilerini belirlemeye yönelik bir araştırma yapılacaktır. Problem belirlendikten sonra, hipotezleri test etmek amacıyla sorular hazırlanır ve araştırmacının kapsamına giren öğrencilerden seçilen gruba bu sorulara açık ve doğru cevap vermeleri istenir.

**Bu araştırmada kullanılan araştırma tekniği hangisidir?**

- A) Sosyometri
- B) Görüşme
- C) Gözlem
- D) Anket

8. Grup içi dayanışmayı tespit edip, çatışmaları ve uyumsuzlukları azaltmayı amaçlayan, bireyler arası ilişkilerin derecesini, kimin lider özellikleri taşıdığını hangi bireylerin birbirleriyle daha çok iletişiminin olduğunu öğrenmek için uygulanan araştırma tekniği aşağıdakilerden hangisidir?

- A) Görüşme
- B) Sosyometri
- C) Monografi
- D) Olay incelemesi

9. Kazanılmış statüler bireyler tarafından emek, eğitim ve deneyimlerle sonradan edinilir ve değiştirilebilirler.

**Buna göre, aşağıdakilerden hangisi "kazanılmış statüye" örnektir?**

- A) Çorumlu olmak
- B) Erkek olmak
- C) Baba olmak
- D) Azeri olmak



## 1. OTURUM

10. Toplumsal yapı ile ilgili olarak aşağıda verilenlerden hangisi **yanlıştır**?

- A) Binalar, yollar maddi kültür ögesidir.
- B) Toplumsal yapı ögeleri birbirleriyle etkileşim halindedir.
- C) Toplumsal ilişkiler olmadan toplumsal yapıdan söz etmek mümkün değildir.
- D) Bir toplumsal ögede meydana gelen değişim diğer toplumsal ögeleri etkilemez.

11. Okulda kendi çocuğunun öğretmeni olan bir adamın evde baba gibi davranması gereken öğretmen gibi davranması aşağıdakilerden hangisine örnek olarak verilebilir?

- A) Rol çatışması
- B) Rol pekiştirmesi
- C) Statü belirsizliği
- D) Anahtar statü

12. Yazısız olan toplumsal normların yaptırımları hangisinde **birlikte** verilmiştir?

- A) Ayıplama – Kınama
- B) Para cezası – Hapis cezası
- C) Ayıplama – Para cezası
- D) Görevden alma – Hapis cezası

13. Savaş, devrim, iç çatışma ve ekonomik bunalım dönemlerinde toplumsal sapmaların arttığı görülür. Aynı zamanda, enflasyon, işsizlik, gelir dağılımındaki adaletsizlikler gibi ekonomik sorunlar toplumsal sapma davranışlarını artırır.

**Buna göre toplumsal sapma ile ilgili aşağıdakilerden hangisi söylenebilir?**

- A) Toplumsal sapma her toplumda aynı derecede görülür.
- B) Hızlı değişimlerin yaşandığı dönemlerde sapma davranışlarında artışlar görülür.
- C) Farklı kültürlerden gelmiş olma ve grup farklılıkları sapma davranışlarında etkilidir.
- D) Toplumsallaşma sürecinde meydana gelen olumsuzluklar sapma davranışlarını artırır.

14. Aşağıdakilerden hangisi ikincil toplumsal grupların özelliklerindedir?

- A) İlişkiler amaca yönelik ve resmidir
- B) Grup üyelerinde "biz" bilinci hakimdir
- C) Yardımlaşma ve sevgi bağları yüksektir
- D) Bireyler arasındaki ilişkilerde süreklilik vardır

15. Aşağıdakilerden hangisi sosyal grupların özelliklerinden **değildir**?

- A) Her grubun ortak değerleri, normları ve amaçlarının olması
- B) Grup içinde her bireyin bir rolünün bulunması
- C) En az üç kişi arasında gerçekleşmesi
- D) Göreli bir sürekliliğe sahip olmaları

16. Tarihsel süreç içinde insanların göçebelikten yerleşik hayata geçmelerinin temel nedeni aşağıdakilerden hangisidir?

- A) Özel mülkiyetin ortaya çıkması
- B) Tarımsal faaliyetin başlaması
- C) Savaşların artması
- D) Yazının icadı

17. Köy toplumsal yapısı ile kent toplumsal yapısı birbirinden farklıdır. Köy ve kent farklılaşması aşağıdakilerden hangisinde **yanlış** verilmiştir?

	KÖY	KENT
A	Ekonomi	Tarıma ve hayvancılığa dayanır
B	Toplumsal hareketlilik	Statü değişimi çok sık görülür
C	İş bölümü	Cinsiyete dayalı doğal işbölümü vardır
D	Toplumsal kontrol	Gelenek ve görenekler etkilidir

18. Tabakalar arası geçiş yapmanın mümkün olmadığı ve bireylerin hangi tabakadan olacağını doğumla belirlendiği Kast sistemi hangi tabakalaşma türüne örnek olarak verilebilir?

- A) Yarı kapalı tabakalaşma
- B) Açık sınıf tabakalaşması
- C) Kapalı sınıf tabakalaşması
- D) Tabakalar arası geçişin belli ölçütlere dayandığı tabakalaşma

19. Aşağıdakilerden hangisi yatay hareketliliğe örnektir?

- A) Bir işçinin kendisine kalan bir mirasla fabrikanın yeni sahibi olması
- B) Bir bakkalın marketler zinciri açması
- C) Bir işyeri sahibinin iflas ederek işçi olması
- D) Bir işçinin bir fabrikadan başka bir fabrikaya geçmesi

20. I. Beraber yaşama isteği ve arzusunda olunması  
II. Ortak bir kültürel mirasa dayanmaması  
III. Milletin saf bir ırka ve kökene dayanması  
IV. Türk olma duygusuna sahip olma

**Yukarıda verilenlerden hangileri Atatürk'ün Millet anlayışına uygunluk gösterir?**

- A) I ve II
- B) II ve III
- C) I ve IV
- D) III ve IV

### (209) SOSYOLOJİ – 2

1. Kültürle ilgili olarak aşağıdaki yargılardan hangisi **yanlıştır**?

- A) Kültür, toplumları, ulusları, grupları birbirinden ayıran, onları özgün kılan bir işleve sahiptir.
- B) Kültürün temel değerleri bireylere benimsetilerek toplumsal bütünlük sağlanır.
- C) Kültür, dil, eğitim ve sanat yoluyla üretilip, sonraki kuşaklara aktarılır.
- D) Kültürün sadece manevi unsurları tarihsel süreçte değişime uğramaz.

## 1. OTURUM

2. Aşağıdakilerden hangisi manevi kültür öğelerindedir?

- A) Folklorik kıyafetler
- B) Gelenekler
- C) Kitaplar
- D) Okullar

3. Ziya Gökalp'e göre kültürün evrensel yönünü ifade eden kavram aşağıdakilerden hangisidir?

- A) Medeniyet
- B) Anomi
- C) Hars
- D) Kültürel yayılma

4. Her toplumsal kurumun yerine getirdiği bir işlev vardır. Kurumların işlevleri ile ilgili olarak aşağıda verilenlerden hangisi yanlıştır?

A)	Aile	Neslin devamının sağlanması
B)	Ekonomi	Üretim, bölüşüm ve tüketim ilişkisinin düzenlenmesi
C)	Eğitim	Toplumun temel değerlerinin kazandırılması
D)	Din	Yasa ve yönetim ilişkilerinin düzenlenmesi

5. Aşağıdaki aile sınıflandırmalarının hangisi, tek eşliliğin olduğu, evlenme ve boşanmanın hukuk kurallarıyla yapıldığı, eşitlik ilkesine dayanan aile türüdür?

- A) Anaerkil aile
- B) Çekirdek aile
- C) Ataerkil aile
- D) Büyük aile

6. Günümüz ailesinde kadının statüsünde olumlu anlamda değişimler meydana gelmiştir. Bu olumlu değişimlerin nedeni aşağıdakilerden hangisiyle açıklanamaz?

- A) Tek eşliliğin uygulanması.
- B) Kadınların eğitim imkanlarından faydalanması.
- C) Anayasamızda kadın erkek arasında ayırım yapılması.
- D) Medeni kanunla beraber kadın haklarının, hukuksal bir temele dayandırılması.

7. Aşağıdakilerden hangisi Türkiye'de boşanma ve boşanmanın sonuçları ile ilgili düşüncesinde doğrudur?

- A) Aileyi koruyucu ve boşanmayı zorlaştırıcı tedbirler sayesinde boşanma oranları azalmaktadır.
- B) Türkiye'de boşanan çiftlerin çocuklarına yetiştirme yurtlarında bakılma zorunluluğu bulunmaktadır.
- C) Evlenme ve boşanma ile ilgili hükümler Türk Ceza Kanunu'nda belirlenmiştir.
- D) Eşlerden birinin diğerine eziyet etmesi boşanma nedeni sayılır.

8. Aşağıdakilerden hangisi dinin bireysel işlevlerindedir?

- A) Koyduğu kurallarla toplumsal düzeni sağlamaya çalışır.
- B) Kişiye nasıl bir yaşam sürmesi gerektiği konusunda öneriler sunar.
- C) Aynı dine inananlar arasındaki dayanışmayı artırır.
- D) Devlet yönetiminde uyulması gereken ilkeleri belirler.

9. Evreni yaratan ve yöneten bir tanrının varlığını kabul eden görüş aşağıdakilerden hangisidir?

- A) Teizm
- B) Ateizm
- C) Panteizm
- D) Fetişizm

10. Aşağıdakilerden hangisi işbölümünün yararlarından değildir?

- A) Kişiye, istekli ve yetenekli olduğu alanda çalışma imkanı sağlar.
- B) Kişi mekanikleşerek kendine yabancılaşmaya başlar.
- C) Kısa sürede daha fazla iş yapılmasını sağlar.
- D) Toplum üyeleri arasında işbirliğini geliştirir.

11. Aşağıdakilerden hangisini söyleyen bir kişi, iktidarın kaynağının halkın iradesine dayandırıldığı bir devlet şeklini ortaya koymaktadır?

- A) Ben devletim
- B) Güç benim
- C) Ben halkın temsilcisiyim
- D) Ben tanrının yeryüzündeki temsilcisiyim

12. Demokratik toplumlarda baskı grupları, siyasi mekanizmayı etkileme gücüne sahip gerekli örgütlerdir?

Aşağıdakilerden hangisi baskı gruplarına örnek oluşturmaz?

- A) Sendikalar
- B) Dernekler
- C) Toplumsal kurumlar
- D) Meslek örgütleri

13. Paranın değerinin yükselmesi veya düşmesi ile ilgili olaylardan hangileri doğrudan devlet eliyle gerçekleştirilir?

- A) Devalüasyon – Revalüasyon
- B) Enflasyon – Revalüasyon
- C) Enflasyon – Deflasyon
- D) Deflasyon – Devalüasyon

14. Egemenliğin tek bir kişinin elinde olduğu yönetim biçimi aşağıdakilerden hangisidir?

- A) Aristokrasi
- B) Oligarşi
- C) Teokrasi
- D) Monarşi

15. Aşağıdakilerden hangisi Atatürkçü düşünce sisteminin özelliklerindedir?

- A) İlke ve devrimleri birbirinden tamamen farklı niteliktedir.
- B) Tamamlanmış donmuş bir içeriğe sahiptir.
- C) Sadece kendi toplumunun varlığını düşünür.
- D) Diğer ideolojilerden ayrı kendine özgü bir düşünce sistemidir.

16. I. Fizik çevre  
II. Bilim ve teknoloji  
III. Ekonomi

Yukarıda verilenlerden hangileri toplumsal değişmeyi etkileyen faktörlerdendir?

- A) I ve II
- B) II ve III
- C) I, II ve III
- D) I ve III

## 1. OTURUM

17. Tek bir karar mekanizmasının (bir liderin, grubun veya bir devlet organının) hazırladığı plan ve programların uygulanması ile gerçekleşen toplumsal değişme tipi aşağıdakilerden hangisidir?

- A) Demokratik planlı değişme  
B) Baskı yolu ile değiştirme  
C) Serbest sosyal değişme  
D) Kendiliğinden sosyal değişme

18. Aşağıdakilerden hangisi, bir toplumun gelişmişliğinin göstergelerindendir?

- A) Orta tabakanın genişlemesi  
B) Üst tabakanın genişlemesi  
C) Tüketim oranlarının düşüklüğü  
D) Nüfus sayısının fazlalığı

19. "Toplumu meydana getiren farklı maddi ve manevi unsurların, uyumlu ve dinamik bir bütün oluşturacak şekilde birbirini tamamlamasıdır."

**Tanımı verilen kavram aşağıdakilerden hangisidir?**

- A) Toplumsal bütünleşme  
B) Toplumsal değişme  
C) Toplumsal büyüme  
D) Toplumsal çözülme

20. Aşağıdakilerden hangisi toplumsal çözülmenin nedenlerinden biri değildir?

- A) İş bölümü yetersizliği  
B) Örgütlenme yetersizliği  
C) Bilimsel gelişmelerin yetersizliği  
D) Milli birlik bilincinin zayıflaması

(242) İNGİLİZCE – 3

1 - 20. sorularda boş bırakılan yere uygun gelen kelime ya da ifadeyi işaretleyiniz.

1. - - - - İstanbul is a big city.

- A) A B) An C) - D) The

2. I like - - - - cat very much.

- A) I B) me  
C) mine D) my

3. - - - - car is very old.

- A) They B) This  
C) These D) Those

4. He doesn't like tea, - - - - does he coffee.

- A) for B) nor  
C) and D) but

5. İpek was ill - - - - she didn't go to school.

- A) but B) or C) yet D) so

6. We haven't got any flour. You have to buy - - - - .

- A) some B) many  
C) much D) any

7. I've got - - - - books.

- A) a little B) many  
C) much D) a few

8. Linda is busy. She's doing her homework - - - - .

- A) usually B) yesterday  
C) right now D) tomorrow

9. What are you going to do - - - - ?

- A) at the moment  
B) at the weekend  
C) since last year  
D) yesterday evening

10. My best friend, Mustafa is studying Medicine at university. He - - - - a doctor soon.

- A) is going to be  
B) has been  
C) had been  
D) was

11. My mother usually prepares our breakfast. But today is Sunday and my father - - - - it.

- A) prepare B) is preparing  
C) prepared D) to prepare

12. Cengiz has broken his foot. It means that he - - - - next match.

- A) didn't play  
B) hadn't played  
C) hasn't played  
D) isn't going to play

13. The banks - - - - every morning at 9 am.

- A) play B) study  
C) open D) come

14. A: How many kilometres - - - - Ali - - - - to school every day?  
B: Ten kilometres.

- A) is / riding B) was / riding  
C) do / ride D) does / ride

15. A: I can't understand. What - - - - you - - - - to do?  
B: I am fixing my broken toy.

- A) were / trying  
B) are / trying  
C) did / try  
D) have / tried

16. A: How often do you go to cinema?  
B: - - - -

- A) Last year.  
B) Next year.  
C) Last month.  
D) Once a month.

17. A: - - - -  
B: My father usually goes to work by bus.

- A) How does your father go to work?  
B) Does your father go to work?  
C) What does your father do?  
D) Where does your father work?

18. A: - - - - kind of films do you like?  
B: I like horror films.

- A) Who B) What  
C) Why D) How

## 1. OTURUM

19. There was a ---- in the kitchen.

- A) a big round wooden table
- B) a round big wooden table
- C) a wooden big round table
- D) a big wooden round table

20. Look! That blindman is going to ----.

- A) go to theatre
- B) leave the home
- C) fall into the hole
- D) have a new walking-stick

(242) ALMANCA – 3

1 - 20. sorularda boş bırakılan yere uygun gelen kelime ya da ifadeyi işaretleyiniz.

1. Von allen Mädchen in ihrer Schule ist sie am ----.

- A) groß
- B) größten
- C) größer
- D) größte

2. Uli : Kommst du heute zu meiner Geburtstagsparty?  
Tim : Ja, ich ---- 18 Uhr kommen.

- A) wird am
- B) wurde am
- C) werden um
- D) werde um

3. Der Junge hilft sein- ---- Mutter beim Kochen.

- A) -es
- B) -er
- C) -e
- D) -

4. Ein faul- ---- Schüler kann die Fragen nicht beantworten.

- A) -er
- B) -es
- C) -e
- D) -

5. sprechen, ----, gesprochen. (Präteritum)

- A) spricht
- B) spricht
- C) spreche
- D) sprach

6. A: Darf ich ---- zum Essen einladen?

B: Danke! Das ist sehr nett von dir.

- A) mich
- B) dich
- C) sich
- D) unser

7. Ich ---- jeden Morgen um 7 Uhr ----.

- A) gehe / -
- B) ziehe / -
- C) stehe / auf
- D) sehe / aus

8. Hasan mal- ---- ein Bild und häng- ---- es an die Wand.

- A) -t / -t
- B) -t / -e
- C) -st / -st
- D) -t / -st

9. A: ---- schreibst du?

B: Ich schreibe mit dem Füller.

- A) Womit
- B) Woher
- C) Wem
- D) Was

10. Susanne ---- morgen nach Deutschland fliegen.

- A) wird
- B) werden
- C) wurde
- D) geworden


11. Ein klug- ---- Schüler kann alle Fragen beantworten.

- A) -er
- B) -en
- C) -e
- D) -ste

12. Der Lehrer sagt, ---- Ali nicht zu spät kommen soll.

- A) weil
- B) dass
- C) denn
- D) aber

13.



Wo ist die Katze?  
Die Katze ist ----

- A) auf dem Auto
- B) in dem Auto
- C) unter dem Auto
- D) zwischen dem Auto

14. Gekocht wird in der ----

- A) Badezimmer
- B) Wohnzimmer
- C) Keller
- D) Küche

15. Jeden Morgen ---- ich Tee und ---- Käse zum Frühstück.

- A) trinke / esse
- B) esse / trinke
- C) esse / esse
- D) trinke / essen

16. Aylin ---- täglich ihr Zimmer ----

- A) wacht / auf
- B) steht / auf
- C) räumt / auf
- D) zieht / aus

17.



Was ist sie von Beruf?

- A) Köchin
- B) Lehrerin
- C) Polizistin
- D) Ärztin

## 1. OTURUM

18. Verilen sözcüklerden bir grup oluşturulduğunda hangisi diğerlerinden farklıdır?

- A) Meer            B) Berg  
C) Fluss           D) See

19. Aşağıdakilerden hangisi "Kinder-" kelimesini tamamlamaktadır?

- A) -schule        B) -platz  
C) -haus          D) -garten

20. Aşağıdaki eşleştirmelerden hangisinde sıfatın zıt anlamlısı doğru verilmiştir?

- A) schnell x langsam  
B) klein x kleiner  
C) lang x dick  
D) laut x groß

### (242) FRANSIZCA – 3

1 - 18. sorularda boş bırakılan yere uygun gelen kelime ya da ifadeyi işaretleyiniz.

1. A: Ayşegül a dix-huit ans?

B: Non, - - - - n'a pas dix-huit ans.

- A) elles            B) elle  
C) tu                D) ils

2. A: Paul, tu vois la petite fille au chapeau rouge?

B: Oui, je - - - - vois.

- A) te    B) les    C) la    D) le

3. A: Est-ce que vous n'aimez pas les chansons de Hadise?

B: Mais si, nous - - - - aimons beaucoup.

- A) les                B) nous  
C) la                D) leurs

4. A: As-tu donné des biscuits à ton cousin?

B: Oui, je - - - - en a donné.

- A) le    B) lui    C) leur    D) la

5. A: Est-ce que quelqu'un vient avec moi?

B: Non, - - - - ne vient avec toi.

- A) rien              B) depuis  
C) personne       D) quelque chose

6. Il n'aime pas les gens - - - - ne rien jamais.

- A) que              B) ou  
C) où               D) qui

7. Comme il - - - -, mon grand-père ne sort pas.

- A) neigé            B) venu  
C) neige            D) plu

8. A: Je n'aime pas cela.

B: Dis-moi - - - - tu aimes, alors!

- A) ce que           B) ce qui  
C) depuis          D) pour

9. A: Tu as déjà vu ce film?

B: Oui, je l'ai vu - - - - .

- A) dimanche prochain  
B) après-demain  
C) demain  
D) dimanche dernier

10. A: Caroline habite à Londres?

B: Oui, elle - - - - habite depuis quatre ans.

- A) y    B) en    C) au    D) à la

11. A: Comment vas-tu à l'école, Asya?

B: J'y vais à pied mais - - - - il fait froid, j'y vais en voiture.

- A) quand  
B) parce que  
C) qui est-ce qui  
D) combien

12. Madame, votre mari est malade. Vous ne lui permettrez pas de - - - - .

- A) respecter       B) fumer  
C) acheter          D) vendre

13. A: Vous mangez de la pizza?  
B: Oui, nous - - - - mangeons.

- A) en                B) du  
C) de la            D) y

14. A: Qu'est-ce qu'un - - - - ?

B: C'est quelqu'un qui soigne les malades.

- A) pilote            B) médecin  
C) architecte       D) journaliste

15. C'est Demet Akbaş - - - - joue dans le film Hükümet Kadın.

- A) donc             B) que  
C) ce que           D) qui

16. Erol Büyükburç, chanteur célèbre est - - - - à l'âge de 79 ans.

- A) né                B) marché  
C) mort             D) donné

17. La pâtissière - - - - des gâteaux.

- A) soigne            B) lave  
C) fait               D) répond

18. Paul - - - - passé ses vacances d'hiver en Autriche.

- A) as    B) a    C) es    D) est

19 - 20. sorularda verilen resme göre doğru ifadenin bulunduğu seçeneği işaretleyiniz.

19.



S'il pleut, il ouvre - - - - .

- A) des chaussures  
B) un parapluie  
C) une chemise  
D) des chaussettes

## 1. OTURUM

20.



Il est - - - - .

- A) boucher      B) médecin  
C) journaliste    D) professeur

### (243) İNGİLİZCE – 4

1 - 20. sorularda boş bırakılan yere uygun gelen kelime ya da ifadeyi işaretleyiniz.

1. The shopping centre opens - - - - 10:00 am - - - - the mornings.

- A) at / at      B) in / at  
C) at / in      D) in / in

2. Tuna and Derya met to study for English exam - - - - Friday.

- A) up            B) on  
C) in            D) at

3. Deniz will give me my book back - - - - week.

- A) previous    B) last  
C) the          D) next

4. The word "old" has - - - - meanings in the dictionary.

- A) similar      B) popular  
C) favourite    D) different

5. If you go to Ankara, you should visit the Museum of Anatolian Civilizations. There are lots of - - - - objects in this museum.

- A) central      B) capital  
C) historical    D) middle

6. Yesterday, we went on a picnic by the lake. It was enjoyable. We had a - - - - time.

- A) great        B) many  
C) much        D) less

7. Football is - - - - than basketball in Brazil.

- A) popular  
B) more popular  
C) the more popular  
D) the most popular

8. Ali is the captain of the school football team. He plays very well and he has 29 scores in this season. He is - - - - player in our team.

- A) the better    B) best  
C) better        D) the best

9. The last Maths exam was - - - - than this one.

- A) difficult  
B) more difficult  
C) much difficult  
D) many difficult

10. Rabbits are - - - - than turtles while turtles live - - - - than rabbits.

- A) faster / longer  
B) longer / faster  
C) faster / slower  
D) longer / slower

11. The thief opened the door - - - - and entered the house.

- A) accurately    B) quietly  
C) simply        D) sincerely

12. - - - - you help me cook the dinner?

- A) Should        B) Must  
C) Would        D) May

13. Don't drive so fast. You - - - - have an accident.

- A) should        B) would  
C) must          D) can

14. I have - - - - my new jacket.

- A) paid            B) finished  
C) worn           D) called

15. Have you - - - - your homework?

- A) doing        B) done  
C) did            D) do

16. We - - - - together yesterday.

- A) have          B) had  
C) were          D) are

17. Who - - - - the chocolate?

- A) eat            B) ate  
C) eating        D) to eat

18. I didn't - - - - my uncle yesterday.

- A) visit          B) visited  
C) visiting      D) to visit

19. You don't need to wash the car. - - - - .

- A) She hasn't washed her clothes yet  
B) He has just painted his room  
C) They haven't gone out yet  
D) I have already cleaned it

20. You have an important exam tomorrow. - - - - .

- A) You should study  
B) You may fall down  
C) You can ride a horse  
D) You would drink milk

### (243) ALMANCA – 4

1 - 20. sorularda boş bırakılan yere uygun gelen kelime ya da ifadeyi işaretleyiniz.

1. Ali : - - - - trainierst du Fußball?

Bernd: Dreimal die Woche.

- A) Seit wann    B) Wo  
C) Wie lange    D) Wie oft

2. Ali : Ich habe Hunger.  
Hans : Ich - - - - .

- A) auch          B) weil  
C) mit            D) bin

## 1. OTURUM

3. Thomas hat eine grün- - - - - Hose an.

- A) –es B) –en C) –e D) –

4. Es ist kalt. Du - - - - kein Eis essen.

- A) soll B) sollen  
C) sollst D) sollt

5. Martin - - - - gestern schwimmen.

- A) will B) wollte  
C) willst D) wollen

6. Sie - - - - vorsichtig sein, wenn sie Auto fahren.

- A) muss B) müssen  
C) musste D) müsse

7. Lehrer : - - - - deine Hausaufgaben!

- A) Machen B) Machst  
C) Macht D) Mach

8. Der Fahrrad ist - - - - als das Auto.

- A) langsamer B) langsamste  
C) schnell D) schnellste

9. - - - - wir zusammen tanzen?

- A) Kann B) Können  
C) Kannst D) Könnte

10. Ayşe : - - - - du Englisch?  
Betül : Ja, ich lerne Englisch.

- A) Lernt B) Lerne  
C) Lernen D) Lernst

11. Wir - - - - heute Fußball spielen aber es hat angefangen zu regnen.

- A) wollten B) will  
C) wollte D) gewollt

12. - - - - mir sofort das Buch!  
(geben, emir kipi)

- A) Geben B) Gegeben  
C) Gab D) Gib

13. A: Was - - - - du?  
B: Ich schreibe einen Brief.

- A) schreibe B) schrieb  
C) schreiben D) schreibst

14. Die alt- - - - Frau ist meine Großmutter.

- A) -en B) -e C) -- D) -er

15. Es ist sehr warm. Du - - - - viel Wasser trinken.

- A) sollst B) sollen  
C) sollte D) soll

16. Hans und Ali - - - - gestern nach Antalya fliegen.

- A) will B) wollten  
C) haben D) möchten

17. Ich bin 16 Jahre alt. Meine Schwester ist 14 Jahre alt. Meine Schwester ist - - - - als ich.

- A) älter B) alt  
C) jünger D) jung

18. Ich - - - - heute keine Hausaufgaben machen.

- A) will B) sein  
C) bin D) habe

19. Sibel hat ein- - - - blauen Mantel an.

- A) -e B) -- C) -es D) -en

20. Kurallı bir cümle oluşturunuz.

**gekocht - mein - Heute - Vater - hat**

1 2 3 4 5

- A) 1 - 3 - 5 - 4 - 2  
B) 3 - 5 - 2 - 4 - 1  
C) 4 - 2 - 3 - 5 - 1  
D) 2 - 4 - 1 - 5 - 3

(243) FRANZIZCA – 4

1 - 18. sorularda boş bırakılan yere uygun gelen kelime ya da ifadeyi işaretleyiniz.

1. - - - - sommes en hiver, mais bientôt ce sera le printemps.

- A) Nous B) Ils  
C) Vous D) Notre

2. J'ai les yeux verts, Nermin et Nevin, - - - - ont les yeux marron.

- A) elles B) il  
C) ils D) elle

3. Ne prends pas ce livre-ci, mais - - - - .

- A) celles-là B) celle-ci  
C) celui-là D) ceux-là

4. Serpil n'a pas de collier, mais elle met souvent - - - - de sa mère.

- A) celles B) celle-là  
C) celui D) ceux-ci

5. Elif mesure 1m 67. Suna mesure 1m 60.

Elif est - - - - grande que Suna.

- A) plus B) aussi  
C) moins D) autant

6. Kenan a lu six romans. Tansu a lu quatre romans.

Kenan a lu - - - - de romans que Tansu.

- A) autant B) plus  
C) moins D) aussi

## 1. OTURUM

7. Usain Bolt est l'homme - - - - rapide du monde.

- A) la plus B) les moins  
C) la moins D) le plus

8. A: Ce sont vos lettres ?

B: Oui, ce sont - - - - .

- A) les tiens B) les miennes  
C) les leurs D) les siens

9. A: Mon livre est intéressant.  
Et le tien?

B: - - - - aussi est intéressant.

- A) La mienne B) Les miennes  
C) Le mien D) Les miens

10. - - - - je suis très fatigué, je dors.

- A) Quand B) Où  
C) Combien D) Comment

11. Lorsque l'agent de police a sifflé,  
il garait - - - - .

- A) notre porte  
B) votre chambre  
C) sa fenêtre  
D) sa motocyclette

12. Quand je me sens fatigué, je  
- - - - un thé.

- A) a pris B) prends  
C) prenais D) as pris

13. A: Tu bois - - - - ?

B: Non merci, je n'en bois pas.

- A) du lait  
B) des olives  
C) des pommes  
D) de la salade

14. Un - - - - a été volé dans le musée  
du Louvre.

- A) inspecteur B) pont  
C) tableau D) immeuble

15. Si vous receviez - - - - anonyme,  
que feriez-vous?

- A) un boulevard  
B) un quartier  
C) une rue  
D) une lettre

16. Pour déclarer un vol, on va - - - - .

- A) à l'office de tourisme  
B) au commissariat de police  
C) à la mairie  
D) au café

17. - - - - est une personne qui vend  
des médicaments.

- A) Le pharmacien  
B) L'ingénieur  
C) Le photographe  
D) Le coiffeur

18. La statue de la Liberté est - - - -  
New York - - - - États-Unis.

- A) en / à B) à la / au  
C) à / aux D) aux / en

19. Aşağıdaki cümlelerin hangisinde  
"futur proche" kullanılmıştır?

- A) Elle a bien regardé les enfants.  
B) Il va regarder les oiseaux.  
C) Je viens de regarder les enfants.  
D) Regardez bien les oiseaux.

20.



Verilen resme göre doğru  
ifadenin bulunduğu seçeneği  
işaretleyiniz.

- A) Il est beau et il est souriant.  
B) Il est vieux et il a des lunettes.  
C) Il est chauve et il a de la barbe.  
D) Il est barbu et il est sérieux.

(244) İNGİLİZCE – 5

1 - 20. sorularda boş bırakılan  
yere uygun gelen kelime  
ya da ifadeyi işaretleyiniz.

1. It hasn't snowed in Antalya - - - -  
many years.

- A) for B) since  
C) to D) at

2. Turkish Republic of Northern  
Cyprus has been independent  
- - - - 1984.

- A) never B) for  
C) since D) ever

3. To lose weight you need to eat  
- - - - .

- A) less B) much  
C) most D) worse

4. Today, Ahmet is - - - - than  
yesterday.

- A) good B) best  
C) the best D) better

5. Konya is - - - - than all the other  
cities in Turkey.

- A) large B) larger  
C) largest D) the largest

6. The air in the big cities is more  
- - - - than in the village.

- A) crowded B) comfortable  
C) polluted D) pleasant

7. People have to use the - - - - for  
the benefit of human kind.

- A) invitations B) scientists  
C) questions D) inventions

8. Technology has made our lives  
easier but it has some - - - - for  
us.

- A) resources B) researches  
C) precautions D) disadvantages



## 1. OTURUM

9. When I was a child, I ---- drink much more milk than now.

- A) should      B) have to  
C) used to     D) might

10. Your father never drinks cold water, ----

- A) will he?     B) does he?  
C) won't he?   D) doesn't he?

11. Let's have a party, ----?

- A) will we      B) will you  
C) shall we     D) shall you

12. Don't go out at night, ----?

- A) do you      B) were you  
C) have you     D) will you

13. He has bought a new house, ----?

- A) won't he     B) hasn't he  
C) wasn't he    D) doesn't he

14. The poor man hasn't ---- anything for two days.

- A) eat           B) ate  
C) eating       D) eaten

15. There ---- a big park for kids in the town but now there isn't.

- A) used to be   B) has to be  
C) will be       D) may be

16. She ---- go to the party with them last night.

- A) can't         B) won't  
C) didn't        D) doesn't

17. The students ---- a very difficult exam and most of them failed.

- A) visited      B) called  
C) drank        D) had

18. How ---- you ---- to the school yesterday?

- A) did / go      B) will / go  
C) are / going   D) was / going

19. A: I have to finish this work.  
B: Don't worry! I ---- you.

- A) had helped   B) will help  
C) could help    D) was helping

20. Sedat was fixing the car in the garage while ----.

- A) they had an accident  
B) you often go to museum  
C) I was watering the flowers  
D) he will go abroad tomorrow

### (244) ALMANCA – 5

1 - 20. sorularda boş bırakılan yere uygun gelen kelime ya da ifadeyi işaretleyiniz.

1. Herbst, ----, Frühling

- A) Woche        B) Monat  
C) Sommer     D) Winter

2. Der Spielfilm beginnt ---- 19.00 Uhr.

- A) im    B) um    C) am    D) bis

3. Ein Jahr hat ---- Monate.

- A) zehn            B) elf  
C) zwölf           D) zwanzig

4. gut, ----, am besten

- A) besser          B) guter  
C) lieber          D) beste

5. billig, billig ----, am billig ----

- A) -sten / -er    B) -en / -er  
C) -er / -sten    D) -e / -er

6. Dienstag, ----, Donnerstag

- A) Mittwoch      B) Freitag  
C) Samstag       D) Montag

7. Atatürk ist ---- Jahre 1881 in Selanik geboren.

- A) bis    B) am    C) um    D) im

8.



Fahrrad ----

- A) reiten          B) spielen  
C) arbeiten       D) fahren

9. Ich lese die Zeitungen, ---- die Nachrichten ---- verfolgen.

- A) um / zu        B) von / bis  
C) aber / bis     D) und / zum

10. Suzi hat ---- April Geburtstag.

- A) im    B) um    C) von    D) bis

11.



Wo ist der Fahrrad?

Der Fahrrad ist ---- den Autos.

- A) unter          B) über  
C) auf             D) zwischen

12. A: ---- hat dir dein Vater zum Geburtstag ----?

B: Eine Katze.

- A) Wer / kaufen  
B) Was / gekauft  
C) Wen / kaufe  
D) Wie / kaufen

13. Du ---- kein Eis im Winter essen.

- A) sollen          B) soll  
C) sollst          D) sollst

## 1. OTURUM

(244) FRANSIZCA – 5

1 - 16. sorularda boş bırakılan yere uygun gelen kelime ya da ifadeyi işaretleyiniz.

14. Es schneit - - - - zwei Tagen in Ankara.

- A) bis B) um C) sind D) seit

15. Wenn du gesund sein willst, - - - - du Sport treiben.

- A) musst B) ist  
C) soll D) sein

16. Konya ist groß. Ankara ist - - - - . Istanbul ist - - - - .

- A) groß / größte  
B) größer / am größten  
C) große / größer  
D) am größten / groß

17. Was - - - - du in den Ferien?

- A) mache B) machen  
C) machte D) machst

18. "September, Oktober, November" hangi mevsimin aylarıdır?


- A) Herbst B) Winter  
C) Frühling D) Sommer

19. Aşağıda karışık olarak verilen kelimelerle kurallı bir cümle oluşturunuz.

geregnet - in - hat - Es - viel -  
1 2 3 4 5  
Istanbul  
6

- A) 1 - 2 - 3 - 4 - 5 - 6  
B) 4 - 5 - 3 - 1 - 6 - 2  
C) 4 - 3 - 5 - 2 - 6 - 1  
D) 4 - 2 - 3 - 1 - 5 - 6

20.



Resimdeki kişinin yaptığı eyleme ne denir?

- A) fahren B) reiten  
C) schwimmen D) fliegen

9. - - - -, je suis allé au Corée du Sud.

- A) Lundi prochain  
B) L'an dernier  
C) Juin prochain  
D) Le mois prochain

10. C'est le professeur - - - - le fils joue au football en Italie.

- A) que B) qui  
C) dont D) où

11. Mon fils apprend le français - - - - des CD.

- A) en écoutant B) en chantant  
C) écouté D) chanté

12. Mme Fournier - - - - dans le parc national, étudie la nature.

- A) travaillant B) oubliant  
C) pendant D) apportant

13. Pendant ses - - - - en bateau sur le Bosphore, il lit des livres.

- A) vêtements B) promenades  
C) animaux D) romans

14. S'il neige demain, nous irons - - - - à Palandöken.

- A) faire du ski  
B) se réveiller  
C) faire du ski nautique  
D) faire de la plongée

15. - - - -, nous avons fait la cuisine samedi dernier.

- A) Ma femme  
B) Mon frère et sa femme  
C) Ma femme et moi  
D) Mon frère

16. - - - - Turquie, on roule - - - - droite.

- A) Aux / au B) Au / aux  
C) À / en D) En / à

1. Sommes- - - - arrivés à temps à la gare?

- A) elles B) vous  
C) ils D) nous

2. - - - - veut visiter le nord de la Turquie.

- A) Elle B) Tu C) Je D) Elles

3. Tarkan est un chanteur - - - - chante aussi en anglais.

- A) ce qui B) qui  
C) ce que D) que

4. C'est la ville - - - - il a habité pendant des années.

- A) où B) ce qui  
C) que D) ce que

5. Le pays - - - - je préfère est la Turquie.

- A) où B) que C) qui D) donc

6. - - - - il fait beau, Pierre va à la chasse avec son chien.

- A) Combien B) Comment  
C) Quand D) Pourquoi

7. Nous avons écouté de la musique - - - - les vacances d'été.

- A) enfin B) pendant  
C) pour D) il y a

8. Elles iront - - - - ensemble pour faire du ski nautique.

- A) au stade  
B) à la bibliothèque  
C) au musée  
D) à la mer

## 1. OTURUM

17 - 18. sorularda verilen cümlelerin Türkçe karşılığını işaretleyiniz.

17. Les enfants sortent de la piscine en riant ensemble.

- A) Çocuklar havuzdan gülüşerek çıkıyorlar.
- B) Çocuklar hep beraber suya balıklama atladılar.
- C) Çocuklar havuzda balık gibi yüzüyorlar.
- D) Çocuklar atlaya zıplaya havuza gidiyorlar.

18. Je prends du café en mangeant du gâteau.

- A) Kahvemi hazırlarken pasta yedim.
- B) Pasta yaparken kahve içtim.
- C) Pastanın yanında kahve olsun isterim.
- D) Pasta yerken kahve içerim.

19 - 20. sorularda verilen cümlelerin Fransızca karşılığını işaretleyiniz.

19. Sokakta şarkı söyleyen bir genç kız gördüm.

- A) J'ai vu un beau garçon chantant dans la rue.
- B) J'ai vu une jeune fille chantant dans la rue.
- C) J'ai rencontré un jeune dansant dans la cour.
- D) Je vois une jeune fille dansant dans la cour.

20. Pierre kahvaltısını yaparken telefonla konuşuyordu.

- A) Pierre a répondu au téléphone en prenant son café.
- B) Pierre parlait au téléphone en prenant son petit déjeuner.
- C) Pierre parle toujours au téléphone en prenant le dîner.
- D) Pierre a parlé au téléphone en prenant du lait.

(403) DİL VE ANLATIM – 3

1. Aşağıdakilerden hangisi iletişim öğelerinden biri değildir?

- A) Kaynak
- B) İleti
- C) Bağlam
- D) Dilin işlevi

2. Aşağıdakilerden hangisi dilin işlevlerinden biri değildir?

- A) Göndergesel işlev
- B) İletişimi sağlayıcı işlev
- C) Kanalı kontrol işlevi
- D) Sanatsal işlev

3. Aşağıdakilerden hangisi sözsüz iletişimde kullanılmaz?

- A) Yüz hareketleri
- B) Beden dili
- C) Yüksek sesle konuşma
- D) Araç kullanımı

4. Derste konuyu anlattıktan sonra, öğretmenin öğrencilere "Sevgili öğrenciler konu anlaşıl mı, anlaşılmayan bir nokta var mı, sorusu olan var mı?" biçiminde sorması dilin aşağıdaki işlevlerinden hangisiyle ifade edilebilir?

- A) Heyecana bağlı işlev
- B) Göndergesel işlev
- C) Kanalı kontrol işlevi
- D) Alıcıyı harekete geçirme işlevi

5. Aşağıdakilerden hangisi teknolojinin iletişime sağladığı yararlarından biri değildir?

- A) İnsanların uzun süre bilgisayar başında zaman geçirmesi
- B) Bilgilerin DVD ortamında saklanabilmesi
- C) Bilgilerin DVD ortamında taşınabilmesi
- D) Slayt kullanımı ile görsellik sağlanması

6. Saydam bir yüzey üzerine alınmış, projeksiyonda kullanılmaya özgü pozitif görüntülere - - - - denir.

Bu cümlede boş bırakılan yere aşağıdakilerden hangisi getirilmelidir?

- A) bilgisayar
- B) DVD
- C) slayt
- D) karakter

7. Aşağıdakilerden hangisi sunum yapacak kişinin sunum sırasında yapması gerekenlerden biridir?

- A) Sunumda jest ve mimiklerle konuşmasını bütünleştirmek
- B) Güncel bir konu belirlemek
- C) Dinleyicilerin soru sormasına olanak tanımak
- D) Sunumu dinleyicilere duyurmak

8. Aşağıdakilerden hangisi sözlü anlatım türlerinden biridir?

- A) Masal
- B) Forum
- C) Fıkra
- D) Fabl

9. Aşağıdakilerden hangisi tartışmanın sağlıklı bir şekilde yürütülmesi için yapılması gerekenlerden biri değildir?

- A) Konuyu önceden belirlemek
- B) Tartışmacının düşüncelerinin yanlışlığını sık sık vurgulamak
- C) Tartışmayı yönetecek başkanı seçmek
- D) Tartışmada dinleme ortamını sağlamak

10. Kumulların arasındaki geniş çöl düzlükleri "sebha" olarak biliniyor. Tuz tabakası bazı yerlerde arabayla üstünden geçecek kadar sert olsa da bazı bölgelerde kumun çökmesiyle kırılıyor. Donovan Webster: "İşin püf noktası yumuşak yerlerden yavaş çıkıp bu arada aracın hızını düşürmemek." diyor. "Durmanız, kuma saplanmanız demek."

Bu parçanın anlatımıyla ilgili aşağıdakilerden hangisi söylenemez?

- A) Dolaylıdır.
- B) Nesnelidir.
- C) Somuttur.
- D) Açıklayıcıdır.

11. İskender Pala'nın son kitabını bir solukta okudum. Bize hayatın içinden bir hikâye sunmuş. Kullandığı dille de bunu desteklemiş. Bir çay bahçesinde koyu bir sohbe dalmış gibi hissediyorsunuz kendinizi. Bunu yaparken de ifadeleri asla gereksiz yere uzatmamış, hiçbir ifade tekrarına düşmemiş.

Bu parçada İskender Pala'nın kitabıyla ilgili aşağıdaki özelliklerden hangisine değilmiştir?

- A) Doğallık
- B) Duruluk
- C) İlginçlik
- D) Akıcılık

## 1. OTURUM

12. Kısmen de olsa kendimi tümüyle sorumlu hissediyorum bu olayda.

**Bu cümledeki anlatım bozukluğunun giderilmesi için aşağıdakilerden hangisi yapılmalıdır?**

- A) "bu olayda" sözü, cümlenin başına getirilmeli.
- B) "sorumlu hissediyorum" sözü yerine "suçluyorum" sözü getirilmeli.
- C) "kendimi" sözcüğü cümleden atılmalı.
- D) "kısmen de olsa" veya "tümüyle" sözlerinden biri atılmalı.

13. (I) Pencereler açık, perdeler kırıdamıyor; bir de bülbüller ötüyor. (II) Çiçeklenen ağaçlara, yeşeren toprağa sevinerek bakıyorum. (III) Sonunda hırçın kışı geride bırakıyoruz. (IV) Güneş, insanlara yaşama sevinci veriyor.

**Bu parçada numaralanmış cümlelerin hangisinde alışılmamış bağdaştırma vardır?**

- A) I. B) II. C) III. D) IV.

14. "Spor" konusu, aşağıdakilerin hangisinde diğerlerinden daha çok sınırlandırılmıştır?

- A) Sporda başarı
- B) Türk futbolunda başarı
- C) Avrupa futbolunda başarı
- D) Futbolda başarı

15. Aşağıdakilerden hangisi tartışmanın sağlıklı bir şekilde yapılmasını engeller?

- A) Tartışmacılardan biri yanlış bir şey söylediğinde hemen sözü kesilerek uyarılmalı.
- B) Konuşmalar kısa, öz ve anlaşılır bir dille yapılmalı.
- C) Ortaya sürülen düşünceler bilimsel verilere, kanıtlara dayanmalıdır.
- D) Amaç düşünceyi düşünceyle çürütmek olduğu için duygusallığa yer verilmemelidir.

16. Aşağıdakilerden hangisi panelin özelliklerinden biri değildir?

- A) Dinleyiciler tartışmaya aktif olarak katılır.
- B) Amaç, bir karara varmaktan çok sorunu çeşitli yönleriyle ele almaktır.
- C) Konuşmacı sayısı üç ile altı arasında değişir.
- D) Bir başkan vardır, konuşmacılar başkanın verdiği sıraya ve süreye göre konuşur.

17. Karşı Binboğa Dağı som yalıma kesti. Koca dağ güneş gibi oldu. Yıldızlar savruluyor. Binboğa Dağı tepeden tırnağa kaynaşiyor, ta göğün yedinci katına kadar yıldız yıldız kaynaşıp savruluyor. Binboğa Dağı yalım yalım kalktı, yürüdü Çukurova'nın üstüne. Dedesi karanlık bir duvar gibi geçti dikildi koca dağın önüne. Bekledi. Çakmak çakmak gözlelerinden yıldırımlar saçıyordu.

**Bu parçanın anlatımıyla ilgili olarak aşağıdakilerden hangisi söylenemez?**

- A) Betimleyici ve öyküleyici anlatıma başvurulmuştur.
- B) Anlatım özneldir.
- C) Somut bir anlatım vardır.
- D) Anlatım, gözlemci anlatıcının bakış açısıyla yapılmıştır.

18. Aşağıdaki cümlelerin hangisinde kahraman anlatıcı bakış açısı kullanılmıştır?

- A) Yusuf ile kardeşi lahmacunun son lokmalarını merdivenleri çıkarken yediler.
- B) Tamer koridora girdi, kapının yanındaki yediveren gülünü hiç fark etmemişti.
- C) Koşar adım sokaklardan geçti, bir duvara tırmanıp geniş bir avluya atladı.
- D) Annem usulca sokuldu yanıma, elini uzattı, yüzümü okşadı.

19. Fakültedeki odamdan bahçeye baktığımda karşıkı büyük beton binaların önünde, âdeta onlarla boy ölçüşen fakat onlardan habersiz, göklere yükselen ağaçları görürüm. Donmuş, sert, katı bir geometrik şekilden ibaret olan bu binayı bana güzel gösteren bu ağaçlardır. Onların her mevsim hatta her gün, sabah akşam değişen şekilleriyle bu beton geometri arasında bir zıtlık vardır. Beton geometri daima aynı katı gerçeği tekrarladığı hâlde bu özgür ağaçlar her gün ve her mevsim değişen şarkılarını söylerler.

**Bu parçanın konusu aşağıdakilerden hangisidir?**

- A) Betonlaşmanın hızı
- B) Ağacın güzelliği
- C) Mevsimlerin farklılıkları
- D) Doğayı korumak

20. Yazılı edebiyat, kültür dilinin en büyük hazinesini oluşturur. Günlük dilden ve sözlü edebiyattan yüzlerce defa zengindir. Bunun sebebi, yazının binlerce yıllık sözleri saklaması ve biriktirmesidir. Bu tür eserler arasında eski çağlara ait inanç ve ilim kitapları da vardır. Bunlarda yazılı olanlar bugüne uymasalar bile kültür tarihi bakımından değer taşır. Zira onlar bize eski çağda yaşamış insanları tanıtır.

**Bu parçadan aşağıdaki yargılardan hangisine ulaşamaz?**

- A) Edebiyat, kültürün nesilden nesile aktarılmasını sağlar.
- B) Yazılı edebiyat, dilin zenginliğini ortaya koyar.
- C) Eserler yazıldıkları çağın özelliklerini yansıtır.
- D) Kültür dili, milletlerin en önemli hazinesidir.

## 1. OTURUM

### (404) DİL VE ANLATIM – 4

1. İnsan, yalnız sözle insandır ve  
I II  
sözle bağlanı birbirimize.  
III IV

Yukarıda numaralanmış sözcüklerden hangisi isim türündedir?

- A) I. B) IV.  
C) II. D) III.

2. Aşağıdaki cümlelerin hangisinde çoğul eki almış bir isim vardır?

- A) Bizler çok uzun yoldan geldik buraya.  
B) Kitabımın bu bölümünü dün akşam yırtmışlar.  
C) Elindeki çay tepsisini masaya bıraktı.  
D) Gece yarısına doğru misafirler yatmaya gitti.

3. I. Zambaklar en ıssız yerde açar  
II. Ve vardır her vahşi çiçekte gurur  
III. Bir mumun ardında bekleyen rüzgâr  
IV. Işıksız ruhumu sallar da durur  
Yukarıdaki numaralanmış dize-lerin hangisinde isim tamlaması kullanılmıştır?

- A) I. B) II.  
C) III. D) IV.

4. Kralın biri bir gün sarayın çevresinde geziye çıkar. Bir ara iki genç kızın kendisine baktığını fark eder. Kızlardan biri, kral ne kadar da yaşlı ve buruşuk yüzlü, der. Bu sözleri duyan kral, genç kızlara dönerek şöyle der: "Evet, ama kulaklarım hâlâ iyi duyuyor."

Bu parçadaki öykünün öğelerinin hangisinde belirsizlik vardır?

- A) Olay B) Yer  
C) Zaman D) Kişi

5. Vapurdan çıkarken onu fark etmişim. Omzundaki dikkatimi çekmişti. Her zaman yanılırdım; o omzundaki şeyi bir müzik aletine benzetirdim. Yine öyle olmuştu. Yaz yeni başlamıştı, o gün sıcaktı. Vapur bekliyorduk. Gelen vapurdan iskeleye öyle insanlar indi ki her gün İstanbul kazan ben kepece dolaştığım hâlde onlara rastlayamamışım.

Bu parçanın anlatımında aşağıdaki duyu organlarından hangisine özgü ayrıntılar ağır basmaktadır?

- A) İşitme B) Koklama  
C) Görme D) Dokunma

6. Aşağıdaki cümlelerin hangisinde betimleyici anlatım özellikleri ağır basmaktadır?

- A) Sık sık görüştüğüm Hamdi'yi göremeyince ona telefon ettim.  
B) Ertesi gün öğleye doğru onun şirketine gittim.  
C) Görevli beni bir odaya alıp orada biraz bekletti.  
D) Artık hava adam akıllı kararış, sokak lambaları yanmıştı.

7. Yunus Reis, elli yaşlarındaydı. Yüzünün sağ tarafında ve sol kulağında şarapnel izi vardı. Orta boylu, güçlü kuvvetli, sert bakışlı biriydi. Az konuşurdu. İşlerin hemen bitmesini isteyen bir yönü vardı. Tayfaların bir işi yapmadığını görünce bir şey söylemez, kal-kar kendi yapardı. Bu da onlara çok dokunurdu.

Bu parçanın anlatımında aşağıdakilerden hangisine yer verilmemiştir?

- A) Betimleyici ifadelere  
B) Fiziksel portre anlatımına  
C) Ruhsal özelliklerin anlatımına  
D) İşitme duyusuna özgü ayrıntılara

8. Aşağıdaki cümlelerin hangisinde altı çizili sözcük niteleme sıfatı görevindedir?

- A) Eski hikâyelerdeki uçan halılarla gezmek istedi.  
B) Söğüdün dalları rüzgârın etkisiyle hışırdaydı.  
C) Sözü derin tarafından öncelikle dişi kırlangıç açtı.  
D) Bütün kuşları sıraya dizseler biz sonuncu gelmeliyiz.

9. Aşağıdaki cümlelerin hangisinde "bir" sözcüğü belgisiz sıfat olarak kullanılmıştır?

- A) Sizinle elbet bir gün buluşacağız.  
B) Mağazamızda yalnız bir bilgisayar kaldı.  
C) Bir ekmek Sultan, bir ekmek de Necmi yedi.  
D) Bizden bir gün sonra eşyalar geldi.

10. Ağaçlar sonbahara hazırlanıyor

I  
Bu şehir o eski İstanbul mudur  
II  
Karanlıkta bulutlar parçalanıyor  
Sokak lambaları birden yanıyor  
III  
Kaldırımlarda yağmur kokusu  
IV

Yukarıdaki dizelerde numaralanmış sözcüklerden hangisi sıfat görevinde kullanılmıştır?

- A) I. B) II.  
C) III. D) IV.

11. Şoför seslendi:  
– Rahmi! Tenekeye su koy.  
– Demin koyduk ya usta!  
– Sus bel! Yol fena, motor su kaynatıyor.

Yol birçok şoförün "çok güzel" dediği virajsız, yokuşsuz, sadece çakılları fırlamış bir şose idi. İki tarafında ağaçlar dizilmişti. Rahmi, tenekesiyle inip yol kenarında su aramaya başladı.

Bu parçada aşağıdaki anlatım türlerinin hangisinden yararlanılmamıştır?

- A) Betimleyici anlatım  
B) Tartışmacı anlatım  
C) Söyleşmeye bağlı anlatım  
D) Öyküleyici anlatım

## 1. OTURUM

12. Açık olmak, aydınlık söylemek derinliğe, güçlülüğe, yaratıcılığa engel değildir. Çetin, bulanık söylemek de her zaman derin düşünmek anlamına gelmez. Bunun en ilginç örneklerini şiirde görürüz. Açıklığın en tatlı örneklerini veren Yunus Emre'nin derinliğini birçok düşünürde bulamazsınız. Firdevsi ve Hayyam da açık söylemiş. İşte bu yüzden eskimek bilmiyorlar bir türlü.

**Bu parçanın anlatımıyla ilgili aşağıdakilerden hangisi söylenmez?**

- A) Kanıtlayıcı anlatıma başvurulmuştur.
- B) Tanımlamalara yer verilmiştir.
- C) Dil göndergesel işlevde kullanılmıştır.
- D) Karşılaştırma ve örneklemeden yararlanılmıştır

13. "İle" sözcüğü aşağıdaki cümlelerin hangisinde "ve" bağlacının yerine kullanılmıştır?

- A) Kıskançlıkla şüphe insan ilişkilerine zarar verir.
- B) Ben duygularımı her zaman babamla paylaşıyorum.
- C) Torunlarıyla mutlu dakikalar geçirmiştik.
- D) Boş sayfanın üzerine kalemle birkaç şekil çizdi.

14. (I) Şu bu derken birdenbire kendimi karanlık, koca bir şatoda buluverdim. (II) Şatoya nasıl girdiğimi hiç fark etmedim. (III) Ah, şuradan bir çıkabilsem! (IV) Rüyaymış meğer, salondaki koltukta uyuyakalmışım.

**Bu parçada numaralanmış cümlelerdeki fiillerin yapısı aşağıdakilerden hangisinde yanlış verilmiştir?**

- A) I. cümledeki yaklaşma kurallı birleşik fiildir.
- B) II. cümledeki yardımcı eylemle oluşan birleşik fiildir.
- C) III. cümledeki yeterlik kurallı birleşik fiildir.
- D) IV. cümledeki sürerlik kurallı birleşik fiildir.

15. Aşağıdakilerden hangisi dönüşlü bir fiildir?

- A) Bütün eşyalar yerleştirildikten sonra perdeler takıldı.
- B) Çocuk, yaşlı adama yol vermek için biraz kenara çekildi.
- C) Müdür, rahatsızlanınca acilen hastaneye kaldırıldı.
- D) Kaybolan ihale dosyası kaliferin arkasında bulundu.

16. Aşağıdakilerin hangisinde fiil haber kipiyle çekimlenmemiştir?

- A) Evin dış cephesi yazın yalıtım malzemesiyle kaplanacak.
- B) Anılar kırlardaki rengârenk çiçeklerden bal özü topluyor.
- C) Zabıtalılar pazardaki esnafın terazilerini kontrol etti.
- D) Parasını böyle gereksiz işlere, eşyalara harcamamalı.

17. Aşağıdaki cümlelerin hangisinde kişi zamiri kullanılmıştır?

- A) Bu devirde herkes, çıkarını düşünüyor ne yazık ki!
- B) Onu kasaya kilitle, içindeki bilgiler çok önemli.
- C) Gittiğim yerden sana güzel bir hediye getireceğim.
- D) Dün teslim edilen kargonun kimden geldiğini bilmiyormuş.

18. Ailesi, parayı hiç önemsemezdi.

**Bu cümlede aşağıdakilerden hangisi yoktur?**

- A) Cins isim
- B) Topluluk ismi
- C) Tekil isim
- D) Soyut isim

19. Bir padişahın üç kızı varmış. Devler bu kızları almak için her yıl buraya hücum eder fakat bir türlü alamazlarmış.

**Bu parçada aşağıdakilerden hangisi yoktur?**

- A) Bağlaç
- B) Ünlem
- C) Edat
- D) Zarf

20. (I) Hasta hemen doktora sıkıntılarını anlattı. (II) Koltuğunun altındaki röntgenleri çıkardı. (III) Bu sırada doktor muslukta ellerini yıkadı. (IV) Sonra ellerini özenle kuruladı.

**Bu parçada numaralanmış cümlelerin hangisinde yapıcı farklı bir fiil vardır?**

- A) I. B) II. C) III. D) IV.

(405) DİL VE ANLATIM – 5

1. Aşağıdakilerden hangisi geleneksel Türk tiyatrosunun türlerinden biri değildir?

- A) Orta oyunu
- B) Mesnevi
- C) Karagöz
- D) Köy tiyatrosu

2. Aşağıdakilerden hangisi gazete çevresinde gelişen öğretici metinlere örnek olabilir?

- A) Coğrafya ders kitabı
- B) Ahmet Haşim'in denemeleri
- C) Türkçe Sözlük
- D) Türk Klasikleri Ansiklopedisi

3. Aşağıdakilerden hangisi öğretici metinlerin özelliklerinden biri değildir?

- A) Metinler okuyucuda aynı izleri bırakır.
- B) Yazarın nasıl söylediğinden çok ne söylediği önemlidir.
- C) Gerçeği olduğu gibi yansıtmak amaçlanır.
- D) Anlatım mecaz anlamı söz-cüklerle zenginleştirilir.

4. Aşağıdakilerden hangisi gazete çevresinde gelişen metinlerden biridir?

- A) Makale
- B) Biyografi
- C) Anı
- D) Gezi Yazısı

## 1. OTURUM

5. Yaşanmış ya da yaşanması olanaklı olayları yer, zaman ve kişilere bağlı olarak anlatan uzun yazılara - - - - denir.

**Bu cümlede boş bırakılan yere aşağıdakilerden hangisi getirilmelidir?**

- A) hikâye B) tiyatro  
C) roman D) destan

6. Aşağıdakilerden hangisi öğretici metinlerden biri değildir?

- A) Hikâye  
B) Anı  
C) Felsefi Metinler  
D) Deneme

7. - - - - divan edebiyatında olay çevresinde gelişen edebi metinlerin en önemlisidir. Uzun anlatılar bu biçimde yazılmıştır. Divan edebiyatının romanı olarak adlandırılmıştır. Türk edebiyatına İran ve Arap edebiyatından geçmiştir.

**Bu parçada boş bırakılan yere aşağıdakilerden hangisi getirilmelidir?**

- A) Masal  
B) Mesnevi  
C) Destan  
D) Halk Hikâyesi

8. Aşağıdaki metin türlerinden hangisi anlatım özellikleri bakımında gerçeğe en yakındır?

- A) Roman B) Destan  
C) Anı D) Masal

9. Aşağıdakilerden hangisi coşku ve heyecanı dile getiren metinlere örnektir?

- A) Şiir B) Deneme  
C) Komedi D) Günlük

10. Annem, babam, ağabeyim, babaannem, amcalarım, halalarım, yengeler beş katlı bir apartmanın çeşitli katlarında yaşıyorduk. Ben doğmadan bir yıl önceye kadar bir büyük Osmanlı ailesi gibi hep birlikte ayrı oda ve kısımlarında yaşadıkları büyük taş konak terk edilmiş. Özel bir ilkokula kiraya verilmiş. 1951’de bitişikteki arsaya şimdi bizim dördüncü katında oturduğumuz “modern” apartman yapılmış. Sokak kapısının üzerine de o zamanki moda uygun olarak gururla Pamuk Apt. diye yazılmıştı.

**Bu parça aşağıdaki türlerin hangisinden alınmış olabilir?**

- A) Anı B) Günlük  
C) Sohbet D) Gezi Yazısı

11. Sanatsal ve öğretici metinlerle ilgili yapılan aşağıdaki karşılaştırmalardan hangisi yanlıştır?

- A) Sanatsal metinlerde amaç estetik zevk uyandırmakken öğretici metinlerde bilgi vermektir.  
B) Sanatsal metinlerde kurmaca, öğretici metinlerde gerçeklik ön plandadır.  
C) Sanatsal metinlerde dil ve anlatıma dikkat edilir, öğretici metinlerde ise bu çok önemli değildir.  
D) Sanatsal metni okuyan kişiler ayrı bir anlam, öğretici metni okuyanlar ise aynı anlam çıkarır.

12. (I) Çeşme açıklarında avlanan balıkçıların ağlarına tatlı davetsiz misafir takıldı. (II) İzmir’de balıkçı ağlarına takılan ilginç camgöz cinsi köpekbalığı, sergilendiği balıkçıda vatandaşların ilgi odağı oldu. (III) Yüksel İnce’nin yakaladığı balık, 3 metre uzunluğunda, 350 kilo ağırlığındaymış. (IV) Yüksel İnce, balığı bir süre daha şirin dükkânında sergilemeye devam edecekmiş.

**Bu parçada numaralanmış cümlelerin hangisinde nesnel bir anlatım vardır?**

- A) I. B) II. C) III. D) IV.

13. Helsinki’yi dolaşıyoruz. Burası bir şehir değil, bir çiçek bahçesi... Evler, oteller, lokantalar, dükkânlar hep bir yeşil dekor içinde. Bahçeler, parklar eksik değil. Ağaçların altında, yolların kenarında beyaz boyalı kanepeler, koltuklar var. Burada genç, yaşlı, çocuk, isteyen oturup dinleniyor, okuyor, güneşliyor. Sokaklarda polis görmedim. Ulusal terbiye belli ki en yüksek basamağa varmış.

**Bu parçada gezi yazısının aşağıdaki özelliklerinden hangisi örneklenmemiştir?**

- A) Görülen çevre, tabii özellikleriyle anlatılır.  
B) Yazar, gördüklerini kişisel yorumlarıyla aktarır.  
C) Gezilen yerin kültürel özellikleri verilir.  
D) Gezilen yerin tarihi hakkında bilgi verilir.

14. Aşağıdakilerden hangisi göstermeye bağlı edebî metinlerden biridir?

- A) Masal B) Mesnevi  
C) Destan D) Karagöz

15. Malesef edebiyat öğretimimiz yanlış. Edebiyat öğretiminde esas olan, okunan metin üzerinde öğrencinin düşünmesini; okuduklarını kendi diliyle, kendi algılamasıyla yeniden üretebilmesini sağlamaktır. Yoksa sorgulamadan metindeki anlamı tekrarlamak, önceden üretilmiş ve tanımlanmış bilgileri ezberlemek değildir. Edebiyat öğretiminden beklenen öğrencinin kuru bilgi sahibi olmasını sağlamak değildir. Öğrendiklerine hep bir şüpheyle bakmasını sağlamak, doğruluğu, yanlışlığı konusunda fikir jimnastiği yapmasını sağlamak esastır.

**Bu parçada “edebiyat öğretimi” ile ilgili asıl eleştirilen düşünce aşağıdakilerden hangisidir?**

- A) Öğrencilere okuma alışkanlığı kazandırılmaması  
B) Eleştirel düşünceden yoksun olması  
C) İyi metinlerin seçilmemesi  
D) Edebî bilgilerin çok fazla olması

## 1. OTURUM

### (406) DİL VE ANLATIM – 6

16. • İlk makale Şinasi'nin yazdığı "Tercümei Ahval Mukaddimesi"dir.  
• Edebiyatımızdaki ilk biyografi yazarı Ali Şir Nevai'dir.  
• İlk özel gazete "Takvîm-i Vakâyi"dir.

**Bu cümleler doğru (D), yanlış (Y) olarak değerlendirildiğinde doğru sıralama aşağıdakilerden hangisi olur?**

- A) D - Y - D      B) Y - D - Y  
C) Y - Y - D      D) D - D - Y

17. **Dünyada olup biten günlük ve önemli olayları, tarafsız biçimde halka ulaştırmak amacıyla olan bir kişi, aşağıdaki yazı türlerinden hangisini kullanmalıdır?**

- A) Mektup      B) Haber yazısı  
C) Deneme      D) Makale

18. **Aşağıdakilerden hangisi kişisel hayatı konu alan metinler içerisinde yer almaz?**

- A) Biyografi      B) Fıkra  
C) Anı      D) Gezi yazısı

19. **Aşağıda fıkra ile ilgili verilen bilgilerden hangisi onu makaleden ayıran en temel özelliğidir?**

- A) Düşünce yazısı olması  
B) Dilin göndergesel işlevde kullanılması  
C) Kanıtlanmaya gerek olmaması  
D) Anlatımın açık, sade ve duru olması

20. **Aşağıdakilerden hangisi gölge oyununun bölümlerinden biri değildir?**

- A) Tekerleme      B) Bitiş  
C) Mukaddime      D) Fasil

1. **Aşağıdakilerden hangisi "görüşme"nin eskiden kullanılan karşılığıdır?**

- A) Seyahatname  
B) Ruzname  
C) Mülakat  
D) Hatıra

2. **Aşağıdakilerden hangisi "söylevci" anlamına gelir?**

- A) Muhabir      B) Hatip  
C) Ozan      D) Spiker

3. **Ünlü kişilerin çeşitli yönlerini tanıtmak, için yapılan görüşmeleri sorulu - cevaplı aktaran yazılara - - - - denir.**

**Bu cümlede boş bırakılan yere aşağıdakilerden hangisi getirilmelidir?**

- A) görüşme      B) hatıra  
C) tartışma      D) hayat hikâyesi

4. **Aşağıdakilerden hangisi "görüşme"de dikkat edilecek özelliklerden biridir?**

- A) Çok ayrıntıya inmek  
B) Sürekli, konuşan kişinin sözünü kesmek  
C) Soruları karışık sormak  
D) Alınan cevapları olduğu gibi aktarmak

5. **Aşağıdaki sanatçı - eser eşleştirmelerinden hangisi doğrudur?**

- A) Ahmet Haşim - Boğaziçi Şingir Mingir  
B) Necip Fazıl Kısakürek - Mavi Sürgün  
C) Hikmet Feridun Us - Bugün de Diyorlar ki  
D) Orhan Veli Kanık - Günlerin Götürdüğü

6. **Aşağıdakilerden hangisi söylev türlerinden biri değildir?**

- A) Askeri Söylev  
B) Günlük Söylev  
C) Hukuksal Söylev  
D) Dinsel Söylev

7. **Aşağıdakilerden hangisi söyleve ait bir özellik değildir?**

- A) Gereksiz ve yersiz vurgulardan kaçınılmalı.  
B) Kısa ve açık cümleler kullanılmalı.  
C) İlgili çekecek cümlelerle başlanmalı.  
D) Dinleyicilerin kültür düzeyi dikkate alınmamalı.

8. **Hz. Muhammed'in Veda Hutbesi aşağıdakilerden hangisine örnektir?**

- A) Dinî söylev  
B) Askerî söylev  
C) Akademik söylev  
D) Hukukî söylev

9. — Çocuk Betül'le yetişkin Betül arasındaki en belirgin fark ne? Daha az konuşmuşum, daha çok dinlermişim. Gözlerimi açar, dinlermişim. Meslek icabı şimdi daha çok konuşuyorum. — Yaşlılığın hoşlukları da var mı? Var tabii, hırsın kalmıyor o kadar.

**Bu parça aşağıdaki türlerden hangisine örnektir?**

- A) Söylev      B) Mülakat  
C) Söyleşi      D) Fıkra

10. **Görüşme yapan kişi için aşağıdakilerden hangisi söylenmez?**

- A) Sabırlı ve nazik olmalı.  
B) Konuşacağı kişi hakkında bilgi edinmeli.  
C) Konuşma yapacağı konuyu belirlemeli.  
D) Aldığı cevaplara kendi yorumlarını da eklemeli.

11. **Mustafa Kemal Atatürk'ün 10. Yıl Nutku aşağıdakilerden hangisine örnektir?**

- A) Fıkra      B) Söylev  
C) Söyleşi      D) Röportaj



## 1. OTURUM

12. • Mülakatlarda konuşma yapılan kişi ile konuşulanların dışına çıkmaz.  
• Söylevde öyküleyici anlatım biçimi kullanılır.  
• Röportaj, dergi ve gazete yazısıdır.

**Bu cümleler doğru (D), yanlış (Y) olarak değerlendirildiğinde doğru sıralama aşağıdakilerden hangisi olur?**

- A) D - Y - D      B) Y - Y - D  
C) D - D - Y      D) Y - D - Y

13. **Konu yönünden bir yeri ele alan röportaj türü, aşağıdaki edebî türlerden hangisiyle benzerlik gösterir?**

- A) Hatıra      B) Roman  
C) Gezi yazısı      D) Haber yazısı

14. **Aşağıdaki sanatçılardan hangisi söylev türünde eser vermiştir?**

- A) Mustafa Baysal  
B) Halit Ziya Uşaklıgil  
C) Reşat Nuri Güntekin  
D) Rıza Tevfik Bölükbaşı

15. **"Nutuk" sözlü anlatım türünde dilin aşağıdaki işlevlerinden hangisi kullanılmaz?**

- A) Alıcıyı harekete geçirme işlevi  
B) Heyecana bağlı işlev  
C) Dil ötesi işlev  
D) Kanalı kontrol işlevi

16. – Çocuklar ne ifade ediyordu Rıfat Ilgaz için?  
– Çocuklar farklıydı babam için. Öykülerinde kullandığı sözcükleri bile çocukların dilinden seçerdi.  
– "Hababam Sınıfı"nda yazar nasıl bir mizah anlayışıyla karşımıza çıkıyor?  
– Hababam Sınıfı'nı gülsünler diye yazmadığını söylerdi babam. Aslında burada ezenle ezilen arasındaki çelişkileri göstermek istemiştir.

**Bu parça aşağıdaki edebî türlerin hangisinden alınmıştır?**

- A) Anı      B) Söylev  
C) Mülakat      D) Eleştiri

17. Kişinin anlattıklarının ve söylediklerinin bir önceki anlattıkları ve söyledikleriyle çelişmemesine - - - - denir.

**Bu cümlede boş bırakılan yere aşağıdakilerden hangisi getirilmelidir?**

- A) akıcılık      B) tutarlılık  
C) yalınlık      D) bağdaşıklık

18. I. Fıkra  
II. Söylev  
III. Röportaj

**Yukarıda numaralanmış anlatım türlerinden hangileri gazete ile gelişim göstermiştir?**

- A) Yalnız I.      B) Yalnız III.  
C) I. ve II.      D) I. ve III.

19. **Aşağıdakilerden hangisi röportajda kullanılan anlatım biçimlerinden biri değildir?**

- A) Düşsel      B) Kanıtlayıcı  
C) Öğretici      D) Açıklayıcı

20. **Aşağıdakilerden hangisi Türk edebiyatında mülakatlarıyla tanınmış sanatçılarımızdandır?**

- A) Ruşen Eşref Ünaydın  
B) Cenap Şehabettin  
C) Orhan Pamuk  
D) Yakup Kadri Karaosmanoğlu

### (407) DİL VE ANLATIM – 7

1. **Aşağıdakilerden hangisi sanatsal metinlerin özelliklerinden biri değildir?**

- A) Dil sanatsaldır.  
B) Gerçeklik ön plandadır.  
C) Mecazlı ifadeler yer verilir.  
D) Okuyucuya zevk verme amacı taşır.

2. **Aşağıdakilerden hangisi sanatsal metinlere örnek gösterilebilir?**

- A) Röportaj      B) Söyleşi  
C) Biyografi      D) Tiyatro

3. **Sanat, bilim, politika ve başka alanlarda tanınmış kişilerin yaşamlarını anlatan yazı türüne verilen ad aşağıdakilerden hangisidir?**

- A) Otobiyografi      B) Söylev  
C) Biyografi      D) Seyahatname

4. **Aşağıdakilerden hangisi anlatmaya bağlı metinlerin yapı unsurlarından biri değildir?**

- A) Yazar      B) Yer  
C) Zaman      D) Kişi

5. **Kahramanları hayvanlar ya da cansız varlıklar olan, ders verme amacı taşıyan, eğitici genellikle de manzum nitelik taşıyan yazılara verilen ad aşağıdakilerden hangisidir?**

- A) Fabl      B) Destan  
C) Hikâye      D) Orta oyunu

6. **Aşağıda verilen eserlerden hangisinin türü halk hikâyesidir?**

- A) Kerem ile Aslı  
B) Ayaşlı ve Kiracıları  
C) Sodom ve Gomore  
D) Memleket Hikâyeleri

7. **Anlatmaya bağlı metinlerde anlatım örgü biçiminde olan - - - - üzerine kuruludur.**

**Bu cümlede boş bırakılan yere aşağıdakilerden hangisi getirilmelidir?**

- A) anlatıcı      B) bakış açısı  
C) mekân      D) olay

8. **Aşağıdaki türlerden hangisi anlatım özellikleri yönünden diğerlerinden farklıdır?**

- A) Deneme      B) Makale  
C) Şiir      D) Fıkra

9. **Aşağıdakilerden hangisine masal türünün özelliklerinden biridir?**

- A) Yer ve zaman belirlidir.  
B) Hayal ürünü olan kısa hikâyelerdir.  
C) Gelecek zaman kipi kullanılır.  
D) Varlıklar gerçek yaşamdan seçilir.

## 1. OTURUM

10. Aşağıdakilerden hangisi halk hikâyelerini oluşturan bölümlerden biri değildir?

- A) Söyleşi B) Dua  
C) Döşeme D) Asıl olay

11. Kimsede hiç para kalmamıştı. Hasan, herkesten birer altın topluyordu. Belki de onlar son altınlarını veriyorlardı. O gece, Abdullah altınları getirdi; babasına verdi. Süleyman Kâhya önüne getirilen kulplu altınları ateşin ışığında saydı. İşte son servetleri de buydu.

**Bu parçada anlatmaya bağlı edebî metinlerin yapı unsurlarından hangisi yer almamıştır?**

- A) Zaman B) Kişi  
C) Yer D) Olay

12. Kara Mustafa, öyle olduğu yerde bakıp kaldı arkalarından. Anlayamadığı, aklının almadığı bir şey zonklayıp durdu ense kökünde. Yüreği bir cenderedeydi sanki. Sabahleyin Somuncu Baba'ya anlattığı yıldırım düşünüyü hatırladı nedense. Dervişler öğlen sıcağında yola sıralanmış, çömelmiş, işlerine dalmışlardı. Taş tıkrıtları, taşa hafif hafif vuran tokmak, çekiç sesleri geliyordu.

**Bu parçayla ilgili aşağıdakilerden hangisi söylenemez?**

- A) Olayın geçtiği mekân betimlenerek verilmiştir.  
B) Hâkim (ilahi) anlatıcının bakış açısıyla anlatılmıştır.  
C) Kahraman, ruh hâliyle yansıtılmıştır.  
D) Zaman unsuruna yer verilmiştir.

13. Aşağıdaki yazar – eser eşleştirmelerinden hangisi yanlıştır?

- A) Ahmet Mithat Efendi – Letaif-i Rivayat  
B) Halikarnas Balıkcısı – Merhaba Akdeniz  
C) Orhan Kemal – Ekmek Kavgası  
D) Memduh Şevket Esendal – Memleket Hikâyeleri

14. Aşağıdakilerden hangisi anlatmaya bağlı edebî türlerden değildir?

- A) Tiyatro B) Masal  
C) Roman D) Hikâye

15. Aşağıdakilerden hangisi Sait Faik Abasıyanık'ın hikâyelerinden biri değildir?

- A) Yüksek Ökçeler  
B) Alemdağ'da Var Bir Yılan  
C) Mahalle Kahvesi  
D) Lüzumsuz Adam

16. Aşağıdakilerden hangisi Türk halk tiyatrosu türlerinden değildir?

- A) Meddah B) Karagöz  
C) Trajedi D) Orta oyunu

17. Aşağıdaki halk hikâyelerinden hangisi Türk kaynaklıdır?

- A) Ferhat ile Şirin  
B) Köroğlu  
C) Leyla ile Mecnun  
D) Kelile ve Dimme

18. Aşağıdakilerden hangisi dünya edebiyatında fabl türünde eser veren ilk sanatçılardan değildir?

- A) La Fontaine  
B) Montaigne  
C) Şeyh Sadi  
D) Aisopos (Ezop)

19. Aşağıdakilerin hangisinde trajedi ile ilgili yanlış bir bilgi verilmiştir?

- A) "Üç birlik" kuralına uyulur.  
B) Öldürme, yaralama gibi acı olaylar sahnede gösterilmez.  
C) Kişiler çoğunlukla halktan kim-selerdir.  
D) Nazımla yazılır.

20. Aşağıdakilerden hangisi aşk konulu halk hikâyelerindendir?

- A) Danişment Gazi  
B) Dede Korkut  
C) Köroğlu  
D) Kerem ile Aslı

### (408) DİL VE ANLATIM – 8

1. Bilimsel yazılarda aşağıdaki anlatım türlerinden hangisi kullanılmaz?

- A) Tartışmacı B) Kanıtlayıcı  
C) Açıklayıcı D) Öyküleyici

2. Bilimsel yazılarda metnin tamamında anlatılanların küçültülerek bir paragraf hâline getirilip verildiği bölüm aşağıdakilerden hangisidir?

- A) Başlık B) Giriş  
C) Özet D) Sonuç

3. Toplumunu ilgilendiren bir konuda farklı gruplardan oluşan dinleyicilerin söz sırası olarak yaptıkları tartışmalara verilen ad aşağıdakilerden hangisidir?

- A) Forum B) Sempozyum  
C) Münazara D) Konferans

4. Yazar, düşünür ve sanatçıların veya alanında uzman kişilerin bilgi vermek, bir konuyu açıklamak, öğretmek amacıyla yaptıkları konuşmalara verilen ad aşağıdakilerden hangisidir?

- A) Söylev B) Münazara  
C) Konferans D) Mülakat

5. Alanında uzman kişiler, konunun belirli bölümleriyle ilgili sunum yaparlar. Bu sunumlar daha sonra birleştirilip kitap haline getirilebilir.

**Bu parçada hakkında bilgi verilen sözlü anlatım türü aşağıdakilerden hangisidir?**

- A) Forum B) Sempozyum  
C) Mülakat D) Röportaj

## 1. OTURUM

6. Bir kitabın veya derginin kişi, konu, yer adı vb. bakımından içindekileri yer numarasıyla belirten ve eserlerin arkasında yer alan alfabetik listeye ne ad verilir?

- A) Dipnot
- B) İndeks
- C) Kaynakça
- D) Dokümantasyon

7. "Konferansta amaç dinleyicileri - - - -" cümlesi aşağıdakilerin hangisiyle tamamlanmalıdır?

- A) güldürmektir.
- B) coşkulandırmaktır.
- C) bilgilendirmektir.
- D) duyulandırmaktır.

8. Aşağıdakilerden hangisi bilimsel yazılarda kullanılan "bibli-yografya" teriminin karşılığıdır?

- A) Dokümantasyon
- B) Kaynakça
- C) İndeks
- D) Dipnot

9. İbrahim Şinasi ve Agâh Efendi tarafından 1860 yılında çıkarılan gazete aşağıdakilerden hangisidir?

- A) Tercüman-ı Ahval
- B) Ceride-i Havadis
- C) Takvim-i Vekayi
- D) Tasvir-i Efkâr

10. Aşağıdakilerden hangisi bilimsel yazılar için söylenemez?

- A) Yazarın belli bir bilgi birikimine sahip olması gerekir.
- B) Öznel yaklaşım öne çıkarılır.
- C) Okuyucuyu bilgilendirme amacı taşır.
- D) Kesin ve açık ifadelere yer verilir.

11. Aşağıdakilerden hangisi münazarada hakem kurulunun konuşmaları değerlendirmeye esaslarından değildir?

- A) Konuşmacıların konuşma yeteneği
- B) Savunmada inandırıcı olmaları
- C) Beden dilini kullanıp kullanmamları
- D) Konuşmacıların kılık kıyafeti

12. Münazarada tartışan kişiler aşağıdakilerden hangisini yapmamalıdır?

- A) Süslü söyleyişlere değil, sağlam fikirlere önem vermek
- B) Daha önceden söylenmiş bilgileri ve örnekleri tekrarlamamak
- C) Kişisel üstünlüğünü kanıtlamak
- D) Düşünceleri anlaşılır, açık ve kısa söylemek

13. Aşağıdaki cümlelerin hangisinde gereksiz sözcük kullanıldığı için duruluk bozulmuştur?

- A) Hırs ve öfkesine yenik düşen insanlar asla başarılı olamazlar.
- B) Bunca olumsuz şart ve koşula rağmen amacımıza ulaştık.
- C) Yağmurun altında onunla hiç konuşmadan yavaş yavaş yürüdük.
- D) İnceleyeceğim evrakı yorgun, isteksiz bir şekilde elime aldım.

14. Sempozyum başkanı için aşağıda verilen bilgilerden hangisi yanlıştır?

- A) Başlangıçta konuyu ve katılımcıları tanıtmalıdır.
- B) Oturumun başarılı bir şekilde tamamlanmasından sorumludur.
- C) Oturum başlamadan sunum salonunda konuşmacıların hazır bulunmasını sağlar.
- D) Konuşmacılar konuşmalarını bitirdikten sonra konuyu dinleyicilerin tartışmasına açmalıdır.

15. (I) Forum bilimsel ve akademik konularda düzenlenir. (II) Aktif bir katılımcı konumunda bulunan dinleyiciler farklı kültür, anlayış ve yaş gruplarından oluşur. (III) Bu nedenle hem katılan uzmanları hem de katılımcıları yöneteceği için forum başkanının görevi diğer sözlü anlatım türlerindeki başkanlara göre daha zordur. (IV) Forumda amaç belli kararlara varmak değil konuyu değişik anlayışlarla farklı boyutlarıyla ortaya koymaktır.

**Bu parçada numaralanmış cümlelerin hangisinde yanlış bilgi verilmiştir?**

- A) I. B) II. C) III. D) IV.

16. Aşağıdakilerden hangisi münazaranın öğrencilere kazandırdığı özelliklerden biri değildir?

- A) Karşı fikre saygı duymasını sağlamak
- B) Araştırma, inceleme yöntemlerini öğrenmelerini sağlamak
- C) Toplum önünde soğukkanlı konuşma alışkanlığı kazandırmak
- D) Ezber gücünü artırmak

17. • Sayfa içinde geçen herhangi bir düşünce veya bilgi ile ilgili olarak sayfanın altına konan açıklama  
• Belli bir konu, yer veya dönemle ilgili yayınları kapsayan veya en iyilerini seçen eser listesi  
• Bir kitabın veya derginin kişi, konu, yer adı vb. bakımdan içindekileri yer numarasıyla belirten ve eserlerin arkasında yer alan alfabetik liste

**Aşağıdaki kavramlardan hangisi bu tanımlardan biriyle eşleştirilemez?**

- A) Kaynakça
- B) Dipnot
- C) Dokümantasyon
- D) İndeks

18. (I) Bilimsel yazılarla makalelerin benzerlikleri olduğu gibi farklılıkları da vardır. (II) Bir kere bilimsel yazılar makaleye göre daha geniş bir araştırmaya dayanır. (III) Bilimsel yazıların okuyucusunun o konuda belli bir birikime sahip olması gerekir. (IV) Her iki türde de amaç bilgi vermek olduğu için sözcükler gerçek anlamlarıyla kullanılır. (V) Yalnız, bilimsel yazılarda anlatılanların kanıtlanması gerekmez.

**Bu parçada numaralanmış cümlelerin hangisinde bilgi yanlış vardır?**

- A) II. B) III. C) IV. D) V.

19. Bilimsel yazılarla ilgili aşağıda verilen bilgilerden hangisi yanlıştır?

- A) Dil alıcılığı harekete geçirme işlevinde kullanılır.
- B) Dipnot, kaynakça ve indeks kullanılır.
- C) Bilimsel buluşları iletme için yazılır.
- D) Konferans raporları, toplantı özetleri bilimsel yazı türleridir.

## 1. OTURUM

20. Açık oturumda aşağıdaki anlatım biçimlerinden hangisi kullanılamaz?

- A) Açıklayıcı B) Öyküleyici  
C) Kanıtlayıcı D) Tartışmacı

### (413) TÜRK EDEBİYATI – 3

1. Edebiyat tarihinin doğrudan ilişkili olduğu bilim dalı aşağıdakilerden hangisidir?

- A) Biyoloji B) Filoloji  
C) Arkeoloji D) Psikoloji

2. Aşağıdakilerden hangisi edebiyat dışındaki güzel sanatlardan biri değildir?

- A) Mimari B) Resim  
C) Matematik D) Tiyatro

3. Orhun Anıtları aşağıdaki hangi devlet adamının adına dikilmiştir?

- A) Bilge Kağan  
B) Kül Tigin  
C) Tonyukuk  
D) Ertuğrul Gazi

4. Aşağıdakilerden hangisi Türklerin tarih boyunca kullandıkları alfabelerden biri değildir?

- A) Göktürk B) Japon  
C) Latin D) Arap

5. Türklerin İslamiyet'ten önce kullandığı alfabeler aşağıdakilerin hangisinde doğru verilmiştir?

- A) Göktürk, Uygur, Soğut  
B) Arap, Göktürk, Uygur  
C) Latin, Kiril, Soğut  
D) Uygur, Latin, Kiril

6. İslamiyet öncesi Türk edebiyatıyla ilgili olarak aşağıda verilenlerden hangisi yanlıştır?

- A) Şiirlerde hece ölçüsü kullanılmıştır.  
B) Sözlü ürünlerin yaygın olduğu bir dönemdir.  
C) Türkçenin ilk yazılı metinleri bu dönemdedir.  
D) Farklı kültürlerin ve yabancı dillerin etkisi fazladır.

7. Aşağıdakilerden hangisi Türk edebiyatının ana dönemlerinden biri değildir?

- A) İslamiyet Öncesi Türk Edebiyatı  
B) İslami Dönem Türk Edebiyatı  
C) Cumhuriyet Dönemi Türk Edebiyatı  
D) Batı Etkisinde Gelişen Türk Edebiyatı

8. Aşağıdakilerden hangisi Türk halk edebiyatının kollarından biri değildir?

- A) Anonim halk edebiyatı  
B) Dinî-tasavvufî halk edebiyatı  
C) Aşık tarzı halk edebiyatı  
D) Yazılı halk edebiyatı

9. Aşağıdakilerden hangisi İslamiyet'ten önce, çeşitli Türk boylarında sanatçılara verilen isimlerden biri değildir?

- A) Şaman B) Baksı  
C) Kam D) Kopuz

10. Aşağıdakilerden hangisi Batı etkisinde gelişen Türk edebiyatı türlerinden biri olamaz?

- A) Roman B) Deneme  
C) Sagu D) Makale

11. Aşağıdakilerden hangisi Türk destanlarındaki motiflerden biri değildir?

- A) Deniz B) Işık  
C) Ağaç D) Bozkurt

12. Günümüzde yaygın olarak kabul edilen Türk edebiyatının tarihi bölümleri ayrımını yapan edebiyat tarihçisi aşağıdakilerden hangisidir?

- A) M. Fuat Köprülü  
B) Ahmet Hamdi Tanpınar  
C) Nihat Sami Banarlı  
D) Ağâh Sırrı Levent

13. "Destan" türü için aşağıda verilen bilgilerden hangisi doğru değildir?

- A) Anonim ürünlerdir.  
B) Genellikle manzumdur.  
C) Doğal ve yapma olarak ayrılır.  
D) İlk zamanki özgün biçimiyle günümüze ulaşmıştır.

14. "Koşuklar" konusu bakımından aşağıdaki şiir türlerinden hangilerine örneklerdir?

- A) Didaktik - Lirik  
B) Lirik - Pastoral  
C) Pastoral - Satirik  
D) Satirik - Epik

15. Aşağıdakilerden hangisi İslamiyet öncesi Türk edebiyatı dönemi ürünleri için söylenemez?

- A) Ürünler şölen adı verilen ölüm törenlerinde yazılmıştır.  
B) Halkın ortak duygusu dile getirilmiştir.  
C) Ürünler sözlü olarak yayılmıştır.  
D) Anonim ürünlerdir.

16. İranlı sanatçı Firdevsi'nin Şehname adlı destanında "Efrâsiyâb" adıyla anılan Türk destan kahramanı aşağıdakilerden hangisidir?

- A) İskender  
B) Cengiz Han  
C) Alp Er Tunga  
D) Mete Han

17. Günlerden bir gün Ay Kağan'ın gözleri parladı. Doğum sancıları arttı. Bir erkek çocuk doğurdu. Bu çocuğun yüzü gök gibi parlak, ağzı ateş gibi kızıl, gözleri ela, saçları ve kaşları koyu kara idi. Periler gibi güzel, sakin denizler gibi engin ve sessizdi. Bu çocuk öyle yiğit, öyle gözü tok, öyle çabuk büyüyen bir çocuktaki anasından bir defa süt içti, bir daha içmedi. Hemen çiğ et, çorba istedi. Çok sürmedi kırk gün sonra büyüdü, yürüdü ve oynamaya başladı.

**Bu parça, anlatım özellikleri ve konusu dikkate alındığında aşağıdaki destanların hangisinden alınmış olabilir?**

- A) Göç Destanı  
B) Ergenekon Destanı  
C) Oğuz Kağan Destanı  
D) Alp Er Tunga Destanı

## 1. OTURUM

18. **Orhun Yazıtları ile ilgili aşağıdaki bilgilerden hangisi yanlıştır?**

- A) Yazıtlar Vezir Tonyukuk tarafından yazılmıştır.
- B) Yazıtlar söylev biçiminde yazılmıştır.
- C) Türkçe dil bilgisi kurallarıyla uyumludur.
- D) Yazıt, Danimarkalı bilgin W. Thomsen tarafından çözümlenip okunmuştur.

19. **Aşağıdakilerden hangisi İslamiyet öncesi Türk edebiyatı sözlü döneminde şairlerin özelliklerinden biri değildir?**

- A) Sanatçılık
- B) Komutanlık
- C) Doktorluk
- D) Din adamlığı

20. **Aşağıdakilerden hangisi Türklerin Destan Dönemi'nde kabul ettiği dinlerden biri değildir?**

- A) Şamanizm
- B) Maniheizm
- C) İslamiyet
- D) Budizm

### (414) TÜRK EDEBİYATI – 4

1. **Aşağıdakilerin hangisi divan edebiyatının süslü nesir sanatçılarından biridir?**

- A) Mercimek Ahmet
- B) Nergisi
- C) Naima
- D) Peçevi

2. **Aşağıdaki cümlelerin hangisinde gazelle ilgili bilgi yanlıştır?**

- A) İlk örneklerini XIII. yüzyılda Hoca Dehhani yazmıştır.
- B) Kafiye örgüsü aa/bb/cc/dd/ee şeklindedir.
- C) Dizelerinin ortasında iç kafiye bulunan gazele musammat gazel denir.
- D) Aşk, güzellik ve kadın konuları ele alınmıştır.

3. **Aşağıdakilerden hangisi divan edebiyatında bentle yazılan nazım şekillerinden biri değildir?**

- A) Rubai
- B) Şarkı
- C) Müstezat
- D) Murabba

4. **Aşağıdaki seçeneklerin hangisinde bilgi yanlıştır?**

- A) Kasideler ya konusuna ya da kafiye ve rediflerine göre adlandırılır.
- B) Tevhid, Allah'ın birliğinin anlatıldığı kaside türüdür.
- C) Peygamber efendimizi anlatan kasidelere naat denir.
- D) Hicviye devlet büyüklerini övmek için yazılan kasidelerdir.

5. **Dört dizelik divan edebiyatı nazım şeklidir. Fars edebiyatından bize geçmiştir. Birinci, ikinci ve dördüncü dizeler kendi aralarında uyaklı, üçüncü dizesi ise serbesttir. İlk üç dize düşünceyi hazırlar, dördüncü dizede ise asıl mesaj verilir. Şairler genellikle dünya görüşlerini, dinî, tasavvufî ve felsefî görüşlerini, aşk anlayışlarını bu nazım şekliyle kısa ve öz bir şekilde anlatırlar.**

**Bu parçada anlatılan nazım şekli aşağıdakilerden hangisidir?**

- A) Rubai
- B) Murabba
- C) Tuyuğ
- D) Şarkı

6. **Aşağıdakilerden hangisi halk şiirinin özelliklerinden biri değildir?**

- A) Nazım birimi olarak dördlük kullanılmıştır.
- B) Hece ölçüsü benimsenmiştir.
- C) Sade, anlaşılır bir dil kullanılmıştır.
- D) Söyleyeni bilinmediğinden hepsi anonimdir.

7. **Tarih, coğrafya, biyografi gibi sahalarda kaleme aldığı eserlerinin bir kısmı Türkçe, bir kısmı Arapçadır. Bilim dünyasına ışık tutan sanatçı birçok eser yazmıştır. "Cihannüma, Fezleke, Keşfu'z Zünun" bunlardan bazılarıdır.**

**Bu parçada tanıtılan sanatçı aşağıdakilerden hangisidir?**

- A) Evliya Çelebi
- B) Kâtip Çelebi
- C) Âşık Çelebi
- D) 28 Mehmet Çelebi

8. **Aşağıdakilerden hangisi öğretici metinlerden değildir?**

- A) Tezkire
- B) Seyahatname
- C) Koşma
- D) İlimi eserler

9. **... Kerem yola revan olup giderken Elmalı Dağı'na geldiler. Kerem, Sofu'ya:**

**... Bu dağı bilir misin? Buna Elmalı Dağı derler. Eğlen bir türkü söyleyeyim de öyle gidelim:**

**Aldı Kerem:**

**Gel gidelim Sofu kardeş  
Bugün Aslı'm göç eylemiş  
Ben ağlarım sen ağlama  
Bugün Aslı'm göç eylemiş**

**Bu parça aşağıdaki türlerin hangisinden alınmıştır?**

- A) Orta oyunu
- B) Seyahatname
- C) Halk hikâyesi
- D) Tezkire

10. **Aşağıdakilerden hangisi İslamiyet etkisinde gelişen Türk edebiyatına Geçiş Döneminin özellikleri arasında yer almaz?**

- A) Hece ölçüsü ile aruz ölçüsü birlikte kullanılmıştır.
- B) Nazım birimi dördük ve beyittir.
- C) İslamiyet öncesi öztürkçe ısrarla korunmaktadır.
- D) İslamiyet öncesi kültür ile İslamiyet etkisindeki kültür bir aradadır.

## 1. OTURUM

11. Aşağıdaki eşleştirmelerden hangisi yanlıştır?
- A) Kırgız Türklerine ait dünyanın en uzun destanı - Manas Destanı  
B) Orhun Yazıtları'nın bulunduğu ülke - Türkiye  
C) Orhun Yazıtları'nda adına anıt diktirilen hükümdar - Bilge Kağan  
D) Bilinen ilk Türk şairi - Aprunçur Tigin
12. Türk edebiyatında XIII. ve XIV. yy. da yaşanan gelişmeler ile ilgili aşağıdakilerden hangisi söylenemez?
- A) Eserlerde Türklerin İslamiyet öncesi dönemdeki yaşamları ve dinleri övülmektedir.  
B) Arapça ve Farsça sözcükler dilimize girmeye başlamıştır.  
C) Türk edebiyatında yeni türler kullanılmaktadır.  
D) Battalname, Danişmendname gibi ürünler oluşmaya başlamıştır.
13. Aşağıdakilerden hangisi 14. yy. divan edebiyatı sanatçılarından Ahmedî'ye ait bir eserdir?
- A) İskendername  
B) Leyla ve Mecnun  
C) Kanuni Mersiyesi  
D) Yusuf ile Züleyha
14. Aşağıdakilerden hangisi XIII. ve XIV. yy. da Anadolu sahasında tasavvuf etkisiyle edebi ürün veren sanatçılardan biri değildir?
- A) Hoca Dehhani  
B) Mevlana  
C) Yunus Emre  
D) Hacı Bektaş-ı Veli
15. Aşağıdaki bilgilerden hangisi "gazel" türü için doğru değildir?
- A) Aşk, sevgi, ayrılık gibi konular işlenir.  
B) Son beyitte şairin mahlasına yer verilir.  
C) Halk edebiyatı nazım biçimlerinden biridir.  
D) Kısa ve özlü şiiirlerdir.

16. Aşağıdakilerden hangisi Türk edebiyatındaki ünlü mesnevilerden biri değildir?
- A) Battalname  
B) Harname  
C) Hüsn ü Aşk  
D) Leyla ve Mecnun
17. Aşağıdakilerden hangisi Kutadgu Bilig'in özelliklerinden biri değildir?
- A) Karahanlılar döneminde yazılmıştır.  
B) Dil olarak yabancı etkilerden uzaktır.  
C) Mesnevi biçiminde yazılmıştır.  
D) Alegorik bir anlatımı vardır.
18. Aşağıdakilerden hangisi coşku ve heyecanı dile getiren ürünlere bir örnek sayılmaz?
- A) Yunus Emre'den ilahi  
B) Evliya Çelebi'nin Seyahatname'si  
C) İslamiyet öncesi döneme ait bir sağı  
D) Sezai Karakoç'a ait bir şiir
19. Bilirim seni, yalan dünyasın  
Evliyaları alan dünyasın  
Kaçan kurtulsa kuş kurtulaydı  
Şahin kanadın kıran dünyasın
- Bu dizelerde işlenen tema aşağıdakilerden hangisidir?**
- A) Gökyüzünün sonsuzluğu  
B) Dünyanın gelip geçiciliği  
C) Doğal yaşama özlem  
D) Yaşamın güzelliği
20. Aşağıdakilerden hangisi "Dede Korkut Hikâyeleri"nde yer alan hikâyelerden biridir?
- A) Mani dininin kabulü  
B) Aslı ile Kerem'in aşkı  
C) Tepegöz  
D) Hz. Hamza'nın kahramanlıkları

## (415) TÜRK EDEBİYATI – 5

1. Tanzimat Fermanı ile başlayan yeni dönemde Türk edebiyatında aşağıdaki değişimlerden hangisi olmuştur?
- A) Divan edebiyatı anlayışı benimsenmiştir.  
B) Türk askerî sisteminin çok ilerlediği görülmüştür.  
C) Batılı edebiyat anlayışına yönelim başlamıştır.  
D) Sanatta süslü dilin gerekliliği anlaşılmıştır.
2. Aşağıdaki sanatçı-eser eşleştirmelerinden hangisi yanlıştır?
- A) Rezaizade Mahmut Ekrem - Zemzeme  
B) Ahmet Mithat Efendi - Avrupa'da Bir Cevlan  
C) Ziya Paşa - Şiir ve İnşa  
D) Şinasi - Karabela
3. Aşağıdaki eserlerden hangisi türü yönünden diğerlerinden farklıdır?
- A) Felatun Beyle Rakım Efendi  
B) İntibah  
C) Cezmi  
D) Gülnihal
4. Tanzimat Edebiyatı I. Dönem için aşağıdakilerden hangisi doğrudur?
- A) İlk resmi gazete çıkarılmıştır.  
B) Milliyetçilik konusu işlenmiştir.  
C) "Ağıt" şiirleri ilk kez yazılmıştır.  
D) Batılı roman ve hikâyeler çevrilmiştir.
5. Aşağıdakilerden hangisi edebî metin örneklerinden biri değildir?
- A) Eşber  
B) Şiir ve İnşa  
C) Zemzeme  
D) Taaşşuk-ı Talat ve Fitnat

## 1. OTURUM

6. Aşağıdaki eserlerden hangisi Recaizade Mahmut Ekrem'e aittir?

- A) Zehra
- B) Karabibik
- C) Araba Sevdası
- D) Taaşşuk-ı Talat ve Fitnat

7. Tanzimat Edebiyatı I. ve II. Dönemleri karşılaştırılırken aşağıdaki alanlardan hangisinde bir değişiklik gözlenmez?

- A) Dil anlayışı
- B) Kafiye anlayışı
- C) Nazım biçimi
- D) Batı edebiyatına ilgi

8. Tanzimat Edebiyatı I. Dönem şiirinde aşağıdaki alanlardan hangisinde daha öncesinde olmayan bir değişiklik görülür?

- A) Ölçü
- B) Tema
- C) Nazım biçimi
- D) Nazım birimi

9. Namık Kemal aşağıdaki türlerin hangisinde eser vermemiştir?

- A) Roman
- B) Hikâye
- C) Şiir
- D) Tiyatro

10. İlk yerli roman aşağıdakilerden hangisidir?

- A) İntibah
- B) Araba Sevdası
- C) Taaşşuk-ı Talat ve Fitnat
- D) Mai ve Siyah

11. Aşağıdakilerden hangisi ilk resmi gazetedir?

- A) Takvim-i Vekayi
- B) Ceride-i Havadis
- C) Tercüman-ı Ahvâl
- D) Tasvir-i Efkâr

12. Aşağıdakilerden hangisi Tanzimat Dönemi'nin genel özelliklerinden biri değildir?

- A) Şiirlerde konu bütünlüğü esas alınmıştır.
- B) Batı edebiyatından şiir ve roman çevirileri yapılmıştır.
- C) İlk dönemlerde divan edebiyatı nazım şekilleri kullanılmış ancak şiirin içeriği değiştirilmiştir.
- D) Ağırlıklı olarak hece ölçüsü kullanılmıştır.

13. Edebiyatımızda şiir, tiyatro, roman alanlarında eserler verdi. Toplum konularına hiç değinmedi. Doğa güzellikleri, aşk konuları ile günlük hayatta karşılaştığı her tür olayı ele aldı. Edebiyatımıza en önemli katkılarında biri de Batı yanlısı gençleri Servet-i Fünun dergisi etrafında toplaması oldu. Edebiyat kurallarını öğreten "Talim-i Edebiyat" adlı eserini hazırladı.

**Bu parçada tanıtılan sanatçı aşağıdakilerden hangisidir?**

- A) Recaizade Mahmut Ekrem
- B) Abdülhak Hamit Tarhan
- C) Muallim Naci
- D) Ahmet Mithat Efendi

14. Abdülhak Hamit Tarhan'ın, eşi Fatma Hanım'ın ölümü üzerine yazdığı bir mersiye. Şair, ölüm karşısındaki duygu ve düşüncelerini, acılarını, feryatlarını bu şiirde dile getirmiştir. Zaman zaman ölümü, yaşamı sorgulamış; içinde yaşadığı fırtınaları, tezatlarla dolu karmaşık duygularını ortaya koymuştur.

**Bu parçada sözü edilen eser aşağıdakilerden hangisidir?**

- A) Validem
- B) Ölü
- C) Makber
- D) Sahra

15. Edebiyatımızda kölelik ve insan ticareti hakkında yazılmış eserlerin en ünlüsüdür. Romantizmden, realizme geçişin izleri görülür. Eserin konusu gerçek hayattan alınmıştır. Yazar yaşadığı konakta, roman kahramanı Dilber'e benzeyen pek çok kişiyi yakından tanımıştır. Eserde kölelik konusunun yanında, evlilik işlerinde gelenek ve göreneklere bağlı kalmanın yanlışlıkları üzerinde de durulmuştur.

**Bu parçada hakkında bilgi verilen eser aşağıdakilerden hangisidir?**

- A) İntibah
- B) Sergüzeşt
- C) Karabibik
- D) Araba Sevdası

16. Tanzimat sanatçılarının etkilediği edebî akımlar aşağıdakilerin hangisinde doğru verilmiştir?

- A) Klasisizm, realizm, sürrealizm
- B) Romantizm, realizm, sembolizm
- C) Realizm, klasisizm, sembolizm
- D) Klasisizm, romantizm, realizm

17. Tanzimat Fermanı'nın diğer adı aşağıdakilerden hangisidir?

- A) Gülhane Hatt-ı Hümayunu
- B) Divanı Hümayun
- C) Islahat Fermanı
- D) Yenileşme Fermanı

18. Aşağıdakilerden hangisi edebiyatın doğrudan yararlandığı bilimlerden biri değildir?

- A) Tarih
- B) Biyoloji
- C) Sosyoloji
- D) Psikoloji

19. Edebî eserlerle ilgili aşağıda verilen bilgilerden hangisi yanlıştır?

- A) Amaç estetik zevk uyandırmaktır.
- B) Yazıldığı dönemden izler taşır.
- C) Gerçekleri olduğu gibi aktarır.
- D) Yazarının hayatından izler taşıyabilir.

## 1. OTURUM

20. Aşağıdakilerden hangisi edebiyatın konusu içerisinde yer almaz?

- A) Toplumun yaşam tarzı
- B) Toplumun tarihi
- C) Toplumdaki düşünce akımları
- D) Ahşabın kullanıldığı alanlar

### (416) TÜRK EDEBİYATI – 6

1. Güzel dil Türkçe bize  
Başka dil gece bize  
İstanbul konuşması  
En saf, en ince bize

**Bu dizeler söyleyiş ve dil özellikleri dikkate alındığında aşağıdaki fikir akımlarından hangisinin etkisinde yazıldığı söylenir?**

- A) Osmanlıcılık B) Batıcılık
- C) İslamcılık D) Türkçülük

2. Servetifünun Dönemi Edebiyatı aşağıdaki hangi dönemde etkili olmuştur?

- A) 1876-1896 B) 1896-1901
- C) 1901-1908 D) 1908-1912

3. Edebiyat tarihinde "Edebiyatıcedeciler" olarak bilinen edebî grup aşağıdakilerden hangisidir?

- A) Fecriati grubu sanatçıları
- B) Tanzimat Dönemi sanatçıları
- C) Servetifünun Dönemi sanatçıları
- D) Millî Edebiyatçıları

4. Realizmin şiirdeki biçimi olarak adlandırılan edebî akım aşağıdakilerden hangisidir?

- A) Parnasizm B) Sembolizm
- C) Romantizm D) Dadaizm

5. Servetifünun Dönemi Edebiyatı adını aşağıdakilerin hangisinden alır?

- A) Oturdıkları semtten
- B) Etkilendikleri edebî gruptan
- C) Çıkardıkları dergiden
- D) Okudukları kitaplardan

6. Aşağıdakilerden hangisi Servetifünun Edebiyatı'nın genel özelliklerinden biridir?

- A) Hece ölçüsünü esas ölçü olarak belirlemek
- B) Aydın kimselere seslenmek
- C) Sanatlı anlatımdan uzaklaşmak
- D) Geleneksel edebiyat anlayışını övmek

7. Servetifünun Dönemi'nde aşağıdaki türlerden hangisinde bir gelişme gözlenmez?

- A) Tiyatro B) Roman
- C) Öykü D) Şiir

8. Aşağıdaki eserlerden hangisi Ahmet Haşim'e ait değildir?

- A) Saray ve Ötesi
- B) Piyale
- C) Göl Saatleri
- D) Bize Göre

9. Aşağıdakilerden hangisi Fecriati topluluğunun amaçlarından biridir?

- A) Dili, halk dili düzeyinde kullanmak
- B) Millî bir edebiyat oluşturmak
- C) Grup üyelerinin kitaplarını basarak bir kitaplık oluşturmak
- D) Sıradan konuları ironik anlatımla şiire sokmak

10. Fecriati topluluğu, aşağıdakilerden hangisini Batılı edebiyatı anlamakta ve uygulamakta yetersiz kaldığı için eleştirmiştir?

- A) Tanzimatçıları
- B) Servetifünuncuları
- C) Millî Edebiyatçıları
- D) Beş Hececileri

11. Servet-i Fünun dergisi - - - - tarafından yazılan "Edebiyat ve Hukuk" adlı çevirinin yayımlanmasıyla kapatılmış, böylece Servetifünun topluluğu dağılmıştır.

**Bu parçada boş bırakılan yere aşağıdakilerden hangisi getirilmelidir?**

- A) Cenap Şahabettin
- B) Tahsin Nahit
- C) Tevfik Fikret
- D) Hüseyin Cahit Yalçın

12. Halit Ziya Uşaklıgil'in romanlarıyla ilgili aşağıdakilerden hangisi söylenmez?

- A) Betimlemelere ve ruhsal çözümlemelere yer vermiştir.
- B) Romanlarının konusunu kırsal bölge insanından almıştır.
- C) Eserlerini ağır bir dille yazmıştır.
- D) Olayları gerçekçi bir gözle incelemiştir.

13. Aşağıdakilerden hangisi Tevfik Fikret ile Mehmet Akif Ersoy'un ortak özelliklerinden biri değildir?

- A) Aruz ölçüsü kullanmaları
- B) Manzum hikâye yazmaları
- C) Realizmden etkilenmeleri
- D) Nazmı nesre yaklaştırmaları

14. Tevfik Fikret'in çocuklar için yazdığı eseri aşağıdakilerden hangisidir?

- A) Rübab-ı Şikeste
- B) Haluk'un Defteri
- C) Tarih-i Kadim
- D) Şermin

15. Aşağıdakilerden hangisi Milli Edebiyat Dönemi'nin temsilcilerinden biri değildir?

- A) Namık Kemal
- B) Ömer Seyfettin
- C) Ali Canip Yöntem
- D) Ziya Gökalp



## 1. OTURUM

16. Türk şiirinde sade dille yazan ve heceyi ustalıkla kullanan şairlerden biridir. Yahya Kemal Beyatlı'dan etkilenecek ilk şiirlerini aruzla yazdı. Daha sonra hece veznine ve halk diline yöneldi. Deli Ozan takma adıyla şiirler yazdı. "Çoban Çeşmesi, Han Duvarları" önemli eserlerinden bazılarıdır.

**Bu parçada tanıtılan sanatçı aşağıdakilerden hangisidir?**

- A) Ziya Gökalp
- B) Faruk Nafiz Çamlıbel
- C) Mehmet Emin Yurdakul
- D) Halit Fahri Ozansoy

17. Aşağıdakilerden hangisi Milli Edebiyat Dönemi'ndeki şiir anlayışlarından biri değildir?

- A) Sade dil ve hece ölçüsüyle şiir yazanlar
- B) Divan edebiyatı geleneğini sürdürenler
- C) Saf şiir anlayışını benimseyenler
- D) Halkın yaşayış tarzını ve değerlerini anlatan manzume yazarlar

18. Aşağıdakilerden hangisi Milli Edebiyat Dönemi'nin genel özelliklerinden biri değildir?

- A) Roman ve hikâyelerde olayların geçtiği yer hep İstanbul'dur.
- B) Şiirde halk edebiyatı nazım şekilleri kullanılmıştır.
- C) Milli kaynaklara yönelinmiş, halkın sorunları dile getirilmiştir.
- D) Konuşma dilinin yazı dili hâline getirilmesi için çalışılmıştır.

19. Yakup Kadri Karaosmanoğlu'nun aşağıdaki eserlerinden hangisi tür yönünden diğerlerinden farklıdır?

- A) Gençlik ve Edebiyat Hatıraları
- B) Anamın Kitabı
- C) Bir Serencam
- D) Zoraki Diplomat

20. Aşağıdaki eser - sanatçı eşleştirmelerinin hangisinde yanlışlık yapılmıştır?

- A) Vurun Kahpeye - Halide Edip Adivar
- B) Yaprak Dökümü - Reşat Nuri Güntekin
- C) Yaban - Yakup Kadri Karaosmanoğlu
- D) Eylül - Ömer Seyfettin

### (417) TÜRK EDEBİYATI – 7

1. Aşağıdakilerden hangisi Cumhuriyet Dönemi'nde işlenen konulardan biri değildir?

- A) Kahramanlık
- B) Savaşın Gerekliği
- C) İnkılaplar
- D) Kurtuluş Mücadelesi

2. Aşağıdakilerden hangisi Cumhuriyet Dönemi'nde şiir yazan sanatçılardan biridir?

- A) Orhan Kemal
- B) Kemal Tahir
- C) Behçet Necatigil
- D) Tarık Buğra

3. Aşağıdakilerden hangisi Cumhuriyet Dönemi Türk Şiiri için söylenebilir?

- A) Halk şiiri anlayışının geçerli olamayacağı vurgulanmıştır.
- B) Süslü bir anlatım kullanılmıştır.
- C) İstanbul ve çevresi anlatılmıştır.
- D) Farklı özelliklerde şiir anlayışları oluşmuştur.

4. Aşağıdakilerden hangisi gazete çevresinde gelişen edebi türlerden biridir?

- A) Günlük
- B) Fıkra
- C) Roman
- D) Şiir

5. Aşağıdakilerden hangisi makalenin özelliklerinden biri değildir?

- A) Uzmanlık gerektiren bir yazı türüdür.
- B) Yalın ve açık bir anlatım vardır.
- C) Söz oyunlarına başvurulmaz.
- D) Kesin sonuçlara varmadan, samimi bir üslup kullanılır.

6. Deneme türünün kurucusu olarak kabul edilen Fransız yazar aşağıdakilerden hangisidir?

- A) Montaigne
- B) A. Huxley
- C) J. P. Sartre
- D) A. Camus

7. Aşağıdaki sanatçı-eser eşleştirmelerinden hangisi yanlıştır?

- A) Cahit Sıtkı Tarancı - Otuz Beş Yaş
- B) Turgut Uyar - Büyük Saat
- C) Peyami Safa - Çalığıuşu
- D) Sabahattin Ali - Kuyucaklı Yusuf

8. Aşağıdaki eser-tür eşleştirmelerinden hangisi yanlıştır?

- A) Saray ve Ötesi - Anı
- B) Karalama Defteri - Mektup
- C) Bize Göre - Deneme
- D) Hac Yolunda - Gezi Yazısı

9. Aşağıdaki olaylardan hangisi Türk edebiyatını etkilememiştir?

- A) Harf devrimi
- B) Türk Tarihi Tetkik Cemiyeti'nin kurulması
- C) Kılık kıyafet devrimi
- D) Cumhuriyetin ilan edilmesi

10. Aşağıdakilerden hangisi Beş Hececilerin ortak özelliklerinden biridir?

- A) Şiirde kafiyeden uzak durmaları
- B) Son dönem şiirlerinde aruzu kullanmaları
- C) Nazım birimi olarak beyit kullanmaları
- D) Halk şiiri geleneğinden yararlanmaları

## 1. OTURUM

11. İçe dönük, maneviyatçı, bireyci şiirin başarılı örneklerini ortaya koymuştur. Şiirlerinde daima hece ölçüsünü kullanmış, heceye ayrı bir güzellik katmıştır. "Çile" şairi olarak da tanınan sanatçının "Kaldırımlar" şiiri de meşhurdur.

**Bu parçada tanıtılan sanatçı aşağıdakilerden hangisidir?**

- A) Necip Fazıl Kısakürek
- B) Mehmet Akif Ersoy
- C) Kemalettin Kamu
- D) Behçet Necatigil

12. Aşağıdakilerden hangisi Ahmet Hamdi Tanpınar'ın işlediği temalardan biri değildir?

- A) Ölüm
- B) Kahramanlık
- C) Zaman
- D) Rüya

13. Aşağıdakilerden hangisi Yedi Meşalecilerden değildir?

- A) Ülkü Tamer
- B) Cevdet Kudret Solak
- C) Yaşar Nabi Nayır
- D) Muammer Lütfi Bahşi

14. Şiirlerini 1941 yılında Melih Cevdet Anday ve Oktay Rifat'la birlikte Garip adlı kitapta yayımladı. Türk şiirinde önemli bir yenilik başlattı.

**Bu parçada tanıtılan sanatçı aşağıdakilerden hangisidir?**

- A) Attila İlhan
- B) Cahit Külebi
- C) Orhan Veli Kanık
- D) Fazıl Hüsnu Dağlarca

15. 1950'den sonra yeni arayışlara yönelen Cemal Süreya ve arkadaşları yeni bir akım başlattılar. Anlamda kapalılığın, değişik çağrışımlarla imgeci bir şiir anlayışının savunulduğu akım 1960'lı yıllarda da etkisini sürdürdü.

**Bu parçada özellikleri verilen şiir anlayışı aşağıdakilerden hangisidir?**

- A) Garip hareketi
- B) Serbest nazım ve toplumcu şiir
- C) Yedi Meşaleciler
- D) İkinci Yeniler

16. Cumhuriyet Dönemi'nin en büyük romancılarından olan sanatçı, eserlerinde Türkiye'nin Tanzimat'tan itibaren geçirdiği değişimleri anlattı. "Kiralık Konak, Yaban, Ankara" önemli eserlerinden bazılarıdır.

**Bu parçada tanıtılan sanatçı aşağıdakilerden hangisidir?**

- A) Reşat Nuri Güntekin
- B) Halide Edip Adıvar
- C) Yakup Kadri Karaosmanoğlu
- D) Refik Halit Karay

17. Aşağıdakilerden hangisi toplumsal gerçekçi yazarlarımızdan biri değildir?

- A) Orhan Kemal
- B) Tarık Buğra
- C) Yaşar Kemal
- D) Kemal Tahir

18. 1920'li ve 1930'lu yıllarda sergilenen oyunlarda toplum sorunları ekonomik yapı bağlamında değerlendirilmiştir. Diğer oyun yazarlarından farklı olarak bu sanatçı, toplumdaki hızlı değişimin ekonomik nedenlerden çok ahlaki sonuçları üzerinde durmuştur. "Tohum" ve "Bir Adam Yaratmak" adlı eserleri bilinen oyunlarındanır.

**Bu parçada tanıtılan sanatçı aşağıdakilerden hangisidir?**

- A) Necip Fazıl Kısakürek
- B) Haldun Taner
- C) Muhsin Ertuğrul
- D) Musahipzade Celal

19. Aşağıdakilerden hangisi Orhan Kemal'in eserlerinden biri değildir?

- A) 72. Koğuş
- B) Bekçi Murtaza
- C) Reis Bey
- D) Kardeş Payı

20. Aşağıdakilerin hangisinde sanatçı – eser eşleştirmesinde yanlılık yapılmıştır?

- A) Refik Erduran – Keşanlı Ali Destanı
- B) Orhan Asena – Hürrem Sultan
- C) Turan Oflazoğlu – Sokrates'in Savunması
- D) Güngör Dilmen – Deli Dumrul

### (418) TÜRK EDEBİYATI – 8

1. Aşağıdakilerden hangisi "öz şiir" anlayışının özelliklerinden biri değildir?

- A) Sanat, sanat için yapılmalıdır.
- B) Sanat, hiçbir ideolojinin egemenliğinde olmamalıdır.
- C) Sanat, topluma yön verme ödevine sahiptir.
- D) Şiir anlaşılmaktan çok duyulmak, hissedilmek için yazılır.

2. Cumhuriyet Dönemi şiirinin öncü şairlerinden biridir. Şiirlerinde yaşama sevinci, ölüm korkusu, yalnızlık, aşk gibi temaları işlemiştir. Şiirlerinde Baudelaire, Verlaine gibi Fransız şairlerin etkisinde kalmıştır. Otuz Beş Yaş, Ömrümde Sükut eserlerinden bazılarıdır.

**Bu parçada tanıtılan şair aşağıdakilerden hangisidir?**

- A) Orhan Veli Kanık
- B) Cahit Sıtkı Tarancı
- C) Ahmet Muhip Dıranas
- D) Yahya Kemal Beyatlı

3. Aşağıdakilerden hangisi Cumhuriyet Dönemi'nde etkili olan edebi gruplardan biri değildir?

- A) Garipçiler
- B) Yeni Lisancılar
- C) Beş Hececiler
- D) II. Yeniler

## 1. OTURUM

4. Aşağıdakilerden hangisi “Yedi Meşaleciler” grubunun özelliklerinden biridir?

- A) Anadolu ve Anadolu insanı şiirlerde anlatılır.
- B) Yurdun güzellikleri, yurdu kurtarmak için verilen mücadele konu olarak işlenir.
- C) Uyak ve ölçüye karşı çıkılır.
- D) Edebiyatta; samimilik, içtenlik ve yenilik hakim olmalı ilkesi savunulur.

5. Şiirlerinde evler, odalar, sokak, doğa konularını işlemiştir. Ev konusunu çok işlemesi nedeniyle “evler şairi” olarak anılmıştır. Bir anlayışın egemenliğine girmeden kendine özgü bir şiir dünyası kurmuştur. Halk kültüründen aldığı unsurları Batı şiiri ile birleştirmiştir. Radyo oyunu da yazmıştır. Kapalı Çarşı, Evler, Eski Toprak eserlerinden bazılarıdır.

**Bu parçada tanıtılan sanatçı aşağıdakilerden hangisidir?**

- A) Cahit Külebi
- B) Sezai Karakoç
- C) Behçet Necatigil
- D) Asaf Halet Çelebi

6. Aşağıdakilerden hangisi “Yedi Meşaleciler” topluluğunda yer alan sanatçılardan biridir?

- A) Ahmet Hamdi Tanpınar
- B) Ziya Osman Saba
- C) Fazıl Hüsnü Dağlarca
- D) Necip Fazıl Kısakürek

7. Aşağıda verilen bilgilerden hangisi doğrudur?

- A) Ahmet Hamdi Tanpınar, yalnızca şiir yazmış, toplumcu şiirin öncü sanatçılarından değildir.
- B) Sembolizm şairler toplumsal sorunları ön planda tutmuşlardır.
- C) Öz şiir anlayışındaki Türk şairleri imge yüklü bir dil kullanmışlardır.
- D) Necip Fazıl Kısakürek, bayrak şairi olarak tanınmıştır.

8. Aşağıdaki sanatçı-eser eşleştirmelerinden hangisi yanlıştır?

- A) Cahit Külebi - Hikâye
- B) Ahmet Haşim - Merdiven
- C) Necip Fazıl Kısakürek - Çile
- D) Yahya Kemal Beyatlı - Bursa'da Zaman

9. Yedi tepeye kurulmuş

- Pul pul
  - Gümüş gümüş balıkları
  - Pul pul
  - Işıktan sudan örülmüş
  - Canım İstanbul
- (Bedri Rahmi Eyüpoğlu)

**Bu şiirde işlenen tema aşağıdakilerden hangisidir?**

- A) İstanbul'un güzellikleri
- B) İstanbul'un tarihi
- C) İstanbul'un önemi
- D) İstanbul'un kalabalıklığı

10. Aşağıdakilerden hangisi toplumcu gerçekçi şiir için söylenebilir?

- A) En önemli temsilcisi Sezai Karakoç'tur.
- B) Sembolizm akımından etkilenmişlerdir.
- C) Sanatın sosyal sorunlara çözüm getirmesi gerektiğini savunmuşlardır.
- D) İ. Yeni şiirinden etkilenmişlerdir.

11. Güzelliğin on par'etmez  
Bu bende ki aşk olmasa  
Eğlenecek yer bulaman  
Gönümdeki köşk olmasa

**Bu şiirde işlenen tema aşağıdakilerden hangisidir?**

- A) Aşk
- B) Gurbet
- C) Özlem
- D) Yalnızlık

12. Aşağıdakilerden hangisi Yahya Kemal Beyatlı'nın edebî özelliklerinden biri değildir?

- A) Vatan, millet, İstanbul sevgisi gibi temaları işlemiştir.
- B) Şiirlerinin çoğunu aruz ölçüsüyle yazmıştır.
- C) Hikâyelerinde lirik bir anlatım kullanmıştır.
- D) Şiirde iç ahenge ve musikiye önem vermiştir.

13. Aşağıdakilerden hangisi serbest nazım ve toplumcu şiirin temsilcilerindendir?

- A) Nazım Hikmet Ran
- B) Bedri Rahmi Eyüboğlu
- C) Ahmet Muhip Dıranas
- D) İlhan Berk

14. Anam bir yaz gecesi doğurmuş beni  
burda,  
Bu çamlıkta söylemiş son sözlerini  
babam;  
Şu karşiki bayırda verdiğim kuzuyu  
kurda,  
“Suna”nın başka köye gelin gittiği  
akşam

**Bu dördükle ilgili aşağıdakilerden hangisi söylenemez?**

- A) Halk edebiyatı geleneğinin etkisiyle yazılmıştır.
- B) Hece ölçüsü kullanılmıştır.
- C) Üzüntüler dile getirilmiştir.
- D) Süslü ve sanatlı bir dil kullanılmıştır.

15. Aşağıdakilerden hangisi halk şiirinin biçimsel özelliklerini benimsememiştir?

- A) Ömer Bedrettin Uşaklı
- B) Mehmet Akif Ersoy
- C) Necmettin Halil Onan
- D) Zeki Ömer Defne

16. Şakaya ve nükteye çok yer verirler. Sahte değerlerle, samimi-yetsizlikle, aşırı duyarlılıkla alay ederler. Silik yaşamayı, büyük konulardan kaçmayı, küçük tasa ve sevinçleri şiirin başlıca temaları hâline getirmişlerdir. Geçim sıkıntısı ve günlük hayatı işlemişlerdir.

**Bu parçada özellikleri verilen şiir anlayışı aşağıdakilerden hangisidir?**

- A) Garip hareketi
- B) Serbest nazım ve toplumcu şiir
- C) Milli Edebiyat zevk ve anlayışını sürdüren şiir
- D) Öz şiir anlayışını sürdüren şiir

17. Aşağıdakilerden hangisi İkinci Yeni şiirinin temsilcilerinden değildir?

- A) Ülkü Tamer
- B) Hilmi Yavuz
- C) Ece Ayhan
- D) Cemal Süreya

## 1. OTURUM

18. İlk şiirlerinde biçim kaygısı ağır basar. Eski şiirle bağına sesten çok imge bağıyla kurar ve çağrışımlardan yararlanır. Şiiri, ince buluşların, duygulanımların, yaşanan gerçekliğin kendine özgü bir söyleyişin toplamıdır. "Üvercinka, Fotoğraf" önemli şiirleri arasındadır.

**Bu parçada tanıtılan sanatçı aşağıdakilerden hangisidir?**

- A) Turgut Uyar  
B) Edip Cansever  
C) Sezai Karakoç  
D) Cemal Süreya

19. Aşağıdakilerden hangisi Cumhuriyet Dönemi halk şiiri-  
nin özelliklerinden değildir?

- A) Nazım birimi olarak dörtlük kullanılmıştır.  
B) Şiirler serbest ölçüyle yazılmıştır.  
C) Genellikle yarım uyak kullanılmıştır.  
D) Doğa güzellikleri, kahramanlık, gurbet, ölüm gibi temalar işlenmiştir.

20. Aşağıdakilerden hangisi Cumhuriyet Dönemi halk şairlerinden değildir?

- A) Âşık Veysel  
B) Şeref Taşlıova  
C) Murat Çobanoğlu  
D) Behçet Necatigil

(431) KİMYA – 1

1. İnsanlar madde hakkındaki ilk bilgilerini hangi yolla elde etmeye çalışmıştır?

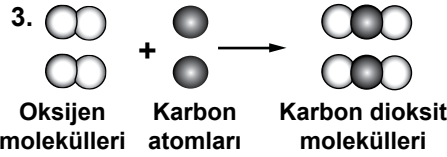
- A) Hipotez kurma  
B) Kanun çıkarma  
C) Deney yapma  
D) Deneme-yanılma

2. Günümüzdeki element kavramında, antik dönem ve erken dönem element kavramında yer alan;

- I. Saf madde olma  
II. Tek tür atomlardan oluşma  
III. Kendinden daha basit maddelere dönüşmeme

**özelliklerinden hangileri yer almaz?**

- A) Yalnız II B) Yalnız III  
C) I ve II D) I ve III



**Yukarıda verilen tepkime modeli, kimyanın temel kanunlarından hangilerinin açıklanmasında örnek olarak kullanılabilir?**

- A) Kütle korunumu ve sabit oranlar kanunlarının  
B) Yalnızca katlı oranlar kanununun  
C) Yalnızca kütle korunumu kanununun  
D) Sabit ve katlı oranlar kanunlarının

4. Bazı atomlar ve aralarında oluşturdukları bileşik sayısı tabloda verilmiştir.

Grup	Atomlar	Bileşik sayısı
I	Be ve O	1
II	C ve O	2
III	N ve O	5

**Buna göre, hangi gruptaki bileşiklerin arasında katlı oran hesaplamak mümkündür?**

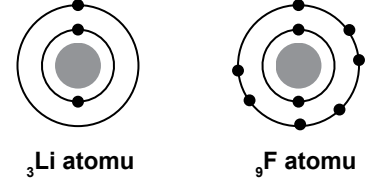
- A) Yalnız I B) I ve II  
C) II ve III D) I, II ve III

5. Bir atom bileşik oluştururken elektron dizilimini He atomunun elektron dizilimine benzetiyor.

**Bu değişim sırasında, atomda aşağıdakilerden hangisi gerçekleşmiştir?**

- A) Dublet kuralına uymuştur.  
B) Oktet kuralına uymuştur.  
C) Son katmandaki elektron sayısı 8 olmuştur.  
D) Son katmandaki elektron sayısı 10 olmuştur.

6. Li ve F atomlarının elektron dizilimi modelleri verilmiştir.



**Bu atomlar bileşik oluştururken aşağıdakilerden hangisi gerçekleşir?**

- A) Li elektron alır.  
B) F elektron verir.  
C) Li<sup>+</sup> ve F<sup>-</sup> birbirini elektrostatik kuvvetle çeker.  
D) Li<sup>-</sup> ve F<sup>+</sup> elektronlarını ortaklaşa kullanır.

7. B ve Si atomlarının elektron dizilimleri verilmiştir.

<sub>5</sub>B: 2, 3

<sub>14</sub>Si: 2, 8, 4

**Buna göre, B ve Si atomlarıyla ilgili aşağıdaki bilgilerden hangisi doğrudur?**

- A) B üçüncü periyot, Si dördüncü periyottadır.  
B) B, A grubunda, Si ise B grubundadır.  
C) Si'un katman sayısı B'den 1 fazladır.  
D) Si'un değerlik elektron sayısı B'den 1 azdır.

8. H<sub>3</sub>PO<sub>4</sub> bileşiğinde, P'un yükseltgenme basamağı kaçtır? (<sub>1</sub>H, <sub>8</sub>O, <sub>15</sub>P)

- A) -5 B) -1  
C) +1 D) +5

9. Aşağıda verilen bileşik formülü-bileşik adı eşleştirmelerinden hangisi yanlıştır?

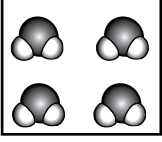
	Bileşik formülü	Bileşik adı
A)	MgCl <sub>2</sub>	Magnezyum diklorür
B)	CS <sub>2</sub>	Karbon disülfür
C)	KI	Potasyum iyodür
D)	Fe <sub>2</sub> O <sub>3</sub>	Demir (III) oksit

## 1. OTURUM

10. Ca ve X atomları  $\text{CaX}_2$  bileşimini oluşturuyor. Buna göre X atomunun Lewis simgesi aşağıdakilerden hangisidir? ( ${}_{20}\text{Ca}$ ,  ${}_9\text{X}$ )

- A)  $\cdot\text{X}$                       B)  $\cdot\ddot{\text{X}}$   
C)  $\ddot{\text{X}}:$                       D)  $\ddot{\text{X}}:$

11. Suyun oda koşullarındaki tanecik modeli şeklindeki gibidir.



Modele göre, suyun yapısı ile ilgili aşağıdakilerden hangisi doğrudur?

- A) İyonik bileşiktir.  
B) Kovalent bileşiktir.  
C) Erime noktası yüksektir.  
D) Tanecikler sıkı istiflenmiştir.

12. Bir moleküle ait özellikler verilmiştir.  
• Polar moleküldür.  
• Kovalent bağ içerir.

Buna göre, bu molekülün formülü aşağıdakilerden hangisi olabilir? ( ${}_1\text{H}$ ,  ${}_9\text{F}$ ,  ${}_{11}\text{Na}$ )

- A) NaH                      B) NaF  
C) HF                      D)  $\text{F}_2$

13. Su polar bir çözücüdür.

Buna göre, aşağıda açık formülleri verilen bileşiklerden hangisi suda çözünür?

- A)  $\begin{array}{c} \text{H} \\ | \\ \text{H}-\text{C}-\text{H} \\ | \\ \text{H} \end{array}$   
B)  $\begin{array}{c} \text{H} \quad \quad \text{H} \\ \backslash \quad / \\ \text{C} = \text{C} \\ / \quad \backslash \\ \text{H} \quad \quad \text{H} \end{array}$   
C)  $\begin{array}{c} \text{H} \quad \text{H} \quad \text{H} \\ | \quad | \quad | \\ \text{H}-\text{C}-\text{C}-\text{C}-\text{H} \\ | \quad | \quad | \\ \text{H} \quad \text{H} \quad \text{H} \end{array}$   
D)  $\begin{array}{c} \text{H} \quad \text{H} \quad \text{H} \\ | \quad | \quad | \\ \text{H}-\text{C}-\text{C}-\text{C}-\text{OH} \\ | \quad | \quad | \\ \text{H} \quad \text{H} \quad \text{H} \end{array}$

14. Kovalent bağlar ile ilgili aşağıdaki ifadelerden hangisi yanlıştır?

- A) İki atom arasında yalnız tekli kovalent bağ oluşabilir.  
B) Aynı ya da farklı ametal atomları arasında oluşabilir.  
C) Atomların, elektronları ortaklaşa kullanması sonucunda oluşan bağ türüdür.  
D) Apolar kovalent bağda elektronlar atomlar tarafından eşit kuvvetle çekilir.

15. “Açık havada bırakılan demir parçaları zamanla havadaki oksijen gazıyla tepkimeye girerek demir (III) oksit bileşimini oluşturur. Altın ise oksijen gazı ile hiçbir koşulda tepkime vermez.”

Verilen ifadede maddelerin kimyasal özelliği ile ilgili,

- I. Maddeler her koşulda tepkimeye girebilir.  
II. Her maddenin kendine has kimyasal özelliği vardır.  
III. Maddelerin tepkimeye girme istekleri farklıdır.

yargılarından hangilerine ulaşılabilir?

- A) Yalnız II                      B) I ve II  
C) II ve III                      D) I, II ve III

16. Maddelerin tepkimeye girme istekliliği aşağıdakilerden hangisidir?

- A) Reaktiflik                      B) Yanıcılık  
C) Asallık                      D) Asitlik

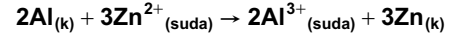
17. X maddesi için,

- Tadı acıdır.
  - Ele kayganlık hissi verir.
  - Turnusol kağıdının rengini mavime dönüştürür.
- bilgileri verilmektedir.

Buna göre X maddesi aşağıdakilerden hangisi olabilir?

- A) NaOH                      B) NaCl  
C)  $\text{HNO}_3$                       D)  $\text{H}_2\text{O}$

18.



denkleminin yükseltgenme tepkimesi aşağıdakilerden hangisidir?

- A)  $2\text{Al}^{3+}_{(suda)} + 6e^- \rightarrow 2\text{Al}_{(k)}$   
B)  $2\text{Al}_{(k)} \rightarrow 2\text{Al}^{3+}_{(suda)} + 6e^-$   
C)  $3\text{Zn}^{2+}_{(suda)} + 6e^- \rightarrow 3\text{Zn}_{(k)}$   
D)  $3\text{Zn}_{(k)} \rightarrow 3\text{Zn}^{2+}_{(suda)} + 6e^-$

19.

	Tepkime	Türü
I.	Potasyum iyodür tuzunun suda iyonlaşması	Çözünme
II.	Demirin paslanması	İndirgenme - yükseltgenme
III.	Aminoasitlerden protein oluşması	Polimerleşme

Tabloda verilen tepkimelerden hangilerinin türü doğru belirtilmiştir?

- A) Yalnız I                      B) I ve II  
C) II ve III                      D) I, II ve III

20. Bir tuzun, suyun etkisiyle kendisini meydana getiren asit ve baza ayrılması veya bir maddenin, suyun etkisiyle kendisini oluşturan maddelere ayrılması olayı aşağıdakilerden hangisidir?

- A) Yanma  
B) Hidroliz  
C) Nötrleşme  
D) Polimerleşme

(432) KİMYA – 2

1. Dayanıklı ve korozyona karşı dirençli maddeler elde etmek için, belli oranlarda saf metallerin karıştırılmasıyla oluşturulan çözelti aşağıdakilerden hangisidir?

- A) Koloit                      B) Alaşım  
C) Amalgam                      D) Süspansiyon

## 1. OTURUM

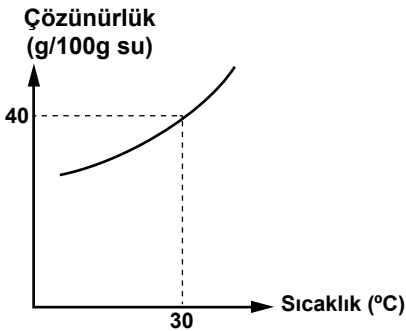
2. Karışımlarla ilgili aşağıdaki ifadelerden hangisi **yanlıştır**?

- A) Farklı tür tanecikler içerirler.
- B) Fiziksel yollarla bileşenlerine ayrıştırılabilirler.
- C) Karışımı oluşturan maddeler arasında sabit bir oran vardır.
- D) Karışımı oluşturan maddeler kimyasal özelliklerini korurlar.

3. İçinde gazlı içecek bulunan bir şişenin kapağı açıldığında karbondioksit gazı çıkışının gözlenmesinin sebebi aşağıdakilerden hangisidir?

- A) Gazların çözünürlüğü sıcaklık arttıkça genelde azalır.
- B) Çözünürlük sıvılar için ayırt edici bir özelliktir.
- C) Sıvıların çözünürlüğünde basıncın etkisi yok denecek kadar azdır.
- D) Gazların sudaki çözünürlüğü gaz basıncıyla doğru orantılıdır.

4. Şekilde X tuzunun, sudaki çözünürlük-sıcaklık grafiği verilmiştir.



30 °C'ta 200 g su ile 60 g X tuzu karıştırılıyor. Aynı sıcaklıkta bu çözeltiyi doymuş hale getirmek için kaç gram X tuzu eklenmelidir?

- A) 15 B) 20 C) 50 D) 80

5. Çözeltilerde donma noktasının düşmesi,

- I. Çözeltideki tanecik sayısı
- II. Çözünen madde miktarı
- III. Çözünen madde türü

niceliklerinden hangilerine bağlıdır?

- A) Yalnız III B) I ve II  
C) II ve III D) I, II ve III

6. Aşağıdaki maddelerden hangisi bulunduğu karışımdan mıknatıs ile çekilerek **ayrılmaz**?

- A) Altın B) Nikel  
C) Kobalt D) Demir

7. Süzme işlemi,

- I. Sıvı - gaz
- II. Katı - sıvı
- III. Katı - gaz

heterojen karışımlarından hangilerine uygulanabilir?

- A) Yalnız I B) Yalnız III  
C) II ve III D) I, II ve III

8. Ayıklama yöntemine,

- I. Pirincin taştan ayrılması
- II. Sağlam meyvelerin çürüklerden ayrılması
- III. Tuzlu suyun bileşenlerine ayrılması

işlemlerinden hangileri örnek olarak gösterilebilir?

- A) Yalnız I B) I ve II  
C) II ve III D) I, II ve III

9. Ayırma hunisi kullanılarak yapılan işlem, aşağıda verilen karışımlardan hangisini ayırmada kullanılır?

- A) Homojen sıvı - sıvı  
B) Homojen katı - sıvı  
C) Heterojen sıvı - sıvı  
D) Heterojen katı - sıvı

10. Bir sıvı içerisinde çözünebilen iki farklı katının çözünürlük farklarından yararlanılarak birbirinden ayrılması işlemi, aşağıdakilerden hangisidir?

- A) Özütleme  
B) Basit damıtma  
C) Ayrımsal damıtma  
D) Ayrımsal kristallendirme

11. Çamaşır sodası, zor yağların temizlenmesinde tercih edilir.

Çamaşır sodası bu temizleme işlemini, yağları aşağıdakilerden hangisine dönüştürerek gerçekleştirir?


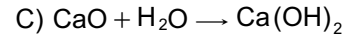
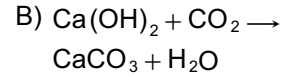
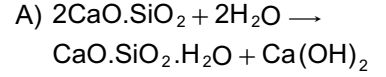
- A) Baza  
B) Aside  
C) Çamaşır suyuna  
D) Yağ asidi tuzuna

12. Aşağıdakilerden hangisi klorlu çamaşır sularında bulunan yükseltgen maddelerden biridir?

- A) NaClO B) KOH  
C) H<sub>2</sub>O<sub>2</sub> D) Na<sub>2</sub>CO<sub>3</sub>

13. Kirecin söndürülmesi bir hidrasyon (su katılması) olayıdır.

Buna göre, aşağıdaki tepkime denklemlerinden hangisi kirecin söndürülmesi olayına aittir?



14. Aşağıdaki maddelerden hangisinin yapısında kil **bulunmaz**?

- A) Çini B) Porselen  
C) Tuğla D) Lehim

15. Aşağıdakilerden hangisi yağlı boyaların üretiminde kullanılan inceltici (çözücü) maddelerden biri **değildir**?

- A) Alkol B) Aseton  
C) Su D) Tiner

16. Aşağıdakilerden hangisi elektrik yalıtım malzemesi olarak kullanılabilir?

- A) Çelik  
B) Porselen  
C) Beyaz altın  
D) Gümüş para

17. Yeşil bitkilerde gerçekleşen tepkimelerden ikisi ile ilgili bilgiler verilmiştir.

- I. Tepkime: Havadan CO<sub>2</sub> alınır ve besin üretilir.
- II. Tepkime: Havadan O<sub>2</sub> alınır ve enerji üretilir.

Buna göre, I. ve II. tepkimeler aşağıdakilerden hangisidir?

- |               |            |
|---------------|------------|
| I             | II         |
| A) Fotosentez | Solunum    |
| B) Sindirim   | Fotosentez |
| C) Solunum    | Fotosentez |
| D) Sindirim   | Solunum    |

## 1. OTURUM

18. Hem insanlarda hem de yeşil bitkilerde aşağıdakilerin hangisinde verilen tepkimeler gerçekleşir?

- A) Yalnız fotosentez
- B) Yalnız solunum
- C) Sindirim ve fotosentez
- D) Solunum ve fotosentez

19. Besin içeriklerinden birisinin kimyasal sindirimine ait tepkime aşağıda verilmiştir.



Bu tepkimedeki X maddesi aşağıdakilerden hangisi olabilir?

- A) Nişasta
- B) Yağ
- C) Protein
- D) Glikoz

20. Aşağıdaki maddelerden hangisi çevre kirliliğine neden olmaz?

- A) O<sub>3</sub>
- B) CO<sub>2</sub>
- C) SO<sub>2</sub>
- D) O<sub>2</sub>

### (441) BİYOLOJİ – 1

1. Canlıların kendilerine benzer yeni bireyler oluşturmaya ne denir?

- A) Boşaltım
- B) Solunum
- C) Üreme
- D) Beslenme

2. I. Basınç  
II. Sıcaklık  
III. Işık

Yukarıdakilerden hangileri canlılarda uyarı yaratan etkilerdendir?

- A) Yalnız I
- B) I ve II
- C) II ve III
- D) I, II ve III

3. Aşağıdaki pH derecelerinden en asidik olanı hangisidir?

- A) pH=1
- B) pH=3
- C) pH=5
- D) pH=7

4. Aşağıda verilen minerallerden hangisi, ATP ve nükleik asitlerin yapısında yer alır?

- A) Demir
- B) Fosfor
- C) Kalsiyum
- D) Sodyum

5. Aşağıdakilerden hangisi disakarit şekerlere örnektir?

- A) Glikoz
- B) Fruktoz
- C) Maltoz
- D) Galaktoz

6. Lipitler, aşağıda verilen çözücülerin hangisinde en az çözünür?

- A) Aseton
- B) Eter
- C) Su
- D) Kloroform

7. Hayvanların karaciğer ve kaslarında depo edilen ve suda çözünebilir polisakarit aşağıdakilerden hangisidir?

- A) Nişasta
- B) Glikojen
- C) Selüloz
- D) Kitin

8. I. Yağ sentezi bir hidroliz olayıdır.  
II. Yağların yapı taşları gliserol ve yağ asitleridir.  
III. Yağların bazı çeşitleri hücre zarının yapısına katılır.

Yağlarla ilgili olarak verilen bilgilerden hangileri doğrudur?

- A) Yalnız I
- B) I ve II
- C) II ve III
- D) I, II ve III

9. Aşağıdakilerden hangisi proteinlerin organizmadaki görevlerinden değildir?

- A) Hücre yapımı ve dokuların onarımını sağlama
- B) Antikor yapısına katılarak bağışıklık sağlama
- C) Hemoglobin yapısına katılarak solunum gazlarını taşıma
- D) Deri altında depolanarak ısı yalıtımı ve mekanik etkilere karşı koruma

10. Eksikliğinde gece körlüğü, kalp ve böbrek hastalıkları, halsizlik, deride kuruma ve pullanmaya sebep olan vitamin aşağıdakilerden hangisidir?

- A) A
- B) B
- C) C
- D) D

11. Enzimlerin özellikleriyle ilgili aşağıda verilenlerden hangisi yanlıştır?

- A) Enzim, substrata geçici olarak aktif bölgesinden bağlanır.
- B) Bazı enzimler tersinir (çift yönlü) çalışırlar.
- C) Aktivasyon enerjisini yükseltirler.
- D) Enzimler reaksiyonlara özeldir.

12. Aşağıda verilen moleküllerden hangisi hem DNA hem de RNA'nın yapısında bulunur?

- A) Riboz
- B) Deoksiriboz
- C) Urasil
- D) Fosforik asit

13. Canlıların yapısal ve işlevsel özelliklerine sahip olan temel birimine ne ad verilir?

- A) Çekirdek
- B) Hücre
- C) Sitoplazma
- D) Golgi cisimciği

14. Aşağıdakilerden hangisi hücredeki zarsız organeldendir?

- A) Golgi
- B) Lizozom
- C) Mitokondri
- D) Ribozom

15. İnsanlarda aşağıda verilen hücrelerden hangisinde lizozom bulunmaz?

- A) Alyuvar
- B) Akyuvar
- C) Karaciğer hücresi
- D) Dalak hücresi

16. I. Kromoplast  
II. Kloroplast  
III. Lökoplast

Yukarıdaki plastitlerden hangileri, renk pigmentleri bulundurur?

- A) Yalnız I
- B) I ve II
- C) II ve III
- D) I, II ve III

17. I. Hücrenin özgülüğünü oluşturur.  
II. Zara seçici-geçirgen özellik kazandırır.  
III. Hücrelerin hormon gibi maddelere cevap vermesini sağlar.

Yukarıdakilerden hangileri glikokaliks tabakasının görevlerindedir?

- A) Yalnız I
- B) I ve II
- C) II ve III
- D) I, II ve III

18. Aşağıdaki faktörlerden hangisinin artışı difüzyon hızının azalmasına neden olur?

- A) İki ortam arasındaki yoğunluk farkı
- B) Zardan geçecek molekül büyüklüğü
- C) Hücre zarındaki por sayısı
- D) Sıcaklık

## 1. OTURUM

19. Aşağıdakilerden hangisi bitki hücrelerine ait bir özellik değildir?

- A) Glikojen depo etme
- B) Nişasta depo etme
- C) Hücre çeperi bulundurma
- D) Plastit bulundurma

20. I. Ara filamentler  
II. Mikrofilamentler  
III. Mikrotübüller

Yukarıdaki hücre iskeleti elemanlarından hangileri, hücre içindeki yapıların (çekirdek, organeller vb.) yerlerinin sabitlenmesini sağlar?

- A) Yalnız I
- B) I ve II
- C) II ve III
- D) I, II ve III

### (442) BİYOLOJİ – 2

1. Aşağıdakilerden hangisi sınıflandırma çalışmalarının amaçları arasında yer almaz?

- A) Araştırmaları hızlandırmak.
- B) Bilgi edinme yollarını kolaylaştırmak.
- C) Av - avcı ilişkilerini ortaya koymak.
- D) Düzenli ve doğru sonuca ulaşma fırsatı vermek.

2. İnsanın da moli balığının da kromozom sayısı 46'dır.

Bu duruma göre aşağıdakilerden hangisi kesinlikle söylenebilir?

- A) İki türün de kromozomlarındaki genetik bilgiler farklıdır.
- B) İki türdeki bireylerin protein yapıları tamamen aynıdır.
- C) İki canlı grubu yakın akrabadır.
- D) İki canlı grubu benzerdir.

3. Aşağıdakilerden hangisi eukarya (ökaryotlar) domain (domein)'i içerisinde yer almaz?

- A) Bitkiler
- B) Mantarlar
- C) Bakteriler
- D) Protistler

4. I. Uygun olmayan ortam şartlarında oluşur.  
II. Metabolizma hızı en düşük seviyededir.  
III. Su kaybederek kalın bir örtü oluşturur.

Yukarıdakilerden hangileri endospor halindeki bakterinin özelliklerindedir?

- A) Yalnız I
- B) I ve II
- C) II ve III
- D) I, II ve III

5. Patojen bakteriler tarafından üretilen ve üzerinde yaşadıkları organizmaya zarar veren maddeler, genel olarak aşağıdakilerden hangisi ile adlandırılır?

- A) Nitrit
- B) Toksin
- C) Nitrat
- D) Kükürt

6. Pis suların artımında faydalanan ve bu olay sırasında bataklık gazı açığa çıkaran arke grubu aşağıdakilerden hangisidir?

- A) Aşırı tuzcullar
- B) Aşırı termofiller
- C) Soğuk seven arkeler
- D) Metanojenik arkeler

7. I. Heterotrof beslenme  
II. Çok hücreli ökaryot yapıda olma  
III. Ayrıştırıcı özelliğe sahip olma

Yukarıda verilenlerden hangileri tüm mantarlarda görülen bir özelliktir?

- A) Yalnız I
- B) I ve II
- C) II ve III
- D) I, II ve III

8. Aşağıdakilerden hangisi açık tohumlu bitkilerden değildir?

- A) Ardiç
- B) Armut
- C) Ladin
- D) Servi

9. • Kökleri saçak kök şeklindedir.  
• Embriyolarında tek çenek yaprağı bulunur.  
• Yaprakları şerit şeklinde ince uzun olup paralel damarlıdır.

Verilen özellikler aşağıdaki bitkilerden hangisine aittir?

- A) Çam
- B) Buğday
- C) Domates
- D) Elma

10. Aşağıdakilerden hangisi halkalı solucanlar grubunda yer alır?

- A) Tenya
- B) Planarya
- C) Bağırsak solucanı
- D) Toprak solucanı

11. I. Vücutları baş, gövde ve karın olmak üzere üç bölümden oluşur.  
II. Trake solunumu ve açık dolaşım sistemi görülür.  
III. Eklemler dört çift ayağa sahiptirler.

Yukarıdakilerden hangileri böceklerle ait özelliklerindedir?

- A) Yalnız I
- B) I ve II
- C) II ve III
- D) I, II ve III

12. Aşağıdakilerden hangisi derisi dikenliler grubuna ait canlılardandır?

- A) Akrep
- B) Ahtapot
- C) Kırkayak
- D) Deniz yıldızı

13. Aşağıdakilerden hangisi keseli memeli canlılar grubunda yer alır?

- A) Koala
- B) İnek
- C) Ornitorenk
- D) Karıncayiyen

14. I. Dünyada tür zenginliği ekvator dan kutuplara doğru azalır.  
II. Bir bölgenin coğrafik yapısı, iklim koşulları o bölgenin tür çeşitliliğini doğrudan etkiler.

Biyolojik çeşitlilik ile ilgili olarak verilenler için ne söylenebilir?

- A) Yalnız I doğru
- B) Yalnız II doğru
- C) Her ikisi de doğru
- D) Her ikisi de yanlış

15. Dünya üzerindeki belli bir bölgede bulunan çeşitli canlıların, çevrelerindeki diğer canlılar ve cansız varlıklarla karşılıklı etkileşim kurarak oluşturdukları bütüne ne denir?

- A) Ekosistem
- B) Endemik tür
- C) Tür çeşitliliği
- D) Beslenme ilişkileri



## 1. OTURUM

(452) Ç. TÜRK ve DÜNYA TAR.- 2

16. Hava kirliliğinin önlenmesi amacıyla yapılacak kentleşme çalışmalarında dikkat edilmesi gereken durumlardan hangisine, kent kurulmadan önce dikkat edilmelidir?

- A) Nüfus yoğunluğu
- B) Topografik durumu
- C) Kullanılan yakıt türleri
- D) Ulaşım araçlarının durumu

17. Hemoglobiline bağlanarak organ ve dokulara ulaşan oksijen miktarının azalmasına neden olan renksiz ve kokusuz kirletici hangisidir?

- A) Azot dioksit
- B) Partiküler madde
- C) Kükürt dioksit
- D) Karbon monoksit

18. Aşağıdakilerden hangisi gıda zehirlenmelerinin sebepleri arasında yer alır?

- A) Gıdaların uygun olan sıcaklıkta bekletilmesi.
- B) Gıda üretiminde temiz araç - gereç ve su kullanılması.
- C) Gıda hazırlayan insanların kişisel hijyeninin yetersiz olması.
- D) Gıda üretimi ve hazırlanmasında uygulanan işlemlerin yeterli olması.

19. Toprağın akarsu, çığ, rüzgâr gibi etkenlerle aşınması ve taşınması olayına ne ad verilir?

- A) Habitat
- B) Erozyon
- C) Radyasyon
- D) Biyokütle

20. Aşağıdakilerden hangisi ülkemizdeki ormanların, çok çeşitli hayvan gruplarının barındığı "yaban hayatı sahası" olmasının sebeplerinden değildir?

- A) Orman alanlarındaki nüfusun nispeten az oluşu
- B) Ormanların diğer biyotoplara göre daha stabil olmaları
- C) Özellikle dağlık yörelerde orman dahilinde ulaşılması güç noktaların bulunması
- D) Yağışın bol olduğu ve bitkilerin az olduğu bölgelerde su erozyonu görülmesi

1. Yakın tarihte ABD ve SSCB'nin başını çektiği bloklar arasında gerginliğin azaltılması amacıyla karşılıklı görüşmelerin yapıldığı döneme verilen isim, aşağıdakilerden hangisidir?

- A) Soğuk Savaş
- B) Sıcak Savaş
- C) Yumuşama
- D) Nükleer Teknoloji

2. ABD'nin Domuzlar Körfezi Operasyonu ile yönetimine son vermek istediği Küba'lı lider, aşağıdakilerden hangisidir?

- A) Fidel Castro
- B) Batista
- C) John Kennedy
- D) Nikolay Kruşçev

3. Keşmir Meselesi, aşağıdaki devletlerden hangilerinin karşılıklı problem yaşamasına yol açmıştır?

- A) Pakistan - Hindistan
- B) Türkiye - Yunanistan
- C) Vietnam - ABD
- D) Güney Kore - Kuzey Kore

4. SSCB'nin Afganistan'ı işgali sonrası, Afgan mücahitlerine aşağıdaki devletlerden hangisi destek vermiştir?

- A) İngiltere
- B) Fransa
- C) İtalya
- D) ABD

5. Kuzey Kıbrıs Türk Cumhuriyeti'nin ilk cumhurbaşkanı, aşağıdakilerden hangisidir?

- A) Fazıl Küçük
- B) Rauf Denktaş
- C) Mehmet Ali Talat
- D) Derviş Eroğlu

6. I. Ferdi Tayfur  
II. Müslüm Gürses  
III. Tarkan  
IV. Hakkı Bulut

Yukarıdaki sanatçılardan hangileri arabesk alanında eser icra etmiştir?

- A) II ve III
- B) I, II ve III
- C) I, III ve IV
- D) I, II ve IV

7. Genellikle yurt dışındaki Türk temsilcilerini ve diplomatlarını hedef alan Ermeni terör örgütü, aşağıdakilerden hangisidir?

- A) Hınçak
- B) Mavri Mira
- C) ASALA
- D) Taşnak

8. Aşağıdaki devletlerden hangisi SSCB'nin dağılması sonrasında kurulan Türk devletlerinden biri değildir?

- A) Azerbaycan
- B) Kuzey Kıbrıs Türk Cumhuriyeti
- C) Kazakistan
- D) Türkmenistan

9. Azerbaycan'ın Dağlık Karabağ bölgesini işgal eden devlet, aşağıdakilerden hangisidir?

- A) Ermenistan
- B) Gürcistan
- C) Yunanistan
- D) Rusya

10. Aşağıdakilerden hangisi Türkiye'nin Yunanistan ile dış politikada yaşadığı sorunlardan biri değildir?

- A) Kıbrıs sorunu
- B) Kıta sahanlığı sorunu
- C) Ege hava sahası sorunu
- D) Tarihî mekânların restorasyonu sorunu

11. 12 Eylül Dönemi sonrasında yapılan genel seçimlerde tek başına iktidar olan siyasi parti, aşağıdakilerden hangisidir?

- A) Halkçı Parti
- B) Adalet Partisi
- C) Anavatan Partisi
- D) Yeni Türkiye Partisi

## 1. OTURUM

12. “Şenghay Beşlisi” adıyla kurulan iş birliği yapılanması, aşağıdaki devletlerden hangisinin katılımıyla “Şenghay İş Birliği Örgütü” adını almıştır?

- A) Özbekistan B) Kazakistan  
C) Tacikistan D) Kırgızistan

13. Hocalı katliamını gerçekleştiren devlet aşağıdakilerden hangisidir?

- A) Gürcistan B) Çin  
C) Sırbistan D) Ermenistan

14. Türkiye ve Kazakistan’ın ortak katkılarıyla Kazakistan’da açılan üniversite, aşağıdakilerden hangisidir?

- A) Sütçü İmam Üniversitesi  
B) Ahmet Yesevi Üniversitesi  
C) Manas Üniversitesi  
D) Doğu Akdeniz Üniversitesi

15. Dünyaca ünlü yazar Cengiz Aytmatov, aşağıdaki devletlerden hangisinde yetişmiştir?

- A) Kazakistan  
B) Kırgızistan  
C) Tacikistan  
D) Türkmenistan

16. 21 Aralık 1991’de “Almatı Zirvesi” sonucunda kurulan uluslararası kuruluş, aşağıdakilerden hangisidir?

- A) Bağımsız Devletler Topluluğu  
B) Avrupa Ekonomik Topluluğu  
C) Avrupa Birliği  
D) Şenghay Beşlisi

17. Avrupa Birliği için aranan şart ve kriterler, aşağıdakilerden hangisinde belirtilmiştir?

- A) Almatı Zirvesi’nde  
B) Kopenhag Zirvesi’nde  
C) Roma Antlaşması’nda  
D) Maastricht Antlaşması’nda

18. Makedonya’nın NATO’ya üye olmasını aşağıdaki devletlerden hangisi veto etmiştir?

- A) İtalya B) Türkiye  
C) Rusya D) Yunanistan

19. Aşağıdakilerden hangisi Yugoslavya Sosyalist Federal Cumhuriyeti’nin dağılması sonucunda ortaya çıkan devletlerden biridir?

- A) Polonya B) Ukrayna  
C) Romanya D) Slovenya

20. Mısır, Sudan ve Etiyopya arasında su sorunu yaşanmasına neden olan nehir, aşağıdakilerden hangisidir?

- A) Nil B) Dicle  
C) Fırat D) Asi

### (465) TEMEL DİNİ BİL. – 1

1. Kelime olarak itaat, hüküm, örf, âdet, ceza ve mükâfat gibi anlamlara gelen kavram aşağıdakilerden hangisidir?

- A) Din B) İman  
C) İbadet D) Amel

2. Yusuf peygamber hakkında aşağıda verilen bilgilerden hangisi doğrudur?

- A) Babası Hz. İshak’tır.  
B) Mısır’da yaşamıştır.  
C) Hz. Musa’dan sonra peygamber olmuştur.  
D) İsrailoğulları onun zamanında köleleştirilmiştir.

3. Kur’an-ı Kerim’de “... onu ne öldürdüler ne de astılar... Allah onu kendi katına yükseltti...” (Nisa Suresi, 157 ve 158. ayetler)

**Bu ayetlerde konu edilen peygamber aşağıdakilerden hangisidir?**

- A) Hz. İbrahim  
B) Hz. Musa  
C) Hz. İsa  
D) Hz. Davut

4. Aşağıdakilerden hangisi Hz. Muhammed’in kız çocuklarından biri değildir?

- A) Hz. Zeynep  
B) Hz. Rukiye  
C) Hz. Ayşe  
D) Hz. Fatıma

5. Amentü esasları aşağıdakilerden hangisini ifade eder?

- A) İslam’ın şartlarını  
B) Namazın farzlarını  
C) Ahlak esaslarını  
D) İmanın şartlarını

6. “Onlar bilmiyorlar mı ki, gizlediklerini de Allah bilir.”

(Bakara Suresi, 77. ayet)

**Bu ayette Allah’ın sıfatlarından hangisinden bahsedilmektedir.**

- A) Hayat B) İlim  
C) Basar D) İrade

7. “De ki: Ben de sizin gibi bir beşerim ancak bana vahyolunuyor...” (Kehf Suresi, 110. ayet)

**Bu ayette Hz. Muhammed’in hangi özelliği dile getirilmektedir?**

- A) Peygamber olduğu  
B) Güvenilir olduğu  
C) Merhametli olduğu  
D) Güzel ahlaklı olduğu

8. Hastalıkta ve yolculukta ibadetleri yerine getirmede Müslümanlara bazı kolaylıklar tanınmıştır. Örneğin yolcuya cuma namazı ve oruç farz değildir.

**Aşağıdaki ayetlerden hangisi bu konuya örnek verilebilir?**

- A) “... Namaz, insanı kötülüklerden ve hayasızlıktan alıkoyar.” (Ankebut Suresi, 45. ayet)  
B) “...Allah kimseye taşıyamayaçağı yükü yüklemes...” (Bakara Suresi, 286. ayet)  
C) “Ey Resulum... sen dini Allah’ın has kılarak kulluk et.” (Zümer Suresi, 2. ayet)  
D) “Namazı önemsemeyen, gösteriş yapmak için kılanlara yazıklar olsun.” (Maun Suresi, 4 - 6. ayetler)

## 1. OTURUM

9. Aşağıdakilerden hangisi abdestin farzları arasında yer almaz?

- A) Yüzü yıkamak
- B) Ağza su vermek
- C) Başı meshetmek
- D) Ayakları yıkamak

10. Aşağıdakilerden hangisi bir dua cümlesidir?

- A) "Rabbin için namaz kıl, kurban kes."  
(Kevser Suresi, 2. ayet)
- B) "Kalpler Allah'ı anmakla huzur bulur."  
(Râd Surasi, 28. ayet)
- C) "De ki: Rabb'im! Affet, merhamet et, sen merhametlilerin en hayırlısısın."  
(Mü'minun Suresi, 118. ayet)
- D) "... Her kim bir insanın hayatını kurtarırsa bütün insanların hayatını kurtarmış gibi olur..."  
(Maide Suresi, 32. ayet)

11. Aşağıdakilerden hangisi dini oluşturan temel unsurlardan biri değildir?

- A) Ekonomi
- B) İbadet
- C) Ahlak
- D) İman

12. Aşağıdakilerden hangisi dinin insana sağladığı faydalardan biri değildir?

- A) İmanı kuvvetlendirir.
- B) Davranışları güzelleştirir.
- C) Maddi ihtiyaçları karşılar.
- D) Anlam arayışına cevap verir.

13. Kabile dinleri ile ilgili aşağıda verilenlerden hangisi yanlıştır?

- A) Büyücülük yaygındır.
- B) Kutsal kitapları vardır.
- C) Kurucuları belli değildir.
- D) Belli bir bölgeye aittirler.

14. Hz. Muhammed (sav.)'in "İman nedir?" sorusuna verdiği cevapta aşağıdakilerden hangisi yer almaz?

- A) Namaz kılmak
- B) Ahirete inanmak
- C) Kitaplara inanmak
- D) Meleklerle inanmak

15. Aşağıdakilerden hangisi Allah'ın subuti sıfatlarından biridir?

- A) İrade
- B) Beka
- C) Kıdem
- D) Vücut

16. Allah rızası için yapılan her türlü iyi, güzel ve faydalı olan davranış anlamına gelen kavram aşağıdakilerden hangisidir?

- A) İhsan
- B) İstişare
- C) Salih Amel
- D) Tevekkül

17. Aşağıdakilerden hangisi hac ibadeti ile ilgili bir kavramdır?

- A) Nisap
- B) İmsak
- C) Fitre
- D) Vakfe

18. İbadet ile ilgili aşağıda verilenlerden hangisi yanlıştır?

- A) Allah'ın verdiği nimetler karşısında teşekkürü ifade eder.
- B) Her insan kendi isteğiyle yapılmalıdır.
- C) Dünyadaki mutluluğa etkisi olmaz.
- D) Allah'ın huzurunda olmanın heyecanını hissettirir.

19. Aşağıdakilerden hangisi farz bir namazdır?

- A) Vitir namazı
- B) Bayram namazı
- C) Teravih namazı
- D) Cuma namazı

20. Zekat ile ilgili aşağıdakilerden hangisi yanlıştır?

- A) Zengin Müslümanlara farzdır.
- B) Amca, dayı, teyze ve halaya zekat verilemez.
- C) Ticaret mallarının zekat oranı 1/40'tır.
- D) Zekât verilecek malın üzerinden bir yıl geçmesi gerekir.

### (466) TEMEL DİNİ BİL. – 2

1. Kelime olarak gizli konuşma, îma, fısıldama, işaret etme gibi anlamlara gelen kavram aşağıdakilerden hangisidir?

- A) Vahiy
- B) Ayet
- C) Hadis
- D) Sure

2. Vahyin indiriliş sürecinin 23 yıl sürmesi aşağıdakilerden hangisini kolaylaştırdığı söylenmez?

- A) Yazılıp ezberlenmesini
- B) Ortaya çıkan problemlerin çözülmesini
- C) Hükümlerinin benimsenmesini
- D) Müslümanlara yapılan baskı ve işkencelerin durmasını

3. Aşağıdakilerden hangisi Kur'an-ı Kerim'in iç düzeniyle ilgili kavramlardan değildir?

- A) Hatim
- B) Cüz
- C) Hizb
- D) Sure

4. Hz. Muhammed'e gelen ilk vahiy ile alakalı olarak aşağıda verilen bilgilerden hangisi yanlıştır?

- A) Cebrail tarafından getirilmiştir.
- B) Hira mağarasında indirilmiştir.
- C) 610 yılı, Ramazan ayında indirilmiştir.
- D) İlk inen ayetler Kadir Suresinde yer alır.

5. Aşağıdakilerden hangisi Allah'ın insanlara peygamber göndermesinin sebeplerinden biri değildir?

- A) Allah hakkında bilgilendirmek.
- B) Peygamber olmanın zorluklarını anlatmak.
- C) İnsanlara yaratılış amacını bildirmek.
- D) İbadet esaslarını ve yollarını öğretmek.

## 1. OTURUM

6. “Ey Resûlum sana Rabb’inden indirilmiş olanı duyur. Eğer bunu yapmazsan görevini yapmamış olursun...”

(Maide Suresi, 67. ayet)

**Bu ayette peygamberlerin niteliklerinden hangisi vurgulanmıştır?**

- A) Sıdk  
C) Tebliğ
- B) Emanet  
D) Fetanet

7. Bir Müslümandan aşağıdaki davranışlardan hangisini yapması **beklenir**?

- A) İhtiyacı olanlara yardım etmesi  
B) Yaptıklarına karşılık beklemesi  
C) Yaptığı iyilikleri başa kakması  
D) Harcamalarında savurgan davranması

8. Hz. Peygamber; günahkar bir kadının, susuzluktan ölmek üzere olan bir köpeğe su verdiği için Allah tarafından bağışlandığını bildirmiştir.

**Bu olayda kadının hangi ahlaki özelliği ön plana çıkmıştır?**

- A) Merhameti  
B) Adaleti  
C) Doğruluğu  
D) Cesareti

9. Kur’an-ı Kerim’in ayetlerini açıklayan ve yorumlayan bilim dalı aşağıdakilerden hangisidir?

- A) Tecvid  
C) Kıraat
- B) Tefsir  
D) Tasavvuf

10. Aşağıdakilerden hangisi tasavvuf ilminin amaçları arasında **yer almaz**?

- A) İnanç alanındaki farklılaşmanın nedenlerini açıklamak.  
B) Kalbi kötü huylardan temizlemek ve iyi huylarla doldurmak.  
C) Sünnet-i seniyyeye yapışmak ve bidatlardan kaçınmak.  
D) Fâni olan herşeyden yüz çevirip, bâki olana bağlanmak.

11. Aşağıdakilerden hangisi temel İslam bilimleri arasında **yer almaz**?

- A) Kelam  
B) Tarih  
C) Tasavvuf  
D) Mezhepler Tarihi

12. Aşağıdakilerden hangisi İslam ahlâkına uygun bir davranıştır?

- A) Kötü zanda bulunmak  
B) Kibirli olmak  
C) Haset etmek  
D) İmrenmek

13. Aşağıdakilerden hangisi hadis ilminin amaçları arasında **gösterilemez**?

- A) Kur’an’ı; indiği tarihî zemin içinde tanıtmak  
B) Dinin anlaşılmasında sünnetin önemini fark ettirmek.  
C) Hz. Muhammed (sav.)’in Kur’an’daki konumunu kavratmak  
D) Hz. Muhammed (sav.)’in sünnetinin evrensel boyutunu tanıtmak

14. Aşağıdakilerden hangisi kendisine suhuf verilen peygamberlerdendir?

- A) Hz. Yunus  
B) Hz. Harun  
C) Hz. İdris  
D) Hz. Yusuf

15. Kur’an-ı Kerim ile ilgili aşağıdaki ifadelerden hangisi **yanlıştır**?

- A) Mesajları evrenseldir.  
B) İlk nüshasına Mushaf adı verilir.  
C) Hz. Osman zamanında çoğaltılmıştır.  
D) Hz. Ömer’in halifeliği zamanında kitap haline getirilmiştir.

16. Aşağıdakilerden hangisi Kur’an’ın ana konuları arasında **yer almaz**?

- A) İman  
C) Ticaret
- B) İbadet  
D) Ahlak

17. Aşağıdakilerden hangisi Hz. Muhammed’in Medine döneminde yaşadığı olaylardan biridir?

- A) Boykot hadisesi  
B) Kâbe hakemliği  
C) Taif ziyareti  
D) Hudeybiye antlaşması

18. • “... Biz, peygamber gönderdikçe kimseye azap etmeyiz.”  
(İsrâ suresi, 15. ayet)  
• “Hiçbir ümmet yoktur ki onların içinden bir uyarıcı gelip geçmiş olmasın.”  
(Fâtır suresi, 24. ayet)

**Bu ayetlerde aşağıdakilerden hangisi vurgulanmaktadır?**

- A) Peygamberlerin sayısı bilinmemektedir.  
B) Peygamberlerin isimleri Kur’an’da geçmektedir.  
C) Her millete peygamber gönderilmiştir.  
D) Peygamberlik çalışarak elde edilmez.

19. Sosyoloji ve toplum psikolojisi alanında ilk eser olarak kabul edilen “Mukaddime” aşağıdaki bilim adamlarından hangisine aittir?

- A) İbn-i Heysem  
B) İbn-i Haldun  
C) Ebu Bekir er-Razi  
D) Ahmet Cevdet Paşa

20. Mekke Dönemi’nde inen ayetler daha çok hangi konulardan bahsetmektedir?

- A) Aile içi ilişkiler  
B) Miras hukuku  
C) İnanç esasları  
D) Savaş hukuku

## 1. OTURUM

(478) MANTIK – 1

### 1. Aşağıdakilerden hangisi mantığın inceleme konuları arasında gösterilemez?

- A) Doğru düşünmenin kuralları
- B) Akıl yürütmenin ilkeleri
- C) İnsan aklının işleyiş yolları
- D) Doğadaki olay ve olgular

### 2. Bütün öğrenciler çalışkandır. Ali öğrencidir.

O halde Ali çalışkandır.

### Yukarıda verilen akıl yürütme biçimi hangisidir?

- A) Analoji
- B) Tümevarım
- C) Tümdengelim
- D) Tam tümevarım

### 3. Aşağıdaki önermelerden hangisi, düşünme ilkelerinden özdeşlik ilkesini dile getirir?

- A) Bir şey ne ise odur.
- B) Yeterli sebep olmadıkça hiçbir şey var olamaz.
- C) Bir şey hem kendisi hem de kendisinden başka bir şey olamaz.
- D) Bir şeyin kendisi ve değillmesi arasında üçüncü bir durum olamaz.

### 4. Mantığın kurucusu olarak kabul edilen düşünür aşağıdakilerden hangisidir?

- A) Rene Descartes
- B) Aristoteles
- C) İbn-i Sina
- D) Farabi

### 5. Kavramlara ait örnekler hangisinde doğru olarak verilmiştir?

Tümel	Tikel	Tekil
A) Kedi	Bazı kediler	Minnoş
B) Bazı çiçekler	Tüm çiçekler	Karanfil
C) Tüm insanlar	Bazı insanlar	Ayşe
D) Bazı gezegenler	Tüm gezegenler	Mars

### 6. Kendi başına bir anlam taşıyan en küçük birime terim denir.

Buna göre "Borcunu azalt ki hür yaşa." cümlesinde kaç terim vardır?

- A) 1
- B) 2
- C) 4
- D) 5

### 7. Birçok türde ortaklaşa bulunan özelliklere ilinti denir. Bu özellikler canlının bütün türlerinde ortaklaşa bulunur, sadece bir türe ait özellik değildir.

### Aşağıdakilerden hangisi ilintiye örnek olur?

- A) İnsan kültür üreten bir varlıktır
- B) İnsan sosyalleşen bir varlıktır
- C) İnsan düşünen bir varlıktır
- D) İnsan uyuyan bir varlıktır

### 8. Varlık → Canlı → Hayvan → Keçi → Ankara keçisi

### Kaplam ve içlemi en fazla olan kavramlar hangisinde birlikte verilmiştir?

- A) Varlık – Ankara keçisi
- B) Canlı – Keçi
- C) Varlık – Hayvan
- D) Canlı – Varlık

### 9. Aşağıdakilerden hangisi hem neliği hem gerçekliği hem de kimliği olan bir kavramdır?

- A) Karpuz
- B) Talih kuşu
- C) Peri kızı
- D) Van kedisi

### 10. Aşağıdakilerden hangisinde kolektif ve distribütif kavramlar birlikte verilmiştir?

- A) Kitap – Kalem
- B) Okul – Öğrenci
- C) Memur – Milletvekili
- D) Sendika - Meclis

### 11. Aşağıda verilenlerden hangisinin tanımı yapılabilir?

- A) Su
- B) Aşk
- C) Kin
- D) Nefret

### 12. Aşağıdakilerden hangisi bir önermedir?

- A) Kapalı alanlarda sigara içilmemeli.
- B) Sen neden burada değilsin?
- C) Çabuk buraya gel.
- D) Çalışırsa sınavı kazanır.

### 13. Tek yargı bildiren önermelere basit önerme denir.

### Aşağıdakilerden hangisi basit önermeye örnektir?

- A) Bilim öğretici ve mantıksaldır.
- B) Ali çalışırsa sınıfını geçer.
- C) Sayı ya tektir ya da çifttir.
- D) Bütün babalar fedakardır.

### 14. İçerisinde birden fazla yargı bulunduran önermelere bileşik önerme denir.

### Buna göre aşağıdakilerden hangisi bileşik önerme değildir?

- A) Hava yağmurlu ise caddeler ıslaktır.
- B) Herkes düşünce özgürlüğüne sahiptir.
- C) Berat ve Selman arkadaşlırlar.
- D) Sayı tektir veya çifttir.

### 15. "Bütün çiçekler güzeldir" önermesinin çelişği aşağıdakilerden hangisidir?

- A) Bazı çiçekler güzeldir.
- B) Hiçbir çiçek güzel değildir.
- C) Bazı çiçekler güzel değildir.
- D) Hiçbir güzel çiçek değildir.

### 16. Bir önermenin nitelik ve doğruluk değerini değiştirmeden özne ve yüklem yerlerinin değiştirilmesine düz döndürme denir.

### "Bazı insanlar hastadır" önermesinin düz döndürmesi aşağıdakilerden hangisidir?

- A) Bazı hasta olamayanlar insan olamayanlar değildir.
- B) Bazı hastalar insandır.
- C) Bazı hastalar insan değildir.
- D) Bazı insan olamayanlar hasta olamayanlar değildir.

## 1. OTURUM

17. Verilen en az iki önermeden zihnin zorunlu olarak bir sonuç çıkarılması işlemidir.

**Verilen tanım aşağıdakilerden hangisine aittir?**

- A) Kavram      B) Önerme  
C) Kıyas      D) Tanım

18. • Çocuk ana-babasına itaat ederse yaşam sınavını kazanır.  
• Çocuk yaşam sınavını kazanmıştır.  
• -----

**Yukarıda öncülleri verilen kıyasın sonucu hangisi olur?**

- A) O halde, öğrenci yaşam sınavını kazanır.  
B) O halde, çocuk ana-babasına itaat etmiştir.  
C) O halde, çocuk ana-babasına itaat etmemiştir.  
D) O halde, çocuk ana-babasına itaat edecektir.

19. Aşağıdakilerden hangisi geçerli bir kıyasın kurallarından **değildir**?

- A) İki olumsuz öncülden olumlu sonuç çıkar.  
B) Orta terim sonuç önermesinde yer almaz.  
C) İki olumlu öncülden çıkan sonuç olumludur.  
D) İki tikel öncülden bir sonuç çıkmaz.

20. İki öncül ve bir sonuçtan oluşan kıyas çeşidi aşağıdakilerden hangisidir?

- A) Zincirleme kıyas  
B) Karma kıyas  
C) Bileşik kıyas  
D) Basit kıyas

(479) MANTIK – 2

1. Aşağıdakilerden hangisi sembolik mantığın bölümlerinden biri **değildir**?

- A) Kiplik mantığı  
B) Klasik mantık  
C) Özdeşlik mantığı  
D) İki değerli mantık

2. **Günlük dilde “ve”, “ne...ne de”, “hem...hem de” gibi sözcüklerle ifade edilen tümel evetleme eklemının sembolü hangisidir?**

- A)  $\wedge$     B)  $\vee$     C)  $\Leftrightarrow$     D)  $\sim$

3.  $\sim (p \vee q) \Leftrightarrow (p \Rightarrow r)$  önermesinin ana eklemi hangisidir?

- A)  $\sim$     B)  $\vee$     C)  $\Leftrightarrow$     D)  $\Rightarrow$

4. “Çocuk annesine ve babasına itaat ederse mutlu olur” önermesinin önermeler mantığındaki sembolik ifadesi hangisidir?

- A)  $\sim p \vee q$       B)  $p \wedge q \Leftrightarrow r$   
C)  $p \vee q \Rightarrow r$     D)  $p \wedge q \Rightarrow r$

5. “Öğrenci, öğretmen ve veli birbirini tamamlar.”  
**Önermesi kaç yüklemli bir önermedir?**

- A) Birli      B) İkili  
C) Üçlü      D) Dörtlü

6. Aşağıdaki p ve q önermelerinden hangisi eşdeğer **değildir**?

- A)  $\frac{p|q}{D|D}$       B)  $\frac{p|q}{D|D}$   
C)  $\frac{p|q}{Y|Y}$       D)  $\frac{p|q}{Y|D}$

7.

I	II	III	IV
$p \Rightarrow q$	$\sim p \Leftrightarrow q$	$(p \vee q) \wedge p$	$(p \vee q) \vee (p \Rightarrow q)$
D	Y	D	D
Y	D	D	D
D	D	Y	D
D	Y	Y	D

**Yukarıda doğruluk değerleri verilen numaralandırılmış önermelerden hangisi geçerlidir?**

- A) I numaralı önerme  
B) II numaralı önerme  
C) III numaralı önerme  
D) IV numaralı önerme

8.  $\frac{p \vee q}{p \uparrow q}$  Yanda tümel evetleme önermesinin çözümleyici çizelgede çözümleme kuralı verilmiştir.

**Buna göre “ $p \vee q \vee r$ ” önermesinin çözümleyici çizelgede çözümlemesi aşağıdakilerden hangisidir?**

- A)  $\frac{p \vee q \vee r}{p \uparrow q \uparrow r}$       B)  $\frac{p \vee q \vee r}{p \uparrow q \uparrow r}$

- C)  $\frac{p \vee q \vee r}{p \uparrow q \uparrow r}$       D)  $\frac{p \vee q \vee r}{p \uparrow q \uparrow r}$

9. Bir önermenin geçerli olması için o önermenin ----- .

**Yukarıdaki noktalı yere hangisi getirilmelidir?**

- A) tüm yorumlamalarının yanlış değer almış olması gerekir  
B) tüm yorumlamalarının doğru değer almış olması gerekir  
C) en az bir yorumunun doğru değer almış olması gerekir  
D) en az bir yorumunun yanlış değer almış olması gerekir

10. Aşağıdakilerden hangisi bileşik bir önermedir?

- A) Konya Türkiye'nin en büyük şehridir.  
B) Tahir temizdir.  
C) İnsanlar, hayvanlar ve bitkiler yaratılmıştır.  
D) Öğretmenler çalışkandır.

11. Nicleleme mantığında tümel niceleyicinin sembolü aşağıdakilerden hangisidir?

- A)  $\forall$     B)  $\exists$     C)  $\therefore$     D)  $\diamond$

## 1. OTURUM

12. Öznesi açıkça belli olmayan, içinde değişken bulunan önermeler, açık önermelerdir.

**Aşağıdakilerden hangisi açık önerme değildir?**

- A)  $y + 8 = 12$
- B)  $5x = 4y$
- C) Bitki fotosentez yapar.
- D) Z bir hayvan değildir.

13. " $\forall x$  (x sosyal bilimdir)" açık önermesinin doğruluk değeri aşağıda verilen evrenlerden hangisinde doğrudur?

- A)  $E = \{ \text{fizik, kimya, biyoloji} \}$
- B)  $E = \{ \text{kimya, sosyoloji, tarih} \}$
- C)  $E = \{ \text{felsefe, biyoloji, matematik} \}$
- D)  $E = \{ \text{sosyoloji, psikoloji, tarih} \}$

14. Bir önermenin "doğru", "yanlış" ve "belirsiz" değerlerini aldığı mantık sistemi aşağıdakilerden hangisidir?

- A) Varlık mantığı
- B) Özdeşlik mantığı
- C) Üç değerli mantık
- D) Kiplik mantığı

15. "İlgaz dağı vardır." önermesinin varlık mantığındaki sembolik ifadesi hangisidir?

- A)  $E_a$
- B)  $E!a$
- C)  $a \equiv b$
- D)  $\diamond p$

16. Formel (biçimsel) bilimlerin aşağıdakilerden hangisinde birlikte verilmiştir?

- A) Matematik - Mantık
- B) Mantık - Kimya
- C) Matematik - Fizik
- D) Fizik - Kimya

17. Doğruluğu açık ve seçik olarak belirli olan bu yüzden ispatlanmasına gerek olmayan önermelere ne ad verilir?

- A) Teorem
- B) Aksiyom
- C) Tutarlılık
- D) Çıkarım

18. Aşağıdaki yargılardan hangisi yanlıştır?

- A) Bilimsel teorileri oluşturan önermelerin doğruluğu sadece mantıksal yolla denetlenebilir.
- B) Mantığın doğa bilimlerine uygulanması, bilimsel önermelerin sembolleştirilmesine dayanır.
- C) Doğa bilimleri, kendi konuları üzerinde deneysel yöntemi kullanarak ispat yapmaya çalışır.
- D) Aklın denetiminden geçmeden bir deney düzeneği kurulamaz.

19. Mantığın anlamı, ilke ve temel kavramlarıyla ilgili sorunları ele alan felsefe dalı hangisidir?

- A) Bilim felsefesi
- B) Varlık felsefesi
- C) Bilgi felsefesi
- D) Mantık felsefesi

20. Aşağıdakilerden hangisi mantıklı bir insanda görülmesi beklenen bir özellik değildir?

- A) İspatlanmamış güvenilir olmayan bilgilere inanmaz.
- B) Zihninde birbirleriyle çelişik düşüncelere yer vermez.
- C) Duygular ve önyargılar karar verme sürecini etkiler.
- D) Eleştirel bir düşünme biçimine sahiptir.

### (483) SAĞLIK BİLGİSİ – 1

1. I. Unlu gıdalara ağırlık veren beslenme tarzı  
II. Bebeklerin kundaklanması  
III. Düzenli spor yapma

**Yukarıdakilerden hangileri, sağlığı olumsuz etkileyen alışkanlıklardandır?**

- A) Yalnız I
- B) I ve II
- C) II ve III
- D) I, II ve III

2. Aşağıdakilerden hangisi, sağlığa etki eden biyolojik etmenlerden biri değildir?

- A) Bitkiler
- B) Hayvansal gıdalar
- C) Mikroorganizmalar
- D) Gıda katkı maddeleri

3. Aşağıdakilerden hangisi, sağlığa etki eden bünyesel etmenlerdendir?

- A) İklim koşulları
- B) Giyim eşyaları
- C) Genetik bozukluklar
- D) İçme ve kullanma suları

4. Aşağıdaki su kirleticilerinin hangisi, bulaşıcı hastalıklara neden olur?

- A) Bakteri
- B) Cıva
- C) Arsenik
- D) Kurşun

5. Aşağıdakilerden hangisi, ikinci basamak tedavi hizmetleri sunan merkezlerdendir?

- A) Sağlık ocakları
- B) Kurum hekimlikleri
- C) Aile planlaması merkezleri
- D) Ağız ve diş sağlığı merkezleri

6. Aşağıdakilerden hangisi, rehabilitasyon sağlık hizmetlerindedir?

- A) Hepatit A aşısı uygulamaları
- B) Okullarda sağlık eğitimi verilmesi
- C) Engelliler için meslek edinme kursları
- D) Kırsalda erken tanı için, sağlık taramalarının yapılması

7. Aşağıda yüz, boyun ve koltuk altı temizliğiyle ilgili olarak verilenlerden hangisi yanlıştır?

- A) Burun kılları kopartılarak temizlenmelidir.
- B) İmkanımız varsa her sabah duş yapılmalıdır.
- C) Yüz temizliğinde burun ve kulakta temizlenmelidir.
- D) Kulak temizliğinde sivri uçlu cisimler kullanılmamalıdır.

## 1. OTURUM

8. Aşağıdakilerden hangisi, diş çürüklerinin oluşmasındaki üç temel etmenden birisi değildir?

- A) Duyarlı bir diş yüzeyi
- B) Dişlerdeki yiyecek artıkları
- C) Ağızda asit oluşumuna neden olan mikroorganizmaların varlığı
- D) Yemeklerden sonra dişlerin fırçalanması ve diş ipi kullanılması

9. I. Okuma yaparken ışığın sağ önden gelmesi  
II. Gözlerin ovuşturulmaması  
III. Kaliteli güneş gözlüklerinin kullanılması

Yukarıdakilerden hangileri, göz sağlığını korumak için yapılan doğru uygulamalardandır?

- A) Yalnız I
- B) I ve II
- C) II ve III
- D) I, II ve III

10. Aşağıdakilerden hangisi, sağlıkla ilgili uyulması gereken kuralardan biri değildir?

- A) Yüksek tonda ve kulaklıkla müzik dinlenilmelidir.
- B) Burun karıştırılmamalı ve burun içindeki kıllar kopartılmamalıdır.
- C) Hapşırırken, öksürürken kağıt mendille ağız ve burun kapatılmalıdır.
- D) Hareketli taşıtlarda ve yüzükoyun yatarken herhangi bir şey okunmamalıdır.

11. "Vücudumuzu oluşturan hücrelerin düzenli ve dengeli çalışması için besin öğeleri olan yağ, karbonhidrat, protein, vitamin ve minerallerden yeterli miktarda almalıyız."

Verilen bilgi, büyüme ve gelişmede rol oynayan aşağıdaki faktörlerden hangisiyle ilgilidir?

- A) Genetik
- B) Hormonal
- C) Beslenme
- D) Fiziki çevre

12. Çocuklar okulda veya evde dinlenirken ve ders çalışırken açlık hissettiğinde, tüketmek için aşağıdaki besinlerden hangilerini tercih etmelidir?

- A) Cips gibi yağlı ve tuzlu besinleri
- B) Taze sıkılmış meyve sularını
- C) Şeker ve şekerli besinleri
- D) Gazlı içecekleri

13. Aşağıdakilerden hangisi, çocuklarda akciğer hastalıklarına yol açabilir?

- A) Kirli hava ve sigara dumanı
- B) Dengeli ve yeterli beslenme
- C) Yeterli uyku ve dinlenme
- D) Spor ve beden eğitimi

14. I. Yutma  
II. Yakalama  
III. Emmeye başlama

Yukarıdakilerden hangileri bebeklerde görülen reflekslerdendir?

- A) Yalnız I
- B) I ve II
- C) II ve III
- D) I, II ve III

15. Aşağıdakilerden hangisi, sporun ergenlik dönemindeki gençte sağladığı katkılardan biri değildir?

- A) Toplumla uyumlu olması
- B) Kendi yeteneklerinden haberdar olması
- C) Kendini güvensiz ve yetersiz hissetmesi
- D) Bedensel enerjinin ve duygusal gerilimin boşaltılması

16. Yetişkinlik dönemi, aşağıdaki yaş aralıklarının hangisinde görülür?

- A) 0 - 12
- B) 6 - 12
- C) 21 - 65
- D) 65 - 85

17. Kişinin zihinsel ve duygusal yetilerinde, davranışlarında, çevreye uyumunda görülen bozuklukların incelenmesi, tanımlanması, sınıflandırılması, tedavisi ve korunması ile uğraşan tıbbi uzmanlık alanına ne ad verilir?

- A) Mongolizm
- B) Psikiyatri
- C) Homeostaz
- D) Farmakoloji

18. Sağlığa zararlı alışkanlıklarda, küçük dozlarda madde kullanımına bağlı olarak, kişinin bedeninde ortaya çıkan etkiyi yakalayabilmek için maddenin dozunu zaman içinde artırma gereksinimine ne ad verilir?

- A) Tolerans gelişimi
- B) Fiziksel bağımlılık
- C) Psikolojik bağımlılık
- D) Yoksunluk sendromu

19. Aşağıdakilerin hangisinde kişinin sigara kullanımına başlama riski en azdır?

- A) Örseleyici yaşam öyküsü olanlarda
- B) Sigara içilen ortamlardan uzak duranlarda
- C) Ağır çalışma koşullarına sahip olanlarda
- D) Yakın arkadaşları ve ailesi sigara içenlerde

20. Karaciğerde görülen, oluşmasında alkol ile uyuşturucu maddelerin de etkili olduğu hastalık aşağıdakilerden hangisidir?

- A) Gastrit
- B) Ülser
- C) Kangren
- D) Siroz

### (484) SAĞLIK BİLGİSİ - 2

1. Aşağıdakilerden hangisi çekirdek ailenin bireyidir?

- A) Evlenmiş hala
- B) Evlenmiş çocuklar
- C) Evlenmemiş çocuklar
- D) Evlenmemiş dayı

2. I. Çocuk sayısını belirlemek  
II. Doğumlar arasındaki aralığı belirlemek  
III. İstenmeyen gebelikleri sonlandırmak

Aile planlaması uygulamalarının amacı yukarıdakilerden hangileridir?

- A) I ve II
- B) I ve III
- C) II ve III
- D) I, II ve III

3. İnsanlarda normal gebelik süresi ortalama kaç gündür?

- A) 220
- B) 240
- C) 260
- D) 280



## 1. OTURUM

4. I. Gebelikte annenin radyasyon etkisi altında kalması  
II. Doğum sırasında bebeğin anne karnında oksijensiz kalması  
III. Gebelikte annenin sigara ve bağımlılık yapan maddeleri kullanması

**Gebelik dönemini etkileyen yukarıdaki faktörlerden hangileri, doğacak bebeğin beyinde kalıcı hasarlara yol açabilir?**

- A) Yalnız I      B) I ve II  
C) II ve III      D) I, II ve III

5. Gebe kadın gebeliği süresince yeterli ve dengeli beslemek zorundadır.

**Aşağıdakilerden hangisi, gebelikte yeterli ve dengeli beslenmenin amaçlarından biri değildir?**

- A) Gebe kadının fazla kilo almasını sağlamak  
B) Vücudundaki mineral depolarını dengede tutmak  
C) Anne karnındaki bebeğin sağlıklı büyüme ve gelişmesini sağlamak  
D) Kendi fizyolojik gereksinimlerini (enerji ve besin öğelerini) karşılamak

6. **Aşağıdakilerden hangisi erken doğum sancularına neden olmaz?**

- A) Bebeğin anne karnında ölümü  
B) Annenin ciddi bir hastalığının olması  
C) Annenin rahim yapısının kusurları  
D) Annenin yeterli ve dengeli beslenmesi

7. **Aşağıdakilerden hangisi, lohusalık dönemindeki annede gerçekleşmez?**

- A) Rahmin küçülmesi  
B) Kan testinde beta HCG'nin artmasının tespit edilmesi  
C) Adet kanamasına benzer bir kanamanın görülmesi  
D) Gebelikte oluşan tüm değişikliklerin gebelik öncesine dönmesi

8. I. Mikropsuz olması  
II. Bağışıklık maddeleri içermesi  
III. Vücut proteinlerine dönüşmesi

**Yukarıdakilerden hangileri anne sütünün özelliklerindedir?**

- A) Yalnız I      B) I ve II  
C) II ve III      D) I, II ve III

9. **Aşağıdakilerden hangisi, hastalık oluşumuna neden olan bendenel sebeplerden biri değildir?**

- A) Kalıtsal  
B) Hormonal  
C) Mikroorganizmalar  
D) Metabolik kökenli

10. **Aşağıdaki hastalıklardan hangisine kirli veya mikroplu, içme ve kullanma suları neden olur?**

- A) Tifo  
B) Guatr  
C) Obezite  
D) Down Sendromu

11. **Bir bulaşıcı hastalık etkeninin vücuda girmesiyle hastalığın ortaya çıkmasına kadar geçen süreye ne ad verilir?**

- A) Prion  
B) Portör  
C) Kuluçka süresi  
D) Bulaşma süresi

12. I. Nem  
II. Besin  
III. Uygun ısı

**Yukarıda verilenlerden hangilerinin bulunduğu ortamda, mikroorganizmalar çoğalarak sayıları hızla artar?**

- A) I ve II      B) I ve III  
C) II ve III      D) I, II ve III

13. **Aşağıdakilerden hangisi, bulaşıcı hastalıklardan korunma yolları içerisinde yer almaz?**

- A) Yerlere tükürülmemesi  
B) Peynirin yapıldıktan sonra bekletilmeden tüketilmesi  
C) Pastörize edilmiş sütlerin tüketilmesi  
D) Öksürürken, aksırırken ağızın kapatılması

14. **Bulaşıcı hastalıklardan korunmada, aşağıda verilenlerden hangisi sağlam kişiye yönelik önlemlerdedir?**

- A) Bağışıklama  
B) Tıbbi gözlem  
C) Ateş ve nabız takibi  
D) Hastanın tedavi edilmesi

15. **Aşağıdakilerden hangisi, sağlıklı insanlarda vücut ısısının normal değerinin altına inmesine neden olur?**

- A) Sıkı giyinmek  
B) Gece uyumak  
C) Egzersiz yapmak  
D) Sıcak içecekler içmek

16. **Aşağıdakilerden hangisi, zatlire hastalığı açısından riskli gruplar içerisinde değildir?**

- A) Prematüre bebekler  
B) Kronik hastalığı olan çocuklar  
C) Bağışıklık sistemi güçlü olanlar  
D) Sigara dumanına maruz kalan çocuklar

17. **İlk yardımcı, hasta ya da yaralının sağlık kuruluşuna sevkini sağlamak için aşağıdaki telefon numaralarından hangisini arar?**

- A) 112      B) 177  
C) 185      D) 110

18. **Aşağıdakilerden hangisi, ev kazalarından korunmak için yapılması gerekenlerden biri değildir?**

- A) Çocuk oyun alanlarının mutfak dışında olması  
B) Aydınlanmanın gölge yapacak tarzda olması  
C) Vantilatör varsa koruma kalkınının olması  
D) Banyo tabanının kaygan olması

19. **Yüksek derecede ısı ve nem nedeniyle vücut ısısının ayarlanamaması sonucu ortaya çıkan bozukluklara ne ad verilir?**

- A) Yaralanma  
B) Zehirlenme  
C) Sıcak çarpması  
D) Solunum durması

## 1. OTURUM

20. Doku ve organ nakillerinde, hastanın aşağıdaki durumlarından hangisi göz önünde bulundurulur?

- A) Irkı
- B) Cinsiyeti
- C) Zengin - fakir olması
- D) Tıbbi aciliyet durumu

### (491) TRAF. VE İLK YARD. – 1

1. Taşıt yolunun her iki yöndeki taşıt trafiği için kullanıldığı kara yoluna ne ad verilir?

- A) İki yönlü kara yolu
- B) Tek yönlü kara yolu
- C) Bölünmüş kara yolu
- D) Erişme kontrollü kara yolu

2. Trafik ortamını paylaşanlarda, aşağıdaki tutum ve davranışlardan hangisinin bulunması hâlinde, trafik düzeni ve güvenliği olumlu yönde etkilenir?

- A) Aşırı tepki gösterilmesi
- B) Birdenbire sinirlenilmesi
- C) Bencillikten uzak durulması
- D) Kaba ve saldırgan davranılması

3. Aşağıdakilerden hangisi, tedbirsiz ve saygısız araç sürmeye örnek değildir?

- A) Sigara külü ve izmaritlerini veya başka şeyleri yola atıp dökmek
- B) Su, çamur ve benzerlerini sıçratmak
- C) Korkutmak veya şaşırtmak
- D) Aşırı hızdan kaçınmak

- 4. • Taşıttan sarkmak
- Habersiz inmek-binmek

Yukarıda verilenlerin yapılması, trafik kazalarında rol oynayan faktörlerden hangisinin içinde değerlendirilir?

- A) Sürücü kusurları
- B) Yolcu kusurları
- C) Yaya kusurları
- D) Araç kusurları

5. Kara yollarında hareket halinde bulunan her araç çıkardığı gürültü, egzoz gazı, yağ ve yakıt sızıntısı ile çevreyi kirletici bir faktördür.

Buna göre aşağıdakilerden hangisinin yapılması, araçların çevre üzerindeki olumsuz etkisini en aza indirir?

- A) Araca gereğinden fazla yük yüklenmesi
- B) Uzun süreli duraklama ve park sırasında motorun çalışır hâlde tutulması
- C) Araç bakımlarının zamanında ve tam olarak yaptırılmasına özen gösterilmesi
- D) Bakım sırasında çıkan eski parça ve malzemelerin çevreye bilinçsizce bırakılması

6. Tabloda 2010 yılında ülkemizde meydana gelen trafik kazalarının sonuçlarına ait istatistikler görülmektedir.

I	Ölü sayısı	4.045
II	Yaralı sayısı	211.496
III	Hasar (TL)	593.647.946

Bu sonuçlardan hangileri, ülkemizin ekonomisini olumsuz yönde etkiler?

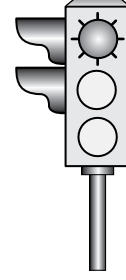
- A) Yalnız I
- B) I ve II
- C) II ve III
- D) I, II ve III

7. Trafik görevlisinin, geceleyin ışıklı işaret çubuğunu şekildeki gibi hareket ettirmesinin sürücüler için anlamı nedir?



- A) Dur işareti
- B) Geç işareti
- C) Yavaşlatma işareti
- D) Hızlandırma işareti

8. Aksine bir durum yoksa, şekildeki gibi ışıklı trafik işaret cihazında kırmızı ışığın yandığını gören sürücü ne yapmalıdır?



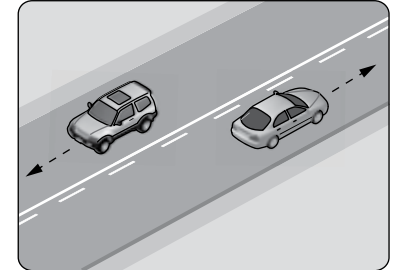
- A) Durup beklemeli
- B) Durmadan geçmeli
- C) Gelen araç yoksa dikkatli geçmeli
- D) Yaya geçebileceği için yavaş gitmeli

9. Şekildeki trafik işareti hangi yol bölümünde bulunur?



- A) Virajlı
- B) Eğimli
- C) Kaygan
- D) Kasıslı

10.



Şekildeki kara yolu bölümünde, yan yana çizilmiş kesik ve devamlı yol çizgileri sürücülere aşağıdakilerden hangisini bildirir?

- A) İki şeritli yolun tek şeritli yola dönüşeceğini
- B) Çift yönlü yoldan tek yönlü yola gireceğini
- C) Devamlı çizgi tarafındaki araçların şerit değiştirebileceğini
- D) Kesik çizgi tarafındaki araçların şerit değiştirebileceğini

## 1. OTURUM

11. Aşağıdakilerden hangisi, araçlarda olası bir kaza anında ölüm ve yaralanmaların en aza indirilmesi amacıyla alınan önlemlerdendir?

- A) Trafikteki motorlu araç sayısının artırılması
- B) Seyir esnasında emniyet kemeri kullanılması
- C) Aracın kapılarının açık tutulması
- D) Koyu renk giysiler giyilmesi

12. Aşağıdakilerden hangisi, güvenli yolculuk için alınması gereken önlemlerden biri değildir?

- A) İçkili olarak araç kullanılması
- B) Sürüş öncesi düzenli ve yeterli uyku uyuması
- C) Trafik yoğunluğu düşük olan alternatif güzergâhların seçilmesi
- D) Seyahatlerde özel araçlar yerine toplu taşıma araçlarının tercih edilmesi

13. Aksine bir işaret yoksa, yerleşim yeri dışındaki şehirler arası çift yönlü kara yollarında otomobiller için azami hız sınırı saatte kaç kilometredir?

- A) 50 B) 70 C) 80 D) 90

14. Önündeki aracı 80 km/saat hızla takip eden bir sürücü, arada en az kaç metre mesafe bırakmalıdır?

- A) 20 B) 30 C) 40 D) 50

15. Yayalar, karanlıkta ya da görüşün yetersiz olduğu durumlarda trafik kazalarından korunmak için aşağıdaki önlemlerden hangisini almak zorundadır?

- A) Trafik yoğunluğu az olan şeritten yürümek
- B) Üzerlerinde yansıtıcı aksesuar bulundurmak
- C) Yıllık hayat sigortası yaptırmak
- D) Koyu renk giysiler giymek

16. Yayalar, kara yolunda karşıdan karşıya güvenli geçiş yapabilmek için aşağıdakilerden hangisini kullanmaz?

- A) Okul geçitlerini
- B) Alt ve üst geçitleri
- C) Trafik ışıklarının bulunduğu yerleri
- D) İlerisi görülmeyen tepe üstü ve dönemeçli yolları

17. I. İtfaiye araçları  
II. Toplu taşıma araçları  
III. Yaralı ve acil hasta taşıyan araçlar

Verilenlerden hangileri, geçiş üstünlüğüne sahip araçlardandır?

- A) Yalnız I B) I ve II
- C) I ve III D) I, II ve III

18. I. Taşıt yolu üzerinde araçların sol kapılarından yolcu indirip bindirmek yasaktır.  
II. Araç sürücüleri araçlarını, gidiş yönlerine göre yolun en sağ kenarında durdurarak, yolcularını sağ taraftan indirmek ve bindirmek zorundadır.

Yukarıda yolcu bindirme ve indirme kurallarıyla ilgili olarak verilenler için ne söylenebilir?

- A) Yalnız I doğru
- B) Yalnız II doğru
- C) Her ikisi de doğru
- D) Her ikisi de yanlış

19. Motorlu bisiklet ve motosikletlerin sürülmesi sırasında sürücülerin aşağıdakilerden hangisini kullanması zorunludur?

- A) Koruma başlığı ve koruma gözlüğü
- B) Emniyet kemeri
- C) Rüzgârlık
- D) Eldiven

20. Aşağıdaki durumların hangisinde araç trafikten men edilir?

- A) Sürücünün, sürücü belgesi yanında yoksa
- B) Zorunlu mali sorumluluk sigortası yoksa
- C) Araç sahibi tarafından kullanılmıyorsa
- D) Kasko sigortası yoksa

## (492) TRAF. VE İLK YARD. – 2

1. Aşağıdakilerden hangisi, hayat kurtarma zinciri içinde yer almaz?

- A) Kazaya karışan araçların hasar durumlarının tespit edilmesi
- B) Ambulans ekiplerince müdahaleler yapılması
- C) Olay yerinde Temel Yaşam Desteği yapılması
- D) Sağlık kuruluşuna haber verilmesi

2. Aşağıdakilerden hangisinin araç ilk yardım çantasında bulundurulması zorunludur?

- A) Oksijenli su
- B) Kâğıt mendil
- C) Çengelli iğne
- D) Ağrı kesici ilaç

3. Kaza yapan aracın ön ve arkasına, diğer araç sürücülerini yavaşlatmak ve olası bir kaza tehlikesini önlemek için aşağıdakilerden hangisi yerleştirilmelidir?

- A) Yangın tüpü
- B) Üçgen reflektör
- C) Beyaz renkte taş
- D) Teneke veya bidon gibi malzemeler

4. I. El freninin çekilmesi  
II. Kontağın kapatılması  
III. LPG'li ise tüpün vanasının kapatılması

Verilenlerden hangileri, kazaya uğrayan bir araçta alınması gereken güvenlik önlemlerindendir?

- A) Yalnız I B) I ve II
- C) II ve III D) I, II ve III

5. İlk yardım girişimlerinin amacı aşağıdakilerden hangisidir?

- A) Hastaları tedavi etmek
- B) Trafik kazalarını önlemek
- C) Temel yaşam desteği sağlamak
- D) Bulaşıcı hastalıklardan korunmayı sağlamak

## 1. OTURUM

6. Kazazedede boyun travması yoksa, hava yolunu açmak için verilebilecek en uygun baş pozisyonu aşağıdakilerden hangisidir?

- A) Sırtüstü yatırılmış kazazedenin çenesi kaldırılırken diğer el ile alından bastırılarak başın geriye alınması
- B) Çenenin göğüs kemiğine değecek şekilde başın öne eğilmesi
- C) Başın sert bir zeminde düz pozisyonda olması
- D) Başın sert bir zeminde hafif yana dönük olması

7. Aşağıdaki durumların hangisinde suni solunum yapılır?

- A) Kalbi düzensiz çalışanlarda
- B) Öksürük ve hıçkırığı olanlarda
- C) Göğüs kafesi düzenli olarak inip kalkanlarda
- D) Bak-dinle-hisset yöntemi ile solunumu saptanamayanlarda

8. I. 18 yaşını doldurmuş olmalı  
II. Akli dengesi yerinde olmalı  
III. Bağış sonrasında maddî çıkar beklemeli

**Organ bağışi yapacak kişilerle ilgili olarak verilenlerden hangisi doğrudur?**

- A) Yalnız I
- B) I ve II
- C) II ve III
- D) I, II ve III

9. Aşağıdakilerden hangisi, kazazedenin solunum yollarının tıkanması durumunda ortaya çıkar?

- A) Kandaki oksijen oranının artması
- B) Oksijenin akciğerlere ulaşamaması
- C) Kandaki karbondioksit oranının düşmesi
- D) Dokuların oksijenlenmesinin kolaylaşması

10. Aşağıdakilerden hangisi, atardamar kanamasının özelliklerinden biri değildir?

- A) Kanın açık kırmızı renkte olması
- B) Kısa sürede kaybedilen kanın fazla olması
- C) Kanamanın yavaş ve sızıntı şeklinde olması
- D) Kanamanın kesik kesik ve fışkırır şekilde olması

11. Burun kanaması olan bir kazazedeye aşağıdaki pozisyonlardan hangisi verilmelidir?

- A) Oturuş
- B) Baş-çene
- C) Sırtüstü yatış
- D) Yüzüstü yatış

12. Omurga yaralanmalarında geçici veya kalıcı felçlerin oluşmasının nedeni aşağıdakilerden hangisidir?

- A) Kazazedenin hareketsiz hâle getirilmesi
- B) Kazazedenin sırtüstü, düz pozisyonda yatırılması
- C) Taşıma esnasında baş-boyungövde ekseninin korunması
- D) Omurliliğin baskı altında olması ya da zedelenmesi

13. Göze toz gibi küçük madde kaçması durumunda, uygulanacak ilk yardımla ilgili olarak aşağıdakilerden hangisi doğrudur?

- A) Etkilenen göz sirkeli su ile yıkanır.
- B) Kazazedenin gözünü ovması önerilir.
- C) Nemli, temiz bir bezle çıkarılmaya çalışılır.
- D) Kazazedenin gözünü kırıştırmaması engellenir.

14. • Derinin üst ve alt tabakası yanmış  
• Deride içi su dolu kabarcıklar oluşmuş

**Verilen bulgular hangi tür yanık vakalarında görülür?**

- A) 1. derece, yüzeysel yanık
- B) 2. derece, orta derinlikte yanık
- C) 3. derece, derin yanık
- D) 3. derece, yumuşak doku yanığı

15. Kırığı oluşturan kuvvet sadece kemiği kırmayıp, beraberinde kemiğin etrafındaki damarları, sinirleri, tendonları, kasları, deri ve komşu organları da yaralayabilir.

**Buna göre kırığı olan ya da kırık şüphesi bulunan kazazedeye, aşağıdakilerden hangisinin yapılması doğru bir ilk yardım uygulaması olur?**

- A) Kırık bölgenin hareketsiz hale getirilmesi
- B) Kırık bölge hareketsiz hale getirilmeden taşıma yapılması
- C) Kol ya da bacakta bozulmuş şeklin düzeltilmeye çalışılması
- D) Kazazedenin oturmasına ya da sağa sola kıvılcıdamasına izin verilmesi

16. Yutkunma, öksürük gibi reflekslerin ve dışarıdan gelen uyarılara karşı tepkinin azalması ya da yok olması ile ortaya çıkan uzun süreli bilinç kaybına ne denir?

- A) Koma
- B) Sara
- C) Bayılma
- D) Halsizlik

17. Egzoz gazı ile olan zehirlenmeler, aşağıdaki zehirlenme türlerinden hangisinin içinde yer alır?

- A) Cilt
- B) Besin
- C) Sindirim
- D) Solunum

18. Aşağıdakilerden hangisi, akrep sokması durumunda yapılması gereken bir ilk yardım uygulamasıdır?

- A) Kan dolaşımını engellemeyecek şekilde bandaj uygulanması
- B) Sokmanın olduğu bölgenin hareket ettirilmesi
- C) Yaraya sıcak uygulama yapılması
- D) Kazazedenin ayakta tutulması

## 1. OTURUM

19. Aşağıdakilerden hangisi, yaralının taşınması sırasında ilk yardımcının uyması gereken kurallardandır?
- A) Kendi kapasitesinden fazla ağırlık taşımalı  
B) Ani dönme ve bükülme gibi hareketler yapmalı  
C) Kendinin ve yaralının güvenliğinden emin olmalı  
D) Yangın, göçük ve patlama tehlikesinin devam ettiği durumları önemsememeli
20. Yaralının araçtan çıkarılmasında - - - - olarak adlandırılan teknikten yararlanır.
- Verilen ifadede boş bırakılan yere aşağıdakilerden hangisi yazılmalıdır?**
- A) İtfaiyeci yöntemi  
B) Rentek manevrası  
C) Heimlich manevrası  
D) Ayak bileklerinden sürükleme yöntemi

### (500) İNGİLİZCE – 6

1 - 20. sorularda boş bırakılan yere uygun gelen kelime ya da ifadeyi işaretleyiniz.

1. It hasn't been snowing in Ankara - - - - .
- A) lately                      B) since  
C) soon                         D) for
2. I will be having an important meeting this time - - - - .
- A) yesterday  
B) last year  
C) next week  
D) two days ago
3. Cem Yılmaz is - - - - a smart and funny comedian.
- A) so                              B) many  
C) much                         D) quite

4. The little girl felt - - - - lonely at home that she started to cry.
- A) so                              B) very  
C) many                         D) much
5. He is far - - - - now and I miss him very much.
- A) here                            B) away  
C) there                         D) nowhere
6. Mert dislikes music. He - - - - plays guitar.
- A) frequently                 B) always  
C) never                         D) usually
7. The singer sang the song - - - - and won the award.
- A) simply                        B) angrily  
C) rarely                         D) excellently
8. Alice found herself in a place - - - - animals were able to speak.
- A) who                            B) where  
C) whose                        D) which
9. I met a man - - - - can speak six languages.
- A) who                            B) whose  
C) where                         D) which
10. - - - - she was watching a movie, she fell asleep.
- A) After                         B) While  
C) Before                        D) As soon as
11. - - - - he was overweight, he could run faster than his rivals.
- A) While                         B) Because  
C) Although                     D) As soon as

12. - - - - I use your phone? Mine is out of order.
- A) Have                         B) Could  
C) Would                        D) Should
13. There - - - - be a big forest nearly fifty years ago, but now there are lots of blocks instead.
- A) could                         B) should  
C) used to                        D) might
14. Melis has long hair now. When she was a high school student, she - - - - have so long hair.
- A) didn't use to                B) might not  
C) used to                        D) could
15. By this time tomorrow, we - - - - an English exam at school.
- A) had  
B) have  
C) to have  
D) will be having
16. I think you can lose weight if you - - - - exercises regularly.
- A) did                             B) does  
C) do                                D) to do
17. If I - - - - you, I - - - - buy this black jacket. It fits you.
- A) was/can                      B) were/would  
C) were/can                     D) was/would
18. If I - - - - hard, I would have got high marks in the exam.
- A) study                         B) studying  
C) to study                        D) had studied
19. - - - - if I went to his wedding ceremony.
- A) I would wear a red dress  
B) I will have my own car  
C) I can help your brother  
D) I could have married

## 1. OTURUM

20. If you had asked me, - - - - .

- A) it starts to burn easily
- B) he could pass the exam
- C) they can go to the theatre
- D) I would have lent you money

(500) ALMANCA – 6

1 - 20. sorularda boş bırakılan yere uygun gelen kelime ya da ifadeyi işaretleyiniz.

1. Alle denken, wir - - - - sehr reich (Konjunktiv I)

- A) sei                      B) war
- C) seien                  D) wären

2. Sie hat das Auto nicht - - - - (sehen, Partizip Perfekt)

- A) sehen                  B) sieht
- C) sah                     D) gesehen

3. Das Buch, - - - - sie gelesen hat, war sehr interessant.

- A) der                      B) das
- C) die                      D) dessen

4. Ich mag Autos, - - - - Sitze aus Leder sind.

- A) deren                  B) dessen
- C) denen                 D) der

5. Das Kleid, - - - - meine Mutter gestern trug, war sehr teuer (Akkusativ).

- A) der    B) die    C) das    D) den

6. Man - - - - (kaufen) Kuchen und Getränke. (Konjunktiv I)

- A) kaufen                B) kaufe
- C) gekauft               D) kaufst

7. Hallo Ahmet! Bist du wieder zurück?

Ich dachte du - - - - noch in Istanbul. (Konjunktiv II)

- A) wärst                  B) bist
- C) hättest                D) warst

8. A: Hallo Susanne! - - - - .  
B: Ein Buch.

- A) Was isst du?
- B) Was liest du?
- C) Was trinkst du?
- D) Was machst du?

9. Dienstag, Mittwoch, - - - -

- A) Montag                B) Freitag
- C) Donnerstag          D) Samstag

10. Die Frau, - - - - ein rotes Kleid trägt, ist meine Tante.

- A) der                      B) das
- C) dem                     D) die


11. Der Mann, - - - - dieses Auto gehört, kommt aus Istanbul.

- A) dem                     B) dessen
- C) denn                    D) den

12. Thomas und Claudia sind Gastschüler. Sie kommen - - - - Deutschland.

- A) zum                     B) an
- C) am                      D) aus

13.



A: Wo ist die Tasche?  
B: Die Tasche ist - - - -

- A) unter dem Bett
- B) neben dem Bett
- C) auf dem Bett
- D) zwischen den Betten

14. Man - - - - (fliegen) von Ankara nach Izmir. (Konjunktiv I)

- A) fliege                  B) fliegen
- C) flog                     D) geflogen

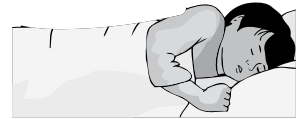
15. Nilgün wird morgen nicht in die Schule - - - -

- A) gehen                B) geht
- C) gegangen            D) ging

16. Ich bin nicht - - - - stark - - - - Hasan.

- A) als / wie              B) so / als
- C) wie / so                D) so / wie

17.



Resimdeki çocuk ne yapıyor?  
Er - - - -

- A) spielt                  B) schläft
- C) redet                  D) singt


18. Der Mann, - - - - eine Brille trägt, ist mein Onkel.

- A) die    B) der    C) das    D) den

19. A: Hallo Fatma! - - - -  
B: Eine Suppe.

- A) Was liest du?
- B) Was hörst du?
- C) Was schreibst du?
- D) Was kochst du?

20.



Resimdeki kız ne yapıyor?

- A) Sie liest ein Buch.
- B) Sie schreibt einen Brief
- C) Sie schaut einen Film an.
- D) Sie backt einen Kuchen.

## 1. OTURUM

(500) FRANSIZCA – 6

1 - 18. sorularda boş bırakılan yere uygun gelen kelime ya da ifadeyi işaretleyiniz.

1. La sœur de ma mère est ma  
-----.

- A) oncle B) grand-mère  
C) nièce D) tante

2. ----- buvons deux litres d'eau  
par jour.

- A) Elle B) Nous  
C) Vous D) Ils

3. Filiz est la sœur de Kenan et  
Kenan est ----- de Filiz.

- A) la belle-fille B) l'oncle  
C) le cousin D) le frère

4. Hier, ils ----- allés au cinéma.

- A) ont B) sont  
C) vont D) dont

5. A: Tu es mariée?

B: Oui, je suis ----- . J'ai deux  
enfants.

- A) mariée B) fiancée  
C) célibataire D) veuve

6. L'école est ----- .

- A) un lieu de travail  
B) un lieu de repos  
C) un lieu de vacances  
D) un lieu pour le mariage

7. Quand tu prends ta voiture,  
----- ta ceinture.

- A) a mis B) mettre  
C) mets D) met

8. Hakan, on traverse la rue:  
-----moi la main.

- A) donné B) ayant donné  
C) donner D) donne

9. L'an dernier, je suis allé -----  
quelques jours de vacances à  
Fethiye.

- A) sortir B) passer  
C) écouter D) finir

10. Il pleut: ----- votre parapluie.

- A) suis B) soyez  
C) mange D) prenez

11. Fatmagül fait la cuisine en -----  
un peu de café.

- A) manges B) boire  
C) manger D) buvant

12. En venant, ----- un litre de lait.

- A) achète B) acheter  
C) a acheté D) acheté

13. Monique aime ----- avec son  
chien dans le parc.

- A) se promener  
B) comprendre  
C) s'appeler  
D) connaître

14. ----- Turquie, les élèves ne vont  
pas ----- l'école le samedi et le  
dimanche.

- A) Au / en B) Aux / au  
C) À / en D) En / à

15. Nous passons à table,  
-----vous les mains.

- A) laver B) lavez  
C) travaillez D) regarde

16. Ne mange pas avec ----- .

- A) le dimanche B) le chapeau  
C) les doigts D) les fleurs

17. Ne ----- couche pas sur les  
fauteuils.

- A) tu B) te C) moi D) toi

18. Le gâteau au chocolat est  
préparé ----- ma femme.

- A) de B) des C) par D) en

19 - 20. sorularda verilen  
cümlelerin Türkçe dengini  
işaretleyiniz.

19. Cette voiture rouge a été lavée  
par mon père.

- A) Şu kırmızı arabayı babam  
satin alacak.  
B) Bu kırmızı araba babam  
tarafından yıkandı.  
C) Kırmızı arabasını hep babam  
yıkıyor.  
D) Şu kırmızı arabayı oğlum  
onarmaya çalışıyor.

20. Allez donc jouer au tennis  
demain.

- A) Yarın akşam tenis oynamaya  
gideceğiz.  
B) Yarın sabah tenis oynayalım.  
C) Yarın tenis oynamaya  
gitsenize.  
D) Yarın sabah tenis oynamaya-  
cağız.

(501) İNGİLİZCE – 7

1 - 20. sorularda boş bırakılan  
yere uygun gelen kelime  
ya da ifadeyi işaretleyiniz.

1. Yunus has bought a new mobile  
phone. He is very pleased -----  
it.

- A) from B) at  
C) for D) with

2. My new car is very different  
----- my old car.

- A) on B) for  
C) from D) with

3. Rize is famous ----- its tea.

- A) of B) for  
C) in D) at

## 1. OTURUM

4. When I was young, I was afraid  
---- dogs.

- A) in                    B) for  
C) with                D) of

5. I haven't tasted Italian food  
-----.

- A) yet                    B) ever  
C) never                D) already

6. When my friends came to help  
me, I had ---- finished all work.

- A) ever                    B) yet  
C) already                D) never

7. Aylin studied her lesson ----  
she had washed the dishes.

- A) before                B) after  
C) while                D) when

8. Murat had finished his project  
---- he went out.

- A) before                B) after  
C) while                D) as soon as

9. We need to learn English ----  
have a good job.

- A) nor                    B) because  
C) for                    D) in order to

10. I couldn't see Deniz anywhere.  
Where ---- she ----?

- A) has/being            B) have/been  
C) has/been            D) have/being

11. When I got there, the children  
---- playing in the garden.

- A) had been            B) have been  
C) will be                D) are

12. My mother has never ---- a  
foreign country before.

- A) visit                    B) visits  
C) visited                D) visiting

13. Your hands are dirty. What  
have you been ---- ?

- A) do                    B) did  
C) done                D) doing

14. My father had ---- me some  
money before I left home.

- A) giving                B) given  
C) gave                D) give

15. Ali: "We may go to the party."

Ali said that they ---- go to the  
party.

- A) could                B) would  
C) might                D) had to

16. Özlem: "I'm going to fly to Antalya  
tomorrow."

Özlem said that she was going  
to fly to Antalya ----.

- A) the next day  
B) the year before  
C) the previous month  
D) the following week

17. When they went home, it was  
empty. ----.

- A) Somebody had robbed them  
B) I had done a serious mistake  
C) Our car had broken down  
suddenly  
D) We had known each other for  
years

18. Tom was out of breath. ----.

- A) He is washing the car  
B) He had been running  
C) He has been swimming  
D) He will be playing football

19. Serhat: "I've seen this film  
before."

Serhat said that ----.

- A) he had seen that film before  
B) he was going to see a new film  
C) he would see that film with  
friends  
D) he could see the film at the  
cinema

20. Cem: "Where will you go at the  
weekend?"


Cem asked me ----.

- A) how much money I could spend  
for the gift  
B) how many lessons I had got  
that semester  
C) what I had done the previous  
day  
D) where I would go at the weekend

(501) ALMANCA – 7

1 - 20. sorularda boş bırakılan  
yere uygun gelen kelime  
ya da ifadeyi işaretleyiniz.

1.



Das Auto ist ---- dem Haus.

- A) hinter                B) neben  
C) vor                    D) unter

2. Er hat ---- Brille geputzt.

- A) sein                    B) seine  
C) dir                    D) ihren

3. Gegenteil von "dick" ist ----.

- A) dünn                    B) groß  
C) klein                    D) fett

4. ---- wird in Spanien gesprochen.

- A) Türkisch            B) Deutsch  
C) Französisch        D) Spanisch

5. Welches Körperteil  
ist das?

- A) Finger  
B) Fuß  
C) Bein  
D) Arm





## 1. OTURUM

6. "Das Haus" kelimesinin çoğulu aşağıdakilerden hangisidir? (Pluralform)

- A) die Haus    B) die Hause  
C) die Häuser    D) des Hause

7. Was hat sie?

- A) Bauchschmerzen  
B) Kopfschmerzen  
C) Halsschmerzen  
D) Ohrenscherzen



8. "Jung" sıfatının karşıtı aşağıdakilerden hangisidir?

- A) klein    B) groß  
C) alt    D) neu

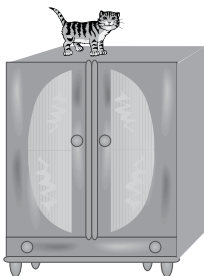
9.



Was macht der Junge?

- A) fliegen    B) laufen  
C) tanzen    D) sitzen

10.



Wo ist die Katze?

- A) Im Schrank  
B) Auf dem Schrank  
C) Unter dem Schrank  
D) Neben dem Schrank

11. A: Hat - - - - das Hotel in Antalya gefallen?

B: Ja, es hat uns sehr gefallen.

- A) sie    B) euch  
C) ihr    D) wir

12. - - - - Kleid wirst du heute Abend anziehen?

- A) Was    B) Welche  
C) Welches    D) Wem

13. Wir - - - - unser Klassenzimmer.

- A) geputzt    B) putzte  
C) putzt    D) putzen

14. Ich esse einen Kebab, - - - - ich Hunger habe.

- A) denn    B) weil  
C) aber    D) so

15. Erdbeeren, Äpfel und Orangen sind - - - -

- A) Obst    B) Gemüse  
C) Getränke    D) Nudeln


16. Ich - - - - Angst vor Hunde - - - - ich klein war.

- A) bin / als    B) haben / wenn  
C) hatte / als    D) gehabt / wenn

17. Gegenteil von "reich" ist - - - -

- A) dick    B) dünn  
C) schnell    D) arm

18.



Die Bücher sind - - - - Regal.

- A) um    B) im  
C) auf    D) über

19. Ali spielt mit - - - - Hund.

- A) seinem    B) sein  
C) seine    D) seinen

20. - - - - Tür, - - - - Fenster, - - - - Tisch

- A) das / die / der  
B) der / die / das  
C) die / das / der  
D) das / der / die

### (501) FRANSIZCA – 7

1 - 18. sorularda boş bırakılan yere uygun gelen kelime ya da ifadeyi işaretleyiniz.

1. - - - - attend le bus avec des amis.

- A) Je (J')    B) Tu  
C) Elle    D) Vous

2. Il fait froid, - - - - le métro.

- A) pris    B) prenez  
C) descends    D) descendu

3. A: Pourquoi tu n'es pas venu au lycée?

B: - - - - je suis allé chez le dentiste.

- A) Quand    B) Chez qui  
C) Parce que    D) Comment

4. Le restaurant - - - - à 10 heures.

- A) ouvre    B) cherche  
C) traverse    D) mange

5. - - - - du sport pour être en bonne santé.

- A) Donne    B) Allez  
C) Nage    D) Faites

6. Ahmet ne prend - - - - l'avion, il préfère le train.

- A) personne    B) rien  
C) souvent    D) jamais

## 1. OTURUM

7. **A: Paul téléphone souvent à son frère?**  
**B: Non, il ---- téléphone parfois.**
- A) le B) leur  
C) lui D) la
8. **A: Tu connais cette chanteuse?**  
**B: Oui, je ---- connais.**
- A) la B) leur C) lui D) le
9. **Demet ---- le verre sur sa robe blanche.**
- A) est versé B) a versé  
C) a été versé D) as versé
10. **Je vais ---- quand je veux prendre un train.**
- A) à la gare B) au théâtre  
C) au marché D) à la piscine
11. **J'ai rencontré tes frères au café et je ---- ai parlé.**
- A) les B) leur C) lui D) le
12. **Nous ---- de bonnes vacances à Çeşme.**
- A) sommes passés  
B) sont passées  
C) ont passé  
D) avons passé
13. **Ali adore le football. Il va souvent ----.**
- A) au marché  
B) au stade  
C) à la charcuterie  
D) à l'épicerie
14. **Quand il aura dix-huit ans, il devra suivre des cours dans ----.**
- A) une auto-école  
B) une école maternelle  
C) une école primaire  
D) un défilé de mode

15. **Je te présente Tanju ---- est mon ami d'enfance.**
- A) que B) où C) qui D) dont
16. **Il n'a pas fait ses devoirs, car ---- un bon film à la télé.**
- A) il pleuvait  
B) il y avait  
C) il faisait froid  
D) c'était
17. **A: Je cherche un CD de Neşet Ertaş.**  
**B: Pardon, qu'est-ce que tu dis?**  
**A: Je dis que (qu') ----.**
- A) je cherche un CD de Neşet Ertaş  
B) il cherche son CD  
C) j'ai cherché un CD de Neşet Ertaş  
D) elle va chercher son CD
18. **Sylvie : J'ai vingt ans.**  
**Ayten : Pardon, qu'est-ce qu'elle dit?**  
**Deniz : Elle dit que (qu') ----.**
- A) il avait vingt ans  
B) elle a vingt ans  
C) il aura vingt ans  
D) elle aura vingt ans

19 - 20. sorularda verilen resme göre doğru ifadenin bulunduğu seçeneği işaretleyiniz.

19.



Elle est ----.

- A) énervée B) sérieuse  
C) pessimiste D) gaie

20.



Il a ---- et il porte ----.

- A) une moustache / des lunettes  
B) de la barbe / une montre  
C) les cheveux longs / des boucles d'oreilles  
D) de belles dents / des colliers

(502) İNGİLİZCE – 8

1 - 20. sorularda boş bırakılan yere uygun gelen kelime ya da ifadeyi işaretleyiniz.

1. ---- the end of this year, we will have started the project.
- A) In B) On  
C) Of D) By
2. **Aydın must study as hard ---- he can in order to pass the exam.**
- A) if B) so  
C) as D) on
3. **Take a map with you ---- you can find your way easily.**
- A) because B) so that  
C) whenever D) after
4. **She failed the exam ---- that she didn't study regularly.**
- A) due to the fact  
B) although  
C) in order to  
D) wherever
5. **Don't worry! You will be walking ----.**
- A) yet B) after  
C) before D) soon

## 1. OTURUM

6. This time - - - -, we will be celebrating our 25<sup>th</sup> wedding anniversary.

- A) yesterday    B) next month  
C) last year    D) a week ago

7. If I miss the class, the teacher - - - - angry with me.

- A) is getting    B) will get  
C) had got    D) would get

8. The conference - - - - in Glasgow.

- A) is holding    B) had held  
C) will be held    D) used to hold

9. Bora - - - - by a stranger yesterday.

- A) called    B) will be calling  
C) is called    D) was called

10. By the time Snow White comes home, the Seven Dwarves - - - - to the cave.

- A) will be going  
B) will have gone  
C) are going to go  
D) had been going

11. The glass is - - - - by stone.

- A) break    B) broke  
C) broken    D) breaking

12. I - - - - waiting for you at the airport when you arrive.

- A) have been    B) will be  
C) was    D) am

13. We would sail all around the world if we - - - - a yacht.

- A) had  
B) have  
C) would have  
D) would have had

14. Will you have - - - - doing your homework when I arrive home?

- A) finish    B) to finish  
C) finished    D) finishing

15. The ship - - - - by the storm last month.

- A) would damage  
B) was damaged  
C) damaged  
D) damages

16. Less money - - - - this year.

- A) would have spent  
B) will be spending  
C) is being spent  
D) had been spent

17. I'll have gone far away by the time - - - - .

- A) you read this letter  
B) you are cooking dinner  
C) you visited your family  
D) you have cleaned your car

18. If you work harder, - - - - .

- A) you are in hurry  
B) you came home late  
C) you would earn more  
D) you will be successful

19. If it hadn't rained all weekend, - - - - .

- A) they would prepare a party  
B) she often watches the news  
C) we would have gone trekking  
D) you will have a driving license

20. A: - - - - ?

B: To the library.

- A) Where will you be going after school  
B) What will you be doing when you graduate  
C) What time will you be leaving the office  
D) How will you be travelling to your village

(502) ALMANCA – 8

1 - 20. sorularda boş bırakılan yere uygun gelen kelime ya da ifadeyi işaretleyiniz.

1. Die Frau, - - - - dort sitzt, ist eine Französin.

- A) die    B) das  
C) der    D) sie

2. "Kızılırmak" ist ein - - - - in der Türkei.

- A) Stadt    B) Berg  
C) Dorf    D) Fluss

3. Wir - - - - in der Schule.

- A) lernt    B) lernen  
C) gelernt    D) lernte

4. Der Berg Uludağ ist der - - - - Berg der Türkei.

- A) tiefste    B) länger  
C) schönste    D) kleine

5. - - - - Maschinenbau studiert.

- A) Ich habe    B) Ich werde  
C) Ich möchte    D) Ich will

6. Eine Brücke - - - - .

- A) studieren    B) lesen  
C) gehen    D) bauen

7. - - - - ich viel Geld, - - - - ich ein Flugzeug kaufen.

- A) Wäre /wenn  
B) Wenn / hätte  
C) Hätte / würde  
D) Würde / hätte

8. Was macht ein Reiseleiter?

- A) Filme drehen  
B) Touristen führen  
C) Kinder erziehen  
D) Kranke heilen


## 1. OTURUM

9. Was ist er von Beruf?



- A) Koch            B) Pilot  
C) Lehrer        D) Arzt

10. Was ist das?



- A) Ein Ort  
B) Eine Burg  
C) Eine Schule  
D) Ein Krankenhaus

11. Nicole kommt aus Frankreich, Thomas aus England und Petra aus Deutschland.

**A: - - - - .**  
**B: Thomas.**

- A) Wer kommt aus England?  
B) Wann kommt er aus England?  
C) Wie kommt er aus England?  
D) Warum kommt er aus England?

12. - - - - du aufgepasst hättest,  
- - - - du den Fehler nicht machen.

- A) Wann / dann  
B) Wenn / würdest  
C) Würdest / wenn  
D) Dann / wann

13. Der Mann, - - - - einen Regenmantel trägt, ist der Rektor.

- A) das    B) die    C) der    D) mit

14. Ich glaube Ahmet - - - - heute kommen, - - - - für die Prüfung zu lernen.

- A) werden / damit  
B) damit / wird  
C) wird / um  
D) um / werden

15. - - - - du diese Schuhe kaufen?

- A) Willst            B) Will  
C) Wollen        D) Wollte

16. Mein Onkel - - - - seit 20 Jahren bei einer Autofirma.

- A) arbeiten        B) arbeitet  
C) gearbeitet    D) arbeitete

17. A: - - - - ist Eskişehir von Ankara entfernt?

**B: Es ist 230 km entfernt.**

- A) Wo                B) Wie lange  
C) Wie weit        D) Wie viel

18. Sie - - - - noch keine 18 Jahre alt.

- A) habe              B) bin  
C) bist                D) ist

19. Die rot- - - - - Blumen - - - - Garten sind sehr schön.

- A) -es / im        B) -en / in der  
C) - - / in die    D) -en / im

20. Ich frage meine Mutter, ob ich ins Kino gehen - - - - .

- A) darf                B) mögen  
C) dürfen            D) sollen

(502) FRANSIZCA – 8

1 - 18. sorularda boş bırakılan yere uygun gelen kelime ya da ifadeyi işaretleyiniz.

1. - - - - ne m'a rien dit.

- A) Tu                B) Vous  
C) Je (J')        D) Il

2. Avant de sortir, - - - - les lumières.

- A) éteignez        B) croyons  
C) parlons        D) appelez

3. Ce soir, on va au cinéma. N'oublie pas de (d') - - - - trois tickets.

- A) entendre        B) habiter  
C) acheter        D) respecter

4. Le café - - - - à 23 heures.

- A) ferme            B) cherche  
C) bois              D) mange

5. J'ai vu le film Pek Yakında - - - - je trouve super.

- A) qui                B) que  
C) où                D) dont

6. A: Qu'est-ce que tu prends comme boisson?

**B: Je prends - - - - .**

- A) de la salade  
B) de l'eau minérale  
C) des olives  
D) du pain complet

7. A: Ertan téléphone souvent à - - - - ?

**B: Oui, il lui téléphone souvent.**

- A) ses parents    B) tes cousins  
C) son père        D) leurs enfants

## 1. OTURUM

8. A: Et toi, tu ne prends pas d'omelette?  
B: Si, mais je peux - - - - manger une fois par semaine.

A) les B) y C) lui D) en

9. Les Turcs mangent 7 kilos de viandes - - - - personne - - - - ans.

A) en / dans B) par / par  
C) en / en D) dans / en

10. Je ne suis jamais allé à Istanbul mais mon oncle - - - - habite.

A) y B) en C) par D) le

11. Erol a rendez-vous à 15 heures. Il est 15h15.

Il est - - - - .

A) à l'heure B) à minuit  
C) en avance D) en retard

12. Elle a cassé les verres - - - - sa maladresse.

A) à cause de B) grâce à  
C) parce que D) pourquoi

13. Pour maigrir, il faut - - - - .

A) prendre des kilos  
B) manger des gâteaux  
C) faire du sport  
D) manger beaucoup

14. - - - - Esin reviendra en Turquie.

A) Avant-hier  
B) L'année prochaine  
C) Le mois dernier  
D) Hier

15. A: Tu viens à ma petite fête ?  
B: - - - - .

A) Si je vais mieux, je veux venir  
B) Si j'ai faim, je mange du chocolat  
C) Si j'ai soif, je veux boire du lait  
D) S'il y a un bon film, je veux aller

16. Il n'a pas fait ses devoirs, car - - - - un bon film à la télé.

A) il faisait froid  
B) c'était  
C) il pleuvait  
D) il y avait

17. Sophie : Marc, je n'ai plus de yaourt, tu peux aller - - - - ?

Marc : D'accord, il faut autre chose?

Sophie : Oui, du sucre pour le gâteau.

A) au supermarché  
B) à la pharmacie  
C) à la librairie  
D) à la mairie

18. Tu peux conduire mais il faut être - - - - .

A) gras B) distraite  
C) attentif D) marron

19- 20. sorularda verilen resme göre cümlede boş bırakılan kısmı tamamlayan sözcük ya da ifadenin bulunduğu seçeneği işaretleyiniz.

19.



M. Dupont est - - - - qui n'a pas d'enfants.

A) un vieil homme  
B) une jeune femme  
C) une vieille femme  
D) un jeune homme

20.



Quand il fait beau, - - - - .

A) ils vont à la chasse avec des chats  
B) elle promène son chien dans le parc  
C) elle va à la poste avec ses chiens  
D) ils se promènent toujours dans le parc

(533) HZ. MUHAMMED'İN HAY. – 3

1. Aşağıdakilerden hangisi "Cahiliye Dönemi'nin" genel özelliklerinden biri değildir?

A) Putperestlik inancı yaygındı.  
B) Kadın hakları ihlal edilirdi.  
C) Bireysel düşünceye önem verilirdi.  
D) Okur - yazarlık oranı oldukça düşüktü.

2. İslam öncesi, Mekke toplumunda Hz. İbrahim'in dini geleneğini devam ettirenler aşağıdakilerden hangisidir?

A) Putperestler  
B) Mecusiler  
C) Hristiyanlar  
D) Hanifler

3. Hz. Muhammed'in babası aşağıdakilerden hangisidir?

A) Abdulmuttalip  
B) Abdullah  
C) Ebu Talip  
D) Haşim

4. Aşağıdakilerden hangisi Hz. Muhammed'in çocuklarından biri değildir?

A) Şeyma  
B) Rukiye  
C) Zeynep  
D) Ümmü Gülsüm

## 1. OTURUM

5. Aşağıdakilerden hangisi Mekke dönemi olaylarından?

- A) Taif yolculuğu
- B) Hudeybiye Antlaşması
- C) Uhut Savaşı
- D) Hayber'in Fethi

6. Aşağıdakilerden hangisi Müslümanların Mekke'lilerle yaptığı savaşlardan biri değildir?

- A) Bedir Savaşı
- B) Uhud Savaşı
- C) Hendek Savaşı
- D) Mute Savaşı

7. Aşağıdakilerden hangisi İslam dininin sağlığa verdiği önemle ilgili değildir?

- A) İçki içmenin yasak olması.
- B) Hasta olanlara orucun farz olmaması.
- C) Misvak kullanımının teşvik edilmesi.
- D) Selamlaşmanın tavsiye edilmesi.

8. İslam dini hastalıklardan kurtulma konusunda aşağıdakilerden hangisini tavsiye etmiştir?

- A) İyileşmek için türbelere bez bağlamak.
- B) Hastalıklara sabredip, tedavi yolları aramak.
- C) Dayanılması zor hastalıklar da öldürülmeyi istemek.
- D) Şifayı verenin Allah olduğunu bilip, ilaç kullanmamak.

9. "İki nimet vardır ki insanların çoğu bunlardan habersizdir. Bunlar; ----, ----"

**Bu hadiste boş bırakılan yere aşağıdakilerden hangisi gelmelidir?**

- A) Sağlık ve boş vakit
- B) İman ve ibadet
- C) Mal ve para
- D) Bilgi ve amel

10. Aşağıdakilerden hangisi hicret esnasında Peygamberimiz'e yol arkadaşlığı yapmıştır?

- A) Hz. Ali
- B) Hz. Ömer
- C) Hz. Ebu Bekir
- D) Hz. Osman

11. Hz. Muhammed (sav.), peygamberliğini ilan ettikten sonra, müşrikler, O'na farklı ithamlarda bulunmuşlardır.

**Aşağıdakilerden hangisi bunlardan biri değildir?**

- A) Şair
- B) Sihirbaz
- C) Ermiş
- D) Kâhin

12. Peygamberimiz, İslam'ı tebliğ etmek için aşağıdaki yerlerden hangisine gitmiştir?

- A) Taif
- B) Şam
- C) Yemen
- D) Habeşistan

13. Peygamberimiz zamanında müşrikler tarafından ilk şehit edilen sahabe aşağıdakilerden hangisidir?

- A) Hz. Bilâl
- B) Hz. Zeyd
- C) Hz. Yasir
- D) Hz. Osman

14. İslam'a davetin gizli yapılmasını sonlandıran ayet aşağıdakilerden hangisidir?

- A) "Yaratan Rabb'inin adıyla oku!" (Alak suresi, 1. ayet)
- B) "Ben cinleri ve insanları, ancak bana kulluk etsinler diye yaratım." (Zâriyat suresi, 56. ayet)
- C) "(Ey Muhammed) Sana emrolunanı açıkça bildir ve Allah'a ortak koşanlara aldırış etme." (Hicr suresi, 94. ayet)
- D) "Artık insan, kendi kendinin şahididir." (Kiyâmet suresi, 14. ayet)

15. Peygamberimiz, İslam'a davet mektuplarını aşağıdaki olaylardan hangisinden sonra göndermeye başlamıştır?

- A) Veda Haccı
- B) Akabe Biatları
- C) Habeşistan'a hicret
- D) Hudeybiye Antlaşması

16. Aşağıdaki bilgilerden hangisi yanlıştır?

- A) Peygamberimizin kabri Medine'dedir.
- B) Peygamberimiz 620 yılında hicret etmiştir.
- C) Peygamberimiz ilk Cuma namazını Ranuna Vadisi'nde kıldırılmıştır.
- D) Peygamberimiz, Akabe Biatları'nı Mekke döneminde yapmıştır.

17. Peygamberimiz vefat ettiğinde, cenazesini yıkayıp kefenleyen sahabe aşağıdakilerden hangisidir?

- A) Hz. Ömer
- B) Hz. Osman
- C) Hz. Ebubekir
- D) Hz. Ali

18. İslam dininin ibadetlerin yapılması ile ilgili getirdiği aşağıdaki kolaylıklardan hangisi sağlık ile ilgili değildir?

- A) Yolculuğa çıkamayacak kadar hasta olanların hacca gitmemesi
- B) Hacda öğle ile ikindi, akşam ile yatsı namazlarının birleştirilerek kılınması
- C) Ayakta namaz kılmayanların oturarak namaz kılmaları
- D) Hamile olanların oruç tutmalarını

19. Başkalarının sahip olduğu mal, makam ve ilim gibi kıymetleri kaybetmesini ve bu kişilerin zelil duruma düşmesini istemeye ne ad verilir?

- A) Kibir
- B) Haset
- C) Gıpta
- D) Empati

20. Aşağıdakilerden hangisi İslam öncesi Arap toplumunda görülen güzel hasletlerden biri değildir?

- A) Eşitlik
- B) Cömertlik
- C) Ahde Vefa
- D) Misafirperverlik

## 1. OTURUM

(534) HZ. MUHAMMED'İN HAY. – 4

1. Hz. Muhammed ile görüşmek için gelen Hristiyan heyet Mescid-i Nebi'de ibadet etmek isteyince bazı sahabeler bunlara engel olmaya kalkıştı. Hz. Muhammed onların serbest bırakılmasını ve ibadetlerini yerine getirmelerine izin verilmesini istedi.

**Hz. Muhammed'in bu tutumu onun hangi düşüncesinden kaynaklanmaktadır?**

- A) Özgürlüklere saygısından
- B) İnsanlara olan sevgisinden
- C) Misafirlere karşı nezaketinden
- D) Sözleşmelere gösterdiği sadakatten

2. Aşağıdakilerden hangisi Hz. Muhammed'in tavsiye ettiği ticari ahlak kurallarından **değildir**?

- A) Kolaylık
- B) Şeffaflık
- C) Dürüstlük
- D) Belirsizlik

3. Hz. Muhammed gönderdiği orduya; "Yalnızca savaşçı olanlarla savaşmalarını, yaşlılara, çocuklara, kendilerini ibadete vermiş ruhbanlara ve hayvanlara dokunmamalarını, özellikle de ağaçları yakmamalarını" emretmiştir.

**Bu metinde Hz. Muhammed aşağıdakilerden hangisine değinmemiştir?**

- A) Yaşama hakkına
- B) İbadet hürriyetine
- C) Doğayı korumaya
- D) Ekonomik özgürlüğe

4. "Müslüman bir kimse, din kardeşinin pazarlığı üzerine pazarlık yapmasın".

(Hadisi Şerif)

**Bu hadiste anlatılmak istenen ana düşünce aşağıdakilerden hangisidir?**

- A) Ticari ahlaka sahip çıkmak.
- B) Serbest rekabetin önüne geçmek.
- C) Ekonomik özgürlüklere engel olmak.
- D) Sermayenin belli kesimlerde toplanmasına mâni olmak.

5. Aşağıdakilerden hangisi Hz. Muhammed'in kadınlarla ilgili tutumları arasında **yer almaz**?

- A) Kadınların fikirlerinden yararlanırdı.
- B) Kadınları ilim öğrenmeye teşvik ederdi.
- C) Kadınların mescide gelmesini hoş karşılamazdı.
- D) Kadının, isteği dışında evlendirilmesine karşıydı.

6. Özgürlüklerin engellendiği bir toplumda aşağıdakilerden hangisi **görülmez**?

- A) Toplumsal hayat zorlaşır.
- B) Hoşgörü ortamı kaybolur.
- C) Taassup ortadan kalkar.
- D) İlim ve kültürel gelişmeler azalır.

7. Aşağıdakilerden hangisi yönetim ilişkilerinin karşılıklı anlayış içerisinde gelişmesine engeldir?

- A) Taassup
- B) Hoşgörü
- C) Eğitim
- D) Empati

8. İnanç ve ibadet özgürlüğünü benimseyen bir kimseden aşağıdakilerden hangisi beklenir?

- A) İnanıcı sebebiyle başkasını kınaması
- B) Kişilerin ibadetine engel olması
- C) Başkalarını din seçmeye zorlaması
- D) Başkalarının kişisel tercihine saygı duyması

9. "Eğer inanmayıp yüz çevirirlerse bilsinler ki biz seni onların üzerine bekçi olarak göndermedik. Sana düşen sadece tebliğdir."

(Şûra Suresi, 48. ayet)

**Bu ayette Hz. Muhammed'in hangi yönüne işaret edilmektedir?**

- A) Sabır
- B) Uyarma
- C) Cesaret
- D) Merhamet

10. "Bizi aldatan bizden değildir."

(Hadisi Şerif)

**Bu hadis, aşağıdakilerden hangisi ile ilgilidir?**

- A) Ekonomik hak
- B) İbadet hakkı
- C) Eğitim hakkı
- D) İnanç özgürlüğü

11. Aşağıdakilerden hangisi, peygamberlik görevinin yanında yöneticilik görevi de yapmıştır?

- A) Hz. Süleyman
- B) Hz. İbrahim
- C) Hz. Musa
- D) Hz. İsa

12. Aşağıdakilerden hangisi Peygamberimizin yönetim ilkeleri arasında **yer almaz**?

- A) Liyakate öncelik vermek
- B) Adaletten taviz vermemek
- C) Toplumsal konuları istişare etmek
- D) Halkın yönetime katılmasını önemsememek

13. "Muhakkak ki Allah, adaleti, iyiliği, akrabaya yardım etmeyi emreder; çirkin işleri, fenalık ve azgınlığı da yasaklar. O, düşünüp tutasınız diye size öğüt verir."

(Nahl suresi, 90. ayet)

**Bu ayette aşağıdakilerden hangisine değinilmemiştir?**

- A) Yakınları gözetmeye
- B) Namazı vaktinde kılmaya
- C) Kötülüklerden uzak durmaya
- D) Hak ve hukuka uygun davranmaya

14. Ebu Zer, Peygamberimizden kendisini yönetici olarak atamasını isteyince Peygamberimiz Ebu Zer'e şöyle dedi: "Ben, seni idarecilik için zayıf görüyorum. Ben, kendim için sevip istediğimi senin için de sevip isterim. Ama yöneticilik bir emanettir. Bu emanetin hakkını veremeyenler kıyamette zillet ve pişmanlığa uğrarlar. Ancak onu hakkıyla elde edip kendine düşen sorumluluğu yerine getiren kimse, bunun dışındadır."

**Bu olayda aşağıdakilerden hangisi vurgulanmıştır?**

- A) İdareciliğin gelip geçici olduğu
- B) Yöneticilikte liyakatin önemli olduğu
- C) Herkesin idarecilik yapma hakkına sahip olduğu
- D) Kendisi için istenenin arkadaşı için de istenmesi gerektiği

## 1. OTURUM

15. • Peygamberimiz ilk vahyi öncelikli olarak eşi Hz. Hatice ile paylaşmıştı.  
• Peygamberimiz kızı Fatma'yı evlendirmeden önce onun görüşünü almıştı.  
• Peygamberimiz Medine döneminde Hz. Ayşe ile yarış yapmıştı.

**Peygamberimiz ile ilgili bu bilgilerden çıkarılacak en kapsamlı sonuç aşağıdakilerden hangisidir?**

- A) İlk eşi Hz. Hatice'dir.  
B) Spor yapmayı tavsiye etmiştir.  
C) Kızı Fatma'yı rızasını alarak evlendirmiştir.  
D) Kadınlara zaman ayırmış ve onların görüşlerine değer vermiştir.

16. Aşağıdaki ayetlerden hangisi inanç hürriyeti kapsamında değerlendirilir?

- A) "Eğer inanmayıp yüz çevirirlerse bilsinler ki biz, seni onların üzerine bekçi olarak göndermedik. Sana düşen sadece tebliğdir..." (Şûrâ suresi, 48. ayet)  
B) "Sizden herhangi bir ücret istemeyen bu kimselere tabi olun, çünkü onlar hidayete ermiş kimselerdir." (Yâsîn suresi, 21. ayet)  
C) "Biz emaneti, göklere, yere ve dağlara teklif ettik de onlar bu yüklenmekten çekindiler, korktular. Onu insan yükledi. Doğrusu o çok zalim, çok cahildir." (Ahzâb suresi, 72. ayet)  
D) "Hakkında bilgin bulunmayan şeyin ardına düşme! Çünkü kulak, göz ve gönül bunların hepsi ondan sorumludur." (İsrâ suresi, 36. ayet)

17. Medine Sözleşmesi ile ilgili aşağıdaki bilgilerden hangisi yanlıştır?

- A) Farklı inanç gruplarıyla yapılan ilk sözleşmedir.  
B) İnanç ve ibadet özgürlüğünü savunur.  
C) Hicretten üç yıl sonra imzalanmıştır.  
D) Müslümanlar, Yahudiler ve diğer grupların ortaklaşa imzaladıkları bir sözleşmedir.

18. Düşünce ve ifade özgürlüğü aşağıdaki kavramlardan hangisiyle daha çok ilgilidir?

- A) Sabır  
B) İstişare  
C) Tefekkür  
D) Diğerkâmlık

19. "Allah'a yemin ederim ki siz iyiliği emretmez ve kötülükten sakındırmazsanız, yaptıklarınızın karşılığı olarak Allah sizi (büyük sıkıntılarla) cezalandırır. Sonra toplum olarak onlardan kurtulmak için Allah'a yalvarıp durursunuz ancak duanız kabul olmaz."

**Bu hadisten çıkarılacak en kapsamlı sonuç aşağıdakilerden hangisidir?**

- A) Ölmeden önce tövbe edilmelidir.  
B) Allah, insanları büyük sıkıntılarla imtihan eder.  
C) Duaların kabulü için büyük sıkıntılar yaşanmalıdır.  
D) İyilik teşvik edilmeli ve kötülükten sakındırılmalıdır.

20. Aşağıdaki bilgilerden hangisi yanlıştır?

- A) Kur'an'da konu edilen kadınlardan biri de Hz. Asiye'dir.  
B) Peygamberimiz zamanında kadınlar da mescide giderdi.  
C) Peygamberimiz yalnızca erkeklerin mülkiyet hakkını savunmuştur.  
D) Peygamberimiz İslam'ı öğretmek için haftanın bir gününü kadınlara ayırırdı.

### (608) DEMOKRASİ ve İNS. HAK. – 2

1. Temiz bir çevrede yaşama hakkı kişilere çevreyi kirletmeme sorumluluğu yükler.

**Bu durum aşağıdaki yargılardan hangisine örnek oluşturur?**

- A) Hak aynı zamanda bazı yükümlülükler doğurur.  
B) Sorumluluklar yerine getirilirse de haklar gerçekleşmelidir.  
C) Hak ile sorumluluk arasında bir bağlantı yoktur.  
D) Haklar toplumdaki topluma değişebilir.

2. Türkiye Cumhuriyeti Anayasasında yer alan

"Kimseye işkence ve eziyet yapılamaz; kimse insan haysiyetiyle bağdaşmayan bir cezaya ve muameleye tabi tutulamaz." ifadesiyle hangi hak anayasal güvenceye kavuşturulmuştur?

- A) Katılma hakkı  
B) Sağlık hakkı  
C) Kişi dokunulmazlığı  
D) Dilekçe hakkı

3. Aşağıdakilerden hangisi adaletle ilgili söylendiğinde **yanlış** olur?

- A) Benzer suçlara benzer cezaların verilmesi  
B) Herkesin yasalar karşısında eşit sayılması  
C) Devleti yönetenlere ayrıcalıklı davranılması  
D) Vatandaşların "nimette ve külfette" eşit olmaları

4. • Kuvvetler ayrımı  
• Demokratik rejim  
• Kanun önünde eşitlik  
• İdarenin hukuka bağlılığı

**Verilenler aşağıdakilerden hangisinin gereklerindedir?**

- A) Totaliter devlet  
B) Hukuk devleti  
C) Sosyal devlet  
D) Yasa devleti

5. Aşağıdakilerden hangisi sosyal devlet anlayışının gereklerindedir?

- A) Kanun önünde eşitlik  
B) İnanç ve ibadet özgürlüğü  
C) Mahkemelerin bağımsızlığı  
D) Ekonomik büyüme ve kalkınma

6. Yargı organının yasama organını denetlemesi aşağıdakilerden hangisi ile gerçekleşir?

- A) Hakimler ve Savcılar Yüksek Kurulu  
B) Anayasa Mahkemesi  
C) Yargıtay  
D) Meclis

7. Aşağıdakilerden hangisi demokrasinin temel ilkelerinden **değildir**?

- A) Demokrasi temsil esasına dayanır.  
B) Demokrasi bireysel özgürlüğü geliştirir ve korur.  
C) Demokrasi çoğunluğun yönetimine dayanır.  
D) Demokrasi bireyin sosyal gerçekliğinden yalıtılarak oluşturulan bir hükümet biçimidir.



## 1. OTURUM

8. 1921 Anayasasının temel özelliği aşağıdakilerden hangisinde verilmiştir?

- A) Kuvvetler birliği esasına dayanması
- B) Kuvvetler ayrılığı ilkesini benimsemesi
- C) Temel hakların güvenceye kavuşturulması
- D) İnsan haklarına dayalı devlet anlayışını benimsemesi

9. Nüfus sayıları çok fazla olan günümüz toplumlarında halkın doğrudan ülke yönetimine katılması mümkün olmadığından, vatandaşların, seçimler yoluyla ve kendisini temsil edecek milletvekilleri aracılığıyla yönetime katılması aşağıdaki kavramlardan hangisi ile açıklanır?

- A) Temsili demokrasi
- B) Hukukun üstünlüğü
- C) Kuvvetler ayrımı
- D) Çoğulculuk

10. Osmanlı devletinde padişahın yetkilerini sınırlayan, padişahı belli yönde davranmaya zorlayan ilk belge aşağıdakilerden hangisidir?

- A) Nizam-ı Cedit
- B) Sened-i İttifak
- C) Islahat Fermanı
- D) Tanzimat Fermanı

11. Aşağıdakilerden hangisi demokrasinin çoğulculuk ilkesiyle çelişir?

- A) Kültürel tekelciliği dışlaması
- B) Birden fazla siyasi partinin olması
- C) Hoşgörü ve farklılıklara saygılı olunması
- D) Azınlıkta kalanların haklı talep ve isteklerinin göz ardı edilmesi

12. Aşağıdakilerden hangisi demokratik yönetimlerde insan haklarının gerçekleştirilmesinde karşılaşılan sorunlardandır?

- A) Toplumsal hoşgörünün artması
- B) Kuvvetler ayrılığının uygulanması
- C) Yöneticilerin kendi güçlerini artırmak istemeleri
- D) Demokrasinin bir yaşam biçimi olarak kabul edilmesi

13. I. Daha çok yol gösterici ve tavsiye niteliğindedir.  
II. Taraf devletler için bağlayıcı hüküm içermezler  
III. Sözleşmenin gereğini yapmayan devletler için çeşitli yaptırımlar öngörülmüştür.

**Yukarıdakilerden hangisi veya hangileri uluslararası bildirgelerin niteliklerindedir?**

- A) Yalnız I
- B) I ve II
- C) II ve III
- D) Yalnız III

14. Aşağıdakilerden hangisi insan haklarının korunması konusunda karşılaşılan sorunlardandır?

- A) Uluslararası terör
- B) Bölgeler arası dengeli kalkınma
- C) Bilim ve teknolojinin dengeli kullanımı
- D) Hukuk kurallarının toplumsal değişime anında cevap vermesi.

15. Devletin ve siyasi iktidarların demokrasi dışına çıkan uygulamalarına tepki göstermek, halkın yönetime katılarak sorunlarını çözüme kavuşturmak, kendilerine verilmiş hak ve özgürlükleri genişletmek için kurdukları dernekler, vakıflar, sendikalar aşağıdakilerden hangisiyle ifade edilir?

- A) Sivil toplum örgütleri
- B) Eğitim kurumları
- C) Sosyal güvenlik kurumları
- D) Uluslararası mahkemeler

16. Çalışma saatlerinin azaltılması, çalışma ücretlerinin artırılması, iş güvencesinin sağlanması gibi alanlarda yaptığı çalışmalarla insan haklarının gelişmesine katkı sağlayan kuruluş aşağıdakilerden hangisidir?

- A) Uluslararası Hukuk Komisyonu
- B) Uluslararası PEN Kulübü
- C) Uluslararası Af Örgütü
- D) Uluslararası Çalışma Örgütü

17. 15. yüzyılda Avrupa'da ortaya çıkan, Antik çağın eleştirici ve sorgulayıcı tutumuna yönelen anlamı yeniden doğuş olan kavram aşağıdakilerden hangisidir?

- A) İnkılap
- B) Devrim
- C) Rönesans
- D) Reform

18. Fransız düşünür Auguste Comte insanlığın gelişimini "metafizik evre, teolojik evre ve pozitif evre" olmak üzere üç evreye ayırır. Ona göre, insanlar pozitif evrede olayları ve doğayı aşağıdakilerden hangisiyle anlamaya çalışır?

- A) Geçerliliğini yitiren kurallarla
- B) Gerçeküstü olgularla
- C) Akıl ve deneyle
- D) Dini inançlarla

19. Birlikte yaşama duygusu zayıf olan toplumlarda aşağıdakilerden hangisi görülmez?

- A) Ülkeyi başarıya ulaştırma çabasının azalması
- B) İç savaş çıkma ihtimalinin artması
- C) İnsan hakları ihlallerinin artması
- D) Hoşgörünün artması

20. • Çağdaş medeniyetler seviyesini yakalamak  
• Kuru kuruya taklitçilik yapmamak  
• Çağın gereklerine uygun kurum ve kuralları oluşturmak

**Verilen özellikler aşağıdaki ilkelere öncelikle hangisinin temel amaçlarındandır?**

- A) Laiklik
- B) İnkılapçılık
- C) Milliyetçilik
- D) Cumhuriyetçilik

(611) KARŞ. DİN. TAR. – 1

1. Aşağıdakilerden hangisi Temel İslam bilimlerinden biri değildir?

- A) Siyer
- B) Tefsir
- C) Fıkıh
- D) Kelam

2. Aşağıdakilerden hangisinin İslam açısından diğer dinleri öğrenmenin faydalarından biri olduğu söylenemez?

- A) İslam dininin diğer dinlerden farkı daha iyi anlaşılır.
- B) İsrailiyat konuları daha iyi anlaşılır.
- C) İtikadî bakımdan müminlerin imanını daha güçlü hâle getirir.
- D) Misyonerlik faaliyetlerine engel olmada önemli katkı sağlar.

## 1. OTURUM

3. • Kutsal bir hikâye anlatılır.  
• Konusu gerçek olaylardan alınmıştır.  
• Meydana gelen hadiseler insanların anlayabileceği mecazi dille ve sembollerle anlatılır.

**Bu bilgiler aşağıdakilerden hangisine aittir?**

- A) Din B) Hikâye  
C) Destan D) Mitos

4. • M.Ö. 15. yüzyılda Filistin’de göçebe olarak yaşayan kabilenin adıdır.  
• “Öte tarafın insanları” anlamına gelmektedir. Bununla Fırat ve Ürdün nehirlerinin öte kıyısından gelen göçmenler kastedilmiştir.

**Filistin bölgesinde yaşayan yerli halk tarafından Yahudilere verilen bu ad aşağıdakilerden hangisidir?**

- A) İsrail B) İbranî  
C) Musevi D) Kenanî

5. **Yahudi isyanları nedeniyle 70 yılında Kudüs’ü işgal edip, Yahudilerin inşa ettikleri mabedi yıkan devlet aşağıdakilerden hangisidir?**

- A) Roma B) İran  
C) Babil D) Mısır

6. **Hristiyanlıkta vaftiz edilen kişinin kutsanmış bir yağla, vücudun çeşitli yerlerinin yağlanması şeklinde yapılan ayin aşağıdakilerden hangisidir?**

- A) Kuvvetlendirme (Konfirmasyon)  
B) Son yağlama (Hasta gizemi)  
C) Evharistiya (Kominyon)  
D) Günah itirafı (Tövbe)

7. **Aşağıdakilerden hangisi Hristiyanlık tarihinde önemli olan ilk dört konsülden biridir?**

- A) Roma Konsülü  
B) İznik Konsülü  
C) Fener Konsülü  
D) Hatay (Antakya) Konsülü

8. **Aşağıdakilerden hangisi İslam dininin temel özellikleri arasında yer almaz?**

- A) İslamiyet evrensel bir dindir.  
B) Bütün peygamberler birer İslam peygamberidir.  
C) Allah’ı bütün isim ve sıfatlarında bir olarak kabul eden tevhid inancını savunur.  
D) Peygamberler dışında hiçbir kimse ilahi niteliklere sahip değildir.

9. **Dinler tarihi ile ilgili aşağıdakilerden hangisi yanlıştır?**

- A) İslam dininin savunmasını yapar.  
B) Kur’an-ı Kerim’in bazı ayetlerini kendisine konu oluşturur.  
C) Bu alanda ilk çalışmalar İslam dünyasında başlamıştır.  
D) Ülkemizde ders olarak Osmanlı’nın son dönemlerinde okutulmaya başlanmıştır.

10. **Aşağıdakilerden hangisi dinin bireysel faydalarındandır?**

- A) Gıybet ve iftiranın azalması.  
B) Sadakanın yaygınlaşması.  
C) Yaşama sevincine katkı sağlaması.  
D) Birlik ve beraberliği güçlendirmesi.

11. **Aşağıdakilerden hangisi Reformist Yahudiler’in görüşlerindedir?**

- A) Yaşanılan her yer kutsaldır.  
B) Yahudiler her ülkede kendi kültürünü yaşamalıdır.  
C) Sinagoglarda kadın ve erkek beraber oturmalıdır.  
D) Kadınlar haham olarak görev alamazlar.

12. **Katolik Kilisesi’nin 1962 - 1965 yılları arasında, kendi anlayışını çağın şartlarına uydurmak, kendilerine olan karşıtlığı azaltmak, dini yaşamayı kolaylaştırmak amacıyla yaptığı konsül aşağıdakilerden hangisidir?**

- A) I. Vatikan B) II. Vatikan  
C) III. İstanbul D) IV. İstanbul

13. **Aşağıdakilerden hangisi yaşayan kabile dinlerinin genel özelliklerindedir?**

- A) Din kurucuları vardır.  
B) Kutsal kitaplara sahiptir.  
C) Evrensel özelliğe sahip dinlerdir.  
D) Yüce tanrı inancına sahiptirler.

14. **İslam mabetlerinde kişi veya varlıkların resim ve heykellerine rastlanmaz. Bunun asıl sebebi aşağıdakilerden hangisidir?**

- A) İslam’da akla ve bilime verilen önem.  
B) Resim ve heykel sanatının İslam coğrafyasında gelişmemiş olması.  
C) İslam’ın tövbe ve bağışlanmayı kul ile Allah arasında bir ilişki olarak görmesi.  
D) İslam’ın, putperestlik ve şirke götüreceği her türlü yolu engellemesi.

15. **Aşağıdaki dinlerin hangisinde “kurucu”nun isminden bahsedilmez?**

- A) Zerdüştlük B) Şintoizm  
C) Sihizm D) Caynizm

16. • Dinin görünen (dışa akseden) yönlerini sistematik olarak inceler.  
• Dinin tarihi gelişimini dikkate almaksızın dini olguları, görünen yönleriyle konu edinir.  
• Çeşitli dinlerin ibadet, ayin, yer, zaman, şahsiyet ve kutsallarını inceler.

**Hakkında bilgi verilen bilim dalı aşağıdakilerden hangisidir?**

- A) Din Fenomolojisi  
B) Din Sosyolojisi  
C) Din Psikolojisi  
D) Din Felsefesi

17. **Aşağıdakilerden hangisi Müslüman alimlerin dinin kaynağı ile ilgili görüşleri arasında yer almaz?**

- A) Dinler ilahi ve beşeri olmak üzere ikiye ayrılırlar.  
B) Din, Hz. Adem’le başlayıp Hz. Muhammed’le tamamlanmıştır.  
C) Din, Allah’ın peygamberler vasıtasıyla bildirdiği ilahi kurallardır.  
D) Hristiyanlık ve Yahudilik değiştirildikleri için beşeri dinlerdendir.

## 1. OTURUM

18. Yahudi tarihine göre Kudüs'ü aşağıdakilerden hangisi fethetmiştir?

- A) Hz. Musa B) Hz. Yûşâ  
C) Hz. Davut D) Hz. Süleyman

19. De ki: "Ey kitap ehli! Bizimle sizin aranızda ortak bir söze gelin: Yalnız Allah'a ibadet edelim. O'na hiçbir şeyi ortak koşmayalım. Allah'ı bırakıp da kimimiz kimimizi ilâh edinmesin." Eğer onlar yine yüz çevirirlerse, deyin ki: "Şahit olun, biz Müslümanlarız."  
(Al-i İmran suresi, 64. ayet)

Bu ayette diğer ilahi din mensupları aşağıdakilerden hangisine davet edilmektedir?

- A) İnsanın doğuştan günahsız olduğu anlayışına  
B) Allah katında üstünlüğün takva ile olduğuna  
C) Ruhbanlıktan vazgeçilmesine  
D) Tehvid inancına

20. Aşağıdaki ibadetlerden hangisinin yapılabilmesi için belirli bir yer (mekan) şartı vardır?

- A) Namaz B) Oruç  
C) Hac D) Zekat

### (612) KARŞ. DİN. TAR. – 2

1. Yoga ve meditasyon aşağıdaki dinlerden hangisiyle daha çok ilişkilendirilebilir?

- A) Taoizm  
B) Hinduizm  
C) Zerdüştlük  
D) Konfüçyanizm

2. "Sekiz dilimli yol" hangi dine ait bir kavramdır?

- A) Budizm  
B) Sihizm  
C) Caynizm  
D) Konfüçyanizm

3. Aşağıdakilerden hangisi Sihizm'in özelliklerinden biridir?

- A) Tenasüh fikri kabul edilir.  
B) Kast sistemi dini bir inanıştır.  
C) Tabiat güçlerine ve ruhlara tapınılır.  
D) Sekiz dilimli yol dinin temelini oluşturur.

4. Musa b. Meymun aşağıdaki dinlerden hangisine mensup bir din adamıdır?

- A) Zerdüştlük B) İslamiyet  
C) Hristiyanlık D) Yahudilik

5. Aşağıda Hz. İsa hakkında verilen bilgilerden hangisi İslam'a göre yanlıştır?

- A) Bir kul ve Peygamberdir.  
B) Babasız olarak doğmuştur.  
C) Hz. Meryem'den doğmuştur.  
D) İncil'i Havarilere vahyetmiştir.

6. Gatalar-Avesta aşağıdaki dinlerden hangisinin kutsal kitabıdır?

- A) Zerdüştlük B) Sihizm  
C) Budizm D) Şintoizm

7. Aşağıdaki kitap - din eşleştirmelerinden hangisi yanlıştır?

- A) Tevrat - Yahudilik  
B) Veda - Sihizm  
C) İncil - Hristiyanlık  
D) TaoTe-King - Taoizm

8. Eski Türklerde dini ayin ve törenleri yönetenlere ne isim verilir?

- A) Dinka B) Guru  
C) Kam D) Sangha

9. Dinlerin kurban ibadeti ile ilgili aşağıda verilen bilgilerden hangisi yanlıştır?

- A) Hristiyan inancına göre İsa'nın kendisi ilk ve son kurbandır.  
B) Mabetlerinin yıkılmasından sonra Yahudiler kurban ibadeti askıya almışlardır.  
C) Eski Türklerde, ölmüş ataları tazim ve onlar için kurban sunma adeti önemliydi.  
D) Budizm ve Caynizm'de canlı varlıkların kurban edilmesi yaygındır.

10. Budistlere ait olan mabed aşağıdakilerden hangisidir?

- A) Pagoda B) Sinagog  
C) Gurdvara D) Katedral

11. Aşağıdaki dinlerden hangisinde misyonerlik faaliyetleri dünya genelinde sistemli ve kurumsal bir şekilde yürütülmektedir?

- A) Konfüçyanizm  
B) Hristiyanlık  
C) Yahudilik  
D) Hinduizm

12. İslam'ın insanlara ulaştırılması ne denir?

- A) Tebliğ B) Vahiy  
C) Tefsir D) Sünnet

13. Ramazan Bayramı ve Kurban Bayramı aşağıdaki aylardan hangisinde kutlanır?

- A) Recep - Safer  
B) Şevval - Zilhicce  
C) Şaban - Muharrem  
D) Ramazan - Zilkade

14. Müslümanlar arasında mehdi anlayışı hangi dönemde ortaya çıkmıştır?

- A) Dört Halife  
B) Emeviler  
C) Abbasiler  
D) Memlükler

15. Kur'an-ı Kerim, Hz. İsa'nın doğumunu anlatırken hangi peygamberin yaratılışını örnek verir?

- A) Hz. Muhammed  
B) Hz. İbrahim  
C) Hz. Adem  
D) Hz. Nuh

16. Yom Kippur (Tövbe ve Keffaret Günü) orucu aşağıdaki dinlerin hangisinde tutulur?

- A) Hristiyanlık B) Zerdüştlük  
C) Hinduizm D) Yahudilik

17. Hac ibadeti esnasında Mina denilen yerde aşağıdakilerden hangisi yapılır?

- A) Vakfe yapılır.  
B) İhrama girilir.  
C) Şeytan taşlanır.  
D) Tavaf yapılır.

## 1. OTURUM

18. • “Kim kardeşine yardım ederse Allah’da ona yardım eder.”  
(Hadis-i Şerif)
- “Düşmanın acıkmışsa doyur, susamışsa su ver.”  
(Kitab-ı Mukaddes)
- “Sizden bir şey dileyene verin, sizden ödünç isteyeniyi geri çevirmeyin.”  
(İncil)

**Bu metinlerde tavsiye edilen davranış aşağıdakilerden hangisidir?**

- A) Doğru olmak  
B) İyilik yapmak  
C) Adaletli olmak  
D) Sabırlı olmak

19. **Misyonerlik teşkilatı ilk olarak aşağıdaki ülkelerin hangisinde kurulmuştur?**

- A) İngiltere B) Almanya  
C) Fransa D) İtalya

20. • Guru Nanak  
• Altın Mabet  
• Adi- Grant

**Bu kavramlar aşağıdaki dinlerden hangisiyle ilgilidir?**

- A) Caynizm B) Şintoizm  
C) Sihizm D) Budizm

### (811) KELAM – 1

1. **Aşağıdakilerden hangisi kelimaların kullandığı bir yöntemdir?**

- A) Tümevarım ve temsil  
B) Hipotez ve tahmin  
C) Analiz ve gözlem  
D) Beyin fırtınası ve sonuç çıkarma

2. **Aşağıdakilerden hangisi kelimaların ortak bilgi kaynağıdır?**

- A) Vahiy  
B) Beş duyu organı  
C) Mütevatir Haber  
D) İlham ve sezgi

3. **Aşağıdakilerden hangisinin Mürcie’nin doğuşunda etkili olduğu söylenemez?**

- A) Haricilerin aşırı fikirleri  
B) Müslüman olmayan milletlerin eleştirilerine karşı İslam’ı savunma isteği  
C) Emevî - Haşimî çekişmesi  
D) İslam toplumunun birliğini koruma ihtiyacı

4. **Mutezile’ye ait “Büyük günah işleyen bir kimsenin ne kafir ne de mümin olduğu, bu ikisi arasında bir yerde bulunduğu”nu ifade eden ilke aşağıdakilerden hangisidir?**

- A) el - Menziletu beyne'l - menziletayn  
B) Adalet  
C) el - Va'd ve'l - Va'fd  
D) el - Emri bi'l - Ma'rûf ve'n - Nehyi ani'l - Münker

5. **el - İbane an Usuli'd - Diyane ve el - Luma isimli eserler aşağıdaki kelimacılardan hangisine aittir?**

- A) İmam Maturidî  
B) İmam Eş'arî  
C) İmam Gazalî  
D) İmam Beyzavî

6. **Hacı Bektaş Veli'den sonra Bektaşiliğin ikinci pîri olarak kabul edilen, ayin ve erkanı yeniden düzenleyerek Bektaşiliğe bugünkü şeklini veren kişi aşağıdakilerden hangisidir?**

- A) Lokman-ı Pârende  
B) Pir Sultan Abdal  
C) Şeyh Nasiruddin  
D) Balım Sultan

7. **Yüce Allah'ın ebedî olduğunu ve dolayısıyla varlığının sonunun olmadığını ifade eden sıfatı aşağıdakilerden hangisidir?**

- A) Bekâ B) Tekvin  
C) Kudret D) Kıdem

8. **Yüce Allah'a ait olan aşağıdaki sıfatlar kendi aralarında sınıflandırıldığında hangisi dışarıda kalır?**

- A) Basar B) Kelam  
C) Vücut D) İrade

9. Sosyal hayatın kendine özgü dinamizmi, din anlayışlarında bazı farklılaşmalara yol açar. Sosyal yapının etkin olması sonucu oluşan bu farklılaşmalar, dinin anlaşılma biçimi olan mezheplerin doğuşunu doğrudan etkilemiştir.

**Bu paragrafta, İslam düşüncesinde ortaya çıkan yorum farklılıklarının sebeplerinden hangisi açıklanmıştır?**

- A) Dini metinler  
B) İnsanın yapısı  
C) Ortam ve kültür  
D) Siyasi hadiseler

10. • Sıffin Savaşı'ndaki hakem meselesinden dolayı fiilen ortaya çıkmıştır.  
• İtikadi nitelikli ilk fırkalaşma hareketidir.

**Hakkında bilgi verilen itikadi mezhep aşağıdakilerden hangisidir?**

- A) Mürcie B) Mutezile  
C) Şiilik D) Haricilik

11. • Hz. Ali'nin, Hz. Muhammed'den sonra nass ve tayinle halife olduğuna inanılır.  
• İmametın kıyamete kadar Hz. Ali'nin soyundan gelenlerin hakkı olduğu savunulur.

**Bu bilgiler aşağıda verilen itikadi mezheplerden hangisine aittir.**

- A) Şia B) Kaderiyye  
C) Cebriyye D) Mutezile

12. **Aşağıdakilerden hangisi Eş'ari mezhebine ait bir görüş değildir?**

- A) Kur'an, Allah kelamı olup yaratılmamıştır.  
B) İnsanın fiilleri Allah tarafından yaratılmaktadır.  
C) Büyük günah işleyen kimse kafir olur.  
D) İman, bilgi ve kalp ile tasdikten ibarettir.

13. **Aşağıdaki eserlerden hangisi İmam Maturidi'ye aittir?**

- A) Fıkh-ı Ekber  
B) Kitabu't - Tevhid  
C) Makalatül - İslamiyyin  
D) El-İbane an Usuli'd Diyane

## 1. OTURUM

14. Aşağıdakilerden hangisi Maturidi mezhebinin görüşleri arasında yer almaz?

- A) İman, artar ve eksilir.
- B) İman, kalp ile tasdik, dil ile ikardır.
- C) İnsan aklıyla Allah'ın varlığı fikrine ulaşabilir.
- D) Büyük günah, insanı imandan çıkartmaz.

15. Evren, içindeki her şeyle beraber mümkün bir varlıktır. Her mümkün kendisini var eden bir vacibe ihtiyaç duyar. Bu vacip varlığı zorunlu olan Allah'tır.

**Bu metinde Allah'ın varlığı ile ilgili hangi delil açıklanmıştır?**

- A) Hudus
- B) İmkan
- C) Kemal
- D) Gaye ve Nizam

16. Allah'ın zati sıfatlarından birisi olan "muhalefetü'n li'l-havadis" aşağıdakilerden hangisinde doğru açıklanmıştır?

- A) Varlığının kendinden olmasıdır.
- B) Varlığının sonunun olmamasıdır.
- C) Varlığının başlangıcı olmamasıdır.
- D) Sonradan yaratılan hiçbir şeye benzememesidir.

17. Kelam, mü'minleri taklidi imandan tahkiki imana ulaştırma arzusuyla, Cenab-ı Hakk'ın zat ve sıfatlarından, risalet ve nübüvvetten, mebde ve meâd itibarıyla kainatın hallerinden bahseden ilimdir.

**Bu paragrafta kelam bilimiyle ilgili aşağıdakilerden hangisine yer verilmemiştir?**

- A) Tanımı
- B) Konusuna
- C) Metoduna
- D) Amacına

18. • 780 yılında Bağdat'ta doğmuş, 855 yılında vefat etmiştir.  
• Hadis ve fıkıh alanında tanınmıştır.  
• "Müsned" adlı eseri meşhurdur.

**Hakkında bilgi verilen mezhep imamı aşağıdakilerden hangisidir?**

- A) Malik b. Enes
- B) Numan b. Sabit
- C) Cafer-i Sadık
- D) Ahmed b. Hanbel

19. İnsanın; şeriat, tarikat, marifet ve hakikat kapılarından geçerek Allah'a ulaşacağını söyleyen mutasavvıf aşağıdakilerden hangisidir?

- A) Yunus Emre
- B) Hacı Bektaş Veli
- C) Hacı Bayram Veli
- D) Hoca Ahmet Yesevi

20. Taklidi İman ile ilgili aşağıda verilen bilgilerden hangisi yanlıştır?

- A) Kişinin bilgi sahibi olmadan çevresinden görerek sahip olduğu imandır.
- B) Kişiyi araştırma ve inceleme yapmaya teşvik eder.
- C) Bireysel düşüncenin gelişmesine engel olur.
- D) Taassubu artırır.

### (812) KELAM – 2

1. "Allah, peygamberlik vereceği kimseyi daha iyi bilir..."  
(En'am suresi, 124. ayet)

**Bu ayete göre aşağıdakilerden hangisi doğrudur?**

- A) Allah, peygamber göndererek insanlara merhamet etmiştir.
- B) Peygamberler de bizim gibi bir beşerdir.
- C) Peygamber gönderilmeyen hiçbir millet yoktur.
- D) Peygamberlik, çalışıp kazanmakla elde edilmez.

2. Aşağıdakilerden hangisi mucizenin bir özelliğidir?

- A) İnkarcıları aciz bırakması.
- B) Akıl ile izah edilebilir olması.
- C) Tekrar edilebilir olması.
- D) Peygamberlere ait bir kaabiliyet olması.

3. Aşağıdaki mezheplerden hangisine göre insanın iradesi yoktur ve kul, Allah'ın takdir ettiği fiilleri yapmak zorundadır?

- A) Kaderiyye
- B) Cebriyye
- C) Mutezile
- D) Mürcie

4. Aşağıdaki mezheplerden hangisi insanın iki ayrı ecelinin olduğunu ve ömrün uzayıp kısabileceğini savunmuştur?

- A) Mutezile
- B) Maturidiyye
- C) Eş'ariyye
- D) Mürcie

5. Günümüzde Allah'ın varlığını ispat etmeye yönelik delillerden hangisine, özellikle bilimsel verileri esas alması nedeni ile daha çok başvurulmaktadır?

- A) İmkân
- B) Kemâl
- C) Temanu
- D) Gaye ve Nizam

6. • Akıl, peygamberlere ve vahye gerek duymadan, tanrıya ulaşabilir.  
• Tanrı, insan ve evrenle iletişim halinde değildir.  
• Tanrı, âlemin ilk sebebidir fakat âleme müdahale etmez.

**Yukarıdaki görüşler hangi felsefi akıma aittir?**

- A) Deizm
- B) Gnostisizm
- C) Agnostisizm
- D) Nihilizm

7. Uhut Savaşı'ndan önce Hz. Muhammed savunma savaşı yapmayı istemesine rağmen ashapla yaptığı toplantı sonucunda "meydan savaşı yapma" görüşü ağır basmıştı. O da bu karara uymuştu.

**Bu metinde Hz. Muhammed'in hangi ahlaki özelliğine işaret edilmektedir?**

- A) Güvenilir olmasına
- B) Hakkı gözetmesine
- C) Danışarak iş yapmasına
- D) Hoşgörülü davranmasına

8. Nübüvvet ile ilgili aşağıdakilerden hangisi yanlıştır?

- A) Allah her topluma peygamber göndermiştir.
- B) Peygamberlerin en önemli görevi Allah'tan aldıkları vahyi insanlara ulaştırmaktır.
- C) Peygamberlik çalışıp kazanmakla elde edilemez.
- D) Peygamberlerde bir takım ilahi vasıflar vardır.

## 1. OTURUM

9. “O (Allah) bir şeyi dilediği zaman sadece “ol” der...  
(Yasin Suresi, 82. ayet)

**Bu ayette aşağıdaki kavramlardan hangisine işaret edilmiştir?**

- A) Sorumluluk B) Cüz-i irade  
C) Külli irade D) Tevekkül

10. “Doğru ve hak olan İslam yoluna ulaşmak” ile “Hak’tan yüz çevirip batıla yönelmek” aşağıdakilerden hangisiyle ifade edilir?

- A) Hüsün - Kubuh  
B) Hayır - Şer  
C) Hidayet - Dalalet  
D) Tecsim - Teşbih

11. Nihilizm’in Türkçe karşılığı aşağıdakilerden hangisidir?

- A) Hiççilik B) Gizemcilik  
C) Olguculuk D) Bilinmezlik

12. Çağdaş dönemde yazılan “Yeni ilm-i Kelam” adlı eser aşağıdaki bilimlerden hangisine aittir?

- A) Musa Kazım  
B) Elmalılı Hamdi Yazır  
C) Ömer Nasuhi Bilmen  
D) İzmirli İsmail Hakkı

13. Aşağıdakilerden hangisinde insanın emeğinin rolü yoktur?

- A) Meslek sahibi olmak  
B) Ahlaklı olmak  
C) Peygamber olmak  
D) Müslüman olmak

14. Peygamberler haricinde bazı imamlarında “İsmet” sıfatına sahip olduğunu kabul eden mezhep aşağıdakilerden hangisidir?

- A) Şia B) Mürcie  
C) Müttezile D) Maturidiye

15. İncil’in konuları arasında aşağıdakilerden hangisi yer almaz?

- A) Ahlaki öğütler  
B) Hukuki düzenlemeler  
C) Hz. İsa’nın hayat hikayesi  
D) Havarilerin seçimi ve Hz. İsa’ya katılışları

16. Aşağıdakilerden hangisi sadece Hz. Muhammed (sav.) için kullanılmaktadır?

- A) Beşir  
B) Nezir  
C) Şahit  
D) Hatemül Enbiya

17. “Ölü toprak kendileri için bir ayettir; biz onu dirilttik ondan taneler çıkarttik, böylelikle ondan yemektedirler.”

(Yasin Suresi, 33. ayet)

**Kur’an-ı Kerim’de yer alan bu tür ayetler aşağıdakilerden hangisine inanmaya delil olur?**

- A) Meleklerle iman  
B) Ahirete iman  
C) Kitaplara iman  
D) Peygamberlere iman

18. Aşağıdakilerden hangisi İslam’ın tevekkül anlayışına uygun düşmez?

- A) Dua B) Çaba  
C) Tembellik D) Teslimiyet

19. Kelam ilmi, İslam kültürünü irdelemiş ve gelenekle ilişkisini koparmadan yeni bir dini düşüncenin oluşumuna kapı aralamıştır. Vahiy bilgileriyle akli delillerin yanı sıra sosyal ve pozitif bilimlerin sonuçlarından çıkan yorumları dikkate alarak gelişmesini sürdürmüştür.

**Bu paragrafta kelam ilmi ile ilgili hangi dönem anlatılmaktadır?**

- A) Peygamber dönemi  
B) Sahabe ve Tabiun dönemi  
C) Mütেকaddimin (kelam) dönemi  
D) Yeni ilmi Kelam dönemi

20. Aşağıdakilerden hangisi zor kullanma ve baskının sonuçlarından biri değildir?

- A) İmtihan ortadan kalkar.  
B) Görüş farklılıkları zenginlik olarak görülür.  
C) İnsanın özgürlüğünü ortadan kalkar.  
D) Toplumda kargaşaya yol açar.

## (974) GİRİŞİMCİLİK – 1

1. Aşağıdakilerden hangisi talebin özelliklerinden biri değildir?

- A) Satın alma gücü  
B) Piyasanın olması  
C) Satın alma isteğinin var olması  
D) Geniş bir zaman dönemi kapsaması

2. Aşağıda verilenlerden hangisi işletmenin özel amaçlarından?

- A) Kâr sağlamak  
B) Topluma hizmet etmek  
C) İşletmenin yaşamını devam ettirmek  
D) Mal ve hizmetlerin kalitesini sürekli arttırmak

3. Aşağıdakilerden hangisi planlamada uyulacak kural olarak görülmez?

- A) Uygun bir süreyi kapsamalıdır.  
B) Kesin uygulanabilir olmalıdır.  
C) Basit ve anlaşılır olmalıdır.  
D) Dengeli olmalıdır.

4. Etkili denetimin ilkelerine aykırı bir açıklama hangi seçenekte verilmiştir?

- A) Denetleme gizli olmalıdır.  
B) Denetleme esnek olmalıdır.  
C) Denetleme şekli işletmeye uygun olmalıdır.  
D) Denetlenme standartları önceden belirlenmelidir.

5. Aşağıdakilerden hangisi bir işletmenin şirket olma şartlarına uygun değildir?

- A) Ortak bir amaç olmalıdır.  
B) Ortaklar arası bir anlaşma olmalıdır.  
C) Şirket kuranların sayısı en az bir olmalıdır.  
D) Ortak üretim elemanlarına sahip olmalıdır.

6. Limitet şirketler en az kaç ortak tarafından kurulabilir?

- A) 2 B) 5 C) 7 D) 10

## 1. OTURUM

7. Aşağıdakilerden hangisi İktisadi Devlet Teşekkülü değildir?

- A) Boru Hatları ile Petrol Taşıma AŞ
- B) Türkiye Kömür İşletmeleri
- C) Devlet Malzeme Ofisi
- D) Türkiye Cumhuriyeti Devlet Demiryolları

8. Bir işletmenin diğer işletmeye ait hisse senetlerini satın alarak o işletmenin hukuki varlığına son vermesiyle sağladığı tam birleşmeye ne ad verilir?

- A) Füzyon
- B) Merger
- C) Kornerler
- D) Konsernler

9. Seçici talebi yaratmaya yönelik bir reklam, aşağıda verilen reklam çeşitlerinden hangisi açımsından değerlendirilmelidir?

- A) Reklam içeriği açısından
- B) Hedef kitle açısından
- C) Amaçlar açısından
- D) Yapanlar açısından

10. Satış sürecinin sunuş aşamasıyla ilgili verilen bilgilerden hangisi yanlıştır?

- A) Dikkat çekme
- B) İlginin isteğe dönüşmesi
- C) İsteğin arza dönüşmesi
- D) Satışın gerçekleştirilmesi

11. Ekonomik durumu üst düzeyde olan insanların karşılanmasını istedikleri ihtiyaçlara ne ad verilir?

- A) Emek
- B) Sermaye
- C) Lüks ihtiyaçlar
- D) Zorunlu ihtiyaçlar

12. Aşağıdakilerden hangisi üretim faktörlerinden biridir?

- A) Doğa
- B) Talep
- C) Hizmet
- D) Kültür

13. Elektronik ticarete ne ad verilir?

- A) İnternet
- B) E-ticaret
- C) E-devlet
- D) E-posta

14. Ekonomistler, bir mal veya hizmeti elde edebilme isteğini neden talep olarak kabul etmezler?

- A) İstekler yeterli satın alma gücüyle desteklenmelidir.
- B) Arz - talep dengesi korunmalıdır.
- C) Alıcı ile satıcı birbirini tanımalıdır.
- D) Satın alma sürekli ve güdüleyici olmalıdır.

15. Ekonomistler kıt malı nasıl tanımlamışlardır?

- A) Kıymetli mallar
- B) Piyasada olmayan mallar
- C) Çok pahalı satılan mallar
- D) Fiyatı olan ve bedelini ödemek suretiyle alınabilen mallar

16. Bazı bilim adamlarınca girişimcilik kavramının yaratıcısı olarak görülen ünlü ekonomist, aşağıdakilerden hangisidir?

- A) John Law
- B) Eli Whitney
- C) Richard Cantillon
- D) Edward Harriman

17. "Girişimcilik; sürekli artan bir refah yaratan dinamik bir süreçtir."

"Girişimcilik; bir işe girişme, bunun için gerekli kaynakları düzenleme, işten doğacak riskleri ve başarısızlıkları üstlenme sürecidir."

"Girişimcilik; parasal ve kişisel tatmin ödülü karşılığında, finansal, psikolojik ve sosyal riskleri üstlenerek gerekli zaman ve çabayı harcayıp farklı değerde mal ve hizmet yaratma sürecidir."

Aşağıdakilerden hangisi, verilen "Girişimcilik" kavramıyla ilgili tanımların ortak noktalarından biri değildir?

- A) Tekelleşmek
- B) İnişiyatif sahibi olmak
- C) Risk ve başarısızlığı kabul etmek
- D) Piyasadaki kaynakları değerlendirmek

18. Aşağıdaki kavramlardan hangisi ekonomi literatüründe "yenilenme", "yenilik" anlamlarında kullanılır?

- A) Deflasyon
- B) İnovasyon
- C) İthal ikamesi
- D) Devalüasyon

19. Aşağıdakilerden hangisi, girişimde bulunması gereken kişisel özelliklerinden biri değildir?

- A) Hayalcilik
- B) Kendine güven
- C) Karamsarlık
- D) Esneklik

20. "Yasal teşviklerden yararlanarak arkadaşlarıyla pastane dükkanı açan Leyla hanım" örneğini, aşağıdaki girişimciliği teşvik eden faktörlerden hangisi için verebiliriz?

- A) Mevzuat
- B) Güven
- C) Aile
- D) Din

**TEST BİTTİ.  
CEVAPLARINIZI KONTROL EDİNİZ.**

### SINAV SÜRESİNCE UYULACAK KURALLAR

1. Adaylar, sınav kurallarına ve salon görevlilerinin tüm uyarılarına uymak zorundadırlar. Kurallara ve uyarılara uymayan adayların sınavları geçersiz sayılacaktır.
2. Sınav başladıktan sonra adayların salon görevlileri ve birbirleri ile konuşmaları, kalem, silgi vb. şeyleri istemeleri yasaktır.
3. Adaylar sınav süresince, sınav giriş belgesi ile birlikte kimlik belgelerinden birini (nüfus cüzdanı, pasaport veya sürücü belgesi) masalarının üzerinde bulundurmamak zorundadırlar.

### SALON GÖREVLİLERİNCE SINAV BAŞLAMADAN ÖNCE ADAYLARA YAPILACAK SON UYARI

- Soracağınız bir şey var mı? Varsa şimdi sorunuz.
- Sınav başladıktan sonra sorularınıza cevap verilmeyecektir.
- Başlama zilini bekleyiniz.
- Hepinize başarılar dileriz.

(Salon başkanı başlama ve bitiş saatini tahtaya yazacaktır.)

Bu kitapçığın her hakkı saklıdır. Hangi amaçla olursa olsun, kitapçığın tamamının veya bir kısmının Millî Eğitim Bakanlığı Ölçme, Değerlendirme ve Sınav Hizmetleri Genel Müdürlüğünün yazılı izni olmadan kopya edilmesi, fotoğraflarının çekilmesi, bilgisayar ortamına alınması, herhangi bir yolla çoğaltılması, yayımlanması veya başka bir amaçla kullanılması yasaktır. Bu yasağa uymayanlar, doğabilecek cezai sorumluluğu ve kitapçığın hazırlanmasındaki mali külfeti peşinen kabullenmiş sayılır.



27 EYLÜL 2014 TARİHİNDE YAPILAN AÇIKÖĞRETİM LİSESİ / MESLEKİ AÇIKÖĞRETİM LİSESİ  
2013-2014 ÖĞRETİM YILI EK SINAVI 1. OTURUM T KİTAPÇIĞI CEVAP ANAHTARI

DİN KÜL. AHL. BİL. – 5	DİN KÜL. AHL. BİL. – 7	FELSEFE – 1	TARİH – 1
1. D	1. A	1. B	1. A
2. C	2. C	2. A	2. C
3. A	3. C	3. C	3. B
4. B	4. B	4. A	4. C
5. A	5. A	5. B	5. D
6. C	6. A	6. C	6. A
7. A	7. D	7. D	7. B
8. B	8. C	8. C	8. D
9. C	9. D	9. D	9. C
10. C	10. B	10. A	10. C
11. D	11. D	11. B	11. A
12. B	12. C	12. A	12. C
13. B	13. D	13. B	13. B
14. D	14. B	14. C	14. C
15. D	15. B	15. D	15. D
16. A	16. A	16. B	16. C
17. C	17. D	17. B	17. D
18. D	18. B	18. D	18. B
19. B	19. D	19. C	19. D
20. B	20. B	20. D	20. A

DİN KÜL. AHL. BİL. – 6	DİN KÜL. AHL. BİL. – 8	FELSEFE – 2	TARİH – 2
1. B	1. B	1. D	1. B
2. C	2. D	2. A	2. A
3. A	3. A	3. B	3. D
4. C	4. B	4. C	4. D
5. D	5. D	5. D	5. C
6. D	6. A	6. C	6. B
7. B	7. D	7. B	7. C
8. D	8. B	8. A	8. A
9. C	9. A	9. D	9. D
10. B	10. A	10. A	10. C
11. A	11. C	11. C	11. D
12. B	12. B	12. C	12. C
13. D	13. B	13. B	13. C
14. C	14. C	14. B	14. A
15. D	15. D	15. A	15. D
16. B	16. C	16. C	16. B
17. D	17. D	17. B	17. C
18. A	18. A	18. D	18. D
19. A	19. C	19. D	19. A
20. C	20. B	20. A	20. A

27 EYLÜL 2014 TARİHİNDE YAPILAN AÇIKÖĞRETİM LİSESİ / MESLEKİ AÇIKÖĞRETİM LİSESİ  
2013-2014 ÖĞRETİM YILI EK SINAVI 1. OTURUM T KİTAPÇIĞI CEVAP ANAHTARI

TARİH – 3	TARİH – 5	T.C. İNK. TAR. ATA. – 1	COĞRAFYA – 3
1. C	1. B	1. B	1. B
2. D	2. A	2. C	2. A
3. D	3. A	3. A	3. D
4. B	4. C	4. D	4. B
5. A	5. D	5. D	5. D
6. C	6. D	6. A	6. C
7. D	7. B	7. C	7. A
8. B	8. A	8. D	8. D
9. A	9. C	9. C	9. A
10. C	10. D	10. B	10. B
11. D	11. D	11. B	11. A
12. A	12. A	12. D	12. D
13. D	13. D	13. A	13. A
14. C	14. B	14. C	14. D
15. D	15. C	15. B	15. A
16. B	16. A	16. D	16. D
17. C	17. B	17. B	17. C
18. B	18. C	18. C	18. B
19. A	19. D	19. A	19. C
20. C	20. A	20. A	20. B

TARİH – 4	TARİH – 6	T.C. İNK. TAR. ATA. – 2	COĞRAFYA – 4
1. C	1. C	1. A	1. D
2. A	2. A	2. C	2. A
3. D	3. D	3. B	3. A
4. D	4. D	4. B	4. B
5. B	5. B	5. A	5. B
6. D	6. B	6. C	6. D
7. C	7. C	7. B	7. C
8. B	8. A	8. D	8. B
9. D	9. B	9. D	9. D
10. A	10. D	10. C	10. A
11. C	11. C	11. C	11. C
12. B	12. A	12. D	12. D
13. C	13. A	13. A	13. D
14. C	14. D	14. A	14. A
15. D	15. B	15. B	15. C
16. B	16. C	16. C	16. A
17. A	17. D	17. D	17. C
18. D	18. C	18. A	18. A
19. A	19. C	19. A	19. D
20. D	20. A	20. B	20. C

27 EYLÜL 2014 TARİHİNDE YAPILAN AÇIKÖĞRETİM LİSESİ / MESLEKİ AÇIKÖĞRETİM LİSESİ  
2013-2014 ÖĞRETİM YILI EK SINAVI 1. OTURUM T KİTAPÇIĞI CEVAP ANAHTARI

COĞRAFYA – 5

1. C
2. C
3. B
4. A
5. C
6. A
7. D
8. A
9. D
10. B
11. C
12. C
13. A
14. D
15. C
16. C
17. D
18. A
19. B
20. B

COĞRAFYA – 7

1. C
2. A
3. B
4. C
5. D
6. B
7. B
8. A
9. D
10. A
11. C
12. C
13. D
14. C
15. A
16. B
17. A
18. C
19. D
20. D

MATEMATİK – 3

1. C
2. C
3. B
4. A
5. B
6. A
7. C
8. D
9. D
10. C
11. A
12. B
13. D
14. B
15. D
16. A
17. B
18. D
19. A
20. B

PSİKOLOJİ – 1

1. D
2. A
3. C
4. C
5. A
6. D
7. B
8. B
9. A
10. D
11. C
12. B
13. A
14. B
15. C
16. A
17. D
18. C
19. A
20. D

COĞRAFYA – 6

1. C
2. B
3. B
4. D
5. C
6. B
7. C
8. C
9. B
10. B
11. C
12. C
13. B
14. B
15. C
16. C
17. D
18. C
19. D
20. C

COĞRAFYA – 8

1. C
2. A
3. D
4. D
5. C
6. D
7. D
8. B
9. D
10. D
11. B
12. C
13. B
14. A
15. B
16. B
17. C
18. B
19. D
20. D

MATEMATİK – 4

1. D
2. A
3. A
4. C
5. D
6. C
7. B
8. A
9. A
10. C
11. B
12. C
13. D
14. B
15. C
16. B
17. D
18. D
19. A
20. B

PSİKOLOJİ – 2

1. C
2. D
3. A
4. B
5. C
6. C
7. B
8. C
9. B
10. D
11. A
12. B
13. B
14. A
15. C
16. B
17. A
18. D
19. D
20. A

27 EYLÜL 2014 TARİHİNDE YAPILAN AÇIKÖĞRETİM LİSESİ / MESLEKİ AÇIKÖĞRETİM LİSESİ  
2013-2014 ÖĞRETİM YILI EK SINAVI 1. OTURUM T KİTAPÇIĞI CEVAP ANAHTARI

SOSYOLOJİ – 1	İNGİLİZCE – 3	FRANSIZCA – 3	ALMANCA – 4
1. C	1. C	1. B	1. D
2. B	2. D	2. C	2. A
3. A	3. B	3. A	3. C
4. D	4. B	4. B	4. C
5. A	5. D	5. C	5. B
6. C	6. A	6. D	6. B
7. D	7. D	7. C	7. D
8. B	8. C	8. A	8. A
9. C	9. B	9. D	9. B
10. D	10. A	10. A	10. D
11. A	11. B	11. A	11. A
12. A	12. D	12. B	12. D
13. B	13. C	13. A	13. D
14. A	14. D	14. B	14. B
15. C	15. B	15. D	15. A
16. B	16. D	16. C	16. B
17. B	17. A	17. C	17. C
18. C	18. B	18. B	18. A
19. D	19. A	19. B	19. D
20. C	20. C	20. D	20. B

SOSYOLOJİ – 2	ALMANCA – 3	İNGİLİZCE – 4	FRANSIZCA – 4
1. D	1. B	1. C	1. A
2. B	2. D	2. B	2. A
3. A	3. B	3. D	3. C
4. D	4. A	4. D	4. C
5. B	5. D	5. C	5. A
6. C	6. B	6. A	6. B
7. D	7. C	7. B	7. D
8. B	8. A	8. D	8. B
9. A	9. A	9. B	9. C
10. B	10. A	10. A	10. A
11. C	11. A	11. B	11. D
12. C	12. B	12. C	12. B
13. A	13. C	13. D	13. A
14. D	14. D	14. C	14. C
15. D	15. A	15. B	15. D
16. C	16. C	16. C	16. B
17. B	17. A	17. B	17. A
18. A	18. B	18. A	18. C
19. A	19. D	19. D	19. B
20. C	20. A	20. A	20. B

27 EYLÜL 2014 TARİHİNDE YAPILAN AÇIKÖĞRETİM LİSESİ / MESLEKİ AÇIKÖĞRETİM LİSESİ  
2013-2014 ÖĞRETİM YILI EK SINAVI 1. OTURUM T KİTAPÇIĞI CEVAP ANAHTARI

İNGİLİZCE – 5

1. A
2. C
3. A
4. D
5. B
6. C
7. D
8. D
9. C
10. B
11. C
12. D
13. B
14. D
15. A
16. C
17. D
18. A
19. B
20. C

FRANSIZCA – 5

1. D
2. A
3. B
4. A
5. B
6. C
7. B
8. D
9. B
10. C
11. A
12. A
13. B
14. A
15. C
16. D
17. A
18. D
19. B
20. B

DİL ve ANLATIM – 4

1. A
2. D
3. C
4. C
5. C
6. D
7. D
8. A
9. A
10. B
11. B
12. B
13. A
14. A
15. B
16. D
17. C
18. D
19. B
20. C

DİL ve ANLATIM – 6

1. C
2. B
3. A
4. D
5. C
6. B
7. D
8. A
9. B
10. D
11. B
12. A
13. C
14. D
15. A
16. C
17. B
18. D
19. A
20. A

ALMANCA – 5

1. D
2. B
3. C
4. A
5. C
6. A
7. D
8. D
9. A
10. A
11. D
12. B
13. C
14. D
15. A
16. B
17. D
18. A
19. C
20. B

DİL ve ANLATIM – 3

1. D
2. B
3. C
4. C
5. A
6. C
7. A
8. B
9. B
10. A
11. C
12. D
13. C
14. B
15. A
16. A
17. C
18. D
19. B
20. D

DİL ve ANLATIM – 5

1. B
2. B
3. D
4. A
5. C
6. A
7. B
8. C
9. A
10. A
11. C
12. C
13. D
14. D
15. B
16. D
17. B
18. B
19. C
20. A

DİL ve ANLATIM – 7

1. B
2. D
3. C
4. A
5. A
6. A
7. D
8. C
9. B
10. C
11. C
12. A
13. D
14. A
15. A
16. C
17. B
18. B
19. C
20. D

27 EYLÜL 2014 TARİHİNDE YAPILAN AÇIKÖĞRETİM LİSESİ / MESLEKİ AÇIKÖĞRETİM LİSESİ  
2013-2014 ÖĞRETİM YILI EK SINAVI 1. OTURUM T KİTAPÇIĞI CEVAP ANAHTARI

DİL ve ANLATIM – 8

1. D
2. C
3. A
4. C
5. B
6. B
7. C
8. B
9. A
10. B
11. D
12. C
13. B
14. D
15. A
16. D
17. C
18. D
19. A
20. B

TÜRK EDEBİYATI – 4

1. B
2. B
3. C
4. D
5. A
6. D
7. B
8. C
9. C
10. C
11. B
12. A
13. A
14. A
15. C
16. A
17. B
18. B
19. B
20. C

TÜRK EDEBİYATI – 6

1. D
2. B
3. C
4. A
5. C
6. B
7. A
8. A
9. C
10. B
11. D
12. B
13. C
14. D
15. A
16. B
17. B
18. A
19. C
20. D

TÜRK EDEBİYATI – 8

1. C
2. B
3. B
4. D
5. C
6. B
7. C
8. D
9. A
10. C
11. A
12. C
13. A
14. D
15. B
16. A
17. B
18. D
19. B
20. D

TÜRK EDEBİYATI – 3

1. B
2. C
3. D
4. B
5. A
6. D
7. C
8. D
9. D
10. C
11. A
12. A
13. D
14. B
15. A
16. C
17. C
18. A
19. B
20. C

TÜRK EDEBİYATI – 5

1. C
2. D
3. D
4. D
5. B
6. C
7. D
8. B
9. B
10. C
11. A
12. D
13. A
14. C
15. B
16. D
17. A
18. B
19. C
20. D

TÜRK EDEBİYATI – 7

1. B
2. C
3. D
4. B
5. D
6. A
7. C
8. B
9. C
10. D
11. A
12. B
13. A
14. C
15. D
16. C
17. B
18. A
19. C
20. A

KİMYA – 1

1. D
2. B
3. A
4. C
5. A
6. C
7. C
8. D
9. A
10. D
11. B
12. C
13. D
14. A
15. C
16. A
17. A
18. B
19. D
20. B

27 EYLÜL 2014 TARİHİNDE YAPILAN AÇIKÖĞRETİM LİSESİ / MESLEKİ AÇIKÖĞRETİM LİSESİ  
2013-2014 ÖĞRETİM YILI EK SINAVI 1. OTURUM T KİTAPÇIĞI CEVAP ANAHTARI

KİMYA – 2

1. B
2. C
3. D
4. B
5. B
6. A
7. C
8. B
9. C
10. D
11. D
12. A
13. C
14. D
15. C
16. B
17. A
18. B
19. A
20. D

BİYOLOJİ – 2

1. C
2. A
3. C
4. D
5. B
6. D
7. A
8. B
9. B
10. D
11. B
12. D
13. A
14. C
15. A
16. B
17. D
18. C
19. B
20. D

TEMEL DİNİ BİL. – 1

1. A
2. B
3. C
4. C
5. D
6. B
7. A
8. B
9. B
10. C
11. A
12. C
13. B
14. A
15. A
16. C
17. D
18. C
19. D
20. B

MANTIK – 1

1. D
2. C
3. A
4. B
5. C
6. C
7. D
8. A
9. D
10. B
11. A
12. D
13. D
14. B
15. C
16. B
17. C
18. B
19. A
20. D

BİYOLOJİ – 1

1. C
2. D
3. A
4. B
5. C
6. C
7. B
8. C
9. D
10. A
11. C
12. D
13. B
14. D
15. A
16. B
17. D
18. B
19. A
20. A

Ç. TÜRK ve DÜNYA TAR.– 2

1. C
2. A
3. A
4. D
5. B
6. D
7. C
8. B
9. A
10. D
11. C
12. A
13. D
14. B
15. B
16. A
17. B
18. D
19. D
20. A

TEMEL DİNİ BİL. – 2

1. A
2. D
3. A
4. D
5. B
6. C
7. A
8. A
9. B
10. A
11. B
12. D
13. A
14. C
15. D
16. C
17. D
18. C
19. B
20. C

MANTIK – 2

1. B
2. A
3. C
4. D
5. C
6. D
7. D
8. A
9. B
10. C
11. A
12. C
13. D
14. C
15. B
16. A
17. B
18. A
19. D
20. C

27 EYLÜL 2014 TARİHİNDE YAPILAN AÇIKÖĞRETİM LİSESİ / MESLEKİ AÇIKÖĞRETİM LİSESİ  
2013-2014 ÖĞRETİM YILI EK SINAVI 1. OTURUM T KİTAPÇIĞI CEVAP ANAHTARI

SAĞLIK BİLGİSİ – 1

1. B
2. D
3. C
4. A
5. D
6. C
7. A
8. D
9. C
10. A
11. C
12. B
13. A
14. D
15. C
16. C
17. B
18. A
19. B
20. D

TRAF. VE İLK YARD. – 1

1. A
2. C
3. D
4. B
5. C
6. D
7. A
8. A
9. C
10. D
11. B
12. A
13. D
14. C
15. B
16. D
17. C
18. C
19. A
20. B

İNGİLİZCE – 6

1. A
2. C
3. D
4. A
5. B
6. C
7. D
8. B
9. A
10. B
11. C
12. B
13. C
14. A
15. D
16. B
17. B
18. D
19. A
20. D

FRANSIZCA – 6

1. D
2. B
3. D
4. B
5. A
6. A
7. C
8. D
9. B
10. D
11. D
12. A
13. A
14. D
15. B
16. C
17. B
18. C
19. B
20. C

SAĞLIK BİLGİSİ – 2

1. C
2. A
3. D
4. D
5. A
6. D
7. B
8. D
9. C
10. A
11. C
12. D
13. B
14. A
15. B
16. C
17. A
18. B
19. C
20. D

TRAF. VE İLK YARD. – 2

1. A
2. C
3. B
4. D
5. C
6. A
7. D
8. B
9. B
10. C
11. A
12. D
13. C
14. B
15. A
16. A
17. D
18. A
19. C
20. B

ALMANCA – 6

1. C
2. D
3. B
4. A
5. C
6. B
7. A
8. B
9. C
10. D
11. A
12. D
13. C
14. A
15. A
16. D
17. B
18. B
19. D
20. C

İNGİLİZCE – 7

1. D
2. C
3. B
4. D
5. A
6. C
7. B
8. A
9. D
10. C
11. B
12. C
13. D
14. B
15. C
16. A
17. A
18. B
19. A
20. D



27 EYLÜL 2014 TARİHİNDE YAPILAN AÇIKÖĞRETİM LİSESİ / MESLEKİ AÇIKÖĞRETİM LİSESİ  
2013-2014 ÖĞRETİM YILI EK SINAVI 1. OTURUM T KİTAPÇIĞI CEVAP ANAHTARI

ALMANCA – 7

1. C
2. B
3. A
4. D
5. D
6. C
7. C
8. C
9. B
10. B
11. B
12. C
13. D
14. B
15. A
16. C
17. D
18. B
19. A
20. C

İNGİLİZCE – 8

1. D
2. C
3. B
4. A
5. D
6. B
7. B
8. C
9. D
10. B
11. C
12. B
13. A
14. C
15. B
16. C
17. A
18. D
19. C
20. A

FRANSIZCA – 8

1. D
2. A
3. C
4. A
5. B
6. B
7. C
8. D
9. B
10. A
11. D
12. A
13. C
14. B
15. A
16. D
17. A
18. C
19. D
20. B

HZ. MUHAMMED'İN HAY. – 4

1. A
2. D
3. D
4. A
5. C
6. C
7. A
8. D
9. B
10. A
11. A
12. D
13. B
14. B
15. D
16. A
17. C
18. B
19. D
20. C

FRANSIZCA – 7

1. C
2. B
3. C
4. A
5. D
6. D
7. C
8. A
9. B
10. A
11. B
12. D
13. B
14. A
15. C
16. B
17. A
18. B
19. D
20. A

ALMANCA – 8

1. A
2. D
3. B
4. C
5. A
6. D
7. C
8. B
9. A
10. B
11. A
12. B
13. C
14. C
15. A
16. B
17. C
18. D
19. D
20. A

HZ. MUHAMMED'İN HAY. – 3

1. C
2. D
3. B
4. A
5. A
6. D
7. D
8. B
9. A
10. C
11. C
12. A
13. C
14. C
15. D
16. B
17. D
18. B
19. B
20. A

DEMOKRASİ ve İNS. HAK. – 2

1. A
2. C
3. C
4. B
5. D
6. B
7. D
8. A
9. A
10. B
11. D
12. C
13. B
14. A
15. A
16. D
17. C
18. C
19. D
20. B

27 EYLÜL 2014 TARİHİNDE YAPILAN AÇIKÖĞRETİM LİSESİ / MESLEKİ AÇIKÖĞRETİM LİSESİ  
2013-2014 ÖĞRETİM YILI EK SINAVI 1. OTURUM T KİTAPÇIĞI CEVAP ANAHTARI

KARŞ. DİN. TARİHİ – 1

1. A
2. C
3. D
4. B
5. A
6. A
7. B
8. D
9. A
10. C
11. A
12. B
13. D
14. D
15. B
16. A
17. D
18. C
19. D
20. C

KELAM – 1

1. A
2. B
3. B
4. A
5. B
6. D
7. A
8. C
9. C
10. D
11. A
12. C
13. B
14. A
15. B
16. D
17. C
18. D
19. B
20. B

GİRİŞİMCİLİK – 1

1. D
2. D
3. B
4. A
5. C
6. A
7. D
8. B
9. C
10. C
11. C
12. A
13. B
14. A
15. D
16. C
17. A
18. B
19. C
20. A

KARŞ. DİN. TARİHİ – 2

1. B
2. A
3. A
4. D
5. D
6. A
7. B
8. C
9. D
10. A
11. B
12. A
13. B
14. B
15. C
16. D
17. C
18. B
19. A
20. C

KELAM – 2

1. D
2. A
3. B
4. A
5. D
6. A
7. C
8. D
9. C
10. C
11. A
12. D
13. C
14. A
15. B
16. D
17. B
18. C
19. D
20. B