

OTURUM

1



T.C.

MİLLÎ EĞİTİM BAKANLIĞI  
ÖLÇME, DEĞERLENDİRME VE SINAV HİZMETLERİ  
GENEL MÜDÜRLÜĞÜ

T

AÇIK ÖĞRETİM LİSESİ / MESLEKİ AÇIKÖĞRETİM LİSESİ  
2014-2015 ÖĞRETİM YILI 3. DÖNEM SINAVI  
1. OTURUM: 08 AĞUSTOS 2015 Saat:09.30

DERS KODU VE ADI	SAYFA	DERS KODU VE ADI	SAYFA	DERS KODU VE ADI	SAYFA
(111) DİN KÜL. AHL. BİL. – 1	3	(414) TÜRK EDEBİYATI – 4	27	(511) FIKIH – 1	54
(112) DİN KÜL. AHL. BİL. – 2	4	(417) TÜRK EDEBİYATI – 7	29	(525) SEÇ. Y. DİL İNG. – 5	55
(115) DİN KÜL. AHL. BİL. – 5	5	(418) TÜRK EDEBİYATI – 8	30	(525) SEÇ. Y. DİL ALM. – 5	56
(121) FELSEFE – 1	6	(421) FİZİK – 1	31	(525) SEÇ. Y. DİL FRAN. – 5	57
(123) SEÇMELİ FELSEFE – 1	8	(425) FİZİK – 5	33	(528) SEÇ. Y. DİL İNG. – 8	58
(132) TARİH – 2	9	(432) KİMYA – 2	34	(528) SEÇ. Y. DİL ALM. – 8	59
(136) TARİH – 6	10	(436) KİMYA – 6	36	(528) SEÇ. Y. DİL FRAN. – 8	59
(151) COĞRAFYA – 1	12	(441) BİYOLOJİ – 1	37	(532) HZ. MUHAMMED'İN HAY. – 2	61
(155) COĞRAFYA – 5	13	(443) BİYOLOJİ – 3	38	(609) MATEMATİK – 6	62
(157) COĞRAFYA – 7	14	(446) BİYOLOJİ – 6	39	(611) KARŞ. DİN. TAR. – 1	63
(181) İNGİLİZCE – 1	16	(461) EKONOMİ – 1	41	(617) SEÇ. DİL ve ANLA. – 7	65
(181) ALMANCA – 1	17	(465) TEMEL DİNİ BİL. – 1	42	(618) SEÇ. DİL ve ANLA. – 8	66
(181) FRANSIZCA – 1	18	(477) İŞLETME – 2	43	(624) SEÇ. TÜRK EDEB. – 4	67
(244) İNGİLİZCE – 5	19	(479) MANTIK – 2	44	(627) SEÇ. TÜRK EDEB. – 7	69
(244) ALMANCA – 5	19	(484) SAĞLIK BİLGİSİ – 2	46	(628) SEÇ. TÜRK EDEB. – 8	70
(244) FRANSIZCA – 5	21	(491) TRAF. VE İLK YARD. – 1	47	(711) İSLAM TARİHİ – 1	72
(401) DİL VE ANLATIM – 1	22	(495) GEOMETRİ – 5	49	(811) KELAM – 1	73
(402) DİL VE ANLATIM – 2	23	(502) İNGİLİZCE – 8	51	(931) SİYER – 1	75
(407) DİL VE ANLATIM – 7	24	(502) ALMANCA – 8	52	(974) GİRİŞİMCİLİK – 1	76
(408) DİL VE ANLATIM – 8	26	(502) FRANSIZCA – 8	52	(999) MATEMATİK – 2	77

#### ADAYLARIN DİKKATİNE!

- Her ders için 20 soru bulunmaktadır. Bu oturumda 180 dakikalık cevaplama süreniz vardır. Sınav başladıktan sonra ilk 30 dakika dolmadan dışarı çıkmayınız.
- Sınav sırasında sözlük, hesap cetveli veya makinesi, çağrı cihazı, cep telefonu, telsiz, radyo gibi elektronik iletişim araçlarını yanınızda bulundurmuyunuz. Bu araçları kullanmanız ve kopya çekmeye teşebbüs etmeniz hâlinde sınavınız geçersiz sayılacaktır.
- Başvuru şartlarını taşımadığınız hâlde sınava girmeniz, kopya çekmeniz, başka adayın sınav evrakını kullanmanız, geçerli kimlik belgenizi ve sınav giriş belgenizi ibraz edemediğiniz durumlarda sınavınız geçersiz sayılacaktır.
- Sınavın değerlendirilmesi aşamasında, kopya tespiti hâlinde sınavınız geçersiz sayılacaktır.

#### CEVAP KÂĞIDI VE SORU KİTAPÇIĞI İLE İLGİLİ AÇIKLAMALAR

- Cevap kâğıdınızdaki bilgilerin doğruluğunu kontrol ediniz ve cevap kâğıdınızı mürekkepli kalemle imzalayınız.
- Cevap kâğıdı üzerinde kodlamalarınızı kurşun kalemle yapınız.
- Değiştirmek istediğiniz bir cevabı, yumuşak silgiyle cevap kâğıdını örselemeden temizce siliniz ve yeni cevabınızı kodlayınız.
- Soru kitapçığının sayfalarını kontrol ediniz, baskı hatası var ise değiştirilmesini sağlayınız.
- Soruların çözümü için size ayrıca boş kâğıt verilmeyecektir. Soru kitapçığının içindeki boş alanları soru çözümleri için kullanabilirsiniz.
- Her sorunun dört seçeneğinden sadece biri doğrudur. Doğru seçeneği, cevap kâğıdınızın ilgili sütununa soru numarasını dikkate alarak yuvarlağın dışına taşırmadan kodlayınız. **Soru kitapçığı üzerinde yapılan cevaplandırmalar dikkate alınmayacaktır.**
- Cevaplamaya istediğiniz dersin sorusundan başlayabilirsiniz. Cevabını bilmediğiniz sorular üzerinde fazla zaman kaybetmeden diğer sorulara geçiniz. Zamanınız kalırsa bu sorulara daha sonra dönebilirsiniz.
- Yanlış cevaplarınız dikkate alınmadan sadece doğru cevaplarınız üzerinden puanlama yapılacaktır.
- Soruları ve sorulara verdiğiniz cevapları, yanınızda götürmek amacıyla kaydetmeyiniz; hiçbir şekilde dışarı çıkarmayınız.
- Sınav bitiminde, soru kitapçığı ve cevap kâğıdını salon görevlilerine teslim ediniz.**

**BAŞLAYINIZ DENİLMEYEN SORU KİTAPÇIĞINI AÇMAYINIZ.**



## 1. OTURUM

(111) DİN KÜL. AHL. BİL. – 1

1. “Şüphesiz göklerin yaratılmasında, gece ile gündüzün birbiri peşinden gelmesinde, insana fayda veren şeylerle yüklü olarak denizde yüzüp giden gemilerde, Allah’ın gökten indirip de ölü toprağı canlandırdığı suda, yer-yüzünde her çeşit canlıyı yaymasında, rüzgârları ve yer ile gök arasında emre hazır bekleyen bulutları yönlendirmesinde düşünen bir toplum için birçok delil vardır.”

(Bakara suresi, 164. Ayet.)

**Aşağıdakilerden hangisi bu ayetin temel mesajıdır?**

- A) Allah’ın her şeyi belli bir plan ve ahenge göre yaratmasında alınacak bir ibret vardır.  
B) Allah denizde ve karada var ettiği her şeyi insanın hizmetine vermiştir.  
C) Allah düşünen ve aklını kullananları sever.  
D) Allah, göklerin ve yerin tek yaratıcısıdır.

2. **Aşağıdaki dinlerden hangisi diğerlerinden farklıdır?**

- A) İslam B) Hristiyanlık  
C) Yahudilik D) Hinduizm

3. **Aşağıdaki seçeneklerden hangisi İslam’a göre “Niçin ibadet edilir?” sorusunun cevabı olamaz?**

- A) İnsanlara dindar görünmek için  
B) Allah ibadete layık olduğu için  
C) Allah ibadeti emrettiği için  
D) Cenneti hak etmek için

4. • Tanrının varlığı kabul edilmez.  
• Evren ve evrendeki olayların tesadüfen meydana geldiği savunulur.  
• Dinin insanları uyuşturduğu iddia edilir.

**Bu bilgiler aşağıdaki inanma biçimlerinden hangisine aittir?**

- A) Büyücülük  
B) Çok tanrıcılık  
C) Tanrıtanımazlık  
D) Şeytana tapıcılık

5. **Temiz su bulunmadığı veya suyun kullanılmasına engel oluşturan sebepler olduğunda temiz bir toprakla yüz ve kolların meshedilmesine ne denir?**

- A) Gusül B) Teyemmüm  
C) Taharet D) Abdest

6. **Mekke’den Medine’ye göç eden Müslümanlara ne ad verilmiştir?**

- A) Sahabe B) Havari  
C) Muhacir D) Ensar

7. **Aşağıdakilerden hangisi sadece manevi temizliktir?**

- A) Tövbe etmek  
B) Çevreyi temizlemek  
C) Gusül abdesti almak  
D) Namaz abdesti almak

8. **Besmele ile birbirinden ayrılan ayetlerden oluşan Kur’an bölümüne ne ad verilir?**

- A) Cüz B) Hizb  
C) Mushaf D) Sure

9. **Kur’an-ı Kerim’i baştan sona ezberleyen kimseye ne ad verilir?**

- A) Hatim B) Hafız  
C) İmam D) Hatip

10. **Kelime olarak kapalı şeyi ortaya çıkarmak, açmak, yorumlamak anlamına gelir. Terim olarak ise Kur’an-ı Kerim’i açıklayıp yorumlayan ilim dalıdır.**

**Hakkında bilgi verilen ilim dalı aşağıdakilerden hangisidir?**

- A) Kelam B) Hadis  
C) Fıkıh D) Tefsir

11. **Hz. Muhammed’le ilgili aşağıda verilen bilgilerden hangisi diğerlerinden farklıdır?**

- A) Ticaretle uğraşmıştır.  
B) Çoluk çocuk sahibi olmuştur.  
C) Kur’an’ı insanlara açıklamıştır.  
D) Komşularıyla iyi ilişkiler kurmuştur.

12. **Mekke’de Müslümanların işken celere maruz kalması ve dinlerini yaşayamamaları sebebiyle ilk hicret ettikleri yer aşağıdaki-lerden hangisidir?**

- A) Medine B) Taif  
C) Habeşistan D) Hayber

13. **Araplar her şeyin yaratıcısının Allah olduğuna inanmalarına rağmen putları ona eş tutar, Allah’a ulaşmada putları yardımcı olarak görürlerdi.**

**Kur’an’da bu şekilde inananlar aşağıdaki kavramlardan hangisiyle isimlendirilmiştir?**

- A) Müşrik B) Hanif  
C) Mü’min D) Münafık

14. **Hz. Muhammed İslamı anlatmaya ilk olarak aşağıdakilerden hangisi ile başlamıştır?**

- A) Köleler B) Liderler  
C) Zenginler D) Yakın çevresi

15. **Kur’an-ı Kerim’in 23 yılda parçalar halinde indirilmesi aşağıdakilerden hangisine katkı sağlamamıştır?**

- A) Yazılıp ezberlenmesine  
B) Kitap haline getirilmesine  
C) Anlaşılması ve uygulanmasına  
D) Ortaya çıkan problemleri çözmeye

16. **Kur’an’a göre insan hakkında aşağıdakilerden hangisi söylenemez?**

- A) Diğer varlıklar insanın emrine verilmiştir.  
B) Hür ve sorumsuz bir varlıktır.  
C) Yaratılanların en üstünüdür.  
D) Yeryüzünün halifesidir.

17. **Hz. Muhammed’i Müslüman olmadığı halde müşriklere karşı koruyan yakın akrabası aşağıdakilerden hangisidir?**

- A) Ebu Lehep  
B) Ebu Süfyan  
C) Ebu Talip  
D) Abdülmuttalip

## 1. OTURUM

18. Hz. Muhammed ne zaman ve nerede vefat etmiştir?

- A) 632 - Medine
- B) 630 - Medine
- C) 632 - Mekke
- D) 630 - Mekke

19. Aşağıdakilerden hangisi Kur'an-ı Kerim'in ana konularından biri değildir?

- A) İnanç
- B) Tarih
- C) İbadet
- D) Ahlak

20. Peygamberimiz her yıl Ramazan ayında o güne kadar inen ayetleri Cebrail ile karşılıklı okumuşlardır. Bu uygulama İslam toplumuna yerleşmiş ve gelenek halini almıştır.

**Bu durum aşağıdakilerden hangisiyle isimlendirilir?**

- A) Tefsir
- B) Hatim
- C) Hafızlık
- D) Mukabele

### (112) DİN KÜL. AHL. BİL. – 2

1. Peygamberimizin ahlaki sorulduğunda Hz. Aişe'nin verdiği cevap aşağıdakilerden hangisidir?

- A) Örf ve Âdetler
- B) Anne-Baba
- C) Kur'an
- D) Sünnet

2. Aşağıdakilerden hangisi dinin amaçlarından biri değildir?

- A) İyiliğe yönlendirmek
- B) Doğruluğa teşvik etmek
- C) Kötülüklerden uzaklaştırmak
- D) Zengin olmayı sağlamak

3. • 1207 yılında Belh şehrinde doğmuştur.  
• Asıl adı Celaledin Muhammed'dir.  
• Mesnevi adlı eseri vardır.  
• 1273 yılında Konya'da vefat etmiştir.

**Bu bilgiler aşağıdakilerden hangisine aittir?**

- A) Mevlana
- B) Yunus Emre
- C) Hacı Bektaş Veli
- D) Hacı Bayram Veli

4. Sevap ve günah kavramları hangi tür değerleri ifade etmek için kullanılır?

- A) Toplumsal
- B) Ahlaki
- C) Dini
- D) Estetik

5. İslam tarihinde meydana gelen aşağıdaki olaylardan hangisinin "İnsan Hakları Evrensel Beyanamesi" niteliğinde olduğu kabul edilmektedir?

- A) 628 yılında yapılan Hudeybiye Antlaşması
- B) Hz. Peygamber'in 632 yılında yaptığı Veda Hutbesi
- C) Hz. Peygamber'in Mekke'nin fethinden sonra halka yaptığı konuşma
- D) 622 yılında yapılan Medine Sözleşmesi

6. Aşağıdakilerden hangisi laik bir devlet yapısında bulunmaz?

- A) Din hürriyeti ana ilke olarak kabul edilir.
- B) Vatandaşlar, belli bir dinin kurallarına uymaya zorlanamaz.
- C) İnanıldığı dini uygulamak isteyenlere imkân hazırlanır.
- D) Vatandaşların bir dine bağlı olmaları teşvik edilir.

7. "...Kimse ibadete, dini ayin ve törenlere katılmaya, dini inanç ve kanaatlerini açıklamaya zorlanamaz, dini inanç ve kanaatlerinden dolayı kınanamaz ve suçlanamaz... Herkes düşünce ve kanaat hürriyetine sahiptir. Her ne sebeple olursa olsun kimse düşünce ve kanaatlerini açıklamaya zorlanamaz..."

**Anayasa'da yer alan bu ifadelerle aşağıdaki hak ve özgürlüklerden hangisi garanti altına alınmıştır?**

- A) Din ve vicdan özgürlüğü
- B) Seyahat özgürlüğü
- C) İfade özgürlüğü
- D) Yaşama hakkı

8. Aşağıdakilerden hangisi Türklerin İslam dinini benimsemelerinde etkili olmamıştır?

- A) Müslüman tüccarların dürüstlüğü.
- B) İslam dininin hoşgörü ve sevgi anlayışı.
- C) İslam dininin Türklerin mizacına uyması.
- D) Arapların Türkleri Müslümanlığa zorlaması.

9. • Ünlü Müslüman Türk denizcisi ve coğrafyacısıdır.  
• Dünya haritasını günümüzdeki ne yakın ölçülerde çizmiştir.  
• Yaşadığı dönemde, henüz keşfedilmemiş Amerika kıtasını da haritasında göstermiştir.

**Hakkında bilgi verilen bilim adamı kimdir?**

- A) Ali Kuşçu
- B) Piri Reis
- C) Harezmi
- D) Uluğ Bey

10. Kişinin, dinî ve ahlaki değerleri, doğruluk, dürüstlük, sevgi, saygı, şefkat, merhamet vb. davranışları kazanmasında en etkili kurum aşağıdakilerden hangisidir?

- A) Aile
- B) Okul
- C) Arkadaş
- D) Yayın organları

11. Türklerin İslam dinini kabul etmeden önceki tanrı inancı aşağıdakilerden hangisidir?

- A) Brahma
- B) Yehova
- C) Gök Tanrı
- D) Maniheizm

12. Aşağıdakilerden hangisi laikliğin temel amaçlarından biridir?

- A) Dinin kurallarını hukukun üstünde tutmak
- B) Dini görüşlere karşı tarafsız davranmak
- C) Belirli inanç gruplarını üstün kılmak
- D) Dini inançlara karşı çıkmak

## 1. OTURUM

13. Yunus Emre hakkında aşağıda verilen bilgilerden hangisi doğrudur?

- A) Mesnevi adlı eseri vardır.
- B) Ahilik teşkilatının kurucusudur.
- C) Selçuklular döneminde Konya'da yaşamıştır.
- D) Türk tasavvuf edebiyatı şairlerinden biridir.

14. Aşağıdakilerden hangisi yazılı olmadığı halde toplum hayatını düzenleyen kurallardandır?

- A) Sanat
- B) Kültür
- C) Örf – Âdet
- D) Hukuk

15. "Yavrucuğum! Küçümseyerek insanlardan yüz çevirme ve yeryüzünde böbürlenerek yürüme! Zira Allah kendini beğenmiş öğünüp duran kimseleri asla sevmez."  
(Lokman suresi, 18. Ayet)

Hz. Lokman'ın oğluna verdiği öğütlerin yer aldığı bu ayette aşağıdaki kötü davranışlardan hangisi reddedilmektedir?

- A) Kibir
- B) Gıybet
- C) Haset
- D) Kin ve nefret

16. Aşağıdakilerden hangisi Türklerin İslam anlayışının oluşmasında daha çok etkili olmuş şahsiyetlerden biridir?

- A) Tirmizi
- B) Ebu Hanife
- C) Ebu Davut
- D) Ebubekir Razi

17. Günümüzde Türkiye'nin doğusunda, Irak'ta, Suriye'de ve Mısır'da yaygın olan ameli mezhep aşağıdakilerden hangisidir?

- A) Hanbelilik
- B) Malikilik
- C) Hanefilik
- D) Şafilik

18. Aşağıdakilerden hangisi ilk Müslüman Türk Devletidir?

- A) Karahanlılar
- B) Endülüs Emevi
- C) Büyük Selçuklu
- D) Anadolu Selçuklu

19. Aşağıdakilerden hangisi Türklerin Müslüman olmasını hızlandıran etkenlerden değildir?

- A) Müslüman tüccarların söz ve davranışları ile örnek olmaları
- B) Türklerin Abbasiler döneminde devlet ve ordu yönetiminde görev almaları
- C) Emevilerin Arap olmayan milletlere karşı tutumları
- D) Ehl-i Beyt'e mensup bazı kişilerin Türkistan bölgesine göç etmeleri

20. Aşağıdakilerden hangisi İslam dünyasında inançla ilgili benimlenen yaygın mezheplerden biridir?

- A) Şafilik
- B) Maturidilik
- C) Hanefilik
- D) Yesevilik

### (115) DİN KÜL. AHL. BİL. – 5

1. Bir amaca ulaşmak için gereken bütün tedbirleri aldıktan sonra işin sonucunu Allah'a bırakıp ondan yardım beklemeye ne denir?

- A) Kader
- B) Kaza
- C) Tevekkül
- D) İrade

2. Yüce Allah'ın sevmediği, hoşlanmadığı ve yapılmasını istemediği davranışlara genel olarak ne denir?

- A) Zan
- B) Şer
- C) Nifak
- D) Fitne

3. Allah'ın önceden takdir ettiği olayların, zamanı geldiğinde ortaya çıkması şeklinde tarif edilen kavram aşağıdakilerden hangisidir?

- A) Kaza
- B) İrade
- C) Kader
- D) Ecel

4. İnsanın yaptıklarından sorumlu tutulmasının nedeni aşağıdakilerden hangisidir?

- A) Yetenekli olması
- B) Çalışkan olması
- C) Güçlü olması
- D) Akıllı olması

5. "Ey iman edenler! Allah'a ve ahiret gününe inanmadığı halde malını gösteriş için harcayan kimse gibi, başa kakmak ve incitmek suretiyle, yaptığınız hayırları boşa çıkarmayın..."  
(Bakara suresi, 264. Ayet.)

Ayette eleştirilen davranış aşağıdakilerden hangisidir?

- A) Haset
- B) Riya
- C) İftira
- D) Gıybet

6. Toplumsal yardımlaşma ve dayanışmaya katkısı diğerlerine göre daha az olan ibadet aşağıdakilerden hangisidir?

- A) Kurban
- B) Zekât
- C) Hac
- D) Sadaka

7. "Kullarım sana, beni sorduğunda (söyle onlara): Ben çok yakınım. Bana dua ettiği vakit dua edenin dileğine karşılık veririm. O halde (kullarım da) benim davetime uysunlar ve bana inansınlar ki doğru yolu bulsunlar."  
(Bakara suresi, 186. Ayet)

Aşağıdakilerden hangisi bu ayetten çıkarılacak bir sonuç değildir?

- A) Allah insanların gösterişten uzak durmalarını ister.
- B) Allah insanları kendisine dua etmeye çağırır.
- C) Allah ile insan arasında yakın bir ilişki vardır.
- D) Allah insanların dualarına karşılık verir.

8. • İnsanın Allah'la olan ilişkisini güçlendirir.  
• Güzel ahlakı ve sorumluluk bilincini geliştirir.  
• Sosyal yardımlaşmayı teşvik eder.

Verilenlerin tamamı aşağıdakilerden hangisinin faydaları arasında yer alır?

- A) Ahlakın
- B) İbadetin
- C) Örfün
- D) Yasaların

9. Aşağıdakilerden hangisi örnek bir Müslüman'ın özelliği olamaz?

- A) Akrabalarını ziyaret eder.
- B) Ölçü ve tartıda hile yapmaz.
- C) Boş ve yararsız işlerden uzak durur.
- D) Başkalarının kusurları ile alay eder.

## 1. OTURUM

10. Hz. Muhammed açıktan tebliğle emrolunduğunda Safa Tepesi'ne çıkmış ve şehir halkını oraya davet etmişti. Onlara: "Şayet ben size şu tepenin arkasında bir düşman var desem, inanır mısınız?" diye sorduğunda Mekkeliler; "sen asla yalan söylemedin, senin söyleyeceğin her şeye inanırız." dediler.

**Mekkelilerin bu tepkisi Hz. Muhammed'in hangi özelliğinin Peygamber olmadan önce de Mekkeliler tarafından kabul gördüğüne delildir?**

- A) Cesareti
- B) Bilgili oluşu
- C) Güvenilirliği
- D) Hoşgörüsü

11. Aşağıdakilerden hangisi Kur'an'da belirtilen örnek insanın özellikleri arasında yer almaz?

- A) Güvenilir
- B) Savurgan
- C) Hoşgörülü
- D) Fedakâr

12. "Kolaylaştırınız zorlaştırmayınız, müjdeleyiniz, nefret ettirmeyiniz." (Hadisi Şerif)

**Aşağıdakilerden hangisi bu hadise örnek oluşturur?**

- A) Teyemmüm abdesti ile namaz kılınması
- B) Namazın beş vakit olarak farz kılınması
- C) Namaz için abdestin gerekli olması
- D) Ramazan orucunun farz olması

13. Aşağıdakilerden hangisi ameli-fikhi mezheplerden biri değildir?

- A) Hanbelilik
- B) Malikîlik
- C) Caferîlik
- D) Mu'tezile

14. Hz. Peygamberin ailesi ve onun soyundan gelenler için kullanılan kavram aşağıdakilerden hangisidir?

- A) Ehl-i Resul
- B) Ehl-i Beyt
- C) Hane-i Saadet
- D) Ümmet-i Muhammed

15. Kültürümüzde Hz. Muhammed sevgisinin sembolü aşağıdaki-lerden hangisidir?

- A) Lale
- B) Güvercin
- C) Gül
- D) Bülbül

16. Mezhepler hakkında aşağıdaki ifadelerden hangisi yanlıştır?

- A) Ameli ve itikadi mezheplerin ortaya çıkmasında siyasetin etkisi olmamıştır.
- B) Mezhep farklılıklarında sosyal, kültürel ve coğrafi sebeplerin etkisi olmuştur.
- C) Farklı kültürler farklı din anlayışlarının ortaya çıkmasında etkili olmuştur.
- D) Mezhep farklılıkları doğal olup birer zenginliktir.

17. İslam tarihinde Hz. Muhammed'in vefatından sonra halifeliğe Hz. Ali'nin getirilmesinin gerektiğini savunan mezhep aşağıdakilerden hangisidir?

- A) Mürcie
- B) Mutezile
- C) Şia
- D) Eşarilik

18. Aşağıdakilerden hangisi İslam düşüncesindeki yorumların birleştiği temel konulardan biri değildir?

- A) Tevhit
- B) Nübüvvet
- C) Kur'an-ı Kerim
- D) Örf ve Adetler

19. Aşağıdakilerden hangisi İslam düşüncesinde ortaya çıkan yorum farklılıklarının sonuçlarından biri değildir?

- A) Ekonomik rahatlık sağlamıştır.
- B) Düşünce zenginliği getirmiştir.
- C) Dini hayatta kolaylık sağlamıştır.
- D) Tasavvufi oluşumları ortaya çıkarmıştır.

20. Bir gün yoldan cenaze geçerken Hz. Muhammed, ayağa kalktı. Arkadaşları cenazenin Yahudi birisine ait olduğunu söyleyince Hz. Peygamber; "O da bir insan değil mi? buyurdu.

**Bu olay Hz. Muhammed'in aşağıdaki ahlaki özelliklerinden hangisine örnektir?**

- A) Kararlılığına
- B) Güvenirliğine
- C) Fedakârlığına
- D) İnsan sevgisine

### (121) FELSEFE – 1

1. Özne (bilen) ile nesne (bilinen) arasındaki karşılıklı ilişkinin sonucu olan ürün aşağıdakilerden hangisidir?

- A) Doğa
- B) Bilgi
- C) Varlık
- D) İnsan

2. Aşağıdakilerden hangisi felsefe bilgisinin özelliklerinden değildir?

- A) Sonuçlarının kesin olması
- B) Düzenli ve sistemli olması
- C) Akla dayanması
- D) Eleştireli olması

3. Aşağıdakilerden hangisi felsefe ile bilimin ortak özelliklerindenidir?

- A) Sonuçlarının kesin olması
- B) Deneye dayanması
- C) Objektif olması
- D) Akla dayanması

4. Aşağıdaki sorulardan hangisi bilim adamından daha çok filozofu ilgilendirir?

- A) Varlık var mıdır?
- B) Doğa olaylarının nedenleri nelerdir?
- C) Toplumsal değişimin nedenleri nelerdir?
- D) Küresel ısınmayı önlemek için ne tür çalışmalar yapılmalıdır?

## 1. OTURUM

5. “Suje” kavramının tanımı aşağıdakilerden hangisidir?

- A) Bilgisini edinmek için yöneldiğimiz herşeydir.
- B) Belli bir zamanda ve mekanda var olan herşeydir.
- C) Bilgiyi ortaya koymak için nesneye yönelen öznedir.
- D) Özne ile nesne arasındaki ilişkinin sonucunda ortaya çıkan üründür.

6. • “Akla dayanan bilgi doğru bilgidir.”  
• “Deneye dayanan bilgi doğru bilgidir.”  
• “Sezgiye dayanan bilgi doğru bilgidir.”

**Yukarıda verilenler öncelikle aşağıdaki sorulardan hangisine verilmiş yanıtlardandır?**

- A) Bilimsel yöntemin özellikleri nedir?
- B) Varlığın ana maddesi nedir?
- C) Doğru bilginin ölçütü nedir?
- D) Gerçeklik nedir?

7. Aşağıdakilerden hangisi, kesin ve doğru bilginin **mümkün olmadığını** savunan görüşlerden biridir?

- A) Rasyonalizm
- B) Entüisyonizm
- C) Kritisizm
- D) Septisizm

8. R. Descartes’a göre; Zihnimizin duyularla ve deneyle elde ettiği bilgiler her zaman açık seçik değildir. Doğuştan gelen bilgiler genel geçer ve doğru bilgilerdir.”

**Bu görüşleriyle Descartes doğru bilginin kaynağı olarak aşağıdakilerden hangisini göstermektedir?**

- A) Duyum
- B) Deney
- C) Fayda
- D) Akıl

9. “Felsefe varlık, değer ve Tanrı üstüne doğruluğu test edilemeyen görüşler öne sürmemelidir. Felsefenin görevi dildeki kavramları çözümlenektir. Dildeki kavramlar çözümlendiği takdirde kafa karışıklığı yaratan geleneksel felsefe problemleri de çözümlenebilir.”

**Bu görüş hangi felsefe akımına aittir?**

- A) Fenomenoloji
- B) Analitik Felsefe
- C) Rasyonalizm
- D) Pragmatizm

10. **Auguste Comte’a göre dış dünyaya ait “pozitif bilgi” nasıl kazanılır?**

- A) Akılla
- B) Sezgiyle
- C) Gözlem ve deneyle
- D) Metafizik güçlerle

11. **Aşağıdakilerden hangisi bilimi ürün olarak kabul eden düşüncülerdendir?**

- A) S.Toulmin
- B) T.Kuhn
- C) Sokrates
- D) H.Reichenbach

12. **Bilimsel bilginin uygulama alanı aşağıdakilerden hangisidir?**

- A) Teknoloji
- B) Matematik
- C) Din
- D) Felsefe

13. **Herhangi bir bilim dalında yapılan tüm etkinliklerin düzenli ve tutarlı hâle gelmesini sağlayan, belirli bir gerçekliğin algılanmasını ve açıklanmasını mümkün kılan kavramsal çerçeve aşağıdakilerden hangisiyle ifade edilir?**

- A) Nihilizm
- B) Paradigma
- C) Tabula Rasa
- D) Determinizm

14. **Bilimsel yöntemin araştırma aşamaları hangisinde doğru sıralamayla verilmiştir?**

- A) Deney - Hipotez - Bilimsel yasa - Teori
- B) Bilimsel yasa - Deney - Hipotez - Teori
- C) Teori - Bilimsel yasa - Hipotez - Deney
- D) Hipotez - Deney - Teori - Bilimsel yasa

15. İlk filozoflardan Thales, yaptığı ölçümlerle M.Ö Mayıs 585 yılında güneş tutulması yaşanacağını aylar öncesinden tahmin etmiştir.

**Bu tahmin aşağıdakilerden hangisine örnek oluşturur?**

- A) Genelleme
- B) Öndeyi
- C) Konu tespiti
- D) Deney

16. **“Varlık var mıdır” sorusuna “yoktur” şeklinde cevap veren düşünce akımı aşağıdakilerden hangisidir?**

- A) Nihilizm
- B) Realizm
- C) İdealizm
- D) Materyalizm

17. “Varlık; mutlak ruh’un kendi kendini aşması bir amaca doğru ilerlemesi, kendini bulması kendi bilincine ve özgürlüğüne varması sonucunda oluşur.”

**Bu görüşüyle varlığı idea olarak kabul eden filozof hangisidir?**

- A) K. Marx
- B) T. Hobbes
- C) F. Hegel
- D) Descartes

18. • Gerçekte var olan yer kaplayan cisimlerdir.  
• Cisimler, düşünceden bağımsız olarak yer kaplayan varlıklardır.  
• Ruh da bir cisimdir.

**T. Hobbes bu görüşleriyle varlık nedir sorusuna hangi yanıtı vermiştir?**

- A) Varlık oluştur.
- B) Varlık maddedir.
- C) Varlık ideadır.
- D) Varlık hem madde hem de ideadır.

## 1. OTURUM

19. R. Descartes'e göre varlığı meydana getiren cevherlerden "ruh"un fonksiyonu nedir?

- A) Düşünme
- B) Bedensel olma
- C) Yer kaplama
- D) Maddesel olma

20. Varlığın ana ögesinin düşünce olduğunu, insan düşüncesinden bağımsız bir nesnel dünyanın var olmadığını savunan felsefi görüş aşağıdakilerden hangisidir?

- A) Materyalizm B) Nihilizm
- C) İdealizm D) Düalizm

### (123) SEÇMELİ FELSEFE – 1

1. Aşağıdaki sorulardan hangisi felsefe sorusu değildir?

- A) Güzel nedir?
- B) Bilgilerimizin kaynağı nedir?
- C) İnsanın bu evrendeki yazgısı nedir?
- D) Toplumsal denetim kuralları nelerdir?

2. Aşağıdakilerin hangisinde formal bilimler birlikte verilmiştir?

- A) Felsefe – Sosyoloji
- B) Mantık – Matematik
- C) Antropoloji – Psikoloji
- D) Fizik – Kimya

3. Aşağıdakilerden hangisi felsefe ve bilimin ortak özelliklerinden değildir?

- A) Kesin sonuçlara ulaşma
- B) Eleştirel tavır takınma
- C) Akla ve mantığa dayanma
- D) Dünyayı ve insanı anlamaya çalışma

4. • Bilgilerimiz doğuştan mıdır?  
• Bilgilerimiz sonradan mı kazanılıyor?  
• Bilgilerimizin sınırı nedir?

**Bu soruları soran ve yanıt arayan felsefe dalı hangisidir?**

- A) Varlık felsefesi
- B) Bilgi felsefesi
- C) Din felsefesi
- D) Bilim felsefesi

5. Açık – seçik bilgiye ulaşmak için şüpheyi metod olarak kullanan 17. yüzyıl filozofu hangisidir?

- A) Protagoras B) Demokritos
- C) Descartes D) Locke

6. İnsan bilgisinin doğuştan geldiğini savunan, bunu kanıtlamak için matematik bilmeyen bir kimseye konuşma esasına dayanan diyalektik yöntemini kullanarak geometri problemini çözdüren filozof aşağıdakilerden hangisidir?

- A) Sokrates B) Aristoteles
- C) Farabi D) Hume

7. Felsefenin asıl uğraş alanı dildir. Felsefenin görevi dil çözümlemeleri yapmaktır. Dildeki kavramlar çözümlendiği taktirde kafa karışıklığı oluşturan geleneksel felsefe problemleri de çözümlenebilir.

**Yukarıdaki görüşü savunan düşünce akımı hangisidir?**

- A) Pozitivizm
- B) Rasyonalizm
- C) Septisizm
- D) Analitik Felsefe

8. Aşağıdaki düşünce akımlarından hangisinin anlamı yanlış verilmiştir?

- A) Pozitivizm – Olguculuk
- B) Entüisyonizm – Sezgicilik
- C) Rasyonalizm – Deneycilik
- D) Pragmatizm – Faydacılık

9. Aşağıdakilerden hangisi empirizm düşüncesine ait bir görüş olamaz?

- A) Bilginin kaynağı deney ve tecrübelerdir.
- B) İnsan zihni doğuştan boş bir levha gibidir.
- C) Doğru bilgiye sadece akılla ulaşılabilir.
- D) Bilgilerimizin kaynağı, yalnızca duyu organlarının faaliyetlerine bağlıdır.

10. "Gerçekler, insan yaşamında işe yarayan ve faydalı olan şeylerdir. Gerçeklerin değeri mutlak değil, insanlara sağladığı faydadır."

**Bu görüşü savunan düşünce akımı hangisidir?**

- A) Analitik felsefe
- B) Pragmatizm
- C) Fenomenoloji
- D) Kritisizm

11. Bilimin konusunu, ulaştığı sonuçları ve yöntemini sorgulayan felsefe dalı aşağıdakilerden hangisidir?

- A) Varlık felsefesi
- B) Mantık felsefesi
- C) Bilgi felsefesi
- D) Bilim felsefesi

12. • Bilimi anlamının yolu ürün olarak ortaya konmuş bilgiler yığınına incelemektir.  
• Bilimsel metinleri çözümlemek için, mantık dilini kullanmak gerekir.  
• Bilimselliğin ölçütü doğrulanabilirliktir.  
• Eğer bir önerme doğrulanabilir ya da yanlışlanabilir ise, o önerme anlamlıdır.

**Verilenler hangi filozof tarafından öne sürülen görüşlerdir?**

- A) H. Reichenbach
- B) Sokrates
- C) Farabi
- D) W. James



## 1. OTURUM

13. Bilimsel bir yaklaşımın, ele aldığı olguları ve bunlar arasındaki ilişkileri anlamak ve sorgulamak için doğrudan ve dolaylı olarak kullandığı tüm kabuller, inançlar, kavramsal ve deneysel araçlar bir başka deyişle bilimsel bir yaklaşımın doğayı ve toplumu algılama ve sorgulama biçimi aşağıdakilerden hangisiyle ifade edilir?

- A) Determinizm
- B) Tabula Rasa
- C) Paradigma
- D) Nihilizm

14. "Bilimsel bilgi" ile ilgili aşağıdaki yargılardan hangisi yanlıştır?

- A) Bilimde önermeler birbiriyle çelişir.
- B) Kişiden kişiye, toplumdaki topluma değişmez.
- C) Gözlenebilir olguları ele alır.
- D) Bilimsel yöntemle elde edilir.

15. "Bilimsel kuramların başarılı veya başarısız olmaları bilim adamlarının etkinliğine bağlıdır. Nasıl ki hayat mücadelesinde güçlü türler yaşar, güçsüz türler yok olursa, bilim teorilerinde de güçlü teoriler varlığını sürdürür, zayıf olanlar yok olur."

**Bu görüşü savunan filozof aşağıdakilerden hangisidir?**

- A) R.Descartes
- B) E. Husserl
- C) S. Toulmin
- D) I. Kant

16. Aşağıdakilerden hangisi bilimsel yöntemin aşamalarından değildir?

- A) Hipotezlerin kurulması
- B) Ön yargıların oluşması
- C) Olguların saptanması
- D) Teori geliştirme

17. Aşağıdakilerden hangisi metafiziğin varlıkla ilgili temel sorunlarından değildir?

- A) Evren sonlu mudur, sonsuz mudur?
- B) Varlık bir midir, çok mudur?
- C) Varlığın ana maddesi nedir?
- D) Bilginin kaynağı nedir?

18. Varlığı "oluş" olarak kabul eden filozoflar hangisinde birlikte verilmiştir?

- A) Farabi - Platon
- B) T. Hobbes - K. Marx
- C) Herakleitos - A. Whitehead
- D) Demokritos - F. Hegel

19. • İnsan düşüncesinden bağımsız bir nesnel dünya yoktur.  
• Madde gerçek değildir ve evrendeki herşey zihinseldir.

**Yukarıda verilen görüşler, varlığın ne olduğu konusundaki yaklaşımlardan hangisine aittir?**

- A) Varlığı idea olarak kabul eden yaklaşıma
- B) Varlığı oluş olarak kabul eden yaklaşıma
- C) Varlığı madde olarak kabul eden yaklaşıma
- D) Varlığı hem madde hem de düşünce olarak kabul eden yaklaşıma

20. Varlığın hem madde hem de düşüncenin ürünü olduğunu savunan düalist filozof hangisidir?

- A) Aristoteles B) R. Descartes
- C) Demokritos D) E. Husserl

(132) TARİH – 2

1. İslamiyet'in doğuşu sırasında Avrupa'da egemen olan din aşağıdakilerden hangisidir?

- A) İslamiyet B) Hristiyanlık
- C) Budizm D) Zerdüştlük

2. İslamiyet'i yaymak amacıyla Hindistan'a 17 sefer düzenleyen Türk hükümdarı, aşağıdakilerden hangisidir?

- A) Harun Reşid
- B) Gazneli Mahmut
- C) Yusuf Kadir Han
- D) Satuk Buğra Han

3. İslam öncesi Arap Yarımadası'nda çölde yaşayan Araplara verilen isim, aşağıdakilerden hangisidir?

- A) Bedevi B) Köle
- C) Mevali D) Medeni

4. Hz. Muhammed'in kendisine en büyük yardım ve desteği sağlayan eşi Hz. Hatice ve amcası Ebu Talib'i kaybettiği yıla İslam tarihinde verilen isim, aşağıdakilerden hangisidir?

- A) Fetret devri
- B) Veda senesi
- C) Ayrılık senesi
- D) Hüzün senesi

5. Müslümanların inançları uğruna Mekke'den Medine'ye göç etmelerine İslam tarihinde verilen isim, aşağıdakilerden hangisidir?

- A) Fetret B) Hicret
- C) Biat D) Cihat

6. Müslümanlarla Bizans İmparatorluğu arasında yapılan ilk savaş, aşağıdakilerden hangisidir?

- A) Mute Seferi B) Bedir Savaşı
- C) Taif Seferi D) Hendek Savaşı

## 1. OTURUM

7. Aşağıdaki halifelerden hangisi döneminde Kuran ayetleri ilk kez bir kitap hâlinde bir araya getirilmiştir?
- A) Hz. Ali  
B) Hz. Osman  
C) Hz. Ebu Bekir  
D) Hz. Ömer
8. İslam tarihinde Muaviye Dönemi'nde yapılan İstanbul kuşatmasına katılıp burada şehit olan ve mezarı İstanbul'da bulunan sahabe, aşağıdakilerden hangisidir?
- A) Halid Bin Velid  
B) Enes Bin Malik  
C) Selman-ı Farisi  
D) Eyüp El Ensari
9. Kur'an-ı Kerim'i açıklayan ve yorumlayan bilim dalı aşağıdakilerden hangisidir?
- A) Hadis  
B) Fıkıh  
C) Tefsir  
D) Kelam
10. Türklerde İslam öncesi inanışa ait aşağıda verilen bilgilerden hangisi yanlıştır?
- A) Gök Tanrı inancı vardır.  
B) Ahiret inancı vardır.  
C) Temizliğe önem verilmiştir.  
D) Din adamlarına üstünlük tanınmıştır.
11. İspanya'yı fetheden İslam orduları komutanı aşağıdakilerden hangisidir?
- A) Tarık Bin Ziyad  
B) Fatih Sultan Mehmet  
C) Gazneli Mahmut  
D) Selahattin Eyyubi
12. Aşağıdakilerden hangisi Orta Asya'da kurulan ilk Müslüman Türk devletidir?
- A) Karahanlılar  
B) Hunlar  
C) Gazneliler  
D) Selçuklular
13. Sultan Alp Arslan'ın Selçuklu Devleti'nin başına geçtikten sonra vezirlik makamına getirdiği devlet adamı, aşağıdakilerden hangisidir?
- A) Tonyukuk  
B) Amidülmülk  
C) Nizamülmülk  
D) Dergezini
14. Yusuf Has Hacip tarafından yazılan ve "mutluluk veren bilgi" anlamına gelen eser, aşağıdakilerden hangisidir?
- A) Divan-ı Hikmet  
B) Kutadgu Bilig  
C) Atabetü'l Hakayık  
D) Divan-ı Lügati't Türk
15. Aşağıdakilerden hangisi Malazgirt Zaferi'nin sonuçlarından biri değildir?
- A) Anadolu'nun kapıları Türklere açıldı.  
B) Bizans'ın İslam dünyası üzerindeki baskısı sona erdi.  
C) Türklerin İslam dünyasındaki saygınlığı arttı.  
D) Bizans Doğu-Batı olmak üzere ikiye ayrıldı.
16. Aşağıdakilerden hangisi Selçuklularda hükümdarın silahını taşıyan, aynı zamanda saray silahhanesine bakan görevlilerin başıdır?
- A) Emir-i Candar  
B) Emir-i Alem  
C) Emir-i Silah  
D) Emir-i Dad
17. Erzurum merkez olmak üzere Anadolu'da kurulan ilk Türk Beyliği aşağıdakilerden hangisidir?
- A) Danişmentliler  
B) Saltuklular  
C) Mengücekliler  
D) Artuklular
18. Aşağıdakilerden hangisi Büyük Selçuklu Devleti'nin ordu teşkilatında bulunan bölümlerden biri değildir?
- A) Yeniçeriler  
B) Hassa Ordusu  
C) Sipahiler  
D) Gulam-ı Saray
19. Kayseri'de bulunan Gevher Nesibe Darüşşifası aşağıdaki devletlerden hangisi döneminde yapılmıştır?
- A) Karahanlılar  
B) Anadolu Selçuklu Devleti  
C) Osmanlı Devleti  
D) Gazneliler
20. Aşağıdakilerden hangisi Moğol İmparatorluğu'nun parçalanmasından sonra ortaya çıkan devletlerden biri değildir?
- A) İlhanlı Devleti  
B) Çağatay Devleti  
C) Babür Devleti  
D) Altınordu Devleti

(136) TARİH – 6

1. Göçebe hayat süren Araplara verilen isim aşağıdakilerden hangisidir?
- A) Mevlevi  
B) Bedevi  
C) Mevali  
D) Medeni
2. Aşağıdakilerden hangisi Hz. Muhammed'in ilk eşidir?
- A) Hz. Ayşe  
B) Hz. Hatice  
C) Hz. Sevide  
D) Hz. Zeynep
3. Hz. Muhammed'in vefatından sonra onun yerine devlet başkanı olan kimseye ne ad verilir?
- A) Halife  
B) Hükümdar  
C) Sultan  
D) Kadı

## 1. OTURUM

4. Aşağıdakilerden hangisi Türklerin Müslüman olmadan önce benimsedikleri Gök tanrı inancına ait özelliklerden biri değildir?

- A) Ahiret, cennet ve cehennem inancı vardır.
- B) Temizliğe önem verilmiştir.
- C) Ruhban sınıfı vardır.
- D) Gök Tanrıya inanılır.

5. Aşağıdakilerden hangisi Türklerin İslamiyet'i kabulünden sonra yetiştirdikleri bilim adamlarından biri değildir?

- A) Farabi
- B) Biruni
- C) Harezmi
- D) Arşimet

6. İslamiyet'i kabul eden ilk Türk boyu aşağıdakilerden hangisidir?

- A) Karluklar
- B) Avarlar
- C) Kumanlar
- D) Peçenekler

7. Aşağıdakilerden hangisi Mısır'da kurulan ilk Türk devletlerinin özelliklerinden değildir?

- A) Halkın çoğunluğu Arap'tır.
- B) Mısır'a İslam'ı getirmişlerdir.
- C) Kurucu ve yöneticileri Türk'tür.
- D) Mısır'ı bayındır hâle getirmişlerdir.

8. Karahanlı Devleti'nde İslamiyet'i resmî din olarak kabul eden hükümdar, aşağıdakilerden hangisidir?

- A) Arslan Han
- B) Kılıç Buğra Han
- C) Satuk Buğra Han
- D) Bilge Kül Kadir Han

9. Gazneli Devleti'nin yıkılış sürecine girmesinde etkili olurken, Büyük Selçuklu Devleti'nin kuruluşunu sağlayan savaş, aşağıdakilerden hangisidir?

- A) Malazgirt
- B) Talas
- C) Pasinler
- D) Dandanakan

10. "Oğuz" adına ilk kez aşağıdakilerden hangisinde rastlanılmıştır?

- A) Kutadgu Bilig
- B) Siyasetname
- C) Şehname
- D) Orhun Yazıtları

11. Hindistan'a 17 sefer düzenleyerek bu bölgede İslamiyet'in yayılmasını sağlayan Türk devlet adamı, aşağıdakilerden hangisidir?

- A) Gazneli Mahmut
- B) Selçuk Bey
- C) Ertuğrul Gazi
- D) Harun Reşid

12. İslam Devleti aşağıdaki şehirlerden hangisinde kurulmuştur?

- A) Cidde
- B) Mekke
- C) Medine
- D) Kudüs

13. Selçuklu şehzadelerini eğiten, onların iyi bir devlet adamı olmalarına yardımcı olan tecrübeli devlet görevlilerine ne ad verilir?

- A) Atabey
- B) Melik
- C) Derebey
- D) Amil

14. Aşağıdakilerden hangisi Mısır'da egemen olan Türk İslam devletlerinden biri değildir?

- A) Karahanlılar
- B) Tolunoğulları
- C) İhşidler
- D) Memlûkler

15. Büyük Selçuklu Devleti'nin ordu teşkilatının hangi birimindeki askerleri doğrudan sultana bağlı olup yaptığı hizmet karşılığında maaş alırlardı?

- A) Hassa ordusu
- B) Türkmenler
- C) Gulam ordusu
- D) Yardımcı kuvvetler

16. • Türk-İslam kültürünün Türkçe yazılmış ilk eserlerini verdiler.  
• İslamiyet'in Orta Asya'da yayılmasını sağladılar.

Yukarıda temel özellikleri verilen Türk-İslam devleti aşağıdakilerden hangisidir?

- A) Kök Türkler
- B) Karahanlılar
- C) Memlûkler
- D) Gazneliler

17. Büyük Selçuklularda devletin mali işleriyle ilgilenen kurum aşağıdakilerden hangisidir?

- A) Büyük Divan
- B) Vezaret Divanı
- C) Tuğra Divanı
- D) İstifa Divanı

18. Matematik, fizik, astronomi, felsefe, mantık ve siyaset alanlarında yetişmiş; Aristo başta olmak üzere eski Yunan filozoflarının eserlerini inceleyip yeni yorumlar getirdiği için "Muallimi sani" unvanını alan Türk bilim adamı aşağıdakilerden hangidir?

- A) El-Biruni
- B) Harezmi
- C) Farabi
- D) İbn-i Türk

19. Kölemen emiri Aybek Mısır'da Eyyubi Devleti'ne son vererek aşağıdaki devletlerden hangisini kurmuştur?

- A) Tolunoğulları
- B) İhşidler
- C) Gazneliler
- D) Memlûkler

20. Timurlular döneminde dil olarak aşağıdakilerden hangisi kullanılmıştır?

- A) Kırgız Türkçesi
- B) Özbek Türkçesi
- C) Çağatay Türkçesi
- D) Kazak Türkçesi

## 1. OTURUM

1. Aşağıdakilerden hangisi beşeri coğrafyanın çalışma alanlarından değildir?

- A) Tarım B) Turizm  
C) Sanayi D) Doğal afetler

2. Doğa ile insan sürekli etkileşim içerisindedir.

Aşağıdakilerden hangisi bu etkileşime örnek olarak gösterilebilir?

- A) Yükselti arttıkça sıcaklığın azalması  
B) Yer şekillerinin iklimi etkilemesi  
C) Sis olayının trafik kazalarına neden olması  
D) Aşırı yağışın heyelana neden olması

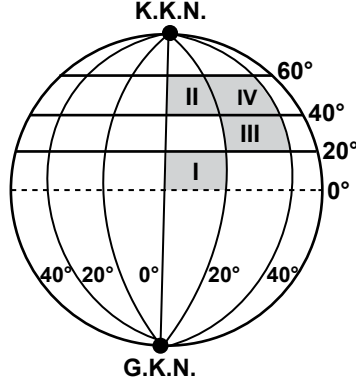
3. Aşağıdaki çalışmalardan hangisinde nüfusla ilgili bilgilere daha çok ihtiyaç duyulur?

- A) Ulaşım ağının planlanması  
B) Sulama kanallarının inşa edilmesi  
C) Deprem riski haritasının hazırlanması  
D) Eğitim ve sağlık alanındaki yatırımların belirlenmesi

4. Aşağıda verilen doğal unsurlardan hangisi hidrosfer içerisinde bulunur?

- A) Dağ B) Göl  
C) Bitki D) Toprak

5.



Şekilde gösterilen taralı alanların aynı ölçek kullanılarak siyasi haritaları çiziliyor.

Bu haritalardan hangi ikisinin boyutları aynı olur?

- A) I. ve II. B) II. ve III.  
C) II. ve IV. D) III. ve IV.

6. 16. yy'da yaşamış olan, Kitab-ı Bahriye eseri ve Dünya Haritası ile tanınan ünlü Türk denizcimiz aşağıdakilerden hangisidir?

- A) Piri Reis B) İbn-i Sina  
C) Ali Kuşçu D) Uluğ Bey

7. Bir yerin enlem derecesine bakarak aşağıdakilerden hangisi hakkında çıkarımda bulunabiliriz?

- A) Yükseltisi  
B) Yerel saati  
C) Yıllık sıcaklık ortalaması  
D) Başlangıç meridyenine uzaklığı

8. I. Dünya'nın yıllık hareketi esnasındaki hızı sabit değildir.  
II. Paralellerin boyu ekvatordan kutuplara doğru gidildikçe kısalır.  
III. Kuzey Yarım Küre'de yaz, Güney Yarım Küre'de kış mevsimi daha uzundur.

Yukarıdaki durumlardan hangileri Dünya'nın yörüngesinin elips olmasının sonucudur?

- A) I. ve II. B) I. ve III.  
C) Yalnız II. D) II. ve III.

9. Ülkemizde kış saati uygulamasına geçildiğinde, aşağıdaki şehirlerimizden hangisinin yerel saati ile ulusal saat arasındaki fark en fazla olur?

- A) Ankara B) Antalya  
C) Edirne D) Iğdır

10. İzohips yöntemi ile ilgili olarak aşağıda verilenlerden hangisi yanlıştır?

- A) Yer şekillerinin kuş bakışı görünümünü yansıtır.  
B) Aynı izohips üzerindeki yerlerin yükseltisi aynıdır.  
C) İzohipslerin her haritada bulunması zorunludur.  
D) Yükselti arttıkça izohipslerin boyları kısalır.

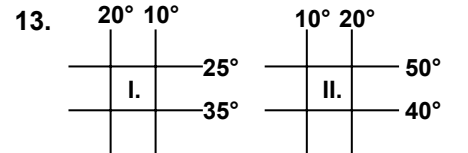
11. I. Sıcaklık  
II. Yer çekimi  
III. Cisimlerin gölge yönü

Yukarıdakilerden hangileri Dünya'nın hareketlerine bağlı olarak değişiklik gösterir?

- A) Yalnız I. B) Yalnız II.  
C) II. ve III. D) I. ve III.

12. Aşağıda Ekvator'dan kutuplara doğru gidildikçe değişiklik gösteren durumlardan bazıları verilmiştir. Bunlardan hangisi diğer üçünün nedenidir?

- A) Sıcaklığın azalması  
B) Bitki örtüsünün değişmesi  
C) Güneş ışınlarının geliş açısının daralması  
D) Denizlerin tuzluluk oranının azalması



Yukarıda coğrafi koordinatları verilen iki farklı bölge hakkında aşağıdakilerden hangisi söylenemez?

- A) İki bölgenin de doğusu ve batısı arasındaki mesafe aynıdır.  
B) Bölgelerin ikisi de orta kuşakta yer alır.  
C) I. Bölge'nin izdüşüm alanı daha büyüktür.  
D) II. Bölge'nin yerel saati daha ileridir.

## 1. OTURUM

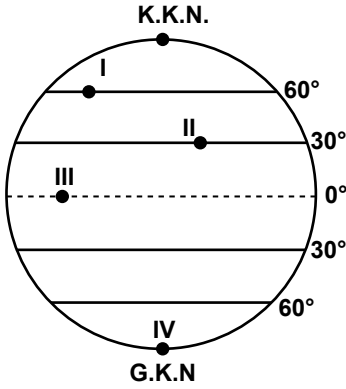
14. Aşağıdaki tarihlerin hangisinde Dünya'nın her yerinde gece ve gündüz süreleri eşittir?

- A) 3 Ocak B) 23 Eylül  
C) 21 Haziran D) 21 Aralık

15. Troposfer katmanının kalınlığı Ekvator çevresinde ortalama 12 km. iken kutuplarda 6 km.'ye kadar incelmektedir. Bu farklılığın sebebi nedir?

- A) Sıcaklık  
B) Yükselti  
C) Basınç  
D) Kara ve denizlerin dağılışı

16.



- I) III. ve IV. numaralı yerlerde termik kökenli basınç alanı oluşmuştur.  
II) II. numaralı yerden III. numaralı yere doğru esen rüzgarlar gittiği yerin sıcaklığını yükseltir.  
III) I. numaralı yer dinamik yüksek basınç alanıdır.

Şekilde numaralandırılarak verilen noktalarla ilgili olarak yukarıdakilerden hangileri doğrudur?

- A) Yalnız I. B) Yalnız II.  
C) I. ve III. D) II. ve III.

17. Aşağıdaki okyanus akıntılarında hangisi ulaştığı yerin sıcaklığını yükseltir?

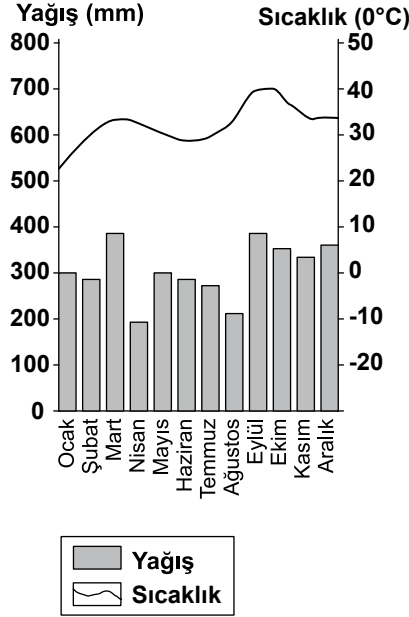
- A) Kanarya B) Labrador  
C) Gulf Stream D) Oyoşiva

18. I. Kara ve denizlerin dağılışı  
II. Dağların kıyıya uzanış şekli  
III. Dünya'nın yıllık hareketi  
IV. Bakı ve eğim

Güneş ışınlarının geliş açısı üzerinde yukarıda verilenlerden hangileri etkili olmaktadır?

- A) I. ve II. B) II. ve III.  
C) II. ve IV. D) III. ve IV.

19.



Yukarıda bir yerin yıllık sıcaklık ve yağış grafiği verilmiştir.

Sadece bu grafiğe bakılarak bu yer hakkında aşağıdakilerden hangisi kesinlikle söylenebilir?

- A) Başlangıç meridyeninin doğusunda yer alır.  
B) Dönenceler arasında yer alır.  
C) Doğal bitki örtüsü makidir.  
D) Nüfus miktarı fazladır.

20. Kırsal alanlarda sıcaklığın yükseldiği dönemde insanların yaylalarda yaşamasının temel sebebi aşağıdakilerden hangisidir?

- A) Yaylalardan yakın çevrenin gözlenebilmesi  
B) Yerden yükseldikçe sıcaklığın azalması  
C) Yaylalarda oksijen miktarının fazla olması  
D) Yaylalarda yer şekillerinin sade olması

## (155) COĞRAFYA – 5

1. Aşağıdakilerden hangisi bitki örtüsü zayıf ve seyrek olan yerlerin ortak özelliğidir?

- A) Sanayinin gelişmiş olması  
B) Yıllık yağış miktarının az olması  
C) Nüfus yoğunluğunun yüksek olması  
D) Yıllık sıcaklık ortalamasının düşük olması

2. İnsan faaliyetleri sonucunda bazı hayvan türleri yok olurken bazı türler de göçe zorlanmaktadır.

Buna göre aşağıdakilerden hangisi kesinlikle söylenebilir?

- A) Canlı türleri arasında rekabet yoktur.  
B) İnsan, canlıların yeryüzüne dağılımını etkiler.  
C) Besinlerin azalması canlı türlerini artırır.  
D) Canlılar sürekli göç halinde yaşamak zorundadırlar.

3. Atmosferdeki nemin en büyük kaynağı aşağıdakilerden hangisidir?

- A) Okyanuslar B) Denizler  
C) Akarsular D) Göller

4. Teke ve Taşeli platolarında aşağıdaki ekonomik faaliyetlerden hangisi daha yoğun yapılır?

- A) Turizm B) Madencilik  
C) Sanayi D) Hayvancılık

5.



Haritada üretim alanları noktalanarak gösterilen tarım ürünü aşağıdakilerden hangisidir?

- A) Fındık B) Buğday  
C) Pirinç D) Mısır

## 1. OTURUM

6. Türkiye'nin nüfus özelliklerinden hangisi ekonomik gelişimini olumsuz etkiler?

- A) İş gücü ihtiyacının karşılanması
- B) Nüfusun eğitim seviyesinin yükselmesi
- C) Bağımlı nüfus oranının yüksek olması
- D) Genç ve dinamik nüfusa sahip olması

7. Taş kömürü yataklarının çevresinde öncelikle hangi sanayi kolu gelişmiştir?

- A) Boya
- B) Demir-Çelik
- C) Mobilya
- D) Konfeksiyon

8. Aşağıdakilerden hangisi yağ bitkisidir?

- A) Zeytin
- B) Tütün
- C) Nohut
- D) Anason

9. Aşağıdakilerden hangisi biyoçeşitliliği olumlu yönde etkiler?

- A) Suların kirlenmesi
- B) Kentleşmenin hızlanması
- C) İnsan nüfusunun artması
- D) Erozyonla mücadele edilmesi

10. New York'un küresel etkiye sahip olmasında aşağıdaki fonksiyonlardan hangisi daha fazla etkili olmuştur?

- A) Tarım
- B) Madencilik
- C) Hayvancılık
- D) Ulaşım

11. Aşağıdakilerden hangisi tropikal yağmur ormanlarının genel özelliğidir?

- A) Uzun boylu ve geniş yapraklı ağaçlardan oluşurlar.
- B) Kış mevsiminde yapraklarını döken ağaçlardan oluşurlar.
- C) Kuzey yarım küre'de 45°-70° enlemleri arasında yayılış gösterirler.
- D) Biyoçeşitlilik bakımından fakir ormanlardır.

12. Aşağıdaki şehirlerden hangisinin küresel etkisi daha fazladır?

- A) Şam
- B) Buenos Aires
- C) Budapeşte
- D) Tokyo

13. Nüfus artış hızının yükselmesi aşağıdaki ülkelerden hangisinde sorun oluşturmaz?

- A) Almanya
- B) Pakistan
- C) Çin
- D) Mısır

14. Aşağıdaki illerimizin hangisinde petrol rafinerisi bulunmaktadır?

- A) İstanbul
- B) Zonguldak
- C) Isparta
- D) Kırıkkale

15. Aşağıdaki ürünlerden hangisinin tüketim noktalarına ulaştırılmasında modern depolama ve hızlı taşıma sektörlerine daha çok ihtiyaç duyulur?

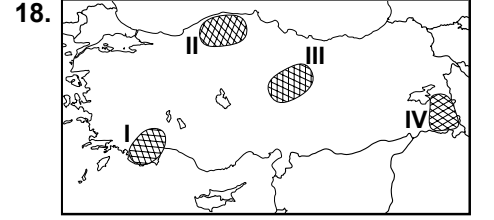
- A) Tahıllar
- B) Turunçgiller
- C) Deniz ürünleri
- D) Tekstil ürünleri

16. Türkiye'nin fiziki özelliklerinden hangisi ekonomisini olumsuz etkiler?

- A) Sık akarsu ağına sahip olması
- B) Kıyılarında büyük delta ovalarının olması
- C) Arazisinin büyük kısmının dağlık ve engebeli olması
- D) Platoların geniş yer tutması

17. Aşağıda verilen yerlerin hangisinde ekonomik faaliyetler daha yoğun yapılmaktadır?

- A) Van Gölü
- B) Çukurova
- C) Taşeli Platosu
- D) Kaçkar Dağları



18. Haritadaki taralı alanların hangisinde koyun sayısı daha fazladır?

- A) I.
- B) II.
- C) III.
- D) IV.

19. Bor minareli için aşağıdakilerden hangisi söylenemez?

- A) 250 değişik alanda kullanılır.
- B) Sanayide kullanımı yüksek teknoloji gerektirir.
- C) En önemli yatakları Sivas, Malatya, Kayseri ve Adana'dadır.
- D) Dünya rezervlerinin %72 si Türkiye'dedir.

20. Orman yangınları aşağıda verilen illerimizin hangisinde daha çok yaşanmaktadır?

- A) Muğla
- B) İstanbul
- C) Bolu
- D) Rize

(157) COĞRAFYA – 7

1. İlk medeniyetlerin genelde 0° - 40° kuzey enlemleri arasında gelişmesinde etkili olan en önemli faktör aşağıdakilerden hangisidir?

- A) İklim
- B) Yer şekilleri
- C) Doğal afetler
- D) Ulaşım imkanları

2. Aşağıdakilerden hangisi bir şehirde sanayi faaliyetlerinin gelişmesi sonucunda gözlenen bir durum değildir?

- A) Nüfus artışı
- B) Kültürel değişim
- C) Ekonomik gelişme
- D) Yüzölçümünün azalması

## 1. OTURUM

3. Aşağıdakilerden hangisi teknolojinin zararlarından biridir?

- A) Hayat standardını yükseltmesi
- B) Doğal kaynakları tüketmesi
- C) Yeni iş sahaları oluşturması
- D) Hizmet sektörünün çeşitlenmesi

4. Ülkemizde kara yollarının genellikle akarsu vadileri ve çöküntü alanlarıyla paralellik göstermesinin nedeni aşağıdakilerden hangisidir?

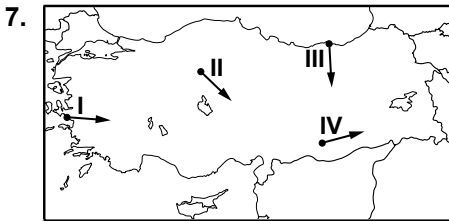
- A) Yüksek ve engebeli bir araziye sahip olması
- B) Çöküntü alanlarının alüvyonlu olması
- C) Bitki örtüsünün seyrek olması
- D) İklim koşullarının uygun olması

5. Türkiye'de iç ticaretin canlı olmasında aşağıdakilerden hangisinin etkisi daha azdır?

- A) Tarım faaliyetleri
- B) Sanayi faaliyetleri
- C) Enerji üretimi
- D) Kültürel çeşitlilik

6. Ülkemizin hemen hemen her bölgesinde tarihi yapıların bulunması aşağıdakilerden hangisiyle açıklanır?

- A) İç göçlerin fazla olmasıyla
- B) Farklı iklimlerin görülmesiyle
- C) Toprak yapısının uygunluğuyla
- D) Farklı medeniyetlerin yaşamasıyla



Ülkemizin yer şekilleri dikkate alındığında haritada numaralı oklardan hangisinde yapılacak karayolunun maliyeti daha yüksektir?

- A) I. B) II. C) III. D) IV.

8. Gebze'de nüfusun hızla artmasında etkili olan en önemli ekonomik faaliyet aşağıdakilerden hangisidir?

- A) Sanayi
- B) Tarım
- C) Turizm
- D) Madencilik

9. Aşağıdaki alanlardan hangisinde madencilik faaliyetleri daha yoğunudur?

- A) Antalya ve çevresi
- B) Zonguldak ve çevresi
- C) Adana ve çevresi
- D) Konya ve çevresi

10. Yaz kuraklığı aşağıdakilerden hangisinin azalmasına neden olur?

- A) Akarsu debisinin
- B) Maden rezervlerinin
- C) Yayılcılık faaliyetlerinin
- D) Tarımda sulama ihtiyacının

11. Aşağıdaki bölgelerden hangisi ekonomik özelliklerine göre belirlenmemiştir?

- A) Tarım Bölgesi
- B) Maden Bölgesi
- C) Dağlık Bölge
- D) Turizm Bölgesi

12. Aşağıdakilerden hangisi Almanya'da sanayinin gelişmesinde daha fazla etkili olmuştur?

- A) Coğrafi özelliklerinin uygun olması
- B) Dışarıdan çok sayıda işçi göçü alması
- C) Verimli tarım alanlarına sahip olması
- D) Ruhr ve Saar havzalarındaki maden yatakları

13. Bir yerde ticaretin gelişmesinde aşağıdakilerden hangisinin etkisi daha azdır?

- A) Toprak çeşidi
- B) Ulaşım imkanları
- C) Coğrafi konum
- D) Nüfus miktarı

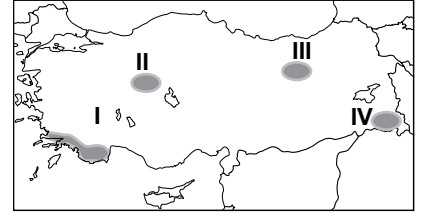
14. Aşağıdakilerden hangisi hidroser kökenli doğal olaydır?

- A) Deprem B) Kuraklık
- C) Tsunami D) Fırtına

15. Aşağıdakilerden hangisi insanın doğaya müdahalesine örnek gösterilemez?

- A) Fransa ile İngiltere arasında manş tünelinin yapılması
- B) Hollanda'nın polderlerle denizden toprak kazanması
- C) Japonya'nın dünyanın en büyük ihracatçı ülkelerinden biri olması
- D) Kaliforniya çölünün bir kısmının tarım alanına dönüştürülmesi

16.



Haritada numaralandırılarak verilen alanlardan hangisinde turuncu tarımı yaygındır?

- A) I. B) II. C) III. D) IV.

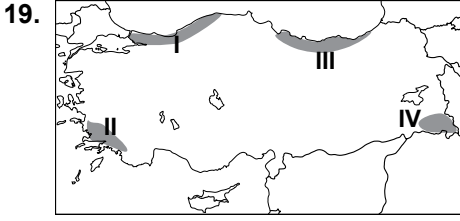
17. Aşağıdakilerden hangisi küresel ısınmanın sonuçlarından biri değildir?

- A) Su kaynaklarının azalması
- B) Kıyı seviyelerinin değişmesi
- C) Kutup buzullarının genişleyip büyümesi
- D) Daha yüksek enlemlerde tarım yapılabilmesi

18. Aşağıdaki ülkelerin hangisinde genç nüfus oranı daha fazladır?

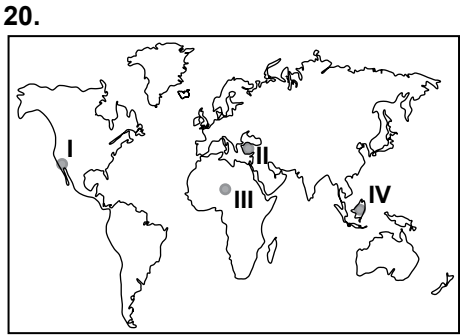
- A) Almanya B) Türkiye
- C) İspanya D) Japonya

## 1. OTURUM



Haritada numaralandırılarak verilen alanların hangisinde kış aylarında karayolu ulaşımında aksamalar daha fazla yaşanmaktadır?

- A) I. B) II. C) III. D) IV.




Dünya haritasında numaralandırılarak verilen yerlerin hangisinde deprem görülme olasılığı daha azdır?

- A) I. B) II. C) III. D) IV.

### (181) İNGİLİZCE – 1

1 - 19. sorularda boş bırakılan yere uygun gelen kelime ya da ifadeyi işaretleyiniz.



Your pen is - - - - the books.

- A) in B) on  
C) near D) under

2. My brother likes fruit very much. He - - - - eats banana and apple.

- A) always B) seldom  
C) rarely D) never

3. I go to the gym - - - - a week as I need to lose weight.

- A) never B) usually  
C) always D) three times

4. The baby is sleeping. - - - -, please!

- A) Speak louder  
B) Turn on TV  
C) Be quiet  
D) Call me

5. Aytaç - - - - the most handsome boy in the classroom when I was at university.

- A) is B) was  
C) were D) will

6. I think he - - - - the most elegant man in the party.

- A) been B) to be  
C) will be D) is being

7. People - - - - in terrible conditions during World War I.

- A) lived B) lives  
C) is living D) will live

8. He - - - - his speech at the meeting at 10 o'clock tomorrow.

- A) starts  
B) to start  
C) has started  
D) is going to start

9. My grandfather - - - - a laptop for me yesterday.

- A) talked B) drank  
C) bought D) helped

10. My sister - - - - always - - - - to music loudly when I am asleep.

- A) will / listen  
B) is / listening  
C) has / listened  
D) was / listening

11. People - - - - travel by horse-drawn vehicles in the past, but now they - - - - luxury cars.

- A) were / had  
B) are / were  
C) used to / have  
D) are / used to have

12. I don't want to wear - - - - old shoes any more.

- A) these B) that  
C) this D) an

13. The old lady doesn't have - - - - food to eat.

- A) any B) many  
C) some D) a few

14. Metin and Tark are brothers. - - - - father is a lawyer.

- A) His B) They  
C) Them D) Their

15. - - - - does your sister go abroad?

- A) Who B) What  
C) How often D) How much

16. You - - - - get up early to catch the early train.

- A) may B) should  
C) mustn't D) couldn't

17. A: There are strange noises coming from outside.

B: It - - - - be a cat.

- A) must B) will  
C) should D) have to

18. A: Does your father have a car?  
B: Yes, - - - - .

- A) he is B) he does  
C) he isn't D) he doesn't

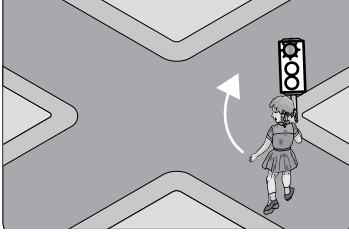
19. A: What are you doing now?  
B: - - - - .

- A) I'm cooking  
B) She likes eggs  
C) You're running  
D) They will swim



## 1. OTURUM

20. Aşağıda verilen resmi ifade eden seçeneği işaretleyiniz.



- A) It is on your right.  
B) Go along this road.  
C) Turn left at the traffic light.  
D) Turn right at the traffic light.

(181) ALMANCA – 1

1 - 19. sorularda boş bırakılan yere uygun gelen kelime ya da ifadeyi işaretleyiniz.

1. Ich ---- Klara. Wer ---- du?

- A) bin / bist      B) ist / sind  
C) bist / bin      D) ist / bist

2. A: ---- kommst du?

B: Ich komme aus Frankreich.

- A) Wie              B) Woher  
C) Wo              D) Was

3. Sie ist mein- ---- Schwester. Sie ---- Fatma.

- A) - / heißen      B) -en / heißt  
C) -e / hieß      D) -e / heißt

4. A: ---- ist deine Mutter von Beruf?

B: Sie ist Lehrerin.


- A) Was              B) Wie  
C) Wo              D) Wer

5. Montag, ----, Mittwoch

- A) Sonntag          B) Donnerstag  
C) Dienstag        D) Freitag

6. A: Wie spät ist es?

B: Es ist ----.



- A) Viertel nach fünf  
B) Viertel nach sieben  
C) Viertel nach neun  
D) Viertel nach acht

7. A: Was machen die Schüler?

B: Sie ---- Deutsch.

- A) lernt              B) lernen  
C) lernt              D) lerne

8. Das Fußballspiel ist ---- Mittwoch ---- 19.00 Uhr.

- A) um / im          B) im / um  
C) am / um          D) um / am

9. A: ---- isst du den Salat?

B: Mit ---- Gabel. (die)

- A) Wie / die          B) Wann / dem  
C) Wo / der          D) Womit / der

10. Ali hat ---- Hemd und ---- Hose gekauft.

- A) eine / ein          B) ein / eine  
C) einen / ein        D) ein / einen

11. A: Wo ist das Radio?

B: Es ist ---- dem Tisch.



- A) auf                B) in  
C) neben            D) unter

12. ---- ich schlafe, trinke ich ein Glas Milch.

- A) Zum              B) Vor  
C) Bevor            D) Danach

13. ---- du gestern Ayşe ---- ?

- A) Habe / sehen  
B) Hast / sah  
C) Habe / gesehen  
D) Hast / gesehen

14. A: Kannst du ---- ein Stift geben?

B: Ja, ich kann dir ein Stift geben.

- A) mir                B) dir  
C) mich              D) dich

15. Entschuldigung, ---- ist die Post?

- A) ob                B) wer  
C) wo                D) wann

16. A: ---- habt ihr gesprochen?  
B: Über die Prüfung.

- A) Worüber          B) Wohin  
C) Wonach          D) Woran

17. A: ---- kommt Monika?

B: Sie kommt ---- Deutschland.

- A) Wie / um          B) Wann / in  
C) Was / dem        D) Woher / aus

18. A: Bist du krank?

B: Nein, ich bin ---- krank.

- A) nicht              B) kein  
C) ist                D) sind

19. Ich ---- mir ein neues Telefon ----.

- A) bin / kaufen  
B) habe / gekauft  
C) hast / kaufen  
D) ist / gekauft

20. 22 – 11 = ?

- A) neun              B) zehn  
C) elf                D) zwölf

## 1. OTURUM

(181) FRANSIZCA – 1

1 - 16. sorularda boş bırakılan yere uygun gelen kelime ya da ifadeyi işaretleyiniz.

1. - - - - aiment le gâteau au chocolat.  
A) Tu B) Il C) Ils D) Elle
2. - - - - suis allé en Grèce.  
A) Je B) Tu C) Il D) Elle
3. Demet - - - - à Paris par avion avec la compagnie Turkish Airlines.  
A) est arrivé B) suis arrivé  
C) es arrivé D) est arrivée
4. Samedi dernier, nous - - - - déjeuné au restaurant.  
A) as B) avons  
C) es D) avez
5. Je - - - - sorti du café à 14 heures.  
A) ont B) as C) est D) suis
6. Yasmin a passé - - - - à Izmir chez son oncle.  
A) l'hiver B) la rue  
C) le cinéma D) le théâtre
7. Ma fille a travaillé - - - - l'été dans un supermarché.  
A) toute B) personne  
C) tout D) chaque
8. Ahmet a - - - - voiture de sport que moi.  
A) l'autre B) la même  
C) les mêmes D) certaine

9. A: Bora est divorcé?  
B: Non, - - - - .  
A) il est assez jeune  
B) il est encore marié  
C) il est encore sportif  
D) il est divorcé
10. Si tu venais dîner chez moi, je (j') - - - - contente.  
A) suis B) étais  
C) ai été D) serais
11. S'il fait chaud, mes parents - - - - à la plage.  
A) était allé B) étiez allés  
C) iront D) iriez
12. A: Tu travailles en France?  
B: Oui, j'y - - - - depuis deux ans.  
A) ne pas travailler  
B) ne travaille pas  
C) travailler  
D) travaille
13. A: Tu as déjà lu ce livre?  
B: Oui, je - - - - ai lu le mois dernier.  
A) le (l') B) leur  
C) les D) la (l')
14. A: Il aime la tarte aux fraises?  
B: Oui, il - - - - aime beaucoup.  
A) les B) du  
C) la(l') D) de la
15. A: Tu veux encore du café?  
B: Non, je ne veux plus - - - - café.  
A) des B) de C) du D) de la
16. Un violon sert à - - - - .  
A) fermer la porte  
B) faire de la peinture  
C) se laver les dents  
D) faire de la musique

17. Cümleler sırasıyla okunduğunda anlam bütünlüğünü bozan cümleyi bulunuz.

(I) Il est assez jeune. (II) Il y a du vent. (III) Il est gentil. (IV) Il a les yeux noirs.

A) III B) II C) I D) IV

18- 20. sorularda verilen resme göre doğru ifadenin bulunduğu seçeneği işaretleyiniz.

18.



- A) Elle a les cheveux longs et elle porte des lunettes.  
B) Il a de la barbe et il porte une casquette noire.  
C) Elle a les cheveux frisés et elle porte un foulard.  
D) Il a les lèvres minces et il porte une casquette.

19.



Il est - - - - et il a - - - - .

- A) paresseuse / les cheveux courts  
B) musclé / de petites lunettes  
C) blonde / de grandes dents  
D) chauve / de la barbe

20.



Elle a le visage - - - - .

- A) ronde B) carrée  
C) ovale D) pointue

(244) İNGİLİZCE – 5

1 - 20. sorularda boş bırakılan yere uygun gelen kelime ya da ifadeyi işaretleyiniz.

1. Some Middle East countries are richer - - - - European countries.  
A) from B) then  
C) than D) after
2. Two strangers visited the old lady at the hospital - - - - .  
A) two days ago  
B) next week  
C) recently  
D) so far
3. The commission will be here to investigate the causes of the accident - - - - .  
A) recently B) yesterday  
C) last week D) in an hour
4. It was raining outside - - - - the young lady was sleeping with a high fever in her bed.  
A) while B) what  
C) where D) which
5. - - - - he finally finished the work, it was almost midnight.  
A) Why B) What  
C) When D) While
6. The poor boy has never had new shoes and clothes - - - - his dad died in an accident.  
A) yet B) since  
C) so far D) already
7. He has - - - - money than he had in the past.  
A) better B) more  
C) much D) many

1. OTURUM


8. The architecture in London is - - - - than in San Francisco.  
A) amazing  
B) amazingly  
C) most amazing  
D) more amazing
9. Ekin speaks French more - - - - than Pamir.  
A) good B) faster  
C) heavy D) fluently
10. Cenk never tells lies, - - - - ?  
A) were they B) does he  
C) will you D) is she
11. Let's make a surprise birthday party for him, - - - - ?  
A) shall we B) do they  
C) will us D) are we
12. Don't cheat in the exam, - - - - ?  
A) do you B) are we  
C) will you D) has she
13. The author - - - - a historical novel and won the Nobel Prize.  
A) wrote B) writes  
C) will write D) is writing
14. While the little girl was swimming in the lake, unfortunately she - - - - .  
A) has drowned  
B) will drown  
C) is drowning  
D) drowned
15. My watch - - - - out of order since yesterday.  
A) have been B) has been  
C) will be D) is
16. The manager - - - - the campaign successfully for six months.  
A) is leading B) will lead  
C) has led D) to lead

17. While they were walking in the forest, they - - - - a big poisonous snake.  
A) see B) saw  
C) were seeing D) will see
18. My grandfather - - - - a moustache when he was young.  
A) will use  
B) is using  
C) have had  
D) used to have
19. - - - - your wife - - - - to cook delicious meals?  
A) Did / use B) Did / used  
C) Does / use D) Does / used
20. A: I have some guests for this evening.  
B: Don't worry! I - - - - you clean the house.  
A) have helped B) am helping  
C) will help D) helped

(244) ALMANCA – 5

1 - 15. sorularda boş bırakılan yere uygun gelen kelime ya da ifadeyi işaretleyiniz.

1.



Ali Can

Ali ist dicker - - - - Can.

- A) dass B) wenn  
C) als D) weil

2. Man sollte - - - - frühstücken.

- A) morgens B) morgen  
C) mittag D) nachts

3. Dienstag, - - - -, Donnerstag

- A) Samstag B) Freitag  
C) Montag D) Mittwoch

## 1. OTURUM

4. **A: Wann bist du geboren?**  
**B: Ich bin - - - - 2001 geboren.**

- A) im Jahre      B) am  
 C) um            D) im

5. **A: - - - - dauert eine Unterrichtsstunde?**  
**B: 45 Minuten. Danach gibt es Pause.**

- A) Wieviel      B) Wie oft  
 C) Wann        D) Wie lange

6. **Ein Jahr hat - - - - Monate.**

- A) zehn          B) elf  
 C) zwölf        D) zwanzig

7. **Ich lese die Zeitungen, - - - - die Nachrichten - - - - verfolgen.**

- A) um / zu      B) von / bis  
 C) aber / bis    D) und / zum

8.



**Fahrrad - - - -**

- A) reiten        B) spielen  
 C) arbeiten    D) fahren


9. **Ich tanze gern, - - - - es Spaß macht.**

- A) weil          B) aber  
 C) denn        D) um

10. **A: - - - - hat deine Schwester Sport Unterricht?**  
**B: - - - - Donnerstag Nachmittag.**

- A) Wo / Im      B) Wann / Am  
 C) Wozu / Um    D) Wie oft / Von

11.



**A: Entschuldigung. Wo ist die Bibliothek?**

**B: Sie ist- - - - der Post.**

- A) vor            B) neben  
 C) unter        D) auf

12. **Wir haben heute keine Schule, - - - - es schneit.**

- A) damit        B) wie  
 C) aber         D) weil

13. **A: - - - - hat dir dein Vater zum Geburtstag - - - -?**

**B: Eine Katze.**

- A) Wer / kaufen  
 B) Wen / kaufe  
 C) Was / gekauft  
 D) Wie / kaufen

14. **Konya ist groß. Ankara ist - - - - . Istanbul ist - - - - .**

- A) groß / größte  
 B) größer / am größten  
 C) große / größer  
 D) am größten / groß

15. **Wir sind - - - - Jahre 2015.**

- A) im    B) am    C) um    D) zum

16. **Fiat: 500 km / h**  
**VW: 300 km / h**  
**Audi: 290 km / h**

**Bu bilgiler doğrultusunda bir derecelendirme için, uygun sıfat hangisidir?**

- A) billig        B) dick  
 C) schön       D) schnell

17. **Aşağıdakilerden hangisinde uygun olmayan bir sıfat kullanılmıştır?**

- A) der schnellste Läufer  
 B) der höchste Berg  
 C) das laute Haus  
 D) die moderne Stadt

18. **Aşağıdakilerden hangisi özgeçmişte (Lebenslauf) yer almaz?**

- A) Vor-und Nachname  
 B) Hobbys  
 C) Geburtsort  
 D) Ausbildung

19.



**Wie spät ist es?**

- A) Es ist halb sechs.  
 B) Es ist Viertel vor sieben.  
 C) Es ist Viertel nach sechs.  
 D) Es ist Viertel nach sieben.

20. **Aşağıda karışık olarak verilen kelimelerle kurallı bir cümle oluşturunuz.**

geregnet - in - hat - Es - viel -  
 1            2            3            4            5  
Istanbul  
 6

- A) 1 - 2 - 3 - 4 - 5 - 6  
 B) 4 - 5 - 3 - 1 - 6 - 2  
 C) 4 - 3 - 5 - 2 - 6 - 1  
 D) 4 - 2 - 3 - 1 - 5 - 6

## 1. OTURUM

(244) FRANSIZCA – 5

1 - 16. sorularda boş bırakılan yere uygun gelen kelime ya da ifadeyi işaretleyiniz.

1. - - - - part en vacances avec ses grands-parents.

- A) Elles B) Vous  
C) Il D) Nous

2. - - - - n'aiment pas jouer au ballon avec Pierre.

- A) Elle B) Tu  
C) Je D) Elles

3. Lisez bien - - - - est écrit au tableau.

- A) ce qui B) que  
C) ce que D) donc

4. As-tu vu le film - - - - est passé hier soir à la télé?

- A) ce que B) ce qui  
C) que D) qui

5. Je ne connais pas la jeune fille - - - - tu cherches.

- A) où B) que C) qui D) donc

6. - - - il est fatigué, il écoute de la musique classique.

- A) Quand B) Combien  
C) Comment D) Pourquoi

7. Nous avons fait du camping à Foça - - - - les vacances d'été.

- A) enfin B) il y a  
C) pour D) pendant

8. Nous irons - - - - ensemble pour faire du ski nautique.

- A) au concert  
B) à la bibliothèque  
C) à la mer  
D) au musée

9. - - - - elles sont allées en Italie.

- A) Lundi prochain  
B) Juin prochain  
C) La semaine dernière  
D) Demain

10. Titanic est un film - - - - la fin est triste.

- A) que B) dont  
C) où D) qui

11. Ma fille apprend l'anglais - - - - des CD.

- A) chanté B) en chantant  
C) écouté D) en écoutant

12. Mme Duval - - - - dans le parc national, étudie les oiseaux.

- A) travaillant B) oubliant  
C) pendant D) apportant

13. Pendant ses - - - - en bateau sur le Bosphore, elle lit des romans.

- A) vêtements B) promenades  
C) animaux D) romans

14. S'il neige demain, nous irons - - - - à Ilgaz.

- A) faire du ski  
B) se réveiller  
C) faire du ski nautique  
D) faire de la plongée

15. - - - - avons fait des gâteaux dimanche dernier.

- A) Ma femme  
B) Mon frère et sa femme  
C) Ma fille et moi  
D) Mon frère

16. - - - - France, on roule - - - - droite.

- A) Aux / au B) Au / aux  
C) À / en D) En / à

17 – 18. sorularda verilen cümlelerin Türkçe karşılığını işaretleyiniz.

17. Les jeunes sont sortis de l'école en riant ensemble.

- A) Gençler okuldan gülüşerek çıktılar.  
B) Gençler okulun avlusunda kol kola geziniyorlar.  
C) Çocukların zayıflıktan kemikleri çıkmış.  
D) Çocuklar atlaya zıplaya okula gidiyorlar.

18. Je prends du thé en mangeant du gâteau.

- A) Çayımı hazırlarken pasta yedim.  
B) Pasta yaparken çay içtim.  
C) Pastanın yanında çay olsun isterim.  
D) Pasta yerken çay içerim.

19 – 20. sorularda verilen cümlelerin Fransızca karşılığını işaretleyiniz.

19. Sokakta şarkı söyleyen bir genç kız gördüm.

- A) J'ai vu un beau garçon chantant dans la rue.  
B) J'ai vu une jeune fille chantant dans la rue.  
C) J'ai rencontré un jeune dansant dans la cour.  
D) Je vois une jeune fille dansant dans la cour.

20. Metin kahvaltısını yaparken telefonla konuşuyordu.

- A) Metin a répondu au téléphone en prenant son café.  
B) Metin parlait au téléphone en prenant son petit déjeuner.  
C) Metin parle toujours au téléphone en prenant le dîner.  
D) Metin a parlé au téléphone en prenant du lait.

## 1. OTURUM

### (401) DİL VE ANLATIM – 1

1. • Karahanlılar devrine aittir.  
• 1072-1074 yılları arasında yazılmıştır.  
• Yazarı Kaşgarlı Mahmut'tur.

**Bu özellikler, aşağıdaki eserlerin hangisine aittir?**

- A) Divanü Lügati't -Türk  
B) Atabetü'l- Hakayık  
C) Divan-ı Hikmet  
D) Kutadgu Bilig

2. **Aşağıdakilerin hangisinde yazım yanlışı vardır?**

- A) Dolmuş durakları iki sokak ileride.  
B) Sayın Ali Kaya lütfen bir de beni dinleyin!  
C) Sizden sonra Ahmet bey söz alacak.  
D) Arkadaşlarım, olanları usulca kulağıma fısıldadı.

3. **Aşağıdaki kelimelerden hangisi hem büyük hem de küçük ünlü uyumuna uymaz?**

- A) Ateş  
B) Afiyet  
C) Kenar  
D) Limon

4. **Aşağıdaki dillerden hangisi Hint-Avrupa dilleri ailesinin Asya kolu içerisinde yer alır?**

- A) Rusça  
B) Ermenice  
C) Sırpça  
D) Lehçe

5. **Aşağıdaki altı çizili sözcüklerin hangisinde ünlü düşmesi olmuştur?**

- A) Beni tanımadığına hayret ediyorum.  
B) Onun kültürlü ve hoş sohbet bir kişi olduğunu söylüyorlar.  
C) Zihnindekiler uyumasına engeldi.  
D) Kitapçıdan bir dergi de bana alırmısın?

6. **Aşağıdakilerin hangisinde "ki"nin yazımı yanlıştır?**

- A) Bir de baktım ki kimse kalmamış.  
B) Soğuk su içme ki hasta olmayasın.  
C) Arkadaşımın elindeki kitabı daha önce ben okumuştum.  
D) Dizimde ki kızarıklık bir haftada geçti.

7. Nefes borusundan gelen hava, ağız boşluğu içerisinde herhangi bir bölgede sese dönüşür.

**Bu tanım aşağıdaki kavramlardan hangisine aittir?**

- A) Boğumlanma  
B) Telaffuz  
C) Vurgu  
D) Tonlama

8. **Aşağıdaki sözcüklerin hangisinde sadece yuvarlak ünlüler bulunmaktadır?**

- A) Değerlendirme  
B) Korunaklı  
C) Özellik  
D) Görücü

9. **Aşağıdaki sözcüklerden hangisi ünlü ile başlayan bir ek aldığı anda sonundaki sert ünsüz yumuşamaz?**

- A) Ağaç  
B) Ekmek  
C) Gayret  
D) Tabak

10. **Aşağıdaki dizelerin hangisinde ünsüz benzeşmesi kuralına uymamaktan kaynaklanan bir yazım yanlışı vardır?**

- A) Sokakda görünce, gülümse Yanıma yaklaş  
B) Bakıyorlar her akşam elimize Bir şey sormak ister gibi hepimize  
C) Birkaç bahar, bir o kadar kış Ömürdür: Uzun, kısa.  
D) Üç odalı bir ev kiraladığım gün Kurtulacak kitaplarım

11. **Sözcükleri anlam yönüyle inceleyen bilim dalına verilen ad aşağıdakilerden hangisidir?**

- A) Sentaks  
B) Semantik  
C) Fonetik  
D) Morfoloji

12. **Göktürk Yazıtları aşağıdaki çağlardan hangisine aittir?**

- A) Altay  
B) İlk Türkçe  
C) Eski Türkçe  
D) En Eski Türkçe

13. **Aşağıdaki sözcüklerden hangisi Türkçenin ses özelliklerine uymaktadır?**

- A) Bilgi  
B) Jilet  
C) Âlim  
D) Tren

14. Mert : Parkta oynayalım mı?  
Ayhan : Ödevlerimi bitirmeliyim.

**Bu diyalogda iletişimin hangi ögesi açık değildir?**

- A) Kaynak  
B) Ortam  
C) Alıcı  
D) İleti

15. **Aşağıdakilerden hangisi virgü-lün görevlerinden değildir?**

- A) Sıralı cümleleri ayırmak  
B) Cümle içindeki ara sözleri ayırmak  
C) Dil bilgisinde sözcüklerdeki ek ve kökleri ayırmak  
D) Arka arkaya sıralanan eş görevli sözcük ve sözcük gruplarını ayırmak

16. "Yurdumun" sözcüğünde görülen ses olayı, aşağıdaki altı çizili sözcüklerin hangisinde vardır?

- A) Altın sarısı saçları alınına düşmüştü.  
B) Büyük ağacın altında gölgeleliyorduk.  
C) Parktaki satıcılardan hiçbir şey almazdı.  
D) Sabah kahvaltısından sonra otelden ayrıldım.

17. Gök sarı ( ) toprak sarı ( ) çıplak ağaçlar sarı ( )

**Yukarıda yay ayrıçlı yerlere sırasıyla aşağıdaki noktalama işaretlerinden hangileri getirilmelidir?**

- A) (,) (;) (.)  
B) (,) (,) (?)  
C) (,) (,) (...)  
D) (,) (:) (.)

## 1. OTURUM

18. Aşağıdakilerden hangisi iletişim ögelerinden biri değildir?

- A) Kaynak B) Mesaj  
C) Alıcı D) Zaman

19. Aşağıdaki cümlelerin hangisinde büyük harflerin yazımıyla ilgili bir yanlışlık yapılmıştır?

- A) 29 Mayıs 2014 pazar günü pikniğe gittik.  
B) 3. sınıfta okuyan kardeşim de geldi.  
C) Bakkal Ahmet herkese şeker ikram etti.  
D) Törenden sonra Ankara'ya gittik.

20. Aşağıda dille ilgili verilen bilgilerden hangisi yanlıştır?

- A) Sosyal bir kurumdur.  
B) Cansız bir varlıktır.  
C) En etkili iletişim aracıdır.  
D) İnsanlara özgüdür.

### (402) DİL VE ANLATIM – 2

1. Aşağıdaki cümlelerin hangisi anlamca olumludur?

- A) Semtlerde bir tek garaj yok.  
B) O insanları umursamıyor değilim.  
C) Havanın karardığını bile fark etmemişiz.  
D) Bu akşam seninle görüşemeyeceğim.

2. Aşağıdakilerin hangisinde “can” sözcüğü, deyim içinde kullanılmamıştır?

- A) Dedesinin anlattıklarını can kulağıyla dinlemeye başlamıştı.  
B) Sağolsun herkes canla başla çalıştı.  
C) Can bu! O kadar kolay mı zannediyorsun.  
D) Kaza sonrası cadde ortasında adeta can pazarı yaşanıyor.

3. Hikâye, roman ve tiyatro eseri yazmak sadece gördüklerimizi, işittiklerimizi olduğu gibi kâğıda dökmek olsaydı hepimiz birer hikâyeci, tiyatrocudurduk. Bizim gözlerimiz önünde de her gün birçok olay geçiyor; biz de hayatımızda birbirini sevenler, birbirinden nefret edenler, birbiriyle kavga edenler, dövüşünler görüyoruz. Onları olduğu gibi anlatmakla iş bitirir mi? - - - -

**Bu paragraf düşüncenin akışına göre aşağıdaki cümlelerden hangisiyle tamamlanmalıdır?**

- A) Bir deneyin isterseniz, görününüz ki ne edebî değer bulunur yazınızda ne de sanat.  
B) Bir zamanlar Fransa'da hayata ait bir şeyler yazmak isteyenler vardı, hiçbirinden eser kalmadı.  
C) Edebî eserin oluşturulması günlük hayatın gözlemlenmesine bağlıdır.  
D) Olanları aynen aktarmak gerekliğe uygunluk açısından doğru olabilir.

4. Aşağıdaki cümlelerin hangisi öğelerine yanlış ayrılmıştır?

- A) Ağaçların sık yeşil yaprakları / elektrik ışıkları ile / parlıyor.  
B) Asker, / başını / bu tarafa / çevirdi.  
C) Naim Efendiler / bu yaz / Kanlıca'ya / taşınmadılar.  
D) Azize'nin / karşısındaki şezlonga / oturdum.

5. Aşağıdakilerin hangisinde “acı” sözcüğü “Ne tatlı bakıyordu.” cümlesindeki tatlı sözcüğünün zıt anlamı olarak kullanılmıştır?

- A) Yaşananların şaşkınlığıyla olsa gerek acı acı gülüyordu.  
B) Keyifle acı kahvesini yudumluyordu.  
C) Acı poyraz, kuvvetle esiyordu.  
D) Sıcak iklimlerde bu mevsim tek renktedir, sadece acı yeşildir.

6. Aşağıdakilerin hangisinde “kırmak” sözcüğü mecaz anlamıyla kullanılmıştır?

- A) Dikkatli ol! Düşüp de bir yerini kırma.  
B) Elindeki poşeti hızlı bırakınca yumurtaların ikisini kırdı.  
C) O kadar dikkatsiz ki yeni aldığım bardağı da kırmış.  
D) Birkaç gün evvel yağın yağmur sıcaklığı kırmamış.

7. Aşağıdaki altı çizili sözcüklerden hangisinin sesteşi yoktur?

- A) Yedi yaşından gün almamış çocukları kaydetmiyoruz.  
B) Yavaş yavaş yüzünün ifadesi değişti.  
C) Ayakkabının bağı çözüldü.  
D) Her sabah ballı süt içerim.

8. I. Yola çıktığımız zaman deniz dümdüzdü.  
II. Ebeveyn kuşağı zaman zaman gözümüzden silinip tekrar ortaya çıkıyordu.  
III. Sanki dünyanın kuruluşundan bir gün yaşıyor gibi gidiyorduk.  
IV. Merakla arkama baktım.

**Bu parçadaki cümlelerle ilgili olarak aşağıdakilerden hangisi söylenemez?**

- A) I. cümle isim cümlesidir.  
B) II. cümle birleşik cümledir.  
C) III. cümle sıralı cümledir.  
D) IV. cümle basit cümledir.

9. Aşağıdaki cümlelerin hangisinde altı çizili sözcük yapım eki almıştır?

- A) Çantasını otobüste unutmuş.  
B) Türkçe ağzında annemin süttür.  
C) Karakterler yavaş yavaş kafamda canlanmaya başlamıştı.  
D) Annesinin aldığı arabayı gördün mü?

## 1. OTURUM

10. Bir de şunu düşündüm: Ne biliyor o yazar, o olayın gerçekte tıpkı öyle geçtiğini? Thukydides'in sözü aklıma geldi: "Ben bu kitapta gözlerimle gördüklerimi anlatıyorum ama belki yanlış görmüşümdür." demiş. O yazar ise kendi gözlerinden, kendi görmesinden hiç şüphe etmiyor. Bana insanların içini anlatacak en gizli duygularını, düşüncelerini sezdirecek; bunun için sadece gördüklerini, işittiklerini olduğu gibi yazmakla yetinecek. Demek ki anlamıyor sanatın ne olduğunu.

**Bu paragrafın türü aşağıdakilerden hangisidir?**

- A) Çözümleme
- B) Betimleme
- C) Mizahi
- D) Olay

11. Aşağıdaki cümlelerden hangisinin öznesi gerçek öznedir?

- A) Annem eve misafir davet etti.
- B) Temizlik yaparken kıyafetlerim ıslandı.
- C) Yağmur yağınca yollar yıkandı.
- D) Bankadan çıkarken param çalındı.

12. Aşağıdakilerden hangisi isim cümlesidir?

- A) Sık sık derin düşüncelere dalan bir kızdı.
- B) Dönüş yolu daha kısa sürdü sanki.
- C) Eve gidene kadar soğurdu bunlar.
- D) Çok garip bir gerginlik oldu aramızda.

13. Aşağıdaki cümlelerden hangisinin yüklemi haber kipiyle çekimlenmiştir?

- A) Dondurmayı yedikten sonra su içmelisin.
- B) Kurstan çıktıktan sonra bize gelsin.
- C) Onu ne kadar sevdiğimi bir bilse.
- D) Bilgisayarda oyun oynuyor.

14. Babamla, işe başladığımdan beri, aşağı yukarı tam yetmiş iki gündür görüşmüyorduk.

**Yukarıdaki cümleden altı çizili sözcüklerden hangisi çıkarılırsa anlatım bozukluğu giderilmiş olur?**

- A) tam
- B) aşağı yukarı
- C) babamla
- D) gündür

15. Aşağıdaki cümlelerin hangisinde anlatım bozukluğu yoktur?

- A) Hastalığa yakalanma şansı çok yüksekti.
- B) Manzarası çok güzel ama havası temiz.
- C) Kitabı raftan alıp çantasına yerleştirdi.
- D) Yüzüme gülümseyerek bakındı.

16. "İğde ağacının kokusu sokağa yayılmıştı." cümlesindeki tamlamanın türü aşağıdakilerden hangisidir?

- A) Belirtili isim tamlaması
- B) Takısız isim tamlaması
- C) Belirtisiz isim tamlaması
- D) Zincirleme isim tamlaması

17. Aşağıdakilerin hangisinde ikileme oluşumu bakımından diğerlerinden farklıdır?

- A) Ortalık kir pas içindeydi.
- B) Kimse hır gür çıksın istemez.
- C) Sınıftan ses seda çıkmıyordu.
- D) Kitap yalan yanlış bilgilerle dolu.

18. (I) Yazı, bir türlü ölümü ortadan kaldıramayan insanoğlunun ölüme karşı bulabildiği tek çaredir. (II) Öyle ise okumak nedir, nasıl bir iştir ki böyle sürekli ve kolay ölmeyen bir tadı var? (III) Çağlardan çağlara, ellerden ellere geçe geçe bütün tarihi aşır gelir. (IV) Onda, insan hayatının her yaprağı üstünde gezen gözlerin ışıkları, düşünen kafaların gölgeleri bulunduğu için ölümsüzdür.

**Bu parçada numaralanmış cümlelerden hangisi düşüncenin akışını bozmaktadır?**

- A) I.
- B) II.
- C) III.
- D) IV.

19. **İstiklal marşındaki** "Çatma kurban olayım çehreni ey nazlı hilal." **dizesindeki "hilal" sözcüğü ile aşağıdakilerden hangisi kastedilmiştir?**

- A) Ay
- B) Ordu
- C) Bayrak
- D) Türk milleti

20. Aşağıdaki cümlelerden hangisi yapısı bakımından basit bir cümledir?

- A) Bir süre sonra sesler kesildi.
- B) Anlaşıyor ki onuruna çok düşküdü.
- C) Kapıyı usulca kapatarak odasına girdi.
- D) Bayramdı ve sokaklar tıklım tıklımdı.

### (407) DİL VE ANLATIM – 7

1. Aşağıdakilerden hangisi meddah, karagöz, orta oyunu gibi türlerde görülen ortak güldürü öğelerinden değildir?

- A) Söz oyunları ve yanlış anlamalar
- B) Değişik yörelere özgü şive taklidi
- C) Kalıplaşmış davranışlar ya da abartılı tavırlar
- D) Fiziksel kusurların abartılarak aktarılması

2. Aşağıdakilerden hangisi Maupassant tarzı hikâyenin özelliklerinden değildir?

- A) Olayın büyük kısmı okuyucunun hayal gücüne bırakılmıştır.
- B) Okuyucunun merak duygusu sürekli canlı tutulur.
- C) Çok belirgin giriş, gelişme ve sonuç bölümleri vardır.
- D) Kahramanlar yazar tarafından özenle seçilmiş insanlardan oluşur.

3. Aşağıdakilerden hangisi bir kimsenin kendi yaşam öyküsünü yazmasıyla oluşan esere verilen addır?

- A) Biyografi
- B) Otobiyografi
- C) Hatıra
- D) Günlük



## 1. OTURUM

4. Aşağıdakilerden hangisi Türk edebiyatında masal derleyen isimlerden biri değildir?

- A) Ömer Seyfettin
- B) Ziya Gökalp
- C) Naki Tezel
- D) Tahir Alangu

5. Gazete küpürleri, radyo haberleri, reklamlar ve farklı metinlerin bir araya getirilmesinden oluşan roman anlatım tekniği aşağıdakilerden hangisidir?

- A) Görece zaman anlayışı
- B) Bilinç akımı
- C) Leitmotiv
- D) Montaj

6. Aşağıdakilerden hangisi halk hikâyelerinin özelliklerinden biri değildir?

- A) Sadece olağanüstü öğelere yer verilir.
- B) İnsanların birbirleriyle ilişkileri ve çatışmaları anlatılır.
- C) Eskiden kahvelerde, köy odalarında düğün gibi yerlerde söylenirdi.
- D) Anadolu'da 16. yüzyıldan bu yana sözlü halk geleneğinde sürmektedir.

7. Çehov tarzı hikâyenin edebiyatımızdaki ilk temsilcisi aşağıdakilerden hangisidir?

- A) Ahmet Rasim
- B) Ömer Seyfettin
- C) Hüseyin Rahmi Gürpınar
- D) Memduh Şevket Esendal

8. Aşağıdakilerden hangisi post-modernist roman akımının özelliklerinden biri değildir?

- A) Sanat bir tür oyun olarak görülür.
- B) Tek seslilik ve bireysellik önem kazanmıştır.
- C) Romanın uydurma veya kurmaca olduğunun altı çizilir.
- D) Farklı anlatım tekniklerine aynı metin içinde yer verilebilir.

9. Epik tiyatronun temel amacı aşağıdakilerden hangisidir?

- A) Seyirciyi sahneye yabancılaştırmak
- B) Kalıplaşmış gerçekleri savunmak
- C) Tabiatı anlatmak
- D) İnsanları güldürmek

10. "Saatleri Ayarlama Enstitüsü" adlı romanın yazarı aşağıdakilerden hangisidir?

- A) Sait Faik Abasıyanık
- B) Ahmet Hamdi Tanpınar
- C) Halide Edip Adivar
- D) Peyami Safa

11. Türk edebiyatında, çağdaş tiyatro tekniğine uygun olarak yazılan ilk önemli eser aşağıdakilerden hangisidir?

- A) Köşebaşı
- B) Şair Evlenmesi
- C) Vatan yahut Silistre
- D) Keşanlı Ali Destanı

12. Batı romanında sık başvurulan bu anlatım tekniği bir alıntının, bir davranış biçiminin ya da belli bir özelliğin roman boyunca sürekli biçimde yinelenmesidir.

**Bu parçada tanıtılan çağdaş Batı romanı anlatım tekniği aşağıdakilerden hangisidir?**

- A) Montaj
- B) Bilinç akımı
- C) Leitmotiv
- D) Görece zaman anlayışı

13. Aşağıdakilerden hangisi Batı edebiyatında, yazdığı tiyatrolarla ün yapmıştır?

- A) J. Joyce
- B) Tolstoy
- C) Dostoyevski
- D) Moliere

14. Aşağıdakilerden hangisi tragedyanın özelliklerinden biri değildir?

- A) Kişiler, çocuklukla halktan insanlardır.
- B) Erdeme ve ahlaka üstün değer verilir.
- C) Eser baştan sona kadar ciddi bir hava içinde geçer.
- D) Seyircide acıma ve korku duyguları uyandırarak ruhu tutkularından kurtarma amacı vardır.

15. Fablların yazılış amacı aşağıdakilerden hangisidir?

- A) Sorunları tartışıp bir sonuca ulaşmak
- B) Bilim-teknik konularını açıklamak
- C) Karşıt görüşleri birleştirmek
- D) Ahlak dersi vermek

16. Aşağıdakilerden hangisi meddah tiyatrosunun özelliklerinden biri değildir?

- A) Hareketten çok; ses taklidi, jest ve mimiklere dayanır.
- B) Meddah denilen tek bir oyuncu tarafından oynanır.
- C) Dekor olarak "yeni dünya" adı verilen bir paravan ile bir tezgâh ya da birkaç iskemle kullanılır.
- D) Dinleyicilerin toplandığı yerlerde yüksekçe bir yere çıkılarak sergilenir.

17. Akla karşı duyguyu, seçkin sınıfa karşı halkı, kurallara karşı kuralsızlığı işleyen roman türüdür. Victor Hugo'nun "Sefiller"i, Namık Kemal'in "İntibah"ı bu roman türüne örnektir.

**Bu parçada anlatılan roman türü aşağıdakilerden hangisidir?**

- A) Klasik roman
- B) Romantik roman
- C) Realist roman
- D) Natüralist roman

## 1. OTURUM

18. Dostoyevski'nin "Suç ve Ceza"sı, Peyami Safa'nın "Dokuzuncu Hariciye Koğuşu" konusu yönüyle aşağıdaki roman türlerinden hangisine örnektir?

- A) Tarihi roman
- B) Macera romanı
- C) Psikolojik roman
- D) Otobiyografik roman

19. Birçok yönüyle operayı andıran fakat sahnedeki bütün hareketlerin ahenkli ve zengin dans figürleri hâlinde gösterildiği baştan sona besteli tiyatro çeşidi aşağıdakilerden hangisidir?

- A) Revü
- B) Skeç
- C) Bale
- D) Operet

20. Yıllarca gezdirdim hoyrat başımı, Aradım, bir ömür, arkadaşımı. Ölse, diyecek yok mezar taşımı; Kendime ben bile lânet ederim.

Bu dizelerde aşağıdaki duygulardan hangisi yoktur?

- A) Yalnızlık
- B) Umutsuzluk
- C) Pişmanlık
- D) Hırs

### (408) DİL VE ANLATIM – 8

1. Aşağıdakilerden hangisi konferansta kullanılan anlatım türlerinden biri değildir?

- A) Emredici
- B) Açıklayıcı
- C) Tartışmacı
- D) Kanıtlayıcı

2. Alanında uzman bir kişinin herhangi bir konu ya da olay hakkında görüş ve düşüncelerini açıklamak amacıyla bir grup ya da topluluk önünde yaptığı, ön hazırlığı olması gereken sözlü anlatım türüne ---- denir.

Bu parçada boş bırakılan yere aşağıdakilerden hangisi getirilmelidir?

- A) açık oturum
- B) sempozyum
- C) münazara
- D) konferans

3. Aşağıdakilerden hangisi açık oturumun özelliklerinden biri değildir?

- A) Samimi bir atmosfer vardır.
- B) Konuşmacı sayısı altıyı geçmemelidir.
- C) Bir yarışma havası vardır.
- D) Probleme yeni bir bakış açısı getirmek amaçlıdır.

4. Aşağıdakilerden hangisi sempozyum bildirisinin bölümlerinden biri değildir?

- A) Giriş
- B) Deney
- C) Bulgular
- D) Sorular ve cevaplar

5. Aşağıdakilerden hangisi münazaralarda hakem kurulunun konuşmacıları değerlendirme esaslarından biri değildir?

- A) Sözcük ve cümleleri doğru kullanma
- B) Konuyu doğru seçme
- C) Konuyu açma ve örnekleştirme yeteneklerine sahip olma
- D) Savunmada inandırıcı olma

6. Aşağıdakilerden hangisi münazaralarda tartışmacıların uyacağı kurallardan biri değildir?

- A) Aynı konuda üst üste söz almak
- B) Konuşmaları ilgiyle dinlemek
- C) Tartışma konusu dışına çıkmamak
- D) Başkanın uyarılarına karşı gelmemek

7. Aşağıdakilerden hangisi bilimsel yazı olarak değerlendirilemez?

- A) Değerlendirme makaleleri
- B) Konferans raporları
- C) Toplantı özetleri
- D) Davet mektupları

8. Bilimsel yazılarda dil hangi işleviyle kullanılır?

- A) Göndergesel işlev
- B) Kanalı kontrol işlevi
- C) Heyecana bağlı işlev
- D) Alıcıyı harekete geçirme işlevi

9. Aşağıdakilerden hangisi Cumhuriyet'in ilk yıllarındaki makale yazarlarından biri değildir?

- A) Falih Rıfkı Atay
- B) Hüseyin Cahit Yalçın
- C) Ali Naci Karacan
- D) Namık Kemal

10. Bilimsel yazılarda metnin tamamında anlatılanların kısaltılarak bir paragraf hâline getirilip verildiği bölüm aşağıdakilerden hangisidir?

- A) Özet
- B) Başlık
- C) Giriş
- D) Sonuç ve tartışma

11. Aşağıdakilerden hangisi konferans planı içerisinde yer almaz?

- A) Hitap cümlesi
- B) Konunun sunuluşu
- C) Dinleyicilerin tanıtılması
- D) Soru ve cevaplar

12. Aşağıdakilerden hangisi öğretici metin türlerinden biri değildir?

- A) Makale
- B) Tiyatro
- C) Eleştiri
- D) Deneme

13. Bilim insanlarının bir konunun çeşitli yönlerini inceleyip görüşlerini bildirdikleri ve belli bir sonuca vardıkları toplantılara verilen ad aşağıdakilerden hangisidir?

- A) Sempozyum
- B) Forum
- C) Münazara
- D) Panel

14. • Geniş bir salonda, izleyiciler önünde ve başkan eşliğinde yapılır.  
• Konuşmacı sayısının altı kişiyi geçmemesi tercih edilir.  
• Toplum sorunlarının konuşulmasında en sık uygulanan toplantı türüdür.

Bu özellikler aşağıdaki toplantı türlerinden hangisine aittir?

- A) Münazara
- B) Konferans
- C) Sempozyum
- D) Açık Oturum

## 1. OTURUM

15. Aşağıdakilerden hangisi makaleye ait özellik değildir?

- A) Makalede temel öge düşüncedir.
- B) 3. tekil kişi anlatımı tercih edilir.
- C) Terimlere ve teknik deyimlere yer verilmez.
- D) Günlük dilde kullanılan söyleyişlere ve süslü anlatımlara makalede yer verilmez.

16. Aşağıdaki toplantı türlerinin hangisinde alınan kararlar bilimsel değer taşıması yönüyle basılı materyal hâline dönüştürülerek kamuoyu ile paylaşılır?

- A) Forum
- B) Sempozyum
- C) Açık oturum
- D) Panel

17. Sayfa içinde geçen herhangi bir düşünce veya bilgiyle ilgili olarak sayfa altına konulan açıklamaya - - - - denir.

**Bu cümlede boş bırakılan yere aşağıdakilerden hangisi getirilmelidir?**

- A) indeks
- B) dokümantasyon
- C) bibliyografya
- D) dipnot

18. Daha önceden belirlenmiş bir konuda farklı görüşlere sahip kişilerin bir araya gelerek konuyu çözümlmek, kendi görüşlerini açıklamak, kanıtlamak, karşı tarafın zayıf noktalarını aramak için yaptıkları tartışmaya - - - - denir.

**Bu parçada boş bırakılan yere aşağıdakilerden hangisi getirilmelidir?**

- A) forum
- B) açık oturum
- C) münazara
- D) sempozyum

19. Makalede ele alınan düşünce veya ileri sürülen iddia, görüş yazının aşağıdaki bölümlerinin hangisinde ortaya konur?

- A) Giriş
- B) Sonuç
- C) Çözüm
- D) Gelişme

20. Aşağıdakilerden hangisi konferansın özelliklerinden değildir?

- A) Dinleyicinin ilgisini çekecek şekilde düzenlenir.
- B) Konferans konuları teknik bilimlerle sınırlıdır.
- C) Dinleyicileri bilgilendirmek amacıyla düzenlenir.
- D) Özgün düşünceler dile getirilir.

### (414) TÜRK EDEBİYATI - 4

1. Aşağıdakilerden hangisi dinî-tasavvufî edebiyat anlayışının dışında kalan bir şairdir?

- A) Hacı Bektaş Veli
- B) Kaygusuz Abdal
- C) Âşık Ömer
- D) Ahmet Yesevi

2. Türk edebiyatında gezi türündeki en önemli eser ona aittir. "Seyahatname" adlı büyük ve eşsiz eserinde bize 17. yüzyıl Türkiye'sinin sanatını, coğrafyasını, geleneklerini, göreneklerini, tarihini, folklorunu ayrıntılarıyla tanıtır.

**Bu parçada tanıtılan kişi aşağıdakilerden hangisidir?**

- A) Mercimek Ahmet
- B) Seydi Ali Reis
- C) Evliya Çelebi
- D) Naima

3. Kerem ile Aslı hikâyesi için aşağıdakilerden hangisi söylenemez?

- A) Kahramanlık hikâyesidir.
- B) Kimin tarafından düzenlendiği belli değildir.
- C) Nazım ve nesir karışık olarak düzenlenmiştir.
- D) 1850 yılından bu yana pek çok kez yayımlanmıştır.

4. "Tezkire" için aşağıdaki tanımlardan hangisi doğrudur?

- A) Yazarın gezip gördüğü yerlerin tarihini, medeniyetini anlatan yazıdır.
- B) Divan edebiyatında çeşitli devirlerde yaşayan şairlerin kısaca hayatlarından ve eserlerinden söz eden kitaplardır.
- C) Sunnet, düğün, şenlik gibi sevinçli olayları anlatan eserlerdir.
- D) Bir şehrin güzelliklerinden söz eden manzum eserdir.

5. • Sözlü olarak yaşayan bir edebiyattır.  
• Nazım birimi dördlüktür.  
• Dili, halkın konuşma dili gibi yalındır.  
• Aşk, ölüm, hasret, yiğitlik, gurbet gibi insanların her zaman ilgisini çekecek konular işlenmiştir.

**Bu özellikler aşağıdaki şiir geleneklerinden hangisine aittir?**

- A) Divan şiiri
- B) Anonim halk şiiri
- C) Dinî şiirler
- D) Tasavvufî Türk şiiri

6. Türkülerin her bendinin sonunda tekrarlanan nakarat dizelerine verilen ad aşağıdakilerden hangisidir?

- A) Bozlak
- B) Bağlama
- C) Mânî
- D) Durak

7. Aşağıdaki yazar-eser eşleştirmelerinden hangisi yanlıştır?

- A) Leyla ve Mecnun - Fuzulî
- B) Çarhnâme - Ahmet Fakih
- C) Mesnevî - Mevlânâ Celâleddin-i Rumî
- D) Hüsn ü Aşk- Nâbî

## 1. OTURUM

8. 15. yüzyılda yazıya geçirilen eser destan-hikâye özelliği gösterir. Kahramanları olağanüstü özellikler taşır. Bu kahramanlardan bazıları şunlardır: Deli Dumrul, Salur Kazan, Tepegöz...

**Bu parçada tanıtılan eser aşağıdakilerden hangisidir?**

- A) Dede Korkut Hikâyeleri  
B) Alp Er Tunga Destanı  
C) Babürnâme  
D) Göç Destanı

9. Aşağıda kasideyle ilgili verilen bilgilerden hangisi yanlıştır?

- A) Beyit sayısı 33-99 arasında değişir.  
B) En güzel beytine beytülkasid denir.  
C) İlk beytine makta adı verilir.  
D) Bir kişiyi ya da yeri öven şiirlerdir.

10. Karahanlı dönemi şairlerinden biridir. 12. yüzyıl sonu ile 13. yüzyıl başlarında yaşadığı sanılmaktadır.

**Atabetü'l- Hakâyık adlı ahlaki, öğretici tarzda bir eser meydana getirmiş olan bu sanatçı aşağıdakilerden hangisidir?**

- A) Edip Ahmet Yükneki  
B) Ahmet Yesevi  
C) Yusuf Has Hacip  
D) Kaşgarlı Mahmut

11. Aşağıdakilerden hangisi "ilahi"nin diğer isimlerinden biri değildir?

- A) Nefes  
B) Gazel  
C) Tapuğ  
D) Âyin

12. RUBAİ

Esrârını dil zaman zaman söyler imiş  
Hengâme-i gamda dâstan söyler imiş  
Aşk ehli olup da, mihnet-i hicrâna  
Ben sabr ederim diyen yalan söyler imiş

Haletî

**Bu dörtlüğün uyak düzeni aşağıdakilerden hangisidir?**

- A) abab  
B) aaab  
C) aaba  
D) aaaa

13. Aşağıdakilerden hangisi "Divan-ı Hikmet"te yer almaz?

- A) Dinî hikâyeler  
B) Olgun insanın özellikleri  
C) Var oluşumuzun nedenleri  
D) 12 hayvanlı eski Türk takvimi

14. İlk kez 19. yüzyılda yazıya geçirilmeye başlanan Karagöz oyunlarının toplandığı kitap aşağıdaki yazarlardan hangisine aittir?

- A) Metin And  
B) Özdemir Nutku  
C) Kenan Akyüz  
D) Cevdet Kudret

15. Türkçenin ilk sözlük ve dil bilgisi kitabı aşağıdakilerden hangisidir?

- A) Divanü Lügati't Türk  
B) Kutadgu Bilig  
C) Divan-ı Hikmet  
D) Atabetü'l Hakâyık

16. • Dört mısralık divan edebiyatı nazım şeklidir.  
• Bir, iki ve dördüncü mısralar kendi aralarında uyaklı, üçüncü mısra serbesttir.  
• Her mısra değişik vezinle yazılabilir.

**Bu özellikler aşağıdaki nazım şekillerinden hangisine aittir?**

- A) Rubai  
B) Gazel  
C) Şarkı  
D) Kaside

17. Bir kimseyi, toplumu yermek amacıyla söylenen koşmalara - - - - denir.

**Bu cümlede boş bırakılan yere aşağıdakilerden hangisi getirilmelidir?**

- A) ağıt  
B) güzelleme  
C) koçaklama  
D) taşlama

18. Aşağıdakilerden hangisi olay çevresinde oluşan edebî metinlerden biridir?

- A) İlahi  
B) Mesnevi  
C) Gazel  
D) Nefes

19. Aşağıdakilerden hangisi, halk şairlerinin kendilerinin veya başkalarının şiirlerini topladıkları deftere verilen addır?

- A) Tezkire  
B) Divan  
C) Cönk  
D) Kitabe

20. Londra'da Namık Kemal'le "Hürriyet" gazetesini çıkaran Tanzimat edebiyatı şairi, Terkib-i Bend'i ile tanınmıştır. Şiirlerinde çıkarcılığı, ikiyüzlülüğü, adaletsizliği eleştirir.

**Bu parçada tanıtılan sanatçı aşağıdakilerden hangisidir?**

- A) Şinasi  
B) Ziya Paşa  
C) Yahya Kemal Beyatlı  
D) Rezaizade Mahmut Ekrem

## 1. OTURUM

(417) TÜRK EDEBİYATI – 7

1. Aşağıdakilerden hangisi fıkra (köşe yazısı) türünün özelliklerinden biri değildir?

- A) Gazete ve dergi yazısıdır.
- B) Güncel konularda yazılır.
- C) Samimi bir dille yazılır.
- D) Anlatılanlar kanıtlanmalıdır.

2. Aşağıdakilerin hangisinde fıkra ile makale karşılaştırmasında yanlışlık yapılmıştır?

- A) İkisi de dergi ve gazete yazısıdır.
- B) İkisi de bilimsel gerçekleri ortaya koyar.
- C) Fıkra makaleye göre daha kısa bir yazı türüdür.
- D) Fıkra makaleye göre daha samimi bir dille yazılır.

3. Aşağıdakilerden hangisi iyi bir makalenin özelliklerinden değildir?

- A) Anlatım yalın olmalıdır.
- B) Söz oyunlarına başvurulmalıdır.
- C) Öne sürülen düşünce inandırıcı biçimde geliştirilmeli ve kanıtlanmalıdır.
- D) Okuyucu kitlesinin eğitim düzeyine dikkat edilmelidir.

4. Aşağıdaki yazın türlerinden hangisinin oluşumunda anı türünden en az yararlanılmıştır?

- A) Gezi yazısı B) Günlük
- C) Otobiyografi D) Deneme

5. Aşağıdakilerden hangisi Haldun Taner'in oyunlarından biri değildir?

- A) Zilli Zarife
- B) Bekçi Murtaza
- C) Keşanlı Ali Destanı
- D) Fazilet Eczanesi

6. Aşağıdakilerin hangisinde yanlış bilgi verilmiştir?

- A) Kemal Tahir'in özelliği sosyal konuları tarihî plan içinde ele almasıdır.
- B) Tarık Buğra, insanı kendi bireyselliği ve kişiliği içinde yer alır.
- C) Haldun Taner, Anadolu köy ve kasaba hayatının acıklı hâllerini gerçekçi bir şekilde yazdı.
- D) Aziz Nesin, toplum hayatının aksayan yönlerini, olayları, tipleri gülünç gösteren bir mizah üslubuyla anlattı.

7. 1950'den sonra yeni arayışlara yönelen Cemal Süreya, Edip Cansever, Turgut Uyar gibi şairlerin başlattığı bir akımdır. Anlamda kapalılık, değişik çağrışımlarla imgeci bir şiir anlayışı savunuldu ve 1965'e kadar sürdü.

**Bu akım aşağıdakilerden hangisidir?**

- A) İkinci Yeni B) Sembolistler
- C) Toplumcular D) Mavi Akımcılar

8. Cumhuriyet Dönemi'nde Türk şiirinde büyük değişiklikler görüldü.

**Buna göre aşağıdaki bilgilerden hangisi yanlıştır?**

- A) Ömer Bedrettin Uşaklı şiirlerinde en çok deniz temasını işledi.
- B) Cahit Sıtkı Tarancı iyimser umut dolu, mücadeleci şiirleri edebiyatımıza armağan etti.
- C) Necip Fazıl Kısakürek içe dönük, maneviyatçı, bireyci şiirin başarılı örneklerini verdi.
- D) Ahmet Hamdi Tanpınar ölüm, sonsuzluk, zaman, rüya, hülya gibi konuları şiirlerinde işledi.

9. Aşağıdakilerden hangisi Garip akımının özelliklerinden biri değildir?

- A) Yalın bir dil kullanmak
- B) Günlük konuları ele almak
- C) Süsten uzak bir anlatımı tercih etmek
- D) Ölçülü, uyaklı bir şiir oluşturmak

10. Eserlerinde köy gerçeğini değişik boyutlarıyla ele alan iki yazar aşağıdakilerden hangisinde birlikte verilmiştir?

- A) Oğuz Atay - Yusuf Atılgan
- B) Yaşar Kemal - Kemal Tahir
- C) Orhan Pamuk - Attila İlhan
- D) Peyami Safa - Ahmet Hamdi Tanpınar

11. Aşağıdaki eser-yazar eşleştirmelerinden hangisi doğrudur?

- A) Abdullah Efendi'nin Rüyaları - Ahmet Hamdi Tanpınar
- B) Zeliş - Sait Faik Abasıyanık
- C) Çalikuşu - Peyami Safa
- D) Fatih Harbiye - Reşat Nuri Güntekin

12. "Bir Adam Yaratmak" adlı tiyatro oyunu aşağıdaki yazarların hangisine aittir?

- A) Nazım Hikmet
- B) Ahmet Kutsi Tecer
- C) Musahipzade Celal
- D) Necip Fazıl Kısakürek

13. Aşağıdakilerden hangisi Yedi Meşaleciler topluluğunun bir üyesi değildir?

- A) Cevdet Kudret Solok
- B) Yaşar Nabi Nayır
- C) Melih Cevdet Anday
- D) Kenan Hulusi Koray

14. Bireyin öne alındığı, ruh çözümlenmelerine dayalı romanı geliştiren, "Yalnızız" adlı romanın da yazarı olan Cumhuriyet Dönemi sanatçımız aşağıdakilerden hangisidir?

- A) Cahit Sıtkı Tarancı
- B) Halikarnas Balıkcısı
- C) Peyami Safa
- D) Rıfat Ilgaz

15. Aşağıdaki romanlardan hangisinin konusu Kurtuluş Savaşı değildir?

- A) Tutunamayanlar
- B) Küçük Ağa
- C) Ateşten Gömlek
- D) Yaban

## 1. OTURUM

### (418) TÜRK EDEBİYATI – 8

16. Aşağıdaki sanatçılardan hangisi hece şiirinin gelişmesinde etkili olmamıştır?

- A) Ahmet Muhip Dıranas
- B) Necip Fazıl Kısakürek
- C) Cahit Sıtkı Tarancı
- D) Ahmet Haşim

17. Burası bir türbe değil de âdeta aşk tapınağı. Sevdalılar gelip bu anıt kabirin eşğine yüz sürüyorlar. Zaten Şahı Cihan da karısına yaptırdığı bu türbeye bakıp bakıp: “Bir günahkâr buraya sığındığında tüm günahlarından arınır. Bu yapıtın görünüşü kalbe ağılama verir. Ama bu rahatlatıcı bir ağlamadır. Güneş ve ay bu yapıta baktığında gözyaşı döker.” diyor. Taç Mahal’in böylesine tavaf edilen bir anıt kabir olmasına mimari güzelliğinden çok, salt bu benzersiz aşk hikâyesi, bu şiirli tarihi bile yeter. Taç Mahal’i ayaküstü görüp geçmek yetmez.

**Bu metin aşağıdaki türlerden hangisine örnektir?**

- A) Gezi
- B) Günlük
- C) Sohbet
- D) Makale

18. “Taymis Kıyıları”, “Hind”, “Denizaşırı” gibi eserleriyle gezi türünde eser vermiş sanatçı aşağıdakilerden hangisidir?

- A) Sadri Ertem
- B) Falih Rıfkı Atay
- C) Cenap Şahabettin
- D) Faik Sabri Duran

19. Aşağıdaki eserlerden hangisinin türü diğerlerinden farklıdır?

- A) Köşebaşı
- B) Anayurt Oteli
- C) Fatih-Harbiye
- D) Yaprak Dökümü

20. Aşağıdakilerden hangisi Cumhuriyet Dönemi deneme yazarlarından biridir?

- A) Ahmet Rasim
- B) Ahmet Haşim
- C) Nurullah Ataç
- D) Cenap Şahabettin

1. Millî Edebiyat akımının etkisindeki şairlerdendir. Şiirlerinde Anadolu kaynağına ulaşma yolunu “Orda bir köy var uzakta / O köy bizim köyümüzdür.” dizeleriyle vurgulamıştır. Folklor araştırmalarıyla da tanınmıştır.

**Bu parçada bahsedilen şair aşağıdakilerden hangisidir?**

- A) Enis Behiç Koryürek
- B) Zeki Ömer Defne
- C) Ahmet Kutsi Tecer
- D) Melih Cevdet Anday

2. Cumhuriyet Dönemi halk şiiri için aşağıda verilen bilgilerden hangisi yanlıştır?

- A) Hece ölçüsü ile yazılan uyaklı şiirlerdir.
- B) İki dizelik beyitler hâlinde yazılan şiirlerdir.
- C) Aşk, doğa, ölüm, özlem, yiğitlik, din en çok işlenen temalardır.
- D) Geniş halk yığınlarının özlemini, sevgisini, sevinç ve acılarını dile getiren şiirlerdir.

3. Aşağıdakilerden hangisi 1940 sonrası Türk hikâye ve romanında toplumcu gerçekçi çizgide eser veren yazarlardan değildir?

- A) Kemal Tahir
- B) Peyami Safa
- C) Orhan Kemal
- D) Kemal Bilbaşar

4. Dokumada çalışan kızların günleri naylon iplik, ucuz keten emeğin, alın terinin ve aşkın kanı damlar kirpiklerinden  
Refik Durbaş

**Dokuma tezgâhlarında çalışan kızların hayatlarını anlatan bu şiir edebiyatımızdaki hangi anlayışın özelliklerini yansıtır?**

- A) Garipçiler
- B) İkinci Yeni
- C) Toplumcu Şiir
- D) Millî Edebiyat

5. Mehmet Emin Yurdakul’un memleket romantizminden ve Mehmet Âkif’in millî, acılar dolusu Kurtuluş şiirlerinden sonra Anadolu’ya var gücüyle açılan şairimizdir. Memleket sevgisini, Anadolu’yu ve bireysel konuları işlemiştir. “Han Duvarları” meşhur şiirlerindedir.

**Bu parçada kendisinden bahsedilen şairimiz aşağıdakilerden hangisidir?**

- A) Faruk Nafiz Çamlıbel
- B) Ömer Bedrettin Uşaklı
- C) Melih Cevdet Anday
- D) Fazıl Hüsni Dağlarca

6. İçe dönük, maneviyatçı, bireysel bir şiirin başarılı örneklerini veren ünlü “Kaldırımlar” şiirinin şairi aşağıdakilerden hangisidir?

- A) Mehmet Âkif Ersoy
- B) Enis Behiç Koryürek
- C) Necip Fazıl Kısakürek
- D) Behçet Necatigil

7. Aşağıdakilerden hangisi Garipçilerin şiirdeki ilkelerinden değildir?

- A) Gülmecedan, şaşırtmacadan yararlanmak
- B) Ölçü, uyak ve biçimsel kalıpları kırmak
- C) Günlük hayatı dile getirmek
- D) Yalın bir dil yerine süslü, söz oyunlarına dayalı bir dil kullanmak

8. Aşağıdakilerden hangisi Yakup Kadri Karaosmanoğlu’nun romanlarından biri değildir?

- A) Çalıkuşu
- B) Hüküm Gecesi
- C) Sodom ve Gomore
- D) Kiralık Konak

## 1. OTURUM

9. Yalnızca şiirin öne çıkarıldığı, aslolan üründür anlayışının egemen olduğu bir dönemdir. Bu dönemde şiirle yeniden yüzleşilir. İnsani duyarlılık ve evrensel deneyimler, şiirin gözde öğeleri olur. Haydar Ergülen, Şavkar Altınel, Lâle Müldür, Sunay Akın bu dönemin önde gelen isimlerindedir.

**Bu parçada anlatılan dönem aşağıdakilerden hangisidir?**

- A) Yedi Meşaleciler
- B) İkinci Yeni Dönemi
- C) 1980 sonrası şiiri
- D) Toplumcu şiir

10. Aşağıdakilerden hangisi İkinci Yeni şiirinin özelliklerinden biridir?

- A) Bireyci bir şiir anlayışına sahip olmak
- B) Yaşama sevincini ve yaşama hakkını işlemek
- C) Gülmecedan ve şaşırtmacadan yararlanmak
- D) Süslü, söz oyunlarına dayalı bir dil yerine yalın bir dil geliştirmek

11. Aşağıdaki eser-yazar eşleştirmelerinden hangisi yanlıştır?

- A) Divan - Turgut Uyar
- B) Türkiye Şarkısı - İlhan Berk
- C) Uçurumda Açan - Cemal Süreyya
- D) Kendi Gök Kubbe - Ece Ayhan

12. Aşağıdakilerden hangisi 1940'larda gelişen yeni şiirin temsilcilerinden biri değildir?

- A) Fazıl Hüsnü Dağlarca
- B) Behçet Necatigil
- C) Asaf Halet Çelebi
- D) Mehmet Akif Ersoy

13. Aşağıdakilerden hangisi 1980 sonrası şiirinin özelliklerinden biri değildir?

- A) Şiirin düz yazıya yaklaştırılması
- B) Şehirli kimliğinin ön planda olması
- C) Yapı ve söyleyişe içerikten fazla önem verilmesi
- D) Millî Edebiyat akımının etkisiyle sadece hece ölçüsünün kullanılması

14. Aşağıdaki eserlerden hangisi Cahit Sıtkı Tarancı'ya aittir?

- A) Mutlu Olmak Varken
- B) Otuz Beş Yaş
- C) Han Duvarları
- D) Yeşil Çağ

15. Halk şiiri geleneğine sıkı sıkıya bağlı şairin şiirlerinin çoğu bestelenmiş ve "Dostlar Beni Hatırlasın" adlı kitapta toplanmıştır.

**Bu parçada sözü edilen halk şairimiz aşağıdakilerden hangisidir?**

- A) Şeref Taşlıova
- B) Aşık Veysel
- C) Karacaoğlan
- D) Yaşar Reyhani

16. Aşağıdakilerden hangisi "Yedi Meşaleciler" topluluğunun bir üyesi değildir?

- A) Orhan Seyfi Orhon
- B) Yaşar Nabi Nayır
- C) Ziya Osman Saba
- D) Kenan Hulusi Koray

17. Aşağıdaki eserlerden hangisinin türü diğerlerinden farklıdır?

- A) Kuyucaklı Yusuf
- B) Kara Kitap
- C) Tutunamayanlar
- D) Kocaoğlan

18. 1923-1940 yıllarında kişiliğini bulan şairlerin önemli bir bölümü eserlerinde yurdu sevmeye, tanıtma ve kalkınmaya yönelik "memleketçi" bir çaba içindedirler.

**Aşağıdaki şairlerden hangisi böyle bir çaba gösterilerek yazılmamıştır?**

- A) Kar (Ahmet Muhip Dıranas)
- B) Bingöl Çobanları (Kemalettin Kamu)
- C) Çoban Çeşmesi (Faruk Nafiz Çamlıbel)
- D) Halay Çeken Kızlar (Ahmet Kutsi Tecer)

19. Millî Edebiyat Dönemi'nde hikâye türünün gelişip yaygınlaşmasını sağlayan yazar aşağıdakilerden hangisidir?

- A) Tomris Uyar
- B) Nezihe Meriç
- C) Ömer Seyfettin
- D) Sait Faik Abasıyanık

20. Aşağıdakilerden hangisi "Memleket Hikâyeleri" adlı eserin yazarıdır?

- A) Ömer Seyfettin
- B) Refik Halit Karay
- C) Sait Faik Abasıyanık
- D) Memduh Şevket Esenal

### (421) FİZİK - 1

1. Işığın yapısı, fiziğin alt alanlarından hangisi ile incelenir?

- A) Mekanik
- B) Termodinamik
- C) Optik
- D) Elektrik ve Manyetizma

2. Aşağıdakilerden hangisi nitel gözleme örnek olabilir?

- A) Bu gün ırmak suyu çok soğuk
- B) Hava sıcaklığı 10 °C olarak ölçüldü
- C) Bahçe duvarının yüksekliği 2 m'dir
- D) Spor alanı 300 m<sup>2</sup> ölçüldü

3. Aşağıdakilerden hangisi temel büyüklüktür?

- A) Kuvvet
- B) İvme
- C) Kütle
- D) Hız

4. Bir cismin kütlesi aşağıdaki aletlerden hangisi ile ölçülebilir?

- A) Cetvel
- B) Kumpas
- C) Termometre
- D) Eşit kollu terazi

## 1. OTURUM

5. Ölçme araçlarının yapısal özellikleri arasında,

- I- kullanılabilir olmalı
- II- güvenilir olmalı
- III- geçerli olmalı

niceliklerinden hangileri bulunmalıdır?

- A) Yalnız I
- B) I ve II
- C) II ve III
- D) I, II ve III

6. Aşağıdaki büyüklüklerden hangisi vektörel büyüklüktür?

- A) Ağırlık
- B) Kütle
- C) Zaman
- D) Enerji

7. "Bireylerin ölçme konusu ile ilgili bilgi ve becerilerinin noksan ve farklı oluşundan dolayı, herkes aynı derecede bir ölçüm yapamaz."

Yukarıdaki ifadeye göre ölçme işleminde hataya neden olan etken aşağıdakilerin hangisinde doğru verilmiştir?

- A) Ölçme yönteminden
- B) Ölçmeyi yapan kişiden
- C) Ölçme aracından
- D) Ölçme yapılan ortamdan

8. Fiziksel anlamda iş yapılabilmesi için;

- I- Cisme kuvvet uygulanmalı
- II- Uygulanan kuvvet sürtünme kuvvetini yenip yol aldırılmalı
- III- Uygulanan kuvvetle yol aynı doğrultuda olmalı

ifadelerinden hangileri aynı anda olmalıdır?

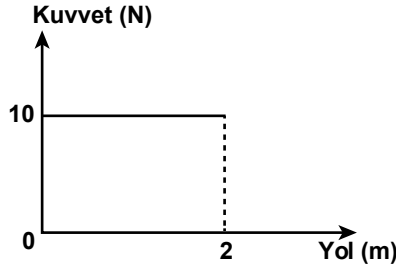
- A) I ve II
- B) I ve III
- C) II ve III
- D) I, II ve III

9. Ahmet 3 kg'lık bir cismi bulunduğu yerden 2 m yüksekliğe çıkarıyor.

Buna göre, Ahmet'in yaptığı iş kaç J'dür? ( $g=10 \text{ N/kg}$ )

- A) 80
- B) 60
- C) 40
- D) 20

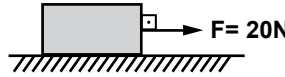
10. Sürtünmesiz bir ortamda cisme uygulanan kuvvet ile yol arasındaki grafik şekildedir.



Buna göre, 2 m'lik yol boyunca kuvvetin yaptığı iş kaç N.m'dir?

- A) 20
- B) 10
- C) 5
- D) 2

11. Yol boyunca 5N'luk sürtünme kuvvetinin etki ettiği tahta bloğa 20N'luk kuvvet şekildedeki gibi uygulanıyor.



Cismin 4 m'lik yatay yol boyunca hareket ettirilmesi sonucunda kuvvetin yaptığı iş ( $W_F$ ) ile sürtünme kuvvetinin yaptığı iş ( $W_{Fs}$ ) arasındaki fark kaç J'dur?

- A) 20
- B) 60
- C) 80
- D) 100

12. Kütle 12 kg olan bir kartal 5 m/s hızla uçarken sahip olduğu kinetik enerji kaç J'dür?

- A) 30
- B) 60
- C) 150
- D) 300

13. Bir asansörde, 1600 J'lük enerji harcadığında 1200 J'lük iş elde edildiği ölçülmüştür.

Buna göre asansörün verimi % kaçtır?

- A) 75
- B) 80
- C) 85
- D) 90

14. Aşağıdakilerden hangisi yenilenebilir enerji kaynaklarından?

- A) Jeotermal enerji
- B) Rüzgar enerjisi
- C) Güneş enerjisi
- D) Nükleer enerji

15. Aşağıdakilerin hangisinde ısı yalnızca ışıma yoluyla yayılmıştır?

- A) Güneşin dünyamızı ısıtması
- B) Kaloriferin odamızı ısıtması
- C) Sobaya eli değen çocuğun elinin yanması
- D) Sıcak yemek içindeki kaşığı eline alan kişinin elinin yanması

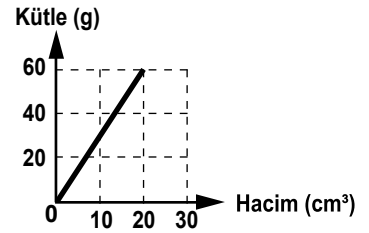
16. Bir metal kaşığın sıcaklığı Celcius termometresi ile  $30^\circ\text{C}$  olarak ölçülmüştür. Bu kaşığın sıcaklığı Kelvin termometresi ile ölçülseydi kaç  $^\circ\text{K}$  olarak ölçülürdü?

- A) 253
- B) 273
- C) 293
- D) 303

17. İçinde  $80 \text{ cm}^3$  su bulunan dereceli silindirin içine bir demir bilye atılıyor. Bilye suya atıldığında su seviyesinin  $110 \text{ cm}^3$  olduğu gözleniyor. Buna göre demir bilyenin hacmi kaç  $\text{cm}^3$  tür?

- A) 20
- B) 30
- C) 80
- D) 190

18. Katı bir maddenin kütle-hacim grafiği şekildedir.



Buna göre bu katının  $180 \text{ g}$  ağırlığındaki bir parçasının hacmi kaç  $\text{cm}^3$  tür?

- A) 30
- B) 60
- C) 120
- D) 160

19. Aşağıdakilerden hangisi kimyasal değişmeye uğramıştır?

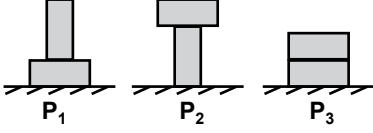
- A) Camın kırılması
- B) Mumun erimesi
- C) Elmanın çürümesi
- D) Suyun kaynaması

20. Hidrojen bombasının patlamasıyla açığa çıkan büyük enerji aşağıdakilerden hangisi ile açıklanır?

- A) Füzyon
- B) Fisyon
- C) Bileşik
- D) Fiziksel değişim



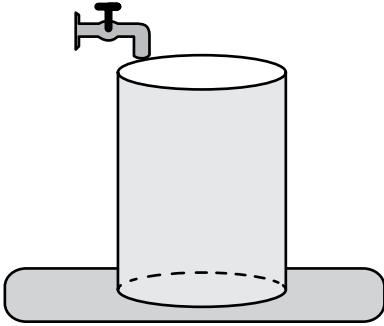
1. Özdeş tuğlalar şekildeki gibi zemine konulduklarında, zemine uyguladıkları basınçlar  $P_1$ ,  $P_2$  ve  $P_3$  oluyor.



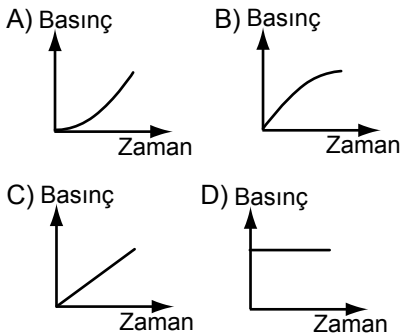
Buna göre,  $P_1$ ,  $P_2$  ve  $P_3$  arasındaki ilişki aşağıdakilerin hangisinde doğru verilmiştir?

- A)  $P_1 > P_2 > P_3$  B)  $P_1 = P_2 = P_3$   
C)  $P_2 > P_1 = P_3$  D)  $P_1 = P_2 > P_3$

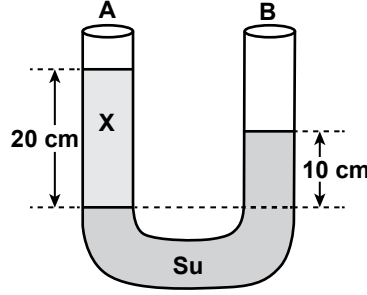
2. Düzgün silindirik boş bir kaba, akış hızı sabit olan şekildeki musluktan su akıyor.



Buna göre, kabın tabanındaki sıvı basıncının zamanla değişim grafiği aşağıdakilerden hangisi olabilir?



3. Şekildeki U borusunun A kolundaki X sıvısının yüksekliği 20 cm, B kolundaki suyun yüksekliği ise 10 cm'dir.



Sıvılar şekildeki gibi dengede kaldığına göre, X sıvısının yoğunluğu kaç  $g/cm^3$  tür? ( $d_{su} = 1 g/cm^3$ )

- A) 0,5 B) 0,6 C) 0,7 D) 0,8

4. Aşağıdakilerden hangisi ile açık hava basıncı ölçülür?

- A) Dinamometre  
B) Termometre  
C) Manometre  
D) Barometre

5. Bir taş sıvı dolu bir kaba bırakıldığında  $2 cm^3$  lük sıvı yer değiştiriyor.

Buna göre, taşın hacmi kaç  $cm^3$  tür?

- A) 0,5 B) 1 C) 1,5 D) 2

6. Kelvin termometresiyle  $373 ^\circ K$  olarak ölçülen bir sıcaklık, Celsius termometresiyle ölçüldüğünde kaç  $^\circ C$  olarak ölçülür?

- A) 50 B) 100 C) 150 D) 200

7. Sürtünmesiz bir yüzeyde duran bir cisme  $F=10 N$ 'luk kuvvet 2 m yol boyunca uygulanıyor.

Buna göre, kuvvetin yol boyunca yaptığı iş kaç  $N \cdot m$ 'dir?

- A) 5 B) 10 C) 15 D) 20

8. Kütlesi 2 kg olan bir oyuncak araba 1 m/s'lik hızla hareket etmektedir.

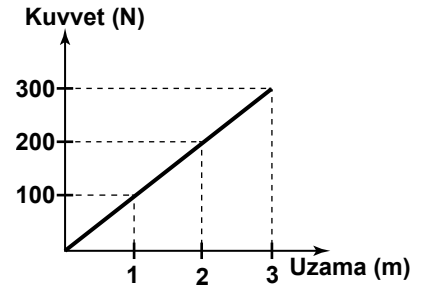
Buna göre, arabanın kinetik enerjisi kaç J'dir?

- A) 1 B) 1,5 C) 2 D) 2,5

9. Yerde duran ve kütlesi m olan bir cisim yerden h kadar yüksekliğe çıkarılırsa cismin depo ettiği enerji aşağıdakilerden hangisine eşit olur? (g: yerçekim ivmesi)

- A) mg B) mgh  
C) 2mgh D)  $\frac{mh}{g}$

10. Denge konumunda duran bir yaya kuvvet uygulandığında yaydaki uzama miktarı grafikte verilmiştir.



Buna göre, bu yayın yay sabiti kaç N/m dir?

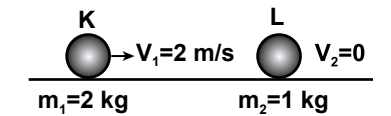
- A) 50 B) 75 C) 100 D) 125

11. Kütlesi 1200 kg olan otomobilin hızı 20 m/s'dir.

Buna göre, otomobilin momentumu kaç  $kg \cdot m/s$ 'dir?

- A) 1200 B) 2400  
C) 12000 D) 24000

12. Şekildeki K ve L bilyeleri esnek olmayan çarpışma sonucu kenetlenerek hareket ediyor.



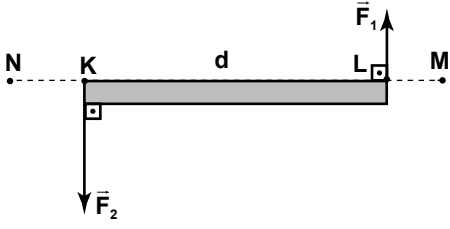
Buna göre, kenetlenen bilyelerin ortak hızı kaç m/s'dir?

- A)  $\frac{4}{3}$  B)  $\frac{5}{3}$  C)  $\frac{7}{3}$  D)  $\frac{8}{3}$

## 1. OTURUM

## 1. OTURUM

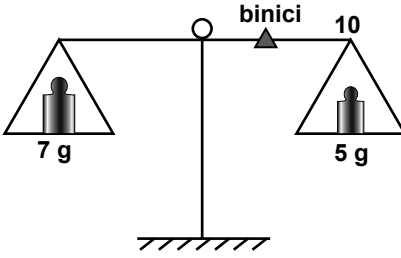
13. Ağırlığı önemsiz d uzunluğundaki K L çubuğuna  $F_1$  ve  $F_2$  kuvvetleri şekildeki gibi uygulanıyor.



$F_2 > F_1$  olduğuna göre, bileşke kuvvet hangi noktalar arasında olabilir?

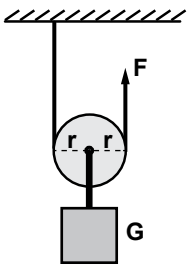
- A) N - K arasında  
B) K'de  
C) K - L arasında  
D) L - M arasında

14. Şekildeki 10 bölmeli eşit kollu terazi 5 g'lık binici ile dengeye getirilmek isteniyor.



Buna göre, binici kaçınıcı bölme getirilmelidir?

- A) 2 B) 4 C) 5 D) 7
15. Makara ağırlığının önemsizmediği şekildeki sistemde G yükü F kuvveti ile yukarı çekilmek isteniyor.



Buna göre, F kuvveti en az kaç G olmalıdır?

- A)  $\frac{1}{2}$  B) 1 C)  $\frac{3}{2}$  D) 2

16. Üzerinden 1A'lık akım geçen telin 10 cm uzağında oluşan manyetik alanın şiddeti kaç Tesla'dır? ( $K = 10^{-7} \text{ T.m/A}$ )

- A)  $4 \cdot 10^{-6}$  B)  $3 \cdot 10^{-6}$   
C)  $2 \cdot 10^{-6}$  D)  $10^{-6}$

17. Üzerinden i akımı geçen  $\ell$  uzunluğundaki selenoidin merkezinde B manyetik alanı oluşmaktadır.

Sadece akım şiddeti 2i olursa manyetik alan kaç B olur?

- A) 1 B) 2 C) 3 D) 4

18. Boyu 1 m olan tel 5 T manyetik alan içinde, alana dik durmaktadır.

Telin üzerinden 1 A'lık akım geçtiğine göre, tele etki eden kuvvet kaç N'dur?

- A) 5 B) 7 C) 9 D) 10

19. q yüküne sahip bir parçacık B manyetik alanında manyetik alana dik doğrultuda v hızıyla hareket ederse bu yüklü parçacığa etki eden kuvvet aşağıdakilerden hangisi ile ifade edilir?

- A)  $\frac{B \cdot q}{v}$  B)  $\frac{B \cdot v}{q}$   
C)  $B \cdot q \cdot v$  D)  $B \cdot q$

20. Aşağıdaki maddelerden hangisi diyamanyetik maddelere örnek olabilir.

- A) Demir B) Nikel  
C) Alüminyum D) Bakır

## (432) KİMYA - 2

1. Aşağıda bazı madde örnekleri verilmiştir:

- I- Süt  
II- Kolonya  
III- Demir

Bu örneklerden hangileri karışımır?

- A) Yalnız II B) Yalnız III  
C) I ve II D) I ve III

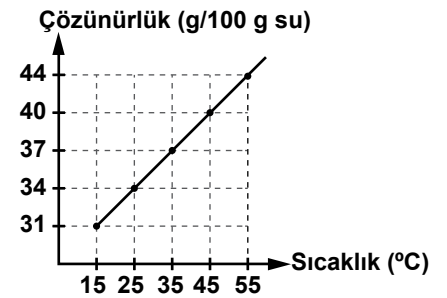
2. Tabloda çözücü ve çözünen ait örnekler verilmiştir:

Çözücü	Çözünen
Su	Karbon dioksit
Su	Etanol

Tabloda verilen örneklerden oluşan karışımlar aşağıdakilerden hangisine aittir?

- A) Sıvı çözeltilere  
B) Gaz çözeltilere  
C) Saf maddelere  
D) Heterojen karışımlara

3. KCl katısının çözünürlüğünün sıcaklıkla değişimini gösteren grafik verilmiştir:

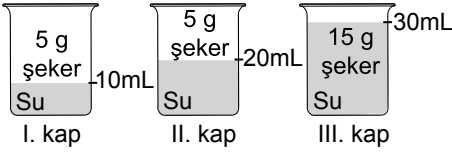


Buna göre, 50 g su ile hazırlanan aşağıdaki KCl çözeltilerinden hangisi doymamış çözeltilerdir?

- A) B)   
C) D)

## 1. OTURUM

4.



Şekildeki kaplarda verilen çözeltilerin, derişimine göre küçükten büyüğe doğru sıralanışı aşağıdakilerden hangisidir?

- A) I < II < III B) I = II = III  
C) III < II < I D) II < I = III

5. Çözeltilerde kaynama noktası yükselmesi;

- I- Çözünen madde türü  
II- Çözünen madde miktarı  
III- Çözültideki tanecik sayısı

özelliklerinden hangilerine bağlı değildir?

- A) Yalnız I B) Yalnız II  
C) I ve III D) II ve III

6. Aşağıdaki maddelerden hangisi bulunduğu karışımdan mıknatıs tarafından çekilerek ayrılır?

- A) Demir B) Tahta  
C) Şeker D) Tuz

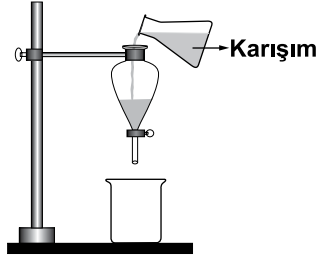
7. Aşağıdaki karışımlardan hangisi eleme yöntemi uygulanarak ayrılır?

- A) Su - Tuz  
B) Tuz - Pirinç  
C) Su - Demir tozu  
D) Tuz - Zeytinyağı

8. Suda pişirilen makarna hangi ayırma yöntemi ile sudan ayrılır?

- A) Ayıklama B) Damıtma  
C) Eleme D) Süzme

9. X ve Y maddelerinden oluşan bir sıvı karışım, şekildeki gibi ayırma hunisine konuluyor.



Bir süre bekletildikten sonra ayırma hunisinin musluğu açılıyor ve Y maddesi ayrılıyor.

Buna göre, X ve Y maddeleri ile ilgili aşağıdakilerden hangisi kesinlikle söylenebilir?

- A) Y sıvısı çözücü, X sıvısı çözünenidir.  
B) Y'nin kaynama sıcaklığı X'inkinden küçüktür.  
C) Y'nin yoğunluğu X'in yoğunluğundan büyüktür.  
D) Y ve X sıvısının miktarları eşittir.

10. Buharlaştırma işlemi, aşağıdaki hangi karışımları ayırmada kullanılır?

- A) Homojen sıvı - sıvı  
B) Homojen sıvı - katı  
C) Heterojen katı - katı  
D) Heterojen sıvı - sıvı

11. Sabunun formülü aşağıdakilerden hangisidir?

- A) NaOH  
B) NaClO  
C) C<sub>17</sub>H<sub>35</sub>COO<sup>-</sup>Na<sup>+</sup>  
D) Na<sub>2</sub>CO<sub>3</sub>

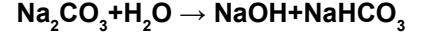
12. Sabunun yapısında bulunan kısımlar aşağıdakilerin hangisinde doğru verilmiştir?

- A) Hidrofil, hidrofob  
B) Hidrofil, polar  
C) Hidrofob, apolar  
D) Polar, polar

13. Sabun ve deterjanlara genel olarak ne ad verilir?

- A) Ağartıcılar  
B) Yağ asitleri  
C) Kireç çözücüler  
D) Yüzey aktif maddeler

14. Çamaşır sodasının su ile tepkimesi verilmiştir:



Tepkimeye göre, aşağıdakilerden hangisi doğrudur?

- A) Ortamın bazikliği artar.  
B) Ortamın asitliği artar.  
C) Çamaşır suyu oluşur.  
D) Sabun oluşur.

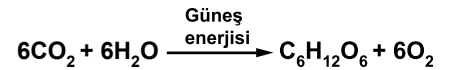
15. Çamaşır suları hangi özelliğinden dolayı ağartıcı olarak kullanılırlar?

- A) İndirgen  
B) Yükseltgen  
C) Suyu seven  
D) Suyu sevmeyen

16. Aşağıdakilerden hangisi boyanın bileşenlerinden değildir?

- A) Çözücü B) Bağlayıcı  
C) Kalınlaştırıcı D) Renklendirici

17. Yeşil bitkilerde sadece gündüz gerçekleşen olayın tepkimesi verilmiştir:



Buna göre, aşağıdakilerden hangisi doğrudur?

- A) Bitkiler, gece ve gündüz solunum yapar.  
B) Kimyasal sindirimde enzim ve su kullanılır.  
C) İnorganik maddelerden organik madde elde edilir.  
D) Besinlerin oksijenle yanması sonucu karbon dioksit ve su oluşur.

18. Nişasta gibi polisakkaritler ağızda bulunan hangi enzim yardımıyla sindirime uğrar?

- A) Maltoz B) Amilaz  
C) Lipaz D) Pepsin

## 1. OTURUM

19. Aşağıdaki etkenlerden hangisinin artması hava kirliliğine neden olmaz?

- A) Kentleşmenin
- B) Sanayi kuruluşlarının
- C) Otomobil kullanımının
- D) Ağaçlandırma çalışmalarının

20. I- Cam  
II- Kâğıt  
III- Gübre  
IV- Plastik ambalaj

Yukarıdaki maddelerden hangilerinin geri dönüşümü vardır?

- A) Yalnız III
- B) Yalnız IV
- C) II ve III
- D) I, II ve IV

### (436) KİMYA – 6

1. Aşağıdaki maddelerden hangisinin asidik veya bazik özellik gösterdiği, Arrhenius teorisi ile açıklanabilir?

- A) NH<sub>3</sub>
- B) SO<sub>2</sub>
- C) NaOH
- D) CO<sub>2</sub>

2.  $\text{HF}_{(s)} + \text{H}_2\text{O}_{(s)} \rightleftharpoons \text{H}_3\text{O}^+_{(suda)} + \text{F}^-_{(suda)}$  denklemine Bronsted-Lowry'e göre asit ve baz olan maddeler hangileridir?

	Asit	Baz
A)	HF, H <sub>3</sub> O <sup>+</sup>	H <sub>2</sub> O, F <sup>-</sup>
B)	H <sub>2</sub> O, F <sup>-</sup>	HF, H <sub>3</sub> O <sup>+</sup>
C)	HF, H <sub>2</sub> O	H <sub>3</sub> O <sup>+</sup> , F <sup>-</sup>
D)	F <sup>-</sup> , HF	H <sub>2</sub> O, H <sub>3</sub> O <sup>+</sup>

3. Lewis asit-baz teorisinin temeli aşağıdakilerden hangisine dayanır?

- A) Proton alıp vermeye
- B) Hidrojen iyonu vermeye
- C) Hidroksit iyonu vermeye
- D) Serbest elektron çifti alıp vermeye

4. Ametal oksitler su ile tepkime vererek çözümler ve sudaki H<sup>+</sup> iyonları derişimini artırır.

Buna göre, ametal oksitlerle ilgili aşağıdakilerden hangisi söylenebilir?

- A) Baziktir.
- B) Asidiktir.
- C) Nötrdür.
- D) Amfoterdir.

5.  $\text{HNO}_3 + \text{KOH} \rightarrow \text{Ürün} + \text{H}_2\text{O}$  tepkimesi sonucu oluşan ürün aşağıdakilerden hangisidir?

- A) KNO<sub>3</sub>
- B) KH
- C) HNO<sub>2</sub>
- D) NH<sub>3</sub>

6. Değerli 2 olan baz aşağıdakilerden hangisidir?

- A) NH<sub>3</sub>
- B) KOH
- C) Ba(OH)<sub>2</sub>
- D) Al(OH)<sub>3</sub>

7. 25 °C'ta saf sudaki H<sup>+</sup> ve OH<sup>-</sup> iyonlarının derişimleri arasındaki ilişki aşağıdakilerin hangisinde doğru verilmiştir?

- A) [H<sup>+</sup>] > [OH<sup>-</sup>]
- B) [H<sup>+</sup>] = [OH<sup>-</sup>]
- C) [OH<sup>-</sup>] > [H<sup>+</sup>]
- D) [H<sup>+</sup>] + [OH<sup>-</sup>] = 7

8. 25 °C'ta pH değeri 7 olan bir çözelti için aşağıdakilerden hangisi doğrudur?

- A) K<sub>su</sub> = 1x10<sup>-7</sup>'dir.
- B) Asidiktir.
- C) Baziktir.
- D) Nötrdür.

9. Asit ve bazların kuvveti aşağıdakilerden hangisine bağlıdır?

- A) Değerliklerine
- B) İyonlaşma yüzdelere
- C) Elektrik iletkenliklerine
- D) Yükseltgenme basamaklarına

10. I- NaCl  
II- NH<sub>4</sub>Cl  
III- CH<sub>3</sub>COONa

tuzlarından hangileri hidroliz olmaz?

- A) Yalnız I
- B) Yalnız II
- C) I ve III
- D) II ve III

11. Aşağıdaki tepkimelerin hangisinde altı çizilen madde indirgenmiştir?

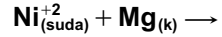
- A) N<sub>2</sub> + 3H<sub>2</sub> → 2NH<sub>3</sub>
- B) Zn + 2HCl → ZnCl<sub>2</sub> + H<sub>2</sub>
- C) 2Na + ½O<sub>2</sub> → Na<sub>2</sub>O
- D) H<sub>2</sub> + CuO → Cu + H<sub>2</sub>O

12. I- Negatif yüklü bir iyonun yüksüz hâle gelmesi  
II- Nötr atomun elektron vermesi  
III- Nötr atomun elektron alması

Yukarıdakilerden hangileri yükseltgenmedir?

- A) Yalnız I
- B) Yalnız III
- C) I ve II
- D) II ve III

13. Mg, Ni'den daha aktif bir metal olduğuna göre,



tepkimesini aşağıdakilerden hangisi doğru tamamlar?

- A) Tepkime gerçekleşmez.
- B) Ni<sub>(k)</sub> + Mg<sub>(suda)</sub><sup>+2</sup>
- C) Ni<sub>(suda)</sub><sup>+2</sup> + Mg<sub>(k)</sub>
- D) Ni<sub>(suda)</sub><sup>+2</sup> + Mg<sub>(suda)</sub><sup>+2</sup>

14. Asitler altın metale etki etmez. Bunun nedeni altın metalinin hangi özelliği ile açıklanır?

- A) Değerli bir metal olması
- B) Elektron verme eğiliminde olması
- C) Oda koşullarında katı hâde olması
- D) Yükseltgenme eğiliminin düşük olması

15. KMnO<sub>4</sub> bileşiminde Mn'nin yükseltgenme basamağı kaçır?

- A) +7
- B) +6
- C) +1
- D) -2

## 1. OTURUM

### (441) BİYOLOJİ – 1

16. Bir elektrokimyasal pilde tuz köprüsünün görevi aşağıdakilerden hangisidir?

- A) Yük denklığı sağlamak
- B) Elektrik akımı üretmek
- C) Elektrot gerilimi oluşturmak
- D) Elektrotları birbirine bağlamak

17. Zn elektrot anot, Cu elektrot katot olduğuna göre Zn-Cu pilinin şematik olarak doğru gösterimi aşağıdakilerden hangisidir?

- A) Cu / Cu<sup>+2</sup> // Zn<sup>+2</sup> / Zn
- B) Zn / Zn<sup>+2</sup> // Cu<sup>+2</sup> / Cu
- C) Cu<sup>+2</sup> / Cu // Zn / Zn<sup>+2</sup>
- D) Zn<sup>+2</sup> / Zn // Cu / Cu<sup>+2</sup>

18. Pb – Ag pilinin indirgenme yarı tepkimeleri verilmiştir:



Buna göre, aşağıdakilerden hangisi söylenemez?

- A) Pil elektrik akımı üretir.
- B) E° pil değeri +0,93 V'tur.
- C) Ag<sup>+</sup> iyonları yükseltgenir.
- D) Tepkime kendiliğinden gerçekleşir.

19. Derişim pilleri ile ilgili aşağıdakilerden hangisi yanlıştır?

- A) Bir redoks tepkimesidir.
- B) Çözeltilerin türü aynıdır.
- C) Elektrotların türü farklıdır.
- D) Çözeltilerin derişimi farklıdır.

20. Asidik ortamda gerçekleşen  $\text{Zn} + \text{NO}_3^- \rightarrow \text{Zn}^{+2} + \text{NO}_2$  tepkimesi denkleştirildiğinde H<sup>+</sup> ve H<sub>2</sub>O'nun katsayıları aşağıdakilerden hangisi olur?

	H <sup>+</sup>	H <sub>2</sub> O
A)	2	2
B)	1	2
C)	2	4
D)	4	2

1. Aşağıdakilerden hangisi iyi bir hipotezin özelliklerinden değildir?

- A) Test edilebilirdir.
- B) Eldeki verilere ters düşmez.
- C) Yapılan tüm deneylerle kanıtlanabilir.
- D) Yeni tahminler yapılabilmesine ve yeni gerçeklere ulaşılmasına olanak sağlar.

2. Suç ve suçluların tespit ve ispatı için çalışmalar yapan biyolojinin alt bilim dalına ne ad verilir?

- A) Doğa tarihi
- B) Deniz biyolojisi
- C) Kriminal biyoloji
- D) Doğa tarihi uzmanlığı

3. Çok hücreli canlıların vücut organizasyonu düzeninde aşağıdakilerden hangisi en üst durumu ifade eder?

- A) Organ
- B) Hücre
- C) Doku
- D) Organizma

4. Aşağıdakilerden hangisi karnivor (etçil) beslenen canlılardandır?

- A) Kedi
- B) Ayı
- C) İnsan
- D) Koyun

5. Oksijenli solunum denklemi düşünülüğünde, oksijenli solunum yapan bir hücrede aşağıdakilerden hangisinin miktarında azalma olur?

- A) Su
- B) Besin
- C) Enerji (ATP)
- D) Karbondioksit

6. Dış ortamdaki değişen çevre koşullarına karşın organizmanın iç ortamının belli sınırlar içinde değişmez tutulmasına ne denir?

- A) Uyarılma
- B) Anabolizma
- C) Homeostasi
- D) Katabolizma

7. Eksikliğinde guatr hastalığı görülen mineral aşağıdakilerden hangisidir?

- A) İyot (I)
- B) Fosfor (P)
- C) Sodyum (Na)
- D) Magnezyum (Mg)

8. Aşağıdakilerden hangisi asidik özelliktedir?

- A) Tükürük
- B) Amonyak
- C) Deniz suyu
- D) Mide özsuyu

9. Aşağıdakilerden hangisi yağların yapı taşlarından birisidir?

- A) Selüloz
- B) Gliserol
- C) Glikojen
- D) Fosfolipit

10. Proteinler oluşurken amino asitlerin arasında oluşan bağlara ne ad verilir?

- A) Hidrojen
- B) Peptit
- C) Ester
- D) Glikozit

11. Vücutta kalsiyum ile fosforun emilmesini ve kemiklerde depo edilmesini sağlayan, eksikliğinde dişlerde ve kemiklerde bozukluklar görülen vitamin aşağıdakilerden hangisidir?

- A) A
- B) B
- C) C
- D) D

12. Aşağıda enzimlerle ilgili verilen bilgilerden hangisi yanlıştır?

- A) Bir enzim her çeşit reaksiyona etki eder.
- B) Bazı enzimler tersinir ( çift yönlü) çalışırlar.
- C) Enzim-substrat ilişkisi anahtar kilit uyumuna benzer.
- D) Enzim, substrata geçici olarak aktif bölgesinden bağlanır.

13. Aşağıdaki azotlu organik bazlardan hangisi sadece RNA'nın yapısında bulunur?

- A) Adenin
- B) Timin
- C) Urasil
- D) Guanin

14. Aşağıdaki hücre bölümlerinin hangisinde DNA bulunmaz?

- A) Ribozom
- B) Mitokondri
- C) Kloroplast
- D) Çekirdek

## 1. OTURUM

(443) BİYOLOJİ – 3

15. ATP sentezi yapılan ortamda;

- I- Su
- II- ADP
- III- Fosfat

moleküllerinden hangilerinin miktarında artış görülür?

- A) Yalnız I
- B) I ve II
- C) II ve III
- D) I, II ve III

16. 19. yüzyılın başında incelediği hücrenin içindeki küresel yapıyı fark ederek bu yapıyı çekirdek (nucleus) olarak isimlendiren bilim insanı aşağıdakilerden hangisidir?

- A) Virchow
- B) R. Schleiden
- C) Robert Brown
- D) Robert Hooke

17. Hücre zarı ile çekirdek zarı arasında uzanan tek kat zarlı ve bazılarının üzerinde ribozom bulunan kanalcıklar sistemine ne ad verilir?

- A) Ribozom
- B) Sentrozom
- C) Golgi aygıtı
- D) Endoplazmik retikulum

18. Aşağıdakilerden hangisi hücre zarındaki pasif geçiş olaylarından değildir?

- A) Ozmos
- B) Difüzyon
- C) Endositoz
- D) Kolaylaştırılmış difüzyon

19. Aşağıdakilerden hangisi bitki hücrelerinde bulunup, hayvan hücrelerinde bulunmayan yapılarıdır?

- A) Koful
- B) Sitoplazma
- C) Hücre zarı
- D) Hücre çeperi

20. Aşağıdaki canlı gruplarından hangisinin hücre yapısında çekirdek zarı ve zarlı organel bulunmaz?

- A) Bitkiler
- B) Bakteriler
- C) Mantarlar
- D) Protistalar

1. Aşağıdakilerden hangisi bilim adamında bulunması gereken özelliklerden değildir?

- A) Akılcı ve gerçekçi olmalı
- B) Meraklı ve iyi gözlemci olmalı
- C) Yaptığı çalışmalarda dikkatli, kararlı, şüpheli ve sabırlı olmalı
- D) Daha önce yapılan gözlem ve deneyleri tekrar tekrar yapmalı

2. Bilimsel bir problem için önerilen geçici çözüme ne denir?

- A) Hipotez
- B) Gözlem
- C) Veri
- D) Kanun

3. Bezelyeler üzerinde yaptığı deneyler sonucunda, kalıtsal özelliklerinin dölden dölge geçişi ile ilgili önemli sonuçlar elde etmesiyle genetik biliminin kurucusu sayılan bilim adamı kimdir?

- A) Robert Hooke
- B) Gregor Mendel
- C) James Watson
- D) Carolus Linnaeus

4. Organizmaların döllenmiş yumurtadan itibaren gelişimini ve farklılaşmasını inceleyen biyolojinin alt bilim dalı aşağıdakilerden hangisidir?

- A) Fizyoloji
- B) Taksonomi
- C) Embriyoloji
- D) Moleküler biyoloji

5. Herhangi bir canlıdan alınan dokunun uygun ortamda saklanması ve bu ortamlarda büyüme yeteneğini kazanmasını sağlayan tekniğe ne ad verilir?

- A) Boyama tekniği
- B) Vital inceleme
- C) Kesit alma
- D) Doku kültürü

6. Aşağıdakilerden hangisi canlıları etkileyen abiyotik etmenlerdendir?

- A) Toprak ve mineraller
- B) Bakteriler
- C) Bitkiler
- D) Algler

7. Bir arada yaşayan canlılardan bir tanesi zarar görürken, diğer canlı bu ortaklıktan yarar görüyorsa, bu birlikteliğe ne ad verilir?

- A) Herbivor
- B) Karnivor
- C) Kommensalizm
- D) Parazit yaşam

8. Aşağıdaki canlıların hangisi beslenmesinde hem et hem de ot yiyenler (Omnivorlar) grubunda yer alır?

- A) Ayı
- B) Kartal
- C) Aslan
- D) Koyun

9. Dünyadaki bütün canlıların yaşadığı tabakaya ne ad verilir?

- A) Habitat
- B) Biyosfer
- C) Popülasyon
- D) Komünite

10. Aşağıdakilerden hangisi bir popülasyonu ifade eder?

- A) Karadeniz'deki hamsiler
- B) İç Anadolu'daki bitkiler
- C) Van Gölü'ndeki canlılar
- D) Konya Ovası'ndaki göller

11. Bir popülasyonun yaş dağılımına bakıldığında, genç bireylerin fazla olduğu tespit ediliyor. Bu popülasyon için ne söylenebilir?

- A) Dengededir.
- B) Küçülmektedir.
- C) Büyümektedir.
- D) Zamanla yok olacaktır.

12. Tarımsal aktiviteler sonucu sulardaki kirlenmeden dolayı ortamda aşırı bitki üremesine ne denir?

- A) Radyasyon
- B) Ötrifikasyon
- C) Besin zinciri
- D) Popülasyon kapasitesi

## 1. OTURUM

13. Yeşil alanların tahrip edilmesi ve fosil yakıtların aşırı tüketimi sonucu atmosferde aşağıda verilenlerden hangisinin oranı giderek artmaktadır?

- A) Azot B) Argon  
C) Oksijen D) Karbon dioksit

14. Aşağıdakilerden hangisi ses kirliliğinin insan üzerindeki fizyolojik etkilerindendir?

- A) Stres  
B) Sinirlilik  
C) Geçici iştme kaybı  
D) İş veriminin düşmesi

15. Aşağıdakilerden hangisi toprak kirliliğine neden olabilen etmenlerden değildir?

- A) Erozyon  
B) Plansız kentleşme  
C) Evsel, sanayi ve hastane atıkları  
D) Hava kirliliği sonucu oluşan asit yağmurları

16. Aşağıdakilerden hangisi erozyonun önlenmesi için alınması gereken tedbirlerle ilgili değildir?

- A) Toprağın yanlış kullanımı önlenmeli  
B) Ormanların ve bitki örtüsünün tahribi önlenmeli  
C) Nükleer silahlar kontrol altına alınmalı  
D) Verimli arazinin yerleşim birimi olarak kullanılmasına izin verilmemeli

17. Beyine ileilmeksizin bir impulsa karşı verilen yanıtta ne denir?

- A) Nasti B) Refleks  
C) Adaptasyon D) Tropizma

18. Canlılarda günlük, aylık, yıllık döngüler hâlinde tekrarlanan davranışlara ne denir?

- A) Refleks  
B) Biyolojik ritim  
C) Kemotropizma  
D) İmpuls oluşumu

19. Aşağıdaki hayvanların hangisinin sosyal yaşamlarında grup lideri yoktur?

- A) Kaplan B) Aslan  
C) Maymun D) Kral penguen

20. Canlıların kendiliğinden var olduğu, yani cansız maddelerden kendiliğinden meydana geldiğini savunan, hayatın başlangıcı ile ilgili görüş aşağıdakilerden hangisidir?

- A) Biyogenez B) Abiyogenez  
C) Heterotrof D) Panspermia

### (446) BİYOLOJİ – 6

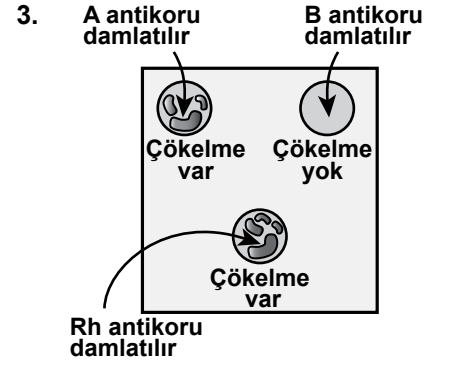
1. Kusursuz bir şekilde yapılmış maddenin bir parçanın havaya atıldığında yazı veya tura gelme olasılığı eşit olup % 50'dir.

**Bu para peş peşe 9 kez havaya atıldığında her defasında tura gelmişse 10. denemede tura gelme olasılığı % kaçtır?**

- A) 25 B) 50 C) 75 D) 100

2. Bağımsız genler ile ifade edilen, AaBbCcDd genotipine sahip birey mayoz hücre bölünmesi ile en fazla kaç çeşit gamet oluşturulabilir?

- A) 4 B) 8 C) 12 D) 16



Yukarıdaki şekilde Ali'den alınan kan damlaları üzerine antikorların damlatılması sonucu oluşan çökme durumu gösterilmiştir.

**Buna göre Ali'nin kan grubu nedir?**

- A) A Rh- B) B Rh-  
C) A Rh+ D) B Rh+

4. Kuşların cinsiyetine göre vücut hücrelerindeki kromozom durumu;

$16 + ZZ \rightarrow$  Erkek

$16 + ZW \rightarrow$  Dişi  
şekindedir.

**Buna göre kuşların eşey tayini ile ilgili aşağıdakilerden hangisi yanlıştır?**

- A) Eşeyi tek tip gonozom belirler.  
B) Dişiler heterogametik, erkekler ise homogametiktir.  
C) Oluşacak yavrunun cinsiyetini belirleyen dişi bireydir.  
D) Erkek birey, mayoz hücre bölünmesi ile tek tip gamet oluşturur.

5. Tavşanlarda post rengine  $C^R, C^{ch}, C^h, C^a$  olmak üzere dört farklı allel etki etmektedir. Ancak bir karakterin kaç tane alleli olursa olsun diploit canlı bu allellerden ikisine, haploit canlı ise bir tanesine sahiptir.

**Bu durum aşağıdakilerden hangisi ile açıklanabilir?**

- A) Eş baskınlık  
B) Geri çaprazlama  
C) Eksik baskınlık  
D) Çok allellilik

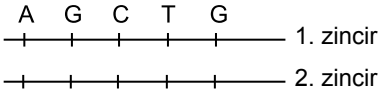
## 1. OTURUM

6. İnsanda mayoz hücre bölünmesinde otozomal kromozomlardaki ayrılmama sonucunda, aşağıdaki gametlerden hangisi oluşmaz?

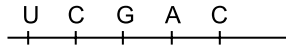
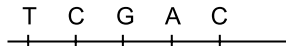
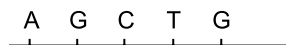
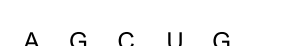
- A) 21+X      B) 22+X  
C) 21+Y      D) 23+X

7. Aşağıda verilenlerden hangisi çift halkalı pürin grubu organik bazlardandır?

- A) Adenin      B) Timin  
C) Urasil      D) Sitozin

8.  1. zincir  
2. zincir

Yukarıdaki DNA molekülünün 1. zincirinin anlamlı zincir olduğu transkripsiyon (yazılma) sonucunda oluşacak mRNA aşağıdakilerden hangisidir?

- A)   
B)   
C)   
D) 

9. Protein sentezinde aşağıdakilerden hangisi görev almaz?

- A) Enzim      B) ATP  
C) mRNA      D) Yağ asitleri

10. Gen klonlama işleminde aşağıdakilerden hangisi ilk önce yapılır?

- A) Genetiği değiştirilmiş plazmit bakteriyeye aktarılır.  
B) Klonlanacak genin aktarılacağı plazmit, bakteriden ayrıştırılır.  
C) Ayrıştırılan plazmit restriksiyon enzimleri ile kesilir.  
D) Genetiği değiştirilmiş bakteri kültüre alınarak çoğaltılır.

11. İnsanda çevrenin etkisi ile değişmeyen karakter aşağıdakilerden hangisidir?

- A) Boy uzunluğu  
B) Vücut ağırlığı  
C) Ten rengi  
D) Kan grubu

12. A koyununun somatik hücresinden izole edilerek alınan diploit çekirdek, B koyununun çekirdeksiz yumurta hücresi ile kaynaştırılır. Oluşan hücreye elektrik şoku verilerek embriyo oluşması sağlanır.

**Oluşan embriyonun, C koyununun rahmine yerleştirilmesiyle gelişen yavru ile ilgili olarak aşağıdakilerden hangisi doğrudur?**

- A) B koyununun kopyasıdır.  
B) DNA'sı C koyununun DNA'sı ile aynıdır.  
C) A koyunu ile aynı genetik özelliklere sahiptir.  
D) A, B, C koyunlarından daha yüksek kalitededir.

13. Bir canlının nerede yaşadığı, ne ile beslendiği, hangi canlılar ile etkileşim içinde olduğu gibi tüm faaliyetler, aşağıdakilerden hangisiyle tanımlanır?

- A) Tür içi rekabet  
B) Ekolojik niş  
C) Türler arası rekabet  
D) Avlanma (predasyon)

14. Bitki ve hayvanların geçmişte ve günümüzde yeryüzündeki dağılışlarını inceleyen bilim dalına ne ad verilir?

- A) Biyom  
B) Ekosistem  
C) Biyocoğrafya  
D) Biyoçeşitlilik

15. Birlikte yaşayan (simbiyotik) iki tür canlıdan birisi fayda sağlarken diğerinin zarar gördüğü birliktelik aşağıdakilerden hangisidir?

- A) Mutualizm  
B) Gevşek mutualizm  
C) Kommensalizm  
D) Parazitizm

16. Çam, badem vb. ağaçların üzerinde yaşayarak, sömürücü emeçlerini konağın odun borularına uzatan, buradan su ve minerallerini alan, yarı parazit bitki aşağıdakilerden hangisidir?

- A) Canavar otu      B) Ökse otu  
C) Küsküt otu      D) Yonca

17. Popülasyonun büyüklüğüne etki eden faktörler;

- I- Doğumlar  
II- Ölümler  
III- İçer göçler  
IV- Dışa göçler

Yukarıda verilen faktörlerden hangilerinin büyük olması ile popülasyon kesinlikle büyümektedir?

- A) I ve III      B) I ve IV  
C) II ve III      D) II ve IV

18. Bir popülasyonda, üreme öncesi dönemdeki birey sayısı, üreme dönemindeki birey sayısından fazladır.

**Bu popülasyon için aşağıdaki değerlendirmelerden hangisi doğrudur?**

- A) Dengededir.  
B) Büyümektedir.  
C) Küçülmektedir.  
D) Yok olmaktadır.

19. Aşağıda verilenlerden hangisi "biyolojik çeşitliliğin" azalmasına neden almaz?

- A) Çarpık kentleşme  
B) Plansız madencilik  
C) Doğal hayatı koruma  
D) Baraj ve otoyol yapımı

20. Aşağıda verilenlerden hangisi çayırın faydalarından değildir?

- A) Etçil hayvanlar için besin kaynağıdır.  
B) Kirlenen havayı temizler.  
C) Toprağı korur.  
D) Suyu tutar.



## 1. OTURUM

(461) EKONOMİ – 1

1. Doğa, toprak yapısı ve iklim etkeniyle tarım ve sanayi üretimini doğrudan etkiler.

**Bu açıklamaya göre pamuğun yeterli ölçüde üretildiği bölgelerde hangi endüstri gelişmiştir?**

- A) Otomotiv B) Şeker  
C) Demir D) Tekstil

2. Üretim faktörlerinden emeğin özelliklerine göre aşağıdakilerden hangisi yanlıştır?

- A) Zevk için yapılan faaliyetler emek kabul edilmez.  
B) Üretimde kullanılan hayvan gücü emek kabul edilir.  
C) Makinelerin üretimdeki faaliyetleri emek kabul edilmez.  
D) İnsanların mal ve hizmet üretmek için yaptıkları faaliyetler emek kabul edilir.

3. Aşağıdakilerden hangisi bir ülkenin ekonomi politikasının başlıca hedeflerinden olamaz?

- A) Tam istihdam sağlamak  
B) Ekonomik dengeyi sağlamak  
C) Büyüme ve kalkınmayı gerçekleştirmek  
D) Yüksek enflasyonu gerçekleştirmek

4. Ülkelerarası millî gelirin karşılaştırılması hangi para birimi ile yapılmaktadır?

- A) İngiliz Sterlini  
B) Rus Rublesi  
C) Japon Yeni  
D) ABD Doları

5. Aşağıdakilerden hangisi paranın işlevlerinden biridir?

- A) Değerini koruması  
B) Değişim aracı olması  
C) Bölünebilir olması  
D) Güvenilir olması

6. Aşağıdakilerden hangisi mal ve hizmet fiyatının oluşumunda doğrudan etkilidir?

- A) Arz ve talep  
B) Kalite ve marka  
C) Belirli bir piyasa  
D) Satın alma gücü

7. İşçilerin çalışmaları karşılığı aldıkları para miktarı hangi ücreti oluşturur?

- A) Reel ücreti B) Aynı ücreti  
C) Akort ücreti D) Nominal ücreti

8. Gelirin özelliklerine göre aşağıdakilerden hangisi ekonomide gelir kabul edilmez?

- A) Ücret B) Faiz  
C) Bağış D) Kâr

9. Aşağıdakilerden hangisi üretim faaliyetidir?

- A) Uçak, tren, otobüs gibi şehirlerarası araçlarla seyahat edilmesi  
B) Kömürün yakılarak termik santralinde elektrik enerjisi elde edilmesi  
C) Seyahat acentesi ile turistik geziye çıkılması  
D) Evde ısınmak amacıyla doğal gaz yakılması

10. İhtiyaçları karşılanmalarındaki şiddet derecesine göre sınıflandırdığımızda, aşağıdakilerden hangisi lüks ihtiyaçlara örnek olur?

- A) Giyecek B) Ekmek  
C) Su D) Otomobil

11. Ekonomi biliminin tanımı kapsamında yapılan açıklamalardan hangisi doğrudur?

- A) İnsanların ihtiyaçları sınırlıdır.  
B) İhtiyaçları karşılayan araçlar (mallar) sınırsızdır.  
C) İhtiyaçlar mallardan çok daha fazladır.  
D) Ekonominin temeli bolluk olayıdır.

12. Aşağıdakilerden hangisi bazı ihtiyaçlar arasında ikame olayının gelişmesine bir örnek olarak gösterilemez?

- A) Arpa ve çavdar karışımı ekmeğin, buğday ekmeğinin yerini alması  
B) Pekmezin, şekerin yerine konması  
C) Sentetik kumaşların, yünün ve pamuğun yerini alması  
D) Et, sebze ve süt ihtiyaçlarının, şeker ihtiyacının yerine geçmesi

13. Aşağıda verilenlerden hangisi üretimin başlıca faktörleri arasında yer almaz?

- A) Sermaye B) Girişimci  
C) Piyasa D) İş gücü

14. Sanayide kumaşın hazır elbise hâline getirilerek faydasının artırılması aşağıda verilen üretim faaliyetlerinden hangisi ile ilgilidir?

- A) Şekil faydası yaratan üretim faaliyetleri  
B) Mekân faydası yaratan üretim faaliyetleri  
C) Zaman faydası meydana getiren üretim faaliyetleri  
D) Mülkiyet faydası meydana getiren üretim faaliyetleri

15. Doğruluğu tartışmasız kabul edilen bazı temel varsayımlardan hareket ederek bunların tek olaylara uygulanmasını isteyen bir ekonomist ekonomi bilminde hangi yöntemin uygulanmasını istemektedir?

- A) Tümevarım yöntemi  
B) Tümdengelim yöntemi  
C) Karma yöntem  
D) Tartışma yöntemi

16. Üretime toprağı ile katılan bir insanın, elde edilen gelirden aldığı paya ne denir?

- A) Rant B) Ücret  
C) Faiz D) Kâr

## 1. OTURUM

17. Bir toplumda belirli bir sürede üretilen malların üretime katkıda bulunan etkenlerin sahipleri arasında dağılımını ifade eden klasik sınıflama türü aşağıdakilerden hangisidir?

- A) Üretim B) Değişim  
C) İnkisam D) Tüketim

18. Aşağıdakilerden hangisi kolektif şirket ortağının sorumluluklarından biri değildir?

- A) Sınırlanmamış olan bir sorumluluk vardır.  
B) Bütün servetiyle sorumludur.  
C) Şirketin çıkarları için çok çaba sarfeder.  
D) Şirketi genişletme cesaretine sahiptirler.

19. Aşağıdakilerden hangisi sermayeyi oluşturan öğelerden biri değildir?

- A) Önceden üretilmişlerdir.  
B) Yeni bir üretimde kullanılırlar.  
C) Doğa ve emeğin birleşmesinden oluşmuştur.  
D) İhtiyaç ve faydanın birleşmesinden oluşmuştur.

20. Aşağıdakilerden hangisi kültürel mal olarak kabul edilir?

- A) Televizyon B) Otomobil  
C) Konut D) Ekmek

### (465) TEMEL DİNİ BİL. – 1

1. İnsanları akıl ve iradeleri ile dünyada iyiliğe, ahirette mutluluğa götürmeyi amaçlayan ilahi kurallar bütününe ne ad verilir?

- A) İbadet B) Kültür  
C) İman D) Din

2. Tanrı'nın varlığını inkar ettiği gibi tüm dinlere ve dinlerin tanrı tasavvurlarına karşı çıkan inanç sistemi aşağıdakilerden hangisidir?

- A) Ateizm B) Politeizm  
C) Monoteizm D) Gnostisizm

3. Hz. İsa ile ilgili olarak verilen aşağıdaki bilgilerden hangisi İslam'a göre yanlıştır?

- A) Allah'tan aldığı emirleri insanlara ulaştırmıştır.  
B) Romalılar tarafından çarmıha gerilerek öldürülmüştür.  
C) Babasız olarak Hz. Meryem'den doğmuştur.  
D) Birçok mucize göstermiştir.

4. Aşağıdakilerden hangisi Hristiyan mezheplerinden biri değildir?

- A) Katolik B) Ortodoks  
C) Protestan D) Reformist

5. Aşağıdakilerden hangisi ilk Müslümanlar arasında sayılmaz?

- A) Hz. Ali B) Hz. Zeyd  
C) Hz. Ömer D) Hz. Hatice

6. Mekke'nin fethinde, Peygamberimiz: "Her kim o kişinin evine girerse emniyettedir." diye ilan etti.

**Bu kişi aşağıdakilerden hangisidir?**

- A) Erkam b. Erkam  
B) Selman-ı Farisi  
C) Ebu Süfyan  
D) Ebu Cehil

7. Peygamberlerin, kendilerine; "Allah tarafından ulaştırılan vahyi insanlara tam olarak aktarmaları" anlamına gelen kavram aşağıdakilerden hangisidir?

- A) Sıdk B) Tebliğ  
C) Fetanet D) Emanet

8. Aşağıdakilerden hangisi namazın hazırlık şartlarından biridir?

- A) Setr-i Avret B) Kıraat  
C) Secde D) Kıyam

9. Aşağıdakilerden hangisi abdestin farzlarından biridir?

- A) Enseyi meshetmek  
B) Kulakları meshetmek  
C) Ağza ve burna su vermek  
D) Başın dörtte birini mesh etmek

10. Sözlükte "kulluk" olarak tarif edilen, belli kuralları olan hareketleri ve buyrukları yapmaya ne ad verilir?

- A) Temizlik B) İbadet  
C) İman D) Dua

11. Aşağıdaki dinlerden hangisi politeist bir inanca sahip değildir?

- A) Zerdüştlük B) Hinduizm  
C) Yahudilik D) Şintoizm

12. Yahudilerin önem verdikleri ibadet yerlerinin başında Kudüs'teki mabet gelmektedir. Yahudiler, saldırılar sonucu yıkılan bu mabetten geriye kalan batı duvarı önünde dua ederler. Bu duvara ağlama duvarı denir.

**Yukarıda bahsedilen mabet hangi peygamber tarafından yaptırılmıştır?**

- A) Hz. Süleyman  
B) Hz. İbrahim  
C) Hz. Davut  
D) Hz. Yakup

13. Allah'ın varlığının kendiliğinden olması, var olmak için başka bir varlığa ihtiyacının olmaması olarak tarif edilen sıfatı aşağıdakilerden hangisidir?

- A) Tekvin  
B) Vahdaniyet  
C) Kıyam binefsihi  
D) Muhalefetü'n li'l havadis

14. İnsanları belalardan koruyan melek aşağıdakilerden hangisidir?

- A) Hafaza Melekleri  
B) Kiramen Katibin  
C) Rıdvan Meleği  
D) Münker-Nekir Melekleri

## 1. OTURUM

### (477) İŞLETME – 2

15. Cenaze namazında ikinci tek-birden sonra aşağıdakilerden hangisi okunur?

- A) Rabbena duaları
- B) Ettehiyyatü duası
- C) Salli-Barik duaları
- D) Sübhaneke duası

16. Teravih namazının hükmü aşağıdakilerden hangisidir?

- A) Farz
- B) Vacip
- C) Müstehap
- D) Sünnet-i Müekkede

17. Nisap kavramı aşağıdaki ibadetlerden hangisiyle daha çok ilişkilidir?

- A) Zekât
- B) Namaz
- C) Oruç
- D) Hac

18. Amentü esasları aşağıdakilerden hangisini ifade eder?

- A) İslam'ın şartlarını
- B) Namazın farzlarını
- C) Ahlak esaslarını
- D) İmanın şartlarını

19. “De ki: Ben de sizin gibi bir beşerim ancak bana vahyolunuyor...”  
(Kehf suresi, 110. ayet)

**Bu ayette Hz. Muhammed (sav.)'in hangi özelliği dile getirilmektedir?**

- A) Peygamber olduğu
- B) Güvenilir olduğu
- C) Merhametli olduğu
- D) Güzel ahlaklı olduğu

20. “Melekler ve Ruh (Cebrail), oraya miktarı (dünya senesi ile) elli bin yıl olan bir günde yükselip çıkar.”  
(Mearic suresi, 4. ayet)

**Verilen ayette meleklerin hangi özelliğine işaret edilmektedir?**

- A) Kanatlı olduklarına
- B) Hızlı hareket ettiklerine
- C) Nurdan yaratıldıklarına
- D) Cinsiyetlerinin olmadığına

1. Aşağıdakilerden hangisi üretim yapan bir endüstri işletmesidir?

- A) Demir çelik fabrikası
- B) Ticaret işletmesi
- C) Banka
- D) Okul

2. Özel işletmelerin kamu işletmelerinden farklı olan amacı aşağıdakilerden hangisidir?

- A) Verimli olmak
- B) Kâr elde etmek
- C) İstihdamı sürekli kılmak
- D) Mal veya hizmet üretmek

3. Bir işletmenin kurulması ve işletilmesi için gerekli paranın sağlanması hangi işletme fonksiyonu ile yerine getirilir?

- A) Finansman
- B) Pazarlama
- C) Üretim
- D) Yönetim

4. Aşağıdakilerden hangisi sermaye şirketlerinin şahıs işletmelerine göre olumlu yönlerindedir?

- A) Faaliyetlerin gizli olması
- B) Kurulmasının kolay olması
- C) Yetkilerin bir kişide toplanmış olması
- D) Yönetimin belli bir sisteme bağlı olması

5. Aşağıdakilerden hangisi işletme yöneticilerinde olması gereken özelliklere göre yanlıştır?

- A) Personelinin çalışmalarından haberdar olması
- B) Çalışanlarının işle ilgili görüşlerini alması
- C) Sorumluluk almaya hazır olması
- D) Yetki almaktan kaçınması

6. Bir işletmedeki başlıca birimleri, bunlar arasındaki karşılıklı ilişkileri ve işi yürütmekle görevli olanları aşağıdakilerden hangisi gösterir?

- A) İşletme bütçesi
- B) Teşkilat şeması
- C) Kâr/zarar tablosu
- D) İşletme bilançosu

7. İşletme yönetiminin organizasyon işlevinde son olarak aşağıdakilerden hangisi yapılır?

- A) Yapılacak işlerin belirlenmesi
- B) Yetki ve sorumlulukların belirlenmesi
- C) İşleri yapacak kişilerin göreve atanması
- D) Çalışma yerleri, kullanılacak araç ve yöntemlerin seçilmesi

8. Aşağıdakilerden hangisi şahıs işletmelerinin özelliklerinden biridir?

- A) Büyüme yeteneği sonsuzdur.
- B) Yönetim belli bir sisteme bağlıdır.
- C) İşletmede yetkiler bir kişide toplanır.
- D) İşletmeden alacaklı olanlara karşı sorumlulukları sınırlıdır.

9. İnsan ihtiyaçlarını karşılamak üzere, ekonomik mal ve hizmet üretmek için faaliyette bulunan kuruluşlara ne denir?

- A) Fabrika
- B) İşletme
- C) Dükkan
- D) Büro

10. Yönetimin planlamadan sonra gelen işlevi aşağıdakilerden hangisidir?

- A) Denetim
- B) Sevk ve idare
- C) Organizasyon
- D) Koordinasyon

11. Aşağıdakilerden hangisi yönetimin özellikleri ile ilgili yanlış bir ifadedir?

- A) Yönetim, bir karar verme sürecidir.
- B) Yönetim bir yetki faaliyetidir.
- C) Yönetim tek yönlü bir faaliyettir.
- D) Yönetim verimliliği temel alır.

## 1. OTURUM

12. İşletmenin ihtiyaç duyduğu fonların en uygun şartlarda sağlanması ve bu fonların en etkin bir şekilde kullanılmasıyla ilgili faaliyetler aşağıdakilerden hangisi ile adlandırılmaktadır?

- A) Finans
- B) Finansman
- C) Finansal yönetim
- D) Finansman fonksiyonu

13. Aşağıdakilerden hangisi Klasik Yönetim Teorisinde etkinlik ve verimliliğin artırılması için hangi ilkelere uyulması gerektiğine yönelik yapılan araştırmalardan değildir?

- A) Hiyerarşik yapı
- B) Emir-komuta birliği
- C) Yapı ve insan davranışları
- D) İş bölümü ve uzmanlaşma

14. İşletmeler faaliyetlerini yürütürken çevrenin korunmasına yönelik alacağı tedbirlerden birisi aşağıdakilerden hangisi olamaz?

- A) Tesis kurulduktan sonra çevre sorunları dikkate alınmalıdır.
- B) Üretimde yenilenebilir kaynaklar kullanılmalıdır.
- C) Atıkların geri dönüşümü sağlanmalıdır.
- D) Üretim yapan fabrika bacalarına filtre takılmalıdır.

15. Bir işletme ürünlerini tüketicilere doğrudan dağıtım yoluyla ulaştırıyorsa aşağıdakilerden hangisi oluşmuş olan uygun şartlardan birisidir?

- A) Üretim hızının tüketim hızından fazla olması
- B) Tüketici ya da müşteri sayısının fazla olması
- C) Üretim - tüketim noktaları arası mesafenin uzak olması
- D) Birim fiyatının yüksek olması

16. Yönetici, astlarının faaliyetlerini yönlendirmesi ve onlara ne yapmaları gerektiğini bildirmesi sürecinde emir verirken aşağıda verilenlerden hangisini tercih etmemelidir?

- A) Yazılı iletişim yapmalı
- B) Emirleri kesin, açık vermeli
- C) Emirlerinin amaçlarını açıklamalı
- D) İmkansız emirler vermekten kaçınmalı

17. İşletmeler çalışanların ücretlerini belirlerken dikkate alacağı unsurlardan en önemlisi hangisidir?

- A) Çalışana ücret konusunda bilgi verilmeli
- B) Eşit işe eşit ücret verilmeli
- C) Ücretlendirme konusunda objektif olunmalı
- D) Yaşam düzeyini yükseltecek ölçüde olmalı

18. Küçük imalatçılarla, küçük perakendeciler için en uygun ve en ekonomik olma niteliğine sahip dağıtım kanalı hangi seçenekte verilmiştir?

- A) Üretici → Perakendeci - Tüketici
- B) Üretici → Toptancı - Perakendeci - Tüketici
- C) Üretici → Acenta → Perakendeci - Tüketici
- D) Üretici → Acenta → Toptancı → Perakendeci - Tüketici

19. Bir yöneticinin üretim faktörlerini sistemli, uyumlu ve etkili biçimde kullanarak mal ve hizmet üretmek için çalışanların görevlerini en iyi biçimde yapmak üzere düzene koyması ve her türlü araç, gereç ve malzeme ile donatması, onun hangi yönetim fonksiyonunu yerine getirdiğini gösterir?

- A) Planlama
- B) Yönelme
- C) Organizasyon
- D) Koordinasyon

20. İşletmenin niteliğine uygun personel seçimi için aşağıda verilenlerden öncelikli olarak hangisinin yapılması gerekir?

- A) İşin profilinin çıkarılması
- B) İş gereklilerinin hazırlanması
- C) Personel ihtiyacı olan işlerin belirlenmesi
- D) İş için uygun personel kriterlerinin belirlenmesi

### (479) MANTIK – 2

1. Mantık unsurlarını sembollerle ifade eden ve bu sembollerle işlemler yaparak sağlam çıkarımlara ulaşmayı amaçlayan disiplin hangisidir?

- A) Klasik mantık
- B) Ahlak felsefesi
- C) Varlık felsefesi
- D) Modern mantık

2. “ $\sim(p \wedge q) \implies (p \vee r)$ ” önermesinin ana eklemi hangisidir?

- A)  $\sim$
- B)  $\wedge$
- C)  $\implies$
- D)  $\vee$

3. “Tekin ve Mehmet çalışkandır.” bileşik önermesinin önermeler mantığında sembolik ifadesi hangisidir?

- A)  $p \wedge q$
- B)  $\sim p$
- C)  $p \iff q$
- D)  $p$

4. “ $\sim(p \wedge q)$ ” önermesinin eşdeğeri olan önerme hangisidir?

- A)  $p \wedge q$
- B)  $p \iff q$
- C)  $\sim p \vee \sim q$
- D)  $p \implies q$

5.  $\frac{p \wedge q}{D}$  Yanda “ $p \wedge q$ ” önermesinin doğruluk değeri tablosu verilmiştir.

Buna göre “ $\sim(p \wedge q)$ ” önermesinin doğruluk değeri tablosu hangisidir?

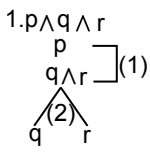
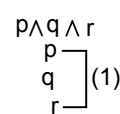
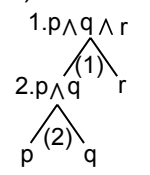
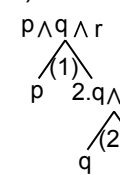
- |                                 |                                 |
|---------------------------------|---------------------------------|
| A) $\frac{\sim(p \wedge q)}{D}$ | B) $\frac{\sim(p \wedge q)}{Y}$ |
| Y                               | D                               |
| Y                               | D                               |
| D                               | D                               |
| C) $\frac{\sim(p \wedge q)}{D}$ | D) $\frac{\sim(p \wedge q)}{D}$ |
| D                               | D                               |
| D                               | Y                               |
| Y                               | D                               |
| Y                               | Y                               |

## 1. OTURUM

6. Bir önerme, bütün yorumlamalarında en az bir doğru değerini almış ise o önerme için aşağıdakilerden hangisi söylenebilir?

- A) Tutarlıdır.  
B) Geçerlidir.  
C) Tutarsızdır.  
D) Basit önermedir.

7. Çözümleyici çizelge kurallarına göre " $p \wedge q \wedge r$ " önermesinin çözümlemesi aşağıdakilerden hangisidir?

- A) 
- B) 
- C) 
- D) 

8. Niceleme mantığında iki tür niceleyici vardır.

Bunlar hangisinde **birlikte** verilmiştir?

- A) zorunlu ( $\square$ ), mümkün ( $\diamond$ )  
B) tümel ( $\forall$ ), tikel ( $\exists$ )  
C) tikel ( $\exists$ ), mümkün ( $\diamond$ )  
D) tümel ( $\forall$ ), zorunlu ( $\square$ )

9. Açık önerme, içinde değişken bulunan önermedir.

Aşağıdakilerden hangisi açık önermedir?

- A) Sokrates, filozoftur.  
B) Ali, öğretmendir.  
C) 1, tek sayıdır.  
D) x, öğrencidir.

10. " $\forall x (x \text{ hayvandır.})$ " önermesinin doğruluk değeri aşağıda verilen evrenlerin hangisinde doğru olur?

- I- E = {kedi, aslan, yılan}  
II- E = {taş, demir, kuş}  
III- E = {taş, demir, altın}

- A) Yalnız I      B) Yalnız II  
C) Yalnız III    D) II ve III

11. Niceleme mantığının sembolik ifadesiyle verilen aşağıdaki önermelerden hangisi ikili yüklemlidir?

- A) Ga      B) Fa  
C) Gb      D) Fab

12. Niceleme mantığında " $\exists$ " sembolü hangisiyle adlandırılır?

- A) Tikel niceleyici  
B) Tümel niceleyici  
C) Zorunlu önerme  
D) Mümkün önerme

13. "Ayşe çirkin değildir." önermesinin niceleme mantığındaki ifadesi hangisidir?

- A)  $p \vee q$       B)  $\sim Fa$   
C)  $p \wedge q$       D)  $Fa \wedge Gb$

14. Tümel niceleyici değilleme kuralına göre " $\sim \forall x Fx$ " önermesinin dengi olan tikel önerme hangisidir?

- A)  $\forall x Fx$       B)  $\forall x \sim Fx$   
C)  $\sim \forall x \sim Fx$     D)  $\exists x \sim Fx$

15. "x filozoftur." açık önermesinin evreni  $E = \{ \text{Sokrates, Ali, Banu} \}$

Buna göre "sokrates filozoftur" yargısı verilen evrende aşağıdakilerden hangisini ifade eder?

- A) Değilleme  
B) Özelleme  
C) Geçerlilik  
D) Sembolleştirme

16. Aşağıdaki önermelerden hangisinin özne ve yüklemi birbirine özdeş ya da eşittir?

- A)  $a \vee b$       B)  $a \wedge b$   
C)  $a \equiv b$       D)  $a \Rightarrow b$

17. I. Matematik  
II. Bilgisayar teknolojisi  
III. Eleştirel düşünme

Yukarıda verilenlerden hangileri mantığın uygulandığı alanlardır?

- A) I ve II      B) I ve III  
C) II ve III    D) I, II ve III

18. İspatlanmaya gerek olmayan, doğruluğu açıkça belli olan önermeler aşağıdakilerden hangisiyle ifade edilir?

- A) Tanım      B) Varsayım  
C) Aksiyom    D) Tümevarım

19. Aşağıdakilerden hangisi mantık felsefesinin ele aldığı sorunlardan **değildir**?

- A) Doğa bilimlerinin konusu nedir?  
B) Mantık ilkelerinin temel kaynağı nedir?  
C) Mantık ilkeleri varlığın temel ilkeleri de sayılabilir mi?  
D) Mantık ilkeleri her yer ve zaman için geçerli midir?

20. Aşağıdakilerden hangisi mantıklı bir insanda görülen bir özellik **olamaz**?

- A) Akılcı bir tartışmayı sürdürebilme  
B) Eleştirel bir düşünme biçimine sahip olma  
C) Yeterince ispatlanmamış bilgilere inanmama  
D) Zihninde birbiriyle çelişik düşüncelere yer verme

## 1. OTURUM

### (484) SAĞLIK BİLGİSİ – 2

1. Aşağıdakilerden hangisi, aile planlamasının çocuk sağlığı açısından yararlıdır?

- A) Anne ölümlerinin azalması
- B) Bebek ölüm oranlarının düşmesi
- C) Annenin üreme organlarına ait sağlık sorunlarının azalması
- D) İstenmeyen gebelik, düşük ve kürtaj sorunlarının ortadan kalkması

2. İstenmeyen gebeliklerin, hekimler tarafından kaçınıcı haftaya kadar sonlandırılması mümkündür?

- A) 10. B) 20. C) 30. D) 40.

3. I. Kan hacminin artması  
II. Artan demir gereksinmesinin karşılanamaması

Yukarıda, gebelik döneminde görülen kansızlığın nedenleri ile ilgili olarak verilenler için ne söylenebilir?

- A) Yalnız I doğru
- B) Yalnız II doğru
- C) Her ikisi de doğru
- D) Her ikisi de yanlış

4. Gebelikte, bazı besinlere karşı şiddetli bir istek veya aşırı bir isteksizliğin görüldüğü duruma ne ad verilir?

- A) Ödem B) Aşerme
- C) Kabızlık D) Osteomalasia

5. • Destekle oturabilir.  
• Alt çenedeki ilk kesici dişleri çıkar.  
• Yabancıları, tanıdıklarından ayırabilir.

Verilen özelliklere sahip ve normal gelişim gösteren bir çocuğun, gelişim döneminin kaçınıcı ayında olduğu söylenebilir?

- A) 1. B) 3. C) 6. D) 9.

6. Emzirmeyle ilgili verilen bilgilerden hangisi doğrudur?

- A) Geceleri emzirmeye ara vermek
- B) 1 yaşına kadar sadece anne sütü vermek
- C) Çocuk ishal olduğunda emzirmeyi kesmek
- D) Doğumdan sonra ilk 1/2 saat içinde emzirmek

7. Aşağıdakilerden hangisi aşıların verilme yollarından biri değildir?

- A) Göze damlatmak
- B) Buruna damlatmak
- C) Buruna püskürtmek
- D) Enjeksiyon şeklinde uygulamak

8. Yenidoğan bebeklerde, çeşitli nedenlere bağlı olarak bilirubin denilen maddenin atılamayıp ciltte birikmesi sonucu ortaya çıkan hastalığa ne ad verilir?

- A) İshal B) Sarılık
- C) Kızamık D) Zatürre

9. Aşağıdakilerden hangisi hormonal hastalıklardan biri değildir?

- A) Guatr B) Diyabet
- C) Obezite D) Kızamık

10. Birkaç ülkeyi etkisi altına alan büyük salgın durumu, aşağıdakilerden hangisi ile ifade edilir?

- A) Epidemi
- B) Pandemi
- C) Endemik hastalık
- D) Hiper endemik hastalık

11. I. Et ve yumurtaları az pişirmek  
II. Kişisel temizliğe özen göstermek  
III. Gıdaları olabildiğince taze tüketmek

Verilenlerden hangileri, bulaşıcı hastalıklardan korunma yollarındandır?

- A) Yalnız I B) I ve II
- C) II ve III D) I, II ve III

12. Aşağıdakilerden hangisi, bulaşıcı hastalıklardan korunmak için sağlam kişiye yönelik olarak alınan önlemlerdendir?

- A) Kesin tanı konulması
- B) İhbarı zorunlu hastalıkların bildirilmesi
- C) Portörlerin saptanması ve tedavi edilmesi
- D) Temiz içme ve kullanma suyu temin edilmesi

13. Yetişkinlerde istirahat hâlindeyken normal nabız hızı dakikada kaç atımdır?

- A) 60 - 100 B) 80 - 120
- C) 100 - 140 D) 120 - 160

14. Akciğer dokusunun bakteri, virüs, mantar ve diğer mikroorganizmalar tarafından meydana gelen iltihabına ne ad verilir?

- A) Kızıl B) Difteri
- C) Zatürre D) Boğmaca

15. Hepatit, karaciğerde meydana gelen ve buradaki dokuların iltihaplanması sonucu ortaya çıkan bir hastalıktır. Halk dilinde sarılık olarak da bilinir.

Buna göre aşağıdakilerden hangisi hepatitin belirtilerinden biri değildir?

- A) Halsizlik
- B) Karın ağrısı
- C) Sudan çekinme
- D) Derinin sarı renk alması

16. I. Kan ve kan ürünleri  
II. Korunmasız cinsel ilişki  
III. Gözyaşı, ter ve tükürük

Yukarıdakilerden hangileri AIDS'in bulaşma yollarındandır?

- A) Yalnız I B) I ve II
- C) II ve III D) I, II ve III

## 1. OTURUM

### (491) TRAF. VE İLK YARD. – 1

17. Aşağıdakilerden hangisi, parazit hastalıklardan korunmak için dikkat edilmesi gereken uygulamalardan biri değildir?

- A) Ellerin yıkanması
- B) Yiyeceklerin iyi pişirilmesi
- C) İçme sularının temizliğine dikkat edilmesi
- D) Kirlenmiş yiyecek ve içeceklerin tüketilmesi

18. Taş, yumruk ya da sopa gibi etkenlerin şiddetli olarak çarpması ile oluşan yaralara ne ad verilir?

- A) Ezikli yaralar
- B) Kesik yaralar
- C) Delici yaralar
- D) Parçalı yaralar

19. • Bol miktarda sıvı tüketilmesi  
• Açık renkli ve hafif giysiler giyilmesi  
• Güneş ışığından koruyacak aksesuarlar kullanılması

Verilenler, aşağıdaki durumların hangisinden korunmak için alınması gereken önlemlerdendir?

- A) Donma
- B) Boğulma
- C) Sıcak çarpması
- D) Elektrik çarpması

20. Aşağıdakilerden hangisi, sindirim yoluyla zehirlenmeye sebep olur?

- A) Gaz sobaları
- B) Tüp kaçakları
- C) Böcek sokmaları
- D) Zehirli mantarlar

1. • Trafik eğitimi konusundaki yetersizlikler  
• Güvenli trafik bilincinin oluşması konusunda yaşanan sıkıntılar  
• Trafikte karşılaşılabilecek riskler konusunda yeterli bilgiye sahip olmamak

Verilen bilgiler aşağıdakilerden hangisini artırır?

- A) Kara yolunun doğru kullanılmasını
- B) Yolculuğun güvenli geçmesini
- C) Hoşgörünün gelişmesini
- D) Trafik kazalarını

2. Taşıtların bir dizi hâlinde güvenli seyredabilmeleri için taşıt yolunun çizgilerle ayrılmış bölümüne ne ad verilir?

- A) Şerit
- B) Durak
- C) Banket
- D) Tali yol

3. Aşağıdakilerden hangisinin tek yönlü yollarda yapılması yasaktır?

- A) Yol eğimliyse çıkışta kullanılan vitesle inilmesi
- B) Park manevrası yaparken geri gidilmesi
- C) Ters yönden yola girilmesi
- D) Hız azaltmak için frene basılması

4. Aşağıdakilerden hangisinin şehir içindeki araçlarda kullanılması yasaktır?

- A) Stepne
- B) Havalı korna
- C) Güneş gözlüğü
- D) Emniyet kemeri

5. Benzinli ve dizel motorların - - - - hava kirliliğine neden olan kaynakların başında gelmektedir.

Verilen ifadede noktalarla belirtilen yere aşağıdakilerden hangisi yazılmalıdır?

- A) egzoz gazları
- B) egzoz boruları
- C) partikül tutucuları
- D) egzoz susturucuları

6. I. Park probleminin azalması  
II. Yakıt tüketiminin artması ve israf  
III. Trafiğin yoğunlaşması ve trafik kargaşası

Verilenlerden hangileri, özel araçları gereksiz kullanmanın yol açtığı zararlardandır?

- A) Yalnız I
- B) I ve II
- C) II ve III
- D) I, II ve III

7. Aşağıdakilerden hangisi, araç kusurlarından kaynaklanan trafik kazalarının azalmasına olumlu katkı sağlar?

- A) Kalitesiz yedek parça kullanılması
- B) Araç muayene süresinin geciktirilmesi
- C) Araçların kazalara karşı sigortalanması
- D) Araç bakımlarının zamanında yaptırılması

8. I. Trafik işaretlerinin hasar görmesi  
II. Kara yollarının zamanından önce yıpranması  
III. Yol kenarındaki oto korkuluklarının tahrip olması

Yukarıdakilerden hangileri, trafik kazalarının ülke ekonomisine maddi olarak verdiği zararlardandır?

- A) Yalnız I
- B) I ve II
- C) II ve III
- D) I, II ve III

## 1. OTURUM

9.



Trafik polisinin verdiği işarete göre aşağıdakilerden hangisi doğrudur?

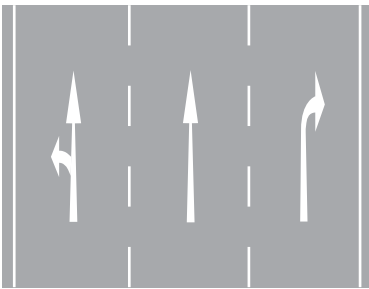
- A) Yol kolların gösterdiği yöndeki trafiğe açıktır.
- B) Yol görevlinin ön ve arka tarafındaki trafiğe açıktır.
- C) Yol bütün yönlerdeki trafiğe kapalıdır.
- D) Yol bütün yönlerdeki trafiğe açıktır.

10. Şekildeki ışıklı trafik işaret cihazında yaya figürlü yeşil ışık yanıyor, taşıtlara yönelik olarak yanıyor ışık hangi renkte olur?



- A) Yeşil
- B) Kırmızı
- C) Yanıp sönen sarı
- D) Yanıp sönen kırmızı

11. Kavşaklara yaklaşırken yol üzerine çizilmiş şekildeki oklar sürücülere neyi bildirir?



- A) Hızın artırılması gerektiğini
- B) Sağa ve sola dönülemeyeceğini
- C) Seyir yönüne uygun şeridin kullanılmasını gerektiğini
- D) Durma, duraklama ve park etmenin yasaklanmış olduğunu

12. Yolcu taşımada kullanılan minibüs ve otobüslerde seyahat eden üç ve üzeri yaştaki çocukların, aşağıdakilerden hangisini kullanması zorunludur?

- A) Boyun korsesi
- B) Emniyet kemeri sembolü
- C) Işıklı acil durum uyarı sistemi
- D) Emniyet kemeri ya da çocuk bağlama sistemi

13. Aşağıdaki durumların hangisinde, refleksler zayıflamış olacağından sürüş esnasında direksiyon başındaki tepkiler de çok daha yavaş gerçekleşecektir?

- A) Sürüş öncesi alkollü içki içilmişse
- B) Sürüş öncesi düzenli ve yeterli uyku uyumuşsa
- C) Molalarda kan dolaşımını artıran hareketler yapılmışsa
- D) Temiz hava için aracın camları kısa süreliğine açılmışsa

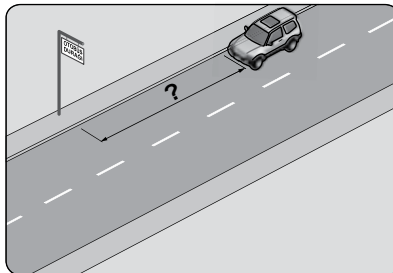
14. Aksine bir işaret bulunmadıkça yerleşim yeri içinde otomobiller için azami hız sınırı saatte kaç kilometredir?

- A) 20 B) 30 C) 40 D) 50

15. Görüş yetersizliği olan tepe üstü ve dönemeçlerde aşağıdakilerden hangisinin yapılması yasaktır?

- A) Hızın azaltılması
- B) Öndeki aracın geçilmesi
- C) Takip mesafesi kuralına uyulması
- D) Bulunduğu şeridin sağına yaklaşılması

16. Şekildeki araç sürücüsü, kamu hizmeti yapan yolcu taşıtı durağının en az kaç metre mesafe dışına aracını park edebilir?



- A) 5 B) 10 C) 15 D) 20

17. Yayaların sürücüler tarafından görülmeleri, olası trafik kazalarını önler.

Buna göre yayalar, alacakaranlık ve gece karanlığında görünürlüklerini sağlamak için aşağıdaki önlemlerden hangisini almak zorundadır?

- A) Hayat sigortası yaptırmak
- B) Koyu renk giysiler giymek
- C) Trafik yoğunluğu az olan şeritten yürümek
- D) Uyarıcı açık renk elbise giymek veya ışık taşımak

18. Aşağıdakilerden hangisi, kara yolundan faydalanan yayaların karşıya güvenli geçişinde dikkate alınmaz?

- A) Yolun genişliği
- B) Yaklaşmakta olan aracın hızı
- C) Yaklaşmakta olan aracın modeli
- D) Yayanın sağlık durumu ve yürüme hızı

19. I. Yaya yollarında sürülmesi yasaktır.  
II. Sürülmeleri sırasında; elde bagaj, paket ve benzerleri taşıyabilir.

Yukarıda bisiklet, motorlu bisiklet ve motosikletlerin güvenli kullanımıyla ilgili olarak verilenler için ne söylenebilir?

- A) Yalnız I doğru
- B) Yalnız II doğru
- C) Her ikisi de doğru
- D) Her ikisi de yanlış

20. Trafik kazasına karışan veya olay yerinden geçmekte olanlar, aşağıdakilerden hangisini yapmakla yükümlüdür?

- A) Kazaya karışan araçların yerini değiştirmek
- B) Yetkililerin isteği hâlinde yaralıları en yakın sağlık kuruluşuna götürmek
- C) Kaza yerindeki iz ve delilleri yok etmek
- D) Olay yerinden uzaklaşmak



## 1. OTURUM

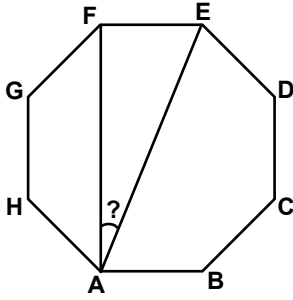
1. Bir dış açısının ölçüsü  $30^\circ$  olan düzgün çokgen kaç kenarlıdır?

- A) 6 B) 9 C) 12 D) 18

2. İç açılarının ölçüleri toplamı  $1260^\circ$  olan çokgenin köşegen sayısı kaçtır?

- A) 54 B) 42 C) 27 D) 18

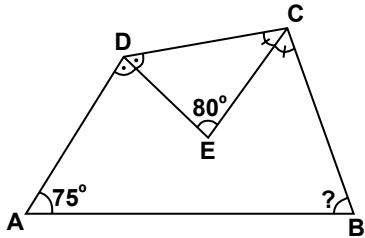
3.



Şekildeki düzgün sekizgende,  $m(\widehat{FAE})$  kaç derecedir?

- A) 20 B) 22,5  
C) 37,5 D) 45

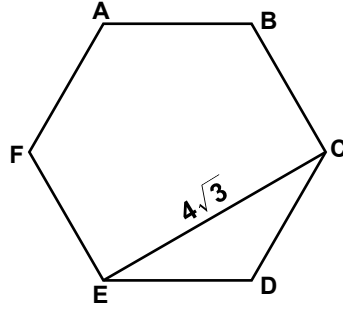
4.



Şekildeki ABCD dörtgeninde  $[DE]$ ,  $\widehat{ADC}$ 'nin ve  $[CE]$ ,  $\widehat{DCB}$ 'nin açıortayıdır.  $m(\widehat{DEC}) = 80^\circ$  ve  $m(\widehat{DAB}) = 75^\circ$  olduğuna göre,  $m(\widehat{ABC})$  kaç derecedir?

- A) 70 B) 75 C) 80 D) 85

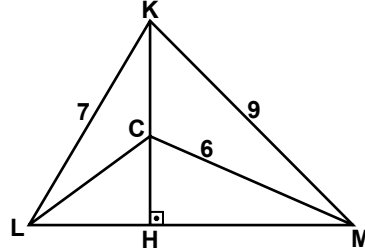
5.



ABCDEF düzgün altıgeninde,  $|EC| = 4\sqrt{3}$  cm olduğuna göre,  $\widehat{C(ABCDEF)}$  kaç santimetredir?

- A) 30 B) 24 C) 18 D) 12

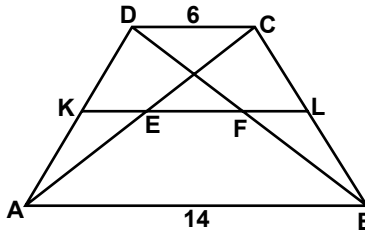
6.



Şekilde  $[KH] \perp [LM]$ 'tir.  $|KL| = 7$  cm,  $|KM| = 9$  cm ve  $|CM| = 6$  cm olduğuna göre,  $|CL|$  kaç santimetredir?

- A) 2 B)  $\sqrt{5}$  C)  $\sqrt{7}$  D) 4

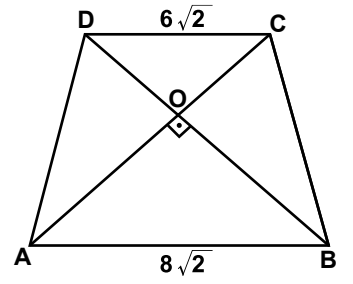
7.



Şekildeki ABCD yamuğunda  $[AB] \parallel [DC]$  ve  $[KL]$  orta tabandır.  $|AB| = 14$  cm ve  $|DC| = 6$  cm olduğuna göre,  $|EF|$  kaç santimetredir?

- A) 3 B) 4 C) 8 D) 10

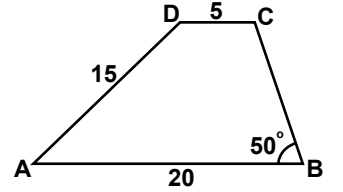
8.



Şekildeki ABCD yamuğunda,  $[AB] \parallel [DC]$ ,  $|AD| = |BC|$  ve  $[AC] \perp [BD]$ 'tir.  $|DC| = 6\sqrt{2}$  cm ve  $|AB| = 8\sqrt{2}$  cm olduğuna göre,  $|BC|$  kaç santimetredir?

- A) 6 B)  $5\sqrt{2}$   
C)  $7\sqrt{2}$  D) 10

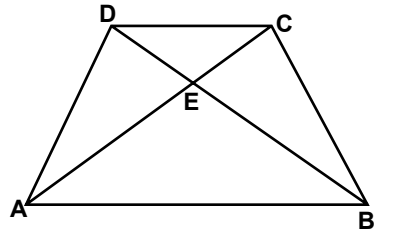
9.



Şekildeki ABCD yamuğunda  $[AB] \parallel [DC]$ ,  $|DC| = 5$  cm,  $|AD| = 15$  cm ve  $|AB| = 20$  cm'dir.  $m(\widehat{CBA}) = 50^\circ$  olduğuna göre,  $m(\widehat{ADC})$  kaç derecedir?

- A) 140 B) 130 C) 110 D) 100

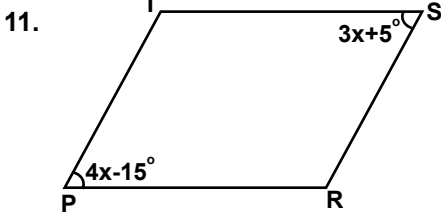
10.



Şekildeki ABCD yamuğunda  $[CA]$  ve  $[DB]$  köşegenleri E noktasında kesişmektedir.  $[AB] \parallel [DC]$ ,  $A(\widehat{AED}) = 24$  cm<sup>2</sup> ve  $A(\widehat{DEC}) = 16$  cm<sup>2</sup> olduğuna göre,  $A(\widehat{AEB})$  kaç santimetreka-  
redir?

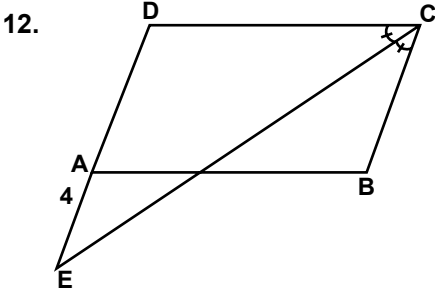
- A) 36 B) 40 C) 44 D) 48

## 1. OTURUM



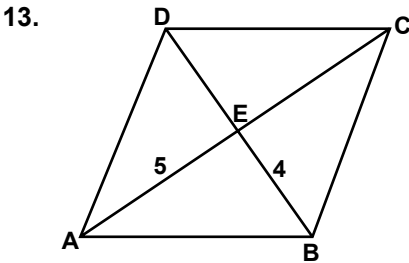
Şekildeki PRST paralelkenarında,  $m(\widehat{TSR}) = 3x + 5^\circ$  ve  $m(\widehat{TPR}) = 4x - 15^\circ$  olduğuna göre,  $m(\widehat{PRS})$  kaç derecedir?

- A) 135 B) 125 C) 120 D) 115



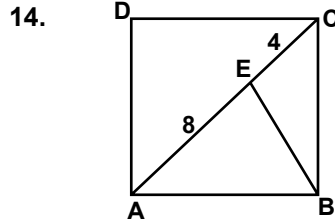
Şekilde ABCD paralelkenar, D, A, E noktaları doğrusal ve  $[EC]$ ,  $\widehat{BCD}$ 'nin açıortayıdır.  $|AE| = 4$  cm ve ABCD paralelkenarının çevresi 40 cm olduğuna göre,  $|AD|$  kaç santimetredir?

- A) 6 B) 7 C) 8 D) 9



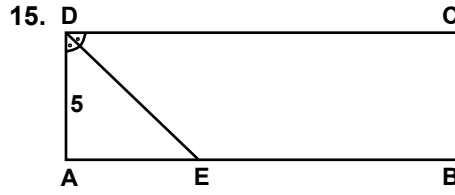
Şekildeki ABCD eşkenar dörtgeninde,  $[AC]$  ve  $[BD]$  köşegenlerdir.  $|AE| = 5$  cm ve  $|BE| = 4$  cm olduğuna göre,  $|BC|$  kaç santimetredir?

- A) 3 B)  $\sqrt{41}$   
C) 9 D)  $\sqrt{69}$



Şekildeki ABCD karesinde  $[AC]$  köşegendir.  $|AE| = 8$  cm ve  $|EC| = 4$  cm olduğuna göre,  $|BE|$  kaç santimetredir?

- A)  $2\sqrt{10}$  B) 4  
C)  $4\sqrt{2}$  D) 6

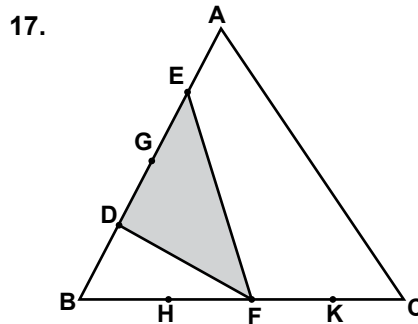


Şekildeki ABCD dikdörtgeninde,  $m(\widehat{ADE}) = m(\widehat{EDC})$ 'tir.  $|AD| = 5$  cm ve  $|EB| = 2|AE|$  olduğuna göre, ABCD dikdörtgeninin çevresi kaç santimetredir?

- A) 40 B) 36 C) 30 D) 20

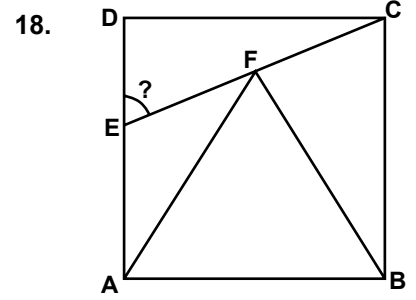
16. Uzun kenarı kısa kenarından 4 cm fazla olan bir dikdörtgenin çevresi 32 cm olduğuna göre, bu dikdörtgenin alanı kaç santimetrekaredir?

- A) 32 B) 45 C) 60 D) 77



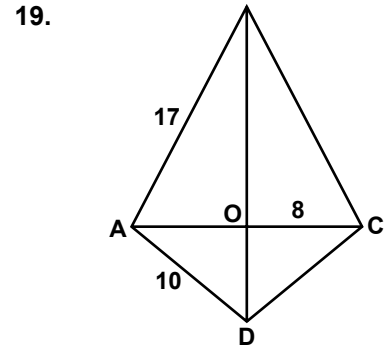
Şekildeki ABC üçgeninde,  $[AB]$  ve  $[BC]$  dörder eş parçaya ayrılmıştır.  $A(\widehat{DEF}) = 9$  cm<sup>2</sup> olduğuna göre,  $A(\widehat{ABC})$  kaç santimetrekaredir?

- A) 36 B) 40 C) 48 D) 60



Şekilde ABCD bir kare ve ABF eşkenar üçgen olduğuna göre,  $m(\widehat{DEC})$  kaç derecedir?

- A) 30 B) 45 C) 60 D) 75



Şekildeki ABCD dörtgeninde  $[BD]$  ve  $[AC]$  köşegenleri O noktasında kesilmektedir.  $|AB| = |BC|$  ve  $|DA| = |DC|$ 'tir.  $|AB| = 17$  cm,  $|DA| = 10$  cm ve  $|OC| = 8$  cm olduğuna göre,  $|BD|$  kaç santimetredir?

- A) 18 B) 21 C) 25 D) 27

20. Köşegenlerinin uzunlukları 16 cm ve 30 cm olan eşkenar dörtgenin bir kenarının uzunluğu kaç santimetredir?

- A) 13 B) 15 C) 17 D) 21

1 - 20. sorularda boş bırakılan yere uygun gelen kelime ya da ifadeyi işaretleyiniz.

## 1. OTURUM

1. His footprints were noticed - - - - the detective.  
A) in B) by C) of D) up
2. You should move as silent - - - - you can. The baby is sleeping.  
A) as B) if C) of D) on
3. I decided not to buy it - - - - it was too expensive.  
A) where  
B) although  
C) as soon as  
D) due to the fact that
4. - - - - I was waiting at the bus station, three buses went by in the opposite direction.  
A) Until B) After  
C) While D) As soon as
5. You can't leave your memories behind - - - - you go.  
A) because B) wherever  
C) in order to D) by the time
6. I will be lying on the beach - - - - .  
A) this time next week  
B) last summer  
C) yesterday  
D) recently
7. The children will be - - - - in a few minutes.  
A) sleep B) sleeps  
C) sleeping D) to sleep
8. Staff at the museum will be - - - - by the police tomorrow.  
A) liked B) broken  
C) grown D) questioned
9. I - - - - tomorrow because it is my day off.  
A) don't work  
B) wasn't working  
C) didn't work  
D) won't be working
10. The castle - - - - by 250 servants at present.  
A) is being cleaned  
B) were cleaned  
C) is cleaning  
D) will clean
11. The students - - - - the exam by 10 o'clock.  
A) were finished  
B) were finishing  
C) will be finishing  
D) will have finished
12. I - - - - the e-mails when you go home.  
A) send  
B) am sending  
C) will have sent  
D) had been sending
13. The lock - - - - and the cameras had been switched off.  
A) has broken  
B) is being broken  
C) will be broken  
D) had been broken
14. İstanbul - - - - by Fatih Sultan Mehmet in 1453.  
A) was conquered  
B) will be conquered  
C) has been conquered  
D) is going to be conquered
15. If you - - - - me more money, I - - - - here.  
A) offered / stay  
B) offer / will stay  
C) offers / could stay  
D) offered / had stayed
16. If you - - - - your writing skills, you - - - - that job easily.  
A) improved / will get  
B) improve / could get  
C) improved / would get  
D) improve / might get
17. - - - -, you can stay for the weekend.  
A) If you like  
B) If you went  
C) If you finished  
D) If you had done
18. If you see him, - - - - .  
A) I had sawn him  
B) give him this note  
C) he would call me  
D) you could tell him
19. If you had kept it secret, - - - - .  
A) you can feel better  
B) they would come early  
C) she will help you to do it  
D) I would have been grateful
20. If - - - -, Anil would have been here by now.  
A) she could tell her name  
B) he had caught the early train  
C) I have a new mobile phone  
D) they are travelling abroad together

## 1. OTURUM

(502) ALMANCA – 8

1 - 19. sorularda boş bırakılan yere uygun gelen kelime ya da ifadeyi işaretleyiniz.

1. - - - - ich ein Kind hätte, - - - - ich glücklich sein.  
A) Weil / dann  
B) Dann / wenn  
C) Wenn / würde  
D) Wann / dann
2. Das ist das Kleid, - - - - ich mir wünsche.  
A) das B) der C) die D) den
3. Wir finden, - - - - das neue Auto sehr günstig ist.  
A) wenn B) weil  
C) denn D) dass
4. Meine Schwester - - - - am Samstag nach Ankara fliegen.  
A) werde B) wirst  
C) wird D) werden
5. Nächstes Jahr - - - - wir nach Spanien - - - - .  
A) werde / fahren  
B) werden / fahren  
C) war / gefahren  
D) werden / fuhr
6. Ich habe gesagt, - - - - sie pünktlich sein soll.  
A) weil B) denn  
C) dass D) wenn
7. Ich schwimme gern, - - - - es mir Spaß macht.  
A) aber B) dass  
C) denn D) weil

8. A: Wie findest du das Buch?  
B: - - - -, dass es spannend ist.

A) Ich finde  
B) Du hast Recht  
C) Ich lese ein Buch  
D) Du findest

9. Kommst du aus Ankara - - - - aus Istanbul?

A) oder B) weil  
C) um D) denn

10. - - - - ist deine Lieblingsfarbe?

A) Wer B) Was  
C) Wann D) Wem

11. Mit so wenig Geld - - - - wir nicht leben.

A) kann B) gekonnt  
C) können D) könnt

12. Die Frau, - - - - dort sitzt, ist eine Französin.

A) die B) das  
C) der D) sie

13. "Kızılırmak" ist ein - - - - in der Türkei.

A) Stadt B) Berg  
C) Dorf D) Fluss

14. Eine Brücke - - - - .

A) studieren B) lesen  
C) gehen D) bauen

15. - - - - ich viel Geld, - - - - ich ein Flugzeug kaufen.

A) Wäre / wenn  
B) Wenn / hätte  
C) Hätte / würde  
D) Würde / hätte

16. Mein Onkel - - - - seit 20 Jahren bei einer Autofirma.

A) arbeiten B) arbeitet  
C) gearbeitet D) arbeiteten

17. A: - - - - ist Eskişehir von Ankara entfernt?

B: Es ist 250 km entfernt.

A) Wo B) Wie lange  
C) Wie weit D) Wie viel

18. Wie kann ich - - - - Post gehen?

A) in B) um  
C) von D) zur

19. Kannst du mir ein Gedicht - - - - .

A) liest B) vorlesen  
C) besuchen D) haben

20. Aşağıdakilerden hangisi sıfattır? (Adjektiv)

A) bunt B) verstecken  
C) reparieren D) entwickeln

(502) FRANSIZCA – 8

1 - 18. sorularda boş bırakılan yere uygun gelen kelime ya da ifadeyi işaretleyiniz.

1. - - - - n'a rien mangé.

A) Tu B) Elle  
C) Nous D) Vous

2. - - - - -toi chaudement car il fait froid.

A) lavez B) levez  
C) tais D) habille

3. Ce soir, on va au cinéma. N'oublie pas de (d') - - - - quatre tickets.

A) acheter B) habiter  
C) voir D) respecter

4. Dépêche-toi! Le musée - - - - à midi le dimanche.

A) fait B) veut  
C) dort D) ferme

## 1. OTURUM

5. J'ai vu deux fois le film Titanic  
---- je trouve super.

- A) qui                      B) dont  
C) où                        D) que

6. A : Qu'est-ce que tu prends  
comme boisson?

B : Je prends ---- .

- A) de la salade  
B) de l'eau gazeuse  
C) de la tarte aux fraises  
D) des frites

7. A: Deniz téléphone à ----?

B: Oui, elle lui téléphone souvent.

- A) son père            B) tes cousins  
C) ses parents        D) leurs enfants

8. A: Et toi, tu ne manges pas de  
poisson?

B: Si, mais je peux ---- manger  
une fois par semaine.

- A) les    B) en    C) leur    D) y

9. Les chinois mangent 53 kilos de  
riz ---- personne ---- ans.

- A) en / dans            B) par / par  
C) dans / en            D) en / en

10. Jean n'est jamais allé au Brésil  
mais son oncle ---- habite.

- A) par    B) en    C) y        D) le

11. Quand un animal est malade,  
ce n'est pas le médecin qui s'en  
occupe, c'est moi. Je suis ---- .

- A) coiffeur            B) photographe  
C) pompier            D) vétérinaire

12. Elle a cassé les verres ---- sa  
maladresse.

- A) à cause de        B) grâce à  
C) parce que        D) pourquoi

13. Pour maigrir, il faut ---- .

- A) prendre des kilos  
B) manger des gâteaux  
C) faire du sport  
D) manger beaucoup

14. ---- nous irons en Egypte.

- A) Avant-hier  
B) L'année prochaine  
C) Le mois dernier  
D) Hier

15. A : Tu viens à ma petite fête?

B : ---- .

- A) Si je vais mieux, je veux venir  
B) Si j'ai faim, je mange du  
chocolat  
C) Si j'ai soif, je veux boire du lait  
D) S'il y a un bon film, je veux  
aller

16. Zeynep n'a pas fait ses devoirs,  
car ---- un dessin animé à la  
télé.

- A) il faisait chaud  
B) c'était  
C) il pleuvait  
D) il y avait

17. Sophie : Marc, je n'ai plus de  
fromage blanc, tu peux  
aller ----?

Marc : D'accord, il faut autre  
chose?

Sophie : Oui, du sucre pour le  
gâteau.

- A) au supermarché  
B) à la pharmacie  
C) au centre culturel  
D) à la mairie

18. Tu peux conduire mais il faut  
être ---- .

- A) gras                      B) distraite  
C) attentif                D) marron

19 – 20. sorularda verilen resme  
göre cümlede boş bırakılan kısmı  
tamamlayan sözcük ya da ifadenin  
bulunduğu seçeneği işaretleyiniz.

19.



M. Dupont est ---- qui a cinq  
petits fils.

- A) un vieil homme  
B) une jeune femme  
C) une vieille femme  
D) un jeune homme

20.



Quand il fait beau, ---- .

- A) ils vont à la chasse avec des  
chats  
B) elle promène son chien dans  
le parc  
C) il va à la chasse avec son chien  
D) ils se promènent toujours dans  
le parc

## 1. OTURUM

(511) FIKIH – 1

1. “Daha önce gelen hükmün önceki hükmü kaldırması” olarak tanımlanan kavram aşağıdakilerden hangisidir?

- A) İcaz
- B) Nesih
- C) Avarız
- D) Sebeb-i Nuzul

2. Peygamberimizin “Müellefe-i Kulûb’a” zekâtta tahsis ettiği fon aşağıdaki halifelerden hangisinin görüşü ve müdahalesiyle kaldırılmıştır?

- A) Hz.Ebu Bekir
- B) Hz. Osman
- C) Hz. Ömer
- D) Hz. Ali

3. Ev sahibi-Kiracı arasındaki ilişki fıkıh ilminin konularından hangisinin alanına girer?

- A) Feraiz
- B) Ukubat
- C) Münakehat
- D) Muamelat

4. Kişinin bir takım haklara sahip olmaya elverişli bulunması ve sorumlulukları yerine getirebilme yeteneğine fıkıhta ne ad verilir?

- A) Ehliyet
- B) Emanet
- C) Edille-i Şerriyye
- D) E’al-i Mükellefin

5. Caferi mezhebi, fikhî görüş bakımından genel olarak hangi mezhebe daha yakındır?

- A) Hanbeli
- B) Maliki
- C) Şafii
- D) Hanefi

6. Fıkıh ilminde “Avarızu’l ehliyye” kavramı ile aşağıdakilerden hangisi kastedilir?

- A) Ehliyet Engelleri
- B) Ehliyet Şartları
- C) Vücub Ehliyeti
- D) Eda Ehliyeti

7. Aşağıdaki farz ibadetlerden hangisini yapmak için belli bir vakit aranmaz?

- A) Oruç tutmak
- B) Hacca gitmek
- C) Zekât vermek
- D) Namaz kılmak

8. Kötülüğe neden olan kapının kapatılması anlamına gelen şer’î delil aşağıdakilerden hangisidir?

- A) Mesalih-i Mürsele
- B) Sedd-i Zeraîf
- C) İstihsan
- D) İstihsab

9. Aşağıdaki durumlardan hangisinde mükellefiyet ortadan kalkmaz?

- A) Bayılma
- B) Cehalet
- C) Çocukluk
- D) Akıl hastalığı

10. Şer’î bir problemin çözümü noktasında, hangi kaynaklara başvurulacağını ve hangi temel ilkeler çerçevesinde çözüleceğini konu edinen ilim dalı aşağıdakilerden hangisidir?

- A) İslam Felsefesi
- B) Hadis Usulü
- C) Tefsir Usulü
- D) Fıkıh Usulü

11. Aşağıdaki ibadetlerden hangisi Hanefi mezhebine göre vaciptir?

- A) Ramazan ayı dışında oruç tutmak
- B) Cenaze namazı kılmak
- C) Kurban kesmek
- D) Sadaka vermek

12. Şarabın haram kılınmasından yola çıkarak tüm alkollü içecekler de haram kabul edilmiştir.

Bu hüküm aşağıdakilerden hangisine örneklik oluşturur?

- A) Sünnet
- B) Kitap
- C) Kıyas
- D) İcma

13. Aşağıdakilerden hangisi müctehitte bulunması gereken özellikler arasında yer almaz?

- A) Kur’an-ı ezbere bilmesi
- B) Arapçaya hakim olması
- C) Fıkıh usulüne vakıf olması
- D) İçinde yaşadığı toplumun şartlarını ve ihtiyaçlarını bilmesi

14. Aşağıdakilerden hangisi fıkıhın ukûbât bölümünün konusudur?

- A) Vasiyet ve Miras
- B) Suçlar ve Cezalar
- C) Akitler ve Borçlar
- D) Nikâh ve Boşanma

15. Aşağıdakilerden hangisi Hanefi mezhebine göre müekked sünnettir?

- A) Sabah namazının sünneti
- B) İkinci namazının sünneti
- C) Cenaze namazı
- D) Vitir namazı

16. Aşağıdakilerden hangisi fıkıh ilminin konusudur?

- A) Meleklerin özellikleri
- B) Kur’an’ın yorumlanması
- C) Hadislerin sıhhat derecesi
- D) Dini hükümlerin kaynakları

17. Aşağıdakilerden hangisi İmam Şafii’nin fıkıh usulüne dair eseridir?

- A) Er-Risale
- B) El-Mutasfa
- C) El-Muvafakat
- D) El-Fıkhu’l Ekber

18. Aşağıdakilerden hangisi Hanefi mezhebinin önde gelen imamlarından değildir?

- A) İmam Yusuf
- B) İmam Züfer
- C) İmam Nevevi
- D) İmam Muhammed

19. Aşağıdakilerden hangisi fikhî hükümlerin aslî kaynaklarından biridir?

- A) Sedd-i Zeraîf
- B) İstihsan
- C) İstihsab
- D) İcma

## 1. OTURUM

20. İçtihat ile ilgili olarak aşağıdakilerden hangisini söylemek doğru değildir?

- A) Fıkıh tarihinde bir zenginliktir.
- B) Dinin yaşanmasını zorlaştırır.
- C) Yeni çıkan sorunlara çözümler üretir.
- D) Fıkıhın, hayatla paralel gitmesini sağlar.

(525) SEÇ. Y. DİL İNG. – 5

1 - 19. sorularda boş bırakılan yere uygun gelen kelime ya da ifadeyi işaretleyiniz.

1. We have been here - - - - four o'clock.

- A) yet
- B) for
- C) just
- D) since

2. A bicycle is slower - - - - a car.

- A) than
- B) then
- C) from
- D) since

3. - - - - Şeyma was looking out of the window, she saw an accident.

- A) Who
- B) Which
- C) While
- D) What

4. The - - - - of the technology made our life easier but it brought also disadvantages to our lives.

- A) development
- B) desertation
- C) precaution
- D) pollution

5. By cutting the trees some animals and plants have become - - - - .

- A) examined
- B) changed
- C) caused
- D) extinct

6. Spanish is difficult but Chinese is - - - - .

- A) the most difficult
- B) more difficult
- C) most difficult
- D) difficult

7. She is a good driver. She drives very - - - - .

- A) the best
- B) better
- C) well
- D) good

8. My sister never eats meat, - - - - ?

- A) wasn't she
- B) does she
- C) isn't she
- D) did she

9. You can't swim, - - - - ?

- A) can you
- B) will you
- C) won't you
- D) don't you

10. Don't speak loudly, - - - - ?

- A) aren't you
- B) shall you
- C) won't you
- D) will you

11. My mother was - - - - the floors when we arrived home.

- A) listening
- B) cleaning
- C) starting
- D) going

12. The teacher - - - - the children a story yesterday.

- A) wrote
- B) spoke
- C) told
- D) took

13. Yesterday I - - - - a letter to my best friend.

- A) to write
- B) writing
- C) wrote
- D) write

14. I used to - - - - very slim when I was young .

- A) be
- B) to be
- C) been
- D) being

15. We didn't - - - - a new house.

- A) bought
- B) buying
- C) to buy
- D) buy

16. - - - - you - - - - to ride a bike when you were a child?

- A) Are / use
- B) Did / use
- C) Did / used
- D) Are / used

17. My brother is good at drawing. He - - - - a painter in the future.

- A) is
- B) was
- C) will be
- D) have been

18. I will go shopping. Who - - - - come with me?

- A) has been
- B) will
- C) was
- D) are

19. While I was - - - - in my room, my father was - - - - TV.

- A) sleep / watch
- B) slept / watched
- C) to sleep / to watch
- D) sleeping / watching

20. I / saw / When / my cousin /

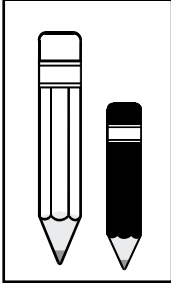
- 1 2 3 4
- was walking / she .
- 5 6

Yukarıda karışık olarak verilen kelimelerin doğru sıralandığı seçeneği işaretleyiniz.

- A) 3, 1, 2, 4, 6, 5
- B) 3, 2, 1, 6, 4, 5
- C) 3, 1, 4, 5, 6, 2
- D) 3, 4, 6, 2, 1, 5

1 - 15. sorularda boş bırakılan yere uygun gelen kelime ya da ifadeyi işaretleyiniz.

1.



Der weiße Stift ist länger - - - -  
der schwarze Stift.

- A) als                      B) wenn  
C) dass                    D) weil

2. A: Wann siehst du fern?  
B: Nur - - - - .

- A) ungefähr            B) nie  
C) abends                D) etwa

3. - - - - Sommer will ich ans Meer  
fahren.

- A) Um    B) Von    C) Am    D) Im

4. A: Wann warst du zuletzt in der  
Türkei?  
B: - - - - 2009.

- A) Am                      B) Im Jahre  
C) Im                        D) Um

5. "Kızılırmak" ist ein - - - - in der  
Türkei.

- A) Stadt                    B) Berg  
C) Dorf                     D) Fluss

6. - - - - ich Zeit habe, werde ich  
dich besuchen.

- A) Dass                    B) Denn  
C) Das                     D) Wenn

## 1. OTURUM

7. Kommst du aus Ankara - - - - aus  
Istanbul?

- A) oder                    B) weil  
C) um                        D) denn

8. Ich kann kein neues Auto kaufen,  
- - - - ich kein Geld habe.

- A) als                        B) dass  
C) denn                     D) weil

9. Mit so wenig Geld - - - - wir nicht  
leben.

- A) kann                    B) gekonnt  
C) können                D) könnt

10. Kannst du mir ein Gedicht  
- - - - .

- A) liest                    B) vorlesen  
C) besuchen              D) haben

11. Das Auto, - - - - in der Garage  
steht, ist Antike.

- A) der    B) die    C) das    D) dem

12. Mein Onkel - - - - seit 20 Jahren  
bei einer Autofirma.

- A) arbeiten                B) arbeitet  
C) gearbeitet              D) arbeiteten

13. Ich frage meine Mutter, ob ich  
ins Kino gehen - - - - .

- A) darf                     B) mögen  
C) dürfen                 D) sollen

14. Wir - - - - euch nächste Woche  
besuchen.

- A) wird                    B) werde  
C) werden                D) wirst

15. Die rot- - - - - Blumen - - - -  
Garten sind sehr schön.

- A) -es / im                B) -en / in der  
C) - - / in die            D) -en / im

16. Ayşe : 12 Jahre alt  
Eda : 15 Jahre alt  
Gül : 18 Jahre alt

Bu bilgiler doğrultusunda bir  
derecelendirme için, uygun  
sifat hangisidir?

- A) gut                      B) schön  
C) jung                    D) teuer

17. September, Oktober, November  
(Welche Jahreszeit?)

- A) der Sommer  
B) der Winter  
C) der Frühling  
D) der Herbst

18. Aşağıdakilerden hangisinde  
uygun olmayan bir sıfat kullanıl-  
mıştır?

- A) das hohe Kind  
B) das schnelle Auto  
C) die schöne Frau  
D) der heiße Kaffee

19. "gut" sıfatının superlativ halde  
doğru kullanıldığı seçenek han-  
gisidir?

- A) Das ist eine bessere Idee.  
B) Er ist gut in Mathe.  
C) Ich spiele am besten Tennis.  
D) Mein Buch ist besser als dein  
Buch.

20. Was macht ein Reiseleiter?

- A) Filme drehen  
B) Touristen führen  
C) Kinder erziehen  
D) Kranke heilen



## 1. OTURUM

(525) SEÇ. Y. DİL FRAN. – 5

1 - 15. sorularda boş bırakılan yere uygun gelen kelime ya da ifadeyi işaretleyiniz.

1. Est- - - - arrivée à Paris l'été dernier?

- A) nous B) ils  
C) elle D) il

2. - - - - ont mal à la gorge.

- A) Vous B) Elle  
C) Nous D) Elles

3. La chèvre est un animal - - - - donne du lait.

- A) qui B) que  
C) dont D) donc

4. Istanbul est la ville - - - - se trouve la tour Galata.

- A) que B) où  
C) qui D) donc

5. Voici la voiture blanche - - - - mon oncle a achetée.

- A) qui B) ce qui  
C) ce que D) que

6. - - - - il fait chaud, Deniz va à la plage.

- A) Pourquoi B) Combien  
C) Quand D) Comment

7. Ils se sont promenés dans les rues de Mardin - - - - été.

- A) au B) en  
C) il y a D) dans

8. Jean a fait du - - - - dans les Alpes samedi dernier.

- A) ski B) voile  
C) boxe D) musculation

9. Mon mari a pris beaucoup de photos - - - - les vacances.

- A) enfin B) en  
C) pendant D) il y a

10. Le jeune - - - - le père travaille à Nice, est joueur de tennis.

- A) qui B) dont  
C) où D) que

11. Les enfants apprennent beaucoup de choses - - - - la télé.

- A) en regardant  
B) regardez  
C) regardé  
D) regarder

12. Ayten écoute la radio - - - - de la peinture.

- A) faisant B) jouant  
C) en jouant D) en faisant

13. Nazlı fait du yoga en - - - - de la musique.

- A) écoute B) écouter  
C) écoutant D) écoutons

14. M. Dupont travaille dans un magasin. Il vend des vêtements et des chaussures. Il est - - - - .

- A) vendeur B) médecin  
C) écrivain D) mannequin

15. A: Quelle est - - - - de Denis?  
B: Elle est française.

- A) le nom  
B) le lieu de naissance  
C) le domicile  
D) la nationalité

16. "Les Dubois aiment l'escalade." cümlesinde altı çizili sözcüklerin yerine aşağıdaki şahıs zamirlerinden hangisi konulabilir?

- A) Elles B) Ils  
C) Vous D) Nous

17 – 18. sorularda verilen cümlelerin Türkçe karşılığını işaretleyiniz.

17. Elle a vu sa fille lisant le journal.

- A) Gazete okuyan kızını gördü.  
B) Kızım çizgi roman okuyordu.  
C) Gazete okuyan kızına seslendi.  
D) Dergi okuyan kızına bakıyor.

18. Selim écoute de la musique en travaillant dans sa chambre.

- A) Selim müzikholde eğlenmenin keyfini çıkarıyor.  
B) Selim çalışmaya ara verdiği zaman müzik dinler.  
C) Selim çalışırken müzik dinlemeye ihtiyaç duyuyor.  
D) Selim odasında çalışırken müzik dinler.

19 – 20. sorularda verilen cümlelerin Fransızca karşılığını işaretleyiniz.

19. Kantinde öğle yemeğini yiyen öğrenciler dışarı çıktılar.

- A) Il y a des élèves déjeunant à la cantine.  
B) Des élèves déjeunant à la cantine entrent dans la salle.  
C) Des élèves veulent déjeuner à la cantine.  
D) Les élèves déjeunant à la cantine sont sortis.

20. Yürürken ısıklık çalışıyordu.

- A) Il marche en chantant.  
B) Il traversait l'avenue en sifflant.  
C) Il sifflait en marchant.  
D) Elle siffle en courant.

## 1. OTURUM

(528) SEÇ. Y. DİL İNG. – 8

1 - 20. sorularda boş bırakılan yere uygun gelen kelime ya da ifadeyi işaretleyiniz.

1. - - - - the time we get there, they will have finished the presentation.  
A) Of B) By  
C) If D) As
2. - - - - you heat plastic, it melts.  
A) While B) So  
C) By D) If
3. Do you have any idea - - - - my bag is?  
A) whenever B) wherever  
C) where D) while
4. I will be wearing this black dress - - - - .  
A) tomorrow  
B) last week  
C) yesterday  
D) three years ago
5. - - - - it started to rain, he was waiting at the bus stop.  
A) As B) Until  
C) When D) While
6. You should take a pill - - - - meals regularly.  
A) after B) since  
C) so that D) because
7. - - - - I get home, I will phone you.  
A) As long as B) As soon as  
C) While D) Until
8. - - - - I watch a thriller, I can't sleep at night.  
A) Before B) As soon as  
C) As long as D) Whenever
9. We shouldn't use strong chemicals - - - - they are harmful to the nature.  
A) while B) when  
C) because D) although
10. The room was hot - - - - we opened the window.  
A) in order to B) because  
C) to D) so
11. This time next summer I will be - - - - on the beach.  
A) sunbathing B) sunbathed  
C) to sunbathe D) sunbathe
12. Ahmet is crazy about cultural holiday. He - - - - all the historical places by the end of the year.  
A) will have visited  
B) will visit  
C) visits  
D) visit
13. My father was very tired. He - - - - working all day.  
A) will be B) had been  
C) would be D) will have
14. My mother will have - - - - the meal by the time we arrive home.  
A) cook B) to cook  
C) cooked D) cooking
15. If I go to Trabzon, I - - - - Sumela Monastery.  
A) visit B) visiting  
C) visited D) will visit
16. The letter - - - - by the secretary.  
A) was writing B) is writing  
C) was written D) wrote
17. If I - - - - you, I would come with you.  
A) met B) sat  
C) helped D) watched
18. The pyramids were - - - - by the ancient Egyptians.  
A) drunk B) built  
C) caught D) hidden
19. I would travel a lot - - - - .  
A) if I had a mobile phone  
B) if I had a big house  
C) if I stayed at home  
D) if I had a new car
20. - - - -, you would have waited for the train.  
A) If you had taken a taxi  
B) If you had studied more  
C) If you had missed the bus  
D) If you had cleaned the house

## 1. OTURUM

(528) SEÇ. Y. DİL ALM. – 8

1 - 17. sorularda boş bırakılan yere uygun gelen kelime ya da ifadeyi işaretleyiniz.

1. Wir gehen einkaufen, ---- uns zu entspannen.

- A) denn            B) um  
C) weil            D) dass

2. Abitur ---- / aufs Gymnasium ----

- A) machen / gehen  
B) arbeiten / spielen  
C) gehen / studieren  
D) lernen / erlernen

3. Es ist schön, ---- du kommst.

- A) dass            B) oder  
C) aber            D) und

4. Er denkt, ---- ich sehr faul bin.

- A) wenn            B) weil  
C) dass            D) denn

5. A: ---- Ankara?  
B: In der Mitte der Türkei.

- A) Wo liegt        B) Was gibt  
C) Wo              D) Woher

6. Ich laufe jeden Tag, um mich fit ---- halten.

- A) vor              B) ab  
C) von              D) zu

7. Die Tasche, ---- auf dem Tisch steht, gehört mir.

- A) die    B) der    C) das    D) den

8. Wenn ich Arzt ----, ---- würde ich den Menschen helfen.

- A) dann / würde  
B) wäre / dann  
C) wäre / dass  
D) würde / dann

9. Berlin ist die ---- von Deutschland.

- A) Straße        B) Hauptstadt  
C) Dorf            D) Ort

10. ---- ihr euren Zimmer aufgeräumt?

- A) Habt            B) Habe  
C) Hat              D) Haben

11. Istanbul ist die ---- Stadt der Türkei.

- A) groß            B) größer  
C) am größten    D) größte

12. Wie ---- ich Ihnen helfen?

- A) können        B) kann  
C) bin              D) sind

13. A: ---- fährst du in die Ferien?  
B: Mit dem Zug.

- A) Wofür          B) Wann  
C) Wohin          D) Womit

14. Ali fragt, ob er mit ---- in den Urlaub fahren darf.

- A) wir              B) er  
C) dem              D) uns

15. Er ---- in seiner Prüfung nicht ----.

- A) ist / vorgespielt  
B) hat / aufgepasst  
C) sei / spielen  
D) ist / passen

16. Ich ---- letztes Jahr in die 11. Klasse. (Präteritum)

- A) gehen          B) gehe  
C) ging            D) gegangen

17. Ich gehe nicht ins Kino, ---- es keinen schönen Film gibt.

- A) denn            B) dass  
C) aber            D) weil

18. Aşağıdakilerden hangisi sıfattır? (Adjektiv)

- A) besuchen      B) gefallen  
C) lustig            D) entwickeln

19. "Fleißig" kelimesinin karşıtı aşağıdakilerden hangisidir?

- A) faul              B) lustig  
C) schnell          D) langsam

20. Aşağıdakilerden hangisi ayrılabilir fiildir? (Trennbare Verben)

- A) verlieren      B) gewinnen  
C) ausgehen      D) entladen

(528) SEÇ. Y. DİL FRAN. – 8

1 - 18. sorularda boş bırakılan yere uygun gelen kelime ya da ifadeyi işaretleyiniz.

1. Hier soir, ---- est rentrée à cinq heures du matin.

- A) tu                B) elle  
C) je (j')          D) il

2. Avant de sortir, ---- votre manteau.

- A) éteindrez      B) croyons  
C) mettez          D) parlons

3. Ce soir, on va au cinéma. N'oublie pas de (d') ---- cinq tickets.

- A) venir            B) continuer  
C) porter            D) acheter

4. La boulangerie ---- à 7 heures.

- A) ouvre            B) cherche  
C) bois              D) mange

## 1. OTURUM

5. Mon père a vu le film Titanic  
---- il trouve super.

- A) que (qu')    B) qui  
C) où            D) dont

6. A: Qu'est-ce que tu prends  
comme boisson?

B: Je prends ----.

- A) un gâteau au chocolat  
B) des pommes de terre  
C) du jus de pomme  
D) du beurre

7. A: Aykut téléphone souvent à  
----?

B: Oui, il leur téléphone souvent.

- A) sa fille        B) son cousin  
C) son père      D) ses parents

8. A: Et toi, tu ne prends pas  
d'omelette ?

B: Si, mais je peux ---- manger  
deux fois par semaine.

- A) les    B) en    C) lui    D) y

9. Les Turcs boivent 25 litres de  
lait ---- personne ---- ans.

- A) en / dans    B) en / en  
C) par / par    D) dans / en

10. Je ne suis jamais allé au Canada  
mais mon frère ---- habite.

- A) en    B) y    C) par    D) le

11. Pierre a rendez-vous à 11 heures  
chez le médecin.

Il est 11 heures. Et il est chez le  
médecin.

Il est ----.

- A) à l'heure    B) en retard  
C) en avance    D) à midi

12. Il a cassé les verres ---- sa  
maladresse.

- A) parce que    B) grâce à  
C) pourquoi    D) à cause de

13. Pour grossir, il faut ----.

- A) faire du sport  
B) manger beaucoup  
C) marcher  
D) perdre du kilo

14. ---- ils iront en vacances en  
Italie.

- A) L'an prochain  
B) Lundi dernier  
C) Avant-hier  
D) Hier

15. A : Tu viens à mon anniversaire?  
B : ----.

- A) S'il a faim, il mange de la  
salade  
B) S'il y a un bon film, je veux  
aller  
C) Si je vais mieux, je veux venir  
D) S'il a soif, il veut boire du lait

16. Hakan n'a pas fait ses devoirs,  
car ---- un film d'action à la  
télé.

- A) il faisait chaud  
B) il y avait  
C) il faisait froid  
D) c'était

17. Pierre : Sylvie, je n'ai plus  
de viande, tu peux  
aller ----?

Charlotte : D'accord, il faut  
autre chose?

Pierre : Oui, du poulet pour  
demain.

- A) à la boulangerie  
B) à la librairie  
C) à la boucherie  
D) à l'hôtel

18. Tu peux conduire mais il faut  
être ----.

- A) longue        B) attentif  
C) nouveau      D) hypocrite

19 – 20. sorularda verilen resme  
göre cümlede boş bırakılan  
kısımı tamamlayan sözcük ya da  
ifadenin bulunduğu seçeneği  
işaretleyiniz.


19.



Mme Dupont qui est ----, a deux  
chats et un chien.

- A) une vieille femme  
B) un vieil homme  
C) une jeune fille  
D) une fausse amie

20.



Quand fait beau, ----.

- A) il répare son vélo  
B) il voyage en auto  
C) il lave sa moto  
D) il fait du vélo

## 1. OTURUM

(532) HZ. MUHAMMED'İN HAY. – 2

1. “Ey insanlar! Dikkat edin, sizin Rabb’iniz birdir, babanız birdir, Âdem’dir. Dikkat edin, hiçbir Arabın yabancı üzerine, hiçbir yabancı Arap üzerine, siyahın kırmızı renkli üzerine, kırmızının siyah üzerine üstünlüğü yoktur. Fazilet ve üstünlük ancak takva iledir.”

(Hadisi-i Şerif)

**Aşağıdakilerden hangisi bu hadisten çıkarılacak bir sonuç değildir?**

- A) Allah’ın bir ve tek olduğu
- B) Üstünlüğün Allah’a itaatte olduğu
- C) İnsanların Allah katında eşit olduğu
- D) Allah’ın mutlak adalet sahibi olduğu

2. “Mümin olarak, erkek veya kadın, her kim salih amel işlerse, işte onlar cennete girerler ve zerre kadar haksızlığa uğratılmazlar.”

(Nisa suresi, 124. ayet)

**Aşağıdakilerden hangisi bu ayetten çıkarılamaz?**

- A) Kullukta müminlerin eşit olduğu
- B) Salih amel işleyenlerin cennete gideceği
- C) Kadın ve erkeklerin eşit haklara sahip olduğu
- D) Cennete müminlerin gidebileceği

3. “Küçüğümüze acımayan ve büyüğümüzün hakkını tanımayan, bizden değildir.”

(Hadisi-i Şerif)

**Bu hadiste aşağıdaki tutum ve davranışlardan hangisine değinilmektedir?**

- A) Şefkat ve merhamet
- B) Haya ve iffet
- C) Sabır ve kararlılık
- D) Cesaret ve şecaat

4. **Aşağıdakilerden hangisi Mekke’den Medine’ye ilk hicret eden iki kişiden biridir?**

- A) Hz. Ömer
- B) Cafer b.Ebi Talib
- C) Hz. Ebubekir
- D) Abdullah b. Ümmi Mektum

5. “Müslüman’ın Müslüman üzerinde hakkı altıdır: Bunlar; Ona rastladığında selam ver, davet edilince icabet et, nasihat isterse nasihat et, aksırır da Allah’a hamdederse ona yerhamu kella de, hastalanırsa onu ziyaret et, öldüğü vakit de arkasından git.”

(Hadisi Şerif)

**Bu hadiste tavsiye edilen davranışlar arasında aşağıdakilerden hangisi yoktur?**

- A) Helalleşme
- B) Selam verme
- C) Hasta ziyareti
- D) Cenaze törenine katılma

6. “Ergenlik çağına erişinceye kadar ..... malına onun iyiliği için olmadıkça dokunmayın.”

(En’am suresi, 152. ayet)

**Ayette boş bırakılan yere aşağıdakilerden hangisi gelmelidir?**

- A) fakirlerin
- B) yetimlerin
- C) engellilerin
- D) kölelerin

7. “Çekememezlik etmeyin, birbirinize darılmayın, sırt çevirmeyin, birbirinizin akitlerini bozmayın ve Allah’ın kulları, kardeşler olunuz...”

**Bu hadiste aşağıdakilerden hangisine değinilmemiştir?**

- A) Dayanışma
- B) Kardeşlik
- C) Haset
- D) Takva

8. “Allah’a yemin ederim ki hiçbir kul kendisi için istediğini komşusu için yahut din kardeşi için de istemedikçe tam anlamı ile iman etmiş olmaz.”

**Bu hadise göre sakınılması gereken davranış aşağıdakilerden hangisidir?**

- A) Hile
- B) Kin ve nefret
- C) Haset
- D) Gıpta

9. Mekke’nin ileri gelenlerinden bir kaç Peygamberimizin yanına geldiler. Peygamberimizin yanında fakir ve kimsesiz Müslümanlar olduğu için “Biz onlarla oturmayız, bizimle onlardan ayrı bir yerde otur.” dediler. O sırada “Sabah akşam Allah’ın rızasını dileyerek Rablerine dua edenleri sakın yanından uzaklaştırma!... Eğer onları uzaklaştırırsan zalimlerden olursun.” (En’am suresi, 52. ayet) ayet-i kerimesi indirildi.

**Bu ayette vurgulanan husus aşağıdakilerden hangisidir?**

- A) Kullukta eşitlik
- B) Hukuk karşısında eşitlik
- C) Peygamberler arasında eşitlik
- D) Paylaşımında eşitlik

10. **Peygamberimiz haya hakkında:** “O sizin anladığınız utanma hissi değildir! Allah’tan gerektiği biçimde haya etmek demek; baş ve başta bulunan organlarla, karın ve karnın için aldığı organları her türlü günah ve haramdan korumaktır.....daima Allah’ı hatırlamaktır. Kim bu şekilde davranırsa Allah’tan gereği biçimde hayâ etmiş olur.”

**Bu hadiste vurgulanan husus aşağıdakilerden hangisidir?**

- A) Sabır - amel ilişkisi
- B) Haya - amel ilişkisi
- C) Merhamet - iman ilişkisi
- D) Hoşgörü - iman ilişkisi

11. **İslam tarihinde ilk hicretin yapıldığı ülke ve o ülkenin kralı aşağıdakilerden hangisidir?**

- A) Şam - Rüstem
- B) Bizans - Heraklius
- C) Mısır - Cüreyc
- D) Habeşistan - Necaşi

## 1. OTURUM

12. Mûte savaşında şehit düşen İslam ordusunun komutanı aşağıdakilerden hangisidir?

- A) Abdullah b. Ömer
- B) Cafer b. Ebi Talib
- C) Halit b. Velit
- D) Amr b. As

13. “Kardeşin zalimde olsa mazlum da olsa ona yardım et. Bunun üzerine biz Ey Allah’ın Resulü! Mazluma yardım etmeyi bildik ama zalime niçin ve nasıl yardım edeceğiz?” dedi.

Peygamberimiz buyurdular ki:  
-----

Buna göre, bu hadis nasıl devam etmektedir?

- A) “Allah her yapılanın karşılığını verecektir.”
- B) “Allah mazlumların yardımcısıdır.”
- C) “Zayıf, güçsüz ve kimsesiz olanların mükafatını Allah tarafından verilecektir.”
- D) “Ona zulümden el çektirirsin, ona yapacağın yardım işte budur.”

14. Aşağıdakilerden hangisi istişarenin yararlarından biri değildir?

- A) Problemi ortadan kaldırır.
- B) En doğru kararı almaya katkı sağlar.
- C) Birlik ve beraberlik anlayışını güçlendirir.
- D) Hedefe kısa zamanda ve daha kolay ulaştırır.

15. İstişare hakkında aşağıdakilerden hangisi yanlıştır?

- A) Kendine aşırı güvenmektir.
- B) Fikri zenginliktir.
- C) Peygamberimizin sünnetidir.
- D) Farklı fikirlere açık olmaktır.

16. Aşağıdakilerden hangisi sa-habenin toplumsal konularda yaptığı istişareye örnek olmaz?

- A) İlk halifenin seçilmesi
- B) Kur’an’ın kitap haline getirilmesi
- C) Hudeybiye anlaşmasının yapılması
- D) Hz. Ömer’in halife seçilmesi

17. Hz. Muhammed’e “Muhammedü’l Emin” şeklinde hitap edilmeye ne zaman başlanmıştır?

- A) Medine döneminde
- B) İslam’dan önce Mekke’de
- C) Mekke’nin fethinden sonra
- D) İsrâ ve Miraç hadisesinden sonra

18. Hz. Muhammed’in bulunduğu mecliste aşağıdaki davranışlardan hangisi görülmüştü?

- A) İnsanların mahremiyetinin konuşulması
- B) Yapılan hata ve yanlışların yüze vurulması
- C) Soylu ve zenginlere özel muamele yapılması
- D) Yaşlılara saygı ve merhamet gösterilmesi

19. Hz. Hatice Peygamberimiz’e “Korkma, Allah’a yemin ederim ki, O hiç bir zaman seni utandırmaz. Çünkü sen akraba hakkına riayet edersin, doğru konuşursun; aciz olanların işini yüklenirsin, fakiri doyurur, misafiri ağırılar halka yardım edersin.” demıştır.

Bu metinde Hz. Muhammed’in hangi özelliğine değlinilmemiştir?

- A) Cesaret
- B) Yardımseverlik
- C) Cömertlik
- D) Doğruluk

20. Hz. Peygamber evlilik konusunda aşağıdakilerden hangisini öncelikli olarak tavsiye etmiştir?

- A) Soy
- B) Güzellik
- C) Ahlak
- D) Zenginlik

## (609) MATEMATİK – 6

1.  $\frac{7!}{5!}$  işleminin sonucu kaçtır?

- A)  $\frac{7}{5}$
- B) 7
- C) 42
- D) 210

2.  $A = \{1, 2, 3, 4, 5\}$  kümesinin elemanları kullanılarak 3 basamaklı 300’den büyük kaç farklı çift sayı yazılabilir?

- A) 18
- B) 20
- C) 24
- D) 30

3. 3323222 sayısındaki rakamların yerleri değiştirilerek yedi basamaklı kaç farklı sayı yazılır?

- A) 35
- B) 21
- C) 14
- D) 7

4. 7 elemanlı bir kümenin en fazla iki elemanlı alt kümelerinin sayısı kaçtır?

- A) 14
- B) 21
- C) 28
- D) 29

5. Altı kişilik bir aile, anne ve baba yan yana oturmamak şartı ile yuvarlak masa etrafına kaç farklı şekilde oturabilirler?

- A) 48
- B) 72
- C) 120
- D) 144

6. Bir dosya kağıdı üzerinde herhangi üçü doğrusal olmayan 8 nokta işaretleniyor. Köşeleri bu noktalar üzerinde olacak şekilde kaç farklı üçgen çizilebilir?

- A) 28
- B) 56
- C) 60
- D) 74

## 1. OTURUM

7. 7 bayan, 4 erkek doktor arasından en az 2 erkek doktorun bulunduğu 3 kişilik sağlık kurulu kaç farklı şekilde seçilebilir?  
A) 21 B) 23 C) 42 D) 46
8. İki torbadan birincisinde 3 kırmızı, 2 sarı, ikincisinde 4 kırmızı, 5 sarı bilye vardır. Torbalardan birinden rastgele seçilen bir bilyenin sarı olduğu bilindiğine göre, bu bilyenin ikinci torbadan çekilmiş olma olasılığı nedir?  
A)  $\frac{43}{45}$  B)  $\frac{25}{43}$   
C)  $\frac{25}{32}$  D)  $\frac{20}{47}$
9. Bir çift zar havaya atılıyor. Üst yüze gelen sayıların toplamının 9 olma olasılığı nedir?  
A)  $\frac{1}{9}$  B)  $\frac{1}{6}$  C)  $\frac{1}{4}$  D)  $\frac{2}{3}$
10.  $1 \cdot 1 + 2 \cdot 3 + 3 \cdot 5 + 4 \cdot 7 + \dots + 21 \cdot 41$  toplamının  $\Sigma$  sembolü ile gösterimi aşağıdakilerden hangisidir?  
A)  $\sum_{k=1}^{21} (2k^2 - k)$   
B)  $\sum_{k=1}^{21} (2k^2 - 3k)$   
C)  $\sum_{k=1}^{20} (k+1)(2k-1)$   
D)  $\sum_{k=1}^{20} (k^2 - 1)$
11.  $\sum_{k=4}^{15} k$  değeri kaçtır?  
A) 60 B) 84 C) 114 D) 120
12.  $\prod_{k=3}^{26} \left(1 + \frac{1}{k}\right)$  değeri kaçtır?  
A) 9 B) 8 C)  $\frac{26}{3}$  D)  $\frac{27}{26}$
13.  $\prod_{k=1}^8 2^k$  değeri kaçtır?  
A)  $2^8$  B)  $2^{16}$   
C)  $2^{24}$  D)  $2^{36}$
14. Aşağıdakilerden hangisi bir dizinin genel terimi olabilir?  
A)  $\frac{n}{n^2 - 25}$  B)  $\frac{n}{n+2}$   
C)  $\sqrt{n-8}$  D)  $\log(5-n)$
15.  $(a_n) = \left(\frac{6n+m}{n+2}\right)$  dizisi sabit bir dizi olduğuna göre, m kaçtır?  
A) 2 B) 4 C) 6 D) 12
16.  $(a_n) = \left(\frac{2n-1}{3n+1}\right)$  dizisinin kaçınıcı terimi  $\frac{1}{2}$ 'dir?  
A) 5 B) 4 C) 3 D) 2
17.  $(a_n) = \left(\frac{2n+1}{6n+12}\right)$  dizisinin limiti kaçtır?  
A)  $\frac{1}{2}$  B)  $\frac{1}{3}$  C)  $\frac{1}{6}$  D)  $\frac{1}{12}$
18. Bir aritmetik dizinin ilk terimi 3 ve ortak farkı 4 olduğuna göre, dokuzuncu terimi kaçtır?  
A) 23 B) 27 C) 35 D) 39
19. Ortak çarpanı 4 ve 4. terimi  $2^9$  olan geometrik dizinin 15. terimi kaçtır?  
A)  $2^{31}$  B)  $2^{29}$  C)  $2^{27}$  D)  $2^{18}$
20.  $\sum_{n=0}^{\infty} \left(\frac{4}{5}\right)^n$  değeri kaçtır?  
A) 0 B) 1 C) 5 D) 20

**(611) KARŞ. DİN. TAR. - 1**

1. Aşağıdakilerden hangisi Temel İslam Bilimleri'nden biri değildir?

- A) Fıkıh B) Tefsir  
C) Siyer D) Kelam

2. Karşılaştırmalı Dinler Tarihi hakkında aşağıdakilerden hangisi yanlış bir bilgidir?

- A) Temel İslam Bilimleri ile ilişkilidir.  
B) Tüm dinleri inceleme konusu yapar.  
C) Dinleri doğruluk ve yanlışlık bakımından değerlendirir.  
D) Dinlerin tarihi gelişimini inceleyen, tarihi karşılaştırmalı metoda başvurur.

3. 325 yılında İmparator Konstantin'in emriyle toplanan konsilde, İsa'nın tanrı olduğu tartışılarak kabul edilmiştir.

**Bu konsil aşağıdakilerden hangisidir?**

- A) İznik konsili  
B) Efes konsili  
C) Vatikan konsili  
D) İstanbul konsili

## 1. OTURUM

4. Yahudilikte "Arz-ı Mevud"un anlamı aşağıdakilerden hangisidir?

- A) Seçilmiş özel millet
- B) Kudüs'te bulunan Süleyman Mabedi
- C) Olağanüstü güçlere sahip kurtarıcı
- D) Yahudilere vaat edilmiş kutsal topraklar

5. Hristiyanlığın ortaya çıktığı miladi yılın başlarında Filistin'de hangi din mensupları yaşıyordu?

- A) Sabiiler
- B) Yahudiler
- C) Zerdüştlar
- D) Mecusiler

6. Aşağıdakilerden hangisi Hristiyan inançlarından olan "Vaftiz"i ifade eder?

- A) Evlenen çiftler için kilisede yapılan törendir.
- B) Şükretmek anlamına gelen bir ayinin adıdır.
- C) Hristiyanlığa giren kişinin suyla günahından arındırılmasıdır.
- D) Hastalıkta ve özellikle ölüm anında kişiyi rahatlatmak için yapılan bir ayindir.

7. Aşağıdakilerden hangisi İslam dininin temel özelliklerinden değildir?

- A) İslam inanç ilkeleri ve ibadet esasları Kur'an-ı Kerim'de belirtilmiştir.
- B) Peygamberler ilahi niteliklere sahip kişilerdir.
- C) Bütün insanlar günahsız olarak doğarlar.
- D) Allah vardır ve birdir.

8. Zerdüştlük dini aşağıdaki ülkelerin hangisinde doğmuştur?

- A) İran
- B) Filistin
- C) Hindistan
- D) Arabistan

9. Aşağıdakilerden hangisi Budizm'deki "sekiz dilimli yol"dan biri değildir?

- A) Sürekli çaba
- B) Doğru bilgi, kesin iman
- C) Tek olan tanrıya inanmak
- D) Doğru amaç, doğru düşünce

10. "İsrail" aşağıdaki peygamberlerden hangisinin lakabıdır?

- A) Hz. Musa
- B) Hz. Yahya
- C) Hz. Davud
- D) Hz. Yakup

11. • Firavunun sarayında büyüdü.  
• İsraili birine destek olmak isterken yanlışlıkla bir Mısırlı'nın ölümüne sebep oldu.  
• Mısır'ı terk edip Medyen'e gitti ve orada Hz. Şuayb'ın kızıyla evlendi.

Yukarıda hakkında bilgi verilen peygamber kimdir?

- A) Hz. Davud
- B) Hz. Yakup
- C) Hz. Musa
- D) Hz. İsa

12. Yahudi isyanları nedeniyle 70 yılında Kudüs'ü işgal edip, Yahudilerin inşa ettikleri mabedi yıkan devlet aşağıdakilerden hangisidir?

- A) İran
- B) Mısır
- C) Babil
- D) Roma

13. Aşağıdakilerden hangisi hem Hristiyanlığın hem de Yahudiliğin ortak özelliklerinden biridir?

- A) Mesihçilik
- B) Teslis
- C) Sakramentler
- D) Seçilmişlik

14. Protestanlık, hangi mezhebin dini uygulamalarına tepki olarak ortaya çıkmıştır?

- A) Metodist
- B) Baptist
- C) Ortodoks
- D) Katolik

15. Aşağıdakilerden hangisi Hristiyan mezheplerinden biri değildir?

- A) Katolik
- B) Reformist
- C) Ortodoks
- D) Protestan

16. Kurucusu Siddharta Gautama olan din aşağıdakilerden hangisidir?

- A) Taoizm
- B) Sihizm
- C) Budizm
- D) Caynizm

17. Aşağıdakilerden hangisi yaşayan kabile dinlerinin genel özelliklerindedir?

- A) Yüce tanrı inancına sahiptirler.
- B) Evrensel özelliğe sahiptirler.
- C) Kutsal kitaplara sahiptirler.
- D) Dinlerinin kurucusu vardır.

18. Türkiye Yahudilerinin yasal temsilcisi kimdir?

- A) Papa
- B) Patrik
- C) Haham
- D) Hahambaşı

19. Cahiliyye döneminde putları reddederek tek ilah fikrini benimseyenlere ne ad verildi?

- A) Sabiî
- B) Hanif
- C) Havari
- D) Hadari

20. Peygamberimiz, ilk vahyi aldıktan sonra başından geçenleri Hz. Hatice'ye anlatınca, o peygamberimizi kimin yanına götürmüştür?

- A) Varaka b. Nevfel
- B) Hz. Ebu Bekir
- C) Ebu Talip
- D) Bahira



## 1. OTURUM

(617) SEÇ. DİL VE ANLA. – 7

1. Türk edebiyatında Batılı tiyatro türünün ilk örnekleri aşağıdaki dönemlerin hangisinde verilmiştir?

- A) Klasik Türk Edebiyatı
- B) İslamiyet Öncesi Türk Edebiyatı
- C) Tanzimat Dönemi Türk Edebiyatı
- D) Cumhuriyet Dönemi Türk Edebiyatı

2. Aşağıdakilerden hangisi tragedyanın özelliklerinden biri değildir?

- A) Kişiler, doğaüstü varlıklar ve seçkin kimselerdir.
- B) Eser baştan sona ciddi bir hava içinde geçer.
- C) Vurmak, yaralamak gibi acı verici olaylar seyircinin gözü önünde rahatlıkla sergilenir.
- D) Seyircide acıma ve korku duyguları uyandırarak ruhu tutkularından kurtarmak amaçlanır.

3. Aşağıdakilerden hangisi toplumun gülünç ve aksak yanlarını gösteren komedyalara verilen addır?

- A) Karakter
- B) Töre
- C) Entrika
- D) Yergi

4. Köy seyirlik oyunlarının Karagöz ve orta oyunundan farkı aşağıdakilerden hangisidir?

- A) Yazılı metne bağlı olması
- B) Yılın belli günlerinde oynanması
- C) Daha geniş kitlelere hitap etmesi
- D) Oynandıkları yörelerin özelliklerini taşıması

5. Epik tiyatro ile ilgili aşağıdaki bilgilerden hangisi yanlıştır?

- A) Amaç seyirciyi sahneye yabancılaştırmaktır.
- B) Duygular yerine akıl öne çıkarılmıştır.
- C) Semboller, bilmece ve saçma tasarımlarla doludur.
- D) Kahramanlar olağanüstü, mitolojik varlıklardır.

6. Aşağıdakilerden hangisi komedyanın özelliklerinden değildir?

- A) Nazımla yazılır.
- B) Üç birlik kuralına uyulur.
- C) Erdeme ve ahlaka üstün değer verilir.
- D) Acı veren olaylar seyircinin gözü önünde gerçekleşebilir.

7. Aşağıdakilerden hangisi Millî Edebiyat akımının edebiyatımıza getirdiği yeniliklerden biri değildir?

- A) Yerli konulara önem verilmesi
- B) Sanatın bir tür oyun olarak görülmesi
- C) Romanlarda her kesimden halkın anlatılması
- D) Sözlü gelenek ürünü olan masal, destan ve halk hikâyelerinin yeniden canlandırılması

8. Aşağıdakilerden hangisi Çehov tarzı hikâyelerin özelliklerinden biridir?

- A) Olay örgüsünün önemi azaltılmıştır.
- B) Okuyucunun hayal gücüne fazla bir şey bırakılmaz.
- C) Okuyucunun merak duygusu sürekli canlı tutulur.
- D) Çok belirgin giriş, gelişme ve sonuç bölümleri içerir.

9. Aşağıdakilerden hangisi, La Fontaine'den çeviri yaparak fabl türünün Türk edebiyatındaki başarılı örneklerini ortaya koymuştur?

- A) Orhan Veli Kanık
- B) Ferit Edgü
- C) Mehmet Kaplan
- D) Memduh Şevket Esenal

10. Masallarda olaylar önemlerine göre sıralanarak aktarılırken aşağıdaki kiplerden hangisi kullanılmaz?

- A) "-miş"li geçmiş zaman
- B) Şimdiki zaman
- C) Geniş zamanın rivayeti
- D) Gelecek zaman

11. Tilki, tam bunu düşünürken kral sormuş:  
– Sen söyle bakalım, demiş.  
– Nasıl kokuyor bu saray?  
Tilki özür dilemiş:  
– Üzerinize afiyet nezleyim.

Bu metnin türü aşağıdakilerden hangisidir?

- A) Yaşam öyküsü
- B) Fabl
- C) Eleştiri
- D) Hatıra

12. Aşağıdakilerden hangisi kahramanlık hikâyesidir?

- A) Âşık Garip
- B) Tahir ile Zühre
- C) Kerem ile Aslı
- D) Köroğlu

13. Bir yazarın yazdığı, gördüğü ve incelediği yerlerden edindiği bilgi, görgü ve izlenimleri yansıtan yazıya verilen ad aşağıdakilerden hangisidir?

- A) Fabl
- B) Halk hikâyesi
- C) Gezi yazısı
- D) Deneme

14. Aşağıdakilerden hangisi sanat metinlerine ait bir özellik değildir?

- A) Hayallere ve mecaz anlatımlara yer verilir.
- B) Gerçeklik ön plandadır.
- C) Dil sanatsaldır, üslup kaygısı vardır.
- D) Okuyucuya estetik zevk vermek amacıyla yazılır.

15. Aşağıdakilerden hangisi öğretici metinlere ait bir özellik değildir?

- A) Okuyucuya bilgi vermek amacıyla yazılır.
- B) Dil heyecana bağlı işlevde kullanılır.
- C) Gerçeklik ön plandadır.
- D) Okuyan herkes aynı anlamı çıkarır.

## 1. OTURUM

(618) SEÇ. DİL VE ANLA. – 8

16. Günlük hayatta her zaman rastlanmayan, şaşırtıcı, sürükleyici, esrarengiz olayları anlatan roman türü aşağıdakilerden hangisidir?

- A) Sosyal roman
- B) Psikolojik roman
- C) Tarihî roman
- D) Macera romanı

17. Türk edebiyatının Batı tarzında yazılan ve yayımlanan ilk tiyatro eseri aşağıdakilerden hangisidir?

- A) Vatan yahut Silistre
- B) Şair Evlenmesi
- C) Nesteran
- D) Kösem Sultan

18. Aşağıdakilerden hangisi Türk kaynaklı halk hikâyelerindendir?

- A) Köroğlu
- B) Battalgazi
- C) Ferhat ile Şirin
- D) Leyla ile Mecnun

19. Aşağıda verilen eserlerden hangisinin türü halk hikâyesi değildir?

- A) Kerem ile Aslı
- B) Tahir ile Zühre
- C) Ayaşlı ile Kiracıları
- D) Âşık Emrah ile Selvihan

20. Beş altı dakikaya sığdırılan, tablolar hâlinde sergilenen kısa, müzikli oyun türü aşağıdakilerden hangisidir?

- A) Skeç
- B) Operet
- C) Bale
- D) Opera

1. Aşağıdakilerden hangisi konferansın özelliklerinden biri değildir?

- A) Özgün düşünceler dile getirilir.
- B) Konferansçının alanında yetkin olması gerekmez.
- C) Amaç, fikri kendini dinleyenlere benimsetmektir.
- D) Konu, dinleyicilerin ilgisini çekecek şekilde olmalıdır.

2. Aşağıdakilerden hangisi açık oturumda başkanın görevlerinden biri değildir?

- A) Giriş konuşması yapar.
- B) Soruların düzenli sorulmasını sağlar.
- C) Gerekirse konuyu değiştirir.
- D) Oturumun değerlendirmesini yapar.

3. Belli bir konuyu aydınlatmak amacıyla bilim adamı ve araştırmacıların bir araya geldikleri ve konuşmacıların konunun belirli bölümlerini sundukları, tartışmalı toplantılara - - - - denir.

Bu parçada boş bırakılan yere aşağıdakilerden hangisi getirilmelidir?

- A) sempozyum
- B) münazara
- C) forum
- D) açık oturum

4. Önceden belirlenmiş bir konuda farklı görüşlere sahip kişilerin bir araya gelerek konuyu çözümlmek, kendi görüşlerini açıklamak, kanıtlamak, karşı tarafın zayıf noktalarını aramak için yaptıkları tartışma türüne verilen ad aşağıdakilerden hangisidir?

- A) Açık oturum
- B) Sempozyum
- C) Münazara
- D) Forum

5. Aşağıdakilerden hangisi münazara türüne ait bir özellik değildir?

- A) Görüşme ve çözüm yöntemidir.
- B) Amaç, "ben"i ön plana çıkarıcıdır.
- C) Bir konunun olumlu ve olumsuz yönleri tartışılır.
- D) Hakem kurulu, başkan, konuşmacılar, sözcü bulunur.

6. Aşağıdakilerin hangisi bilimsel yazıların bölümlerinden biri değildir?

- A) Başlık
- B) Dipnot
- C) Özet
- D) Asıl metin

7. Aşağıda verilen dipnot örneklerinden hangisinin yazımı doğrudur?

- A) (1) Çağdaş İnsan ve Edebiyat, Alemdar Yalçın, Akçağ Yayınları, 6. Baskı, Ankara 2008, s.29.
- B) (1) Alemdar Yalçın, Çağdaş İnsan ve Edebiyat, Akçağ Yayınları, 6. Baskı, Ankara 2008, s.29.
- C) (1) Akçağ Yayınları, Çağdaş İnsan ve Edebiyat, Alemdar Yalçın, 6. Baskı, Ankara 2008, s.29.
- D) (1) 6. Baskı, Ankara 2008, Alemdar Yalçın, Çağdaş İnsan ve Edebiyat, Akçağ Yayınları, s.29.

8. Aşağıdakilerden hangisi öğretici metinler arasında yer almaz?

- A) Makale
- B) Fıkra
- C) Roman
- D) Eleştiri

9. Aşağıdakilerden hangisi konferans veren kişinin konferans sırasında dikkat etmesi gereken özelliklerden değildir?

- A) Akıl ve sağduyuyla hareket edilmelidir.
- B) Gerekğinde argo sözcük kullanılmamalıdır.
- C) Konu dağıtılmamalıdır.
- D) Sözlü anlatım tekniklerine uyulmalıdır.

## 1. OTURUM

10. Sempozyumda dinleyiciler tarafından beklenen yenibilgi, belge ve önerilerin açıklandığı bölüm aşağıdakilerden hangisidir?

- A) Giriş B) Deney  
C) Özet D) Bulgular

11. Aşağıdakilerden hangisi münazara başkanının görevlerinden değildir?

- A) Ortaya çıkan düşünceleri değerlendirip kazanan tarafı belirlemek  
B) Konunun nitelik ve sınırlarının dinleyiciler tarafından anlaşılmasını sağlamak  
C) Tartışmanın konu dışına çıkmasını, gereksiz yere uzamasını önlemek  
D) Konuşanların düşüncelerini rahatlıkla söyleyebilecekleri bir ortam sağlamak

12. Aşağıdakilerden hangisi bilimsel yazılarda kullanılan "bibliyografya" teriminin karşılığıdır?

- A) Dokümantasyon  
B) Kaynakça  
C) İndeks  
D) Dipnot

13. Aşağıdakilerden hangisi sözlü anlatım türlerinden biri değildir?

- A) Forum B) Makale  
C) Münazara D) Konferans

14. "Toplum mu sanatkârı yetiştirir, sanatkâr mı toplumu yetiştirir?" konusu aşağıdaki toplantı türlerinin hangisiyle tartışılmalıdır?

- A) Sempozyum  
B) Konferans  
C) Açık oturum  
D) Münazara

15. Aşağıdaki toplantı türlerinin hangisinde konuşulanların yayımlanması zorunluluğu vardır?

- A) Panel B) Forum  
C) Münazara D) Sempozyum

16. Açık oturumla ilgili aşağıda verilen bilgilerden hangisi yanlıştır?

- A) Oturum sonunda bildiri yayımlanmak zorundadır.  
B) Geniş bir salonda izleyiciler önünde yapılır.  
C) Ortaya atılan düşüncelerin, verilen örneklerin bilimsel geçerliliği olmalıdır.  
D) Konuşmacılar konuyla ilgisi ve bilgisi olan, konuşma yeteneği gelişmiş kişilerden seçilir.

17. Bir sorun üzerinde bütün ilgililerin görüşlerini öğrenmek için yapılan toplantı türü aşağıdakilerden hangisidir?

- A) Forum B) Sempozyum  
C) Panel D) Münazara

18. Aşağıdakilerden hangisi sempozyum başkanının görevlerinden değildir?

- A) Başlangıçta konuyla ilgili kısa bir giriş yapmalı.  
B) Konuşmacıların salonda hazır bulunmalarını sağlamalı.  
C) Sempozyum bildirisinin basım ve dağıtımını yapmalı.  
D) Konuşmalar bittikten sonra konuyu dinleyicilerin tartışmasına açmalı.

19. Gazetelerin ilk sayfasının birinci sütununda yayımlanan, günlük olaylarla ilgili görüş belirten yazılara verilen ad aşağıdakilerden hangisidir?

- A) Deneme B) Biyografi  
C) Eleştiri D) Başmakale

20. Aşağıdaki tartışma türlerinden hangisi sınıf ortamında uygulanabilir?

- A) Panel B) Sempozyum  
C) Münazara D) Forum

(624) SEÇ. TÜRK ED. – 4

1. Aşağıda gazel ile ilgili verilen bilgilerden hangisi yanlıştır?

- A) İlk beytine matla, son beytine makta denir.  
B) En güzel beytine beytül-gazel denir.  
C) "aa bb cc dd ... " biçiminde uyaklanır.  
D) Düz gazel ve musammat gazel olmak üzere biçim bakımından iki çeşittir.

2. Aşağıdakilerden hangisi Dede Korkut Hikâyelerinin bir özelliği değildir?

- A) Destan-hikâye özelliği taşıyan metinlerden oluşmaktadır.  
B) Dede Korkut adlı bilge kişinin ve çocuklarının hayatı anlatılmaktadır.  
C) Eserin içinde, her biri ayrı bir bütün oluşturan 12 hikâye yer almaktadır.  
D) Eserin geniş adı "Oğuz Boyu'nun Dili ile Dede Korkut Kitabı"dır.

3. "Kutadgu Bilig" adlı eser için aşağıdaki yargılardan hangisi yanlıştır?

- A) Yusuf Has Hacıp tarafından yazılmıştır.  
B) 6645 beyitten oluşan alegorik bir eserdir.  
C) Hakaniye (Doğu) Türkçesiyle kaleme alınmıştır.  
D) Aşk ve tabiat sevgisi konularını işlemektedir.

4. "Cömertlikte ve yardım etmekte akarsu gibi ol." cümlesinin sahibi, yaşam felsefesi ile bütün dünyaya sevgiyi, hoşgörüyü, iyiliği ve güzelliği yansıtmış ve yol göstermiş bir Türk İslam mutasavvıfı ve şairidir. "Bilginler Sultanı" olarak anılan bu şairin yazdığı "Mesnevî", tasavvufi, felsefi ve ahlaki bir eserdir.

Bu parçada tanıtılan mutasavvıf aşağıdakilerden hangisidir?

- A) Şeyyad Hamza  
B) Mevlâna Celaleddin Rumî  
C) Yusuf Has Hacıp  
D) Sünbülzâde Vehbi

## 1. OTURUM

5. Aşağıdakilerden hangisi söyleyişi belli olmayan bir şiir türüdür?

- A) Koşma B) İlahi  
C) Semai D) Mânî

6. Aşağıdakilerden hangisi dinî tasavvufî halk şiirinin özelliklerinden biri değildir?

- A) Anlatım içten ve coşkuludur.  
B) Tabiat ve kahramanlık konuları işlenmiştir.  
C) Genellikle yarım uyak kullanılmıştır.  
D) Ağırıklı olarak hece ölçüsü kullanılmıştır.

7. Âşık edebiyatı ile ilgili olarak aşağıdakilerden hangisi söylenmez?

- A) Nazım birimi beyittir.  
B) Şiirlerde daha çok yarım uyak tercih edilir.  
C) En çok kullanılan nazım şekilleri koşma ve semaidir.  
D) Aşk, ayrılık, güzellik, ölüm, tabiat, kahramanlık gibi konular işlenmiştir

8. Aşağıdakilerden hangisi kasidede şairin kendisini övdüğü bölümdür?

- A) Tegazzül B) Medhiye  
C) Fahriye D) Dua

9. Aşağıda meddahlıkla ilgili verilen bilgilerden hangisi yanlıştır?

- A) Özel bir kıyafeti, sahne düzeni bulunmaz.  
B) Bir oyuncunun tek başına hazırlayıp sunduğu seyirlik oyundur.  
C) Erkek dinleyicilerin toplandığı yerlerde sergilenir.  
D) Hayalî veya hayalbaz denilen bir kişi tarafından seslendirilerek oynatılır.

10. Aşağıdakilerden hangisi "Danışmendname" için söylenmez?

- A) Başkahramanı Battal Gazi'dir.  
B) Destansı bir halk romanıdır.  
C) Manzum kısımları aruzla yazılmıştır.  
D) Türk ve İslam kültürünün birleştiği bir eserdir.

11. Aşağıdakilerden hangisi divan şiiri nazım şekillerinden biridir?

- A) İlahi B) Mesnevi  
C) Semai D) Türkü

12. "Cihannüma" adlı eserin yazarı aşağıdakilerden hangisidir?

- A) Kâtip Çelebi  
B) Yunus Emre  
C) Mütercim Âsım  
D) Ahmet Resmî Efendi

13. XVII. yüzyılın hattat, nakkaş, musikişinaslarından olan ve asıl ününü dünyaca tanınmış "Seyahatname" adlı eseriyle kazanan yazar aşağıdakilerden hangisidir?

- A) Evliya Çelebi  
B) Âşık Çelebi  
C) Kâtip Çelebi  
D) Yirmi Sekiz Mehmet Çelebi

14. Aşağıdakilerden hangisi XVII. yüzyılda yazdığı kaside ve hicivleriyle öne çıkmış bir şairdir?

- A) Şeyh Galip B) Fuzulî  
C) Bâkî D) Nefî

15. Aşağıdakilerden hangisi ağıt mânilerine örnektir?

- A) Bura Yemendir  
Gülü çemendir  
Giden gelmiyor  
Acep nedendir  
B) Su gelir deste gider  
Ayrılar dosta gider  
Gurbet yansın yıkılsın  
Sağ gelen hasta gider  
C) Almaya al olaydım  
Selviye dal olaydım  
Ela gözlü yârimin  
Atına nal olaydım  
D) Mendilin uçları  
Çıkamam yokuşları  
Yâre selam götürün  
Yedi dağın kuşları

16. Aşağıdaki eserlerden hangisi Yunus Emre'ye aittir?

- A) Hayriyye  
B) Terkib-i Bent  
C) Risaletü'n-Nushiye  
D) Atabetü'l-Hakayık

17. Âşık-ı sâdıklarun hâlin  
diğergûn eyledün  
Gûşe-i fûrkatde her birini  
mecnun eyledün  
Çünkü Yahya bendeni pür-derd  
dü mahzûn eyledün  
Var heman şimden girü sağ ol  
begum var ol begüm  
Taşlıcalı Yahya Bey  
Bu dörtlüğün uyak düzeni aşağıdakilerden hangisidir?

- A) aaaa B) abba  
C) aaab D) aabb

18. Bir zengin hast(a) olsa çok  
hekim gelir  
Avrupa'dan yâresine em gelir  
Bir fakirin ölüsüne kim gelir  
Hoca bile elin vurmaz parasız.  
Âşık Ali İzzet

Bu dörtlüğün konusuna göre türü aşağıdakilerden hangisidir?

- A) Ağıt  
B) Taşlama  
C) Güzelleme  
D) Koçaklama

## 1. OTURUM

19. Halk şiirinde tekdüzeliği önlemek ve şiirde belli bir ses uyumu oluşturmak amacıyla dizelerin belli parçalara ayrıldığı yerlere verilen ad aşağıdakilerden hangisidir?

- A) Hece ölçüsü
- B) Durak
- C) Kalıp
- D) Vezin

20. Aşağıdakilerden hangisi tasavvuf düşünürlerine verilen addır?

- A) Tevhid
- B) Devriye
- C) Münacaat
- D) Mutasavvıf

(627) SEÇ. TÜRK ED. – 7

1. Türkçe yazılan ilk gezi kitabı aşağıdakilerden hangisine aittir?

- A) Kâtip Çelebi
- B) Evliya Çelebi
- C) Seydi Ali Reis
- D) Yirmi Sekiz Çelebi Mehmet Efendi

2. Gazete ve dergilerin yaygınlaşması bu türün gelişmesini sağlamıştır. Servet-i Fünûn, Genç Kalemler, Dergâh, Türk Yurdu gibi dergiler bu konuda etkili olmuştur. Bu yıllarda bu türün usta yazarları arasında Ahmet Rasim, Refik Halit Karay ve Ahmet Haşim akla ilk gelenlerdir.

Bu parçada anlatılan edebî tür aşağıdakilerden hangisidir?

- A) Fıkra
- B) Roman
- C) Tiyatro
- D) Deneme

3. Aşağıdakilerden hangisi yurt içi gezi yazılarından biridir?

- A) Bir Demet Pasifik (Nadir Paksoy)
- B) Seyir Defteri (Nedim Gürsel)
- C) Gide Gide (Fikret Otyam)
- D) Hind (Falih Rıfki Atay)

4. Aşağıdaki eser-yazar eşleştirmelerinden hangisi yanlıştır?

- A) Hürrem Sultan - Orhan Asena
- B) Bekçi Murtaza - Halide Edip Adivar
- C) Bir Adam Yaratmak - Necip Fazıl Kısakürek
- D) Mahmud ile Yezida - Murathan Mungan

5. Cumhuriyet döneminde mizah edebiyatı, güldürürken düşündürmeyi de amaçlayan bir mizah anlayışıyla yeni boyutlara ulaştı.

Aşağıdakilerden hangisi bu alanda eser veren yazarlardan biri değildir?

- A) Aziz Nesin
- B) Rıfat Ilgaz
- C) Muzaffer İzgü
- D) Feyzi Halıcı

6. • Şiirsel söyleyişte konuşma dilinin yalınlığından faydalandılar.  
• Varlık dergisinde ölçüsüz, uykusuz, şairanelikten uzak yeni bir şiir akımı başlattılar.  
• Yaşama sevincini, günlük hayatı, küçük adamın dertlerini konu edindiler.

Bu özellikler aşağıdaki edebî toplulukların hangisiyle ilgilidir?

- A) Fecriaticiler
- B) Garipçiler
- C) Yedi Meşaleciler
- D) II. Yeni Grubu

7. Hecenin beş şairinden biri olan şair Anadolu edebiyatının en öne çıkan adıdır. Millî ve yerli sanat anlayışına göre kaleme aldığı "Han Duvarları" en tanınmış şiirlerindedir.

Bu parçada bahsedilen şair aşağıdakilerden hangisidir?

- A) Enis Behiç Koryürek
- B) Turgut Uyar
- C) Faruk Nafiz Çamlıbel
- D) Orhan Seyfi Orhon

8. Deneme türünün öncüsü ve temsilcisi olan yazar, aşağıdakilerden hangisidir?

- A) Montaigne
- B) Albert Camus
- C) T.S. Eliot
- D) Bacon

9. Aşağıdakilerden hangisi "İkinci Yeni" şairlerinden biridir?

- A) İlhan Berk
- B) Orhan Veli Kanık
- C) Ziya Osman Saba
- D) Ahmet Muhip Dıranas

10. "Halikarnas Balıkçısı" takma adıyla hikâye ve romanlar yazmış olan sanatçı aşağıdakilerden hangisidir?

- A) Tarık Buğra
- B) Haldun Taner
- C) Sait Faik Abasıyanık
- D) Cevat Şakir Kabaağaçlı

11. Reşat Nuri Güntekin'in gezi yazısı türündeki eseri aşağıdakilerden hangisidir?

- A) Anadolu Notları
- B) Bir Bulut Kaynıyor
- C) Pasifik Kıyılarında
- D) Frankfurt Seyahatnamesi

12. Yazarın herhangi bir konu üzerinde kesin hükümlere varmadan, kendi kişisel görüş ve düşüncelerini anlattığı yazı türü aşağıdakilerden hangisidir?

- A) Roman
- B) Hikâye
- C) Deneme
- D) Makale

13. Aşağıdakilerden hangisi tiyatro türünde eser vermemiştir?

- A) Yahya Kemal Beyatlı
- B) Cevat Fehmi Başkut
- C) Necati Cumalı
- D) Orhan Asena

14. Aşağıdakilerden hangisi "Beş Hececiler" şiir akımının şairlerinden biri değildir?

- A) Yusuf Ziya Ortaç
- B) Orhan Seyfi Orhon
- C) Enis Behiç Koryürek
- D) Necip Fazıl Kısakürek

## 1. OTURUM

15. “Zaman, rüya, hülya, sonsuzluk” gibi konuları şiirlerinde işlemiş olan “Gezinti” isimli şiirin de şairi aşağıdakilerden hangisidir?

- A) Ömer Bedrettin Uşaklı
- B) Ahmet Muhip Dıranas
- C) Ahmet Hamdi Tanpınar
- D) Yahya Kemal Beyatlı

16. Aşağıdakilerden hangisi gezi yazısının özelliklerinden biri değildir?

- A) Yalın bir dil, renkli ve sürükleyici bir anlatım kullanılmalıdır.
- B) Karşılaştırmalara yer vermekten kaçınılmalıdır.
- C) Gezilen yerler yüzeysel değil, özüne inilerek anlatılmalıdır.
- D) Hayal ürünü anlatımlara yer verilmemelidir.

17. Aşağıdakilerden hangisi bilim, sanat, kültür ve başka konularda bilgi vermek, bir düşünceyi ortaya koymak ya da savunmak amacıyla yazılan, belgelerden, incelemelerden yararlanılan dergi ve gazete yazılarına verilen isimdir?

- A) Tiyatro
- B) Makale
- C) Öykü
- D) Hatıra

18. “Anadolucu” ya da “memleketçi” edebiyat 1930'lara değin egemenliğini sürdürdü. Bu şiire ilk tepki, çıkardıkları ortak kitabın adından ötürü edebiyat tarihine - - - - adıyla geçen topluluktan geldi. Bu topluluğun şairlerinden bazıları Ziya Osman Saba, Yaşar Nabi Nayır ve Sabri Esat Siyavuşgil'dir.

**Bu paragrafta boş bırakılan yere aşağıdakilerden hangisi getirilmelidir?**

- A) Garipçiler
- B) İkinci Yeni
- C) Beş Hececiler
- D) Yedi Meşaleciler

19. Cumhuriyet Dönemi'nin büyük hikâye ve romancılarından olan “Ankara” romanının yazarı aşağıdakilerden hangisidir?

- A) Aziz Nesin
- B) Mahmut Makal
- C) Cevat Şakir Kabaağaçlı
- D) Yakup Kadri Karaosmanoğlu

20. “Sisler Bulvarı” adlı şiir kitabı aşağıdaki sanatçıların hangisi tarafından yazılmıştır?

- A) Oktay Rifat
- B) Turgut Uyar
- C) Attila İlhan
- D) Necati Cumalı

### (628) SEÇ. TÜRK ED. – 8

1. Türk hikâye ve romanında toplumcu gerçekçiliğin öncülerindedir. Sanatın tek amacının insanları daha iyiye, daha doğruya, daha güzele yükseltmek olduğunu belirten yazarın önemli romanlarından biri Kuyucaklı Yusuf'tur.

**Bu parçada bahsedilen yazar, aşağıdakilerden hangisidir?**

- A) Aziz Nesin
- B) Fakir Baykurt
- C) Sabahattin Ali
- D) Necati Cumalı

2. Sağlığında kitap çıkarmayan şair, klasik divan şiirimizi Batı şiirindeki bütünlük anlayışıyla ele aldı. Genel olarak Osmanlı medeniyet ve kültürüne bağlı kaldı. Şiirlerinin bir kısmı “Kendi Gök Kubbe” adıyla ölümünden sonra yayımlandı.

**Bu parçada sözü edilen şair aşağıdakilerden hangisidir?**

- A) Ahmet Haşim
- B) Cahit Sıtkı Tarancı
- C) Yahya Kemal Beyatlı
- D) Ahmet Hamdi Tanpınar

3. “Tutunamayanlar” adlı eseriyle postmodern romanın yolunu açan yazarımız aşağıdakilerden hangisidir?

- A) Oğuz Atay
- B) Bilge Karasu
- C) Lâtife Tekin
- D) İnci Aral

4. KAR

Kardır yağın üstümüze geceden  
Yağmurla karanlık bir düşünceden,  
Ormanın uğultusuyla birlikte  
Ve dört nala dümdüz bir mavilikte  
Kar yağıyor üstümüze inceden.

Bu şiir, Anadolucu şiir dışında günün sorunlarına değil, insan duygularının sonsuzluğuna yönelen şairlerin en önemlilerinden birine aittir.

**“Olvido”, “Fahriye Abla” gibi şiirleriyle de tanınmış bu şair, aşağıdakilerden hangisidir?**

- A) Behçet Kemal Çağlar
- B) Ahmet Muhip Dıranas
- C) Halide Nusret Zorlutuna
- D) Orhan Veli Kanık

5. - - - - , Garipçiler'in tersine birbirinden çok farklı olan şairlerin tek tek arayış ve sezgileriyle dağınık uçlar vermiş bir şiir akımıdır. İlhan Berk, Cemal Süreya, Turgut Uyar bu akımın şairlerindedir.

**Bu parçada boş bırakılan yere aşağıdakilerden hangisi gelmelidir?**

- A) Toplumcular
- B) Genç Kalemler
- C) İkinci Yeni
- D) Beş Hececiler

6. Kimi insan otların  
Kimi insan balıkların çeşidini bilir  
Ben ayrılıkları...  
Kimi insan ezbere sayar yıldızların  
adını  
Ben hasretlerin...

dizeleriyle Türk şiirine edebî gelenekten kopuşu getirdi. Kuvayi Milliye Destanı, Memleketimden İnsan Manzaraları gibi eserlerinde hayata, topluma daha geniş ve gerçekçi bir açıdan bakar.

**Bu parçada bahsedilen şair aşağıdakilerden hangisidir?**

- A) İlhan Berk
- B) Nazım Hikmet
- C) Attilâ İlhan
- D) Sezai Karakoç

## 1. OTURUM

7. Hikâyelerinde net bir şekilde giriş, gelişme ve sonuç bölümlerinin bulunmadığı, şiirsel bir anlatımın ağır bastığı bir tarzı sürdürmüştür. Hikâyelerindeki kahramanların çoğu kendisidir. "Bir İlkbahar Hikâyesi, Mahalle Kahvesi, Havada Bulut, Semaver" en tanınmış hikâyelerindendir.

**Bu parçada tanıtılan Cumhuriyet Dönemi hikâyecimiz aşağıdakilerden hangisidir?**

- A) Memduh Şevket Esendal
- B) Reşat Nuri Güntekin
- C) Refik Halit Karay
- D) Sait Faik Abasıyanık

8. Türk romanında modern anlatım teknikleri, bireyin iç dünyasına yönelik konuları ile dikkat çeken romancılardan biridir. "Aylak Adam" ve "Anayurt Oteli" adlı romanlarında, okuru, bilinçaltının gizemli ve karışık dünyasında dolaştırır.

**Bu parçada bahsedilen yazar aşağıdakilerden hangisidir?**

- A) Tezer Özlü
- B) Yusuf Atılgan
- C) Necip Fazıl Kısakürek
- D) Fakir Baykurt

9. Gün olur, alır başımı giderim  
Denizden yeni çıkmış ağların  
Kokusunda  
Şu ada senin, bu ada benim,  
Yelkovan kuşlarının peşi sıra.  
Orhan Veli

**Bu dizelerden yola çıkılarak Orhan Veli'nin şiiriyle ilgili aşağıdakilerden hangisi söylenebilir?**

- A) Süslü, ağır bir dil kullandığı
- B) Nükteli bir söyleyişi yeğlediği
- C) Toplumsal sorunlara değindiği
- D) Ölçü ve uyağa önem vermediği

10. Aşağıda verilen bilgilerden hangisi **yanlıştır**?

- A) Anadolu ve Anadolu insanının ele alındığı ilk hikâye ve roman örnekleri Cumhuriyet Dönemi'nde verilmiştir.
- B) Köylüyü anlatan ilk roman Nabizade Nazım'ın "Karabibik" adlı eseridir.
- C) Refik Halit Karay "Memleket Hikâyeleri" adlı eseriyle köylüleri ve yaşamlarını konu almıştır.
- D) Memduh Şevket Esendal, Sait Faik Abasıyanık Cumhuriyet Dönemi önemli hikâyecilerdendir.

11. "İkinci Yeni"ye has dil ve söylem özelliklerini kullanarak İslam dinini esas alan konulara yöneldi. Şiirinde sağlam bir metafizik zemin oluşturdu.

**"Çocukluğumuz" isimli şiirin de şairi olan bu sanatçı aşağıdakilerin hangisidir?**

- A) Ece Ayhan
- B) İlhan Berk
- C) Sezai Karakoç
- D) Ülkü Tamer

12. - - - - divan şiirinden etkiler taşıyan şiirini resim sanatıyla özdeşleştirerek zenginleştirdi. İnsanın sıkıntılarını, bunalımlarını dile getirirken şiirlerinde mitolojiye yer verdi. "Kuşatma, Yer Çekimli Karanfil" eserlerinden bazılarıdır.

**Bu parçada boş bırakılan yere aşağıdakilerden hangisi getirilmelidir?**

- A) Ece Ayhan
- B) Sezai Karakoç
- C) Cemal Süreyya
- D) Edip Cansever

13. Aşağıdaki eserlerden hangisinin türü diğerlerinden farklıdır?

- A) Uçurumda Açan (Cemal Süreyya)
- B) Kendi Gök Kubbemiz (Y.Kemal Beyatlı)
- C) Yeni Hayat (Orhan Pamuk)
- D) Divan (Turgut Uyar)

14. Aşağıdakilerden hangisi Garip akımına tepki olarak ortaya çıkan şiir hareketidir?

- A) İkinci Yeni
- B) Yedi Meşaleciler
- C) Beş Hececiler
- D) Toplumcu Şiir

15. Yedi yaşında geçirdiği hastalık nedeniyle gözlerini yitirdi. Yer yer yerel sözcüklerle süslediği sade bir Türkçe ile şiirlerini, geleneksel âşık şiiri nazım şekillerinden koşma, semai, destan şeklinde söyledi.

**Bu parçada tanıtılan halk ozanı, aşağıdakilerden hangisidir?**

- A) Ali İzzet
- B) Âşık Talibî Coşkun
- C) Murat Çobanoğlu
- D) Âşık Veysel

16. Aşağıdaki sanatçı-eser eşleştirmelerinden hangisi **yanlıştır**?

- A) Reşat Nuri Güntekin - Yeşil Gece
- B) Halide Edip Adivar - Sinekli Bakkal
- C) Memduh Şevket Esendal - Gurbet Hikâyeleri
- D) Orhan Pamuk - Kara Kitap

17. Aşağıdakilerden hangisi halk ozanı **değildir**?

- A) İsmet Özel
- B) Karacaoğlan
- C) Şeref Taşlıova
- D) Âşık Zülali

## 1. OTURUM

### (711) İSLAM TARİHİ – 1

18. Serbest nazım için aşağıdaki-lerden hangisi söylenebilir?

- A) Mutlaka kafiye kullanılır.
- B) Herhangi bir ölçüsü yoktur.
- C) Dizelerdeki hece sayıları eşittir.
- D) Nazım birimi dördlüktür.

19. Toplum hayatını anlatmak, mahallî bir edebiyat yapmak sanatının en önemli özelliğidir. İslami duyarlılığıyla millî kaygılarını birleştirmiştir. "Safahat" adlı şiir kitabıyla tanınır.

**Bu paragrafta anlatılan şair aşağıdakilerden hangisidir?**

- A) Şavkar Altınel
- B) Süreyya Berfe
- C) Mehmet Akif Ersoy
- D) Melih Cevdet Anday

20. Bir şiirde bazı sözcükler diğerlerine oranla daha baskın okunur. Buna - - - - denir. - - - - ise sesin alçalıp yükselmesidir. Böylece sesin rengi değişir.

**Bu parçada boş bırakılan yerlere aşağıdakilerden hangileri getirilmelidir?**

- A) ölçü / Uyak
- B) vurgu / Tonlama
- C) açıklık / Kapalılık
- D) aliterasyon / Ahenk

1. Günümüz İslam tarihi çalış- malarında özellikle aşağıdaki yöntemlerden hangisi kullanılmaktadır?

- A) Öğretici
- B) Rivayetçi
- C) Hikâyeci
- D) Araştırmacı

2. Müslüman bilginlerden bazıları, sadece bölgelerin ne zaman ve nasıl fethedildiklerini anlattıkları kitaplar yazmışlardır.

**Aşağıdaki eserlerden hangisini yapılan bu açıklamaya örnek olarak gösterebiliriz?**

- A) Belâzuri'nin "Fütuhu'l – Büldan"ını
- B) İbn S'ad'ın "Kitabü't – Tabakat"ını
- C) İbn Hallikan'ın "Vefayatu'l – Ayan"ını
- D) İmam Ebu Yusuf'un "Kitabü'l – Harac"ını

3. Tarihi bir caminin giriş kapısının üzerinde, o caminin ne zaman, kim tarafından ve kime yaptırıldığını ifade eden yazılı metne ne ad verilir?

- A) Tuğra
- B) Berat
- C) Kitabe
- D) Şeriye

4. Aşağıdakilerden hangisi, İslam öncesinde olayları tarihlendirme için kullanılan ifadelerden biri değildir?

- A) Fil Olayı
- B) Hicret Yılı
- C) Zelzele Yılı
- D) Tufan Olayı

5. Aşağıdaki takvimlerden hangisinde yılın her ayı, 30 gün olarak kabul edilmiştir?

- A) İran Takvimi
- B) Hicri Takvim
- C) Rumi Takvim
- D) Miladi Takvim

6. İslamiyet öncesi Arap Yarımadası'nda yaşayanlar için aşağıdakilerden hangisi söylenemez?

- A) Yaygın olarak Putperestlik inancına bağlıdırlar.
- B) Sosyal hayatta kadınlar mirastan hak alamazlar.
- C) Yerleşik Arapların uğraşları tarım ve ticarettir.
- D) Güçlü bir merkezî yönetim altında yaşamaktadırlar.

7. İslamiyet'in doğduğu yıllarda Arap Yarımadası'na komşu olan iki büyük devlet, aşağıdakilerin hangisinde birlikte verilmiştir?

- A) Bizans - Sasani
- B) Sasani - Memlûk
- C) Osmanlı – Akkoyunlu
- D) Akkoyunlu – Karakoyunlu

8. Aşağıdakilerden hangisi, Hanif inancına bağlılığıyla ünlenmiş kişilerden biri değildir?

- A) Kuss bin Said
- B) Varaka bin Nevfel
- C) Tuleyha bin Huveylit
- D) Ubeydullah bin Cahş

9. Hayber'in fethi Müslümanlara, aşağıdakilerden hangisini kazandırmıştır?

- A) Arap Yarımadası bütünüyle Müslümanların eline geçti.
- B) Yahudi – Müslüman yakınlaşması sağlandı.
- C) Yahudiler arasında İslam hızla yayıldı.
- D) Şam ticaret yolu güvenlik altına alındı.

10. I. Gassan kralına  
II. İskenderiye valisine  
III. İran hükümdarına  
IV. Bizans imparatoruna

**Hz. Muhammed, yukarıdakilerden hangilerine İslam'ı tebliğ eden mektuplar göndermiştir?**

- A) Yalnız IV
- B) I, II ve IV
- C) II, III ve IV
- D) I, II, III ve IV



## 1. OTURUM

11. • Kureyş'in Adiy kolundandır.  
• Babasının adı Hattap, annesinin Hanteme'dir.  
• Mekke Dönemi'nin 6. yılında Müslüman olmuştur.  
• Sayıları çok az olan okur – yazar Mekkelilerden biridir.  
• İslam olmadan önce kabilesinin yetkisinde bulunan dış ilişkiler görevini yürütmüştür.

**Hakkında bilgi verilen halife, aşağıdakilerden hangisidir?**

- A) Hz. Ali B) Hz. Ömer  
C) Hz. Osman D) Hz. Ebu Bekir

12. **Hz. Peygamber'e iman eden ilk çocuk sahabe, aşağıdakilerden hangisidir?**

- A) Hz. Ali B) Hz. Hasan  
C) Hz. Hüseyin D) Hz. Muaviye

13. **Hz. Ebu Bekir'in oğlu Muhammed, miladi 656 yılında aşağıdaki yerlerden hangisine vali olarak atanmıştır?**

- A) Şam B) Basra  
C) Mısır D) Tunus

14. **Aşağıdaki Emevi halifelerinden hangisinin ölümüyle Emevi Devleti'nin sona erdiği kabul edilir?**

- A) III. Yezit B) II. Velit  
C) I. Hişam D) II. Mervan

15. **Aşağıdakilerden hangisi Emeviler Dönemi'nde meydana gelen olaylardan değildir?**

- A) İlk Arap parasının bastırılması  
B) İstanbul'un Müslümanlarca kuşatılması  
C) Halifeliğin saltanat hâline dönüştürülmesi  
D) Türklerin Müslüman olmalarının sağlanması

16. **Aşağıdaki devletlerden hangisinin döneminde Zındıklara karşı mücadele etmek için "Divanu'z-Zenadika" adlı teşkilat kurulmuştur?**

- A) Abbasiler  
B) Emeviler  
C) Harzemşahlar  
D) Endülüs Emevileri

17. **Abbasi halifelerinden Mansur, Mehdi, Harun Reşit, Me'mun, Mu'tasım ve Vasık dönemleri için, aşağıdakilerden hangisi söylenebilir?**

- A) Devlet parçalanmıştır.  
B) Fetih hareketlerinin durduğu bir dönemdir.  
C) Dönemleri, Abbasilerin "Altın Çağı" kabul edilir.  
D) Savaş meydanlarında şehit olmuş Abbasi halifeleridir.

18. **İslam tarihinde "10 Muharrem" gününün anlam ve önemi, aşağıdakilerden hangisidir?**

- A) Mekke fethedilmiştir.  
B) Hz. Hüseyin şehit edilmiştir.  
C) Hz. Muhammed Mekke'den Medine'ye hicret etmiştir.  
D) Puvatya Savaşı'nda Müslümanlar Franklara yenilmiştir.

19. **Aşağıdakilerden hangisi, Abbasiler Dönemi'nde yaşamış ünlü tarihçilerden biri değildir?**

- A) Koçi Bey B) Taberi  
C) Belazuri D) İbnü'l - Esir

20. **Aşağıdakilerin hangisinde, Abbasilerin "avasım" illerini kurmalarının amacı verilmiştir?**

- A) Ülkeyi bayındır hâle getirmek  
B) Ülke sınırlarını genişletmek  
C) Bilim ve sanatı geliştirmek  
D) Sınır güvenliğini sağlamak

### (811) KELAM – 1

1. **Aşağıdaki alimlerden hangisi birinci devre kelim alimlerinden biridir?**

- A) Bakıllânî  
B) Hasan el-Basrî  
C) Ebu'l-Muîn en-Neseî  
D) İmam Haremeyn el-Cüveynî

2. **Kelam alimleri, âlemi oluşturan bütün varlıklara, sonradan yaratılmış anlamında hangi kavramı kullanmışlardır?**

- A) Hâdis B) İmkân  
C) Vacip D) Âraz

3. Kur'an'daki "Allah'ın eli" ve "Allah'ın yüzü" gibi ifadeler, bazı İslam alimleri tarafından herhangi bir yoruma tabi tutulmadan anlaşılmış, bazı alimler de bu ifadelerdeki "Allah'ın kudreti" ve "Allah'ın zâtı" şeklinde yorumlamayı tercih etmişlerdir.

**Bu metin, İslam düşüncesindeki yorum farklılıklarının ortaya çıkış sebeplerinden hangisine örnek oluşturur?**

- A) Sosyo-kültürel sebepler  
B) Dinî metinlerden kaynaklanan sebepler  
C) İnsanın yapısından kaynaklanan sebepler  
D) Siyasî farklılıklarının neden olduğu sebepler

4. **Aşağıdaki kelim ekollerinden hangisi, büyük günah işleyenlerin fasık mümin olduğunu, yani dinden çıkmadığını, böyle kişilerin ahiretteki durumunun ise Allah'a bırakılması gerektiğini savunur?**

- A) Mutezile B) Şia  
C) Haricilik D) Mürcie

## 1. OTURUM

5. Aşağıdaki görüşlerden hangisi Eş'ariliğin görüşleri arasında yer almaz?

- A) Allah'ın zâtı ile birlikte ezeli sıfatları vardır.
- B) Kur'an Allah'ın kelimadır ve mahluk değildir.
- C) İnsanların fiilleri Allah tarafından yaratılmıştır.
- D) Büyük günah işleyen kimse iman ve küfür arasında bir yerdedir.

6. Allah'ın hiç bir şeye ihtiyaç duymaksızın bizzat var olmasıdır. Ondan başka her şey var olmak için ve varlığını devam ettirebilmek için başka bir varlığa ihtiyaç duyar. Yalnız Allah'ın varlığı kendindedir.

**Bu bilgiler Allah'ın zatî sıfatlarından hangisini açıklamaktadır?**

- A) Beka
- B) Kıdem
- C) Kıyam bi Nefsihi
- D) Muhalafetün li'l-Havadis

7. Aşağıdakilerden hangisi Ehl-i Sünnet'in temel görüşlerinden değildir?

- A) Müminler ahirette Allah'ı görebilecektir.
- B) Büyük günah işleyen dinden çıkar.
- C) İman dil ile ikrar, kalp ile tasdikdir.
- D) İnsanlar özgür irade sahibidir ve yaptıklarından sorumludur

8. Evren, her şeyiyle sonradan meydana gelmiştir. Sonradan meydana gelen herşey yaratılmıştır. O hâlde evren de yaratılmıştır. Bundan hareketle bir var edicinin bulunması aklî bir zorunluluktur. Nitekim Yüce Allah "Acaba onlar herhangi bir yaratıcı olmadan mı yaratıldılar?" (Tur suresi, 35. ayet) buyurarak hiçbir şeyin kendiliğinden meydana gelmediğini vurgulamıştır.

**Yukarıda anlatılan Kalamî delil hangisidir?**

- A) Gaye ve Nizam
- B) Temanu'
- C) İmkân
- D) Hudûs

9. Alevi-Bektaşî kültüründe "âl-i âba"nın velayetini tanımak, onları sevmek, onlardan medet ve şefaet beklemek ve onları dost bilmek" olarak ifade edilen terim aşağıdakilerden hangisidir?

- A) Tevella
- B) Teberra
- C) Musahip
- D) Cem

10. Aşağıdakilerden hangisi Şia'nın kollarındandır?

- A) Eş'ariyye
- B) İmamiyye
- C) İbadiyye
- D) Mürcie

11. Aşağıdakilerden hangisi Mutezile'nin beş temel esasından biri değildir?

- A) İman, artmaz ve eksilmez.
- B) Allah zatında, sıfatlarında ve fiillerinde tektir.
- C) Büyük günah işleyen, ne mümin ne de kafirdir.
- D) İyiliği emretmek, kötülükten sakındırmak farzdır.

12. "Yaratıcının varlığını bilmek ve nasları anlamak için akla başvurulması gerekir. Allah'a iman etmek, naklen değil aklen vaciptir. Bununla birlikte akıl, bütün dini gerçekleri idrak etmede yeterli değildir."

**Bu görüş aşağıdaki kelim ekollerinden hangisine aittir?**

- A) Eş'arilik
- B) Mutezile
- C) Cehmîyye
- D) Maturidilik

13. "Allah, çirkin ve kötü şeyleri yaratmaz. İnsan özgür ve sorumlu bir varlık olarak kendi fiillerinin yaratıcısıdır."

**Yukarıdaki görüş hangi itikadi mezhebe aittir?**

- A) Mürcie
- B) Hariciyye
- C) Mutezile
- D) Eş'ariyye

14. "Onunla birlikte hiçbir ilah yoktur. Aksi takdirde her ilah kendi yarattığını sevk ve idare eder ve bir gün mutlaka onlardan biri diğerine üstün gelirdi."  
(Mü'minin suresi, 91. ayet)

**Bu ayet Allah'ın varlığı ve birliğinin delillerinden hangisine temel oluşturur?**

- A) Hudus
- B) İmkan
- C) Kemal
- D) Temanu'

15. "Yoksa onların sırlarını ve gizli konuşmalarını duymadığımızı mı sanıyorlar? Hayır öyle değil! Yanlarındaki elçilerimiz yazmaktadırlar."  
(Zuhruf suresi, 80. ayet)

**Ayette bahsedilen 'elçiler' aşağıdakilerden hangisidir?**

- A) Münker-Nekir
- B) Peygamberler
- C) Kırâmen Katibin
- D) Cebrail- Mikail

16. Mutezile'nin "İyilik yapana mükâfat, kötülük yapana da ceza vermek Allah için vaciptir." şeklindeki özetlenen temel ilkesi aşağıdaki kavramlardan hangisi ile ifade edilmiştir?

- A) Tevhid
- B) Adalet
- C) Va'd ve va'id
- D) el-Menzile beyne'l-menziletayn

17. Aşağıdakilerden hangisi Kalam ilminin konularından biri değildir?

- A) Allah'ın zâtı ve sıfatları
- B) İbadetlerle ilgili hususlar
- C) Peygamberlikle ilgili konular
- D) Varlıkların yaratılışı ve sonu ile ilgili konular

18. "Te'vilatü'l-Kur'an" ve "Kitabü't-Tevhid" isimli eserler aşağıdaki hangi alime aittir?

- A) İmam Eş'ari
- B) İmam Nesefi
- C) İmam Maturidi
- D) İmam Cafer-i Sadık

## 1. OTURUM

19. Maturidi ve Eş'ariler arasında aşağıdaki konulardan hangisinde görüş ayrılığı yoktur?

- A) İmanın artıp eksilmesi
- B) Kur'an'ın mahluk olup olmadığı
- C) İnsanda bağımsız bir iradenin olup olmadığı
- D) Allah'ın varlığının akıl ile bilinip bilinemeyeceği

20. Aşağıdakilerden hangisi Maturidiliği benimseyen alimlerdenidir?

- A) Nesefi
- B) Bakıllani
- C) Cüveyni
- D) İbn Küllab

(931) SİYER – 1

1. Her şeyin yaratıcısının Allah olduğuna inanmasına rağmen putları O'na eş tutan kimselere ne denir?

- A) Kafir
- B) Müşrik
- C) Mü'min
- D) Münafık

2. Aşağıdakilerden hangisi Hz. Muhammed (sav.)'in doğduğu ortamın özelliklerindedir?

- A) Edebiyat ve güzel söz söyleme sanatı gelişmişti.
- B) Kadınlar ile kız çocuklarına değer verilirdi.
- C) Haniflik en yaygın inanç biçimiydi.
- D) Okuma-yazma oranı yüksekti.

3. Aşağıdakilerden hangisi Peygamberimizin kızlarından biri değildir?

- A) Ümmü Gülsüm
- B) Zeynep
- C) Rukiye
- D) Aişe

4. Arap toplumunda göçebe hayatı yaşayan ve hayvancılıkla uğraşanlara ne ad verilirdi?

- A) Kıptî
- B) Bedevî
- C) Hadarî
- D) Mağribî

5. Aşağıdakilerden hangisi peygamberimizin anne tarafından dedesidir?

- A) Vehb b. Abdümenaf
- B) Abdullah b. Cüdan
- C) Varaka b. Nevfel
- D) Sa'd b Bekir

6. İslam'a davetin gizli dönemi hangi yıllar arasındadır?

- A) 610-614
- B) 613-615
- C) 610-613
- D) 613-616

7. 615 yılında Habeşistan'a ilk hicret eden kabilede aşağıdaki sahabilardan hangisi yer almamıştır?

- A) Hz. Osman
- B) Hz. Ebu Bekir
- C) Zübeyr b. Avvam
- D) Abdurrahman b. Avf

8. İslam öncesi Arap toplumunda kabile meclisinin toplandığı yer aşağıdakilerden hangisidir?

- A) Darü'n Nedve
- B) Darü'l Erkam
- C) Zü'l Mecaz
- D) Hilf

9. Müslümanların hicret etmesini engelleyemeyen müşrikler Hz. Peygamber hakkında aşağıdaki kararlardan hangisini almışlardır?

- A) Hapsetmek
- B) Sürgün etmek
- C) Suikast tertip etmek
- D) Gitmesine izin vermek

10. "Ey örtüsüne bürünmüş yatan (Muhammed)! Kalk ve uyar. Rabbini yücelt. Giydiklerini temiz tut. Kötü şeyleri terk et."  
(Müddessir suresi, 1-5. ayetler)

Bu ayetlerde peygamberimize verilen görev aşağıdakilerden hangisidir?

- A) Tefsir (Yorumlama)
- B) Tebyin (Açıklama)
- C) Tebşir (Müjdeleme)
- D) Nübüvvet (Peygamberlik)

11. İslam öncesi Arap toplumundaki sosyal sınıflar aşağıdaki seçeneklerin hangisinde doğru verilmiştir?

- A) Hristiyan-Yahudi-Mecusi
- B) Putperest-Bedevi-Mevali
- C) Mecusi-Hadarî-Köleler
- D) Hür-Mevali-Köle

12. Aşağıdakilerden hangisi ilk Müslümanlar arasında sayılmaz?

- A) Hz. Ali
- B) Hz. Hatice
- C) Halid b. Velid
- D) Zeyd b. Harise

13. İslam'ın ilk mescidi nerede inşa edilmiştir?

- A) Mekke
- B) Kuba
- C) Taif
- D) Şam

14. Peygamberimizin eşi Hz. Hatice ile amcası Ebu Talip'in vefat ettiği yıla ne isim verilir?

- A) Ölüm yılı
- B) Ayrılık yılı
- C) Hüzün yılı
- D) Hicret yılı

15. Aşağıdaki olaylardan hangisi Hicret'ten sonra gerçekleşmiştir?

- A) Akabe biatları
- B) Hudeybiye antlaşması
- C) Hz. Ömer'in Müslüman olması
- D) Hz. Muhammed'in Taif yolculuğu

16. Aşağıdakilerden hangisi Kâbe'nin isimlerinden biri değildir?

- A) Beytül Hikme
- B) Beytül Haram
- C) Beytül Mamur
- D) Beytül Atik

17. Hz. Muhammed (sav.) hangi çocuğunun ismiyle künyelenmiştir?

- A) Abdullah
- B) İbrahim
- C) Fatma
- D) Kasım

## 1. OTURUM

18. Hz. Muhamed (sav.) ile ilgili olarak aşağıda verilen bilgilerden hangisi yanlıştır?

- A) Kâbe hakemliği yapmıştır.
- B) Kız çocuklarına değer vermiştir.
- C) Ebu Cehil ile ticari ortaklığı vardır.
- D) Peygamberlik öncesi de güvenilir kişi olarak anılmaktadır.

19. Aşağıdakilerden hangisi II. Akabe Biatı'nda Müslümanların söz verdiği konulardan biri değildir?

- A) İyiliği emredip kötülüğe engel olmak
- B) Bollukta ve darlıkta mali yardım yapmak
- C) Ailelerini korudukları gibi Hz. Muhammed (sav.)'i korumak
- D) Ticari ilişkilerini faiz üzerine temellendirmek

20. Hz. Muhammed (sav.)'in peygamberlik öncesi hayatıyla ilgili aşağıdakilerden hangisi söylenemez?

- A) Yaşadığı toplumun ahlakını benimsemişti.
- B) Ticari hayatı başarı ve güven vericiydi.
- C) İnsan haklarına saygılı birisiydi.
- D) Yetimleri ve fakirleri gözetirdi.

### (974) GİRİŞİMCİLİK – 1

1. İhtiyaçlar hiyerarşisine göre insanın fizyolojik ihtiyaçlarından sonra ortaya çıkan ihtiyacı aşağıdakilerden hangisidir?

- A) Güvenlik ihtiyacı
- B) Saygı ihtiyacı
- C) Başarma ihtiyacı
- D) Sevgi ve ait olma ihtiyacı

2. Müteşebbis ile ilgili verilen bilgilerden hangisi yanlıştır?

- A) Kâr amacı güder.
- B) Örgütsel birimler oluşturur.
- C) Mal ve hizmet üretimi yapar.
- D) Doğabilecek risklerden uzak durur.

3. Üretim sırasında doğrudan kullanılmayan mallara ne denir?

- A) Yardımcı araçlar
- B) İşletme gereçleri
- C) Yatırım donatım malları
- D) Üretim gereçleri ve parçaları

4. Aşağıdakilerden hangisi müteşebbisliğin en önemli özelliklerinden birisidir?

- A) Uyumluluk
- B) Kararlılık
- C) İş bitiricilik
- D) İnisiyatif kullanma

5. Aşağıdakilerden hangisi müteşebbislerin teminat altına alınmış haklarından biri değildir?

- A) İsteddiği kârı elde etme hakkı
- B) Sözleşme yapma hakkı
- C) Meslek seçme hakkı
- D) Mülkiyet hakkı

6. Üretim yönetimi dönüşüm sürecinde aşağıdakilerden hangisi çıktı olarak kabul edilir?

- A) Emek
- B) Sermaye
- C) Girişimci
- D) Hizmetler

7. Aşağıdakilerden hangisi talebin özelliklerinden biri değildir?

- A) Satın alma gücü
- B) Piyasanın olması
- C) Satın alma isteğinin var olması
- D) Geniş bir zaman dönemini kapsaması

8. Etkili denetimin ilkelerine aykırı bir açıklama hangi seçenekte verilmiştir?

- A) Denetleme gizli olmalıdır.
- B) Denetleme esnek olmalıdır.
- C) Denetleme şekli işletmeye uygun olmalıdır.
- D) Denetlenme standartları önceden belirlenmelidir.

9. Bir işletmenin kuruluş sürecinde, projenin niteliğine göre kuruluş ve konum yeri durumu, fabrika binası, üretim teçhizatı, güvenlik araştırması, doğal afet ve çevre kirliliği gibi konularda yapılan araştırma türü aşağıdakilerden hangisidir?

- A) Ekonomik araştırma
- B) Teknik araştırma
- C) Mali araştırma
- D) Yasal araştırma

10. Satış sürecinin sunuş aşamasıyla ilgili verilen bilgilerden hangisi yanlıştır?

- A) Dikkat çekme
- B) İlginin isteğe dönüşmesi
- C) İsteğin arza dönüşmesi
- D) Satışın gerçekleştirilmesi

11. Mal ve hizmet üretiminde insanların sarf ettikleri bedensel ve zihinsel çabalara ne denir?

- A) Emek
- B) Rant
- C) Ücret
- D) Fayda

12. Aşağıdakilerden hangisi üretim faktörlerinden değildir?

- A) Emek
- B) Mal
- C) Tabiat
- D) Sermaye

13. Aşağıdakilerden hangisi müteşebbislerde olması gereken özelliklerden değildir?

- A) Kararlılık
- B) Tutarlılık
- C) Riski göze alabilme
- D) Sorumluluktan kaçınma

14. İşletme kurma sürecinde devlet teşvikleri ve alınması gereken izinler, hangi araştırmaları kapsar?

- A) Ekonomik araştırmaları
- B) Teknik araştırmaları
- C) Yasal araştırmaları
- D) Mali araştırmaları

## 1. OTURUM

15. Girişimcilerin üretim elemanlarını bir araya getirip kâr amacıyla mal ve hizmet üretmek için oluşturdukları hukuki, mali ve örgütsel yapılara ne ad verilir?

- A) Girişim      B) Fabrika  
C) Dükkan      D) Mağaza

16. Aşağıdakilerden hangisi işletmenin özel amaçlarındandır?

- A) Kâr sağlamak  
B) Topluma hizmet etmek  
C) İşletmenin yaşamını devam ettirmek  
D) Mal ve hizmet kalitesini sürekli arttırmak

17. Aşağıdakilerden hangisi işletmelerin temel işlevlerinden biridir?

- A) Koordinasyon  
B) Pazarlama  
C) Planlama  
D) Denetim

18. Aşağıdakilerden hangisi girişimcilerin ekonomik hayattaki önemini vurgular?

- A) Topluma hizmet ederek sosyal yarar sağlama  
B) Pazardaki şartları günün koşullarına uyarlaması  
C) İnsan yaşamını kolaylaştıran yenilikler çıkarması  
D) İnsan ihtiyaçlarını karşılayacak mal ve hizmet üretmesi

19. Başka mal ya da hizmet üretiminde kullanılan mallara üretim malları denir.

**Bu tanıma göre aşağıdakilerden hangisi üretim mallarına örnek olur?**

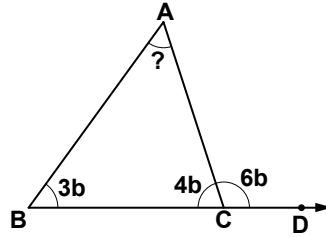
- A) Torna tezgâhı  
B) Cep telefonu  
C) Makarna  
D) Elbise

20. İşletme kurma sürecinde, ön proje çalışmalarından kârlılık ve verimlilik sağlanacağı sonucu çıktığında hangi aşamaya geçilir?

- A) Ön araştırmalara  
B) Deneme üretimine  
C) Kesin projeye  
D) Ön projeye

### (999) MATEMATİK – 2

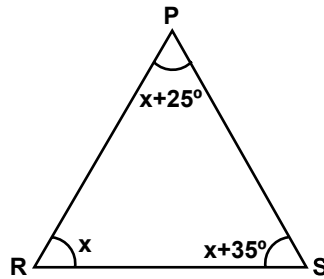
1.



Şekilde B, C, D noktaları doğrusal, ABC üçgen,  $m(\widehat{ABC}) = 3b$ ,  $m(\widehat{BCA}) = 4b$  ve  $m(\widehat{ACD}) = 6b$  olduğuna göre,  $m(\widehat{BAC})$  kaç derecedir?

- A) 54    B) 60    C) 64    D) 72

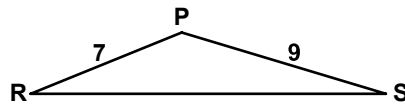
2.



Şekilde PRS üçgeninde  $m(\widehat{PRS}) = x$ ,  $m(\widehat{RSP}) = x + 35^\circ$  ve  $m(\widehat{SPR}) = x + 25^\circ$  olduğuna göre, x kaç derecedir?

- A) 25    B) 35    C) 40    D) 50

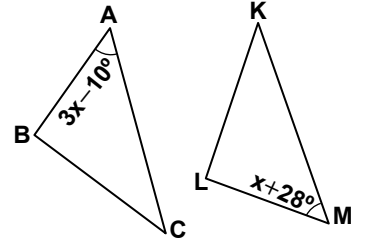
3.



Şekildeki PRS üçgeninde  $|PR| = 7$  cm ve  $|PS| = 9$  cm olduğuna göre,  $|RS|$ 'nin santimetre cinsinden alabileceği en büyük tam sayı değeri kaçtır?

- A) 14    B) 15    C) 16    D) 17

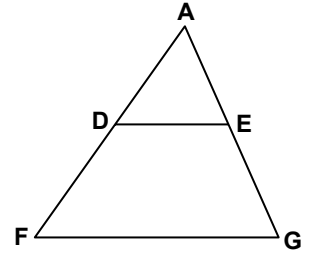
4.



Şekildeki ABC ve KLM üçgenleri için  $\widehat{ABC} \cong \widehat{MLK}$ ,  $m(\widehat{BAC}) = 3x - 10^\circ$  ve  $m(\widehat{LMK}) = x + 28^\circ$  olduğuna göre, x kaç derecedir?

- A) 9    B) 15    C) 19    D) 23

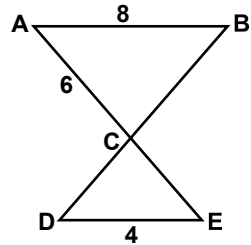
5.



Şekildeki AFG üçgeninde,  $[DE] \parallel [FG]$ ,  $\frac{|AD|}{|DF|} = \frac{2}{3}$  ve  $|DE| = 10$  cm olduğuna göre,  $|FG|$  kaç santimetredir?

- A) 18    B) 21    C) 24    D) 25

6.

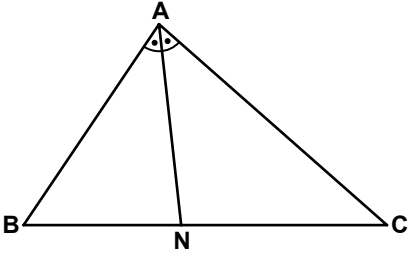


Şekilde  $[AB] \parallel [DE]$  ve  $[AE] \cap [BD] = \{C\}$ 'dir.  $|AB| = 8$  cm,  $|DE| = 4$  cm ve  $|AC| = 6$  cm olduğuna göre,  $|CE|$  kaç santimetredir?

- A) 3    B) 4    C) 5    D) 6

## 1. OTURUM

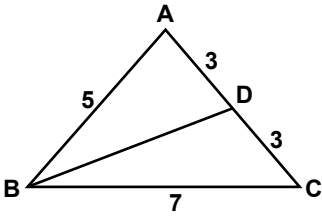
7.



ABC üçgeninde  $[AN]$ ,  $\widehat{BAC}$ 'nın açıortayıdır.  $|AB| = 4$  cm,  $|AC| = 5$  cm ve  $|BC| = 6$  cm olduğuna göre,  $|NC|$  kaç santimetredir?

- A)  $\frac{10}{3}$  B)  $\frac{8}{3}$  C) 3 D) 2

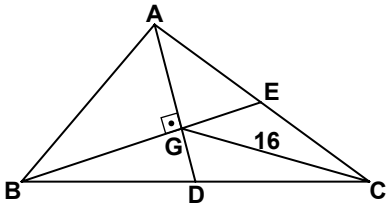
8.



ABC üçgeninde  $|AB| = 5$  cm,  $|BC| = 7$  cm ve  $|AD| = |DC| = 3$  cm olduğuna göre,  $|BD|$  kaç santimetredir?

- A) 6 B)  $3\sqrt{7}$   
C)  $2\sqrt{7}$  D) 4

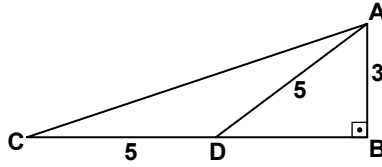
9.



Şekildeki ABC üçgeninde,  $[AD]$ ,  $[BE]$  kenarortay ve  $[AG] \perp [BG]$ 'tir.  $|GC| = 16$  cm olduğuna göre,  $|AB|$  kaç santimetredir?

- A) 8 B) 12 C) 14 D) 16

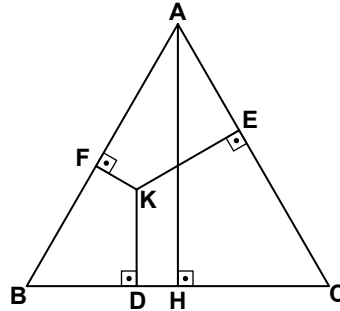
10.



Şekildeki ABC üçgeninde,  $[AB] \perp [BC]$ 'tir.  $|AB| = 3$  cm,  $|AD| = 5$  cm ve  $|CD| = 5$  cm olduğuna göre,  $|AC|$  kaç santimetredir?

- A)  $3\sqrt{10}$  B)  $5\sqrt{2}$   
C)  $3\sqrt{5}$  D)  $2\sqrt{5}$

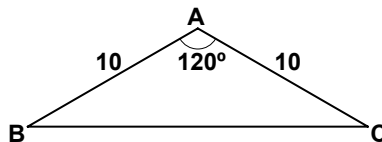
11.



Şekildeki ABC üçgeni eşkenar üçgendir.  $[AH] \perp [BC]$ ,  $[KF] \perp [AB]$ ,  $[KE] \perp [AC]$  ve  $[KD] \perp [BC]$ 'tir.  $|KF| = 2$  cm,  $|KE| = 4$  cm ve  $|KD| = 4$  cm olduğuna göre, ABC üçgeninin çevresi kaç santimetredir?

- A) 20 B)  $20\sqrt{3}$   
C) 30 D)  $30\sqrt{3}$

12.



Şekildeki ABC üçgeninde,  $|AB| = |AC| = 10$  cm ve  $m(\widehat{BAC}) = 120^\circ$  olduğuna göre,  $|BC|$  kaç santimetredir?

- A)  $10\sqrt{2}$  B)  $10\sqrt{3}$   
C) 12 D) 15

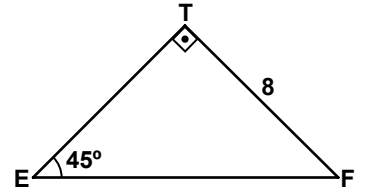
13.  $\sin 190^\circ$ ,  $\cos 280^\circ$ ,  $\tan 135^\circ$ ,  $\cot 75^\circ$  trigonometrik değerlerinin işaretleri sırasıyla aşağıdakilerden hangisinde verilmiştir?

- A) -, +, +, - B) +, -, -, +  
C) +, -, +, - D) -, +, -, +

14.  $0^\circ < \alpha < 90^\circ$  olmak üzere,  $\sin \alpha = \frac{2}{\sqrt{13}}$  ise  $\tan \alpha$  kaçtır?

- A)  $\frac{\sqrt{13}}{2}$  B)  $\frac{2}{3}$   
C)  $\frac{3}{2}$  D)  $\frac{\sqrt{13}}{3}$

15.



Şekildeki EFT üçgeninde  $[ET] \perp [TF]$ ,  $m(\widehat{TEF}) = 45^\circ$  ve  $|TF| = 8$  cm olduğuna göre,  $|EF|$  kaç santimetredir?

- A) 4 B)  $4\sqrt{2}$   
C) 8 D)  $8\sqrt{2}$

16. Kenar uzunlukları 5 cm, 7 cm ve 8 cm olan üçgenin alanı kaç santimetrekaredir?

- A)  $7\sqrt{5}$  B)  $8\sqrt{3}$   
C)  $10\sqrt{3}$  D)  $10\sqrt{5}$

## 1. OTURUM

17.  $K(-8)$  ve  $L(4)$  noktaları veriliyor. Buna göre,  $|\overline{KL}|$  kaç birimdir?

- A) 12 B) 10 C) 8 D) 4

18. Bir zar art arda 2 defa atılıyor. Zarın birinci atışta tek sayı ve ikinci atışta çift sayı gelme olasılığı nedir?

- A) 1 B)  $\frac{1}{2}$  C)  $\frac{1}{3}$  D)  $\frac{1}{4}$

19. 3 kişilik bir grubun yaş ortalaması 28'dir. Bu gruba yaşlarının ortalaması 18 olan 2 kişi katılırsa grubun yaş ortalaması kaç olur?

- A) 28 B) 26 C) 24 D) 22

20. 1,1,2,3,4,4,5,7,7,7,8 sayı dizisinin medyanı (ortancası) kaçtır?

- A)  $\frac{49}{11}$  B) 4 C) 5 D)  $\frac{9}{2}$

TEST BİTTİ.  
CEVAPLARINIZI KONTROL EDİNİZ.

### SINAV SÜRESİNCE UYULACAK KURALLAR

1. Adaylar, sınav kurallarına ve salon görevlilerinin tüm uyarılarına uymak zorundadırlar. Kurallara ve uyarılara uymayan adayların sınavları geçersiz sayılacaktır.
2. Sınav başladıktan sonra adayların salon görevlileri ve birbirleri ile konuşmaları, kalem, silgi vb. şeyleri istemeleri yasaktır.
3. Adaylar sınav süresince, sınav giriş belgesi ile birlikte kimlik belgelerinden birini (nüfus cüzdanı, pasaport veya sürücü belgesi) masalarının üzerinde bulundurmamak zorundadırlar.

### SALON GÖREVLİLERİNCE SINAV BAŞLAMADAN ÖNCE ADAYLARA YAPILACAK SON UYARI

- Soracağınız bir şey var mı? Varsa şimdi sorunuz.
- Sınav başladıktan sonra sorularınıza cevap verilmeyecektir.
- Başlama zilini bekleyiniz.
- Hepinize başarılar dileriz.

(Salon başkanı başlama ve bitiş saatini tahtaya yazacaktır.)

Bu kitapçığın her hakkı saklıdır. Hangi amaçla olursa olsun, kitapçığın tamamının veya bir kısmının Millî Eğitim Bakanlığı Ölçme, Değerlendirme ve Sınav Hizmetleri Genel Müdürlüğünün yazılı izni olmadan kopya edilmesi, fotoğraflarının çekilmesi, bilgisayar ortamına alınması, herhangi bir yolla çoğaltılması, yayımlanması veya başka bir amaçla kullanılması yasaktır. Bu yasağa uymayanlar, doğabilecek cezai sorumluluğu ve kitapçığın hazırlanmasındaki mali külfeti peşinen kabullenmiş sayılır.



8 AĞUSTOS 2015 TARİHİNDE YAPILAN AÇIKÖĞRETİM LİSESİ / MESLEKİ AÇIKÖĞRETİM LİSESİ  
2014-2015 ÖĞRETİM YILI 2. DÖNEM SINAVI 1. OTURUM T KİTAPÇIĞI CEVAP ANAHTARI

DİN KÜL. AHL. BİL. – 1	DİN KÜL. AHL. BİL. – 5	SEÇMELİ FELSEFE – 1	TARİH – 6
1. A	1. C	1. D	1. B
2. D	2. B	2. B	2. B
3. A	3. A	3. A	3. A
4. C	4. D	4. B	4. C
5. B	5. B	5. C	5. D
6. C	6. C	6. A	6. A
7. A	7. A	7. D	7. B
8. D	8. B	8. C	8. C
9. B	9. D	9. C	9. D
10. D	10. C	10. B	10. D
11. C	11. B	11. D	11. A
12. C	12. A	12. A	12. C
13. A	13. D	13. C	13. A
14. D	14. B	14. A	14. A
15. B	15. C	15. C	15. C
16. B	16. A	16. B	16. B
17. C	17. C	17. D	17. D
18. A	18. D	18. C	18. C
19. B	19. A	19. A	19. D
20. D	20. D	20. B	20. C

DİN KÜL. AHL. BİL. – 2	FELSEFE – 1	TARİH – 2	COĞRAFYA – 1
1. C	1. B	1. B	1. D
2. D	2. A	2. B	2. C
3. A	3. D	3. A	3. D
4. C	4. A	4. D	4. B
5. B	5. C	5. B	5. C
6. D	6. C	6. A	6. A
7. A	7. D	7. C	7. C
8. D	8. D	8. D	8. B
9. B	9. B	9. C	9. D
10. A	10. C	10. D	10. C
11. C	11. D	11. A	11. D
12. B	12. A	12. A	12. C
13. D	13. B	13. C	13. A
14. C	14. D	14. B	14. B
15. A	15. B	15. D	15. A
16. B	16. A	16. C	16. A
17. D	17. C	17. B	17. C
18. A	18. B	18. A	18. D
19. C	19. A	19. B	19. B
20. B	20. C	20. C	20. B

8 AĞUSTOS 2015 TARİHİNDE YAPILAN AÇIKÖĞRETİM LİSESİ / MESLEKİ AÇIKÖĞRETİM LİSESİ  
2014-2015 ÖĞRETİM YILI 2. DÖNEM SINAVI 1. OTURUM T KİTAPÇIĞI CEVAP ANAHTARI

COĞRAFYA – 5	İNGİLİZCE – 1	FRANSIZCA – 1	ALMANCA – 5
1. B	1. B	1. C	1. C
2. B	2. A	2. A	2. A
3. A	3. D	3. D	3. D
4. D	4. C	4. B	4. A
5. C	5. B	5. D	5. D
6. C	6. C	6. A	6. C
7. B	7. A	7. C	7. A
8. A	8. D	8. B	8. D
9. D	9. C	9. B	9. A
10. D	10. B	10. D	10. B
11. A	11. C	11. C	11. B
12. D	12. A	12. D	12. D
13. A	13. A	13. A	13. C
14. D	14. D	14. C	14. B
15. C	15. C	15. B	15. A
16. C	16. B	16. D	16. D
17. B	17. A	17. B	17. C
18. D	18. B	18. A	18. B
19. C	19. A	19. D	19. B
20. A	20. D	20. C	20. C

COĞRAFYA – 7	ALMANCA – 1	İNGİLİZCE – 5	FRANSIZCA – 5
1. A	1. A	1. C	1. C
2. D	2. B	2. A	2. D
3. B	3. D	3. D	3. A
4. A	4. A	4. A	4. D
5. D	5. C	5. C	5. B
6. D	6. B	6. B	6. A
7. C	7. B	7. B	7. D
8. A	8. C	8. D	8. C
9. B	9. D	9. D	9. C
10. A	10. B	10. B	10. B
11. C	11. A	11. A	11. D
12. D	12. C	12. C	12. A
13. A	13. D	13. A	13. B
14. B	14. A	14. D	14. A
15. C	15. C	15. B	15. C
16. A	16. A	16. C	16. D
17. C	17. D	17. B	17. A
18. B	18. A	18. D	18. D
19. D	19. B	19. A	19. B
20. C	20. C	20. C	20. B

8 AĞUSTOS 2015 TARİHİNDE YAPILAN AÇIKÖĞRETİM LİSESİ / MESLEKİ AÇIKÖĞRETİM LİSESİ  
2014-2015 ÖĞRETİM YILI 2. DÖNEM SINAVI 1. OTURUM T KİTAPÇIĞI CEVAP ANAHTARI

DİL ve ANLATIM – 1

1. A
2. C
3. D
4. B
5. C
6. D
7. A
8. D
9. C
10. A
11. B
12. C
13. A
14. B
15. C
16. B
17. C
18. D
19. A
20. B

DİL ve ANLATIM – 7

1. D
2. A
3. B
4. A
5. D
6. A
7. D
8. B
9. A
10. B
11. B
12. C
13. D
14. A
15. D
16. C
17. B
18. C
19. C
20. D

TÜRK EDEBİYATI – 4

1. C
2. C
3. A
4. B
5. B
6. B
7. D
8. A
9. C
10. A
11. B
12. C
13. D
14. D
15. A
16. A
17. D
18. B
19. C
20. B

TÜRK EDEBİYATI – 8

1. C
2. B
3. B
4. C
5. A
6. C
7. D
8. A
9. C
10. A
11. D
12. D
13. D
14. B
15. B
16. A
17. D
18. A
19. C
20. B

DİL ve ANLATIM – 2

1. B
2. C
3. A
4. D
5. A
6. D
7. D
8. C
9. C
10. A
11. A
12. A
13. D
14. B
15. C
16. D
17. B
18. B
19. C
20. A

DİL ve ANLATIM – 8

1. A
2. D
3. C
4. D
5. B
6. A
7. D
8. A
9. D
10. A
11. C
12. B
13. A
14. D
15. C
16. B
17. D
18. C
19. A
20. B

TÜRK EDEBİYATI – 7

1. D
2. B
3. B
4. D
5. B
6. C
7. A
8. B
9. D
10. B
11. A
12. D
13. C
14. C
15. A
16. D
17. A
18. B
19. A
20. C

FİZİK – 1

1. C
2. A
3. C
4. D
5. D
6. A
7. B
8. D
9. B
10. A
11. B
12. C
13. A
14. D
15. A
16. D
17. B
18. B
19. C
20. B

8 AĞUSTOS 2015 TARİHİNDE YAPILAN AÇIKÖĞRETİM LİSESİ / MESLEKİ AÇIKÖĞRETİM LİSESİ  
2014-2015 ÖĞRETİM YILI 2. DÖNEM SINAVI 1. OTURUM T KİTAPÇIĞI CEVAP ANAHTARI

FİZİK – 5

1. C
2. C
3. A
4. D
5. D
6. B
7. D
8. A
9. B
10. C
11. D
12. A
13. A
14. B
15. A
16. C
17. B
18. A
19. C
20. D

KİMYA – 6

1. C
2. A
3. D
4. B
5. A
6. C
7. B
8. D
9. B
10. A
11. D
12. C
13. B
14. D
15. A
16. A
17. B
18. C
19. C
20. D

BİYOLOJİ – 3

1. D
2. A
3. B
4. C
5. D
6. A
7. D
8. A
9. B
10. A
11. C
12. B
13. D
14. C
15. A
16. C
17. B
18. B
19. D
20. B

EKONOMİ. – 1

1. D
2. B
3. D
4. D
5. B
6. A
7. D
8. C
9. B
10. D
11. C
12. D
13. C
14. A
15. B
16. A
17. C
18. D
19. D
20. C

KİMYA – 2

1. C
2. A
3. B
4. D
5. A
6. A
7. B
8. D
9. C
10. B
11. C
12. A
13. D
14. A
15. B
16. C
17. C
18. B
19. D
20. D

BİYOLOJİ – 1

1. C
2. C
3. D
4. A
5. B
6. C
7. A
8. D
9. B
10. B
11. D
12. A
13. C
14. A
15. A
16. D
17. D
18. C
19. D
20. B

BİYOLOJİ – 6

1. B
2. D
3. C
4. A
5. D
6. B
7. A
8. A
9. D
10. B
11. D
12. C
13. B
14. C
15. D
16. B
17. A
18. B
19. C
20. A

TEMEL DİNİ BİL.– 1

1. D
2. A
3. B
4. D
5. C
6. C
7. B
8. A
9. D
10. B
11. C
12. A
13. C
14. A
15. C
16. D
17. A
18. D
19. A
20. B

8 AĞUSTOS 2015 TARİHİNDE YAPILAN AÇIKÖĞRETİM LİSESİ / MESLEKİ AÇIKÖĞRETİM LİSESİ  
2014-2015 ÖĞRETİM YILI 2. DÖNEM SINAVI 1. OTURUM T KİTAPÇIĞI CEVAP ANAHTARI

İŞLETME – 2

1. A
2. B
3. A
4. D
5. D
6. B
7. D
8. C
9. B
10. C
11. C
12. D
13. C
14. A
15. D
16. A
17. B
18. B
19. C
20. C

SAĞLIK BİLGİSİ – 2

1. B
2. A
3. C
4. B
5. C
6. D
7. A
8. B
9. D
10. B
11. C
12. D
13. A
14. C
15. C
16. B
17. D
18. A
19. C
20. D

GEOMETRİ – 5

1. C
2. C
3. B
4. D
5. B
6. A
7. B
8. D
9. D
10. A
11. D
12. C
13. B
14. A
15. A
16. C
17. A
18. D
19. B
20. C

ALMANCA – 8

1. C
2. A
3. D
4. C
5. B
6. C
7. D
8. A
9. A
10. B
11. C
12. A
13. D
14. D
15. C
16. B
17. C
18. D
19. B
20. A

MANTIK – 2

1. D
2. C
3. A
4. C
5. B
6. A
7. B
8. B
9. D
10. A
11. D
12. A
13. B
14. D
15. B
16. C
17. D
18. C
19. A
20. D

TRAF. VE İLK YARD. – 1

1. D
2. A
3. C
4. B
5. A
6. C
7. D
8. D
9. A
10. B
11. C
12. D
13. A
14. D
15. B
16. C
17. D
18. C
19. A
20. B

İNGİLİZCE – 8

1. B
2. A
3. D
4. C
5. B
6. A
7. C
8. D
9. D
10. A
11. D
12. C
13. D
14. A
15. B
16. C
17. A
18. B
19. D
20. B

FRANSIZCA – 8

1. B
2. D
3. A
4. D
5. D
6. B
7. A
8. B
9. B
10. C
11. D
12. A
13. C
14. B
15. A
16. D
17. A
18. C
19. A
20. C

8 AĞUSTOS 2015 TARİHİNDE YAPILAN AÇIKÖĞRETİM LİSESİ / MESLEKİ AÇIKÖĞRETİM LİSESİ  
2014-2015 ÖĞRETİM YILI 2. DÖNEM SINAVI 1. OTURUM T KİTAPÇIĞI CEVAP ANAHTARI

FIKİH – 1

1. B
2. C
3. D
4. A
5. D
6. A
7. C
8. B
9. B
10. D
11. C
12. C
13. A
14. B
15. A
16. D
17. A
18. C
19. D
20. B

SEÇ. Y. DİL ALM. – 5

1. A
2. C
3. D
4. B
5. D
6. D
7. A
8. D
9. C
10. B
11. C
12. B
13. A
14. C
15. D
16. C
17. D
18. A
19. C
20. B

SEÇ. Y. DİL İNG. – 8

1. B
2. D
3. C
4. A
5. C
6. A
7. B
8. D
9. C
10. D
11. A
12. A
13. B
14. C
15. D
16. C
17. A
18. B
19. D
20. C

SEÇ. Y. DİL FRAN. – 8

1. B
2. C
3. D
4. A
5. A
6. C
7. D
8. B
9. C
10. B
11. A
12. D
13. B
14. A
15. C
16. B
17. C
18. B
19. A
20. D

SEÇ. Y. DİL İNG. – 5

1. D
2. A
3. C
4. A
5. D
6. B
7. C
8. B
9. A
10. D
11. B
12. C
13. C
14. A
15. D
16. B
17. C
18. B
19. D
20. A

SEÇ. Y. DİL FRAN. – 5

1. C
2. D
3. A
4. B
5. D
6. C
7. B
8. A
9. C
10. B
11. A
12. D
13. C
14. A
15. D
16. B
17. A
18. D
19. D
20. C

SEÇ. Y. DİL ALM. – 8

1. B
2. A
3. A
4. C
5. A
6. D
7. A
8. B
9. B
10. A
11. D
12. B
13. D
14. D
15. B
16. C
17. D
18. C
19. A
20. C

HZ. MUHAMMED'İN HAY. – 2

1. D
2. C
3. A
4. D
5. A
6. B
7. D
8. C
9. A
10. B
11. D
12. B
13. D
14. A
15. A
16. C
17. B
18. D
19. A
20. C

8 AĞUSTOS 2015 TARİHİNDE YAPILAN AÇIKÖĞRETİM LİSESİ / MESLEKİ AÇIKÖĞRETİM LİSESİ  
2014-2015 ÖĞRETİM YILI 2. DÖNEM SINAVI 1. OTURUM T KİTAPÇIĞI CEVAP ANAHTARI

MATEMATİK – 6

1. C
2. D
3. A
4. D
5. B
6. B
7. D
8. B
9. A
10. A
11. C
12. A
13. D
14. B
15. D
16. C
17. B
18. C
19. A
20. C

SEÇ. DİL ve ANLA. – 7

1. C
2. C
3. B
4. D
5. D
6. C
7. B
8. A
9. A
10. D
11. B
12. D
13. C
14. B
15. B
16. D
17. B
18. A
19. C
20. A

SEÇ. TÜRK EDEB. – 4

1. C
2. B
3. D
4. B
5. D
6. B
7. A
8. C
9. D
10. A
11. B
12. A
13. A
14. D
15. A
16. C
17. C
18. B
19. B
20. D

SEÇ. TÜRK EDEB. – 8

1. C
2. C
3. A
4. B
5. C
6. B
7. D
8. B
9. D
10. A
11. C
12. D
13. C
14. A
15. D
16. C
17. A
18. B
19. C
20. B

KARŞ. DİN. TARİHİ – 1

1. C
2. C
3. A
4. D
5. B
6. C
7. B
8. A
9. C
10. D
11. C
12. D
13. A
14. D
15. B
16. C
17. A
18. D
19. B
20. A

SEÇ. DİL ve ANLA. – 8

1. B
2. C
3. A
4. C
5. B
6. B
7. B
8. C
9. B
10. D
11. A
12. B
13. B
14. D
15. D
16. A
17. A
18. D
19. D
20. C

SEÇ. TÜRK EDEB. – 7

1. C
2. A
3. C
4. B
5. D
6. B
7. C
8. A
9. A
10. D
11. A
12. C
13. A
14. D
15. C
16. B
17. B
18. D
19. D
20. C

İSLAM TARİHİ – 1

1. D
2. A
3. C
4. B
5. A
6. D
7. A
8. C
9. D
10. D
11. B
12. A
13. C
14. D
15. D
16. A
17. C
18. B
19. A
20. D

8 AĞUSTOS 2015 TARİHİNDE YAPILAN AÇIKÖĞRETİM LİSESİ / MESLEKİ AÇIKÖĞRETİM LİSESİ  
2014-2015 ÖĞRETİM YILI 2. DÖNEM SINAVI 1. OTURUM T KİTAPÇIĞI CEVAP ANAHTARI

KELAM – 1

1. B
2. A
3. B
4. D
5. D
6. C
7. B
8. D
9. A
10. B
11. A
12. D
13. C
14. D
15. C
16. C
17. B
18. C
19. B
20. A

GİRİŞİMCİLİK – 1

1. A
2. D
3. B
4. D
5. A
6. D
7. D
8. A
9. B
10. C
11. A
12. B
13. D
14. C
15. A
16. A
17. B
18. D
19. A
20. C

SİYER – 1

1. B
2. A
3. D
4. B
5. A
6. C
7. B
8. A
9. C
10. D
11. D
12. C
13. B
14. C
15. B
16. A
17. D
18. C
19. D
20. A

MATEMATİK – 2

1. A
2. C
3. B
4. C
5. D
6. A
7. A
8. C
9. D
10. A
11. B
12. B
13. D
14. B
15. D
16. C
17. A
18. D
19. C
20. B