



T.C.
MILLÎ EĞİTİM BAKANLIĞI
ÖLÇME, DEĞERLENDİRME VE
SINAV HİZMETLERİ GENEL MÜDÜRLÜĞÜ

AÇIK ÖĞRETİM LİSESİ / MESLEKİ AÇIK ÖĞRETİM LİSESİ /
AÇIK ÖĞRETİM İMAM HATİP LİSESİ
2023 - 2024 ÖĞRETİM YILI
3. DÖNEM SINAVI

1.
OTURUM

20 TEMMUZ 2024 Saat: 10.00

DERS KODU VE ADI	SAYFA	DERS KODU VE ADI	SAYFA	DERS KODU VE ADI	SAYFA
(111) DİN KÜL. AHL. BİL. - 1	3	(244) FRANSIZCA - 5	17	(537) SEÇMELİ	
(112) DİN KÜL. AHL. BİL. - 2	4	(421) FİZİK - 1	18	PEYGAMBERİMİZİN HAY. - 7	31
(115) DİN KÜL. AHL. BİL. - 5	4	(425) SEÇMELİ FİZİK - 1	19	(544) TÜRK DİLİ VE EDEBİYATI - 4	32
(121) FELSEFE - 1	5	(432) KİMYA - 2	20	(547) TÜRK DİLİ VE EDEBİYATI - 7	33
(125) FELSEFE - 3	6	(436) SEÇMELİ KİMYA - 2	21	(548) TÜRK DİLİ VE EDEBİYATI - 8	34
(132) TARİH - 2	7	(441) BİYOLOJİ - 1	22	(609) SEÇMELİ MATEMATİK - 2	35
(136) SEÇMELİ TARİH - 2	8	(443) BİYOLOJİ - 3	23	(611) DİNLER TARİHİ - 1	36
(151) COĞRAFYA - 1	9	(446) SEÇMELİ BİYOLOJİ - 2	23	(621) SEÇ. TÜRK DİLİ VE	
(155) SEÇMELİ COĞRAFYA - 1	10	(465) TEMEL DİNİ BİL. - 1	24	EDEBİYATI - 3	37
(157) SEÇMELİ COĞRAFYA - 3	11	(479) SEÇMELİ MANTIK - 2	25	(622) SEÇ. TÜRK DİLİ VE	
(181) İNGİLİZCE - 1	12	(502) İNGİLİZCE - 8	26	EDEBİYATI - 4	38
(181) ALMANCA - 1	13	(502) ALMANCA - 8	27	(713) İSLAM KÜLTÜR VE	
(181) FRANSIZCA - 1	13	(502) FRANSIZCA - 8	27	MEDENİYETİ - 1	40
(195) SEÇMELİ		(511) FİKİH - 1	28	(817) AKAİD - 1	41
ORTAK TÜRK TARİHİ - 1	14	(532) SEÇMELİ		(819) KELAM - 1	41
(222) SAĞLIK BİLGİSİ VE		PEYGAMBERİMİZİN HAY. - 2	29	(825) OSMANLI TÜRKÇESİ - 1	42
TRAFİK KÜLTÜRÜ - 2	15	(535) SEÇMELİ		(931) SİYER - 1	43
(244) İNGİLİZCE - 5	16	PEYGAMBERİMİZİN HAY. - 5	30	(974) SEÇMELİ GİRİŞİMCİLİK - 1	44
(244) ALMANCA - 5	17			(999) MATEMATİK - 2	45

ADAYLARIN DİKKATİNE!

- Her ders için 11 soru bulunmaktadır. Bu oturumda **100** dakikalık cevaplama süreniz vardır. Sınavın ilk **30** dakikası tamamlanmadan ve sınav bitimine **15** dakika kala salon dışına çıkmayınız.
- Kullanımı doktor raporu ile belirlenen hasta veya engellilere ait cihazlar ve ilaçlar, anahtarlıksız basit anahtar, ulaşım kartları, para, alyans, şeffaf pet şişe içerisinde bandajlı çıkarılmış su ve şeffaf numaralı gözlük hariç; her türlü kesici ve delici alet, ateşli silah, çanta, cüzdan, cep telefonu, her türlü saat, anahtarlık, elektronik anahtar, kablosuz iletişim sağlayan cihaz, kulaklık, kolye, küpe, bilezik, yüzük, broş ve diğer takılar, her türlü plastik, metal ve cam eşya, banka kredi kartları, her türlü elektronik ve mekanik cihaz, her türlü müsvedde kâğıt, defter, ders notu, kitap, sözlük, dergi, gazete ve benzeri yayınlar, cetvel, pergel, açılöçer ve benzeri araçlar, yiyecek, içecek ve diğer tüketim maddeleri yanınızda bulundurmayınız. Bu araçları/maddeleri yanınızda bulundurmanız ve kopya çekmeye teşebbüs etmeniz hâlinde sınavınız geçersiz sayılacaktır.
- Başvuru şartlarını taşımadığınız hâlde sınava girmeniz, kopya çekmeniz, başka adayın sınav evrakını kullanmanız ve geçerli kimlik belgenizi ibraz edemediğiniz durumlarda sınavınız geçersiz sayılacaktır.
- Sınavın değerlendirilmesi aşamasında, bilgisayar ortamında yapılan kopya analizinde sistemin ikili ve/veya toplu kopya tespiti hâlinde sınavınız geçersiz sayılacaktır.
- Adaylar, sınav kurallarına ve salon görevlilerinin tüm uyarılarına uymak zorundadır. Kurallara ve uyarılara uymayan adayların sınavları geçersiz sayılacaktır.**
- Sınav başladıktan sonra adayların salon görevlileri ve birbirleri ile konuşmaları; kalem, silgi vb. şeyleri istemeleri yasaktır.
- Adaylar sınav süresince, sınav girişi belgesi ile geçerli kimlik belgelerinden birini masalarının üzerinde bulundurmak zorundadır.
- Sınav evraklarını teslim etmeyen, soru kitapçıklarının sayfalarından bir kısmını eksik teslim edenlerin sınavları geçersiz sayılacaktır.
- Sınav başlamadan önce kitapçığın arkasındaki açıklamaları okuyunuz.

BAŞLAYINIZ DENMEDEN SORU KİTAPÇIKLARINI AÇMAYINIZ.



1. OTURUM

(111) DİN KÜL. AHL. BİL. – 1

1. Müslümanların zan, hurafe ve dedikoduya göre hareket etmesi doğru bir davranış değildir.

Bu cümlelerin mesajı ile aynı doğrultuda olan ayet aşağıdakilerden hangisidir?

- A) "Gören ile görmeyen bir olmaz. İman edip iyi amelde bulunan ile kötülük yapan da bir değildir..." (Mümin suresi, 58. ayet)
- B) "Hakkında bilgin bulunmayan şeyin ardına düşme. Çünkü kulak, göz ve gönül, bunların hepsi ondan sorumludur." (İsra suresi, 36. ayet)
- C) "De ki: Sizi yaratan, size işitme duyusu, gözler ve kalpler veren O'dur. Ne az şükrediyorsunuz!" (Mülk suresi, 23. ayet)
- D) "İnsanlar, imtihandan geçirilmeden sadece 'İman ettik.' demeleriyle bırakılacaklarını mı sandılar?" (Ankebut suresi, 2. ayet)

2. "Öğreten ve öğrenen, sevap konusunda eşittir."

Bu hadiste aşağıdakilerden hangisinin önemi vurgulanmaktadır?

- A) İnsan haklarını gözetmenin
B) Zamanı verimli kullanmanın
C) Bilgi alışverişinde bulunmanın
D) Günahlardan korunmanın

3. I. Hayat bu dünya ile sınırlı değildir.
II. Gerçek, varlığı deneyle kanıtlanmış olmalıdır.
III. Duyusal alanın ötesinde bir dünyadan bahsedilemez.
IV. Doğru bilgi, sezgi ile elde edilebilir.

Numaralanmış ifadelerden hangileri "pozitivizme" aittir?

- A) I ve II
B) I ve IV
C) II ve III
D) III ve IV

4. "Belli bir konuda ileri sürülen bir görüşün sorgulanamaz ve tartışılmaz bir gerçeklik olarak kabul edilmesi" **şeklinde tanımlanan kavram aşağıdakilerden hangisidir?**

- A) Dogma
B) Öznel
C) Nesnel
D) Sav

5. I. İnanmak
II. Ahlaklı olmak
III. Yuva yapmak
IV. Yardımlaşmak

Numaralanmış ifadelerden hangileri sadece insana ait özelliklerdendir?

- A) I ve II
B) I ve IV
C) II ve III
D) III ve IV

6. **Aşağıdaki cümlelerin hangisinde "dinin toplumsal hayata katkısı" vurgulanmaktadır?**

- A) Bireyin hayatını düzenler.
B) Allah'ın rızasını kazandırır.
C) İnsana güven ve huzur verir.
D) Birlik ve beraberliğe yönlendirir.

7. **İman ile ilgili aşağıdakilerden hangisi doğrudur?**

- A) Bilimsel deneyle ölçülebilir.
B) Dil ile ikrardan ibarettir.
C) Bilgi ve iradeye dayalıdır.
D) Tüm canlıların sorumluluk alanıdır.

8. "Müminler; Allah anıldığı zaman yürekleri titreyen, Allah'ın ayetleri okunduğunda imanları artan ve yalnız Rablerine dayanıp güvenen kimselerdir. Onlar namazlarını dosdoğru kılar ve kendilerine rızık olarak verdiklerimizi Allah yolunda harcarlar." (Enfal suresi, 2 ve 3. ayetler)

Bu ayetlerde "müminde bulunması gereken özelliklerden" hangisine değinilmemiştir?

- A) Tevekkül sahibi olduğuna
B) İsrraftan kaçındığına
C) Vahyi dikkate aldığına
D) İnfakta bulunduğuna

9. **İslam dinine göre ibadetlerle ilgili aşağıdakilerden hangisi yanlıştır?**

- A) Şirk içeren davranıştan uzak olmalıdır.
B) İnsanların beğenisini hedef almaktır.
C) Hayatı doğru bir şekilde yaşamaktır.
D) Samimiyetle yerine getirilmelidir.

10. **Aşağıdaki ibadetlerden hangisinin sosyal ve ekonomik yönü ön plandadır?**

- A) Zekât vermek
B) Namaz kılmak
C) Oruç tutmak
D) Kur'an okumak

11. "Şüphesiz benim namazım, ibadettirim, hayatım ve ölümüm âlemlerin Rabbi Allah içindir." (Enam suresi, 162. ayet.)

Bu ayette "ibadet" ile ilgili aşağıdakilerden hangisi vurgulanmaktadır?

- A) Sünete uygunluk
B) Güç yetirilebilirlik
C) Kolaylık
D) İçtenlik

1. OTURUM

(112) DİN KÜL. AHL. BİL. – 2

1. Namazda bütün Müslümanların Kâbe'ye yönelmesi aşağıdakilerden hangisinin göstergesidir?

- A) Paylaşmanın B) Merhametin
C) Adaletin D) Birliğin

2. Aşağıdakilerden hangisi İslam dininin etkisiyle ortaya çıkan örf ve âdetlerden değildir?

- A) İnsanlardan helallik istenmesi
B) Vefat edene rahmet dilenmesi
C) Türbe ve havuzlara para atılması
D) Bayramda akrabaların ziyaret edilmesi

3. "Fırat kıyısında bir deve kayboldu Allah bunu benden sorar diye korkarım."

Hz. Ömer, bu sözü ile aşağıdaki değerlerden hangisini vurgulamıştır?

- A) Merhamet B) Sorumluluk
C) Hikmet D) Şecaat

4. Aşağıdakilerden hangisi adalete zarar veren tutum ve davranışlardan biridir?

- A) Zanlıya savunma hakkı vermek
B) Başkasının suçunu üstlenmek
C) Gerçekleri dile getirmek
D) İş ehline bırakmak

5. İffet sahibi bir insan için aşağıdakilerden hangisi söylenebilir?

- A) Kibirli B) Tembel
C) Açgözlü D) Ölçülü

6. İslam medeniyeti aşağıdaki dönemlerden hangisi ile başlar?

- A) Arısaadet B) Dört Halife
C) Selçuklular D) Osmanlılar

7. Medeniyet bir arada yaşamının sonucudur ve insan, doğası gereği medeniyete yatkındır. Medeniyet, toplumların göçebelik ve yerleşik hayatından sonraki aşamasını oluşturur. Bu merhaleye ulaşmanın temel şartı insanın olgunlaşmasıdır. Bu da ancak eğitimle mümkündür.

Bu metinden medeniyet ile ilgili aşağıdakilerden hangisine ulaşılamaz?

- A) Bir süreç içinde oluşur.
B) Fıtratın tabii bir sonucudur.
C) İnsanlığın gelişmesini hedefler.
D) Ortaya çıkmasında din etkilidir.

8. Aşağıdaki eserlerden hangisi Mimar Sinan tarafından yapılmıştır?

- A) Mostar Köprüsü
B) Elhamra Sarayı
C) Ezher Camii
D) Tac Mahal

9. "İmam Matürîdi" aşağıdaki bölgelerden hangisinde yetişmiştir?

- A) Şam B) Türkistan
C) Bağdat D) Hint alt kıtası

10. I. Hac ibadeti için ziyaret edilen mekândır.
II. Mescid-i Haram olarak da bilinir.
III. Hz. Muhammed'in (sav) Medine'de inşa ettirdiği mescittir.

Numaralanmış ifadelerden hangileri "Kâbe" ile ilgilidir?

- A) I ve II B) I ve III
C) II ve III D) I, II ve III

11. "Allah'ım! Beni doğru yola erdirmeni, haramdan uzak tutmanı ve gönül zenginliğine ulaştırmamı istiyorum."

Bu hadis aşağıdaki kavramlardan hangisiyle ilişkilendirilemez?

- A) Cömertlik B) Takva
C) Şecaat D) Hidayet

(115) DİN KÜL. AHL. BİL. – 5

1. "Sûra bir defa üflendiği, yeryüzü ve dağlar kaldırılıp birbirine çarpıldığı zaman, işte o gün olacak olmuştur."
(Hakka suresi, 13-15. ayetler)

Bu ayetlerde aşağıdakilerden hangisi anlatılmaktadır?

- A) Berzah B) Mizan
C) Cehennem D) Kıyamet

2. Aşağıdaki hadislerin hangisinde "kabir ziyaretinin amacından" bahsedilmektedir?

- A) "Cenazeyi mezara kadar ailesi, malı ve ameli takip eder. Ailesi ve malı geri döner, ameli ise kalır."
B) "Mezarlıklara gidebilirsiniz çünkü size ölümü hatırlatır."
C) "Akıllı insan, kendisini hesaba çeken ve ölümden sonrası için hazırlık yapandır."
D) "Allah'a ve ahiret gününe iman eden kişi ya hayır söylesin ya da sussun."

3. İnsan kendisine özgür irade verildiği için davranışlarından sorumludur. Yapıp ettikleri - - - - gelinceye kadar kaydedilmektedir.

Bu açıklamada boş bırakılan yere aşağıdakilerden hangisi getirilmelidir?

- A) meşguliyet B) ecel
C) fakirlik D) hastalık

4. "Kendilerine peygamber gönderilen kimseleri de peygamber olarak gönderdiklerimizi de mutlaka sorguya çekeceğiz."

(Araf suresi, 6. ayet)

Bu ayette ahiret hayatının hangi aşamasından bahsedilmektedir?

- A) Hesap B) Haşır
C) Ölüm D) Ba's

1. OTURUM

5. Hz. Muhammed'in (sav), cehaletin hüküm sürdüğü bir ortamda ilahi mesajı insanlara ulaştırması, onların anlayabileceği şekilde açıklaması ve gerçek hayatta nasıl tatbik edileceğini göstermesi onun çabasının büyüklüğünü gösterir.

Bu metinde Hz. Muhammed'in (sav) hangi görevine değinilmiştir?

- A) Tebliğ B) Tebyin
C) Teşri D) Temsil

6. Kur'an'da, insanların verdikleri sözleri mutlaka yerine getirmeleri ve yaptıkları sözleşmelere uygun hareket etmeleri istenir.

Bu metinde anlatılmak istenen değer aşağıdakilerden hangisidir?

- A) Cömertlik B) Cesaret
C) Tevazu D) Dürüstlük

7. Hz. Muhammed'i (sav) diğer insanlardan ayıran en önemli özelliği aşağıdakilerden hangisidir?

- A) Merhametli olması
B) Zorluklarla mücadele etmesi
C) Vahiy alması
D) İnsanların güvenini kazanması

8. Hz. Muhammed (sav) çocuklara ve gençlere bazı sorumluluklar vermiştir. Onlar sorumluluklarını yerine getirirken hata yaptıklarında anlayışlı ve yapıcı bir tutum sergilemiştir.

Bu metinde Hz. Muhammed'in (sav) aşağıdaki özelliklerinden hangisi vurgulanmaktadır?

- A) Müsamahakâr
B) Güvenilir
C) Cömert
D) Adil

9. "İyiliğin karşılığı, iyilikten başka bir şey olabilir mi?"

(Rahman suresi, 60. ayet)

Bu ayette aşağıdaki kavramlardan hangisi anlatılmaktadır?

- A) Hidayet B) Cihat
C) İhsan D) İffet

10. "Hepiniz Allah'a yönelin, günah işlemekten kaçının, namazı kılın ve şirke düşmekten uzak durun. Dinlerini bölük pörçük edip kendi haklılıklarıyla övünenlerden de olmayın."

(Rum suresi, 31 ve 32. ayetler)

Bu ayetlerdeki altı çizili bölüm ile aşağıdakilerin hangisinden uzaklaşıldığı kastedilmiştir?

- A) İnfaktan
B) İstişareden
C) Kararlılıktan
D) Sıratımüstakimden

11. Hz. Muhammed (sav) her durumda ahlaklı olmayı, Allah'a hakkıyla saygı gösterip günahlardan korunmayı tavsiye etmiştir.

Bu cümlede aşağıdaki kavramlardan hangisi vurgulanmaktadır?

- A) Takva B) Hidayet
C) Tevekkül D) Tefekkür

2. Hayret, şüphe ve bilinmeyene yönelik sorular felsefenin doğmasına sebep olduğu gibi felsefe yapmaya devam etmenin de önemli etkenleridir.

Felsefe, karşı görüşlerin yer aldığı bir bilgi dalıdır. Felsefe tarihi, birbirini reddeden bilgilerle doludur ve felsefe bu biçim üzere sürüp gider. Felsefi bilginin bu çoğulcu niteliği, insanın mutlak bilgiyi elde edemeyeceğinin bir delilidir. Bu da insanın dogmatik ve fanatik olmaması gerektiğini telkin eder. Böyle bir telkin insanda hoşgörürü duygusunun doğmasının en önemli etkenidir.

Bu parçada felsefi düşüncenin aşağıdaki özelliklerinden hangisine değinilmemiştir?

- A) Merak
B) Şüphe
C) Eleştirel olma
D) Tutarlı olma

3. ---; her türden eleştiri ya da tartışmaya kapalı olmak, öne sürülen ilkelere, öğretileri eleştirmeden, sorgulamadan olduğu gibi benimsemektir.

Bu cümlede boş bırakılan yere aşağıdaki kavramlardan hangisi getirilmelidir?

- A) Rasyonellik B) Tutarlılık
C) Dogmatiklik D) Evrensellik

(121) FELSEFE – 1

1. Felsefe, ---- sevgisi demektir. Hikmet; bilgelik (sophia) demektir. Filozof ise hikmeti, bilgeliği severdir. Felsefe kelimesi, Yunanca philosophia sözcüğünden gelmektedir. Philosophia ise philia (----) ve ---- (bilgelik, hikmet) sözcüklerinden oluşan bir kelimedir.

Bu parçada boş bırakılan yerlere getirilmesi gereken kavramlar arasında aşağıdakilerden hangisi yer almaz?

- A) arayış B) sevgi
C) sophia D) bilgelik

4. Aşağıdakilerden hangisi felsefi düşüncenin "refleksif olma" özelliğini açıklamaktadır?

- A) Zihnin, ani gelişen problemler karşısında hızlı düşünerek doğru kararlar verebilmesidir.
B) Gerçeği bulmak isteyen insanın bilme arayışı ve öğrenme isteğidir.
C) Mantıksal bir bütünün parçaları veya öğeleri arasındaki karşılıklı bağlantının ve uyumun olması hâlidir.
D) Zihnin, elde etmiş olduğu bilgiler üzerine düşünerek bunları yeniden eleştirme ve değerlendirmeye tabi tutmasıdır.

1. OTURUM

5. "Bu evde kaç oda var?" sorusunda "kaç?" kelimesinin yerine gerçekteki oda sayısını koyabilen biri bu soruyu cevaplandırmıştır. Söz gelimi "Bu evde beş oda var." cümlesi bu işi görür. Felsefe soruları ise böyle bir başvurmaya gerektirmez. "Açıklama nedir?", "Nedensellik deyince ne anlaşılır?", "Olasılık ne demektir?" çeşidinden soruların hepsi şüphesiz felsefe sorusudur.

Buna göre, aşağıdakilerden hangisi felsefe sorusudur?

- A) Mutluluk nedir?
- B) Afrika kıtasında kaç ülke vardır?
- C) 17. yüzyılda yaşamış filozoflar kimlerdir?
- D) Güneş ile Dünya arasındaki mesafe ne kadardır?

6. Felsefe ile ilgili aşağıdakilerden hangisi **yanlıştır**?

- A) Felsefe, düşüncelerin ifade edilişi sırasında kavramların doğru kullanıldığından emin olmak ister çünkü insan dildeki kavramlar aracılığıyla düşünür.
- B) Felsefede hakikate ulaşmanın kolay olduğu bilindiği için derinlemesine düşünmeye özen gösterilmez.
- C) Felsefede, düşüncelerin temellendirilmesi ve kendi içinde çelişki barındırmayacak şekilde ifade edilmesi esastır.
- D) Felsefi düşünüş, insanın kendi görüşlerini öne sürerken argümanlar ortaya koymasını ve varılan her sonuç için gerekçeler göstermesini bekler.

7. Başarıya çok çalışan kişiler ulaşır. Ceren çok çalışır. O hâlde, Ceren başarıya ulaşır.

Bu akıl yürütme ile ilgili aşağıdakilerden hangisi doğrudur?

- A) Sonuca varmadan önce ayrıntılı bir gözlem yapılmıştır.
- B) Tek tek durumlar gözlenerek bütün hakkında sonuca varılmıştır.
- C) İki şey arasındaki ortak özelliğe dayanılarak bir sonuca varılmıştır.
- D) Genel önergelerden özel önermelere doğru giden bir akıl yürütmedir.

8. Doğru bilgi; bir düşüncenin, bir yargının, bir önermenin gerçeğe uygunluğu olarak tanımlanır.

Buna göre, "bir gece vakti gökyüzüne çıplak gözle bakıldığında parlak bir cisim olarak Ay'ın dolunay hâlinde görünmesi" **örneğinde aşağıdakilerden hangisi doğru bilgi olarak kabul edilir?**

- A) Gökyüzündeki parlak cisim Ay'ın dolunay hâlidir.
- B) Ay'ın Dünya'ya uzaklığı 384.400 kilometredir.
- C) Ay yüzeyindeki kraterler, geçmişteki yaşam izlerine aittir.
- D) Ay, Güneş'ten gelen ışınları Dünya'ya yansıtır.

9. Var olan her şey üzerinde düşünebiliriz. Bu düşünme sürecinde dil sayesinde nesnelere ad verir, bunlar arasında bağlantılar kurar ve soyutlama ile kavramlar oluştururuz.

Bu açıklamada, aşağıdaki kavramlardan hangileri arasındaki ilişki vurgulanmıştır?

- A) Anlam, yorum ve çıkarım
- B) Tutarlılık ve çelişmezlik
- C) Dil, kavram ve düşünme
- D) Özne ve nesne

10. İyi bir düşünür ve aynı zamanda zayıf bir sorgulayıcı olmak olanaksızdır. Düşünme, cevaplardan çok sorulardan hareket eder. Fizik, biyoloji gibi herhangi bir alanın temelini atanlar hiç soru sormamış olsalardı daha ilk etapta o alan geliştirilemezdi. Her entelektüel alan, yanıtlara ihtiyaç duyulan ya da yanıtları fazlasıyla arzulan bir grup sorudan doğmuştur. Dahası her alan ancak yeni soruların, düşünmenin itici gücü olarak oluşturulduğu ve ciddiye alındığı ölçüde canlı kalır.

Bu parçada aşağıdakilerden hangisi vurgulanmıştır?

- A) Bilim ve din ilişkisi
- B) Düşünmede soruların önemi
- C) Biyoloji ve felsefe arasındaki ilişki
- D) Fizik biliminin insan hayatındaki önemi

11. "Teknolojik gelişmelerin doğaya verdiği zararların yanı sıra insan hayatına sunduğu katkılar" **konusuyla ilgili oluşturulabilecek felsefe soruları arasında aşağıdakilerden hangisi yer almaz?**

- A) İnsan hayatının önemi nedir?
- B) Teknoloji nedir?
- C) 21. yüzyılda ortaya çıkan teknolojik gelişmeler nelerdir?
- D) Teknolojinin insan doğası üzerindeki etkisi nedir?

(125) FELSEFE – 3

1. Kendisini ziyarete gelen Makedonya Kralı Büyük İskender'in "Benden bir isteğin var mı?" sorusuna karşılık "Gölge etme, başka ihsan istemez." cevabıyla karşılık veren filozof aşağıdakilerden hangisidir?

- A) Diogenes
- B) Herakleitos
- C) Ksenofanes
- D) Anaksagoras

2. Anaksimenes için ilk neden (arkhe) aşağıdakilerden hangisidir?

- A) Su
- B) Hava
- C) Atom
- D) Apeiron

3. Bilgi, ahlaklı ve erdemli olmayı gerektirir. Kişinin bilgisizliği ise ahlaktan yoksun davranışlar göstermesine neden olur. Kötülük, kişinin bilgisizliğinden kaynaklanır.

Bu parçadan aşağıdakilerin hangisine ulaşılabılır?

- A) İnsan bilerek kötülük yapmaz.
- B) İnsan her şeyin ölçüsüdür.
- C) Düşünülebilen, zorunlu olarak vardır.
- D) Her düşünce karşıtıyla vardır.

4. Aşağıdaki felsefi akımlardan hangisi MS 2. yüzyıl - MS 15. yüzyıl felsefesinin oluşumunda etkili olmamıştır?

- A) Yeni - Platonculuk
- B) Stoa felsefesi
- C) Epikürosçuluk
- D) Hermeneutik

1. OTURUM

5. Aşağıdakilerden hangisi Hristiyan felsefesinin genel özelliklerinden-
dir?

- A) Bireyi ön plana çıkardığı için insan merkezlidir.
- B) Hukuk alanında belirleyici olan unsur, devlettir.
- C) Kutsal metinlerin doğruluğu merkeze alınmıştır.
- D) Deneysel ve akılsal olmayan açıklamalar yetersizdir.

6. El Kindi, âlemin sonradan yaratılan olduğunu kanıtlamak için âleminde zamanla değişim olduğunu ve zamanın olmasının da âlemin sonlu olduğuna kanıt olduğunu ileri sürer. Âlem sonlu olduğuna göre bir başlangıcı ve başlatıcısı vardır.

Bu parça, felsefenin aşağıdaki problemlerinden hangisiyle ilgilidir?

- A) İrade özgürlüğü problemiyle
- B) Toplumsal yaşama yönelik problemlerle
- C) Yaratıcının varlığını kanıtlama problemiyle
- D) Ruhun ölümsüzlüğü problemiyle

7. Aşağıdakilerden hangisi Fârâbî'ye göre Erdemli Şehir'i yönetecek kişide bulunmaması gereken özelliklerdendir?

- A) Hafızası kuvvetli olmalıdır.
- B) Azim ve irade sahibi olmalıdır.
- C) Öğrenmeyi ve öğretmeyi sevmelidir.
- D) Yemeye, içmeye ve hazlara düşkün olmalıdır.

8. Prensın, mutlak güç sahibi olması gerektiğini ve bütün kurumların ona bağlı olmasının zorunlu olduğunu belirtir. Ona göre "Amaca ulaşmak için her yol mübahtır." ve prens bu ilkeye göre devleti yönetmelidir.

Bu düşünceler aşağıdaki filozoflardan hangisine aittir?

- A) Bacon
- B) Spinoza
- C) Descartes
- D) Machiavelli

9. • İkili evren anlayışına karşı çıkmıştır.
• Evrenin Dünya merkezli değil Güneş merkezli olduğunu belirtmiştir.
• İnsanın merkeze alındığı bir felsefi anlayışın doğmasına öncülük etmiştir.

Hakkında bilgi verilen filozof aşağıdakilerden hangisidir?

- A) Clemens
- B) Kopernik
- C) Tertullian
- D) Anselmus

10. Francis Bacon'a göre doğru düşünmenin önünde engel olan ön yargılar aşağıdaki kavramlardan hangisiyle ifade edilir?

- A) İdoller
- B) İdealler
- C) Nedenler
- D) İzlenimler

11. Düşünülen şeyin düşünürken gerçekten var olmadığını kavramak bize o denli aykırı geliyor ki en şaşılası var-sayımlara karşın şu "Düşünüyorum, o hâlde varım." sonucunun doğru olduğuna ve bunun, düşüncelerini bir sıra içinde yönlendiren ve yöneten bir kimseye görünen ilk doğru sonuç olduğuna inanmaktan kendimizi alı-koyamıyoruz.

Bu parça aşağıdaki filozoflardan hangisine aittir?

- A) Hobbes
- B) Spinoza
- C) Descartes
- D) Sartre

2. Aşağıdakilerden hangisi, ilk Türk devletlerinde yetenekli olan kişinin devletin başına geçmesini sağlamakla birlikte taht kavgalarıyla devletin bölünmesine de zemin hazırlamıştır?

- A) Hanedanın tüm erkek üyelerinin kağan olma hakkına sahip olması
- B) Devletlerin boylar konfederasyonu olarak yapılması
- C) Önemli devlet meselelerinin toy adlı meclislerde karara bağlanması
- D) Konargöçer yaşam tarzının benimsenmesi

3. Kök Türk Kitabeleri'nde "töre" kelimesinin, on bir yerde geçmesi ve bunun altısının "il" ile birlikte kullanılmış olması Kök Türk kağanlarının aşağıdakilerden hangisine verdiği önemi göstermektedir?

- A) Eğitim kurumlarına
- B) Ekonomik faaliyetlere
- C) Sanat eserlerine
- D) Hukuk kurallarına

4. Avrupa Hun Hükümdarı Attila, Margus Antlaşması ile aşağıdakilerden hangisini vergiye bağlamıştır?

- A) Pers İmparatorluğu'nu
- B) Vizigot Krallığı'nı
- C) Süev Krallığı'nı
- D) Doğu Roma İmparatorluğu'nu

(132) TARİH – 2

1. Asya Hun Devleti'nin ilk hükümdarı aşağıdakilerden hangisidir?

- A) Cengiz Han
- B) Teoman
- C) Ho-han-yeh
- D) Mukan Kağan

1. OTURUM

5. Kök Türkler, Sasanilerle iş birliği yaparak İpek Yolu ticaretini elinde bulunduran Ak Hun (Eftalit) Devleti'ne 557 yılında son vermişlerdir. Ak Hun Devleti'nin topraklarını Ceyhun Nehri sınır olmak üzere aralarında paylaşmışlardır. Böylece Batı Türkistan'ın önemli şehirleri Kök Türk Devleti'ne bağlanmış ve İpek Yolu'nun denetimi Kök Türk Devleti'nin batı kanadının yöneticisi olan İstemi Yabgu'nun eline geçmiştir.

Buna göre, Kök Türk Devleti ile ilgili aşağıdakilerden hangisine ulaşamaz?

- A) Askerî ittifaklar ile topraklarını genişletmiştir.
- B) Dış siyasette ekonomik çıkarlarını ön planda tutmuştur.
- C) Çin'den ipek ihracatı için yüksek oranda vergi almıştır.
- D) Devlet yönetiminde ikili teşkilat anlayışını benimsemiştir.

6. İslamiyet'in doğduğu dönemde Arap Yarımadası büyük devletlerin ilgisini çekmemiş ve yabancı işgaline uğramamıştır.

Aşağıdakilerden hangisi Arap Yarımadası'nda bu durumun yaşanmasının sebeplerinden değildir?

- A) Topraklarının büyük çöllerle kaplı olması
- B) Toplumun hürler ve köleler olarak sınıflara ayrılması
- C) Ekonomik kaynaklarının zayıf olması
- D) Bizans ve Sasani devletleri arasında siyasi çekişmeler bulunması

7. Yahudilerin Müslüman ticaret kervanlarına zarar vermesi ve Mekke müşrikleri Müslümanlara karşı kışkırtması üzerine Hz. Peygamber tarafından fethedilen yer aşağıdakilerden hangisidir?

- A) Taif
- B) Suriye
- C) Hayber
- D) Mısır

8. Dört Halife Dönemi içerisinde, fetihlerin en fazla yapıldığı dönem aşağıdakilerden hangisidir?

- A) Hz. Ömer
- B) Hz. Ali
- C) Hz. Ebubekir
- D) Hz. Osman

9. Emeviler Dönemi'nde Türkler üzerine yapılan seferlerde Müslüman Arapların sert tutumu ve - - - - politikası Türklerde, Müslümanlara karşı bir tepki oluşturmuştur.

Bu cümlede boş bırakılan yere aşağıdakilerden hangisi getirilmez?

- A) iskan
- B) hoşgörü
- C) mevali
- D) ümmetçilik

10. Büyük Selçuklu Devleti'nde şeri hukuk davalarına bakan görevli aşağıdakilerden hangisidir?

- A) Atabey
- B) Kadı
- C) Subaşı
- D) Sipahi

11. Ömer Hayyam tarafından hazırlanan "Takvim-i Celali" aşağıdaki Selçuklu hükümdarlarından hangisine sunulmuştur?

- A) Mehmet Tapar
- B) Melikşah
- C) Berkyaruk
- D) Sencer

(136) SEÇMELİ TARİH – 2

1. Avrupa'da ortaya çıkan milliyetçilik ve özgürlük akımlarını önleyebilmek için Viyana Kongresi'nde kurulan sistem aşağıdakilerden hangisidir?

- A) Feodal sistem
- B) Meternik sistemi
- C) Parlamenter sistem
- D) Merkantilizm sistemi

2. - - - - başlattığı ayaklanma sonucunda bağımsız bir Yunan devleti kurulmuştur.

Bu cümlede boş bırakılan yere aşağıdakilerden hangisi getirilmez?

- A) Ermenilerin
- B) Bulgarların
- C) Rumların
- D) Arnavutların

3. Mısır valisiyken Osmanlı Devleti'ne karşı isyan eden devlet adamı aşağıdakilerden hangisidir?

- A) Gazi Osman Paşa
- B) Ahmet Muhtar Paşa
- C) Said Halim Paşa
- D) Kavalalı Mehmet Ali Paşa

4. Islahat Fermanı'nda; "Devlet hizmetlerine, askerliğe ve okullara ayırım gözetmeksizin tüm tebaa kabul edilecektir." kararı aşağıdakilerden hangisine verilen önemi gösterir?

- A) Halkın eşitliğine
- B) Mülkiyet hukukuna
- C) Medrese eğitimine
- D) Ticaretin gelişmesine

5. • Padişah kutsaldır ve icraatlarından dolayı sorumlu tutulamaz.
• Vekillerin tayin ve azli, yabancı devletlerle sözleşme yapılması, savaş ve barış ilanı, kara ve deniz kuvvetlerinin kumandası, Meclis-i Umûminin toplanması ve tatili, Heyet-i Mebusan'ın feshi padişahın mutlak haklarındandır.

Kanun-ı Esasi'nin bu maddelerine göre, aşağıdakilerden hangisine ulaşılabilir?

- A) Yabancı devletlere tanınan kapitülasyonlar genişletilmiştir.
- B) Veraset sisteminde değişiklik yapılmıştır.
- C) Meclis hükûmeti sisteminden kabine sistemine geçilmiştir.
- D) Padişahın, devlet idaresindeki geleneksel otoritesi korunmuştur.

6. 1877-1878 Osmanlı-Rus Savaşı'nın sonucunda imzalanan antlaşma aşağıdakilerden hangisidir?

- A) Pasarofça
- B) Ayastefanos
- C) Kasr-ı Şirin
- D) Balta Limanı

1. OTURUM

7. İttihat ve Terakki Cemiyeti aşağıdakilerden hangisinin sonucunda Osmanlı Devleti'nde iktidarı ele geçirmiştir?

- A) Bâbüali Baskını
- B) Kırım Savaşı
- C) Vaka-i Hayriye
- D) Patrona Halil İsyanı

8. II. Abdülhamid'in, halifelik kurumunun gücüne dayanarak savunduğu fikir akımı aşağıdakilerden hangisidir?

- A) Batıcılık
- B) Türkçülük
- C) İslamcılık
- D) Osmanlıcılık

9. Avrupalı devletlerle giriştiği savaşları kaybeden Osmanlı Devleti, Avrupa'daki teknik gelişmelerden ilk defa hangi alanda yararlanmaya başlamıştır?

- A) Mimari
- B) Askerî
- C) Sağlık
- D) Tarım

10. Osmanlı Devleti, Balkanlardan göç eden Türklerin düzenli bir şekilde Anadolu'ya yerleştirilmesi için aşağıdakilerden hangisini yayımlamıştır?

- A) Sened-i İttifak
- B) Tanzimat Fermanı
- C) Muharrem Kararnamesi
- D) İskân-ı Muhacirin Nizamnamesi

11. Osmanlı Padişahı II. Mahmut, İstanbul'da görülen kolera salgınının yayılmasını engellemek için Kız Kulesi'nin, karantina hastanesine dönüştürülmesini sağlamıştır. Daha sonra yaşanan veba salgını sırasında da hastaların bir kısmı bu hastanede tecrit edilmiştir.

Osmanlı Devleti'nde ortaya çıkan bu gelişmelerle ilgili aşağıdakilerden hangisine ulaşılabilir?

- A) Büyük şehirlerde Batı tarzı modern hastaneler inşa edilmiştir.
- B) Nüfusun büyük kısmı salgınlar sonucu hayatını kaybetmiştir.
- C) Koruyucu sağlık önlemleri uygulanmaya çalışılmıştır.
- D) Salgının yayılmasını engellemek için halka aşı yapılmıştır.

(151) COĞRAFYA – 1

1. Aşağıdakilerden hangisi beşeri coğrafyanın araştırma alanlarından biridir?

- A) Ova, plato gibi yeryüzü şekilleri
- B) Deniz ve göllerin kimyasal özellikleri
- C) Canlılar ve canlıların yeryüzünde dağılışı
- D) Yerleşmeler ve ekonomik faaliyetler

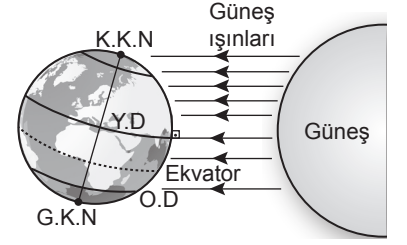
2. Coğrafya biliminin okyanus, deniz, yüzey suları ve yer altı sularını inceleyen dalı aşağıdakilerden hangisidir?

- A) Hidrografiya
- B) Klimatoloji
- C) Biyocoğrafya
- D) Jeomorfoloji

3. Aşağıdakilerden hangisinin gerçekleşmesi Dünya'nın şekline bağlı değildir?

- A) Sıcaklıkların ekvator dan kutuplara doğru azalması
- B) Günlük sıcaklık farklarından dolayı kayaların parçalanması
- C) Paralel boylarının kutuplara doğru kısalması
- D) Dünya'nın çizgisel hızının ekvator dan kutuplara doğru azalması

4. Dünya'nın Güneş'e göre konumu görselde verilmiştir.



Buna göre, bu durumun gerçekleştiği zaman aşağıdakilerden hangisidir?

- A) 21 Aralık
- B) 21 Mart
- C) 21 Haziran
- D) 23 Eylül

5. Dünya'nın Güneş'e en çok yaklaştığı zaman aşağıdakilerden hangisidir?

- A) 21 Haziran
- B) 5 Ağustos
- C) 19 Eylül
- D) 3 Ocak

6. Aşağıdakilerden hangisi Türkiye'nin özel konum özelliklerinden değildir?

- A) En doğusu ile batısı arasında 76 dakikalık zaman farkının bulunması
- B) Ortalama yükseltisinin fazla olması
- C) Üç tarafının denizlerle çevrili olması
- D) Topraklarının Avrupa ve Asya kıtalarında yer alması

7. Aşağıdakilerden hangisi harita yapımında kullanılan küçültme oranını ifade eder?

- A) Lejant
- B) Ölçek
- C) İzohips
- D) Profil

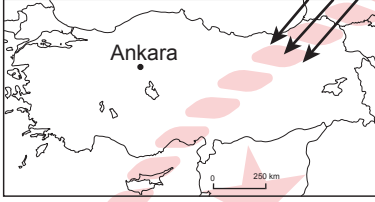
1. OTURUM

8. • Atmosferin yere en yakın katmanıdır.
• Canlı yaşamı bu katmanda görülür.
• İklim olaylarının olduğu katmandır.

Verilen özellikler atmosferin aşağıdaki katmanlarından hangisine aittir?

- A) Stratosfer B) Mezosfer
C) Troposfer D) Ekzosfer

9.



Harita üzerinde ok ile gösterilen yönde esen yerel rüzgâr aşağıdakilerden hangisidir?

- A) Poyraz B) Lodos
C) Kible D) Karayel

10. • 0° - 10° Kuzey ve Güney enlemleri arasında görülür.
• Yıllık ortalama sıcaklık 25°C civarındadır.
• Her mevsim yağışlıdır.

Buna göre, özellikleri verilen iklim tipi aşağıdakilerden hangisidir?

- A) Savan iklimi
B) Ilıman okyanusal iklim
C) Ekvatorial iklim
D) Akdeniz iklimi

11. Dağların denize dik uzandığı yerlerde hava kütleleri vadi boyunca hareket ederek iç kesimlere ulaşır ve iklim özelliklerinin içerilerde de etkili olmasını sağlar.

Buna göre, aşağıdaki illerden hangisinde bu durum yaşanır?

- A) Isparta
B) Bayburt
C) Niğde
D) Denizli

(155) SEÇMELİ COĞRAFYA – 1

1. Dünya’da biyoçeşitliliğin en zengin ve en fakir olduğu yerler aşağıdakilerin hangisinde bir arada verilmiştir?

- A) Antartika - Sahra Çölü
B) Amazon ormanları - Sibirya
C) Avusturalya Mercan Adaları - Muson ormanları
D) Arabistan Yarımadası - İzlanda

2. Aşağıdakilerden hangisi Anadolu’da soyu tükenme tehlikesinde olan canlılardandır?

- A) Ankara keçisi
B) Van kedisi
C) Balıkesir koyunu
D) Caretta - caretta kaplumbağası

3. Aşağıdakilerden hangisi kaya yosunlarının yaygın olduğu liken, ot ve bazı küçük çalılardan oluşan tundra biyomunda yaygın olan hayvan türüdür?

- A) Zürafa B) Timsah
C) Ren geyiği D) Şempanze

4. İklim değişikliği, doğal afetler ve insan müdahalesi ile doğal yaşam alanlarının etkilenmesine bağlı olarak bitki ve hayvan türlerinin buldukları ortamın koşullarına uyum sağlamasının adı aşağıdaki-lerden hangisidir?

- A) Adaptasyon
B) Biyom
C) Habitat
D) Ekosistem

5. Ülkeler sosyo-ekonomik yapısına göre nüfus politikası uygulamaktadır.

Buna göre, aşağıdakilerden hangisi Çin Devleti’nin uyguladığı politikardan değildir?

- A) 1949 yılından sonra kırsal nüfusa sahip olmasından dolayı aşırı nüfus artış politikası uygulanmıştır.
B) 1979 yılından sonra yönetim değişimiyle tek çocuk politikası uygulanmıştır.
C) 1990 yıllarına kadar kırsal kesimde iş gücüne olan ihtiyaç sebebiyle ilk çocuğun kız olması hâlinde ikinci çocuğa izin verilmiştir.
D) 1990 yıllarından sonra yaşam standartları artırılarak nüfus artış hızı yükseltilmiştir.

6. Aşağıdakilerden hangisi başkent özelliğindeki idari fonksiyona sahip şehirlerdendir?

- A) Essen B) Medine
C) Moskova D) Barselona

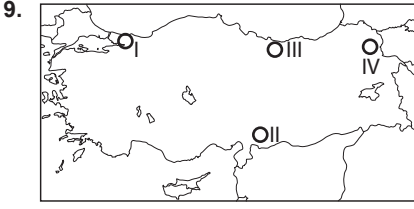
7. Aşağıdakilerden hangisi yayla yerleşmesinin özelliklerinden değildir?

- A) Toroslar, Ege Dağları ve Kuzey Anadolu Dağlarında yaygındır.
B) İnsanlar, yılın sıcak aylarında hayvanlarını otlatmak amacıyla yer değiştirirler.
C) Yayla meskenleri genelde çadır ya da taştan yapılmıştır.
D) Geniş bir arazi üzerine kurulmuş ve tarım faaliyetleri ön plandadır.

8. Tüketimde etkili olan ve satın alma alışkanlıkları üzerinde göz ardı edilmeyecek etkiye sahip olan, özellikle başkalarında görüp beğenme ve alma isteği uyandıran faktör aşağıdakilerden hangisidir?

- A) Moda
B) Gelir düzeyi
C) Teknolojik gelişmeler
D) Tanıtım ve reklam

1. OTURUM



Haritada numaralanmış alanlardan hangisi güneş enerjisi alanında yatırım yapmaya daha uygundur?

- A) I B) II C) III D) IV

10. Tarımı destekleyen aşağıdaki kuruluşlardan hangisi çiftçinin ürünlerini satın alarak değerinin korunmasını sağlamaktadır?

- A) Zirai Araştırma Enstitüsü
B) Devlet Su İşleri
C) Toprak Mahsulleri Ofisi
D) Ziraat Bankası

11. • Elektrik, elektronik sanayinde üretilen ürünlerde izolasyon malzemesi olarak kullanılır.
• Hafif olmasından dolayı uçak sanayisinde tercih edilir.
• Alüminyumun ham maddesidir.

Verilen özelliklerin tamamı aşağıdaki madenlerden hangisine aittir?

- A) Fosfat B) Boksit
C) Krom D) Bor

(157) SEÇMELİ COĞRAFYA – 3

1. Son yıllarda Türkiye gölleri ve barajlarında yaşanan su seviyelerindeki düşme ve su yüz ölçümünün küçülmesi aşağıdaki ekstrem olay sınıflarından hangisine dâhildir?

- A) Jeolojik kökenli
B) Astronomi kökenli
C) Hidrolojik kökenli
D) Jeomorfolojik kökenli

2. Bugün İzmir ilimizin Selçuk ilçe sınırları içinde bulunan Efes Antik Kenti bir zamanlar Ege Denizi'nin kıyısında liman şehri idi. Küçük Menderes Nehri'nin taşıdığı alüvyonlarla dolan kıyıdaki bu yerleşim zamanla kara içerisinde kalmıştır. Bunun sonucunda şehir zamanla eski ticari önemini kaybetmiştir.

Metne göre, Efes Antik Kenti için aşağıdakilerden hangisi kesinlikle söylenebilir?

- A) Zamanın en büyük şehirlerindedir.
B) Zaman içinde şehirde ekonomik yapı değişmiştir.
C) Nüfus artışı düzensiz bir seyir göstermiştir.
D) Küresel iklim değişiminden etkilenmemiştir.

3. Aşağıdakilerden hangisi bir yerleşme biriminin kentsel özellikler taşıdığına kanıt olamaz?

- A) Hafta sonlarında tiyatro, sinema gibi aktivitelerin yapılması
B) Değişik ve birbirinden farklı eğitim kurumlarına sahip olması
C) Sivil toplum örgütlerinin yaygın ve aktif olması
D) Sanayi ve hizmet sektörünün geri planda kalması

4. Aşağıdakilerden hangisi dikey tarımın bir özelliğidir?

- A) Çoğunlukla şehirlerde yapılan bir uygulamadır.
B) Geleneksel ziraat yöntemleri kullanılır.
C) Birim alandan alınan verim (üretim) düşüktür.
D) Üretim için çorak ve geniş tarım alanları tercih edilir.

5. Aşağıdaki illerden hangisi Yeşilirmak Havzası Gelişim Projesi (YHGP)'nin uygulama alanı kapsamındadır?

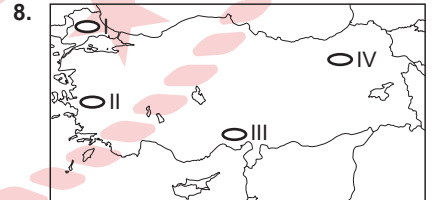
- A) Sinop B) Amasya
C) Kırşehir D) Artvin

6. Türkiye'deki demir yollarının tarihsel gelişimi ile ilgili aşağıda verilenlerden hangisi yanlıştır?

- A) Cumhuriyet öncesinde ilk demir yolu hattı İzmir ile Aydın arasında hizmete girmiştir.
B) Anadolu'nun genel yer şekli özellikleri demir yolu yapımına oldukça uygundur.
C) Güvenli ve konforlu olması son yıllarda gelişimini hızlandırmıştır.
D) Kömür madenleri, demir-çelik ve sanayi kuruluşları da güzergâhların belirlenmesini etkilemiştir.

7. Mavi Akım Gaz Boru Hattı, Türkiye ile aşağıdaki ülkelerden hangisi arasında doğal gaz akışını sağlamaktadır?

- A) İran B) Irak
C) Rusya D) Azerbaycan



Haritada numaralanmış yerlerden hangisinde ulaşım, kış mevsiminin olumsuz hava koşullarından daha fazla etkilenmektedir?

- A) I B) II C) III D) IV

1. OTURUM

9. • Taşıma maliyeti en düşük olan ulaşım sistemlerindendir.
• Kara içlerine hizmet sunamaz.
• Bir seferde yüksek miktarda yük taşınabilir.

Verilenlerin tamamı aşağıdaki ulaşım sistemlerinden hangisine aittir?

- A) Deniz yolu B) Kara yolu
C) Demir yolu D) Hava yolu

10. Akdeniz, Ege ve Marmara Denizi'ndeki koy ve körfezler son yıllarda aşağıdaki turizm türlerinden hangisinin gelişmesine **daha çok katkı sağlamıştır?**

- A) Yayla B) Termal
C) Kongre D) Yatçılık

11. Aşağıdakilerden hangisi Türkiye'de turizm sektöründe uygulanan Çevreye Duyarlılık Kampanyası'nın (Yeşil Yıldız) amaçlarından biri **olamaz?**

- A) Yüksek kâr elde etme
B) Su tasarrufunun sağlanması
C) Yenilenebilir enerjinin teşvik edilmesi
D) Çevreyle uyumlu konaklama tesislerinin yapımı

(181) İNGİLİZCE – 1

1 - 8. sorularda boş bırakılan yere/yerlere uygun gelen kelime ya da ifadeyi işaretleyiniz.

1. **Chris** : Hello, Mike! - - - -. How is it going?

Mike : Hi, Chris. Everything is fine. How are you?

Chris : I am very well. Thank you.

- A) Catch you later
B) Long time no see
C) See you soon
D) Good bye

2. **Alicia is a very hardworking student. She gets the - - - - grades in the classroom.**

- A) worst B) easiest
C) slowest D) highest

3. **Tony** : Mum, I can't find my book. Where is it?

Mum : - - - - .

- A) It is on your desk
B) You can give it to me
C) Books are very useful
D) I love reading books

4. **I prefer watching documentaries because they - - - - .**

- A) waste my time
B) aren't educational
C) are great and enjoyable
D) don't include interesting things

5. **Ashton** : Would you like to eat out tonight?

Ashley : Sure, - - - - .

- A) I have an exam
B) that sounds lovely
C) that is a bad idea
D) I have other plans

6. **Jessica** : How often do you have breakfast at home?

George : On weekdays, I have breakfast at work. On weekends, I have breakfast at my favourite restaurant so I - - - - have breakfast at home.

- A) always B) often
C) usually D) never

7. **The lack of rain can cause - - - - in many areas.**

- A) tsunami B) drought
C) flood D) tornado

8. **Our manager is always - - - - for appointments. He never comes late.**

- A) punctual B) stingy
C) brave D) generous

9.



The woman in the photo is Andrea. She has - - - - hair.

Görsele göre, bu cümlede boş bırakılan yere aşağıdakilerden hangisi getirilmelidir?

- A) long curly
B) long wavy
C) short curly
D) short straight

1. OTURUM

10. "The twentieth of February, two thousand nineteen" **tarihinin rakamla yazılışı aşağıdakilerden hangisidir?**

- A) 21.02.2009 B) 12.01.2019
C) 20.02.2019 D) 20.01.2009

11. Hello, I'm Robert. I work at a college and I am an English teacher. I have got a big family. I have got a sister and a brother. They are students in a high school. My mum is a designer and my dad is retired. I love my family.

Bu metne göre, aşağıdakilerden hangisi doğrudur?

- A) Robert is a teacher.
B) Robert is the only child.
C) Robert goes to a high school.
D) Robert's father is a designer.

(181) ALMANCA – 1

1 - 6. sorularda boş bırakılan yere/yerlere uygun gelen kelime ya da ifadeyi işaretleyiniz.

1. **A:** Sprechen Sie Deutsch und Englisch?
B: Nein, ---- spreche nur Englisch.
A) du B) ich
C) wir D) ihr

2. **Das sind ---- Unterrichtsfächer. (Zeynep)**

- A) sein B) ihre
C) meine D) deine

3. **A:** Welchen Unterricht ---- ihr am langweiligsten?
B: Kunst.

- A) findet B) mag
C) findest D) magst

4. **A:** Hat Ali drei Geschwister?
B: Nein, er hat nur ---- Schwester.

- A) eine B) kein
C) einen D) keinen

5. **A:** ---- deine Augen schwarz?
B: Nein, braun.

- A) Ist B) Hat
C) Sind D) Sein

6. **A:** Sila, ich möchte in den Supermarkt einkaufen gehen. Möchtest du auch etwas?

B: Ja, gern. Kauf mir doch bitte zwei ---- Mineralwasser und eine Packung Biscuits!

- A) Dose B) Flaschen
C) Stück D) Tassen

7. **A:** Gute Nacht, Frau Aksoy.
B: ----, Hüseyin.

Bu diyalogdaki boşluğa aşağıdaki ifadelerden hangisi getirilemez?

- A) Bis bald!
B) Auf Wiedersehen!
C) Guten Morgen!
D) Tschüs!

8. **Welches ist eine Verabschiedung?**

- A) Hallo!
B) Guten Morgen!
C) Grüß dich!
D) Bis später!

9. **Aşağıdakilerden hangisi okulun bir bölümü değildir?**

- A) Landkarte
B) Schulhof
C) Bibliothek
D) Lehrerzimmer

10. Heidi Müller ist sechszwanzig Jahre alt. Sie ist Englischlehrerin. Sie spricht Deutsch, Englisch und Französisch. Sie hat zwei Kinder.

Bu parçada aşağıdaki bilgilerden hangisine ulaşamaz?

- A) Sie ist eine Lehrerin.
B) Sie spricht drei Sprachen.
C) Sie hat zwei Geschwister.
D) Sie ist 46.

11. **Welches ist eine Tageszeit?**

- A) das Wochenende
B) die Jahreszeit
C) der Monat
D) der Vormittag

(181) FRANZISCA – 1

1 - 11. sorularda boş bırakılan yere/yerlere uygun gelen kelime ya da ifadeyi işaretleyiniz.

1. **Ela :** Quelle est ---- adresse à Paris ?
Lale : J'habite dans le quinzième, tout près de la sortie du metro.

- A) mon B) ta
C) son D) ton

2. **Le fils de mon oncle, c'est ----.**

- A) mon cousin
B) ma cousine
C) ma nièce
D) mon père

3. **Jacques mange trop de sucre, alors ----.**

- A) il se sent très bien
B) il n'est pas malade
C) il a mal aux dents
D) il doit voir un vétérinaire

1. OTURUM

4. **Faites attention à votre ligne: ne prenez pas ---- aliments gras, buvez assez ---- eau et mangez ---- légumes et fruits.**

- A) d' / d' / des
- B) des / de l' / de
- C) du / de la / des
- D) d' / de / des

5. **Vous êtes sportif ou mannequin ? Vous ne devez pas vous coucher tard. Et surtout, ----.**

- A) vous ne pouvez pas manger de soupe à table
- B) vous devez vous laver les mains avant chaque repas
- C) l'eau minérale ne va pas bien avec le café
- D) vous devez avoir une bonne habitude alimentaire

6. **Tous les matins, il se réveille en pleine forme, ----.**

- A) fatigué, il va généralement au lit après une douche ou un bain
- B) puis il prend tranquillement son petit déjeuner
- C) ses amis sont toujours en retard, mais il les attend tranquillement
- D) ensuite il regarde la télé après le dîner en famille

7. **Le juin, le juillet et l'aout sont les mois ----.**

- A) de l'hiver
- B) de l'été
- C) du printemps
- D) de l'automne

8. **Au mois d'avril, Paul prend toujours ---- avec lui parce qu'il pleut souvent dans son pays.**

- A) sa robe de chambre
- B) ses chaussures
- C) son imperméable
- D) sa chemise

9. **Elle s'appelle Sarah et elle a ---- (16) ans.**

- A) six
- B) dix-sept
- C) seize
- D) douze

10. **Clara est une jeune fille ---- habite ---- Etats-Unis.**

- A) anglais / Il / à l'
- B) américaine / Elle / aux
- C) espagnole / Elles / en
- D) italien / Lui / au

11. **Madame Dupont est ---- elle ----.**

- A) vétérinaire / répare les voitures
- B) pâtissière / soigne les malades
- C) mécanicienne / a des élèves
- D) coiffeuse / coupe les cheveux

(195) SEÇMELİ ORTAK TÜRK TARİHİ – 1

1. **Aşağıdakilerden hangisi "Türk" adının anlamlarından değildir?**

- A) Kanun ve nizam sahibi
- B) Güç, kuvvet
- C) Olgunluk çağı
- D) Konargöçer

2. Orta Asya kültür bölgelerinden biri olan Anav'da yapılan arkeolojik kazılar sonucu bu bölgede yaşayan insanların sulama kanalları kullandıkları ve çiftçilikle uğraştıkları tespit edilmiştir.

Bu durum, bölgede yaşayan insanlar ile ilgili aşağıdakilerden hangisine kanıt oluşturur?

- A) Ticarete geliştiklerine
- B) Yerleşik bir hayat tarzı sürdürüklerine
- C) Savaşçı bir topluluk olduklarına
- D) Sanatsal faaliyetlerde ilerlediklerine

3. Türk tarihinde ---- ünvanı ilk defa Juan-Juan yöneticisi Shelun tarafından kullanılmıştır.

Bu cümlede boş bırakılan yere aşağıdakilerden hangisi getirilmelidir?

- A) şanyu
- B) tonga
- C) kağan
- D) tegin

4. **Avrupa Hun İmparatorluğu'nun bilinen ilk hükümdarı aşağıdakilerden hangisidir?**

- A) Balamir
- B) Bağa Tarkan
- C) Kanişka
- D) İstemi Yabgu

5. Orta Asya'nın iklim koşulları ve bitki örtüsü Türkleri hayvancılık faaliyetlerine yöneltmiştir. Altay ve Tanrı Dağları arasındaki geniş yaylalarda at, koyun ve sığır yetiştirmişlerdir. Bu durum Türklerde atlı göçebe yaşam tarzını ortaya çıkarmıştır.

Bu bilgide, aşağıdakilerden hangisinin Türklerin yaşam tarzına olan etkisinden bahsedilmiştir?

- A) Dinî inanışların
- B) Ticari faaliyetlerin
- C) Coğrafi şartların
- D) Töre kurallarının

1. OTURUM

6. Arap tarihçisi Mesudi'ye göre Hazar ülkesinde yedi yargıç bulunuyordu. Bunlardan ikisi Müslümanların, ikisi Hristiyanların, ikisi Musevilerin ve biri de Gök Tanrı dininde olanlar ile Rusların davalarına bakıyordu.

Bu durum, Hazarlarda aşağıdaki-lerden hangisinin varlığına kanıt oluşturur?

- A) Ekonomik zenginliğin
- B) Kölelik sisteminin
- C) Bilimsel faaliyetlerin
- D) Dinî çeşitliliğin

7. Uygurlarda Böğü Kağan Dönemi'nde yaygınlık kazanan din aşağıdakilerden hangisidir?

- A) Musevilik
- B) Manihaizm
- C) Hristiyanlık
- D) Zerdüştilik

8. Türk devletlerinden Koçu Uygur Devleti 500 yıl gibi uzun bir ömür sürmüştür. Çin, Fars ve Soğd asıllı topluluklar Koçu Uygur ülkesine yerleşmiştir. Bu toplulukların Türk kültürü ile kaynaşmasıyla rengârenk bir kültür ortaya çıkmıştır.

Buna göre, Koçu Uygur Devleti ile ilgili aşağıdakilerden hangisine ulaşılabilir?

- A) Farklı etnik unsurları barındırdığına
- B) Çok geniş sınırlara ulaştığına
- C) Savaşçı özelliklere sahip olduğuna
- D) Boylar hâlinde teşkilatlandırıldığına

9. "Hakaniler" veya "Afrasiyab Oğulları" adıyla bilinen Türk devleti aşağıdakilerden hangisidir?

- A) İldenizliler
- B) Karahanlılar
- C) Gazneliler
- D) Harezmsâhlar

10. • Türklerin İslami dönemdeki bilinen ilk edebî ürünüdür.
• Hükümdarlara öğütler verdiği için "siyasetname" özelliği taşır.

Bu bilgiler aşağıdaki eserlerden hangisine aittir?

- A) El-Medinetü'l-Fâzıla
- B) Kıssa-i Rabguzi
- C) Risaletü'n Nushiyye
- D) Kutadgu Bilig

11. Sacoğulları Devleti'nin altın para bastırması aşağıdakilerden hangisine kanıt oluşturur?

- A) Güçlü ekonomik yapıya
- B) Gelişmiş askerî teşkilata
- C) Yazılı hukuk kurallarına
- D) El sanatlarının çeşitliliğine

(222) SAĞLIK BİLGİSİ VE TRAFİK KÜLTÜRÜ - 2

1. Aşağıdaki tutum veya davranışlardan hangisinin trafikte yapılması yanlıştır?

- A) Etkili iletişim kurulması
- B) Sabırsız olunması
- C) Sorumlu davranılması
- D) Nezaketli davranılması

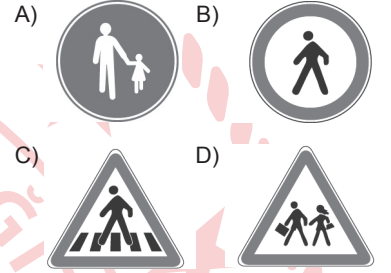
2. Aşağıdakilerden hangisi, toplu taşıma araçlarındaki yolcuların uyması gereken kurallardan biridir?

- A) Aracını bakımlı ve sürüşe hazır tutmak
- B) Trafik işaret ve işaretçilerine uymak
- C) Araca binenleri duraklarda indirmek
- D) Engelli, yaşlı, gazi, hamile ve çocuklu yolculara yer vermek

3. Aşağıdaki kurallardan hangisi okul servis sürücülere ve rehber personelinin sorumlulukları arasında değildir?

- A) Taşıma faaliyeti öncesi ve sonrasında aracın içini kontrol etmek
- B) Taşıt düzenini ve emniyet kemeri-lerinin takılı olup olmadığını kontrol etmek
- C) Öğrencilerin servis aracına sırayla binip inmelerini sağlamak
- D) Öğrencilerin okul kıyafetlerinin üzerinde olup olmadığını kontrol etmek

4. Aşağıdaki trafik işaretlerinden hangisi, yayaların giremeyeceğini belirtir?



5. 80 km/saat hızla giden bir sürücü, önündeki araç ile arasında 40 m ve üzeri mesafe bırakarak ilerliyorsa aşağıdakilerden hangisine uyduğu söylenir?

- A) Geçiş mesafesine
- B) Durma mesafesine
- C) Görüş mesafesine
- D) Takip mesafesine

6. Aşağıdaki kullanılabilir araçlar ve sürücü belgesi sınıfı eşleştirmelerinden hangisi doğrudur?

Kullanılabileceği Araçlar	Sürücü Belge Sınıfı
A) Minibüs ve otobüs	B
B) Otomobil ve kamyonet	D
C) Kamyon ve çekici	C
D) Lastik tekerlekli traktör	G

1. OTURUM

7. Motor hacmi 125 cm³ ten büyük motosiklet kullanmak için sürücü belgesi almak isteyen biri, en az kaç yaşında olmalıdır?

- A) 15 B) 16
C) 17 D) 18

8. Kara yollarında taşıt kullanan sürücülerin, aşağıdakilerden hangisini yapması yanlıştır?

- A) Şerit değiştirmeden önce, geçeceği şeritte sürülen araçların güvenle geçişini beklemesi
B) Aracın cinsine ve hızına uygun olan şeritten gitmesi
C) İşaret vermeden şerit değiştirmesi
D) Gidişe ayrılan yol bölümünün en sol şeridini kısa süreli kullanması

9. Aşağıdakilerden hangisi, sürücülerden kaynaklanan trafik kazası sebeplerindedir?

- A) Sürüş sırasında cep telefonu kullanılması
B) Araç hareket hâlindeyken inilmesi
C) Araç lastiğinin patlaması
D) Trafik işaretinin okunamayacak kadar yıpranmış olması

10. Aşağıdakilerden hangisi, trafik kazası sonucunda oluşabilecek psikolojik etkilerdendir?

- A) Baş yaralanmaları
B) Kemikte çatlak ve kırıklar
C) Bunalım ve korku
D) Kanamalı kesik ve yaralar

11. Aşağıdakilerden hangisi, trafiğin yol açtığı çevre ve gürültü kirliliğini engellemek için alınması gereken önlemlerden biri değildir?

- A) Eskimiş ve ekonomik ömrünü tamamlamış araçların trafikten çekilmesi
B) Kışın soğuk havalarda, motorun ısınması için aracın uzun süre çalıştırılması
C) Taşıtlara bakım ve onarım yapılırken yakıtın ve motor yağlarının yere dökülmesinin önlenmesi
D) Araçlarda kullanılan radyo, CD çalar vb. cihazların sesinin rahatsızlık vermeyecek kadar açılması

(244) İNGİLİZCE – 5

1 - 10. sorularda boş bırakılan yere/yerlere uygun gelen kelime ya da ifadeyi işaretleyiniz.

1. Mike : I want to be a/an - - - - in the future.

Kevin : I believe you will be successful in designing, repairing and reprogramming robots.

- A) alternative energy consultant
B) smart-building technician
C) agricultural manager
D) mechatronics engineer

2. Being - - - - is not one of the qualities of successful business people.

- A) disciplined B) pessimistic
C) confident D) ambitious

3. Nowadays, I am fond of - - - -. I am making a pullover for my son.

- A) cooking B) sculpting
C) knitting D) drawing

4. My grandmother liked music, so she used to - - - - every night in the past.

- A) wash her clothes near the river
B) listen to the radio and records
C) do the errands by hand
D) walk a long way to the school

5. While I was waiting for a taxi yesterday, a car - - - - into a tree.

- A) crashed B) crashes
C) has crashed D) had crashed

6. After Sally Ride - - - - for NASA's space program, she was selected for the program out of the 8000 applicants.

- A) applies B) will apply
C) had applied D) was applying

7. Before Casey - - - - to London, he had lived in Manchester for ten years.

- A) has moved B) will move
C) moves D) moved

8. When I called Emma, I learnt that she had stayed in the hospital for a week. If I had known that, I - - - - her.

- A) could visit
B) should visit
C) should have visited
D) could have visited

9. I tried to buy a concert ticket yesterday but all of them had been sold. I wish I had - - - -.

- A) invited my friend to the concert
B) missed the concert date
C) bought the ticket earlier
D) sold the ticket to my colleague

10. If I had controlled my purse before I went out, I wouldn't have - - - - the money at home.

- A) forgotten B) driven
C) chosen D) broken

11. Jack : What are your - - - - ?
Tim : I like riding a horse and playing chess.

Bu cümlede boş bırakılan yere aşağıdakilerden hangisi getirilemez?

- A) favourite activities
B) past habits
C) interests
D) hobbies

1. OTURUM

(244) ALMANCA – 5

1 - 7. sorularda boş bırakılan yere/yerlere uygun gelen kelime ya da ifadeyi işaretleyiniz.

1. **A:** Was erzählt Helga ihren Freunden?
B: Sie erzählt - - - ihrer Reise, die sie in die Türkei gemacht hat.

A) bei B) von
C) an D) um

2. **Es ist nicht - - - - im Museum zu fotografieren.**

A) bezahlen B) verkaufen
C) besucht D) erlaubt

3. **Wir haben unser Hotel über das Reisebüro - - - - .**

A) buche B) gebucht
C) buchst D) buchen

4. **Karin möchte eine Wohnung mieten. Sie hat in der - - - - eine 3 Zimmer Wohnung gefunden.**

A) Zeitung B) Hochhaus
C) Anzeigen D) Makler

5. Ich bin Klaus. Ich bin Hausmeister. Die Hausbewohner reinigen die Treppen.

Klaus sagt, dass - - - - .

A) der Hausmeister die Treppen reinigt
B) die Hausbewohner die Treppen nicht reinigen
C) die Hausbewohner die Treppen reinigen
D) er kein Hausmeister ist

6. **A:** Welche Sportart - - - - deine Mutter in ihrer Jugend machen?

B: Sie hatte sich immer für Gymnastik interessiert.

A) wollte B) hatte
C) will D) hat

7. **Tennis ist eine - - - - aber Basketball ist eine - - - - .**

A) Einzelsportart / Mannschaftssportart
B) Mannschaftssportart / Einzelsportart
C) Mannschaftssportart / Kampfsportart
D) Kampfsportart / Einzelsportart

8. **Was kann man nicht in die Papiermülltonne werfen?**

A) Hefte B) Flaschen
C) Zeitungen D) Briefe

9.

Wohnung in Bodrum am Meer
1 Schlafzimmer + 1Wohnzimmer
Wfl 60 m².

Etage mit Möbel, Klimaanlage,
Aufzug, Balkon mit Meerblick,

Keine Nebenkosten, MM 15 000
Lira, 1 MM Kautiön

Tel:0-532-

Wie groß ist die Wohnung?

A) 1 Zimmer
B) 15 000 Lira
C) 60 m²
D) 1 Miete Kautiön

10. **Was braucht man nicht um Fußball zu spielen?**

A) Fußball B) Spieler
C) Tor D) Netz

11. Eda und Esra waren in den Ferien in Alanya. Am ersten Tag haben sie die Burg besichtigt. Morgens nach dem Frühstück sind sie schwimmen gegangen.

Wann sind sie schwimmen gegangen?

A) Sie sind nie schwimmen gegangen.
B) Sie sind nachmittags schwimmen gegangen.
C) Sie sind nach dem Frühstück schwimmen gegangen.
D) Sie sind nur am ersten Tag schwimmen gegangen.

(244) FRANSIZCA – 5

1 - 11. sorularda boş bırakılan yere/yerlere uygun gelen kelime ya da ifadeyi işaretleyiniz.

1. **Homme** : Qu'est-ce que tu as fait des billets d'avion ? J'ai cherché partout, je ne - - - - trouve pas.

Femme : Je ne sais pas, moi.

A) y B) les
C) en D) leur

2. **A Paris, il y a bien sûr des stades, des piscines, des salles de gym etc... Certains sont ouverts pendant - - - - la journée et on peut pratiquer presque - - - - les sports.**

A) tout / toutes
B) toutes / tout
C) toute / tous
D) tous / toute

3. **Aujourd'hui, c'est le 25 mars 2023. Nadia est un mannequin aux yeux bleus, au teint clair. À 18 ans, elle a encore un visage d'enfant calme. Elle a fait ses premières photos de mode en 2019 - - - - .**

A) quand elle avait 4 ans
B) et joue le rôle du père
C) à l'âge de 23 ans
D) mais elle n'y est pas retourné

4. **Les microplastiques - - - - les gens jettent dans les océans - - - - les poissons et les fruits de mer.**

A) dont / changent
B) où / disparaissent
C) qui / augmentent
D) que / polluent

5. **Le nombre d'obèses dans le pays inquiète les médecins. Il faut reprendre de bonnes habitudes alimentaire: trois repas équilibrés - - - - jour, - - - - des légumes, de la viande, du poisson, des fruits et un laitage.**

A) dans / pour
B) entre / sans
C) par / avec
D) pendant / en

1. OTURUM

6. Pour rester en bonne forme physique et en bonne santé, faites régulièrement du sport, - - - .

- A) et manger trop sucré ou trop gras est évidemment très efficace pour perdre du kilo en trop
- B) mais évitez les sports qui sont mauvais pour le cœur
- C) en effet il est préférable de prendre des biscuits, des gâteau, des chips au lieu de prendre un fruit ou un laitage
- D) alors, si on fait une heure de natation, on perd 250 calories, et pour une heure de marche: 150

7. Médecin : Monsieur Durand, vous avez 70 ans. Vous avez eu des problèmes cardiaques très graves, mais quand même vous voulez faire du football.

M. Durand : Donc, vous ne me conseillez pas d'en faire ?

Médecin : - - - .

- A) Vous avez raison, vous êtes toujours dans un bureau. Allez visiter des musées en plein air
- B) Non, c'est très bien. Continuez votre habitude alimentaire et suivez bien votre régime
- C) Bien sûr que non. Vous êtes très jeune et vous pouvez y jouer encore pendant des années
- D) Oui, absolument. Et en plus, vous avez mal aux genoux

8. Malade: - - - ? Je n'en prends pas, je les trouve trop sucrés

- A) Des pastilles
- B) Les médicaments
- C) Les antibiotiques
- D) Un désinfectant

9. De nos jours, le nombre de médecins augmente de plus en plus, et il y a beaucoup de nouvelles professions dans le domaine - - - : infirmier spécialiste, chercheur, technicien

- A) du laboratoire
- B) de la pharmacie
- C) de la santé
- D) des sciences

10. Vous pouvez étudier à l'étranger grâce au programme Erasmus à partir de la deuxième année de vos études. - - - parce qu'il y a des critères académiques pour la sélection de candidats.

- A) Il faut vivre avec le minimum
- B) Mais les places sont limitées
- C) C'est motivant ou pas
- D) Étudier à l'étranger, c'est facile

11. Si j'étais étudiant en France, je - - - mieux le français.

- A) parlerais
- B) parlait
- C) parlerai
- D) parlerez

(421) FİZİK – 1

1. Aşağıdakilerden hangisi skâler bir büyüklüktür?

- A) Kuvvet
- B) Sürat
- C) Yer değiştirme
- D) İvme

2. Ahmet, bazı büyüklüklere ait birimlerin eşleştirilmesini tabloda yapmıştır.

Büyüklik	Birim
Madde miktarı	mol
Uzunluk	metre
Sıcaklık	kelvin
Işık şiddeti	amper

Buna göre, Ahmet hangi büyüklüğün birimini yanlış eşleştirmiştir?

- A) Madde miktarı
- B) Uzunluk
- C) Sıcaklık
- D) Işık şiddeti

3. Kristal örgüye sahip katıların manyetik, optik, esneklik ve elektriksel özelliklerini inceleyen fizik biliminin alt alanı aşağıdakilerden hangisidir?

- A) Nükleer fizik
- B) Mekanik
- C) Katı fizik
- D) Optik

4. Maddenin dışarıdan uygulanan kuvvetlere direnç göstererek şeklini koruma isteği aşağıdakilerden hangisi ile ifade edilir?

- A) Yüzey gerilimi
- B) Basınç
- C) Dayanıklılık
- D) Hacim

5. Boş bir kaba özkütlesi 0,3 kg/m³ ile 0,7 kg/m³ olan, birbirine karışabilen K ve L sıvıları konuluyor.

Buna göre, karışımın özkütlesi büyüklük olarak kaç kg/m³ olabilir?

- A) 0,1 B) 0,6 C) 0,7 D) 0,8

6. İçerisinde 30 cm³ su bulunan dereceli silindire kütleleri m, 2m, 3m olan demir bilyeler sırayla bırakıldığında ölçülen su seviyesi tablodaki gibidir.

Kütle	m	2m	3m
Ölçülen Su Seviyesi (cm ³)	32	34	36

Buna göre, demir bilyenin özkütlesi kaç m³'dir?

- A) $\frac{7}{2}$ B) $\frac{5}{2}$ C) $\frac{3}{2}$ D) $\frac{1}{2}$

7. Hacmi 0,7 L olan suyun dm³ cinsinden değeri kaçtır?

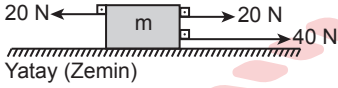
- A) 0,7 B) 7 C) 70 D) 700

1. OTURUM

8. Sürtünme kuvveti ile ilgili aşağıdakilerden hangisi yanlıştır?

- A) Cisimlerin hareketini zorlaştırır.
B) Temas gerektirmeyen bir kuvvettir.
C) Hareket eden cismi yavaşlatır veya durdurur.
D) Duran bir cismin hareket etmesini engeller.

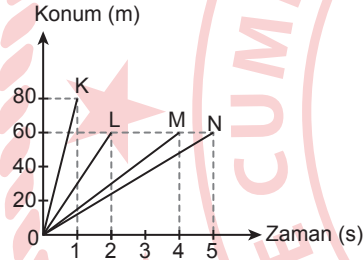
9. Şekildeki m kütleli cisme 20 N, 40 N ve 20 N'luk kuvvetler etki etmektedir.



Sürtünme kuvveti ihmal edildiğine göre, cisme etki eden net kuvvet kaç N'dur?

- A) 40 B) 60 C) 80 D) 100

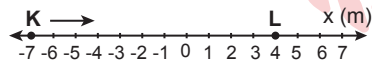
10. K, L, M ve N arabalarına ait konum zaman grafikleri şekildeki gibidir.



Buna göre, hangi arabanın sürati en fazladır?

- A) K B) L C) M D) N

11. Şekildeki doğrusal bir yolda +x yönünde hareket eden öğrenci K noktasından L noktasına gidiyor.

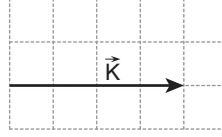


Buna göre, öğrenci kaç m yer değiştirmiştir?

- A) 3 B) 7 C) 9 D) 11

(425) SEÇMELİ FİZİK – 1

1. Birim kareler üzerine çizilmiş K vektörü şekildeki gibidir.



Buna göre, $2\vec{K}$ vektörünün şiddeti kaç birimdir?

- A) 8 B) 6 C) 4 D) 2

2. Birbirine eşit iki vektörün bileşkesinin büyüklük olarak maksimum olması için iki vektör arasındaki açı kaç olmalıdır?

- A) 180° B) 90°
C) 45° D) 0°

3. Doğu - batı doğrultusunda hareket eden bir araçtaki sürücü, yol kenarında duran başka bir aracı batı yönünde 10 km/h hızla gidiyormuş gibi görüyor.

Buna göre, hareket hâlindeki aracın hız büyüklüğü ve yönü aşağıdakilerden hangisidir?

- A) 10 km/h - Batı
B) 10 km/h - Doğu
C) 20 km/h - Batı
D) 20 km/h - Doğu

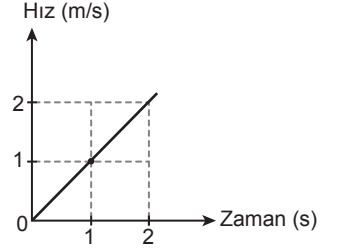
4. Bir cisim üzerine etki eden net kuvvet sıfır ise cisim için,

- I. Duruyorsa durmaya devam eder.
II. Hareket hâlinde ise sabit hızla hareketine devam eder.
III. İvmeli hareket eder.

yargılarından hangileri Newton'un hareket yasalarına göre doğrudur?

- A) Yalnız II B) Yalnız III
C) I ve II D) I ve III

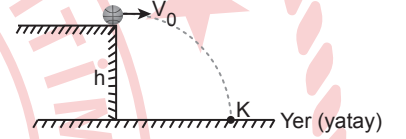
5. Doğrusal bir yolda durgun hâlden harekete başlayan bir araca ait hız-zaman grafiği şekildeki gibidir.



Buna göre, aracın 0-2 s aralığındaki yer değiştirmesi kaç metredir?

- A) 0,5 B) 1 C) 1,5 D) 2

6. Yerden h yüksekliğindeki bir cisim yatay doğrultuda V_0 ilk hızla fırlatıldığında cisim şekildeki gibi K noktasında yere çarpar.



Buna göre, cismin K noktasında yere çarpma anına kadarki ivmesi nasıl değişir? (Hava sürtünmesi ihmal ediliyor.)

- A) Sabit kalır.
B) Artar.
C) Azalır.
D) Önce artar sonra azalır.

7. Sürtünmesiz yatay düzlemde durmakta olan bir cisme yatay doğrultuda sabit 10 N'luk kuvvet 2 m'lik yol boyunca uygulanıyor.

Buna göre, kuvvetin yaptığı iş kaç N. m'dir?

- A) 25 B) 20 C) 10 D) 5

1. OTURUM

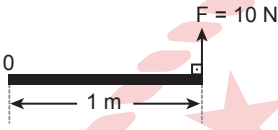
8. İtme ile ilgili,

- I. Skâler büyüklüktür.
- II. Uygulanan kuvvet ile orantılıdır.
- III. Kuvvetin uygulanma süresi ile orantılıdır.

yargılarından hangileri doğrudur?

- A) Yalnız I
- B) I ve II
- C) II ve III
- D) I, II ve III

9. Ağırlığı ihmal edilen şekildeki çubuk 0 noktası etrafında dönebilmektedir.



Buna göre, $F = 10$ N'luk kuvvetin 0 noktasına göre torku kaç N.m'dir?

- A) 1
- B) 5
- C) 9
- D) 10

10. Uzunluğu 16 m olan homojen düz bir çubuğun ağırlık merkezi çubuğun ucundan kaç m uzaktadır?

- A) 16
- B) 8
- C) 4
- D) 2

11. Aşağıdaki basit makinelerden hangisi amacına uygun kullanıldığında sadece kuvvetin yönünü değiştirir?

- A) Sabit makara
- B) Hareketli makara
- C) Eğik düzlem
- D) Çıkrık

(432) KİMYA – 2

1. Çok atomlu iyonlara "kök" adı verilir.

Buna göre aşağıdakilerden hangisi köktür?

- A) O_2
- B) CO_3^{2-}
- C) CO_2
- D) Fe^{2+}

2. Aşağıdaki kimyasal türler arası etkileşimlerden en zayıf olan hangisidir?

- A) İyonik bağ
- B) Kovalent bağ
- C) Metalik bağ
- D) Hidrojen bağı

3. Alüminyum sülfat bileşiği kaç farklı atomdan oluşur?

- A) 1
- B) 2
- C) 3
- D) 4

4. Metallerin değerlik elektronları diğer atomların son katmanlarında serbestçe dolaşabilir. Metaller, serbest hareket edebilen bu elektronlar sayesinde - - - -

Bu metinde boş bırakılan yere aşağıdakilerden hangisi getirilemez?

- A) elektriği iletirler.
- B) ısıyı iletirler.
- C) tel ve levha hâline getirilebilirler.
- D) kırılğındırlar.

5. Polar Moleküller : HCl, H_2O
Apolar Moleküller : H_2 , Cl_2

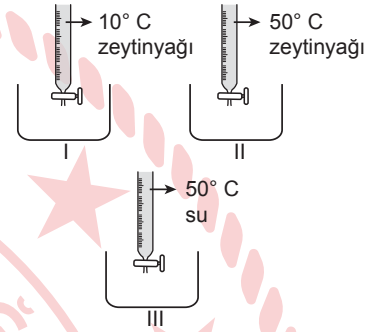
Buna göre, aşağıdaki moleküllerden hangileri arasında dipol-dipol etkileşimi oluşur?

- A) HCl - H_2O
- B) HCl - H_2
- C) H_2O - Cl_2
- D) H_2 - Cl_2

6. Aşağıdaki olaylardan hangisinde kimyasal değişim gerçekleşmiştir?

- A) Tuzun suda çözünmesi
- B) Suyun buharlaşması
- C) Demirin paslanması
- D) Camın kırılması

7. Üç özdeş büretle şekilde gösterilen düzenekler kuruluyor.



Büretlerin musluğu aynı anda açılarak kısa bir süre akıtılıp kapatılıyor.

Buna göre, numaralanmış kaplarda işlem sonrasında biriken sıvı miktarlarının kıyaslaması aşağıdakilerden hangisidir?

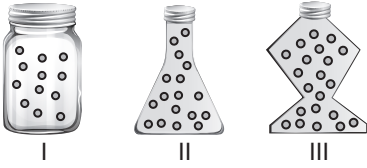
- A) I > II > III
- B) II > I > III
- C) III > II > I
- D) III > I > II

8. Kapalı bir kaptaki oda koşullarında buharı ile dengede olan su örneği için aşağıdakilerden hangisi doğrudur?

- A) Ortamın sıcaklığı değiştirilirse suyun denge buhar basıncı değişmez.
- B) Kaptaki denge buhar basıncı sıvının cinsine bağlı değildir.
- C) Kaptaki denge buhar basıncı suyun miktarına bağlıdır.
- D) Kabinin ağzı açılırsa suyun tamamı zamanla buharlaşır.

1. OTURUM

9. Görselde farklı şekillerde olan eşit hacimlerdeki üç cam kaba farklı miktarda gaz doldurulmuştur.



Buna göre kaplarda bulunan gazların hacimleri arasındaki ilişki aşağıdakilerden hangisidir?

- A) I = II = III B) I > II > III
C) II > I > III D) III > II > I

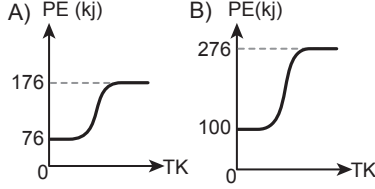
10. Maddenin yüksek sıcaklıklarda ısıtılması sonucu oluşan ve içinde iyonlaşmış taneciklerin de bulunduğu fiziksel hâl aşağıdakilerden hangisidir?

- A) Katı B) Sıvı
C) Gaz D) Plazma

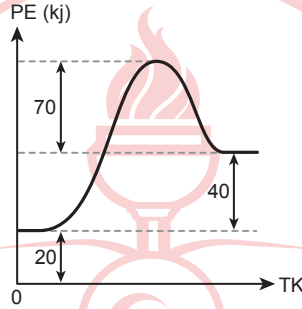
11. Ankara'dan Antalya'ya taşınan bir kişi kullandığı musluk suyu için aşağıdaki ifadelerden hangisini söylerse Antalya'daki suyun daha yumuşak olduğu anlaşılır?

- A) Çaydanlıkta daha çok kireç tortusu oluşuyor.
B) Sabun daha çok köpürüyor.
C) Yıkanan bardaklarda daha çok leke ve çizgi oluşuyor.
D) Demlenen çay daha bulanık oluyor.

2. $\Delta H^\circ_{\text{tepkime}} = 176 \text{ kJ}$ olan tepkimeye ait potansiyel enerji (PE) - tepkime koordinat (TK) grafiği aşağıdakilerden hangisidir?



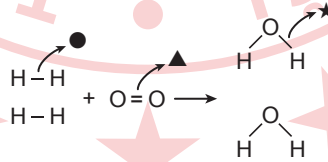
3. Bir tepkimeye ait potansiyel enerji (PE) - tepkime koordinat (TK) grafiği verilmiştir.



Buna göre, aktifleşmiş kompleksin enerjisi kaç kJ'dür?

- A) 20 B) 60 C) 100 D) 130

4. $2\text{H}_2 + \text{O}_2 \rightarrow 2\text{H}_2\text{O}$ tepkimesinde kırılan ve oluşan bağlar görselde modellenmiştir.



Bağ enerjileri ●, ▲ ve ★ olarak gösterildiğine göre, tepkime entalpisi aşağıdaki hesaplamaların hangisi ile bulunur?

- A) $2\star - (\bullet + \blacktriangle)$
B) $4\star - (2\bullet + \blacktriangle)$
C) $(2\bullet + \blacktriangle) - 4\star$
D) $(\bullet + \blacktriangle) - 2\star$

5. I. $\text{C(k)} + \text{O}_2(\text{g}) \rightarrow \text{CO}_2(\text{g})$
II. $\text{CH}_4(\text{g}) + 2\text{O}_2(\text{g}) \rightarrow \text{CO}_2(\text{g}) + 2\text{H}_2\text{O}(\text{g})$
III. $\text{CaCO}_3(\text{k}) \rightarrow \text{CaO(k)} + \text{CO}_2(\text{g})$
Numaralanmış tepkimelerden hangileri homojen faz tepkimesidir?

- A) Yalnız I B) Yalnız II
C) I ve III D) II ve III

6. Hız bağıntısı $\text{Hız} = k \times [\text{NOCl}]^2$ şeklinde olan bir tepkimenin hız sabiti 10^{-6} L/mol.s' dir.

Buna göre hızın $4 \times 10^{-6} \text{ mol/L.s}$ olduğu anda NOCl derişimi kaç mol/L'dir?

- A) 2 B) 4 C) 6 D) 8

7. Sabit hacimli kapta gerçekleşen, $\text{H}_2(\text{g}) + \text{Cl}_2(\text{g}) \rightarrow 2\text{HCl}(\text{g})$ tepkimesinin hızı aşağıdakilerden hangisi tek başına yapılırsa artar?

- A) Cl_2 gazı azaltılırsa
B) Kaba HCl gazı eklenirse
C) Sıcaklığı azaltılırsa
D) Katalizör kullanılırsa

8. A ve B ile gösterilen maddeler arasında gerçekleşen reaksiyonlara ait madde derişimleri ve tepkime hızları tabloda verilmiştir.

Deney	[A] (mol/L)	[B] (mol/L)	Tepkime Hızı (mol/L.s)
1.	0,2	0,3	12×10^{-2}
2.	0,4	0,3	24×10^{-2}
3.	0,1	0,2	6×10^{-2}
4.	0,1	0,4	6×10^{-2}

Buna göre, aşağıdaki ifadelerden hangisi doğrudur?

- A) B'nin derişimi sabitken A'nın derişimi 2 kat artarsa hız 2 kat artar.
B) A'nın derişimi sabitken B'nin derişimi 2 kat artarsa hız 2 kat artar.
C) Sadece 1 ve 2. deneylere bakarak B'nin derişiminin, hızı etkilemediği söylenebilir.
D) Sadece 3 ve 4. deney verileri kullanılarak hız bağıntısını yazmak mümkündür.

(436) SEÇMELİ KİMYA – 2

1. $\text{CaO(k)} + \text{H}_2\text{O(s)} \rightarrow \text{Ca(OH)}_2(\text{k}) + 65 \text{ kJ/mol}$

Tepkimesine göre 2 mol sönmemiş kirecin (CaO) yeterli miktarda su ile tam verimle reaksiyonu sonucu aşağıdaki ısı derişimlerinden hangisi olur?

- A) Çevreden 65 kJ ısı alır.
B) Çevreye 65 kJ ısı verir.
C) Çevreden 130 kJ ısı alır.
D) Çevreye 130 kJ ısı verir.

1. OTURUM

9. • Kapalı sistemlerde ve sabit sıcaklıkta gerçekleşir.
• İleri tepkime hızı geri tepkime hızından büyüktür.
• Tersinir tepkimedir.

Dengedeki bir tepkime ile ilgili bu ifadeler doğru (D)-yanlış (Y) olarak değerlendirildiğinde sıralama hangisi olur?

- A) D-Y-Y B) Y-D-D
C) D-Y-D D) Y-D-Y

10. Su moleküllerinin kendi kendilerine iyonlaşmasına suyun - - - - denir.

Bu tanım cümlesinde boş bırakılan yere aşağıdakilerden hangisi getirilmelidir?

- A) nötrleşmesi
B) oto-iyonizasyonu
C) polarlaşması
D) süblimleşmesi

11. $HF + CN^- \rightleftharpoons F^- + HCN$
 $HI + H_2O \rightleftharpoons H_3O^+ + I^-$

Bu tepkimelerdeki eşlenik (konjuge) asit-baz çiftlerinden biri aşağıdakilerden hangisidir?

- A) $HF - F^-$ B) $CN^- - F^-$
C) $HI - H_2O$ D) $H_2O - I^-$

(441) BİYOLOJİ – 1

1. Aşağıdakilerden hangisinde hem organik besinlerin parçalanması hem de ATP üretilmesi gerçekleşir?

- A) Sindirim
B) Hücresel solunum
C) Beslenme
D) Hareket

2. İnsan vücudunda bazı proteinler hücre içi ve dışı sıvıların pH değişimlerini dengeler.

Bu durum proteinlerin aşağıdakilerden hangisini yaptığını kanıtlar?

- A) Homeostasiyi sağladığını
B) ATP ürettiğini
C) Hormonların yapısını oluşturduğunu
D) Hücresel yapıya katıldığını

3. Aşağıdakilerden hangisi su ile ilgili doğrudur?

- A) Hidrolizde açığa çıkar.
B) Hücre zarından aktif taşıma ile ATP harcanarak geçer.
C) İnsandaki fazla su kaybı hayati risk oluşturur.
D) Öz ısısı düşüktür.

4. Enzim eksikliği yaşayan bir hayvana arjinin aminoasidi verildiğinde eksik olan enzimin üretilmediği ve sorunun çözüldüğü gözlenmiştir.

Bu gözleme dayanarak aşağıdakilerden hangisi söylenebilir?

- A) Eksik olan enzim RNA yapılıdır.
B) Arjinin aminoasidi bu hayvan tarafından üretilir.
C) Hayvanın protein sentezi mekanizması bozulmuştur.
D) Arjinin aminoasidi bu hayvan için esansiyel besindir.

5. Dört polisakaridın "hücre tipi" ve "görev" özellikleri bakımından iki farklı kıstasa göre gruplandırıldığı tablo verilmiştir.

	I	II
K	Selüloz	Kitin
L	Nişasta	Glikojen

Buna göre, aşağıdakilerden hangisi doğrudur?

- A) I hayvanı belirtir.
B) II enerji deposunu belirtir.
C) K yapısallığı belirtir.
D) L bitkiyi belirtir.

6. İnsandaki nükleik asitler ile ilgili aşağıdakilerden hangisi doğrudur?

- A) Hücrede en fazla miktarda bulunan RNA çeşidi rRNA'dır.
B) Tümünde riboz şekeri vardır.
C) Aminoasit denen birimlerden oluşurlar.
D) DNA'nın nükleotidleri RNA nükleotidi olarak kullanılabilir.

7. Prokaryot hücrelerde hücre zarının içerisinde kalan kısmın tamamına verilen ad aşağıdakilerden hangisidir?

- A) Ribozom B) Golgi
C) Koful D) Sitoplazma


8. Bütün hücrelerde bulunan, madde alışverişini düzenleyen ve hücreler arası iletişimi sağlayan yapı aşağıdakilerden hangisidir?

- A) Hücre zarı B) Golgi
C) Sitoplazma D) Sil

9. Aşağıdakilerden hangisi ribozom ile ilgili yanlıştır?

- A) Çift zarlı organellerden küçüktür.
B) DNA sentezinden sorumludur.
C) İki alt birimden oluşur.
D) Mitokondrinin içerisinde de bulunur.

10. Bitki ve hayvan hücrelerinin her ikisinde de bulunan bir organel şekilde gösterilmiştir.



Buna göre, bu organel ile ilgili aşağıdakilerden hangisi doğrudur?

- A) Kendi DNA'sı ve RNA'sı vardır.
B) Yassı keseciklerin birleşmesiyle oluşur.
C) Üzerinde ribozomları barındıran ve barındırmayan iki çeşidi vardır.
D) Çekirdeğin oluşmasında görev alır.

11. Aşağıdakilerden hangisi hücre zarından pasif taşımayla madde geçişini gözlemlemek amacıyla yapılan kontrollü bir deneyde zardan geçişini incelemek için yapılamaz?

- A) Su B) Mineral
C) Ribozom D) Glikoz

1. OTURUM

(443) BİYOLOJİ – 3

1. Aşağıdakilerden hangisi bitkilerin mitotik evresi ile ilgili yanlıştır?

- A) Sitokineizde orta lamel oluşur.
- B) Anafazda kardeş kromatitler ayrılır.
- C) Çekirdek bölünmesi gerçekleşir.
- D) Sonucunda canlının kromozom sayısı azalır.

2. Aşağıdakilerden hangisi bitkilerin vejetatif üreme yöntemlerinden değildir?

- A) Spor
- B) Sürünücü gövde
- C) Yumru
- D) Soğan

3. Sığırlarda meydana gelen aşağıdaki olaylardan hangisinde mayoz etkili dir?

- A) Yeni oluşan yavrunun anne ve babadan farklı özellikler göstermesi
- B) Yeni doğan yavrunun yıllar içinde 5 kat daha ağır hâle gelmesi
- C) Yaralanan dokuda, oluşturulan yeni hücrelerin kromozom sayılarının sabit kalması
- D) Organların boyutlarının zamanla artması

4. Sperm ve yumurtanın birleşmesiyle oluşan insan zigotu ile ilgili aşağıdakilerden hangisi doğrudur?

- A) Eşeysiz üremeyle oluşur.
- B) Annenin yalnız iyi özelliklerini alır.
- C) Hem anneden hem babadan gelen genetik özellikleri taşır.
- D) Çok sayıda mayoz geçirerek hücre sayısını artırır.

5. Bir insanın eşeyli üremeyle oluşma sürecinde aşağıdakilerden hangisi diğerlerinden önce gerçekleşir?

- A) Zigotun embriyoyu oluşturması
- B) Eşey hücrelerinin birleşmesi
- C) Embriyonun mitozlar geçirerek büyümesi
- D) Organların gelişmesi

6. Tohum rengi bakımından Kk genotipindeki sarı tohumlu bezelye bitkisi ile ilgili aşağıdakilerden hangisi yanlıştır?

- A) Heterozigottur.
- B) İki farklı gamet çeşidi oluşturabilir.
- C) Monohibrit genotipe sahiptir.
- D) Çekinik fenotipe sahiptir.

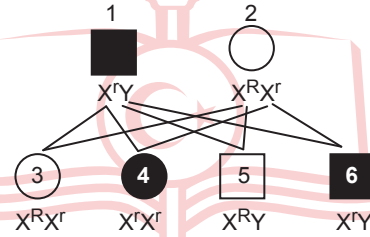
7. Eş baskınlığın görüldüğü MN kan grubu için heterozigot iki bireyin çaprazlanmasıyla oluşabilecek fenotip çeşidi en fazla kaçtır?

- A) 1
- B) 2
- C) 3
- D) 4

8. Aşağıdakilerden hangisi hemofili bakımından sağlıklı bir babanın çocuğuna ait genotip olamaz?

- A) $X^H X^H$
- B) $X^H X^h$
- C) $X^h X^h$
- D) $X^h Y$

9. X'e bağlı çekinik fenotipin ortaya çıktığı bireylerin koyu renkte gösterildiği bir çaprazlama örneği şekilde verilmiştir.



Buna göre, aşağıdakilerden hangisi doğrudur?

- A) 1 ve 2. bireylerin alel çeşitleri aynıdır.
- B) 4 ve 6. bireylerin oluşabilme ihtimalleri %40'tır.
- C) 4 ve 5. bireylerin genotipleri yanlış yazılmıştır.
- D) 3 ve 6. bireylerin meydana gelme olasılıkları birbirine eşittir.

10. Genlerin çevre etkisiyle birlikte bir karakterin canlıda ortaya çıkardığı sonucu belirten terim aşağıdakilerden hangisidir?

- A) Fenotip
- B) Genotip
- C) Alel
- D) Eş baskınlık

11. Bir türdeki bir karakter için alel çeşidinin artması aşağıdakilerden hangisinin artmasına neden olmaz?

- A) Fenotip çeşidinin
- B) Bireyler arası benzerliğin
- C) Genetik çeşitliliğin
- D) Biyolojik çeşitliliğin

(446) SEÇMELİ BİYOLOJİ – 2

1. İnsanın solunum sistemi ile ilgili aşağıdakilerden hangisi doğrudur?

- A) Soluk alma sürecinde hava önce gırtlaktan sonra yutaktan geçer.
- B) Besinlerin yutulması sırasında epiglottis soluk borusunu kapatır.
- C) Akciğerdeki kasların gevşemesi akciğere hava dolmasını sağlar.
- D) Pleura sıvısı akciğerin içini doldurur.

2. İnsanın solunum sistemi ile ilgili aşağıdakilerden hangisi doğrudur?

- A) Karbonik anhidraz enzimi etkisiyle karbominohemoglobin oluşur.
- B) Oksihemoglobin oluşumu plazmada gerçekleşir.
- C) Bikarbonat iyonları akciğer kılcalıklarında oluşur.
- D) Oksijenin %98'i alyuvarlarda geri kalanı plazmada taşınır.

3. İnsanda aşağıdakilerden hangisinin meydana gelmesi, dokulara birim zamanda taşınan oksijen miktarını azaltmaz?

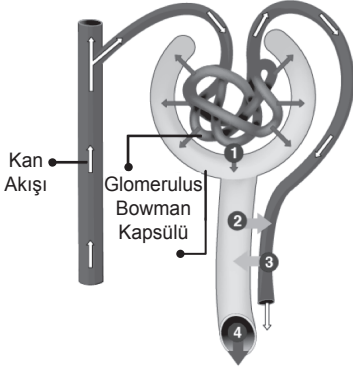
- A) Yüksek miktarda kan kaybının olması
- B) Solunum yolunun daralması
- C) Havadaki oksijen oranının azalması
- D) Yüksek miktarda egzersiz yapılması

4. İnsanın üriner sistemi ile ilgili aşağıdakilerden hangisi doğrudur?

- A) Böbreklerin dışındaki zarda malpigi piramitleri bulunur.
- B) Havuzcukta toplanan idrar, üreter yoluyla idrar kesesine gider.
- C) Nefronlar pelvisin içerisinde bulunur.
- D) Nefronlarda süzülen sıvının tamamı idrar olarak atılır.

1. OTURUM

5. Nefron şemasında kısımlarına göre meydana gelen olaylar numaralanarak gösterilmiştir.



Numaralanmış bu olaylar ile ilgili aşağıdakilerden hangisi doğrudur?

- A) 1'de geri emilim gerçekleşir.
B) 2'de idrar mesaneye taşınır.
C) 3'te salgılama yapılır.
D) 4'te süzülme meydana gelir.
6. Aşağıdakilerden hangisi menstrual döngüde ovulasyondan sonra meydana gelir?
- A) Progesteronun en yüksek seviyesine ulaşması
B) Folikülün en büyük hâle ulaşması
C) Lüteinleştirilen hormonun en yüksek seviyesine ulaşması
D) Folikül uyarıcı hormonun en yüksek seviyesine ulaşması
7. Embriyonun gelişim aşamalarında aşağıdakilerden hangisi diğerlerinden sonra başlar?
- A) Farklılaşma
B) Hücre göçü
C) Segmentasyon
D) Organogenez
8. İnsan ve derisinde yaşayan uyuz böceğinin arasındaki ilişki ile ilgili aşağıdakilerden hangisi doğrudur?
- A) Birliktelikten uyuz böceği fayda sağlar.
B) Uyuz böceği avcı insan avdır.
C) Aralarında rekabet ilişkisi vardır.
D) Birliktelikten her ikisi de zarar görür.

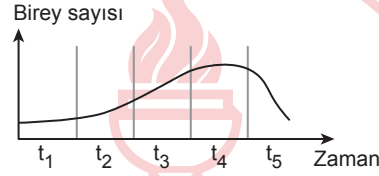
9. Süksesyon ile ilgili aşağıdakilerden hangisi doğrudur?

- A) Ortama yeni türlerin girmesi mümkün değildir.
B) Popülasyondaki canlı sayısının azalmasıyla ortaya çıkar.
C) Zamanla komünitedeki canlı çeşitliliği değişime uğrar.
D) Klimaks komünitelerin oluşmasına katkı sağlamaz.

10. Bir popülasyonda birim alana veya birim hacme düşen birey sayısı popülasyonun hangi özelliğini gösterir?

- A) Yoğunluğunu
B) Dağılımını
C) Eğrisini
D) Büyüklüğünü

11. Bir popülasyonun birey sayısının zamana bağlı değişimi grafikte gösterilmiştir.



Buna göre, aşağıdakilerden hangisi kesinlikle doğrudur?

- A) Popülasyon, t_3 'te kümeli dağılım göstermektedir.
B) Popülasyon, t_4 'te kuruluş aşamasındadır.
C) t_3 'teki koşullar t_5 'tekinden daha iyidir.
D) t_1 'deki çevre direnci t_4 'tekinden daha büyüktür.

(465) TEMEL DİNİ BİL. – 1

1. Aile ile ilgili aşağıdaki bilgilerden hangisi yanlıştır?

- A) Nikâh akdi ile kurulur.
B) Toplumun devamını sağlar.
C) Çocukları hayata karşı hazırlar.
D) Şehirleşmenin yaygınlaşması ile başlar.

2. Aşağıdakilerden hangisi Hz. Muhammed'in (sav) Medine'ye hicret ettikten sonra hak ve adaleti gerçekleştirmek için yaptığı uygulamalardan biridir?

- A) Medine toplumuyla sözleşme yapması
B) Hılfu'l Fudul topluluğuna katılması
C) Nüfus sayımı yaptırması
D) Mescit inşa ettirmesi

3. Aşağıdakilerden hangisi yardımlaşma ve dayanışmanın doğrudan manevi boyutuna örnek gösterilebilir?

- A) Kimsesiz çocukların barınabilmesi için yetimhaneler kurulması
B) İhtiyaç sahibi insanlar için aşevleri inşa edilmesi
C) Müslüman'ın Müslüman'a dua etmesi ve iyiliğini istemesi
D) Zekât, sadaka ve sadaka-i cariye gibi uygulamaların yapılması

4. "Bizi aldatan bizden değildir."

Bu hadiste aşağıdakilerin hangisinden uzak durulmasına işaret edilmektedir?

- A) Tecessüs B) Hile
C) Kumar D) Rüşvet

5. "Müslüman kardeşini kendine tercih etmek, önceliği Müslüman kardeşine vermek" şeklinde ifade edilen kavram aşağıdakilerden hangisidir?

- A) İsar B) İnfak
C) Fazilet D) Sadaka

6. "Hiç kimse elinin emeğinden daha hayırlı bir şey yemiştir."

Bu hadiste aşağıdakilerden hangisinin önemine işaret edilmektedir?

- A) İnfak etmenin
B) Sadaka-i cariyenin
C) Helal kazancın
D) Dengeli olmanın

1. OTURUM

7. Aşağıdakilerden hangisi infak kapsamında değerlendirilemez?

- A) Zekât vermek
- B) Fitre vermek
- C) İlim öğretmek
- D) Borcunu ödemek

8. Aşağıdakilerden hangisi karz-ı hasen ile ilgilidir?

- A) İhtiyaç sahibine Allah rızası için verilen borçtur.
- B) Ödünç verilen parayı ya da malı fazlasıyla geri almaktır.
- C) Haksız bir fayda elde etmek için verilen ücrettir.
- D) Ticaretle menfaat sağlamak için fiyatlarla oynamaktır.

9. Kul hakkı ile ilgili aşağıdaki bilgilerden hangisi yanlıştır?

- A) İnsanlar arası ilişkilerden doğan hak ve sorumluluklardır.
- B) Maddi haklar, manevi haklardan önemli ve önceliklidir.
- C) Kamu düzenine uymak kul hakkı kapsamındadır.
- D) İhlal edilmesi dinen yasaklanmıştır.

10. Aşağıdakilerden hangisi mülk edinmenin helal sayıldığı yollarından biri değildir?

- A) Miras
- B) Ticaret
- C) Riba
- D) İnfak

11. "Hak olmayan bir şeyden faydalanmak veya onu elde etmek için yetkiliye verilen mal ya da para" için kullanılan kavram aşağıdakilerden hangisidir?

- A) Ücret
- B) Rüşvet
- C) Faiz
- D) Karaborsacılık

(479) SEÇMELİ MANTIK – 2

1. Birden fazla basit önermenin önerme eklemeleriyle birbirine bağlanması sonucu oluşan önermelere bileşik önerme denir.

Buna göre, aşağıdakilerden hangisi bileşik önerme örneği değildir?

- A) Ahmet, avukat veya savcıdır.
- B) Şermin gazetecidir.
- C) Tekin ve Mehmet çalışkandır.
- D) Gülşah ancak ve ancak çalışırsa başarır.

2. "Yağmur yağarsa ürün bol olur." önermesiyle ilgili aşağıdakilerden hangisi doğrudur?

- A) Basit önermedir.
- B) "Yağmur yağar" art bileşendir.
- C) "ürün bol olur" ön bileşendir.
- D) Koşul eklemi kullanılmıştır.

3. "İnsan özgürlüğüne kavuşursa hem mutlu hem de huzurlu olur ve kendi yeteneklerini geliştirebilir." önermesinde kaç önerme eklemi kullanılmıştır?

- A) 1
- B) 2
- C) 3
- D) 4

4. Günlük dilde konuşurken "veya, ya da, ya...ya" gibi sözcüklerle ifade edilen önerme eklemi aşağıdakilerden hangisidir?

- A) Tikel evetleme
- B) Tümel evetleme
- C) Koşul
- D) Karşılıklı koşul

5. Birden fazla önermenin bir arada tutarlılığının denetlenmesiyle ilgili aşağıdakilerden hangisi doğrudur?

- A) Önermeler tümel evetleme eklemiyle birbirine bağlanmış olmalıdır.
- B) Önermeler en az bir defa aynı satırda doğru değeri almalıdır.
- C) Öncüller koşul eklemiyle sonuç önermesine bağlanmış olmalıdır.
- D) Önermeler aynı satırda farklı doğruluk değerini almalıdır.

p	q	$\sim q$	$p \wedge \sim q$	$(p \wedge \sim q) \wedge q$
D	D	Y	Y	
D	Y	D	D	
Y	D	Y	Y	
Y	Y	D	Y	

Bu tabloya göre, $(p \wedge \sim q) \wedge q$ önermesinin doğruluk değeri aşağıdakilerden hangisidir?

- A)

D
Y
Y
D
- B)

D
D
D
D
- C)

Y
Y
Y
Y
- D)

Y
D
D
Y

7. " $\sim(p \wedge q)$ " önermesinin De Morgan Kuralları'na göre eş değeri aşağıdakilerden hangisidir?

- A) $\sim p \vee \sim q$
- B) $\sim p \wedge \sim q$
- C) $\sim p \vee q$
- D) $p \wedge \sim q$

8. Niceleme mantığında önermelerin özneleri "a, b, c...", yüklemeleri ise "F, G, H..." sembolleri ile gösterilir.

Buna göre, "Özkan konuşkandır." önermesinin sembolleştirilmiş hâli aşağıdakilerden hangisidir?

- A) Fab
- B) $\sim Fabc$
- C) Fa
- D) $Fa \rightarrow Gb$

1. OTURUM

9. Bir açık önermeyi, önerme hâline getirmek için kullanılan tüm terimler kümesi aşağıdakilerden hangisidir?

- A) Özelleme B) Gerçekleme
C) Totoloji D) Evren

10. Aşağıdakilerden hangisi \exists (tikel niceleyici) sembolüyle gösterilir?

- A) Bir kısım B) Hiçbir
C) Bütün D) Her

11. Aşağıdakilerden hangisi matematiğin işlem değişmezlerindedir?

- A) 1 B) + C) > D) ≤

(502) İNGİLİZCE – 8

1 - 10. sorularda boş bırakılan yere/yerlere uygun gelen kelime ya da ifadeyi işaretleyiniz.

1. **Adam** : Can you help me to plan my brother's birthday party?
David : Of course. I will - - - -.

- A) do the shopping for food and make a cake
B) have an important meeting with the customers
C) go to a concert with my friends in London
D) invite my family to have dinner in my house

2. **Mark** : May I speak to Mr. Shawn, please?
Officer : - - - -. Mr. Shawn is not here now. He has gone out.

- A) Sure
B) I'm sorry
C) Here you are
D) Help yourself

3. **While Celine - - - - in the forest, she fell down and broke her leg.**

- A) walks
B) has walked
C) is walking
D) was walking

4. "Announcement" means - - - -.

- A) childhood
B) declaration
C) accomodation
D) accident

5. **Environmental problems are caused by - - - - such as cutting trees, wasting water etc.**

- A) natural resources
B) wind tribunes
C) human actions
D) alternative energy forms

6. **In order to solve the air pollution problem, we should - - - -.**

- A) take longer showers
B) cut down more trees and plants
C) increase the risk of the climate change
D) drive our cars less and switch over to green energy

7. **The Internet makes our lives easier. For example, - - - -.**

- A) people can access information within seconds
B) personal information can be stolen from relevant websites
C) social media leads to loneliness and stress
D) people waste time and energy by getting addicted to the Internet

8. **I was late for work because I didn't go to bed early last night. I wish I - - - - earlier.**

- A) sleep
B) have slept
C) had slept
D) will sleep

9. **I got really wet walking home last night. If only I had - - - -.**

- A) taken my umbrella
B) got a ticket for the cinema
C) missed the bus
D) forgotten my wallet

10. **Jack** : Why are good manners important?
Bella : Because they - - - -.

- A) create a negative impact on others
B) cause rude and disrespectful behaviours
C) prevent people from having good relations
D) bring respect and success in people's lives

11. Robclean Floor Mop is an intelligent robotic device. If you don't enjoy mopping the floors every other day, it will do it for you. All you need to do is to pour some water into it and choose the cleaning pad appropriate for your floors.

Bu metin aşağıdakilerden hangisi ile ilgilidir?

- A) Sport B) Education
C) Housework D) Security

1. OTURUM

(502) ALMANCA – 8

1 - 7. sorularda boş bırakılan yere/yerlere uygun gelen kelime ya da ifadeyi işaretleyiniz.

1. **A:** Welche Eigenschaften hat dein Fernseher?
B: Ich weiß es nicht. Ich muss die ---- lesen.

A) Bedienungen
B) Gebrauchsanweisung
C) Service
D) Lautsprecher

2. Ein Wasserkocher ist ein Gerät, ---- man das Wasser kocht.

A) von den B) um zu
C) mit dem D) mit der

3. Helena ist ---- zu viel Technik, weil sie es gesundheitsschädlich findet.

A) dafür B) damit
C) dagegen D) gegen

4. Früher konnte man Bilder nur per Post schicken. Heute kann man Bilder auch mit ---- schicken.

A) Smartphones
B) Kassettenrekorder
C) Ladegerät
D) Kopfhörer

5. Heutzutage ist es kaum ---- ohne Kommunikationsmittel zu leben.

A) modernes B) unnötig
C) unmöglich D) möglich

6. Michael hat kein Geld. Ich ---- an seiner Stelle arbeiten.

A) wäre B) würde
C) wären D) würden

7. Karin möchte sich ein neues Auto kaufen. Aber sie weiß nicht von welcher Bank sie einen Kredit ---- soll.

A) eingezogen B) ausziehen
C) aufnehmen D) ausgeben

8. Was muß auf einen Paketschein nicht geschrieben werden?

A) Adresse B) Empfänger
C) Absender D) Unterschrift

9. Wenn wir über ein Thema etwas lernen möchten, können wir es im Internet suchen. Früher, als es noch kein Internet gab, musste man in Büchern nachschauen, aber man konnte nicht alles einfach finden. Im Internet kann man fast alle Informationen finden.

Welche Information ist nach dem Text richtig?

A) Im Lexikon gibt es mehr Informationen als im Internet.
B) Im Internet kann man alle Informationen finden.
C) Im Internet kann man Informationen leichter finden.
D) Im Lexikon gibt es genau so viele Informationen wie im Internet.

10. Welcher Satz sagt keine Höflichkeit aus?

A) Würdest du mir bitte helfen?
B) Geh raus!
C) Könnten Sie mir die Tür aufmachen?
D) Können Sie bitte leise sein?

11. Gebrauchsanweisung

- Die Maschinentür öffnen.
- Die Wäsche in die Maschine füllen.
- Waschmittel einfüllen.
- Den Programm auswählen.
- Auf die Starttaste drücken.

Welches Gerät ist das?

A) Waschmaschine
B) Staubsauger
C) Kaffeemaschine
D) Kühlschrank

(502) FRANSIZCA – 8

1 - 11. sorularda boş bırakılan yere/yerlere uygun gelen kelime ya da ifadeyi işaretleyiniz.

1. Nous devons consommer moins d'énergie pour sauver la planète pendant ---- notre vie.

A) tout B) toute
C) tous D) toutes

2. Ali est un jeune homme écolo: il travaille pour une organisation internationale ---- protège les espèces animales et végétales,

A) dont B) que
C) où D) qui

3. Aziz Sancar est un homme de science turc qui ---- obtenu le prix de Nobel.

A) a B) as C) ai D) est

4. Ahmet ne connaît pas bien le quartier, alors il demande à un passant ----.

A) où elle a mis son téléphone portable
B) pourquoi ils visitent le musée
C) comment il pourrait aller à la gare
D) avec qui il pourrait manger au restaurant

1. OTURUM

5. Si quelqu'un était le chef du groupe, ce - - - moi parce que j'ai plus d'expériences que les autres.

- A) sera B) serait
C) serais D) seras

6. La Terre est la planète - - - confortable pour l'Homme du point de vue des conditions physiques.

- A) meilleure B) aussi
C) le moins D) la plus

7. Pour lutter - - - la pollution, nous devons arrêter d'utiliser des énergies fossiles.

- A) pour B) avec
C) contre D) de

8. Ayşe vient de s'acheter un bâton selfie car - - -

- A) elle ne doit pas être en retard au travail
B) elle veut trouver son chemin à Paris
C) elle ne peut pas manger seule dans un restaurant
D) elle veut prendre des photos de la foule

9. Quand l'épidémie de Covid-19 a touché la Türkiye, - - -

- A) les citoyens de plus de 65 ans ont dû rester chez elles pendant plusieurs semaines
B) les individus sensibles ont été conscients d'eux et de leurs actes et respectueux de la nature
C) on a réalisé des projets pour sensibiliser les jeunes sur le danger du dérèglement climatique
D) nous avons opté pour l'idée de faire une maison pour nos amis chats de la rue

10. Je pense qu'un monde sans réseaux sociaux n'est plus - - - . On doit accepter le fait qu'ils font partie de notre vie.

- A) possible B) comique
C) dangereux D) grave

11. - - - votre enfant est devenu champion dans la catégorie de mathématiques.

- A) Nous ne sommes pas contents de vous dire que
B) Nous sommes heureux de vous annoncer que
C) Nous avons le regret de vous annoncer que
D) Nous vous remercions de ne pas accepter que

(511) FIKIH – 1

1. Aşağıdakilerden hangisi fıkıh ilminin tanımlarından biri değildir?

- A) Kişinin, lehinde ve aleyhinde olan hükümleri bilmesidir.
B) Tafsili delillerden elde edilen şer'i ameli hükümleri bilmektir.
C) Mesâil-i şer'iyyeyi amelîyyeyi bilmektir.
D) Dinin itikat esaslarını bilmektir.

2. Aşağıdakilerden hangisi fıkıh ilminin amaçlarından biri değildir?

- A) Hukuk ve ahlak bütünlüğünü sağlamak
B) Kişilerin haklarını ve sorumluluklarını belirlemek
C) İnanç esaslarını akli ve naklî delillerle korumak ve savunmak
D) Güven ve huzur içinde istikrarlı bir toplum oluşturmak

3. Aşağıdakilerden hangisi fıkıh ilminin ana konularından biridir?

- A) İbâdât B) Tevhit
C) Nübüvvet D) Ahiret

4. Aşağıdakilerden hangisi fıkıh ilminin konularından olan münâkehât bölümünde yer almaktadır?

- A) Abdest B) Nikâh
C) Kıyas D) Miras

5. Hastalık veya yolculuktan dolayı orucun kazaya bırakılması, fıkıh ilminin aşağıdaki temel ilkelerinden hangisi ile ilgilidir?

- A) Helallerde genişlik
B) Kamu yararının gözetilmesi
C) Adaletin gözetilmesi
D) Tekliflerde kolaylık

6. Hz. Muhammed (sav) önceleri kabir ziyaretini yasaklamışken, sonradan ziyarete müsaade etmiş ve önceki hükmünü kaldırmıştır.

Bu bilgi Hz. Muhammed (sav) Dönemi fıkıh ilkelerinden hangisi ile ilgilidir?

- A) Nesh B) Tedric
C) Kolaylık D) Kıyas

7. Aşağıdakilerden hangisi müçtehitte bulunması gereken özelliklerden biri değildir?

- A) Kur'an-ı Kerim'i bilmek
B) Dinin genel amaçlarını bilmek
C) Hafız olmak
D) Arap diline vakıf olmak

8. Aşağıdakilerden hangisi fıkıh mezheplerinin doğuşunu hazırlayan sosyal sebeplerden biri değildir?

- A) Müslümanların nüfusunun çoğalması
B) Nassın anlaşılmasında ihtilaflar olması
C) Farklı kavimlerin Müslüman olması
D) Çeşitli toplumsal ihtiyaçların ortaya çıkması

1. OTURUM

9. Fıkhi mezhepler ile ilgili aşağıdakilerden hangisi yanlıştır?

- A) Değiştirilemez, hükümleri kıyama kadar geçerlidir.
- B) İslam'ın fikir özgürlüğünün ve düşünce zenginliğinin göstergeleridir.
- C) Din değil, dinin yorumudur.
- D) İslam'ın yaşanmasında zaman, mekân ve şartlara göre kolaylık sağlamaktadır.

10. Ehliyet sahibi kimseye din tarafından yönetilen emir ve yasaklara - - - - denir.

Bu cümlelerin doğru tamamlanması için boş bırakılan yere aşağıdakilerden hangisi getirilmelidir?

- A) teklif
- B) temyiz
- C) tereke
- D) telfik

11. Aşağıdakilerden hangisi Hz. Muhammed'in (sav) peygamber olması sebebiyle sadece kendisine farz olan ibadetlerden biridir?

- A) Beş vakit namazı kılmak
- B) Ramazan ayında oruç tutmak
- C) Teheccüd namazını kılmak
- D) Hac ibadetini yerine getirmek

(532) SEÇMELİ PEYGAMBERİMİZİN HAY. – 2

1. Hz. Muhammed'in (sav) davet metodu hakkında bilgi veren ayet aşağıdakilerden hangisidir?

- A) "Allah'ın rahmeti sayesinde sen onlara karşı yumuşak davrandın. Eğer kaba, katı yürekli olsaydın, onlar senin etrafından dağılıp giderlerdi..."

(Âl-i İmrân suresi, 159. ayet)

- B) "O gün kendisinden yan çizmek mümkün olmayan davetçiye uyarlar. Sesler, Rahman'ın azametinden dolayı kısılmıştır. Artık sadece fısıltı işitebilirsin."

(Tâhâ suresi, 108. ayet)

- C) "Biz her ümmet için uygulayacağı bir ibadet yolu verdik. O hâlde, din işinde seninle asla çekişmesinler..."

(Hac suresi, 67. ayet)

- D) "Kim Allah'ın davetçisine uymazsa yeryüzünde Allah'ı âciz bırakacak değildir. Kendisi için Allah'tan başka dostlar da bulunmaz. İşte onlar apaçık bir sapıklık içindedirler."

(Ahkâf suresi, 32. ayet)

2. Aşağıdakilerden hangisi "İlk Müslümanlar" ünvanına sahip olan sahabelerden biri değildir?

- A) Osman bin Affan
- B) Zübeyr bin Avvam
- C) Abbas bin Abdulmuttalib
- D) Talha bin Ubeydullah

3. Aşağıdakilerden hangisi Mekke müşriklerin İslam'a tepkilerinin nedenlerinden biri değildir?

- A) Atalarının dinine bağlı olmaları
- B) Hz. Muhammed'in (sav) yetim ve öksüz olması
- C) Kendilerini kölelerden üstün görmeleri
- D) Hz. Muhammed'in (sav) emin sıfatıyla anılması

4. Mekke'de cesaretiyle ön plana çıkan - - - - İslam'ı kabul etmesiyle ibadetlerini gizli yapan Müslümanlar, açığatan ibadet etmeye başlamışlardır.

Bu cümleyi doğru tamamlamak için boş bırakılan yere aşağıdakilerden hangisi getirilmelidir?

- A) Hz. Zübeyr'in
- B) Hz. Ömer'in
- C) Hz. Cafer'in
- D) Hz. Ebu Bekir'in

5. Aşağıdakilerden hangisi müşriklerin Müslümanlara yönelik boykot uygulamasının sebeplerinden biri değildir?

- A) Hicret eden Müslümanların Habeşistan'da iyi karşılanmaları
- B) Bedir Savaşı'nın kaybedilmesi
- C) Hz. Muhammed'in (sav) yalnızlaştırılmak istenmesi
- D) Hz. Hamza ve Hz. Ömer'in Müslüman olması

6. Aşağıdakilerden hangisi Hz. Muhammed'in (sav) Taif yolculuğunun sonuçlarından biridir?

- A) Müşriklerin Müslümanlara baskı ve eziyetleri azalmıştır.
- B) Müslümanlar Kureys'e karşı güç kazanmıştır.
- C) İslam'ın tebliğ edilebileceği yeni bir yer açılmıştır.
- D) Addas'ın Müslüman olmasına vesile olmuştur.

7. "Kendisine ayetlerimizden bir kısmını gösterelim diye kulunu bir gece Mescid-i Haram'dan çevresini bereketlendirdiğimiz Mescid-i Akse'ya götürün Allah'ın şanı yücedir. Hiç şüphesiz O, hakkıyla işitendir, hakkıyla görendir."

Bu ayette bahsedilen olay aşağıdakilerden hangisidir?

- A) İsrâ
- B) Miraç
- C) Hicret
- D) Biat

1. OTURUM

8. İslam'ın Mekke dışında farklı bir şehirde kabul edileceğinin ilk göstergesi aşağıdakilerden hangisidir?

- A) Taif'e yolculuk
- B) Birinci Akabe Biati
- C) Medine'ye hicret
- D) Hudeybiye Antlaşması

9. Aşağıdakilerden hangisi Medine'ye hicretin siyasi sonuçlarından biridir?

- A) Ensar ve muhacirin kardeş olması
- B) Manevi değerlerin güçlenmesi
- C) Huzurlu ve güvenli bir toplumun oluşması
- D) Yahudilerin ekonomik baskı ve zulümlerinin azalması

10. Aşağıdakilerden hangisi Bedir Savaşı'nın sonuçlarından biridir?

- A) Halid bin Velid Müslüman olmuştur.
- B) Esirler fidye karşılığında serbest bırakılmıştır.
- C) Müslüman okçular yerlerinden ayrıldığı için savaş kaybedilmiştir.
- D) Hz. Muhammed'in (sav) bu savaşta dişi kırılmıştır.

11. Hz. Muhammed'in (sav) İslam'a davet mektuplarında aşağıdakilerden hangisi yer almamıştır?

- A) Kendisinin Allah'ın elçisi olduğu
- B) Allah'a ortak koşmayı bırakmalarını gerektirdiği
- C) Müslümanlara vergi vermeleri gerektiği
- D) İslam dinini kabul etmeleri tavsiyesi

(535) SEÇMELİ PEYGAMBERİMİZİN HAY. – 5

1. I. Taif yolculuğu
II. Hz. Muhammed'in (sav) açık davetle emrolunması
III. İslam'a davet mektupları gönderilmesi
IV. Müşriklerin sosyal ve ekonomik ambargo uygulamaya başlaması

Hz. Muhammed'in (sav) İslam'a davetinin kronolojik sıralaması aşağıdakilerden hangisidir?

- A) I-II-III-IV
- B) I-III-IV-II
- C) II-IV-I-III
- D) II-III-IV-I

2. Hz. Muhammed (sav) farklı kabilelerden gelen muhtelif seviyedeki insanların sorularını her birinin ihtiyacına göre cevapladı.

Bu durum Hz. Muhammed'in (sav) İslam'a davetinin temel ilkelerinden hangisi ile ilgilidir?

- A) Tedriciliğe riayet etmesi
- B) Mekânın şartlarına göre hareket etmesi
- C) Muhatabını tanıması
- D) Davette yakından uzağa yönelmesi

3. Hz. Muhammed'in (sav) İslam'a davet etmesi için Mukavkıs'a elçi olarak gönderdiği sahabe aşağıdakilerden hangisidir?

- A) Musab bin Umeyr
- B) Hatib bin Ebi Belte'a
- C) Sad bin Ebi Vakkas
- D) Dihye bin Halife

4. Bir gün Hristiyan olan Adiyy bin Hatim, Hz. Muhammed'i (sav) ziyarette gelmişti. Hz. Muhammed (sav), onu misafir etmek için evine götürürken yolda rastladıkları yaşlı bir kadının uzun süre derdini dinledi. Eve vardıklarında minderini misafirine verip kendisi yere oturdu. Onun bu hâllerinden etkilenen Adiyy bin Hatim, Müslüman olmaya karar vermiştir.

Bu olay Hz. Muhammed'in (sav) İslam'a davetindeki hangi özelliği ile ilişkilidir?

- A) Mütevazılığı
- B) Dürüstlüğü
- C) Kararlılığı
- D) Eminliği

5. Aşağıdakilerden hangisi İbn Ümmü Mektum'a ait doğru bir bilgidir?

- A) Hz. Muhammed'in (sav) bütün gazvelerine iştirak ettiği gibi Mekke'nin Fethi sırasında da ensarın kumandanlığını yapmıştır.
- B) Âmâ olmasına rağmen Hz. Muhammed (sav) Medine dışına çıktığında ona vekâlet etmiş, geride kalanlara namaz kıldırılmıştır.
- C) Hz. Ömer'in halifeliği döneminde Suriye'ye muallim olarak gönderilmiştir.
- D) Kur'an-ı Kerim'in tamamını ezbere bilen Medinelî beş sahabelerden biridir.

6. "Allah bana ondan daha hayırlısını vermemiştir. Çünkü herkes benim peygamberliğimi inkâr ederken o, bana inandı. Herkes beni yalanlarken o, beni tasdik etti. İnsanlar benden mallarını esirgerken o, malı ile bana destek oldu."

Hz. Muhammed'in (sav) bu sözlerle bahsettiği yakını aşağıdakilerden hangisidir?

- A) Ebu Talib
- B) Abdulmuttalib
- C) Hz. Fatıma
- D) Hz. Hatice

1. OTURUM

7. Hz. Muhammed (sav), Cahiliye Dönemi'nde uğursuz sayılan bazı batıl inançları kaldırarak zihinlerdeki karmaşayı engellemiştir. Çeşitli hayvan ve eşyaların uğursuz olduğuna dair inançları reddederek Allah'a sığınanların vesvese ve korkularının giderileceğini belirtmiştir.

Bu metinde anlatılanlar Hz. Muhammed'in (sav) eğitimde gözettiği temel ilke ve metotlardan hangisi ile ilgilidir?

- A) Kolaydan zora doğru gidişi tercih etmesi
- B) Kalp ve nefis eğitimine öncelik vermesi
- C) Yanlış inanç ve düşüncelerin tasihhi
- D) Sevgi, şefkat ve merhameti esas alması

8. Hz. Muhammed'in (sav) görevlendirmesi üzerine Musab bin Umeyr'in Medine'de İslam'ı öğretmek için misafir olduğu ev aşağıdakilerden hangisine aittir?

- A) Esad bin Züreme
- B) Erkam bin Ebil Erkam
- C) Sad bin Ebi Vakkas
- D) Muaz bin Cebel

9. Hz. Âişe'nin, babası Hz. Ebu Bekir'den dolayı anıldığı isim aşağıdakilerden hangisidir?

- A) Tahire
- B) Sıddıka
- C) Ümmül-müminin
- D) Zinnureyn

10. Hz. Muhammed (sav) "Hiç kimse diğerine karşı böbürlenmesin." diyerek kibirden sakındırırken "Allah için tevazu gösteren kimseyi Allah yüceltir." müjdesiyle de ahlaki gelişmeyi desteklemiştir.

Bu metin Hz. Muhammed'in (sav) eğitimde kullandığı ilke ve metotlardan hangisine işaret etmektedir?

- A) Terğib ve terhibi beraber kullanmasına
- B) Soru cevap yöntemini esas almasına
- C) Benzetme ve kissalara yer vermesine
- D) Kolaydan zora doğru bir yol izlemesine

11. Aşağıdakilerden hangisi ülü'l-azm olarak anılan peygamberlerden biri değildir?

- A) Hz. Nuh
- B) Hz. Musa
- C) Hz. İbrahim
- D) Hz. Davud

(537) SEÇMELİ PEYGAMBERİMİZİN HAY. – 7

1. Aşağıdaki ayetlerden hangisi peygamber sevgisi ile ilgilidir?

- A) "Biz hangi topluma bir uyarıcı göndermişsek oranın sefahate dalmış olanları mutlaka şöyle demişlerdir: 'Biz sizin tebliğ ettiklerinize inanmıyoruz.'" (Sebe' suresi, 34. ayet)
- B) "Şüphesiz ki, peygamberlerimize ve iman edenlere dünya hayatında ve şahitlerin şahitlik edecekleri günde yardım ederiz." (Mü'min suresi, 51. ayet)
- C) "...Ona iman edenler, ona saygı gösterenler, ona yardım edenler ve ona indirilen nura uyanlar var ya, işte onlar kurtuluşa erenlerdir." (A'râf suresi, 157. ayet)
- D) "Müjdeleyiciler ve uyarıcılar olarak peygamberler gönderdik ki peygamberlerden sonra insanların Allah'a karşı bir bahaneleri olmasın..." (Nisâ suresi, 165. ayet)

2. Kur'an-ı Kerim, dinin temel hükümlerini belirler, sünnet ise bu hükümlerin nasıl uygulanacağını gösterir ve müminlere rehberlik eder. Sünnetin bu özelliği Hz. Muhammed'in (sav) bütün davranışlarında açıkça görülür.

Aşağıdakilerden hangisi bu duruma örnek gösterilemez?

- A) Namazın nasıl kılınacağı
- B) Zekâtın ne kadar verileceği
- C) Haccın nasıl eda edileceği
- D) Orucun ne zaman tutulacağı

3. Abdullah bin Ömer ile ilgili aşağıdakilerin hangisinde yanlış bir bilgi verilmiştir?

- A) Babası Müslümanların ikinci halifesi Hz. Ömer'dir.
- B) Hz. Muhammed'in (sav) eşi Hafsa ile kardeşir.
- C) Medine'ye muallim olarak hicret eden sahabedir.
- D) En çok fetva veren yedi sahabe-den biridir.

4. Hz. Muhammed'e (sav) itaatin vurgulandığı ayet aşağıdakilerden hangisidir?

- A) "Ey Muhammed! Şüphesiz biz seni bir şahit, bir müjdeci ve bir uyarıcı olarak gönderdik." (Fetih suresi, 8. ayet)
- B) "Muhammed yalnızca bir elçidir. Ondan önce de elçiler gelip geçti..." (Â-i İmrân suresi, 144. ayet)
- C) "...Peygamber size ne verdiyse onu alın, neyi de size yasak ettiyse ondan vazgeçin..." (Haşr suresi, 7. ayet)
- D) "Ey iman edenler! Size verdiğimiz rızıkların temiz olanlarından yiyin ve Allah'a şükredin; eğer O'na kulluk ediyorsanız." (Bakara suresi, 172. ayet)

5. I. Ayetlerin vahyedilme sebeplerini bilmeleri
II. Kütüb-i Sitte'nin yazılmasında görev almaları
III. Hadislerin vürud sebeplerini bilmeleri
IV. Hz. Muhammed'e (sav) destek vermeleri ve sadakatleri

Numaralanmış özelliklerden hangisi sahabeyle ilgili değildir?

- A) I
- B) II
- C) III
- D) IV

1. OTURUM

6. İnan kırsasına İslam'a davet mektubunu götürmekle görevli olan sahabe aşağıdakilerden hangisidir?

- A) Hatib bin Ebu Beltaa
- B) Abdullah bin Huzafe
- C) Şuca bin Vehb
- D) Abdullah bin Huzâfe

7. Aşağıdakilerden hangisi Ashab-ı Suffe'de öğretmenlik yapan kadın sahabelerden biridir?

- A) Ümmü Süleyman binti Hayseme
- B) Zeynep binti Maun-i Cümeyy
- C) Ümmü Cemil
- D) Şifa binti Abdullah

8. Aşağıdakilerden hangisi vahiy kâtiplerinden biri değildir?

- A) Abdullah bin Sad bin Ebi Serh
- B) Erkam bin Ebi'l-Erkam
- C) Malik bin Enes
- D) Muaviye bin Ebi Sufyan

9. Aşağıdaki ayetlerden hangisi sünnetin önemini vurgulamaktadır?

- A) "O, diridir. O'ndan başka hiçbir ilâh yoktur. O hâlde sadece Allah'a itaat ederek O'na ibadet edin. Hamd, âlemlerin Rabb'ine mahsustur."
(Mümin suresi, 65. ayet)
- B) "De ki: 'Eğer Allah'ı seviyorsanız bana uyun ki, Allah da sizi sevsin ve günahlarınızı bağışlasın. Çünkü Allah çok bağışlayandır, çok merhamet edendir.'
(Âl-i İmrân suresi, 31. ayet)
- C) "'Allah'a ve peygambere inandık ve itaat ettik.' derler. Sonra da onların bir kısmı bunun ardından yüz çevirirler. Hâlbuki onlar inanmış değillerdir."
(Nûr suresi, 47. ayet)
- D) "Allah'ın üzerinizdeki nimetini, sizden aldığı sağlam ahdini hatırlayın; o zaman işittik ve itaat ettik demiştiniz. Allah'a karşı gelmekten sakının. Şüphesiz Allah, kalplerin içindekini bilmektedir."
(Mâide suresi, 7. ayet)

10. Abdullah bin Mesud ile ilgili aşağıdakilerin hangisinde yanlış bir bilgi verilmiştir?

- A) Nassın bulunmadığı yerde rey ve kıyasa başvurmuştur.
- B) Sahih olduğu kesin olarak bilinmeyen hadislerle amel etmiştir.
- C) Irak Tefsir Mektebi'nin temelini atarak Kur'an ilimlerine önemli hizmetler yapmıştır.
- D) Hz. Muhammed'den (sav) sonra Kâbe'de açıktan Kur'an-ı Kerim'i okuyan ilk sahabelerdir.

11. "Kişinin Allah'a karşı sorumluluklarını içtenlikle yerine getirmesi ve O'nun rızasını kazanması sonucunda Allah'ın sevdiği ve razı olduğu işlerde kulunu başarılı kılması" anlamına gelen kavram aşağıdakilerden hangisidir?

- A) Tefvik
- B) Tezkir
- C) Tebşir
- D) Takva

(544) TÜRK DİLİ VE EDEBİYATI – 4

1. Millî Edebiyat Dönemi'nin ünlü romancılarından. Yazarın en çok okunan romanlarından biri olan Sinekli Bakkal ilk kez İngilizce yayımlanmış, ardından Haber gazetesinde tefrika edilmiş, 1936 yılında da kitap hâlinde basılmıştır. "Yolpalas Cinayeti, Sonsuz Panayır, Handan, Ateşten Gömlek" diğer romanlarından bazılarıdır.

Bu parçada sözü edilen sanatçı aşağıdakilerden hangisidir?

- A) Halide Edip Adıvar
- B) Reşat Nuri Güntekin
- C) Yakup Kadri Karaosmanoğlu
- D) Refik Halit Karay

2. Daha çok roman ve hikâyede kendini gösteren realizm, 1857'de yayımlanan Gustave Flaubert'e ait - - - - adlı eser ile romantizm karşısında üstünlüğünü göstermiştir.

Bu cümlede boş bırakılan yere aşağıdakilerden hangisi getirilmelidir?

- A) Suç ve Ceza
- B) Cromwell
- C) Sefiller
- D) Madam Bovary

3. Türk edebiyatındaki ilk çeviri roman aşağıdakilerden hangisidir?

- A) Telemak
- B) Robinson Crusoe
- C) Monte Cristo Kontu
- D) Sergüzeşt

4. • Güldürü ögesi ön plandadır.
• Önceden hazırlanmış metinleri vardır.
• Sözlü geleneğin ürünleridir.

Bu cümleler "geleneksel Türk tiyatrosu" ile ilgili doğru (D)-yanlış (Y) olarak değerlendirildiğinde sıralama aşağıdakilerden hangisi olur?

- A) Y-D-Y
- B) D-Y-D
- C) Y-Y-D
- D) D-D-Y

5. **KAVUKLU** : Sorma Tosuncuğum, bir felaket atlattım ki tarif kabul etmez...

PİŞEKÂR : Aman, geçmiş olsun Hamdiciğim!

KAVUKLU : Geçmiş olsun ki geçmiş olsun...

PİŞEKÂR : Naklet bakayım, merak ettim.

KAVUKLU : Canım, geçende fırtına çıkmadı mıydı?

PİŞEKÂR : Evet, ben korkudan evin bodrumuna kaçmıştım; sen nerede idin?

KAVUKLU : Ben göklerde...

PİŞEKÂR : Deme!..

Bu parça, aşağıdaki geleneksel Türk tiyatrosu türlerinin hangisinden alınmıştır?

- A) Karagöz
- B) Meddah
- C) Orta oyunu
- D) Kukla

1. OTURUM

6. Yeditepe dergisi sahibi ve yönetmeni Hüsamettin Bozok, "Ben nasıl olsa yazı parası ödeyemiyorum. İstersen senin için araya gireyim, Sait, Seçilmiş Hikâyeler dergisine versin öykülerini." deyince birdenbire, önce duraksadım, sonra hemen kendimi toparlayarak sevinçle "Çok iyi olur." dedim. Yanılmıyorsam yıl 1951. İlk kez açılan İstanbul Fuarı'nı üçümüz geziyoruz. Sait arkamızdan yürüyor.

Bu parça aşağıdaki metin türlerinden hangisine örnektir?

- A) Gezi yazısı B) Haber yazısı
C) Anı D) Roman

7. **Aşağıdaki eser-yazar eşleştirmelerinden hangisi yanlıştır?**

- A) Hac Yolunda - Yakup Kadri Karaosmanoğlu
B) Anadolu Notları - Reşat Nuri Güntekin
C) Frankfurt Seyahatnamesi - Ahmet Haşim
D) Avrupa'da Bir Cevelan - Ahmet Mithat Efendi

8. **Aşağıdaki cümlelerin hangisinde yazım yanlışı vardır?**

- A) Dergimizin bu sayısında da son gelişmeleri ele aldık.
B) Her yıl ağustos ayında Bitlis'te bu festival düzenlenir.
C) Göz rengi de kalıtım yoluyla anne veya babadan çocuğa geçmiştir.
D) Toprağın fiziksel ve kimyasal özelliğinde biyoçeşitliliği etkiler.

9. İnönü'de üç gün şiddetli çarpışmalar oldu () savaş zor da olsa kazanıldı.

Nedime Hanım eli yanağında şöyle mırıldanıyordu ()

— Meğer ne büyük tehlike atlattığımız () inanılır gibi değil ()

Bu parçada yay ayrıla gösterilen yerlere gelmesi gereken noktalama işaretleri aşağıdakilerin hangisinde sırasıyla verilmiştir?

- A) (,) (;) (!) (!)
B) (,) (;) (,) (!)
C) (;) (;) (!) (...)
D) (;) (;) (?) (...)

10. **Aşağıdaki cümlelerden hangisi yapısı bakımından basittir?**

- A) Her sabah erkenden kalkar, tıraşını olur, işe giderdi.
B) Bu yazdıklarımı belki ailem de övünerek okuyacaktı.
C) Kapının dışından Veysel'i izliyor, gözünü ondan ayırmıyordu.
D) Jüride ünlü şairler, yazarlar ve gazeteciler bulunuyordu.

11. O güne kadar, yaşadığım hiçbir olayı yazmamıştım deftere.

Bu cümlenin tür özellikleri aşağıdakilerin hangisinde verilmiştir?

- A) İsim, devrik, olumlu, basit
B) Fiil, devrik, olumsuz, birleşik
C) İsim, kurallı, olumsuz, basit
D) Fiil, kurallı, olumlu, birleşik

(547) TÜRK DİLİ VE EDEBİYATI – 7

1. **Sözlüklerle ilgili, aşağıdakilerden hangisi söylenemez?**

- A) Dilde geçen bütün söz varlığına yer verilir.
B) Sözcüklerin okunuşları, yazılışları ve kökeni belirtilir.
C) Sözcüklerin uzak ve yakın, gerçek ve mecaz bütün anlamları örnekleriyle açıklanır.
D) Dil bilgisi kuralları anlatılır.

2. • 1970'li yıllardan itibaren modern hikâyeyle birlikte postmodern hikâyeler yazılmaya başlanmıştır.
• Bireyin iç dünyasını anlatmayı amaçlayan hikâyelerde bunalımlara ve iç çatışmalara yer verilmiştir.
• Kurgu ve içerik bakımından geleneksel hikâyeye anlayışına dönüşmüştür.

Bu cümleler "1960 sonrası Türk hikâyesi" ile ilgili doğru (D)-yanlış (Y) olarak değerlendirildiğinde sıralama aşağıdakilerden hangisi olur?

- A) Y-D-Y B) Y-Y-D
C) D-D-Y D) D-Y-D

3. **Aşağıdakilerden hangisi 1960 sonrası Türk hikâyeye yazarlarından değildir?**

- A) Bilge Karasu
B) Sabahattin Ali
C) Mehmet Seyda
D) Adalet Ağaoğlu

4. I. Ufuklarda bu akşam ne sis var ne bulutlar var;
Servilerin içinde bir alev
Emirsultan...
İçten dualar gibi geçiyor sanki rüzgâr,
Bir ilahi adaya benzeyen Yıldırım'dan.

- II. Bu yağmur kanımı boğan bir iplik
Karnımda acısız yatan bir bıçak
Bu yağmur yerde taş ve bende kemik
Dayandıkça çisil çisil yağacak

Numaralanmış dörtlüklerde kullanılan ortak söz sanatı aşağıdakilerden hangisidir?

- A) İstifham B) Teşhis
C) Teşbih D) Tariz

5. İlk şiir kitabı olan "Güneşi Yakanların Selamı"nı 1937'de yayımladı. *İstanbul, Günaydın Yeryüzü, Türkiye Şarkısı* gibi destansı yönü ağır basan şiirler yazdı. Geleneksel vezinli-kafiyeli tarz-daki ilk şiirlerinden sonra, bir arayış içine girdi. Sonunda kendine has bir şiir dili oluşturarak İkinci Yeni'nin öncülerinden oldu. Şiirlerinde tarih, coğrafya ve kent temalarını ele aldı. Behçet Necatigil, onun için "şiirimizin uç beyi" ifadesini kullandı.

Bu parçada sözü edilen sanatçı aşağıdakilerden hangisidir?

- A) İlhan Berk
B) Turgut Uyar
C) Sezai Karakoç
D) Cahit Zarifoğlu

1. OTURUM

6. Aşağıdakilerden hangisi Millî Edebiyat zevk ve anlayışını devam ettiren şairlerin özelliklerinden değildir?

- A) Milliyetçilik ve Türkçülük akımlarından etkilenmişlerdir.
- B) Hece ölçüsünü esas almışlardır.
- C) Halk şiirinin imkânlarından yararlanmışlardır.
- D) Süslü bir söyleyişe yer vermişlerdir.

7. Aşağıdaki cümlelerin hangisinde altı çizili sözün yazımı doğrudur?

- A) Bu hafta şirketin çevrim içi eğitimlerine katılacağım.
- B) Ev dekarasyon malzemelerinin satıldığı mağazaları çok severim.
- C) Akşam üstü arkadaşlarıyla istasyon binasının önünde buluştu.
- D) Maç öncesi antremanlarımızı izleyicilere kapalı yaptık.

8. İspatlamaz () gösterir () telkin etmez () düşündürür () iddia etmez, okuyucunun ret ve kabul tercihini serbest bırakan bir dünya sunar aslında edebiyat.

Bu parçada yay ayrıca gösterilen yerlere gelmesi gereken noktalama işaretleri aşağıdakilerin hangisinde sırasıyla verilmiştir?

- A) (;) (,) (:) (.)
- B) (,) (:) (,) (.)
- C) (,) (,) (,) (.)
- D) (,) (,) (,) (.)

9. İnsanları yalan yanlış bilgilerle yönlendirmek topluma büyük zarar veriyor.

Bu cümlede ikilemeyi oluşturan kelimeler arasındaki anlam ilişkisi aşağıdakilerden hangisidir?

- A) Zıt anlam
- B) Eş anlam
- C) Yakın anlam
- D) Yan anlam

10. "Nokta" sözcüğü aşağıdaki cümlelerin hangisinde terim anlamıyla kullanılmıştır?

- A) Bilim insanları bu noktada çığır açan keşifler yaptı.
- B) Güvenlik tedbirleri polis noktalarında üst seviyeye çıkartıldı.
- C) En nihayetinde bu işe son noktayı koyabilmış.
- D) Sayılardan sonra sıra bildirmek için nokta konur.

11. I. Kesilmiş kâğıtları toplayarak yere attı.
II. Rüzgârın kesilmesiyle hava sıcaklıkları arttı.
III. Bu saatte elektriklerin kesilmesi iyi olmadı.
IV. Küt kesilmiş saçları ona ayrı bir hava katmıştı.

Numaralanmış cümlelerin hangilerinde "kesilmek" sözcüğü aynı anlamda kullanılmıştır?

- A) I ve II
- B) I ve IV
- C) II ve III
- D) III ve IV

(548) TÜRK DİLİ VE EDEBİYATI – 8

1. 1960'larda Türk romanında,

- I. ortaya çıkan siyasal, toplumsal ve ekonomik değişmeler ve bunların sonuçları üzerinde durulur.
- II. aydınların iç bunalımları ve toplumsal bağlantılarıyla birlikte kadın sorunu da ele alınır.
- III. hem konu hem de teknik açıdan gelişmeler görülür.
- IV. postmodernizmin etkisi yoğun olarak hissedilir.

Numaralanmış cümlelerin hangisinde bilgi yanlış vardır?

- A) I
- B) II
- C) III
- D) IV

2. Sabahattin Ali, Sadri Ertem ve Memduh Şevket Esendal, aşağıdaki anlayışlardan hangisinin temsilcilerindedir?

- A) Gelenekçi
- B) Toplumcu gerçekçi
- C) Modernizmi esas alan
- D) Bireyin iç dünyasını esas alan

3. "Elveda Gülsarı" adlı roman 1963 yılında Rusça yazılmış, 1966'da yayımlanmış, daha sonra Kırgız Türkçesine çevrilmiştir. Romanda cins bir atın, doğumundan ölümüne kadar sahibi Tanabay'la birlikte bir köyde geçen zorlu ve acılı hayatı anlatılmıştır.

Bu parçada sözü edilen roman aşağıdaki sanatçılardan hangisine aittir?

- A) Ayaz İshaki
- B) Cengiz Dağcı
- C) Ziya Samedi
- D) Cengiz Aytmatov

4. • Oyun yazarlığı nicelik ve nitelik açısından bir durgunluk yaşar.
• Dönemin siyasi koşullarından dolayı toplumsal sorunlardan uzaklaşılarak bireysel konular ele alınır.
• Özel tiyatroların artmasıyla tiyatro yaşamı hareketlenir.

Bu cümleler "1980 dönemi Türk tiyatrosu" ile ilgili doğru (D)-yanlış (Y) olarak değerlendirildiğinde sıralama aşağıdakilerden hangisi olur?

- A) D-Y-D
- B) Y-D-Y
- C) D-D-Y
- D) Y-Y-D

5. Aşağıdaki yazar - eser eşleştirmelerinden hangisi yanlıştır?

- A) Sermet Çağan - Koçyiğit Köroğlu
- B) Ahmet Kutsi Tecer - Bir Pazar Günü
- C) Turan Ofazoğlu - Genç Osman
- D) Haldun Taner - Keşanlı Ali Destanı

6. Aşağıdaki eserlerden hangisi Mehmet Kaplan'a ait değildir?

- A) Yaşadığım Gibi
- B) Büyük Türkiye Rüyası
- C) Edebiyatımızın İçinden
- D) Nesillerin Ruhı

1. OTURUM

7. I. Metin

Tanrı gibi gökte olmuş Türk Bilge Kağanı, bu zamanda oturdum... Kağan oturup aç, fakir milleti hep toplattım. Fakir milleti zengin kıldım. Az milleti çok kıldım. Türk milleti, yoksa bu sözümde yalan var mı? (Bilge Kağan)

II. Metin

Büyük Türk milleti!

On beş yıldan beri, giriştiğimiz işlerde muvaffakiyet vadeden çok sözlerimi işittin. Bahtiyarım ki bu sözlerimin hiçbirinde milletimin, hakkımdaki itimadını sarsacak bir isabetsizliğe uğramadım. (M. Kemal Atatürk)

Aşağıdakilerden hangisi bu iki metnin ortak özelliklerinden biri değildir?

- A) Türk milletine hitap edilmesi
- B) Açık, anlaşılır ve inandırıcı olması
- C) Tartışmacı anlatımın tercih edilmesi
- D) Tarihe mal olmuş liderler tarafından söylenmesi

8. (I) Akşam treni saat dört buçukta geldiği için yazın ortalık karamadan köye döne biliyordu. (II) Fakat bu gün daha trene yarım saat kala istasyon korkutucu bir alacakaranlığa gömülmüştü. (III) Soğuk da ve karanlıkta kalkıp geri döneceğini düşünerek titredi ve hemen gitmek istedi. (IV) Fakat bu sırada odasından dışarı çıkan istasyon memuru trenin gelmek üzere olduğunu söyledi.

Bu parçadaki numaralanmış cümlelerin hangisinde yazım yanlışı yoktur?

- A) I
- B) II
- C) III
- D) IV

9. Görünenle görünmeyen, bilinenle bilinmeyenin () olağanla olağanüstünün buluştuğu ortamdır sahne () dilin lirik () epik () dramatik marifetlerini sergilediği bir panayır alanıdır.

Bu cümlede numaralanmış yerlerin hangisinde farklı bir noktalama işareti kullanılmalıdır?

- A) I
- B) II
- C) III
- D) IV

10. *Uzun Çarşının Uluları* adlı hikâye kitabı, I. Dünya Savaşı öncesi ve hemen sonrasında Gaziantep'ini konu edinmektedir. Gaziantep şehrindeki sosyal hayat, değişim, gelenekler ve şehrin önemli simaları anlatılmaktadır. Eserde toplam yirmi iki hikâye bulunmaktadır.

Bu parçanın anlatım biçimi aşağıdakilerden hangisidir?

- A) Açıklayıcı
- B) Betimleyici
- C) Öyküleyici
- D) Tartışmacı

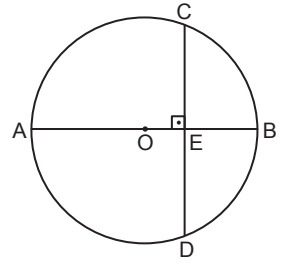
11. Divan şairi, bir sanat adamı olduğunu bildiğinden içinde bir unutulma kaygısı vardır. Eserinin gelecek yüzyıllara kalmasını, kendisi öldükten sonra adının anılmasını ister. Sanat adamı bu isteği duyuyorsa sanat adamıdır. Yoksa her şairin eserinde bir güzellik bulabilirsiniz. Öyle kendiliğinden gelmiştir o güzellik, bir yaban çiçeğinin güzelliği gibi. İstenilerek, düşünülerek yaratılmış bir güzellik değildir. Gerçek sanat adamının eserinin güzelliği ise istenilerek, düşünülerek yaratılmıştır.

Bu parçada asıl anlatılmak istenen aşağıdakilerden hangisidir?

- A) Edebî eserin kalitesi, okuyucuya verdiği duygusal etkiyle ölçülür.
- B) Gerçek sanatçılar, kalıcılığı yakalamak için bilinçli bir estetik kaygıyla eser verir.
- C) Başarılı şairlerin eserleri, şair öldükten sonra da değerini korur.
- D) Edebiyatla ilgilenen herkes, eserlerini oluştururken güzellik arayışı içindedir.

(609) SEÇMELİ MATEMATİK – 2

1.

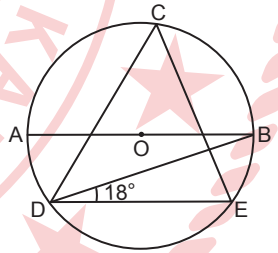


Şekildeki O merkezli çemberde $[AB]$ çap, $[CD]$ kiriş, $[CD] \perp [AB]$, $[AB] \cap [CD] = \{E\}$ ve $|AE| = 3 \cdot |EB|$, $|AB| = 8\sqrt{3}$ cm'dir.

Buna göre, $|CE|$ kaç santimetredir?

- A) $3\sqrt{5}$
- B) 6
- C) $2\sqrt{6}$
- D) 4

2.



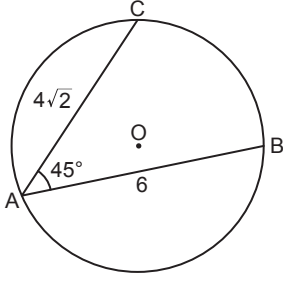
Şekildeki O merkezli çemberde $[AB]$ çap, C, D ve E noktaları çember üzerinde, $[AB] \parallel [DE]$ ve $m(\widehat{BDE}) = 18^\circ$ dir.

Buna göre, $m(\widehat{DCE})$ kaç derecedir?

- A) 36
- B) 48
- C) 54
- D) 72

1. OTURUM

3.

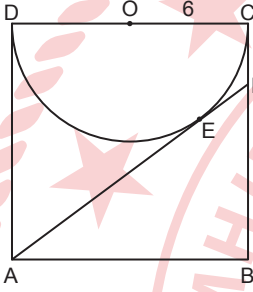


Şekilde A, B, C noktaları O merkezli çember üzerinde, $m(\widehat{CAB}) = 45^\circ$, $|AC| = 4\sqrt{2}$ cm ve $|AB| = 6$ cm'dir.

Buna göre, bu çemberin yarıçap uzunluğu kaç santimetredir?

- A) $\sqrt{10}$ B) 4
C) $2\sqrt{5}$ D) $2\sqrt{6}$

4.

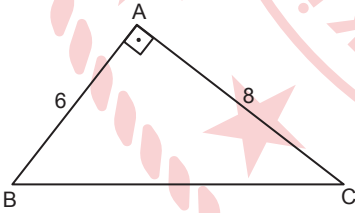


Şekilde ABCD kare, $F \in [CB]$, $[AF]$, O merkezli $[DC]$ çaplı yarım çembere E noktasında teğet ve $|OC| = 6$ cm'dir.

Buna göre, $|EF|$ kaç santimetredir?

- A) $\frac{3}{2}$ B) 2 C) $\frac{5}{2}$ D) 3

5.

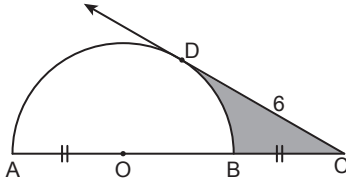


Şekildeki ABC dik üçgeninde $[BA] \perp [AC]$, $|AB| = 6$ cm ve $|AC| = 8$ cm'dir.

Buna göre ABC üçgeninin, iç teğet çemberinin yarıçap uzunluğunun çevrel çemberinin yarıçap uzunluğuna oranı aşağıdakilerden hangisidir?

- A) $\frac{1}{5}$ B) $\frac{1}{3}$ C) $\frac{2}{5}$ D) $\frac{2}{3}$

6.



Şekilde $[CD]$, O merkezli $[AB]$ çaplı yarım daireye D noktasında teğettir.

$|AO| = |BC|$ ve $|CD| = 6$ cm olduğuna göre, boyalı bölgenin alanı kaç santimetrekaredir?

- A) $6\sqrt{3} - 2\pi$
B) $6\sqrt{3} - \pi$
C) $12\sqrt{3} - 2\pi$
D) $12\sqrt{3} - \pi$

7. Yarıçap uzunluğu 9 cm olan bir kürenin içine taban yarıçap uzunluğu $3\sqrt{5}$ cm olan en büyük hacimli dik dairesel silindiri yerleştiriliyor.

Buna göre, kürenin hacmi silindirin hacminden kaç santimetreküp fazladır?

- A) 432π B) 540π
C) 648π D) 702π

8. Yanal alanı 18π cm² ve yüksekliği $\sqrt{15}$ cm olan dik dairesel koninin hacmi kaç santimetreküptür?

- A) $12\sqrt{15}\pi$ B) $9\sqrt{15}\pi$
C) $5\sqrt{15}\pi$ D) $4\sqrt{15}\pi$

9. Hilesiz bir madeni para art arda beş kez atılıyor.

Üç atışın yazı geldiği bilindiğine göre, ilk ve son atışta yazı gelme olasılığı aşağıdakilerden hangisidir?

- A) $\frac{1}{10}$ B) $\frac{1}{5}$ C) $\frac{3}{10}$ D) $\frac{2}{5}$

10. 1'den 52'ye kadar tüm doğal sayılar birer birer 52 özdeş karta yazılarak boş bir kutuya atılıyor.

Bu kutudan rastgele çekilen bir kartın üzerindeki sayının 5 veya 7 ile tam bölünebilme olasılığı aşağıdakilerden hangisidir?

- A) $\frac{17}{52}$ B) $\frac{4}{13}$ C) $\frac{15}{52}$ D) $\frac{7}{26}$

11. Bir torbada renkleri dışında özdeş 5 kırmızı, 3 beyaz bilye vardır. Çekilen bilyeler tekrar torbaya atılmak şartıyla, bu torbadan art arda rastgele iki bilye çekiliyor.

Buna göre, torbadan çekilen ikinci bilyenin beyaz olma olasılığı aşağıdakilerden hangisidir?

- A) $\frac{13}{28}$ B) $\frac{3}{8}$ C) $\frac{15}{56}$ D) $\frac{3}{28}$

(611) DİNLER TARİHİ – 1

1. Aşağıdakilerden hangisi Kur'an-ı Kerim'de "mutlak dini" ifade eden kavramlardan biri değildir?

- A) Dînu'l-kayyım
B) Dînu'l-hakk
C) Usûlü'd-din
D) Dînullah

2. Dinler tarihinin, tarafsız ve ön yargılardan bağımsız bir şekilde inceleme yapması onun - - - ile ilgilidir.

Bu cümlelin doğru tamamlanması için boş bırakılan yere aşağıdakilerden hangisi getirilmelidir?

- A) konusu B) amacı
C) gelişimi D) yöntemi

3. MÖ 6. yüzyılda Hindistan'da ortaya çıkan, yayılcı bir karaktere sahip olan ve günümüzde Çin, Tayland, Japonya, Vietnam gibi ülkelerde yaygın olarak görülen din aşağıdakilerden hangisidir?

- A) Budizm B) Mecûsîlik
C) Hinduizm D) Hristiyanlık

1. OTURUM

(621) SEÇ. TÜRK DİLİ VE EDEBİYATI – 3

4. I. Hayber'in Fethi
II. Medine Sözleşmesi
III. Sıffin Savaşı
IV. Mekke'nin Fethi

Numaralanmış olayların kronolojik sıralaması aşağıdakilerin hangisinde verilmiştir?

- A) II-I-IV-III B) II-III-I-IV
C) III-II-I-IV D) III-IV-II-I

5. "Allah'ın, ezeli ilmi ve kudreti ile evrende olmuş ve olacak her şeyi takdir etmesi, belli bir düzen ve ölçüde yaratması" olarak ifade edilen kavram aşağıdakilerden hangisidir?

- A) Fıtrat B) Kader
C) İtikat D) Amentü

6. Aşağıdakilerden hangisi Yahudilikte "İkinci Mabet Dönemi" olaylarından biri değildir?

- A) Pers Kralı Koreş tarafından sürgündeki Yahudilerin dönüşüne izin verilmesi
B) İsrail kabilelerinin seçilmiş dinî liderler öncülüğünde yerleşik zirai düzene geçmesi
C) Dinî reformlar çerçevesinde Ezra tarafından Tevrat'ın yeniden kaleme alınması
D) Ferisilik, Sadukilik ve Essenilik adıyla bilinen grupların ortaya çıkması

7. Aşağıdakilerden hangisi Yahudilikte On Üç İman Esası'ndan biri değildir?

- A) Tanrı'nın ezeli ve ebedî olduğuna inanmak
B) Tevrat'ın değiştirilmeyeceğine ve son şeriat olduğuna inanmak
C) Tanrı'nın ismini boş yere ağza almamak
D) Ritüelleri Tanrı'dan başkasına yapmamak

8. Seçilmişlik düşüncesini, toplumlarası eşitlik ilkesine ve modern insan anlayışına ters düştüğü için reddeden; Yahudiliği bir din olarak değil, Yahudi toplumunun oluşturduğu ve sürekli gelişen bir medeniyet olarak tanımlayan hareket aşağıdakilerden hangisidir?

- A) Muhafazakâr Yahudilik
B) Yeniden Yapılanmacı Yahudilik
C) Ortodoks Yahudilik
D) Reformist Yahudilik

9. Aşağıdakilerden hangisi Yeni Ahit'in bölümlerinden biri değildir?

- A) Havarilerin Mektupları
B) Resullerin İşleri
C) Ketuvim
D) Vahiy

10. Hristiyanlıkta "Paskalya'dan önce bu güne hazırlık olarak kırk günlük dua ve oruç günleri" için kullanılan kavram aşağıdakilerden hangisidir?

- A) Konfirmasyon B) Noel
C) Pentekost D) Lent

11. • Merkezi Vatikan'dır.
• Ritüel ve ayinler Latince yapılır.
• Papa'nın yanılmaz olduğuna inanılır.

Hakkında bilgi verilen Hristiyanlık ekolü aşağıdakilerden hangisidir?

- A) Katoliklik
B) Protestanlık
C) Ortodoksluk
D) Evanjelic Kilise

1. Bedia'yla tartışmasını yeniden, en küçük teferruatına kadar hatırladı. Canan siyah elbisesiyle, altın saçlarıyla, pembe yüzüyle, gök mavisi gözleriyle yeniden hayaline yapıştı. Biri üzgün, gözleri yaşlı, boynu bükük; öteki şen, kahkahalı iki kadının gölgesi o gece sabaha kadar Lâmi'ye eşlik ettiler. Sonra ötekiler, müsteşar, Şakir Bey, sonra Ali, Faik, hatta küçük Zerrin, bütün köşkün ahalisi, hepsi Lâmi'nin zihnine dadanmışlar, başının içinde sıraya diziliyorlar; her biri bir türlü söylüyor, kimi gülüyorlar kimi ağlıyorlar, susuyorlar, kızıyorlar, genç adamın beyinde karışık ve derin bir uğultu yapıyorlardı.

Bu parça, edebiyatın aşağıdaki bilgi dallarından hangisiyle olan ilişkisine örnek gösterilebilir?

- A) Tarih
B) Felsefe
C) Psikoloji
D) Sosyoloji

2. 1960-1970 arası Türk hikâyesi ile ilgili aşağıdakilerden hangisi söylenemez?

- A) Bireyin iç dünyasını anlatmayı amaçlayan eserler kaleme alınmıştır.
B) Küçük memurların, işçilerin yaşantılarından kesitler ve toplumsal sorunlar konu edilmiştir.
C) Yazar sayısının artmasıyla eserlerde hem konu hem anlayış olarak çeşitlilik ortaya çıkmıştır.
D) Yazarlar ağırlıklı olarak postmodernizmin anlatım imkânlarından yararlanmışlardır.

1. OTURUM

3. Tez yayıldı havadis ortalığa, haber köye ulaşmıştı. Yollara döküldü millet. Çıka çıka, sağlam bir tek Mehmet çıkmıştı otobüsten. İşte karşıdan gelmekteydi! Paltosunu omzuna atmıştı. Köylü, yolun ortasında durup onu bekledi. Hepsinin gözlerinde bir irkilme, bir sakınma... En önde karısıyla oğlu Tosun... Kocasını sağ salim görmekten duyduğu kıvancı kimselere gösteremedi. Köyün en yaşlısı Hasan Çavuş değneğine dayanmış, Mehmet'ten yana bakıyordu.

Bu parçada aşağıdaki hikâye unsurlarından hangisine yer verilmiştir?

- A) Mekân
- B) Zaman
- C) Olay
- D) Şahıs

4. Çalışırsan toprak verir cömerttir
Emeksiz istemek dermansız derttir
Çalışmak insana büyük servettir
Kese coşar gönül coşar el coşar

Bu dizelerle ilgili aşağıdakilerden hangisi söylenemez?

- A) Zengin kafiye kullanılmıştır.
- B) Kişileştirme yapılmıştır.
- C) Nazım birimi dördüktür.
- D) Hece ölçüsüyle yazılmıştır.

5. Çağdaş Türk şiirinin en önemli şairlerinden olan sanatçı, Selanik'te doğmuştur. 1921'de Moskova'ya gitmiş, burada sosyoloji ve sanat tarihi okumuştur. Moskova'da fütürizm (gelecekçilik) akımıyla tanışmış ve özellikle Mayakovski'den etkilenmiştir. Türk dilinin zengin ses sisteminden ve ses uyumlarından yararlanarak Türk şiirine serbest nazmı getirmiştir. Öz, biçim ve tema bakımından yeni şiirleriyle ve serbest nazımla toplumcu gerçekçi şiirin ilk örneklerini vermiştir.

Bu parçada sözü edilen sanatçı aşağıdakilerden hangisidir?

- A) Cahit Sıtkı Tarancı
- B) Nazım Hikmet Ran
- C) Necip Fazıl Kısakürek
- D) Ahmet Hamdi Tanpınar

6. Şakaklarıma kar mı yağdı ne var?
Benim mi Allah'ım bu çizgili yüz?
Ya gözler altındaki mor halkalar?
Neden böyle düşman görünürsünüz,
Yıllar yılı dost bildiğim aynalar?

Bu dizelerde aşağıdaki edebî sanatlardan hangisi yoktur?

- A) Tezat
- B) Teşhis
- C) Telmih
- D) İstifham

7. Aşağıdaki cümlelerin hangisinde yazım yanlışı vardır?

- A) Dünyada sıra dışı hava olayları git gide artıyor.
- B) Öğretmenimiz okul kapısının önünde dimdik duruyordu.
- C) Havalar ısınır ısınmaz onun için deniz sezonu başlardı.
- D) İki arkadaş baş başa vermiş, yeni proje için çalışıyor.

8. Kimileri kitaplarla baş başa kalmak için çırpınır (I) öylesine okumak ister ki dur durak bilmez. Ekmeği (II) suyu unuttur da kitabı bir türlü elinden düşürmez (III) yiyeceği (IV) içeceği o büyüklü sayfalaradır kitap kurdunun.

Bu parçadaki numaralanmış yerlerin hangisine virgül getirilemez?

- A) I
- B) II
- C) III
- D) IV

9. Aşağıdaki cümlelerin hangisinde "kaplamak" sözcüğü "çepeçevre sarmak" anlamında kullanılmıştır?

- A) İçeri girmesiyle tüm sınıfı garip bir sessizlik kapladı.
- B) Bu güzel haberi alınca içini büyük bir sevinç kapladı.
- C) Üstün başarılarıyla elde ettiği ünü cihanı kaplamıştı.
- D) Köyde evlerin her tarafını çam ormanları kaplamıştı.

10. "Ben 'Baş dille tartılır.' atasözünü pek severim. İlk bakışta bir sakatatçı dükkânı sloganı gibi görünse de bu sözde derin anlamların yüklü olduğunu düşünürüm." **diyen biri, bu atasözünü aşağıdakilerden hangisiyle doğru açıklamış olur?**

- A) İnsan çevresindekilere karşı saygılı ve onlarla uyumlu olduğunda daima kazanır.
- B) İnsanın konuşurken sarf ettiği sözlerin onun ne kadar akıllı, ne kadar düşünceli olduğunu veya olmadığını ortaya koyar.
- C) İş yapma düşüncesindeki biri kendi dengindeki kişilerle ticaret yapmalıdır.
- D) Dilini tutamayan, ne zaman ve nasıl konuşacağını bilemeyen insanların bu yüzden pişmanlık duydukları çok görülmüştür.

11. Altını çizerek söylemek isterim ki Seyahatname, kültür tarihi ve medeniyetimiz açısından paha biçilemez bir değere sahiptir.

Bu cümlede geçen "altını çizmek" sözünün anlamı aşağıdakilerden hangisidir?

- A) Çizgiler hâlinde belirtmek, desenini yapmak.
- B) Bir noktayı hat biçiminde çeşitli yönde uzatmak.
- C) Görüşlerinden vazgeçmemek, kararlı davranmak.
- D) Bir sözün önemini belirtmek, üzerine dikkati çekmek.

(622) SEÇ. TÜRK DİLİ VE EDEBİYATI – 4

1. Oğuz Atay, 1975'te kaleme aldığı bu eserinde, üniversiteden hocası olan Mustafa İnan'ın hayatını roman kurgusu içerisinde anlatmıştır. Bu eser, Türk edebiyatındaki en önemli biyografik romanlardan biridir. Eser, bilim aşkı ve bu aşkın getirebileceği mutlulukların insanı ölümsüz kılabileceği gerçeğini yeni nesillere anlatabilmek amacıyla yazılmıştır.

Bu parçada sözü edilen eser aşağıdakilerden hangisidir?

- A) Kuyucaklı Yusuf
- B) Tutunamayanlar
- C) Bir Bilim Adamının Romanı
- D) İçimizdeki Şeytan

1. OTURUM

2. Aşağıdaki parçalardan hangisi farklı bir bakış açısıyla yazılmıştır?

- A) Mebrure, fabrikadan çıkarken "Belki de felaketler zavallı babamın saçlarını beyazlatmıştır!" diye düşündü. Fakat nereye gitmişti? Bu muammalı İhsan Efendi'yi İstanbul'un hangi köşesinde aramalı? Derhâl kararını verdi.
- B) Denize ve denizciliğe ait sözler, birkaç yıl önce deniz kıyısı kumlarının üzerinde deniz böceklerinin sedefli ve pırıltılı kabuklarını ilk bulduğum zamanki kadar beni sevindiriyordu. O sözleri içimde evire çevire tekrarlıyor, müziğine doyamıyordum.
- C) Olur tesadüf değil, dün Büyükkada İskelesi'nde karşı karşıya gelince şaşırakaldım. Cılası gözler alan narin tekerlekli, tombul atlı, oyuncak gibi küçük ve süslü bir arabadan indi; uzaktan, ilk bakışta tanıyamadım.
- D) Hatice Hanım, yavaş sesle dualar fısıldayarak merdivene doğru yürüdü. Bense şimdiye kadar, böyle şeylerden ürktüğümü bilmiyordum. Fakat bu dakikada, servi kokularıyla dolu bir karanlık odada yalnız kalmak bir ürkeklik veriyordu.

3. Mualla sofrada konuşmadı. Yemek de yiyemiyordu. Buna dikkat eden annesi, izahat isteyen bir şey sormuştu. Mualla'nın boynu ileri doğru biraz uzadı ve kaşları iki ince hareketle yukarı kalktı. Onun boynu ile kaşları arasındaki münasebetin manasını annesi ekseriya hissederdi. Bu, tevekküle karışan bir memnuniyetsizliğin ifadesiydi.

Bu parçayla ilgili aşağıdakilerden hangisi söylenebilir?

- A) Kahraman bakış açısıyla yazılmıştır.
- B) Tartışmacı anlatım kullanılmıştır.
- C) Geriye dönüş tekniği kullanılmıştır.
- D) Bireyin iç dünyası anlatılmıştır.

4. "Radyo tiyatroları" ile ilgili aşağıdakilerden hangisi söylenemez?

- A) Diyaloglar şeklinde hazırlanır.
- B) Efekt ve müzik ana unsurlarındandır.
- C) Karagöz ve meddah belli başlı türlerindedir.
- D) Kısa, açık ve anlaşılır cümleler kullanılır.

5. Aşağıdaki sanatçı - eser eşleştirmelerinden hangisi yanlıştır?

- A) Orhan Asena - Tohum ve Toprak
- B) Recep Bilginer - Keşanlı Ali Destanı
- C) Ahmet Kutsi Tecer - Koçyiğit Köroğlu
- D) Turan Ofazoğlu - Sokrates Savunuyor

6. Düşünce çatışmaları beni ne kırar ne yıldırır, sadece dürtükler, kafamı çalıştırır. Eleştirilmekten kaçırız oysaki bunu kendiliğimizden istememiz, gelin, bizi eleştirin dememiz gerekir. Hele eleştirme bir ders gibi değil de bir karşılıklı konuşma gibi olursa... Biri çıkıp bizim düşüncemizin tersini söyledi mi onun doğru söyleyip söylemediğini değil, doğru yanlış, kendi düşüncemizi savunmaya bakarız.

Bu parça aşağıdaki metin türlerinden hangisine örnektir?

- A) Deneme B) Makale
- C) Anı D) Eleştiri

7. Kardeşlerim, Evlatlarım, Yemin edeceğiz! Yedi yüz senenin en asil ve en büyük mirası olan vakarımızı, adalet ve terbiyemizi unutmayacağız. Yemin ediniz; Türkiye istiklal ve hakk-ı hayatını alacağı güne kadar hiçbir korku, hiçbir meşakkat önünden kaçmayacaksınız. Yemin ediniz; yedi yüz senenin tarihî ağlayan minareleri altında yemin ediniz! Bayrağımıza, ecdadımızın namusuna hıyanet etmeyiniz!

Bu parçayla ilgili aşağıdakilerden hangisi söylenemez?

- A) Akıcı, içten, etkili ve coşturucu bir anlatımı vardır.
- B) Dil, alıcıyı harekete geçirme ve heyecana bağlı işlevde kullanılmıştır.
- C) Bir topluluğa hitap edilmiştir.
- D) Savunulan düşünce ispatlanmaya çalışılmıştır.

8. (I) Yalan söylemeye çalışan birinin bayıldığını veya epilepsi benzeri nöbetler geçirdiğini hiç gördünüz mü? (II) Doktorların "Bay Pinokyo" adını taktıkları elli iki yaşındaki bir adamın yaşadığı tamda buydu. (III) İşiyile ilgili bir toplantı da yalan söylemeye teşebbüs ettiğinde bunlar başına gelmişti. (IV) Fransa'da bir üniversite hastanesindeki doktorlar, sorunun nedeninin ceviz büyüklüğünde bir tümör olduğunu keşfetti.

Bu parçadaki numaralanmış cümlelerin hangisinde yazım yanlışı yoktur?

- A) I B) II C) III D) IV

9. Düşünürken konuşmak mı () konuşurken düşünmek mi zor () Bunu anlamış değilim fakat deneye deneye şunu öğrendim () Yol tarifi esnasında bir söz çukuru oluşuyor ve siz onun varlığını hesaba katmazsanız muhakkak yanlış bir yere çıkıyor () çukura düşüyorsunuz.

Bu parçada yay ayrıçla gösterilen yerlere gelmesi gereken noktalama işaretleri sırasıyla aşağıdakilerin hangisinde verilmiştir?

- A) (;) (!) (:) (.)
- B) (,) (?) (:) (.)
- C) (,) (?) (") (")
- D) (?) (...) (:) (;)

1. OTURUM

10. Dalyan'daki sabahlarımdan birinde, gün doğumunda, gölün kıyısına gidiyorum. Güneş daha tepelerin ardından görünmeden sulardaki karanlık turuncuya dönüyor yavaş yavaş. Sazlıklardan neşeli kuş sesleri yükseliyor. Sonra ışıkla yıkanmaya başlıyor Köyceğiz Gölü ve ötesindeki Akdeniz. Tekneciler, gelecek yolcular için güverteye yastıkları dizerek hazırlık yapıyor.

Bu parçayla ilgili aşağıdakilerden hangisi söylenemez?

- A) Betimlemeye yer verilmiştir.
- B) Anlatım birinci kişi ağızıyla yapılmıştır.
- C) Benzetmeden yararlanılmıştır.
- D) Devrik cümleler kullanılmıştır.

11. Aşağıdakilerden hangisi bir paragrafın giriş cümlesi olamaz?

- A) Dil ve üslup meselesi, hikâye ve romanlarda önemli bir yer tutar.
- B) Sanatçıların, tiyatroya son zamanlarında eğilmeleri bu nedene bağlanabilir.
- C) Bir öykü, diyaloglarla sürdürülebilir fakat önce düzyazı şeklinde başlamalıdır.
- D) Yaşadıklarımızdan yeni bir hayat çıkarmak için anılarımızı kaleme alabiliriz.

(713) İSLAM KÜLTÜR VE MEDENİYETİ – 1

1. Kültür ile ilgili aşağıdakilerden hangisi söylenemez?

- A) Her toplumun bir kültürü vardır.
- B) İnsanın ihtiyaçlarına göre şekillenir.
- C) Sabit değil, değişkendir.
- D) Tabiatla kendiliğinden bulunur.

2. Aşağıdakilerden hangisi kültürün manevi unsurlarından biridir?

- A) Mimari yapılar
- B) Sanat anlayışı
- C) Yazılı eserler
- D) Araç gereçler

3. Kültür ile medeniyet birbirinden farklı kavramlardır. Kültür, hars demektir. Hars millîdir, medeniyet ise evrensel-dir. Kültür, bir toplumun yaşadığı ve paylaştığı müşterek değerlerdir. Medeniyet ise milletlerarası seviyeye yükselmiş bir kültürün veya birbirine yakın kültürlerin oluşturduğu anlayış, tutum, bilgi, teknoloji ve sosyal faaliyetler bütünüdür.

Bu metinde kültür ve medeniyet arasındaki farkı açıklayan ilim insanı aşağıdakilerden hangisidir?

- A) Ziya Gökalp
- B) Erol Güngör
- C) Nurettin Topçu
- D) Yılmaz Özakpınar

4. İslam dini, sınıflı bir toplumsal yapıyı reddeder. İnsanlara inanç, düşünce ve ifade özgürlüğü tanır.

Bu metin İslam kültür ve medeniyetinin, aşağıdaki esaslarından hangisi ile ilgilidir?

- A) Özgünlük
- B) Tevhit
- C) Hürriyet
- D) İlmilik

5. Kur'an-ı Kerim, "Ey insanlar!", "Ey Âdemoğulları!" hitabıyla başlayan birçok ayette sınıf, ırk, cinsiyet ve toplum ayrımı yapmaksızın bütün insanlara hitap eder.

Bu cümle, İslam kültür ve medeniyetinin aşağıdaki esaslarından hangisi ile ilgilidir?

- A) Özgünlük
- B) Evrensellik
- C) Yerellik
- D) Tevhit

6. Her dönem ve toplumda karşılıklı olarak fikirlerin alınması önemsenmiştir. Cahiliye Dönemi Mekke toplumunda bile kararların Daru'n-Nedve'de toplanılarak alınması buna örnek gösterilebilir.

Bu durum aşağıdakilerden hangisi ile ilgilidir?

- A) Meşruiyet
- B) Liyakat
- C) İstişare
- D) Emanet

7. Hisbe teşkilatı, İslam toplumunu yönlendiren ilkelerin hangisi ile doğrudan ilgilidir?

- A) Kardeşlik
- B) Hak ve adaleti gözetmek
- C) Dayanışma ve yardımlaşmak
- D) İyiliği emretmek, kötülükten sakındırmak

- 8. • Müminin işlerini Allah'ı görüyor-muş gibi en güzel şekilde yapmasıdır.
- İnsanın yaratıcısıyla ilişkilerinde, yaşantısında, ibadet ve iyiliklerini çıkar kaygısı gözetmeden sadece Allah rızası için yapmasıdır.
- Peygamberler tarafından insanlara ulaştırılan emirleri, insanın diliyle söylemesi ve kalbiyle tasdik etmesidir.

Bu tanımlar aşağıdaki kavramlardan hangisiyle eşleştirilemez?

- A) İsar
- B) İhlas
- C) İhsan
- D) İman

9. Osmanlı Devleti'nde, devlet hazinesinden ayrı tutulan ve padişahın şahsi hazinesi olan - - - , devlet giderlerini karşılanmasında yedek bütçe olarak kullanılmıştır.

Bu cümlelerin doğru tamamlanması için boş bırakılan yere aşağıdakilerden hangisi getirilmelidir?

- A) Divanü'l-Mal
- B) Divanü'l-Ziya
- C) Hazine-i Âmiri
- D) Ceb-i Hümayun

10. Aşağıdakilerden hangisi Kütübü's-Sitte'de yer alan sünen türü eserlerin müelliflerinden biri değildir?

- A) Müslim
- B) Nesai
- C) Ebu Davud
- D) Tirmizi

11. "Beytül Hikme" aşağıdakilerden hangisi zamanında kurulmuştur?

- A) Emeviler
- B) Abbasiler
- C) Osmanlılar
- D) Selçuklular

1. OTURUM

(817) AKAİD – 1

1. İslam âlimleri, dini “akıl sahibi insanları kendi hür iradeleriyle bizzat hayırlı olan şeylere götüren ilahi kanun” olarak tanımlamışlardır.

Bu tanımda altı çizili bölüm ile dinin hangi yönüne işaret edilmektedir?

- A) Amacına B) Kaynağına
C) Konusuna D) Muhatabına

2. Aşağıdakilerden hangisi İslam akaidinin amaçlarından biri değildir?

- A) İnanç ilkelerini delillendirmek ve ispat etmek
B) İnanç ilkelerini anlamak ve yorumlamak
C) İnanç ilkelerini belirlemek
D) İnanç ilkelerini savunmak

3. “Her kim bizim şu din işimize ilişkin onda olmayan bir şey icat ederse o reddedilmiştir.”

Bu hadis İslam akaidinin aşağıdaki özelliklerinden hangisi ile ilişkilendirilebilir?

- A) Fıtrata uygun olması
B) İtidal üzere olması
C) Apaçık ve anlaşılabilir olması
D) Sabit ve değişmez olması

4. Baskı ve zorlama altında iken küfür içeren bir sözü söylemek veya fiili yapmak, kişiyi mümin olmaktan çıkarmaz.

Bu cümle aşağıdaki kavramlardan hangisini açıklamaktadır?

- A) İkrâh-ı mülci
B) Küfr-i cühûd
C) İrtidat
D) Zelle

5. Tevhit ve şehadeti inanarak söylemek, imanın ilk derecesi ve İslam'ın temel direğidir. Allah'ı tek ilah tanıyan, Hz. Muhammed'i (sav) Allah'ın peygamberi olarak kabullenen kişi diğer iman esaslarını ve Hz. Muhammed'in (sav) bildirdiği her şeyi toptan kabul etmiş demektir.

Bu metinde aşağıdaki kavramlardan hangisi açıklanmaktadır?

- A) Taklidî iman
B) Tahkikî iman
C) Tafsilî iman
D) İcmalî iman

6. “Kişinin imanının yaşamaya, iç tecrübeye dayalı bilgi ve inanç seviyesinde olması” **aşağıdaki kavramlardan hangisi ile ifade edilmektedir?**

- A) İlme'l yakîn
B) Ayne'l yakîn
C) Hakka'l yakîn
D) Yevme'l yakîn

7. “Müslüman olduğu bilinen bir kişinin, inkâr veya şirk özelliği taşıyan inanç, söz ve davranışlarından ötürü kâfir sayılması” **anlamına gelen kavram aşağıdakilerden hangisidir?**

- A) Tekfir B) Tefrit
C) Takdis D) Tenzih

8. Âlemin sonradan yaratıldığı gerçeğinden yola çıkılarak elde edilen delil **aşağıdakilerden hangisidir?**

- A) Hudûs
B) İmkân
C) Naklî
D) Gaye ve nizam

9. Allah'ın aşağıdaki isimlerinden hangisi sabır ile ilişkilendirilebilir?

- A) Hâfız B) Settâr
C) Metîn D) Hamîd

10. Allah'ın, “varlığının sonu olmamak, ebedî olmak” **anlamlarına gelen sıfatı aşağıdakilerden hangisidir?**

- A) Vahdaniyet B) Vücûd
C) Kıdem D) Beka

11. Kur'an-ı Kerim ve hadislere göre melekler ile ilgili **aşağıdaki bilgilerden hangisi doğrudur?**

- A) İrade sahibi varlıklardır.
B) Gayb ile ilgili bilgi sahibilerdir.
C) İnsanlardan daha sonra yaratılmışlardır.
D) Kısa sürede uzun mesafeler gidebilirler.

(819) KELAM – 1

1. Kalam ilmi, dinin aslını oluşturan akeyi, temel inanç ilkelerini kendisine konu edindiği için - - - - - adıyla anılmıştır.

Bu cümlede boş bırakılan yere aşağıdakilerden hangisi getirilmelidir?

- A) usûlü'd-din B) akaid
C) ilm-i tevhit D) ilm-i istidlal

2. Aşağıdakilerden hangisi kalam ilminin temel konularından biri **değildir**?

- A) Tevhit B) Nübüvvet
C) Ahiret D) İbadet

1. OTURUM

3. Aşağıdakilerden hangisi kelimelerin ortaya çıkış nedeni olan konulardan biri değildir?

- A) Büyük günah işleyeninin durumu
- B) Kader meselesi
- C) Tevhit inancı
- D) İman-amel ilişkisi

4. Kelimelerde yapılan tartışma ve açıklamalar, inançla ilgili Kur'an-ı Kerim ayetlerinin yorumlanmasında ve anlaşılmasında belirleyici olmuştur. Aynı şekilde kelam ilmi de, iman esaslarını izah ederken - - - - ilminin Kur'an ayetleriyle ilgili açıklamalarından faydalanmaktadır.

Bu metinde boş bırakılan yere aşağıdakilerden hangisi getirilmelidir?

- A) hadis
- B) fıkıh
- C) tefsir
- D) akaid

5. Kelam âlimlerinin, varlıkların yaratılışındaki mükemmellikten hareketle evrenin düzenine ve Allah'ın varlığına ulaşmaları sağlayan yöntem aşağıdakilerden hangisidir?

- A) Tümdengelim
- B) Tümevarım
- C) Deney
- D) Temsil

6. Kelamcılara göre madde; sonlu ve sınırlı olan, her biri Allah tarafından yaratılmış bulunan atomlardan oluşur. Bu atomların hareket, renk, şekil, tat, koku gibi akla gelebilecek her türlü niteliği ise araz adını alır. Arazlar devamlılığı olan nitelikler olmayıp her an Allah tarafından yaratılmaktadırlar.

Bu metinde anlatılanlar aşağıdaki ayetlerin hangisi ile ilişkilidir?

- A) "Şüphesiz insan çok hırslı ve sabırsız olarak yaratılmıştır."
(Me'âric suresi, 19. ayet)
- B) "Sizi biz yarattık. Hâlâ tasdik etmeyecek misiniz?"
(Vâkı'a suresi, 57. ayet)
- C) "O, hanginizin daha güzel amel yapacağını sınamak için ölümü ve hayatı yaratandır. O, mutlak güç sahibidir, çok bağışlayandır."
(Mülk suresi, 2. ayet)
- D) "Göklere ve yerde bulunanlar, O'ndan isterler. O, her an bir yaratma hâlinindedir."
(Rahman suresi, 29. ayet)

7. "Şüphesiz biz insanı, karışım hâlindeki az bir sudan yarattık ve onu imtihan edeceğiz. Bu sebeple onu iştir ve görür kıldık."
(İnsân suresi, 2. ayet)

Bu ayette aşağıdakilerden hangisine işaret edilmektedir?

- A) Akı-ı selîm
- B) Haber-i sadık
- C) Havass-ı selîme
- D) Ehl-i sünnet

8. Allah dışındaki her varlık, var olmak için bir sebebe muhtaçtır. Bu sebep, onların var olmasını yok olmasına tercih eder, onları yokluktan varlığa çıkarır.

Bu çıkarım aşağıdaki hükümlerden hangisi ile ilgilidir?

- A) Açıklık
- B) Vacip
- C) Mümteni
- D) Mümkün

9. Aşağıdakilerden hangisi Kelam ilminin iman esaslarını incelediği ana başlıklardan biri değildir?

- A) İsrailiyat
- B) İlahiyyat
- C) Nübüvvat
- D) Semiyyat

10. Aşağıdakilerden hangisi itikadi hükümler kapsamında değerlendirilen konulardan biridir?

- A) İbadetler
- B) İman esasları
- C) Tasavvuf
- D) Muamalat

11. Aşağıdaki kavramlardan hangisi diğerlerinden farklı bir anlama gelmektedir?

- A) Mümteni
- B) Muhâl
- C) Makbul
- D) Müstahîl

(825) OSMANLI TÜRKÇESİ – 1

1. Aşağıdaki devletlerden hangisi Osmanlı Türkçesi alfabesini kullanmıştır?

- A) Büyük Selçuklu
- B) Göktürk
- C) Uygur
- D) Asya Hun

2. Osmanlı Türkçesi ile ilgili aşağıdakilerden hangisi yanlıştır?

- A) Sayılar, rakamlarla yazıldığından soldan sağa doğru yazılır.
- B) Kelimeler, soldan sağa doğru yazılır.
- C) Arapça ve Farsça kelimelere yer verilir.
- D) Tarihler, sağdan sola doğru yazılır.

1. OTURUM

3. "ياز" kelimesinin okunuşu aşağıdakilerden hangisidir?

- A) Yer B) Yüz
C) Yaz D) Yar

4. Aşağıdakilerden hangisi bir harfin başta yazılışı değildir?

- A) ن B) م
C) ق D) ض

5. "٢٠١٦/٠٤/٢٠" tarihinin günümüz rakamlarıyla yazılışı, aşağıdakilerden hangisidir?

- A) 25/03/2012
B) 20/04/2016
C) 20/04/2012
D) 25/03/2016

6. Fiil kök veya gövdelerinin sonundaki "a" sesi "elif" okutucusu ile gösterilir.

Aşağıdaki kelimelerden hangisi sözü edilen kurala örnektir?

- A) چاقال
B) چاتلاق
C) صامان
D) باغلا

7. پورتاقال؛ گوزل،
لذتلی بر میوه اولدیغی
ایچون هر زمان بینیله بیلیر.

Bu cümlede "portakal" ile ilgili aşağıdakilerden hangisine değnilmiştir?

- A) Nerelerde yetiştirildiğine
B) Güzel kokulu çiçeklerinin olduğuna
C) Taşıdığı besin değerine
D) Tadının güzel olduğuna

8. "Vav" sesi, aşağıdaki kelimelerin hangisinde okutucu olarak kullanılmamıştır?

- A) چوروك B) اولوق
C) سيورى D) اوجاق

9. اوجوز گوملك اوتو طوتماز.

IV III II I

Bu cümledeki numaralanmış kelimelerin hangisinde hem elif hem de vav okutucusu kullanılmıştır?

- A) I B) II C) III D) IV

10. قوشدم: "نه وار؟" ديدم. "هيچ ...

"براز فنالق گلدی، شيمدی گچر!
،ديديلر. اويته گوندرمك ايسته دم
بينه بويننى بوكدی،

گيتمه مك ايچون يالواريبوردی.
كندی حالنه بيراقدم. آرتق ايشلر
بتيمك اوزره ايدی.

Bu parçadaki altı çizili deyimın anlamı aşağıdakilerin hangisinde verilmiştir?

- A) Çok yüksek sesle bağırmak
B) Acındıran bir tavır takınmak
C) Yakınlık göstererek karşılamak
D) Ölçüyü kaybedip aşırılığa varmak

11. I. كيشى يه

II. عقل

III. أسكى

IV. سرمايه در

Numaralanmış kelimelerle bir atasözü oluşturulduğunda hangisi dışta kalır?

- A) I B) II C) III D) IV

(931) SİYER – 1

1. Hz. Muhammed'e (sav) Allah tarafından bildirilen emir ve yasaklar yalnızca gönderildiği toplum için değil, kendisinden sonra yaşayacak olan bütün insanlık için de bağlayıcı özellik taşımaktadır.

Bu durum aşağıdakilerden hangisi ile doğrudan ilgilidir?

- A) Emir ve yasakların, uygulamalarıyla açıklığa kavuşması
B) Hz. Muhammed'in (sav) güvenilir bir insan olması
C) Hz. Muhammed'in (sav) Müslümanlar için üsve-i hasene olması
D) Hz. Muhammed'in (sav) son peygamber olması

2. Aşağıdakilerden hangisi "Kütüb-i Tis'a" içinde yer alan hadis kitabı yazarlarından biri değildir?

- A) Belâzürî B) Dârimî
C) Tirmizî D) Buhârî

3. Aşağıdakilerden hangisi Cahiliye Dönemi putperestlik inancı ile ilgili değildir?

- A) Mekke'de putperestliği ilk başlatan kişi Huzâa kabilesinden Amr bin Luhay'dır.
B) Yönetici sınıfın ve zenginlerin inancı olarak tanınmış ve yayılmıştır.
C) Put evleri inşa edilmiş ve bu mekânlar tavaf edilmiştir.
D) Önemli kararlarda putlara danışılmış ve bu durum dinî bir vecibe olarak görülmüştür.

1. OTURUM

(974) SEÇMELİ GİRİŞİMCİLİK – 1

4. • Yaşam şartları gereği iyi birer sa-
vaşçıdırlar.
• Günlük geçimlerini takas veya
yağma yoluyla karşılarlar.
• Çöl bölgesinde konargöçer yaşar-
lar.

**Bu bilgiler aşağıdakilerden hangisi
ile ilgilidir?**

- A) Mevali B) Hadari
C) Bedevi D) Parya

5. Kâbe'ye olan ilgiyi San'a şehrinde
yaptırdığı görkemli kiliseye çekmek
isteyen ve çabaları sonuç verme-
yince Kâbe'yi yıkararak Mekke'nin
dinî bir merkez olma özelliğini orta-
dan kaldırmayı planlayan kişi aşağı-
dakilerden hangisidir?

- A) Ebrehe B) Mukavkıs
C) Heraklius D) Necaşi

6. Hz. Muhammed'in (sav) dedelerinden
---, dağınık hâlde yaşayan
Kureyşlileri birleştirip Mekke şehir
devletini kurmuştur.

**Bu cümlelerin doğru tamamlanması
için boş bırakılan yere aşağıdaki-
lerden hangisi getirilmelidir?**

- A) Kab bin Lüey
B) Fihri bin Malik
C) Kusay bin Kilâb
D) Abdülmuttalib bin Haşim

7. Aşağıdakilerden hangisi
Hz. Muhammed'in (sav) süt kar-
deşlerinden biri değildir?

- A) Abdullah B) İbrahim
C) Üneyse D) Şeyma

8. Hz. Muhammed'in (sav), amcası ile
birlikte katıldığı Hilfü'l-fudûl toplu-
luğunun amacı aşağıdakilerden
hangisidir?

- A) Kan davalarını ortadan kaldırmak
B) Panayırarda yapılan faaliyetleri
düzenlemek
C) Kâbe'nin gelir ve giderleri için ça-
lışmak
D) Haksızlığa karşı çıkıp adaleti sağ-
lamak

9. Hz. Muhammed (sav), Allah'ın kendi-
sine bildirdiği vahiyleri eksiksiz olarak
insanlara iletmiştir.

**Bu durum onun hangi görevi ile
ilgilidir?**

- A) Sıdk B) Tebliğ
C) Fetanet D) Emanet

10. Kâbe'nin tamirâtı sırasında
Hacerülesved'in yerine konulması
ihtilafında mescidin kapısından ilk
girecek kişinin hüküm vermesini
teklif eden kabile lideri kimdir?

- A) Kays bin es-Saib
B) Abdullah bin Ebi Hamsâ
C) Ebu Ümeyye bin Muğîre
D) Zübeyr bin Abdülmuttalib

11. Hz. Muhammed'in (sav) "Bana yal-
nızlık sevdirdi." diyerek inzivaya
çekildiği yer aşağıdakilerden han-
gisidir?

- A) Akabe Kayalıkları
B) Hira Mağarası
C) Sevr Mağarası
D) Uhud Dağı

1. Zorunlu veya kültürel ihtiyaçların
özelliklerinden biri hiyerarşik bir yapı-
da olmaması ve buna bağlı olarak
karşılama önceliğinin insandan in-
sana farklılık göstermesidir.

**Buna göre, aşağıdakilerden han-
gisi bu özelliği doğrulayan bir
örnektir?**

- A) İki arkadaşın tatil yapmak için
Muğla ilini tercih etmesi
B) Zafer'in seyahatlerde uçağa bin-
mekten kaçınması
C) Mehmet'in en çok sevdiği yeme-
ğin fasulye olması
D) Boş zamanlarında Gamze kitap
okurken Meral'in film seyretmesi

2. Mal ve hizmetlerin genel özellikleri
içinde aşağıdakilerden hangisi
yer almaz?

- A) Sınırlı miktardadırlar.
B) İhtiyaçları karşılarlar.
C) Tüm hizmetler ücretlidir.
D) Ekonomik değere sahiptirler.

3. Sanayi üretiminde kullanılan çeşitli
ham maddeler ve ara mallar, ekono-
mik mal ve hizmetlerin üretimi ama-
cıyla kullanıldıkları için yok olsalar
bile tüketim sayılmayarak "ara kulla-
nım" veya "endüstriler arası kulla-
nım" adını almaktadır.

**Bu bilgiye göre, aşağıdakilerden
hangisi endüstriler arası kullanım
olarak değerlendirilen bir ürün de-
ğildir?**

- A) Otomobil üretiminde kullanılan
cam
B) Sandalye yapımında kullanılan
boya
C) Araçların kullandığı akaryakıt
D) Masa yapımında kullanılan ağaç

1. OTURUM

4. 18. yüzyılda sermaye sahibi ve girişimci kavramlarının birbirinden ayrılmasını zorunlu kılan gelişme aşağıdakilerden hangisidir?

- A) Sanayi Devrimi
- B) Amerika kıtasının keşfi
- C) Yeni ticaret yollarının keşfi
- D) Avrupa'daki Rönesans hareketleri

5. Aşağıdakilerden hangisinin iş dünyasına girişimci olarak katılmak isteyen bir kadını motive etmesi beklenir?

- A) İşte belli bir yere kadar yükselebileceğini düşünmesi
- B) İş verimliliğinin sınırlı olacağı kanısına sahip olması
- C) Bazı mesleklerin sadece erkeklerle özdeşmiş olması
- D) Başarılı iş kadınlarına medyada daha fazla yer verilmesi

6. Aşağıdakilerden hangisi kendi işini kuran girişimcinin yaşadığı stres kaynaklarından biridir?

- A) Güncel teknolojiye hâkim olması
- B) Firmalar arası yaşanan yoğun rekabet
- C) Çalışanların da sorumlulukları paylaşması
- D) Nakit akışının düzenli ve sorunsuz gerçekleşmesi

7. Girişimci, genel bir tanımla başkalarının baktığı ama göremediği fırsatları gören ve bunu iş fikrine dönüştürebilen kişidir.

Buna göre aşağıdaki fikirlerden hangisine sahip olan kişi, girişimci olarak nitelendirilebilir?

- A) Bir mobilya fabrikasında çalışmak isteyen
- B) Nüfusu hızla artan yere restoran açmak isteyen
- C) Emekliliğinde daha çok resim yapmak isteyen
- D) Yıl sonunda okulu birincilikle bitirmek isteyen öğrenci

8. Aşağıdakilerden hangisi işletmelerin ve girişimcilerin piyasaya hâkim olmak ve kazançlarını artırmak için yaptığı organizasyondur?

- A) Kartel
- B) Fonksiyon
- C) Arz
- D) İnovasyon

9. **Mühendis Tarık Bey:** Öyle bir yakıt sistemi geliştirmeliyim ki elektrikli araçların bile pabucu dama atılsın. Zaten kullanılmış bataryalar gelecekte çevre sorunlarına neden olacak gibi. Deniz suyuyla bile çalışan bir motor sistemi icat etsem küresel ısınmaya en büyük darbeyi vurarak insanlığa hizmet etmiş olurum.

Bu düşüncedeki Tarık Bey, girişimcinin kişisel özelliklerinden hangisine sahiptir?

- A) Risk alabilme
- B) Hayal kurma
- C) İyimser olma
- D) Öğrenmeye odaklanma

10. Bir girişimcinin bütün olumsuz koşullara rağmen kendi kendinin patronu olma arzusu aşağıdakilerden hangisiyle daha çok ilgilidir?

- A) Mücadele etme hırısı
- B) Problemleri çözme yeteneği
- C) Bağımsız çalışma isteği
- D) Öğrenme azmi

11. Ferdinand Porsche aşağıdaki sektörlerin hangisinde başarılı olmuş bir girişimcidir?

- A) Moda
- B) Turizm
- C) Beyaz eşya
- D) Otomotiv

(999) MATEMATİK – 2

1. A, B ve C maddeleri karıştırılarak 290 gram karışım elde edilmiştir.

$\frac{A}{2} = \frac{B}{3} = \frac{C}{5}$ olduğuna göre, bu karışımdaki C maddesi A maddesinden kaç gram fazladır?

- A) 29
- B) 58
- C) 87
- D) 116

2. Dört kardeşin toplam 450 tane bilyesi vardır. Bu kardeşlerin bilye sayıları birbirinden farklı ve herhangi ikisinin bilye sayılarının toplamı 150'den fazladır.

Buna göre, kardeşlerden herhangi birinin bilye sayısı en az kaçtır?

- A) 4
- B) 3
- C) 2
- D) 1

3. Bir fırındaki ekmeklerin %42'si satılmıştır.

Fırında satılmayan 145 adet ekmek kaldığına göre, kaç adet ekmek satılmıştır?

- A) 105
- B) 115
- C) 125
- D) 135

1. OTURUM

4. Kağan ile Merve'nin bugünkü yaşları toplamı 50, yaşları farkı ise 8'dir.

Buna göre, kaç yıl önce Kağan'ın yaşı Merve'nin yaşının 2 katıdır?

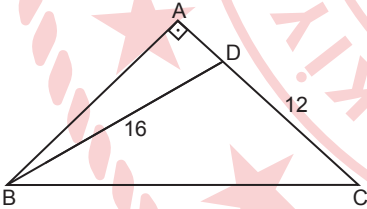
- A) 5 B) 8 C) 11 D) 13

5. Ölçüsü $4x - 20^\circ$ olan açı dik açıdır.

Buna göre, ölçüsü $2x + 10^\circ$ olan açı kaç derecedir?

- A) 40 B) 45 C) 60 D) 65

6.

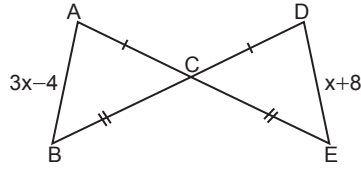


Şekildeki ABC üçgeninde $[BA] \perp [AC]$, $D \in [AC]$ ve $|DC| = 12$ cm, $|BD| = 16$ cm'dir.

Buna göre, $|BC|$ 'nin alabileceği en küçük tam sayı değeri kaçtır?

- A) 19 B) 21 C) 23 D) 27

7.

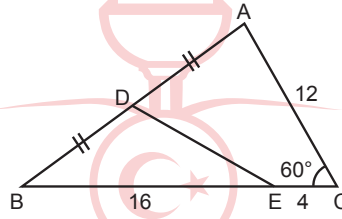


Şekilde B, C, D noktaları ile A, C, E noktaları doğrusal, $|AC| = |CD|$, $|BC| = |CE|$ ve $|AB| = (3x - 4)$ cm, $|DE| = (x + 8)$ cm'dir.

Buna göre, $|AB|$ kaç santimetredir?

- A) 6 B) 9 C) 11 D) 14

8.

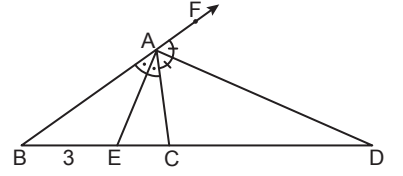


Şekildeki ABC üçgeninde $D \in [AB]$, $E \in [BC]$, $m(\widehat{BCA}) = 60^\circ$, $|BD| = |DA|$ ve $|AC| = 12$ cm, $|EC| = 4$ cm, $|BE| = 16$ cm'dir.

Buna göre, $m(\widehat{DEB})$ kaç derecedir?

- A) 50 B) 45 C) 30 D) 25

9.

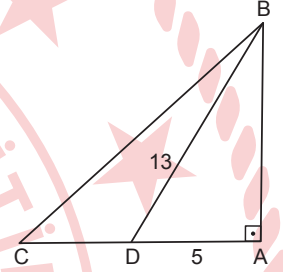


Şekildeki ABC üçgeninde $A \in [BF]$, $[AE]$ iç açıortay, $[AD]$ dış açıortay; B, E, C, D noktaları doğrusal, $2 \cdot |AB| = 3 \cdot |AC|$ ve $|BE| = 3$ cm'dir.

Buna göre, $|CD|$ kaç santimetredir?

- A) 8 B) 10 C) 12 D) 15

10.



Şekilde BAC dik üçgen, $D \in [CA]$, $|DA| = 5$ cm, $|BD| = 13$ cm ve $A(\widehat{BDC}) = 24$ cm² dir.

Buna göre, $|CD|$ kaç santimetredir?

- A) 2 B) 3 C) 4 D) 6

11. Yaş ortalaması 32 olan 8 kişilik bir gruptan yaşı 28 olan bir kişi ayrılıyor ve yaşı 36 olan bir kişi de gruba katılıyor.

Buna göre, son durumda gruptakilerin yaş ortalaması kaç olur?

- A) 33 B) 35 C) 38 D) 40

TEST BİTTİ.

CEVAPLARINIZI KONTROL EDİNİZ.

CEVAP KÂĞIDI VE SORU KİTAPÇIĞI İLE İLGİLİ AÇIKLAMALAR

1. Cevap kâğıdınızdaki bilgilerin doğruluğunu kontrol ediniz ve cevap kâğıdınızı imzalayınız.
2. Cevap kâğıdı üzerinde kodlamalarınızı siyah kurşun kalemle yapınız.
3. Değiştirmek istediğiniz bir cevabı, yumuşak silgiyle cevap kâğıdını yıpratmadan temizce siliniz ve yeni cevabınızı kodlayınız.
4. Soru kitapçığının sayfalarını görevlilerin uyarıları doğrultusunda kontrol ediniz, baskı hatası var ise değiştirilmesini sağlayınız.
5. Soruların çözümü için size ayrıca boş kâğıt verilmeyecektir. Soru kitapçığının içindeki boş alanları soru çözümleri için kullanabilirsiniz.
6. Her sorunun dört seçeneğinden sadece biri doğrudur. Doğru seçeneği, cevap kâğıdınızın ilgili sütununa soru numarasını dikkate alarak yuvarlağın dışına taşımadan kodlayınız. Soru kitapçığı üzerinde yapılan cevaplandırmalar dikkate alınmayacaktır.
7. Cevaplamaya istediğiniz dersin sorusundan başlayabilirsiniz. Cevabını bilmediğiniz sorular üzerinde fazla zaman kaybetmeden diğer sorulara geçiniz. Zamanınız kalırsa bu sorulara daha sonra dönebilirsiniz.
8. Yanlış cevaplarınız dikkate alınmadan sadece doğru cevaplarınız üzerinden puanlama yapılacaktır.
9. Soruları ve sorulara verdiğiniz cevapları, yanınızda götürmek amacıyla kaydetmeyiniz; hiçbir şekilde dışarı çıkarmayınız.
10. Sınav bitiminde soru kitapçığı ve cevap kâğıdını salon görevlilerine teslim ediniz.
11. Aday tarafından cevap kâğıdına yazılması veya işaretlenmesi gereken bilgilerde eksiklik ya da yanlışlık olması durumunda sorumluluk adaya ait olacaktır.

SALON GÖREVLİLERİNCE SINAV BAŞLAMADAN ÖNCE ADAYLARA YAPILACAK SON UYARILAR

- Soracağınız bir şey varsa şimdi sorunuz, sınav başladıktan sonra sorularınıza cevap verilmeyecektir.
- Başlama zilini bekleyiniz.

Hepinize başarılar dileriz.

(Salon başkanı başlama ve bitiş saatini tahtaya yazacaktır.)

Bu kitapçığın her hakkı saklıdır. Hangi amaçla olursa olsun, kitapçığın tamamının veya bir kısmının Millî Eğitim Bakanlığı Ölçme, Değerlendirme ve Sınav Hizmetleri Genel Müdürlüğünün yazılı izni olmadan kopya edilmesi, fotoğraflarının çekilmesi, bilgisayar ortamına alınması, herhangi bir yolla çoğaltılması, yayımlanması veya başka bir amaçla kullanılması yasaktır. Bu yasağa uymayanlar, doğabilecek cezai sorumluluğu ve kitapçığın hazırlanmasındaki mali külfeti peşinen kabullenmiş sayılır.

20 TEMMUZ 2024 TARİHİNDE YAPILAN AÇIK ÖĞRETİM LİSESİ / MESLEKİ AÇIK ÖĞRETİM LİSESİ /
AÇIK ÖĞRETİM İMAM HATİP LİSESİ
2023-2024 ÖĞRETİM YILI 3. DÖNEM SINAVI 1. OTURUM T KİTAPÇIĞI CEVAP ANAHTARI

(111) DİN KÜL. AHL. BİL. – 1	(125) FELSEFE – 3	(155) SEÇMELİ COĞRAFYA – 1	(181) FRANSIZCA – 1
1. B 2. C 3. C 4. A 5. A 6. D 7. C 8. B 9. B 10. A 11. D	1. A 2. B 3. A 4. D 5. C 6. C 7. D 8. D 9. B 10. A 11. C	1. B 2. D 3. C 4. A 5. D 6. C 7. D 8. A 9. B 10. C 11. B	1. D 2. A 3. C 4. A 5. D 6. B 7. B 8. C 9. C 10. B 11. D
(112) DİN KÜL. AHL. BİL. – 2	(132) TARİH – 2	(157) SEÇMELİ COĞRAFYA – 3	(195) SEÇMELİ ORTAK TÜRK TARİHİ – 1
1. D 2. C 3. B 4. B 5. D 6. A 7. D 8. A 9. B 10. A 11. C	1. B 2. A 3. D 4. D 5. C 6. B 7. C 8. A 9. C 10. B 11. B	1. C 2. B 3. D 4. A 5. B 6. B 7. C 8. D 9. A 10. D 11. A	1. D 2. B 3. C 4. A 5. C 6. D 7. B 8. A 9. B 10. D 11. A
(115) DİN KÜL. AHL. BİL. – 5	(136) SEÇMELİ TARİH – 2	(181) İNGİLİZCE – 1	(222) SAĞLIK BİLGİSİ VE TRAFİK KÜLTÜRÜ – 2
1. D 2. B 3. B 4. A 5. C 6. D 7. C 8. A 9. C 10. D 11. A	1. B 2. C 3. D 4. A 5. D 6. B 7. A 8. C 9. B 10. D 11. C	1. B 2. D 3. A 4. C 5. B 6. D 7. B 8. A 9. D 10. C 11. A	1. B 2. D 3. D 4. B 5. D 6. C 7. D 8. C 9. A 10. C 11. B
(121) FELSEFE – 1	(151) COĞRAFYA – 1	(181) ALMANCA – 1	(244) İNGİLİZCE – 5
1. A 2. D 3. C 4. D 5. A 6. B 7. D 8. A 9. C 10. B 11. C	1. D 2. A 3. B 4. C 5. D 6. A 7. B 8. C 9. A 10. C 11. D	1. B 2. B 3. A 4. A 5. C 6. B 7. C 8. D 9. A 10. C 11. D	1. D 2. B 3. C 4. B 5. A 6. C 7. D 8. D 9. C 10. A 11. B

20 TEMMUZ 2024 TARİHİNDE YAPILAN AÇIK ÖĞRETİM LİSESİ / MESLEKİ AÇIK ÖĞRETİM LİSESİ /
AÇIK ÖĞRETİM İMAM HATİP LİSESİ
2023-2024 ÖĞRETİM YILI 3. DÖNEM SINAVI 1. OTURUM T KİTAPÇIĞI CEVAP ANAHTARI

(244) ALMANCA – 5	(432) KİMYA – 2	(446) SEÇMELİ BİYOLOJİ – 2	(502) ALMANCA – 8
1. B 2. D 3. B 4. A 5. C 6. A 7. A 8. B 9. C 10. D 11. C	1. B 2. D 3. C 4. D 5. A 6. C 7. C 8. D 9. A 10. D 11. B	1. B 2. D 3. D 4. B 5. C 6. A 7. D 8. A 9. C 10. A 11. C	1. B 2. C 3. D 4. A 5. D 6. B 7. C 8. D 9. C 10. B 11. A
(244) FRANSIZCA – 5	(436) SEÇMELİ KİMYA – 2	(465) TEMEL DİNİ BİL.- 1	(502) FRANSIZCA – 8
1. B 2. C 3. A 4. D 5. C 6. B 7. D 8. A 9. C 10. B 11. A	1. D 2. B 3. D 4. C 5. B 6. A 7. D 8. A 9. C 10. B 11. A	1. D 2. A 3. C 4. B 5. A 6. C 7. D 8. A 9. B 10. C 11. B	1. B 2. D 3. A 4. C 5. B 6. D 7. C 8. D 9. A 10. A 11. B
(421) FİZİK – 1	(441) BİYOLOJİ – 1	(479) SEÇMELİ MANTIK – 2	(511) FİKİH – 1
1. B 2. D 3. C 4. C 5. B 6. D 7. A 8. B 9. A 10. A 11. D	1. B 2. A 3. C 4. D 5. C 6. A 7. D 8. A 9. B 10. B 11. C	1. B 2. D 3. C 4. A 5. B 6. C 7. A 8. C 9. D 10. A 11. B	1. D 2. C 3. A 4. B 5. D 6. A 7. C 8. B 9. A 10. A 11. C
(425) SEÇMELİ FİZİK – 1	(443) BİYOLOJİ – 3	(502) İNGİLİZCE – 8	(532) SEÇMELİ PEYGAMBERİMİZİN HAYATI – 2
1. A 2. D 3. B 4. C 5. D 6. A 7. B 8. C 9. D 10. B 11. A	1. D 2. A 3. A 4. C 5. B 6. D 7. C 8. C 9. D 10. A 11. B	1. A 2. B 3. D 4. B 5. C 6. D 7. A 8. C 9. A 10. D 11. C	1. A 2. C 3. D 4. B 5. B 6. D 7. A 8. B 9. D 10. B 11. C

20 TEMMUZ 2024 TARİHİNDE YAPILAN AÇIK ÖĞRETİM LİSESİ / MESLEKİ AÇIK ÖĞRETİM LİSESİ /
AÇIK ÖĞRETİM İMAM HATİP LİSESİ
2023-2024 ÖĞRETİM YILI 3. DÖNEM SINAVI 1. OTURUM T KİTAPÇIĞI CEVAP ANAHTARI

(535) SEÇMELİ PEYGAMBERİMİZİN HAYATI – 5	(548) TÜRK DİLİ VE EDEBİYATI – 8	(622) SEÇMELİ TÜRK DİLİ VE EDEBİYATI – 4	(825) OSMANLI TÜRKÇESİ – 1
1. C 2. C 3. B 4. A 5. B 6. D 7. C 8. A 9. B 10. A 11. D	1. D 2. B 3. D 4. C 5. A 6. A 7. C 8. D 9. B 10. A 11. B	1. C 2. A 3. D 4. C 5. B 6. A 7. D 8. D 9. B 10. C 11. B	1. A 2. B 3. C 4. A 5. B 6. D 7. D 8. C 9. D 10. B 11. C
(537) SEÇMELİ PEYGAMBERİMİZİN HAYATI – 7	(609) SEÇMELİ MATEMATİK – 2	(713) İSLAM KÜLTÜR VE MEDENİYETİ – 1	(931) SİYER – 1
1. C 2. D 3. C 4. C 5. B 6. B 7. A 8. C 9. B 10. B 11. A	1. B 2. C 3. A 4. D 5. C 6. A 7. A 8. D 9. C 10. B 11. B	1. D 2. B 3. A 4. C 5. B 6. C 7. D 8. A 9. D 10. A 11. B	1. D 2. A 3. B 4. C 5. A 6. C 7. B 8. D 9. B 10. C 11. B
(544) TÜRK DİLİ VE EDEBİYATI – 4	(611) DİNLER TARİHİ – 1	(817) AKAIĐ – 1	(974) SEÇMELİ GİRİŞİMCİLİK – 1
1. A 2. D 3. A 4. B 5. C 6. C 7. A 8. D 9. B 10. D 11. B	1. C 2. D 3. A 4. A 5. B 6. B 7. C 8. B 9. C 10. D 11. A	1. B 2. C 3. D 4. A 5. D 6. C 7. A 8. A 9. C 10. D 11. D	1. D 2. C 3. C 4. A 5. D 6. B 7. B 8. A 9. B 10. C 11. D
(547) TÜRK DİLİ VE EDEBİYATI – 7	(621) SEÇMELİ TÜRK DİLİ VE EDEBİYATI – 3	(819) KELAM – 1	(999) MATEMATİK – 2
1. D 2. C 3. B 4. C 5. A 6. D 7. A 8. B 9. C 10. D 11. B	1. C 2. D 3. B 4. A 5. B 6. C 7. A 8. C 9. D 10. B 11. D	1. A 2. D 3. C 4. C 5. B 6. D 7. C 8. D 9. A 10. B 11. C	1. C 2. B 3. A 4. D 5. D 6. B 7. D 8. C 9. B 10. C 11. A