



T.C.
MİLLÎ EĞİTİM BAKANLIĞI
ÖLÇME, DEĞERLENDİRME VE
SINAV HİZMETLERİ GENEL MÜDÜRLÜĞÜ

AÇIK ÖĞRETİM LİSESİ / MESLEKİ AÇIK ÖĞRETİM LİSESİ /
AÇIK ÖĞRETİM İMAM HATİP LİSESİ
2024 - 2025 ÖĞRETİM YILI
1. DÖNEM SINAVI

1.
OTURUM

21 ARALIK 2024 Saat: 10.00

DERS KODU VE ADI	SAYFA	DERS KODU VE ADI	SAYFA	DERS KODU VE ADI	SAYFA
(111) DİN KÜL. VE AHL. BİL. - 1	3	(244) FRANSIZCA - 5	17	(537) SEÇMELİ	
(112) DİN KÜL. VE AHL. BİL. - 2	4	(421) FİZİK - 1	18	PEYGAMBERİMİZİN HAY. - 7	31
(115) DİN KÜL. VE AHL. BİL. - 5	5	(425) SEÇMELİ FİZİK - 1	19	(544) TÜRK DİLİ VE EDEBİYATI - 4	32
(121) FELSEFE - 1	6	(432) KİMYA - 2	20	(547) TÜRK DİLİ VE EDEBİYATI - 7	33
(125) FELSEFE - 3	7	(436) SEÇMELİ KİMYA - 2	21	(548) TÜRK DİLİ VE EDEBİYATI - 8	34
(132) TARİH - 2	8	(441) BİYOLOJİ - 1	22	(609) SEÇMELİ MATEMATİK - 2	35
(136) SEÇMELİ TARİH - 2	9	(443) BİYOLOJİ - 3	23	(611) DİNLER TARİHİ - 1	36
(151) COĞRAFYA - 1	10	(446) SEÇMELİ BİYOLOJİ - 2	24	(621) SEÇ. TÜRK DİLİ VE	
(155) SEÇMELİ COĞRAFYA - 1	11	(465) TEMEL DİNİ BİL. - 1	24	EDEBİYATI - 3	37
(157) SEÇMELİ COĞRAFYA - 3	12	(479) SEÇMELİ MANTIK - 2	25	(622) SEÇ. TÜRK DİLİ VE	
(181) İNGİLİZCE - 1	13	(502) İNGİLİZCE - 8	26	EDEBİYATI - 4	38
(181) ALMANCA - 1	14	(502) ALMANCA - 8	27	(713) İSLAM KÜLTÜR VE	
(181) FRANSIZCA - 1	14	(502) FRANSIZCA - 8	28	MEDENİYETİ - 1	40
(195) SEÇMELİ		(511) FİKİH - 1	28	(817) AKADİ - 1	41
ORTAK TÜRK TARİHİ - 1	15	(532) SEÇMELİ		(819) KELAM - 1	42
(222) SAĞLIK BİLGİSİ VE		PEYGAMBERİMİZİN HAY. - 2	29	(825) OSMANLI TÜRKÇESİ - 1	42
TRAFİK KÜLTÜRÜ - 2	16	(535) SEÇMELİ		(931) SİYER - 1	43
(244) İNGİLİZCE - 5	16	PEYGAMBERİMİZİN HAY. - 5	30	(974) SEÇMELİ GİRİŞİMCİLİK - 1	44
(244) ALMANCA - 5	17			(999) MATEMATİK - 2	45

ADAYLARIN DİKKATİNE!

- Her ders için 10 soru bulunmaktadır. Bu oturumda **100** dakikalık cevaplama süreniz vardır. Sınavın ilk **30** dakikası tamamlanmadan ve sınav bitimine **15** dakika kala salon dışına çıkmayınız.
- Kullanımı doktor raporu ile belirlenen hasta veya engellilere ait cihazlar ve ilaçlar, anahtarlıksız basit anahtar, ulaşım kartları, para, alyans, şeffaf pet şişe içerisinde bandajı çıkarılmış su ve şeffaf numaralı gözlük hariç; her türlü kesici ve delici alet, ateşli silah, çanta, cüzdan, cep telefonu, her türlü saat, anahtarlık, elektronik anahtar, kablosuz iletişim sağlayan cihaz, kulaklık, kolye, küpe, bilezik, yüzük, broş ve diğer takılar, her türlü plastik, metal ve cam eşya, banka kredi kartları, her türlü elektronik ve mekanik cihaz, her türlü müsvedde kâğıt, defter, ders notu, kitap, sözlük, dergi, gazete ve benzeri yayınlara, cetvel, pergel, açılıçer ve benzeri araçlar, yiyecek, içecek ve diğer tüketim maddeleri yanınızda bulundurmayınız. Bu araçları/maddeleri yanınızda bulundurmanız ve kopya çekmeye teşebbüs etmeniz hâlinde sınavınız geçersiz sayılacaktır.
- Başvuru şartlarını taşımadığınız hâlde sınava girerseniz, kopya çekerseniz, başka adayın sınav evrakını kullanmanız ve geçerli kimlik belgenizi ibraz edemediğiniz durumlarda sınavınız geçersiz sayılacaktır.
- Sınavın değerlendirilmesi aşamasında, bilgisayar ortamında yapılan kopya analizinde sistemin ikili ve/veya toplu kopya tespiti hâlinde sınavınız geçersiz sayılacaktır.
- Adaylar, sınav kurallarına ve salon görevlilerinin tüm uyarılarına uymak zorundadır. Kurallara ve uyarılara uymayan adayların sınavları geçersiz sayılacaktır.**
- Sınav başladıktan sonra adayların salon görevlileri ve birbirleri ile konuşmaları; kalem, silgi vb. şeyleri istemeleri yasaktır.
- Adaylar sınav süresince, sınav giriş belgesi ile geçerli kimlik belgelerinden birini masalarının üzerinde bulundurmak zorundadır.
- Sınav evraklarını teslim etmeyen, soru kitapçıklarının sayfalarından bir kısmını eksik teslim edenlerin sınavları geçersiz sayılacaktır.**
- Sınav başlamadan önce kitapçığın arkasındaki açıklamaları okuyunuz.

BAŞLAYINIZ DENMEDEN SORU KİTAPÇIKLARINI AÇMAYINIZ.



1. OTURUM

(111) DİN KÜL. VE AHL. BİL. – 1

1. “Ey iman edenler! Allah’a, Peygamberine, Peygamberine indirdiği kitaba ve daha önce indirdiği kitaba iman edin...”

(Nisa suresi, 136. ayet)

Bu ayette geçen “kitap” kavramıyla bilgi edinme kaynaklarından hangisi kastedilmiştir?

- A) Duyular B) Akıl
C) Vahiy D) İlham

2. Allah’ın bütün eksikliklerden uzak ve yüce olduğunu inanç, söz ve davranışlarla göstermektedir.

Bu tanım aşağıdakilerden hangisine aittir?

- A) Tespih B) Tövbe
C) Tevhit D) Tefekkür

3. Hz. Muhammed (sav) “Dua ibadetin özüdür.” buyurmuştur. Ayrıca önemli ibadetlerden biri kabul edilen namaz, Kur’an-ı Kerim’de, dua anlamına gelen - - - - kelimesi ile ifade edilir.

Bu metinde boş bırakılan yere aşağıdakilerden hangisi getirilmelidir?

- A) selamet B) safiyet
C) salat D) salih

4. “... Yoksa siz Kitab’ın bir kısmına inanıp, bir kısmını inkâr mı ediyorsunuz?..”

(Bakara suresi, 85. ayet)

Bu ayette “iman esaslarının özellikleri”nden hangisinin önemi anlatılmıştır?

- A) Sade, açık ve anlaşılır mahiyettedir.
B) Bölünme kabul etmeyen bir bütündür.
C) Özgür iradeye dayalı bir tercihtir.
D) İnsanın fitratına uygundur.

5. **Aşağıdaki ayetlerin hangisinde Allah’ın “selbi sıfatlar”ından biri vurgulanmıştır?**

- A) “Onlar bilmezler mi ki gizlediklerini de açığa vurduklarını da Allah bilmektedir.”
(Bakara suresi, 77. ayet)
B) “Bir şey yaratmak istediği zaman O’nun yaptığı ‘Ol!’ demekten ibarettir. Hemen olurur.”
(Yasin suresi, 82. ayet)
C) “... Şüphesiz ki Allah, hakkıyla işitendir, hakkıyla görendir.”
(Nisa suresi, 58. ayet)
D) “Allah, kendisinden başka hiçbir ilah bulunmayandır...”
(Al-i İmran suresi, 2. ayet)

6. **Aşağıdakilerden hangisi dört büyük kutsal kitabın gönderildiği peygamberlerden biri değildir?**

- A) Hz. Âdem
B) Hz. Musa
C) Hz. İsa
D) Hz. Muhammed

7. **Allah’a inanan bir kimseden aşağıdaki tutum ve davranışlardan hangisi beklenmez?**

- A) Yaratılış amacına uygun yaşamaya gayret eder.
B) Ahiret hayatı için dünyadaki sorumluluklarından vazgeçer.
C) İyi bir insan olmak için ahlakını güzelleştirmeye çalışır.
D) Söz ve fiillerinden hesaba çekileceği bilinciyle hareket eder.

8. İslam dininde ibadet kavramının biri genel, biri de özel olmak üzere iki anlamı vardır. Genel anlamı, Allah’ın rızasını kazanmak için günlük hayatında iyi bir insan olmaya çalışmaktır. Özel anlamı ise Allah’ın emretmiş olduğu, kulun Rabbiyle iletişimini simgeleyen görevlerdir.

Buna göre, aşağıdakilerden hangisi ibadetin genel anlamına uygun bir örnektir?

- A) Dua etmek
B) Namaz kılmak
C) Oruç tutmak
D) Dürüst olmak

9. **İslam dinine göre, “akli dengesi yerinde, ergenlik çağına ulaşmış, dinin emir ve yasakları karşısında sorumlu olan kişi” için kullanılan kavram aşağıdakilerden hangisidir?**

- A) Mürüvvet B) Müttaki
C) Mükellef D) Mübarek

1. OTURUM

10. İslam dinine göre, gösteriş niyetiyle yapılan davranışlar ibadet değeri kazanmaz.

Bu durum, ibadetlerin aşağıdaki ilkelerinden hangisiyle doğrudan ilgilidir?

- A) İhlaslı ve samimi olmak
- B) Aşırılıklardan kaçınmak
- C) Kuran ve sünnete uygunluk
- D) İstikrarlı bir şekilde devam etmek

4. Farklı milletlerden Müslümanların bir araya gelerek tanışmasına vesile olan - - - ibadeti; ilmî, ekonomik ve kültürel bakımdan Müslüman toplumları olumlu yönde etkilemiştir.

Bu cümlede boş bırakılan yere aşağıdakilerden hangisi getirilmiştir?

- A) zekât
- B) namaz
- C) hac
- D) oruç

8. **Aşağıdakilerden hangisi, Arap Yarımadası'nda İslamiyet öncesi dönemin "cahiliye" olarak adlandırılmasının nedenlerinden biri değildir?**

- A) Kız çocuklarının değersiz görülmesi
- B) Putlara tapılıp Allah'a şirk koşulması
- C) Yağmacılığın geçim kaynağı hâline gelmesi
- D) Sözlü aktarımın yazıdan daha yaygın olması

(112) DİN KÜL. VE AHL. BİL. – 2

1. **Aşağıdakilerin hangisi namazda son oturuşta okunan dualardan biri değildir?**

- A) Sübhaneke
- B) Tahiyyat
- C) Salli ve Barik
- D) Rabbena

2. Örtülmesi gereken yerleri kapatacak şekilde giyinmek anlamına gelen - - - ; aynı zamanda bedeni, kalbi ve aklı günahlara ve kötülüklere karşı korumaktır.

Bu cümlede boş bırakılan yere aşağıdakilerden hangisi getirilmiştir?

- A) tesettür
- B) tevekkül
- C) tevazu
- D) tefekkür

3. **Namazlarını samimiyet ve devamlılıkla yerine getiren bir kimseden aşağıdaki tutum ve davranışlardan hangisi beklenmez?**

- A) Özü sözü bir olmak
- B) Kötülüklerden kaçınmak
- C) Kendisini insanlardan üstün görmek
- D) Rabbine karşı sevgi ve saygı hissetmek

5. **Erdemli bir toplumun öncelikle aşağıdakilerden hangisine sahip olması gerekir?**

- A) Teknolojik imkânlar
- B) Kültürel zenginliğe
- C) Doğal kaynaklara
- D) Ahlaklı bireylere

6. "Müminlerin iman bakımından en mükemmeli, ahlak bakımından en güzel olanıdır."

Bu hadiste aşağıdakilerden hangisi anlatılmak istenmiştir?

- A) İman ile ahlakın farkı
- B) İman ve ahlak birlikteliği
- C) İman ile ahlakın fitrata uygun olduğu
- D) İmanın ve ahlakın manevi bir değer olduğu

7. **İslam toplumlarında vakıf adı verilen kurumların ortaya çıkmasında ki başlıca etken aşağıdakilerden hangisidir?**

- A) Dürüstlük
- B) Yardımseverlik
- C) Sabır
- D) Nezaket

9. "Hatemülenbiya" kavramı aşağıdakilerden hangisi için kullanılır?

- A) Peygamberlerin mesajı
- B) Peygamberlerin sonuncusu
- C) Peygamberlerin insan olduğu
- D) Peygamberlerin gönderiliş amacı

10. **Hz. Muhammed'in (sav) insanlar için güzel bir örnek olduğunu ifade eden kavram aşağıdakilerden hangisidir?**

- A) Muhammedülemin
- B) Hatemünnebiyyin
- C) Üsveihasene
- D) Esmayihüsna

1. OTURUM

(115) DİN KÜL. VE AHL. BİL. – 5

1. Verilen imkânları iyi yönde kullananlarla kötü yönde kullananların Allah katındaki durumları aynı olmayacaktır.

Bu açıklama aşağıdaki ayetlerden hangisiyle aynı doğrultudadır?

- A) "Allah, yarattığı her şeyi güzel yapmış ve ilk başta insanı çamurdan yaratmıştır."
(Secde suresi, 7. ayet)
- B) "Kim zerre miktarı hayır yapmışsa onu görür kim de zerre miktarı şer işlemişse onu görür."
(Zilzal suresi, 7 ve 8. ayetler)
- C) "... Oysa göklerde ve yerde olanlar isteyerek veya istemeyerek Allah'a boyun eğmişlerdir..."
(Al-i İmran suresi, 83. ayet)
- D) "... Rabbimiz! Bize dünyada ve ahirette nimet, güzellik ve iyilik ver..."
(Bakara suresi, 201. ayet)

2. "Sizi ilk defa yarattığımız gibi teker teker huzurumuza geleceksiniz. Verdiğimiz malı mülkü de arkanızda bırakacaksınız. Size şefaathçi olacağını sandıklarınız da yanınızda olmayacak..."

(Enam suresi, 94. ayet)

Bu ayette "sorumluluk" ile ilgili aşağıdakilerden hangisi vurgulanmaktadır?

- A) Akıl ve iradeyle yerine getirildiği
B) Azim ve kararlılık gerektirdiği
C) İnsana değer yüklediği
D) Bireysel olduğu

3. "Gökleri ve yeri yaratan, bunları yaratmaktan yorulmayan Allah'ın, ölüleri diriltmeye de gücünün yeteceğini düşünmezler mi?..."
(Ahkaf suresi, 33. ayet)

Bu ayette aşağıdakilerden hangisi vurgulanmaktadır?

- A) Ba's B) Haşır
C) Mizan D) Kıyamet

4. "O gün ölçü ve tartı haktır. Kimin tartıları ağır gelirse onlar kurtuluşa erenlerdir."
(Araf suresi, 8. ayet)

Bu ayette altı çizili ifade ile anlatılan gün aşağıdakilerden hangisidir?

- A) Cuma B) Bayram
C) Ahiret D) Arife

5. Hz. Muhammed (sav) Allah'tan aldığı buyrukları insanlara ulaştırmakla kalmamış, onların anlamakta zorlandıkları hususları açıklamıştır.

Bu metinde Hz. Muhammed'in (sav) aşağıdaki görevlerinden hangisi anlatılmaktadır?

- A) Tebyin B) Teşri
C) Temsil D) Takrir

6. Aşağıdaki âlimlerden hangisi "Kütübisitte" müelliflerinden biri değildir?

- A) Nesai B) Müslim
C) Darimi D) Tirmizi

7. Aşağıdaki ayetlerin hangisinde "peygamberlerin görevlendirilme amacı"na **değinilmemiştir?**

- A) "Biz seni ancak bütün insanlara müjdeleyici ve uyarıcı olarak gönderdik..."
(Sebe suresi 28. ayet)
- B) "Ve seni ancak âlemlere rahmet olarak gönderdik."
(Enbiya suresi, 107. ayet)
- C) "Allah, dinini, bütün dinlere üstün kılmak için, peygamberini hidayetle ve hak dinle gönderendir..."
(Tevbe suresi, 33. ayet)
- D) "Biz Nuh'a ve ondan önceki peygamberlere vahyettiğimiz gibi sana da vahyettik..."
(Nisa suresi, 163. ayet)

8. Aşağıdakilerden hangisi "emir bilmaruf nehiy anilmünker" görevini yerine getirmekle ilgilidir?

- A) Tebliğ B) Tevekkül
C) Tasdik D) Tövbe

9. Aşağıdakilerden hangisi "cihat" kavramının içerdiği anlamlardan biri değildir?

- A) Kötülükten uzak durmak
B) Hak yolunda mücadele etmek
C) İslam'ın bilinmesi için çalışmak
D) Nefsani arzularına göre yaşamak

10. "Haktan yüz çevirip batıla yönelmek, ilahi emirlere aykırı davranmak ve doğru yoldan uzaklaşmak" anlamına gelen kavram aşağıdakilerden hangisidir?

- A) Tevazu B) Dalalet
C) Tezkiye D) Mukatele

1. OTURUM

(121) FELSEFE – 1

1. Karl Jaspers'in "Nerede bir insan varsa orada felsefe vardır." sözüyle anlatılmak istenen aşağıdakilerden hangisidir?

- A) Felsefenin insan etkinliği olduğu
- B) Felsefenin varlığının tehlikede olduğu
- C) İnsan için en önemli ihtiyacın felsefe yapmak olduğu
- D) Merak ve şüphenin felsefenin doğuşunda etkili olduğu

2. İlim, ilim bilmektir. İlim kendini bilmektir. Sen kendini bilmez isen Ya nice okumaktır!

Kendini bilmenin önemine değinen bu dörtlük aşağıdakilerden hangisine aittir?

- A) El-Kindi
- B) Mevlana
- C) İbn-i Sina
- D) Yunus Emre

3. Felsefe ile ilgili aşağıdakilerden hangisi yanlıştır?

- A) İlk filozof olarak kabul edilen kişi Thales'tir.
- B) Felsefenin anlamı bilgelik sevgisidir.
- C) Filozoflar, her şeyi bilen kişilerdir.
- D) Filozof sözcüğünü kullanan ilk kişi Pythagoras'tır.

4. Felsefe "Erdem nedir?" şeklinde bir soru sorduğu zaman buna verilen cevap, herhangi bir dönemin, kültürünün içinde değerlendirilen tek tek erdem örneklerinden bağımsız olarak erdemlerde ortak olan şeyi yakalamayı hedefler. Bu; dün, bugün ya da yarın değişmeyen, bütün bunları kapsayan, sınırlandırılmış olmayandır.

Bu durum, felsefi düşüncenin aşağıdaki özelliklerinden hangisiyle ilgilidir?

- A) Tutarlı olma
- B) Evrensel olma
- C) Refleksif olma
- D) Rasyonel olma

5. Aşağıdakilerden hangisi felsefe sorusudur?

- A) Türkiye'nin en mutlu şehri hangisidir?
- B) Mutlu bir yaşam sürmek mümkün müdür?
- C) Mutluluğa etki eden fizyolojik durumlar nelerdir?
- D) Mutluluk üzerine yazılmış kitaplar hangileridir?

6. Tabloda bazı kavramların tanımları yanlış verilmiştir.

Kavram	Tanım
Argüman	Bir görüşü desteklemek, doğrulamak veya güçlendirmek için öne sürülen önerme ya da önermelerdir.
Görüş	Genel önermelerden özel önermelere doğru giden akıl yürütme biçimidir.
Akıl yürütme	Zihnin bir veya birkaç önermeye dayanarak sonuç çıkarmasıdır.
Tümdengelim	Bir olay, varlık veya düşünce üzerinde varılan yargıdır.

Buna göre, kavram ve tanım eşleştirmesinin doğru olabilmesi için aşağıdaki kavramlardan hangileri yer değiştirmelidir?

- A) Görüş ve akıl yürütme
- B) Argüman ve tümdengelim
- C) Argüman ve akıl yürütme
- D) Görüş ve tümdengelim

7. Tümevarım ile ilgili aşağıdakilerden hangisi yanlıştır?

- A) Önermeler doğru olduğunda varılan sonuç zorunlu olarak doğrudur.
- B) Özel önermelerden genel önermelere doğru giden bir akıl yürütme biçimidir.
- C) Varılan sonuç, kanıta dayanmakla beraber olasılık barındırır.
- D) Tek tek durumlar gözlenerek olayın bütünü hakkında bir sonuca varılır.

8. İnsanların kendini ve dünyayı anlamasını, duygu, düşünce ve isteklerini anlatmasını sağlayan, birbirleriyle iletişim kurmasını olanaklı kılan temel insani yeti aşağıdakilerden hangisidir?

- A) His
- B) Güvenlik
- C) Dil
- D) Aidiyet

9. Her entelektüel alan, yanıtlara ihtiyaç duyulan ya da yanıtları fazlasıyla arzulanan bir grup sorudan doğmuştur. Dahası her alan ancak yeni soruların, düşünmenin itici gücü olarak oluşturulduğu ve ciddiye alındığı ölçüde canlı kalır.

Bu parçadan hareketle aşağıdakilerden hangisine ulaşılabilir?

- A) Entelektüel olmak ile entelektüel görünmek arasında fark vardır.
- B) Cevap arayışı soruları, sorular da yeni entelektüel alanları doğurur.
- C) Kendini güncellemeyen her cevap, zamanla etkisini yitirmeye başlar.
- D) Pratik fayda sağlayacağı düşünülen soruların cevapları daha çok merak edilir.

1. OTURUM

10. Felsefi bir tartışmada aşağıdakilerden hangisinin gerçekleşmesi beklenmez?

- A) Öne sürülen görüşlerin sağlam argümanlara dayanılarak oluşturulması ya da değiştirilmesi
- B) Yanıltıcı olan üstün gelme hatasına düşülmemesi için görüş ve argümanların doğruluğundan şüphe duyulması
- C) Sorgulama sürecinde düşünme sürecindeki hataların farkına varılması ve düşüncelerin daha iyi hâle getirilmeye çalışılması
- D) Bir sonuca varabilmek için ortaya konulan görüşlerin araştırılmasına ve tartışılmasına bir noktada son verilmesi

2. Platon, bilgi anlayışını oluştururken varlık anlayışından hareket etmiş ve ideanın bilgisiyle sadece bir yanılısma olan fenomenlerin bilgisini birbirinden ayırmıştır. Ona göre ideaların bilgisi, idealar dünyasından akıllı yoluyla edinilir. Akıl bu bilgiye ulaşmak için idealara, ideaların bilgisinin olduğu kendi içine dönmelidir. Bu kendine dönüş, bir tür anımsamadır. Ona göre ideaların bilgisi doğuştan zihinde hazır bulunur ve bu bilgilere - - - denilir.

Bu parçada boş bırakılan yere getirilmesi gereken kavram aşağıdakilerden hangisidir?

- A) sanı
- B) episteme
- C) idea
- D) form

4. Aristoteles'e göre güç ve sağlık, doğal yapıları gereği eksiklik ya da aşırılık yüzünden bozular. Nitekim aşırı ve eksik yapılan beden eğitimi gücü yıpratır, aynı şekilde içecek ve yiyecekler çok fazla ya da çok az olduğu zaman sağlığı bozar; dengeli olduğu zaman ise sağlığı artırır ve korur. Ölçülülük, yığıtlık ve öteki erdemlerde de bu böyledir. Her şeyden kaçan, korkan ve hiçbir şeye dayanamayan korkak; hiçbir şeyden korkmayan, her şeyin üzerine giden cüretli olur. Aynı şekilde her hazı tadan ve hiçbirinden uzak kalmayan haz düşkünü, yabani gibi hepsinden kaçan ise duygusuz olur. Ölçülülük de yığıtlık de aşırılık ya da eksiklik yüzünden bozular ancak bunların hepsi orta olma ile korunur.

Bu parçaya göre, erdemli olmak aşağıdakilerden hangisine bağlıdır?

- A) İdealar dünyasına göre hareket etmeye
- B) Ödev bilinciyle hareket etmeye
- C) Bilgi eksikliğini gidermeye
- D) Orta yolu bulmaya

(125) FELSEFE – 3

1. Yaşamının bir kısmını Assos'ta geçirdiği ve burada felsefi çalışmalar yaptığı için Anadolu'da yaşayan filozoflar arasında sayılmaktadır. Mantık, siyaset ve biyoloji gibi birçok bilgi alanında çalışmalarıyla ön plana çıkmıştır. Canlıları sınıflandırmasından dolayı ilk biyolog olarak bilinmesinin yanı sıra Makedonya Kralı Büyük İskender'in öğretmenliğini yapmıştır. Kendinden önceki felsefi düşünceler ve bilimsel çalışmalar hakkında vermiş olduğu bilgiler dolayısıyla ilk felsefe tarihçisi olarak bilinir.

Hakkında bilgi verilen düşünür aşağıdakilerden hangisidir?

- A) Thales
- B) Herakleitos
- C) Aristoteles
- D) Diogenes

3. Hacivat ve Karagöz olarak da bilinen gölge oyunu, çocukların ilgisini çeken ve eğlenceli zaman geçirmesini sağlayan oyunlardan biridir. Bu oyunda bir perde arkasında hareket ettirilen ve seslendirilen kuklalar yer alır. Çocuklar bu gölge oyunu ile ilk tanıştıklarında oyun içerisinde yer alan her şeyin gerçek olduğunu düşünür. Ancak zamanla durum düşündükleri gibi olmadığını, oyun içerisindeki konuşmaların Hacivat ve Karagöz'e ait olmadığını, bunların başkaları tarafından hareket ettirildiğini ve seslendirildiğini fark ettiklerinde büyük bir şaşkınlık yaşarlar. Yaşadıkları şaşkınlıkla birlikte Hacivat ve Karagöz hakkındaki bilgilerinin birer yanılısma olduğunu anlarlar.

Bu parçadaki durum ile aşağıdakilerden hangisi arasında benzerlik vardır?

- A) Mağara benzetmesi
- B) Dört neden
- C) Tümeller problemi
- D) Erdemli Şehir

5. MS 2. yüzyıl - MS 15. yüzyıl felsefesi ile ilgili aşağıdakilerden hangisi doğrudur?

- A) Düşünce özgürlüğü desteklenmiştir.
- B) Aydın ve yazarlar sınıfı oluşmuştur.
- C) Felsefe, teolojiye (ilahiyat) yaklaşmıştır.
- D) Akılcı düşünceye önem verilmiştir.

6. MS 2. yüzyıl - MS 15. yüzyıl felsefesi üzerinde aşağıdakilerden hangisi etkili olmuştur?

- A) Kartezyen felsefe
- B) Yeni-Platonculuk
- C) Sanayi Devrimi
- D) Rönesans

1. OTURUM

7. Augustinus'a göre, Tanrı her zaman iyiyi emreder. Bununla birlikte Tanrı, insana irade vermek suretiyle iyiyi veya kötüyü seçme özgürlüğünü tanımıştır. Dolayısıyla Tanrı, insanı kukla olarak yaratmamıştır. Bu nedenle Augustinus'a göre kötülüğün kaynağı irade zayıflığıdır.

Bu parça, felsefenin aşağıdaki problemlerinden hangisiyle ilgilidir?

- A) Ruhun ölümsüzlüğü problemi
- B) Bilginin kaynağı problemi
- C) Tümel problem
- D) Kötülük problemi

8. İslamiyet öncesi dönemde Doğu'daki çeşitli merkezlerde açılan okullarda Antik Yunan felsefesine dair çeviriler yapılmıştır. Özellikle Yunan dilinden Süryaniceye yapılan çeviriler, Doğu ile Batı arasındaki coğrafyayı Antik Yunan felsefesiyle tanıştırmıştır. Bu tanışma neticesinde İslam düşünürleri Antik Yunan felsefesi üzerine eserler ortaya koymuştur. Ayrıca İslam coğrafyasında ilim açısından elverişli ortam olmasından dolayı, İslami ilimler dışında çeşitli bilimsel ve felsefi çalışmalar yapılmıştır.

Bu parçada İslam felsefesiyle ilgili aşağıdakilerden hangisine değinilmemiştir?

- A) Antik Yunan felsefesinden etkilendiğine
- B) Felsefenin gelişimine katkı sağladığına
- C) Çeviri faaliyetleri yapıldığına
- D) Batı felsefesini etkilediğine

9. İyi bir yaşam düzeni kurulmasına katkı sağlayan ütopyalar, istenen ütopya olarak adlandırılır.

Buna göre, aşağıdaki eserlerden hangisi istenen ütopyalar arasında yer almaz?

- A) Cesur Yeni Dünya
- B) Devlet
- C) Ütopya
- D) Güneş Ülkesi

10. Aristoteles'in tümdengelim yöntemine karşı tümevarım yöntemini öne süren ve bu yöntem sayesinde yanlış yargılardan kurtulmanın mümkün olduğunu iddia eden düşünür aşağıdakilerden hangisidir?

- A) Bacon
- B) Sokrates
- C) Kopernik
- D) Descartes

(132) TARİH – 2

1. Eski Çağ'da Türkistan'da yaşayan Türkler, mezarlarının üzerine, ölen kişinin hayatayken öldürdüğü düşman sayısını gösteren ---- adı verilen taşlar dikmişlerdir.

Bu cümlede boş bırakılan yere aşağıdakilerden hangisi getirilmelidir?

- A) kurgan
- B) balbal
- C) rölyef
- D) fresk

2. Arkeologlar, Mısır'ın antik Luksor kentinde yaptıkları kazılarda ahşap ve deriden yapılmış ayak parmakları buldu. Tarihin ilk protezi olabileceği öne sürülen ve MÖ 950-710 yıllarına ait olduğu düşünülen parmaklar, kadın bir mumyanın mezarında bulundu.

Buna göre, Eski Mısır medeniyetinin aşağıdaki bilim dallarının hangisinde gelişmiş olduğu söylenebilir?

- A) Coğrafya
- B) Felsefe
- C) Kimya
- D) Tıp

3. İlk Türk devletlerinde kimseye uzun süreli hapis cezası verilmesinin sebebi aşağıdakilerden hangisidir?

- A) Sosyal devlet anlayışının görülmesi
- B) Demokratik yönetim anlayışının olması
- C) Konargöçer yaşam tarzının benimsenmesi
- D) Savaşlar yoluyla hâkimiyet alanının genişlemesi

4. Orhun Yazıtları'nda Bilge Kağan, "Çıplak milleti elbiseli, yoksul milleti zengin kıldım. Az milleti çok kıldım." sözüyle aşağıdakilerden hangisini vurgulamıştır?

- A) Halkın refahını sağladığını
- B) Güçlü bir ordu kurduğunu
- C) Eğitim faaliyetlerini desteklediğini
- D) Farklı kültürlerle hoşgörü gösterdiğini

5. Eski Çağ'da Türkistan'da yaşayan Türklerde devlete verilen ad aşağıdakilerden hangisidir?

- A) İl
- B) Oguş
- C) Boy
- D) Urug

6. Kavimler Göçü'nden sonra Roma İmparatorluğu'na bağlı olan Germen kralları, bağımsız kral gibi davranmaya başladılar. Roma egemenliğindeki Galya'da Frank Krallığı, İspanya'da Vizigot Krallığı, Tunus'ta Vandal Krallığı kuruldu.

Bu bilgide, Roma İmparatorluğu ile ilgili aşağıdakilerden hangisi vurgulanmaktadır?

- A) Germen krallıkları ile savaşlar yapılması
- B) Kilisenin gücünü kabul etmesi
- C) Merkezî otoritesini kaybetmesi
- D) Yeni bir ekonomik sistem kurması

7. Batı kaynaklarında Hunlara ait ilk tasvir "Haykırmaları aslanların kükremesini andırır. Küheylanları üzerinde ufukta bir fırtına gibi uçarlar. Ordularıyla bir tufan gibi kapladıkları bütün arz üzerinde dehşet uyandırır- lar. Silahlarına karşı gelebilecek kimse mevcut değildir." şeklindedir.

Bu bilgide, Hunlarla ilgili aşağıdakilerin hangisinden bahsedilmektedir?

- A) Töreye bağlılıklarından
- B) Askerî güçlerinden
- C) Ülkelerinin sınırlarından
- D) Konargöçer yaşamlarından

1. OTURUM

(136) SEÇMELİ TARİH – 2

8. X-XI. yüzyıllarda Orhun Bölgesi'nden Seyhun Nehri kenarlarına, Mâverâünnehir üzerinden İran'a ve Anadolu'ya göç ederek Büyük Selçuklu, Türkiye Selçuklu ve Osmanlı Devleti'ni kurmuşlardır.

Hakkında bilgi verilen Türk topluluğu aşağıdakilerden hangisidir?

- A) Avarlar B) Hazarlar
C) Sabarlar D) Oğuzlar

9. Mekke'li müşriklerin baskısı üzerine Hz. Muhammed (sav), yakın arkadaşı Hz. Ebu Bekir'i de yanına alarak 622'de aşağıdaki şehirlerden hangisine hicret etmiştir?

- A) Şam B) Halep
C) Medine D) Kudüs

10. Hz. Ömer'in halifelik döneminde ülke sınırlarının genişlemesiyle, fethedilen topraklar yönetim birimlerine ayrılmış; illere valiler, adalet işlerine bakmak için de kadılar atanmıştır.

Buna göre, Hz. Ömer Dönemi ile ilgili aşağıdakilerden hangisine ulaşılabilir?

- A) Devlet teşkilatlanmasına yönelik çalışmalar yapılmıştır.
B) İslamiyet'i kabul edenlerin sayısı hızla artmaya başlamıştır.
C) Arap Yarımadası'nda siyasi birlik sağlanmıştır.
D) Şehirler kurularak yerleşik yaşama geçilmiştir.

1. Küçük Kaynarca Antlaşması ile eski gücünü kaybeden Osmanlı Devleti'nin yerini Avrupa'da Rusya ve Avusturya almıştır. Daha sonra bu iki devlet, Osmanlı Devleti'ne karşı siyasi faaliyetlere girişmiştir. Fransız İhtilali ve Napoleon Savaşları'ndan sonra ise İngiltere ve Fransa da Osmanlıların iç ve dış siyasetine karışmaya başlamıştır. Osmanlı coğrafyasına nüfuz etme çabalarına 1870'te siyasi birliğini sağlayan Almanya da katılmıştır.

Buna göre, Küçük Kaynarca Antlaşması sonrası Osmanlı Devleti ile ilgili aşağıdakilerden hangisine ulaşılabilir?

- A) Uzun zamandır takip ettiği denge siyasetinden vazgeçmiştir.
B) Avrupalı güçler tarafından siyasi etki altına alınmaya çalışılmıştır.
C) Avrupa başkentlerine ilk defa elçilikler açmıştır.
D) Çıkarları aynı doğrultuda olan Almanya ile ittifak kurmuştur.

2. Ünlü Fransız düşünürü Montesquieu "Türklerin imparatorluğu, şu sıralarda Bizanslıların eskiden düştüğü zayıflık derecesindedir. Ancak daha uzun süre yaşamaya devam edecektir. Çünkü toprak ele geçirme isteğiyle Osmanlı Devleti'ni tehlikeye atacak imparatorlar bulunsa bile Avrupa'nın tacir ülkeleri çıkarlarına öylesine bağlıdır ki hemen Osmanlıların yardımına koşar." demiştir.

Fransız düşünür Montesquieu bu sözleriyle aşağıdakilerden hangisini vurgulamak istemiştir?

- A) Ticari kaygılarla bazı Avrupalı devletlerin Osmanlı'nın toprak bütünlüğünü savunduğunu
B) Bizans ve Osmanlı arasındaki siyasi rekabetin Avrupa'nın ekonomik hayatına etkisini
C) Osmanlı Devleti'nin bütün egemenlik haklarını kaybettiğini
D) Osmanlı Devleti'nin Türklerin tarihteki en uzun süreli imparatorluğu olduğunu

3. Şark Meselesi'nin ilk adımı 1071 Malazgirt Savaşı ile başlamıştır. Türkleri Anadolu'ya sokmamayı amaçlayan Avrupalı devletler, başarısız olunca savunmaya geçmiştir. Bu dönem içerisinde Türklerin Anadolu'da durdurulması için Avrupalılar tarafından Haçlı Seferleri düzenlenmiş ancak başarı sağlanamamıştır. Bu aşama Batı'daki Türk ilerleyişinin durdurulduğu 1683 II. Viyana Kuşatması ile sona ermiştir.

Buna göre, aşağıdaki alanlardan hangisine yönelik gelişmeler Şark Meselesi sürecini etkilemiştir?

- A) Dinî B) Toplumsal
C) Askerî D) Ekonomik

4. Osmanlı Devleti'nde XVIII. yüzyılda ve XIX. yüzyıl başlarında, Yunanistan'da âyanlar ortaya çıktı. Âyanlık mücadeleleri neticesinde Yanya'yı ele geçiren Tepedenli Ali Paşa, buranın valiliğine tayin edildi. Kısa zamanda rakiplerini ortadan kaldırarak Yunanistan'ın büyük bir kısmıyla Güney Arnavutluk'a hâkim oldu ve yarı özerk bir yönetim kurdu.

Buna göre, Osmanlı Devleti ile ilgili aşağıdakilerden hangisine ulaşılabilir?

- A) Merkezî otoritesi zayıflamıştır.
B) Âyanlar ile Sened-i İttifak'ı imzalamıştır.
C) Vilayet İdare Meclisleri kurmuştur.
D) Balkan hâkimiyeti son bulmuştur.

5. Osmanlı Devleti'nin Kırım Savaşı'nda (1853-1856) mücadele ettiği devlet aşağıdakilerden hangisidir?

- A) Fransa B) Rusya
C) İngiltere D) Avusturya

1. OTURUM

6. 93 Harbi'nde Aziziye Tabyası'nda Ruslara karşı direnişin simgesi olan kadın kahraman aşağıdakilerden hangisidir?

- A) Kara Fatma
- B) Şerife Bacı
- C) Gördesli Makbule
- D) Nene Hatun

7. III. Selim tarafından gerçekleştirilen bütün ıslahat hareketleri - - - - olarak adlandırılmıştır.

Bu cümlede boş bırakılan yere aşağıdakilerden hangisi getirilmelidir?

- A) Lale Devri
- B) Rüşum-u Sitte
- C) Nizam-ı Cedit
- D) Vaka-i Hayriye

8. İttihatçıların "Her savaşta Türk olmayan unsurlar servet sahibi oldular, Türkler evlatlarını savaşa gönderdikleri için geçim sıkıntısına düştüler; bu nedenle Türkleri ticarete teşvik etmek ve kendilerine kolaylık göstermek gereklidir." düşüncelerinin sonucunda aşağıdakilerden hangisi yayımlanmıştır?

- A) Maarif-i Umumiye Nizamnamesi
- B) Teşvik-i Sanayi Kanunu-ı Muvakkati
- C) Tanzimat Fermanı
- D) Kanun-ı Esasi

9. Aşağıdakilerden hangisi Osmanlı Devleti'nde XIX. yüzyılda salgınların artması nedeniyle oluşturulan sağlık kuruluşlarından?

- A) Bahriye Nezareti
- B) İhtisap Nezareti
- C) Düyûn-ı Umûmiye
- D) Meclis-i Sıhhiye-i Umûmiye

10. Batılı devletler merkantilizm anlayışına uygun olarak dış ticarete yönelerek ülkelerinin sahip olduğu değerli madenleri (altın, gümüş vb.) arttırma yoluna gitmişlerdir. Batı'da bu tür gelişmeler yaşanırken Osmanlı Devleti merkantilizm karşıtı politikalar izlemiştir. Bu doğrultuda ihracatı sınırlandıran Osmanlı Devleti'nde ülkeye para girişi de yavaşlamıştır.

Bu durum, Osmanlı Devleti'nde aşağıdakilerden hangisini öncelikle olumsuz yönde etkilemiştir?

- A) Sermaye birikimini
- B) Nitelikli iş gücünü
- C) Teknolojik ilerlemeyi
- D) Batılı tarzda yenilikleri

(151) COĞRAFYA – 1

1. Aşağıdakilerden hangisi demografik analiz ve verilerden yararlanan beşeri coğrafyanın alt kollarındandır?

- A) Siyasi coğrafya
- B) Nüfus coğrafyası
- C) Ekonomik coğrafya
- D) Kültürel coğrafya

2. 11 Ağustos 2021 tarihinde Bozkurt ilçesinde meydana gelen sel afetinden sonra yapılan incelemelere göre can ve mal kayıplarının oluşmasında (1) ilçeye düşen yağış miktarının fazlalığı öncelikli sebeptir. Bununla birlikte (2) Ezine Çayı yatağının çeşitli nedenlerle insanlar tarafından daraltılması ve (3) yerleşim alanlarının vadi tabanına kurulması suyun vadiden çıkıp etrafa yayılmasına neden olmuştur. Ayrıca (4) çevredeki depolarda bulunan tomrukların selin etkisiyle akıntıya kapılıp köprü ve su kanallarını tıkaması selin yıkıcı etkisini artırmıştır.

Metinde numaralanmış altı çizili ifadelerin hangisinde, bu afetin oluşmasına neden olan beşeri uygulama ve faktörlerden söz edilmiştir?

- A) 1
- B) 2
- C) 3
- D) 4

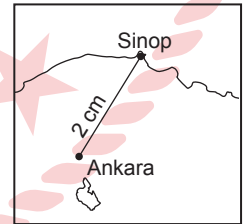
3. Krokiler üzerinde mesafe ve alan büyüklüğü hesaplamalarının yapılamama sebebi aşağıdakilerden hangisidir?

- A) Ölçeklerinin olmaması
- B) Her ayrıntıya yer verilmemesi
- C) Büyük yerleşim alanlarını göstermemesi
- D) Bu alanda uzman kişilerce çizilmemesi

4. Türkiye'nin de aralarında olduğu pek çok ülkede ulusal (ortak) saat uygulamasının yapılmasını zorunlu kılan etken aşağıdakilerden hangisidir?

- A) İletişim ve ulaşım teknolojisinin çok hızlı gelişmesi
- B) Güneş ışınlarının geliş açısının kuzeye doğru daralması
- C) Yerel saat farklarının bankacılık, ulaşım, eğitim vb. alanlarda sorun oluşturması
- D) Dünya'nın 360° lik meridyen yaylarına ayrılması

5.



Ölçek: 1/20 000 000

Ankara ve Sinop şehirlerinin arası verilen harita üzerinde 2 cm geldiğine göre, bu iki merkez arasındaki kuş uçuşu uzaklık yaklaşık kaç km'dir?

- A) 100
- B) 200
- C) 300
- D) 400

1. OTURUM

6. Aşağıdakilerden hangisi bir yerde hava sıcaklığının doğru ölçülmesini sağlar?

- A) Termometrenin doğrudan güneş ışınlarına maruz kalması
- B) Termometrenin hassas ve güvenilirliğinden emin olunması
- C) Ölçümün, günde bir kez ve kısa süre içinde yapılması
- D) Ölçümün, hava girişine kapalı metal kutularda yapılması

7. Meteoroloji uzmanı Salim Bey higrometre, barometre ve anemometre cihazlarını kullanarak bazı hava unsurlarının ölçümünü yapacaktır.

Buna göre, Salim Bey aşağıdakilerden hangisinin ölçümünü yapamaz?

- A) Nem miktarının
- B) Basınç değerinin
- C) Yağış miktarının
- D) Rüzgâr hızının

8. Ekinoks kavramı aşağıdakilerden hangisini ifade eder?

- A) Kuzey Yarım Küre'de en uzun geceyi
- B) Güney Yarım Küre'de en kısa gündüzü
- C) Dünya'nın Güneş'e en yakın olduğu zamanı
- D) Dünya'nın her yerinde gece ve gündüz süresinin eşitliğini

9. Tropikal rüzgârlar için aşağıdakilerden hangisi söylenemez?

- A) Estiği yerlere bol yağış getirir.
- B) Hortum ve kasırgaya dönüşebilir.
- C) Soğuk kuşaktaki karalar üzerinde oluşur.
- D) Tayfun, tornado ve willy willy gibi bölgesel isim alır.

10. Aşağıdakilerden hangisi Dünya üzerinde iklim türlerinin oluşmasına neden olan topoğrafik faktörlerdendir?

- A) Yükselti
- B) Denizellik
- C) Okyanus akıntıları
- D) Dünya'nın şekli

(155) SEÇMELİ COĞRAFYA – 1

1. Aşağıdakilerden hangisi Dünya genelinde biyolojik çeşitlilik üzerinde baskıya neden olan en önemli unsurlardandır?

- A) Bilimsel gelişmeler
- B) Sanayileşme ve kentleşme
- C) Yenilenebilir enerji
- D) Genetik çalışmalar

2. Sulak alanların kirlenmesi veya kurutulması sonucunda konaklayacak saha bulamayan su kuşları dinlenmeden yollarına devam etmek zorunda kalmakta ve bu durum toplu kuş ölümlerine yol açmaktadır. Bunun sonucunda kuşların besinlerinden bir kısmını oluşturan çeşitli haşereler, kurbağalar ve farelerin sayısı artmakta ve bunlar özellikle sulak alanların çevresindeki tarım arazilerine zarar vermektedir.

Bu metinden çıkarılabilecek temel yargı aşağıdakilerden hangisidir?

- A) Göller biyoçeşitlilik açısından dünyadaki en önemli alanlardır.
- B) Sulak alanlar yok olma tehlikesini en fazla yaşayan yerlerdir.
- C) Doğaya yapılan bir müdahale ekolojik dengeyi bozmaktadır.
- D) Tarım arazileri öncelikli korunması gereken sahalardır.

3. Japonya, nüfusunu artırmayı temel nüfus politikası olarak belirleyen devletlerden biridir.

Buna göre, aşağıdakilerden hangisi Japonya'nın bu politikayı uygulama sebeplerinden biridir?

- A) Genç nüfus oranının giderek azalması
- B) Tarımda yüksek verimlilik elde edilmesi
- C) Yüksek miktarda ihracat gerçekleştirilmesi
- D) Kentsel nüfus oranının yüksek olması

4. Aşağıdakilerden hangisi Türkiye'de nüfus artış hızının düştüğünün kanıtlarındandır?

- A) Genel nüfustaki erkek sayısının kadından fazla olması
- B) Kadın başına düşen doğum sayısının azalması
- C) Hane başına düşen enerji tüketiminin artması
- D) Okuryazar oranının artması

5. Aşağıdaki şehir ve temel ekonomik fonksiyonu eşleştirmelerinden hangisi yanlıştır?

- A) Ödemiş - Tarım
- B) Yatağan - Maden
- C) Marmaris - Turizm
- D) Çarşamba - Sanayi

6. Aşağıdakilerden hangisi Türkiye'deki köylerin ortak özelliklerinden değildir?

- A) İş birliği ve dayanışmanın zayıf olması
- B) Halkın genelde ziraat ve hayvancılıkla geçinmesi
- C) Halkın ortak yararlandıkları malların bulunması
- D) Muhtarlıkla idare edilmesi

1. OTURUM

(157) SEÇMELİ COĞRAFYA – 3

7. Aşağıdakilerden hangisi kömür madeninin kullanımını ve ticari değerini daha fazla artıran gelişmedir?

- A) Amerika kıtasının keşfi
- B) Demirden ilkel silahların yapılması
- C) 19. yüzyılda demir-çelik endüstrisinin gelişmesi
- D) Tarım teknolojisi ve aletlerinin geliştirilmesi

8. Tropikal iklim meyvesi olmasına rağmen Türkiye’de sadece Akdeniz Bölgesi’nde ve yoğun olarak Alanya - Anamur arasındaki dar kıyı şeridinde yetiştirilen tarım bitkisi aşağıdakilerden hangisidir?

- A) Zeytin
- B) Portakal
- C) İncir
- D) Muz

9. Maden ve enerji kaynaklarını etkin bir biçimde kullanan ülkelerin hızla kalkınarak büyük bir ekonomik güce ulaştıkları görülür. Bu durum maden tüketimi ile ülkelerin gelişmişlik düzeyleri arasında doğrudan bir ilişki olduğunu ortaya koymaktadır.

Bu bilgiye göre, aşağıdakilerden hangisi madencilikün ülkelerin kalkınmasında yarattığı etkilerden biri değildir?

- A) İstihdam oluşturması
- B) İthalatı teşvik etmesi
- C) Enerji ihtiyacını karşılaması
- D) Sanayi sektörüne destek olması

10. Bir sanayi kuruluşunun yeri belirlenirken nüfusun yoğun ve buna bağlı olarak pazarın büyük, tüketimin fazla olması dikkate alınan önemli unsurlardandır.

Aşağıdakilerden hangisi bunu destekleyen bir durumdur?

- A) Türkiye’de sanayinin Marmara Bölgesi’nde yoğunlaşması
- B) Fabrikaların genelde geniş araziler üzerine kurulması
- C) Sanayi işletmelerinde teknik elemanlara ihtiyaç duyulması
- D) Sanayi tesislerinde yüksek miktarda enerji tüketilmesi

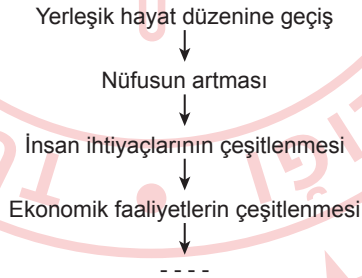
1. Bir doğa olayının ekstrem olarak değerlendirilebilmesi için öncelikle sahip olması gereken özellik aşağıdakilerden hangisidir?

- A) Küçük bir coğrafi alanda gerçekleşmelidir.
- B) Sadece belli bir bölgede görülür.
- C) Az da olsa maddi kayba neden olmalıdır.
- D) O zamana kadar görülmemiş şiddette olmalı veya nadiren yaşanmalıdır.

2. Aşağıdakilerden hangisi çölleşmenin durdurulması veya yavaşlatılmasına karşı bir önlem olamaz?

- A) Su kullanımını artırmak
- B) Ağaçlandırma yapmak
- C) Meraları korumak
- D) Arazi kullanımını planlamak

3. İnsanın ilk tarımsal faaliyetlere başlamasıyla birlikte birbiriyle bağlantılı olarak ortaya çıkan olayların akışı şemada verilmiştir.



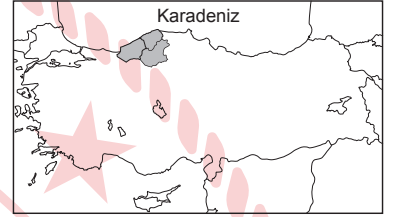
Buna göre, boş bırakılan yere aşağıdakilerden hangisi getirilmelidir?

- A) Yeşil alanların artması
- B) Yeni mesleklerin ortaya çıkması
- C) Tarımda verim kaybının yaşanması
- D) Ham madde kaynaklarının değer kaybetmesi

4. Yapay zekâ ile ilgili aşağıdaki bilgilerden hangisi yanlıştır?

- A) Zaman içinde uygulamaları daha da yaygınlaşacaktır.
- B) Şifre ve sözleşmeleri olmayan bir teknolojidir.
- C) Sağlık en yoğun kullanıldığı alanlardandır.
- D) İnsan davranışlarını taklit edebilen bilgisayar sistemleridir.

5. Haritada Türkiye’deki kalkınma projelerinden birinin uygulama alanı taranarak gösterilmiştir.



Bu uygulama alanında hâkim olan ekonomik faaliyet aşağıdakilerden hangisidir?

- A) Hayvancılık
- B) Otomotiv sanayi
- C) Demir-çelik ve kömür işletmeciliği
- D) Mobilya ve kâğıt üretimi

6. Aşağıdakilerden hangisi Dünya Ticaret Örgütü’nün yaptığı sınıflamaya göre hizmet sektörünün bölümlerinden biri değildir?

- A) Haberleşme
- B) Sağlık
- C) Ulaşım
- D) Hayvancılık

7. Aşağıdakilerden hangisi bir ülkede ulaşım sektörünün kalitesini ve sürekliliğini olumlu yönde etkiler?

- A) Kısa zaman aralıklarında çok farklı hava şartları yaşaması
- B) Ülkenin istikrarsız bir ekonomik yapıya sahip olması
- C) Yatırımların sadece belli bir ulaşım sistemi göz önüne alınarak yapılması
- D) Her türlü taşıt aracını kullanma becerisine sahip insan gücünün varlığı

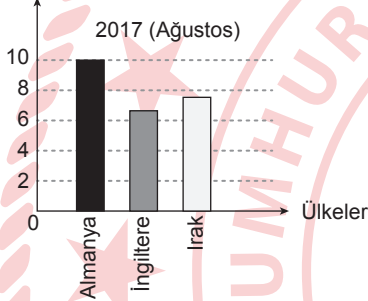
1. OTURUM

8. Aşağıdakilerden hangisi Türkiye’de inaç turizminin gelişmesinde etkili olan mekânlardan biri değildir?

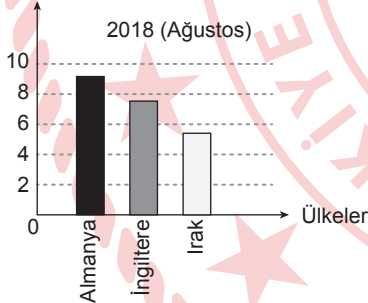
- A) Hacı Bayram Veli Türbesi
- B) Sard Sinagogu
- C) Damlataş Mağarası
- D) Selçuk Meryem Ana Evi

9. Grafiklerde 2017 ve 2018 yıllarının Ağustos ayında Türkiye’nin ihracat (dış satım) yaptığı bazı ülkeler gösterilmiştir.

Genel İhracat İçindeki Pay (%)



Genel İhracat İçindeki Pay (%)



Bu grafiklere göre, aşağıdaki yargılardan hangisi doğrudur?

- A) İngiltere’ye olan ihracatımız ithalatımızdan azdır.
- B) 2017’ye göre 2018’de ihracatta Irak’ın payı azalmıştır.
- C) Almanya’ya çoğunlukla tarım ürünü satılmıştır.
- D) 2018’de Almanya ve İngiltere’ye toplam ihracatımızın %30’u yapılmıştır.

10. Gelişmekte olan ülkelerin yaşadığı en önemli sorunlardan biri işsizliktir. Turizmin emek yoğun bir alan olması ve otomasyona diğer sektörlerden daha az ihtiyaç duyması insan gücüne olan bağımlılığı daha da artırmaktadır. Dolayısıyla bir ülkede turizm sektörünün gelişmesi - - - - .

Bu metinde anlam bütünlüğünün sağlanması için boş bırakılan yere aşağıdakilerden hangisi getirilmelidir?

- A) ülke insanların istihdam edilmesine imkân tanır
- B) doğal güzellikler üzerinde olan turist baskısını artırır
- C) diğer sektörlerin gelişmemesine neden olur
- D) ülkeye döviz kazandırır

(181) İNGİLİZCE – 1

1 - 9. sorularda boş bırakılan yere / yerlere uygun gelen kelime ya da ifadeyi işaretleyiniz.

1. **Tony** : - - - - ?

Donald : I am the only child.

- A) How many sisters or brothers do you have
- B) What is your occupation
- C) Where do you live
- D) How old are you

2. **Brad** : What is your - - - - ?

Seda : I am Turkish.

- A) job
- B) nationality
- C) name
- D) hobby

3. **This is the - - - - museum I've ever visited. It has lots of different and interesting paintings. I loved it.**

- A) best
- B) least
- C) most
- D) fastest

4. **Daniel** : - - - - ?

Emma : It is near the school.

- A) Who is the restaurant's chef
- B) What can I eat in the restaurant
- C) What is the restaurant's name
- D) Where is the restaurant

5. **Harris** : Do you like hiking in the forest?

Mark : Of course, and - - - - .

- A) I think it is a waste of time
- B) being in nature is not very me
- C) it is my favourite activity
- D) I am not in the mood

6. **We must - - - - for fresh air and a clean nature.**

- A) plant more trees
- B) hunt out of season
- C) stop recycling paper
- D) waste water

7. **Kate** : How often do you play chess?

Nick : I - - - - play chess because I am not interested in board games.

- A) always
- B) never
- C) often
- D) usually

8. **Robert** : What - - - - ?

Daisy : It is at twenty past nine.

- A) kind of a movie is it
- B) is the name of the movie
- C) time is the movie
- D) is the date of the movie

9. **Alex is a very - - - - person. He always gives money to charity organizations and buys presents for his friends.**

- A) nonsusceptible
- B) punctual
- C) dishonest
- D) generous

10. **Mike is twelve years old. He is tall and thin. He always does his homework and gets high grades.**

Bu metne göre, aşağıdakilerden hangisi doğrudur?

- A) He is old.
- B) He is short.
- C) He is plump.
- D) He is hardworking.

1. OTURUM

(181) ALMANCA – 1

1 - 5. sorularda boş bırakılan yere / yerlere uygun gelen kelime ya da ifadeyi işaretleyiniz.

1. **A:** Wie geht es deiner Familie?
B: Danke, es geht - - - - gut.
- A) sie B) dir
C) ihnen D) ihm
2. **Unsere Klasse - - - - am Dienstag und am Donnerstag Sportunterricht.**
- A) hat B) sind
C) haben D) ist
3. **Singular Plural**
- - - - Bein die Beine
- A) den B) das
C) die D) der
4. **A:** Wo arbeitet deine Schwester?
B: Ihre - - - - ist in Stuttgart.
- A) Arbeit B) Arbeiter
C) arbeitest D) arbeitet
5. **A:** Kommt - - - - (du) Freundin aus Trabzon?
B: Nein, sie kommt aus Giresun.
- A) seine B) deine
C) du D) dein
6. **Aşağıdakilerden hangisi selamlaşma ifadesi değildir?**
- A) Hallo!
B) Guten Morgen!
C) Grüß dich!
D) Bis später!
7. **Aşağıdakilerden hangisi okulun bir bölümüdür?**
- A) Lehrbuch B) Schultasche
C) Landkarte D) Bibliothek
8. "Es ist fünfundzwanzig vor zwölf Uhr." cümlesinin Türkçe karşılığı aşağıdakilerin hangisinde doğru verilmiştir?
- A) Saat on ikiye yirmi beş var.
B) Saat on bire yirmi var.
C) Saat on ikiyi yirmi beş geçiyor.
D) Saat on biri yirmi geçiyor.

9. Ich heiße Mehmet und bin am 15.07.2002 geboren. Ich wohne in Istanbul in der Söğütstrasse. Meine Telefonnummer ist 09352712635.

Welche Information ist im Text nicht gegeben?

- A) Name
B) Geburtsdatum
C) Geburtsort
D) Handynummer

10. **Welches ist keine Tageszeit?**

- A) der Mittag B) die Woche
C) die Nacht D) der Morgen

(181) FRANSIZCA – 1

1 - 8. sorularda boş bırakılan yere / yerlere uygun gelen kelime ya da ifadeyi işaretleyiniz.

1. **Ali** : Salut Paul, - - - - ?
Paul : Très bien, merci, et toi ?

- A) vous venez bien
B) tu t'appelles comment
C) comment ça va
D) merci et toi

2. - - - -, il fait beau et ensoleillé et parfois il fait très chaud. Les températures sont entre 25 et 35 degrés en moyenne. C'est la période des grandes vacances.

- A) En hiver B) En été
C) Au printemps D) En automne

3. - - - - : "Nous avons une chambre double avec salle de bain pour ces dates."

- A) Le réceptionniste
B) L'agent de police
C) L'employé de guichet
D) La touriste

4. **Annonce** : Pour une pièce de théâtre scolaire, nous - - - - une fille petite et brune ; un garçon grand et roux. Vous - - - - y participer ? Vous devez nous envoyer un email.

- A) cherchons / voulez
B) avons / pouvez
C) annonçons / devez
D) écrivons / allez

5. **Ceyda** : - - - -

Marie : Non, je suis désolée. Ce soir, je vais au concert avec ma sœur.

- A) Pourquoi est-ce que tu ne fais pas de sport ce matin ?
B) Alors, veux-tu venir chez moi ce soir pour écouter l'album de Pierre Giraud ?
C) Très bien, merci. Tu fais quoi aujourd'hui ?
D) Quels sont les horaires du musée d'Orsay ?

6. **Lui, il est footballeur et il - - - - foot ; elle, elle est guitariste et elle - - - - guitare**

- A) joue de la / joue au
B) joue à la / joue du
C) joue du / joue à la
D) joue au / joue de la

7. - - - - est votre nouvelle adresse à Paris ?

- A) Quels
B) Quelles
C) Quel
D) Quelle

8. **Le professeur travaille dans un/une - - - - .**

- A) hôpital B) école
C) magasin D) garage

1. OTURUM

9. I. Je parle français et anglais. Je suis turque. J'habite à Antalya. Je suis célibataire.
II. Je suis professeure. J'habite à Paris. Je parle français et anglais. Je suis mariée.
III. J'ai 17 ans. Je parle français et italien. Je suis étudiant à l'université.
IV. Je suis suisse et je travaille à Lausanne. Ma femme, elle est femme au foyer.

Numaralanmış konuşmalarda, cümleleri kuran kişilerin cinsiyet sıralaması aşağıdakilerin hangisinde doğru verilmiştir?

I.	II.	III.	IV.
A) Femme	Femme	Homme	Homme
B) Femme	Homme	Femme	Homme
C) Homme	Femme	Homme	Homme
D) Homme	Homme	Femme	Femme

10.



Quelle heure est-il ?

- A) Il est six heures et quart.
B) Il est seize heures et quart.
C) Il est six heures moins le quart.
D) Il est seize heures quinze.

(195) SEÇMELİ ORTAK TÜRK TARİHİ – 1

1. Orta Asya'da Anav adlı eski bir yerleşim bölgesinde yapılan arkeolojik kazılarda bu bölgede yaşamış olan insanların, sulama kanallarını kullandıkları tespit edilmiştir.

Bu durum, Anav bölgesinde yaşayan insanlarla ilgili aşağıdakilerden hangisine kanıt oluşturur?

- A) Yazılı eserler bıraktıklarına
B) Tarımsal faaliyetlerde bulduklarına
C) Ticaret sayesinde zenginleştiklerine
D) Güçlü bir devlet teşkilatı kurduklarına

2. "İskitler" olarak adlandırılan Türk topluluğu aşağıdakilerden hangisidir?

- A) Sakalar B) Hunlar
C) Türgeşler D) Avarlar

3. Asya Hun İmparatorluğu'nun bilinen ilk hükümdarı aşağıdakilerden hangisidir?

- A) Çi-çi B) Arıkan
C) Tuman D) Kutluk

4. Roma İmparatorluğu'nun kuzey eyaletlerinin tahrip edilmesine ve Avrupa'nın etnik yapısının değişmesine sebep olan gelişme aşağıdakilerden hangisidir?

- A) Kürşad İsyanı
B) Kavimler Göçü
C) Dandanakan Savaşı
D) Haçlı Seferleri

5. Orhun Vadisi'nde yer alan ve Türklerce kutsal sayılan - - - - şehrinde, kağanlar tarafından Türk milletine hitap eden birçok yazılı taş dikilmiştir.

Bu cümlede boş bırakılan yere aşağıdakilerden hangisi getirilmelidir?

- A) Ötüken B) Almatı
C) Otrar D) Taraz

6. Kırgız Kağanlığı; Çin, Tibet ve diğer devletlere elçiler göndermiş ve onların elçilerini kabul etmiştir.

Buna göre, Kırgızlarla ilgili aşağıdakilerden hangisine ulaşılabilir?

- A) Toplumsal yapılarına
B) Askerî başarılarına
C) Gelir kaynaklarına
D) Diplomatik ilişkilerine

7. Uygurlar, Soğd alfabesi temelinde geliştirdikleri Uygur alfabesini kullanmaya başlamışlar, "Türk bitikçileri" adı verilen Uygur kâtipleri, bu alfabe-yi kullanarak birçok yazılı eser oluşturmuşlardır.

Buna göre, Uygurlarla ilgili aşağıdakilerden hangisine ulaşılabilir?

- A) Gelişmiş eğitim kurumları açmışlardır.
B) Edebi alanda gelişme göstermişlerdir.
C) Eserleriyle farklı milletleri etkilemişlerdir.
D) Matbaa sayesinde çok sayıda kitap basmışlardır.

8. Hindistan'a akınlar düzenlemiş ve burada İslam dinini yaymaya çalışmıştır. Şöhreti İslam ülkelerinde artmış, ismi asırlar boyu "Hindistan Fatih"i olarak tarihi kaynaklara konu olmuştur.

Bu bilgiler, aşağıdaki Türk hükümdarlarından hangisine aittir?

- A) Melikşah
B) Almış Han
C) Sebük Tegin
D) Sultan Mahmut

9. Orta Asya'da kurulan ilk Türk-İslam devleti aşağıdakilerden hangisidir?

- A) Karahanlılar
B) Harzemşahlar
C) Gazneliler
D) Timurular

10. Türkiye Selçukluları; Konya, Aksaray, Kayseri, Sivas ve Alanya gibi şehirleri kültür merkezi hâline getirdiler. Bu şehirlerde inşa edilen cami, medrese, şifahane gibi sosyal ve dinî kurumlar bölgede sosyal hayatın canlanmasında etkili oldu. Türkiye Selçukluları bu faaliyetleri ile Anadolu'nun Türk-İslam kimliği kazanmasında önemli rol oynadılar.

Buna göre, Türkiye Selçukluları ile ilgili aşağıdakilerden hangisine ulaşılabilir?

- A) Türk-İslam dünyasının dinî lideri hâline gelmişlerdir.
B) Dünyaca ünlü bilim insanları yetiştirmişlerdir.
C) Anadolu'nun Türk yurdu olması için çalışmışlardır.
D) Bizans şehirlerinin tümünde Türk kültürünü yaymışlardır.

1. OTURUM

(222) SAĞLIK BİLGİSİ VE TRAFİK KÜLTÜRÜ – 2

1. "Trafik içerisinde yer alan, ceza ile ilgili bir yaptırım olmayan ancak uyulduğunda trafiğin akışını düzenleyen kurallara trafik adabı denir."
- Aşağıdakilerden hangisi bu kurallar içinde yer almaz?**
- A) Empati kurmak
B) Sorumluluk sahibi olmak
C) Tahammülsüz olmak
D) Saygılı ve hoşgörülü olmak
2. Sürücüler, karşıdan karşıya geçmekte güçlük çeken yaşlı ve engellilerle karşılaştığında aşağıdaki davranışlardan hangisini sergilemelidir?
- A) Sabırlı olmalı.
B) Bencilce davranmalı.
C) Sinirli olmalı.
D) Aceleci davranmalı.
3. Toplu taşıma araçlarında aşağıdakilerden hangisinin yapılması, yolculuğu daha huzurlu ve güvenli hâle getirir?
- A) Yolcuların, rahatsız edici kokusu olan maddeleri yanlarında bulundurması
B) Engelli, yaşlı ve hamile yolcuların taşıta en son binmesi
C) Yolcuların, keyfî ve kasıtlı davranışlar sergilemesi
D) Yazılı, sesli ve görüntülü tüm uyarılara uyulması
4. Öğrencilerin, okul servis araçlarında aşağıdakilerden hangisini yapmaları tehlikelidir?
- A) Küçük, hasta ve engelli öğrencilere öncelik tanımaları
B) Araç hareket hâlindeyken ayağa kalkmaları
C) Emniyet kemeri takmaları
D) Acele etmeden araca binmeleri ve araçtan inmeleri

5. Sürücü, yolcu ve yayaların; düzenli, akıcı ve huzurlu bir trafik ortamının oluşması için aşağıdaki davranışlardan hangisini yapmaları beklenmez?
- A) Trafik işaret ve levhalarına uymaları
B) Hız sınırı kurallarına dikkat etmeleri
C) Araç kullanırken telefon kullanmaları
D) Saygılı ve hoşgörülü olmaları
6. "DUR" işaret levhası anlamındadır. Bu ışık yanarken durulur ve trafik kontrol edildikten sonra yolun müsait olması durumunda geçilir.
- Bu açıklamadaki ışıklı trafik işareti aşağıdakilerden hangisidir?**
- A) Sarı ışık
B) Yeşil ışık
C) Aralıklı yanıp sönen sarı ışık
D) Aralıklı yanıp sönen kırmızı ışık
7. Trafik kazası sonucunda bireylerde oluşabilecek uyku bozukluğu, korku ve bunalım gibi rahatsızlıklar aşağıdaki etkilerden hangisiyle ilgilidir?
- A) Psikolojik B) Fiziksel
C) Sosyal D) Ekonomik
8. Araç takip mesafesiyle ilgili olarak aşağıdakilerden hangisi doğrudur?
- A) Takip eden aracın 5 saniyede kat edeceği yol uzunluğu kadar olmalıdır.
B) Kendi aracının saatteki hızının yarısı kadardır.
C) Tehlikeli madde taşıyan araçlar, öndeki araçla arasında en az 40 metre bırakmalıdır.
D) Konvoy hâlindeki araçlar arasında takip mesafesi kuralı aranmaz.
9. • Trafikte gürültü kirliliğini engellemek
• Hareketsiz yaşam tarzının sağlık sistemine getirdiği yükü azaltmak
• Sera gazı salınımını ve küresel ısınmayı azaltmak
• Trafik kazalarından kaynaklanan iş gücü kaybını azaltmak
- Bu amaçları gerçekleştirmek için, aşağıdaki araçlardan hangisinin kullanımı artırılmalıdır?**
- A) Otomobil B) Motosiklet
C) Bisiklet D) Kamyonet

10. I. Gereksiz yere korna çalmak ve yüksek sesle müzik dinlemek
II. Araç bakımlarını zamanında yaptırmak
III. Yürüme mesafesindeki yerlere araçla gitmek
- Numaralanmış ifadelerden hangileri, temiz ve sağlıklı bir çevrede yaşamamızı olumsuz yönde etkiler?**
- A) I ve II B) I ve III
C) II ve III D) I, II ve III

(244) İNGİLİZCE – 5

1 - 10. sorularda boş bırakılan yere / yerlere uygun gelen kelime ya da ifadeyi işaretleyiniz.

1. **Janet** : Why do you want to be a/an ----?
Donna : Because I want to plan, direct and coordinate the management or operation of farms, ranches and greenhouses.
- A) alternative energy consultant
B) smart-building technician
C) biomedical engineer
D) agricultural manager
2. ---- is my favourite pastime. I'm fond of planting seeds of flowers and growing vegetables.
- A) Kitesurfing B) Gardening
C) Knitting D) Sculpting
3. **Tim** : What is your hobby?
Mike : I ----.
- A) am bad at fixing things
B) am an introvert person
C) enjoy taking photos
D) live in a wonderful house
4. **Thomas** : ---- when you were a child?
Grandmother : In a small town.
- A) How did you use to go to school
B) Which games did you use to play
C) What did you use to do for entertainment
D) Where did you use to live

1. OTURUM

5. When Simon went to the airport, he realized that he ---- his passport at home.

- A) had forgotten
- B) has forgotten
- C) will forget
- D) forgets

6. In 1903, Marie and Pierre Curie were ---- the Nobel Prize for their successful discovery of radium and polonium.

- A) awarded
- B) educated
- C) diagnosed
- D) examined

7. I would have arrived the meeting on time if I had ----.

- A) woken up late
- B) set the alarm clock
- C) missed the bus
- D) overslept

8. Bella : What ----?
Janice : I was having dinner with my family.

- A) are you doing at the moment
- B) do you like doing every day
- C) were you doing at 6 o'clock yesterday
- D) are you going to do tomorrow

9. If only I ---- in the sun all day yesterday, I wouldn't have got sunburnt.

- A) don't stay
- B) won't stay
- C) haven't stayed
- D) hadn't stayed

10. Nick : I can't carry these heavy bags.
Ted : Don't worry. I ---- you.

- A) help
- B) helped
- C) will help
- D) have helped

(244) ALMANCA – 5

1 - 8. sorularda boş bırakılan yere / yerlere uygun gelen kelime ya da ifadeyi işaretleyiniz.

1. A: ---- war gestern bei dir?
B: Mein Freund Klaus war gestern bei mir.

- A) Wer
- B) Was
- C) Wann
- D) Wem

2. Ata möchte seine Mutter in Nevşehir ----. Deshalb kauft er seiner Mutter ein Geschenk.

- A) einkaufen
- B) besuchen
- C) gehen
- D) fahren

3. A: Die Reise hat mir sehr gut gefallen. ----?
B: Ja, sie hat mir auch gefallen.

- A) Wo bist du hingefahren
- B) Wie lange hat die Reise gedauert
- C) Was denkst du
- D) Wo fährst du hin

4. Peter schwimmt nicht ---- schnell wie Hakan.

- A) wie
- B) als
- C) so
- D) um

5. Mein Bruder ---- die Vase auf den Tisch.

- A) steckt
- B) stellt
- C) hängt
- D) liegt

6. A: Ich suche meine Schlüssel. Ich glaube, ich habe sie auf dem Tisch vergessen.
B: Nein, sie liegen ---- Schublade.

- A) auf die
- B) neben das
- C) über dem
- D) in der

7. A: Hast du Lust auf einen Tanz?
B: Nein, ---- habe ich keine Lust.

- A) darauf
- B) davon
- C) darüber
- D) damit

8. Sonya : Worauf freust du dich Safiye?

Safiye : Die Türkei hat gegen Spanien gewonnen. Ich freue mich auf den ---- der türkischen Mannschaft.

- A) Spiele
- B) Mannschaft
- C) Sieg
- D) Finale

9. "Eng" sıfatının zıt anlamlısı aşağıdakilerden hangisidir?

- A) breit
- B) hoch
- C) groß
- D) kurz

10. Aşağıdakilerin hangisinde sözcüğün "Perfekt" hâli yanlış verilmiştir?

- A) einsteigen / eingestiegen
- B) ankommen / angekommen
- C) ausziehen / ausgezogen
- D) frühstücken / frühstückt

(244) FRANSIZCA – 5

1 - 9. sorularda boş bırakılan yere / yerlere uygun gelen kelime ya da ifadeyi işaretleyiniz.

1. Vous voulez partir à l'étranger, mais vous avez ----. Expliquez-les

- A) une bonne formation
- B) des doutes et des craintes
- C) des amis étrangers
- D) un souvenir d'enfance

2. Si j'étais à ta place, je ---- une petite partie de mes études à l'étranger en Erasmus.

- A) passerez
- B) passerai
- C) passais
- D) passerais

3. Voyager n'est pas seulement réservé aux riches, chacun peut voyager en fonction de ----.

- A) sa valise
- B) sa visite
- C) son aéroport
- D) son budget

1. OTURUM

4. **Discours direct** : Ayşe dit à Ahmet : "Je suis fatigué."
Discours indirect : Ayşe dit à Ahmet - - - - .

- A) qu'il est fatigué
- B) que je suis fatiguée
- C) qu'elle est fatiguée
- D) que tu es fatigué

5. **Certaines personnes voyagent par obligation pour leur travail, - - - - le font pour le plaisir de découvrir de nouveaux lieux.**

- A) chaque
- B) certain
- C) d'autres
- D) aucune

6. **La région de Méditerranée - - - - au sud de la Türkiye.**

- A) se trouve
- B) se trouvent
- C) se trouvons
- D) se trouves

7. **Discours direct** : Elle me demande : "Qu'est-ce que tu fais ?"
Discours indirect : Elle me demande - - - - .

- A) ce qu'elle fait
- B) ce que tu fais
- C) ce que je fais
- D) ce qu'il fait

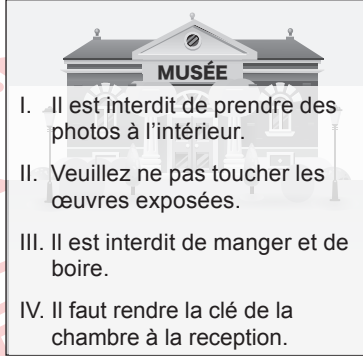
8. **Si Ali avait bien travaillé ses leçons, - - - - .**

- A) il aurait obtenu une meilleure note
- B) il serait en retard à l'école
- C) il ne pourrait pas rester à la maison
- D) il voudrait voir son professeur

9. **Journaliste** : "- - - - ?"
Lycéen : Eh bien, je ne travaille pas, je suis à l'école.

- A) A quelle heure prends-tu ton petit déjeuner
- B) Comment est-ce que tu vas au travail
- C) Quand est-ce que tu finis l'école
- D) Ton pere, que fait-il dans la vie

10.



Numaralanmış talimatlardan hangisi müze ziyaretinde geçerli değildir?

- A) I
- B) II
- C) III
- D) IV

(421) FİZİK – 1

1. Oya, bazı olay veya durumları fizik biliminin alt dallarıyla ilişkilendirerek aşağıdaki tabloda eşleştirmiştir.

Olay veya Durumlar	İlişkili Olduğu Alt Dal
Fosillerin yaş tayini	Mekanik
Miknatisin nikeli çekmesi	Elektromanyetizma
Dokunmatik telefonlar	Yüksek enerji ve plazma fiziği
Elmanın ağaçtan düşmesi	Nükleer fizik

Buna göre Oya, fizik biliminin ilişkili olduğu alt dallarından hangilerini olay veya durumlar ile yanlış eşleştirmiştir?

- A) Mekanik ve Elektromanyetizma
- B) Yüksek enerji ve plazma fiziği
- C) Nükleer fizik ve Mekanik
- D) Elektromanyetizma

2. **Kristal yapıli maddeleri, yarı iletken maddeleri ve bunların esneklik, iletkenlik gibi özelliklerini inceleyen fizik biliminin alt dalı aşağıdakilerden hangisidir?**

- A) Katı hâl fiziği
- B) Atom fiziği
- C) Optik
- D) Termodinamik

3. I. Gregor Mendel
II. Albert Einstein
III. İbnülheysem

Yukarıdakilerden hangileri fizik bilimine katkı sağlamış bilim insanlarıdır?

- A) Yalnız I
- B) I ve II
- C) II ve III
- D) I, II ve III

4. **Aşağıdakilerden hangisi temel bir niceliktir?**

- A) Yoğunluk
- B) Zaman
- C) Kuvvet
- D) Hacim

5. Fiziksel nicelikler ve niceliğin SI'deki birimi aşağıda verilmiştir.

- I. Uzunluk → m
- II. Ağırlık → $kg \frac{m}{s^2}$
- III. Kütle → $\frac{m}{s^2}$

Numaralanmış bu niceliklerin birimlerinden hangileri doğrudur?

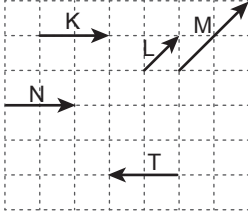
- A) Yalnız I
- B) I ve II
- C) I ve III
- D) II ve III

6. **Aşağıdaki fiziksel niceliklerin hangisi vektörel bir niceliktir?**

- A) Suyun yoğunluğu $1 g/cm^3$ tür.
- B) Oyuncak arabanın kütlesi $3 kg$ 'dır.
- C) Ankara'da güneybatı yönünde $10 km/h$ hızla rüzgâr esmektedir.
- D) Okuldaki sınıfın sıcaklığı $24 °C$ 'dir.

1. OTURUM

7.

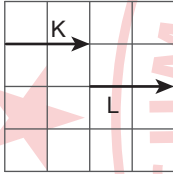


(Birim kareler eşit bölmelendirilmiştir.)

Yukarıdaki şekilde eşit bölmelendirilmiş düzlem üzerindeki \vec{K} , \vec{L} , \vec{M} , \vec{N} ve \vec{T} vektörlerinden hangileri eşit vektördür?

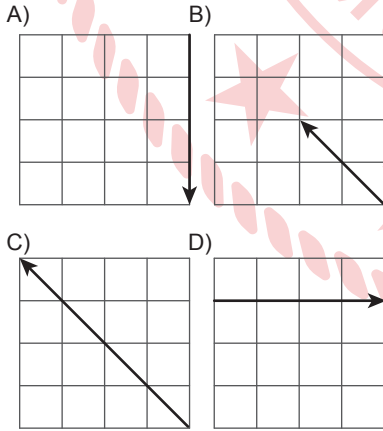
- A) K ve T B) M ve L
C) N ve T D) K ve N

8. Şekildeki düzlemde \vec{K} ve \vec{L} vektörleri verilmiştir.

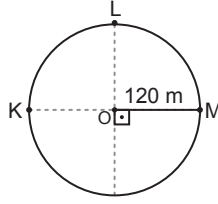


(Birim kareler eşit bölmelendirilmiştir.)

Buna göre, $\vec{K} + \vec{L}$ vektörlerinin bileşkesi aşağıdakilerden hangisidir? (Birim kareler eşit bölmelendirilmiştir.)



9. Ahmet 120 m yarıçaplı çembersel yolda bisiklet ile dolaşmaktadır.



Buna göre, Ahmet K noktasından L noktasına geldiğinde yer değiştirmesi kaç metre olur?

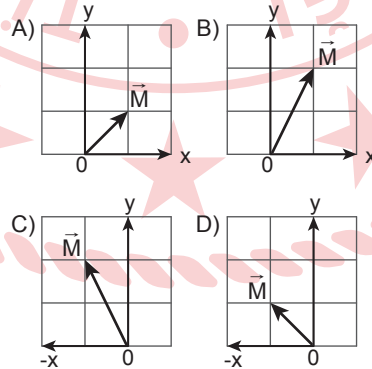
- A) $120\sqrt{2}$ B) 240
C) 320 D) $240\sqrt{2}$

10. Birim yüzeye etki eden dik kuvvetin büyüklüğü aşağıdakilerden hangisi ile ifade edilir?

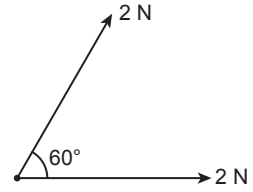
- A) Hacim B) Basınç
C) Isı D) Yoğunluk

(425) SEÇMELİ FİZİK - 1

1. Koodinatları $\vec{M}(-1, 2)$ olan vektörün kartezyen koordinat sistemindeki gösterimi aşağıdakilerin hangisinde doğru verilmiştir? (Birim kareler eşit bölmelendirilmiştir.)



2. Aynı noktaya etki eden şekildeki 2 N ve 2 N büyüklüğündeki kuvvetler arasındaki açı 60° dir.

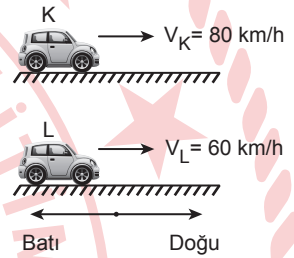


Buna göre, kuvvetlerin bileşkesinin büyüklüğü kaç N olur?

($\cos 60 = \frac{1}{2}$)

- A) $\sqrt{3}$ B) $2\sqrt{3}$
C) $3\sqrt{3}$ D) $4\sqrt{3}$

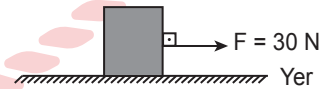
3. Şekildeki K ve L araçları aynı yönde farklı hızlarla ilerlemektedir.



Buna göre, L aracında bulunan sürücü K aracını hangi hızla ve hangi yönde gördüğünü görür?

- A) 20 km/h Batı
B) 20 km/h Doğu
C) 140 km/h Batı
D) 140 km/h Doğu

4. Sürtünlü yatay düzlemdeki 8 kg'lık bir cisme 30 N'lık kuvvet şekildeki gibi etki ediyor.



Kutu ile yüzey arasındaki sürtünme katsayısı $k = 0,1$ olduğuna göre, kutuya etki eden net kuvvet kaç N'dır? ($g=10$ N/kg)

- A) 38 B) 32 C) 22 D) 16

1. OTURUM

5. İlk hızı V olan bir araba 4 m/s^2 ivme ile hızlanarak 3 s sonra 30 m/s hıza ulaşmaktadır.

Buna göre, arabanın ilk hızının büyüklüğü kaç m/s dir?

- A) 14 B) 16 C) 18 D) 42

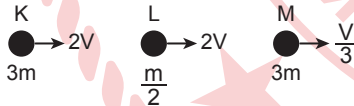
6. Sürtünmelerin ihmal edildiği ortamda sarmal yaya ait kuvvet-uzama miktarı değerleri aşağıdaki tabloda verilmiştir.

Kuvvet (N)	0	F	200
Uzama miktarı (m)	0	x	2x

Buna göre, tabloda belirtilen F kuvvetinin büyüklüğü kaçtır?

- A) 20 B) 40 C) 80 D) 100

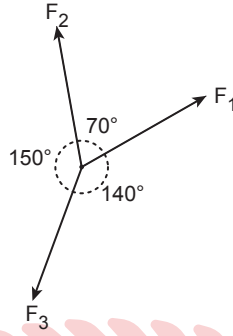
7. K, L ve M cisimlerinin kütle ve hızları şekildeki gibidir.



Buna göre, çizgisel momentumları P_K , P_L ve P_M 'nin büyüklük ilişkisi aşağıdakilerin hangisinde doğru verilmiştir?

- A) $P_K > P_L > P_M$
 B) $P_K = P_L = P_M$
 C) $P_M > P_L > P_K$
 D) $P_K > P_L = P_M$

8. Şekildeki gibi aynı noktaya uygulanan \vec{F}_1 , \vec{F}_2 ve \vec{F}_3 kuvvetleri dengededir.



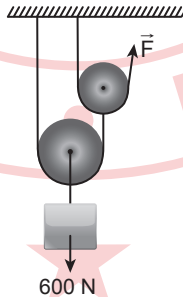
Buna göre, kuvvetlerin büyüklük ilişkisi aşağıdakilerin hangisinde doğru verilmiştir?

- A) $F_3 > F_2 > F_1$
 B) $F_1 > F_2 > F_3$
 C) $F_1 = F_2 = F_3$
 D) $F_2 > F_3 > F_1$

9. 400 cm uzunluğunda homojen ve düzgün bir telin 100 cm'lik kısmı kesilip atıldığında yeni telin ağırlık merkezi bir önceki telin ağırlık merkezine göre kaç cm yer değiş-tirmiştir?

- A) 50 B) 100 C) 150 D) 200

10. Şekildeki makara sisteminde 600 N'lık yük F kuvveti ile dengededir.



Buna göre, F kaç N'dır?

(Makaraların ağırlıkları ve sürtünmeler ihmal ediliyor.)

- A) 600 B) 400 C) 300 D) 150

(432) KİMYA – 2

1. Aşağıdakilerden hangisi çok atomlu iyonudur?

- A) P_4 B) CO C) OH^- D) H^+

2. Magnezyum sülfat bileşiği kaç farklı atomdan oluşur?

- A) 1 B) 2 C) 3 D) 4

3. Aşağıdaki "formül-bileşik adı" eşleştirmelerinden hangisi doğrudur?

Formül	Bileşik Adı
A) BF_3	Bor diflorür
B) P_2O_3	Fosfor trioksit
C) CO	Karbon dioksit
D) SO_2	Kükürt dioksit

4. Bazı maddelerin molekül polarlıkları aşağıdadır.

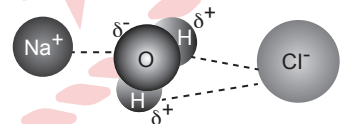
Polar Moleküller: HBr, H_2O

Apolar Moleküller: CH_4 , CCl_4

Buna göre, bu moleküllerden hangileri arasında sıvı hâlde dipol-dipol etkileşimi oluşur?

- A) HBr, H_2O B) HBr, CH_4
 C) H_2O , CCl_4 D) CH_4 , CCl_4

5. Yemek tuzunun suda çözünmesi sırasında oluşan etkileşimler aşağıdaki gibi modellenmiştir.



Buna göre, kesikli çizgilerle (-----) gösterilen etkin kuvvet aşağıdakilerden hangisidir?

- A) Dipol-dipol etkileşimi
 B) İyon-dipol etkileşimi
 C) Dipol-indüklenmiş dipol etkileşimi
 D) İyon-indüklenmiş dipol etkileşimi

1. OTURUM

6. Aşağıdakilerden hangisi katıların genel özelliklerindedir?

- A) Buldukları kabın şeklini alırlar.
B) Belirli bir hacimleri yoktur.
C) Sıkıştırılmaları oldukça zordur.
D) Tanecikleri sadece dönme hareketi yapar.

7. Bazı sıvıların viskozite değerleri tabloda verilmiştir.

Sıvı	Viskozite (20 °C, Pa.s)
Zeytinyağı	$81,03 \cdot 10^{-3}$
Etilen glikol	$19,83 \cdot 10^{-3}$
Propanol	$1,94 \cdot 10^{-3}$
Benzen	$0,63 \cdot 10^{-3}$

Buna göre, aynı koşullardaki bu sıvılardan hangisinin akışkanlığı en yüksektir?

- A) Zeytinyağı B) Etilen glikol
C) Propanol D) Benzen

8. Bir yaprağın üzerinde asılı kalan su damlasının yuvarlak bir şekil oluşması - - - kuvvetlerine, damlanın yaprağa yapışması - - - kuvvetlerine örnektir.

Bu cümlede boş bırakılan yerlere sırasıyla aşağıdakilerden hangisi getirilmelidir?

- A) adezyon, kohezyon
B) kohezyon, adezyon
C) vizkozite, akışkanlık
D) akışkanlık, vizkozite

9. Aşağıdaki nesnelere hangisinin belirtilen boyutu nanometre birimli cetvelle tek bir ölçüm yapılarak belirlenebilir?

- A) Kâğıt kalınlığı
B) Kalem boyu
C) Silgi eni
D) Sıra yüksekliği

10. Yoğunlukları 5 g/cm^3 ten büyük metaller - - - metal olarak adlandırılır. Sayıları 60'ı geçen bu metallerden Cd son derece zehirli; Hg, Pb ve Cr gibi metaller orta derece zehirlidir.

Bu metinde boş bırakılan yere aşağıdakilerden hangisi getirilmelidir?

- A) alkali B) ağır
C) toprak alkali D) radyoaktif

(436) SEÇMELİ KİMYA – 2

1. Aşağıdaki olaylardan hangisi gerçekleşirken ortama ısı verir?

- A) Dondurmanın erimesi
B) Tereyağının yumuşaması
C) Şekerin suda çözünmesi
D) Suyun donması

2. Karbon monoksitinin yanmasına ait reaksiyon ve entalpisi verilmiştir. $2\text{CO(g)} + \text{O}_2\text{(g)} \rightarrow 2\text{CO}_2\text{(g)} \Delta H = -566\text{kJ}$

Buna göre,
 $\text{CO}_2\text{(g)} \rightarrow \text{CO(g)} + \frac{1}{2}\text{O}_2\text{(g)}$
tepkimesinin entalpisi aşağıdaki hesaplamaların hangisi ile bulunur?

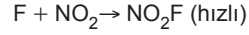
- A) $-\frac{566}{2}$ B) $+\frac{566}{2}$
C) $2 \times (-566)$ D) $2 \times (+566)$

3. $\text{Hız} = k [\text{H}_2] [\text{NO}]$

Verilen hız bağıntısında aynı şartlarda NO'nin derişimi sabit tutulup H₂'in derişimi 3 katına çıkarılırsa hız kaç kat artar?

- A) 3 B) 6 C) 9 D) 12

4. Tüm basamakları gaz fazında gerçekleşen $2\text{NO}_2 + \text{F}_2 \rightarrow 2\text{NO}_2\text{F}$ tepkimesi iki ara basamaktan oluşmaktadır. Tepkimeye ait hızlı basamak aşağıdadır.



Buna göre, tepkimenin hız bağıntısı aşağıdakilerden hangisidir?

- A) $\text{Hız} = k [\text{NO}_2] [\text{F}]^2$
B) $\text{Hız} = k [\text{NO}_2] [\text{F}_2]$
C) $\text{Hız} = k [\text{NO}_2]^2 [\text{F}_2]$
D) $\text{Hız} = k [\text{NO}_2] [\text{F}]$

5. Sabit hacimli kaptaki tek basamaklı gerçekleşen



tepkimesine aşağıdakilerden hangisi yapıldığında tepkime hızı artar?

- A) Kaba $\text{Cl}_2\text{(g)}$ eklemek
B) Sıcaklığı azaltmak
C) Kaba inhibitör eklemek
D) Kaba NOCl(g) eklemek

6. $\text{PCl}_5\text{(g)} \rightleftharpoons \text{PCl}_3\text{(g)} + \text{Cl}_2\text{(g)}$

Verilen tepkimenin derişimler cinsinden denge ifadesi aşağıdakilerden hangisidir?

- A) $K_d = \frac{[\text{PCl}_5]}{[\text{PCl}_3][\text{Cl}_2]}$
B) $K_d = \frac{[\text{PCl}_5]^5}{[\text{PCl}_3]^3[\text{Cl}_2]^2}$
C) $K_d = \frac{[\text{PCl}_3][\text{Cl}_2]}{[\text{PCl}_5]}$
D) $K_d = \frac{[\text{PCl}_3]^3[\text{Cl}_2]^2}{[\text{PCl}_5]^5}$

7. $\text{H}_2\text{(g)} + \text{I}_2\text{(g)} \rightleftharpoons 2\text{HI(g)}$

Verilen tepkime için derişimler cinsinden denge sabiti (K_d) ile basınçlar cinsinden denge sabiti (K_p) arasındaki bağıntı aşağıdakilerden hangisidir?

- A) $K_p = K_d (RT)^2$
B) $K_p = K_d (RT)$
C) $K_p = K_d$
D) $K_p = \frac{K_d}{(RT)}$

1. OTURUM

8. Aşağıda oda sıcaklığındaki asitlik sabitleri (K_a) verilen asitlerden en zayıf olanı hangisidir?

Asit	K_a
A) H_3PO_4	$7,5 \times 10^{-3}$
B) $HCOOH$	$1,8 \times 10^{-4}$
C) H_2CO_3	$4,3 \times 10^{-7}$
D) HCN	$6,2 \times 10^{-10}$

9. 25°C sıcaklıkta, bir çözeltideki $[H^+] = 10^{-4}$ M ise bu çözeltinin pOH değeri aşağıdakilerden hangisidir?

- A) 10 B) 4
C) 10^{-4} D) 10^{-10}

10. PbI_2 tuzunun belirli bir sıcaklıktaki suda çözünürlüğü 10^{-2} M olduğuna göre, aynı koşullarda bu tuzun çözünürlük çarpımı ($K_{çç}$) aşağıdakilerden hangisidir?

- A) 10^{-2} B) 4×10^{-4}
C) 10^{-4} D) 4×10^{-6}

(441) BİYOLOJİ – 1

1. Aşağıdakilerden hangisi biyolojinin dönüm noktalarını oluşturan keşiflerden değildir?

- A) DNA'nın sarmal yapısının keşfi
B) Polimeraz zincir reaksiyonunun keşfi
C) CRISPR-Cas sisteminin keşfi
D) Yeni kemirgen türlerinin keşfi

2. Bilimin doğası ile ilgili aşağıdakilerden hangisi doğrudur?

- A) Bilimsel bilgi değişmez ve sabittir, ilk olduğu hâliyle kalır.
B) Bilimsel bilgi kendisini oluşturan bilim insanlarının sosyal ve kültürel yapısından etkilenir.
C) Bilimsel teoriler zamanla bilimsel kanunlara dönüşür.
D) Bilimsel bilgileri oluşturan yöntemler sabit ve değişmez bir sistemattir.

3. Bir hücreli ökaryot bir canlı aşağıdaki organizasyon düzeylerinden hangisine sahiptir?

- A) Organel B) Doku
C) Organ D) Sistem

4. Aşağıdakilerden hangisi canlıların sınıflandırılmasında kullanılan üç domain arasında bulunmaz?

- A) Bakteriler
B) Arkeler
C) Ökaryotlar
D) Prokaryotlar

5. Canlıların sınıflandırılmasında âlemden cins seviyesine geldikçe aşağıdakilerden hangisi azalır?

- A) Protein benzerliği
B) Tür çeşitliliği
C) Genetik benzerlik
D) Akrabalık derecesi

6. Tatlı su ekosisteminden alınan bir canlı incelendiğinde şu bulgular elde edilmiştir:

- Fotosentez yoluyla oksijen üretmektedir.
- Ökaryot ve bir hücrelidir.

Buna göre, bu canlı aşağıdaki canlı gruplarından hangisine aittir?

- A) Mantarlar B) Protistler
C) Bakteriler D) Arkeler

7. Bitkiler ile ilgili aşağıdakilerden hangisi doğrudur?

- A) Çiçekler ve kozalaklar üreme organlarıdır.
B) Ökaryotik ve prokaryotik hücre yapılarını bir arada bulundurlar.
C) Denizlerde yaşayan bir hücreli örnekleri vardır.
D) Miselyum yapıları toprağa tutunma organlarıdır.

8. Aşağıdaki hayvan gruplarının hangisindeki canlıların, doku ve sistemleri bulunmaz?

- A) Süngerler
B) Eklem bacaklılar
C) Solucanlar
D) Balıklar

9. Tabloda bazı canlılar ve bu canlılara ait özellikler verilmiştir ama bir yanlışlık yapılmıştır.

Canlı	Özellik
Balıklar	Kıkırdak veya kemikten oluşan iç iskeletleri bulunur.
Amfibiler	Ağızlarında diş bulunmaz.
Kuşlar	Gelişim sürecinde başkalaşım geçirirler.
Memeliler	Olgun alyuvarları çekirdeksizdir.

Buna göre, tablodaki bilgilerin tümünün doğru olması için aşağıdakilerden hangisi yapılmalıdır?

- A) Memeliler ile balıkların özelliklerini birbiriyle değiştirmek
B) Amfibilerin özelliğindeki "bulunmaz" kelimesini "bulunur" olarak değiştirmek
C) Balıkların özelliğindeki "veya kemikten" ifadesini silmek
D) Amfibiler ile kuşların özelliklerini birbiriyle değiştirmek

10. Aşağıdakilerden hangisine balıklarda rastlanmaz?

- A) Değişken vücut sıcaklığına
B) Pullu deriye
C) Kaslı diyaframa
D) Solungaçlara

1. OTURUM

(443) BİYOLOJİ – 3

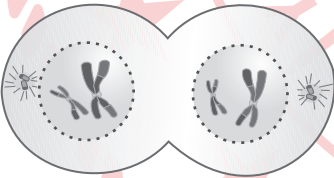
1. Mitotik hücre döngüsü ile ilgili aşağıdakilerden hangisi doğrudur?

- A) Profazın hemen ardından sitokinez başlar.
- B) Anafazda kardeş kromatitler ayrılır.
- C) Çekirdek bölünmesinden önce DNA miktarı yarıya iner.
- D) Metafazda selülozdan orta lamel oluşur.

2. Aşağıdakilerden hangisi eşeysiz üreme çeşitlerinin tümünde ortaktır?

- A) Kromozom sayısının yarıya inmesi
- B) Türün devamlılığının sağlanması
- C) Dölllenme sonucu zigotun oluşması
- D) Kalıtsal çeşitliliğin artması

3. Hayvan hücresine ait bir bölünme evresi şekilde gösterilmiştir.



Buna göre, aşağıdakilerden hangisi söylenebilir?

- A) Kromozomların net görünmesi metafaz 2 evresi olduğunu kanıtlar.
- B) İğ ipliklerinin oluşması bölünme tipinin mitoz olduğunu kanıtlar.
- C) Çekirdek zarlarının oluşması profaz 2 evresi olduğunu kanıtlar.
- D) Homolog kromozomların ayrılmış olması bölünme tipinin mayoz olduğunu kanıtlar.

4. Bal arılarındaki partenogenez ile ilgili aşağıdakilerden hangisi doğrudur?

- A) Döllenen yumurtanın arı sütü ile beslenerek kraliçe arı olarak büyümesidir.
- B) Erkek arının mayoz geçirmeden yeni sperm üretmesidir.
- C) Kraliçe arının yumurtasından dölllenme olmaksızın erkek arının oluşmasıdır.
- D) İşçi arının hücrelerinden dölllenme olmaksızın yeni işçi arının gelişmesidir.

5. Eşeyli üremede aşağıdakilerden hangisinin meydana gelmesi beklenmez?

- A) Yavrunun genetik olarak annenin kopyası olması
- B) Eşey hücrelerinin birleşmesi
- C) Embriyonun mitozlar geçirerek büyümesi
- D) Mayozun gerçekleşmesi

6. Bir ailenin ilk çocuklarının kız, ikinci çocuklarının erkek olma olasılığının hesaplanması için kullanılanı gereken olasılık kuralı aşağıdakilerden hangisidir?

- A) Heterozigot genotipteki iki bireyin çaprazlanmasında ortaya çıkabilecek olasılıkların yarısı heterozigottur.
- B) Bağlı genlerin meydana getirebilecekleri maksimum genotip çeşidi için crossing overın gerçekleşmesi gerekir.
- C) Şansa bağlı bir olayın bir defa denenmesinden elde edilen sonuçlar sonraki deneme sonuçlarını etkilemez.
- D) Şansa bağlı iki bağımsız olayın aynı anda birlikte olma olasılığı, bunların ayrı ayrı olma olasılıklarının çarpımına eşittir.

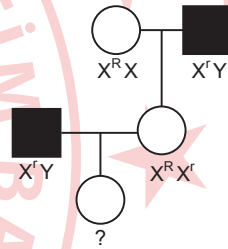
7. Annenin "A", babanın "B" kan grubuna sahip olduğu bir ailede aşağıdakilerden hangisinin tespit edilmesi "O" kan grubuna sahip çocuklarının olamayacağını kanıtlar?

- A) Annenin homozigot olması
- B) Babanın heterozigot olması
- C) İlk çocuklarının AB kan grubuna sahip olması
- D) İkinci çocuklarının B kan grubuna sahip olması

8. Aşağıdakilerden hangisi hemofili bakımından sağlıklı bir babanın çocuğunda gözlenemez?

- A) Kız çocuğun hemofili hastası olması
- B) Erkek çocuğun sağlıklı olması
- C) Kız çocuğun taşıyıcı olması
- D) Erkek çocuğun hasta olması

9. Bir ailenin renk körlüğü kalıtım bilgisini bulunduran soy ağacı şekilde gösterilmiştir.



Buna göre, "?" ile gösterilen bireyin genotipi aşağıdakilerden hangisi olabilir?

- A) X^RX^R
- B) X^RY
- C) X^RX^r
- D) X^rY

10. Mor çiçekli bir bezelye ile beyaz çiçekli bir bezelye çaprazlanmış ve oluşan on yavrunun tümü mor çiçekli olmuştur.

Bu durum ile ilgili aşağıdakilerden hangisi kesindir?

(B: mor renk aleli, b: beyaz renk aleli)

- A) Yavrular homozigot genotiplidir.
- B) Beyaz çiçekli bitki heterozigottur.
- C) Mor çiçekli yavrularla mor çiçekli ebeveyn aynı genotiptedir.
- D) Tüm yavrularda beyaz renk aleli bulunur.

1. OTURUM

(446) SEÇMELİ BİYOLOJİ – 2

1. İnsanın solunum sistemi ile ilgili aşağıdakilerden hangisi doğrudur?

- A) Akciğere hava dolmasını akciğerdeki kasların kasılması sağlar.
- B) Nefes alma sırasında epiglottis yemek borusunu kapatır.
- C) Soluk alma sürecinde hava önce yutaktan sonra gırtlaktan geçer.
- D) Pleura sıvısı alveollerin nemli kalmasını sağlar.

2. İnsanın solunum sisteminde karbondioksitin taşınması ile ilgili aşağıdakilerden hangisi doğrudur?

- A) Bikarbonat iyonlarının hemoglobin ile birleşmesiyle karbominohemoglobin oluşur.
- B) Karbondioksitin su ile birleşmesiyle oksihemoglobin oluşur.
- C) Karbonik anhidraz enzimi etkisiyle karbonik asit oluşur.
- D) Karbondioksitin %7'si bikarbonat şeklinde alyuvarlarda taşınır.

3. İnsanda aşağıdakilerden hangisinin meydana gelmesi, dokulara birim zamanda taşınan oksijen miktarını azaltır?

- A) Yüksek miktarda kan kaybının olması
- B) Solunum yolunun genişlemesi
- C) Havadaki oksijen oranının artması
- D) Çok yoğun egzersiz yapılması

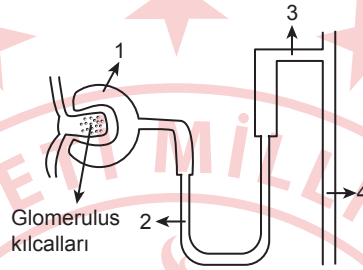
4. Aşağıdakilerden hangisi insanın üriner sisteminin parçası değildir?

- A) Malpigi piramitleri
- B) Koryon
- C) Bowman kapsülü
- D) Havuzcu

5. İnsanın menstrual döngüsü ile ilgili aşağıdakilerden hangisi doğrudur?

- A) Korpus luteum çok miktarda LH salgılar.
- B) Progesteron en yüksek seviyesine folikül evrede ulaşır.
- C) LH en yüksek seviyesine ovulasyondan sonra ulaşır.
- D) Östrojen en yüksek seviyesine ovulasyon fazında ulaşır.

6. İnsana ait bir nefronun kısımlarının numaralanarak gösterildiği şema şekildeki gibidir.



Numaralanmış kısımlar ile ilgili aşağıdakilerden hangisi doğrudur?

- A) 1'de süzülme meydana gelir.
- B) 2'de idrar oluşumu tamamlanır.
- C) 3'te eritropoietin kanala salgılanır.
- D) 4'te idrar vücut dışına atılır.

7. Aşağıdakilerden hangisi erkek üreme sisteminin yardımcı bezlerinden değildir?

- A) Cowper
- B) Prostat
- C) Serviks
- D) Seminal kesecik

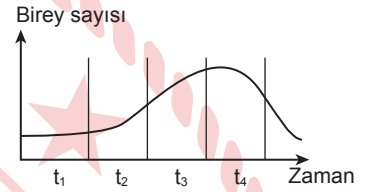
8. İnsan ve insanın kalın bağırsağında yaşayan bakteriler arasındaki ilişki ile ilgili aşağıdakilerden hangisi söylenebilir?

- A) Birliktelikten bakteriler zarar görür.
- B) Bakteriler avcı, insan avdır.
- C) Aralarında rekabet ilişkisi vardır.
- D) Birliktelikten insan fayda görür.

9. Küsküt otunun komünitedeki diğer canlılarla olan ilişkileri ile ilgili aşağıdakilerden hangisi yanlıştır?

- A) Üretici canlılardan besinlerini alabilir.
- B) Etkileşimde bulunduğu canlılar için oksijen üretebilir.
- C) Etkileşimde bulunduğu canlılara zarar verebilir.
- D) Tüketici canlılar için besin kaynağı olabilir.

10. Bir popülasyonun birey sayısının zamana bağlı değişimi grafikte gösterilmiştir.



Buna göre, hangi zaman aralığında yaşam ortamındaki taşıma kapasitesinin azaldığı kesindir?

- A) t₁ B) t₂ C) t₃ D) t₄

(465) TEMEL DİNİ BİL. – 1

1. "O hâlde sen hanif olarak bütün varlığınla dine, Allah insanları hangi fitrat üzere yaratmışsa ona yönel! Allah'ın yaratmasında değişme olmaz. İşte doğru din budur. Fakat insanların çoğu bilmezler."

(Rûm suresi, 30. ayet)

Bu ayetteki altı çizili kavram ile aşağıdakilerden hangisine işaret edilmektedir?

- A) Emir ve yasakların bildirilmesine
- B) Kâinatın kuralları ile yaşamaya alışmaya
- C) İnsanın doğuştan sahip olduğu bütün özelliklere
- D) Kur'an-ı Kerim ve hadislerle dayanan hükümlere

1. OTURUM

2. "İnsana Allah tarafından verilen en güzel biçim" olarak ifade edilen kavram aşağıdakilerden hangisidir?

- A) Ahsenitakvim
- B) Rabbilalemin
- C) Efselisafilin
- D) Aklİselim

3. Allah-insan ilişkisi ile ilgili aşağıdakilerden hangisi yanlıştır?

- A) İnsanın, verilen tüm nimetler için Allah'a şükretmesi itaat ve bağlılığın göstergesidir.
- B) Kişi Allah'a karşı duyduğu sevgi ve bağlılığı ibadetler aracılığıyla somutlaştırır.
- C) İnsanın Allah'a yaklaşması iman ve ibadet sayesinde mümkündür.
- D) Allah ile insan arasında tek yönlü bir ilişki söz konusudur.

4. Aşağıdaki ayetlerden hangisi kâinatın yaratılışındaki denge ve düzene işaret etmektedir?

- A) "Güneş ve ay bir hesaba göre hareket etmektedir. Otlar ve ağaçlar Allah'a boyun eğler. O; göğü yükseltti ve ölçüyü koydu..." (Rahmân suresi, 5-7. ayetler)
- B) "Göklerde ve yerde ne varsa Allah'ındır. Şüphesiz Allah her bakımdan sınırsız zengin olandır, övülmeye layık olandır." (Lokmân suresi, 26. ayet)
- C) "Allah göklerdeki ve yerdeki her şeyi bilir. Gizlediklerinizi de açığa vurduklarınızı da bilir. Allah, göğüslerin özünü hakkıyla bilendir." (Teğâbun suresi, 4. ayet)
- D) "...Güneşe ve aya secde etmeyin. Eğer gerçekten Allah'a kulluk ediyorsanız onları yaratan Allah'a secde edin." (Fussilet suresi, 37. ayet)

5. Aşağıdaki ayetlerin hangisi "sünnettullah" ile ilgilidir?

- A) "Sana ne iyilik gelirse Allah'tandır. Sana ne kötülük gelirse kendindir..." (Nisâ suresi, 79. ayet)
- B) "...Allah'ın yasalarında hiçbir değişiklik bulamazsın. Allah'ın yasalarında hiçbir sapma da bulamazsın." (Fâtır suresi, 43. ayet)
- C) "Kullarım beni senden sorarlarsa bilsinler ki gerçekten ben onlara çok yakıным. Bana dua edince dua edenin duasına cevap veririm..." (Bakara suresi, 186. ayet)
- D) "Öyle ise emrolunduğın gibi dosdoğru ol. Beraberindeki tövbe edenler de dosdoğru olsunlar..." (Hüd suresi, 112. ayet)

6. "Sizin ilahınız tek bir ilahdır. O'ndan başka ilah yoktur. O Rahmân'dır, Rahîm'dir." (Bakara suresi, 163. ayet) ayetinde aşağıdaki kavramlardan hangisi açıklanmaktadır?

- A) Takva
- B) Takdir
- C) Tevhit
- D) Takdis

7. Hz. Muhammed (sav) namaz, hac gibi bedenle yapılan ibadetler için "Namazı benden gördüğünüz şekilde kılın." ve "Haccin nasıl yapılacağını benden öğrenin." buyurmuştur.

Bu durum ibadetlerin kabul şartlarından hangisi ile ilişkilendirilebilir?

- A) Niyet
- B) İhlas
- C) Kur'an-ı Kerim'e uygunluk
- D) Sünnete uygunluk

8. "Ey iman edenler! Namaza kalkacağınız zaman yüzlerinizi ve dirseklere kadar ellerinizi yıkayın, başınızı mesh edin ve topuklarınıza kadar ayaklarınızı yıkayın..." (Mâide suresi, 6. ayet)

Bu ayette aşağıdakilerden hangisine işaret edilmektedir?

- A) Gusül
- B) Abdest
- C) Teheccüd
- D) Teyemmüm

9. Aşağıdakilerden hangisi İslam inancına göre ahiret hayatının başlangıcı olarak kabul edilmektedir?

- A) Mükâfat ve cezaların verilmesi
- B) İsrail isimli meleğin sūra üflemesi
- C) Dünya hayatının doğum ile başlaması
- D) İnsanların mahşer denilen yerde toplanması

10. Bir gün Hz. Muhammed'in (sav) yanına gelen bir adam, "Ey Allah'ın Resulü! Devemi bağlayıp da mı yoksa bağlamadan mı Allah'a tevekkül ediyim?" diye sorunca Hz. Muhammed (sav), "Önce onu bağla, sonra Allah'a tevekkül et!" buyurmuştur.

Bu olayda aşağıdakilerden hangisi tavsiye edilmektedir?

- A) Kişinin gerekli tedbirleri aldıktan sonra takdiri Allah'a bırakması
- B) Her türlü sorunda Hz. Muhammed'e (sav) danışılarak iş yapılması
- C) İnsanın kendisine bahşedilen akıl ve iradeyi kullanarak iman etmesi
- D) Allah'a bağlılığın istişare ile gösterilmesi

(479) SEÇMELİ MANTIK - 2

1. Sembolik mantıkta önerme eklemelerinin kullanıldığı önermelere bileşik, önerme eklemelerinin kullanılmadığı önermelere ise basit önerme denir.

Buna göre, aşağıdakilerden hangisi bileşik önermedir?

- A) p
- B) q
- C) s
- D) ~r

2. Bir bileşik önermede önce gelen bileşene - - - -, sonra gelen bileşene - - - - denir.

Bu cümlede boş bırakılan yerlere sırasıyla getirilmesi gereken doğru kavramlar aşağıdakilerden hangisidir?

- A) üst bileşen - alt bileşen
- B) ön bileşen - art bileşen
- C) ana bileşen - yan bileşen
- D) büyük bileşen - küçük bileşen

1. OTURUM

3. "Şiirlerinde veya öykülerinde yeni bir anlatım tarzı yoktur." önermesinin sembolik mantıktaki karşılığı aşağıdakilerden hangisidir?

- A) $p \vee q$ B) $p \wedge q$
C) $p \rightarrow q$ D) $p \leftrightarrow q$

4. Sembolik mantıktaki önerme eklemelerinin doğruluk değerleriyle ilgili aşağıdakilerden hangisi yanlıştır?

- A) Koşul önermesinde ön bileşen doğru, art bileşen yanlış değer almışsa bileşik önerme yanlış değer alır.
B) Tikel evetleme eklemesinin doğru olması için bileşenlerden birinin doğru olması gerekli ve yeterlidir.
C) Karşılıklı koşul eklemesinin doğru olabilmesi için bileşenlerden biri doğruyken diğersinin yanlış olması gerekir.
D) Tümel evetleme önermesinde bileşik önermenin doğruluğu, bu bileşik önermeyi oluşturan bütün bileşenlerin aynı anda doğru olmasına bağlıdır.

5.

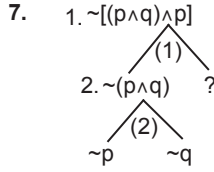
$(p \vee q) \wedge p$
D
D
Y
Y

Bu doğruluk tablosundan, $(p \vee q) \wedge p$ önermesi ile ilgili aşağıdakilerden hangisine ulaşılabilir?

- A) Her satırda doğru değeri almıştır.
B) Geçerli bir önermedir.
C) "ise" ile "ancak ve ancak" eklemelerinin kurallarına göre çözümlenmiştir.
D) Tutarlı bir önermedir.

6. De Morgan Kuralı'na göre, $p \rightarrow q$ önermesinin eş değeri aşağıdakilerden hangisidir?

- A) $p \wedge \sim q$ B) $\sim p \vee q$
C) $\sim p \vee \sim q$ D) $\sim p \wedge \sim q$



Bu çözümleyici çizelgede soru işareti (?) ile gösterilen yere getirilmesi gereken sembolik ifade aşağıdakilerden hangisidir?

- A) p B) q
C) $\sim q$ D) $\sim p$

8. Önermelerin çözümleyici çizelge yoluyla denetlenmesiyle ilgili aşağıdakilerden hangisi doğrudur?

- A) Alt alta yazılan önermeler dizisine özelleme denir.
B) Basit önermelerin de ayrı ayrı çözümlenmesi gerekir.
C) Çatal açma kuralı uygulandığında iki farklı yol ortaya çıkar.
D) Aynı yol üzerinde birden fazla aynı önermenin olmasına çelişki denir.

9. İçinde x, y, z gibi değişkenler geçen önermelere açık önerme denir.

Buna göre, aşağıdakilerden hangisi açık önermedir?

- A) $13 - y = 5$
B) $Fa \rightarrow Ga$
C) $12 + (-3) = 9$
D) Bazı sayılar asaldir.

10. İki değerli mantıkta sadece iki değer olduğundan tek önermenin doğruluk tablosu iki, iki önermenin doğruluk tablosu dört satırdan oluşur. Üç değerli mantıkta ise tek önermenin doğruluk tablosu üç satırdan oluşur.

Buna göre, üç değerli mantıkta iki önermenin doğruluk tablosu kaç satırdan oluşur?

- A) Altı B) Dokuz
C) On iki D) On altı

(502) İNGİLİZCE – 8

1 - 10. sorularda boş bırakılan yere / yerlere uygun gelen kelime ya da ifadeyi işaretleyiniz.

1. Daniel : - - - - ?
Sam : Sure! The remote's on the table. You can watch it.

- A) May I have the bill
B) Can I have a glass of water
C) Do you mind if I turn on the TV
D) Could you help me with my homework

2. To protect the environment, we shouldn't - - - - .

- A) plant more trees
B) use public transport
C) contaminate the water
D) switch to alternative energies

3. Mike helped an old man while he - - - - the street.

- A) was crossing B) crosses
C) has crossed D) is crossing

4. I think smartphones are very important and useful devices - - - - they make our communication easier and add speed in our life.

- A) although B) since
C) however D) otherwise

5. Helen : Why should we prefer renewable energy?

Peter : Because it - - - - .

- A) pollutes the air
B) destroys the environment
C) increases the risk of climate change
D) helps to preserve natural resources

1. OTURUM

6. **Blair** : Can I use the coffee machine?

Tina : - - - -. There is a problem with the machine. It doesn't work.

- A) I'm sorry
- B) Of course
- C) Help yourself
- D) You are welcome

7. **When Jack went into the bank, he realized that he - - - - his money at home.**

- A) would forget
- B) had forgotten
- C) has forgotten
- D) will forget

8. **Adam** : How do you keep in touch with your friends?

Matt : I - - - -.

- A) use social networks
- B) spend 3 or 4 hours a day
- C) never share my password with others
- D) think it is harmful for our health

9. **Good manners** - - - -.

- A) include rude behaviours
- B) prevent people from being cultured and civilized
- C) damage people's social relations
- D) create positive impact on others

10. **Betsy** : Would you like to join our yoga class this evening?

Lucy : I - - - - but I have to work this evening.

- A) wish I had a ticket
- B) should have stayed calm
- C) wish I could come
- D) would like to apologize for being late

(502) ALMANCA – 8

1 - 5. sorularda boş bırakılan yere / yerlere uygun gelen kelime ya da ifadeyi işaretleyiniz.

1. **Die Batterien der Taschenlampe sind leer. Wir müssen neue Batterien - - - -.**

- A) drücken
- B) ausschalten
- C) einlegen
- D) abnehmen

2. **A: Woher kommst du, Öznur?**

B: Ich komme aus der Bank. Ich habe Geld - - - -.

- A) ausfüllen
- B) aufnehmen
- C) abgeben
- D) abgehoben

3. **Könnten Sie mir sagen, - - - - der nächste Bus nach Istanbul fährt?**

- A) wem
- B) dass
- C) wann
- D) für

4. **Wenn Sabine es noch einmal versuchen - - - -, könnte sie schneller schwimmen als Beate.**

- A) habe
- B) würde
- C) hätten
- D) wäre

5. **Früher hat man Freunde regelmäßig getroffen. Heute finden solche Treffen - - - - statt, weil man über das Handy ständig im Kontakt ist.**

- A) selten
- B) meiste
- C) keine
- D) nichts

6. **"gefährlich" sıfatının Türkçe karşılığı aşağıdakilerden hangisidir?**

- A) Güvenli
- B) Tehlikeli
- C) Zararlı
- D) Yararlı

7. **Aşağıdakilerden hangisi fiil kökenli bir sözcük değildir?**

- A) das Sprechen
- B) das Spielen
- C) das Lachen
- D) das Fahrzeug

8. **Mit moderner Technik werden neue Züge so gebaut, dass wir mehr Sicherheit haben. Sie fahren viel schneller und sind viel komfortabler als die Alten. Sie werden von Computern gesteuert.**

Welche Information ist falsch?

- A) Neue Züge sind komfortabler.
- B) Alte Züge haben mehr Technik.
- C) Neue Züge sind schneller.
- D) Alte Züge haben weniger Sicherheit.

9. **"aufstehen" fiilinin Perfekt hâli aşağıdakilerden hangisidir?**

- A) aufgestanden
- B) steht auf
- C) aufstehen
- D) stehe auf

10. **Welches ist kein Haushaltsgerät?**

- A) der Kühlschrank
- B) die Waschmaschine
- C) das Handy
- D) der Herd

1. OTURUM

(502) FRANSIZCA – 8

1 - 10. sorularda boş bırakılan yere / yerlere uygun gelen kelime ya da ifadeyi işaretleyiniz.

1. L'humanité - - - - individus sensibles, conscients de soi et de ses actes, respectueux de la nature.

- A) a envie d'
- B) a besoin d'
- C) s'intéresse à des
- D) s'occupe d'

2. Tu trouves. OK, mais moi, non. - - - - le scénario soit original.

- A) Je ne pense pas que
- B) Je crois que
- C) Je veux que
- D) De mon point de vue

3. Mon frère était malade, nous avons - - - - le médecin chez nous.

- A) faire venir
- B) faire venu
- C) fait venir
- D) fait venu

4. Ce chanteur porte toujours de grosses lunettes noires - - - - on ne puisse pas le reconnaître dans la rue.

- A) avant qu'
- B) pour qu'
- C) après qu'
- D) pendant qu'

5. - - - - : une sensation, une impression liée à nos émotions comme la haine, la joie, la tristesse.

- A) Une discipline
- B) Un personnage
- C) Une présentation
- D) Un sentiment

6. Un monde - - - - les ordinateurs peuvent visualiser tout ce à quoi nous pensons: cela se produirait dans un avenir lointain.

- A) qui
- B) dont
- C) où
- D) que

7. Les développements technologiques des dernières années ont apporté beaucoup d'innovations à - - - - professionnelle, sociale et quotidienne.

- A) notre société
- B) notre travail
- C) notre vie
- D) notre intelligence

8. Nous sommes des millions de personnes qui migrent en direction des villes parce que(qu') - - - - .

- A) une grande partie de la planète est recouverte de béton et d'asphalte
- B) les villes anciennes étaient assez petites relativement à celles d'aujourd'hui
- C) la plupart des gens cultivaient leur propre nourriture
- D) nous aimons vivre en groupe et dans des conditions confortables

9. Phrase active : "La police a arrêté le voleur."

Phrase passive : "- - - -"

- A) Le voleur a été arrêté par la police.
- B) Le voleur a arrêté la police.
- C) Le voleur sera arrêté par la police.
- D) Le voleur vient d'arrêter la police.

10. Dans ce monde globalisé, il faut que tous les pays du monde soient en contact. Comme l'a dit Atatürk : "- - - - !"

- A) Ce qu'il nous faut, c'est manger, voyager et se loger
- B) Bien gagner sa vie, c'est vivre de sa passion
- C) La culture a une place importante dans le développement de l'enfant
- D) Paix dans le pays, paix dans le monde

(511) FIKIH – 1

1. Fıkıh ilmi, Kur'an-ı Kerim ve sünnette yer alan hükümlerin doğru anlaşılmasını, Müslümanların Allah'ın rızasına uygun bir şekilde sosyal hayatını düzenlemesini sağlamaktadır.

Bu metinde fıkıh ilminin hangi yönü vurgulanmaktadır?

- A) Amacı
- B) Yöntemi
- C) Gelişimi
- D) Ortaya çıkışı

2. Aşağıdakilerden hangisi fıkıh ilminin "ukûbât" başlığı içinde değerlendirilen konulardan biri değildir?

- A) Kıyas
- B) Diyet
- C) Hırsızlık
- D) Nafaka

3. İslam hukukunda, hakkında yasaklayıcı bir nass bulunmayan her şey asli ibâha prensibi çerçevesinde mübahtır.

Bu cümle fıkıh ilminin ilkelerinden hangisi ile ilgilidir?

- A) Kamu yararının gözetilmesi
- B) Helallerde genişlik
- C) Adaletin gözetilmesi
- D) Tekliflerde kolaylık

1. OTURUM

4. "Son hükme varmak için basamak basamak ara hükümler koyup sonunda esas hükmü ortaya koymak" **aşadaki kavramların hangisiyle ifade edilmektedir?**

- A) Nesh B) Kıyas
C) Nass D) Tedric

5. **Tâbiin Dönemi'nde ön plana çıkan Kûfe ekolü için kullanılan kavram aşağıdakilerden hangisidir?**

- A) Ehl-i rey
B) Ehl-i kitap
C) Ehl-i beyt
D) Ehl-i eser

6. **Aşağıdakilerden hangisi fıkıh mezheplerinin doğuşunu hazırlayan sebeplerden biri değildir?**

- A) İlim merkezlerinin etkin hâle getirilmesi
B) Kur'an-ı Kerim'in kitap hâline getirilmesi
C) Ticari ve sosyal münasebetlerin gelişmesi
D) Farklı kavimlerin Müslüman olması

7. Mesalih-i mürseleyi en çok kullanan müçtehitler arasında sayılır. Fıkıhta Medinelilerin yaşantısını rehber edinmiştir. "Muvatta" adlı eseri ilk yazılan kaynak hadis kitaplarımızdandır.

Bu parçada hakkında bilgi verilen İslam âlimi aşağıdakilerden hangisidir?

- A) Numan bin Sâbit
B) Muhammed bin İdris eş-Şafî
C) Malik bin Enes el-Esbahî
D) Ahmed bin Hanbel

8. • İnsanların birtakım haklara sahip olabilmesi ve onlardan yararlanabilecek durumda olmasıdır.
• Sahip olabilmek için insanın sağ doğmuş olması ve hayatta olması yeterlidir.

Bu cümlelerde aşağıdakilerin hangisi hakkında bilgi verilmektedir?

- A) Eda ehliyeti
B) Rüşd dönemi
C) Büluğ dönemi
D) Vücub ehliyeti

9. **Aşağıdakilerden hangisi "farz-ı kifaye" için örnek gösterilemez?**

- A) Şahitlik yapmak
B) Cenaze namazı kılmak
C) Ramazan orucunu tutmak
D) İnsanların ihtiyacı olan ilimleri öğrenmek

10. **Aşağıdakilerden hangisi fıkhi hükümlerin asli delillerindedir?**

- A) Kıyas
B) Sünnet
C) İstishab
D) Sedd-i zerai

(532) SEÇMELİ PEYGAMBERİMİZİN HAY. – 2

1. **Hz. Muhammed'in (sav) Zeyd bin Harise ile birlikte insanları Allah'ın varlığına ve birliğe davet etmek için gittiği ama tepkiyle karşılaştığı şehir aşağıdakilerden hangisidir?**

- A) Şam B) Taif
C) Kuba D) Medine

2. **İkinci Akabe Biatı'nın ardından Hz. Muhammed'in (sav) gelişine kadar Medine'de sorumluluğu üstlenmek için seçilen temsilciler başkanı aşağıdakilerden hangisidir?**

- A) Zeyd bin Harise
B) Suheyb bin Sinan
C) Esad bin Zürene
D) Musab bin Umeyr

3. **Medine'de İslam'ın yayılması aşağıdaki kabilelerden hangisinin öncülüğünde başlamıştır?**

- A) Hazrec B) Nadir
C) Kureyş D) Sad

4. **Aşağıdakilerden hangisi müşriklerin Hz. Muhammed'in (sav) Medine'ye hicretini engelleme çabalarından biri değildir?**

- A) Takip etmesi için iz sürmekte mahir kişiler görevlendirilmiştir.
B) Yakalanması karşılığında büyük ödüller vaat edilmiştir.
C) Çevredeki su kuyularının sahipleri bilgilendirilmiştir.
D) Şehrin etrafına hendekler kazılmıştır.

1. OTURUM

5. • Müslümanlar baskı ve zulümden kurtularak özgürce yaşayacakları ortama kavuşmuştur.
- Mekkeli Müslümanlar dayanışma ruhu ile buldukları topluma uyum sağlamıştır.
 - Kültürden ekonomiye birçok alanda yaşanacak gelişmelerin altyapısı oluşmuştur.

Bu ifadelerin tamamı aşağıdaki olaylardan hangisinin sonucudur?

- A) Taif Yolculuğu
B) Birinci Akabe Biati
C) Medine'ye Hicret
D) Mekke'nin Fethi

6. **Hayber'in Fethi ile ilgili aşağıdaki bilgilerden hangisi yanlıştır?**

- A) Medine'yi tehdit eden Yahudi tehlikesi son bulmuştur.
B) Şehir halkı bölgeden çıkarılıp yakın şehirlere yerleştirilmiştir.
C) Hudeybiye Antlaşması'nın hemen ardından 628 yılında fethedilmiştir.
D) Bölgedeki diğer Yahudiler Müslümanlarla anlaşmak için girişimde bulunmuştur.

7. Mescid-i Nebevi, önemli kararların alındığı bir yönetim merkezi olmuştur. Gazve ve seriyelerle ilgili hususlar Hz. Muhammed'in (sav) ve ashabın katılımıyla burada istişare edilmiş, izlenecek yol ve yöntemlere karar verilmiştir.

Bu metin Mescid-i Nebevi'nin hangi yönüne doğrudan işaret etmektedir?

- A) Sosyal
B) Askerî
C) Eğitim
D) Malî

8. **Medine Vesikası, Müslümanlar ile aşağıdakilerden hangisi arasında yapılmıştır?**

- A) Yahudiler
B) Taifliler
C) Mekkeli müşrikler
D) Habeşistanlılar

9. **Aşağıdakilerden hangisi Hz. Muhammed (sav) tarafından elçiler vasıtasıyla devlet başkanlarına ve kabile reislerine gönderilen mektupların içerdiği konulardan biri değildir?**

- A) İslam'a davet
B) Ahlaki esaslar
C) Dinin emir ve yasakları
D) Düzenli ordu oluşturulması

10. **Aşağıdakilerden hangisi Hz. Muhammed'in (sav) vefatının yaklaştığına dair işaretlerden biri değildir?**

- A) Nasr Suresi'nin nazil olması
B) İslam dininin kemale erdiği haber verilmesi
C) Hz. Ebu Bekir'in hac emiri olarak Mekke'ye gönderilmesi
D) Hz. Muhammed'in (sav) on günlük itikâfını yirmi güne çıkarması

(535) SEÇMELİ PEYGAMBERİMİZİN HAY. – 5

1. **İslam'a davet sürecinde aşağıdaki olaylardan hangisi diğerlerinden daha sonra gerçekleşmiştir?**

- A) Habeşistan'a hicret
B) Birinci Akabe Biati
C) Hz. Muhammed'in (sav) Taif'e yolculuğu
D) Müşriklerin Müslümanlara ekonomik ve sosyal boykot uygulaması

2. Hz. Muhammed (sav); insanların idrak seviyelerine göre konuşur, onların anlama kabiliyetlerine, yaş ve kültür seviyelerine göre hitap ederdi. Farklı kabilelerden gelen insanların sorularını onların her birinin ihtiyacına göre cevapları.

Bu metin, Hz. Muhammed'in (sav) davetinin temel ilkelerinden hangisi ile ilgilidir?

- A) Davette yakından uzağa yönelmesi
B) Müjdelemesi ve uyarması
C) Tedriciliğe riayet etmesi
D) Muhatabını tanıması

3. **Aşağıdakilerden hangisi Hz. Muhammed'in (sav) İslam'a davetinde kullandığı vasıtalarından biri değildir?**

- A) Kur'an-ı Kerim
B) Dârülerkam
C) Dârünnedve
D) Suffe

4. Hz. Muhammed (sav), bir topluluk içerisine girdiğinde kendisi için ayağa kalkılmasını istemez, boş bulunduğu herhangi bir yere otururdu.

Bu durum Hz. Muhammed'in (sav) aşağıdaki ahlaki özelliklerinin hangisi ile ilgilidir?

- A) Merhameti
B) Kararlılığı
C) Cesareti
D) Mütevazılığı

5. • Medine'ye hicret eden sahabelerin ilkidir.
• Hz. Muhammed'in (sav) müezziniğini yapmıştır.

Bu bilgiler aşağıdaki sahabelerden hangisine aittir?

- A) İbn Ümmü Mektum
B) Ubade bin Samit
C) Esad bin Zürene
D) Muaz bin Cebel

6. Hz. Muhammed (sav) risâletten önce köle olarak kabul edilen birçok sahabeyi saygın kişilerle kardeş ilan ederek İslam dininde makam, mevki ve ırk ayrımı olmadığını insanlara göstermiş; kişilere benmerkezcilikten uzaklaşarak diğerkâm olmalarını öğretilmiştir.

Bu metin Hz. Muhammed'in (sav) eğitimde kullandığı temel ilke ve metodlardan hangisi ile ilgilidir?

- A) Muhatabının özelliklerini gözetmesi
B) Yanlış inanç ve düşüncelerin tashihi
C) Kolaydan zora doğru gidişi tercih etmesi
D) Örnek benzetme ve kıssaları kullanılması

1. OTURUM

7. Hz. Muhammed'in (sav) "insanları dinin yanlısı olarak nitelendirdiği söz ve davranışlardan sakındırmaya ve faziletli kabul ettiği şeylere özendir-meye teşvik etmesi" eğitimde kul-landığı temel ilke ve metotlardan hangisi ile ilgilidir?

- A) Nasihate önem vermesi
- B) Soru-cevap yöntemini kullanması
- C) Terğib ve terhibi beraber kullan-ması
- D) Sevgi, şefkat ve merhameti esas alması

8. Aşağıdaki sahabelerden hangisinin evi, İslam dininin anlatıldığı eğitim mekânlarından biri değildir?

- A) Erkam bin Ebi'l Erkam
- B) Külsüm bin Hidm
- C) Esad bin Züraire
- D) Musab bin Umeyr

9. Aşağıdakilerden hangisi "Ümmü'l-müminin" olarak anılmaktadır?

- A) Hz. Aişe
- B) Hz. Hatice
- C) Hz. Âmine
- D) Hz. Fatıma

10. Hz. Muhammed'in (sav) "Muhammedü'l-Emin" olarak anılma-sının sebebi aşağıdakilerden han-gisidir?

- A) Cesaretli olması
- B) Vefalı olması
- C) Dürüst olması
- D) Kararlı olması

(537) SEÇMELİ PEYGAMBERİMİZİN HAY. – 7

1. "Kişinin; hayatını Kur'an-ı Kerim'in hükümlerine ve Hz. Muhammed'in (sav) sünnetine göre düzenlemesi, İslam'ı mutedil bir şekilde yaşayarak aşırılıktan uzak bir hayat tarzını benimsemesi" aşağıdaki kavramlar-dan hangisiyle ifade edilmektedir?

- A) İrtibat
- B) İtisâm
- C) İhram
- D) İnfak

2. Hz. Muhammed'in (sav) sünneti ile ilgili aşağıdakilerden hangisi yanlıştır?

- A) İslam'ın Kur'an-ı Kerim'den sonra ikinci kaynağıdır.
- B) Emir ve yasakların doğru anlaşılma-bilmesini sağlar.
- C) Uygulanması ve itaat edilmesi Hz. Muhammed'in (sav) vefatıyla durmuştur.
- D) Aile ve toplum yapısı gibi sosyo-kültürel alanlarda yol göstericidir.

3. "Bilerek ya da bilmeyerek sırat-ı müs-takimden ayrılmak" anlamında kulla-nılan kavram aşağıdakilerden han-gisidir?

- A) Dalalet
- B) Hidayet
- C) Fetanet
- D) Riayet

4. Sahabelerle ilgili aşağıdakilerden hangisi yanlıştır?

- A) Müslüman olarak vefat etmişlerdir.
- B) Kendilerinden sonra gelen nesille-re öğrendikleri bilgileri aktarmış-lardır.
- C) Hz. Muhammed (sav) döneminde yaşamışlardır.
- D) Hadislerin araştırılması ve bir ara-ya getirilmesi için komisyonlar kurmuşlardır.

- 5. • Vazifeyi veya Allah'ın emirlerini ha-tırlatma.
- İlahi emirlere uyanları iyi bir sonu-cun beklediğini haber verme, müj-deleme.
- Allah'ın, emirlerine uymayanları ahirette ilahi azabın beklediğini peygamberleri aracılığıyla haber vererek uyarması.

Aşağıdaki kavramlardan hangisi bu açıklamalardan herhangi birine ait değildir?

- A) İnzar
- B) Tefvik
- C) Tebşir
- D) Tezkir

6. "Biz hangi memleketeye bir uyarıcı gön-dermişsek oranın şımarık zenginleri 'Biz sizinle gönderileni inkâr ediyoru-z.' demişlerdir." (Sebe' suresi, 34. ayet)

Bu ayette aşağıdakilerden hangisi-ne işaret edilmektedir?

- A) Sıdka
- B) Tebliğ
- C) Emanete
- D) Fetanete

7. Aşağıdakilerden hangisi Hz. Muhammed'in (sav) "fiilî sünne-tine" örnek gösterilebilir?

- A) Savaşlarda yaptığı uygulamalar
- B) Çeşitli sebeplerle söylediği sözler
- C) Gördüğü zaman müdahale etme-diği konular
- D) İşittiği zaman sessiz kaldığı du-rumlar

8. Mescid-i Nebi'de inşa edilen bir bölü-mde; ilmî sohbetler yapılırdı. Burası; kalacak yeri olmayanların barındığı yer olduğu kadar, Müslümanların kaynaşmasını sağla-yan özelliğe de sahipti. Ayrıca bura-da, Kur'an-ı Kerim, dinî bilgiler ve okuma yazma öğretiminin yanında toplumu ilgilendiren konularda da bilgi alışverişinde bulunuldu.

Bu metinde aşağıdakilerden hangisi hakkında bilgi verilmektedir?

- A) Mescidi kibleteyn
- B) Kuba Mescidi
- C) Dârünnedve
- D) Suffe

1. OTURUM

9. Müslümanların İslam dinini serbest yaşayamadığı bir zamanda, Kâbe’de açıktan Kur’an-ı Kerim okuyan ilk sahabe aşağıdakilerden hangisidir?

- A) Abdullah bin Mesud
- B) Halid bin Velid
- C) Selman-ı Farisi
- D) Bilal-i Habeşi

10. Aşağıdakilerden hangisi Hz. Muhammed (sav) ile sahabe arasında iletişimin dayandığı unsurlardan biri değildir?

- A) İstişare
- B) Sevgi
- C) İcma
- D) Siddikiyet

2. Aşağıdaki parçalardan hangisi kahraman bakış açısıyla yazılmıştır?

- A) Kahvehanede kadını dinleyenler çoğalmıştı, uzaktan yakından herkes bu konuşmaya kulak misafiri oluyordu. O üç kişinin yanı başındaki masaya kalpaklı, poturlu bir adam geldi oturdu ve o da kadını merakla dinlemeye başladı.
- B) Gece. Saat on ikiyi on geçiyor. Taksim’de, saatin altında tramvay bekliyorum. Saat benim için bu kadar önemli olmasa vakit gece yarısını geçmişti, derdim. Tramvay hâlâ yok. Yatağımı, uykuyu biraz daha düşünsem belki de uyuyuvereceğim şuracıkta.
- C) Maçka’da, Kanarya Apartmanı’nın dördüncü katında ana baba ile bir oğuldan ibaret bir aile oturuyordu. Apartmanın kapısından içeriye girince hiçbir komşunun dil uzatmaya cesaret edemeyeceği bir temizlik görülüyordu.
- D) Muallâ kendisine çok tavsiye edilen bu kitabı okumakta hâlâ tereddüt ediyordu. Yapraklarını çevirdi. Gözleri, “Beni yalnız bırakmayınız!” diye başlayan bir sayfanın yukarısından ortalarına doğru satırların basamaklarını ikişer üçer atlayarak aşağıya kadar inmişti.

3. Müdafaa-yı Millîye’den heyecanla çıktım. Ankara İstasyonu’ndan gece dokuzda hareket ettim. Kompartımda benimle beraber bir zabıt vekili, üç muvazzaf zabıt vardı. Tren, askere cephane götürüyordu. Ömrümde bu kadar sessiz, bu kadar havası kavi bir asker kitlesi içinde seyahat etmemiştim. Herkeste sonuna kadar yürümeye karar vermişlerin hâli vardı.

Bu parça için aşağıdakilerden hangisi söylenemez?

- A) Anlatıcının izlenimlerine yer verilmiştir.
- B) Zaman ve mekân unsurları belirtilmiştir.
- C) Olay örgüsü savaş teması etrafında şekillenmiştir.
- D) Gözlemci bakış açısıyla yazılmıştır.

4. - - - - , Batı tarzında kaleme alınmış ilk Türk tiyatro örneğidir. Bu oyun, klasik Fransız tiyatrosunun ve özellikle Molière’in belirgin etkisini taşımaktadır. - - - - yazdığı oyun, daha yazıldığı dönemde etkisini göstermiş ve bazı piyeslere örnek teşkil etmiştir.

Bu parçada boş bırakılan yerlere sırasıyla aşağıdakilerden hangisi getirilmelidir?

- A) Zavallı Çocuk - Namık Kemal’in
- B) Şair Evlenmesi - İbrahim Şinasi’nin
- C) Vuslat - Recaizâde Mahmut Ekrem’in
- D) İçli Kız - Abdülhak Hamit Tarhan’ın

5. (Hacivat, semai okuyarak gelir.)

Ah benim afet-i cihanım aman,
aman,
Ah yoluna fedâ bu canım aman,
aman
Ah dili dost kalbi düşmanım aman,
aman.

Ah aman etme bu edâyı aman,
Gel cânım etme bu cefâyı

Ah gel benim serv-i bülendim aman,
Ah boyu boyuma menendim aman,
Ah kerem eyle gel efendim.

Bu parça Karagöz oyununun hangi bölümünden alınmıştır?

- A) Mukaddime
- B) Muhavere
- C) Fasil
- D) Bitiş

6. Aşağıdaki eserlerden hangisi anı (hatıra) türünde yazılmıştır?

- A) Akile Hanım Sokağı
- B) İçli Kız
- C) Yılanlı Kuyudan
- D) Tahrir-i Harabat

7. Aşağıdakilerden hangisi haber yazılarının özelliklerinden biridir?

- A) Olay, yer, zaman ve şahıslara dair bilgiler öznel bir tutumla ele alınır.
- B) Süslü, sanatlı bir anlatım tercih edilir.
- C) Gerçek olaylara dayalı kurgusal yazılardır.
- D) Belirli tekniklerle topluma bilgi aktarımı sağlanır.

(544) TÜRK DİLİ VE EDEBİYATI – 4

1. • Dünya edebiyatındaki ilk başarılı örneği Miquel de Cervantes’in yazdığı “Don Kişot”tur.
• Tanzimat Dönemi’nde teknik açıdan modern ve sağlam bir yapıya kavuşmuştur.
• Millî Edebiyat Dönemi’nde sosyal ve millî konulara eğilim söz konusudur.

Bu cümleler “roman türünün Türk ve dünya edebiyatındaki gelişimi” ile ilgili doğru (D)-yanlış (Y) olarak değerlendirildiğinde sıralama aşağıdakilerden hangisi olur?

- A) D-D-Y
- B) Y-D-Y
- C) D-Y-D
- D) Y-Y-D

1. OTURUM

8. Çok dönemeçli yol çam ormanları arasından gitgide yükseliyor. Güzel bir göçmen köyü olan Erenköy'e geliyoruz. Eski Rumeli göçmenleri bunlar. Sonra Hisarlık'a varıyoruz. Geldik! Üstünde bulunduğumuz tepe, kazılardan çıkan topraklarla meydana gelmiş bir tümsektir. Karşımızda kocaman taşlardan bir sur görülüyor. Arkasında otlara, çalılıklara karışmış başka surlar, başka taş yığıntılar, inişli çıkışlı karmaşık bir manzara... İşte Troya harabeleri!

Bu parça aşağıdaki metin türlerinden hangisine örnektir?

- A) Haber yazısı B) Gezi yazısı
C) Mektup D) Roman

9. Ey ana toprağı, ey Anadolu,

I

Açıldı önünde Türklüğün yolu

II

Hamdolsun her yanın bereket dolu

III

Cennet de bir yeşil meydan gibisin

IV

Bu dörtlükte numaralanmış sözlerin hangisinde yazım yanlışı vardır?

- A) I B) II C) III D) IV

10. Göçebeliğin hafıza kaybıyla ilişkisi var mı () diye soruyorum kendime () Yolu toprak örtüyor () toprağı da güneş ()

Bu parçada yay ayrıla gösterilen yerlere sırasıyla gelmesi gereken noktalama işaretleri aşağıdakilerin hangisinde verilmiştir?

- A) (,) (.) (:) (.) B) (,) (?) (:) (.)
C) (?) (!) (:) (...) D) (?) (:) (,) (...)

(547) TÜRK DİLİ VE EDEBİYATI – 7

1. Türkçenin tarihi gelişiminde aşağıdaki olaylardan hangisinin bir etkisi olmamıştır?

- A) İslamiyet'in kabulü
B) Tanzimat Fermanı'nın ilanı
C) Kavimler Göçü
D) 2. Dünya Savaşı

2. Ayağa fırlayıp odanın içinde gezinmeye başladı. Ne yaptığını bilmeden zangır zangır titreyen elleriyle kapının anahtarını çevirdi. Kapıyı ardına kadar açtı. Koridorun ortasında kara saçları alnına dökülmüş, beyaz önlüklü bir adam duruyordu. Soğuk havanın yüzüne çarpmasıyla kendine gelen Ömer, ona korkuyla baktı. Kısa boylu adam çatlak sesiyle "Merhaba Ömer ağabey!" dedi.

Bu parçada hikâyenin yapı unsurlarından hangisine yer verilmemiştir?

- A) Olay B) Zaman
C) Kişi D) Mekân

3. 1980 sonrası Türk hikâyeciliğiyle ilgili aşağıdakilerden hangisi yanlıştır?

- A) Bireyin toplumsal ilişkileri, çevresinden soyutlanarak gösterilir.
B) Yazarlar postmodernizmin anlatım imkânlarından yararlanmışlardır.
C) Yazarlar ortak bir sanat anlayışıyla değil, bireysel olarak hareket etmişlerdir.
D) Peyami Safa, Sabahattin Ali, Sadri Ertem dönemin öne çıkan isimlerindedir.

4. Kulak ver ki havasında bahçemizin, Gök maviliğinden, dal yeşilliğinden Bir türkü söylenmede kendiliğinden; Nasıl dinlersen öyle, şen veya hazin.

Bu dizelerde aşağıdaki söz sanatlarından hangisi kullanılmıştır?

- A) Tezat B) Tecahülüarif
C) İstifham D) Telmih

5. • Serbest nazımla yazmışlardır.
• Gelecekçilik (fütürizm) akımından etkilenmişlerdir.
• İçerikten çok biçime önem vermişlerdir.

Bu cümleler "toplumcu gerçekçi şairler" ile ilgili doğru (D)-yanlış (Y) olarak değerlendirildiğinde sıralama aşağıdakilerden hangisi olur?

- A) D-Y-D B) Y-D-Y
C) D-D-Y D) Y-Y-D

6. Ne güzel enseyi geçmemesi saçların Alnımızda bitmesi;
Tane tane olması kirpiklerin, Tel tel olması kaşların!
Ne güzel insan yüzü,
Elmacık kemiği ve on parmak!
Ya dünyamız... Bütün bu mevsimler, Bulutlar, telli kavak ve İstanbul!

Bu dizelerle ilgili aşağıdakilerden hangisi söylenemez?

- A) Lirik bir söyleyiş hâkimdir.
B) Bireysel bir konu işlenmiştir.
C) Konuşma dilinin söz varlığından yararlanmışlardır.
D) Ahenk, ölçüyle sağlanmıştır.

1. OTURUM

7. Aşağıdaki cümlelerin hangisinde yazım yanlışı vardır?

- A) 1990'dan beri dört binden fazla gezegen keşfedildi.
- B) Üstünkörü baktığı dergilerden bir tanesi dikkatini çekmişti.
- C) Son şiiri Türk Dili dergisinin bu ay ki sayısında yayımlandı.
- D) Bağ bozumunda herkes ailesiyle buraya gelip piknik yapardı.

8. Beethoven'dan beri en güzel senfoni-yi ve onca operayı bestelemiş biri için Mozart'ın bir konçertosunu seslendirmek pek önemsiz bir şey, bir eğlen-ceydi.

Bu cümlede virgül (,) aşağıdaki işlevlerinden hangisiyle kullanılmıştır?

- A) Sıralı cümleleri birbirinden ayır-mak için kullanılır.
- B) Birbiri ardınca sıralanan eş görevli kelime ve kelime gruplarının ara-sına konur.
- C) Tırnak içinde olmayan alıntı cüm-lelerinden sonra konur.
- D) Uzun cümlelerde yüklemden uzak düşmüş olan özneyi belirtmek için konur.

9. Aşağıdaki cümlelerin hangisinde "hava" sözcüğü "içinde yaşanılan ve etkisinde kalınan ortam" anlamında kullanılmıştır?

- A) Başını havaya kaldırdığında uçurt-maları gördü.
- B) Taarruzdan önce orduda bir zafer havası vardı.
- C) Açık havada çalışmayı alışkanlık hâline getirmişti.
- D) Türkülerden en çok Rumeli havala-rını severdi.

10. Uçunuz kuşlarım uçunuz; I II

Yollara kanat açınız...
Dalıyla bizim, gülüyle bizim
III IV

Bahçelere göçünüz!

Bu dizelerde numaralanmış sözcüklerden hangisi sesleşme değildir?

- A) I B) II C) III D) IV

(548) TÜRK DİLİ VE EDEBİYATI – 8

1. • Eserlerinde realist bakış açısını esas almışlardır.
• Almanya'ya göç eden Türklerin kar-şılaştıkları sorunları anlatmışlardır.
• Metinler arası ve üstkurmaca gibi birtakım yeni anlatım tekniklerini kullanmışlardır.

Bu cümleler "millî edebiyat zevk ve anlayışını sürdüren romancılar" ile ilgili doğru (D)-yanlış (Y) olarak değerlendirildiğinde sıralama aşağıdakilerden hangisi olur?

- A) D-Y-D B) Y-D-Y
- C) D-Y-Y D) Y-D-D

2. Aşağıdaki parçalardan hangisi kahraman bakış açısıyla yazılmıştır?

- A) Yusuf, arkadaşının kollarından sıyrı-larak ona bakmaya başladı ve bir-denbire içinin karmakarışık oldu-ğunu fark etti. Korktuğu başına gel-mişti. Ali ağlıyordu. Kendini tutamı-yordu. Yanaklarından yaşlar yuvar-lanıyordu.
- B) Sen sokağımızdan ayrıldığında henüz çocuktun. Doğrusu, yoklu-ğunu pek derinden hissetmişim senin. Sonra ben, daha dikkatli yaşamaya başladım. Bir bakıma ikimiz için yaşayayım istiyordum. İstiyordum ki seyircisi olduğum her şeyden senin hissen kadarını da göreyim.
- C) Topyeri ile Çobankaya'nın arasın-daki Tekke Deresi'ni bir üçgenin tabanı gibi kapatan Taşoluk Sokağı; iki fırını, bir bakkalı, bah-çeli ve iki üç katlı evleriyle Akşehir'in gözde yerlerinden biri idi. Salihlerin evi bu sokağın sol tarafında, en dipte idi. Her sabah henüz kimsecikler yokken bu so-kağı bir baştan bir başa yürümek Salih'in en büyük zevkiydi.
- D) "Bizim semt!" diye düşündü. Bütün çocukluğu bu cadde ile etrafındaki sokaklardan çıkıp zihnine akın ediyordu. Bir mahallesi, bir evi, ihtiyatları, dostları olmak; onlarla beraber yaşamak ve onların için-de ölmek... Gelecek günler için hazırladığı bu hayat çerçevesi bir türlü içine yerleşmedi. Zaten hiçbir düşüncesinde devam edecek gücü kendinde bulamıyordu.

3. Aşağıdaki eserlerden hangisi Öğüz Atay'a ait değildir?

- A) Tutunamayanlar
- B) Gün Olur Asra Bedel
- C) Korkuyu Beklerken
- D) Tehlikeli Oyunlar

4. - - - yazdığı Keşanlı Ali Destanı, bü-yük bir kentin gecekondu mahallesin-de geçer. Sinekli olarak bilinen bu ma-hallenin kahramanı Ali'dir. Keşan'dan gelen ve sevgilisi Zilha'nın dayısını öldürdüğü için dört yıl hapis yatan Ali, mahalleli tarafından kahramanlaştırılır.

Bu parçada boş bırakılan yere aşağıdakilerden hangisi getirilmelidir?

- A) Haldun Taner'in
- B) Turan Oflazoğlu'nun
- C) Orhan Asena'nın
- D) Güngör Dilmen'in

5. (Eski Konya'da küçük bir meydan. Bu meydana, dikey olarak iki sokak in-mektedir. Sokağın birincisinden Mevlana, ikincisinden Tebrizli Şems meydana doğru yürümektedir. İkisi de kendi kendilerine konuşur.)

MEVLANA : Ben bir boşluktayım.

ŞEMS : Ben birini arıyorum.

MEVLANA : Biliyorum, beni bu boşluktan kurtaracak biri gelecek. Kimdir o?

ŞEMS : Evet, ben birini arıyorum. Ama önce ben kimim? Niçin geldim ta buralara?

MEVLANA : Bir yol gösterici mi, bir gönül yoldaşı mı?

Bu parçayla ilgili aşağıdakilerden hangisi söylenemez?

- A) Konuşma diliyle yazılmıştır.
- B) Soru cümlelerinden yararlanılmıştır.
- C) Jest ve mimiklere yer verilmiştir.
- D) Açıklamalar, yay araç içerisinde verilmiştir.

1. OTURUM

6. Çok defa başıma gelmiştir. Oyun olsun diye kendi düşüncemin tam tersini savunayım derken kafam o tarafa öylesine kendini vermiş, bağlanmış ki kendi düşüncemi yersiz bulmaya başlayıp bırakmışımdır. Hangi düşünceye biraz meyletsem o yöne sürükleniyorum. Kendi içine bakan herkes de bunları söyler aşağı yukarı.

Bu parça aşağıdaki metin türlerinden hangisine örnektir?

- A) Nutuk B) Makale
C) Sohbet D) Deneme

7. • Göktürk (Orhun) Yazıtları'nda Türk milletine seslenen - - - - ilk hatip olarak kabul edilir.
• Söylev türünün Batı'daki ilk örneklerini eski Yunan edebiyatında Demosten, Latin edebiyatında ise - - - - vermiştir.

Bu cümlelerde boş bırakılan yerlere sırasıyla aşağıdakilerden hangisi getirilmelidir?

- A) Kültigin - Dionysos
B) Oğuz Kağan - Bossuet
C) Tonyukuk - Seneca
D) Bilge Kağan - Çiçero

8. (I) Burası meydana birkaç sokak ötede ki lokantalardan biriydi. (II) Birden bire içeriye kırk yaşlarında bir adam girdi. (III) Üzerinde son derece şık bir takım elbise vardı. (IV) Masalardan birine oturup çantasından dizüstü bilgisayarını çıkardı.

Bu parçadaki numaralanmış cümlelerin hangisinde yazım yanlışı vardır?

- A) I B) II C) III D) IV

9. İnsanları sevmek lazım geldiğini, insanları sevince tabiatın sevilleceğini, tabiatı sevince de yaşama sevinçli duyulacağını bana kitaplar öğretmiştir. Hayır, ben artık insanları kitapların öğrettiği şekilde sevmiyorum. Sevmek istiyorum, sevemiyorum.

Bu parçada virgülün (,) aşağıdaki işlevlerinden hangisinin kullanımı yoktur?

- A) Uzun cümlelerde yüklemden uzak düşmüş olan özneyi belirtmek için konur.
B) Sıralı cümleleri birbirinden ayırmak için konur.
C) Birbiri ardınca sıralanan eş görevli kelime ve kelime gruplarının arasına konur.
D) Kendisinden sonraki cümleye bağlı olarak ret, kabul ve teşvik bildiren kelimelerden sonra konur.

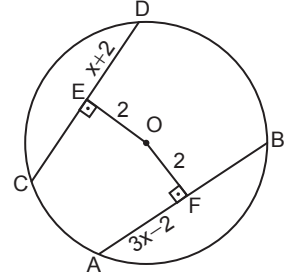
10. Tiyatro eleştirmenlerimizin çoğu, seyrettikleri şeyi oyun olarak değerlendirme alışkanlığını edinemediler henüz. Tarihi olayları işleyen oyunlarda tarih yanlışları arayanlara, oyunda kendi görüşleri desteklenmediği için oyunu çağ dışı bulanlara, yaşam kurallarıyla sanat kurallarını karıştıranlara sık sık rastlıyoruz. Oysa oyun, ister mağara çağında geçsin ister günümüzde isterse gelecek çağda, mühim olan sunuştur yani üsluptur.

Bu parçada asıl anlatılmak istenen aşağıdakilerden hangisidir?

- A) Her oyun, yazarının duygu ve düşünce dünyasından izler taşır.
B) Hangi çağa ait olursa olsun her oyun bir fikri destekleyip savunabilir.
C) Bir oyunda önemli olan, konu değil, sanatçının konuyu anlatış biçimidir.
D) Tarihi olayları konu alan oyunlar tarihi gerçekleri göz önünde bulundurulmalıdır.

(609) SEÇMELİ MATEMATİK - 2

1.

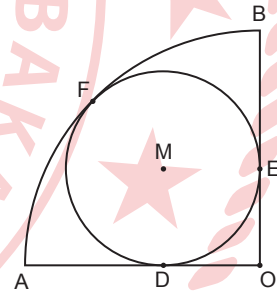


Şekildeki O merkezli çemberde [AB] ve [CD] kiris, [OE] \perp [DC], [OF] \perp [AB], |OE| = |OF| = 2 cm, |DE| = (x + 2) cm ve |AF| = (3x - 2) cm'dir.

Buna göre, bu çemberin yarıçap uzunluğu kaç santimetredir?

- A) $2\sqrt{3}$ B) 4
C) $2\sqrt{5}$ D) 6

2.

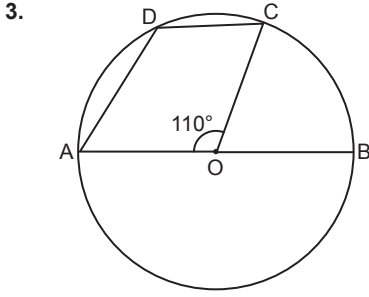


Şekildeki M merkezli çember, O merkezli çeyrek çembere D, E ve F noktalarında içten teğet ve |AO| = 6 cm'dir.

Buna göre, M merkezli çemberin yarıçap uzunluğu kaç santimetredir?

- A) $6(\sqrt{2} - 1)$ B) $2\sqrt{2}$
C) $3\sqrt{2}$ D) $2(\sqrt{2} + 1)$

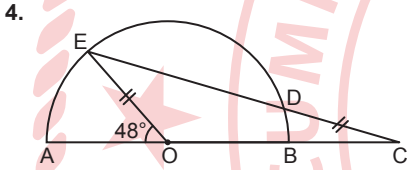
1. OTURUM



Şekildeki O merkezli çemberde [AB] çap, [AD] ve [DC] kiriş, $m(\widehat{AOC}) = 110^\circ$ dir.

Buna göre, $m(\widehat{ADC})$ kaç derecedir?

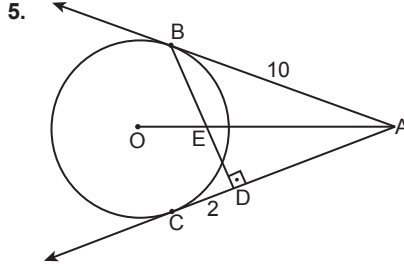
- A) 110 B) 120 C) 125 D) 135



Şekildeki O merkezli yarım çemberde [AB] çap, D ve E noktaları çember üzerinde, $B \in [AC]$, $D \in [CE]$, $|OE| = |CD|$ ve $m(\widehat{AOE}) = 48^\circ$ dir.

Buna göre, $m(\widehat{BCD})$ kaç derecedir?

- A) 16 B) 18 C) 20 D) 24



Şekilde [AB] ve [AC], O merkezli çembere sırasıyla B ve C noktalarında teğet, $[BD] \perp [AC]$, $[BD] \cap [AO] = \{E\}$, $|CD| = 2$ cm ve $|AB| = 10$ cm'dir.

Buna göre, $|BE|$ kaç santimetredir?

- A) 2 B) $\frac{8}{3}$ C) 3 D) $\frac{10}{3}$

6. Taban yarıçap uzunluğu 4 cm ve yanal yüzey alanı 32π cm² olan dik dairesel koninin yüksekliği kaç santimetredir?

- A) $4\sqrt{2}$ B) $4\sqrt{3}$
C) $5\sqrt{2}$ D) $5\sqrt{3}$

7. Yüzey alanı 324π cm² olan kürenin hacmi kaç santimetreküptür?

- A) 486π B) 648π
C) 729π D) 972π

8. Kenar uzunlukları 2 cm ve 5 cm olan dikdörtgen biçimindeki bir levhanın kısa kenarı etrafında 360° döndürülmesiyle elde edilen cismin yüzey alanı kaç santimetrekaredir?

- A) 80π B) 70π
C) 60π D) 40π

9. E örnek uzayında A ile B bağımsız iki olaydır.

$P(A \cap B) = \frac{1}{4}$ ve $P(B') = \frac{2}{7}$ olduğuna göre, $P(A)$ kaçtır?

- A) $\frac{5}{28}$ B) $\frac{7}{20}$ C) $\frac{15}{28}$ D) $\frac{7}{8}$

10. 42 kişilik bir sınıfta her öğrenci resim ve müzik kurslarından en az birine gitmektedir. Resim kursuna giden 32 öğrenci, müzik kursuna giden 18 öğrenci vardır.

Bu sınıftan rastgele seçilen bir öğrencinin resim kursuna gittiği bilindiğine göre, müzik kursuna da gidiyor olma olasılığı aşağıdakilerden hangisidir?

- A) $\frac{1}{4}$ B) $\frac{1}{3}$ C) $\frac{3}{7}$ D) $\frac{4}{9}$

(611) DİNLER TARİHİ – 1

1. "Kur'an-ı Kerim'in Allah'a izafe ettiği; bütün peygamberlerin getirdiği, esas ve ilkeleri belli olup zaman ve mekâna göre özünde değişiklik olmayan din" aşağıdakilerden hangisi ile ifade edilmektedir?

- A) Mutlak din
B) Değişken din
C) Usûlü'd-din
D) Beşerî din

2. Aşağıdakilerden hangisi dinin özünü oluşturan unsurlardan biri değildir?

- A) Akıl ve irade
B) Ortaya çıktığı bölge
C) Toplumsal değer bilinci
D) Mutlak itaat duygusu

1. OTURUM

3. "Tahkîku Mâ li'l-Hind" eserinin yazarı aşağıdakilerden hangisidir?

- A) İbn Hazm
- B) Şehristanî
- C) Bîrunî
- D) Şemseddin Sami

4. Aşağıdakilerden hangisi Hz. Muhammed'in (sav) Kur'an-ı Kerim'de anıldığı niteliklerinden biri değildir?

- A) Son peygamber
- B) Güzel örnek
- C) Rahmet
- D) Faruk

5. Aşağıdakilerden hangisi Yahudilikte Hâkimler Dönemi'nin krallarından biri değildir?

- A) Saul
- B) Davut
- C) Musa
- D) Süleyman

6. Yahudilikte haftanın en kutsal günü aşağıdakilerden hangisidir?

- A) Cuma
- B) Cumartesi
- C) Pazar
- D) Pazartesi

7. Hristiyanlıkta İmparator III. Leon'un, kiliselerde bulunan aziz ve şehitlerin suretlerinin kırılmasını emrettiği olay hangi dönemde gerçekleşmiştir?

- A) Orta Çağ Dönemi
- B) Modern Dönem
- C) Havariler Dönemi
- D) Konstantin Dönemi

8. Hristiyanlıkta Hz. Âdem ve Havva'nın cennette işlediği günah nedeniyle tüm insanlığın günahkâr olduğu şeklindeki asli günah doktrinini ilk kez ortaya çıkaran aşağıdakilerden hangisidir?

- A) Ezra
- B) Luka
- C) Pavlus
- D) Yuhanna

9. Aşağıdakilerden hangisi Hristiyanlıkta ibadet mekânları için kullanılan isimlerden biri değildir?

- A) Şapel
- B) Sinagog
- C) Kilise
- D) Katedral

10. Hristiyanlıkta "haç" aşağıdakilerden hangisini sembolize etmektedir?

- A) Havarileri
- B) Kutsal Ruh'u
- C) İncil'in yazılmasını
- D) Hz. İsa'nın çarmıha gerilmesini

(621) SEÇ. TÜRK DİLİ VE EDEBİYATI – 3

- I. Dîvânü Lugâti't-Türk - Kaşgarlı Mahmut
- II. Türk Dilinin Etimolojik Sözlüğü - Hasan Eren
- III. Lehçe-i Osmanî - Ahmed Vefik Paşa
- IV. Kamus-ı Türkî - Mustafa bin Şemsettin

Numaralanmış eser-yazar eşleştirmelerinden hangisi yanlıştır?

- A) I
- B) II
- C) III
- D) IV

2. Hikâyelerinde tema olarak genellikle modernleşen Türkiye'deki toplumsal değişim ve dönüşüm süreci ile bu sürecin bireyler üzerindeki etkilerini ele almıştır. Yazarın bu temayı ele aldığı eserlerinden biri de "Bu Böyledir" adlı hikâyesidir. Bu hikâyede, Süleyman adlı kahramanın ailesiyle birlikte gittiği lunapark üzerinden bu değişim ve dönüşüm süreci anlatılır. Yazar, hikâyede yaşanan olayları hikâyenin ana kahramanı Süleyman Koç'un gözüyle anlatmayı tercih eder.

Bu parçada sözü edilen yazar aşağıdakilerden hangisidir?

- A) Mustafa Kutlu
- B) Leyla Erbil
- C) Rasim Özdenören
- D) Emine İşınsu

3. Soğuk kasım yağmuru evin sessizliğini bozuyordu. Mildred ve Montag holde oturmayı seçtiler çünkü duvarlarında sarı turuncu konfetiler, altın varaklı tablolar; masalarında gümüş yemek takımları, işlemeli peçeteler olmayınca oturma odası çok boş, gri, tatsız görünüyordu. Oturma odası ölgündü. Mildred boş gözlerle oturma odasını seyretmeye devam ederken Montag odayı adımlayıp geri döndü, yere çömeldi, bir sayfayı on kez yüksek sesle okudu.

Bu parçayla ilgili aşağıdakilerden hangisi söylenemez?

- A) Betimleyici öğelere yer verilmiştir.
- B) Geniş bir şahıs kadrosuna yer verilmiştir.
- C) Zaman ve mekân unsurları belirtilmiştir.
- D) Anlatmaya bağlı bir metinden alınmıştır.

1. OTURUM

4. Bazan gururları aşkıdır baştan,
Yanar da gözleri bulanmaz yaştan.
Başları dumandan, kalpleri taştan.
Derdini anlatmak hüner, dağlara.

Bu dizelerle ilgili aşağıdakilerden hangisi yanlıştır?

- A) Zengin kafiye bulunmaktadır.
B) Kişileştirmeye başvurulmuştur.
C) Redif vardır.
D) Düz kafiye kullanılmıştır.

5. • Soyut bir şiir dili oluşturmuşlardır.
• Hece ölçüsünü esas almışlardır.
• Mahallî söyleyişlere yer vermişlerdir.

Bu cümleler "Cumhuriyet Dönemi"nde millî edebiyat zevk ve anlayışını devam ettiren şairlerin ortak özellikleri" ile ilgili doğru (D)-yanlış (Y) olarak değerlendirildiğinde sıralama aşağıdakilerden hangisi olur?

- A) D-Y-D B) Y-D-Y
C) D-Y-Y D) Y-D-D

6. I. Turgut Uyar
II. Sezai Karakoç
III. Orhan Veli Kanık
IV. Cemal Süreya

Numaralanmış şairlerden hangisinin şiir anlayışı farklıdır?

- A) I B) II C) III D) IV

7. (I) Arkadaşım yarım saat kadar, Çerkez Mahmut Bey'in gülünç hikâyelerini anlattı. (II) Tavırlarıyla son derece babayiğit bir kahramana benziyordu. (III) Meğer bizim kahramanımız ömründe hiç bir muharebeye girmemiş. (IV) Sonradan, Çerkezceyi bile bilmediğini öğrendim arkadaşımından.

Bu parçada numaralanmış cümlelerin hangisinde yazım yanlışı vardır?

- A) I B) II C) III D) IV

8. Elimdeki feneri tavan arasındaki eşyaların üzerinde şöyle bir dolaştırdım () kitaplık () koliler ve sandık vardı () Aman Allah'ım () Kilitli olması gereken sandığın kapağı açıktı.

Bu parçada yay ayrıla boş bırakılan yerlere sırasıyla getirilmesi gereken noktalama işaretleri aşağıdakilerin hangisinde verilmiştir?

- A) () (;) (.) (.)
B) (;) (;) (.) (!)
C) (.) (;) (...) (!)
D) (;) (,) (...) (.)

9. (I) Bağdat'ta yaşayan bir adam, günün birinde büyük bir mirasa kondu. (II) Hiçbir çaba harcamadan mal mülk sahibi oldu. (III) Ama malının, parasının değerini bilemedi; har vurup harman savurdu. (IV) Hazıra dağlar dayanmaz, derler ya tam da öyle oldu.

Bu parçadaki numaralanmış cümlelerin hangisinde "düşüncesizce ve hesapsızca harcamak, bol bol harca yııp tüketmek" anlamında bir söz kullanılmıştır?

- A) I B) II C) III D) IV

10. Taşındıkları bu yeni evde Ali'nin ilk günüydü. Hâlimden, yeni uyandığı belliydi. Yüzünü yıkadı, yeni giysilerini giydi.

Bu parçada geçen "yeni" sözcüğünün farklı anlamlar kazanması, aşağıdakilerin hangisiyle açıklanabilir?

- A) Anlam kayması
B) Anlam daralması
C) Anlam iyileşmesi
D) Anlam genişlemesi

(622) SEÇ. TÜRK DİLİ VE EDEBİYATI – 4

1. Olur tesadüf değil, Büyükada İskelesi'nde onu gördüm, çok şaşırıldım. Cilasız gözler alan narın tekerlekli, tombul atlı, oyuncak gibi küçük ve süslü bir arabadan indi. Uzaktan tanıyamadım. Sirtında bal renginde, beli kemerli, dar, şık bir pardösü vardı. Altın saplı bastonu elinde dimdik, selamlar dağıtarak telaşsız ve yorgun bana doğru yürüyordu. Bu kim diyordum, gözüm ısıyor... Nihayet tanıdım; İdris Hoca'nın oğlu Kâni, bizim Kâni, benim Kâni...

Bu parçada romanın yapı unsurlarından hangisi yoktur?

- A) Olay B) Kişi
C) Zaman D) Mekan

2. Aşağıdaki parçalardan hangisi ilahi bakış açısıyla yazılmıştır?

- A) Karlı, soğuk bir kış günüydü. Herkesin sıcacık evinde olduğu bu akşamda yalnız biz iki adam dışarıydık. Gecenin karanlığında, sokak lambalarının ışığında yapayalnız, öylece kalakalmıştık. Ben de arkadaşım da hiçbir şey söylemeden bir müddet çaresizlik içinde bekledik.
- B) "Bana ne oldu?" diye geçirdi içinden. Düş değildi gördüğü. Biraz küçük, içinde bir insanın ancak yaşayabileceği, duvarları tanıdık gelen odası hiçbir şey olmamış gibi duruyordu. Kumaş parçalarından oluşan koleksiyonun yayılı olduğu masanın üzerinde, çerçeveye koyduğu resim asılıydı.
- C) Deniz kuduruyordu... Kül rengi sular köpüre köpüre geliyor, kayalara çarpıp gürültüyle parçalanıyordu. Islak ayaklabılarımı denizin ulaşamayacağı kumsala gömdüm, kayalardan en yükseğine tırmandım. Oltama solucan taktım ve denize attım.
- D) Ağustosta, bu yabancı ülkenin başkentine kısa süreliğine taşınıp kiraladığım bir dairede yaşamaya başladım. İki aya yakın süre geçti ve havaların soğumaya başladığı bir gece, alışkın olduğum ve acımasız bir arkadaşına benzeyen migren yüzünden bir bardak ılık suyla haplarımı yutarken tavanda bir delik fark ettim.

1. OTURUM

3. Aşağıdaki eserlerden hangisi biyografik bir romandır?

- A) Hava Kurşun Gibi Ağır
- B) Elveda Gülsarı
- C) Kuyucaklı Yusuf
- D) İstanbul Hatırası

4. • Diyaloglar şeklinde yazılır.
• Efekt ve müzik ana unsurlarındandır.
• İzleyici karşısında sahnelenmek için yazılmış eserlerdir.

Bu cümleler "radyo tiyatrosu" ile ilgili doğru (D)-yanlış (Y) olarak değerlendirildiğinde sıralama aşağıdakilerden hangisi olur?

- A) D-Y-D
- B) Y-Y-D
- C) D-D-Y
- D) Y-D-Y

5. Aşağıdakilerden hangisi Turan Oflazoğlu'na ait tiyatro eserlerinden değildir?

- A) Keziban
- B) Sokrates Savunuyor
- C) Genç Osman
- D) Hürrem Sultan

6. Samimilik arkasında koşanlardan değilim ben, kendimce önemli bulduğum birtakım işler üzerinde düşünürüm, düşündüklerimi de karşımdakine açıkça anlatmaya özenirim. Doğruyu bulabilir miyim? Ne demek istediğimi anlatabilir miyim? Bilmem orasını. Hem bilemediğim için hem de içime bir güven gelmediği için üzülürüm. Böyle konuşma diliyle yazmaya çalışmam samimilik için değildir, düşündüklerimizi karşımdakilere bildirmek için Türkçede en iyi yolun bu olduğuna inanırım da onun için böyle yazırım.

Bu parçayla ilgili aşağıdakilerden hangisi söylenemez?

- A) Sohbet havasında yazılmıştır.
- B) Bilimsel verilerle bir düşünce kanıtlanmaya çalışılmıştır.
- C) Kişisel görüş ve düşüncelere yer verilmiştir.
- D) Deneme türüne örnektir.

7. Saygıdeğer Hanımlar, Efendiler, Genel Savaş (1. Dünya Savaşı) memleketimizi bir yenilgiye götürdü. Düşmanlarımız bunu fırsat bilerek milletimizi bütünüyle yok etmek istediler. Buna karşı ortaya çıkan millî coşkuya Ankara çok büyük bir sahne oldu. Bizi yaşatmamak isteyenlere karşı yaşamak hakkımızı savunmak üzere toplanan Türkiye Büyük Millet Meclisi burada, Ankara'da toplandı. Bugün Ankara, "Maarif Eğitimi"ni kuracak olan Türkiye Öğretmenler Kongresi'nin burada toplanmasıyla övünmektedir.

Bu parça aşağıdaki metin türlerinden hangisine örnektir?

- A) Deneme
- B) Makale
- C) Hatıra
- D) Söylev

8. Aşağıdaki cümlelerin hangisinde büyük harflerin kullanımıyla ilgili yazım yanlışı vardır?

- A) Büyük Kanarya adasının iç kısımları kıyılarına oranla daha yeşildir.
- B) 18. yüzyılın sonlarında Fransız Devrimi'nden sonra birçok ülkede özgürlük hareketi başladı.
- C) Şehir hayatından sıkılmışsanız Kazdağ'ı Millî Parkı'nın eşsiz güzelliğinde rahatlayabilirsiniz.
- D) Malazgirt Zaferi, tarihimiz için ayrı bir öneme sahiptir.

9. Oyun yazarlığına yeni başlayanlar için, uyulması gereken birtakım kurallar olabilir () Tiyatronun açık ve gizli kurallarına () ilkelerine ne ölçüde mi uyacak yazar () Oyunun, istediği gibi olmasını sağlayacak kadar ()

Bu parçada yay ayrıla gösterilen yerlere gelmesi gereken noktalamaya işaretleri aşağıdakilerin hangisinde sırasıyla verilmiştir?

- A) (.) (.) (?) (...)
- B) (.) (;) (!) (.)
- C) (;) (;) (!) (;)
- D) (.) (.) (...) (!)

1. OTURUM

10. Benim işim gücüm kendimi incelemek. Yapacak başka işim yok zaten. Bakıyorum da öyle çürük taraflarım var ki söylemeye zor varıyor dilim. Sağlam oturaklı neyim var? Her an sendeleyip düşebilirim. Gözlerim bir şöyle görüyor, bir böyle. Açken başka adamım sanki, yemekten sonra başka. Keyfim yerindeyse, hava da güzelse kötü kişi değilim. Ama bir nasır canımı yakmayagörsün; asık suratlı, aksi, yanına yaklaşılmaz bir adam olurum. Bindiğim atın yürüyüşü bir rahat gelir bana, bir rahatsız; aynı yolu bir uzun bulurum, bir kısa; aynı biçim bir hoşuma gider, bir zıddıma.

Bu parçayla ilgili aşağıdakilerden hangisi söylenemez?

- A) Kişisel yaşantıdan, duygu ve izlenimlerden söz edilmiştir.
- B) Hayatla iç içe olan, insanla ilgili sıradan bir konu ele alınmıştır.
- C) Ele alınan konuyla ilgili kişisel görüşlere yer verilmiştir.
- D) Bir düşünce benimsetilmeye çalışılmıştır.

(713) İSLAM KÜLTÜR VE MEDENİYETİ – 1

1. • Toplumsal olarak öğretilip yeni kuşaklara aşılana davranışlardır. (Alfred Tozzer)
- Bir milletin dinî, ahlaki, hukuki, iktisadi, lisani ve akli birikimlerinin bütünüdür. (Ziya Gökalp)

Bu tanımlar aşağıdaki kavramlardan hangisine aittir?

- A) Kültür
- B) Sanat
- C) İdeoloji
- D) Kozmoloji

2. **Aşağıdakilerden hangisi kültürün özelliklerinden biri değildir?**

- A) İnsan ürünüdür.
- B) Tarihî süreçte oluşur.
- C) Değişkenlik göstermez, sabittir.
- D) Dışarıdan aldığı unsurlar konusunda seçicidir.

3. Müslümanlar tebliğ, fetih ve ticaret yoluyla diğer kültür ve medeniyetlerle sürekli ilişki içinde olmuşlardır. Farklı toplumların tecrübelerinden, medeni birikimlerinden, Allah'ın varlığı ve birliği ile zıt düşmemesi koşuluyla yararlanmışlardır.

Bu metinde aşağıdakilerden hangisi vurgulanmaktadır?

- A) İslam medeniyeti çok geniş coğrafyalara yayılmıştır.
- B) İslam kültür ve medeniyetinin özü tevhitir.
- C) İslam dini, İslam kültür ve medeniyetinin ana kaynağıdır.
- D) İslam kültür ve medeniyetinin oluşmasında Müslüman olmayan toplumların rolü büyüktür.

4. "İslam dininin, inanç, düşünce ve ifade özgürlüğünü tanıması" **İslam kültür ve medeniyetinin aşağıdaki esaslarından hangisi ile ilgilidir?**

- A) İlmîlik
- B) Özgünlük
- C) Tevhid
- D) Hürriyet

5. İslam dini insanı daima öğrenmeye teşvik eder. Yeryüzünde insanlığı bilgiye sevk eden ve bunu ibadet sayan yegâne dindir.

Bu metin İslam kültür ve medeniyetinin aşağıdaki esaslarından hangisi ile ilgilidir?

- A) İlmîlik
- B) Yerellik
- C) Evrensellik
- D) Özgünlük

6. **Aşağıdakilerden hangisi İslam kültür ve medeniyetinde yönetim anlayışının esaslarından biri değildir?**

- A) Emanet
- B) Adalet
- C) Liyakat
- D) İsmet

7. **Aşağıdakilerden hangisi Allah ve insan ilişkisi ile ilgili kavramlardan biri değildir?**

- A) İlsâr
- B) İman
- C) İhlas
- D) İhsan

8. **Sahip olduğu derin bilgi sayesinde "ilmin kapısı" olarak anılan sahabe aşağıdakilerden hangisidir?**

- A) Hz. Ebu Bekir
- B) Hz. Osman
- C) Hz. Ömer
- D) Hz. Ali

9. **Aşağıdakilerden hangisi İslam kültür ve medeniyetine kimya alanında katkı sunan âlimlerden biridir?**

- A) Farabi
- B) Taberi
- C) Cabir bin Hayyan
- D) Müslim bin Humayr

10. **Aşağıdakilerden hangisi İslam dünyasındaki ilmi gelişmeleri olumsuz etkileyen olaylardan değildir?**

- A) Endülü'sün kaybedilmesi
- B) Tercüme hareketleri
- C) Moğol istilası
- D) Haçlı Seferleri

1. OTURUM

(817) AKAİD – 1

1. İslam âlimleri dini, akıl sahibi insanları kendi hür iradeleriyle bizzat hayırlı olan şeylere götüren ilahi kanun olarak tanımlamaktadır.

Buna göre, altı çizili bölüm ile dinin aşağıdaki yönlerinden hangisine işaret edilmektedir?

- A) Kaynağına B) Metoduna
C) Muhatabına D) İbadetlerine

2. Akaid ilminin konularından olan ve "ulûhiyet ile ilgili meseleleri" içeren iman esasları aşağıdakilerin hangisinde doğru olarak verilmiştir?

- A) Kadere iman - Allah'a iman
B) Meleklerle iman - kadere iman
C) Peygamberlere iman - Allah'a iman
D) Kitaplara iman - peygamberlere iman

3. İslam akaidinde peygamberler hiçbir zaman ilah mertebesine yükseltilmediği gibi, sıradan insan derecesine de indirilmemiştir. İslam akaidine göre, peygamberler ancak bir beşerdir. Fakat aynı zamanda vahiyde görevlendirilmişlerdir.

Bu durum İslam akaidinin özelliklerinden hangisi ile ilgilidir?

- A) Sabit ve değişmez bir akide olması
B) İfrat ve tefritten uzak olması
C) İnsan fitratına uygun olması
D) Sade ve anlaşılır olması

4. "Şerhu'l-Akaid" aşağıdaki âlimlerden hangisine aittir?

- A) Ebu'l-Hasan el-Eş'arî
B) Ömer en-Nesefî
C) Ebû Hanîfe
D) Taftazânî

5. "Kişinin mümin sayılabilmesi için hükümleri ve inanılması gereken şeylerin her birini teker teker öğrenip ayrıntılı bir şekilde inanması" aşağıdakilerden hangisiyle ifade edilmektedir?

- A) Taklidî iman
B) Tahkikî iman
C) Tafsilî iman
D) İcmalî iman

6. Aşağıdakilerden hangisi imanın geçerli olmasının şartlarından değildir?

- A) Hür iradeye dayalı bir tercih olmasıdır.
B) İman esaslarının tamamı kabul edilip tasdik edilmelidir.
C) Kişi iman konusunda ümit ve korku dengesinde bulunmalıdır.
D) Müslüman bir anne babadan dünyaya gelmelidir.

7. Mümin olan bir kimsenin sonradan inkâra sapması, dinden çıkması, kendi irade ve ifadesiyle İslam'dan ayrılmasını ifade eden kavram aşağıdakilerden hangisidir?

- A) Taassup B) İrtidat
C) İtidal D) Tefrit

8. Âlemdeki varlıkların bir amacı ve düzeni vardır.
• Her düzen bir düzenleyiciye ihtiyaç duyar.
• O hâlde âlemin de bir düzenleyicisi vardır.

Bu yargılardan hareketle Allah'ın varlığı ve birliğinin aşağıdaki delillerinden hangisine ulaşılabılır?

- A) Gaye ve nizam
B) Hudûs
C) Ekmel
D) İmkân

9. Kişi, Allah'ın isimlerinin tecellileriyle hayatına yön vermeye çalışmalıdır. Örneğin; - - - isminin bizim hayatımızdaki karşılığı olarak elimizdeki maddi ve manevi emanetleri muhafaza etmeli, onlara ihanet etmemelidir. Başımıza gelen bela ve musibetleri - - - ismi kapsamında sabırla ve metanetle karşılamalıyız.

Bu metinde boş bırakılan yerlere sırasıyla aşağıdakilerden hangisi getirilmelidir?

- A) Rahîm - Kerîm
B) Afûvv - Sabûr
C) Hâfız - Metîn
D) Vehhâb - Şâfi

10. Aşağıdakilerden hangisi Cebrail için kullanılan isimlerden değildir?

- A) Melekü'l-mevt
B) Rûhu'l-Kudûs
C) Cibrîl
D) Rûh

1. OTURUM

(819) KELAM – 1

1. Kelam ilmi, yöntem olarak düşünme ve akıl yürütmeyi seçtiği için aşağıdaki kavramlardan hangisiyle anılmıştır?

- A) Usûlü'd-din
- B) İlm-i tevhid
- C) İlm-i istidlal
- D) Akaid

2. Aşağıdakilerden hangisi kelam ilminin gerçekleştirmeyi amaçladığı hususlardan biri değildir?

- A) Kişinin imanını taklit düzeyinden kurtarıp tahkiki iman derecesine yükseltmek
- B) İman esaslarını korumak ve savunmak
- C) Hurafe ve batıl inançlar konusunda Müslümanların bilinçli olmasını sağlamak
- D) Hz. Muhammed'in (sav) Mekke ve Medine'deki uygulamalarına dair bilgi vermek

3. El-Mustasfâ adlı eserinde; kelam ilminin "diğer ilimlerin teorik ve temel çerçevesini belirleyen en kapsamlı ilim dalı" olduğunu belirten İslam âlimi aşağıdakilerden hangisidir?

- A) Farabi
- B) Gazzâlî
- C) Teftâzânî
- D) İbn Sînâ

4. Aşağıdakilerden hangisi Mâtürîdî tarafından yazılan bir eserdir?

- A) Kitâbu't-Tevhîd
- B) Fıkhu'l-Ekber
- C) İbâne an Usûli'd-Diyâne
- D) Yeni İlm-i Kelam

5. İslam, hayatın kaynağı ve sebebinin Allah olduğunu bildirmiştir. Nitekim Allah; yağmur indirmek suretiyle ölü toprağı diriltip yeryüzünü bitkiyle donattığı gibi cansız iken insana da can verip yaratılışını tamamlamıştır. Kur'an-ı Kerim'de Allah'ın hayat ve can veren olduğu belirtilmiştir.

Bu metinde Allah'ın isimlerinden hangisi vurgulanmaktadır?

- A) Habîr
- B) Muhyî
- C) Fettah
- D) Rahman

6. Aşağıdakilerden hangisi "ulaşılabilir veriler üzerine düşünerek, vasıtalarla başvurarak ve delil getirilerek edinilen bilgi" için kullanılan kavramlardan biri değildir?

- A) Nazari bilgi
- B) İstidlâlî bilgi
- C) Kadim bilgi
- D) İktisabî bilgi

7. "Şüphesiz, biz insanı karışım hâlindeki az bir sudan yarattık ve onu imtihan edeceğiz. Bu sebeple onu iştir ve görür kıldık."

(İnsân suresi, 2. ayet)

Bu ayette aşağıdaki bilgi kaynaklarından hangisine işaret edilmektedir?

- A) Havass-ı selîme
- B) Haber-i sadık
- C) Akl-ı selîm
- D) Sünnet

8. "Öncülleri ayet ve hadislerle dayanan deliller" için kullanılan kavram aşağıdakilerden hangisidir?

- A) Akli
- B) Semavî
- C) Beşerî
- D) Naklî

9. "İki şey arasındaki benzerliğe dayanarak birisi hakkında verilen hükmü diğeri hakkında da vermek" aşağıdaki akıl yürütme yöntemlerinden hangisidir?

- A) Kıyas
- B) İstakrâ
- C) Tümevarım
- D) Tümdengelim

10. "Muamelat" ile ilgili aşağıdaki bilgilerden hangisi yanlıştır?

- A) Esasları Kur'an-ı Kerim ve sünnetle bulunmaktadır.
- B) Hukuki, beşerî ve sosyal ilişkileri düzenleyen hükümlerdir.
- C) İtikadi hükümlerdendir.
- D) Zaman, mekân, örf gibi durumların değişmesi hâlinde değişikliğe uğrayabilir.

(825) OSMANLI TÜRKÇESİ – 1

1. Cami, tekke, mektep, medrese, han, çeşme, hamam, sebil, kütüphane gibi herhangi bir abidenin genellikle dış bazen de iç cephesinde yer alan veya nişan taşı, mezar taşı gibi bir dikili taş üzerindeki yazılar hakkında bu tabir kullanılır. Çoğunlukla bulunduğu bina veya adına dikildiği şahısla ilgili bilgiler ihtiva eden bu metinler devrin şairlerince kaleme alınır, sonra da bir hat üstadına yazdırılır. Manzumenin son bir veya iki mısrasında o yılın tarihi düşülür.

Bu parçada sözü edilen eserler aşağıdakilerden hangisidir?

- A) Kitabe
- B) Levha
- C) Kitap
- D) Hilye

1. OTURUM

2. "ل" harfinin ismi aşağıdakilerden hangisidir?

- A) Cim B) Mim
C) Gayın D) Lam

3. Aşağıdaki harflerden hangisi Kur'an alfabesinde vardır?

- A) پ B) ژ C) ظ D) لث

4. "ض" harfinin kelime ortasındaki yazılışı aşağıdakilerden hangisidir?

- A) ظ B) ض C) ذ D) خ

5. Aşağıdaki harflerden hangisi kendinden sonra gelen harfle birleşir?

- A) ر B) ا C) ق D) ذ

6. قاج باردق چای وار ()

Bu cümlede yay ayraçla gösterilen yere hangi noktalama işareti getirilmelidir?

- A) ! B) : C) ، D) ؟

7. Aşağıdaki kelimelerin hangisinde "he" okutucusu farklı bir sesi karşılamaktadır?

- A) قازمه B) خرابه
C) حکایه D) قهوه

8. "باير" kelimesinin okunuşu aşağıdakilerin hangisinde verilmiştir?

- A) Bari B) Bayır
C) Bağır D) Bahir

9. ارن اكمگه رچل سورر.
IV III II I

Bu cümledeki numaralanmış kelimelerin hangisinde okutucu harf kullanılmamıştır?

- A) I B) II C) III D) IV

10. • سلامت
• سکونت
• سفالت

Aşağıdakilerden hangisi bu kelimelerden herhangi birinin okunuşu değildir?

- A) Sadakat B) Selamet
C) Sükûnet D) Sefalet

(931) SİYER – 1

1. Allah Kur'an-ı Kerim'de Müslümanların sahip olması gereken ahlaki erdemleri ve uzak durması gereken kötü davranışları açıkça belirtmiştir. Ahlakı Kur'an-ı Kerim olan Hz. Muhammed (sav), Allah'ın çizdiği sınırlara riayet etmiş, bu yönüyle Müslümanlar için tam anlamıyla bir örnek olmuştur.

Bu metin aşağıdaki kavramlardan hangisi ile ilgilidir?

- A) Muhammedü'l-emin
B) Hâtemü'l-enbiyâ
C) Üsve-i Hasene
D) Ebu'l-Kâsim

2. Hz. Muhammed'in (sav) Mekke ve Medine dönemlerini kronolojik olarak ele almak amacıyla İbn Cerir et-Taberi tarafından yazılan eser aşağıdakilerden hangisidir?

- A) Târihu'l-ümem ve'l mülûk
B) Kitâbü'l-meğâzî
C) Ensâbü'l-eşrâf
D) Ahbâru Mekke

3. İsrailoğullarının da içinde bulunduğu Batı Sâmi kavimler topluluğunun genel adı aşağıdakilerden hangisidir?

- A) Adnânî B) Kahtânî
C) Mecusî D) İbrânî

4. Aşağıdakilerden hangisi Cahiliye Dönemi Arap toplumunda savaşmanın yasak olduğu haram aylardan biri değildir?

- A) Muharrem B) Ramazan
C) Recep D) Zilhicce

5. "Arapların eski tarihlerine dair destansı her türlü rivayet" olarak tanımlanan kavram aşağıdakilerden hangisidir?

- A) Ahbar
B) Ukaz
C) Muallakat
D) Dümetü'l Cendel

6. Hz. Peygamber'in (sav) "övgüye değer bütün güzellikleri kendinde toplayan kişi" anlamına gelen ismi aşağıdakilerden hangisidir?

- A) Mâhi B) Mustafa
C) Muhammed D) Ahmed

7. Hz. Muhammed'in (sav) ilk çocuğunun ismi aşağıdakilerden hangisidir?

- A) Abdullah B) Kasım
C) Zeyneb D) Fâtıma

1. OTURUM

(974) SEÇMELİ GİRİŞİMCİLİK – 1

8. Bir tüccar getirdiği ürünleri Âs bin Vâil'e satmış ancak parasını alamamıştı. Haksızlığa uğrayan tüccar, Mekkelileri kendisine yardım etmeye çağırdı. Hz. Muhammed'in (sav) amcası Zübeyr bin Abdulmuttalib başta olmak üzere bazı Mekkeliler harekete geçti. Hz. Muhammed (sav), toplantıya Hâşimoğulları'nı temsilen amcası ile birlikte katıldı. Toplantıya katılanlar, Mekke'de birisine haksızlık yapıldığında kim olursa olsun hakkı kendisine teslim edilinceye kadar birlikte hareket edeceklerine dair yemin ettiler.

Bu metin aşağıdakilerden hangisi ile ilgilidir?

- A) Hudeybiye Antlaşması
- B) Medine Sözleşmesi
- C) Akabe Biati
- D) Hılfü'l-Fudûl

9. Hz. Muhammed'in (sav) Kâbe hakemliği olayına "aklı ve zekâsı sayesinde çözüm getirmesi" peygamberlerde bulunan ortak sıfatlardan hangisi ile ilgilidir?

- A) Fetanet
- B) Emanet
- C) İsmet
- D) Tebliğ

10. Hz. Muhammed'in (sav) risâletten önce tefekkür günlerini geçirdiği yer aşağıdakilerden hangisidir?

- A) Sevr
- B) Hira
- C) Kâbe
- D) Mina

1. Halk arasında herhangi bir malın piyasada bulunmasının zorlaştığı veya imkânsızlaştığı durumu ifade eden kavram aşağıdakilerden hangisidir?

- A) İhtiyaç
- B) Serbest mal
- C) Fayda
- D) Kıtılık

2. Ekonomistler bir malın veya hizmetin satın alınma isteğini tek başına talep olarak kabul etmezler.

Bu görüşü destekleyen temel sebep aşağıdakilerden hangisidir?

- A) Bu istek yeterli satın alma gücü ile desteklenmelidir.
- B) O ürünün piyasada bol miktarda bulunması gerekir.
- C) O ürünün genel fiyat seviyesi kolay ulaşılabılır olmalıdır.
- D) Ülke geneline yaygın ve aranan bir mal veya hizmet olmalıdır.

3. İnsan ihtiyaçlarının önceden belirlenerek bunların yeni ve yenilikçi ürünlerle karşılanması işletmelerin başlıca uğraşlarıdır. Günümüz piyasalarında lider konumundaki işletmelere bakıldığında en önemli özelliklerinin yeni ürün, üretim veya hizmet yöntemlerini geliştirmek olduğu görülmektedir.

Aşağıdakilerden hangisinin yapılması durumunda metinde verilen bilgiye ters düşülmüş olur?

- A) Cep telefonu bankacılığının gelişmesi
- B) Depreme dayanıklı akıllı konutların inşası
- C) Üretimde dizel yakıtlı araçların payının artırılması
- D) Yıkama ve kurutmayı bir arada yapan çamaşır makinesinin icadı

4. Aşağıdakilerden hangisi bir bölgenin, girişimciliği teşvik etme özelliğine sahip olan coğrafi şartlarından biridir?

- A) Eğitim seviyesinin düşüklüğü
- B) Ürün çeşitliliğinin azlığı
- C) Sanayi merkezlerine yakınlığı
- D) Ulaşım ağının yetersizliği

5. Aşağıdakilerden hangisi kendi işini kurmanın bir avantajıdır?

- A) Zamana karşı yarış içinde olunması
- B) Fikirlerini rahatlıkla uygulayabilmesi
- C) İşinin olumsuz sonuçlarını tek başına karşılaması
- D) Personeli daima motive etmek durumunda kalması

6. Girişimciyi, "henüz belirginleşmemiş bir bedele satmak üzere girdikleri bugünden satın alan ve üreten kişi" olarak tanımlayan ekonomist aşağıdakilerden hangisidir?

- A) Richard Cantillon
- B) Edward Harriman
- C) Andrew Carnegie
- D) Eli Whitney

7. Aşağıdakilerden hangisi girişimde olması gereken bir özelliktir?

- A) Kendisini hatasız görmesi
- B) Her iş fikrini imkânsız olarak görmesi
- C) Sürekli başarısızlık duygusu içinde olması
- D) Yetersiz olduğu alanlarda öğrenme azmine sahip olması

1. OTURUM

(999) MATEMATİK – 2

8. Yaşadığı kasabada elektrik sorunu olduğunu gören bir mühendis, bunu çözmek için sayısı hızla artan rüzgâr değirmenlerinden kasabasında da kurarak yenilenebilir enerji üretmeyi ve bunun için girişimde bulunmayı planlamaktadır.

Buna göre, bu iş fikrinin ve yatırımın başarılı olabilmesi için kasabada öncelikle aşağıdakilerden hangisine ihtiyaç duyulur?

- A) Çevre konusunda duyarlı kasaba halkına
B) Enerjiyi verimli üretecek kadar rüzgâr potansiyeline
C) Kasabada enerjiyi tüketmeye hazır müşteriye
D) İş akışında başarılı organizasyona

9. Günümüzün iş insanlarından olan **Canan Çelebioğlu Tokgöz ilk olarak aşağıdaki alanların hangisinde gösterdiği başarıyla tanınmıştır?**

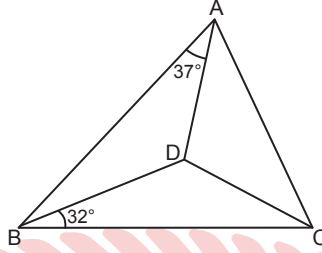
- A) Otomobil üretimi
B) Medya sektörü
C) Özel eğitim kurumları
D) Havaalanı yer hizmetleri

10. Küçük işletmelerin veya işe yeni başlayan yatırımcıların düştüğü hatalardan biri, profesyoneller yerine yakın çevresini işe almasıdır. Bu durum, işletmenin orta veya uzun vadede verimsiz çalışmasına neden olacaktır.

Bu metinde, başarısız girişime neden olan aşağıdaki faktörlerden hangisi üzerinde durulmuştur?

- A) Yanlış işe girmek
B) Hedefsizlik
C) Hatalı istihdam
D) Personeli bilgisiz bırakmak

1.

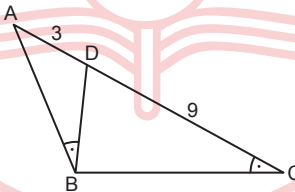


Şekildeki ABC üçgeninde $\widehat{ADB} \cong \widehat{CDB}$, $m(\widehat{BAD}) = 37^\circ$ ve $m(\widehat{CBD}) = 32^\circ$ dir.

Buna göre, $m(\widehat{ADC})$ kaç derecedir?

- A) 116 B) 124 C) 138 D) 142

2.

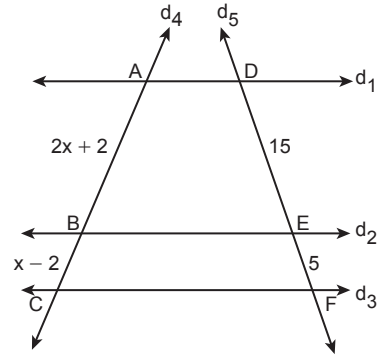


Şekildeki ABC üçgeninde $m(\widehat{ABD}) = m(\widehat{ACB})$, $|AD| = 3$ cm ve $|DC| = 9$ cm'dir.

Buna göre, $|AB|$ kaç santimetredir?

- A) $3\sqrt{3}$ B) 6
C) $6\sqrt{2}$ D) 9

3.

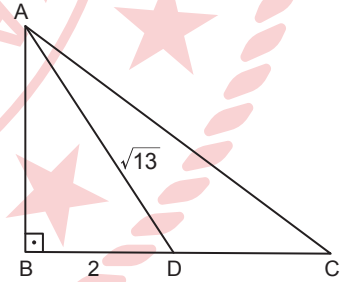


Şekilde d_1, d_2, d_3, d_4, d_5 birer doğru, $d_1 \parallel d_2 \parallel d_3$, $B \in [AC]$, $E \in [DF]$, $|DE| = 15$ cm, $|EF| = 5$ cm, $|AB| = (2x + 2)$ cm ve $|BC| = (x - 2)$ cm'dir.

Buna göre, $|AC|$ kaç santimetredir?

- A) 14 B) 18 C) 24 D) 28

4.



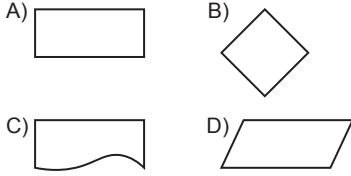
Şekildeki ABC üçgeninde $D \in [BC]$, $[AB] \perp [BC]$, $2 \cdot |AB| = 3 \cdot |DC|$, $|AD| = \sqrt{13}$ cm ve $|BD| = 2$ cm'dir.

Buna göre, $|AC|$ kaç santimetredir?

- A) 6 B) 5 C) 4 D) 3

1. OTURUM

5. Bir problemin çözümüne ait algoritmanın işleyişini ifade eden akış şemasında işlem yapmak için kullanılan sembol aşağıdakilerden hangisidir?



6. Bir problemin çözümü için oluşturulan algoritmanın işleyişini gösteren akış şeması aşağıda verilmiştir.



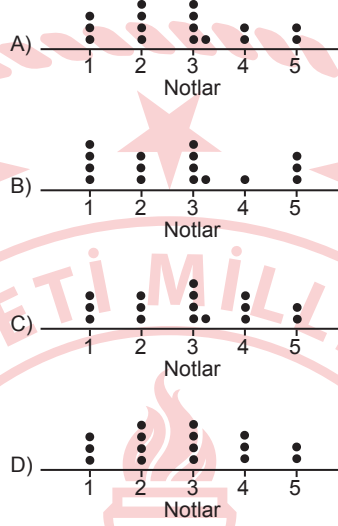
Bu akış şemasına göre, x için 3 ve y için 2 sayıları girilirse çıktı olarak yazdırılan T kaç olur?

- A) 7 B) 10 C) 12 D) 13

7. Bir sınıfta yapılan matematik sınavı sonucunda öğrencilerin aldıkları notların öğrenci sayılarına göre dağılımı tabloda verilmiştir.

Notlar	1	2	3	4	5
Öğrenci Sayısı	3	4	5	2	2

Buna göre, bu sınıftaki öğrencilerin notlarından oluşan veri grubuna ait nokta grafiği aşağıdakilerden hangisidir?



8. Bir veri grubuna ait kutu grafiği aşağıda verilmiştir.



Buna göre, bu veri grubu ile ilgili aşağıdakilerden hangisi yanlıştır?

- A) En küçük değeri 5'tir.
 B) Alt çeyrek değeri 8'dir.
 C) Ortanca değeri 12'dir.
 D) Üst çeyrek değeri 20'dir.

9. Üzerinde 1'den 6'ya kadar sayıların yazılı olduğu hilesiz bir sayı küpünün havaya atılması deneyinde üst yüze gelen sayıların sıklığı ve deneyin tekrar sayısı tabloda verilmiştir.

Tekrar sayısı	Üst Yüze Gelen Sayılar					
	1	2	3	4	5	6
20	3	3	2	3	4	5

Buna göre, bu sayı küpünün üst yüzüne gelen sayının 5 olma olayının 20 tekrardaki deneysel olasılık değeri aşağıdakilerden hangisidir?

- A) $\frac{1}{4}$ B) $\frac{1}{5}$ C) $\frac{3}{20}$ D) $\frac{1}{10}$

10. Bir sınıftaki 30 öğrenciden 12'si erkektir. Erkeklerin 4'ü, kızların ise 5'i gözlüklüdür.

Buna göre, bu sınıftan rastgele seçilecek bir öğrencinin gözlüksüz erkek öğrenci olma olayının olasılık değeri aşağıdakilerden hangisidir?

- A) $\frac{2}{15}$ B) $\frac{1}{6}$ C) $\frac{4}{15}$ D) $\frac{13}{30}$

TEST BİTTİ.

CEVAPLARINIZI KONTROL EDİNİZ.

CEVAP KÂĞIDI VE SORU KİTAPÇIĞI İLE İLGİLİ AÇIKLAMALAR

1. Cevap kâğıdınızdaki bilgilerin doğruluğunu kontrol ediniz ve cevap kâğıdınızı imzalayınız.
2. Cevap kâğıdı üzerinde kodlamalarınızı siyah kurşun kalemle yapınız.
3. Değiştirmek istediğiniz bir cevabı, yumuşak silgiyle cevap kâğıdını yıpratmadan temizce siliniz ve yeni cevabınızı kodlayınız.
4. Soru kitapçığının sayfalarını görevlilerin uyarıları doğrultusunda kontrol ediniz, baskı hatası var ise değiştirilmesini sağlayınız.
5. Soruların çözümü için size ayrıca boş kâğıt verilmeyecektir. Soru kitapçığının içindeki boş alanları soru çözümleri için kullanabilirsiniz.
6. Her sorunun dört seçeneğinden sadece biri doğrudur. Doğru seçeneği, cevap kâğıdınızın ilgili sütununa soru numarasını dikkate alarak yuvarlağın dışına taşırmadan kodlayınız. Soru kitapçığı üzerinde yapılan cevaplandırmalar dikkate alınmayacaktır.
7. Cevaplamaya istediğiniz dersin sorusundan başlayabilirsiniz. Cevabını bilmediğiniz sorular üzerinde fazla zaman kaybetmeden diğer sorulara geçiniz. Zamanınız kalırsa bu sorulara daha sonra dönebilirsiniz.
8. Yanlış cevaplarınız dikkate alınmadan sadece doğru cevaplarınız üzerinden puanlama yapılacaktır.
9. Soruları ve sorulara verdiğiniz cevapları, yanınızda götürmek amacıyla kaydetmeyiniz; hiçbir şekilde dışarı çıkarmayınız.
10. Sınav bitiminde soru kitapçığı ve cevap kâğıdını salon görevlilerine teslim ediniz.
11. Aday tarafından cevap kâğıdına yazılması veya işaretlenmesi gereken bilgilerde eksiklik ya da yanlışlık olması durumunda sorumluluk adaya ait olacaktır.

SALON GÖREVLİLERİNCE SINAV BAŞLAMADAN ÖNCE ADAYLARA YAPILACAK SON UYARILAR

- Soracağınız bir şey varsa şimdi sorunuz, sınav başladıktan sonra sorularınıza cevap verilmeyecektir.
- Başlama zilini bekleyiniz.

Hepinize başarılar dileriz.

(Salon başkanı başlama ve bitiş saatini tahtaya yazacaktır.)

Bu kitapçığın her hakkı saklıdır. Hangi amaçla olursa olsun, kitapçığın tamamının veya bir kısmının Millî Eğitim Bakanlığı Ölçme, Değerlendirme ve Sınav Hizmetleri Genel Müdürlüğünün yazılı izni olmadan kopya edilmesi, fotoğraflarının çekilmesi, bilgisayar ortamına alınması, herhangi bir yolla çoğaltılması, yayımlanması veya başka bir amaçla kullanılması yasaktır. Bu yasağa uymayanlar, doğabilecek cezai sorumluluğu ve kitapçığın hazırlanmasındaki mali külfeti peşinen kabullenmiş sayılır.

21 ARALIK 2024 TARİHİNDE YAPILAN AÇIK ÖĞRETİM LİSESİ / MESLEKİ AÇIK ÖĞRETİM LİSESİ /
AÇIK ÖĞRETİM İMAM HATİP LİSESİ
2024-2025 ÖĞRETİM YILI 1. DÖNEM SINAVI 1. OTURUM T KİTAPÇIĞI CEVAP ANAHTARI

(111) DİN KÜL. AHL. BİL. – 1	(125) FELSEFE – 3	(155) SEÇMELİ COĞRAFYA – 1	(181) FRANSIZCA – 1
1. C 2. A 3. C 4. B 5. D 6. A 7. B 8. D 9. C 10. A	1. C 2. B 3. A 4. D 5. C 6. B 7. D 8. D 9. A 10. A	1. B 2. C 3. A 4. B 5. D 6. A 7. C 8. D 9. B 10. A	1. C 2. B 3. A 4. A 5. B 6. D 7. D 8. B 9. A 10. C
(112) DİN KÜL. AHL. BİL. – 2	(132) TARİH – 2	(157) SEÇMELİ COĞRAFYA – 3	(195) SEÇMELİ ORTAK TÜRK TARİHİ – 1
1. A 2. A 3. C 4. C 5. D 6. B 7. B 8. D 9. B 10. C	1. B 2. D 3. C 4. A 5. A 6. C 7. B 8. D 9. C 10. A	1. D 2. A 3. B 4. B 5. C 6. D 7. D 8. C 9. B 10. A	1. B 2. A 3. C 4. B 5. A 6. D 7. B 8. D 9. A 10. C
(115) DİN KÜL. AHL. BİL. – 5	(136) SEÇMELİ TARİH – 2	(181) İNGİLİZCE – 1	(222) SAĞLIK BİLGİSİ VE TRAFİK KÜLTÜRÜ – 2
1. B 2. D 3. A 4. C 5. A 6. C 7. D 8. A 9. D 10. B	1. B 2. A 3. C 4. A 5. B 6. D 7. C 8. B 9. D 10. A	1. A 2. B 3. A 4. D 5. C 6. A 7. B 8. C 9. D 10. D	1. C 2. A 3. D 4. B 5. C 6. D 7. A 8. B 9. C 10. B
(121) FELSEFE – 1	(151) COĞRAFYA – 1	(181) ALMANCA – 1	(244) İNGİLİZCE – 5
1. A 2. D 3. C 4. B 5. B 6. D 7. A 8. C 9. B 10. D	1. B 2. A 3. A 4. C 5. D 6. B 7. C 8. D 9. C 10. A	1. C 2. A 3. B 4. A 5. B 6. D 7. D 8. A 9. C 10. B	1. D 2. B 3. C 4. D 5. A 6. A 7. B 8. C 9. D 10. C

21 ARALIK 2024 TARİHİNDE YAPILAN AÇIK ÖĞRETİM LİSESİ / MESLEKİ AÇIK ÖĞRETİM LİSESİ /
AÇIK ÖĞRETİM İMAM HATİP LİSESİ
2024-2025 ÖĞRETİM YILI 1. DÖNEM SINAVI 1. OTURUM T KİTAPÇIĞI CEVAP ANAHTARI

(244) ALMANCA – 5	(432) KİMYA – 2	(446) SEÇMELİ BİYOLOJİ – 2	(502) ALMANCA – 8
1. A 2. B 3. C 4. C 5. B 6. D 7. A 8. C 9. A 10. D	1. C 2. C 3. D 4. A 5. B 6. C 7. D 8. B 9. A 10. B	1. C 2. C 3. A 4. B 5. D 6. A 7. C 8. D 9. B 10. D	1. C 2. D 3. C 4. B 5. A 6. B 7. D 8. B 9. A 10. C
(244) FRANSIZCA – 5	(436) SEÇMELİ KİMYA – 2	(465) TEMEL DİNİ BİL.– 1	(502) FRANSIZCA – 8
1. B 2. D 3. D 4. C 5. C 6. A 7. C 8. A 9. B 10. D	1. D 2. B 3. A 4. B 5. D 6. C 7. C 8. D 9. A 10. D	1. C 2. A 3. D 4. A 5. B 6. C 7. D 8. B 9. B 10. A	1. B 2. A 3. C 4. B 5. D 6. C 7. C 8. D 9. A 10. D
(421) FİZİK – 1	(441) BİYOLOJİ – 1	(479) SEÇMELİ MANTIK – 2	(511) FİKİH – 1
1. C 2. A 3. C 4. B 5. B 6. C 7. D 8. D 9. A 10. B	1. D 2. B 3. A 4. D 5. B 6. B 7. A 8. A 9. D 10. C	1. D 2. B 3. A 4. C 5. D 6. B 7. D 8. C 9. A 10. B	1. A 2. D 3. B 4. D 5. A 6. B 7. C 8. D 9. C 10. B
(425) SEÇMELİ FİZİK – 1	(443) BİYOLOJİ – 3	(502) İNGİLİZCE – 8	(532) SEÇMELİ PEYGAMBERİMİZİN HAYATI – 2
1. C 2. B 3. B 4. C 5. C 6. D 7. D 8. A 9. A 10. D	1. B 2. B 3. D 4. C 5. A 6. D 7. A 8. A 9. C 10. D	1. C 2. C 3. A 4. B 5. D 6. A 7. B 8. A 9. D 10. C	1. B 2. C 3. A 4. D 5. C 6. B 7. B 8. A 9. D 10. C

21 ARALIK 2024 TARİHİNDE YAPILAN AÇIK ÖĞRETİM LİSESİ / MESLEKİ AÇIK ÖĞRETİM LİSESİ /
AÇIK ÖĞRETİM İMAM HATİP LİSESİ
2024-2025 ÖĞRETİM YILI 1. DÖNEM SINAVI 1. OTURUM T KİTAPÇIĞI CEVAP ANAHTARI

(535) SEÇMELİ PEYGAMBERİMİZİN HAYATI – 5	(548) TÜRK DİLİ VE EDEBİYATI – 8	(622) SEÇMELİ TÜRK DİLİ VE EDEBİYATI – 4	(825) OSMANLI TÜRKÇESİ – 1
1. B 2. D 3. C 4. D 5. A 6. B 7. C 8. D 9. A 10. C	1. C 2. B 3. B 4. A 5. C 6. D 7. D 8. B 9. A 10. C	1. C 2. B 3. A 4. C 5. D 6. B 7. D 8. A 9. A 10. D	1. A 2. D 3. C 4. B 5. C 6. D 7. A 8. B 9. C 10. A
(537) SEÇMELİ PEYGAMBERİMİZİN HAYATI – 7	(609) SEÇMELİ MATEMATİK – 2	(713) İSLAM KÜLTÜR VE MEDENİYETİ – 1	(931) SİYER – 1
1. B 2. C 3. A 4. D 5. B 6. B 7. A 8. D 9. A 10. C	1. C 2. A 3. C 4. A 5. D 6. B 7. D 8. B 9. B 10. A	1. A 2. C 3. B 4. D 5. A 6. D 7. A 8. D 9. C 10. B	1. C 2. A 3. D 4. B 5. A 6. C 7. B 8. D 9. A 10. B
(544) TÜRK DİLİ VE EDEBİYATI – 4	(611) DİNLER TARİHİ – 1	(817) AKAIĐ – 1	(974) SEÇMELİ GİRİŞİMCİLİK – 1
1. C 2. B 3. D 4. B 5. A 6. C 7. D 8. B 9. D 10. A	1. A 2. B 3. C 4. D 5. C 6. B 7. A 8. C 9. B 10. D	1. C 2. A 3. B 4. D 5. C 6. D 7. B 8. A 9. C 10. A	1. D 2. A 3. C 4. C 5. B 6. A 7. D 8. B 9. D 10. C
(547) TÜRK DİLİ VE EDEBİYATI – 7	(621) SEÇMELİ TÜRK DİLİ VE EDEBİYATI – 3	(819) KELAM – 1	(999) MATEMATİK – 2
1. D 2. B 3. D 4. A 5. C 6. D 7. C 8. A 9. B 10. B	1. D 2. A 3. B 4. A 5. D 6. C 7. C 8. B 9. C 10. D	1. C 2. D 3. B 4. A 5. B 6. C 7. A 8. D 9. A 10. C	1. C 2. B 3. C 4. B 5. A 6. D 7. A 8. D 9. B 10. C